



● **فَلْيَنْظُرِ الْإِنْسَانُ إِلَى طَعَامِهِ .** (سوره عبس، آیه ۲۴)

انسان باید به غذای خویش (و آفرینش آن) بنگرد.

دانشمندان اجزای بنیادی جهان مادی را ماده و انرژی می‌دانند. یافته‌های تجربی نشان می‌دهد که انرژی از راه‌های گوناگون با ماده ارتباط دارد؛ آن‌چنان‌که کاهش جرم خورشید به عنوان تنها منبع حیات‌بخش انرژی، تبدیل ماده به انرژی را تأیید می‌کند. از سوی دیگر نیاز به انرژی برای انجام هر فعالیت با هر آهنگی، وجود یک منبع انرژی نزدیک‌تر را آشکار می‌سازد؛ منبعی که در آن تغییرهای فیزیکی و به ویژه واکنش‌های شیمیایی انجام می‌شود. تأمین انرژی از سوزاندن سوخت‌ها و نیز گوارش غذا در بدن را می‌توان گواهی بر این مدعا دانست. امید است با بررسی و درک واکنش‌های گرماشیمیایی و سرعت انجام آنها، در استفاده درست و مناسب از دو منبع سوخت و غذا تلاش کنیم.

## آیا می دانید

میزان تولید گندم ایران در سال ۹۵ به ۱۳/۵ میلیون تن رسید. ایران در تولید گندم در مقام یازدهم دنیا قرار دارد.



میزان تولید برنج ایران در سال ۹۵ به ۱/۸ میلیون تن رسید. ایران در تولید برنج در مقام بیست و پنجم دنیا قرار دارد.



غذا<sup>۱</sup> همواره نقش محوری در رشد، تندرستی و زندگی انسان داشته است. بررسی‌ها نشان می‌دهد که نیاکان ما بیشتر وقت خود را صرف تهیه وعده‌های غذایی می‌کردند؛ آن‌چنان که در طول روز اغلب در جست‌وجوی غذا و جمع‌آوری دانه‌های خوراکی بودند. آنها به تدریج یاد گرفتند که دانه‌ها را بکارند و فراورده‌ها را درو کنند. فرایندی که نخستین انقلاب در کشاورزی بود و باعث شد انسان‌ها حبوبات، غلات و... را به مقدار زیادی تولید کنند. اما افزایش جمعیت جهان عاملی تعیین‌کننده بوده و هست، به‌طوری‌که امروزه تأمین غذای حدود ۷/۵ میلیارد نفر ساکن کره زمین بسیار پیچیده و دشوار است، زیرا برای انجام این مهم سالانه بایستی حجم انبوهی از غلات، حبوبات، مواد پروتئینی و... تولید شود. نمودار ۱ تولید و مصرف جهانی غلات را در یک دهه اخیر نشان می‌دهد.



نمودار ۱- تولید و مصرف جهانی غلات در دهه اخیر

اینک می‌پذیرید که یکی از مهم‌ترین و شاید دشوارترین مسئولیت هر دولت، تأمین غذای افراد جامعه است. مسئولیتی که یکی از چالش‌های نگران‌کننده در عصر کنونی است. برای تولید غذا در حجم انبوه به فعالیت‌های صنعتی گوناگونی مانند تولید، حمل‌ونقل، نگهداری، فراوری و... نیاز است. مجموعه حوزه‌هایی که صنایع غذایی نامیده می‌شوند. در این صنعت نیز همانند دیگر صنایع منابع شیمیایی بسیاری، سطح وسیعی از زمین‌های بایر و حجم عظیمی از آب‌های قابل استفاده در کشاورزی مصرف می‌شود. این نیازها تأیید می‌کند که یکی از مهم‌ترین و شاید سنگین‌ترین مسئولیت‌های هر دولت، تأمین غذای افراد جامعه است. مسئولیتی که در گذشته با قحطی و جنگ غذا تهدید می‌شد و امروزه نیز چالشی نگران‌کننده به شمار می‌رود.

● پیشرفت دانش و فناوری موجب شده است که تولید فراورده‌های کشاورزی و دامی افزایش یابد و غذا به روش صنعتی تولید شود. در تولید انبوه، به دلیل فساد مواد غذایی و دشواری نگهداری آنها، حفظ کیفیت و ارزش مواد غذایی اهمیت بسزایی دارد.

سرانه مصرف (kg)		خوراکی
ایران	جهان	
۱۱۵	۲۵	نان
۳۷	۲۲	برنج
۱۲	۲۲	حبوبات
۱۰۰	۱۳۰	سبزیجات
۹۵	۱۴۵	میوه
۱۹	۳۷	گوشت قرمز
۹	۱۹	ماهی
۹	۲۴	تخم مرغ
۹۰	۳۰۰	شیر
۳۰	۵	شکر
۶	۳	نمک خوراکی
۱۹	۱۴	روغن

● سرانه مصرف ماده غذایی، مقدار میانگین مصرف آن را به ازای هر فرد در یک گستره زمانی معین نشان می‌دهد.

## آیا می‌دانید

سازمان جهانی خواربار و کشاورزی (FAO)<sup>۴</sup> در راستای بالا بردن سطح زندگی و بهبود تغذیه، توزیع مناسب مواد غذایی و ایجاد امنیت غذایی در جهان فعالیت می‌کند. این سازمان در شهر رم، پایتخت کشور ایتالیا قرار دارد. برخی آمارهای این سازمان براساس مصرف سرانه مواد غذایی است.



جدول روبه‌رو، سرانه مصرف سالانه برخی مواد خوراکی را نشان می‌دهد. با توجه به آن، به پرسش‌های مطرح شده پاسخ دهید.

الف) دیابت بزرگسالی یکی از بیماری‌های شایع در ایران است. مصرف بی‌رویه کدام مواد در گسترش این بیماری نقش دارد؟

ب) گوشت قرمز و ماهی افزون بر پروتئین<sup>۱</sup>، محتوی انواع ویتامین<sup>۲</sup> و مواد معدنی<sup>۳</sup> است. چه پیشنهادهایی برای گنجاندن آنها در برنامه غذایی خانواده خود دارید؟

پ) شیر و فراورده‌های آن، منبع مهمی برای تأمین پروتئین و به‌ویژه کلسیم است. کارشناسان تغذیه بر مصرف مناسب آنها برای پیشگیری و ترمیم پوکی استخوان تأکید دارند. اگر شما یک مدیر تصمیم‌گیرنده در کشور باشید، چه راهکارهایی برای افزایش مصرف آنها ارائه می‌کنید؟

ت) کارشناسان تغذیه بر مصرف حبوبات مانند نخود، لوبیا، عدس و... در برنامه غذایی تأکید دارند زیرا سرشار از مواد مغذی هستند. براساس برنامه غذایی خانواده خود چه پیشنهادی برای افزایش مصرف آنها دارید؟



آیا تاکنون اندیشیده‌اید که نقش غذا در بدن چیست؟ آیا غذا چیزی فراتر از یک پاسخ به احساس گرسنگی است؟ پژوهش‌ها و یافته‌های تجربی نشان می‌دهند که مصرف غذا، انرژی مورد نیاز بدن برای حرکت ماهیچه‌ها، ارسال پیام‌های عصبی، جابه‌جایی یون‌ها و مولکول‌ها از دیواره هر یاخته را تأمین می‌کند. غذا همچنین مواد اولیه برای ساخت و رشد بخش‌های گوناگون بدن مانند سلول‌های خونی، استخوان، پوست، مو، ماهیچه‌ها، آنزیم‌ها و... را فراهم می‌کند. همه این فرایندها

۱- Protein  
۲- Vitamin  
۳- Minerals  
۴- Food and Agriculture Organization

## آیا می‌دانید

علوم و صنایع غذایی به مجموعه‌ای از علوم و فنون گفته می‌شود که به بررسی کیفیت فیزیکی، شیمیایی و زیست‌شناختی فرآورده‌های کشاورزی و دامی و شیلات از لحاظ تولید، تبدیل، فراوری، نگهداری و حمل و نقل می‌پردازد به گونه‌ای که از مواد خام تا غذای آماده مصرف را پوشش می‌دهد.

## آیا می‌دانید

شمار اتم‌های تشکیل‌دهنده بدن یک فرد  $70 \times 10^{27}$  کیلوگرمی در حدود  $3/5$  برآورد می‌شود.



● هنگام روزه داری به ویژه نزدیک افطار اغلب احساس گرسنگی و سرما می‌کنید. در این شرایط، بدن نیاز به ماده و انرژی دارد تا دمای خود را کنترل کند. پس از افطار احساس گرمی دلچسبی خواهید داشت زیرا انرژی مواد غذایی در حال آزاد شدن است.

وابسته به انجام واکنش‌های شیمیایی هستند که هر یک آهنگ ویژه‌ای دارند؛ واکنش‌هایی که دمای بدن را نیز کنترل و تنظیم می‌کنند.

غذا به عنوان معجونی از مواد شیمیایی، محتوی ذره‌های گوناگون است. بخش عمده اتم‌ها، مولکول‌ها و یون‌های موجود در بدن شما از غذایی که می‌خورید، تأمین می‌شود. با این توصیف، تغذیه درست شامل وعده‌های غذایی است که مخلوط مناسبی از انواع ذره‌ها را دربر می‌گیرد و سوء تغذیه هنگامی خودنمایی می‌کند که وعده‌های غذایی با کمبود نوع خاصی از آنها همراه باشد. در این شرایط، بدن به تدریج ضعیف شده و شرایط بیماری فراهم خواهد شد. بدیهی است که افزایش نامتناسب برخی مولکول‌ها و یون‌ها در وعده‌های غذایی سبب افزایش وزن و دیگر بیماری‌ها خواهد شد.

اکنون این پرسش مطرح می‌شود که محتوای انرژی مواد غذایی گوناگون چقدر است؟ مواد مغذی موجود در خوراکی‌ها از چه نوعی هستند و به چه مقدار وجود دارند؟ برای افزایش زمان ماندگاری و ارزش غذایی خوراکی‌ها چه باید کرد؟ چگونه می‌توان بو و مزه مواد خوراکی را تغییر داد یا بهبود بخشید؟ برای تولید بیشتر و سریع‌تر مواد غذایی چه راه‌هایی وجود دارد؟ آیا انرژی موجود در مواد غذایی یکسان است؟

علم شیمی برای هر یک از این پرسش‌ها پاسخی دارد. **گرماشیمی<sup>۱</sup> و سینتیک شیمیایی<sup>۲</sup>** شاخه‌هایی از علم شیمی هستند که می‌توان پاسخ پرسش‌هایی از این دست را در آنها جست‌وجو کرد.

## غذا، ماده و انرژی<sup>۳</sup>

شاید برای شما هم پیش آمده باشد که بدون خوردن صبحانه به مدرسه بروید، پیاده‌روی یا ورزش کنید! پس از مدت کوتاهی احساس گرسنگی و بی‌حالی به شما دست می‌دهد به طوری که توانایی کافی برای تمرکز، فکر کردن و انجام فعالیت‌های ورزشی را نخواهید داشت. در این حال با خوردن کمی غذا یا تکه‌ای شیرینی، سر حال خواهید شد زیرا بدن شما انرژی کسب کرده است. بدن ما برای انجام فعالیت‌های ارادی و غیرارادی گوناگون به ماده و انرژی نیاز دارد. برای نمونه هنگامی که قند خون پایین باشد می‌توان با خوردن سیب یا نوشیدن شربت آبلیمو و عسل و هنگامی که بدن دچار کمبود آهن باشد می‌توان با خوردن اسفناج و عدسی بدن را به حالت طبیعی بازگرداند. توجه کنید که ارزش مواد غذایی در تأمین ماده و انرژی مورد نیاز بدن یکسان نیست.

۱- Thermochemistry

۲- Chemical Kinetics

۳- Energy



اسفناج و عدس، منبع غنی از آهن هستند و خوردن آنها از شما در برابر کم خونی محافظت می کنند.



تخم مرغ سرشار از انواع آمینواسیدهاست که گنجاندن آن در برنامه غذایی به ساخت پروتئین ها در بافت های بدن کمک می کند.



گوشت ماهی به دلیل داشتن امگا ۳ سبب کاهش کلسترول خون شده و احتمال بیماری های قلبی را کاهش می دهد.



ماست منبعی غنی از منیزیم و کلسیم است.



درباره «اثر نوع و مقدار ماده بر انرژی آن» کاوش کنید.

**وسایل و مواد مورد نیاز:** چراغ الکلی یا شمع، لوله آزمایش بزرگ، دماسنج، پایه، میله، گیره، انبر، ماکارونی و مغز گردو.

**هشدار:** از عینک ایمنی استفاده نموده و نکات ایمنی را هنگام کار با چراغ بونزن رعایت کنید.

۱- یک لوله آزمایش بزرگ را با گیره به پایه و میله وصل کنید.

۲- درون آن تا ۶۰ mL آب بریزید و دمای آن را اندازه گیری کنید (توجه داشته باشید که دماسنج با بدنه یا ته لوله تماس نداشته باشد).

۳- یک گرم یا  $\frac{1}{4}$  مغز گردو بردارید و آن را با انبر یا میله نازک تا شعله ور شدن روی شعله بگیرید. بلافاصله آن را تا سوختن کامل زیر لوله آزمایش نگهدارید. پس از سوختن کامل و خاموش شدن شعله، دمای پایانی آب را یادداشت کنید.

۴- آزمایش را جداگانه با دو گرم یا  $\frac{1}{2}$  مغز گردو و همچنین با دو گرم ماکارونی تکرار و جدول زیر را کامل کنید سپس به پرسش های مطرح شده پاسخ دهید.

شماره آزمایش	ماده غذایی	دمای آغازی آب (°C)	دمای پایانی آب (°C)
۱	یک گرم یا $\frac{1}{4}$ مغز گردو		
۲	دو گرم یا $\frac{1}{2}$ مغز گردو		
۳	دو گرم ماکارونی		

(الف) با توجه به اینکه در آزمایش ۱ و ۲، نوع ماده ای که می سوزد یکسان است، چرا تغییر دمای آب تفاوت دارد؟

(ب) با توجه به اینکه در آزمایش ۲ و ۳، مقدار ماده ای که می سوزد یکسان است، چرا تغییر دمای آب تفاوت دارد؟

(پ) یافته های خود را از این آزمایش جمع بندی کنید.

یکی از راه های آزاد شدن انرژی مواد، سوزاندن آنهاست. سوخت هایی مانند گاز شهری، بنزین، الکل و زغال هنگام سوختن انرژی آزاد می کنند و این انرژی برای گرم کردن خانه، پخت و پز و نیز به حرکت درآوردن خودروها مصرف می شود. همچنین مواد غذایی مانند


ماکارونی و گردو نیز هنگام سوختن، انرژی آزاد می‌کنند. در واقع هر ماده غذایی انرژی دارد و میزان انرژی آن به جرمی بستگی دارد که می‌سوزد، انرژی‌ای که می‌تواند باعث تغییر دما شود. اما اینکه دمای یک ماده چه چیزی را نشان می‌دهد و با انرژی چه رابطه‌ای دارد، هدفی است که در ادامه دنبال خواهد شد.



• کاکائو و خوراکی‌های محتوی آن باید در جای خنک نگهداری شوند. هنگامی که چنین خوراکی‌هایی را در جیب خود بگذارید یا در دست بگیرید، پس از مدتی ذوب شده و حالت خمیری و روان به خود می‌گیرند، زیرا دمای آنها افزایش یافته و جنبش ذره‌های سازنده آنها شدیدتر می‌شود.

## دمای یک ماده از چه خبر می‌دهد؟

نوشیدن چای داغ و آب خنک به ترتیب در هوای سرد و هوای گرم، لذت‌بخش است. در این تجربه‌های خوشایند «داغی یا خنکی نوشیدنی» و «سردی یا گرمی هوا» نشانه‌ای از تفاوت میان دمای آنهاست، کمیتی که میزان گرمی و سردی مواد را نشان می‌دهد. از آنجا که در شیمی بررسی ساختار مواد و فرایندها از دیدگاه ذره‌ای اهمیت و جایگاه ویژه‌ای دارد، نخست باید با مفهوم دما<sup>۱</sup> از این دیدگاه آشنا شوید. برای درک آسان‌تر آن، تجربه زیر را به دقت بررسی کنید (شکل ۱).



شکل ۱- اثر دما بر میزان جنبش مولکول‌ها

مطابق شکل ۱، هنگامی که به ظرف محتوی آب گرما داده می‌شود، به تدریج دمای آن افزایش می‌یابد تا اینکه سرانجام آب می‌جوشد و یخ موجود در بالای آن نیز ذوب می‌شود. آیا می‌دانید جنب و جوش مولکول‌ها در این فرایند چه تغییری می‌کند؟ جنب و جوش مولکول‌ها در کدام حالت فیزیکی شدیدتر است؟

بررسی شکل ۱ نشان می‌دهد با اینکه ذره‌های سازنده یک ماده در سه حالت فیزیکی یکسان بوده و پیوسته در جنب و جوش هستند اما میزان جنبش ذره‌ها متفاوت از یکدیگر است، به طوری که جنبش‌های نامنظم ذره‌ها در حالت گاز شدیدتر از مایع و آن هم شدیدتر از حالت جامد است. همچنین هر چه دما بالاتر باشد، جنبش‌های نامنظم ذره‌های آن شدیدتر است. برای نمونه این جنبش‌ها در آب گرم شدیدتر از آب سرد است.



• بوی غذای گرم آسان‌تر و سریع‌تر از غذای سرد به مشام می‌رسد. (چرا؟)

با بررسی این تجربه اینک می‌پذیرید که در دمای معین یک ویژگی مشترک مواد با هر حالت فیزیکی، وجود جنبش‌های نامنظم ذره‌های سازنده آنها است. هر چه دمای ماده بالاتر باشد، میانگین **تندی**<sup>۱</sup> و میانگین انرژی جنبشی<sup>۲</sup> ذره‌های سازنده آن بیشتر است. به دیگر سخن دمای یک ماده، معیاری برای توصیف میانگین تندی و میانگین انرژی جنبشی ذره‌های سازنده آن است.

## آیا می‌دانید

هر جرم «m» که با تندی «v» حرکت می‌کند، دارای انرژی جنبشی  $\frac{1}{2}mv^2$  است.

## با هم بیندیشیم

۱- شکل زیر دو نمونه از هوای صاف شهر شما را با جرم یکسان نشان می‌دهد. با توجه به آن در هر مورد با خط زدن واژه نادرست، عبارت را کامل کنید.



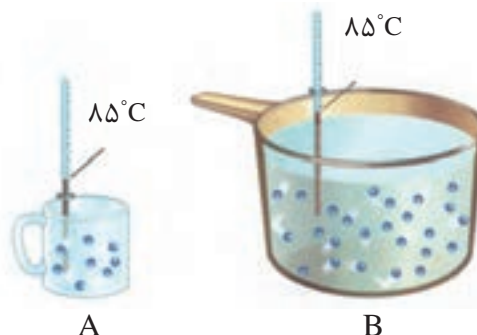
الف) شکل A، نمونه‌ای از هوا را در  $\frac{\text{ظهر}}{\text{شب}}$  نشان می‌دهد.

ب) شکل B، نمونه‌ای از هوا را در یک روز تابستانی زمستانی نشان می‌دهد.

پ) اگر مجموع انرژی جنبشی ذره‌های سازنده یک نمونه ماده، هم‌ارز با انرژی گرمایی<sup>۳</sup> آن باشد، انرژی گرمایی  $\frac{A}{B}$  بیشتر بوده زیرا  $\frac{\text{شمار مولکول‌های}}{\text{دمای}}$  آن بیشتر است.

● یکای رایج دما، درجه سلسیوس ( $^{\circ}\text{C}$ )، در حالی که یکای دما در «SI»، کلوین (K) است.

۲- با توجه به شکل‌های زیر به پرسش‌های مطرح شده پاسخ دهید.



● نماد دما برحسب سلسیوس، « $\theta$ » و نماد دما برحسب کلوین، «T» است.

الف) میانگین تندی مولکول‌های آب را در دو ظرف مقایسه کنید.

ب) انرژی گرمایی آب موجود در کدام ظرف بیشتر است؟ چرا؟

- ۱- Speed
- ۲- Kinetic Energy
- ۳- Thermal Energy

● ارزش دمایی « $^{\circ}\text{C}$ » برابر با « $\text{K}$ » است؛ از این رو، در فرایندهایی که دما تغییر می‌کند، « $\Delta\theta = \Delta T$ » خواهد بود.

## تهیه غذای آب‌پز، تجربه تفاوت دما و گرما<sup>۱</sup>

آب‌پز کردن روشی ساده و مفید برای تهیه بسیاری غذاها از جمله پختن تخم‌مرغ است. درون یک ظرف فلزی مقداری آب با دمای  $25^{\circ}\text{C}$  بریزید سپس درون آن یک تخم‌مرغ قرار دهید. بدیهی است که با گذشت زمان تخم‌مرغ در این دما نمی‌پزد مگر آنکه ظرف را روی شعله اجاق گاز قرار داده و به آن گرما بدهید. در این شرایط به تدریج دما افزایش یافته تا اینکه تخم‌مرغ بپزد.

در این تجربه،  $25^{\circ}\text{C}$  تنها یک کمیت به نام دما را برای آب نشان می‌دهد. در واقع بیان دما، توصیف یک ویژگی از ماده است، در حالی که برای افزایش دما و پختن تخم‌مرغ به ظرف گرما داده شد، فرایندی که دمای آب را به  $75^{\circ}\text{C}$  رساند. تغییر دما در این فرایند برابر است با:

$$\Delta\theta = \theta_2 - \theta_1 = 75^{\circ}\text{C} - 25^{\circ}\text{C} = 50^{\circ}\text{C}$$

مواردی از این دست نشان می‌دهد که تغییر دما برای توصیف یک فرایند به کار می‌رود، در واقع انجام فرایند است که می‌تواند باعث تغییر دما شود.

در این تجربه دمایی ماده با جذب گرما افزایش یافته است، به دیگر سخن دادوستد گرما می‌تواند باعث تغییر دما شود. توجه کنید که گرما از ویژگی‌های یک نمونه ماده نیست و نباید برای توصیف آن به کار رود.

هنگام آشپزی نیز می‌توان به رابطه میان دما و گرما پی برد. تصور کنید ظرفی محتوی  $20^{\circ}$  گرم روغن زیتون را با دمای  $25^{\circ}\text{C}$  در اختیار دارید. آیا برای افزایش دمای آن به  $50^{\circ}\text{C}$  یا  $75^{\circ}\text{C}$ ، گرمای یکسانی نیاز است؟ پاسخ منفی به این پرسش نشان می‌دهد که برای رساندن دمای روغن به  $75^{\circ}\text{C}$  باید گرمای بیشتری مصرف شود.

اینک دو ظرف فلزی یکسان در دمای اتاق ( $25^{\circ}\text{C}$ ) در نظر بگیرید که یکی محتوی  $20^{\circ}$  گرم آب و دیگری محتوی  $20^{\circ}$  گرم روغن زیتون است. اگر با گرما دادن، دمای هر یک را به  $75^{\circ}\text{C}$  برسانید و هم زمان محتویات تخم‌مرغی را به آرامی به هر یک بیفزایید با پدیده جالبی روبه‌رو خواهید شد (شکل ۲).

● روغن و چربی از جمله ترکیب‌های آلی هستند که به دلیل تفاوت در ساختار، رفتارهای فیزیکی و شیمیایی متفاوتی دارند. روغن دارای حالت فیزیکی مایع بوده اما چربی جامد است. از دیدگاه شیمیایی، در ساختار مولکول‌های روغن، پیوندهای دوگانه بیشتری وجود داشته و واکنش‌پذیری بیشتری نیز دارد.

## آیا می‌دانید

بررسی و توصیف ماده و همچنین تغییر (فیزیکی و شیمیایی) آن یکی از مهم‌ترین قلمروهای دانش شیمی است، به‌طوری که پس از بررسی یک نمونه ماده، برای توصیف آن از کمیت‌هایی مانند دما ( $T$ )، حجم ( $V$ )، مول ( $n$ )، آنتالپی ( $H$ ) و ... استفاده می‌شود. این درحالی است که اگر ماده در فرایندی دچار تغییر فیزیکی یا شیمیایی شود، برای توصیف فرایند از تغییر کمیت‌هایی مانند  $\Delta T$ ،  $\Delta V$ ،  $\Delta n$ ،  $\Delta H$  و ... استفاده می‌شود. برای مثال یک مول آب در دمای اتاق با  $T = 298\text{K}$  و  $V = 18\text{mL}$  اما تبخیر آن با  $\Delta T$  و  $\Delta V$  توصیف می‌شود.





شکل ۲- تخم مرغ درون آب (الف) و روغن زیتون (ب) با دمای  $75^{\circ}\text{C}$

تخم مرغ در این دما درون آب پخته می شود اما درون روغن زیتون تغییر محسوسی نخواهد کرد. آیا می دانید علت این پدیده چیست؟

● گرما را با نماد «Q» نشان می دهند و یکای اندازه گیری آن در «SI»، ژول «J» است.  $1\text{J} = 1\text{kg m}^2\text{s}^{-2}$

● هنوز در برخی موارد از یکای کالری (cal) برای بیان مقدار گرما استفاده می شود.  $1\text{cal} = 4.18\text{J}$

### با هم بیندیشیم

با توجه به شکل های داده شده، به پرسش های زیر پاسخ دهید.



$$200\text{ g روغن زیتون } (25^{\circ}\text{C}) \xrightarrow{19700\text{ J}} 200\text{ g روغن زیتون } (75^{\circ}\text{C})$$

$$200\text{ g آب } (25^{\circ}\text{C}) \xrightarrow{41800\text{ J}} 200\text{ g آب } (75^{\circ}\text{C})$$

الف) توضیح دهید چرا تخم مرغ در آب می پزد اما در روغن زیتون تغییر محسوسی نمی کند؟  
 ب) می دانید که ظرفیت گرمایی<sup>۱</sup> ماده هم ارز با گرمای لازم برای افزایش دمای آن به اندازه یک درجه سلسیوس است. با این توصیف ظرفیت گرمایی آب و روغن زیتون را محاسبه و با یکدیگر مقایسه کنید.

پ) ظرفیت گرمایی ماده به چه عواملی بستگی دارد؟

ت) در فیزیک دهم آموختید که ظرفیت گرمایی یک گرم ماده، ظرفیت گرمایی ویژه یا گرمای ویژه<sup>۲</sup> (c) آن ماده را نشان می دهد، مقدار این کمیت را برای آب و روغن زیتون حساب و باهم مقایسه کنید.

ث) رابطه ای میان ظرفیت گرمایی و گرمای ویژه یک ماده بیابید.

اینک می توان پختن تخم مرغ در آب  $75^{\circ}\text{C}$  در مقایسه با روغن زیتون در همین دما را توضیح داد. با اینکه جرم هر دو مایع در این آزمایش برابر است اما آب به دلیل داشتن ظرفیت گرمایی

۱- Heat Capacity  
 ۲- Specific Heat

بیشتر برای این میزان از تغییر دما، گرمای بیشتری جذب کرده است و همین گرمای بیشتر سبب پختن تخم مرغ شده است. در واقع روغن زیتون با ظرفیت گرمایی کمتر توانایی پختن تخم مرغ را با این تغییر دما در همین زمان نخواهد داشت. برای حساب کردن گرمای جذب یا آزاد شده در چنین فرایندهایی می‌توان از رابطه  $Q = mc\Delta\theta$  استفاده کرد.

این تجربه نشان می‌دهد که ظرفیت گرمایی در دما و فشار اتاق، افزون بر نوع ماده به مقدار آن نیز بستگی دارد. در حالی که گرمای ویژه در این شرایط، تنها به نوع ماده وابسته است. جدول ۱، گرمای ویژه برخی مواد خالص را در دما و فشار اتاق نشان می‌دهد.

جدول ۱- گرمای ویژه برخی مواد خالص در  $25^{\circ}\text{C}$  و  $1\text{ atm}$

ماده	گرمای ویژه ( $\text{Jg}^{-1}^{\circ}\text{C}^{-1}$ )	ماده	گرمای ویژه ( $\text{Jg}^{-1}^{\circ}\text{C}^{-1}$ )
آب	۴/۱۸۴	آلومینیم	۰/۹۰۰
سدیم کلرید	۰/۸۵۰	نقره	۰/۲۳۶
اتانول	۲/۴۳۰	طلا	۰/۱۲۸
کربن دی‌اکسید	۰/۸۴۰	اکسیژن	۰/۹۲۰

## خود را بیازمایید

۱- یک استکان چای با دمای  $90^{\circ}\text{C}$  درون اتاقی با دمای  $25^{\circ}\text{C}$  قرار دارد. با گذشت زمان، دما و انرژی گرمایی آن چه تغییری می‌کند؟ چرا؟

۲- با خط زدن واژه نادرست در هر مورد، عبارت زیر را کامل کنید.  
گرمای را می‌توان هم‌ارز با آن مقدار  $\frac{\text{انرژی گرمایی}}{\text{دمایی}}$  دانست که به دلیل تفاوت در  $\frac{\text{انرژی گرمایی}}{\text{دما}}$  جاری می‌شود.

۳- تکه‌ای نان و تکه‌ای سیب زمینی را با جرم و سطح یکسان در دمای  $6^{\circ}\text{C}$  در نظر بگیرید. اگر آنها را هم‌زمان در محیطی با دمای  $2^{\circ}\text{C}$  قرار دهیم کدام یک زودتر با محیط هم‌دما می‌شود؟ درستی پاسخ خود را در منزل بررسی کنید.

## جاری شدن انرژی گرمایی

تجربه خوردن شیر گرم در یک روز سرد زمستانی تجربه خوشایندی است، تجربه‌ای لذت‌بخش که به بدن انرژی می‌بخشد. اگر دمای شیر گرم در حدود  $6^{\circ}\text{C}$  باشد پس از ورود به بدن، نخست مقداری انرژی به شکل گرما از دست می‌دهد تا با بدن هم‌دما شود. شیمی دان‌ها برای درک



● شیر اشرف نوشیدنی‌ها، غذایی که مصرف آن برای همگان مفید است.

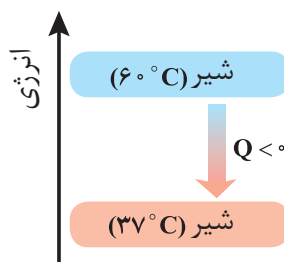


● بستنی یک خوراکی دوست‌داشتنی، خنک و سرشار از مواد مغذی و انرژی‌زاست. فرایند هم دما شدن آن در بدن با جذب انرژی، در حالی که گوارش و سوخت و ساز آن با آزاد شدن انرژی همراه است.

آسان‌تر جاری شدن انرژی گرمایی در فرایندهایی از این دست، شیر گرم را **سامانه<sup>۱</sup>** و بدن را **محیط<sup>۲</sup>** پیرامون آن در نظر می‌گیرند، با این توصیف در این فرایند با جاری شدن انرژی از سامانه به محیط، دمای سامانه کاهش می‌یابد ( $\Delta\theta < 0$ ). این ویژگی نشان می‌دهد که  $Q < 0$  بوده و با فرایندی **گرماده<sup>۳</sup>** سروکار داریم. الگوی نوشتاری این فرایند به صورت زیر است:

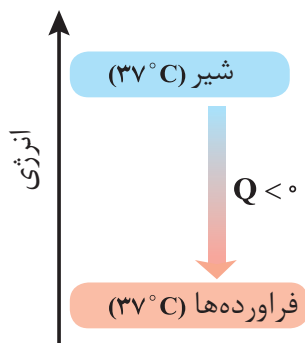
گرما + شیر ( $37^{\circ}\text{C}$ )  $\rightarrow$  شیر ( $60^{\circ}\text{C}$ )

انجام این فرایند را از دیدگاه انرژی می‌توان با نمودار ۲ نشان داد.



نمودار ۲- فرایند هم‌دما شدن شیر در بدن

اما بخش عمده انرژی موجود در شیر هنگام فرایند گوارش و سوخت و ساز به بدن می‌رسد. فرایندهایی که با انجام واکنش‌های شیمیایی گوناگونی همراه است. به دیگر سخن، انجام مجموعه این واکنش‌ها منجر به تولید انرژی و مواد اولیه مورد نیاز سوخت و ساز یاخته‌ها خواهد شد. نمودار ۳، تغییر انرژی وابسته به مجموعه این واکنش‌ها را نشان می‌دهد.



نمودار ۳- آزاد شدن انرژی در فرایند گوارش و سوخت و ساز شیر در بدن

در این واکنش‌ها با اینکه دما ثابت است ( $37^{\circ}\text{C}$ )، اما باز هم میان سامانه و محیط پیرامون، انرژی دادوستد می‌شود.

۱- System  
۲- Surroundings  
۳- Exothermic

## آیا می دانید

شیمی فیزیک<sup>۱</sup>، شاخه‌ای از علم شیمی است که این علم تجربی را بر مبنای مفاهیم فیزیکی و زبان ریاضی بنا نهاده و گسترش می‌دهد. این شاخه همه شیمی را به یکدیگر مرتبط می‌کند به طوری که با اصول علمی آن می‌توان ساختار و تغییر ماده را درک کرد. سینتیک شیمیایی، طیف‌سنجی، الکتروشیمی و ... از جمله مباحث آن است.

## گرما در واکنش‌های شیمیایی (گرماشیمی)

می‌دانید که هر واکنش شیمیایی ممکن است با تغییر رنگ، تولید رسوب، آزاد شدن گاز و ایجاد نور و صدا همراه باشد اما یک ویژگی بنیادی در همه آنها داد و ستد گرما با محیط پیرامون است. از این رو هر واکنش شیمیایی ممکن است گرماده یا گرماگیر باشد. بررسی و مطالعه این ویژگی در واکنش‌ها، منجر به پیدایش ترموشیمی (گرماشیمی) شد؛ شاخه‌ای از علم شیمی که به بررسی کمی و کیفی گرمای واکنش‌های شیمیایی، تغییر آن و تأثیری که بر حالت ماده دارد، می‌پردازد. از آنجا که روزانه واکنش‌های شیمیایی بسیاری در اطراف ما و حتی درون بدن ما رخ می‌دهد، می‌توان به وسعت قلمرو ترموشیمی پی برد؛ شما نیز با کمی دقت درمی‌یابید که امروزه گرماشیمی نقش و اهمیت بسیاری در زندگی دارد. شکل ۳ نمونه‌هایی از آنها را نشان می‌دهد.



(پ)



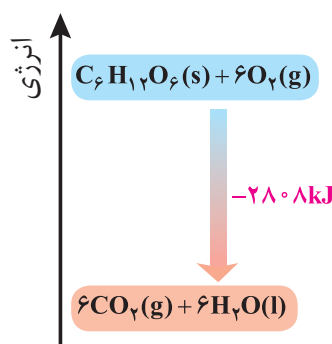
(ب)



(الف)

**شکل ۳. الف)** مواد غذایی پس از گوارش، انرژی لازم برای سوخت‌وساز یاخته‌ها را در بدن تأمین می‌کنند. **ب)** سوختن سوخت‌ها، انرژی لازم برای حمل و نقل و نیز گرمایش محیط‌های گوناگون را فراهم می‌کنند. **پ)** زغال کک، واکنش‌دهنده‌ای رایج در استخراج آهن بوده که تأمین‌کننده انرژی لازم برای انجام این واکنش نیز است.

منبع انرژی در بدن غذا است. منبعی که انرژی آن پس از انجام واکنش‌های شیمیایی گوناگون به بدن می‌رسد. بدیهی است که هر یک از این واکنش‌ها می‌تواند گرماده یا گرماگیر باشد؛ واکنش‌هایی که برای انجام شدن باید گرما از دست بدهند یا جذب کنند. نمودار ۴ یکی از این واکنش‌ها را نشان می‌دهد.



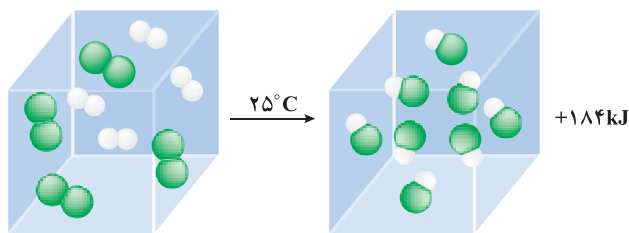
نمودار ۴ - اکسایش گلوکز برای تولید انرژی در بدن

جالب اینکه با وجود تولید انرژی در واکنش اکسایش گلوکز، دمای بدن تغییر محسوسی

● در برخی منابع از انرژی پتانسیل<sup>۱</sup> موجود در یک نمونه ماده، با نام انرژی شیمیایی<sup>۲</sup> یاد می‌شود.

نمی‌کند، زیرا دمای مواد واکنش دهنده پیش از آغاز واکنش با دمای مواد فراورده پس از پایان واکنش برابر است ( $\Delta\theta=0$ )، در واقع واکنش در دمای ثابت انجام می‌شود، اما چرا با وجود دادوستد گرما میان سامانه واکنش و محیط پیرامون، دما ثابت می‌ماند؟

برای پاسخ به این پرسش، یک واکنش میان مولکول‌های دو اتمی<sup>۳</sup> را بررسی می‌کنیم. سامانه‌ای محتوی یک مول گاز هیدروژن و یک مول گاز کلر را با دمای  $25^{\circ}\text{C}$  در نظر بگیرید. با انجام واکنش میان آنها افزون بر گاز هیدروژن کلرید، گرمای زیادی نیز تولید می‌شود. آزمایش نشان می‌دهد هنگامی که دمای سامانه پس از انجام واکنش به  $25^{\circ}\text{C}$  می‌رسد، گرمای اندازه‌گیری شده پس از تولید دو مول گاز هیدروژن کلرید برابر با  $184\text{kJ}$  است (شکل ۴).



شکل ۴ - نمونه‌ای از انجام یک واکنش گرماده در دمای ثابت

پژوهش‌ها نشان می‌دهد که این مقدار گرمای آزادشده ناشی از تفاوت انرژی گرمایی (مجموع انرژی جنبشی ذره‌ها) در مواد واکنش دهنده و فراورده نیست! زیرا در دمای ثابت، تفاوت چشمگیری میان انرژی گرمایی آنها وجود ندارد. شیمی‌دان‌ها گرمای جذب یا آزادشده در هر واکنش شیمیایی را به طور عمده وابسته به تفاوت میان انرژی پتانسیل مواد واکنش دهنده و فراورده می‌دانند. با این توصیف، انرژی پتانسیل یک نمونه ماده، انرژی نهفته‌شده در آن است، انرژی‌ای که ناشی از نیروهای نگه‌دارنده ذره‌های سازنده آن است.

برای درک این مفهوم، به ساختار مولکول‌های گازی مواد شرکت‌کننده در واکنش یادشده توجه کنید.

$$\text{H}-\text{H}(\text{g}) + \text{Cl}-\text{Cl}(\text{g}) \rightarrow 2\text{H}-\text{Cl}(\text{g})$$

در هر مولکول از این مواد، تنها دو اتم با یک پیوند اشتراکی به یکدیگر متصل‌اند، اما نوع اتم‌های متصل به هم در هر مولکول متفاوت از دیگری است؛ به دیگر سخن نیروهای نگه‌دارنده اتم در هر مولکول و در نتیجه استحکام پیوندها از یکدیگر متفاوت خواهد بود.

این الگو نشان می‌دهد که با انجام یک واکنش شیمیایی و تغییر در شیوه اتصال اتم‌ها به یکدیگر، تفاوت آشکاری در انرژی پتانسیل وابسته به آنها ایجاد می‌شود؛ تفاوت انرژی‌ای که در واکنش‌ها به شکل گرما ظاهر می‌شود.

## ۸ آیا می‌دانید

افتادن سیب از درخت بر روی زمین نتیجه نیروی گرانش بوده و نشانه‌ای از وجود پتانسیل گرانشی است در حالی که رسانایی الکتریکی محلول الکترولیت نتیجه نیروی جاذبه میان یون‌ها و قطب‌های ناهمنام بوده و نشانه‌ای از وجود پتانسیل الکتریکی است. در واقع پتانسیل‌ها نتیجه‌ای از برهم‌کنش‌های گوناگون هستند.

۱- Potential Energy  
۲- Chemical Energy  
۳- Diatomic Molecules

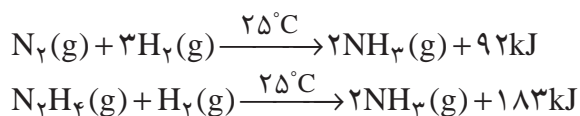


## آیا می دانید

$N_2H_4$ ، هیدرازین نامیده می شود، ماده ای پرانرژی که به عنوان سوخت موشک استفاده می شود.

## با هم بیندیشیم



۱- با توجه به واکنش های زیر پاسخ دهید:



الف) چرا گرمای آزاد شده در دو واکنش متفاوت است؟ توضیح دهید.

ب) در کدام واکنش، مواد واکنش دهنده پایدارتر است؟ چرا؟

۲- گرافیت و الماس دو آلوتروپ کربن هستند که فرآورده واکنش سوختن کامل آنها، گاز کربن دی اکسید است.



الف) چرا گرمای حاصل از سوختن یک مول گرافیت متفاوت از یک مول الماس است؟

ب) الماس پایدارتر است یا گرافیت؟ چرا؟

پ) از سوختن کامل ۷/۲ g گرافیت، چند کیلوژول گرما آزاد می شود؟

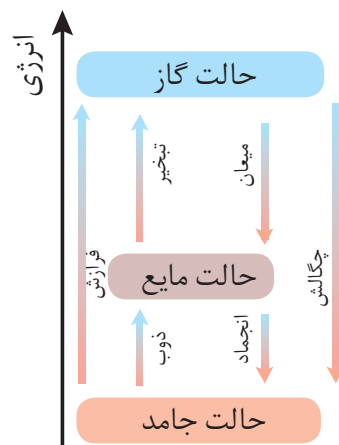
۳- با توجه به واکنش  $2H_2(g) + O_2(g) \rightarrow 2H_2O(g) + 484kJ$ ، پیش بینی کنید گرمای واکنش  $2H_2(g) + O_2(g) \rightarrow 2H_2O(l)$  کدام است ( $-572 kJ$ ،  $+572 kJ$ ،  $-422 kJ$ ،  $+422 kJ$ )؟ چرا؟

• در شیمی ۱ آموختید که اتم ها در حالت پایه با جذب انرژی به اتم های برانگیخته تبدیل می شوند. اتم های برانگیخته، پرانرژی تر و ناپایدارترند.



• الماس و گرافیت، دو آلوتروپ کربن

دریافتید که گرمای یک واکنش در دما و فشار ثابت، به نوع و مقدار واکنش دهنده ها، نوع فرآورده ها و حالت فیزیکی آنها بستگی دارد. کمیتی که یکی از ویژگی های کاربردی و بنیادی هر واکنش به شمار می رود.

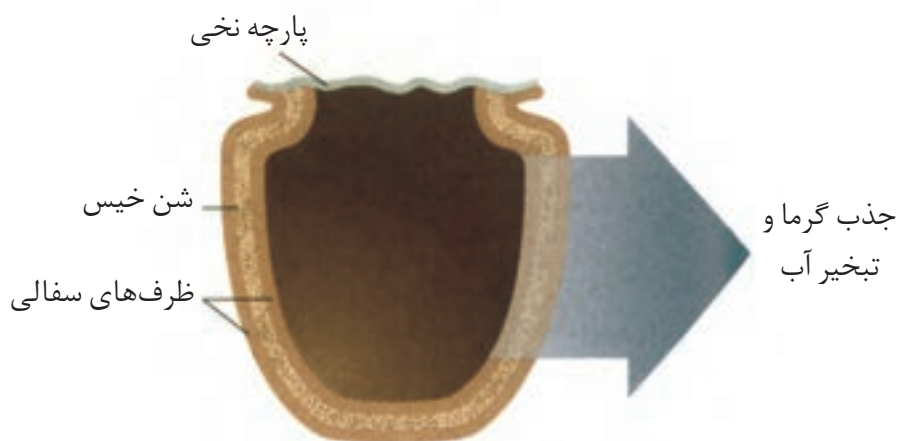


• تغییر حالت فیزیکی مواد خالص با تغییر انرژی همراه است.

## پیوند با صنعت

بسیاری از مردم کشور نیجریه در مناطق خشک، بیابانی و بادخیز زندگی می کنند. مناطقی که تهیه غذا در آنها دشوار اما نگهداری آن دشوارتر است. محمد باه آبا، معلم نیجریایی با طراحی و ساخت دستگاهی ساده و ارزان به مردم کشورش خدمتی ارزنده ارائه کرد. دستگاهی که همانند یک یخچال اما بدون نیاز به انرژی الکتریکی، غذا را خنک و برای مدت طولانی تری

نگه می‌دارد (شکل ۵).



شکل ۵- ساختار یخچال صحرایی

● آیا تاکنون آبی گوارا و خنک از کوزه نوشیده‌اید؟ کوزه، ظرفی سفالی است که ایرانیان از گذشته‌های دور برای نگهداری آب آشامیدنی از آن استفاده می‌کردند. این سفالینه نیز از خاک رس تهیه می‌شود و در بدنه خود روزنه‌های بسیار ریزی دارد. هنگامی که کوزه حاوی آب باشد، آب به آسانی به دیواره آن نفوذ کرده تا جایی که حتی سطح بیرونی آن را نیز نمناک می‌کند. در این شرایط، به تدریج آب از سطح بیرونی کوزه تبخیر شده و گرمای لازم برای این فرایند از محتویات کوزه تأمین می‌شود. فرایندی که باعث کاهش دما و خنک‌شدن آب خواهد شد.

مطابق شکل ۵، او برای ساخت این دستگاه، دو ظرف سفالی (ساخته شده از خاک رس) را درون یکدیگر قرار داد و فضای میان آنها را با شن خیس پر کرد. درپوش این مجموعه، پوششی نخی و مرطوب است که تهویه را به آسانی انجام می‌دهد. آب در بدنه سفالی ظرف بیرونی نفوذ کرده و به آرامی تبخیر می‌شود، معادله انجام این فرایند به صورت زیر است:



این معادله نشان می‌دهد که برای تبخیر یک مول آب به ۴۴/۱ کیلوژول گرما نیاز است. جذب گرما در این فرایند باعث افت دما شده و فضای درونی دستگاه همراه با محتویات آن را خنک می‌کند؛ شرایطی که برای سالم نگهداشتن غذا به مدت طولانی‌تر مناسب است.

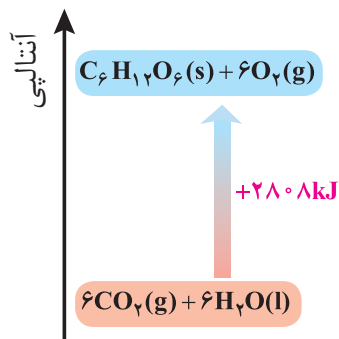
## آنتالپی<sup>۱</sup>، همان محتوای انرژی است

هر نمونه ماده شامل مجموعه‌ای از شمار بسیار زیادی ذره‌های سازنده است. این ذره‌ها افزون بر جنبش‌های نامنظم، با یکدیگر برهم‌کنش نیز دارند. در واقع، ذره‌های سازنده یک نمونه ماده افزون بر انرژی جنبشی، دارای انرژی پتانسیل نیز هستند. می‌دانید که یک نمونه ماده با مقدار آن در دما و فشار معین توصیف می‌شود، به‌طوری که ۲۰۰ گرم آب در دما و فشار اتاق را می‌توان یک نمونه ماده دانست. اینک ظرفی را در نظر بگیرید که محتوی این نمونه ماده باشد، چنین مجموعه‌ای یک سامانه به شمار می‌رود.

۱- Enthalpy

• همهٔ مواد پیرامون ما در دما و فشار اتاق، آنتالپی معینی دارند.

شیمی دان‌ها انرژی کل چنین سامانه‌ای را هم‌ارز با محتوای انرژی یا آنتالپی آن می‌دانند. با این توصیف هر سامانه در دما و فشار ثابت، آنتالپی معینی دارد. بدیهی است که با انجام واکنش شیمیایی گرماگیر در یک سامانه، مواد با محتوای انرژی (آنتالپی) کمتر به موادی با انرژی (آنتالپی) بیشتر تبدیل می‌شوند (نمودار ۵).



نمودار ۵- آنتالپی واکنش در فتوسنتز

انجام این واکنش، برخلاف اکسایش گلوکز با جذب انرژی همراه است. از آنجا که داد و ستد انرژی در واکنش‌ها به طور عمده به شکل گرما ظاهر می‌شود، شیمی دان‌ها تغییر آنتالپی هر واکنش را هم‌ارز با گرمایی می‌دانند که در فشار ثابت با محیط پیرامون داد و ستد می‌کند و آن را با  $Q_p$  نشان می‌دهند.

• برای یک واکنش اغلب به جای تغییر آنتالپی واکنش، واژهٔ آنتالپی واکنش به کار می‌رود.

نماد آنتالپی، «H» است در حالی که نماد تغییر آنتالپی، « $\Delta H$ » می‌باشد؛ کمیتی که با رابطه زیر بیان می‌شود:

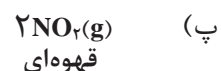

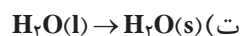
$$Q_p = H(\text{مواد واکنش دهنده}) - H(\text{مواد فرآورده}) = \Delta H(\text{واکنش})$$

## خود را بیازمایید

۱- نماد Q را در هر معادله وارد کرده سپس علامت « $\Delta H$ » را در هر مورد مشخص کنید.



● مقدار عددی « $\Delta H$ »، یک فرایند بزرگی آن را نشان می‌دهد، درحالی که علامت مثبت و منفی تنها نشان‌دهنده گرماگیر و گرماده بودن آن است.



۲- اگر برای تولید یک مول گاز اوزون از گاز اکسیژن، آنتالپی به اندازه  $143 \text{ kJ}$  افزایش یابد، آنتالپی واکنش  $3O_2(g) \rightleftharpoons 2O_3(g)$  را در جهت رفت و در جهت برگشت حساب کنید.

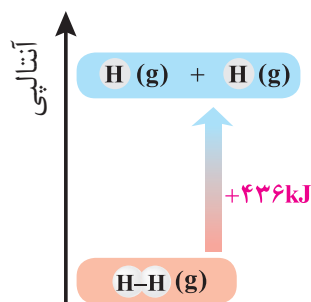
## آنتالپی پیوند و میانگین آن

انجام یک واکنش شیمیایی نشانه‌ای از تغییر در شیوه اتصال اتم‌ها به یکدیگر است که به تغییر در ساختار و خواص مواد منجر می‌شود. یکی از خواصی که در واکنش‌های شیمیایی تغییر می‌کند، محتوای انرژی مواد است. این توصیف از واکنش، اهمیت پیوندهای شیمیایی و نقش انرژی وابسته به آنها را در گرمای یک واکنش نشان می‌دهد. برای درک انرژی پیوند می‌توان بحث را با پیوند میان ساده‌ترین اتم‌ها ادامه داد.

یک نمونه گاز هیدروژن، مجموعه‌ای از شمار بسیار زیادی مولکول‌های دواتمی بوده و هر مولکول شامل دو اتم هیدروژن با یک پیوند اشتراکی است. انتظار می‌رود برای تبدیل این مولکول‌ها به اتم‌های جدا از هم انرژی صرف شود. شواهد تجربی نشان می‌دهد که انرژی لازم برای شکستن پیوندهای اشتراکی موجود در یک مول  $H_2(g)$  و تبدیل آن به دو مول  $H(g)$ ، حدود  $436 \text{ kJ}$  است (نمودار ۶).

جدول ۲- آنتالپی برخی پیوندها

پيوند	آنتالپی ( $\text{kJ mol}^{-1}$ )
Cl-Cl	۲۴۲
Br-Br	۱۹۳
I-I	۱۵۱
H-F	۵۶۷
H-Cl	۴۳۱
O=O	۴۹۵
N≡N	۹۴۵



نمودار ۶- آنتالپی پیوند H-H

جدول ۳- میانگین آنتالپی  
برخی پیوندها

پیوند	میانگین آنتالپی (kJ mol <sup>-1</sup> )
C-O	۳۸۰
N-H	۳۹۱
O-H	۴۶۳
C-C	۳۴۸
C=C	۶۱۴
C≡C	۸۳۹
C=O	۷۹۹
N-N	۱۶۳
O-O	۱۴۶

در ترموشیمی به مقدار ۴۳۶ kJ، آنتالپی پیوند «H-H» می‌گویند و آن را با نماد  $\Delta H(\text{H-H}) = 436 \text{ kJ mol}^{-1}$  نشان می‌دهند. جدول ۲، آنتالپی برخی پیوندها را نشان می‌دهد. اینک شاید بپرسید که شیمی‌دان‌ها چگونه آنتالپی پیوند را برای مولکول‌های چنداتمی مانند  $\text{H}_2\text{O}$ ،  $\text{NH}_3$  و  $\text{CH}_4$  تعیین و گزارش می‌کنند؟ در مولکول‌هایی از این دست، اتم مرکزی به چند اتم کناری یکسان با پیوندهای اشتراکی متصل است. یافته‌های تجربی نشان می‌دهد که برای چنین مولکول‌هایی به کار بردن میانگین آنتالپی پیوند مناسب‌تر است. برای نمونه براساس واکنش:

$$\text{CH}_4(\text{g}) + 1660 \text{ kJ} \rightarrow \text{C}(\text{g}) + 4\text{H}(\text{g})$$

میانگین آنتالپی پیوند «C-H» در جدول‌ها،  $415 \text{ kJ mol}^{-1}$  درج شده (چرا؟)، به دیگر سخن  $\Delta H(\text{C-H}) = 415 \text{ kJ mol}^{-1}$  است. جدول ۳، میانگین آنتالپی برخی پیوندها را نشان می‌دهد.

### خود را بیازمایید

با استفاده از داده‌های جدول ۳، آنتالپی هریک از واکنش‌های زیر را پیش‌بینی کنید.

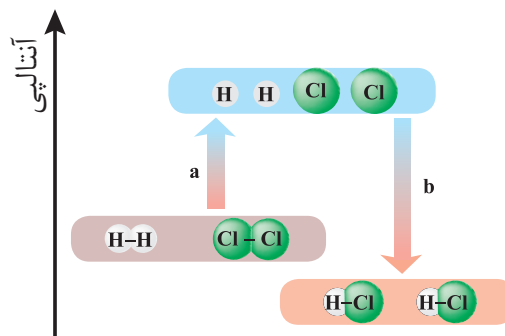
الف)  $\text{H}_2\text{O}(\text{g}) \longrightarrow \text{O}(\text{g}) + 2\text{H}(\text{g})$       ب)  $\text{NH}_3(\text{g}) + \text{H}(\text{g}) \longrightarrow \text{NH}_2(\text{g})$

آموختید که انجام فرایندهای فیزیکی و شیمیایی منجر به تغییر محتوای انرژی مواد می‌شود، از این رو انجام هریک از آنها با جذب یا از دست دادن گرما همراه است. تجربه نشان می‌دهد که گرمای تولید یا مصرف شده در واکنش‌های شیمیایی قابل اندازه‌گیری بوده و یکی از هدف‌هایی است که در ترموشیمی دنبال می‌شود.

### آنتالپی پیوند، راهی برای تعیین $\Delta H$ واکنش

شیمی‌دان‌ها به کار بردن آنتالپی پیوند و میانگین آن را روشی برای تعیین آنتالپی یک واکنش می‌دانند. به دیگر سخن آنتالپی‌های پیوند کمک می‌کند تا از یک روش محاسباتی برای تعیین  $\Delta H$  برخی واکنش‌ها بهره برد؛ راهی که در آن تصور می‌شود شماری از پیوندهای اشتراکی در مولکول‌های مواد واکنش دهنده، شکسته شده سپس شماری پیوند جدید تشکیل می‌شود تا مولکول‌های فراورده پدید آیند؛ با این توصیف دوباره به واکنش میان گازهای هیدروژن و کلر توجه کنید (نمودار ۷). این بار با این تصور که با شکسته شدن پیوندهای اشتراکی در مواد واکنش دهنده و تشکیل پیوندهای جدید، تنها فراورده این واکنش تولید می‌شود.





نمودار ۷- الگویی برای واکنش  $H_2$  با  $Cl_2$  و تولید  $HCl$

کمیت  $a$  در نمودار ۷، انرژی لازم برای شکستن پیوندهای اشتراکی  $H-H$  و  $Cl-Cl$  را در یک مول از هر کدام آنها نشان می‌دهد، به طوری که این مقدار انرژی هم ارز با مجموع آنتالپی این پیوندهاست:

$$a = (1 \text{ mol} \times 436 \text{ kJ mol}^{-1}) + (1 \text{ mol} \times 242 \text{ kJ mol}^{-1}) = 678 \text{ kJ}$$

کمیت  $b$  در این نمودار، انرژی حاصل از تشکیل پیوندهای اشتراکی  $H-Cl$  را در دو مول از آن نشان می‌دهد، از این رو کمیت  $b$  هم ارز با دو برابر آنتالپی این پیوند اما با علامت منفی است:

$$b = -(2 \text{ mol} \times 431 \text{ kJ mol}^{-1}) = -862 \text{ kJ}$$

اینک از جمع جبری کمیت‌های  $a$  و  $b$ ، آنتالپی واکنش به دست می‌آید:

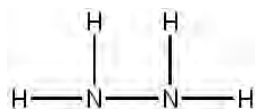
$$\Delta H(\text{واکنش}) = a + b = 678 \text{ kJ} + (-862 \text{ kJ}) = -184 \text{ kJ}$$

شیمی دان‌ها به کار بردن آنتالپی‌های پیوند را برای تعیین  $\Delta H$  واکنش‌هایی مناسب می‌دانند که همهٔ مواد شرکت کننده در آنها به حالت گازند. در چنین واکنش‌هایی هرچه مولکول‌های مواد شرکت کننده ساده‌تر باشند، آنتالپی واکنش محاسبه شده با داده‌های تجربی همخوانی بیشتری دارد. به دیگر سخن به کار بردن میانگین آنتالپی پیوندها برای تعیین  $\Delta H$  واکنش‌های گازی با مولکول‌های پیچیده‌تر اغلب در مقایسه با داده‌های تجربی، تفاوتی آشکار نشان می‌دهد.

## خود را بیازمایید

۱- دانش‌آموزی برای تعیین آنتالپی یک واکنش گازی از رابطه زیر استفاده کرده است،

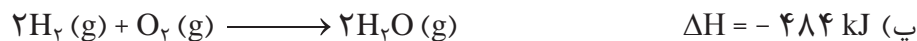
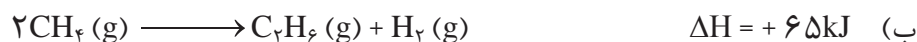
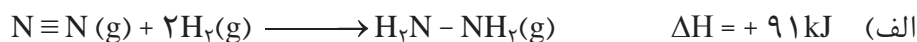
درستی این رابطه را بررسی کنید.



● در ارزشیابی‌های پایانی، نهایی و آزمون‌های سراسری در این گونه پرسش‌ها باید فرمول ساختاری مواد شرکت کننده داده شود.

$$\Delta H(\text{واکنش}) = \left[ \begin{array}{c} \text{مجموع آنتالپی پیوندها} \\ \text{در مواد واکنش دهنده} \end{array} \right] - \left[ \begin{array}{c} \text{مجموع آنتالپی پیوندها} \\ \text{در مواد فراورده} \end{array} \right]$$

۲- با استفاده از جدول میانگین آنتالپی پیوندها،  $\Delta H$  هر یک از واکنش های ترموشیمیایی زیر را حساب نموده و با  $\Delta H$  داده شده مقایسه کنید.



## پیوند با زندگی



ادویه ها نقش جالبی در تمدن و تاریخ ملت ها دارند به طوری که بو و مزه لذت بخش غذاهای بومی در هر جای جهان، اغلب به دلیل افزودن ادویه های ویژه ای به آنها است. این مواد افزون بر رنگ، بو و مزه خوشایندی که به غذا می دهند، مصرف دارویی نیز دارند آن چنان که امروزه این مواد برای جلوگیری از گرسنگی، افزایش سوخت و ساز، جلوگیری از التهاب، پیشگیری از سرطان و گاهی بهبود یا رفع آن به کار می روند.

یافته های تجربی نشان می دهند که چنین خواصی در ادویه ها به طور عمده وابسته به ترکیب های آلی موجود در آنها است؛ ترکیب هایی که در ساختار خود افزون بر اتم های هیدروژن و کربن، اتم های اکسیژن، گاهی نیتروژن و گوگرد نیز دارند. شواهد تجربی نشان می دهد که تفاوت در خواص ادویه ها به دلیل تفاوت در ساختار این مواد آلی است. بررسی مواد آلی موجود در آنها نشان می دهد که وجود آرایش ویژه ای از اتم ها به نام **گروه عاملی**<sup>۱</sup> نقش تعیین کننده ای در خواص آنها دارد. در هر یک از این گروه ها شیوه اتصال اتم ها به یکدیگر یا پیوند میان آنها اهمیت ویژه ای دارد. برای نمونه آرایش اتم های کربن و اکسیژن با پیوند دوگانه ( $C=O$ ) نشانه وجود یک گروه عاملی به نام **کربونیل**<sup>۲</sup> است، گروهی که به آلدهیدها و کتون ها خواص

● گروه عاملی، آرایش منظمی از اتم ها است که به مولکول آلی دارای آن، خواص فیزیکی و شیمیایی منحصر به فردی می بخشد.

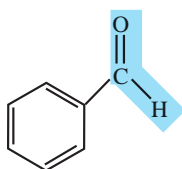
۱- Functional Group

۲- Carbonyl

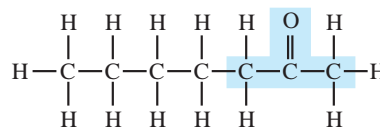
ویژه‌ای می‌بخشد (شکل ۶).



بادام



(ب) بنزالدهید



(الف) ۲- هپتانون



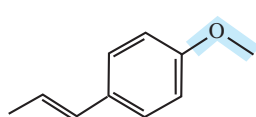
میخک

**شکل ۶-** نمایش گروه عاملی کربونیل در ۲- هپتانون و بنزالدهید .  
چه تفاوت و چه شباهتی میان گروه عاملی آلدهیدی و کتونی وجود دارد؟

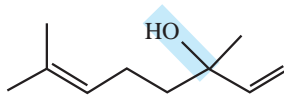
اما در ساختار برخی ادویه‌ها گروه‌های عاملی دیگری نیز وجود دارد. گروه‌هایی که در آنها اتم اکسیژن به یک یا دو اتم کربن با پیوند یگانه متصل است. این گروه‌های عاملی به ترتیب **هیدروکسیل** <sup>۱</sup> (O-H -) و **تری** (O-) نام دارند. برای نمونه طعم و بوی گشنیز و رازیانه به طور عمده وابسته به وجود این گروه‌های عاملی است (شکل ۷).



رازیانه



(ب)



(الف)



گشنیز

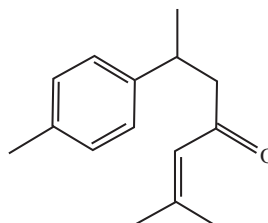
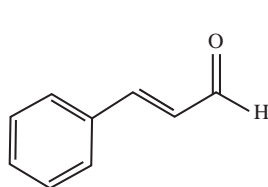
**شکل ۷-** نمونه‌ای از ترکیب‌های آلی موجود در (الف) گشنیز و (ب) رازیانه

## خود را بیازمایید

۱- هر ساختار زیر یک ترکیب آلی موجود در آن ادویه را نشان می‌دهد. گروه‌های عاملی موجود در هر مولکول را مشخص کنید و نام آنها را بنویسید.




دارچین



زردچوبه

۲- با توجه به ساختار ترکیب‌های آلی زیر به پرسش‌های مطرح شده پاسخ دهید.



الف) شمار و نوع اتم‌های سازنده آنها را با یکدیگر مقایسه کنید.

ب) آیا خواص فیزیکی و شیمیایی آنها یکسان است؟ چرا؟

پ) آیا محتوای انرژی آنها را یکسان پیش‌بینی می‌کنید؟ توضیح دهید.

● شیمی‌دان‌ها به موادی که فرمول مولکولی یکسان اما ساختار متفاوتی دارند، ایزومر (همپار) می‌گویند.



● هنگام کباب کردن گوشت و خوردن آن نقش و اهمیت ترموشیمی را احساس می‌کنید.

## آیا می‌دانید

واکنش سوختن پروتئین‌ها در آزمایشگاه با واکنش اکسایش آنها در بدن متفاوت است، زیرا پروتئین‌ها مواد آلی نیتروژن دارند که از سوختن کامل آنها افزون بر  $H_2O$ ،  $CO_2$  و انرژی، گاز  $N_2$  نیز تولید می‌شود. در حالی که از اکسایش آنها در بدن، نیتروژن به طور عمد به شکل اوره درمی‌آید.

● با اینکه همه واکنش‌های سوختن گرماده است؛ اما ارزش سوختی در منابع معتبر علمی بدون علامت منفی گزارش شده است.

## آیا می‌دانید

هر کیلوگرم از بدن به طور میانگین به  $100$  کیلوژول انرژی در شبانه‌روز نیاز دارد تا وظایف خود را در پایین‌ترین سطح انجام دهد. این در حالی است که آهنگ مصرف انرژی در یک فرد  $70$  کیلوگرمی هنگام فعالیت سبکی مانند باغبانی یا پیاده‌روی حدود  $800$  کیلوژول و هنگام دویدن حدود  $2000$  کیلوژول در هر ساعت است.

## آنتالپی سوختن، تکیه‌گاهی برای تأمین انرژی

کباب کردن انواع گوشت، نمونه‌ای کاربردی و خوشایند از ترموشیمی به ویژه آنتالپی سوختن در زندگی است. انرژی لازم برای پختن گوشت در این فرایند از سوختن زغال یا گاز شهری فراهم می‌شود و از سوی دیگر خوردن کباب، مواد و انرژی لازم برای انجام فعالیت‌های بدن را تأمین می‌کند.

این دیدگاه شیمیایی در تهیه غذا کمک می‌کند تا افزون بر درک و تعیین آنتالپی واکنش سوختن مواد، به ارزش غذایی انواع خوراکی‌ها نیز توجه شود.

بدن ما از غذا، مواد گوناگونی دریافت می‌کند. این مواد شامل کربوهیدرات‌ها، چربی‌ها، پروتئین‌ها، آب، ویتامین‌ها و مواد معدنی بوده که سه ماده نخست، افزون بر تأمین مواد اولیه برای سوخت‌وساز یاخته‌ها، منابعی برای تأمین انرژی آنها نیز هستند. در این میان تنها کربوهیدرات‌ها هستند که در بدن به گلوکز شکسته شده و گلوکز حاصل از آنها در خون حل می‌شود. خون این ماده را به یاخته‌ها می‌رساند (گلوکز، قندخون است) و این ماده هنگام اکسایش در یاخته‌ها، انرژی تولید می‌کند؛ این روند به آسانی انرژی مورد نیاز یاخته‌ها را تأمین می‌کند. اما پرسش این است که چرا بدن ما، چربی را بیشتر ذخیره می‌کند؟

پژوهش‌ها نشان می‌دهد که چربی ارزش سوختی بیشتری از کربوهیدرات‌ها و پروتئین‌ها نیز دارد. به دیگر سخن، انرژی حاصل از اکسایش یک گرم چربی بیشتر از دو ماده غذایی دیگر است (جدول ۴).

جدول ۴- ارزش سوختی سه ماده غذایی

ماده غذایی	کربوهیدرات	چربی	پروتئین
ارزش سوختی ( $kJ g^{-1}$ )	۱۷	۳۸	۱۷

با این الگو می‌توان مقدار انرژی‌ای که با مصرف مقدار معینی از هر غذا به بدن می‌رسد را

**جدول ۵-** ارزش سوختی برخی خوراکی‌ها که محتوی کربوهیدرات، چربی و پروتئین هستند.

خوراکی	ارزش سوختی (kJ g <sup>-1</sup> )
نان	۱۱/۵
پنیر	۲۰/۰
تخم مرغ	۶/۰
شکلات	۱۸/۰
شیر	۳/۰
بادام زمینی	۲۳

● یکی از فرآورده‌های سوختن کامل مواد آلی در دمای اتاق، H<sub>2</sub>O است و حالت مایع دارد.

حساب کرد. برای این کار می‌توان از جدول‌هایی همانند جدول ۵ که در منابع علمی معتبر موجود است، استفاده کرد. باید توجه داشت که میزان انرژی مورد نیاز بدن هر فرد به وزن، سن و میزان فعالیت‌های روزانه او بستگی دارد. هر مقدار اضافی از مواد و انرژی دریافتی از مواد غذایی به‌طور عمده به شکل چربی در بدن ذخیره شده و باعث چاقی می‌شود. آشکار است که تهیه هر غذای گرمی به انرژی نیاز دارد، انرژی‌ای که به‌طور عمده از واکنش سوختن سوخت‌های فسیلی تأمین می‌شود. یکی از این سوخت‌ها متان است که بخش عمده گاز شهری را تشکیل می‌دهد. این ماده در حضور اکسیژن کافی به‌طور کامل می‌سوزد و افزون بر CO<sub>2</sub>(g) و H<sub>2</sub>O(g)، مقدار زیادی انرژی تولید می‌کند. این ویژگی در واکنش‌های سوختن باعث شده که سوخت‌های فسیلی تکیه‌گاهی برای تأمین انرژی در صنعت، کشاورزی و زندگی روزانه باشند.

شیمی‌دان‌ها بر اساس این واکنش‌ها، آنتالپی سوختن یک ماده را هم‌ارز با آنتالپی واکنشی می‌دانند که در آن یک مول ماده در اکسیژن کافی به‌طور کامل می‌سوزد. جدول ۶، آنتالپی سوختن برخی ترکیب‌های آلی را در ۲۵°C نشان می‌دهد.

**جدول ۶-** آنتالپی سوختن برخی ترکیب‌های آلی در ۲۵°C

ماده آلی	آنتالپی سوختن (kJ mol <sup>-1</sup> )	ماده آلی	آنتالپی سوختن (kJ mol <sup>-1</sup> )
CH <sub>4</sub> (g)	-۸۹۰	C <sub>2</sub> H <sub>2</sub> (g)	-۱۳۰۰
C <sub>2</sub> H <sub>6</sub> (g)	-۱۵۶۰	C <sub>2</sub> H <sub>4</sub> (g)	-۱۹۳۸
C <sub>2</sub> H <sub>5</sub> (g)	-۱۴۱۰	CH <sub>3</sub> OH(l)	-۷۲۶
C <sub>2</sub> H <sub>5</sub> (g)	-۲۰۵۸	C <sub>2</sub> H <sub>5</sub> OH(l)	-۱۳۶۸

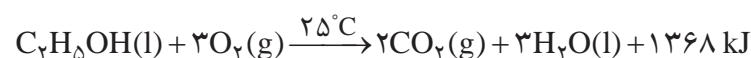
## آیا می‌دانید

برای اندازه‌گیری دقیق گرمای سوختن یک ماده می‌توان از گرماسنج بمبی استفاده کرد.



## خود را بیازمایید

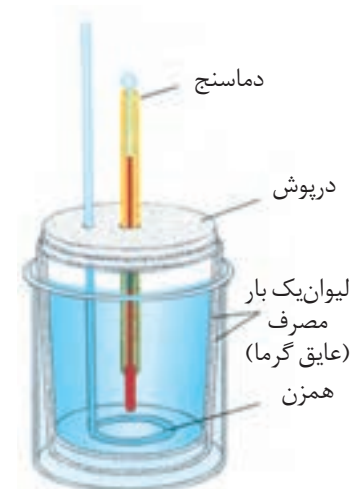
- ۱- با توجه به جدول ۶ آنتالپی سوختن پروپان (C<sub>3</sub>H<sub>8</sub>) و ۱- بوتن (C<sub>4</sub>H<sub>8</sub>) را پیش‌بینی کرده سپس با مراجعه به منابع علمی معتبر درستی پیش‌بینی خود را بررسی کنید.
- ۲- با توجه به معادله واکنش سوختن کامل اتان و اتانول به پرسش‌های مطرح‌شده پاسخ دهید.



الف) ارزش سوختی هریک را محاسبه و با یکدیگر مقایسه کنید.



● سوخت‌های سبز در ساختار خود افزون بر هیدروژن و کربن، اکسیژن نیز دارند و از پسماندهای گیاهانی مانند سویا، نیشکر و دیگر دانه‌های روغنی استخراج می‌شوند.



**شکل ۸- ساختار گرماسنج لیوانی.** دستگاهی که به کمک آن می‌توان گرمای واکنش را در فشار ثابت به روش تجربی تعیین کرد. این گرماسنج برای تعیین  $\Delta H$  فرایندهای انحلال و واکنش‌هایی که در حالت محلول انجام می‌شوند، مناسب است.

● اگر واکنش شیمیایی با  $\Delta H$  وابسته به آن بیان شود، به آن **واکنش گرما (ترموشیمیایی)** می‌گویند.

ب) جرم  $\text{CO}_2$  حاصل از سوختن یک گرم از هریک را محاسبه و با یکدیگر مقایسه کنید.  
پ) توضیح دهید چرا اتانول **سوخت سبز**<sup>۱</sup> به شمار می‌رود؟

## در میان تارنماها

با مراجعه به منابع علمی معتبر گزارشی از مواد انرژی‌زا یا نیروزا در ورزش‌های قهرمانی و آثار زیان‌بار آنها بر بدن تهیه و در کلاس ارائه کنید.

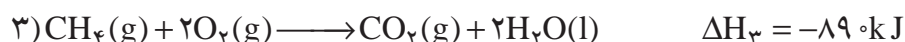

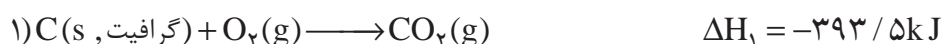
## جمع‌پذیری گرمای واکنش‌ها، قانون هس<sup>۲</sup>

آنتالپی بسیاری از واکنش‌های شیمیایی را نمی‌توان به روش تجربی (شکل ۸) اندازه‌گیری کرد، زیرا برخی از آنها مرحله‌ای از یک واکنش پیچیده هستند و برخی دیگر به آسانی انجام نمی‌شوند. آشکار است که تأمین شرایط بهینه برای انجام آنها بسیار دشوار است. شیمی‌دان‌ها برای تعیین  $\Delta H$  چنین واکنش‌هایی از روش‌های دقیق دیگری همانند قانون هس بهره می‌برند.

می‌دانید که متان، ساده‌ترین هیدروکربن و نخستین عضو خانواده آلکان‌ها است و بخش عمده گاز طبیعی را تشکیل می‌دهد. این گاز از تجزیه گیاهان به وسیله باکتری‌های بی‌هوازی نیز در زیر آب تولید می‌شود. (شکل ۹) شاید تصور کنید که گاز متان را می‌توان مطابق معادله زیر از واکنش میان گرافیت و گاز هیدروژن در آزمایشگاه تهیه کرد:



آزمایش‌ها و یافته‌های تجربی نشان می‌دهند که تأمین شرایط بهینه برای انجام این واکنش بسیار دشوار و پرهزینه است، به همین دلیل برای تعیین  $\Delta H$  این واکنش می‌توان از واکنش‌های دیگری بهره برد که  $\Delta H$  آنها پیش از این تعیین شده است. این واکنش‌های ترموشیمیایی می‌توانند واکنش سوختن یک مول گرافیت، یک مول گاز هیدروژن و یک مول گاز متان باشند که معادله هریک از آنها در  $25^\circ\text{C}$  به صورت زیر است:



۱- Green Fuel

۲- Hess's Law

۳- Thermochemical Reaction

با کمی دقت درمی‌یابید که به آسانی نمی‌توان از جمع سه واکنش ترموشیمیایی صفحه قبل به واکنش موردنظر رسید. در این شرایط باید از قواعد رایج در ترموشیمی بهره برد.

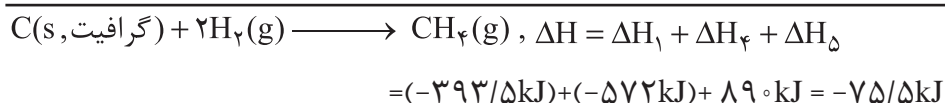
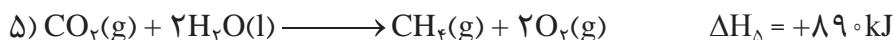
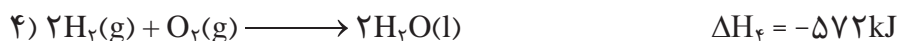
در واکنش موردنظر، نخستین واکنش دهنده گرافیت با ضریب استوکیومتری برابر با ۱ است که در معادله نخست نیز با همان ویژگی‌ها دیده می‌شود. دومین واکنش دهنده، گاز هیدروژن با ضریب استوکیومتری برابر با ۲ است که در معادله دوم نیز واکنش دهنده اما با ضریب استوکیومتری برابر با ۱ است؛ از این‌رو، باید این معادله ترموشیمیایی در ۲ ضرب شود.



سومین ماده در واکنش موردنظر،  $CH_4(g)$  بوده که تنها فراورده با ضریب استوکیومتری برابر با ۱ است، ماده‌ای که در سومین معادله، واکنش دهنده با همان ضریب استوکیومتری است. وارونه کردن این معادله هدف ما را تأمین می‌کند.




اینک از جمع معادله‌های ۱، ۴ و ۵ می‌توان به معادله ترموشیمیایی مورد نظر رسید. این روند نشان می‌دهد که  $\Delta H$  آن برابر با جمع جبری  $\Delta H_1$ ،  $\Delta H_f$  و  $\Delta H_d$  خواهد بود.



نخستین بار هنری هس دریافت که گرمای یک واکنش معین به راهی که برای انجام آن درپیش گرفته می‌شود، وابسته نیست. به دیگر سخن با استفاده از  $\Delta H$  دویا چند واکنش دیگر می‌توان  $\Delta H$  یک واکنش معین را به دست آورد، به شرطی که شرایط انجام همه واکنش‌ها یکسان باشد. امروزه از این نتیجه با نام قانون هس یاد می‌شود، قانونی که به جمع‌پذیری گرمای واکنش‌ها معروف است. بیان علمی قانون هس براساس مفهوم  $\Delta H$ ، به صورت زیر است:

«اگر معادله واکنشی را بتوان از جمع معادله دو یا چند واکنش دیگر به دست آورد،  $\Delta H$  آن نیز از جمع جبری  $\Delta H$  همان واکنش‌ها به دست می‌آید.»



**شکل ۹- سوختن متان در سطح مرداب.** گاز متان نخستین بار از سطح مرداب‌ها جمع‌آوری شده، از این‌رو به گاز مرداب معروف است.

## آیا می‌دانید

یکی از منابع باور نکردنی اما به اثبات رسیده تولید گاز متان، موریانه‌ها هستند. هنگامی که این حشره چوب را می‌خورد، سلولز آن پس از گوارش به برخی مواد از جمله متان تبدیل می‌شود. این حشره سالانه بیش از  $17^\circ$  میلیون تن متان تولید می‌کند.

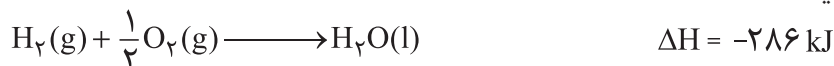
محلول رقیق آب اکسیژنه یک محلول ضد عفونی کننده است که خاصیت رنگبری و لکهبری نیز دارد.



۱- هیدروژن پراکسید ( $H_2O_2$ ) ماده ای است که با نام تجاری آب اکسیژنه به فروش می رسد.

الف) با استفاده از واکنش های ترموشیمیایی زیر، آنتالپی واکنش  $H_2(g) + O_2(g) \longrightarrow H_2O_2(l)$

را حساب کنید.



ب) توضیح دهید چرا تهیه این ماده از واکنش مستقیم گازهای هیدروژن و اکسیژن ممکن

نیست؟

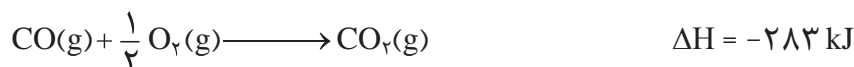
۲- در شیمی ۱ آموختید که گازهای آلاینده مانند NO و CO از آگروز خودروها به هوا کره

وارد می شوند. شیمی دان های هوا کره انجام واکنش زیر را برای تبدیل این آلاینده ها به

گازهایی پایدارتر و با آلاینده گی کمتر، طراحی کرده اند.

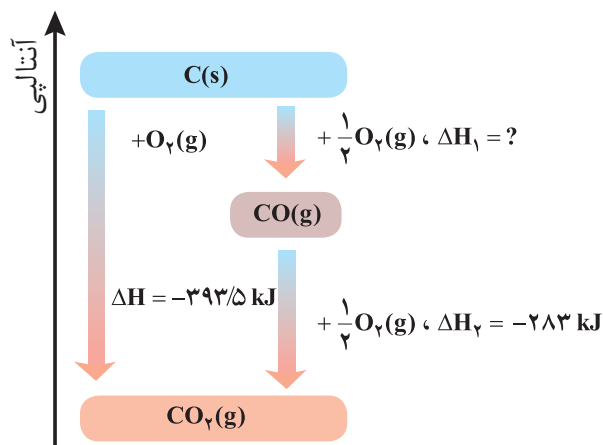


آنتالپی واکنش بالا را با استفاده از واکنش های ترموشیمیایی زیر حساب کنید.



۳- واکنش سوختن کامل گرافیت را می توان مجموعه ای از دو واکنش پی در پی مطابق

نمودار زیر دانست.

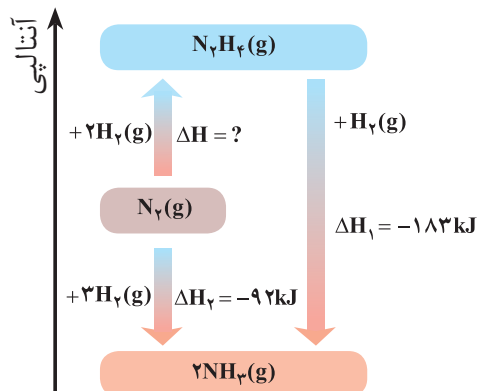


الف) شواهد نشان می دهد که  $\Delta H$  واکنش تولید  $CO(g)$  را نمی توان به روش تجربی تعیین

کرد. درباره علت آن گفت و گو کنید.

ب)  $\Delta H$  واکنش تولید  $CO(g)$  را از گرافیت و گاز اکسیژن حساب کنید.

۴- شواهد تجربی نشان می‌دهند که تهیه آمونیاک به روش هابر از گازهای نیتروژن و هیدروژن مطابق نمودار زیر یک واکنش دو مرحله‌ای است.



الف) در شرایط یکسان، هیدرازین پایدارتر است یا آمونیاک؟ چرا؟  
ب) آنتالپی واکنش تولید هیدرازین را حساب کنید.

تا اینجا با تغییر محتوای انرژی مواد شرکت کننده از جمله سوخت‌ها و مواد غذایی در واکنش‌ها آشنا شدید. اما از دیگر ویژگی‌های مهم یک واکنش، آهنگ انجام آن است؛ کمیتی که در تهیه و نگهداری مواد غذایی سالم نقش کلیدی و تعیین کننده دارد.

## غذای سالم

همهٔ خوراکی‌ها و غذاها تاریخ مصرف دارند. آیا تاکنون اندیشیده‌اید که تاریخ مصرف مواد چه معنایی دارد؟ تاریخ مصرف مواد غذایی نشان می‌دهد که چه مدتی سالم می‌ماند و قابل مصرف است. انسان همواره در طول تاریخ در جست‌وجوی روش‌هایی بوده که بتواند مادهٔ غذایی را برای مدت‌های طولانی‌تری سالم نگه دارد و ذخیره کند. شکل ۱ برخی روش‌های نگهداری آنها را نشان می‌دهد.



پ) نمک‌سود کردن



ب) تهیهٔ ترشی



الف) خشک کردن میوه‌ها

شکل ۱- برخی روش‌های افزایش زمان ماندگاری مواد غذایی

تجربه نشان می‌دهد که محیط سرد، خشک و تاریک برای نگهداری انواع مواد غذایی

## آیا می دانید

بیماری غذازاد از سه منبع فیزیکی، شیمیایی و زیست‌شناختی موجود در ماده غذایی ناشی می‌شود. ماده غذایی ممکن است شامل سنگ‌ریزه و برخی ناخالصی‌ها باشد. وجود مواد شیمیایی مانند آفت‌کش‌ها، حشره‌کش‌ها و سموم می‌تواند بیماری‌های گوناگونی را ایجاد کند. همچنین وجود جانداران ذره‌بینی می‌تواند سبب فساد ماده غذایی شده و منجر به ایجاد بیماری شود. غذای سالم، غذایی است که از نگاه فیزیکی، شیمیایی و زیست‌شناختی برای بدن ضرر ندارد.

(الف)



(ب)



(پ)



• برای نگهداری سالم برخی خوراکی‌ها، آنها را با خالی کردن هوای درون ظرف بسته‌بندی می‌کنند (چرا؟)

مناسب‌تر از محیط گرم، روشن و مرطوب است. نگهداری اغلب مواد غذایی در سردخانه‌ها تأییدی بر این تجربه است. در واقع عوامل محیطی مانند رطوبت، اکسیژن، نور و دما در چگونگی و زمان نگهداری غذا مؤثرند. در محیط مرطوب، میکروب‌ها شروع به رشد و تکثیر نموده تا جایی که ماده غذایی کپک زده و سرانجام فاسد می‌شود. اما در محیط خشک امکان رشد این جانداران ذره‌بینی وجود ندارد، از این رو می‌توان خشکبار را آسان‌تر و به مدت طولانی‌تری در این محیط نگهداری کرد. نیاکان ما نیز بر همین اساس بسیاری از میوه‌ها را در فصل برداشت خشک می‌کردند تا آنها را برای مصرف در فصل‌های دیگر ذخیره کنند.

در شیمی دهم آموختید که اکسیژن گازی واکنش‌پذیر است و تمایل زیادی برای انجام واکنش با دیگر مواد دارد. براساس این ویژگی، مواد غذایی در هوای آزاد و در معرض اکسیژن، سریع‌تر فاسد می‌شوند. وجود پوست و پوشش میوه‌ها و خشکبار یک عامل طبیعی برای افزایش زمان ماندگاری است زیرا مانع از ورود اکسیژن و جانداران ذره‌بینی به درون آنها می‌شود. این ویژگی نشان می‌دهد که حذف اکسیژن از محیط نگهداری مواد غذایی و خوراکی‌ها سبب افزایش زمان ماندگاری و بهبود کیفیت آنها خواهد شد. آیا می‌دانید برای حذف اکسیژن از این محیط‌ها چه باید کرد؟

## خود را بیازمایید

۱- هر یک از موارد زیر نقش چه عاملی را در سرعت واکنش نشان می‌دهد؛ توضیح دهید.  
(الف) برای نگهداری طولانی مدت فراورده‌های گوشتی و پروتئینی، آنها را به حالت منجمد ذخیره می‌کنند.

(ب) روغن‌های مایع که در ظرف مات و کدر بسته‌بندی شده‌اند، زمان ماندگاری بیشتری دارند.

(پ) قاووت گردی مغذی و تهیه شده از مغز آفتاب‌گردان، پسته و ... است. این سوغات کرمان زودتر از مغز این خوراکی‌ها فاسد می‌شود.

پیشرفت علوم تجربی سبب شده تا برای افزایش زمان ماندگاری مواد غذایی و بهبود کیفیت آنها از روش‌های گوناگونی مانند تهیه کنسرو، بسته‌بندی نوین، افزودن نگهدارنده‌ها و ... استفاده شود. در این راستا یخچال‌های صنعتی، سردخانه‌ها و ... تکمیل‌کننده این فرایند هستند. اکنون باید به این پرسش پاسخ داد که نقش دانش شیمی در نگهداری مواد غذایی چیست؟ چرا افزایش دما سبب کاهش زمان ماندگاری اغلب مواد غذایی می‌شود؟ اکسیژن



## آیا می دانید

اگر گندم در محیطی سرد و خشک نگهداری شود تا ۲۵ سال کیفیت خود را حفظ می کند و سالم می ماند؛ در حالی که در محیط گرم و خشک تا ۵ سال سالم می ماند! امروزه گندم در مقیاس صنعتی در مکان هایی تاریک، خنک و خشک به نام سیلو نگهداری می شود. روشی که حضرت یوسف علیه السلام از آن بهره برده بود.

چه رفتاری با مواد غذایی دارد؟ چرا مواد غذایی را باید در محلی تاریک و دور از تابش مستقیم نور خورشید نگه داشت؟ پاسخ به این پرسش ها را می توان در رفتار مواد با یکدیگر و اثر عوامل گوناگون روی رفتار آنها جست و جو کرد. در واقع سینتیک شیمیایی به عنوان شاخه ای از علم شیمی افزون بر بررسی آهنگ تغییر شیمیایی در واکنش ها، عوامل مؤثر بر این آهنگ را نیز بررسی می کند. با آشنایی و درک چنین مفاهیمی می توان روش های گوناگون نگهداری سالم مواد غذایی را یافت و آنها را گسترش داد.

## آهنگ واکنش

تهیه و تولید سریع تر یا کندتر یک فراورده صنعتی، دارویی یا غذایی بر کیفیت و زمان ماندگاری آن نقش تعیین کننده ای دارد. **آهنگ واکنش**<sup>۱</sup> معیاری برای زمان ماندگاری مواد است، کمیتی که نشان می دهد هر تغییر شیمیایی در چه گستره ای از زمان رخ می دهد. هر چه گستره زمان انجام آنها کوچک تر باشد، آهنگ انجام تندتر است و واکنش سریع تر انجام می شود (شکل ۱۱).



شکل ۱۱- مقایسه آهنگ چند فرایند طبیعی

این شکل فرایندهایی را نشان می دهد که تفاوت آهنگ انجام آنها آشکار بوده و مقایسه آنها به صورت کیفی آسان است. شیمی دان ها آهنگ واکنش را در گستره معینی از زمان با نام سرعت واکنش بیان می کنند. توجه کنید که گستره زمان انجام واکنش ها از چند صدم ثانیه تا چند سده را در بر می گیرد (شکل ۱۲).

## آیا می دانید

در انفجار مواد شیمیایی، انبساط بسیار سریع گازهای آزاد شده، شوک موجی بسیار قوی با فشار بیش از  $700,000$  اتمسفر در سرتاسر محیط پیرامون منتشر کرده که با سرعتی بیش از  $900 \text{ ms}^{-1}$  باعث تخریب فیزیکی بناها می شود.



ب) افزودن محلول سدیم کلرید به محلول نقره نیترات باعث تشکیل سریع رسوب سفیدرنگ نقره کلرید می شود.



الف) انفجار، واکنش شیمیایی بسیار سریعی است که در آن از مقدار کمی ماده منفجر شونده به حالت جامد یا مایع، حجم زیادی از گازهای داغ تولید می شود.



ت) بسیاری از کتاب های قدیمی در گذر زمان زرد و پوسیده می شود. این پدیده نشان می دهد که واکنش تجزیه سلولز کاغذ بسیار کند رخ می دهد.



پ) اشیای آهنی در هوای مرطوب به کندی زنگ می زنند. زنگار تولید شده در این واکنش ترد و شکننده است و فرو می ریزد.

شکل ۱۲- انجام برخی واکنش های شیمیایی با سرعت های گوناگون

بررسی ها نشان می دهد که زمان انجام واکنش ها به عوامل گوناگونی وابسته است. به گونه ای که برای کاهش یا افزایش سرعت انجام واکنش ها می توان عواملی مانند دما، غلظت، نوع مواد واکنش دهنده، کاتالیزگر و سطح تماس واکنش دهنده ها را تغییر داد.

## کاوش کنید

درباره «عوامل مؤثر بر سرعت واکنش» کاوش کنید.

مواد و ابزار لازم: عینک ایمنی، قرص جوشان، آب، قوطی فیلم عکاسی، استوانه مدرج، هاون چینی، دماسنج و زمان سنج.

نکات ایمنی: به دلیل پرتاب شدن قوطی فیلم عکاسی، آزمایش را در فاصله مناسبی از خود و هم کلاسی ها انجام دهید.



## آزمایش ۱


الف) درون قوطی فیلم عکاسی ۵mL آب با دمای  $^{\circ}\text{C}$  بریزید.

ب) به آن  $\frac{1}{4}$  قرص جوشان بیفزایید و بلافاصله درپوش آن را محکم ببندید سپس آن را وارونه روی زمین قرار دهید.

پ) زمان لازم برای پرتاب شدن قوطی را با استفاده از زمان سنج اندازه گیری و در جدول داده شده یادداشت کنید.

ت) همین آزمایش را با  $\frac{1}{4}$  قرص جوشان تکرار و زمان را یادداشت کنید.

از مشاهددهای خود چه نتیجه ای می گیرید؟



## آزمایش ۲


الف) این بار درون قوطی فیلم عکاسی ۵mL آب با دمای  $25^{\circ}\text{C}$  بریزید.

ب) به آن  $\frac{1}{4}$  قرص جوشان بیفزایید و بلافاصله درپوش آن را محکم ببندید سپس آن را وارونه روی زمین قرار دهید.

پ) زمان پرتاب شدن قوطی را اندازه گیری و در جدول یادداشت کنید.

ت) این آزمایش را در دمای  $1^{\circ}\text{C}$  تکرار و نتیجه را در جدول بنویسید.

از مشاهددهای خود چه نتیجه ای می گیرید.



آزمایش	مقدار قرص جوشان	شکل قرص جوشان	دمای آب	زمان پرتاب شدن قوطی (ثانیه)
۱- الف				
۱- ب				
۲- الف				
۲- ب				
۳				

## آیا می دانید

در اغلب قرص های جوشان افزون بر ویتامین ث، جوش شیرین، سیتریک اسید، تارتاریک اسید و ... وجود دارد.

### آزمایش ۳

الف) نیمی از قرص را به خوبی در هاون چینی بسائید.

ب) آن را به درون قوطی فیلم عکاسی محتوی ۵mL آب با دمای  $^{\circ}\text{C}$  بیفزایید و بلافاصله درپوش آن را محکم ببندید سپس آن را وارونه روی زمین قرار دهید.

پ) زمان پرتاب شدن قوطی را اندازه گیری و در جدول صفحه قبل یادداشت کنید.

از مشاهده های خود چه نتیجه ای می گیرید؟

یافته های خود را از این آزمایش ها جمع بندی کنید و در چند سطر بنویسید.

انجام آزمایش های بالا نشان داد که با افزایش دما، افزایش مقدار واکنش دهنده ها و افزایش سطح تماس می توان سرعت انجام واکنش ها را افزایش داد. همچنین از پیش می دانید که واکنش سوختن قند آغشته به خاک باغچه سریع تر است زیرا در خاک باغچه کاتالیزگر مناسب برای این واکنش وجود دارد. البته باید توجه داشت که مواد واکنش دهنده گوناگون با سرعت های متفاوتی در واکنش شرکت می کنند (در فصل اول با واکنش پذیری متفاوت فلزها آشنا شدید).


### خود را بیازمایید

در هر یک از موارد زیر با توجه به شکل، علت اختلاف در سرعت واکنش را توضیح دهید.

الف) فلزهای قلیایی سدیم و پتاسیم در شرایط یکسان با آب سرد به شدت واکنش می دهند، اما سرعت واکنش ها متفاوت است.



ب) شعله آتش، گرد آهن موجود در کپسول چینی را داغ و سرخ می کند؛ در حالی که پاشیدن و پخش کردن گرد آهن بر روی شعله، سبب سوختن آن می شود.



پ) محلول بنفش رنگ پتاسیم پرمنگنات با یک اسید آلی در دمای اتاق به کندی واکنش می‌دهد، اما با گرم شدن، محلول به سرعت بی‌رنگ می‌شود.



● بیماران که مشکلات تنفسی دارند در شرایط اضطراری نیاز به تنفس از کپسول اکسیژن دارند.



ت) الیاف آهن داغ و سرخ شده در هوا نمی‌سوزد، در حالی که همان مقدار الیاف آهن داغ و سرخ شده در یک ارلن پر از اکسیژن می‌سوزد.



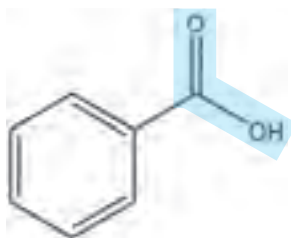
● برخی افراد با مصرف کلم و حبوبات دچار نفخ می‌شوند زیرا فاقد آنزیمی هستند که آنها را کامل و سریع هضم کند.

ث) محلول هیدروژن پراکسید در دمای اتاق به کندی تجزیه شده و گاز اکسیژن تولید می‌کند، در حالی که افزودن دو قطره از محلول پتاسیم یدید، سرعت واکنش را به طور چشمگیری افزایش می‌دهد.



## پیوند با صنعت

با آغاز قرن بیستم، گرایش مردم به شهرنشینی به ویژه در کشورهای صنعتی، باعث پدید آمدن شهرهای بزرگ‌تر شد. شهرهایی که در آنها تهیه و تولید غذا به روش سنتی، دیگر پاسخگوی نیازها نبود. در چنین شرایطی ذخیره‌سازی و صادرات غذا به عنوان صنعتی نو خودنمایی کرد. صنعتی که با بهره‌گیری از فناوری‌های گوناگون از جمله بسته‌بندی، کنسروسازی، انجماد و... به سرعت در سرتاسر جهان گسترش یافت. اما هنوز شرکت‌های صنایع غذایی با چالش‌هایی در نگهداری و ماندگاری غذا روبه‌رو هستند. افزون بر این فناوری‌ها، استفاده از مواد شیمیایی با ویژگی‌های خاص به عنوان افزودنی‌ها سبب افزایش زمان ماندگاری و کیفیت مواد غذایی شد. افزودنی‌ها، مواد شیمیایی مانند نگهدارنده، رنگ‌دهنده، طعم‌دهنده و... هستند که به صورت هدفمند به مواد خوراکی یا غذاها افزوده می‌شوند. برای نمونه نگهدارنده‌ها، سرعت واکنش‌های شیمیایی که منجر به فساد ماده غذایی می‌شود را کاهش می‌دهند. یکی از این مواد، بنزوئیک اسید است که در تمشک و توت‌فرنگی وجود دارد (شکل ۱۳).

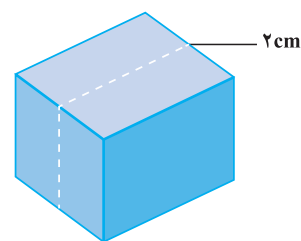


شکل ۱۳- بنزوئیک اسید، یک کربوکسیلیک اسید آروماتیک است.

این ترکیب آلی عضوی از خانواده کربوکسیلیک اسیدهاست. خانواده‌ای که در ساختار هر عضو آن یک یا چند گروه عاملی کربوکسیل ( $\text{COOH}$ ) وجود دارد. آشناترین عضو آن، اتانویک (استیک) اسید با فرمول  $\text{CH}_3\text{COOH}$  است.

## پیوند با ریاضی

یک تکه زغال چوب به شکل مکعب با طول ضلع ۲ cm در نظر بگیرید. حجم این تکه زغال برابر با  $8 \text{ cm}^3$ ، در حالی که مساحت کل آن برابر با  $24 \text{ cm}^2$  است (چرا؟).

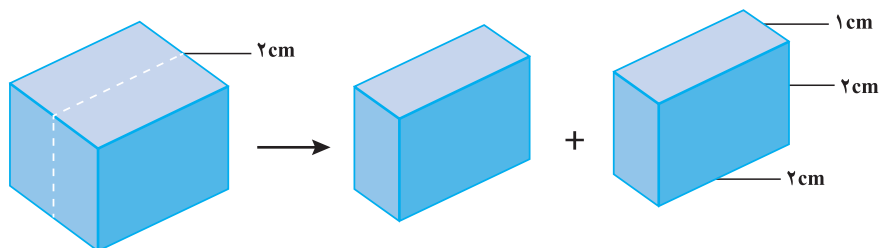


۱- کدام کمیت (حجم یا مساحت کل)، سطح تماس این تکه زغال را با شعله هنگام سوختن



نشان می‌دهد؟ توضیح دهید.

۲- اگر این مکعب از وسط یک ضلع برش بخورد و به دو مکعب مستطیل تقسیم شود، حساب کنید حجم زغال و سطح تماس آن چه تغییری می‌کند؟



۳- براساس تحلیل خود از پرسش‌های بالا، علت تفاوت در سرعت واکنش سوختن تکه زغال با گرد آن را توضیح دهید.

اینک می‌پذیرید که واکنش‌های شیمیایی در طبیعت، صنعت و آزمایشگاه با سرعت‌های متفاوتی انجام می‌شوند. برخی از این واکنش‌ها مانند گوارش، تنفس، تهیه داروها و تولید فراورده‌های صنعتی مفید و ضروری هستند اما برخی دیگر مانند خوردگی وسایل آهنی، تولید آلاینده‌ها، زرد و پوسیده شدن کاغذ کتاب، زیان بار و ناخواسته‌اند. شیمی دان‌ها از یک سو در پی یافتن راه‌هایی برای کاهش سرعت یا توقف واکنش‌های ناخواسته‌اند و از سوی دیگر به دنبال سرعت بخشیدن به واکنش‌هایی هستند که بتوانند فراورده‌های گوناگونی با صرفه اقتصادی تولید کنند. برای دستیابی به چنین اهدافی باید درباره شرایط و چگونگی انجام واکنش‌های شیمیایی و عوامل مؤثر بر سرعت آنها آگاهی داشته باشند. سینتیک شیمیایی<sup>۱</sup> شاخه‌ای از شیمی است که این آگاهی را در اختیار ما می‌گذارد.

## سرعت تولید یا مصرف مواد شرکت کننده در واکنش از دیدگاه کمی

سرعت واکنش در پژوهش‌های علمی، فناوری‌های نو، تولید فراورده‌های دارویی و... آنچنان اهمیت دارد که باید با دقت اندازه‌گیری و گزارش شود. به دیگر سخن مقایسه دقیق میان سرعت واکنش‌ها هنگامی از صحت و اعتبار علمی برخوردار است که به شکل کمی بیان شود.

از آنجا که در یک واکنش شیمیایی با گذشت زمان، واکنش دهنده‌ها مصرف و فراورده‌ها تولید می‌شوند، می‌توان آهنگ مصرف واکنش دهنده‌ها و تولید فراورده‌ها را در بازه‌ای از زمان

اندازه‌گیری کرد (شکل ۱۴).



شکل ۱۴ - واکنش محلول سفیدکننده با ۰.۵٪ مول نوعی رنگ غذا

در این واکنش با گذشت زمان به تدریج از شدت رنگ محلول کاسته شده تا اینکه در پایان واکنش، محلول تا مرز بی‌رنگ شدن پیش رفته است. این ویژگی بیانگر آن است که مقدار رنگ غذا کاهش می‌یابد و مقدار آن تقریباً به صفر می‌رسد.

## خود را بیازمایید

۱- بر اساس شکل ۱۴، آهنگ مصرف رنگ غذا را برحسب مول بر دقیقه ( $\text{mol min}^{-1}$ ) حساب کنید.

۲- دانش‌آموزی درون یک محلول محتوی ۰.۳٪ مول مس (II) سولفات، تیغه‌ای از جنس روی قرار داده است. شکل زیر پیشرفت واکنش  $\text{Zn(s)}$  با  $\text{CuSO}_4(\text{aq})$  را در این آزمایش نشان می‌دهد، با توجه به آن به پرسش‌ها پاسخ دهید.



• سرعت مصرف با تولید یک ماده شرکت کننده در واکنش در گستره زمانی قابل اندازه‌گیری را سرعت متوسط آن ماده می‌گویند و آن را با  $\bar{R}$  نمایش می‌دهند. از این رو،  $\bar{R}(A)$  سرعت متوسط تولید یا مصرف ماده A را نشان می‌دهد.

الف) واکنش‌پذیری فلز روی را با مس مقایسه کنید.

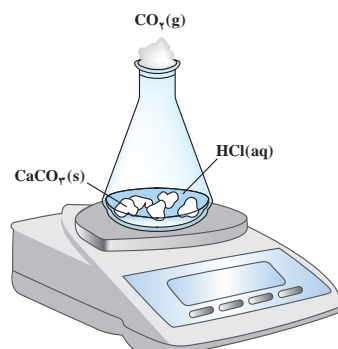
ب) با گذشت زمان مقدار  $\text{Cu}^{2+}(\text{aq})$  و  $\text{Cu(s)}$  چه تغییری می‌کند؟ چرا؟

پ) اگر شمار مول‌های مصرف شده از هر واکنش‌دهنده در واحد زمان بیانگر سرعت مصرف آن باشد، سرعت مصرف  $\text{Cu}^{2+}(\text{aq})$  را برحسب  $\text{mol min}^{-1}$  حساب کنید.

تجربه نشان می‌دهد که سرعت متوسط مصرف یا تولید مواد شرکت‌کننده را می‌توان با اندازه‌گیری کمیت‌هایی مانند جرم، فشار و... تعیین کرد.

## با هم بیندیشیم

واکنش کلسیم کربنات را با محلول هیدروکلریک اسید در دما و فشار اتاق مطابق شکل زیر در نظر بگیرید.



جدول زیر، جرم مخلوط این واکنش را برحسب زمان برای این آزمایش نشان می‌دهد. با توجه به داده‌های جدول، به پرسش‌های مطرح شده پاسخ دهید:

زمان (ثانیه)	۰	۱۰	۲۰	۳۰	۴۰	۵۰	۶۰
جرم مخلوط واکنش (گرم)	۶۵/۹۸	۶۵/۳۲	۶۴/۸۸	۶۴/۶۶	۶۴/۵۵	۶۴/۵۰	۶۴/۵۰
جرم کربن دی‌اکسید (گرم)	۰	۰/۶۶	۱/۱۰	.....	.....	.....	.....

الف) چرا با گذشت زمان از جرم مخلوط واکنش کاسته می‌شود؟

ب) جدول را کامل کنید.

پ) با گذشت زمان جرم گاز آزاد شده چه تغییری می‌کند؟ چرا؟

ت) در چه زمانی واکنش به پایان می‌رسد؟ چرا؟

ث) جدول صفحه بعد را کامل کنید. ( $1 \text{ mol CO}_2 = 44 \text{ g}$ )


• اگر شمار مول‌های یک ماده را با  $n$  نمایش دهیم،  $\Delta n = n_2 - n_1$  تغییر تعداد مول‌های آن ماده را نشان می‌دهد.  $\Delta n > 0$ ، افزایش شمار مول‌های فراورده و  $\Delta n < 0$ ، کاهش شمار مول‌های واکنش‌دهنده را در واکنش نشان می‌دهد.

## آیا می‌دانید

R حرف اول واژه Rate به معنای نرخ، آهنگ یا سرعت است.

$\overline{R}(\text{CO}_2) = \frac{\Delta n(\text{CO}_2)}{\Delta t}$ , (mols <sup>-1</sup> )	$\Delta n(\text{CO}_2)$ , (mol)	$n(\text{CO}_2)$ , (mol)	زمان (s)
$1/50 \times 10^{-3}$	$1/50 \times 10^{-2}$	$\leftarrow \begin{matrix} 0 \\ 1/50 \times 10^{-2} \end{matrix}$	۰
$1/00 \times 10^{-3}$	$1/00 \times 10^{-2}$	$\leftarrow \begin{matrix} 1/50 \times 10^{-2} \\ 2/50 \times 10^{-2} \end{matrix}$	۱۰
.....	.....	$\leftarrow \begin{matrix} 2/50 \times 10^{-2} \\ 3/00 \times 10^{-2} \end{matrix}$	۲۰
.....	.....	$\leftarrow \begin{matrix} 3/00 \times 10^{-2} \\ \dots\dots\dots \end{matrix}$	۳۰
.....	.....	$\leftarrow \begin{matrix} \dots\dots\dots \\ \dots\dots\dots \end{matrix}$	۴۰
.....	.....	$\leftarrow \begin{matrix} \dots\dots\dots \\ \dots\dots\dots \end{matrix}$	۵۰

ج) نمودار مول - زمان را برای گاز  $\text{CO}_2$  بر روی کاغذ میلی‌متری زیر رسم کنید.



ج) سرعت متوسط تولید  $\text{CO}_2$  با گذشت زمان چه تغییری می‌کند؟ چرا؟

ح) آزمایش نشان می‌دهد که نمودار مول - زمان برای هر سه فراورده در واکنش کلسیم

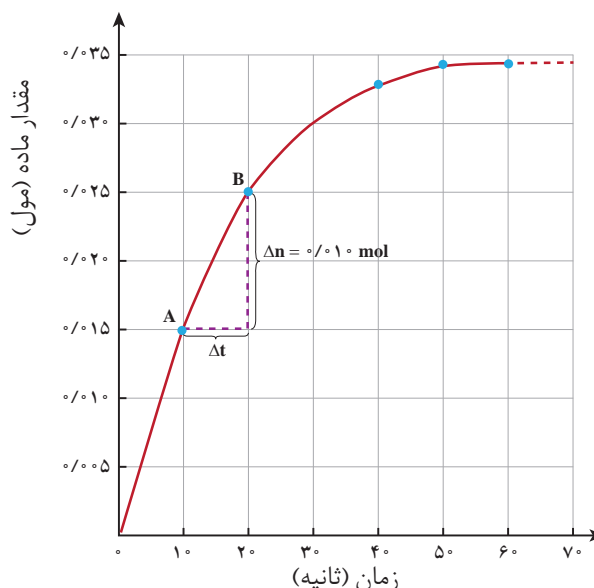
کربنات با محلول هیدروکلریک اسید از هر لحاظ یکسان است. چرا؟

## سرعت متوسط و شیب نمودار مول - زمان

با چگونگی محاسبه سرعت متوسط تولید فراورده در یک واکنش شیمیایی آشنا شدید.

نمودار ۸، نمودار مول - زمان را برای کلسیم کلرید تولید شده در واکنش کلسیم کربنات با

محلول هیدروکلریک اسید نشان می‌دهد.



نمودار ۸- نمودار مول - زمان برای فرآورده

در نمودار ۸، نقطه A نشان می‌دهد که در زمان  $t_1 = 10\text{ s}$ ، مول‌های کلسیم کلرید برابر با  $n_1 = 0.15\text{ mol}$  و نقطه B نشان می‌دهد که در زمان  $t_2 = 20\text{ s}$ ، مول‌های این ماده برابر با  $n_2 = 0.25\text{ mol}$  است. از این‌رو:

$$\Delta n(\text{CaCl}_2) = n_2 - n_1 = 0.25\text{ mol} - 0.15\text{ mol} = 0.10\text{ mol}$$

این مقدار، تغییر مول‌های کلسیم کلرید را در گستره زمانی ۱۰ تا ۲۰ ثانیه نشان می‌دهد. نسبت  $\frac{\Delta n}{\Delta t}$ ، شیب خط AB در نمودار مول-زمان است. این نسبت علامت مثبت دارد و سرعت متوسط تولید کلسیم کلرید را در بازه زمانی ۱۰ تا ۲۰ ثانیه مشخص می‌کند.

نمودار ۸ همچنین نشان می‌دهد هر چه واکنش به پایان آن نزدیک‌تر می‌شود، شیب نمودار مول - زمان کندتر شده تا اینکه از ثانیه ۵۰ به بعد برابر با صفر می‌شود. از این‌رو، می‌توان نتیجه گرفت این واکنش با گذشت ۵۰ ثانیه به پایان رسیده است و پس از آن دیگر فرآورده‌ای تولید نمی‌شود.

## خود را بیازمایید

۱- در واکنش  $\text{CaCO}_3(\text{s})$  با  $\text{HCl}(\text{aq})$ ، چه رابطه‌ای بین سرعت متوسط مصرف این دو ماده وجود دارد؟ این رابطه را بنویسید.

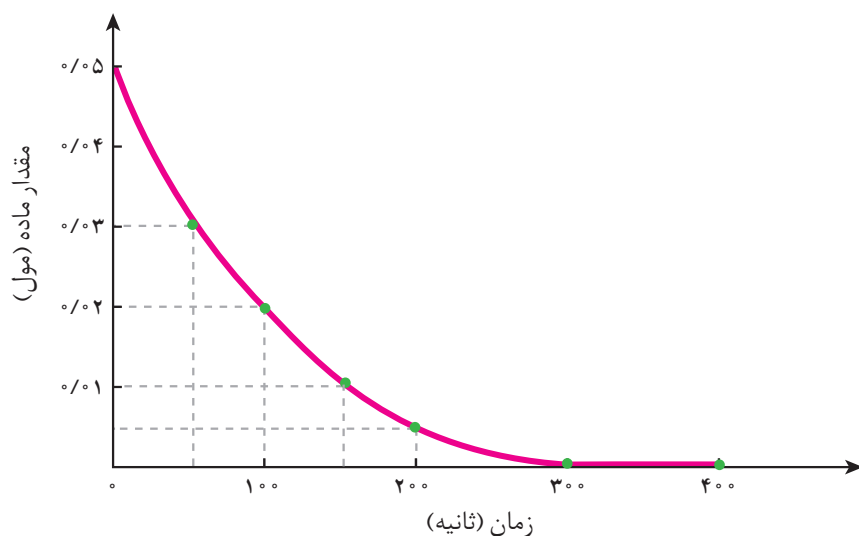
۲- یکی از آلاینده‌های هوا که باعث تولید باران اسیدی می‌شود، گاز گوگرد تری اکسید



اگر در شرایط معین  $\bar{R}(\text{O}_2) = 0.01 \text{ mol s}^{-1}$  باشد،  $\bar{R}(\text{SO}_2)$  و  $\bar{R}(\text{SO}_3)$  را بر حسب  $\text{mol min}^{-1}$  حساب کنید.

۳- با توجه به نمودار زیر که تغییر مول‌های نوعی رنگ غذا در واکنش با یک محلول سفیدکننده

را نشان می‌دهد، به پرسش‌های مطرح شده پاسخ دهید.



الف) مول‌های واکنش دهنده (رنگ غذا) با گذشت زمان چه تغییری می‌کند؟ چرا؟

ب) شیب نمودار مول - زمان چه علامتی دارد؟ چرا؟

پ) توضیح دهید چرا علامت منفی در رابطه زیر نوشته می‌شود.

$$\bar{R}(\text{واکنش دهنده}) = - \frac{\Delta n(\text{واکنش دهنده})}{\Delta t}$$

ت) سرعت متوسط مصرف رنگ غذا را بر حسب مول بر دقیقه حساب کنید.

## پیوند با زندگی

### خوراکی‌های طبیعی رنگین، بازدارنده‌هایی مفید و مؤثر

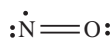
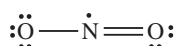
یافته‌ها و شواهد تجربی نشان می‌دهد که برنامه غذایی محتوی سبزیجات و میوه‌های

گوناگون، نقش بازدارندگی مؤثری در برابر سرطان‌ها و پیری زودرس دارند. این یافته‌ها



## آیا می دانید

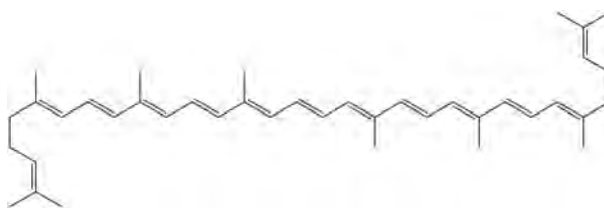
رادیکال‌ها نه تنها در بدن بلکه در محیط زندگی نیز وجود دارند. برای نمونه هوای آلوده دارای رادیکال‌های NO و NO<sub>2</sub> با ساختارهای لوویس زیر است.



دانشمندان و شیمی‌دان‌ها را بر آن داشت تا بررسی کنند چه موادی در سبزیجات و میوه‌ها این مهم را به عهده دارند. نتیجه پژوهش‌های علمی نشان داد که این خوراکی‌ها محتوی ترکیب‌های آلی سیرنشده‌ای به نام ریز مغذی‌ها هستند، ترکیب‌هایی که در حفظ سلامت بافت‌ها و اندام‌ها دخالت دارند، هر چند نقش کامل این مواد هنوز به‌طور دقیق مشخص نشده است اما برخی از آنها به عنوان بازدارنده از انجام واکنش نامطلوب و ناخواسته به دلیل حضور رادیکال‌ها جلوگیری می‌کنند.

رادیکال، گونه فعال و ناپایداری است که در ساختار خود، الکترون جفت نشده دارد، در واقع محتوی اتم‌هایی است که از قاعده هشت‌تایی پیروی نمی‌کنند. بدیهی است که رادیکال‌ها واکنش‌پذیری بالایی دارند.

در بدن ما به دلیل انجام واکنش‌های متنوع و پیچیده، رادیکال‌هایی به وجود می‌آیند که اگر به وسیله باز دارنده‌ها جذب نشوند، می‌توانند با انجام واکنش‌های سریع به بافت‌های بدن آسیب برسانند. با این توصیف مصرف خوراکی‌های محتوی بازدارنده‌ها سبب خواهد شد که رادیکال‌ها به دام بیفتند تا با کاهش مقدار آنها از سرعت واکنش‌های ناخواسته کاسته شود (شکل ۱۵).



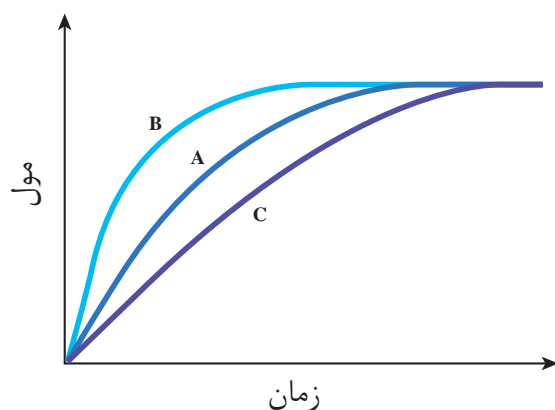
شکل ۱۵- هندوانه و گوجه‌فرنگی محتوی لیکوپن بوده که فعالیت رادیکال‌ها را کاهش می‌دهد.

## در میان تارنماها

با مراجعه به منابع علمی معتبر درباره ساختار و نقش بازدارنده‌هایی مانند فلاونوئید، آنتوسیانین، بتاکاروتن و ... در میوه‌ها و سبزیجات محتوی آنها اطلاعاتی جمع‌آوری و در کلاس ارائه کنید.

## خود را بیازمایید

در نمودار داده شده، منحنی A نشان دهنده تغییر مول‌های یکی از مواد فراورده در واکنش فرضی است. با دلیل مشخص کنید کدام منحنی (B یا C) نشان دهنده افزودن بازدارنده و کدام یک نشان دهنده افزودن کاتالیزگر به سامانه واکنش است؟



## سرعت واکنش

در یافتید که شیب نمودار مول-زمان برای هر یک از شرکت کننده‌ها در واکنش، متناسب با ضریب استوکیومتری آن است. به طوری که اگر ضریب استوکیومتری شرکت کننده‌ها یکسان نباشد، سرعت متوسط آنها متفاوت خواهد بود. شیمی‌دان‌ها برای درک آسان پیشرفت واکنش در واحد زمان، از یک مفهوم کاربردی به نام سرعت واکنش استفاده می‌کنند.

### با هم بیندیشیم

۱- سرعت متوسط تولید گاز آمونیاک در شرایط معینی بر اساس معادله واکنش زیر در



الف) سرعت متوسط مصرف  $N_2(g)$  و  $H_2(g)$  را در این گستره زمانی حساب کنید.

ب) سرعت متوسط تولید یا مصرف هر شرکت کننده را به ضریب استوکیومتری آن تقسیم

کنید. از حاصل این تقسیم‌ها چه نتیجه‌ای می‌گیرید؟

پ) حاصل تقسیم در قسمت ب، سرعت واکنش نام دارد. برای این واکنش با استفاده از

سرعت متوسط تولید یا مصرف مواد شرکت کننده، رابطه سرعت واکنش را بنویسید.

ت) ارتباط معادله شیمیایی موازنه شده واکنش را با رابطه زیر توضیح دهید.

ث) سرعت متوسط کدام ماده با سرعت واکنش برابر است؟ توضیح دهید.

$$R(\text{واکنش}) = + \frac{\Delta n(NH_3)}{2\Delta t} = - \frac{\Delta n(H_2)}{3\Delta t} = - \frac{\Delta n(N_2)}{\Delta t}$$



• سمنو که از جوانه گندم تهیه می شود  
محتوی مواد غذایی گوناگونی از جمله  
مالتوز است.

• برای شرکت کنندگان در فاز گاز  
و محلول، می توان سرعت متوسط  
مصرف یا تولید را افزون بر یکای  
مول بر زمان بایکای مول بر لیتر بر  
زمان نیز گزارش کرد.

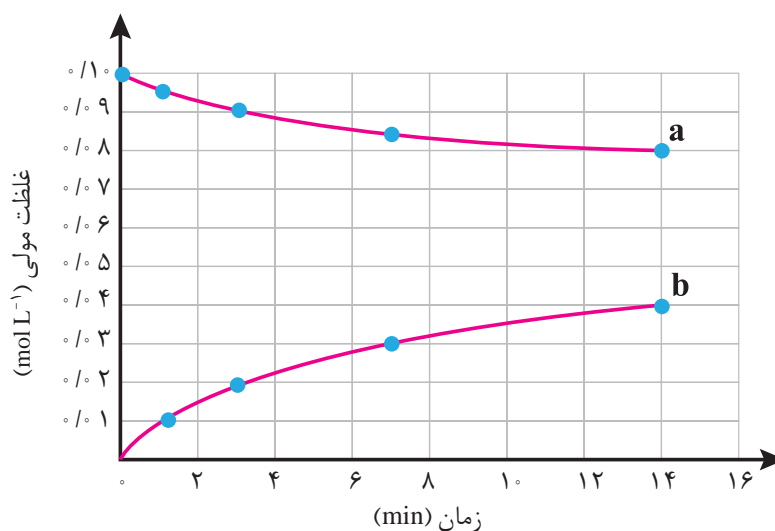
• غلظت مولی یک ماده را با نوشتن  
فرمول شیمیایی آن درون یک کروشه  
نمایش می دهند.  
غلظت مولی  $[A] = A$

۲- قند موجود در جوانه گندم (مالتوز) مطابق واکنش زیر به گلوکز تبدیل می شود.



این واکنش در دمای ثابت و شرایط معین بررسی شده و جدول زیر، داده های تجربی آن را  
نشان می دهد. با توجه به آن و نمودار داده شده، به پرسش های زیر پاسخ دهید.

زمان (دقیقه)	۰	۱	۳	۷	۱۴
غلظت مولی (mol L <sup>-1</sup> )					
$[C_6H_{12}O_6]$	۰	۰/۰۱	۰/۰۲	۰/۰۳	۰/۰۴
$[C_{12}H_{22}O_{11}]$	۰/۱۰	۰/۰۹۵	۰/۰۹	۰/۰۸۵	۰/۰۸



(الف) در سه دقیقه نخست، (گلوکز)  $\bar{R}$  و (مالتوز)  $\bar{R}$  را بر حسب  $\text{mol L}^{-1} \text{s}^{-1}$  حساب کنید.  
(ب) سرعت واکنش را در هفت دقیقه نخست و هفت دقیقه دوم حساب کنید. کدام یک  
بیشتر است؟ چرا؟  
(پ) هر یک از منحنی های a و b مربوط به کدام ماده شرکت کننده است؟ توضیح دهید.

## غذا، پسماند و رد پای آن

زندگی ما و ادامه آن بر روی زمین به تأمین نیازهای ضروری مانند هوا، آب، غذا و... وابسته  
است. اما میزان نیاز و بهره مندی از این منابع برای همه یکسان نیست. دلیل این تفاوت را باید

## آیا می‌دانید

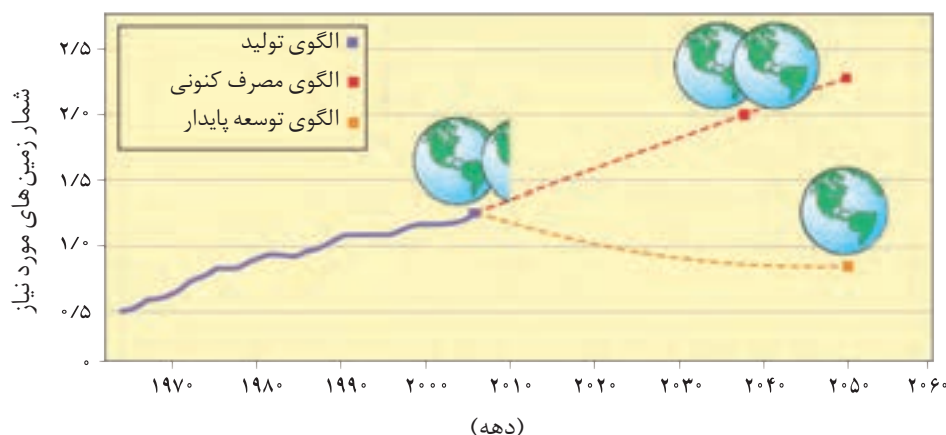
فائو برآورد می‌کند که ۳۰٪ مواد غذایی تولید شده یعنی حدود ۱/۳ میلیارد تن در سال از بین رفته یا به زباله تبدیل می‌شود.

در سبک زندگی هر فرد جستجو کرد زیرا هر انسان در طول عمر خود، ردپاهایی متفاوتی در محیط‌زیست برجای می‌گذارد.

در شیمی دهم با ردپای کربن دی‌اکسید و آب آشنا شدید. ردپاهایی که دو چهره آشکار و پنهان دارند. پدیده دو چهره دیگری از این دست، ردپای غذا است. چهره آشکار آن نشان می‌دهد که سالانه حدود ۳۰٪ غذایی که در جهان فراهم می‌شود به مصرف نمی‌رسد و به زباله تبدیل می‌شود و یا از بین می‌رود. این درحالی است که آمارها نشان می‌دهد که به ازای هر هفت نفر در جهان، یک نفر گرسنه است! خبری که هدررفتن منابع اقتصادی را آشکار می‌سازد. اما چهره پنهان این ردپا شامل همه منابعی است که در تهیه غذا از آغاز تا سر سفره سهم داشته‌اند. مدیریت منابع، نیروی انسانی برای تولید و تأمین مواد اولیه و انرژی، فراوری، ابزار و دستگاه‌های مورد نیاز، بسته‌بندی، حمل و نقل، آب و انرژی مصرفی، زمین‌های بایر و... از جمله این منابع هستند.

چهره پنهان دیگر این ردپا، تولید گازهای گلخانه‌ای به‌ویژه کربن دی‌اکسید است، آن‌چنان که سهم تولید این گاز در ردپای غذا به مراتب بیش از سوختن سوخت‌ها در خودروها، کارخانه‌ها و... است.

از آنجا که جمعیت جهان، رشد اقتصادی، سطح رفاه و... رو به افزایش است، تقاضا برای غذا نیز پیوسته افزایش می‌یابد. تقاضایی که برای تأمین آن، منابع آب، انرژی، مواد اولیه و زمین بیشتری را می‌طلبد. بدیهی است که با این روند ردپای غذا روی محیط‌زیست سنگین‌تر شده و مساحت کل مورد نیاز برای تأمین اقلام ضروری زندگی بیشتر خواهد شد (نمودار ۹).



نمودار ۹- پیش‌بینی مساحت زمین مورد نیاز برای تأمین غذا

با توجه به الگوی تولید و مصرف غذا انتظار می‌رود مدیران جامعه جهانی با طراحی و انتخاب راه‌حل‌های اجرایی مناسب و هماهنگ، بهره‌وری را در مراحل تولید و تأمین غذا

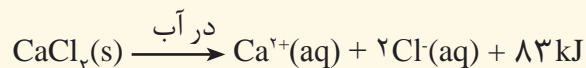
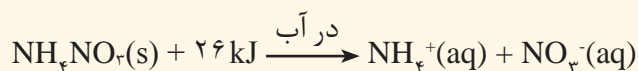
افزایش دهند تا ردپای آن کاهش یابد. آشکار است که اجرای هریک از این برنامه‌ها در گرو همت و تلاش یکایک ساکنان زمین است.

## خود را بیازمایید

ستون سمت راست در جدول زیر چهار الگو برای کاهش ردپای غذا را نشان می‌دهد. مشخص کنید هر بیانی از اصل شیمی سبز در ستون سمت چپ با کدام الگو همخوانی بیشتری دارد.

الگوی کاهش ردپای غذا	بیانی از اصل شیمی سبز
خرید به اندازه نیاز	کاهش مصرف انرژی
کاهش مصرف گوشت و لبنیات	طراحی مواد و فراورده‌های شیمیایی سالم‌تر
استفاده از غذاهای بومی و فصلی	کاهش تولید زباله و پسماند
کاهش مصرف غذاهای فراوری شده	کاهش ورود مواد شیمیایی ناخواسته به محیط زیست

۱- اغلب ورزشکاران برای درمان آسیب دیدگی‌های خود از بسته‌هایی استفاده می‌کنند که به سرعت گرما را انتقال می‌دهند. اساس کار این بسته‌ها، انحلال برخی ترکیب‌های یونی در آب است. با توجه به معادله‌های ترموشیمیایی زیر به پرسش‌های مطرح شده پاسخ دهید:



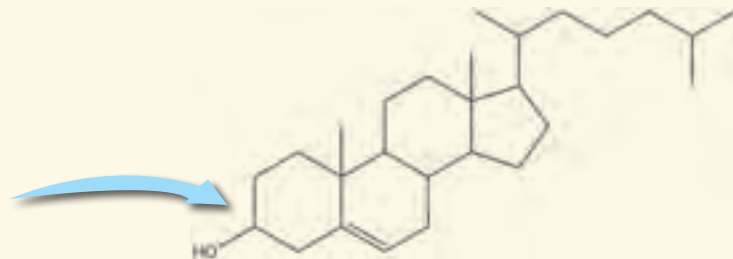
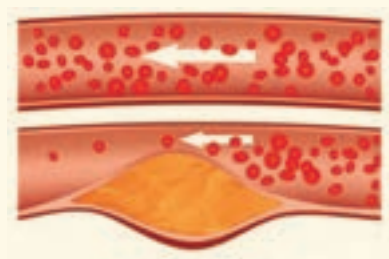
الف) کدام فرایند انحلال برای سرد کردن محل آسیب دیدگی مناسب است؟ چرا؟  
ب) از انحلال کامل ۲/۲۲ g کلسیم کلرید خشک در آب چند کیلوژول گرما آزاد می‌شود؟

۲- چربی ذخیره شده در کوهان شتر هنگام اکسایش افزون بر آب مورد نیاز، انرژی لازم برای فعالیت‌های جانور را نیز تأمین می‌کند. واکنش ترموشیمیایی آن به صورت زیر است:



حساب کنید از اکسایش هر کیلوگرم چربی، چند کیلوژول انرژی آزاد می‌شود؟

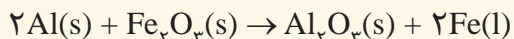
۳- کلسترول، یکی از مواد آلی موجود در غذاهای جانوری است که مقدار اضافی آن در دیوارهٔ رگ‌ها رسوب می‌کند، فرایندی که منجر به گرفتگی رگ‌ها و سکته می‌شود. با توجه به ساختار آن به پرسش‌های مطرح شده پاسخ دهید.



الف) توضیح دهید چرا شیمی دان‌ها آن را یک الکل سیر نشده می‌دانند؟  
ب) با توجه به جدول شماره ۳، در شرایط یکسان کدام پیوندهای اشتراکی یگانه در ساختار کلسترول آسان‌تر شکسته می‌شود؟ چرا؟




۴- از مصرف هر گرم آلومینیم در واکنش ترمیت،  $15/24 \text{ kJ}$  گرما آزاد می‌شود.



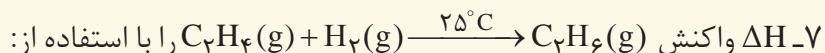
الف) این مقدار گرما، دمای صدگرم آب خالص را چند درجهٔ سلسیوس افزایش می‌دهد؟  
ب)  $\Delta H$  واکنش ترمیت را حساب کنید.

۵- با توجه به واکنش ترموشیمیایی:  $\text{H}_2\text{(g)} + \text{I}_2\text{(s)} + 53 \text{ kJ} \rightarrow 2\text{HI(g)}$ ، آنتالپی واکنش  $\text{H}_2\text{(g)} + \text{I}_2\text{(g)} \rightarrow 2\text{HI(g)}$  را حساب کنید (راهنمایی: آنتالپی فرازش (تصعید) یُد را  $62/5 \text{ kJ mol}^{-1}$  در نظر بگیرید).

۶- شکل زیر واکنش میان گاز هیدروژن و بخار بنفش رنگ ید را در دمای معینی نشان می‌دهد.



اگر هر ذره هم ارز با  $1/^\circ\text{mol}$  از ماده و سامانه دو لیتری باشد، سرعت واکنش را پس از  $2^\circ$  دقیقه (b) و پس از  $4^\circ$  دقیقه (c) بر حسب  $\text{mol L}^{-1}\text{h}^{-1}$  حساب و با یکدیگر مقایسه کنید.



الف) جدول ۲ و ۳ حساب کنید.

ب) آنتالپی سوختن اتن، اتان و هیدروژن که به ترتیب برابر با  $-141^\circ$ ،  $-156^\circ$  و  $-286^\circ$  کیلوژول بر مول است، حساب کنید.

پ)  $\Delta H$  محاسبه شده از کدام قسمت را برای یک گزارش علمی انتخاب می‌کنید؟ توضیح دهید.

۸- با توجه به جدول زیر به پرسش‌های مطرح شده پاسخ دهید.

بادام	سیب	برگه زردآلو	۱۰۰g خوراکی ارزش غذایی (kcal) ماده غذایی
۵۷۹	۵۲	۲۴۱	چربی (گرم)
۴۹/۹۰	۰/۱۷	۰/۵۱	کلسترول (میلی گرم)
-	-	-	کربوهیدرات (گرم)
۲۵/۹۰	۲۴/۲۰	۷۸/۷۰	پروتئین (گرم)
۲۱/۲۰	۰/۲۶	۳/۳۹	

الف) اگر بدن فردی نیاز فوری و ضروری به تأمین انرژی داشته باشد، کدام خوراکی را پیشنهاد می‌کنید؟ چرا؟  
 ب) مصرف کدام خوراکی را برای فعالیت‌های فیزیکی که در مدت طولانی‌تری انجام می‌شوند، مناسب می‌دانید؟ توضیح دهید.

پ) اگر یک فرد ۷۰ کیلوگرمی، ۲۵ گرم بادام خورده باشد، برای مصرف انرژی حاصل از آن چه مدت باید پیاده‌روی کند؟  
 آهنگ مصرف انرژی در پیاده‌روی را  $۱۹۰ \text{ kcal h}^{-1}$  در نظر بگیرید.