

بِسْمِ اللَّهِ الرَّحْمَنِ الرَّحِيمِ

# تولید به روش فرزکاری و سنگ زنی

رشته ماشین ابزار

گروه مکانیک

شاخه فنی و حرفه‌ای

پایه یازدهم دوره دوم متوسطه



وزارت آموزش و پرورش  
سازمان پژوهش و برنامه‌ریزی آموزشی



- نام کتاب: تولید به روش فرزکاری و سنگ‌زنی - ۲۱۱۴۲۰
- پدیدآورنده: سازمان پژوهش و برنامه‌ریزی آموزشی
- مدیریت برنامه‌ریزی درسی و تألیف: دفتر تألیف کتاب‌های درسی فنی و حرفه‌ای و کاردانش
- شناسه افزوده برنامه‌ریزی و تألیف: غلامحسین پایگانه، محمد مهرزادگان، محمد خواجه حسینی، حسن امینی، سعید آقایی، سید حسن میرعسگری، حسن عبداله‌زاده (اعضای شورای برنامه‌ریزی)
- مدیریت آماده‌سازی هنری: محمد عاطفی‌نیا، محمد افتخاری مقدم و حسن مفتونی (اعضای گروه تألیف)
- شناسه افزوده آماده‌سازی: اداره کل نظارت بر نشر و توزیع مواد آموزشی
- نشانی سازمان: مجید ذاکری یونسی (مدیر هنری) - مریم کیوان (طراح جلد) - حسین وهابی، افشین یوبه‌منش، آرزو یوبه‌منش (صفحه‌آرا) - سعید آقایی (رسم) - حسن مفتونی (عکاس)
- ناشر: تهران: خیابان ایرانشهر شمالی - ساختمان شماره ۴ آموزش و پرورش (شهید موسوی)
- تلفن: ۸۸۸۳۱۱۶۱-۹، دورنگار: ۸۸۳۰۹۲۶۶، کد پستی: ۱۵۸۴۷۴۷۳۵۹، وبگاه: [www.chap.sch.ir](http://www.chap.sch.ir)
- شرکت چاپ و نشر کتاب‌های درسی ایران: تهران-کیلومتر ۱۷ جاده مخصوص کرج-خیابان ۶۱ (دارو پخش)
- تلفن: ۴۴۹۸۵۱۶۱-۵، دورنگار: ۴۴۹۸۵۱۶۰ / صندوق پستی: ۱۳۹-۳۷۵۱۵
- چاپخانه: شرکت چاپ و نشر کتاب‌های درسی ایران «سهامی خاص»
- سال انتشار و نوبت چاپ: چاپ دوم ۱۳۹۷

کلیه حقوق مادی و معنوی این کتاب متعلق به سازمان پژوهش و برنامه‌ریزی آموزشی وزارت آموزش و پرورش است و هرگونه استفاده از کتاب و اجزای آن به صورت چاپی و الکترونیکی و ارائه در پایگاه‌های مجازی، نمایش، اقتباس، تلخیص، تبدیل، ترجمه، عکس‌برداری، نقاشی، تهیه فیلم و تکثیر به هر شکل و نوع بدون کسب مجوز ممنوع است و متخلفان تحت پیگرد قانونی قرار می‌گیرند.



ملت شریف ما اگر در این انقلاب بخواهد پیروز شود باید دست از آستین  
برآرد و به کار بپردازد. از متن دانشگاه‌ها تا بازارها و کارخانه‌ها و مزارع و  
باغستان‌ها تا آنجا که خودکفا شود و روی پای خود بایستد.  
امام خمینی (قدّس سره الشریف)

مقدمه

پودمان اول: فرزکاری سطوح تخت

- ۱.....
- ۳..... ماشین کاری (براده برداری)
- ۴..... فرزکاری
- ۱۵..... تیغه فرزها
- ۲۶..... ساعت اندازه گیری
- ۳۳..... متعلقات دستگاه فرز
- ۳۸..... سرعت برشی، عده دوران و سرعت پیشروی
- ۴۱..... تعیین عده دوران مناسب در فرزکاری
- ۴۴..... روش های فرزکاری (همراه - معکوس)
- ۴۶..... گونیاکردن سطوح در فرزکاری
- ۶۱..... ارزشیابی

پودمان دوم: فرزکاری سطوح شیب دار

- ۶۴..... فرزکاری سطوح شیب دار
- ۶۵..... سطوح شیب دار
- ۶۸..... اندازه گیری زوایای سطوح شیب دار
- ۷۵..... روش های فرزکاری سطوح شیب دار
- ۸۶..... شیب تراشی با انحراف کله گی دستگاه فرز
- ۹۲..... ارزشیابی

پودمان سوم: فرزکاری شیارها

- ۹۳.....
- ۹۵..... شیارتراشی
- ۹۵..... انواع شیارها و روش های شیارتراشی
- ۱۰۱..... شیارتراشی با فرز افقی و تیغه فرز پولکی



۱۱۶.....	ارزشیابی
۱۱۸.....	ارزشیابی هنرجو
۱۱۹.....	<b>پودمان چهارم: چرخ دنده تراشی</b>
۱۲۱.....	فرزکاری چندضلعی
۱۲۱.....	محاسبات لازم برای چندضلعی کردن قطعات
۱۲۵.....	تقسیم محیط کار
۱۴۰.....	ارزشیابی
۱۴۱.....	تراشیدن چرخ دنده ساده
۱۴۲.....	چرخ دنده ها (Gears) و اجزای آنها
۱۴۵.....	روش های تولید چرخ دنده
۱۵۴.....	دنده شانه ای
۱۵۸.....	کنترل چرخ دنده
۱۶۲.....	ارزشیابی
۱۶۳.....	<b>پودمان پنجم: سنگ زنی</b>
۱۶۵.....	مقدمه
۱۶۶.....	انواع سنگ زنی
۱۷۰.....	آماده سازی دستگاه
۱۷۱.....	بستن قطعه کار
۱۷۵.....	انتخاب چرخ سنگ
۱۷۸.....	نکات کاربردی در ساخت مایع خنک کننده
۱۸۳.....	تیز کردن چرخ سنگ
۱۹۵.....	ارزشیابی
۱۹۶.....	<b>منابع</b>

شرایط در حال تغییر دنیای کار در مشاغل گوناگون، توسعه فناوری‌ها و تحقق توسعه پایدار، ما را بر آن داشت تا برنامه‌های درسی و محتوای کتاب‌های درسی را در ادامه تغییرات پایه‌های قبلی براساس نیاز کشور و مطابق با رویکرد سند تحول بنیادین آموزش و پرورش و برنامه درسی ملی جمهوری اسلامی ایران در نظام جدید آموزشی بازطراحی و تألیف کنیم. مهم‌ترین تغییر در کتاب‌ها، آموزش و ارزشیابی مبتنی بر شایستگی است. شایستگی، توانایی انجام کار واقعی به‌طور استاندارد و درست تعریف شده است. توانایی شامل دانش، مهارت و نگرش می‌شود. در رشته تحصیلی - حرفه‌ای شما، چهار دسته شایستگی در نظر گرفته است:

۱- شایستگی‌های فنی برای جذب در بازار کار مانند توانایی فرزکاری سطوح تخت

۲- شایستگی‌های غیر فنی برای پیشرفت و موفقیت در آینده مانند نوآوری و مصرف بهینه

۳- شایستگی‌های فناوری اطلاعات و ارتباطات مانند کار با نرم افزارها

۴- شایستگی‌های مربوط به یادگیری مادام‌العمر مانند کسب اطلاعات از منابع دیگر

بر این اساس دفتر تألیف کتاب‌های درسی فنی و حرفه‌ای و کاردانش مبتنی بر اسناد بالادستی و با مشارکت متخصصان برنامه‌ریزی درسی فنی و حرفه‌ای و خبرگان دنیای کار مجموعه اسناد برنامه درسی رشته‌های شاخه فنی و حرفه‌ای را تدوین نموده‌اند که مرجع اصلی و راهنمای تألیف کتاب‌های درسی هر رشته است.

این درس، چهارمین درس شایستگی‌های فنی و کارگاهی است که ویژه رشته ماشین‌ابزار و برای پایه ۱۱ تألیف شده است. کسب شایستگی‌های این کتاب برای موفقیت آینده شغلی و حرفه‌ای شما بسیار ضروری است. هنرجویان عزیز سعی نمایید؛ تمام شایستگی‌های آموزش داده شده در این کتاب را کسب و در فرایند ارزشیابی به اثبات برسانید.

کتاب درسی تولید قطعات به روش فرزکاری و سنگ‌زنی شامل پنج پودمان است و هر پودمان دارای یک یا چند واحد یادگیری است و هر واحد یادگیری از چند مرحله کاری تشکیل شده است. شما هنرجویان عزیز پس از یادگیری هر پودمان می‌توانید شایستگی‌های مربوط به آن را کسب نمایید. هنرآموز محترم شما برای هر پودمان یک نمره در سامانه ثبت نمرات منظور می‌نماید و نمره قبولی در هر پودمان حداقل ۱۲ می‌باشد. در صورت احراز نشدن شایستگی پس از ارزشیابی اول، فرصت جبران و ارزشیابی مجدد تا آخر سال تحصیلی وجود دارد. کارنامه شما در این درس شامل ۵ پودمان و از دو بخش نمره مستمر و نمره شایستگی برای هر پودمان خواهد بود و اگر در یکی از پودمان‌ها نمره قبولی را کسب نکردید، تنها در همان پودمان لازم است مورد ارزشیابی قرار گیرید و پودمان‌های قبول شده در مرحله اول ارزشیابی مورد تأیید و لازم به ارزشیابی مجدد نمی‌باشد. همچنین این درس دارای ضریب ۸ است و در معدل کل شما بسیار تأثیرگذار است.

همچنین علاوه بر کتاب درسی شما امکان استفاده از سایر اجزای بسته آموزشی که برای شما طراحی و تألیف شده است، وجود دارد. یکی از این اجزای بسته آموزشی کتاب همراه هنرجو می‌باشد که برای انجام فعالیت‌های موجود در کتاب درسی باید استفاده نمایید. کتاب همراه خود را می‌توانید هنگام آزمون و فرایند ارزشیابی نیز همراه داشته باشید. سایر اجزای بسته آموزشی دیگری نیز برای شما در نظر گرفته شده است که با مراجعه به وبگاه رشته خود با نشانی [www.tvoccd.medu.ir](http://www.tvoccd.medu.ir) می‌توانید از عناوین آن مطلع شوید.

فعالیت‌های یادگیری در ارتباط با شایستگی‌های غیرفنی از جمله مدیریت منابع، اخلاق حرفه‌ای، حفاظت از محیط زیست و شایستگی‌های یادگیری مادام‌العمر و فناوری اطلاعات و ارتباطات همراه با شایستگی‌های فنی طراحی و در کتاب درسی و بسته آموزشی ارائه شده است. شما هنرجویان

عزیز کوشش نمایید این شایستگی‌ها را در کنار شایستگی‌های فنی آموزش ببینید، تجربه کنید و آنها را در انجام فعالیت‌های یادگیری به کار گیرید. رعایت نکات ایمنی، بهداشتی و حفاظتی از اصول انجام کار است لذا توصیه‌های هنرآموز محترمتان در خصوص رعایت مواردی که در کتاب آمده است، در انجام کارها جدی بگیرید.

امیدواریم با تلاش و کوشش شما هنرجویان عزیز و هدایت هنرآموزان گرامی، گام‌های مؤثری در جهت سربلندی و استقلال کشور و پیشرفت اجتماعی و اقتصادی و تربیت مؤثری شایسته جوانان برومند میهن اسلامی برداشته شود.

**دفتر تألیف کتاب‌های درسی فنی و حرفه‌ای و کاردانش**

در راستای تحقق اهداف سند تحول بنیادین آموزش و پرورش و برنامه درسی ملی جمهوری اسلامی ایران و نیازهای متغیر دنیای کار و مشاغل، برنامه درسی رشته ماشین ابزار طراحی و بر اساس آن محتوای آموزشی نیز تألیف گردید. کتاب حاضر از مجموعه کتاب‌های کارگاهی می‌باشد که برای سال یازدهم تدوین و تألیف گردیده است این کتاب دارای ۵ پودمان است که هر پودمان از یک یا چند واحد یادگیری تشکیل شده است. همچنین ارزشیابی مبتنی بر شایستگی از ویژگی‌های این کتاب می‌باشد که در پایان هر پودمان شیوه ارزشیابی آورده شده است. هنرآموزان گرامی می‌بایست برای هر پودمان یک نمره در سامانه ثبت نمرات برای هر هنرجو ثبت کنند. نمره قبولی در هر پودمان حداقل ۱۲ می‌باشد و نمره هر پودمان از دو بخش تشکیل می‌گردد که شامل ارزشیابی پایانی در هر پودمان و ارزشیابی مستمر برای هریک از پودمان‌ها است. از ویژگی‌های دیگر این کتاب طراحی فعالیت‌های یادگیری ساخت یافته در ارتباط با شایستگی‌های فنی و غیرفنی از جمله مدیریت منابع، اخلاق حرفه‌ای و مباحث زیست محیطی است. این کتاب جزئی از بسته آموزشی تدارک دیده شده برای هنرجویان است که لازم است از سایر اجزای بسته آموزشی مانند کتاب همراه هنرجو، نرم‌افزار و فیلم آموزشی در فرایند یادگیری استفاده شود. کتاب همراه هنرجو در هنگام یادگیری، ارزشیابی و انجام کار واقعی مورد استفاده قرار می‌گیرد. شما می‌توانید برای آشنایی بیشتر با اجزای بسته یادگیری، روش‌های تدریس کتاب، شیوه ارزشیابی مبتنی بر شایستگی، مشکلات رایج در یادگیری محتوای کتاب، بودجه‌بندی زمانی، نکات آموزشی شایستگی‌های غیرفنی، آموزش ایمنی و بهداشت و دریافت راهنما و پاسخ فعالیت‌های یادگیری و تمرین‌ها به کتاب راهنمای هنرآموز این درس مراجعه کنید. لازم به یادآوری است، کارنامه صادر شده در سال تحصیلی قبل بر اساس نمره ۵ پودمان بوده است و در هنگام آموزش و سنجش و ارزشیابی پودمان‌ها و شایستگی‌ها، می‌بایست به استاندارد ارزشیابی پیشرفت تحصیلی منتشر شده توسط سازمان پژوهش



و برنامه‌ریزی آموزشی مراجعه گردد. رعایت ایمنی و بهداشت، شایستگی‌های غیر فنی و مراحل کلیدی بر اساس استاندارد از ملزومات کسب شایستگی می‌باشند. همچنین برای هنرجویان تبیین شود که این درس با ضریب ۸ در معدل کل محاسبه می‌شود و دارای تأثیر زیادی است.

کتاب شامل پودمان‌های ذیل است:

پودمان اول: فرزکاری سطوح تخت.

پودمان دوم: فرزکاری سطوح شیب دار

پودمان سوم: شیار تراشی.

پودمان چهارم: چرخ دنده تراشی

پودمان پنجم: سنگ زنی

امید است که با تلاش و کوشش شما همکاران گرامی اهداف پیش‌بینی شده برای این درس محقق گردد.

**دفتر تألیف کتاب‌های درسی فنی و حرفه‌ای و کاردانش**

## پودمان ۱

# فرزکاری سطوح تخت



سطوح تخت، به سطوح بدون انحنا گفته می‌شود که در بسیاری از قطعات صنعتی مشاهده می‌شود. مهارت در فرزکاری این سطوح یکی از اصلی‌ترین کارهای فرزکاری است.

## واحد یادگیری فرز کاری سطوح تخت

### استاندارد عملکرد

فرز کاری سطوح تخت با استفاده از دستگاه فرز FP4M مطابق تolerانس تعیین شده در نقشه.

### پیش نیاز

نقشه خوانی  
کار با ابزارهای اندازه گیری

## فرزکاری سطوح تخت

### مقدمه

فرایندهای شکل دهی مواد (قطعات) به دو دسته کلی تقسیم می شوند:

- فرایندهای تغییر شکل بدون براده برداری، که در آن حجم مواد ثابت است و شکل دهی به روش نوردکاری، آهنگری، کشش عمیق و... انجام می شود.
- فرایندهای براده برداری که حجم مواد در آن ثابت نیست و شکل دهی به روش براده برداری انجام می شود مانند: تراشکاری، فرزکاری، سنگزنی و ... می باشد.

### ■ انواع روش های ماشین کاری.

به شکل روبه رو دقت کنید و بگویید این قطعات با چه روش هایی ساخته می شود؟



شکل ۱

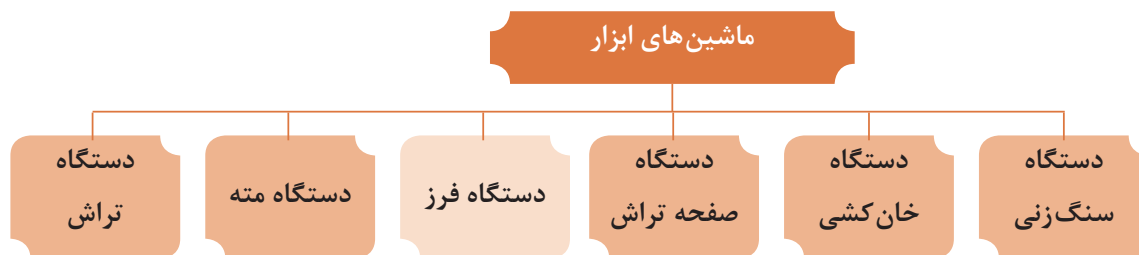
## ماشین کاری (براده برداری)

معمولاً ماشین کاری برای تولید قطعاتی با تolerانس ابعادی دقیق و با پرداخت سطحی خوب به کار می رود. در خیلی از موارد از ماشین کاری به عنوان عملیات تکمیلی روی قطعاتی که قبلاً با شیوه هایی مثل ریخته گری یا نوردکاری و... تولید شده اند نیز استفاده می شود. بیشتر قطعاتی که ساخته می شوند باید قبل از مونتاژ ماشین کاری شوند. تنوع فرایندهای ماشین کاری و ماشین های ابزاری که در صنعت به کار می روند زیاد است. ماشین کاری به موازات صنعتی شدن رشد چشم گیری داشته است و در بیشتر عملیات ماشین کاری از انرژی مکانیکی به عنوان یک نیروی محرک ابزار یا قطعه کار استفاده می شود. عمل براده برداری از طریق تماس ابزار با قطعه کار است و ماشین هایی که برای این منظور به کار می روند معمولاً به ماشین های ابزار معروف هستند (شکل ۲).



شکل ۲

از آنجایی که قطعات ساخته شده دارای شکل متفاوت هستند و ممکن است دارای سطوح تخت، استوانه ای، منحنی و ... باشند، لازم است که برحسب نیاز از ماشینی استفاده شود که حرکات لازم برای ایجاد سطوح مورد نظر را با سرعت و دقت کافی تأمین نماید و از نظر اقتصادی تولید قطعات مقرون به صرفه باشد. برای نشان دادن این تنوع، در زیر به چند عنوان از آنها اشاره شده است:



به تصاویر زیر دقت کنید به نظر شما روش مناسب برای ماشین کاری این قطعات کدام است؟ (شکل ۳)



شکل ۳

همان طور که ملاحظه می کنید، دستگاه هایی مانند تراش و مته برای ساخت این قطعات کافی نبوده و لازم است از دستگاه های دیگری مانند فرز و ... استفاده شود.

## فرزکاری

فرزکاری عبارت است از براده برداری سطوح قطعه کار، توسط ابزار چند لبه در حال دوران، به نام تیغه فرز. در این روش مانند سوراخ کاری ابزار حرکت دورانی دارد، قطعه کار با روش مناسب روی میز ماشین بسته شده و می توان عمل براده برداری روی قطعه کار را انجام داد (شکل ۴).



شکل ۴



یکی از ماشین‌هایی که برای تولید سطوح مستوی، افقی و عمودی، مایل و فرم‌دار استفاده می‌شود، دستگاه فرز می‌باشد. همچنین شیارهای مستقیم و مارپیچ و چرخ‌دنده‌ها نیز با این دستگاه‌ها قابل ساخت هستند. دستگاه فرز در انواع گوناگون ساخته می‌شود (شکل ۵).



شکل ۵

### تاریخچه فرزکاری

از آنجایی که همه قطعات تولیدی دارای سطوح دوار نیستند که بتوان با روش تراشکاری تولید کرد، ضرورت استفاده از قطعات با هندسه متفاوت و دارای سطوح مستقیم شیب‌دار و فرم دار و... در صنعت، انسان را بر آن داشت تا به فکر روشی باشد که بتواند براده‌برداری سطوح مورد نظر را انجام دهد. این احساس نیاز منجر به ساخت اولین ماشین فرز گردید (شکل ۶).



شکل ۶



با استفاده از منابع در دسترس مدل‌های مختلف ماشین فرز را جستجو کرده به همراه عکس جدول زیر را کامل کنید.

ردیف	نام شرکت سازنده	نام کشور سازنده	مدل	تصویر در صورت امکان
۱	ZAVOD MUSSON, OAO	روسیه	۶ N۸۰ SH	
۲				
۳				
۴				

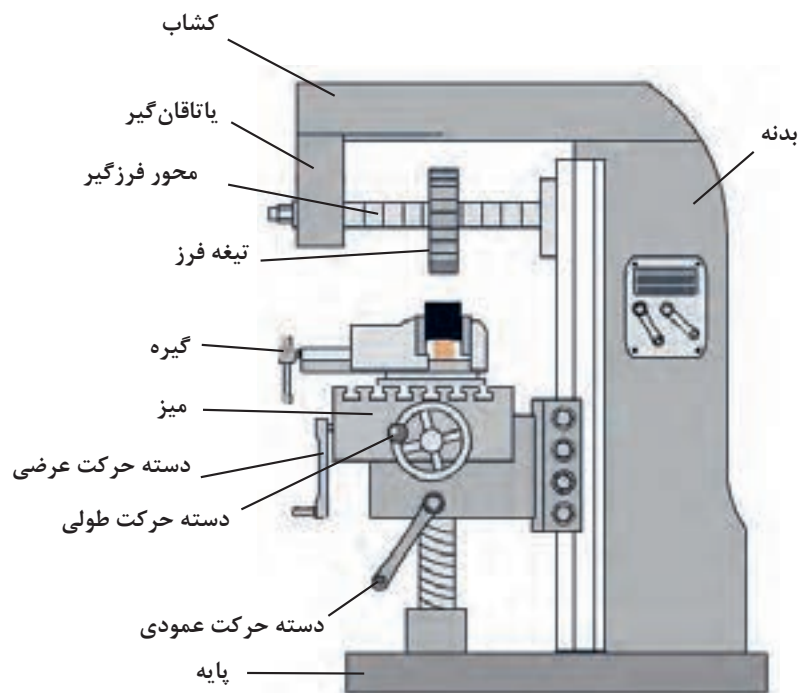
### انواع دستگاه فرز

دستگاه فرز افقی: مهم‌ترین مشخصه این نوع دستگاه افقی بودن محور ابزار گیر این دستگاه است و به این ترتیب قادر به ماشین‌کاری قطعات مختلفی هستند که در زیر چند نمونه از آنها را مشاهده می‌کنید (شکل ۷).



شکل ۷

برای تنظیم عده دوران تیغه فرز و در نتیجه تأمین سرعت برش مناسب، دستگاه دارای جعبه‌دنده اصلی است که حرکت خود را از یک الکتروموتور دریافت می‌کند. قسمت‌های مختلف ماشین فرز افقی در شکل دیده می‌شود. (شکل ۸ و ۹). مکانیزم حرکت طولی، عرضی و عمودی میز به وسیله پیچ و مهره و همچنین به صورت خودکار امکان‌پذیر است.

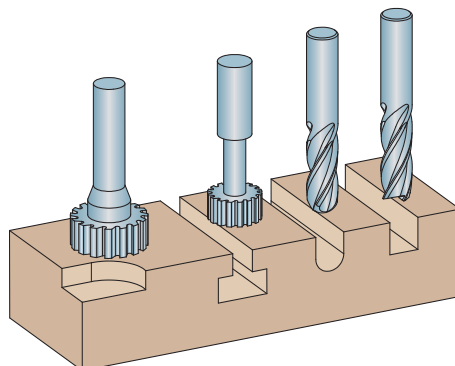


شکل ۸



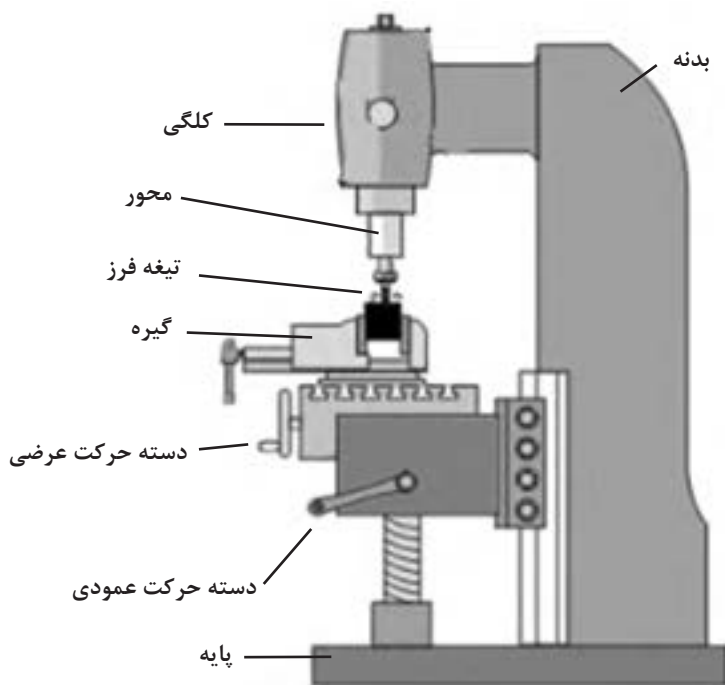
شکل ۹

– **ماشین فرز عمودی:** با توجه به این که محور ابزارگیر این دستگاه‌ها به صورت عمودی است به دستگاه‌های فرز عمودی معروف هستند. به این ترتیب این نوع دستگاه قادر به ماشین کاری قطعات مختلفی هستند که در زیر چند نمونه از آنها را مشاهده می کنید (شکل ۱۰).



شکل ۱۰

قسمت‌های مختلف آن شبیه ماشین فرز افقی است. محور فرزگیر در داخل قسمتی به نام کلگی دستگاه سوار می شود که البته در بعضی از انواع آن و در صورت نیاز می تواند تحت زاویه قرار داده شود و در برخی دستگاه‌ها می توان با تعویض بعضی قسمت‌ها، آن را به نوع افقی تبدیل کرد. باید در نظر داشت که امتداد محورفرزگیر باید همواره بر سطح تراش عمود باشد. به کمک این ماشین می توان کارهایی مثل پیشانی تراشی، شیار تراشی، سطوح زاویه دار و... را انجام داد (شکل ۱۱).



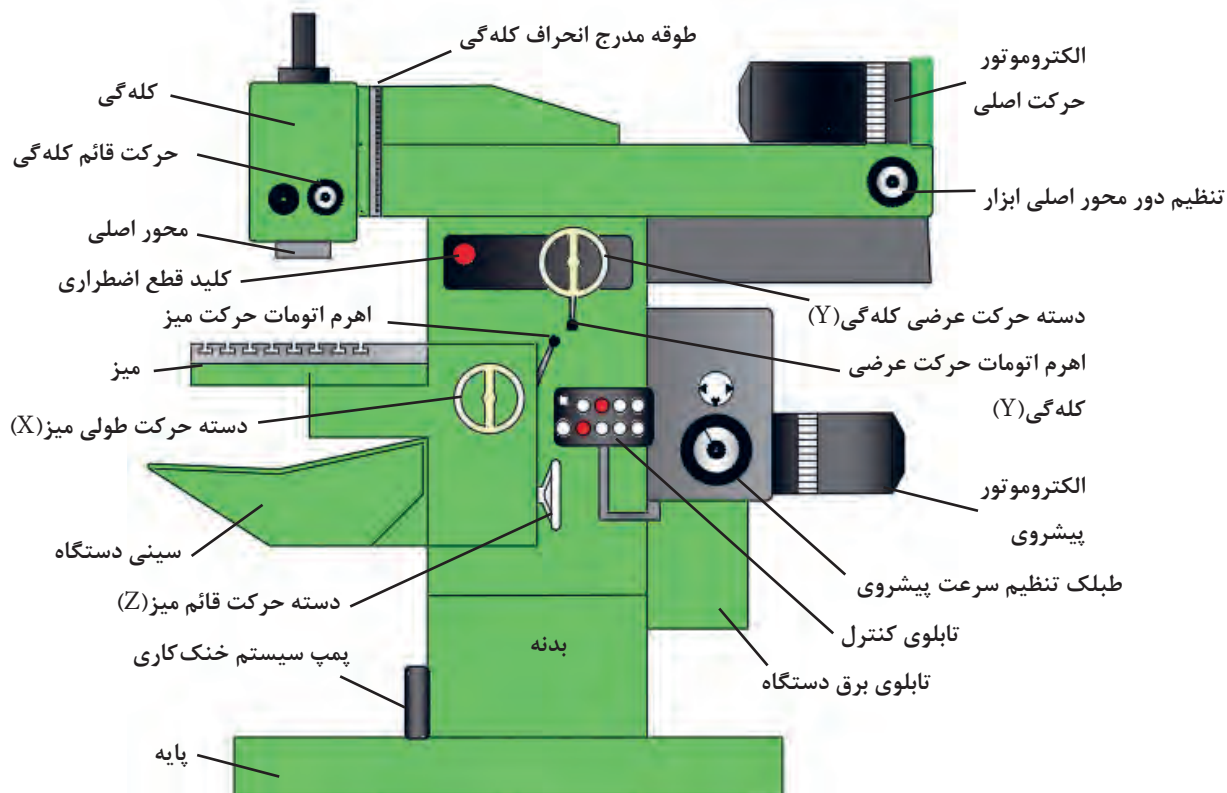
شکل ۱۱



شکل ۱۲

**ماشین فرز اونیورسال:** این دستگاه‌ها دارای محور کار عمودی و افقی بوده و ساختمان آن شبیه به ماشین فرز افقی است و معمولاً میز این دستگاه‌ها حدود ۴۰ درجه به چپ و راست قابل انحراف می‌باشد. در این نوع دستگاه حرکت میله هادی میز از طریق چرخ دنده‌های تعویضی به دستگاه تقسیم منتقل شده و حرکت دورانی قطعه کار را به طور هم‌زمان امکان‌پذیر می‌سازد. بدین ترتیب علاوه بر کارهای معمولی، شیارها، چرخ دنده، تیغه‌فرزها و برقوهای مارپیچ و همچنین دنده‌های حلزونی به کمک آنها قابل ساخت است. ماشین فرز FP4M از نوع فرز اونیورسال است (این دستگاه دارای میز اونیورسال و قابل انحراف بوده که می‌تواند جایگزین میز معمولی گردد) (شکل ۱۲).

با توجه به اینکه مبنای آموزش، دستگاه فرز مدل FP4M ساخت تبریز می‌باشد، در زیر به توضیح در مورد بعضی از قسمت‌های آن می‌پردازیم (شکل ۱۳):



شکل ۱۳



## اجزای ماشین فرز

۱- **بدنه دستگاه:** معمولاً از جنس چدن و به روش ریخته‌گری تهیه می‌شود و قسمت‌های مختلف ماشین روی آن سوار می‌شود.

۲- **جعبه‌دنده:** این ماشین دارای دو جعبه‌دنده مجزا، به شرح زیر می‌باشد:

**الف)** جعبه‌دنده مخصوص دوران محور اصلی با ۱۸ دور مختلف با ترمز مغناطیسی، برای تنظیم دور ابتدا فلکه میانی را به سمت عقب کشیده و سپس طبلک تنظیم دور را بچرخانید تا در قسمت بالا قرار بگیرد. سپس حلقه میانی را رها کنید. علامت فلش دور تنظیمی را نشان می‌دهد.

**ب)** جعبه‌دنده مخصوص سرعت پیشروی طولی، عرضی، ارتفاع به همراه حرکت خرگوشی (سریع).

برای تنظیم سرعت پیشروی، حلقه را به طرف عقب بکشید و سپس طبلک تنظیم‌کننده را بچرخانید تا عدد مورد نظر در قسمت بالا قرار بگیرد. عدد روبه‌روی شاخص، مقدار پیشروی تنظیمی است (شکل ۱۴ و ۱۵).



شکل ۱۴



شکل ۱۵

دور تند و کند دستگاه با حالت I و II مشخص شده است.


نکته



هشدار



هنگامی که دستگاه روشن است هیچگاه اقدام به تنظیم دور و پیشروی دستگاه نکنید.



شکل ۱۶

۳- **میز:** میز دستگاه دارای جابه‌جایی طولی، عمودی است و جابه‌جایی عرضی توسط کشابی که در قسمت بالای دستگاه است، محور ابزار را جابه‌جا می‌کند. حرکت‌های طولی، عرضی و عمودی به صورت دستی و حرکت خودکار در دو جهت X و Z امکان‌پذیر است. در ضمن علاوه بر حرکت عمودی میز، محور ابزار نیز دارای حرکت عمودی در فاصله‌های کوتاه می‌باشد که امکان سوراخ‌کاری را مانند دریل ستونی به صورت دستی تأمین می‌کند (شکل ۱۶).

این ماشین فرز دارای تجهیزات جانبی از قبیل دستگاه تقسیم، میز گردان، میز ساده، میز اونیورسال، کلگی (قابل دوران حول محور افق) به صورت اونیورسال، درن های کوتاه و بلند، چرخ دنده های تعویضی، در بعضی موارد خط کش دیجیتال X, Y, Z (نمایش وضعیت رقمی) و... است.

محدوده حرکت طولی میز ۵۰۰ mm

محدوده حرکت قائم میز (ارتفاع) ۴۰۰ mm

محدوده حرکت عرضی ابزارگیر ۴۰۰ mm

محدوده حرکت ارتفاعی محور داخلی کلگی ۹۰ mm



پیچ های تنظیم  
انحراف کلگی

محل قرارگیری  
محور ابزارگیر

شکل ۱۷

**۴- کلگی دستگاه:** محور فرزگیر عمودی روی آن بسته می شود. کلگی قابلیت دوران حول محور افقی را دارد که امکان فرزکاری سطوح شیب دار را فراهم می سازد. ضمناً محور فرزگیر توسط دسته حرکت عمودی به اندازه ۹۰ میلی متر جابه جا می شود.

## ۵- سیستم روانکاری

**الف)** به صورت مرکزی و اتومات قابل تنظیم است که طی سیستم های کنترلی از تابلو برق جهت کلگی صورت می پذیرد و تغذیه روغن آن از گیربکس اصلی می باشد.

**ب)** به صورت دستی مرکزی: توسط تلمبه دستی برای ریل های طولی و ارتفاع صورت می گیرد، روغن آن توسط مخزنی که در کنار دستگاه نصب شده تغذیه می شود.

در مورد سرویس و روغن کاری دستگاه به نکات ذیل توجه نمایید:

ماشین را پیوسته روغن کاری نمایید. ماشین کاری در مدت زمان طولانی، تعمیر و سرویس بیشتری لازم دارد.

فقط از روغن های مناسب استفاده کنید (با توجه به توصیه کارخانه)

در صورت تعویض روغن، لوله ها و محفظه های روغن را تمیز نمایید.

همواره از پارچه های بدون پرز استفاده نمایید (شکل ۱۸).



شکل ۱۸

جهت اطمینان از مقدار روغن سیستم روانکاری، شاخص چشمی روغن در حالت خاموشی دستگاه به اندازه نصف پر باشد.

نکته



هشدار



برای نصب گیره و لوازم الحاقی سنگین بر روی میز از جرثقیل کارگاهی کمک بگیرید.



شکل ۱۹

## ۶- سیستم خنک کاری: سیستم

خنک کاری که مخزن آن در کف و پایه دستگاه پیش‌بینی شده است و توسط پمپ و شیلنگ به محل براده‌برداری انتقال می‌یابد و با شیر تنظیم می‌توان مقدار مصرف آن را کنترل نمود.

## ۷- تابلو کنترل: توسط این تابلو می‌توان

حرکت‌های برشی، اتومات کند و سریع، ترمز مغناطیسی، سیستم خنک کاری را کنترل نمود این تابلو مجهز به نمایشگر شدت جریان مصرفی است (شکل ۱۹).

■ مایع خنک کاری توسط کلید قابل کنترل است.

■ با استفاده از کلید در دو حالت کند (I) و تند (II) می‌توان دورهای مختلف را برای محور کار تنظیم نمود.

■ کلید ترمز محور که باعث نگه داشتن محور فرزگیر در هنگام خاموش کردن دستگاه می‌شود. در صورتی که کلید در وضعیت خاموش باشد، دستگاه روشن نمی‌گردد.

■ برای انتقال سریع در زمان حرکت بدون بار از کلید حرکت سریع (خرگوشی) استفاده می‌شود.

■ حرکت پیشروی به کمک کلیدهای تعبیه شده به صورت کند و تند میسر می‌باشد، و به کمک کلید استپ پیشروی می‌توان پیشروی دستگاه را به‌طور موقت قطع کرد.

هشدار



هیچ‌گاه در حین براده‌برداری از کلید حرکت سریع پیشروی استفاده نشود.


## کلیدهای پشت تابلو برق دستگاه:

■ کلید قطع اضطراری که روی تابلو کنترل نصب شده است، برق دستگاه را خاموش می‌کند و حرکت دستگاه متوقف می‌شود و تا زمانی که وصل نشود دستگاه راه‌اندازی نخواهد شد. روی بدنه دستگاه نیز یک کلید اضطراری دیگر تعبیه شده است (شکل ۲۰).

■ تابلو برق: وظیفه تقسیم برق به قسمت‌های مختلف را به عهده دارد

■ کلید برق اصلی: برق کل دستگاه را قطع و یا وصل می‌کند.

■ کلید چپ‌گرد و راست‌گرد برای تغییر جهت دوران: محور دستگاه مورد استفاده قرار می‌گیرد.




شکل ۲۰



همواره به خاطر داشته باشیم که کابل اتصال زمین (ارت) سالم باشد.

ارزشیابی:

نام قسمت‌های شماره گذاری شده را بنویسید؟



شکل ۲۱

شماره	نام	کاربرد
۱	الکتروموتور	تأمین نیروی لازم جهت حرکت محور اصلی دستگاه
۲		
۳		
۴		
۵		
۶		
۷		
۸		
۹		
۱۰		



با استفاده از منابع مختلف در دسترس در مورد انواع دستگاه‌های فرز تحقیق کرده و در کلاس ارائه نمایید.

## راه‌اندازی دستگاه

### وسایل مورد نیاز:

■ دستگاه فرز

■ قبل از روشن کردن دستگاه از درگیر نبودن ابزار با قطعه کار و گیره مطمئن شوید.

■ ابزار و وسایل اضافی را از روی میز دستگاه دور کنید.

■ در صورتی که قطعه کار روی دستگاه بسته شده است از محکم بودن آن اطمینان حاصل کنید.

■ در صورتی که محور افقی بلند روی دستگاه نصب گردیده است، هیچ‌گاه آن را بدون نصب یاتاقان جلوی دستگاه راه‌اندازی نکنید.

در صورتی که دستگاه دارای نشتی روغن است مسئول کارگاه را مطلع نمایید.

## مراحل انجام کار:

بعد از پوشیدن لباس کار و کفش ایمنی مراحل زیر را تحت نظر هنرآموز انجام دهید.

۱ چشمی روغن (روغن نما) جعبه‌دنده‌های اصلی و پیشروی دستگاه را کنترل نمایید. (سطح روغن چشمی باید تا شاخص تعیین شده باشد).

۲ سیستم روغن‌کاری مرکزی (روغن‌کاری ریل‌ها) را بررسی کنید که از شاخص مینیمم کمتر نباشد. (توجه روغن این مخزن مصرفی است هر چند روز یک بار بایستی پر شود).

۳ قبل از شروع به کار، جهت روغن‌کاری دستگاه اهرم پمپ دستی را چند بار حرکت دهید.

۴ اهرم حرکت خودکار دستگاه را در وضعیت خلاص قرار دهید.

۵ پس از حصول اطمینان از عدم برخورد تیغه فرز با قطعه کار و یا گیره، کلید برق اصلی را وصل و دستگاه را روشن کنید.



شکل ۲۲

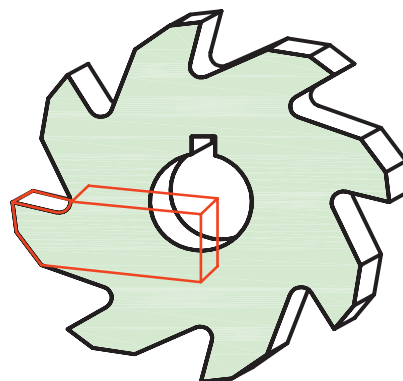




در صورتی که قسمتی از دستگاه آسیب ببیند چه اقدامی انجام می‌دهید؟  
 الف) به هنرآموز اطلاع می‌دهم.  
 ب) بدون اطلاع هنرآموز به کار ادامه می‌دهم.  
 ج) دستگاه را خاموش کرده و سعی در برطرف کردن عیب دستگاه می‌کنم.

## تیغه‌فرزها

برای براده‌برداری در ماشین‌های فرز از تیغه‌فرز استفاده می‌شود. این ابزارها دارای تعدادی لبه‌های برنده هستند که با حرکت دورانی عمل براده‌برداری از روی قطعه کار را انجام می‌دهند. فرم اصلی هر لبه برنده را یک گوه تشکیل داده که زوایای اصلی را می‌توان روی آنها تشخیص داد.



شکل ۲۳

### طبقه‌بندی تیغه‌فرزها:

تیغه‌فرزها از نظر شکل و لبه‌های برنده با هم متفاوت هستند. تعداد دندانه و زوایای تیغه‌فرزها به جنس قطعه کار و قطر آنها بستگی دارد که از این نظر تیغه‌فرزهای غلتکی در سه گروه معرفی شده‌اند (جدول ۱).

جدول ۱

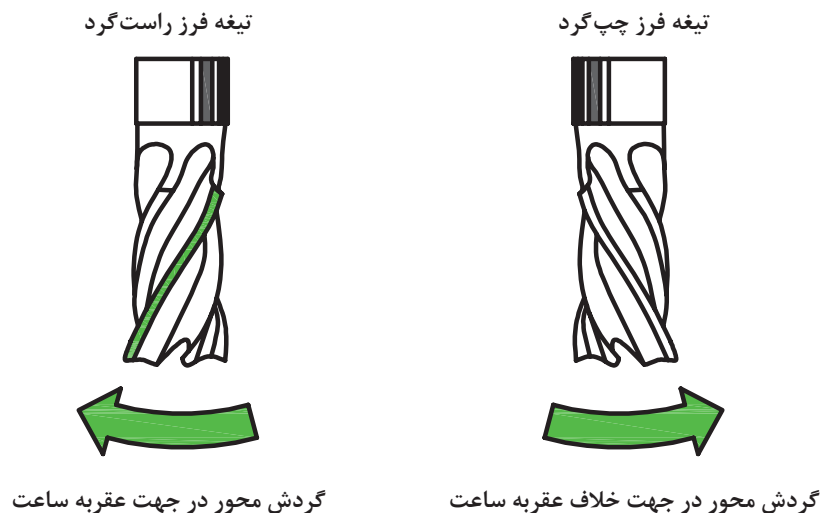
کاربرد	زاویه آزاد ( $\alpha$ )	تعداد دندانه	شکل مقطع تیغه فرز غلتکی	تیپ
فلزات نرم مثل آلومینیوم و مس	$8^\circ$	۴ - ۸		W
فولاد ساختمانی، چدن و فلزات غیر آهنی	$7^\circ$	۶ - ۱۰		N
فولادهای سخت	$4^\circ$	۱۰ - ۱۶		H



با توجه به جدول، تیپ تیغه فرزها با تعداد دندانۀ بیشتر (دنده ریزتر) برای فلزات سخت تر به کار می‌روند.

### انواع تیغه فرزها از نظر جهت پیچش (شکل ۲۴)

برای شناسایی بهتر جهت مارپیچ باید بدانیم که تیغه راست گرد علامت «ر» فارسی را تداعی می‌کند.



شکل ۲۴



قبل از شروع به کار با تیغه فرز انگشتی و یا غلتکی حتماً به جهت گردش محور دقت کنید.

**جنس و شکل تیغه فرزها:** جنس تیغه فرزها متناسب با جنس قطعه کار انتخاب می‌شود که در زیر به بعضی از ویژگی‌های آنها اشاره شده است: (جدول ۲ و ۳)

جدول ۲

ردیف	جنس تیغه فرزها	خصوصیات و کاربرد آنها
۱	فولاد ابزار سازی	در مصارف محدود و تا دمای ۳۰۰ درجه سانتی گراد از آنها استفاده می‌شود.
۲	فولاد ابزار آلیاژی	متداول ترین نوع تیغه فرزها هستند و تا ۶۰۰ درجه سانتی گراد مقاومت خود را حفظ می‌کنند. آنها را با علامت SS و HSS نشان می‌دهند.
۳	کاربیدهای سممانته شده (فلزات سخت)	بهترین شرایط برای براده برداری را دارند و قابلیت خود را تا ۹۰۰ درجه سانتی گراد حفظ می‌نمایند و در تولید تیغه فرزهای تیغچه دار استفاده می‌شوند.
۴	سرامیک‌ها	مقاومت سرامیک‌ها در مقابل سایش و حرارت بسیار زیاد است و تا ۱۲۰۰ درجه سانتی گراد سختی خود را حفظ می‌نمایند و برای براده برداری فولادهای سخت مناسب هستند.

جدول ۳- انواع تیغه فرز با توجه به شکل و سطح تیغه‌ها

شماره	نام تیغه فرز	شکل	شماره	نام تیغه فرز	شکل
۱	غلطکی		۴	انگشتی	
	غلطکی پیشانی		۵	تیغه‌دار	
۲	شیار تراش		۶	تی شکل	
	برش				
۳	جناق		۷	فرم تراش	
	دم چلچله		۸	مدولی	

نکته

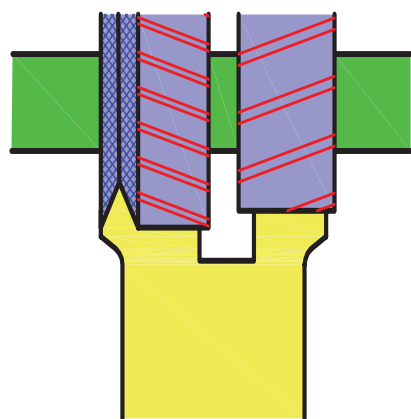
در پرداخت کاری از تیغه‌های (اینسرت) با تعداد و لبه کمتر (مثلاً، لوزی) درخشن کاری که نیاز به استحکام بیشتر است از اینسرت‌های با لبه بیشتر یا مقاطع گرد استفاده می‌شود.



تیغه فرزهای غلتکی: این تیغه‌فرزها لبه برنده محیطی به صورت مستقیم یا مارپیچ دارند و برای فرزکاری سطوح تخت مورد استفاده قرار می‌گیرند. تیغه فرزهای با شیار مارپیچ در مقایسه با تیغه‌های با شیار مستقیم آرام‌تر کار می‌کنند ولی عیب آنها در ایجاد نیروی محوری است لذا در هنگام سوار کردن روی میله فرزگیر دستگاه، بایستی آن را به نحوی قرار داد که امتداد نیروی محوری در جهت بدنه دستگاه فرز باشد، در غیر این صورت ممکن است یاتاقان فرزگیر از محور خارج شده، ایجاد صدمه کند (شکل ۲۵ و ۲۶).

نوع	شکل	تصویر کاربردی
غلتکی محیطی		

شکل ۲۵



کویل کردن تیغه فرزهای غلتکی



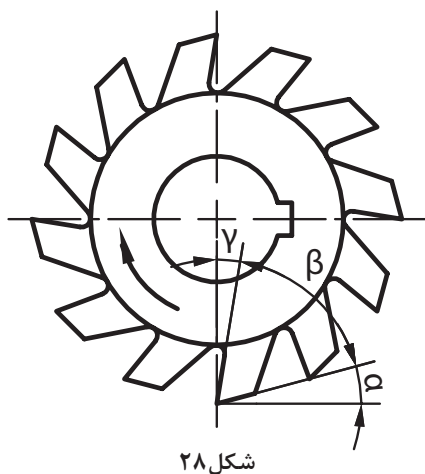
توجه به جهت گردش تیغه فرز در هنگام نصب

شکل ۲۶

■ تیغه‌فرزهای غلتکی پیشانی: این تیغه‌فرزها علاوه بر لبه‌های برنده محیطی، در پیشانی آنها نیز لبه برنده ایجاد شده و برای فرزکاری سطوح تخت و پله‌دار مناسب هستند. فرزکاری سطوح مستوی با این تیغه‌فرزها سطح صاف‌تری را نسبت به تیغه‌فرزهای غلتکی ایجاد می‌کند (شکل ۲۷).


تصویر کاربردی	شکل	نوع
		غلطکی پیشانی

شکل ۲۷



شکل ۲۸

جداول مربوط به زوایای تیغه فرز در کتاب همراه  
هنرجو آمده است.



تیغه فرز دارای لبه های مارپیچ    تیغه فرز دارای لبه برنده مستقیم

شکل ۲۹

### زوایای تیغه فرزها

لبه برنده تیغه فرزها مانند رنده های تراشکاری دارای زوایایی است که مقدار آنها با توجه به نوع و جنس تیغه فرز و جنس قطعه کار و همچنین روش براده برداری متفاوت است (شکل ۲۸).

**α - زاویه آزاد:** زاویه بین سطح آزاد تیغه فرز و سطح مماس بر سطح قطعه کار را گویند که مقدار آن معمولاً بین ۴ تا ۱۴ درجه است.

**β - زاویه گوه:** زاویه بین سطح آزاد و سطح براده را گویند و معمولاً بین ۵۵° تا ۸۰° انتخاب می شود. هرچه جنس قطعه سخت تر باشد مقدار زاویه گوه بیشتر و برای قطعات نرم تر زاویه گوه کمتر انتخاب می شود.

**γ - زاویه براده:** زاویه بین سطح براده و سطح قائم را گویند و مقدار تقریبی آن بین ۵° تا ۳۰° است.

**σ - زاویه برش:** به مجموع زوایای آزاد و زاویه گوه گویند.

**λ - زاویه مارپیچ:** تیغه فرز ممکن است دارای لبه های برنده مستقیم (موازی محور فرز) و یا لبه برنده مارپیچ باشد. مقدار این زاویه به گام مارپیچ بستگی داشته و مقدار آن برای اجسام سخت در حدود ۱۰° تا ۳۵° درجه و برای اجسام نرم مقدار آن در حدود ۲۵° تا ۴۵° است (شکل ۲۹).



۱ نام تیغه فرزهای جدول را بنویسید.

 <p>۵</p>	 <p>۱</p>
 <p>۶</p>	 <p>۲</p>
 <p>۷</p>	 <p>۳</p>
 <p>۸</p>	 <p>۴</p>

- ۵- تیغه فرز.....
- ۶- تیغه فرز.....
- ۷- تیغه فرز.....
- ۸- تیغه فرز.....

- ۱- تیغه فرز.....
- ۲- تیغه فرز.....
- ۳- تیغه فرز.....
- ۴- تیغه فرز.....

۲ در مورد اعداد حک شده روی تیغه فرزها تحقیق کرده و در کلاس ارائه نمایید.

### وسایل بستن تیغه فرز

برای بستن محکم، مطمئن و بدون لنگی تیغه فرز، از انواع میله فرزگیر و کُلت استفاده می‌شود. دنباله میله فرزگیرها را به منظور سوار کردن در سوراخ مخروطی محور اصلی دستگاه فرز، به فرم مخروطی می‌سازند. دنباله مخروطی میله فرزگیرها در دو نوع با نسبت مخروطی زیاد و با نسبت مخروطی کم ساخته می‌شوند.

میله فرزگیرها را به‌طور کلی به دو نوع دوطرفه (بلند) و یک طرفه (کوتاه) تقسیم می‌کنند.

■ **میله فرزگیرهای دو طرفه (بلند):** برای بستن تیغه فرزهای سوراخ‌دار مثل (غلطکی، پولکی، اره‌ای، مدولی و...) روی ماشین فرز افقی به کار می‌رود. میله فرزگیر را با قطرهای مختلفی می‌سازند که در سیستم متریک معمولاً دارای قطر ۱۶-۲۲-۲۷-۳۲ میلی‌متر می‌باشند. بر روی میله فرزگیر بوش‌هایی در نظر گرفته شده است که توسط آن می‌توان تیغه فرز را در موقعیت مناسبی از میله فرزگیر تنظیم کرد. روی میله فرزگیر جای خاری به منظور اتصال موقت تیغه فرز و میله فرزگیر تعبیه شده است.



شکل ۳۰



شکل ۳۱

■ **میله فرزگیر یک طرفه (کوتاه):** میله فرزگیر یک طرفه معمولاً برای بستن تیغه فرز سوراخ‌دار بر روی محور ماشین‌های فرز عمودی و افقی به کار می‌رود. این میله فرزگیرها دارای خار طولی یا عرضی (پیشانی) می‌باشند که برحسب نوع جای خار تیغه فرز، مورد استفاده قرار می‌گیرد (شکل ۳۱).



شکل ۳۲

■ **فرزگیر (کُلت):** تیغه فرزهای پیشانی تراش، انگشتی و هر نوع دیگری که دارای دنباله استوانه‌ای هستند را در کُلت می‌بندند. کُلت درون سوراخ مخروطی گلویی دستگاه جا زده شده و به وسیله یک پیچ بلند از پشت دستگاه محکم بسته می‌شود (شکل ۳۲).





## نصب تیغه فرز پیشانی تراش وسایل مورد نیاز:

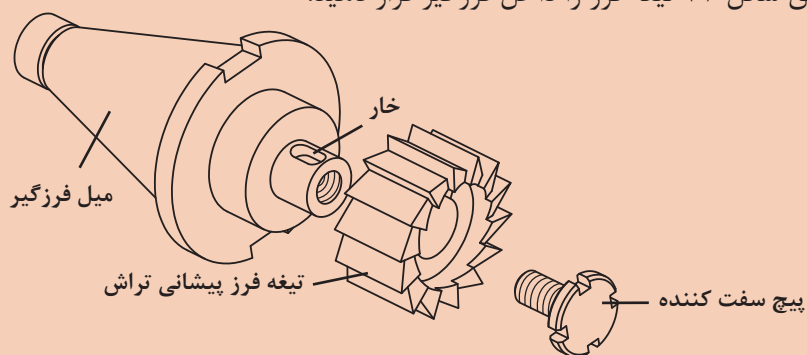
- ۱ دستگاه فرز عمودی
- ۲ آچار مخصوص بستن فرزگیر
- ۳ فرزگیر (کولت)
- ۴ تیغه فرز پیشانی تراش

### مراحل انجام کار:

پس از پوشیدن لباس کار، کفش ایمنی و دستکش (فقط برای بستن) وسایل مورد نیاز را تحویل بگیرید و ضمن رعایت نکات ایمنی مراحل انجام کار را به ترتیب بعد از توضیحات هنرآموز و با نظارت او انجام دهید.

۱ بررسی کنید دستگاه و ابزارها سالم و تمیز باشند. (در صورت لزوم تمیز و تعویض نمایید).

۲ مطابق شکل ۳۳ تیغه فرز را داخل فرزگیر قرار دهید.



شکل ۳۳

برای بستن می توان، از دستگاه کمکی بستن تیغه فرز روی فرزگیر مطابق شکل ۳۴ اقدام کرد.

نکته



شکل ۳۴





۱ دقت شود خار روی فرزگیر، متناسب با شیار تیغه فرز باشد.



شکل ۳۵

۲ دستگاه را خاموش کرده و روی دور کم تنظیم کنید.

۳ فرزگیر را تمیز کرده و داخل گلولی دستگاه طوری قرار دهید که زبانه محور فرزگیر داخل شیار فرزگیر قرار گرفته و آن را با آچار مخصوص سفت کنید. (باید در نظر داشته باشیم که گاهی فرزگیر از قبل بر روی محور ماشین نصب شده است که در این صورت می‌توانیم فقط تیغه فرز را تعویض کنیم)

۴ آچار را از روی محور فرزگیر بردارید.

هیچ گاه آچار روی دستگاه باقی نماند.

هشدار



شکل ۳۶



شکل ۳۷



### نصب تیغه فرز غلتکی روی میله فرزگیر بلند

#### وسایل مورد نیاز:

- ۱ دستگاه فرز افقی
- ۲ آچار بستن فرزگیر
- ۳ فرزگیر بلند
- ۴ تیغه فرز غلتکی

#### نکات ایمنی



- کلید برق اصلی دستگاه را در حالت خاموش قرار دهید.
- هنگام باز و بست پیچ‌ها از آچار مناسب استفاده شود.
- در هنگام جابه‌جایی و بستن تیغه فرز از پارچه استفاده شود.
- از ضربه زدن به محور و تیغه فرز خودداری کنید.

#### مراحل انجام کار:



شکل ۳۸- الف



شکل ۳۸- ب

- پس از پوشیدن لباس کار، کفش ایمنی: وسایل مورد نیاز را تحویل بگیرید و ضمن رعایت نکات ایمنی مراحل انجام کار را به ترتیب بعد از توضیحات هنر آموز و با نظارت او انجام دهید.
- تیغه فرز غلتکی و آچار مناسب را تحویل بگیرید.
- ابتدا مهره سر میله فرزگیر بلند را شل کنید.
- پیچ یاتاقان متحرک را شل کرده و آن را به آرامی از دستگاه جدا کنید (یاتاقان متحرک دارای وزن زیادی است).
- جهت تنظیم فاصله تیغه فرز ابتدا چند بوش را روی میله قرار دهید و سپس تیغه فرز را روی میله قرار داده، خار آن را جا بزنید (بهتر است در صورت امکان تمام طول میله دارای خار باشد) (شکل ۳۸ الف).
- مهره سر میله را کمی محکم کنید (شکل ۳۸ ب).
- تکیه‌گاه متحرک را در محل مناسب قرار داده و پیچ آن را محکم کنید (شکل ۳۸ ج).
- پیچ انتهایی میله فرزگیر را محکم کنید.

#### هشدار



- ۱ هیچ‌گاه بدون قراردادن یاتاقان اقدام به باز یا بستن مهره نکنید.
- ۲ استفاده از آچار فرانسه و چکش برای باز و بسته کردن مهره ممنوع است.



شکل ۳۸- ج



به شکل با دقت نگاه کنید، ساعت نصب شده روی دستگاه فرز چه عملی را انجام می دهد؟



شکل ۳۹


یکی از وسایل اندازه گیری که هم می تواند عمل اندازه گیری و هم کار کنترل را انجام دهد ساعت اندازه گیری است. ساعت اندازه گیری به یک صفحه مدرج عقربه دار مجهز است که می تواند اندازه و یا انحراف از اندازه های کوچک را به وسیله عقربه با بزرگ نمایی نشان دهد (شکل ۳۹).

ساعت های اندازه گیری برحسب کاربرد در شکل های متنوع و با تفکیک پذیری و گستره اندازه گیری مختلف ساخته می شوند (شکل ۴۰).



شکل ۴۰

- ساعت اندازه گیری دارای ویژگی هایی است که باعث استفاده زیاد آن در صنعت گردیده است از جمله:
- قابلیت بزرگنمایی ۱:۱۰۰ تا ۱:۱۰۰۰ را داراست.
- نیروی دست و همچنین حرارت دست اندازه گیر در مقدار اندازه تأثیری ندارد.
- خطای چشمی کم بوده و خواندن اندازه راحت تر است.
- در برابر تغییرات اندازه حساس است.
- محدودیت های ساعت اندازه گیری:
- در برابر ضربه بسیار حساس و آسیب پذیر است.
- گستره اندازه گیری آن محدود است.



شکل ۴۱

## اجزای ساعت اندازه گیری (شکل ۴۱):

- ۱ میله لمس کننده وظیفه انتقال اندازه به چرخ دنده‌های داخلی را به عهده دارد.
- ۲ نوک میله لمس کننده که به شکل عدسی، کروی، مخروطی ساخته می شود. چرا؟
- ۳ طوقه متحرک به صفحه ساعت متصل بوده و برای تنظیم ساعت در ابتدای کار به کار می رود.
- ۴ شاخک های تولرانسی که روی طوقه متحرک نصب شده و برای نشان دادن محدوده تولرانس اندازه قطعه به کار می رود.
- ۵ صفحه مدرج بزرگ که برای نشان دادن اندازه های کوچک (اعشاری) است و با عقربه بزرگ کار می کند.
- ۶ عقربه بزرگ برای نشان دادن اندازه های کوچک (اعشاری) به کار می رود که با صفحه بزرگ کار می کند.
- ۷ پیچ و زبانه قفل کننده طوقه متحرک که پس از تنظیم ساعت، پیچ آن محکم می شود.

۸ صفحه مدرج کوچک (دور شمار) که اندازه های بزرگ را نشان می دهد. این صفحه ثابت است.

۹ عقربه کوچک که همراه با صفحه کوچک ساعت از آن استفاده می شود (دور شمار).

## تفکیک پذیری و گستره اندازه گیری ساعت های اندازه گیری:


از مشخصات عمده و مهم هر وسیله اندازه گیری، تفکیک پذیری و گستره اندازه گیری است که در مورد ساعت اندازه گیری به یکدیگر بستگی دارند.

معمولاً ساعت با گستره اندازه گیری پایین دارای تفکیک پذیری بالا می باشد و بر عکس ساعت با گستره اندازه گیری بالا دارای تفکیک پذیری پایین می باشد.

توجه



ساعت های اندازه گیری در سیستم متریک و سیستم اینچی ساخته می شوند که در اینجا فقط به یک نوع ساعت اندازه گیری میلی متری پرداخته می شود:



شکل ۴۲

ساعت اندازه‌گیری میلی‌متری با تفکیک‌پذیری

۰/۰۱ میلی‌متر و گستره اندازه‌گیری ۱۰ میلی‌متر:

صفحه بزرگ ساعت ۱۰۰ قسمتی است، به ازای یک

میلی‌متر جابه‌جایی میله لمس‌کننده عقربه بزرگ

یک دور کامل می‌چرخد بنابراین هر قسمت آن ۰/۰۱

میلی‌متر است. بنابراین هر دور کامل عقربه بزرگ

ساعت، معادل  $1\text{mm} = 100 \times 0.01\text{mm}$  است.

صفحه کوچک ۱۰ قسمت است و به ازای هر دور کامل

عقربه بزرگ، عقربه کوچک یک واحد روی صفحه

کوچک جابه‌جا می‌شود، پس هر واحد صفحه کوچک

معادل ۱ میلی‌متر است و گستره اندازه‌گیری ساعت

$10\text{mm} = 1 \times 10$  است (شکل ۴۲).



مثال: در ساعت اندازه‌گیری نشان داده شده اگر عقربه بزرگ روی

فاصله ۴۷ از صفحه بزرگ قرار داشته باشد و عقربه کوچک دور شمار

هم کمی جلوتر از عدد ۵ باشد، مقدار اندازه چند میلی‌متر است؟

(شکل ۴۳).

$$\left\{ \begin{array}{l} \text{صفحه کوچک} = 5\text{ mm} \\ \text{اندازه برابر است با } 5/47 \text{ میلی‌متر} \\ \text{صفحه بزرگ} = 47 \times 0.01 = 0.47\text{ mm} \end{array} \right.$$

شکل ۴۳

پرسش



۱ در ساعت اندازه‌گیری اگر عقربه بزرگ روی فاصله ۸۳ از صفحه بزرگ قرار داشته باشد و عقربه کوچک

دور شمار هم کمی جلوتر از عدد ۲ باشد، مقدار اندازه چند میلی‌متر است؟

۲ در ساعت اندازه‌گیری با تفکیک‌پذیری ۰/۰۱ و گستره اندازه‌گیری ۱۰ میلی‌متر، اگر میله لمس‌کننده

۷/۳۳ میلی‌متر جابه‌جا شده باشد وضعیت عقربه‌های بزرگ و کوچک چگونه است.





جدول زیر را کامل کنید.

ساعت (mm ۱۰-۰/۰۱)		
اندازه نشان داده شده	عقربه بزرگ	عقربه دور شمار
۷/۶۷ mm	.....	۷
.....	۲۴	۳
۸/۳۷ mm	.....	.....

ساعت اندازه گیری به تنهایی قابل استفاده نیست و باید آن را روی نگهدارنده مناسبی (پایه) سوار کرد. پایه های ساعت در انواع مختلفی عرضه می شوند که در زیر به شرح یک نمونه از آنها می پردازیم:

**نگهدارنده میله ای با پایه آهن ربایی:** این پایه دارای محل استقرار آهن ربایی است که به راحتی می توان آن را روی سطوح راهنمای دستگاه و یا هر محل دیگری، نصب کرد (شکل ۴۴).



شکل ۴۴

### کاربردهای ساعت اندازه‌گیری در صنعت:

اندازه‌گیری: اندازه‌گیری طولی قطعات با دقت  $0/1$  تا  $0/01$  میلی‌متر و گستره اندازه‌گیری بین  $1$  تا  $100$  میلی‌متر امکان‌پذیر است.

کنترل: یکی از کاربردهای خاص ساعت‌های اندازه‌گیری کنترل تolerانس‌های ابعادی و بعضی از تolerانس‌های هندسی قطعات صنعتی است. بعضی از ساعت‌های کنترلی روی پایه‌های مختلف در شکل زیر نشان داده شده است (شکل ۴۵).



ساعت مجهز به صفحه صافی



ساعت با پایه شیاردار



ساعت با نگهدارنده مفصلی و پایه چدنی



ساعت با نگهدارنده میله و پایه چدنی

شکل ۴۵



بعضی از کاربردهای ساعت اندازه‌گیری					
ردیف	شرح	شکل	ردیف	شرح	ردیف
۱	کنترل تختی (پستی و بلندی) سطح با ساعت اندازه‌گیر مجهز به صفحه‌صافی		۱	کنترل گردی داخلی استوانه توسط ساعت با پایه شیاردار	
۲	کنترل تختی پیشانی توسط ساعت با پایه شیاردار		۲	تعیین زاویه مخروط، با حرکت ساعت روی مخروطی که بین دو مرغک بسته شده	
۳	کنترل گردی میله بسته شده بین دو مرغک توسط ساعت		۳	کنترل لنگی با ساعت اندازه‌گیری روی قطعه بسته شده بین دو مرغک	
۴	کنترل گردی میله توسط ساعت با کمک قطعه جناقی		۴	کنترل تختی پیشانی طوقه با ساعت اندازه‌گیری مجهز به صفحه صافی	

با جستجو در اینترنت و منابع دیگر در مورد انواع ساعت و کاربردهای آن تحقیق و به هنرآموز خود گزارش کنید.

تحقیق





## کنترل صحت ساعت اندازه گیری

### وسایل مورد نیاز:

۱ ساعت (mm ۱۰ - ۰/۰۱) میلی متر

۲ پایه میله ای

۳ صفحه صافی


۴ بلوک سنج




- ساعت های اندازه گیری در مقابل ضربه حساس هستند از افتادن و ضربه خوردن آنها جلوگیری کنید.
- هنگام تحویل ساعت از سالم بودن ساعت و پایه مغناطیس اطمینان حاصل کنید.
- قبل از نصب، محل قرارگیری پایه ساعت را با پارچه تمیز کنید.
- چنانچه ساعت روی پایه نگهداری می شود، دقت شود که نوک میله لمس کننده رو به پایین و موازی میله نگهدارنده باشد.
- اگر ساعت بدون پایه است حتماً پس از اتمام کار در جعبه مخصوص نگهداری شود.
- از دست کاری و تعمیر ساعت توسط افراد غیر مسئول خودداری گردد.
- پیچ های اتصال و تثبیت را به اندازه مناسب سفت کنید.

### مراحل انجام کار:

- ۱ ساعت اندازه گیری را روی نگهدارنده مناسب سوار کنید و مجموعه را روی صفحه صافی قرار دهید و کلید مغناطیس را فعال کنید.
- ۲ سر میله لمس کننده را به طور عمود بر صفحه صافی تماس کرده و عقربه بزرگ را به اندازه حدود یک چهارم دور تحت فشاردهی قرار دهید (شکل ۴۶).
- ۳ با استفاده از طوقه متحرک، صفر ساعت را زیر عقربه بزرگ تنظیم کنید.
- ۴ بلوک سنج را زیر میله لمس کننده قرار دهید و اندازه نشان داده شده را بخوانید. (شکل ۴۷).
- نکته: با توجه به شرایط کنترل لازم است ساعت اندازه گیری حدود یک چهارم گستره اندازه گیری اش فشرده شود.
- ۵ موقعیت عقربه کوچک را یادداشت کنید.
- ۶ عدد نشان داده شده توسط عقربه باید عدد روی بلوک سنج باشد.
- ۷ میزان خطای ساعت را تعیین کنید.



شکل ۴۶



شکل ۴۷



### نکات مهم در ارتباط با ساعت اندازه گیری

- با توجه به ابعاد قطعه کار از نگهدارنده مناسب استفاده شود. از سالم بودن مکانیزم آهنربای پایه نگهدارنده و بست‌ها اطمینان حاصل شود.
- با توجه به اینکه ساعت‌های اندازه‌گیری با تفکیک‌پذیری زیاد، دارای گستره اندازه‌گیری کم هستند و فاقد دورشمارند، لذا باید در خواندن آن دقت نمود تا در تعداد دور اشتباهی رخ ندهد.
- مقادیر صحیح را از روی صفحه کوچک (دورشمار) و اندازه‌های اعشاری (کوچک) را از روی صفحه بزرگ ساعت بخوانید.
- برای اندازه‌گیری و یا کنترل سطوح شیب‌دار، نوک میله لمس‌کننده در بالاترین نقطه سطح شیب‌دار تنظیم و فشرده شود تا حرکت آن سیر نزولی داشته و از احتمال فشرده شدن زیاد آن در طول مسیر اندازه‌گیری یا کنترل جلوگیری شود.

## متعلقات دستگاه فرز

با توجه به کارهای متنوع دستگاه فرز از وسایل و متعلقاتی استفاده می‌شود که در ادامه به توضیح برخی از آنها می‌پردازیم:

### – وسایل بستن قطعه کار:

قطعات کار باید به طور مطمئن و محکم بسته شوند، در غیر این صورت در حین کار قطعه لرزش می‌کند و تغییر مکان پیدا می‌نماید و حتی ممکن است از جا کنده شود و خطرات غیرقابل پیش‌بینی را باعث گردد. قطعات روی میز ممکن است به سه حالت موازی با سطح میز، عمود بر سطح میز و یا تحت زاویه نسبت به سطح میز قرار گیرند. برای نگهداری قطعات از وسایل و تجهیزاتی استفاده می‌شود که عبارت‌اند از:

■ انواع گیره

■ بست‌ها (روبندها)

■ صفحات گونیایی و زاویه‌دار

■ وسایل مخصوص (فیکسچر)

**گیره:** گیره متداول‌ترین وسیله برای بستن قطعه کار است که به کمک پیچ و مهره روی میز دستگاه فرز بسته می‌شود. دامنه کارگیری آنها معمولاً زیاد نیست (شکل ۴۸). با توجه به شرایط ممکن است که گیره طوری نصب شود که فک‌های آن موازی میز و یا عمود بر میز باشد.

**گیره ساده (موازی):** سطح فک‌ها در این گیره موازی است.



گیره مدرج (پایه گردان)



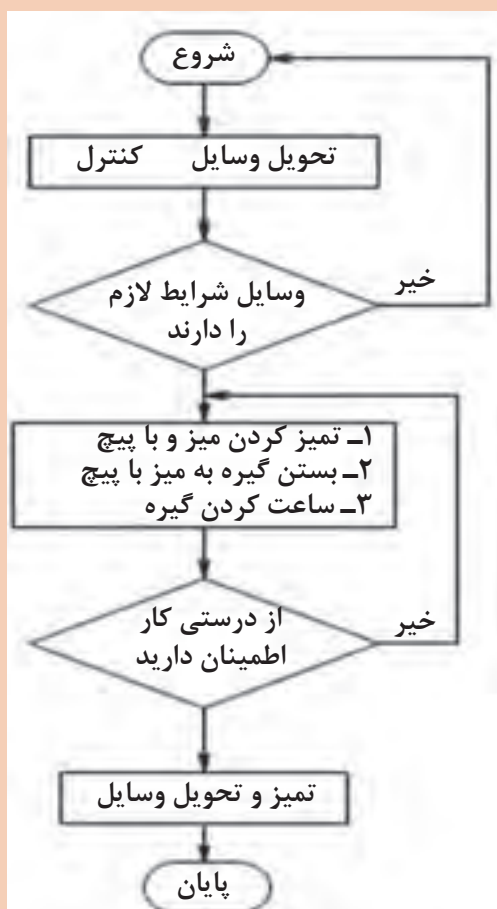
گیره ساده



## بستن گیره و ساعت کردن آن وسایل و تجهیزات مورد نیاز

- ۱ گیره
- ۲ ساعت اندازه گیری و پایه
- ۳ چکش لاستیکی
- ۴ آچار مناسب
- ۵ شمش سنگ خورده
- ۶ گونیا

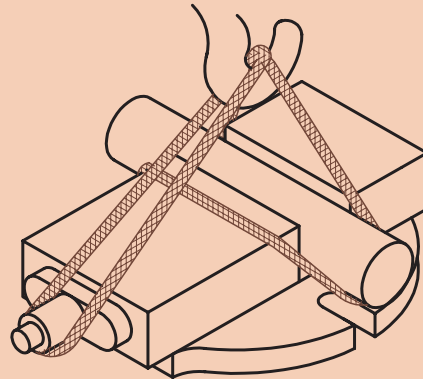
### روند نمای انجام کار



- برای حمل گیره حتماً از وسایل حمل مثل جرثقیل و یا میز چرخ دار استفاده کنید (شکل ۴۹).
- برای نصب از پیچ T شکل و آچار مناسب استفاده کنید.
- با توجه به ابعاد قطعه از گیره مناسب استفاده شود.

### مراحل انجام کار

- ۱ سطوح میز و کف گیره را تمیز نمایید و سپس گیره را روی میز قرار دهید.
- ۲ پیچ‌های گیره را درشیار میز قرار داده، آنها را کمی سفت کنید.



شکل ۴۹

#### نکته



از گونیا نیز مطابق شکل می‌توان برای تنظیم مقدماتی بهره برد. البته باید خاطرنشان کرد که در گیره‌های با پایه دوار این اقدام کافی نیست و باید فلک‌ها با ساعت کنترل گردد.



شکل ۵۰

- ۳ شاخص درجه‌بندی گیره را روی عدد صفر قرار داده و پیچ مربوط به آن را کمی محکم کنید (شکل ۵۰).
- ۴ پایه ساعت‌اندازه‌گیری را روی سطوح راهنما نصب کنید.
- ۵ نوک میله لمس‌کننده را با لبه فک ثابت گیره طوری مماس کنید که کمی فشرده شود.

نکته



چنانچه فک‌های گیره صیقلی نباشد می‌توان از شمش سنگ‌زده مطابق شکل برای ساعت کردن گیره استفاده کرد.



شکل ۵۱



- ۶ با حرکت میز به طرفین میزان انحراف ساعت را خوانده و در صورت انحراف گیره، به اندازه نصف آن مقدار، گیره را در جهت مخالف تنظیم کنید.
- ۷ این عمل را تا آنجا تکرار کنید که مقدار انحراف ساعت در حد تolerانس مجاز شود (شکل ۵۱).
- ۸ پیچ‌های گیره را به آرامی محکم نمایید.

نکته



هرگز برای سفت کردن پیچ‌ها از اهرم استفاده نکنید.

۹ در صورت نیاز از راهنمایی هنرآموز کمک بگیرید.

نکته




برای قطعات گرد باید از گیره‌بندی مناسب مطابق شکل استفاده نمایید.



شکل ۵۲

### بست‌ها (روبندها):

قطعاتی را که نمی‌توان به گیره بست آنها را به کمک روبنده روی میز دستگاه محکم می‌کنند. برای این منظور و بر حسب مورد، از روبندهای متنوعی استفاده می‌شود. برای آن که سطح تماس روبنده با سطح کار موازی باشد و اتصال مطمئنی را به وجود آورد لازم است که در طرف دیگر روبنده از زیرسری مناسبی استفاده گردد. این زیر سری‌ها در فرم‌های منشوری، منشوری پله‌دار و قابل تنظیم ساخته می‌شوند (شکل ۵۳).



شکل ۵۳

فعالیت عملی

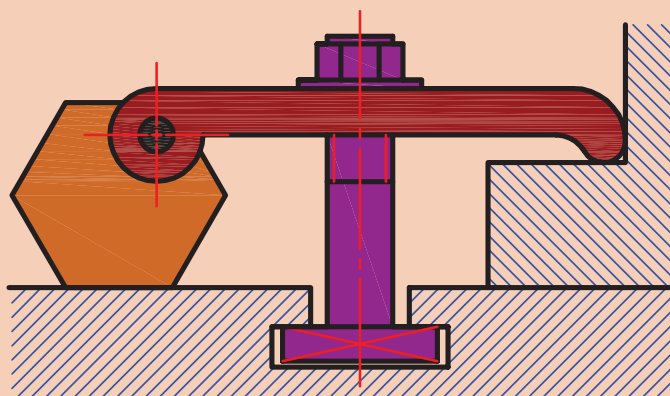


### بستن قطعه کار به وسیله روبنده

روند نمای انجام کار را ترسیم نمایید.

### وسایل و تجهیزات مورد نیاز

- ۱ روبنده ساده و روبنده قابل تنظیم
- ۲ قطعه کار با ابعاد مناسب
- ۳ چکش لاستیکی
- ۴ آچار مناسب




شکل ۵۴

نکات ایمنی

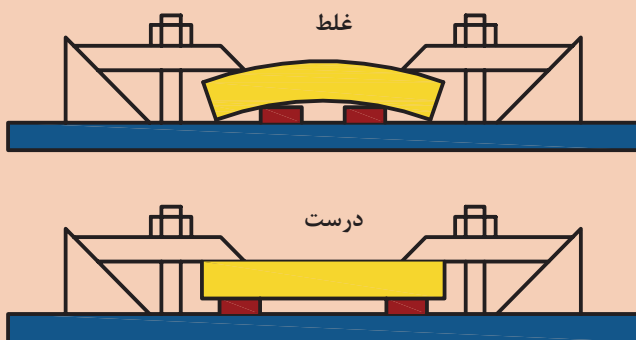


- پیچ و مهره روبنده تا حد امکان نزدیک به قطعه کار باشد.
- برای نصب از پیچ و آچار مناسب استفاده کنید.
- برای نصب از پیچ T شکل استفاده شود.
- ارتفاع تکیه‌گاه با ضخامت قطعه کار برابر باشد.
- از سفت کردن بیش از حد پیچ‌ها خودداری شود.





شکل ۵۵



شکل ۵۶

### مراحل انجام کار

- ۱ سطح میز و شیارهای میز را تمیز کنید.
- ۲ قطعه را تمیز کرده و روی میز قرار دهید.
- ۳ قطعات روبنده با پیچ مناسب را روی قطعه قرار دهید (ارتفاع دو طرف قطعه کار و زیرسری حتی‌الامکان یکی باشد) و به کمک آچار محکم کنید. در کار با زمان طولانی، به تناوب پیچ‌ها را آچارکشی کنید.
- ۴ در صورت استفاده از زیرکاری برای جلوگیری از خمیدگی، زیرکاری را در لبه‌های قطعه قرار دهید.
- ۵ قبل از شروع به براده‌برداری از عدم برخورد پیچ‌ها به ابزار، اطمینان حاصل کنید.

توجه

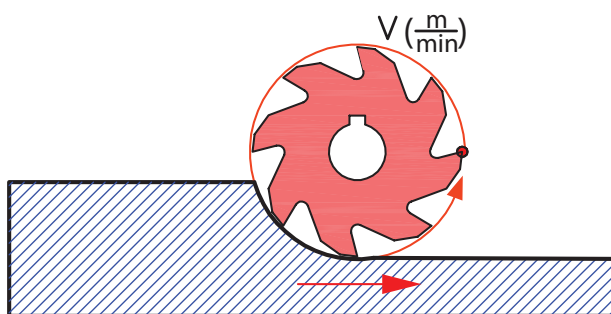


گاهی اوقات از روبنده به عنوان تکیه‌گاه قطعه برای جلوگیری از حرکت قطعه نیز استفاده می‌شود (شکل ۵۵).

## سرعت برشی، عده دوران و سرعت پیشروی

مقدمه:

از عوامل مؤثر در کیفیت سطح و زمان انجام کار و همچنین قیمت تمام‌شده قطعات تولیدی، انتخاب سرعت برش، عده دوران و سرعت پیشروی مجاز می‌باشد. لذا شایسته است با توجه به اهمیت این موضوع نسبت به انتخاب صحیح مقدار سرعت برش و با توجه به عوامل تأثیرگذار روی آن و سفارش شرکت‌های سازنده ماشین‌های ابزار اقدام شود (شکل ۵۷).



شکل ۵۷

**– سرعت برش (v):**

مسافتی که لبه برنده تیغه فرز روی قطعه کار در یک دقیقه طی می کند را سرعت برش می گویند. سرعت برش سرعتی است که با آن عمل براده برداری انجام می شود. واحد سرعت برش در فرزکاری متر بر دقیقه ( $\frac{m}{min}$ ) است.

**الف) محاسبه سرعت برش (v):** با توجه به شکل ۵۷ نقطه واقع بر محیط تیغه فرز در یک دور حرکت به اندازه محیط دایره پیرامون تیغه فرز حرکت می کند بنابراین:

$$d \times \pi = \text{مسافت پیموده شده یک نقطه در یک دور برابر با محیط دایره پیرامون تیغه فرز (شکل ۵۷)}$$

$$2 \times \pi \times d = \text{مسافت پیموده شده همان نقطه در ۲ دور}$$

$$n \times \pi \times d = \text{مسافت پیموده شده همان نقطه در } n \text{ دور}$$

$$v = d \times \pi \times n$$

$$v = \text{سرعت متر بر دقیقه } \left( \frac{m}{min} \right)$$

$$d = \text{قطر تیغه فرز mm}$$

$$n = \text{تعداد دور تیغه فرز RPM}$$

از آنجا که واحد سرعت برش متر بر دقیقه است و قطر تیغه فرز به میلی متر بیان می شود در تبدیل واحد کافی است که قطر تیغه فرز را به عدد ۱۰۰۰ تقسیم کنیم و فرمول نهایی سرعت برش چنین به دست می آید:

$$v = \frac{d \times \pi \times n}{1000}$$

**– عوامل تأثیرگذار بر سرعت برش در فرزکاری**

■ **جنس قطعه کار:** یکی از عواملی که در انتخاب سرعت برش تأثیر به سزایی دارد جنس قطعه کار است. اصولاً هرچه جنس قطعه کار سخت تر باشد سرعت برش کمتری انتخاب می شود.

■ **جنس تیغه فرز (ابزار):** انتخاب سرعت برش با جنس تیغه فرز ارتباط مستقیم دارد و معمولاً با انتخاب تیغه فرزهای با جنس سخت تر امکان انتخاب سرعت برش بیشتر وجود دارد.

■ **مایع خنک کننده:** مایع خنک کننده گرمای ناشی از تماس ابزار و قطعه کار را کاهش می دهد و به فرایند بهتر براده برداری و افزایش سرعت برش کمک می کند.

■ **سطح مقطع براده:** درخشن تراشی سطح مقطع براده زیاد و سرعت برش کم و در پرداخت کاری سطح مقطع براده کم و سرعت برش زیاد را می توان انتخاب کرد.

■ **توان ماشین:** با ماشین دارای ساختمان قوی تر و توان بیشتر می توان با سرعت برشی بیشتر ماشین کاری کرد.

■ **دوام ابزار:** فاصله زمانی تیز کردن تا کند شدن ابزار را دوام ابزار می گویند. انتخاب سرعت مناسب باعث افزایش دوام ابزار می شود. در صورت کند بودن تیغه فرز باید سرعت پیشروی از حد معمول کمتر انتخاب شود. (البته کار با تیغه فرز کند توصیه نمی شود).

**ب) استفاده از جدول سرعت برش:** کارخانه های تولید ماشین های ابزار، سرعت برش را با توجه به عوامل مؤثر بر سرعت برش و از طریق تحقیق و آزمایش و تجربه به صورت جدول هایی ارائه می نمایند که در محیط کار استفاده می شود (جدول ۴-۱).

جدول ۴-۱- سرعت برش و سرعت پیشروی در فرزکاری

جنس قطعه کار (استحکام کششی) $(\sigma \frac{N}{m^2})$	(سرعت برش $\frac{m}{min}$ )						Z مقدار پیشروی میز به ازای یک دندانه تیغه فرز بر حسب میلی متر mm				
	تیغه فرزهای SS			تیغه فرزهای تیغچه دار			SS			تیغچه دار	
							تیغه فرزهای غلطکی	پیشانی تراش	پولکی، انگشتی و فرم تراش		
	سطوح خشن	سطوح صاف	سطوح خیلی صاف	سطوح خشن	سطوح صاف	سطوح خیلی صاف				سطوح خشن	سطوح صاف
فولاد با استحکام											
$\frac{N}{m^2}$ تا ۶۰۰	۱۶	۲۵	۳۲	۱۵۰	۱۸۰	۲۰۰	۰/۲	۰/۱۵	۰/۰۷	۰/۴	۰/۰۸
$\frac{N}{m^2}$ ۶۰۰ تا ۷۰۰	۱۸	۲۲	۲۸	۱۱۰	۱۴۰	۱۸۰	۰/۱۵	۰/۱	۰/۰۶	۰/۳	۰/۰۸
$\frac{N}{m^2}$ ۷۰۰ تا ۸۰۰	۱۳	۲۰	۲۵	۱۰۰	۱۲۰	۱۶۰	۰/۱	۰/۱	۰/۰۶	۰/۳	۰/۰۸
$\frac{N}{m^2}$ ۸۰۰ تا ۱۱۰۰	۱۰	۱۶	۲۰	۵۰	۸۰	۱۰۰	۰/۱	۰/۱	۰/۰۶	۰/۲	۰/۰۸
بیشتر از $\frac{N}{m^2}$ ۱۱۰۰	۱۰	۱۲	۱۴	۵۰	۷۰	۹۰	۰/۱	۰/۱	۰/۰۶	۰/۱۵	۰/۰۸
چدن ۱۵	۱۳	۲۰	۲۵	۵۰	۶۳	۸۰	۰/۲۵	۰/۱۵	۰/۰۷	۰/۵	۰/۱
چدن ۲۵	۱۰	۱۶	۲۰	۴۰	۵۰	۶۳	۰/۲	۰/۱۵	۰/۰۷	۰/۴	۰/۱
آلیاژهای مس و روی	۳۲	۴۰	۵۰	۸۰	۱۰۰	۱۲۵	۰/۲	۰/۲	۰/۰۷	۰/۵	۰/۰۷
فلزات سبک	۲۰۰	۳۱۵	۴۰۰	۴۰۰	۵۰۰	۶۳۰	۰/۱	۰/۱	۰/۰۵	۰/۲	۰/۱

## تعیین عده دوران مناسب در فرزکاری

با انتخاب سرعت برش مجاز و داشتن قطر تیغه فرز مقدار عده دوران از رابطه زیر به دست می آید:

$$v = \frac{d \times \pi \times n}{1000} \Rightarrow n = \frac{v \times 1000}{d \times \pi}$$

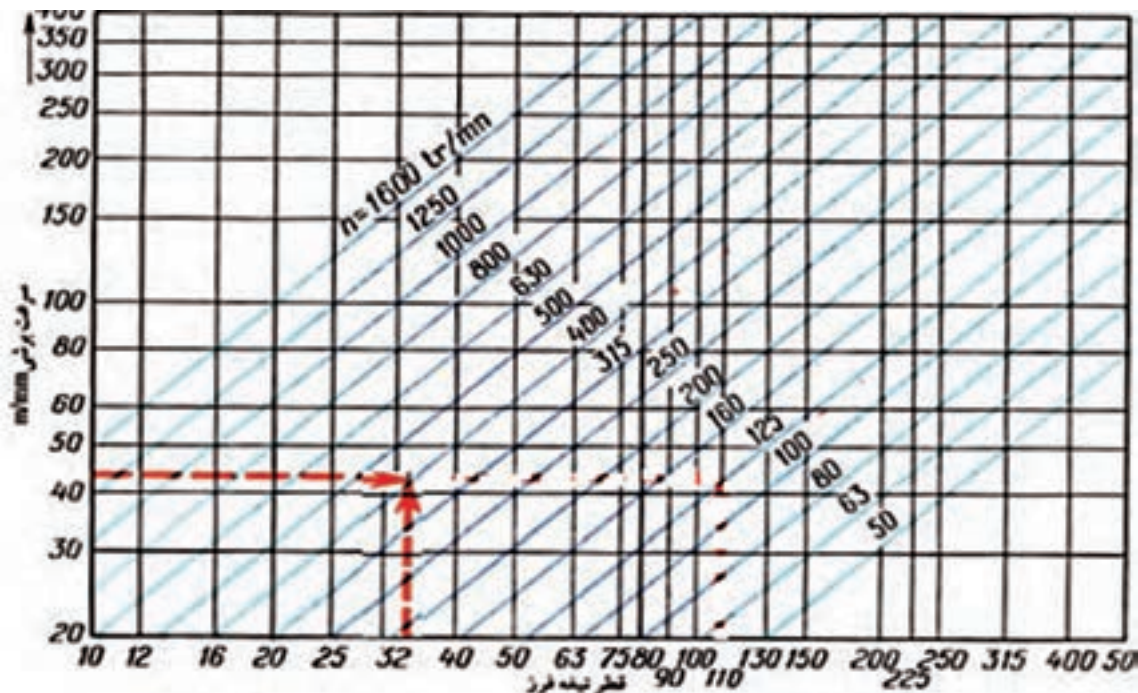
دوران به دست آمده ممکن است روی دستگاه قابل تنظیم نباشد که در چنین مواردی از نزدیک ترین عدد دوران موجود در جدول (ترجیحاً عدد کوچک تر) استفاده می شود.

مثال ۱: با تیغه فرز انگشتی به قطر  $d = 32\text{mm}$  قطعه ای از جنس چدن را فرزکاری خواهیم کرد. مطلوب است عده دوران تنظیمی ماشین در صورتی که جنس تیغه فرز از نوع تیغه دار و مقدار سرعت برش  $40$  متر بر دقیقه (از جدول سرعت برش) باشد:

$$n = \frac{v \times 1000}{d \times \pi} = \frac{40 \times 1000}{32 \times 3.14} = 398 \text{ RPM}$$

البته با توجه به دورهای قابل تنظیم، عده دوران  $400$  دور در هر دقیقه را تنظیم می کنیم. با داشتن قطر تیغه فرز و سرعت برش عده دوران ابزار را می توان از نمودار هم انتخاب کرد.

### نمودار تعیین عده دوران





دستگاه را بر روی عده دوران ۱۶۰ دور در دقیقه تنظیم نمایید.

■ تنظیم دور ، فقط در حالت خاموشی دستگاه انجام شود.

■ در صورت عدم درگیری دنده‌ها، از اعمال نیروی زیاد خودداری کرده و محور فرزگیر را کمی با دست بچرخانید.

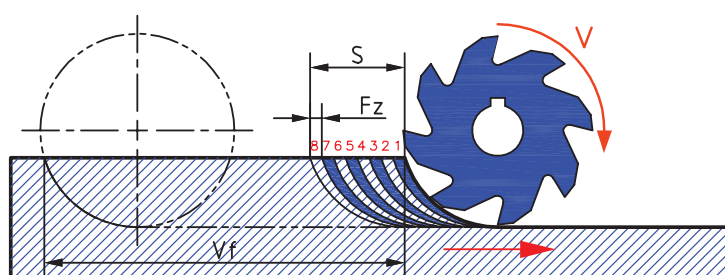
### مراحل انجام کار

- ۱ پس از پوشیدن لباس کار و کفش ایمنی و تحویل دستگاه، میز را به اندازه کافی از محور ابزارگیر دور کنید.
- ۲ دستگاه را در حالت خاموشی قرار دهید.
- ۳ با رعایت نکات ایمنی حلقه داخلی را به عقب کشیده، سپس حلقه بزرگ را بچرخانید به طوری که عده دوران مورد نظر در قسمت بالا قرار گیرد. سپس حلقه داخلی را چرخانیده تا در محل خود قرار گیرد. شکل مقابل ۱۲۵۰ دور و یا ۲۵۰۰ دور را نمایش می‌دهد. برای تنظیم دور ۲۰۰۰ باید حلقه داخلی را چرخاند تا علامت سمت راست روبه روی عده دوران مورد نظر قرار بگیرد.
- ۴ فلش روی حلقه کوچک روبه روی هر کدام از دورها قرار بگیرد، همان دور ایجاد می‌شود.
- ۵ اگر از کلید استارت I استفاده شود دورهای کم و اگر از استارت II استفاده گردد دور زیاد ایجاد می‌شود.



شکل ۵۸

موقع تعویض دور مطمئن شوید که آچار روی محور فرز گیر نباشد.



شکل ۵۹

- **سرعت پیشروی:** مقدار مسافتی که قطعه کار (بسته شده روی میز ماشین) در زمان یک دقیقه طی می‌کند را سرعت پیشروی گویند. مقدار پیشروی را می‌توان از طریق محاسبه و هم از جداول شرکت‌های سازنده ماشین ابزار

استخراج نمود. باید توجه شود که عوامل مؤثر بر سرعت برش در سرعت پیشروی هم می‌تواند تأثیرگذار باشد (شکل ۵۹).

#### الف- محاسبه سرعت پیشروی

$$V_F = s \times n$$

$f_z =$  مقدار پیشروی میز به ازای هر دندانه تیغه فرز

$S =$  مقدار پیشروی به ازای یک دور تیغه فرز

$V_F =$  سرعت پیشروی میز برحسب میلی‌متر بر دقیقه

$$S = f_z \times z$$

$Z =$  تعداد دندانه تیغه فرز

$n =$  عده دوران تیغه فرز در یک دقیقه

$$V_F = f_z \times z \times n$$



شکل ۶۰

مثال: سرعت پیشروی میز ماشین فرزی برای فرزکاری با انگشتی به قطر ۱۶ میلی‌متر که ۴ دندانه دارد اگر مقدار  $F_z = 0.05 \text{ mm}$  و تعداد دوران ۱۲۵ دور در هر دقیقه باشد را محاسبه کنید.

$$V_F = f_z \times z \times n \rightarrow V_F = 0.05 \times 4 \times 125 = 25 \frac{\text{mm}}{\text{min}}$$

حرکات طولی و عرضی و باردهی می‌تواند به دو صورت دستی و ماشینی (خودکار) تأمین گردد که در حالت دستی، با چرخش فلکه حرکت میز تأمین می‌شود که البته باید به صورت پیوسته و به آرامی انجام گیرد.

۱ برای فرزکاری قطعه‌ای از تیغه فرز غلتکی با قطر ۳۰ میلی‌متر استفاده می‌شود. در صورتی که سرعت برش ۱۵ متر بر دقیقه باشد، تعداد دوران قابل تنظیم چقدر است؟ (دورهای موجود دستگاه عبارتند از ۱۰۰۰، ۸۰۰، ۶۰۰، ۴۰۰، ۳۰۰، ۱۸۰، ۱۲۰، ۶۰، ۳۰) در صورت امکان روی دستگاه موجود در کارگاه تنظیم شود (با راهنمایی هنرآموز محترم و یا استادکار محترم).

۲ برای فرزکاری قطعه‌ای با عده دوران ۲۰۰ دور در دقیقه اگر مقدار پیشروی ۰/۸ میلی‌متر در هر دور باشد سرعت پیشروی چند میلی‌متر در دقیقه خواهد بود؟





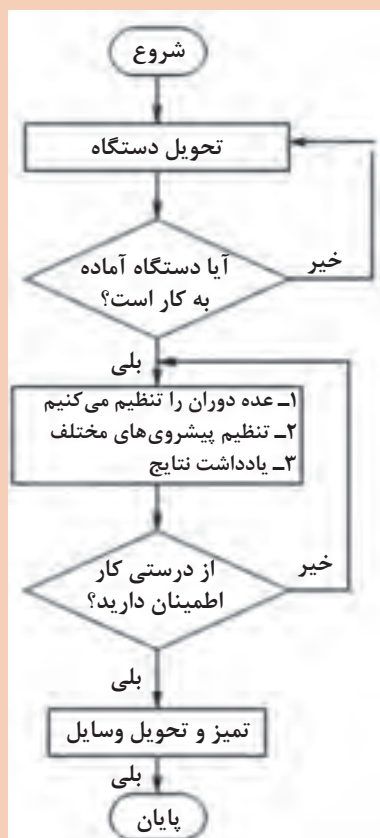
## تنظیم عده دوران و سرعت پیشروی دستگاه فرز

وسایل و تجهیزات مورد نیاز:

۱ دستگاه فرز

۲ قلم و کاغذ برای ثبت نتایج

### روند نمای انجام کار



■ تنظیم دور، فقط در حالت خاموشی دستگاه انجام گردد.

■ در صورت عدم درگیری دنده ها، از اعمال نیروی زیاد خودداری کرده و از فلکه ای که در بالای الکتروموتور قرار دارد استفاده کنید.

### مراحل انجام کار

۱ دستگاه فرز را تحويل بگیرید.

۲ پس از کنترل دستگاه برق دستگاه را وصل کنید.

۳ عده دوران های مختلف را با دقت در وضعیت قرارگیری فلکه تنظیم دور، تنظیم و یادداشت نمایید.

۴ پیشروی های مختلف را با دقت در وضعیت قرارگیری فلکه تنظیم پیشروی، تنظیم و یادداشت کنید.

## روش های فرز کاری ( همراه - معکوس )

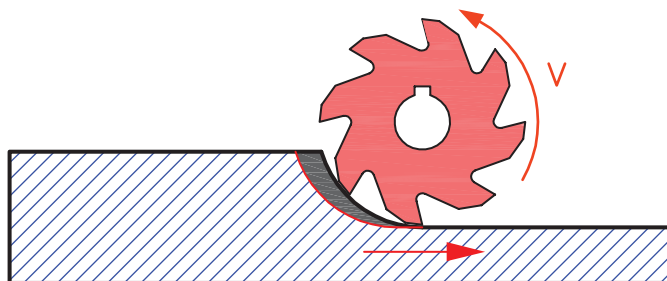
در حین انجام عملیات فرزکاری ضربه های پی در پی به قطعه وارد می شود که ممکن است باعث ایجاد خسارت در ابزار و باعث ناصافی سطح کار گردد. یکی از علل ضربه های پی در پی چند لبه بودن ابزار برنده است که غیر قابل اجتناب است و یکی دیگر از عوامل بروز این مشکل، لقی پیچ هادی ماشین می باشد که مقدار این لقی به



وسیله گوه‌های مخصوص که روی میز تعبیه گردیده است قابل تنظیم می‌باشد. به دلیل وجود همین لقی در هنگام کار با ماشین‌های فرز و استفاده از ابزارهایی که لبه برنده آنها در محیط قرار گرفته است، دو روش عمده براده‌برداری تعریف شده است که با توجه به شرایط کار و دستگاه باید از روش مناسب‌تر آن استفاده کرد. این دو روش براده‌برداری عبارت‌اند از:

### ۱- براده‌برداری همراه:

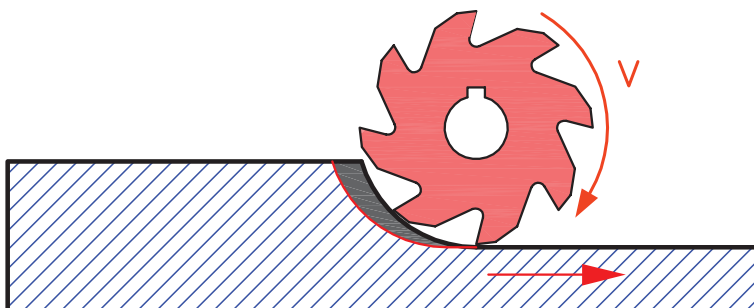
در این روش براده‌برداری، جهت دوران تیغه فرز و جهت پیشروی میز در نقطه تماس موافق و هم جهت می‌باشد و هر دندانه عمل برش را از حداکثر ضخامت براده شروع کرده و بدین جهت نیروی برش از حداکثر شروع شده و به حداقل می‌رسد. از محاسن این روش فشرده شدن قطعه کار به میز و نیاز به نیروی گیربندی کمتر است و امکان ماشین‌کاری قطعات نازک‌تر می‌باشد و از معایب آن این است که قطعه کار همراه با این نیرو به اندازه لقی بین دندانه پیچ و مهره میز به جلو رانده می‌شود و ایجاد نیروی ضربه‌ای می‌کند که می‌تواند باعث شکستن تیغه فرز گردد. به همین دلیل سعی می‌شود که از روش براده‌برداری همراه استفاده نشود مگر در ماشین‌هایی که برای براده‌برداری موافق طراحی شده‌اند (شکل الف - ۶۱).



شکل الف ۶۱

### ۲- روش براده‌برداری معکوس:

در این روش براده‌برداری جهت دوران تیغه فرز و جهت پیشروی میز ماشین در نقطه تماس بر خلاف یکدیگر می‌باشد. در این حالت دندانه تیغه فرز ابتدا از حداقل ضخامت براده شروع کرده و ضمن دوران تیغه فرز و پیشروی میز مقدار بار به حداکثر می‌رسد. بنابراین هریک از دندانه‌ها قبل از درگیری با کار، روی سطح کار کمی سر خورده و سپس با آن درگیر می‌شود که این عمل باعث کند شدن سریع تیغه فرز است و سطح موج‌دار می‌شود. اشکال دیگر این روش این است که نیروی برش سعی در جدا کردن قطعه کار از سطح میز ماشین را دارد. بنابراین قطعه کار باید کاملاً مطمئن و محکم به میز بسته شود. از محاسن این روش این است که نیروی برش قطعه کار را در جهت مخالف فشار داده و در نتیجه لقی پیچ میز ماشین گرفته می‌شود. به همین دلیل در ماشین‌های معمولی (که دارای پیچ‌های حرکتی معمولی هستند) این روش بهتر است (شکل ب - ۶۱).




شکل ب ۶۱



- در موقع کار با ماشین فرز معمولی بهتر است از روش براده برداری معکوس استفاده کنیم.
- در هنگام شروع براده برداری از جهت دوران صحیح تیغه فرز مطمئن شوید.

## گونیا کردن سطوح در فرز کاری



شکل ۶۲

در شکل مقابل برای اینکه اجزای قطعه به طور صحیح کنار هم قرار گیرند چه شاخصه مهمی باید داشته باشند؟ از آنجا که قطعات تولیدی در فرز کاری بیشتر به فرم مکعبی می باشند و دارای سطوح موازی و متعامد هستند لازم است که حتماً این قطعات به عنوان قطعه مبنا گونیاکاری شوند تا در مراحل بعد موضوعاتی نظیر ایجاد شیار، سوراخ و غیره در بحث تولرانس های هندسی نسبت به سطوح مبنا دچار اشکال نشوند (شکل ۶۲).

### تعامد (گونیا بودن دوسطح)

برای کنترل زوایای یک قطعه می توان از وسایل ثابت و یا متغیر اندازه گیری زوایا استفاده کرد. یکی از وسایل اندازه گیر ثابت گونیاها و از وسایل اندازه گیر متغیر زاویه سنج ها را می توان نام برد. گونیا وسیله ای است که از آن برای عملیات خط کشی، کنترل زوایا و بعضاً اندازه گیری طول و کنترل تعامد، تختی و مستقیمی سطوح و ... در کارگاه و آزمایشگاه استفاده می شود (شکل ۶۳).



گونیا ی دقیق (مویی)

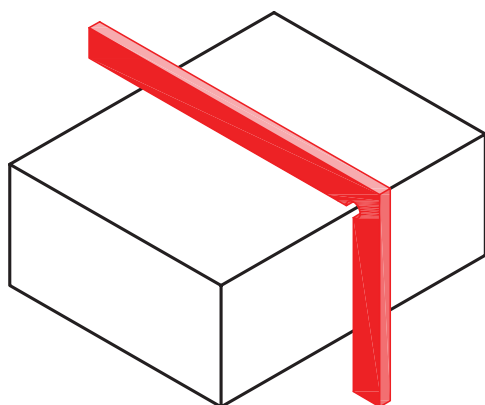


گونیا با تیغه مدرج

شکل ۶۳

قبل از استفاده کردن گونیا لازم است از کالیبره بودن آن اطمینان حاصل شود.





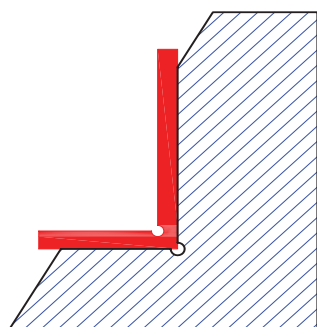
شکل ۶۴

**روش کنترل با گونیا**  
هنگام کار با گونیا توجه شود که دو ضلع گونیا بر سطح کار عمود قرار گیرند (شکل ۶۴).

کنترل گونیایی بودن زاویه خارجی قطعه کار، دو ضلع گونیا را عمود بر سطح مورد نظر به نحوی که در مقابل چشم باشد قرار دهید و از طریق میزان عبور نور سطح را کنترل کنید (شکل ۶۵).



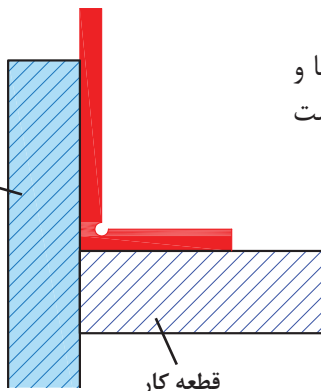
شکل ۶۵



شکل ۶۶

برای کنترل زوایای داخلی، پایه گونیا را روی سطح افقی قرار دهید و سپس آن را به سطح عمودی نزدیک کنید (شکل ۶۶).

تکیه‌گاه کمکی  
(منشور سنگ خورده)



قطعه کار

شکل ۶۷

کنترل تعامد دوسطح یک قطعه، با استفاده از گونیا و تکیه‌گاه کمکی (منشور استاندارد) نیز امکان‌پذیر است (شکل ۶۷).

## تعریف گونیاکاری:

گونیا کردن قطعه به مجموعه عملیات فرزکاری گفته می‌شود که به منظور عمود کردن تمام یا بعضی از وجوه یک بلوکه مکعب مستطیل انجام می‌گیرد.

فعالیت عملی



### نام قطعه: روبنده

جنس: St37

ابعاد مواد اولیه:  $104 \times 38 \times 20$  mm

تولرانس: ISO ۲۷۶۸ - f

کیفیت سطوح:  $Ra = 6.3$

### تجهیزات و ابزارهای مورد نیاز:

۱ دستگاه فرز با امکانات لازم جهت بستن تیغه فرز و

قطعه کار

۲ تیغه فرز مناسب

۳ زیرکاری

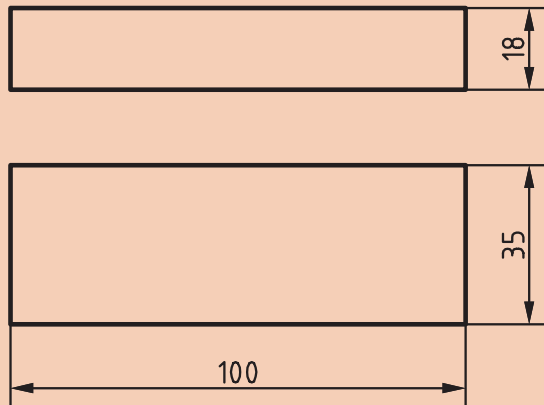
۴ گونیای مویی

۵ کولیس

۶ چکش پلاستیکی

۷ سوهان تخت جهت پلیسه گیری

قطعه مکعب مستطیلی به ابعاد اولیه  $104 \times 38 \times 20$  mm را فرزکاری نمایید.



نکات ایمنی



۱ از عینک ایمنی و لباس کار مناسب استفاده نمایید.

۲ وضعیت دستگاه را کنترل نمایید و در صورت کمبود روغن یا وجود مشکلی دیگر، دستگاه را خاموش و به هنرآموز محترم اطلاع دهید.

۳ قبل از راه اندازی از محکم بودن قطعه کار و تیغه فرز اطمینان حاصل کنید.

۴ تنظیم اهرم‌های تغییر دور و پیشروی در حالت خاموش بودن دستگاه انجام شود.

۵ باز و بسته کردن و کنترل ابعاد قطعه در زمان خاموش بودن دستگاه صورت گیرد.

۶ دستگاه روشن و در حال انجام کار را رها ننمایید.

۷ از مایع خنک کننده مناسب استفاده نمایید.

۸ دستگاه مجهز به اتصال زمین ارتینگ (Earthing) باشد.

۹ در صورت استفاده از فرز افقی یا تاقان‌ها باید روغن کاری شوند.

## مراحل انجام کار

۱ پس از انتخاب دستگاه فرز، تیغه فرز مناسب روی دستگاه نصب کنید.



شکل ۶۸

۲ تعداد دور و سرعت پیشروی مناسب را محاسبه و تنظیم نمایید.  
۳ گیره مناسب انتخاب و پس از تمیز نمودن سطح میز دستگاه و گیره آن را روی میز دستگاه نصب و سپس به وسیله ساعت اندازه‌گیری آن را با میز تنظیم کنید (شکل ۶۹).



شکل ۶۹

۴ قطعه را به طور مطمئن در گیره محکم کنید. برای جلوگیری از انحراف قطعه در حین کار و پر کردن زیر قطعه از زیرکاری مناسب (قطعات استاندارد پرداخت شده) استفاده کنید (شکل ۷۱).

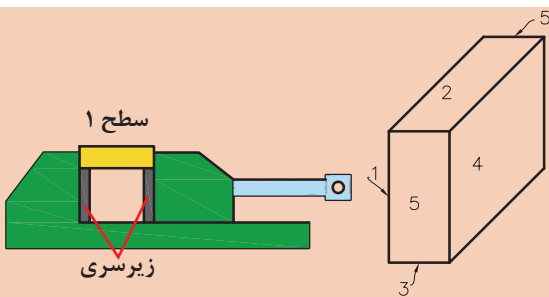


شکل ۷۰

۵ سطح کوچک‌تر و صاف‌تر از قطعه مورد نظر را به وسط فک ثابت گیره تکیه داده و گیره را کمی محکم نموده و ضمن کنترل افقی بودن قطعه آن را محکم کنید.  
برای اطمینان از چسبیدن قطعه به زیرکاری در هنگام محکم کردن قطعه از چکش پلاستیکی استفاده نمایید (شکل ۷۰).

جهت محکم کردن گیره و تیغه‌فرز از چکش و اهرم استفاده نشود.

هشدار



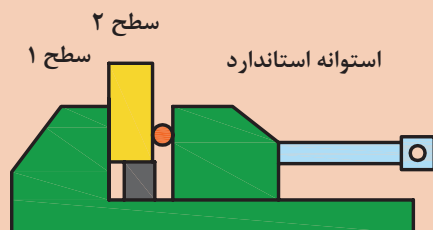
شکل ۷۱

شکل ۷۲

۶ با رعایت اصول ایمنی و با اطمینان از فاصله مناسب تیغه‌فرز و قطعه کار، دستگاه را روشن کنید و پس از مماس کردن و تنظیم حلقه میز عمودی دستگاه به آرامی شروع به براده‌برداری کنید (سطح شماره ۱). برای مماس کردن دستگاه را روشن کنید و به قطعه نزدیک کنید. کاغذ نازک و بلند را بین تیغه‌فرز و قطعه کار قرار داده و تیغه‌فرز را به آرامی به طرف قطعه حرکت دهید تا کاغذ حرکت کند، که نشان‌دهنده تماس ابزار با قطعه کار است.

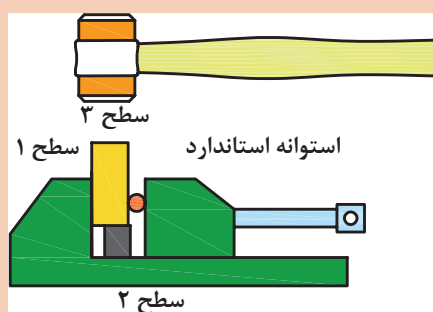


در مرحله خشن کاری ابعاد قطعه تا اندازه ۰/۴ میلی متر بزرگ تر از اندازه قطعه نهایی در نظر گرفته شود.



شکل ۷۳

۷ قطعه را چرخانیده به گونه‌ای که سطح براده‌برداری شده (سطح شماره ۱) به فک ثابت گیره تکیه داده شود و در طرف مقابل بین قطعه و فک متحرک گیره یک میله استوانه‌ای استاندارد قرار دهید و سپس آن را محکم کنید و سطح شماره ۲ را فرز کاری نمایید. (افقی بودن قطعه کنترل شود) استفاده از میله استاندارد می‌تواند خطای ناشی از لقی فک متحرک گیره و ناصافی قطعه را به حداقل برساند، البته با توجه به کاهش سطح گیره‌بندی باید مقدار عمق براده کمتر انتخاب گردد (شکل ۷۳).



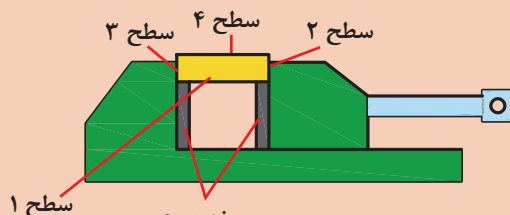
شکل ۷۴

۸ سطح تراشیده شده در مرحله قبل (سطح شماره ۲) را به زیرکاری تکیه داده و گیره را محکم کنید و سطح شماره ۳ را ماشین کاری نمایید. برای اطمینان از چسبیدن قطعه به زیرکاری در هنگام محکم کردن قطعه از چکش پلاستیکی استفاده نمائید (شکل ۷۴).



در هر مرحله در صورت نیاز، به کمک سوهان قطعه را پلیسه‌گیری نمایید.

۹ در این مرحله سطح تراشیده شده (سطح شماره ۳) را به فک ثابت گیره تکیه داده و همانند مراحل قبل سطح شماره ۴ را ماشین کاری نمایید. لازم به ذکر است در این مرحله نیازی به استفاده از میله استوانه‌ای نیست.



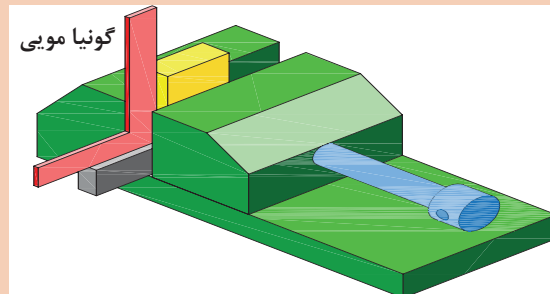
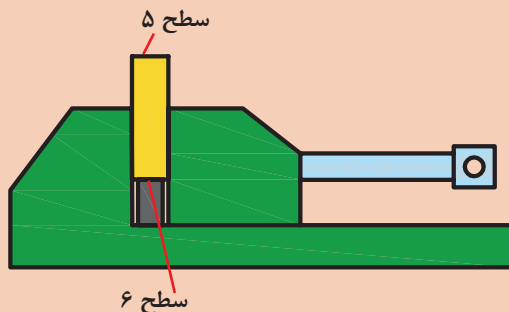
شکل ۷۵

زیرسری

به نظر شما چرا در بعضی از مراحل بستن قطعه کار از میله استوانه‌ای استفاده نشده است؟



**۱۰** برای تنظیم سطح شماره ۵ از گونیا مویی استفاده می‌شود. یک تیغه گونیا را به بدنه قطعه تکیه داده و پایه آن را روی سطح زیرکاری گذاشته و قطعه را به آرامی محکم کنید (شکل ۷۶).



شکل ۷۶

**۱۱** برای ماشین‌کاری سطح آخر قطعه (سطح شماره ۶) به همان روش سطح شماره ۵ عمل می‌شود، البته استفاده از گونیا جهت تنظیم در این مرحله لازم نیست.



در صورت بلند بودن طول قطعه کار نسبت به ابعاد گیره، بهتر است برای فرزکاری سطوح ۵ و ۶ مطابق شکل عمل کنید (شکل ۷۷).

شکل ۷۷

توجه



علت استفاده نکردن از گونیا در تنظیم قطعه برای ماشین‌کاری سطح شماره ۶ چیست؟

پرسش



**۱۲ پرداخت کاری-** ماشین‌کاری‌های مرحله اول برای خشن‌کاری انجام شد و برای ایجاد اندازه نهایی با دقت مورد نظر، یک مرحله دیگر ماشین‌کاری دقیق بر روی تمام سطوح صورت می‌گیرد.

**۱۳** قطعه کار را باز کرده پس از پلیسه‌گیری کنترل نمایید.

**۱۴** قطعه کار و گزارش کار را به هنر آموز ارائه نمایید.





با مشورت با سایر هنرجویان مراحل انجام پرداخت کاری قطعه را نوشته و در صورت تأیید هنرآموز محترم اجرا نمایید.

### تمیز کردن دستگاه:

پس از پایان ماشین کاری باید براده و مواد خنک کننده باقیمانده روی دستگاه را به طور مناسب تمیز کرد. برای این منظور از پارچه های تنظیف که برای این کار مناسب هستند استفاده نمایید. ابتدا براده های درشت را به وسیله قلم مو از روی دستگاه پاک کنید و سپس به کمک پارچه سطوح را کاملاً از براده و مواد خنک کننده پاک نمایید. مطمئن شوید که هیچ گونه مواد خنک کننده روی دستگاه و بین سوپرت ها باقی نماند، چرا که باعث تخریب سطوح دستگاه می شوند. در پایان سطوح لغزنده دستگاه را به وسیله روغن چرب کاری کنید و در انتها اطراف دستگاه را تمیز و براده ها را به محل تعیین شده در کارگاه منتقل کنید.

هیچ گاه در موقع روشن بودن دستگاه فرز اقدام به نظافت آن نکنید.

هشدار



تحقیق



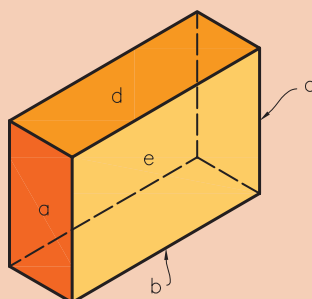
فعالیت  
کارگاهی



اهمیت گونیا کاری و موارد کاربرد آن را بررسی و نتیجه را در کلاس ارائه نمایید.

### کنترل قطعه با گونیای مویی

جدول زیر را با توجه به قطعه ای که ساخته اید (مطابق شکل روبه رو) کامل کنید.



شکل ۷۸

### کنترل گونیایی قطعه نسبت به نقشه با گونیای مویی

سطح a نسبت به سطح d	<input type="checkbox"/> نیاز به اصلاح دارد: <input type="checkbox"/> نیاز به اصلاح ندارد:	شرح اصلاح:
سطح c نسبت به سطح b	<input type="checkbox"/> نیاز به اصلاح دارد: <input type="checkbox"/> نیاز به اصلاح ندارد:	شرح اصلاح:
سطح e نسبت به سطح a	<input type="checkbox"/> نیاز به اصلاح دارد: <input type="checkbox"/> نیاز به اصلاح ندارد:	شرح اصلاح:
سطح e نسبت به سطح b	<input type="checkbox"/> نیاز به اصلاح دارد: <input type="checkbox"/> نیاز به اصلاح ندارد:	شرح اصلاح:

به کمک کولیس ۵mm/۰، قطعه ساخته شده را کنترل کنید و جدول را کامل کنید.

کنترل ابعادی قطعه نسبت به تolerانس‌های داده شده در نقشه با کولیس ۵/۰ میلی‌متر

طول قطعه = اندازه نقشه =	نیاز به اصلاح دارد: <input type="checkbox"/> نیاز به اصلاح ندارد: <input type="checkbox"/>	شرح اصلاح:
عرض قطعه = اندازه نقشه =	نیاز به اصلاح دارد: <input type="checkbox"/> نیاز به اصلاح ندارد: <input type="checkbox"/>	شرح اصلاح:
ارتفاع قطعه = اندازه نقشه =	نیاز به اصلاح دارد: <input type="checkbox"/> نیاز به اصلاح ندارد: <input type="checkbox"/>	شرح اصلاح:

فعالیت عملی



### گونیاکاری قطعه شماره ۱ گیره:

جنس: st۳۷

ابعاد مواد اولیه: ۱۵×۱۰۰×۲۵۵ mm

تولرانس: ISO ۲۷۶۸ - f

تجهیزات و ابزارهای مورد نیاز:

۱ دستگاه فرز با امکانات لازم جهت بستن تیغه فرز و قطعه کار

۲ تیغه فرز پیشانی تراش

۳ زیرکاری مناسب


۴ گونیای مویی

۵ کولیس

۶ چکش پلاستیکی

۷ سوهان تخت جهت

پلیسه گیری





- ۱ از عینک ایمنی و لباس کار مناسب استفاده نمایید.
- ۲ وضعیت دستگاه را کنترل نمایید و در صورت کمبود روغن یا وجود مشکلی دیگر، دستگاه را خاموش و به هنرآموز محترم اطلاع دهید.
- ۳ قبل از راه اندازی از محکم بودن قطعه کار و تیغه فرز اطمینان حاصل کنید.
- ۴ تنظیم اهرم‌های تغییر دور و پیشروی در حالت خاموش بودن دستگاه انجام شود.
- ۵ باز و بسته کردن و کنترل ابعاد قطعه در زمان خاموش بودن دستگاه صورت گیرد.
- ۶ دستگاه روشن و در حال انجام کار را رها ننمایید.
- ۷ از مایع خنک کننده مناسب استفاده نمایید.
- ۸ دستگاه مجهز به سیم اتصال زمین (ارت) باشد.

### مراحل انجام کار



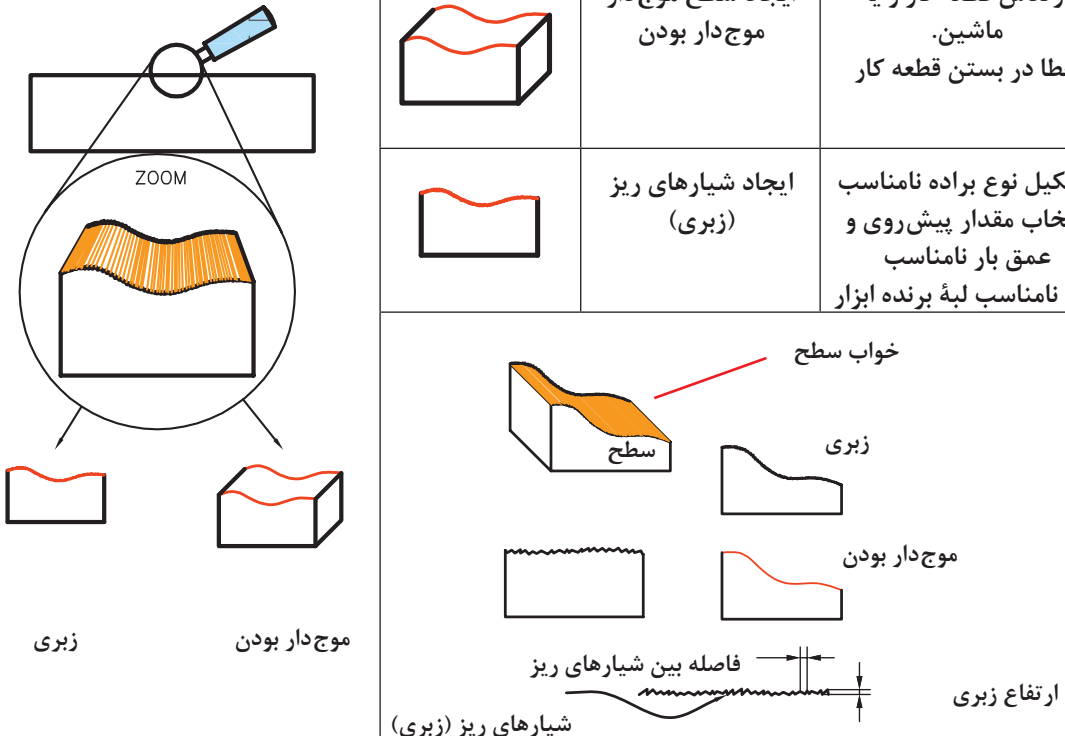
- ۱ قطعه کار را خط کشی کرده و سپس به گیره ببندید.
- ۲ تیغه فرز پیشانی تراش را روی دستگاه نصب کنید و عده دوران و سرعت پیشروی مناسب را تنظیم نمایید.
- ۳ با رعایت موارد ایمنی دستگاه را روشن نمایید.
- ۴ تیغه فرز را با کار مماس کنید و حلقه تنظیم حرکت عمودی را روی صفر تنظیم کنید.
- ۵ عمق بار را تنظیم و براده برداری را تا پایان کار ادامه دهید و سپس دستگاه را خاموش نمایید.
- ۶ اندازه و کیفیت سطوح تولید شده را کنترل نمایید.
- ۷ دستگاه را تمیز کنید و لوازم را تحویل دهید و گزارش کار و قطعه را به هنرآموز تحویل نمایید.

### نقشه خوانی و علائم کیفیت سطح

یکی از عوامل مهم در تولید قطعات، کیفیت سطح است. با توجه به استفاده از دستگاه‌های مختلف برای تولید قطعه، محصول تولید شده دارای کیفیت سطح متفاوت می‌باشد.

اغلب قطعات صنعتی به کیفیت سطح مناسبی نیاز دارند تا به نحوی مطلوب کار کنند، ولی ایجاد کیفیت سطح بیش از حد مورد نیاز، باعث افزایش هزینه تولید می‌شود. معمولاً سطوح آزاد قطعه (سطحی که با قسمت مجاور در تماس نیست) دارای کیفیت سطح پایین‌تری است و حتی بدون عملیات ماشین‌کاری قابل استفاده است در حالی که سطوحی که در تماس با یکدیگرند دارای کیفیت سطح بالاتری می‌باشند. بنابراین در صنعت هر سطح تا آن اندازه پرداخت می‌شود که بتواند وظیفه محوله را با دقت لازم انجام دهد. جهت جلوگیری از پرداخت کاری بیش از حد یک قطعه، میزان کیفیت سطح قطعه به وسیله نمادهایی در روی نقشه نمایش داده می‌شود.

می‌دانیم علی‌رغم اینکه سطوح تولید شده در بعضی از فرایندهای ماشین‌کاری از کیفیت بسیار بالایی برخوردارند، ولی به‌طور مطلق صاف نیستند و نسبت به سطح ایده‌آل دارای انحرافات مثل اعوجاج (موج‌دار بودن) و یا شیارهای ریز، ناشی از حرکت ابزار (خواب ابزار) می‌باشد (شکل ۷۹).

علت	معایب سطح	شکل
ارتعاش قطعه کار و یا ماشین. خطا در بستن قطعه کار	ایجاد سطح موج‌دار موج‌دار بودن	
تشکیل نوع براده نامناسب انتخاب مقدار پیش‌روی و عمق بار نامناسب فرم نامناسب لبه برنده ابزار	ایجاد شیارهای ریز (زبری)	
		

شکل ۷۹

به نظر شما عوامل مؤثر در زبری سطح قطعه کدام هستند؟

پرسش



### ارتفاع زبری سطح

ارتفاع زبری سطح عبارت است از ارتفاع بلندترین نقطه زبری تا پایین‌ترین نقطه آن در یک طول معین و محدود (طول نمونه). زبری سطح به عوامل زیر بستگی دارد:

- **سرعت پیشروی:** سرعت پیشروی کمتر باعث کاهش زبری سطح می‌شود و سطح صاف‌تر خواهد بود.
- **شعاع نوک ابزار:** هرچه شعاع گردی نوک رنده بیشتر انتخاب شود، زبری سطح کمتر و صافی سطح بیشتر می‌شود.
- **سرعت برش:** سرعت برش بیشتر، سطح صاف‌تری را ایجاد می‌کند.
- **مایع خنک‌کاری (مایع برش):** استفاده از مایع خنک‌کاری باعث افزایش کیفیت سطح، سرعت برش و عمر ابزار می‌شود.

جدول زیر رابطه ارتفاع زبری با سرعت برش، مقدار پیشروی و شعاع نوک ابزار را نشان می‌دهد:

جدول ۵-۱- رابطه بین زبری سطح با سرعت برش

ردیف	سرعت برش $V$ متر بر دقیقه .....	مقدار پیشروی (.....) (میلی متر در هر دور) mm	شعاع نوک ابزار برش $r$ میلی متر (mm)	ارتفاع زبری $\mu m$	خروجی دستگاه زبری سنج
۱	۱۵۰	۰/۴	۰/۸	۲۴	
۲	۱۵۰	۰/۲	۰/۸	۱۵	
۳	۲۱۰	۰/۱	۰/۸	۱۰	
۴	۱۰	۰/۰۵	۰/۸	۴	
۵	۱۵۰	۰/۴	۱/۶	۱۵	
۶	۱۵۰	۰/۲	۱	۱۲	
۷	۲۱۰	۰/۱	۱/۶	<	
۸	۳۱۰	۰/۰۵	۱/۶	۶	



شکل ۸۰

برای اندازه‌گیری و کنترل کیفیت سطح از زبری سنج مقایسه‌ای و تجهیزات الکترونیکی استفاده می‌شود. در نوع الکتریکی یک میله لمس‌کننده بر روی سطح قطعه به حرکت درمی‌آید و زبری سطح را حس کرده و پس از پردازش، مقدار آن بر حسب میکرومتر قابل مشاهده و چاپ است (شکل ۸۰). به این وسیله زبری سنج گویند.

### روش‌های تعیین زبری سطح

سه روش متداول برای تعیین زبری سطح عبارت‌اند از:  $Ra$  و  $Rz$  و مثلث ( $\nabla$ )

**روش  $Ra$** : عبارت است از میانگین ارتفاعات زبری سطح.

**روش  $Rz$** : عبارت است از میانگین بلندترین قله‌های (ارتفاعات) زبری به تعداد ۵، در طول نمونه.

**روش مثلث ( $\nabla$ )**: اکنون کمتر مورد استفاده قرار می‌گیرد.

**تعیین زبری به روش مثلث**: در استانداردهای قدیمی استفاده از علائم مثلثی رایج بوده است که در چهار گروه دسته‌بندی می‌شد ( $\nabla$ ,  $\nabla \nabla$ ,  $\nabla \nabla \nabla$ ,  $\nabla \nabla \nabla \nabla$ )

در هنگام براده‌برداری خواه ناخواه خطوطی روی کار باقی می‌ماند. در جدول با توجه به عمق ناصافی اعدادی داده شده است.

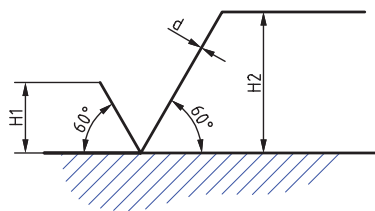
جدول ۱-۶- مقایسه روش های زبری سطح و درجه زبری

کیفیت سطح	سطح خام	خشن تراشی	پرداخت کاری	پرداخت ظریف	پرداخت خیلی ظریف
روش های تولید	نوردکاری ریخته گری دقیق (دایکاست)	تراشکاری و فرزکاری غیر دقیق و آره کاری	تراشکاری و فرزکاری دقیق و سوراخکاری	سنگزنی و برقوکاری	سایش با پارچه هونن و لپن
روش ها	~	▽	▽	▽	▽
Ra (μm)	✓	۱۲.۵ / ۲۵ / ۵۰	۶.۳ / ۳.۵ / ۱.۶	۰.۸ / ۰.۴ / ۰.۲	۰.۱ / ۰.۰۵ / ۰.۰۲۵
Rz (μm)	✓	Rz۱۶۰ / Rz۱۰ / Rz۴۰	Rz۲۵ / Rz۱۲.۵ / Rz۶.۳	Rz۳ / Rz۱.۵ / Rz۰.۸	Rz۰.۴ / Rz۰.۲ / Rz۰.۱
N	—	N۱۲ / N۱۱ / N۱۰	N۹ / N۸ / N۷	N۶ / N۵ / N۴	N۳ / N۲ / N۱

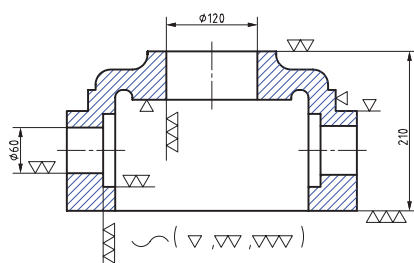
در استاندارد ایزو می توان به جای مقادیر Ra از مراحل دوازده گانه N۱ تا N۱۲ مطابق جدول بالا استفاده کرد.

روش استفاده از علائم روی نقشه

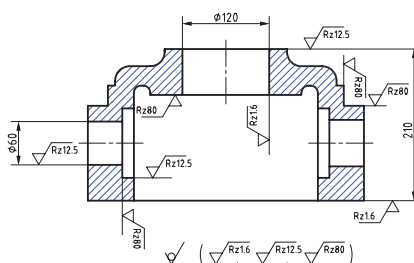
	ارتفاع حروف h به mm						
	2/5	3/5	5	7	10	14	20
d	0/25	0/35	0/5	0/7	1/0	1/4	2/0
H <sub>1</sub>	3/5	5	7	10	14	20	28
H <sub>2</sub>	8	11	15	21	30	42	60



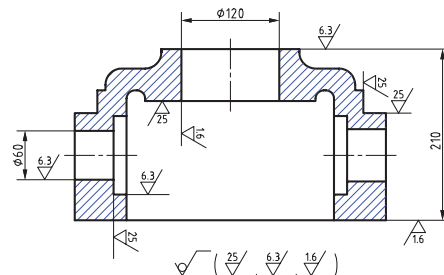
شکل ۸۱



شکل ۸۲



شکل ۸۳



شکل ۸۴

در پای نقشه علائمی را مشاهده می کنید. علامت داخل پرانتز معرف کیفیت سطح به کار رفته در سطوح قطعه می باشد و علامت خارج پرانتز کیفیت بقیه سطوح قطعه که دارای علامت نیستند را نشان می دهد.



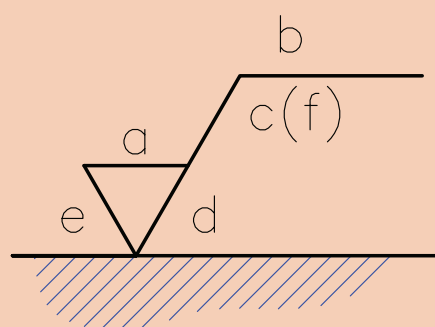
آیا استفاده از روش درجه‌بندی مثلی برای کیفیت سطح از دقت لازم برخوردار است؟

در کارگاه کیفیت سطح چند قطعه تولید شده را به صورت چشمی و همچنین با لمس کردن بررسی و نتایج را با هنرآموز به بحث بگذارید.

**زبری سنج مقایسه‌ای:** ساده‌ترین وسیله اندازه‌گیری زبری سطوح، مقایسه زبری سطح قطعه کار با سطح نمونه‌های موجودی می‌باشد که دارای ارتفاع زبری معینی می‌باشند، در این روش به کمک مقایسه چشمی سطح مورد نظر؛ با سطوح موجود در نمونه، میزان زبری مشخص می‌شود (شکل ۸۵).



شکل ۸۵



شکل ۸۶

جایگاه نشانه‌ها نسبت به علامت کلی نماد مطابق شکل زیر است:

(a) مقدار زبری سطح  $Ra$  بر حسب  $\mu m$  (یا عدد درجه زبری)

(b) روش تولید، نوع پوشش و ...

(c) طول نمونه

(d) جهت شیار (جهت تولید یا خواب ابزار)

(e) اضافه تراش (مقدار مجاز ماشین کاری)

(f) سایر مقادیر کیفیت سطح که داخل پرانتز نوشته می‌شود (مانند  $Rz$ )

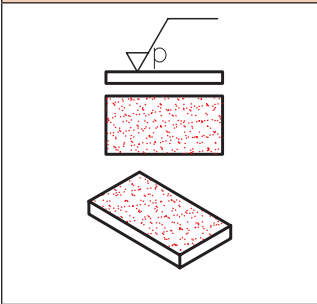
**جهت شیارها (جهت تولید یا خواب ابزار)**

نقش و طرح باقیمانده روی سطح قطعه کار بر اثر ماشین کاری را جهت تولید یا خواب ابزار می‌گویند.

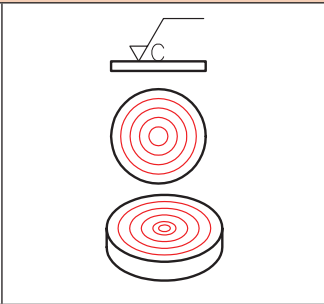
امتداد و جهت شیار ناشی از حرکت ابزار توسط نمادهای زیر معرفی می‌گردند، این شیارها (خواب) روی نیروی اصطکاک قطعات مونتاژکاری که روی هم حرکت می‌کنند تأثیر دارند.



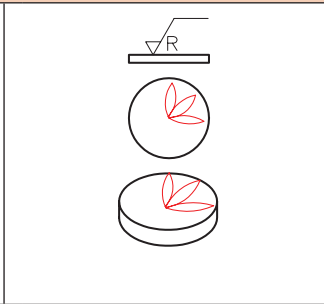
خواب‌های چند جهته ابزار



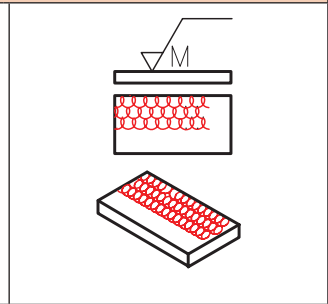
P برای حالتی که سطح تولید شده فاقد شیار و جهت است مانند اسپارک.



C برای حالتی که جهت تولید نسبت به مرکز حالت دایره‌ای دارد مانند پیشانی تراشی روی ماشین تراش.

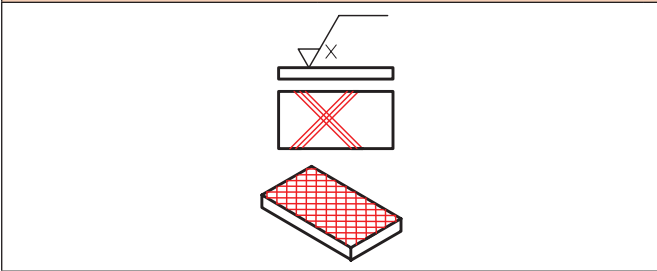


R برای حالتی که جهت تولید نسبت به مرکز قطعه حالت شعاعی دارد مانند سنگ زنی با پیشانی سنگ بدون حرکت پیشروی.

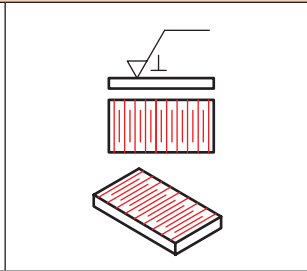


M جهت تولید چند تایی  
یعنی سطح در جهات مختلف  
تولید می شود مانند فرزکاری با  
پیشانی تیغه فرز.

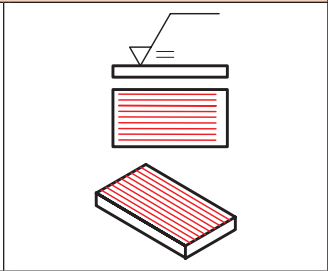
خواب‌های ساده ابزار



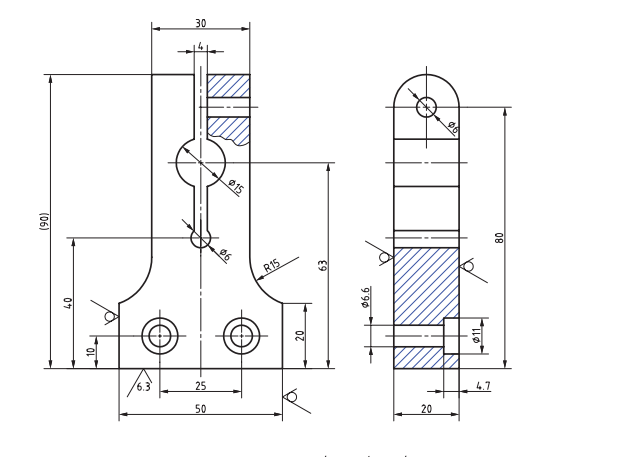
X برای حالتی که جهت تولید نسبت به سطح علامت گذاری شده حالت ضربدری دارد. مانند شابر کاری.



۱- برای حالتی که جهت تولید عمود بر سطح علامت گذاری شده است مانند سنگ زنی قطعات تخت و صفحه تراشی.



= برای حالتی که جهت تولید موازی با سطح علامت گذاری شده است مانند سنگ زنی قطعات تخت و صفحه تراشی.



شکل ۸۷ ۵۹

۱ در نقشه سمت چپ به جای مقادیر Ra از چه درجه زبری می توان استفاده کرد؟

۲ تفاوت روش های زبری سطح را بنویسید.

۲ تفاوت روش‌های زبری سطح را بنویسید.

پرسش



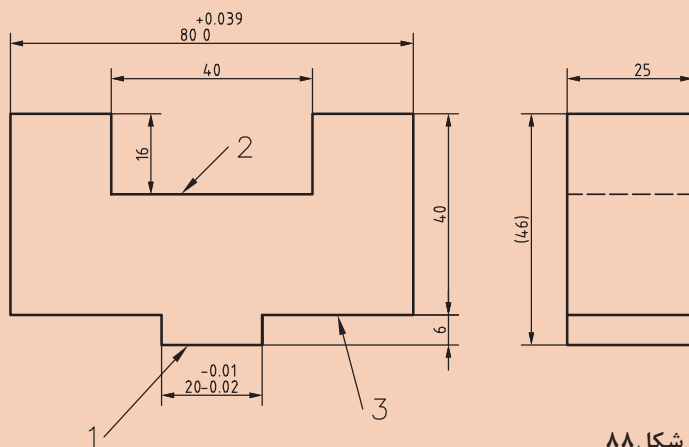


علائم کیفیت سطح روی نقشه و پای نقشه را شرح دهید.



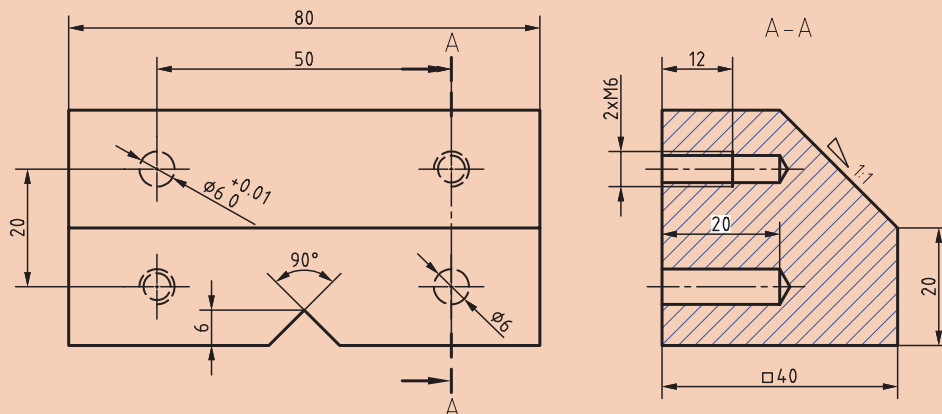
موارد خواسته شده را روی نقشه داده شده انجام دهید:

- ۱ کیفیت سطح قسمت شماره ۱ برابر  $Ra = 2/3$  میکرومتر
- ۲ کیفیت سطح قسمت شماره ۲ برابر  $Ra = 3/6$  میکرومتر
- ۳ کیفیت سطح شماره ۳ برابر  $Ra = 3/6$  میکرومتر
- ۴ کیفیت سطح سایر سطوح برابر  $Ra = 5/12$  میکرومتر



شکل ۸۸

سه نمای قطعه را ترسیم و علائم کیفیت سطح به یکی از روش‌های ( $Ra$  و  $Rz$ ) را روی آن قرارداده و علائم پای نقشه را بنویسید.



شکل ۸۹



## ارزشیابی هنرجو در واحد یادگیری: سنگزنی سطوح تخت

**نقشه کار: سنگزنی سطوح تخت**

سنگزنی قطعات با دستگاه سنگ تخت مطابق نقشه

**شاخص عملکرد:** ۱- ابعاد مطابق نقشه ۲- کیفیت سطح مطابق نقشه

**شرایط انجام کار:** ۱- در محیط کارگاه ۲- نور یکنواخت با شدت ۴۰۰ لوکس ۳- تهویه استاندارد و دمای  $20^{\circ}\text{C} \pm 3^{\circ}$  ۴- ابزارآلات و تجهیزات استاندارد و آماده به کار ۵- وسایل ایمنی استاندارد ۶- زمان ۸ ساعت

**مواد مصرفی:** جنس قطعه از فولاد st۳۷

**ابزار و تجهیزات:** دستگاه سنگ تخت و متعلقات- کولیس ۰/۰۵ با گستره اندازه گیری ۱۵۰ میلی-متر- کمان اره - سوزن خطکش پایه دار و معمولی- سنبه نشان- چکش- گیره موازی- میز کار- کات کبود- وسایل تمیزکاری- قطعه کار- نقشه کار- زبری سنج مقایسه ای - وسایل کمکی برای بستن قطعه کار

**- نمونه و نقشه کار:**

(✓) (✓)

## معیار شایستگی:

ردیف	مرحله کار	حداقل نمره قبولی از ۳	نمره هنرجو
۱	بررسی قطعه کار اولیه	۱	
۲	آماده سازی قطعه کار	۱	
۳	آماده سازی دستگاه	۱	
۴	بستن قطعه کار	۱	
۵	انجام عملیات فرزکاری	۲	
	<b>شایستگی های غیر فنی، ایمنی، بهداشت، توجهات زیست محیطی و نگرش:</b> ۱- رعایت قواعد و اصول در مراحل کار ۲- مسئولیت پذیری L۲ N۷۲ ۳- مدیریت مواد و تجهیزات L۲ N۶۶ ۴- استفاده از لباس کار و کفش ایمنی و عینک محافظ ۵- تمیز کردن وسایل و محیط کار ۶- پایبندی به الزامات نقشه		
	میانگین نمرات *		

\* حداقل میانگین نمرات هنرجو برای قبولی و کسب شایستگی، ۲ می باشد.



پودمان ۲

فرزکاری سطوح شیب‌دار



## واحد یادگیری فرز کاری سطوح شیب دار

### استاندارد عملکرد

فرز کاری سطوح شیب دار مطابق نقشه

### پیش نیاز

نقشه خوانی  
کار با ابزارهای اندازه گیری  
فرز کاری سطوح تخت

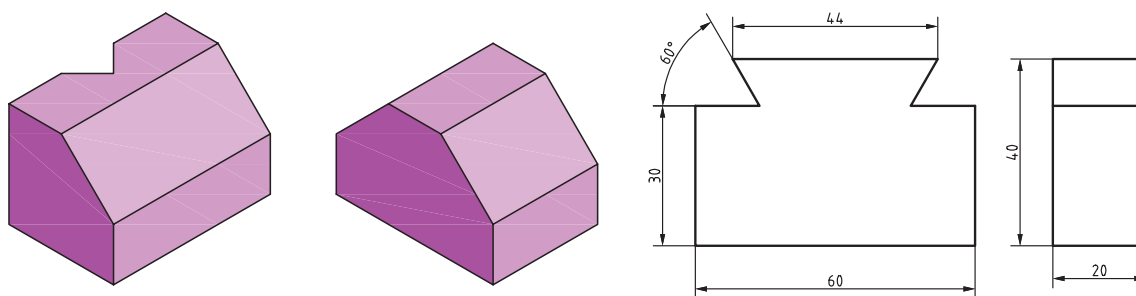
## سطوح شیب دار

### مقدمه

گسترده‌گی و تنوع کاربرد قطعات با شکل‌های مختلف در مکانیزم‌ها و ماشین‌های صنعتی بسیار زیاد است. آنچه کاربرد این گونه قطعات را ضروری کرده است، جایگاه و نقش آنها بسته به موقعیت قرارگیری در یک مکانیزم یا یک ماشین است. استفاده از سطوح شیب‌دار در راهنمای جناقی، دم‌چلچله، خارها و گوه‌های انطباقی و... اهمیت کاربرد اینگونه قطعات را در ماشین‌های ابزار نشان می‌دهند.

به قطعات نشان داده شده دقت کنید. باتوجه به آنچه که تاکنون آموخته‌اید برای ماشین‌کاری سطوح این قطعات چه روشی مناسب می‌باشد؟ (شکل ۱)

پرسش



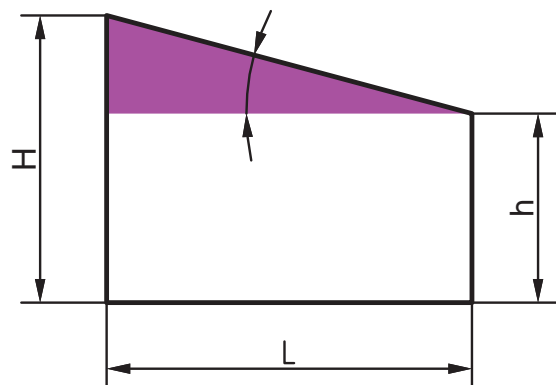
شکل ۱- قطعات با سطوح شیب‌دار

### سطح شیب‌دار

سطح شیب‌دار سطحی است که نسبت به سطوح دیگر قطعه، حالت موازی و عمود نداشته باشد. تولید سطوح شیب‌دار با تنظیم قطعه‌کار یا ابزار، روی دستگاه فرز امکان‌پذیر است. با توجه به نوع ماشین فرز و قابلیت‌های آن و تجهیزات و ابزارهایی که در اختیار داریم، می‌توان سطوح شیب‌دار را ماشین‌کاری کرد.

فعالیت

به ماشین‌های ابزار کارگاه خود دقت کنید و چهار نمونه از کاربرد سطوح شیب‌دار در آنها را بنویسید.



شکل ۲- شیب

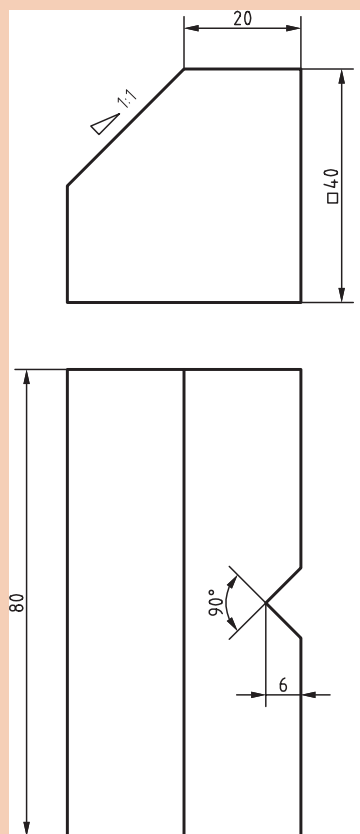
شیب: اختلاف ارتفاع یکنواخت قطعه در طول معینی از آن قطعه را شیب می‌گویند.

$$\text{شیب} = \frac{\text{اختلاف ارتفاع}}{\text{طول}} = \frac{H-h}{L}$$



با توجه به شکل ۲ و طبق تعریف نسبت‌های مثلثاتی در ریاضی:  $\tan \alpha = \text{شیب}$

توجه



مقدار شیب در نمای روبه‌روی داده شده از قطعه شماره ۲ برابر است با:

$$\text{شیب قطعه} = \frac{H-h}{L} = \frac{40-20}{20} = 1:1$$

شیب ۱:۱ یعنی در هر ۱ میلی‌متر از طول قاعده، ارتفاع به اندازه ۱ میلی‌متر تغییر می‌کند. اگر شیب ۱:۸ باشد یعنی در هر ۸ میلی‌متر طول قاعده، ۱ میلی‌متر اختلاف ارتفاع وجود دارد.

مثال

مقدار زاویه شیب در قطعه شماره ۲ را محاسبه کنید.

با توجه به اینکه:  $\tan \alpha = \text{شیب}$

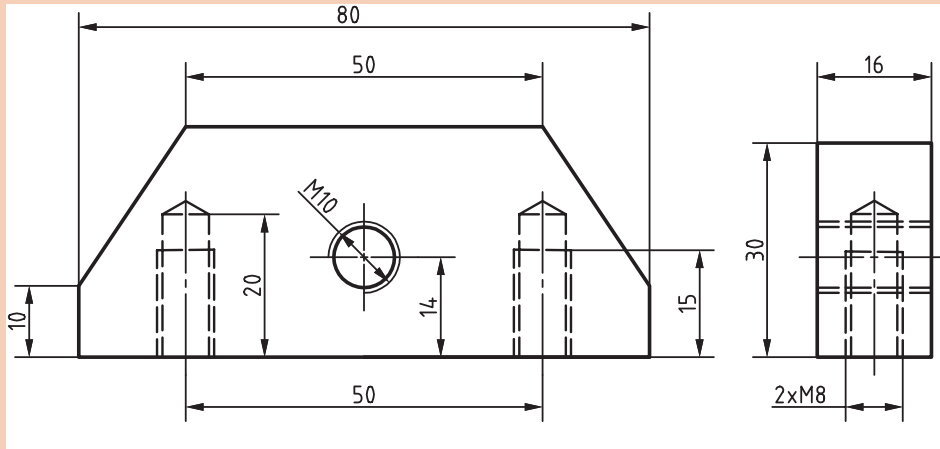
شکل ۲- قطعه شماره ۲

$$\tan \alpha = \text{شیب} \rightarrow \tan \alpha = \frac{1}{1} = 1 \rightarrow \alpha \xrightarrow{\text{از جدول مثلثاتی}} 45^\circ \text{ و } 60' = 45^\circ$$

روش به‌دست آوردن زاویه از جدول مثلثاتی در زیر آمده است.

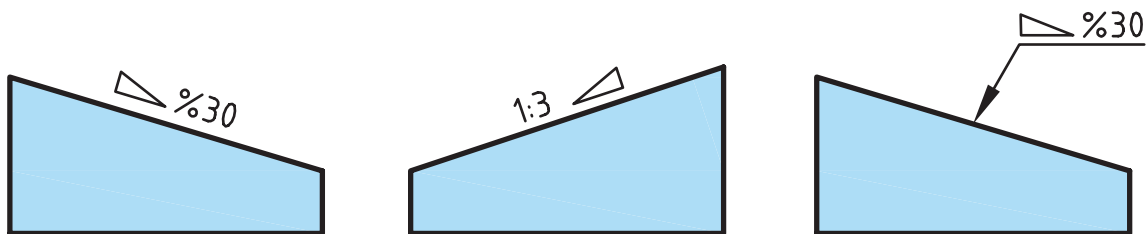
درجه	روابط مثلثاتی							درجه
	تفاوت 0° تا 45°							
	دقیقه							
	0	10	20	30	40	50	60	
40	0.8391	0.8441	0.8491	0.8541	0.8591	0.8642	0.8693	49
41	0.8693	0.8744	0.8795	0.8847	0.8899	0.8952	0.9004	48
42	0.9004	0.9057	0.9110	0.9163	0.9217	0.9271	0.9325	47
43	0.9325	0.9380	0.9435	0.9490	0.9545	0.9601	0.9657	46
44	0.9657	0.9713	0.9770	0.9827	0.9884	0.9942	1.0000	45
45	1.0000	1.0058	1.0117	1.0179	1.0235	1.0295	1.0355	
	60	50	40	30	20	10	0	درجه
دقیقه								
تفاوت 45° تا 90°								

زاویه شیب در قطعه نشان داده شده را محاسبه کنید. (شکل ۴)



شكل ٤- قطعة شمارة ٤

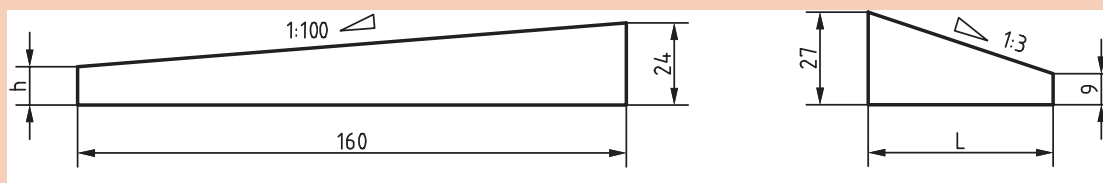
**نمایش شیب در نقشه:** برای نشان دادن شیب، بسته به جهت شیب از نماد  $\nabla$  یا  $\Delta$  استفاده می‌شود. این نماد قبل از درج مقدار ابعادی شیب که به صورت درصد یا نسبت است قرار می‌گیرد. نماد شیب روی سطح مورد نظر با جهت شیب مطابقت دارد. نمایش شیب در نقشه‌ها به صورت زیر است. (شکل ۵)



### شکل ۵- نمایش شیب در نقشه‌ها

شیب اگر به صورت درصد روی قطعه‌ای مشخص شود، مثلاً شیب ۳۰٪ مفهوم آن این است که به ازای هر ۱۰۰ واحد طول، ۳۰ واحد اختلاف ارتفاع وجود دارد.

در گوه‌های مطابق شکل‌های زیر، مقدار  $L$  و  $h$  را حساب کنید.



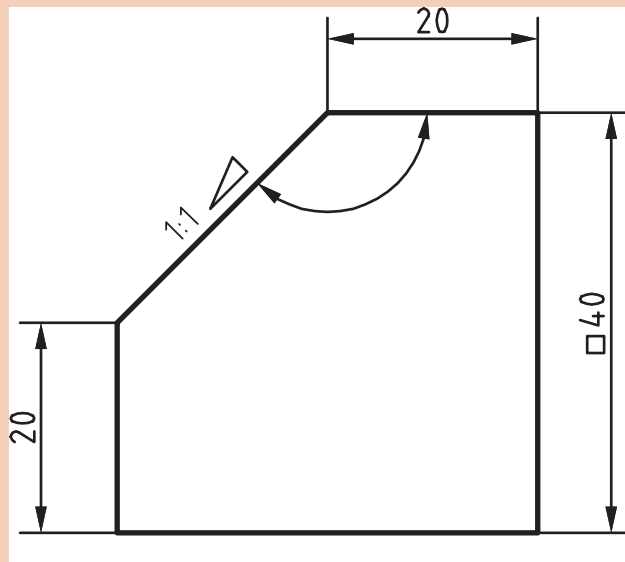
## شكل ٦

## اندازه‌گیری زوایای سطوح شیب‌دار

پرسش




ابزار اندازه‌گیری مناسب برای زاویه  $\alpha$  در قطعه مطابق شکل ۷ چیست؟



شکل ۷- نمای روبه‌رو قطعه ۲

زاویه‌سنج‌ها جزء وسایل اندازه‌گیری هستند، که می‌توان عمل اندازه‌گیری و کنترل را با آنها انجام داد. بسته به نوع و دقت اندازه‌گیری، می‌توان از زاویه‌سنج‌های ساده یا اونیورسال استفاده کرد.



زاویه‌سنج اونیورسال قابلیت تفکیک ۵ دقیقه



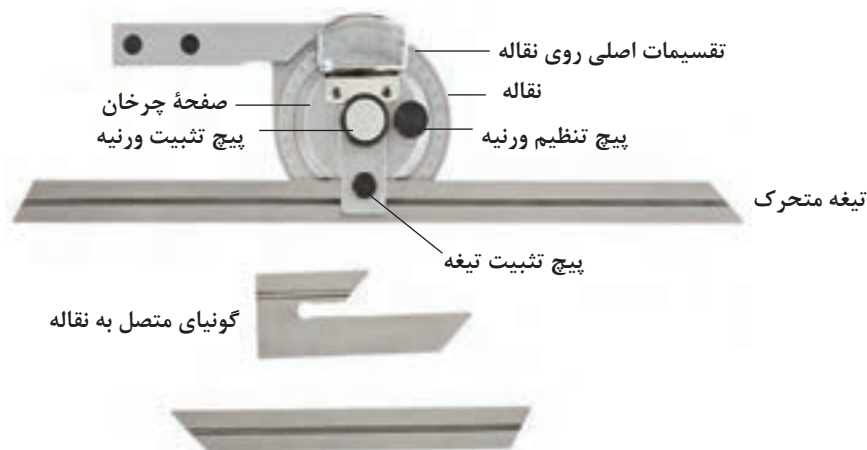
زاویه‌سنج ساده قابلیت تفکیک ۱ درجه

شکل ۸- زاویه‌سنج ساده و اونیورسال

در سال گذشته با زاویه‌سنج ساده و نحوه استفاده آن آشنا شدید. حال به شرح زاویه‌سنج اونیورسال که دارای دامنه و دقت اندازه‌گیری بیشتری نسبت به نوع ساده است می‌پردازیم.

## زاویه‌سنج اونیورسال

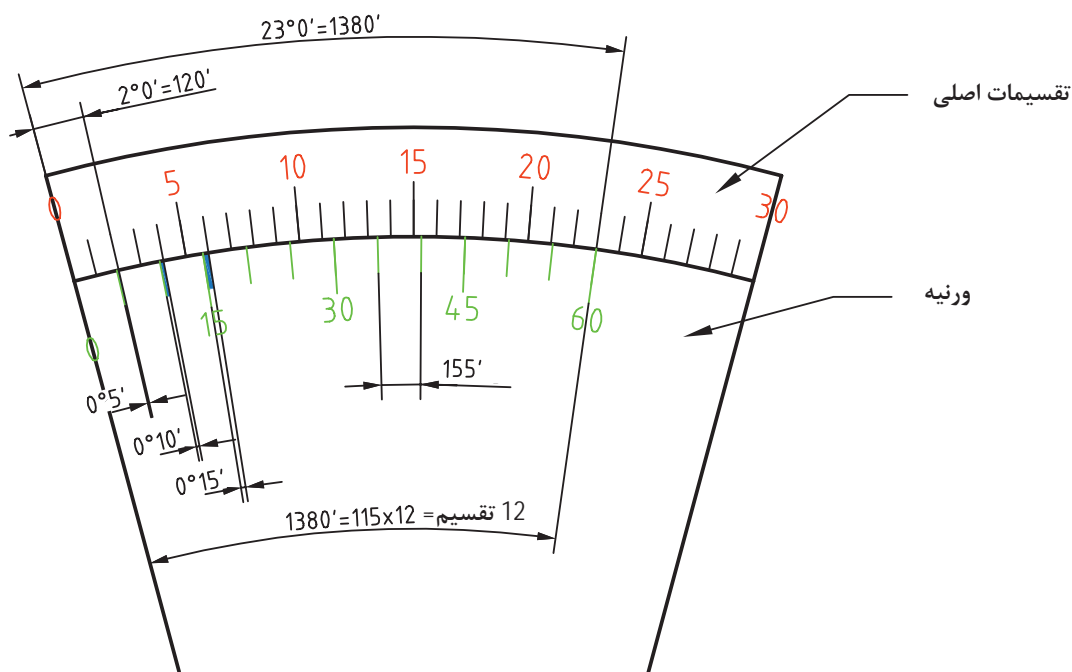
این زاویه‌سنج برای کنترل و اندازه‌گیری زوایای داخلی و خارجی قطعات با دامنه کاری متنوع تا دقت ۵ دقیقه به کار می‌رود. و دارای ساختمانی مطابق شکل زیر است.



شکل ۹- اجزای زاویه‌سنج اونیورسال

## دقت زاویه‌سنج

با توجه به شکل ۱۰ در روی ورنیه این نوع زاویه‌سنج ۲۳ درجه از تقسیمات اصلی نقاله به ۱۲ قسمت تقسیم شده‌است. در نتیجه زاویه هریک از تقسیمات  $\frac{23 \times 60'}{12} = 115'$  می‌باشد که اختلاف آن با ۲ درجه از نقاله برابر است با  $120' - 115' = 5'$  در نتیجه دقت زاویه‌سنج ۵ دقیقه می‌باشد.



شکل ۱۰- تقسیم بندی ورنیه زاویه‌سنج اونیورسال


خواندن زاویه‌سنج‌ها شباهت زیادی به خواندن کولیس‌ها دارد. ابتدا باید ببینیم صفر ورنیه از چه عددی روی تقسیمات اصلی نقاله عبور کرده سپس باید دقت کرد که کدام تقسیم ورنیه مقابل یکی از تقسیمات اصلی نقاله قرار دارد، حال تعداد تقسیمات واقع بین خط مذکور و صفر ورنیه را شمرده و در ۵ (دقت زاویه‌سنج) ضرب کرده حاصل را با عددی که از روی تقسیمات اصلی نقاله خواندیم جمع می‌کنیم. هنگام خواندن باید دقت کرد که برحسب بسته (حاده) یا باز (منفرجه) بودن زاویه، نقاله و ورنیه زاویه‌سنج هردو در یک جهت (عقربه‌های ساعت یا خلاف عقربه ساعت) خوانده شوند.

توجه



همان‌طوری که در شکل زیر ملاحظه می‌کنید تقسیمات ورنیه در دوجبهت انجام شده، علت کاربرد در اندازه‌گیری زوایای بسته (حاده) و باز (منفرجه) است.

**مثال:** در اندازه‌گیری زاویه قطعه شکل ۱۱، دقت زاویه‌سنج ۵ دقیقه می‌باشد، زاویه‌سنج چه زاویه‌ای را نشان می‌دهد؟



شکل ۱۱- اندازه‌گیری با زاویه‌سنج

در شکل بالا صفر ورنیه از عدد ۲۵ تقسیمات اصلی نقاله گذشته است، خط چهارم سمت راست صفر ورنیه، با خط مقابلش روی نقاله، در یک راستا قرار دارد (منطبق است) پس عدد حاصل برابر است با:

$$۲۵^{\circ} + (۴ \times ۵') = ۲۵^{\circ} و ۲۰'$$

پس زاویه‌سنج عدد ۲۵ درجه و ۲۰ دقیقه را نشان می‌دهد.

پرسش



شکل ۱۲ چه زاویه‌ای را نشان می‌دهد؟



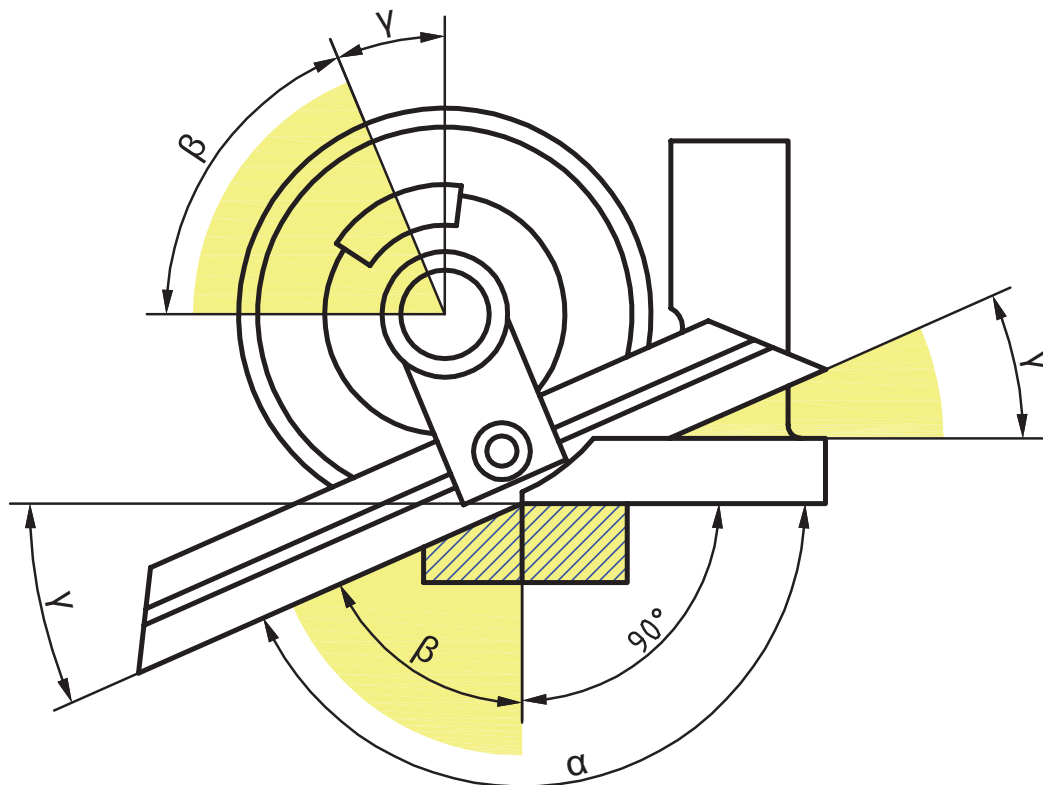
شکل ۱۲- اندازه تنظیمی با زاویه‌سنج



در زاویه سنج با دقت ۵ دقیقه، اگر صفر ورنیه از عدد ۵۲ تقسیمات اصلی نقاله گذشته باشد و خط هشتم بعد از صفر ورنیه با خط مقابلش در یک راستا باشد، این زاویه سنج چه عددی را نشان می‌دهد؟



به شکل ۱۲-۳ دقت کنید، زاویه سنج، اندازه‌گیری زاویه باز یک قطعه را نشان می‌دهد. در اندازه‌گیری زوایای باز (منفرجه) همیشه مبنای اندازه‌گیری ۹۰ درجه است، زیرا که این زوایا موقع خواندن به یک زاویه قائم و یک زاویه بسته (حاده) تفکیک می‌شوند.



شکل ۱۳- روش خواندن زوایای باز با زاویه سنج

مثال: مقدار  $\alpha$  در شکل ۱۳ چقدر است؟ در صورتیکه  $۲۰'$  و  $\beta = ۶۰^\circ$  باشد:

$$\alpha = ۹۰^\circ + \beta = ۹۰^\circ + ۶۰^\circ و ۲۰' = ۱۵۰^\circ و ۲۰'$$

اگر مقدار  $\delta$  وارد شود از رابطه به دست می‌آید.

$$\alpha = ۱۸۰ + \delta$$

مثال: با توجه به شکل ۱۴ مقدار زاویه قطعه چقدر است؟



شکل ۱۴- اندازه گیری زاویه باز قطعه کار

همان طور که در صفحه قبل ذکر شد در اندازه گیری زوایای باز (منفرجه) همیشه مبنای اندازه گیری ۹۰ درجه است، زیرا که این زوایا موقع خواندن به یک زاویه قائم و یک زاویه بسته (حاده) تفکیک می شوند.

$$۲۰' و ۱۳۶^{\circ} = ۲۰' + ۴۶^{\circ} = ۹۰^{\circ} + ۴۰' - ۴۳^{\circ} = ۹۰^{\circ} + ۷^{\circ} = ۹۷^{\circ}$$

به شکل ۱۵ دقت کنید: زاویه نشان داده شده چقدر است؟




شکل ۱۵- نمایش اندازه تنظیمی

پرسش







شکل ۱۶- شیوه‌های مختلف اندازه‌گیری زوایای داخلی و خارجی قطعات مختلف

نکته



### نکات مهم در رابطه با زاویه سنج

- ۱ با توجه به ابعاد قطعه کار از تیغه مناسب استفاده شود.
  - ۲ با توجه به شیار روی تیغه، تیغه باید به راحتی در محل مربوطه قرار گرفته و پیچ تثبیت سفت شود. هنگام جازدن تیغه از نیروی اضافی استفاده نشود.
  - ۳ پیچ ورنیه کمتر از نیم دور شل باشد که نقاله بتواند دوران داشته باشد.
  - ۴ باتوجه به بسته (حاده) یا باز (منفرجه) بودن زاویه قطعه کار، یک ضلع قطعه را بر پایه زاویه سنج و ضلع دیگر را به تیغه کاملاً مماس کرده و پیچ تثبیت ورنیه به آرامی سفت شود.
- توجه:** هنگام سفت کردن پیچ‌های تثبیت ورنیه و تیغه، اعمال نیروی اضافه برای سفت کردن باعث خرابی آنها می‌شود.
- ۵ باتوجه به نوع زاویه (حاده، منفرجه، داخلی یا خارجی) ممکن است از جمع یا تفریق اندازه‌ها نسبت به ۹۰، ۱۸۰ و ۳۶۰ درجه استفاده شود.
  - ۶ در جمع و تفریق، یکای اندازه زاویه، درجه و اجزای کوچک‌تر برحسب دقیقه بیان شود. از ذکر اندازه‌های دهم، صدم و هزارم درجه خودداری شود
  - ۷ دو سر تیغه متحرک زاویه سنج، تحت زاویه ۴۵ و ۶۰ درجه شیب‌دار ساخته شده‌اند تا بتوان زوایای مربوط به آنها را کنترل کرد.



مونتاژ زاویه سنج و اندازه گیری زوایای  $\alpha$  و  $\beta$  مهره M۳۶

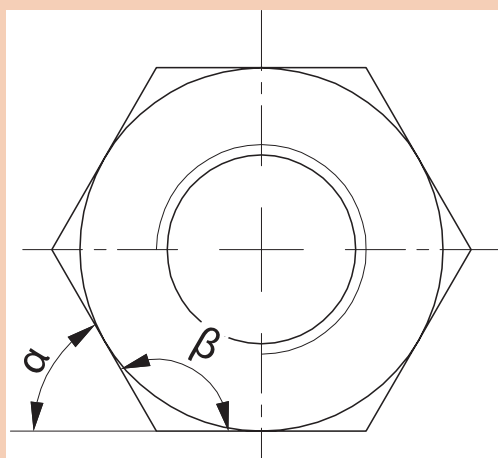
### وسایل مورد نیاز:

۱ زاویه سنج اونیورسال ۵ دقیقه

۲ صفحه صافی

۳ مهره M۳۶

۴ پارچه تنظیف



### نکات ایمنی



- از افتادن و ضربه خوردن زاویه سنج جلوگیری کنید.
- اجزای زاویه سنج داخل جعبه خود نگهداری شوند.
- اجزای زاویه سنج باید راحت و بدون نیروی اضافه مونتاژ شوند از اعمال نیروی اضافی بپرهیزید.
- برای بستن پیچ‌های تثبیت از اعمال نیروی اضافی خودداری کنید.
- مراقب باشید تیزی نوک تیغه‌ها باعث خراش دست نشود.
- از قرار دادن تیغه زاویه سنج در داخل جیب خودداری کنید.

### دستور کار

- ۱ زاویه سنج اونیورسال ۵ دقیقه را تحویل بگیرید.
- ۲ با پارچه تنظیف سطح صفحه صافی را تمیز کنید.
- ۳ جعبه زاویه سنج را باز کنید.
- ۴ متناسب با قطعه کار تیغه مناسب را انتخاب کنید.
- ۵ پیچ تثبیت تیغه در روی زاویه سنج را کمی شل کرده، خار زیری آن باید داخل شیار تیغه قرار گیرد تا تیغه به راحتی مونتاژ شود. از اعمال نیروی اضافی خودداری و پیچ تثبیت را سفت کنید.
- ۶ پیچ ورنیه را کمی شل کنید تا نقاله بتواند دوران داشته باشد.
- ۷ یک ضلع مهره را بر پایه زاویه سنج و ضلع دیگر را بر تیغه کاملاً مماس و پیچ تثبیت ورنیه را به آرامی سفت کنید.
- ۸ با نگاه عمود زاویه را خوانده و گزارش کنید
- ۹ در پایان کار: اجزای زاویه سنج را باز کرده، با پارچه تنظیف تمیز و در محل خود درون جعبه قرار دهید. دقت کنید که اجزای زاویه سنج‌ها با اجزای زاویه سنج دیگر جابه‌جا نشوند.

## روش‌های فرزکاری سطوح شیب‌دار

جهت فرزکاری سطوح شیب‌دار می‌توان از روش‌های زیر استفاده کرد:

- ۱ شیب‌تراشی با تنظیم قطعه کار
- ۲ شیب‌تراشی با تنظیم ابزار (کله‌گی دستگاه)

شیب‌تراشی با تنظیم قطعه کار (بستن قطعه کار تحت زاویه).

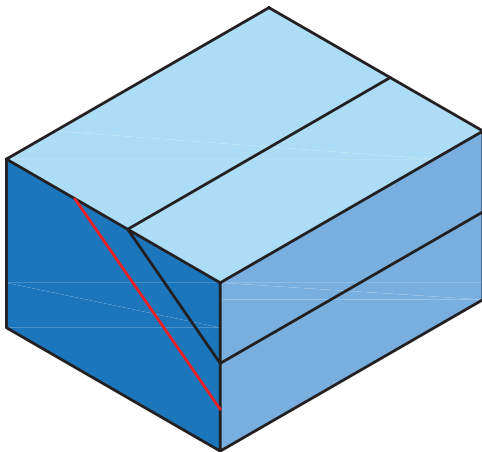
انحراف قطعه کار در زاویه معین، یکی از راه‌های شیب‌دار کردن قطعات در فرزکاری است که با دو شیوه قابل اجراست:

■ بستن شیب قطعه کار موازی با لبه گیره  
ساده‌ترین روش، موازی بستن سطح شیب‌دار نسبت به لبه افقی گیره است. در این روش قطعه کار نسبت به شیب نقشه، خط کشی می‌شود. زیر خط اصلی شیب در فاصله ۵ میلی متری خطی موازی رسم و موقع بستن از این خط به عنوان خط مبنا نسبت به لبه گیره استفاده می‌شود. (شکل ۱۷)

پرسش



آیا می‌توان همه قطعات را با این روش فرزکاری کرد؟ چرا؟

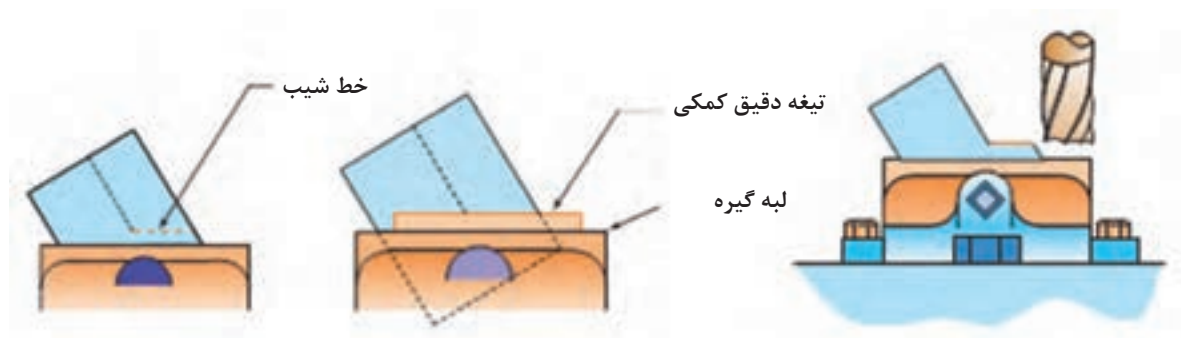


شکل ۱۷- خط کشی و بستن قطعه در گیره

توجه






برای موازی بستن خط شیب از تیغه دقیق سنگ خورده یا رنده شیارتراش مطابق شکل ۱۸ نیز می‌توان کمک گرفت.



شکل ۱۸- استفاده از تیغه کمکی

## ۲- استفاده از کارگیرهای خاص

استفاده از گیره‌های مخصوص جهت بستن قطعه کار و قرار دادن قطعه کار در زاویه دلخواه روش مناسب و دقیقی برای تولید سطوح شیب‌دار است. نمونه‌هایی از این نوع گیره‌ها همراه با کاربرد آنها در جدول زیر آمده است.

جدول ۱ انواع گیره‌های خاص			
کاربرد	نوع گیره	کاربرد	نوع گیره
موقعیت دهنده دقیق برای شیب‌تراشی و کنترل شیب	 گیره سینوسی	شیب‌تراشی یک طرفه	 گیره گردان
بستن قطعات خاص برای شیب‌تراشی در جهات مختلف با دقت زیاد و کنترل قطعات شیب‌دار	 میز سینوسی اونیورسال	شیب‌تراشی در جهات مختلف	 گیره اونیورسال



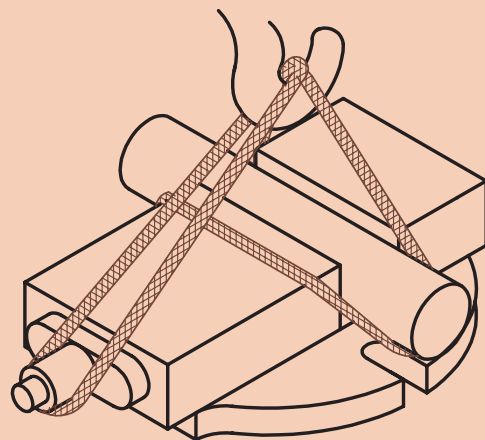
با تحقیق در اینترنت یا منابع دیگر، چگونگی استفاده از گیره‌های جدول ۱، برای عملیات فرزکاری سطوح شیب‌دار گزارش تهیه کرده و به هنرآموز خود ارائه کنید.



۱ با توجه به سنگین بودن گیره‌ها و انواع دیگر کارگیرها، برای جابه‌جایی آنها همیشه از میز چرخ‌دار و جرثقیل کارگاهی استفاده شود.



۲ سطح میز دستگاه را با سطح میز چرخ‌دار، تنظیم کرده، با احتیاط کارگیر را روی میز حرکت دهید.

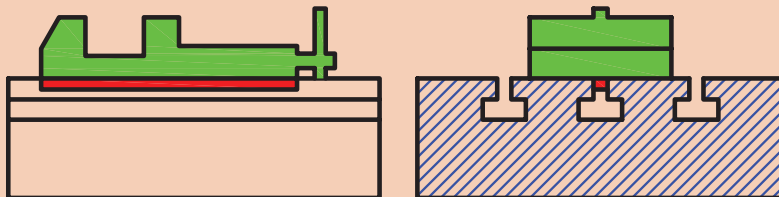


۳ برای حمل گیره‌ها مطابق شکل عمل نمایید.

۴ قبل از جابه‌جایی کارگیرها، دقت کنید که بعضی از کارگیرها دارای زائده‌ای در زیر هستند. توجه شود که این زائده متناسب با شیارهای میز دستگاه باشد و هنگام نصب داخل شیار میز دستگاه قرار گیرد.



زائده‌های زیر کارگیرها وظیفه موقعیت‌دهی و تنظیم سریع را دارند، از جدا نمودن آنها خودداری کنید.



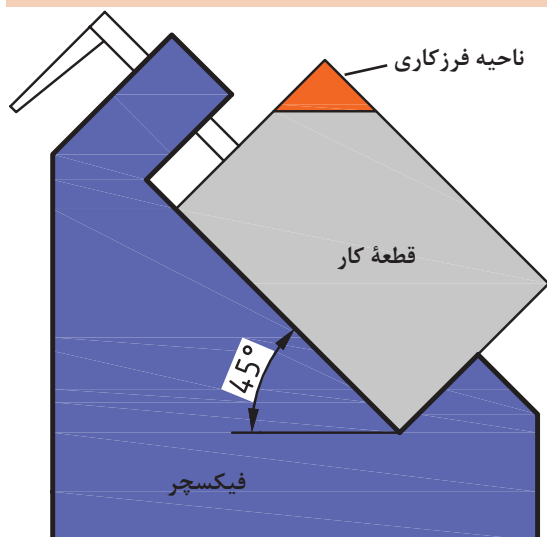
۵ جهت بستن کارگیرها روی میز دستگاه از پیچ‌های T شکل متناسب با شیار و آچار تخت استفاده شود.



۶ قبل از قراردادن قطعه کار درگیره ابتدا دو عدد نوار کاغذ در زیر آن قرار دهید تا پس از بستن مطمئن شوید که قطعه کار از کف گیره جدا نشده باشد (شکل روبه‌رو)



۷ جهت محکم بستن قطعه کار به گیره‌ها و ... از اعمال نیروی اضافی با ضربه زدن توسط چکش بپرهیزید.



استفاده از قید و بند

برای تولید با تعداد بالا بهتر است، کارگیرهای مخصوص (فیکسچر) طراحی شود، که زمان بستن قطعه کار را کاهش دهد. نمونه‌ای از یک فیکسچر فرزکاری سطوح شیب‌دار را در شکل ۱۹ ملاحظه می‌کنید.

شکل ۱۹- فیکسچر فرزکاری



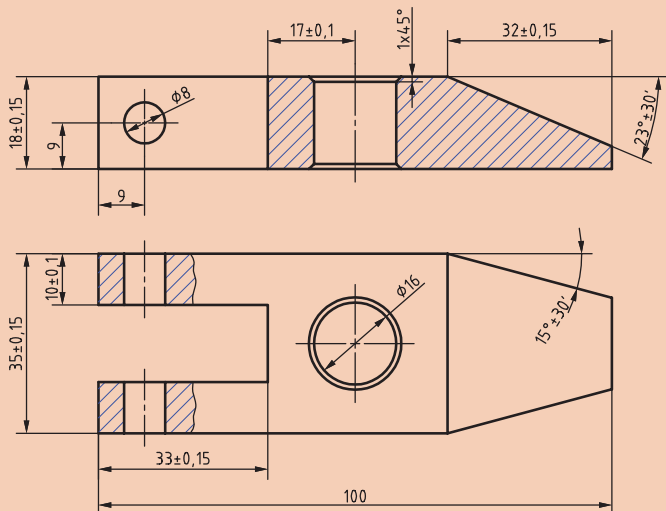
### شیب تراشی با روش تنظیم قطعه کار:

ابعاد اولیه  $102 \times 38 \times 20$  میلی متر

تعداد: ۱ جنس قطعه کار St37

### وسایل مورد نیاز:

- ۱ تیغه فرز پیشانی تراش مناسب
- ۲ کولیس  $0/05$  میلی متر
- ۳ گیره
- ۴ صفحه صافی
- ۵ سوزن خط کش
- ۶ عینک محافظ
- ۷ خط کش فلزی  $30$  سانتی متر
- ۸ ماژیک صنعتی



### نکات ایمنی



- از سالم بودن دستگاه و کلید اضطراری اطمینان حاصل کنید.
- هنگام کار از لباس کار، عینک محافظ و کفش ایمنی مناسب استفاده کنید.
- گیره را با پیچ مخصوص T شکل ببندید. جهت بستن پیچها از آچار تخت مناسب استفاده کنید.
- تیغه فرز مناسب را انتخاب و آنرا به طور اصولی و مطمئن ببندید.
- برای اعمال نیروی بستن هرگز از ضربات چکش استفاده نکنید.
- تیغه فرزها لبه برنده تیزی دارند هنگام بستن از پارچه یا دستکش استفاده شود.
- هشدار: در حین فرزکاری هرگز دستکش در دست نداشته باشید.
- نصب گیره، تعویض ابزار، تعویض عده دوران، کنترل و اندازه گیری قطعه و دور کردن براده ها را حتماً در حالت خاموشی دستگاه انجام دهید.
- هنگامی که دستگاه روشن است، دستگاه را رها نکنید.

### دستور کار:

- ۱ تیغه فرز را روی ماشین نصب نمایید. (جهت ایجاد سطح یکنواخت، بهتر است از تیغه فرز تیغچه دار یا پیشانی تراش با قطر بیشتر استفاده کرد که محدوده سطح نهایی شیب را جهت براده برداری پوشش دهد.
- ۲ گیره مناسب را روی میز دستگاه نصب کنید. در صورت وجود گیره روی میز دستگاه، آنرا به لحاظ تراز، ساعت بودن و صحیح بسته بودن کنترل کنید.
- ۳ شمش را بسته تا ابعاد  $100 \times 35 \times 18$  میلی متر فرزکاری کنید.
- ۴ بر مبنای شیب محاسبه شده قطعه را خط کشی کرده و خطی کمکی، زیر خط شیب رسم کنید قطعه را



طوری در گیره ببندید که خط کمکی با لبه گیره منطبق باشد. برای موازی بستن از تیغه دقیق هم می توان کمک گرفت.



۵. عده دوران محاسبه شده را روی دستگاه تنظیم کنید.

مثال: با تیغه فرزی به قطر  $d=60 \text{ mm}$  قطعه‌ای از جنس  $St_{37}$  را فرزکاری خواهیم کرد. مطلوب است عده دوران تنظیمی ماشین در صورتی که جنس تیغه فرز از نوع HSS و مقدار سرعت برش  $25 \text{ متر بر دقیقه}$  (از جدول سرعت برش) باشد:

$$v = \frac{(d \times \pi \times n)}{1000} \rightarrow \frac{(v \times 1000)}{(d \times \pi)} = \frac{(25 \times 1000)}{(60 \times 3.14)} = 132/6 \text{ R.P.M} \rightarrow n \approx 125 \text{ دور تنظیمی}$$

۶ پیشروی محاسبه شده را روی دستگاه تنظیم کنید.

**مثال:** سرعت پیشروی میز ماشین فرزی برای فرزکاری با تیغه فرز به قطر ۶۰ میلی‌متر که ۱۰ دندانه دارد اگر مقدار  $F_z = 0.1 \text{ mm}$  باشد را محاسبه کنید.

$$V_F = F_Z \times Z \times n \longrightarrow V_F = 0.1 \times 10 \times 125 = 125 \frac{\text{mm}}{\text{min}}$$

۷ پس از اطمینان از محکم بودن قطعه کار، دستگاه را روشن و با رعایت اصول ایمنی، از بلندترین نقطه فرزکاری را شروع کرده و شیب یک طرف قطعه را کامل کنید.



۸ قبل از بازکردن قطعه کار، سطح فرزکاری را به لحاظ کیفیت سطح و اندازه نسبت به خط کشی به صورت چشمی کنترل کرده، در صورت نیاز اصلاح و تکمیل نمایید.

۹ پس از باز کردن، طرف دیگر قطعه و شیب بالایی را همانند مرحله قبل فرزکاری نمایید.

۱۰ دستگاه را خاموش کرده، قطعه کار و تیغه فرز را باز کنید.

۱۱ ابزار و وسایل استفاده شده را تحویل دهید.

۱۲ دستگاه و محیط کار را تمیز کرده و براده ها را در محل پیش بینی شده قرار دهید.



## شیب تراشی قطعه شماره ۷ با روش تنظیم قطعه کار

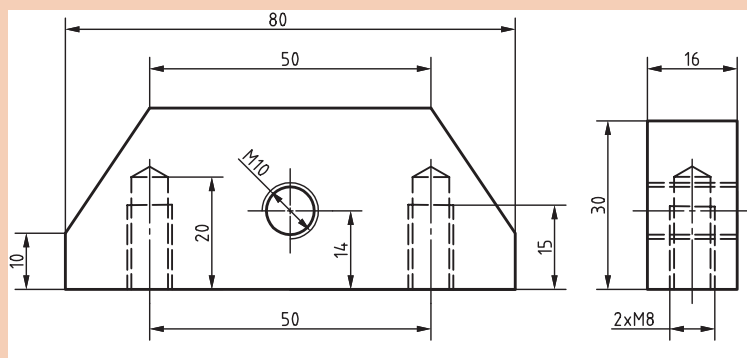
ابعاد اولیه  $85 \times 32 \times 22$  mm

تولرانس به جز موارد مشخص شده: f-ISO ۲۷۶۸

تعداد: ۱ جنس قطعه کار St ۳۷

### وسایل مورد نیاز:

- ۱ تیغه فرز پیشانی تراش مناسب
- ۲ کولیس ۰/۰۵ میلی متر
- ۳ گیره
- ۴ صفحه صافی
- ۵ خط کش فلزی ۳۰ سانتی متر
- ۶ عینک محافظ
- ۷ سوزن خط کش
- ۸ ماژیک صنعتی یا کات کبود



### نکات ایمنی



- ۱ از سالم بودن کلید اضطراری اطمینان حاصل کنید.
- ۲ هنگام کار از لباس کار، عینک محافظ و کفش ایمنی مناسب استفاده کنید.
- ۳ گیره را به طور اصولی و با پیچ مخصوص T شکل ببندید.
- ۴ جهت بستن پیچ‌ها از آچار تخت مناسب استفاده کنید.
- ۵ تیغه فرز مناسب را انتخاب و آن را به طور اصولی و مطمئن ببندید.
- ۶ برای اعمال نیروی بستن هرگز از ضربات چکش استفاده نکنید.
- ۷ تیغه فرزها لبه برنده تیزی دارند، هنگام بستن از پارچه یا دستکش استفاده شود.
- هشدار: در حین فرزکاری هرگز دستکش در دست نداشته باشید.
- ۸ نصب گیره، تعویض ابزار، تعویض عده دوران، کنترل و اندازه گیری قطعه و دور کردن براده‌ها را حتماً در حالت خاموشی دستگاه انجام دهید.
- ۹ فرزکاری را از بلندترین نقطه قطعه کار شروع کنید.
- ۱۰ هنگامی که دستگاه روشن است، دستگاه را رها نکنید.

### دستور کار

- ۱ تیغه فرز را روی ماشین نصب نمایید. (جهت ایجاد سطح یکنواخت، بهتر است از تیغه فرز تیغچه دار یا پیشانی تراش با قطر بیشتر استفاده کرد که محدوده سطح نهایی شیب را جهت براده برداری پوشش دهد)
- ۲ گیره مناسب را روی میز دستگاه نصب کرده و آن را ساعت کنید.
- ۳ شمش را بسته تا  $20 \times 30 \times 80$  میلی متر فرزکاری کنید.
- ۴ بر مبنای شیب محاسبه شده قطعه را خط کشی کرده و خطی کمکی نیز با فاصله کمی از خط شیب رسم کنید.

۵ قطعه را طوری در گیره ببندید که خط کمکی با لبه گیره منطبق باشد.

۶ عدّه‌دوران و پیشروی محاسبه شده را روی دستگاه تنظیم کنید.

۷ با فاصله گرفتن تیغه‌فرز از قطعه‌کار، و حصول اطمینان از محکم بودن قطعه‌کار، دستگاه را روشن و با رعایت اصول ایمنی، از بلندترین نقطه فرزکاری را شروع کرده و شیب یکطرف قطعه شماره ۷ را کامل کنید.



۸ قبل از باز کردن قطعه‌کار، سطح فرزکاری را به لحاظ کیفیت سطح و اندازه نسبت به خط‌کشی به‌صورت چشمی کنترل کرده، در صورت نیاز اصلاح و تکمیل نمایید.

۹ مقدار شیب قطعه را با زاویه‌سنج کنترل کنید.

۱۰ شیب طرف دیگر قطعه کار را همانند مرحله قبل فرزکاری نمایید.

۱۱ دستگاه را خاموش کرده، قطعه کار و تیغه‌فرز را باز کنید.

۱۲ ابزار و وسایل استفاده شده را تحویل دهید.

۱۳ دستگاه و محیط کار را تمیز کرده و براده‌ها را در محل پیش‌بینی شده قرار دهید.

با جست‌وجو در اینترنت و منابع دیگر انواع گیره‌ها و مکانیزم‌های دیگر قابل استفاده برای شیب‌تراشی با ماشین فرز را تهیه کرده و در کلاس ارائه نمایید.

تحقیق





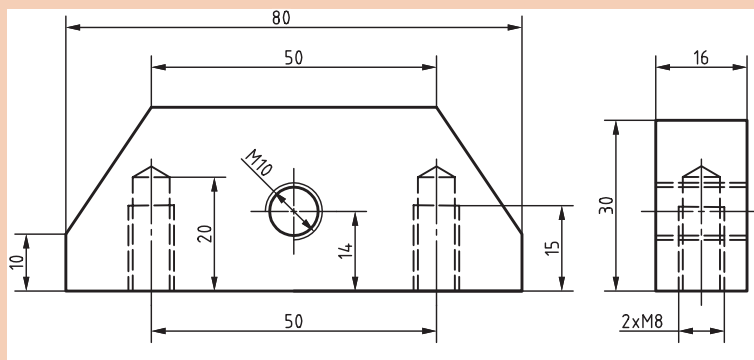
## شیب تراشی قطعه شماره ۷ با استفاده از گیره گردان.

تعداد: ۱

ابعاد اولیه:  $85 \times 32 \times 22$  mm

تولانس به جز موارد مشخص شده: ISO ۲۷۶۸ - f

جنس قطعه کار  $St_{37}$



### وسایل مورد نیاز:

- ۱ تیغه فرز پیشانی تراش مناسب
- ۲ کولیس ۰,۰۵ میلیمتر
- ۳ گیره گردان
- ۴ صفحه صافی
- ۵ سوزن خط کش
- ۶ عینک محافظ
- ۷ خط کش فلزی ۳۰ سانتی متر
- ۸ ماژیک صنعتی یا کات کبود
- ۹ آچار تخت مناسب برای گیره

### نکات ایمنی



- ۱ هنگام کار از لباس کار، عینک محافظ و کفش ایمنی مناسب استفاده کنید.
- ۲ از سالم بودن کلید اضطراری اطمینان حاصل کنید.
- ۳ گیره گردان را با میز چرخ دار حمل کرده و روی میز دستگاه قرار دهید.
- ۴ گیره را با پیچ مخصوص T شکل ببندید.
- ۵ جهت بستن پیچ ها از آچار تخت مناسب استفاده کنید.
- ۶ تیغه فرز مناسب را انتخاب و آن را ببندید.
- ۷ برای اعمال نیروی بستن هرگز از ضربات چکش استفاده نکنید.
- ۸ تیغه فرزها لبه برنده تیزی دارند هنگام بستن مراقب دست خود باشید.
- ۹ برای بستن تیغه فرز از دستکش استفاده کنید.
- ۱۰ نصب گیره، تعویض ابزار، تعویض عده دوران، کنترل و اندازه گیری قطعه و دور کردن براده ها را حتماً در حالت خاموشی دستگاه انجام دهید.
- ۱۱ دستگاه را در حالت روشن رها نکنید.

### دستور کار:



- ۱ تیغه فرز را روی ماشین نصب نمایید.
- توجه: بستن تیغه فرزهای بزرگ به لحاظ امکان برخورد با گیره محدودیت ایجاد می کند.
- ۲ گیره مدرج گردان را روی میز دستگاه بسته و آن را ساعت کنید.





در صورت وجود گیره روی میز دستگاه، ساعت بودن آن را کنترل کنید.



۳ طرف دیگر قطعه کار شماره ۷ که یک طرف آن در فعالیت قبلی فرزکاری شده بود، را در گیره طوری ببندید که ناحیه فرزکاری بیرون از لبه گیره قرار گیرد.

۴ توجه شود که زیرکاری در قسمت زیر ناحیه شیب قرار نداشته باشد.

۵ پیچ‌های تنظیم گیره را با آچار تخت مناسب باز کرده و به میزان زاویه شیب قطعه، آن را چرخانده و پیچ‌ها را سفت کنید. **توجه:** جهت چرخش گیره و موقعیت بستن قطعه کار، طوری انتخاب شود که محدودیت ایجاد نکند.

۶ عده‌دوران و پیشروی محاسبه شده را روی دستگاه تنظیم کنید.

۷ با فاصله گرفتن تیغه فرز از قطعه کار، و حصول اطمینان از محکم بودن قطعه کار، دستگاه را روشن و با رعایت اصول ایمنی، فرزکاری را شروع کرده و ناحیه فرزکاری را تا ۱ میلی‌متر مانده به خط ترسیمی شیب با

پیشانی تیغه فرز ماشین‌کاری کنید. سپس مقدار باقیمانده را با محیط تیغه فرز کامل کنید.

۸ قبل از بازکردن قطعه کار، سطح فرزکاری را به لحاظ کیفیت سطح و اندازه نسبت به خط‌کشی را کنترل کرده، در صورت نیاز اصلاح و تکمیل نمایید.

۹ دستگاه را خاموش کرده، قطعه کار و تیغه فرز را باز کنید.

۱۰ ابزار و وسایل استفاده شده را تحویل دهید.

۱۱ گیره را به حالت اولیه (صفر) تنظیم کنید.

۱۲ دستگاه و محیط کار را تمیز کرده و براده‌ها را در محل پیش‌بینی شده قرار دهید.



## شیب تراشی با انحراف کله گی دستگاه فرز

قابلیت انحراف کله گی دستگاه فرز عمودی یکی دیگر از روش های شیب دار کردن قطعات روی این ماشین است. در این روش پس از محاسبه مقدار شیب قطعه کله گی دستگاه را به اندازه زاویه مناسب منحرف کرده و فرز کاری انجام می شود. (شکل ۲۰)

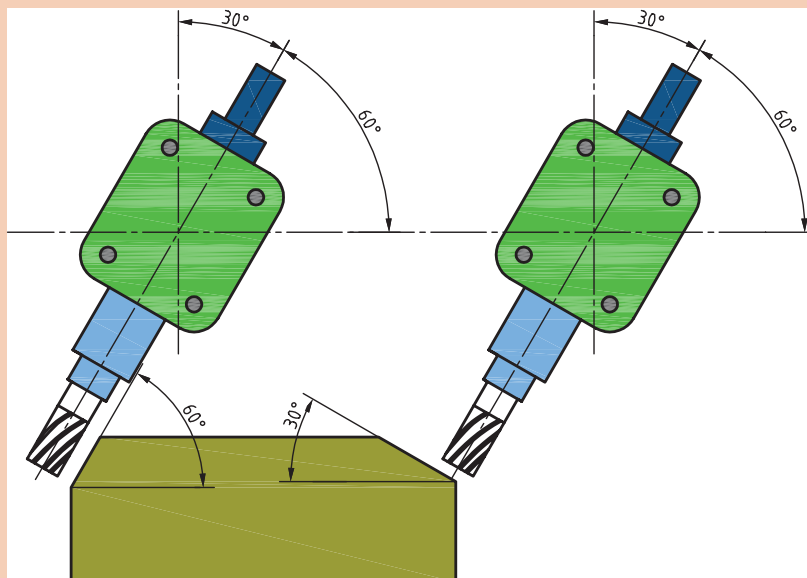


شکل ۲۰- روش انحراف کله گی فرز FP4M

نکته کلیدی



در شیب تراشی با روش انحراف کله گی، اگر با پیشانی تیغه فرز ماشین کاری انجام شود زاویه ایجاد شده روی قطعه کار برابر با زاویه انحراف کله گی است. ولی اگر از محیط (بغل) تیغه فرز استفاده شود زاویه ایجاد شده، زاویه متمم است.



شکل ۲۱- شیب ناشی از پیشانی تراشی بغل تراشی با تیغه فرز





## شیب تراشی قطعه شماره ۲ با روش انحراف کله‌گی دستگاه فرز

تعداد: ۱

تولانس به جز موارد ذکر شده: ISO۲۷۶۸-f

جنس قطعه کار St۳۷

وسایل مورد نیاز:

۱ تیغه فرز پیشانی تراش

۲ میله سنگ خورده

۳ گیره

۴ کولیس ۰/۰۵ میلی‌متر

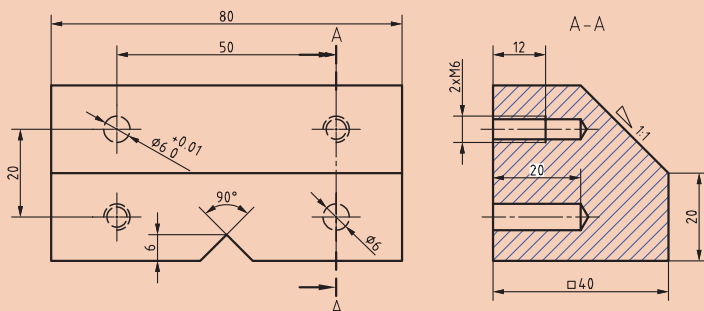
۵ آچار آلن مخصوص انحراف کله‌گی

۶ زاویه‌سنج اونیورسال ۵ دقیقه

۷ زیرکاری استاندارد سنگ زده

۸ وسایل خط‌کشی

۹ عینک ایمنی



## نکات ایمنی



- ۱ از سالم بودن کلید اضطراری اطمینان حاصل کنید.
- ۲ هنگام کار از لباس کار، عینک محافظ و کفش ایمنی مناسب استفاده کنید.
- ۳ گیره را با پیچ مخصوص T شکل ببندید. جهت بستن پیچ‌ها از آچار تخت مناسب استفاده کنید.
- ۴ تیغه فرز مناسب را انتخاب و آن را به‌طور مطمئن ببندید.
- ۵ برای اعمال نیروی بستن هرگز از ضربات چکش استفاده نکنید.
- ۶ تیغه فرزها لبه برنده تیزی دارند هنگام بستن مراقب دست خود باشید.
- ۷ نصب گیره، تعویض ابزار، تعویض عده دوران، کنترل و اندازه‌گیری قطعه و دور کردن براده‌ها را حتماً در حالت خاموشی دستگاه انجام دهید.
- ۸ تنظیم کله‌گی و کنترل ابعادی قطعه کار در حالت خاموشی دستگاه انجام شود.
- ۹ هنگام سفت کردن پیچ‌های کله‌گی، باتوجه به بلند بودن دنباله آچار آلن کله‌گی و اعمال گشتاور زیاد، از ایجاد نیروی اضافی برای سفت کردن بپرهیزید.
- ۱۰ جهت انحراف کله‌گی از ضربه زدن به پوسته و محوردستگاه اجتناب کنید.
- ۱۱ دستگاه را در حالت روشن رها نکنید.

## دستور کار:

- ۱ تیغه فرز را روی ماشین نصب نمایید. (جهت ایجاد سطح یکنواخت، بهتر است از تیغه فرز تیغه‌دار یا پیشانی‌تراش با قطر بیشتر استفاده کرد که محدوده سطح نهایی شیب را جهت براده‌برداری پوشش دهد)



۲ گیره مناسب را روی میز دستگاه نصب کنید. در صورت وجود گیره روی میز دستگاه، آن را به لحاظ، ساعت بودن و صحیح بسته بودن کنترل کنید.

۳ قطعه کار را بسته و به ابعاد اولیه  $40 \times 40 \times 80$  میلی متر قبل از شیب برسانید.

۴ بر مبنای شیب محاسبه شده قطعه را خط کشی کرده و در گیره طوری ببندید که ناحیه فرز کاری کمی بالاتر از لبه گیره قرار گیرد.

۵ عده دوران و پیشروی دستگاه را بر مبنای قطر تیغه فرز و جنس قطعه کار (St ۷۳) محاسبه و تنظیم کنید.

۶ در حالت خاموشی دستگاه، ۴ پیچ پیشانی کله گی و ۲ پیچ زیر طوقه مدرج کله گی ماشین فرز را کمی شل و به میزان مورد نیاز آن را منحرف و پیچ های آن را سفت کنید.

توجه




قبل از انحراف کله گی، ضامن نشان داده شده در شکل را آزاد کنید و در پایان کار جهت برگرداندن کله گی به حالت اولیه، ضمن تنظیم زاویه صفر کله گی، ضامن را بین دو زائده قرار دهید.

نکته کلیدی



هنگام تنظیم زاویه انحراف کله گی دستگاه، به طور عمود به شاخص نگاه کنید.

۷ پس از اطمینان از محکم بودن قطعه کار، دستگاه را روشن و با رعایت اصول ایمنی، ماشین کاری را کامل کنید.



۸ دستگاه را خاموش کرده و قبل از باز کردن قطعه کار، سطح فرز کاری را به لحاظ کیفیت سطح و اندازه نسبت به خط کشی را کنترل کرده، در صورت نیاز اصلاح و تکمیل نمایید.

۹ قطعه کار و تیغه فرز را باز کنید.

۱۰ کله گی دستگاه را به حالت اولیه برگردانید. (دقت شود ضامن سمت چپ کله گی دستگاه در روی طوقه مدرج بین دو زائده خود قرار گیرد).

۱۱ قطعه کار را باز کرده و ابزار و وسایل استفاده شده را تحویل دهید.

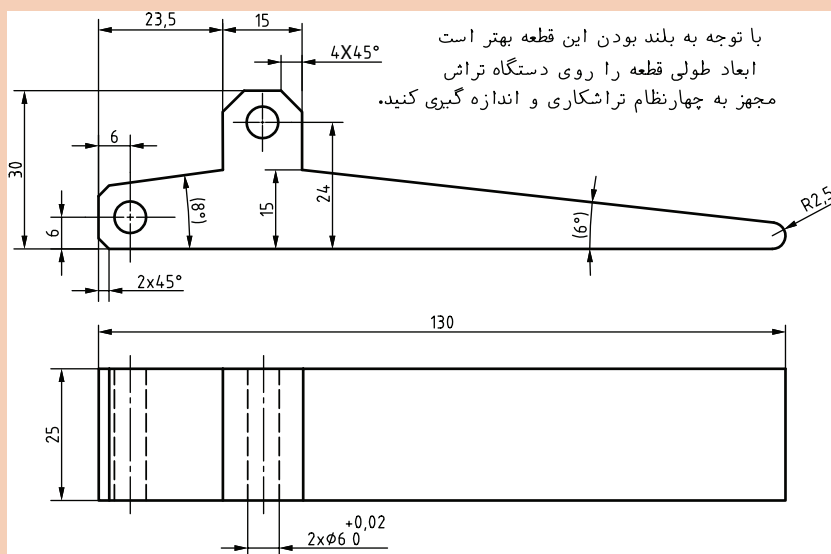
۱۲ دستگاه و محیط کار را تمیز کرده و براده ها را در محل پیش بینی شده قرار دهید.

بعد از ماشین کاری، نظافت دستگاه و محیط اطراف جزء وظایف هنرجویان محسوب می‌شود، که یا به صورت گروهی و یا فردی انجام می‌شود. یکی از هنرجویان به خاطر عجله برای رسیدن به کلاس ورزشی، بعد از نظافت دستگاه و محیط اطراف، براده‌ها را به سمت دستگاه مجاور که هم کلاسی اش در حال تمیز کردن است پخش و مقداری را هم به زیر کمدهای ابزار کارگاه هدایت می‌کند. این هنرجو با واکنش هم کلاسی و سرپرست کارگاه مواجه می‌شود و هنرآموز مربوطه هم با درج نمره منفی با وی برخورد می‌کند. هنرجوی خاطی در نهایت مجبور به نظافت مجدد شده و به خاطر اشتباهش نیز عذرخواهی می‌کند. به نظر شما:

- ۱ آیا جایگاه شخصیتی این هنرجو جلوی هنرآموز، سرپرست و همکلاسی‌هایش خدشه‌دار نشده است؟
- ۲ بهتر نیست که فعالیت‌های جانبی خودمان را در ساعات غیر مدرسه قرار دهیم تا از بروز مشکلات جلوگیری کنیم؟
- ۳ کار این هنرجو آنقدر اهمیت داشت که وظیفه اصلی خود را ناقص انجام دهد و مجبور به دوباره کاری شود؟ نکته اخلاقی: هیچ پنهان کاری تا ابد پنهان نمی‌ماند.



- ۱ مراحل انجام فرزکاری قطعه شماره ۴ را با توجه به نقشه داده شده، نوشته و پس از مشورت با یکدیگر و تأیید هنرآموز در کارگاه اجرا نمایید. قوس با شعاع ۲/۵ انتهای دسته با سوهان کاری کامل شود.



- ۲ قطعه فرزکاری شده را با توجه به روش های کنترل ذکر شده بررسی و نتیجه را در جدول ۱ درج نمایید.

جدول ۱- ارزشیابی قطعه ۴

قطعه شماره ۴			زاویه
ارزشیابی هنرآموز	اندازه کنترل شده	اندازه نقشه	
			۸ درجه
			۶ درجه



با توجه به شکل ۲۲ اندازه زاویه قطعه کار شماره ۲ فرزکاری شده، چقدر است، صحت یا عدم صحت زاویه را نسبت به نقشه مقایسه کنید.



شکل ۲۲- کنترل زاویه قطعه شماره ۲ با زاویه سنج ۵ دقیقه

**موضوع:** کنترل زاویه قطعه شماره ۲ با زاویه سنج ۵ دقیقه

**تعداد:** ۱ جنس قطعه کار St۳۷

**وسایل مورد نیاز:**

۱ صفحه صافی

۲ زاویه سنج ۵ دقیقه

#### نکات ایمنی



- هنگام ماشین کاری هیچ وقت اقدام به کنترل زاویه با زاویه سنج نکنید.
- از قرار دادن تیغه زاویه سنج داخل جیب لباس کار خودداری کنید.
- هنگام کار روی ماشین فرز، از قرار دادن زاویه سنج روی میز ماشین خودداری کنید.
- از افتادن و ضربه خوردن زاویه سنج جلوگیری کنید.
- بعد از اتمام کار اندازه گیری و کنترل ابزارها را تحویل دهید.

#### دستور کار:

- ۱ قطعه ماشین کاری شده را پلیسه گیری و تمیز کنید.
- ۲ زاویه سنج اونیورسال با دقت ۵ دقیقه را از انبار تحویل گرفته واز سالم بودن آن اطمینان حاصل کنید.
- ۳ سطح صفحه صافی را تمیز کرده و کار کنترل زاویه قطعه کار را با زاویه سنج روی صفحه صافی انجام دهید.
- ۴ اندازه خوانده شده را با اندازه نقشه مقایسه کنید.
- ۵ تیغه زاویه سنج را باز کرده و مجموعه زاویه سنج را تمیز کرده و در داخل جعبه مخصوص قرار دهید.
- ۶ گزارش اندازه گیری را به هنرآموز خود تحویل دهید.

این فعالیت را برای کنترل شیب قطعات شماره ۴ و ۷ نیز انجام و نتیجه را در جدول ۲ ارائه کنید.

جدول ۲- ارزشیابی قطعات فرزکاری شده

قطعه شماره ۲		قطعه شماره ۴		قطعه شماره ۷	
اندازه نقشه	اندازه کنترل شده	اندازه نقشه	اندازه کنترل شده	اندازه نقشه	اندازه کنترل شده
نمره ارزشیابی:		نمره ارزشیابی:		نمره ارزشیابی:	

## ارزشیابی هنر جو در واحد یادگیری: فرز کاری سطوح شیب دار

### نقشه کار: فرز کاری سطوح شیب دار

فرز کاری سطوح شیب دار مطابق نقشه. جنس قطعه از چدن و به صورت پیش ساخته تهیه شود.

**شاخص عملکرد:** ۱- تولرانس ابعادی بر اساس استاندارد

ISO ۲۷۶۸-f-۲ پرداخت سطح  $Ra = 1/6$

**شرایط انجام کار:** ۱- انجام کار در محیط کارگاه ۲- نور

یکنواخت با شدت ۴۰۰ لوکس ۳- تهویه استاندارد و

دمای  $20^{\circ}\text{C} \pm 3^{\circ}\text{C}$

۴- ابزارآلات و تجهیزات استاندارد و آماده به کار ۵- وسایل

ایمنی استاندارد ۶- زمان ۲/۵ ساعت

**مواد مصرفی:** جنس قطعه از چدن و به صورت پیش

ساخته

**ابزار و تجهیزات:** ماشین فرز اونیورسال با متعلقات - گیره

موازی رومیزی - ساعت اندازه گیری - کولیس ۰/۰۵ -

گونیا دقیق - آچار تخت - سوهان متوسط ۲۰۰ - زیر

سری سنگ خورده - برس مویی - تیغه فرز زاویه ای -

وسایل روغن کاری - وسایل تمیز کاری - چکش لاستیکی

- زیرپایی

### معیار شایستگی:

ردیف	مرحله کار	حداقل نمره قبولی از ۳	نمره هنرجو
۱	بررسی قطعه کار اولیه	۱	
۲	آماده سازی دستگاه	۱	
۳	آماده سازی و بستن ابزار	۱	
۴	بستن قطعه کار	۲	
۵	انجام فرز کاری سطوح شیب دار	۲	
<b>شایستگی های غیر فنی، ایمنی، بهداشت، توجهات زیست محیطی و نگرش:</b>			
۱- مسئولیت پذیری ۲- مدیریت مواد و تجهیزات ۳- استفاده از لباس کار و کفش ایمنی و عینک محافظ ۴- تمیز کردن وسایل و محیط کار ۵- پایبندی به الزامات نقشه			
میانگین نمرات *			

\* حداقل میانگین نمرات هنرجو برای قبولی و کسب شایستگی، ۲ می باشد.

پودمان ۳

فرزکاری شیارها





## واحد یادگیری فرزکاری شیارها

### استاندارد عملکرد

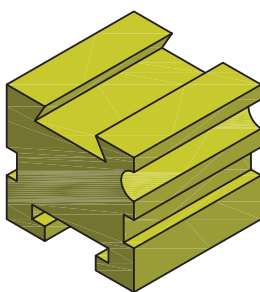


فرزکاری شیارها مطابق نقشه

### پیش نیاز

نقشه خوانی  
کار با ابزارهای اندازه گیری  
فرزکاری سطوح تخت  
فرزکاری سطوح شیب دار

## شیار تراشی

**مقدمه:** شیار عبارت است از گودی که به منظور هدایت و اتصال قطعات و انتقال قدرت، ایجاد می‌شود، مانند حرکت کشویی عرضی و فوقانی ماشین تراش و میز ماشین فرز که توسط شیار دم چلچله هدایت می‌شود همین طور شیار T شکل روی میز دستگاه‌های فرز و مته که جهت اتصال تجهیزات و بستن قطعه به کار می‌رود. (شکل ۱)



شکل ۱

ضمن توجه به تصاویر (شکل ۱) درباره روش تولید شیارهای روی قطعات با هم مشورت نمایید. آیا این نوع از شیارها باروش‌های تولید که قبلاً آموخته‌اید قابل انجام است؟

پرسش

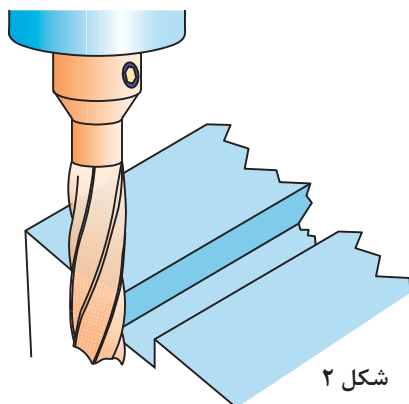


پاسخ شما به پرسش مطرح شده هرچه باشد، با این جمله تکمیل می‌شود که برای ساخت دقیق قطعات شکل بالا نیاز به ابزارهای دیگری غیر از آنچه تا کنون آشنا شده‌اید دارید، لذا در ادامه شما را به شناسایی ابزارها و فراگیری روش‌های شیار تراشی دعوت می‌نماییم.

## انواع شیارها و روش‌های شیار تراشی

با توجه به اینکه شکل ظاهری شیارها مهم‌ترین عامل در کاربرد آنها می‌باشد، نام‌گذاری آنها بر این اساس انجام شده و عبارت‌اند از:

شیار راست گوشه (ناودانی)، جناقی (V شکل)، T شکل، دم چلچله، قوس دار و مارپیچ که در این فصل به روش ایجاد آنها، به جز شیار مارپیچ خواهیم پرداخت.



### شیار راست گوشه (ناودانی)

فرو رفتگی است مستقیم با مقطع مربع یا مستطیل که بر روی یک سطح ایجاد شده است. از این شیارها در راهنماهای تخت قسمت‌های متحرک استفاده می‌شود. مانند بعضی از گیره‌ها که برای هدایت فک متحرک گیره استفاده می‌شود. یک نمونه از این شیار را می‌توان در شیار جای خار بر روی محورهای استوانه‌ای مشاهده کرد. شیارهای راست گوشه در سطح میلگرد که در دو نوع باز و بسته ایجاد می‌گردند معمولاً برای قرارگیری خارها استفاده می‌شوند.

### ایجاد شیار راست گوشه با فرز عمودی

برای ایجاد شیار راست گوشه با دستگاه فرز عمودی با توجه به ابعاد شیار از تیغه فرزهای انگشتی یا پیشانی تراش استفاده می‌شود که روش بستن تیغه فرز پیشانی تراش با میله فرزگیر کوتاه در فصل قبل بیان شد. در اینجا روش بستن تیغه فرزهای دنباله استوانه‌ای در کُلت فشنگی دار را فرا می‌گیرید.

**بستن تیغه فرز:** تیغه فرزهای انگشتی، پیشانی تراش و هر نوع دیگری که دارای دنباله استوانه‌ای هستند مانند تیغه فرزهای تی شکل و زاویه دار را در فرزگیر کوتاه (کُلت) می‌بندند. کُلت درون سوراخ مخروطی گلولی دستگاه فرز جا زده شده و به وسیله یک پیچ بلندی از پشت یا بالای دستگاه محکم بسته می‌شود.

بیشترین کاربرد کُلت برای بستن تیغه فرز انگشتی می‌باشد. (شکل ۳) اجزای فرزگیر، فشنگی و تیغه فرز را نشان می‌دهد.



شکل ۳

نکته



برای بستن تیغه فرز ابتدا فشنگی را داخل مهره جا زده و سپس مهره را ببندید.





## نصب تیغه فرز انگشتی

### وسایل مورد نیاز:

- ۱ دستگاه فرز عمودی
- ۲ آچارهای بستن فرزگیر
- ۳ فرزگیر (کلت)
- ۴ تیغه فرز انگشتی
- ۵ فشنگی متناسب با قطر تیغه فرز



- ۱ برای بستن تیغه فرز روی دستگاه همیشه از آچارهای مربوطه استفاده نمایید.
- ۲ آچار روی محور فرزگیر را بلافاصله بعد از محکم کردن بردارید.
- ۳ در هنگام باز و بستن تیغه فرز از یک پارچه ضخیم برای برداشتن آن استفاده کنید و با دست برهنه به تیغه فرز دست نزنید.
- ۴ بستن و بازکردن تیغه فرز را فقط در حالت خاموش بودن ماشین انجام دهید.
- ۵ تیغه فرز را تا حد امکان کوتاه ببندید.



- پس از پوشیدن لباس کار و کفش ایمنی وسایل مورد نیاز را تحویل بگیرید و ضمن رعایت نکات ایمنی مراحل انجام کار را به ترتیب بعد از توضیحات هنرآموز و با نظارت او انجام دهید.
- ۱ بررسی کنید دستگاه و ابزارها سالم و تمیز باشند. (در صورت لزوم تمیز و تعویض نمایید).
  - ۲ مطابق شکل روبه‌رو فشنگی را در داخل مهره قرار داده و سپس تیغه فرز را داخل فشنگی قرار دهید.



هیچ‌گاه اول تیغه فرز را داخل فشنگی قرار ندهید.



- ۳ مهره، فشنگی و تیغه فرز را روی فرزگیر ببندید. (شکل ۴)

شکل ۴

۴ سوراخ مخروطی گلویی دستگاه و دنباله مخروطی فرزگیر را با پارچه مناسب، تمیز کنید و دنباله را درون سوراخ مخروطی گلویی دستگاه طوری قرار دهید که شیار پیشانی میله فرزگیر در محل خود قرار گیرد.

۵ فرزگیر را در گلویی دستگاه قرار داده و مهره را توسط پیچ بلندی که در امتداد محور اصلی در پشت یا بالای دستگاه قرار دارد با آچار آلن محکم کنید (باید در نظر داشته باشیم که گاهی فرزگیر قبلاً بر روی محور ماشین نصب شده است که در این صورت می‌توانیم مجموعه فشنگی، تیغه فرز و مهره را روی فرزگیر ببندیم). (شکل ۵)



شکل ۵

۶ از دور بودن (نداشتن لنگی) تیغه فرز مطمئن شوید (با روشن کردن دستگاه و خاموش کردن آن).



شیار قطعهٔ روبنده را مطابق نقشه و به ترتیب مراحل زیر بعد از شرح انجام کار توسط هنرآموز فرز کاری نمایید.

	نام قطعه: بدنه روبنده
	جنس: st۳۷
	ابعاد مواد اولیه: ۱۰۲×۳۸×۲۰
	سایر تolerانس‌ها: ISO۲۷۶۸-f
	<p><b>تجهیزات و ابزارهای مورد نیاز:</b></p> <ol style="list-style-type: none"> <li>۱- دستگاه فرز با امکانات لازم جهت بستن تیغه فرز و قطعه کار</li> <li>۲- تیغه فرز انگشتی</li> <li>۳- زیرکاری مناسب</li> <li>۴- گونیای مویی</li> <li>۵- کولیس</li> <li>۶- چکش پلاستیکی (مسی)</li> <li>۷- سوهان تخت جهت پلیسه گیری</li> </ol>

- ۱ برای تنظیم دستگاه و قطعه کار و ابزار همیشه از آچارهای مربوطه استفاده نمایید.
- ۲ آچار روی محور فرز را بلافاصله بعد از محکم کردن بردارید.
- ۳ از نزدیک کردن دست به تیغه فرز در حال گردش جداً خودداری کنید. در این حالت حتی دورکردن براده‌ها از سطح کار نیز خطرناک است.
- ۴ در صورت صدمه دیدن دستگاه یا ابزارها به هنرآموز یا استادکار اطلاع دهید.
- ۵ سعی کنید برای ساخت قطعات، راه بی خطر و کوتاه و کم هزینه انتخاب کنید.
- ۶ همیشه سعی کنید محدوده کاری شما مرتب و تمیز باشد.
- ۷ در صورتی که در انجام کار گروهی اختلافی پیش آمد به هنرآموز اطلاع دهید.
- ۸ از عینک محافظ استفاده شود.
- ۹ از محکم و درست بسته شدن قطعه کار درون گیره با سایر وسایل نگهدارنده مطمئن شوید.



## مراحل انجام کار

۱ خط کشی قطعه کار گونیا کاری شده (در صورتی که قطعه کار را قبلاً گونیاکاری نکرده‌اید آن را گونیا کنید).

۲ بستن قطعه کار

۳ بستن تیغه فرز انگشتی

۴ تنظیم تعداد دور، جهت گردش و مقدار پیشروی لازم و روشن کردن دستگاه

۵ انتقال تیغه فرز به محل شیار. به این منظور تیغه فرز را ابتدا با کنار عرض قطعه مماس کرده و سپس به اندازه مجموع شعاع تیغه فرز انگشتی و نصف عرض قطعه کار جابه‌جا نمایید و در محل شروع شیار قرار دهید.

۶ مماس کردن تیغه فرز با سطح قطعه کار (برای جلوگیری از صدمه دیدن سطح کار بهتر است از چسب کاغذی یا نوار کاغذ استفاده کنیم).

۷ قرار دادن حلقه تنظیم حرکت عمودی روی صفر

۸ تنظیم عمق بار و شروع عملیات براده‌برداری و ادامه تا پایان کار



توجه



می‌توان براده‌برداری را در چند مرحله انجام داد. مثلاً ابتدا به عمق ۵، سپس به عمق ۱۰ و گام‌به‌گام تا انتها. البته با کسب مهارت می‌توان عمق کامل را در یک حرکت تراشید (تا از بدنه تیغه فرز به طور کامل استفاده شود).



۹ خاموش کردن دستگاه، باز کردن قطعه، اندازه‌گیری و کنترل آن.

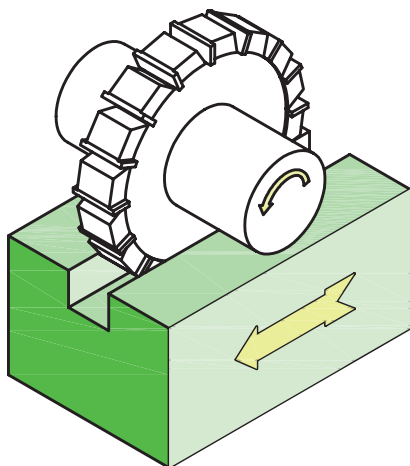
نکته مهم



با توجه به اینکه در هنگام شیار تراشی درگیری تیغه فرز با قطعه کار زیاد است عمق بار، تعداد دور و پیشروی تقریباً نصف حالت معمول انتخاب گردد.



## شیار تراشی با فرز افقی و تیغه فرز پولکی



اگر شیار قطعه موازی طول میز باشد باید تیغه فرز را ابتدا با لبه عرضی قطعه کار مماس کرده و بعد به اندازه مجموع نصف ضخامت تیغه و فاصله وسط شیار از لبه قطعه کار جابه‌جا نمود و حرکت میز عرضی را قفل کرد سپس در ابتدای طول شیار مماس کرده، پس از تنظیم بار عمقی فرزکاری را تا انتها ادامه دهید.

**اندازه‌گیری و کنترل شیارهای راست گوشه**

اندازه‌گیری شیارهای راست گوشه با کولیس عمق سنج مطابق باروش‌های معمولی که قبلاً گفته شده انجام می‌شود.

در فرزکاری شیارها، موازی بودن شیار با محور یا لبه قطعه اهمیت زیادی دارد، مخصوصاً اگر به عنوان راهنما مورد استفاده قرار گیرند. بنابراین باید برای جلوگیری از خطا از ساعت بودن گیره مطمئن بود.

نکته مهم



۱ در چه قسمت‌هایی از دستگاه فرزی که شما کار می‌کنید از شیارهای راست گوشه استفاده شده، نقش هر کدام را بنویسید؟

پرسش



۲ برای ایجاد شیار راست گوشه از چه تیغه فرزهایی استفاده می‌شود؟



## فرز کاری شیار راست گوشه (قطعه شماره ۵ گیره):

شیار قطعه شماره ۵ را که قبلاً گونیاکاری نموده‌اید به کمک عملیات فرزکاری مطابق نقشه و مشخصات داده شده طی مراحل زیر تکمیل نمایید.

	نام قطعه: شماره ۵ پروژه اصلی
	جنس: st۳۷
	ابعاد مواد اولیه: ۴۲×۳۸×۱۴
	سایر تolerانس‌ها: ISO۲۷۶۸-f
	<p>تجهیزات و ابزارهای مورد نیاز:</p> <ol style="list-style-type: none"> <li>دستگاه فرز با امکانات لازم</li> <li>جهت بستن تیغه فرز و قطعه کار</li> <li>تیغه فرز انگشتی یا پولکی</li> <li>زیرکاری سنگ خورده</li> <li>گونیا ی مویی</li> <li>کولیس</li> <li>چکش پلاستیکی فشرده (مسی)</li> <li>سوهان تخت جهت پلیسه‌گیری</li> </ol>

## مراحل انجام کار:


- خط کشی قطعه کار گونیاکاری شده (در صورتی که قطعه کار را قبلاً گونیا کاری نکرده‌اید آن را گونیا کنید).
- بستن قطعه کار
- بستن تیغه فرز انگشتی یا پولکی
- تنظیم تعداد دور و مقدار پیشروی لازم و روشن کردن دستگاه
- انتقال تیغه فرز به محل شیار به این منظور تیغه فرز را ابتدا با کنار عرض قطعه مماس کرده و سپس به اندازه مجموع شعاع تیغه فرز انگشتی و نصف عرض قطعه کار جابه‌جا نمایید و در محل شروع شیار قرار دهید.
- مماس کردن تیغه فرز با قطعه کار و قراردادن حلقه تنظیم حرکت عمودی روی صفر
- تنظیم عمق بار و شروع عملیات براده‌برداری و ادامه تا پایان کار



با توجه به اینکه در هنگام شیار تراشی درگیری تیغه فرز با قطعه کار زیاد است تعداد دور و پیشروی نصف حالت معمول انتخاب گردد و از مایع خنک کاری مناسب استفاده شود.

### شیارهای (جناقی) V شکل:

این شیارها یکی دیگر از شیارهای پر کاربرد می باشند. سطوح این شیارها بایستی دارای سطحی کاملاً صیقلی باشند چرا که با تماس دو قطعه در شیار اصطکاک به حداقل برسد. لذا سطوح شیارهای جناقی را پس از تولید سنگ زده و بعد شابرکاری می کنند. شیارهای جناقی به دلیل شکل هندسی که دارند نیروهای جانبی وارده را تحمل کرده و مانع خارج شدن قطعه از مسیر شیار می شوند و حرکت بدون انحراف قطعه متحرک را امکان پذیر می سازند. در بیشتر موارد این شیارها را به طور جناقی کامل نمی سازند، یعنی انتهای شیار را تخت در نظر می گیرند. بهترین زاویه داخلی برای این شیارها ۹۰ درجه می باشد. بارزترین نمونه مورد استفاده این نوع شیار در راهنمای ماشین تراش می باشد. (شکل ۷)



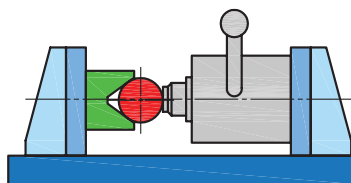
شکل ۷

اگر اطراف میله گردی را با شیارهای راست گوشه یا V شکل کم عمق فرزکاری کنیم، یک هزار خاری ایجاد می شود. (شکل ۸)

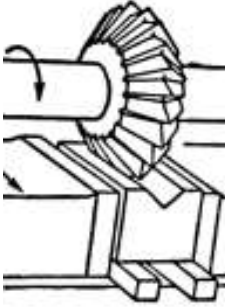

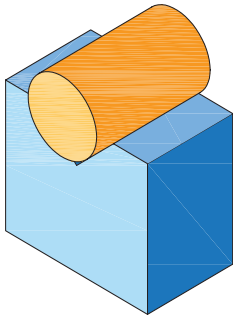
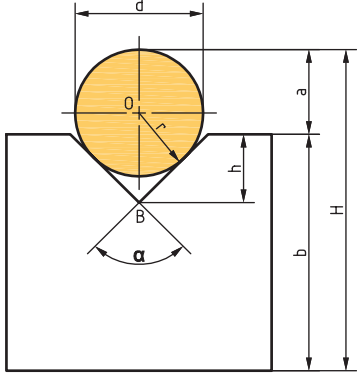


شکل ۸

از شیارهای V شکل در ابعاد بزرگ تر به عنوان تکیه گاه قطعات گرد در هنگام بستن، کنترل و خط کشی استفاده می گردد. (شکل ۹)



شکل ۹

روش‌های ایجاد ، کنترل و اندازه‌گیری شیارهای V شکل (جناقی)			ردیف
عنوان	توضیحات	شکل	
ایجادشیار V شکل با فرزکاری افقی	پس از انجام کارهای مقدماتی ( همان‌طور که در فرزکاری شیارها گفته شد) تیغه فرزی V شکل مناسب با اندازه قطعه انتخاب و روی دستگاه سوار می‌کنیم و بعد از مماس کردن و تنظیم عمق بار با توجه به ارتفاع شیار، عملیات فرزکاری را تا کامل شدن قطعه کار ادامه می‌دهیم.		۱
ایجادشیار V شکل بافرز کاری عمودی	با استفاده از تیغه فرز انگشتی و انحراف کلگی دستگاه فرز عمودی مطابق شکل می‌توان در دو مرحله شیار V را ایجاد کرد. در این حالت برای جلوگیری از برخورد تیغه فرز با سطح مقابل نخست یک شیار مستقیم کم عرض ایجاد می‌نماییم و بعد کلگی دستگاه فرز را یک بار به سمت راست و یک بار به سمت چپ انحراف داده و براده برداری تا محل خط‌کشی شده ادامه می‌دهیم.		۲
اندازه‌گیری و کنترل شیار V	برای کنترل این نوع شیارها از یک میله اندازه‌گیر به شعاع r مطابق شکل، به‌طوری‌که سطح بالای آن از سطح قطعه بالاتر قرارگیرد استفاده می‌نماییم و به‌وسیله کولیس یا میکرومتر اندازه‌های d, H, b, r را خوانده و ارتفاع شیار را از فرمول زیر محاسبه می‌کنیم. $h + a = OB + r$ $h = OB + r - a$ $\sin \frac{\alpha}{2} = \frac{r}{OB}$ $OB = \frac{r}{\sin \frac{\alpha}{2}}$ $a = H - b$ $h = \frac{r}{\sin \frac{\alpha}{2}} + r - (H - b)$	 	۳



کاربردهای شیارهای جناقی (V) را بنویسید.

فرزکاری شیار جناقی (V) قطعه شماره ۲ فک ثابت گیره را مطابق نقشه انجام دهید.


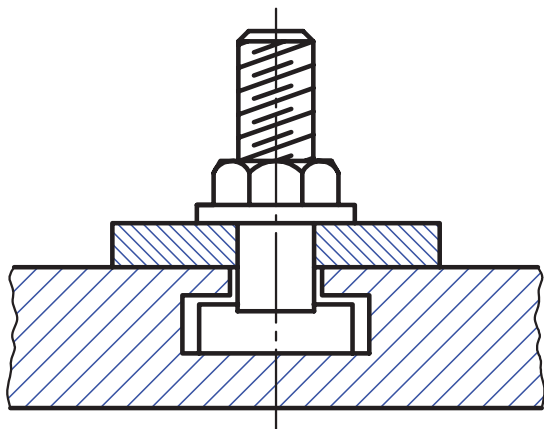
	<p><b>نام قطعه:</b> فک ثابت گیره قطعه کار شماره ۲ پروژه</p> <p><b>جنس:</b> st۳۷</p> <p><b>ابعاد مواد اولیه:</b> ۸۵×۴۲×۴۲</p> <p><b>سایر تolerانس‌ها:</b> f-ISO۲۷۶۸</p>
<p>در هنگام فرزکاری شیارها تمام نکات ایمنی و حفاظتی که قبلاً گفته شد را رعایت کنید</p>	<p><b>تجهیزات و ابزارهای مورد نیاز:</b></p> <ol style="list-style-type: none"> <li>دستگاه فرز با امکانات لازم جهت بستن تیغه فرز و قطعه کار</li> <li>تیغه فرز V شکل</li> <li>زیرکاری مناسب</li> <li>گونپای مویی</li> <li>کولیس و میله‌های اندازه‌گیر</li> <li>چکش پلاستیکی</li> <li>سوهان تخت جهت پلیسه‌گیری</li> </ol>

### مراحل انجام کار:

- خط کشی قطعه کار گونیا کاری شده (در صورتی که قطعه کار را قبلاً گونیا کاری نکرده‌اید آن را گونیا کنید)
- بستن قطعه کار
- بستن تیغه فرز V شکل
- تنظیم تعداد دور و مقدار پیشروی لازم و روشن کردن دستگاه
- انتقال تیغه فرز به محل شیار به این منظور تیغه فرز را ابتدا به محل خط کشی قطعه انتقال دهید.
- مماس کردن تیغه فرز با قطعه کار و قرار دادن حلقه تنظیم حرکت عمودی روی صفر
- تنظیم عمق بار و شروع عملیات براده‌برداری و ادامه تا پایان کار
- کنترل اندازه و تolerانس‌های هندسی و کیفیت سطوح

## شیارهای T شکل

نوع دیگری از شیارها، شیارهای T شکل هستند که به خاطر شکل هندسی که دارند برای مهار کردن گل پیچ اتصال مناسب می‌باشند. با ایجاد این شیار بر روی میز ماشین‌های ابزار می‌توان وسایل بستن مانند گیره یا روبنده را به میز محکم کرد. شکل مستطیلی قسمت پایین شیار مانع از چرخش گل پیچ می‌شود. (شکل ۱۰)



شکل ۱۰

روش‌های ایجاد، اندازه‌گیری و کنترل شیار T شکل			ردیف
شکل	توضیحات	عنوان	
	بعد از ایجاد شیار اولیه با تیغه فرز انگشتی برای ادامه کار از تیغه فرز T مطابق شکل استفاده می‌شود. (قطر تیغه فرز انگشتی با توجه به قطر تیغه فرز T شکل انتخاب می‌شود).	ایجاد شیار T با فرز کاری عمودی	۱
	عمق و عرض این نوع شیارها به طور معمول به وسیله میکرومتر و کولیس قابل اندازه‌گیری بوده و کنترل سطوح با گونیا انجام می‌شود.	اندازه‌گیری و کنترل شیار T	۲

نکته حائز اهمیت در ساخت این نوع شیارها ارتفاع لبه T شکل می باشد که بایستی به اندازه ای باشد که تحمل فشار و نیروی وارده از طرف پیچ را داشته باشد.

پرسش



- ۱ در چه قسمت هایی از دستگاه ها و ابزارهایی که در کارگاه موجود است از شیارهای T استفاده شده، نقش هر کدام را بنویسید؟
- ۲ برای ایجاد شیار اولیه جهت فرزکاری شیارهای T به جز تیغه فرز انگشتی از چه تیغه فرز دیگری می شود استفاده کرد؟

فعالیت



### فرز کاری شیار T شکل:

قطعه مکعب مستطیلی به ابعاد  $40 \times 20 \times 20$  که در اختیار شما قرار می گیرد را مطابق نقشه زیر و مشخصات داده شده به کمک عملیات فرزکاری را طی مراحل زیر تکمیل نمایید.

نام قطعه: راهنمای T	نقشه قطعه کار شماره ۱ مونتاژکاری سطوح راهنمای T شکل
جنس: st۳۷ یا AL	
ابعاد مواد اولیه: $40 \times 20 \times 20$	
تجهیزات و ابزارهای مورد نیاز:	
<ol style="list-style-type: none"> <li>۱ دستگاه فرز با امکانات لازم جهت بستن تیغه فرز و قطعه کار</li> <li>۲ تیغه فرز انگشتی</li> <li>۳ تیغه فرز T شکل</li> <li>۴ زیرکاری مناسب</li> <li>۵ گونیای مویی</li> <li>۶ کولیس و میکرومتر و ساعت اندازه گیری</li> <li>۷ چکش پلاستیکی</li> <li>۸ سوهان تخت جهت پلیسه گیری</li> </ol>	

در هنگام فرزکاری شیارها تمام نکات ایمنی و حفاظتی که قبلاً گفته شد را رعایت کنید

### مراحل انجام کار

- ۱ کنترل اندازه قطعه کار اولیه



۲ بستن قطعه کار و ابزار لازم و گونیا کاری قطعه کار

۳ خط کشی قطعه کار

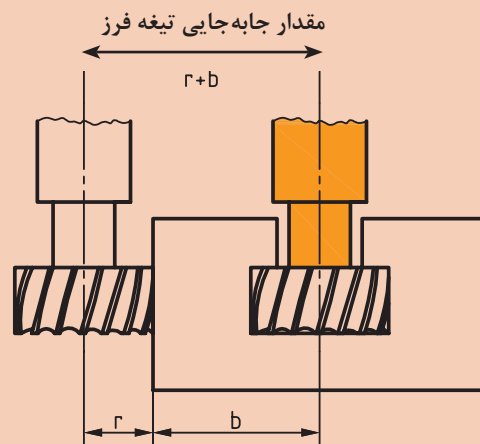
۴ بستن مجدد قطعه کار

۵ بستن تیغه فرز انگشتی

۶ تنظیم تعداد دور و مقدار پیشروی لازم و روشن کردن دستگاه و ایجاد شیار راست گوشه

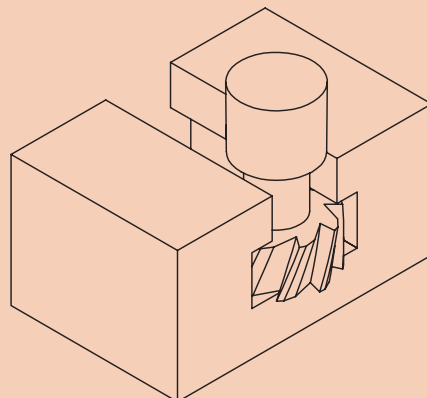
۷ بستن تیغه فرز T

۸ انتقال تیغه فرز به محل شیار. به این منظور تیغه فرز را ابتدا با کنار قطعه مماس کرده و سپس میز را به اندازه مجموع شعاع (r) تیغه فرز T و نصف قطعه کار (b) را جابه‌جا نمایید و در محل شروع شیار قرار دهید.



۹ مماس کردن تیغه فرز با قطعه کار و قراردادن حلقه تنظیم حرکت عمودی روی صفر

۱۰ تنظیم عمق بار و شروع عملیات براده برداری و ادامه تا پایان کار



۱۱ بازکردن قطعه کار، کنترل اندازه و تolerانس‌ها و کیفیت سطوح

نکته

در موقع تراشیدن شیار T شکل بهتر است جهت حرکت تیغه فرز و قطعه کار را مخالف هم انتخاب نمایید.





### قطعه کار شماره ۲ مونتاژکاری سطوح راهنمای T شکل

پس از بررسی نقشه با مشورت افراد گروه مراحل انجام کار و فهرست ابزارهای لازم را نوشته و در صورت تأیید هنرآموز محترم قطعه کار را آماده کرده و قطعه را ماشین کاری و سپس مونتاژ نموده و اشکالات احتمالی را در صورت امکان بر طرف نمایید.



نقشه قطعه کار شماره ۲ مونتاژکاری سطوح راهنمای T شکل	نام قطعه: راهنمای T
	جنس: st۳۷ یا AL
	ابعاد مواد اولیه: ۴۰×۲۰×۲۰
	<p><b>تجهیزات و ابزارهای مورد نیاز:</b></p> <ol style="list-style-type: none"> <li>۱ دستگاه فرز با امکانات لازم جهت بستن تیغه فرز و قطعه کار</li> <li>۲ تیغه فرز انگشتی</li> <li>۳ تیغه فرز T شکل یا شیار تراش</li> <li>۴ زیرکاری مناسب</li> <li>۵ گونیای مویی</li> <li>۶ کولیس و میکرومتر و ساعت اندازه گیری</li> <li>۷ چکش پلاستیکی</li> <li>۸ سوهان تخت جهت پلیسه گیری</li> </ol>

در هنگام فرزکاری شیارها تمام نکات ایمنی و حفاظتی که قبلاً گفته شد را رعایت کنید

### شیارهای دم چلچله:

شیارهای دم چلچله‌ای به دو صورت داخلی و خارجی بر روی قطعات ایجاد می‌شود. حرکت قطعه متحرک بر روی این شیار دقیق‌تر از حالت‌های قبل صورت می‌گیرد. به خاطر شکل شیار، درگیری دو قطعه با تضمین بالایی انجام می‌شود، به‌طوری‌که انحراف از مسیر در این نوع غیر ممکن است. در مکانیزم حرکت خطی جهت هدایت صحیح قطعات متحرک از این نوع شیار استفاده زیادی می‌شود. نمونه شاخص این نوع شیار در کشویی (سوپرت) عرضی دستگاه تراش و کشویی محور اصلی دستگاه فرز افقی می‌باشد (شکل ۱۱)

جهت گرفتن لقی بین دو قطعه محرک و متحرک از قطعه‌ای منشوری به نام شمشیری استفاده می‌گردد. زاویه شیار دم چلچله‌ای را با توجه به کاربرد آنها معمولاً ۷۵-۶۰-۴۵-۳۰ درجه در نظر می‌گیرند که به دو صورت داخلی و خارجی تراشیده می‌شوند.




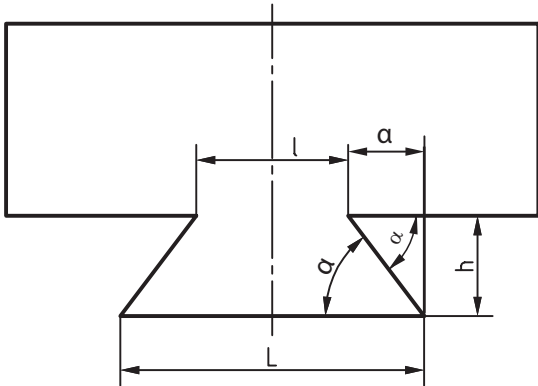
شکل ۱۱

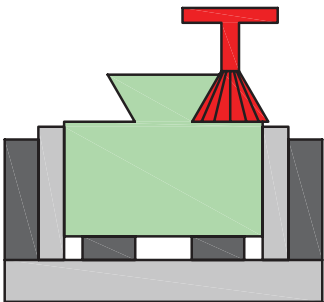
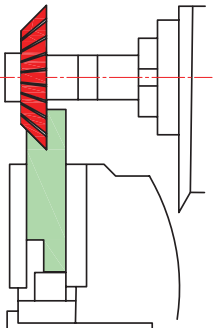
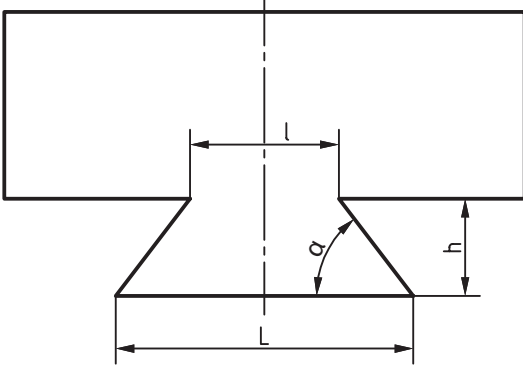
- الف) برای ایجاد شیارهای دم چلچله داخلی باید ابتدا شیار راست گوشه تراشیده شود و بعد با تیغه فرزهای زاویه تراش فرم آن کامل شود.
- ب) برای ایجاد شیارهای دم چلچله خارجی بهتر است قسمت‌های تخت با تیغه فرزهای مناسب دیگر فرزکاری شده و در مرحله بعد با زاویه تراش، فرم آن کامل گردد.

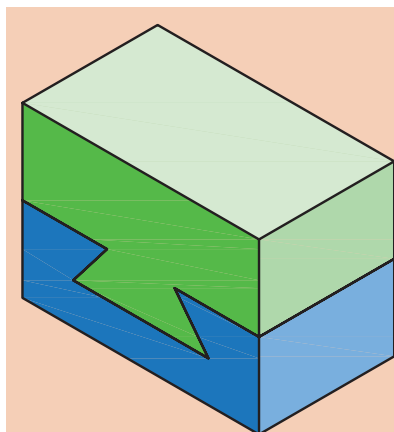
نکته



برای اندازه‌گیری قاعده بزرگ در شیارهای دم چلچله داخلی و قاعده کوچک در شیارهای دم چلچله خارجی از وسایل اندازه‌گیری معمولی نمی‌توانیم استفاده کنیم، لذا از روابطی که در جدول درج شده استفاده می‌نماییم.

ایجاد شیارهای دم‌چلچله و روش‌های کنترل آنها			ردیف
شکل	توضیحات	عنوان	
	پس از انجام تنظیمات اولیه، توسط تیغه فرز انگشتی که قطر آن به اندازه کوچک‌ترین عرض شیار یا کمتر باشد عمل براده‌برداری را تا عمق لازم ادامه می‌یابد و بعد به کمک تیغه فرز زاویه‌دار مطابق شکل عملیات فرز کاری تکمیلی را انجام می‌دهیم (در مواردی که اندازه تیغه با شیار یکسان نباشد پس از تراشیدن یک طرف با جابه‌جایی عرضی تیغه طرف دیگر را کامل می‌کنیم).	ایجاد شیار دم‌چلچله داخلی	۱
	کنترل شیارهای دم‌چلچله داخلی از طریق محاسبه:  ابتدا فاصله $l$ ، $h$ را با کولیس عمق‌سنج‌دار اندازه گرفته و بعد برای محاسبه طول قاعده بزرگ از فرمول زیر استفاده کنید و با اندازه نقشه مقایسه نمایید. $\cot g \alpha = \frac{a}{h} \Rightarrow a = h \cot g \alpha$ $L = l + 2 h \cot \alpha$ <b>مثال:</b> اگر مقدار اندازه قاعده کوچک دریک شیار دم‌چلچله $l=20$ و ارتفاع $h=10$ و زاویه آن $60^\circ$ درجه باشد مقدار قاعده بزرگ ( $L$ ) را محاسبه کنید. $L = l + 2 h \cot \alpha = 20 + 2 \times 10 \times \cot 60^\circ = 31.54$	اندازه‌گیری و کنترل شیار دم‌چلچله داخلی	۲

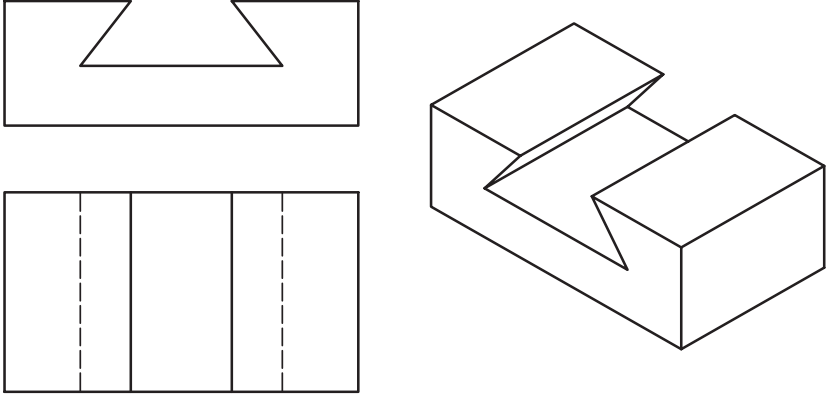
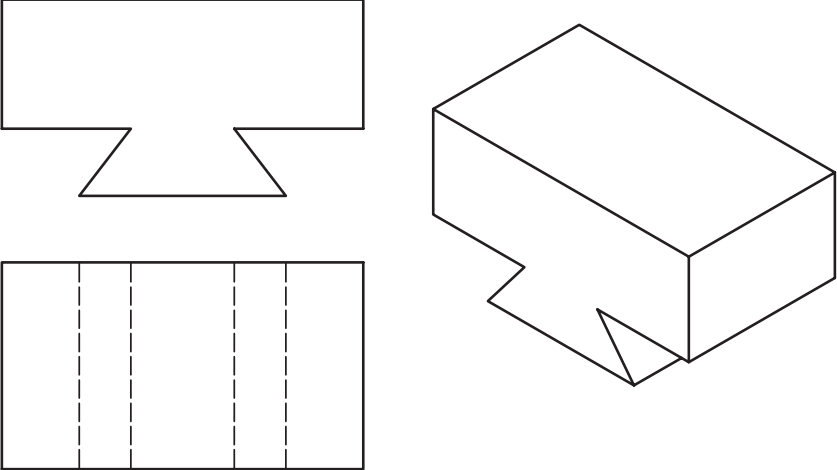
	<p>پس از فرز کاری قسمت تخت با تیغه پیشانی تراش، با تیغه فرز زاویه تراش مناسب مطابق شکل عملیات فرز کاری را برای هر دو طرف انجام می‌شود.</p>	<p>ایجاد شیار دم چلچله خارجی با فرز کاری عمودی</p>	<p>۳</p>
	<p>دستگاه را با دور و پیشروی مناسب تنظیم و بعد تیغه فرز را با پیشانی قطعه مماس می‌نماییم و بار می‌دهیم تا شیار قطعه از یک طرف تکمیل شود و همین مراحل را برای سمت دیگر تکرار می‌کنیم.</p>	<p>ایجاد شیار دم چلچله خارجی با فرز کاری افقی</p>	<p>۴</p>
	<p>کنترل شیارهای دم چلچله داخلی از طریق محاسبه: ابتدا فاصله <math>L</math> و <math>h</math> را با کولیس عمق سنج‌دار اندازه گرفته و بعد برای محاسبه طول قاعده کوچک <math>l</math> از فرمول زیر استفاده کنید.</p> $l = L - 2h \cot \alpha$	<p>اندازه‌گیری و کنترل شیار دم چلچله خارجی</p>	<p>۵</p>



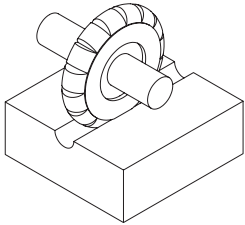


نقشه‌های ارائه شده مربوط به شیار دم چلچله داخلی و خارجی مطابق شکل را مشابه نقشه‌های شیارهای T شکل، با توجه به امکانات کارگاه تکمیل کرده و در صورت تأیید هنرآموز محترم با دقت اجرا نمایید.

فعالیت



<p>نقشه قطعه کار شماره ۱ مونتازکاری سطوح راهنمای دم چلچله</p>	<p>نام قطعه: راهنمای دم چلچله داخلی</p>	
 <p>در هنگام فرزکاری شیارها تمام نکات ایمنی و حفاظتی که قبلاً گفته شد را رعایت کنید.</p>	<p>جنس: st۳۷ یا AL</p>	
	<p>ابعاد مواد اولیه:</p>	
	<p>تجهیزات و ابزارهای مورد نیاز:</p>	
<p>نقشه قطعه کار شماره ۲ مونتازکاری سطوح راهنمای دم چلچله</p>	<p>نام قطعه: راهنمای دم چلچله خارجی</p>	
 <p>در هنگام فرزکاری شیارها تمام نکات ایمنی و حفاظتی که قبلاً گفته شد را رعایت کنید.</p>	<p>جنس: st۳۷ یا AL</p>	
	<p>ابعاد مواد اولیه:</p>	
	<p>تجهیزات و ابزارهای مورد نیاز:</p>	

## شیارهای قوس دار

روش های ایجاد شیارهای قوس دار			ردیف
شکل	توضیحات	عنوان	
	تیغه فرز متناسب با فرم داخلی را انتخاب و پس از تنظیم دقیق با پیشانی قطعه عملیات فرزکاری را تا ایجاد کامل فرم مورد نظر ادامه می دهیم.	ایجاد قوس داخلی (مقعر) با فرزکاری افقی	۱
	تیغه فرز متناسب با فرم داخلی را انتخاب و پس از تنظیم دقیق با پیشانی قطعه عملیات فرزکاری را تا ایجاد کامل فرم مورد نظر ادامه می دهیم.	ایجاد قوس داخلی (مقعر) با فرزکاری عمودی	۲
	برای کنترل قوس های داخلی و خارجی راحت ترین روش استفاده از شابلون قوس است که باید متناسب با اندازه فرم آن باشد.	کنترل قوس های داخلی و خارجی	۳

تحقیق



۱ بررسی کنید در وسایلی که در زندگی روزانه مورد استفاده شما یا دیگر اعضای خانواده قرار می گیرد از چه قطعات صنعتی شیار دار و فرم دار استفاده شده است و نتیجه را در کلاس ارائه نمایید.

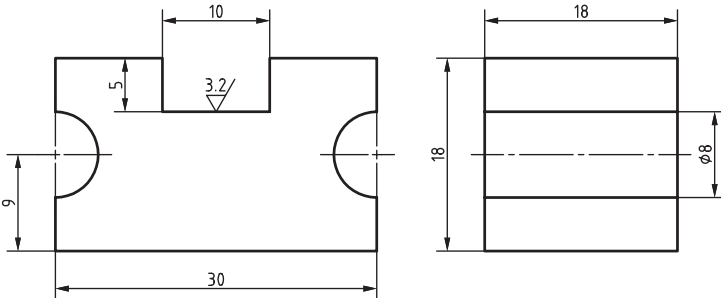
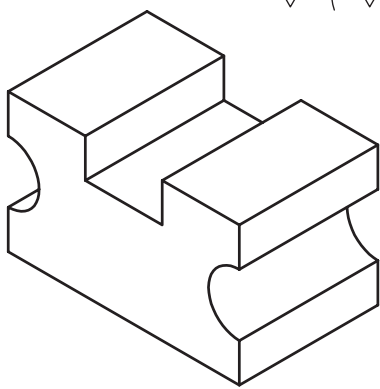
۲ با جستجو در اینترنت و دیگر منابع بررسی کنید ضایعات ناشی از فعالیت های کارگاهی شما چه ضررهای به محیط زیست می رساند و راه حل های مناسبی جهت کاهش آن پیدا کرده و در کلاس ارائه نمایید.




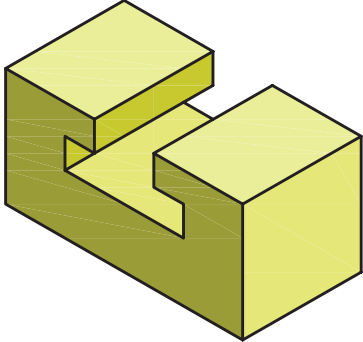
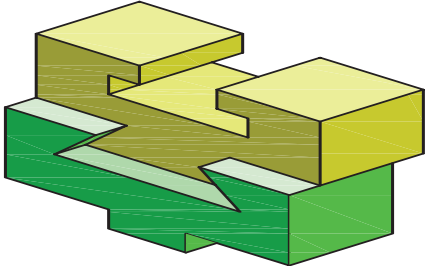
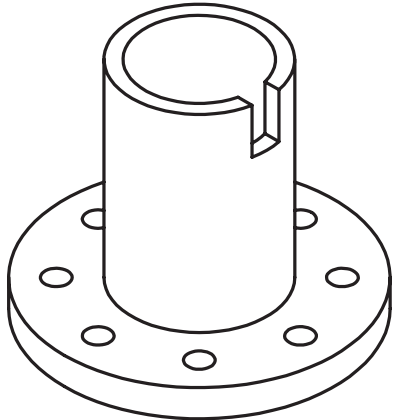


نقشه ارائه شده مربوط به فرم تراشی داخلی مطابق شکل را با توجه به امکانات کارگاه و با استفاده از دانسته‌های قبلی و مطالبی که در مورد شیارتراشی مطرح شد بررسی کرده و در صورت تأیید هنرآموز محترم با دقت اجرا نمایید.

یکی از شیارهای قوس‌دار را با تیغه فرز انگشتی، دیگری را با تیغه فرز غلتکی قوس‌دار و شیار راست گوشه را با تیغه فرز غلتکی سه بر تراش فرزکاری نمایید. کیفیت سطح آنها را مقایسه، نتیجه را در گزارش کار خود ثبت کنید.

نقشه قطعه کار شیارتراشی	نام قطعه: تمرین جهت شیار
	<p>جنس: st۳۷ یا AL</p> <p>ابعاد مواد اولیه: ۳۴×۲۰×۲۰</p>
 <p>در هنگام فرزکاری شیارها تمام نکات ایمنی و حفاظتی که قبلاً گفته شد را رعایت کنید</p>	<p>تجهیزات و ابزارهای مورد نیاز:</p>

۱ با دقت در تصاویر، جدول زیر را کامل کنید.

نوع تیغه فرز جهت ایجاد آن	تصویر کاربردی	نوع شیار
		
		
		
		

۲ کدام مورد برای کنترل شیارهای V شکل مناسب است؟

الف) میله‌های اندازه‌گیر (ب) میکرومتر (ج) پرگار و کولیس (د) کولیس و میله‌های اندازه‌گیر

۳ روش ایجاد شیار دم‌چلچله خارجی با فرز عمودی را شرح دهید.

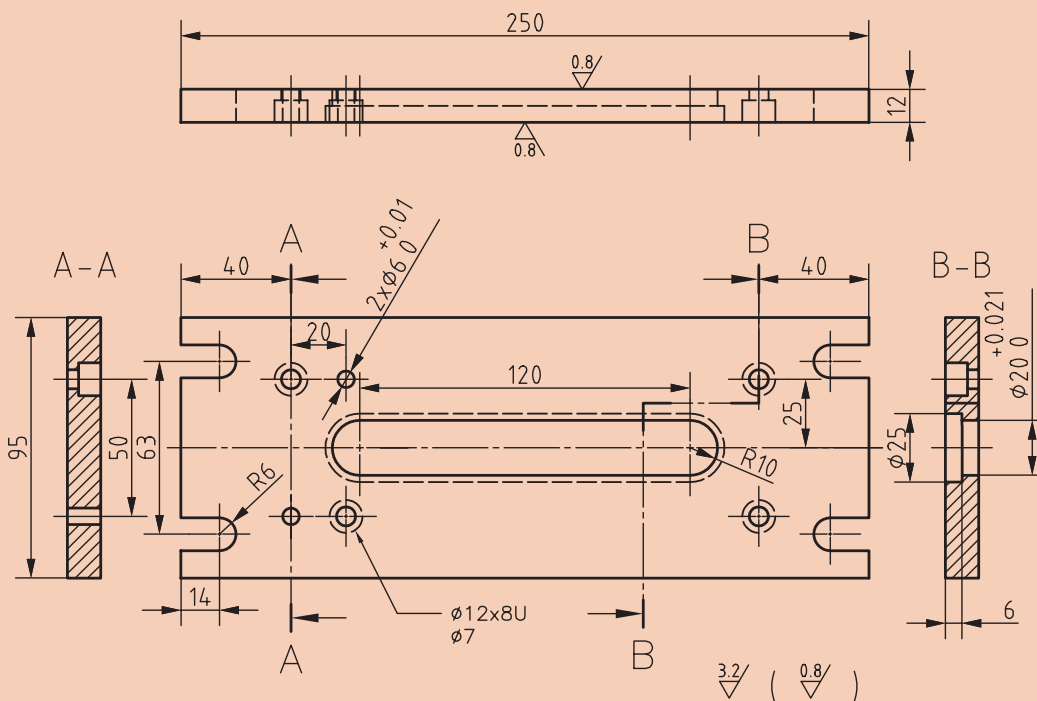
۴ مراحل ایجاد شیار T شکل را بنویسید.

فعالیت  
تکمیلی ۱



۱ مراحل انجام کار فرزکاری سایر قطعات شیار دار گیره ( قطعات شماره‌های ۱ و ۳ و ۶) را با توجه به نقشه‌ها نوشته و پس از مشورت با هم و تأیید هنرآموز محترم در کارگاه اجرا نمایید.

۲ قطعات فرزکاری شده را با توجه به روش‌های کنترل گفته شده بررسی و نتیجه را به هنرآموز گزارش دهید.



جنس: ST۳۷	هنرستان:	تاریخ:	نام و شماره: صفحه پایه-۱
مقیاس: ۱:۲	تعداد: ۱	ابعاد مواد اولیه: ۲۵۵×۸۵×۱۵	تولرانس‌ها: ISO۲۷۶۸-f

۳ قطعه مطابق شکل را فرزکاری نمایید.

## ارزشیابی هنر جو در واحد یادگیری: شیارتراشی

### نقشه کار: شیارتراشی

فرزکاری شیارها مطابق نقشه. جنس قطعه از چدن و به صورت پیش ساخته تهیه شود.

**شاخص عملکرد:** ۱- تolerانس ابعادی بر اساس استاندارد ISO ۲۷۶۸-f ۲- پرداخت سطح  $Ra = 1/6$

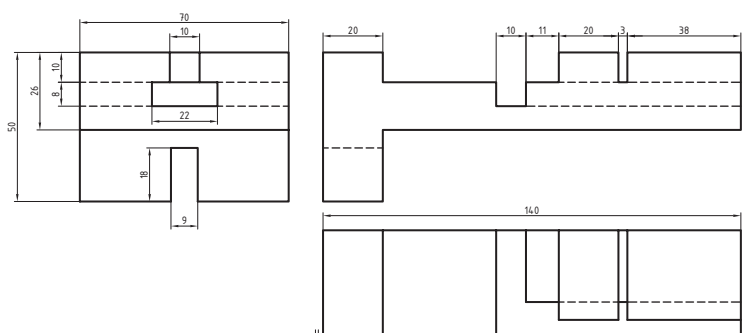
**شرایط انجام کار:** ۱- انجام کار در محیط کارگاه ۲- نور یکنواخت با شدت ۴۰۰ لوکس ۳- تهویه استاندارد و دمای  $20^{\circ}C \pm 3^{\circ}$

۴- ابزارآلات و تجهیزات استاندارد و آماده به کار ۵- وسایل ایمنی استاندارد ۶- زمان ۸ ساعت

**مواد مصرفی:** جنس قطعه از چدن و به صورت پیش ساخته.

**ابزار و تجهیزات:** ماشین فرز اونیورسال با متعلقات - گیره موازی رومیزی - ساعت اندازه گیری - کولیس ۰/۰۵ - گونیای دقیق - آچار تخت - سوهان متوسط ۲۰۰ - زیرسری سنگ خورده - برس مویی - تیغه فرز شکافتراش - وسایل روغن کاری - چکش لاستیکی - زیرپایی

- نمونه و نقشه کار:



### معیار شایستگی:

ردیف	مرحله کار	حداقل نمره قبولی از ۳	نمره هنر جو
۱	بررسی قطعه کار اولیه	۱	
۲	آماده سازی دستگاه	۱	
۳	آماده سازی و بستن ابزار	۱	
۴	بستن قطعه کار	۲	
۵	فرزکاری شیارها	۲	
<b>شایستگی های غیر فنی، ایمنی، بهداشت، توجهات زیست محیطی و نگرش:</b>			
۱- مسئولیت پذیری ۲- مدیریت مواد و تجهیزات ۳- استفاده از لباس کار و کفش ایمنی و عینک محافظ ۴- تمیز کردن وسایل و محیط کار ۵- پایبندی به الزامات نقشه			
میانگین نمرات *			

\* حداقل میانگین نمرات هنر جو برای قبولی و کسب شایستگی، ۲ می باشد.

پودمان ۴

چرخ‌دنده تراشی



## واحد یادگیری ۱

### فرزکاری چند ضلعی ها

#### استاندارد عملکرد

فرزکاری چند ضلعی ها مطابق نقشه

#### پیش نیاز

نقشه خوانی  
کار با ابزارهای اندازه گیری  
فرزکاری سطوح تخت  
فرزکاری سطوح شیب دار  
فرزکاری شیارها

## فرزکاری چندضلعی

### مقدمه

در صنعت با قطعات زیادی برخورد می‌کنیم که محیط آنها به فواصل مساوی تقسیم شده‌اند. کاربرد و اهمیت این‌گونه قطعات در مکانیزم‌ها و ماشین‌آلات کاملاً مشهود است و کمتر ماشینی را می‌توان یافت که از چند ضلعی‌ها استفاده نشده باشد. از جمله ماشین‌های ابزاری که قابلیت انجام چنین کارهایی را بر روی قطعات فراهم می‌کند ماشین فرز است که با اضافه کردن دستگاه تقسیم و متعلقات به دستگاه فرز، تقسیم‌بندی و تراش قطعات چندضلعی امکان‌پذیر می‌گردد.

### محاسبات لازم برای چند ضلعی کردن قطعات

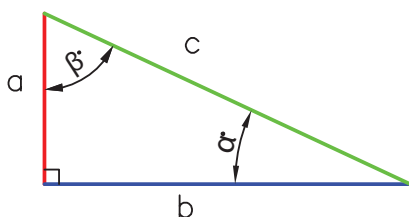
قبل از پرداختن به محاسبات چند ضلعی‌ها روابط مثلثاتی لازم برای محاسبات یادآوری می‌شود:

$a$  = ضلع مقابل به زاویه  $\alpha$  و مجاور به زاویه  $\beta$

$b$  = ضلع مقابل به زاویه  $\beta$  و مجاور به زاویه  $\alpha$

$c$  = وتر یا ضلع مقابل به زاویه قائمه

اکنون با مقایسه زاویه و اضلاع مثلث‌های نشان داده شده در زیر می‌توان نتیجه گرفت:



روابط مثلثاتی مهم	
$\sin \alpha = \frac{\text{ضلع مقابل به زاویه آلفا}}{\text{وتر}} \rightarrow \sin \alpha = \frac{a}{c}$	$\cos \alpha = \frac{\text{ضلع مجاور به زاویه آلفا}}{\text{وتر}} \rightarrow \cos \alpha = \frac{b}{c}$
$\tan \alpha = \frac{\text{ضلع مقابل به زاویه آلفا}}{\text{ضلع مجاور به زاویه آلفا}} \rightarrow \tan \alpha = \frac{a}{b}$	$\cot \alpha = \frac{\text{ضلع مجاور به زاویه آلفا}}{\text{ضلع مقابل به زاویه آلفا}} \rightarrow \cot \alpha = \frac{b}{a}$

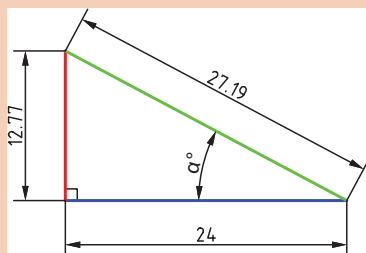
نکته

در هر مثلث قائم‌الزاویه با داشتن اضلاع می‌توان زاویه و با داشتن مقدار زاویه می‌توان نسبت اضلاع را به‌دست آورد. مثلاً برای زاویه  $30^\circ$  درجه نسبت سینوس  $\frac{1}{2}$  وجود دارد، که با داشتن نسبت اضلاع و مراجعه به جدول مثلثاتی زیر می‌توان مقدار زاویه را به‌دست آورد.



درجه									سینوس 45° ... 90°							
									درجه							
									0 10 20 30 40 50 60							
25	0.4226	0.4253	0.4279	0.4305	0.4331	0.4358	0.4384	64								
26	0.4384	0.4410	0.4436	0.4462	0.4488	0.4514	0.4540	63								
27	0.4540	0.4566	0.4592	0.4617	0.4643	0.4669	0.4695	62								
28	0.4695	0.4720	0.4746	0.4772	0.4797	0.4823	0.4848	61								
29	0.4848	0.4874	0.4899	0.4924	0.4950	0.4975	0.5000	60								
30	0.5000	0.5025	0.5050	0.5075	0.5100	0.5125	0.5150	59								
									60 50 40 30 20 10 0							
									کسینوس 45° ... 90°							
									درجه							





باتوجه به جدول صفحه قبل مقدار زاویه  $\alpha$  را حساب کنید.

### محاسبه چهار ضلعی منتظم:

هدف از محاسبه چهارضلعی منتظم به دست آوردن رابطه‌ای بین گوش تا گوش و آچار خور آن است.

$D$  = قطر دایره محیطی

$e$  = اندازه گوش تا گوش

$L$  = طول ضلع

$SW$  = اندازه آچار خور

$n$  = تعداد اضلاع

در مثلث قائم الزاویه مشخص شده با استفاده از قضیه فیثاغورث می‌توان نوشت:

$$e^2 = (SW)^2 + (SW)^2 = 2(SW)^2$$

$$e = \sqrt{2(SW)^2} = \sqrt{2} \times SW \rightarrow e = 1/414 \times SW$$

و از رابطه زیر آچار خور به دست می‌آید:

$$e = 1/414 \times SW \rightarrow SW = 0.707 \times e$$

طول هر ضلع در چند ضلعی منتظم از رابطه زیر به دست می‌آید. بنابراین داریم:

$$L = \sin\left(\frac{180^\circ}{n}\right) \times D \quad 180^\circ$$

### محاسبه شش ضلعی منتظم:

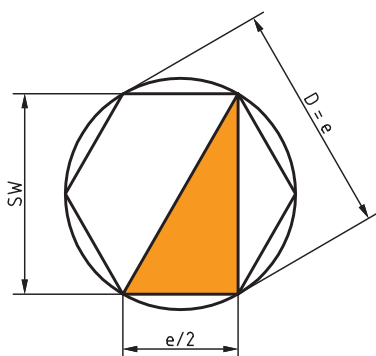
$D$  = قطر دایره محیطی

$e$  = اندازه گوش تا گوش

$SW$  = اندازه آچار خور

طول ضلع شش ضلعی منتظم برابر با  $\frac{e}{4}$  است چون که بر اساس قضایای هندسی داریم: ضلع روبه‌رو به زاویه  $30^\circ$  درجه، نصف وتر است، بنابراین چون وتر برابر با گوش تا گوش ( $e$ ) می‌باشد، پس مقدار ضلع روبه‌رو به

وتر  $\frac{e}{4}$  است.



$$e^2 = (SW)^2 + \left(\frac{e}{4}\right)^2$$

$$(SW)^2 = e^2 - \frac{e^2}{16} \rightarrow SW = \frac{3}{4}e^2$$

اکنون از طرفین جذر می گیریم:

$$SW = \frac{\sqrt{3}}{4} \times e = \frac{1}{4} \sqrt{3} e \rightarrow SW = 0.433 \times e$$

و بنابراین گوش تا گوش شش ضلعی به دست می آید:

$$SW = 0.433 \times e \rightarrow e = \frac{SW}{0.433} \rightarrow e = 2.309 \times SW$$

و طول ضلع

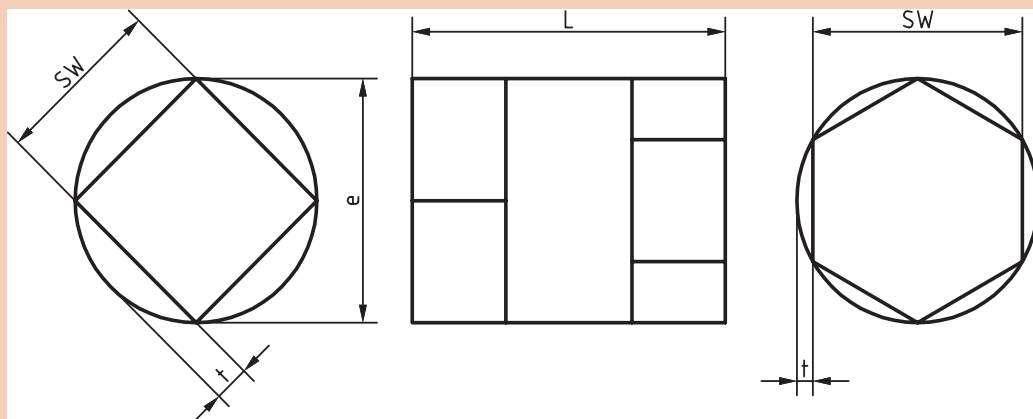
$$L = \sin\left(\frac{180^\circ}{n}\right) \times D \rightarrow L = \sin\left(\frac{180^\circ}{6}\right) \times D \rightarrow L = 0.5 \times D$$

و به طور کلی مقدار عمق براده برداری در فرزکاری چند ضلعی منتظم از رابطه زیر به دست می آید:

$$t = \frac{D}{4} \left(1 - \cos \frac{\alpha}{2}\right)$$

### مثال ۵:

از میله گردی به قطر  $d = 50 \text{ mm}$  قطعه مطابق شکل ساخته خواهد شد. اندازه آچارخور (SW) و عمق بار (t) را حساب کنید.



قسمت شش گوش:

$$SW = 0.866 \times e \rightarrow SW = 0.866 \times 50 = 43.3 \text{ mm}$$

$$t = \frac{e - SW}{2} = \frac{50 - 43.3}{2} = 3.35 \text{ mm}$$

قسمت چهار گوش:

$$SW = 0.707 \times e \rightarrow SW = 0.707 \times 50 = 35.35 \text{ mm}$$

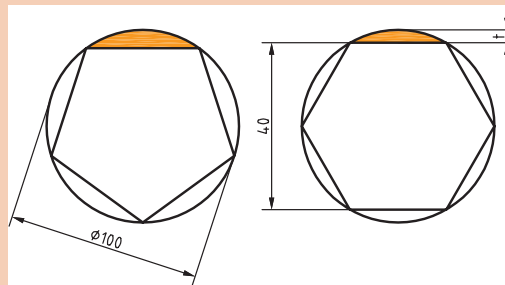
$$t = \frac{e - SW}{2} = \frac{50 - 35.35}{2} = 7.325 \text{ mm}$$

فعالیت کلاسی



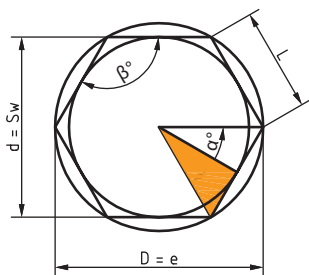
۱ قطعه‌ای به شکل پنج ضلعی از میله گردی به قطر  $d = 100 \text{ mm}$  ساخته خواهد شد، اندازه عمق بار (t) را حساب کنید.

۲ قطعه نشان داده شده در شکل زیر از میله‌های گرد ساخته خواهد شد. حساب کنید:  
(الف) قطر میله لازم برای ساختن هر یک از آنها  
(ب) اندازه عمق بار در هر یک از آنها را.



محاسبه چند ضلعی‌های منتظم به کمک روابط مثلثاتی:

۱ محاسبه طول ضلع n ضلعی: در مثلث قائم الزاویه OAB شکل بالا می‌توان رابطه سینوس را نوشت:



$$\sin \frac{\alpha}{2} = \frac{\frac{L}{2}}{R} = \frac{L}{D} \rightarrow$$

$$L = D \times \sin \frac{\alpha}{2}$$

۲ محاسبه قطر دایره محاطی (d): در مثلث قائم الزاویه می‌توان رابطه کسینوس را نوشت:

$$\cos \frac{\alpha}{2} = \frac{\frac{d}{2}}{R} = \frac{d}{D} \rightarrow$$

$$d = D \times \cos \frac{\alpha}{2}$$




با توجه به آموخته‌ها جدول زیر را تکمیل کنید:

اندازه قطر محیطی واحد(یک) در نظر گرفته شده است							علائم اختصاری
۱۲	۱۰	۸	۶	۵	۴	۳	n=تعداداضلاع
۳۰ درجه	۳۶درجه	۴۵ درجه	۶۰ درجه	۷۲درجه	۹۰ درجه	۱۲۰درجه	a= زاویه مرکزی مقابل به ضلع
	۰/۳۰۹			۰/۵۸۸		۰/۸۶۶	l= طول ضلع
		۰/۹۲۴	۰/۸۶۶		۰/۷۰۷		d= قطر دایره محاطی
							SW=آچارخور
							t= عمق براده

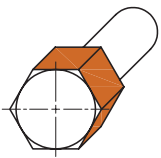
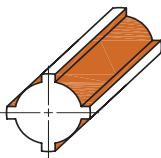
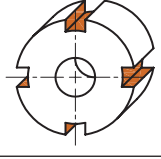
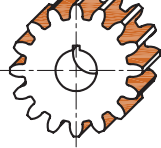
## تقسیم محیط کار

شما به چه روشی قطعات شکل ۱ را به طور مساوی تقسیم‌بندی می‌کنید؟



شکل ۱

برای تقسیم محیط داخلی و یا خارجی قطعه کاری به تقسیمات دلخواه و دقیق، بدون نیاز به خط کشی از دستگاه تقسیم استفاده می‌شود. دستگاه تقسیم به ما این امکان را می‌دهد که قطعه کار را تحت زاویه معین دوران دهیم. برخی از عملیات و کارهایی که به کمک این دستگاه انجام می‌شود به قرار زیر است:

الف	فرز کاری سطوح روی قطعات (چند وجهی) مثل فرز کاری روی مهره‌ها و پیچ‌ها	
ب	فرز کاری شیارهای قطعات مثل شیار تیغه فرز، مته، قلاویز، برقو و هزارخار	
ج	فرز کاری شکاف روی سطوح مثل: کلاچ، پلوس و شکاف مهره‌ها	
د	تراشیدن چرخ دنده‌ها	

برای تقسیم کردن محیط قطعات سه روش در صنعت متداول است:

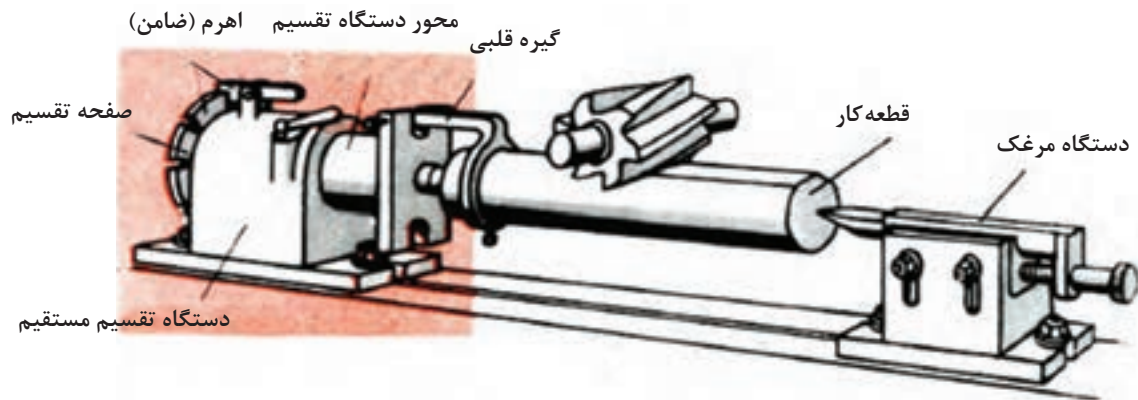
۱ تقسیم مستقیم (بدون واسطه)

۲ تقسیم غیرمستقیم (با واسطه)

۳ تقسیم اختلافی (دیفرانسیل)

– تقسیم مستقیم با دستگاه تقسیم:

در تقسیم مستقیم از دستگاه تقسیمی که محور آن در امتداد محور قطعه کار بوده و بدون واسطه حرکت خود را به کار منتقل می کند استفاده می شود. این دستگاه دارای صفحات تقسیم شیاردار یا سوراخ داری است که اغلب، تعداد شیار یا سوراخ آن ۲۴ و در بعضی موارد ۳۶ و ۴۶ و ۶۰ می باشد. از این دستگاه به دلیل سرعت عمل در کارهای سری استفاده می شود. با این روش تقسیماتی را می توان انجام داد که تعداد شیار یا سوراخ صفحه سوراخ بر تعداد تقسیمات قطعه کار، قابل قسمت باشد. مثلاً با صفحه تقسیم ۲۴، تقسیمات ۲، ۳، ۴، ۶، ۸، ۱۲، ۲۴ قسمتی (اعدادی که ۲۴ بر آنها بخش پذیر است) امکان پذیر است (شکل ۲). نحوه کار به این طریق است که بعد از بستن قطعه و ثابت کردن ضامن صفحه سوراخ دار، اولین قسمت فرزکاری شده و سپس برای فرزکاری مرحله بعدی ضامن آزاد شده و قطعه به تعداد مشخص شیار یا سوراخ صفحه سوراخ دار چرخانده می شود و ضامن در محل خود قرار می گیرد و عملیات تا پایان ادامه می یابد.



شکل ۲ دستگاه تقسیم مستقیم

برای محاسبه تعداد شیار و یا سوراخ جابه جایی برای هر تقسیم، از رابطه زیر استفاده می گردد.  
علائم اختصاری:

$$n_i = \frac{n_L}{T}$$

$T$  = تعداد تقسیمات کار

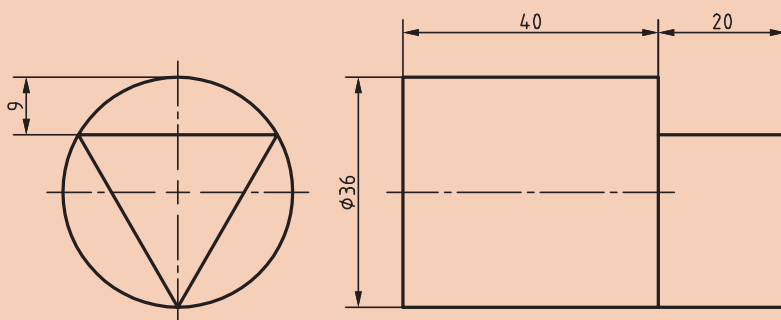
$n_L$  = تعداد شیار یا سوراخ صفحه تقسیم

$n_i$  = تعداد شیار یا سوراخ لازم برای جابه جایی هر تقسیم قطعه کار

**مثال ۱-** می‌خواهیم میل گردی را روی ماشین فرز مجهز به دستگاه تقسیم با صفحه شیاردار ۲۴ تایی به فرم شش ضلعی منتظم فرزکاری کنیم. تعداد تقسیماتی که در هر مرحله فرزکاری باید صفحه سوراخ‌دار جابه‌جا شود را به دست آورید.

$$n_i = \frac{n_L}{T} = \frac{24}{6} = 4 \quad \text{تعداد شیار}$$

برای فرزکاری قطعه مطابق شکل زیر: الف) از چه صفحه شیارداری می‌توان کمک گرفت؟ ب) مقدار گردش دسته تقسیم را حساب کنید.

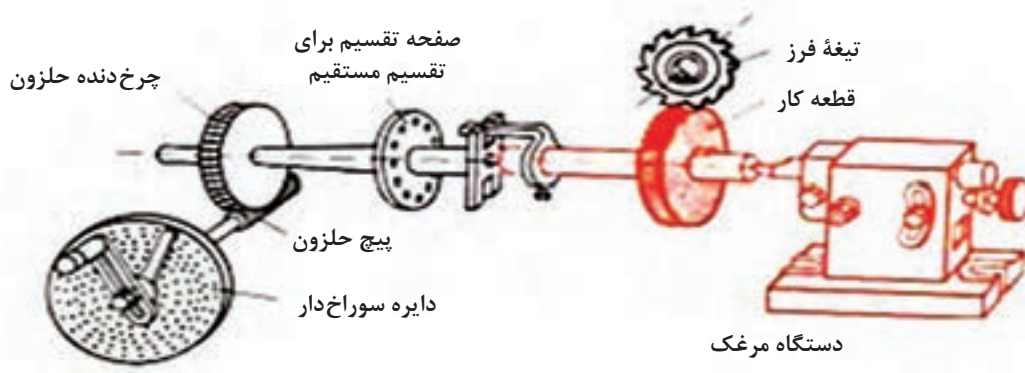


آیا تقسیم قطعه‌کاری به ۱۳ قسمت با روش اول امکان‌پذیر است؟

در پاسخ سؤال قبلی متذکر می‌شویم که در مواردی مثل تقسیم ۱۳ تایی قطعه‌کار، عدد ۱۳ ضربی از صفحات سوراخ‌دار موجود روی دستگاه مستقیم نیست و باید این گونه قطعات را با تقسیم غیر مستقیم ایجاد کرد.

**- تقسیم غیرمستقیم (با واسطه):**

در مواردی که تقسیم با روش مستقیم امکان‌پذیر نیست (مثل ۱۳ قسمت و موارد مشابه) از روش تقسیم غیرمستقیم استفاده می‌شود. در این روش از دستگاه تقسیمی که مکانیزم اصلی آن از یک پیچ حلزون و یک چرخ دنده حلزون تشکیل شده است استفاده می‌گردد. نسبت حرکت بین پیچ حلزون و چرخ دنده حلزون اغلب  $i = 40:1$  و در بعضی موارد  $i = 60:1$  و یا  $i = 80:1$  می‌باشد (شکل ۳).



شکل ۳ شماتیک دستگاه تقسیم غیرمستقیم



در این روش چون بین محور کار (محور سه‌نظام) و محور تقسیم (دسته دستگاه تقسیم)، پیچ حلزون و چرخ حلزون قرار گرفته است بنابراین حرکت به طور غیرمستقیم از محور تقسیم به محور کار منتقل شده و نسبت بین پیچ حلزون و چرخ دنده حلزون ( $i=40:1$ ) در محاسبات دخالت داده می‌شود. شکل ۴ دستگاه تقسیم غیرمستقیم را نشان می‌دهد.



شکل ۴ دستگاه تقسیم غیرمستقیم

اگر نسبت حرکت بین پیچ حلزون و چرخ دنده حلزون  $i=40:1$  باشد به ازاء گردش یک دور کامل پیچ حلزون (دسته تقسیم) محیط کار به اندازه یک دنده چرخ حلزون (دور) می‌گردد و اگر بخواهیم محیط کار یک دور کامل دوران کند دسته تقسیم باید ۴۰ دور بگردد. با توجه به مطالب ذکر شده و مثال‌های پایین، فرمول لازم برای تقسیم غیرمستقیم به شرح زیر حاصل خواهد شد:

برای تقسیم محیط کار به ۴۰ قسمت مساوی، تعداد گردش دسته تقسیم برای هر تقسیم ( $\frac{40}{4}=10$ ) یک دور کامل خواهد بود.

برای تقسیم محیط کار به ۲۰ قسمت مساوی، تعداد گردش دسته تقسیم برای هر تقسیم ( $\frac{40}{2}=20$ ) دو دور کامل خواهد بود.

سؤال ۲-

به نظر شما برای تقسیم محیط به ۱۰ قسمت، تعداد گردش دسته دستگاه تقسیم چقدر باید باشد؟

بنابراین با توجه به تقسیم‌بندی‌های بالا نتیجه می‌گیریم:

$$\text{نسبت دستگاه} = \frac{\text{مقدار گردش دسته}}{\text{تعداد تقسیمات کار}}$$

علائم اختصاری:

$$n_k = \frac{i}{Z} \text{ یا } n_k = \frac{i}{T}$$

$n_k$  = مقدار گردش دسته دستگاه تقسیم برای هر تقسیم



$i$  = نسبت حرکت بین حلزون و چرخ حلزون  
 $T$  = تعداد تقسیمات قطعه کار

**مثال ۲-** برای تقسیم محیط کار به ۵ قسمت مساوی، مقدار گردش دسته دستگاه تقسیم را حساب کنید، در صورتی که نسبت دستگاه تقسیم  $i = 40:1$  باشد.

$$n_k = \frac{i}{Z} = \frac{40}{5} = 8 \text{ دور کامل}$$

یعنی پس از انجام هر تقسیم، دسته به اندازه ۸ دور کامل باید بگردد.

مقدار گردش دسته دستگاه تقسیم برای ساخت گل پیچ ۶ و ۴ گوش را به دست آورید.



فعالیت  
کلاسی



از منابع مختلف تحقیق کنید که دستگاه تقسیم با چه نسبت‌هایی وجود دارد؟

فعالیت  
تحقیقی



### دستور کار نصب دستگاه تقسیم (شکل ۵)

پس از پوشیدن لباس کار، کفش ایمنی وسایل مورد نیاز را تحویل بگیرید و ضمن رعایت نکات ایمنی مراحل انجام کار را به ترتیب بعد از توضیحات هنرآموز و با نظارت او انجام دهید.

**۱** قبل از نصب، زیر دستگاه تقسیم را به وسیله یک پارچه تمیز کنید و سپس زبانه آن را داخل شیار T شکل میز قرار دهید.

فعالیت  
کارگاهی





شکل ۵ - الف

۲ دستگاه تقسیم را به کمک میز چرخدار حمل کرده و سپس با کمک جرثقیل و یا اهرم مناسب روی میز دستگاه قرار دهید.

۳ از محکم بودن پیچ قفل کننده مطمئن شوید.



شکل ۵ - ب

۴ در صورتی که از جرثقیل برای حمل استفاده می‌گردد، از قلاب تعبیه شده روی دستگاه تقسیم استفاده گردد. (شکل ۵ - الف)  
- پیچ‌های اتصال به میز را محکم کنید.

۵ با کنترل شاخص مدرج دستگاه تقسیم، از نداشتن انحراف محور کار (سه‌نظام) مطمئن شوید و در صورت لزوم آن را با نوک نیم مرغک و یا ساعت اندازه‌گیری کنترل نمایید. (شکل ۵ - ب)



شکل ۵ - ج

۶ صفحه سوراخدار را بررسی کرده و در صورت لزوم برای تعویض آن دسته و سپس پیچ‌های روی صفحه را باز کنید.

۷ صفحه مناسب را انتخاب و تعویض کرده و پیچ‌های آن را سفت کنید.



شکل ۵ - د

۸ به نصب خار روی محور دسته دستگاه تقسیم توجه داشته باشید.

۹ قیچی و زبانه دسته دستگاه تقسیم را به فاصله مناسب تنظیم نمایید. (شکل ۵ - د)



۱ با توجه به اینکه دستگاه تقسیم دارای وزن زیادی است از چگونگی حمل ایمن (حمل با میز) و نصب صحیح اطلاع کافی کسب نمایید (شکل ۶).



شکل ۶

۲ برای حمل و جابه‌جایی دستگاه تقسیم بهتر است که به صورت ۲ نفری و البته با هماهنگی یکدیگر به این کار اقدام نمایید.

۳ در زمان حمل و نصب دستگاه تقسیم از کفش ایمنی استفاده شود.

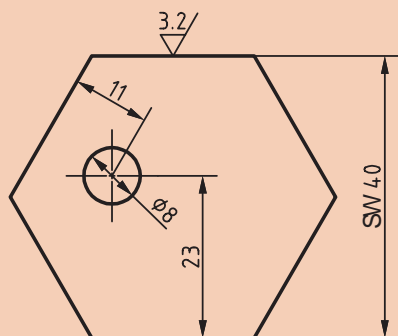
۴ برای فرزکاری قطعات با طول بلند حتماً از نیم مرغک استفاده شود.

۵ محیط و اطراف دستگاه را حتی‌الامکان خلوت نگه دارید.

۶ برای کم کردن اثر لقی محور دستگاه تقسیم، قبل از شروع به کار دسته دستگاه تقسیم را چند دور در یک جهت معین دوران بدهید و سپس شروع به کار کنید.



در مراحل مختلف کار بادستگاه تقسیم، لقی دستگاه تقسیم را مد نظر داشته باشید.



قطعه مطابق شکل را فرزکاری نمایید.

روند نمای تراش چندضلعی را بنویسید.

عمق براده  $t=3/1\text{mm}$

مواد اولیه:

۱  $\varnothing 48\text{mm} \times 50\text{mm}$

۲ جنس St۳۷ یا Al

۳ تولرانس: ISO ۲۷۶۸ - f

وسایل لازم

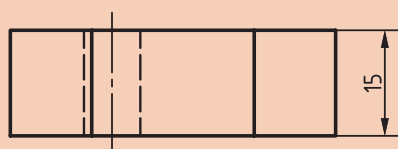
۱ دستگاه فرز

۲ دستگاه تقسیم

۳ آچار تخت مناسب

۴ تیغه فرز مناسب

۵ لباس کار و کفش و عینک ایمنی



$\nabla 12.5$  (  $\nabla 3.2$  )



با توجه به اینکه نمی‌توان از دُرَن استفاده کرد، برای قطعه دنباله در نظر بگیرید و بعد از اتمام فرزکاری قطعه آن را روی دستگاه تراشکاری کنید تا حذف شود.

### مراحل انجام کار

- ۱ دنباله قطعه (نافی) را در سه‌نظام دستگاه تقسیم بسته و صفحه سوراخ‌دار و قیچی را با توجه به محاسبات انجام شده تنظیم کنید.
- ۲ لقی دستگاه تقسیم را بگیرید، سپس عده دوران و سرعت پیشروی را تنظیم کنید و با رعایت نکات ایمنی دستگاه را روشن نمایید.
- ۳ سطوح مورد نظر را تا اتمام کار، فرزکاری نمایید.
- ۴ پس از پایان فرزکاری قسمت دنباله قطعه (نافی) را کف‌تراشی کنید.
- ۵ قطعه کار را جهت ارزیابی به هنرآموز تحویل دهید.
- ۶ دستگاه را تمیز کرده و براده‌ها را در محل پیش‌بینی شده بریزید.

### صفحه سوراخ‌دار:

مقدار گردش دسته تقسیم همیشه عدد صحیحی نبوده بلکه در موارد مختلف می‌تواند به صورت کسری، کوچک‌تر یا بزرگ‌تر از واحد باشد. در این موارد برای گردش دقیق دسته تقسیم به اندازه کسر دلخواه، از صفحه سوراخ‌داری که روی دستگاه تقسیم سوار می‌شود استفاده می‌کنیم (شکل ۷). تعداد سوراخ موجود در هر ردیف روی صفحه سوراخ‌دار حک شده است. مثلاً اگر برای تقسیم محیط کاری لازم باشد که دسته تقسیم  $\frac{1}{3}$  دور بزند باید روی دایره صفحه سوراخ‌دار ۱۵ سوراخه ۵ فاصله یا روی دایره صفحه سوراخ‌دار ۱۸ سوراخه ۶ فاصله، دسته تقسیم جابه‌جا شود. البته باید موقع ساده کردن کسر توجه داشته باشیم که عددی که در مخرج ایجاد می‌گردد باید مضرب صحیحی از تعداد سوراخ صفحه سوراخ‌دار باشد.



شکل ۷ صفحه سوراخ‌دار

دستگاه‌های تقسیم، معمولاً دارای سه صفحه سوراخ‌دار به شرح زیر می‌باشند:

صفحات سوراخ‌دار دستگاه تقسیم	
صفحه سوراخ یک طرفه (نرمال)	
صفحه سوراخ	تعداد ردیف سوراخ موجود در هر صفحه
شماره ۱	۱۵-۱۶-۱۷-۱۸-۱۹-۲۰ سوراخه
شماره ۲	۲۱-۲۳-۲۷-۲۹-۳۱-۳۳ سوراخه
شماره ۳	۳۷-۳۹-۴۱-۴۳-۴۷-۴۹ سوراخه
صفحه سوراخ دو طرفه	
طرف اول صفحه I	۱۶-۱۸-۲۰-۲۴-۳۱-۳۷-۴۱-۴۷ سوراخه
طرف اول صفحه II	۱۷-۱۹-۲۱-۲۹-۳۳-۳۹-۴۳-۴۹ سوراخه

نکته



گاهی به صفحه سوراخ‌دارهایی برخورد می‌کنیم که دارای سوراخ‌های متفاوتی نسبت به آنچه گفته شد می‌باشند، که باید محاسبات را بر مبنای صفحه سوراخ‌دار در دسترس انجام داد.

**مثال ۳-** برای تقسیم محیط کاری به ۶ قسمت مساوی توسط دستگاه تقسیم غیرمستقیم با نسبت  $i=40:1$  حساب کنید:

(الف) مقدار گردش دسته دستگاه تقسیم را.

(ب) صفحه سوراخ‌دار مناسب برای این تقسیم را.

(ج) فاصله دو بازوی قیچی را به اندازه چند سوراخ باید تنظیم کرد؟

**حل:**

$$n_k = \frac{i}{T} = \frac{40}{6} = 6\frac{4}{6} = 6\frac{2}{3}$$

مفهوم عدد  $6\frac{2}{3}$  این است که برای هر تقسیم لازم است دسته تقسیم ۶ دور کامل و  $\frac{2}{3}$  دور بگردد. (الف) چون عدد حاصل در مخرج در صفحه سوراخ‌دار وجود ندارد، صورت و مخرج را در یک عدد دلخواه ضرب کرده تا عدد حاصل در مخرج در صفحه سوراخ‌دار وجود داشته باشد.

(ب) برای گردش  $\frac{2}{3}$  دور باید صفحه سوراخ‌داری که تعداد سوراخ‌های آن به عدد مخرج (۳) قابل تقسیم باشد انتخاب گردد. مثلاً صفحه سوراخ‌دار ۱۵ سوراخه. بنابراین باید صورت و مخرج کسر  $\frac{2}{3}$  را در عدد ۵ ضرب

نمود تا عدد مخرج کسر نشان‌دهنده دایره سوراخ‌دار مورد استفاده باشد (شکل ۸).

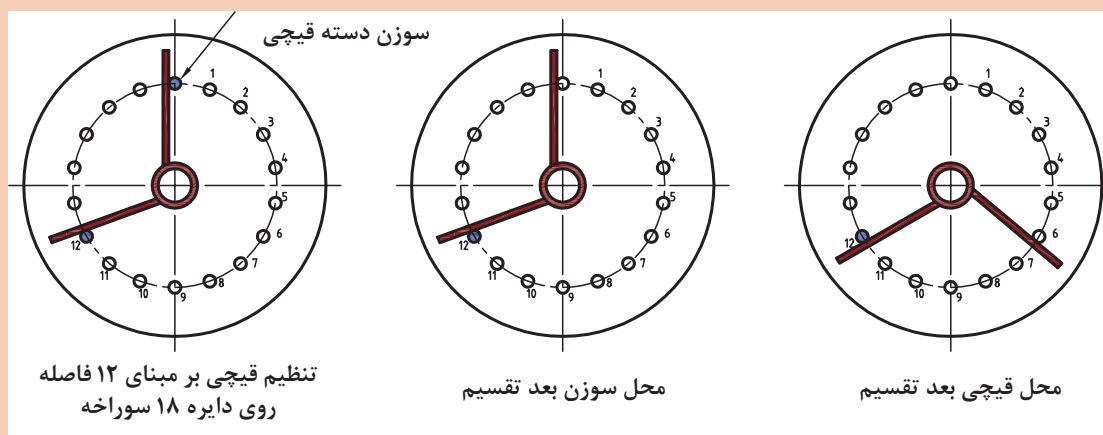
$$n_k = 6 \frac{2(5)}{3(5)} = 6 \frac{1}{15} \text{ یا } n_k = 6 \frac{2(6)}{3(6)} = 6 \frac{12}{18}$$

یعنی برای هر تقسیم لازم است که دسته تقسیم روی ردیف ۱۸ سوراخ ۶ دور کامل و ۱۲ فاصله بچرخد.

پرسش



با توجه به کسر  $\frac{2}{3}$  و با استفاده از جدول صفحه‌سوراخ‌ها، غیر از ردیف ۱۸ از چه ردیف‌های دیگری می‌توان استفاده کرد؟



شکل ۸

نکته



در صورت امکان استفاده از چند صفحه سوراخ‌دار از صفحه‌ای که دارای تعداد سوراخ بیشتری است استفاده کنید.

## دوران قطعه تحت زاویه مشخص

پرسش



به نظر شما اگر بخواهیم قطعه‌ای تحت یک زاویه مشخص و یا با دقت دقیقه و یا ثانیه تولید شود، چگونه عمل کنیم؟

برای گرداندن قطعه کار تحت زوایای معین نیز می‌توان از دستگاه تقسیم استفاده کرد. بدین طریق که اگر نسبت دستگاه تقسیم  $i = 40:1$  باشد به ازای گردش ۴۰ دور دسته دستگاه تقسیم، قطعه کار یک دور کامل (۳۶۰ درجه)

جابه جا می شود. پس برای یک درجه جابه جایی قطعه کار، دسته تقسیم باید به اندازه  $\frac{4^\circ}{36^\circ}$  دور بگردد، و اگر لازم باشد به اندازه  $\alpha$  درجه جابه جا شود باید دسته تقسیم به اندازه  $\frac{4^\circ \times \alpha^\circ}{36^\circ}$  حرکت نماید. بنابراین فرمول لازم برای گرداندن قطعه کار تحت زاویه  $\alpha$  به شرح زیر است:

$$n_k = \frac{i \times \alpha^\circ}{36^\circ}$$

$i$  = نسبت دستگاه

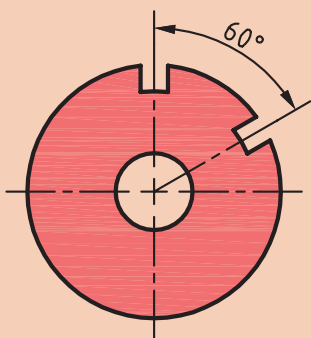
$\alpha^\circ$  = زاویه جابه جایی بر حسب درجه

$\alpha'$  = زاویه جابه جایی بر حسب دقیقه

$n_k$  = مقدار گردش دسته تقسیم

در رابطه فوق اگر نسبت دستگاه تقسیم  $i = 40:1$  باشد مقدار گردش دسته تقسیم از رابطه زیر به دست می آید:

$$n_k = \frac{i \times \alpha^\circ}{36^\circ} = \frac{40 \times \alpha^\circ}{36^\circ} \rightarrow n_k = \frac{\alpha^\circ}{9} \quad \text{یا} \quad n_k = \frac{\alpha'}{54}$$



**مثال ۴-** برای تقسیم زاویه صفحه شیاردار مطابق شکل مطلوبست محاسبه:

الف) مقدار گردش دسته دستگاه تقسیم اگر نسبت دستگاه تقسیم  $i = 40:1$  باشد.

ب) ردیف سوراخ های انتخابی در صورتی که صفحه سوراخ دار شماره ۲ روی دستگاه سوار باشد.

ج) تعداد فاصله تنظیمی بین دو بازوی قیچی.

**حل:**

$$n_k = \frac{\alpha^\circ}{9} = \frac{6^\circ}{9} = 6\frac{6}{9}$$

ب) در صفحه شماره ۲ تنها ردیفی که بر ۹ بخش پذیر است ردیف ۲۷ می باشد که برای تعیین ضریب کافی است

۲۷ را بر ۹ تقسیم کنیم  $\frac{27}{9} = 3$  پس عدد ۳ عددی است که صورت و مخرج کسر را مطابق زیر باید در آن ضرب کنیم.

$$6\frac{6}{9} = 6\frac{6(3)}{9(3)} = 6\frac{18}{27}$$

**حل ج)** سوراخ موجود بین دو بازوی قیچی ۱۹ سوراخ و یا ۱۸ فاصله خواهد بود.

برای کنترل حل مسئله با توجه به فرمول اصلی می توان مقدار  $\alpha$  را محاسبه کرد، در صورتی که  $\alpha$  حاصل همان

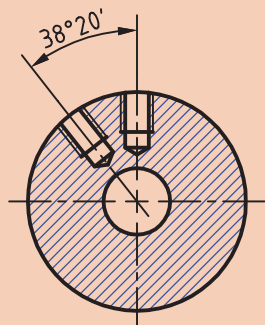




زاویه صورت مسئله باشد، حل مسئله صحیح بوده و در غیر این صورت غلط خواهد بود.

$$n_k = \frac{\alpha^\circ}{9} \rightarrow \alpha^\circ = n_k \times 9 = 6 \frac{18}{27} \times 9 = \frac{18^\circ}{27} \times 9 = \frac{162^\circ}{27} = 6^\circ$$

بنابراین حل مسئله درست بوده است.



روی صفحه‌ای فاصله دوسوراخ ۲۰' و ۳۸° مطابق شکل، به وسیله دستگاه تقسیم غیرمستقیم باید تنظیم شود.

(الف) مقدار گردش دسته دستگاه تقسیم اگر نسبت دستگاه تقسیم  $i = 40:1$  باشد.

(ب) ردیف سوراخ‌های انتخابی در صورتی که صفحه سوراخ‌دار شماره ۲ روی دستگاه سوار باشد.

(ج) تعداد سوراخ تنظیمی بین دو بازوی قیچی.

(د) امتحان حل مسئله.

### تقسیمات نامساوی محیط قطعه کار

تاکنون با ذکر مثال‌هایی کاربرد صفحه تقسیم‌های اونیورسال جهت تقسیم کردن محیط قطعات به قسمت‌های مساوی را مورد بررسی قرار دادیم. لیکن در هنگام فرزکاری قطعه کار به مواردی برخورد می‌کنیم که لازم است محیط را به قسمت‌های نامساوی تقسیم کنیم. فرق عمده فرزکاری آنها با قطعاتی که دارای زاویه مرکزی مساوی هستند، این است که در این گونه موارد به خاطر متفاوت بودن زاویه مرکزی هر شیار، باید مقدار گردش دسته دستگاه تقسیم برای هر زاویه داده شده جداگانه محاسبه شود.

**مثال ۵-** قطعه مطابق شکل به وسیله فرز انگشتی فرزکاری می‌شود.

ابتدا مقدار گردش دستگاه تقسیم برای هر یک از زوایا را محاسبه کنید و سپس آن را فرزکاری نمایید.

تعیین دور دسته دستگاه تقسیم:

$$\alpha_1 = 85^\circ \rightarrow n_k = \frac{\alpha^\circ}{9} = \frac{85}{9} = 9 \frac{4(2)}{9(2)} = 9 \frac{8}{18} \quad \text{یا} \quad 9 \frac{4(3)}{9(3)} = 9 \frac{12}{27}$$

$$\alpha_2 = 90^\circ \rightarrow n_k = \frac{\alpha^\circ}{9} = \frac{90}{9} = 10$$

$$\alpha_3 = 95^\circ \rightarrow n_k = \frac{\alpha^\circ}{9} = \frac{95}{9} = 10 \frac{5(2)}{9(2)} = 10 \frac{10}{18} \quad \text{یا} \quad 10 \frac{5(3)}{9(3)} = 10 \frac{15}{27}$$

$$\alpha_4 = 90^\circ \rightarrow n_k = \frac{\alpha^\circ}{9} = \frac{90}{9} = 10$$



از مقادیر به دست آمده و صفحه سوراخ‌های موجود در می‌یابیم که صفحه مناسب ۲۷ سوراخ می‌باشد بنابراین بعد از سوار کردن آن روی دستگاه تقسیم به ترتیب زیر عمل می‌کنیم:

ابتدا شیار اول را به طور دلخواه فرز کاری می‌کنیم، سپس برای فرز کاری شیار دوم، دسته دستگاه تقسیم را به اندازه  $9\frac{12}{27}$  دوران می‌دهیم. یعنی دسته دستگاه تقسیم را به اندازه ۹ دور کامل و ۱۲ فاصله از ردیف ۲۷ سوراخ دوران می‌دهیم. پس از اینکه شیار دوم فرز کاری شد، عملیات را برای بقیه شیارها نیز تکرار می‌کنیم.

با توجه به لقی قطعات دستگاه تقسیم قبل از شروع به کار و همچنین در حین کار لقی آن را در یک جهت (مثلاً ساعت گرد) بگیرد.

نکته

فعالیت  
کلاسی

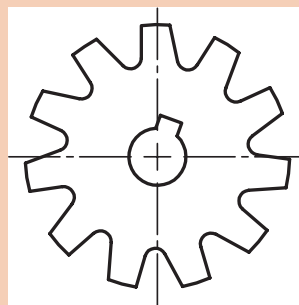
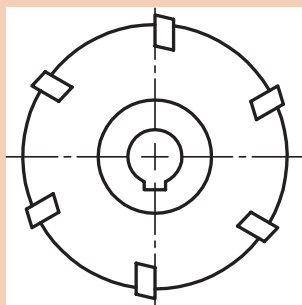
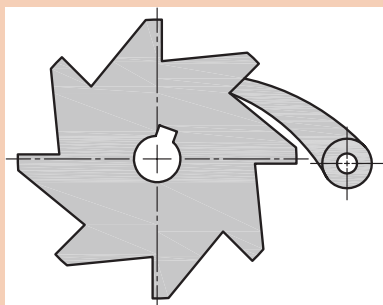
۱ در دستگاه تقسیم مستقیم که دارای ردیف‌های ۱۶-۳۶-۴۲-۶۰ سوراخ می‌باشد، تعیین کنید:

(الف) تعداد دوران دسته دستگاه تقسیم را برای تقسیمات ۷ و ۱۲ و ۱۵.

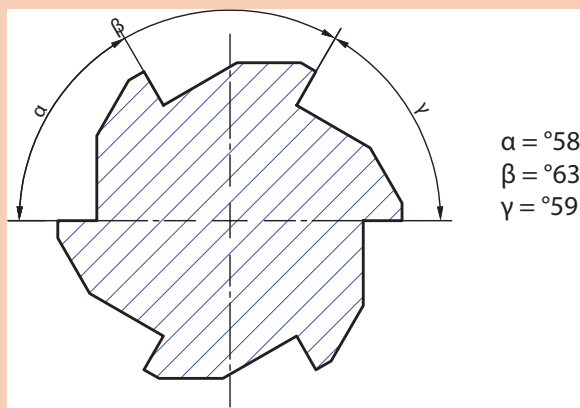
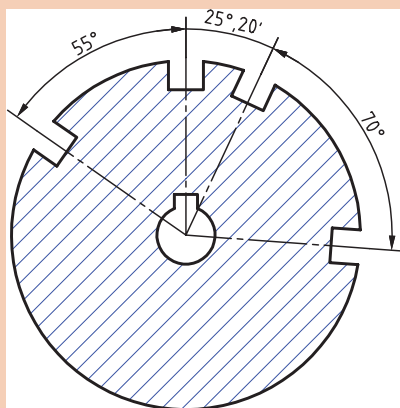
تقسیمات	دایره سوراخ‌دار	۱۶	۳۶	۴۲	۶۰
۷					
۱۲					
۱۵					

- (ب) برای تقسیمات ۲ و ۱۸ قسمتی از کدام یک از صفحه سوراخ‌دارهای فوق می‌توان استفاده کرد؟
- ۲ با دستگاه تقسیم مستقیم می‌خواهیم محیط کاری را به ۴ و ۶ و ۸ قسمت مساوی تقسیم کنیم. اگر صفحه تقسیم موجود دارای ردیف سوراخ‌های ۱۶-۳۶-۴۸-۶۰ باشد حساب کنید:
- (الف) ردیف سوراخ‌های مناسب برای تقسیمات فوق را.
- (ب) مقدار جابه‌جایی لازم ( $n_L$ ) برای هر یک از تقسیمات را.
- ۳ برای بخش طراحی کارخانه‌ای تقسیمات ۹۰ تا ۹۹ قسمت مطرح است، کدام یک از تقسیمات مذکور بوسیله دستگاه تقسیم غیرمستقیمی که دارای صفحات سوراخ‌دار نرمال (سه صفحه سوراخ‌دار) و نسبت  $i=40:1$  می‌باشد امکان‌پذیر می‌باشد؟
- ۴ محیط قطعه کاری بوسیله یک دستگاه تقسیم غیرمستقیم بایستی به ۲۸ قسمت مساوی تقسیم شود. حساب کنید مقدار گردش دسته تقسیم را اگر از صفحات سوراخ‌دار نرمال استفاده شود.
- ۵ تیغه فرزهایی با تعداد دندانه‌های ۶ و ۱۱ و ۱۳ و ۱۴ و ۱۶ و ۱۸ با دستگاه تقسیمی که نسبت آن  $i=40:1$  می‌باشد، باید تقسیم و به وسیله ماشین فرز تراشیده شوند. مطلوب است محاسبه مقدار گردش دسته دستگاه تقسیم برای هر یک از تقسیمات.

**۶** پولک‌های جغجغه ای مطابق شکل روی دستگاه تقسیمی که نسبت آن  $i = 40:1$  می‌باشد باید تقسیم و فرز شوند. مقدار گردش دسته دستگاه تقسیم را حساب کنید



**۷** صفحه شیاردار مطابق شکل را می‌خواهیم به کمک دستگاه تقسیمی که نسبت آن  $i = 40:1$  است تقسیم کنیم. حساب کنید مقدار گردش دسته دستگاه تقسیم را برای هر یک از زوایای نشان داده شده در شکل در صورتی که صفحه سوراخ‌دار موجود ۱۵-۱۶-۱۷-۱۸-۱۹-۲۰-۲۷ باشد.

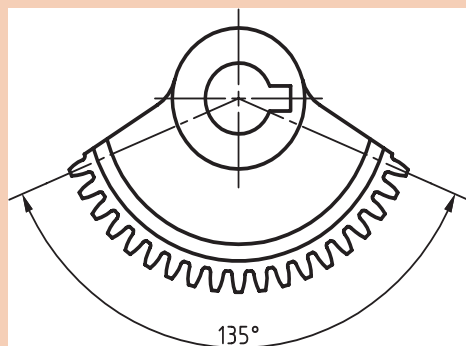


**۸** اهرم دنده‌ای مطابق شکل که در حد فاصل  $135^\circ$  آن ۱۸ دنده وجود دارد بایستی به کمک دستگاه تقسیم  $i = 60:1$  تقسیم شود.

الف) تعداد دنده موجود در  $360^\circ$  درجه آن را محاسبه کنید.

ب) مقدار گردش دسته دستگاه تقسیم برای فرز کردن هر دنده را محاسبه کنید.

**۹** نمونه‌هایی از تقسیمات محیطی، که در محیط زندگی مشاهده می‌کنید و در کارگاه قابل انجام دادن است را به هنرآموز معرفی کنید.





## فرز کاری دسته تنظیم گیره

روند نما و مراحل انجام کار را طراحی کرده و بنویسید

### مشخصات قطعه کار

لازم به توضیح است که به تشخیص هنرآموز محترم از آلومینیوم نیز می توان استفاده کرد. شیوه انجام کار متناسب با امکانات کارگاه و به تشخیص هنرآموز صورت می گیرد.

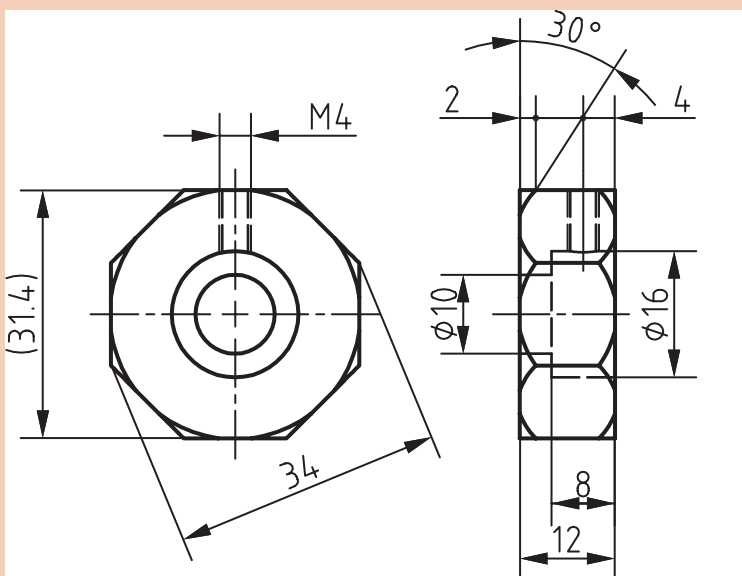
جنس قطعه: St37 یا Al

مواد اولیه:  $\varnothing 38 \times 30 \text{ mm}$

تولرانس: مطابق ISO ۲۷۶۸ - f

وسایل مورد نیاز:

- ۱ دستگاه فرز
- ۲ تیغه فرز مناسب
- ۳ آچار تخت مناسب
- ۴ دستگاه تقسیم
- ۵ کولیس
- ۶ پارچه تمظیف
- ۷ لباس کار و عینک ایمنی



به نظر شما بهترین پیشنهاد در روش تولید این قطعه چیست؟ آن را با هنرآموز محترم در میان بگذارید.



## ارزشیابی واحد یادگیری: چندضلعی تراشی

### نقشه کار: چندضلعی تراشی

فرزکاری چندضلعی ها مطابق نقشه. جنس قطعه از آلومینیوم و به قطر آماده ۴۰ به همراه جای دقیق مرغک ها است.

**شاخص عملکرد:** ۱- تولرانس ابعادی بر اساس استاندارد

ISO ۲۷۶۸-f ۲- پرداخت سطح  $Ra = 1/6$

**شرایط انجام کار:** ۱- انجام کار در محیط کارگاه ۲- نور

یکنواخت با شدت ۴۰۰ لوکس ۳- تهویه استاندارد و

دمای  $30^{\circ}C \pm 3^{\circ}$  ۴- ابزارآلات و تجهیزات استاندارد و

آماده به کار ۵- وسایل ایمنی استاندارد ۶- زمان ۸ ساعت

**مواد مصرفی:** جنس قطعه از آلومینیوم و به قطر آماده

۴۰ به همراه جای دقیق مرغک ها.

**ابزار و تجهیزات:** ماشین فرز انیورسال با متعلقات- دستگاه

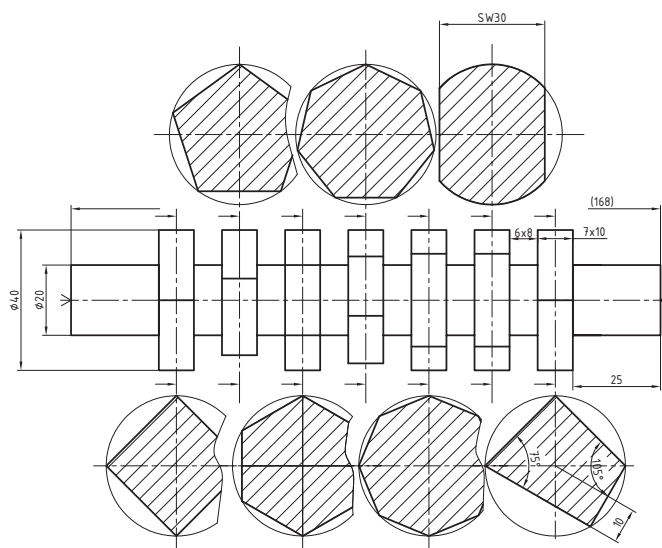
تقسیم با متعلقات - ساعت اندازه گیری - کولیس ۰/۰۵-

آچار تخت- برس مویی- تیغه فرز انگشتی با فشنگی

و فرزگیر به همراه آچار مربوطه - وسایل روغن کاری-

پیچ گوهی- زیرپایی

- نمونه و نقشه کار:



### معیار شایستگی:

ردیف	مرحله کار	حداقل نمره قبولی از ۳	نمره هنرجو
۱	بررسی قطعه کار اولیه	۱	
۲	آماده سازی دستگاه	۱	
۳	آماده سازی و بستن ابزار	۱	
۴	بستن قطعه کار	۲	
۵	فرزکاری چندضلعی ها	۲	
<b>شایستگی های غیر فنی، ایمنی، بهداشت، توجهات زیست محیطی و نگرش:</b>			
۱- مسئولیت پذیری ۲- مدیریت مواد و تجهیزات ۳- استفاده از لباس کار و کفش ایمنی و عینک محافظ ۴- تمیز کردن وسایل و محیط کار ۵- پایبندی به الزامات نقشه			
<b>میانگین نمرات *</b>			

\* حداقل میانگین نمرات هنرجو برای قبولی و کسب شایستگی، ۲ می باشد.

## واحد یادگیری ۲

### تراشیدن چرخ دنده ساده

#### مقدمه

چرخ دنده ها قطعاتی هستند که می توانند نیرو و عده دوران را منتقل نمایند امروزه کمتر دستگاهی را می توان یافت که از چرخ دنده استفاده نشده باشد.

#### استاندارد عملکرد

فرزکاری چرخ دنده ساده مطابق نقشه

#### پیش نیاز

نقشه خوانی  
کار با ابزارهای اندازه گیری  
فرزکاری سطوح تخت  
فرزکاری سطوح شیبدار  
فرزکاری شیارها

## چرخ‌دنده‌ها (Gears) و اجزای آنها



به نظر شما شکل مقابل چه قسمتی از دستگاه را نشان می‌دهد؟ به چه روش‌های دیگری می‌توان بین محورهای نشان داده شده ارتباط برقرار کرد؟ (شکل ۸)

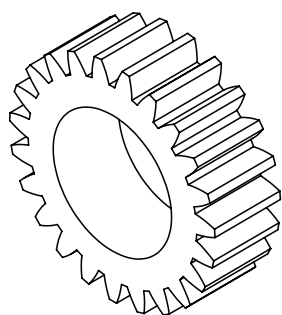
معمولاً برای انتقال حرکت و نیرو از یک محور به محور دیگر (معمولاً در فواصل کوتاه) از چرخ‌دنده استفاده می‌گردد. چرخ‌دنده‌ها نسبت به وسایل انتقال حرکت دیگر مانند (چرخ زنجیر و چرخ تسمه) وسیله انتقال حرکت دقیق‌تر و به‌صرفه‌تری به شمار می‌روند و در ماشین‌های ابزار، جعبه‌دنده و ... به کار می‌روند (شکل ۹).

شکل ۸



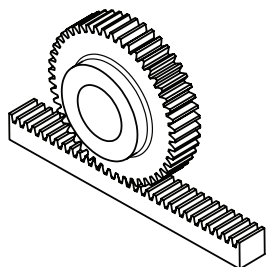
شکل ۹

بعضی از انواع چرخ‌دنده‌ها به شرح زیر هستند:



شکل ۱۰

الف) چرخ‌دنده‌های استوانه‌ای: دنده‌ها روی سطح جانبی مدور (محیط قطعه) قرار دارند (شکل ۱۰).



شکل ۱۱

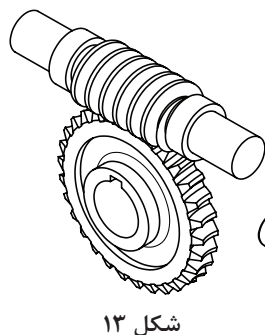
ب) چرخ‌دنده‌های شانه‌ای: دنده‌ها معمولاً روی یک سطح مکعب مستطیل ایجاد می‌گردد (شکل ۱۱).



شکل ۱۲

ج) چرخ دنده های مخروطی: دنده های آن روی سطح یک مخروط ناقص قرار دارند که می توانند به صورت مستقیم یا مارپیچ باشند (شکل ۱۲).

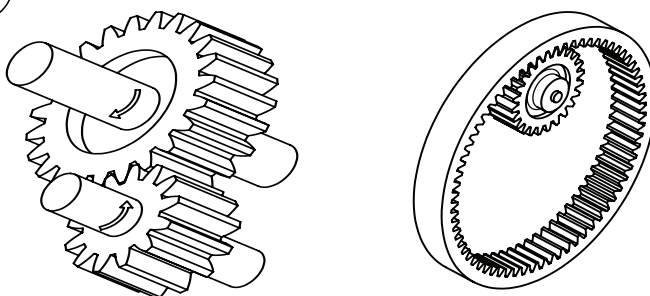
د) چرخ دنده های حلزونی (ماردن): دندانه ها روی سطح استوانه واقع گردیده است (شکل ۱۳).



شکل ۱۳


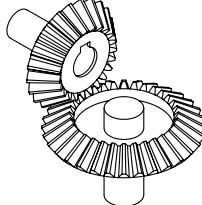

چرخ دنده های استوانه ای از نظر فرم دندانه به فرم دنده مستقیم، مارپیچ، جناقی و حلزونی تقسیم می شوند.

۱- چرخ دنده های استوانه ای با دنده مستقیم (ساده) به صورت داخلی و خارجی (شکل ۱۴)




شکل ۱۴

وضعیت قرار گرفتن محور چرخ دنده به سه حالت هندسی زیر تقسیم شده اند:

تصویر	شرح	وضعیت
	در تمام طول محور فاصله آنها یکسان باشد. مانند محور در چرخ دنده های ساده	محور موازی
	امتداد محورها همدیگر را قطع می کنند مثل چرخ دنده های مخروطی	محور متقاطع
	محورها نه موازی و نه متقاطع مانند چرخ دنده های حلزون و یا نوعی چرخ دنده مارپیچ	محور متنافر



با توجه به آموخته‌های قبل و مطالب گفته شده جدول ۱ را پر کنید:

ردیف	نام چرخ‌دنده	کاربرد	تصویر
۱			
۲			
۳			



## روش‌های تولید چرخ‌دنده



شکل ۱۵

برای تولید چرخ‌دنده روش‌های مختلفی مورد استفاده قرار می‌گیرد که بعضی از آنها عبارت‌اند از:

- الف) پرسکاری (برای چرخ‌دنده‌های ریز و کوچک)
- ب) ریخته‌گری با قالب فولادی
- ج) آهنگری (Forging) و همچنین متالورژی پودر
- د) براده‌برداری

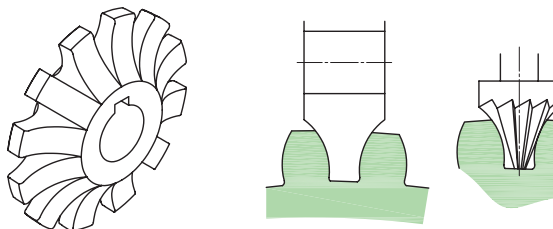
در این پودمان فقط به روش تولید چرخ‌دنده از طریق براده‌برداری اشاره شده است

### چرخ‌دنده تراشی از طریق براده‌برداری


به طور کلی چرخ‌دنده تراشی با استفاده از براده‌برداری به سه روش اصلی زیر انجام می‌گیرد:

**الف) روش معمولی (کپی):** روشی است که در آن دندانه‌ها به‌طور تک‌تک به وسیله صفحه تقسیم و توسط تیغه فرز مدولی روی ماشین‌هایی فرز افقی و یا عمودی ساخته می‌شود. این روش به علت اینکه فرم و شکل تیغه فرز مدولی عیناً بر روی چرخ‌دنده منعکس می‌شود را روش کپی گویند.

در این روش شیارها به وسیله تیغه فرز مخصوص دنده تراش که با فرم دندانه نسبت دقیقی دارد ماشین‌کاری می‌شود. پس از تراش اولین شیار، لازم است که شمش به مقدار گام چرخ‌دنده چرخانده شود. این عمل تا تراشیدن تمام دندانه تکرار می‌شود (شکل ۱۶).



شکل ۱۶

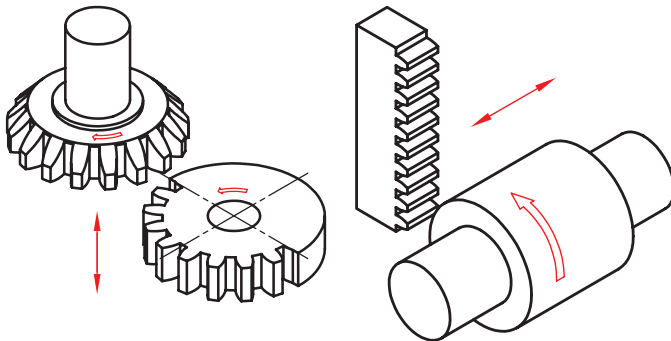


در شکل مقابل یک روش برای تراشیدن چرخ‌دنده به کمک دستگاه فرز عمودی و دُرَن متوسط را نمایش می‌دهد (شکل ۱۷)

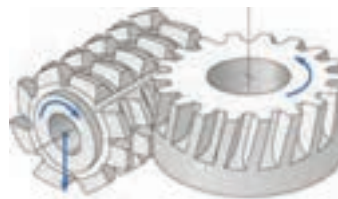
(شکل ۱۷)

### ب) روش کله‌زنی

ماشین کاری هم‌زمان دنده‌ها را می‌توان روی ماشین فرز کله‌زنی انجام داد. چرخ دنده تراشی روی چنین ماشین‌هایی با دنده‌های فرم که متناسب با چرخ دنده است، انجام می‌گیرد. این روش نسبت به فرزکاری با ماشین افقی و عمودی از راندمان بالاتری برخوردار می‌باشد اما تنظیم ماشین نسبتاً مشکل‌تر از فرز معمولی است، بنابراین از این روش برای تولید در مقیاس زیاد استفاده می‌شود (شکل ۱۸).



شکل ۱۸

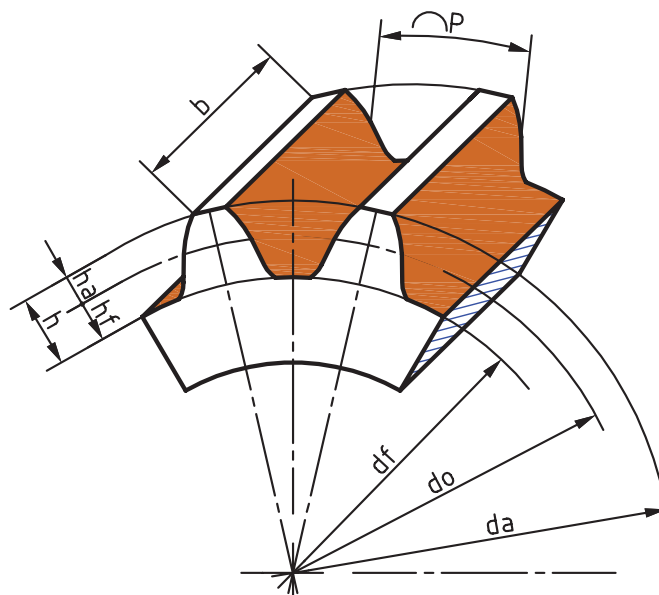


ج) روش غلتی یا هاب (Hobbing): در این روش با چرخش هم‌زمان تیغه فرز و قطعه کار عمل براده‌برداری انجام می‌شود (شکل ۱۹).

شکل ۱۹

### مشخصات کلی چرخ دنده

چرخ دنده از فلکه یا استوانه‌ای که ضخامت آن نسبت به قطرش کمتر می‌باشد ساخته شده است که در محیط آن برآمدگی‌هایی به فرم معین به نام دندانه و فرورفتگی‌هایی مخصوص به نام شیار دنده که مابین دنده‌ها واقع می‌شوند قرار دارند.



**مدول m:** مدول از تقسیم گام (p) بر عدد  $\pi$  و یا از تقسیم قطر دایره گام بر تعداد دندانه به دست می آید  

$$(m = \frac{p}{\pi} = \frac{d_o}{z})$$
  
**مقدار لقی (C):** این مقدار را در ماشین سازی معمولاً  $C = \frac{1}{6}m = 0.167m$  در نظر می گیرند.

نکته

مدول نشان دهنده بزرگی یا کوچکی دندانه می باشد. ضمناً یکی از شرایط درگیری دو چرخ دنده با یکدیگر، داشتن مدول مساوی است.

جدول ۲ اجزا مهم چرخ دنده

نام	فرمول
گام	$p = m \times \pi$
مدول	$m = \frac{p}{\pi} = \frac{d_a}{z + 2}$
قطر دایره گام	$d_o = m \times z = d_a - 2m$
قطر سر دنده	$d_a = d_o + 2m$ $d_a = m(z + 2)$
قطر پای دنده	$d_f = d_o - 2/334 m$ $d_f = m(z - 2/334)$
ارتفاع سر دنده	$h_a = m$
ارتفاع پای دنده	$h_f = m + c = 1/167 m$
ارتفاع دنده	$h = h_a + h_f$ $h = m + m + c = 2/167 m$
لقی	$c = \frac{1}{6}m = 0.167m$
تعداد دنده	$N یا Z = \frac{d_o}{m} = \frac{d_a - 2m}{m}$
پهنای دنده	$b \approx 10 m$
ضخامت دنده	$s = \frac{19}{40} p$
فاصله شیار دنده	$l = \frac{21}{40} p$
فاصله بین دو محور	خارجی $a = \frac{m(z_1 + z_2)}{2}$ داخلی $a = \frac{m(z_2 - z_1)}{2}$



با توجه به روابط چرخ دنده ساده جدول ۳ را پر کنید:

فاصله محوری	گام mm	عمق دنده mm	تعداد دنده	مدول mm	قطر پای دنده mm	قطر دایره گام mm	قطر تراش mm	
			۲۸				۱۲۰	الف
			۳۰	۴				ب
	۹/۴۲						۱۲۶	ج
				۴		۱۱۲		د
	محاسبه فاصله محوری برای دو چرخ دنده خارجی قسمت «د» و «ب»							ه
	محاسبه فاصله محوری برای دو چرخ دنده داخلی قسمت «د» و «ب»							و



- در چرخ دنده شکسته ای تعداد دنده موجود در فاصله ۱۳۵ درجه برابر ۱۸ دنده می باشد اگر مدول آن برابر ۵ میلی متر باشد، مطلوبست محاسبه:  
الف) تعداد کل دندانه ها  
ب) قطر دایره سردنده  
ج) ارتفاع دنده

### جنس چرخ دنده

معمولاً فلزاتی در ساخت چرخ دنده باید مورد استفاده قرار گیرند که به سادگی با ماشین های افزار قابل تراش بوده و از طرفی باید قدرت و استقامت کافی در برابر نیروهای وارده را داشته باشند. چرخ دنده برای داشتن عملکرد بهتر باید سخت کاری (Hardning) و سپس سنگ زنی شود، به همین دلیل باید جنس چرخ دنده را به گونه ای انتخاب کرد که در زمان آبکاری کمتر تغییر شکل دهند.

جنس دستگاه هایی که باید نیرو و فشار زیادی را تحمل کنند ممکن است از فولاد و چدن انتخاب نمایند. نوع فولادی که مورد استفاده قرار می گیرد با توجه به شرایط کاری می تواند از فولاد معمولی، فولاد ریخته گری، فولاد آلیاژی و فولاد نیکل کروم دار انتخاب شود.

- چدن خاکستری یکی از فلزاتی است که برای ساخت چرخ دنده معمولی استفاده می شود و در صورت نیاز به استحکام و مقاومت بیشتر می توان از چدن هایی که دارای مقادیر معینی کربن، سیلیسیم، منگنز، نیکل کروم، وانادیم، مولیبدن و مس می باشند، استفاده کرد.

برنز - یکی دیگر از فلزاتی که برای ساختن چرخ دنده هایی با مقاومت به خوردگی و فرسایش بالا به کار می رود

برنز است. برنز با توجه به ضریب اصطکاک کمتر در مقایسه با سایر مواد فلزی اغلب در ساخت چرخ دنده های حلزونی به کار می رود (چرخ دنده های فسفر برنز). آلومینیوم نیز با ترکیب معینی از مس (۴٪) و منگنز (۶٪) و سیلیسیم (۳٪) برای ساخت چرخ دنده هایی که باید آبکاری و سخت گردند، مورد استفاده قرار می گیرد. مواد غیر فلزی - گاهی اوقات به سبب آرام و بی صدا کار کردن، جنس چرخ دنده را از مواد پلاستیکی و یا فیبر انتخاب می کنند. معمولاً این چرخ دنده برای فشار کم مورد استفاده قرار می گیرد.

گاهی به جای عبارت سخت کاری از کلمه «آبدهی و یا آبکاری» نیز استفاده می شود.

با استفاده از روش های جمع آوری اطلاعات (کتاب مرجع، اینترنت و ...) در مورد جنس مورد استفاده در چرخ دنده ها تحقیق انجام دهید و در کلاس ارائه نمایید.

فعالیت  
تحقیقی



شکل ۲۰ تیغه فرز مدولی









**نحوه انتخاب شماره (NO) تیغه فرز مناسب با توجه به منحنی**  
تشکیل دهنده چرخ دنده هر چه تعداد دندانه های چرخ دنده کمتر باشد انحنای دنده ها زیاد است و هر چه تعداد دنده ها بیشتر باشد شکل دنده ها به حالت دوزنقه نزدیک تر می شود. بنابراین لازم است که برای تراشیدن چرخ دنده ای با تعداد دندانه مشخص از تیغه فرز مدولی با شکل دنده مناسب (No یا Nr مناسب) استفاده شود (شکل ۲۰).  
بر طبق استاندارد برای هر مدول دو سری تیغه فرز پولکی موجود است:

الف) سری هشت تایی (۸ تایی)

ب) سری پانزده تایی (۱۵ تایی)

برای تراشیدن هر چرخ دنده در سری ۸ تایی فقط هشت شکل دندانه موجود ایجاد می شود ولی در سری ۱۵ تایی ۱۵ شکل دنده ایجاد می شود. بنابراین سری ۱۵ تایی امکان انتخاب شکل دقیق تری را برای پروفیل دندانه (مقطع) به ما می دهد. ولی تهیه آن از نظر هزینه، گران قیمت تر از سری ۸ تایی می باشد.  
در جدول زیر (۴) شکل پروفیل دندانه (منحنی بغل دندانه) و تعداد و شماره مربوط به آنها داده شده است.

جدول ۴

سری ۸ تایی تیغه‌فرزهای مدولی								
شماره تیغه فرز	۱	۲	۳	۴	۵	۶	۷	۸
تعداد دنده	۱۲-۱۳	۱۴-۱۶	۱۷-۲۰	۲۱-۲۵	۲۶-۳۴	۳۵-۵۴	۵۵-۱۳۴	۱۳۵-∞
فرم دنده تراشیده شده								

سری ۱۵ تایی تیغه‌فرزهای مدولی								
شماره تیغه فرز	۱	۱/۵	۲	۲/۵	۳	۳/۵	۴	۴/۵
تعداد دنده	۱۲	۱۳	۱۴	۱۵-۱۶	۱۷-۱۸	۱۹-۲۰	۲۱-۲۲	۲۳-۲۵
شماره تیغه فرز	۵	۵/۵	۶	۶/۵	۷	۷/۵	۸	-
تعداد دنده	۲۶-۲۹	۳۰-۳۴	۳۵-۴۱	۴۲-۵۴	۵۵-۷۹	۸۰-۱۳۴	۱۳۵-∞	-

جدول ۵ مربوط به مدول‌های میلی‌متری استاندارد

مدول‌هایی استاندارد	
اندازه تغییرات	مدول بر حسب میلی‌متر
۰/۱	۰/۳ - ۰/۴ - ۰/۵ - ۰/۶ - ۰/۷ - ۰/۸ - ۰/۹ - ۱
۰/۲۵	۱/۲۵ - ۱/۵ - ۱/۷۵ - ۲ - ۲/۲۵ - ۲/۵ - ۲/۷۵ - ۳ - ۳/۲۵ - ۳/۵ - ۳/۷۵ - ۴
۰/۵	۴/۵ - ۵ - ۵/۵ - ۶ - ۶/۵ - ۷
۱	۸ - ۹ - ۱۰ - ۱۱ - ۱۲ - ۱۳ - ۱۴ - ۱۵ - ۱۶
۲	۱۸ - ۲۰ - ۲۲ - ۲۴
۳	۲۷ - ۳۰ - ۳۳ - ۳۶ - ۳۹ - ۴۲ - ۴۵
۵	۵۰ - ۵۵ - ۶۰ - ۶۵ - ۷۰ - ۷۵



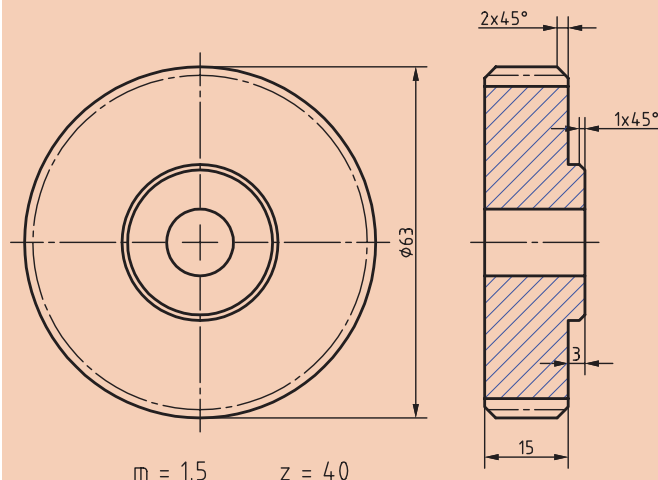
تعداد دندانه	۳۵	۶۴	۱۷	۱۴۰
مدول	۲	۱/۵	۴	۳
شماره تیغه فرز No	.....	.....	.....	.....

■ حرکت الکتروموتوری که در هر دقیقه  $120^\circ$  دور می گردد به وسیله دو چرخ دنده ساده به محور متحرکی که دارای  $240^\circ$  دور در دقیقه می چرخد، منتقل می شود. در صورتی که فاصله بین دو محور  $a = 300 \text{ mm}$  و مدول چرخ دنده ها  $m = 2/5 \text{ mm}$  و نسبت دستگاه تقسیم  $1:40 = I$  باشد حساب کنید:

الف) تعداد دندانه - قطر دایره تقسیم - قطر خارجی - پهنای چرخ دنده - ارتفاع کل دنده و شماره تیغه فرز را  
ب) مقدار گردش دسته دستگاه تقسیم را برای هر یک از چرخ دنده ها



## روند نمای انجام کار

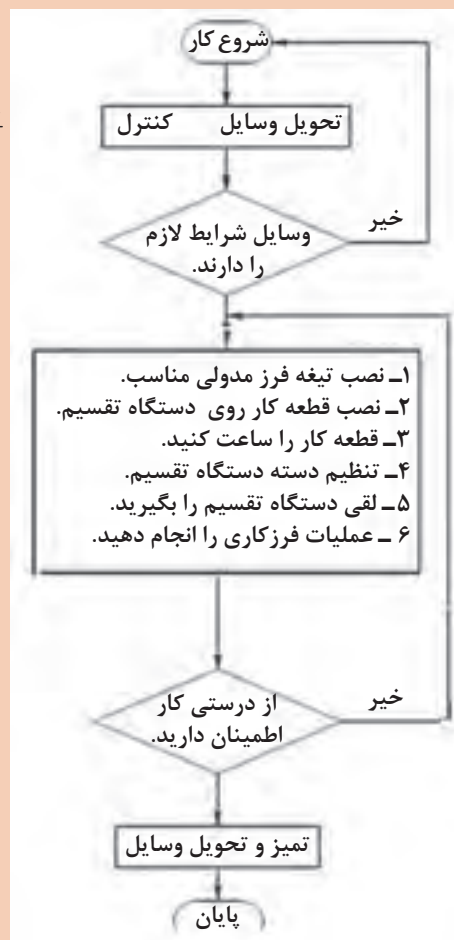


## وسایل مورد نیاز

- ۱ قطعه خام
- ۲ دستگاه فرز افقی
- ۳ تیغه فرز مدولی
- ۴ ساعت اندازه گیری
- ۵ آچار تخت مناسب
- ۶ کولیس ورنیه

## مواد اولیه

گرده فولاد St ۳۷ به ابعاد  $70 \times 20 \text{ mm}$   
تولرانس:  $f - \text{ISO } 2768$  توضیح:



به تشخیص هنرآموز محترم جنس چرخ‌دنده و مدول قابل تغییر است.

## مراحل تراش چرخ‌دنده ساده

مراحل تراش چرخ‌دنده ساده	
<p>۱ قطر تراش را محاسبه کنید.</p> $d_a = m(z+2)$ $d_a = 1/5 \times (40+2) = 63 \text{ mm}$	
<p>۲ قطعه را سوراخ‌کاری کرده و روی دُرَن سوار کنید.</p> <p>۳ قطعه کار را تراش داده تا به قطر محاسبه شده برسد.</p>	
	<p>۴ با توجه به مقدار گردش دسته دستگاه تقسیم، صفحه سوراخ‌دار مناسب را انتخاب و روی دستگاه نصب نمایید.</p>
	<p>۵ قیچی دستگاه تقسیم را تنظیم کنید.</p>
<p>۶ با توجه به تعداد دندانه و مدول مورد نیاز، تیغه فرز را انتخاب کرده و روی محور سوار کنید.</p>	
	<p>۷ تیغه فرز را با نوک نیم مرغک تنظیم کرده و حرکت عرضی میز را قفل نمایید.</p>
	<p>۸ با رعایت نکات ایمنی دستگاه را روشن کرده و تیغه فرز را به کار نزدیک کنید.</p>



۹ تعداد دوران و سرعت پیشروی را با توجه به شرایط کارگاهی محاسبه و تنظیم نمایید.

$$n = \frac{v \times 1000}{d \times \pi}$$

۱۰ متناسب با جنس قطعه کار، عمق براده مناسب برای هر مرحله براده برداری را انتخاب نمایید.

تیغه فرز را به طور صحیح با قطعه کار مماس کنید (با استفاده از چسب کاغذی و یا نوار کاغذ نازک)

۱۱ جهت گردش تیغه فرز را کنترل کرده و در صورت لزوم جهت آن را عوض کنید.

۱۲ به آرامی شروع به براده برداری کرده تا عمق دندانه تکمیل گردد.

۱۳ بعد از اتمام شیار و خارج شدن تیغه فرز از داخل دنده، دسته دستگاه تقسیم را به اندازه لازم دوران دهید.

$$n_k = \frac{i}{t} = \frac{40}{40} = 1$$

۱۴ عملیات را تا پایان فرزکاری دنده ها و با دقت تکرار کنید.

در اجرای عملیات فرزکاری دقت گردد تا حتی الامکان از اشتباهات و ایجاد هزینه جلوگیری گردد.

۱۵ دستگاه فرز را خاموش کرده و چرخ دنده را از روی دستگاه باز نمایید.

۱۶ دستگاه فرز و ابزار را تمیز کرده و به انبار کارگاه تحویل دهید.

۱۷ براده ها و ضایعات را تفکیک کرده و در محل پیش بینی شده قرار دهید.

از وسایل سالم استفاده کنید و در برابر اشتباهات احتمالی مسئولیت پذیر باشید



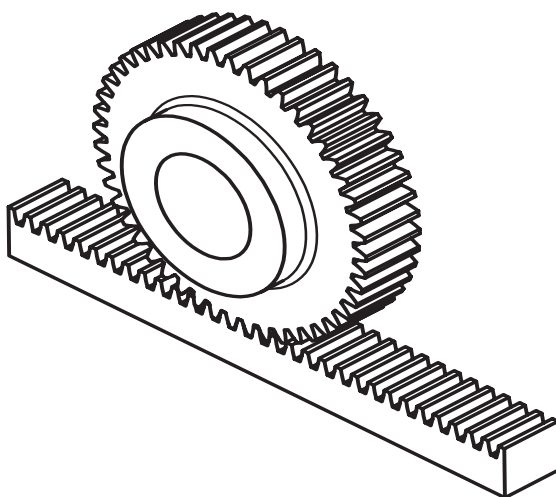
- ۱ قبل از شروع به کار جهت گردش درست تیغه فرز را مد نظر قرار داده و کنترل نمایید.
- ۲ تعداد دوران و سرعت پیشروی را مناسب انتخاب کنید.
- ۳ از مایع خنک کاری استفاده نمایید.
- ۴ با توجه به اینکه محور دستگاه تقسیم دارای لقی است، قبل از شروع به کار لقی آن را بگیرید.
- ۵ اگر به اشتباه دسته بیش از اندازه چرخانده شد باید در موقع برگرداندن دسته، مقدار لقی دستگاه لحاظ شود.



- ۱ از لباس و کفش و عینک ایمنی استفاده کنید.
- ۲ در هنگام روشن بودن دستگاه به هیچ وجه اقدام به کنترل و یا اندازه گیری چرخ دنده نکنید.
- ۳ قبل از شروع به کار تیغه فرز را به اندازه کافی از قطعه کار دور نمایید.

## دنده شانه‌ای

از این نوع دنده‌ها برای تبدیل حرکت دورانی به حرکت خطی و یا بالعکس استفاده می‌گردد، مانند حرکت سوپرت طولی ماشین تراش یا حرکت عمودی میز ماشین مته ستونی.




شکل ۲۱

دنده شانه معمولاً با یک چرخ دنده ساده و یا چرخ دنده مارپیچ درگیر می‌شود. برای ساخت این نوع دنده معمولاً از یک قطعه آهن و یا فولاد مکعب مستطیل (شمش) استفاده می‌گردد. البته دنده شانه‌ای را روی استوانه نیز می‌توان ایجاد کرد.

محاسبات مربوط به دنده شانه‌ای مانند چرخ دنده معمولی است با این تفاوت که قطر را بی‌نهایت در نظر

می گیریم، بنابراین در سیستم متریک شماره تیغه فرز برای تراشیدن آنها در سری ۸ تایی شماره ۸ و در سری ۱۵ تایی شماره ۱۵ انتخاب می شود و البته در سیستم اینچی برعکس سیستم متریک شماره یک را در نظر می گیریم.

### طریقه تراشیدن دنده شانه ای



شکل ۲۲

برای تراشیدن دنده شانه ای معمولاً به روش زیر عمل می کنند:  
ابتدا شمش مورد نظر را که قبلاً اندازه های آن طبق نقشه آماده شده است را بین دو فک گیره قرار داده و گیره را به همراه قطعه کار، طوری روی میز دستگاه فرز افقی قرار می دهیم که شمش از جهت طولی موازی با محور فرز باشد. آنگاه تیغه فرز مدولی مناسب را انتخاب کرده و روی محور ماشین فرز افقی سوار می کنیم. سپس گام دنده محاسبه می شود. برای تنظیم فاصله تقسیم (گام) پس از تراشیدن هر دندانه از یکی از دو روش زیر می توان استفاده کرد:

**الف) با استفاده از حلقه تنظیم پیچ هادی میز دستگاه:** در این روش پس از تراشیدن اولین دنده میز را به اندازه یک گام چرخ دنده جابه جا کرده و دنده بعدی تراشیده می شود. این عمل تا اتمام دنده شانه ای ادامه می یابد. در موقع جابه جایی میز، لقی پیچ دستگاه را در نظر بگیرید.

**ب) با استفاده از دستگاه تقسیم:** در این موارد از دستگاه تقسیم به این ترتیب استفاده می کنیم که، محور کار دستگاه تقسیم (محور سه نظام) را به وسیله چرخ دنده هایی با نسبت معین به پیچ هادی میز ماشین متصل می کنیم و بدین ترتیب با چرخاندن دسته دستگاه تقسیم حرکت از محور کار دستگاه تقسیم و چرخ دنده های تعویضی به پیچ هادی میز دستگاه فرز می رسد و میز را در جهت طولی حرکت می دهد. در دستگاه های تقسیم که نسبت آنها  $I=40:1$  باشد با گردش یک دوره کامل دسته دستگاه تقسیم محور کار دستگاه تقسیم  $\frac{1}{40}$  دور خواهد گشت و اگر نسبت چرخ دنده های تعویضی  $i_p=1:1$  باشد پیچ هادی میز ماشین نیز  $\frac{1}{40}$  دور می گردد و اگر گام میله هادی میز ماشین  $p_t=4\text{mm}$  باشد به ازای یک دور کامل دسته تقسیم، میز به اندازه  $\frac{1}{40} \times 4 = 0.1$  میله حرکت خواهد کرد.

به طور کلی برحسب اینکه گام دنده شانه ای چه اندازه باشد مقدار گردش دسته تقسیم از رابطه زیر محاسبه می گردد:

$$n_k = \frac{i \times i_p \times p}{p_t}$$

$n_k$  = مقدار گردش دسته دستگاه تقسیم برای مدرج کردن هر فاصله

$i$  = نسبت بین حلزون و چرخ حلزون

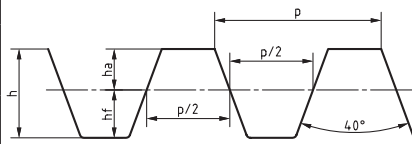
$i_p$  = نسبت چرخ دنده های تعویضی بین محور کار دستگاه تقسیم و محور پیچ هادی میز ماشین فرز

$p$  = فواصل تقسیمات برحسب میلی متر یا اینچ

$p_t$  = گام پیچ میز ماشین برحسب میلی متر و یا اینچ

۲- تراشیدن دنده شانه‌ای به وسیله ماشین‌های صفحه تراش و یا کله‌زنی امکان پذیر است. در این حالت از رنده دوزنقه با زاویه  $40^\circ$  درجه استفاده می شود.

جدول ۶- روابط چرخ دنده شانه‌ای

	گام	$p = m \times \pi$
	ارتفاع دنده	$h = h_a + h_f = m + 1/167 m = 2/167 m$
	پهنای دنده	$b \approx 10 m$
	ضخامت دنده	$s = \frac{p}{2}$
	شماره تیغه فرز	در سری ۱۵ تا ۱۵ NO = ۸ در سری ۸ تا ۸ NO = ۸
	زاویه تیغه فرز	$40^\circ$

توجه



۱ محاسبات مربوط به چرخ دنده شانه مانند چرخ دنده ساده می باشد.

۲ شماره تیغه فرز مناسب برای تراش دنده شانه در سری ۸ تا ۸ شماره ۸ و در سری ۱۵ تا ۱۵ شماره ۱۵ می باشد.

مثال ۱

دنده شانه‌ای با مدول  $m = 3 \text{ mm}$  با ماشین فرزی که گام پیچ هادی آن  $P_t = 6 \text{ mm}$  است به کمک فرز مدولی تراشیده خواهد شد تعیین کنید:

الف) گام - ارتفاع سردنده - ارتفاع پای دنده - ارتفاع دنده - پهنای دنده و شماره تیغه فرز را.  
ب) مقدار گردش دسته دستگاه تقسیم را اگر نسبت آن  $i = 40:1$  بوده و از چرخ دنده‌های تعویضی با نسبت  $i_p = 1:2$  استفاده گردد.

$$p = m \times \pi = 3 \times 3/14 = 9/42 \text{ mm}$$

$$h_a = m = 3 \text{ mm}$$

$$h_f = 1/167 m = 1/167 \times 3 = 3/5 \text{ mm}$$

$$h = h_a + h_f = 3 + 3/5 = 6/5 \text{ mm}$$

$$b = 10 \times m = 10 \times 3 = 30 \text{ mm}$$

$$NO = 8$$

$$n_k = \frac{i \times i_r \times p}{p_t} = \frac{40 \times \frac{1}{2} \times 9/42}{6} = 31/4 = 31 \frac{4}{10} = 31 \frac{8}{20}$$

یعنی برای تراشیدن هر شیار دنده لازم است که دسته دستگاه تقسیم را به اندازه ۳۱ دور کامل و ۸ فاصله از صفحه سوراخ دار ۲۰ سوراخه بچرخانیم. چون در شمردن ۳۱ دور احتمال اشتباه وجود دارد در این قبیل موارد از دستگاه تقسیم مخصوصی که همراه بعضی از دستگاه‌های فرز موجود است استفاده می‌شود. مکانیزم داخلی این دستگاه به گونه‌ای است که یا دارای نسبت  $i=1:1$  بوده و یا به ترتیبی است که مستقیماً به پیچ هادی میز ماشین فرز متصل می‌شود که در هر دو صورت محاسبه به شرح زیر انجام می‌شود:

$$n_k = \frac{p}{p_t}$$

اکنون مسئله نمونه حل شده بالا را به شرط داشتن دستگاه تقسیم مخصوص حل می‌کنیم: (توجه داشته باشید در این جا به جای عدد  $\pi$  از معادل آن یعنی  $\frac{22}{7}$  استفاده کردیم)

$$p = m \times \pi = 3 \times \frac{22}{7} = \frac{66}{7} \text{ mm}$$

$$n_k = \frac{p}{p_t} = \frac{\frac{66}{7}}{6} = \frac{66}{7 \times 6} = \frac{11}{7} = 1 \frac{4}{7} = 1 \frac{12}{21}$$

یعنی برای هر تقسیم کافی است دسته تقسیم را یک دور کامل و روی دایره سوراخ دار ۲۱ سوراخه به اندازه ۱۲ فاصله جابه‌جا کنیم.

## پرسش



برای تراشیدن دنده شانه‌ای که مدول آن ۵ mm است توسط ماشین فرزی به کمک فرز انگشتی مدولی محاسبات زیر را انجام دهید:

الف) گام دنده - ارتفاع کل دنده - شماره تیغه فرز مدولی.

ب) اگر برای تغییر مکان دقیق میز ماشین فرز از دستگاه تقسیم با نسبت  $I=40:1$  استفاده شود مقدار گردش دسته دستگاه تقسیم را حساب کنید در صورتی که برای انتقال حرکت از محور کار به محور میله هادی میز ماشین فرز، از چرخ دنده‌هایی با نسبت  $i_r=1:1$  استفاده شود و گام پیچ هادی میز ماشین  $p_r=6 \text{ mm}$  باشد.

ج) اگر برای تقسیم دنده شانه‌ای، دستگاه تقسیم با نسبت  $i=1:1$  در اختیار باشد، مقدار گردش دسته تقسیم چقدر خواهد بود.

## فعالیت کارگاهی



تراش دنده شانه‌ای ساده با مدول ۵ mm / ۱ (مطابق با فعالیت کارگاهی ۱)  
۱- روند نمای تراش دنده شانه‌ای را رسم کنید و محاسبات لازم به آن را انجام دهید.  
مراحل انجام کار را یادداشت کرده و سپس نسبت به تراش دنده شانه اقدام کنید.

## مواد لازم

۱ شمش ۳۷ St و یا آلومینیوم به ابعاد ۱۰۰ × ۲۰ × ۲۰ mm

۲ تیغه فرز مدولی

۳ گیره

۴ آچار تخت مناسب

۵ عینک و لباس ایمنی و کفش ایمنی

هنرآموزان محترم با توجه به شرایط می‌توانند پارامترهای نقشه را تغییر دهند.  
رعایت نکات ایمنی و حفاظتی در تمام مراحل کار الزامی است

## کنترل چرخ‌دنده

برای کنترل چرخ‌دنده‌ها روش‌های مختلفی مورد استفاده قرار می‌گیرد که عبارت‌اند از:

۱ استفاده از کولیس چرخ‌دنده

۲ استفاده از ریزسنج (میکرومتر) فک بشقابی

۳ استفاده از میله‌های استاندارد

### کولیس چرخ‌دنده:

این نوع کولیس دارای یک فک ثابت و دو فک متحرک مطابق شکل می‌باشد (شکل ۲۳).

از فک متحرک افقی برای کنترل وتر ضخامت دنده ( $s'$ ) و از فک متحرک عمودی برای تنظیم عمق کولیس ( $q$ ) استفاده می‌شود. شکل (۲۴)

### علائم اختصاری:

$q$  = عمق اندازه‌گیری بر حسب میلی‌متر  
 $s'$  = وتر ضخامت دنده بر حسب میلی‌متر

$\delta$  = زاویه گام بر حسب درجه


$\theta = \frac{1}{4}$  زاویه گام بر حسب درجه

$d_o$  = قطر دایره گام چرخ‌دنده بر حسب

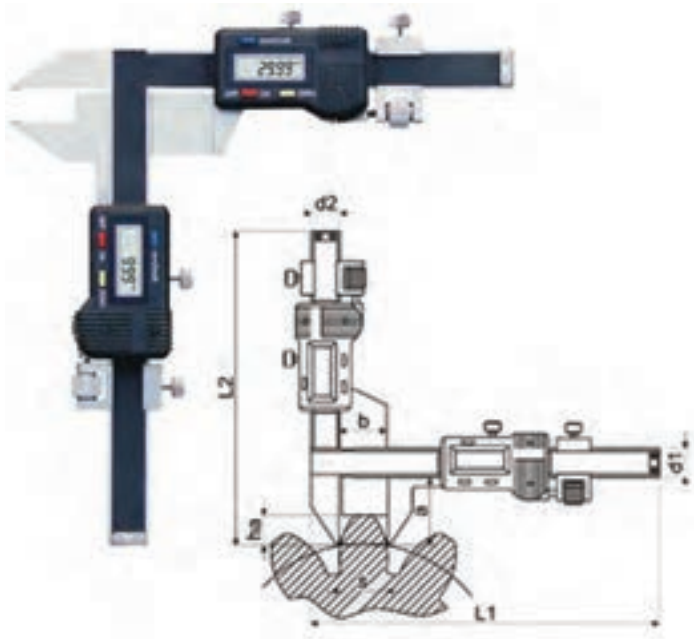
میلی‌متر

$d_a$  = قطر خارجی چرخ‌دنده بر حسب

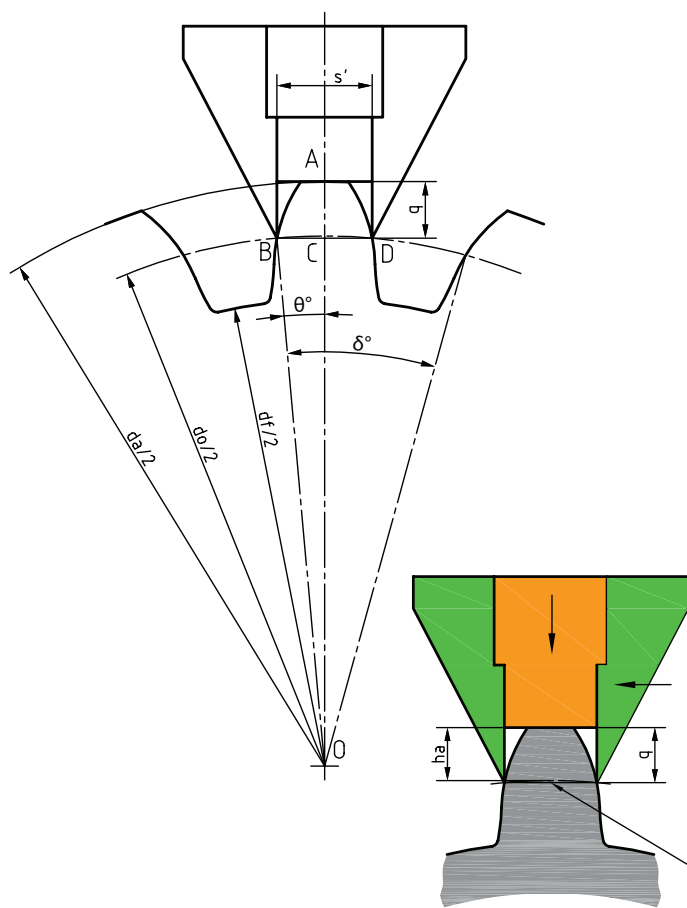
میلی‌متر



شکل ۲۳



شکل ۲۴



وتر ضخامت دنده

شکل ۲۵

$m$  = مدول چرخ دنده بر حسب میلی متر

$Z$  یا  $N$  = تعداد دنده چرخ دنده

در این روش پس از تنظیم عمق اندازه گیری، آن را روی یکی از دنده های چرخ دنده قرار می دهیم و فک افقی را به بغل دنده نزدیک می کنیم و ضخامت دنده را از روی کولیس خوانده و آن را با مقدار محاسبه شده مقایسه می کنیم و در نتیجه درستی آن چرخ دنده را کنترل می کنیم (شکل ۲۵).

$$(۱) \quad \theta = \frac{9^\circ}{Z}$$

$$(۲) \quad q = m \left( 1 + Z \frac{1 - \cos \theta}{2} \right)$$

$$(۳) \quad S' = m \times Z \times \sin \theta$$

برای سهولت کار در کارگاه مقادیر  $q$  و  $S'$  برای مدول ۱ میلی متر و تعداد دندانه های مختلف در جدول (۷) داده شده و برای مدول های بزرگ تر و یا کوچک تر از ۱ میلی متر، عدد حاصل از جدول را در مدول چرخ دنده مورد نظر ضرب می کنیم.

## مثال ۲

برای کنترل چرخ دنده ای که تعداد دنده آن  $Z = 25$  و  $m = 2$  mm می باشد، اندازه عمق تنظیم وسیله اندازه گیر ( $q$ ) و وتر ضخامت دنده ( $S'$ ) را حساب کنید و آن را با مقادیر به دست آمده از جدول شماره ۷ مقایسه کنید.

$$\theta = \frac{9^\circ}{Z} = \frac{9^\circ}{25} = 3/6^\circ$$

$$\text{از جدول } \sin 3/6^\circ = 0/0628 \quad \cos 3/6^\circ = 0/9980$$

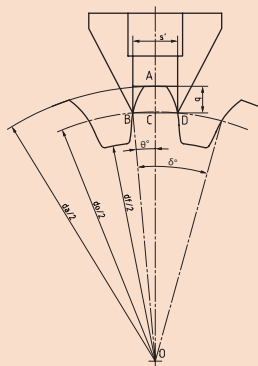
$$q = m \left( 1 + Z \frac{1 - \cos \theta}{2} \right) = 2 \left( 1 + 25 \frac{1 - 0/9980}{2} \right) = 2/05 \text{ mm}$$

$$S' = m \times Z \times \sin \theta = 2 \times 25 \times 0/0628 = 3/14 \text{ mm}$$



چرخ‌دنده‌ای با مدول  $m=1/5\text{mm}$  و تعداد دنده  $Z=40$  را با کولیس چرخ‌دنده کنترل کرده و با مقادیر به دست آمده از جدول ۷ نیز مقایسه کنید.

جدول ۷- مقادیر  $q$  و  $S'$  جهت کنترل چرخ‌دنده



$$q = m \left( 1 + z \frac{1 - \cos \theta}{2} \right)$$

$$S' = m \cdot Z \cdot \sin \theta$$

$m$  = مدول بر حسب میلی‌متر

$Z$  = تعداد دندانه

مدول  $1 =$  میلی‌متر

$$\theta = \frac{90^\circ}{Z}$$

Z	q	S'		Z	q	S'
۱۰	۱/۰۶۱۵۵	۱/۵۶۴۳		۳۰	۱/۰۲۰۶	۱/۵۷۰۰
۱۱	۱/۰۵۵۹۹	۱/۵۶۵۴		۳۲	۱/۰۱۹۲	۱/۵۷۰۱
۱۲	۱/۰۵۱۳۶	۱/۵۶۶۳		۳۴	۱/۰۱۸۲	۱/۵۷۰۲
۱۳	۱/۰۴۷۳۹	۱/۵۶۶۹		۳۵	۱/۰۱۷۶	۱/۵۷۰۲
۱۴	۱/۰۴۱۱۰	۱/۵۶۷۴		۳۶	۱/۰۱۷۱	۱/۵۷۰۳
۱۵	۱/۰۴۱۱۰	۱/۵۶۷۹		۳۸	۱/۰۱۶۲	۱/۵۷۰۳
۱۶	۱/۰۳۸۵۶	۱/۵۶۸۲		۴۰	۱/۰۱۵۴	۱/۵۷۰۴
۱۷	۱/۰۳۶۳۰	۱/۵۶۸۵		۴۲	۱/۰۱۴۶	۱/۵۷۰۴
۱۸	۱/۰۳۴۲۹	۱/۵۶۸۸		۴۴	۱/۰۱۴۱	۱/۵۷۰۴
۱۹	۱/۰۳۲۱۹	۱/۵۶۹۰		۴۵	۱/۰۱۳۷	۱/۵۷۰۴
۲۰	۱/۰۳۰۰۸	۱/۵۶۹۲		۴۶	۱/۰۱۳۴	۱/۵۷۰۵
۲۱	۱/۰۲۹۳	۱/۵۶۹۳		۴۸	۱/۰۱۲۸	۱/۵۷۰۶
۲۲	۱/۰۲۸۱	۱/۵۶۹۴		۵۰	۱/۰۱۲۳	۱/۵۷۰۷
۲۳	۱/۰۰۲۶۸	۱/۵۶۹۵		۵۵	۱/۰۱۱۲	۱/۵۷۰۷
۲۴	۱/۰۲۵۷	۱/۵۶۹۶		۶۰	۱/۰۱۰۲۹	۱/۵۷۰۸
۲۵	۱/۰۲۱۶	۱/۵۶۹۷		۷۰	۱/۰۰۸۸	۱/۵۷۰۸
۲۶	۱/۰۲۳۷	۱/۵۶۹۷		۸۰	۱/۰۰۷۷	۱/۵۷۰۸
۲۷	۱/۰۲۲۸	۱/۵۶۹۸		۹۷	۱/۰۰۶۴	۱/۵۷۰۸
۲۸	۱/۰۲۲۱	۱/۵۶۹۹		۱۲۷	۱/۰۰۴۹	۱/۵۷۰۸
۲۹	۱/۰۲۱۲	۱/۵۷۰۰		۱۳۵	۱/۰۰۱۵	۱/۵۷۰۸
				۰۰	۱/۰۰۰۰	۱/۵۷۰۸






### نحوه کار با کولیس چرخ‌دنده

روند نمای اجرای فعالیت را کامل کنید.

#### وسایل لازم

- ۱ کولیس چرخ‌دنده
- ۲ چرخ‌دنده



- ۱ با توجه به حساسیت کولیس در نگهداری آن کوشا باشید.
- ۲ در پایان کار آن را تمیز کرده و در جعبه قرار دهید.

چرخ‌دنده تراشیده شده در فعالیت قبلی را به کمک کولیس چرخ‌دنده کنترل نمایید.

## ارزشیابی هنر جو در واحد یادگیری: چرخ دنده تراشی

### نقشه کار: چرخ دنده تراشی

تراشیدن چرخ دنده ساده مطابق نقشه و جنس قطعه از آلومینیوم و هر دو پولی خام به قطر ۱۱۲ خواهند بود.

**شاخص عملکرد:** ۱- تولرانس ابعادی براساس استاندارد

ISO ۲۷۶۸-f ۲- پرداخت سطح  $Ra = 1/6$

### شرایط انجام کار:

۱- انجام کار در محیط کارگاه

۲- نور یکنواخت با شدت ۴۰۰ لوکس

۳- تهویه استاندارد و دمای  $20^{\circ}C \pm 3^{\circ}$

۴- ابزارآلات و تجهیزات استاندارد و آماده به کار

۵- وسایل ایمنی استاندارد

۶- زمان ۸ ساعت

**مواد مصرفی:** جنس قطعه از آلومینیوم و هر دو پولی خام به قطر

۱۱۲ میلی متر

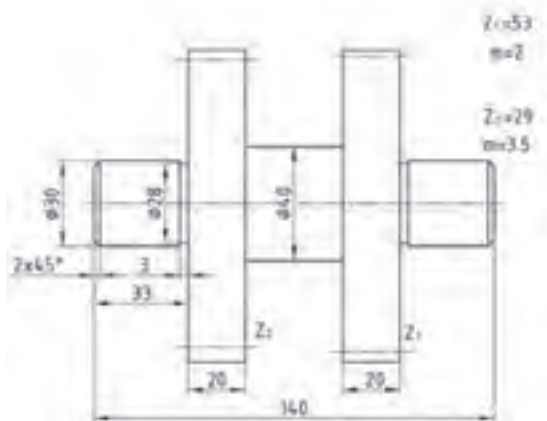
**ابزار و تجهیزات:** ماشین فرز اونیورسال با متعلقات - دستگاه

تقسیم با متعلقات ساعت اندازه گیری - کولیس ۰/۰۵ - آچار

تخت - کولیس چرخ دنده برس مویی - تیغه فرز مدولی - وسایل

روغن کاری - پیچ گوشتی - زیرپایی

- نمونه و نقشه کار:



### معیار شایستگی:

ردیف	مرحله کار	حداقل نمره قبولی از ۳	نمره هنرجو
۱	بررسی قطعه کار اولیه	۱	
۲	آماده سازی دستگاه	۱	
۳	آماده سازی و بستن ابزار	۱	
۴	بستن قطعه کار	۲	
۵	فرزکاری چرخ دنده ساده	۲	
شایستگی های غیر فنی، ایمنی، بهداشت، توجهات زیست محیطی و نگرش:		۲	
۱- مسئولیت پذیری			
۲- مدیریت مواد و تجهیزات			
۳- استفاده از لباس کار و کفش ایمنی و عینک محافظ			
۴- تمیز کردن وسایل و محیط کار			
۵- پایبندی به الزامات نقشه			
میانگین نمرات *			

\* حداقل میانگین نمرات هنر جو برای قبولی و کسب شایستگی، ۲ می باشد.

پودمان ۵

سنگ زنی



## واحد یادگیری سنگ زنی



### استاندارد عملکرد

سنگ زنی سطوح تخت روی دستگاه سنگ تخت ساب مطابق تورلانس خواسته شده نقشه

### پیش نیاز

کار با ابزار اندازه گیری  
نقشه خوانی

به تصویر زیر با دقت نگاه کنید با چه روشی می‌توان سطح قطعه را این‌گونه پرداخت کاری نمود؟



شکل ۱

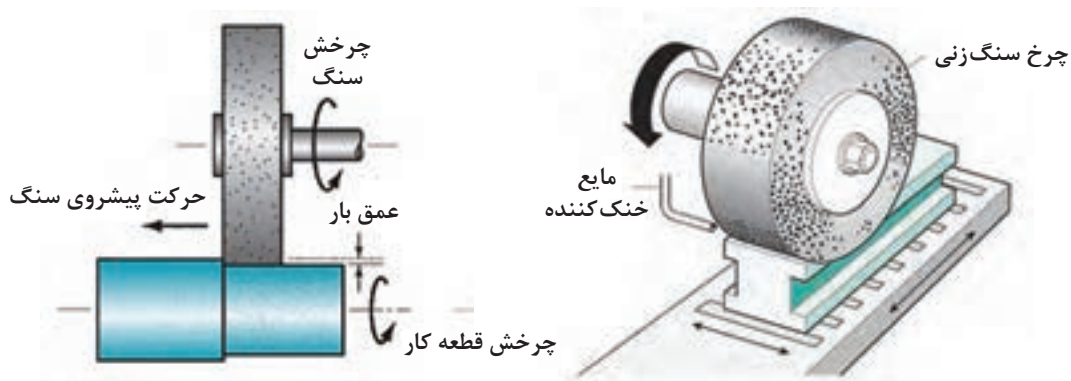
در برخی از قطعات نمی‌توان با عملیات براده‌برداری با دستگاه‌هایی مانند فرز، صفحه تراش و ... به صافی سطح مورد نظر نقشه، دست یافت. لذا باید قطعه را با فرایند دیگری پرداخت کرد. فرایند پرداخت سطوح توسط دستگاهی به نام دستگاه سنگ انجام می‌شود. در این دستگاه ابزاری از جنس ذرات سخت و به هم چسبیده به نام سنگ در تماس با قطعه کار باعث جداشدن براده‌های بسیار ریزی از قطعه می‌شود. سطح حاصل از این فرایند، سطحی صاف و صیقلی است.



شکل ۲

## انواع سنگ زنی

- در صنعت، سنگ زنی به دو روش کلی انجام می شود
- سنگ زنی سطوح تخت (surface grinding)
- سنگ زنی سطوح استوانه ای (cylindrical grinding)



شکل ۳

روشی که در این پودمان به آن پرداخته خواهد شد سنگ زنی تخت است.

در صنعت، دستگاه سنگ تخت به نام دستگاه سنگ مغناطیس شناخته می شود.

نکته



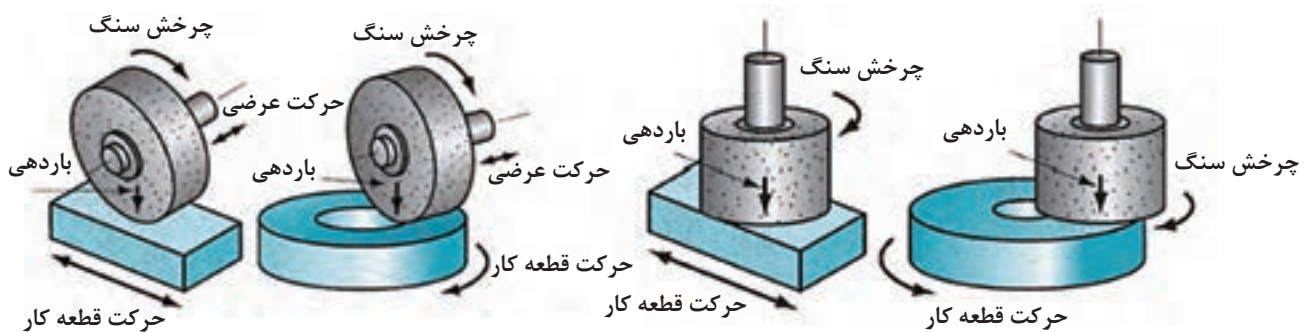
فعالیت



با تحقیق از منابع مختلف تفاوت مهم دو روش سنگ زنی را مشخص کنید.

### دستگاه سنگ تخت

ماشین های سنگ تخت در دو نوع محور افقی و محور عمودی وجود دارند. حرکت قطعه کار در این دستگاه ها می تواند دَوَرانی یا رفت و برگشتی باشد.



شکل ۴

این دستگاه ها ابعاد مختلفی دارند. با آنها می توان انواع قطعات تخت کوچک تا بدنه فولادی یک ماشین تراش را سنگ زنی کرد.



در این دستگاه‌ها، قطعه کار به وسیله کارگیر، روی میز ماشین بسته شده و میز با حرکت رفت و برگشتی یا دورانی، قطعه کار را از زیر سنگ سنباده (که از نوع سنگ سنباده استوانه‌ای ساده است) عبور می‌دهد.

### معرفی دستگاه سنگ تخت

دستگاه سنگ تخت با میز رفت و برگشتی، یکی از متداول‌ترین ماشین‌های سنگ‌زنی در صنعت است. در این ماشین‌ها حرکت سنگ به وسیله الکتر موتور و حرکت میز با سیستم هیدرولیکی تأمین می‌شود.

از آنجایی که دستگاه‌های سنگ موجود، ساخت شرکت‌های مختلف‌اند، ممکن است ظاهر این دستگاه‌ها با هم متفاوت باشد، لذا در این کتاب یکی از دستگاه‌های متداول در صنعت توضیح داده می‌شود. قسمت‌های اصلی این دستگاه به شرح زیر است:

■ بدنه

■ میز

■ کارگیر مغناطیسی

■ صفحه کلید کنترل الکتریکی دستگاه

■ سوپرت عمودی

**بدنه:** در تمام دستگاه‌ها، بدنه وظیفه تحمل و نگهداری سایر قسمت‌ها را دارد. در این دستگاه، نیز بدنه جزء قسمت‌های اصلی است. چرا که هرگونه لرزش و ارتعاش علاوه بر کاهش دقت عملیات سنگ‌زنی، باعث شکستن سنگ خواهد شد. در قسمت جلوی بدنه، صفحه کلید و فلکه‌های کنترل حرکات میز قرار دارد.



فلکه حرکت عرضی میز

فلکه حرکت طولی میز

شیرهای کنترل هیدرولیک

ورنیه باردهی عرضی میز

صفحه کلید

شکل ۶

گرچه حرکت رفت و برگشتی میز به صورت خودکار با سیستم هیدرولیکی تأمین می‌گردد ولی این امکان نیز وجود دارد که بتوان با استفاده از فلکه حرکت طولی، میز دستگاه را به صورت دستی حرکت داد.

نکته








شکل ۷

**میز:** در این دستگاه، میز دارای حرکت طولی و عرضی است. حرکت عرضی به وسیله سیستم مکانیکی و حرکت طولی به وسیله هیدروموتور تأمین می شود. در هنگام براده برداری، حرکت طولی به صورت رفت و برگشتی و حرکت عرضی در انتهای کورس به طور خودکار یا دستی باعث می شود که تمام سطح قطعه با سنگ تماس داشته و عمل سایش به طور کامل انجام شود. گفتنی است جهت بستن قطعه کار، کارگیر مغناطیسی روی این میز قرار دارد.

نکته



اندازه اسمی دستگاه سنگ بر اساس اندازه کورس طولی و عرضی تعیین می شود.



شکل ۸

**کارگیر مغناطیسی:** این کارگیر به شکل یک صفحه ضخیم فلزی روی میز دستگاه قرار گرفته و ثابت است و با نیروی آهنربایی از حرکت قطعه کار در هنگام براده برداری جلوگیری می کند. کارگیرها در دو نوع آهن ربای دائمی و یا الکترو مغناطیس وجود دارند. در نوع آهنربای دائمی با حرکت ۱۸۰ درجه ای یک اهرم، صفحه حالت آهنربایی پیدا کرده و قطعه کار را محکم روی خود نگه می دارد.

گفتنی است که در نوع الکترومغناطیس با قرار گرفتن فلزات غیرهم جنس کنار یکدیگر و عبور جریان الکتریکی، خاصیت آهنربایی ایجاد می شود.



شکل ۹





**صفحه کلید کنترل الکتریکی دستگاه:** در این صفحه، کلیدهایی برای روشن و خاموش کردن سنگ، سیستم هیدرولیک، سیستم خنک‌کننده، حرکت خودکار ابزار و قطع و وصل کردن سیستم مغناطیسی قرار دارد.

شکل ۱۰



- ۱ در برخی از دستگاه‌ها کلید روشن و خاموش کردن کارگیر مغناطیسی خارج از صفحه کلید قرار دارد.
- ۲ در هنگام بروز خطر بلافاصله از کلید قطع‌کن اضطراری استفاده کنید.

شکل ۱۱

نکته



شکل ۱۲

**سوپرت عمودی:** این قسمت به صورت عمودی روی دکل قرار گرفته و حرکت عمودی سنگ را امکان‌پذیر می‌سازد، روی این سوپرت سنگ به همراه دو فلکه باردهی قرار دارد. فلکه بزرگ که مانند سایر فلکه‌هاست برای باردهی عمقی با دقت ۰/۰۰۱ میلی‌متر به کار می‌رود. چون میزان باردهی در هنگام عملیات سنگ‌زنی بسیار مهم است لذا کنار این فلکه یک سیستم باردهی با تنظیم ظریف وجود دارد که می‌توان مقدار باردهی را روی عدد دلخواه تنظیم نمود. با هربار حرکت این دسته فقط به اندازه تنظیم شده باردهی انجام می‌شود. فلکه کوچک که معمولاً مشکی رنگ است برای تأمین حرکت عرضی سنگ تیزکن به کار می‌رود. حرکت عرضی سنگ تیزکن در هنگام تیزکردن سنگ از اهمیت ویژه‌ای برخوردار است.

حداکثر میزان باردهی عمقی با سیستم تنظیم ظریف ۰/۰۴ میلی‌متر است.

نکته





مشخصات دستگاه سنگ کارگاه هنرستان خود را در گروه‌های سه نفره بررسی کرده و جدول زیر را تکمیل کنید.

مدل	نام دستگاه	شرکت سازنده	ابعاد کارگیر مغناطیسی	طول کورس طولی	طول کورس عرضی	طول کورس عمقی

## آماده‌سازی دستگاه

- قبل از کار با دستگاه نکات ایمنی حفاظتی زیر را به دقت انجام دهید.
- از درگیر نبودن سنگ با کارگیر و یا قطعه کار مطمئن شوید.
- قبل از وصل کردن کلید اصلی برق دستگاه، کلید سیستم خنک کننده را در حالت خاموش قرار دهید.
- قبل از وصل کردن کلید اصلی برق دستگاه، کلید کارگیر مغناطیسی را در حالت خاموش قرار دهید.
- از بسته بودن شیرهای هیدرولیک مطمئن شوید.
- سنگ را به دقت بررسی کنید که دارای ترک و یا شکستگی نباشد.
- روغن هیدرولیک را از نظر اندازه و کیفیت کنترل کنید.



پس از رعایت نکات حفاظتی ذکر شده آماده‌سازی دستگاه را انجام دهید.

۱ شیر مایع خنک کننده را در محل تماس سنگ با قطعه کار تنظیم کنید.



شکل ۱۳

- ۲ میز را حرکت دهید تا سنگ در قسمت انتهایی آن قرار گیرد.
- ۳ کلید اصلی برق را وصل کنید.
- ۴ با استفاده از پارچهٔ نظیف، سطح کارگیر مغناطیسی را به خوبی تمیز کنید.
- ۵ سطح زیرین قطعه کار را تمیز نموده و روی سطح کارگیر مغناطیسی قرار دهید.
- ۶ کلید مغناطیس دستگاه را روشن کنید.
- ۷ از مطمئن بسته شدن قطعه اطمینان حاصل کنید.
- ۸ میز را حرکت دهید تا سنگ در محدوده قطعه کار قرار گیرد.

۸ طول کورس میز را با استفاده از پیچ‌های محدودکننده کورس تنظیم کنید.



شکل ۱۴



شکل ۱۵



شکل ۱۶

۹ قطع کن اضطراری را آزاد کرده و سیستم هیدرولیک را روشن کنید.

۱۰ سنگ را روشن کنید.  
اکنون دستگاه آماده براده‌برداری است.

## بستن قطعه کار

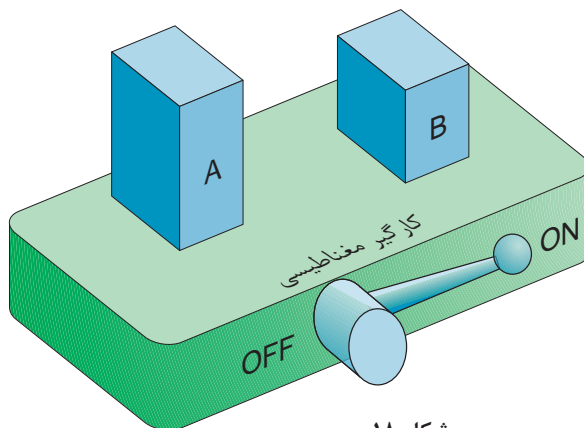
همان‌گونه که ذکر شد در این دستگاه برای نگهداشتن قطعه از نیروی آهن‌ربایی قوی استفاده می‌شود. در اکثر موارد، قطعه بدون واسطه روی کارگیر قرار گرفته و نیازی به تجهیزات جانبی نیست. اما این نکته نباید فراموش شود که بستن صحیح و مطمئن قطعه کار و رعایت نکات ایمنی از هر چیزی مهم‌تر است.



شکل ۱۷

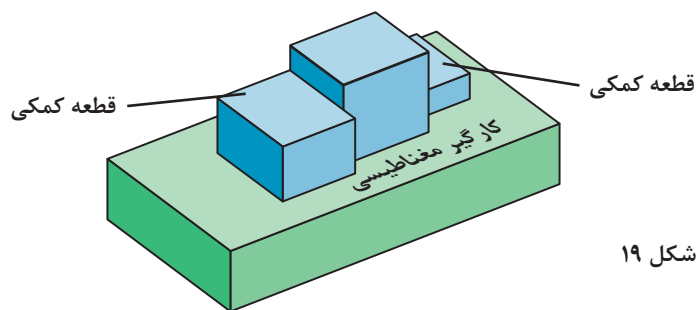


بستن کدام قطعه کار در شکل زیر ایمنی بیشتری دارد.



شکل ۱۸

قطعه A به علت دارا بودن ارتفاع زیاد با تماس سنگ واژگون شده و موجب بروز حادثه خواهد شد. برای جلوگیری از وقوع حادثه در هنگام سنگ زنی، زمانی که ارتفاع قطعه نسبت به سطح نشیمن گاه بیشتر باشد باید از قطعات کمکی استفاده شود. این قطعات باعث افزایش سطح تکیه گاهی شده به طوری که در هنگام براده برداری، قطعه کار هیچ حرکتی نخواهد داشت.

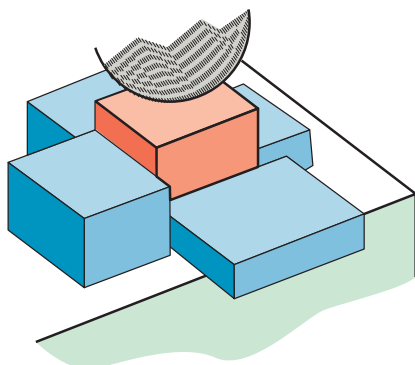


شکل ۱۹

در مواردی که از قطعات کمکی استفاده می شود لازم است قطعه بزرگ تر در قسمت جلوی قطعه کار قرار گیرد.




گیره بندی نمایش داده شده در شکل زیر برای کدام قطعات مناسب است؟



شکل ۲۰



برخی از کارگیرهای مغناطیسی به صورت مجموعه‌ای مرکب از چند صفحه ساخته می‌شوند که هر کدام در جهت خاص حرکت کرده و ثابت می‌شوند. این کارگیرها، به کارگیرهای مغناطیسی قابل تنظیم معروف هستند.



### بستن قطعه با استفاده از گیره

زمانی که امکان بستن برخی از قطعات به خاطر شکل یا اندازه به صورت مستقیم روی کارگیر مغناطیسی نباشد، می‌توان از گیره‌های مخصوص سنگ‌زنی استفاده نمود. این گیره‌ها دارای سطوح سنگ خورده و بسیار دقیقی هستند که به عنوان یک کارگیر واسطه، بسیار مطمئن عمل می‌کنند.

شکل ۲۲



گیره‌های مناسب برای عملیات سنگ‌زنی را انتخاب کنید و نوع عملیات سنگ‌زنی را یادداشت کنید.

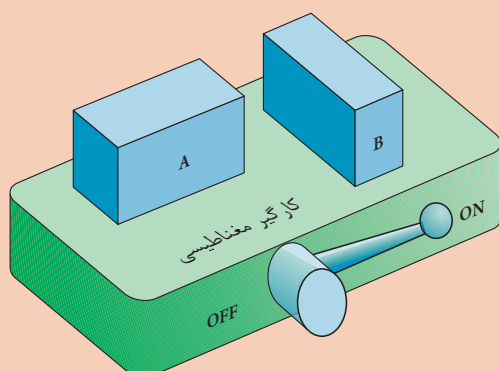
نوع گیره				شرح
<input type="checkbox"/> خیر <input type="checkbox"/> بلی	<input type="checkbox"/> خیر <input type="checkbox"/> بلی	<input type="checkbox"/> خیر <input type="checkbox"/> بلی	<input type="checkbox"/> خیر <input type="checkbox"/> بلی	آیا برای سنگ‌زنی مناسب است؟
				نوع عملیات



پرسش



در شکل زیر دوقطعه دارای ارتفاع یکسانی هستند کدام روش قرار گرفتن صحیح است؟ چرا؟



شکل ۲۳

نکته  
کلیدی



در هنگام قراردادن قطعه کار روی کارگیر مغناطیسی رعایت نکردن نکات ایمنی می تواند نتایج زیان باری در پی داشته باشد.

نکات ایمنی  
و حفاظتی



- هنگام قراردادن قطعه روی کارگیر مغناطیسی، از گذاشتن انگشت روی سطح زیرین قطعه جدا خوداری کنید. زیرا در اثر قاپیدن قطعه توسط کارگیر، باعث خرد شدن انگشت، حتی قطع شدن آن می گردد.
- از ضربه زدن به کارگیر مغناطیسی خوداری نمایید.
- قبل از قراردادن قطعه روی کارگیر مغناطیسی قطعه را تمیز و کاملاً پلیسه گیری کنید.



شکل ۲۴

فعالیت  
کارگاهی



قطعاتی با شکل های متفاوت (مشابه قطعات زیر) انتخاب نموده و آنها را روی کارگیر مغناطیسی ببندید و اقدامات لازم جهت عملیات سنگ زنی انجام دهید قطعات را با تأیید هنرآموز باز کنید.



شکل ۲۵

## انتخاب چرخ سنگ



شکل ۲۶

ابزار براده‌برداری در سنگ‌زنی چرخ سنگ است. این ابزار از ذرات ساینده سخت که با استفاده از چسب به هم متصل شده‌اند تشکیل شده است.

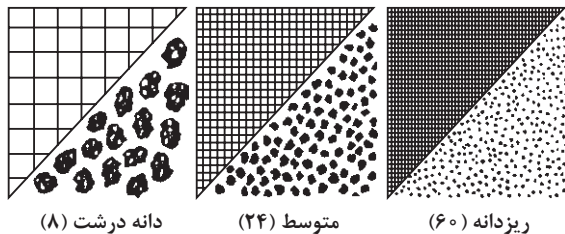
### عوامل تأثیرگذار بر انتخاب چرخ سنگ

- حجم براده‌برداری
- جنس و میزان سختی قطعه کار
- میزان پرداخت مورد نیاز
- تعداد قطعه تولیدی
- طول عمر سنگ

### ساختمان سنگ


نحوه قرار گرفتن دانه‌ها، اندازه دانه‌ها و چگونگی اتصال ذرات ساینده، در کیفیت سطح، عمر سنگ و سختی سنگ‌ها نقش تعیین‌کننده‌ای دارند. معمولاً دو نوع درجه‌بندی برای سنگ‌ها وجود دارد. استحکام چسب یا گرید (Grade) که به آن درجه سختی سنگ هم گفته می‌شود، و دیگری دانه‌بندی (اندازه ذرات ساینده).

درجه‌بندی از نظر اندازه دانه‌ها



شکل ۲۷

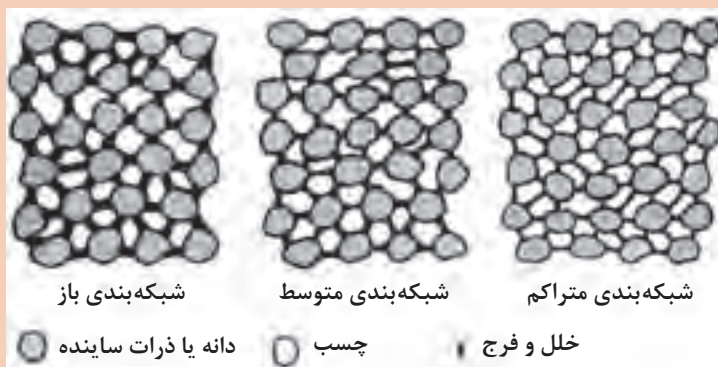
درجه‌بندی سنگ از نظر استحکام چسب



شکل ۲۸

به‌علت ناهمگونی شکل ذرات ساینده هنگامی که این ذرات کنار یکدیگر قرار می‌گیرند در بین آنها فضای خالی به‌وجود می‌آید که با چسب پر می‌شود. نحوه قرارگیری و میزان تخلخل را شبکه‌بندی می‌گویند.

سنگ سنباده‌هایی که دانه‌های درشت دارند، دارای خلل و فرج بزرگ‌تری نسبت به دانه‌بندی ریز می‌باشند.



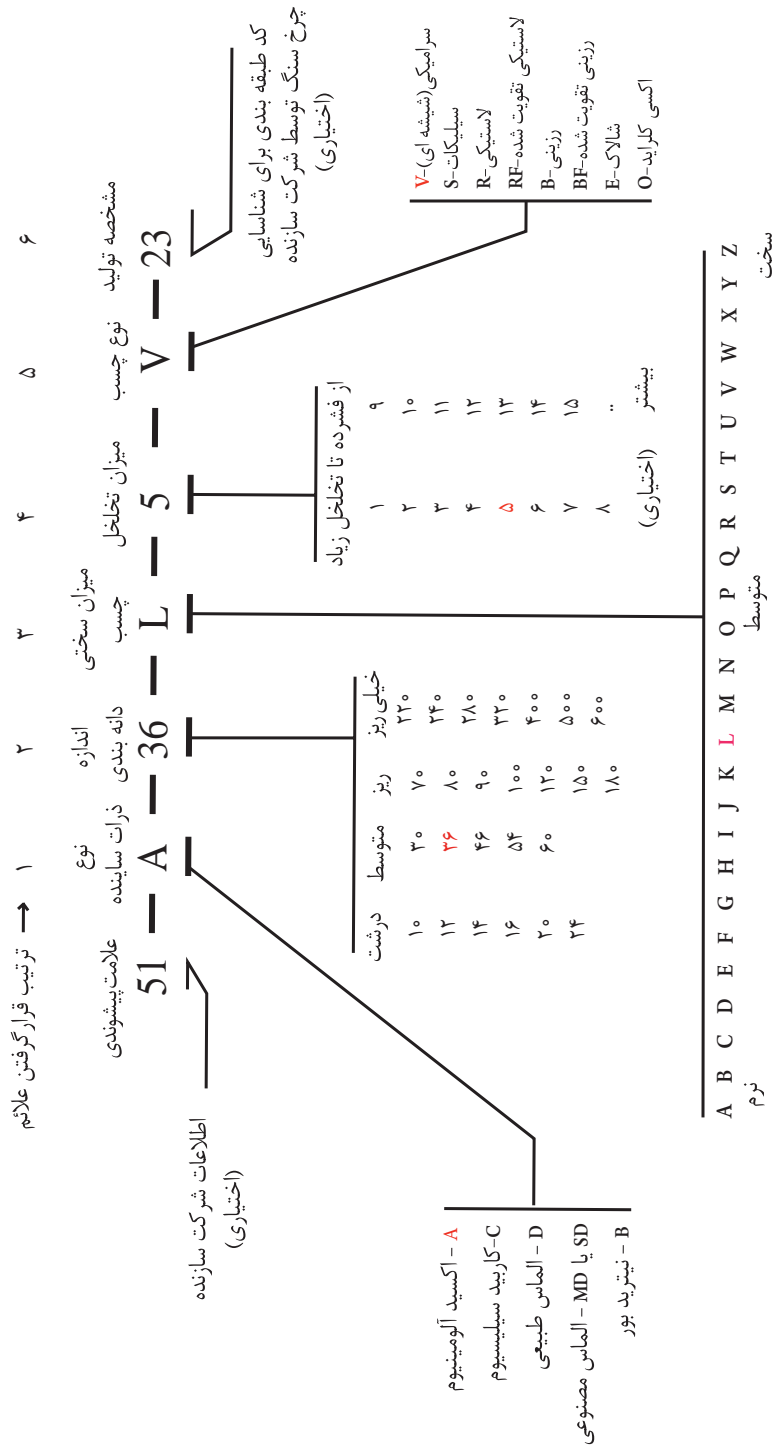
شکل ۲۹

نکته



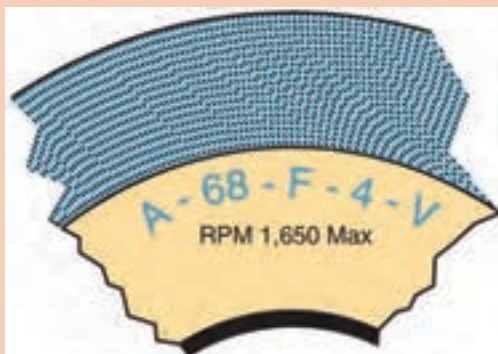
معمولاً اطلاعات دقیق مربوط به مشخصات و ساختار سنگ روی برچسب سنگ توسط شرکت تولیدکننده حک می‌شود. این مشخصات استاندارد بوده و دارای مفهوم یکسان است به شکل زیر دقت کنید:

## مفهوم علائم حک شده روی سنگ ها





مشخصات سنگ شکل زیر را بنویسید.



فعالیت



در گروه‌های دو نفره، مشخصات سنگ‌های موجود در انبار را استخراج نموده و تحویل هنرآموز دهید.

فعالیت  
کارگاهینکات  
کلیدی

- ۱ هرچه میزان سختی قطعه کار بیشتر باشد، جنس ذرات ساینده نیز سخت‌تر خواهد بود. به همین دلیل برای مواد سخت، سنگی استفاده می‌شود که جنس ذرات آن سخت باشد.
- ۲ اندازه ذرات ساینده با میزان صافی یا درجه کیفیت سطح رابطه مستقیم دارد. بنابراین هرچه اندازه ذرات ساینده، کوچک‌تر باشد میزان صافی سطح بیشتر خواهد بود.
- ۳ هرچه قطعه کار سخت‌تر باشد، سنگ نرم‌تر انتخاب می‌شود یعنی میزان سختی چسب به کار رفته در آن کمتر باشد.
- ۴ سنگ با شبکه‌بندی بزرگ‌تر برای سنگ‌زنی مواد نرم و سنگ با شبکه‌بندی ریزتر برای سنگ‌زنی مواد سخت‌تر به کار می‌روند.

پرسش



- به پرسش‌های زیر به صورت تحقیقی پاسخ دهید.
- چرا رنگ چرخ سنگ‌هایی که برای تیزکردن رنده‌های الماس به کار می‌رود سبز روشن است؟
  - چرا چرخ سنگ‌های مخصوص الماس تیزکنی، سریع‌تر مصرف می‌شوند.

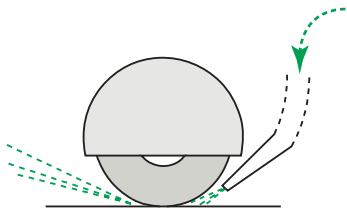
فعالیت



مشخصات چرخ سنگ مناسب برای سنگ‌زنی فولاد سخت با صافی سطح کاملاً پرداخت را در جدول زیر بنویسید.

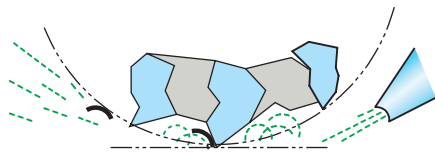
دانه‌بندی (گرید)	استحکام چسب (سختی سنگ)	شبکه‌بندی (میزان تخلخل)	نوع ذرات ساینده

## خنک کاری در سنگ زنی



شکل ۳۰

در فرایند سنگ زنی، استفاده از مایع خنک کننده همانند سایر فرایندهای براده برداری امری ضروری است. وظیفه خنک کننده در این فرایند، علاوه بر خنک کاری، هدایت ذرات جدا شده (براده ها و ذرات سنگ) است. مایع خنک کننده در تماس با سایر ترکیبات شیمیایی مانند چسب ها آلوده می شوند. این آلودگی ها موجب می شوند که مایع خنک کننده عمر کوتاه تری داشته باشند.



شکل ۳۱

**انتخاب مایع خنک کننده:** معمولاً مایع خنک کننده مورد استفاده در سنگ زنی از ترکیب روغن های حل شونده با آب تهیه می شود. در دفترچه راهنمای هر دستگاهی نوع مایع خنک کننده را توصیه نموده است.

## نکات کاربردی در ساخت مایع خنک کننده

- نسبت آب و روغن حل شونده را مطابق با توصیه شرکت سازنده روغن رعایت کنید.
- حتماً روغن حل شونده را به آب اضافه نمایید.
- هم زمان با انجام عملیات مخلوط کردن، به طور پیوسته روغن مورد نیاز را به کل حجم آب مصرفی اضافه نمایید.
- از آلوده شدن روغن مصرفی جلوگیری کنید.
- از ساخت و آماده سازی مایع خنک کننده در مخزن دستگاه جداً پرهیز کنید.
- از آب با سختی بالا (دارای املاح معدنی زیاد) استفاده نکنید.
- دمای نگهداری از صفر تا ۴۵ درجه سانتی گراد و در فضای سرپوشیده باشد.
- از ورود روغن های روانکار به روغن حل شونده جلوگیری کنید.
- اجزای دستگاه سنگ زنی نظیر کارگیر مغناطیسی و به ویژه محفظه سنگ را در هنگام تعمیرات سالیانه باز و تمیز کنید.
- چربی گیری مخازن و ضد عفونی کردن مجاری عبور دستگاه را چند نوبت در هر سال انجام دهید.
- حذف براده ها از مجاری و شیارهای دستگاه و همچنین مخزن در صورت مجهز نبودن به جدا کننده مغناطیسی، الزامی است.

مایع خنک کننده دستگاه سنگ را تعویض کنید.

- ۱ ابتدا کارگیر مغناطیسی و اطراف آن (داخل سینی) را به وسیله پارچه تمیز کاملاً تمیز نمایید.
- ۲ ظرف مخصوص جهت تخلیه مایع خنک کننده آماده کنید.
- ۳ نازل مایع خنک کننده را از روی حفاظ سنگ جدا نموده و داخل ظرف مخصوص تخلیه قرار دهید.
- ۴ کلید پمپ مایع خنک کننده را روشن کنید تا مایع کاملاً تخلیه شود.
- ۵ صافی روی مخزن را جدا نموده و کاملاً تمیز نمایید.
- ۶ داخل مخزن را در صورت لزوم با مایع حلال شست و شو داده و به وسیله پارچه کاملاً تمیز کنید.

فعالیت عملی



۷ نازل مایع خنک‌کننده را در محل نصب نمایید.

۸ بین ۸ تا ۱۰ ساعت اجازه دهید مخزن خشک شود تا محیطی عاری از باکتری به دست آید.

۹ نوع و اندازه مایع خنک‌کننده توصیه شده در دفترچه راهنما را تهیه و آماده‌سازی کنید.

۱۰ مایع را درون مخزن بریزید.

مایع خنک‌کننده که از مخلوط آب و روغن حل شونده هستند، در صورتی که برای مدت زیادی جریان نداشته باشد باکتری‌ها در این مایع شروع به رشد نموده و باعث انتشار بوی بد در فضای کارگاه می‌شود. برای جلوگیری از این حالت چنانچه از دستگاه استفاده نمی‌کنید. هر دو سه روز یک بار مدار مایع خنک‌کننده را روشن کنید تا مایع خنک‌کننده جریان یابد.

نکته  
کارگاهی



۱ در هنگام آماده‌سازی و تعویض مایع خنک‌کننده حتماً از ماسک دهانی استفاده کنید.

۲ در هنگام تعویض مایع خنک‌کننده استفاده از دستکش الزامی است.

۳ در هنگام تعویض مایع خنک‌کننده بلافاصله بعد از تخلیه مایع، کلید اصلی دستگاه را خاموش کنید.

نکات ایمنی  
و حفاظتی



مایع خنک‌کننده تعویض شده را در مخازن مخصوص انبار کرده و سپس مطابق توصیه‌های شرکت سازنده آن را دفع کنید.

نکته  
زیست‌محیطی



■ ساخت برخی از مایع‌های خنک‌کننده برای کاربران مشکل است. در این موارد، شرکت سازنده مایع خنک‌کننده را به صورت آماده به بازار عرضه می‌کند.

■ مایع‌های خنک‌کننده آماده، با نام‌های آب تراش، آب سنگ و ... به بازار عرضه می‌شوند. این محصولات نسبت به آب صابون از دوام بیشتری برخوردارند.

نکات  
کلیدی



### عملیات سنگ‌زنی

براده برداری در سنگ‌زنی شباهت‌های زیادی با فرزکاری دارد؛ با این تفاوت که جنس ابزار در سنگ‌زنی از مواد ساینده است و تعداد دوران آن بسیار بیشتر از تیغه فرز است.

## میزان باردهی عمقی

در دستگاه‌های سنگ‌زنی بار دهی عمقی به دو روش خودکار و دستی انجام می‌شود. میزان باردهی عمقی در هر رفت و برگشت به عوامل زیر بستگی دارد:

- نوع دستگاه ..... دلیل:
- جنس قطعه کار ..... دلیل:
- استفاده از مایع خنک کننده ..... دلیل:
- شکل قطعه کار ..... دلیل:
- ...
- ...

### فعالیت



با تحقیق در منابع مختلف فعالیت‌های زیر را انجام دهید.

- دو مورد جای خالی عوامل تأثیرگذار را کامل کنید.
- برای هریک از عوامل تأثیرگذار حداقل یک دلیل بنویسید.

### نکته کارگاهی



آنچه که مسلم است، تجربه کاری و تبحر یک سنگ‌زن، در انتخاب میزان باردهی عمقی دستی تأثیر مستقیم دارد.

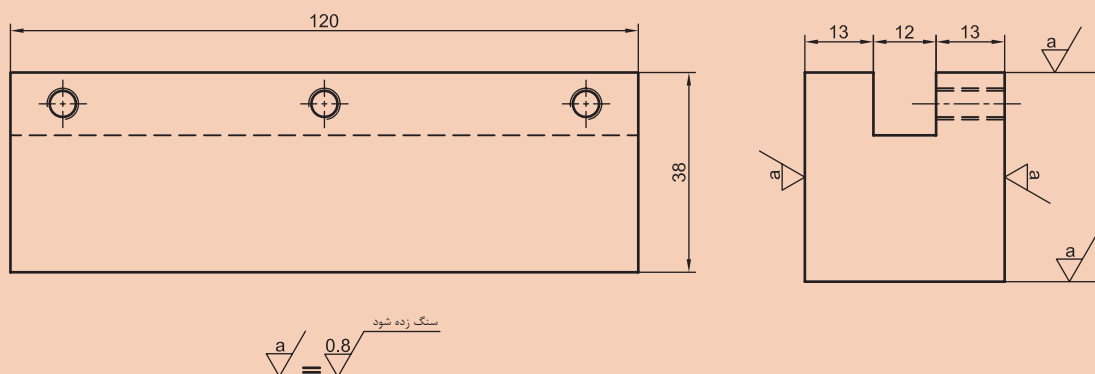
زمانی که از باردهی خودکار استفاده می‌شود میزان بار عمقی یا پیشروی در هر رفت و برگشت از جدول زیر انتخاب می‌شود.

جنس قطعه کار	مقدار پیشروی عمقی بر حسب mm	توصیه‌ها
فولاد با سختی متوسط	۰/۰۷۵ تا ۰/۱۲۵	مایع خنک کننده لازم است
فولاد سخت - فولاد زنگ‌نزن	۰/۰۲۵ تا ۰/۱۲۵	مایع خنک کننده لازم است + تیز کردن سنگ
چدن	۰/۱۵ تا ۰/۰۵	مایع خنک کننده لازم نیست در صورت لزوم خنک کننده هوا به صورت مکشی
آلومینیوم	۰/۱۲۵ تا ۰/۰۱۲۵	چرخ‌هایی که دانه‌بندی درشت دارند و متخلخل هستند به کار گرفته شود
فلزات غیر آهنی	۰/۰۷۵ تا ۰/۰۱۲۵	

### فعالیت عملی

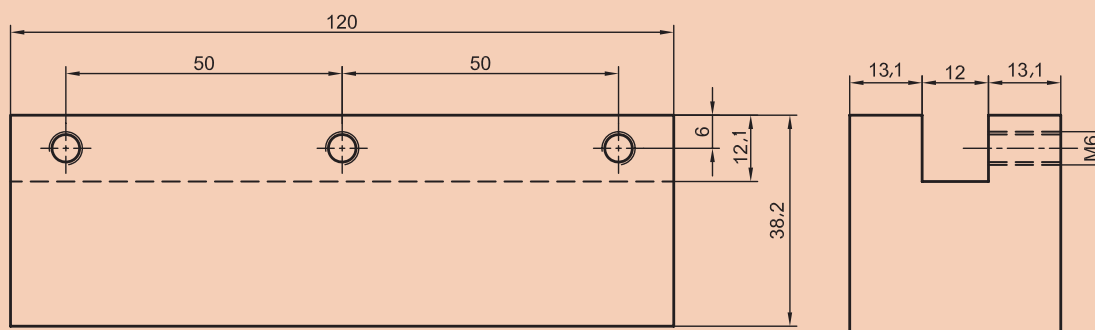


قطعه مطابق شکل زیر را پس از فرزکاری، مطابق نقشه سنگ‌زنی کنید.



### مراحل کار:

۱ ابتدا قطعه ساخته شده در مرحله فرزکاری را کنترل کنید که مطابق نقشه نهایی فرزکاری باشد.



۲ ماسک دهنی و عینک ایمنی را روی صورت خود قرار دهید.

۳ کلیدهای کارگیر مغناطیسی و سیستم خنک‌کننده را کنترل کنید که خاموش باشند.

۴ فلکه سوپرت عمودی را چرخانده تا سنگ به بالاترین حد خود برسد.

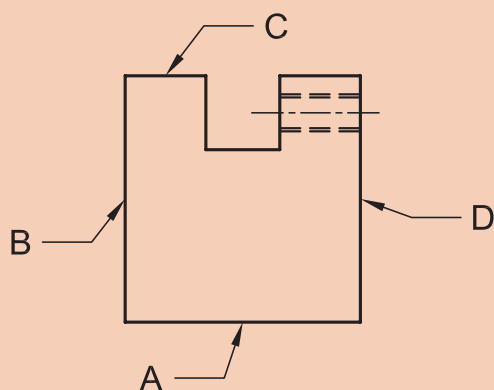
۵ روی کارگیر مغناطیسی را با استفاده از یک پارچه تمیز کاملاً تمیز نمایید.

۶ چرخ سنگ را از نظر نداشتن شکستگی و لب پریدگی کنترل کنید.

۷ سطح زیرین قطعه کار (سطح A) را روی سطح کارگیر مغناطیسی قرار دهید. طوری که سطح C رو به بالا قرار گیرد و کلید مغناطیس را روشن کنید.

۸ فلکه سوپرت عمودی را چرخانده تا سنگ به ۱۰ میلی‌متری بالای قطعه کار برسد.

۹ فلکه میز طولی را چرخانده تا سنگ از انتهای قطعه کار ۵۰ میلی‌متر جلوتر برود سپس پیچ تنظیم انتهای کورس (سمت چپ) را باز نموده و حرکت دهید تا فرمان‌دهنده هیدرولیکی را به سمت راست حرکت دهد. در همین نقطه، پیچ تنظیم را سفت کنید.





**۱۰** فلکه میز طولی را چرخانده تا سنگ از ابتدای قطعه کار ۵۰ میلی‌متر عقب‌تر برود، سپس پیچ تنظیم ابتدای کورس (سمت راست) را باز نموده و حرکت دهید تا فرمان‌دهنده هیدرولیکی را به سمت چپ حرکت دهد. در همین نقطه پیچ تنظیم را سفت کنید.

**۱۱** کلید سنگ را روشن کنید.

**۱۲** سیستم هیدرولیک را روشن کنید.

**۱۳** شیر هیدرولیک را به آهستگی باز کنید تا میز شروع به حرکت کند.

طول کورس را کنترل کنید که همان مقدار تنظیم شده باشد.

**۱۴** فلکه حرکت عرضی میز را حرکت داده تا سنگ روی قطعه کار قرار گیرد.

**۱۵** فلکه سوپرت عمودی را حرکت دهید تا سنگ با قطعه کار مماس شود سپس ورنیه را روی صفر تنظیم کنید. توجه کنید که هنگام مماس کردن باید میز حرکت رفت و برگشتی آرام داشته باشد.

**۱۶** میز را در ابتدای کورس متوقف کرده و به اندازه ۰/۰۲۳ میلی‌متر بار عمقی را تنظیم کنید.

**۱۷** کلید مایع خنک‌کننده را روشن کنید.

**۱۸** شیر هیدرولیک را باز کنید تا دستگاه شروع به براده‌برداری نماید و اجازه دهید تا قطعه به‌طور کامل براده‌برداری تمام شود.

**۱۹** سنگ را در انتهای کورس متوقف کنید و سطح قطعه را کنترل کنید، در صورتی که تمام سطح، براده‌برداری نشده باشد مجدداً ۰/۰۳ میلی‌متر بار عمقی را تنظیم و عمل براده‌برداری را انجام دهید.

**۲۰** پس از پایان براده‌برداری سطح C، سنگ را در ابتدای قطعه متوقف نموده و سیستم هیدرولیک و مایع خنک‌کننده و مغناطیس را قطع کنید.

**۲۱** قطعه را اندازه‌گیری کنید. عددی که به‌دست خواهد آمد حدود ۳۸/۱۴ است عدد به‌دست آمده را یادداشت کنید.

**۲۲** کارگیر مغناطیسی را با استفاده از یک پارچه تمیز کنید و سطح C قطعه کار را روی کارگیر مغناطیسی در موقعیت قبلی قرار دهید و کلید مغناطیس را روشن کنید.

**۲۳** سطح A همانند سطح C در پنج مرحله براده‌برداری کنید تا به اندازه ۳۸ میلی‌متر برسد در مرحله آخر اجازه دهید سنگ چند بار روی قطعه کار بدون بار حرکت کند.

**۲۴** قطعه کار را از کارگیر مغناطیسی جدا کنید و مجدداً آن را اندازه‌گیری نمایید.

**۲۵** سطوح D و B را همانند دو سطح دیگر براده‌برداری کنید.

**۲۶** پس از پایان عملیات براده‌برداری به‌وسیله یک سوهان نرم لبه‌های تیز قطعه را سوهان بکشید تا پلیسه‌های احتمالی و تیزی لبه‌ها از بین برود.

**۲۷** کلید اصلی را خاموش و دستگاه را تمیز کنید.



هنگام جدا کردن قطعه از کارگیر مغناطیسی به علت وجود پسماند مغناطیسی قطعه به سختی جدا خواهد شد برای جدا شدن آسان کمی قطعه کار را به طرفین کج نموده و سپس جدا نمایید.



- هنگام جدا کردن قطعه کار از کارگیر مغناطیسی داشتن دستکش ضروری است.
- بدون ماسک و عینک هرگز کار را شروع نکنید.
- در هنگام بروز حوادث حتماً از کلید قطع کن اضطراری استفاده نمایید.
- هیچ‌گاه با چرخ سنگی که دارای لب پریدگی و یا ترک است کار نکنید.
- در هنگام سنگ‌زنی قطعات بزرگ و سنگین پوشیدن کفش ایمنی ضروری است.
- در هنگام کار با سنگ هرگز سر خود را به سمت چرخ سنگ خم نکنید.

شکل ۳۳

## تیز کردن چرخ سنگ

حفره‌های چرخ سنگ بعد از مدتی استفاده توسط ذرات فلزات نرم پر شده و به اصطلاح سنگ کند می‌شود در این هنگام باید توسط ابزار مخصوص که دارای سختی بالایی هستند یک لایه از سطح چرخ سنگ جدا شود تا ذرات ساییده جدید جایگزین ذرات قبلی شوند. این عمل را تیز کردن (dress) می‌گویند.



شکل ۳۴





سنگ گند شده را تیز کنید.

### مراحل انجام کار

- ۱ ابتدا ماسک دهنی و عینک ایمنی را روی صورت خود قرار دهید.
- ۲ فلکه سوپرت عمودی را چرخانده و سنگ را به بالاترین نقطه منتقل کنید.
- ۳ کارگیر مغناطیسی را به وسیله پارچه کاملاً تمیز کنید.

- ۴ الماس سنگ تیزکن را طوری روی کارگیر مغناطیسی قرار دهید که با محور سنگ زاویه ۱۵ تا ۲۰ درجه داشته باشد.
- ۵ کلید مغناطیس را روشن کنید.
- ۶ سنگ را حرکت دهید تا به نزدیکی قطعه کار برسد.

- ۷ فلکه حرکت طولی میز را حرکت دهید تا الماس مطابق شکل بالا قرار گیرد.
- ۸ حرکت طولی میز را قفل کنید.
- ۹ سنگ را روشن کنید.

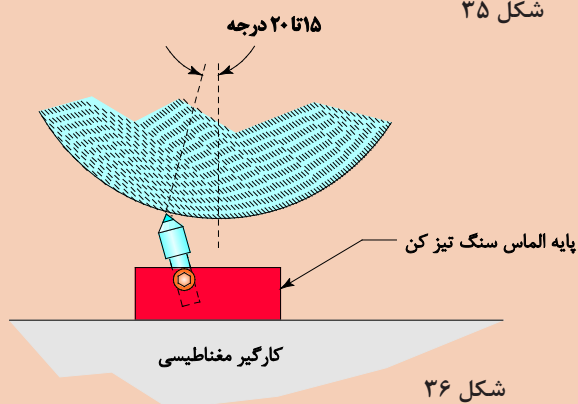
- ۱۰ سنگ را با الماس مماس کنید و به وسیله فلکه مخصوص (سیاه رنگ) بار عمقی را روی ۰/۰۱ میلی متر تنظیم کنید.

- ۱۱ با استفاده از فلکه حرکت عرضی میز را حرکت دهید تا کل عرض چرخ سنگ تراشیده شود.

- ۱۲ چرخ سنگ را بازبینی کنید اگر تمام نقاط سنگ تراشیده شده بود نیاز به ادامه نیست در صورتی که سنگ هنوز کاملاً تخت نشده بود مجدداً ۰/۰۱ میلی متر باردهی کنید و مرحله قبلی را تکرار کنید.

- ۱۳ پس از اتمام مرحله تیزکاری، سنگ را با استفاده از فلکه سوپرت عمودی حرکت دهید تا در بالاترین نقطه خود قرار گیرد. (شکل ۳۷)
- ۱۴ دستگاه را خاموش و کارگیر مغناطیسی را تمیز کنید.

شکل ۳۵



شکل ۳۶



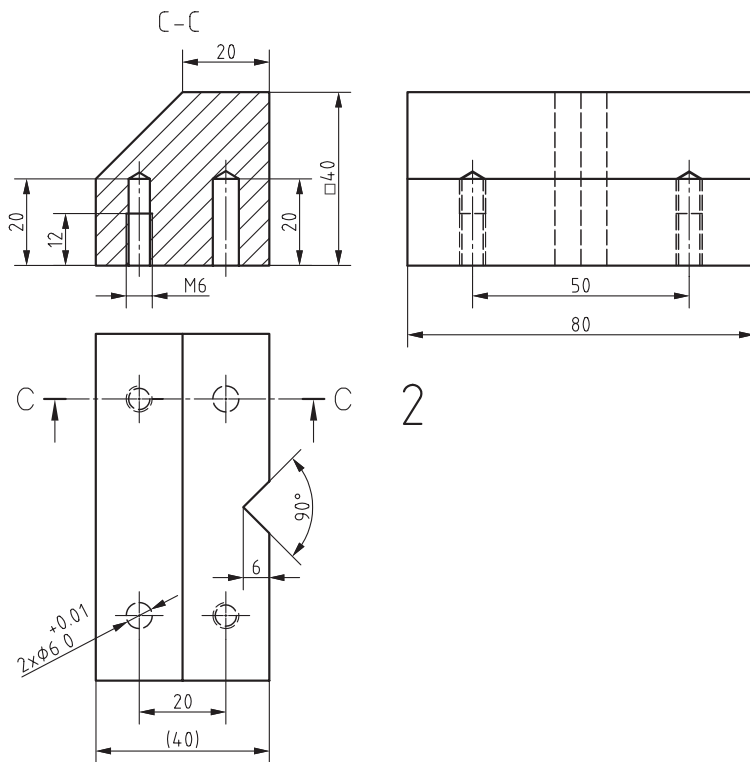
شکل ۳۷



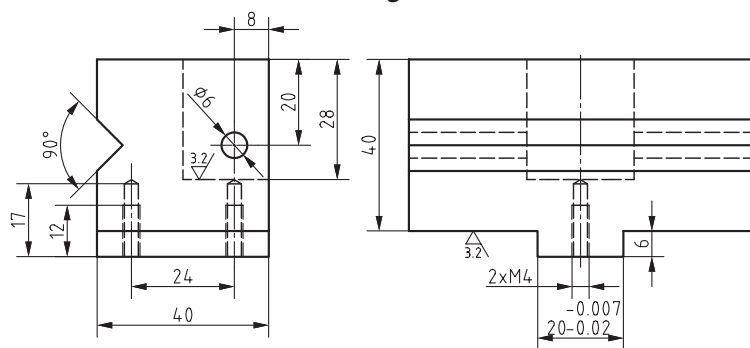


■ پس از تمیز کردن سطح کارگیر مغناطیسی با پارچه، دست خود را به آرامی روی سطح کارگیر بکشید این روش بهترین راه برای تشخیص باقی ماندن ذرات سنگ روی کارگیر است.

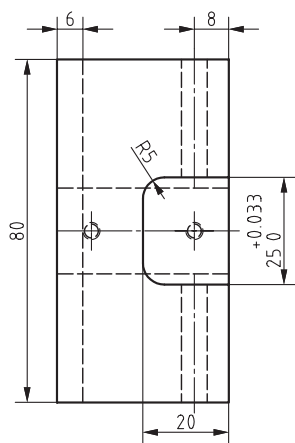




شکل ۴۰



شکل ۴۱

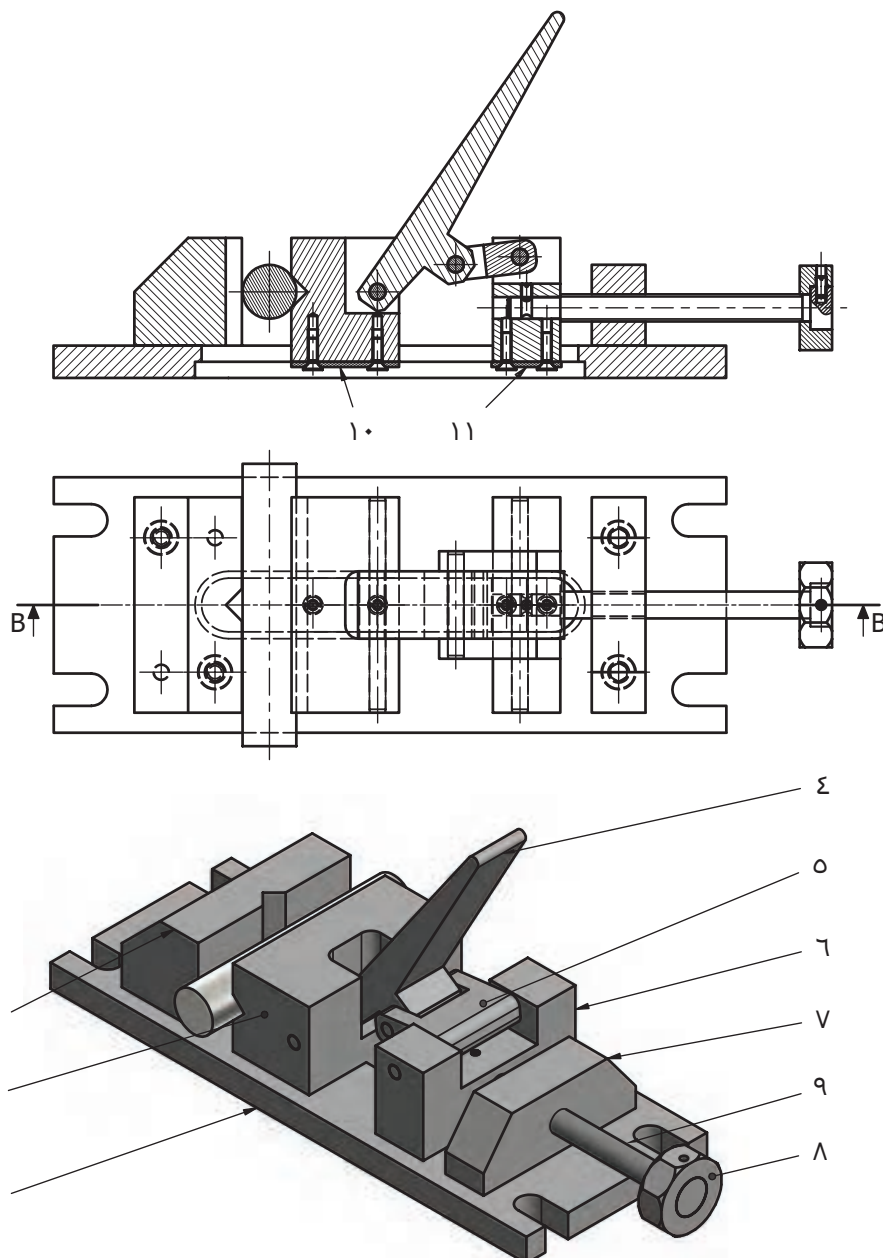


شکل ۴۲

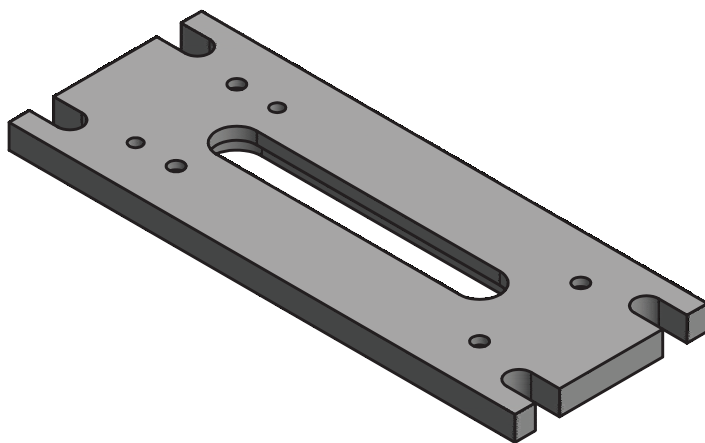
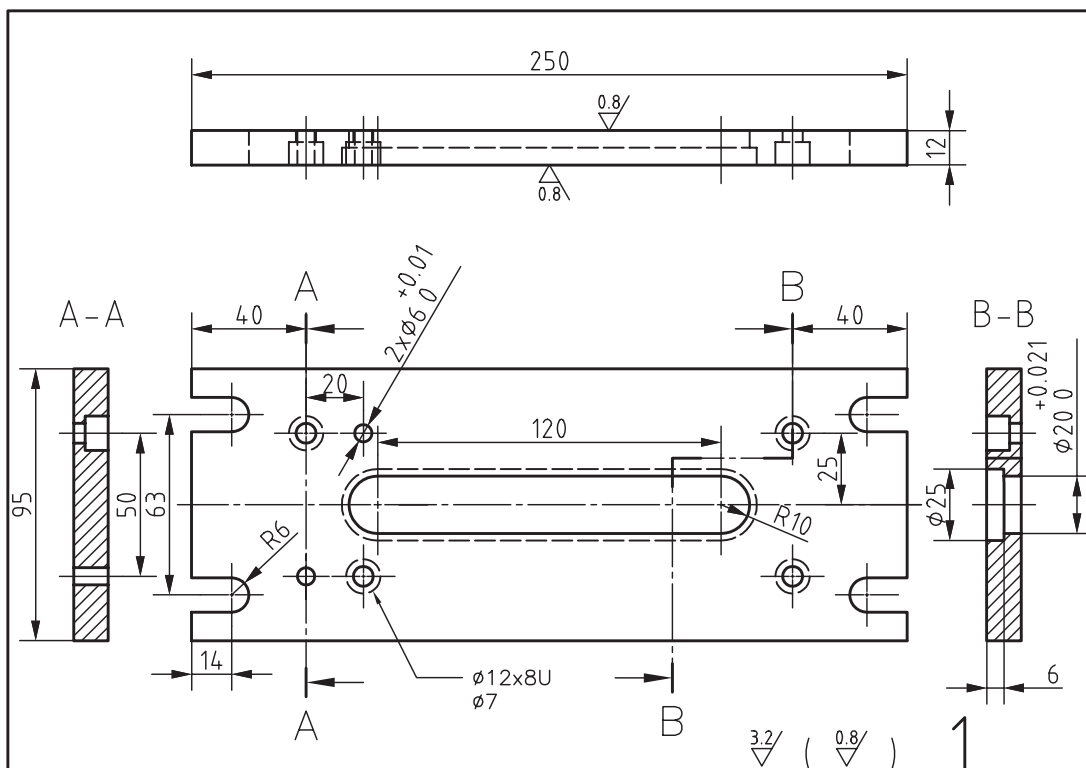


شکل ۴۳

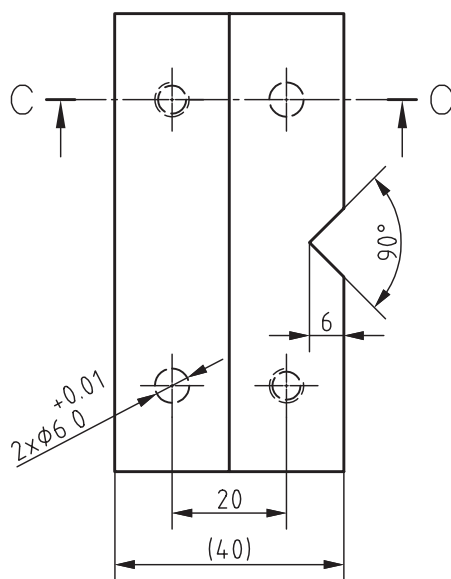
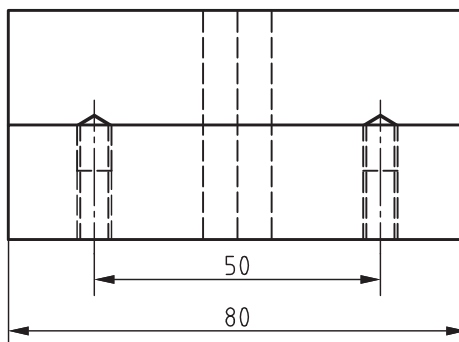
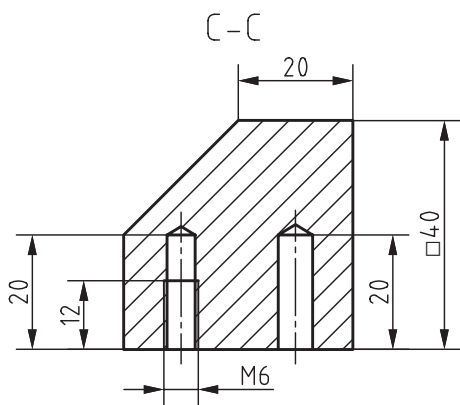
3 ( 3.2 / 6.3 )



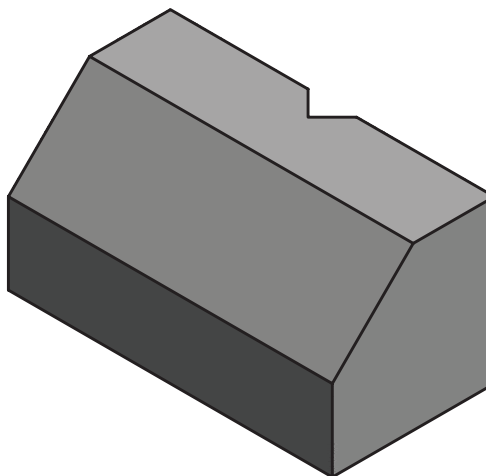
جنس :	ST37	هنرستان :	تاریخ :
ایماد :		نام نقشه :	فیکسچر کتاب فرزکاری و سنگ زنی رشته ماشین ابزار
مقیاس :	1:2		
تولرنس :	ISO2768-f		



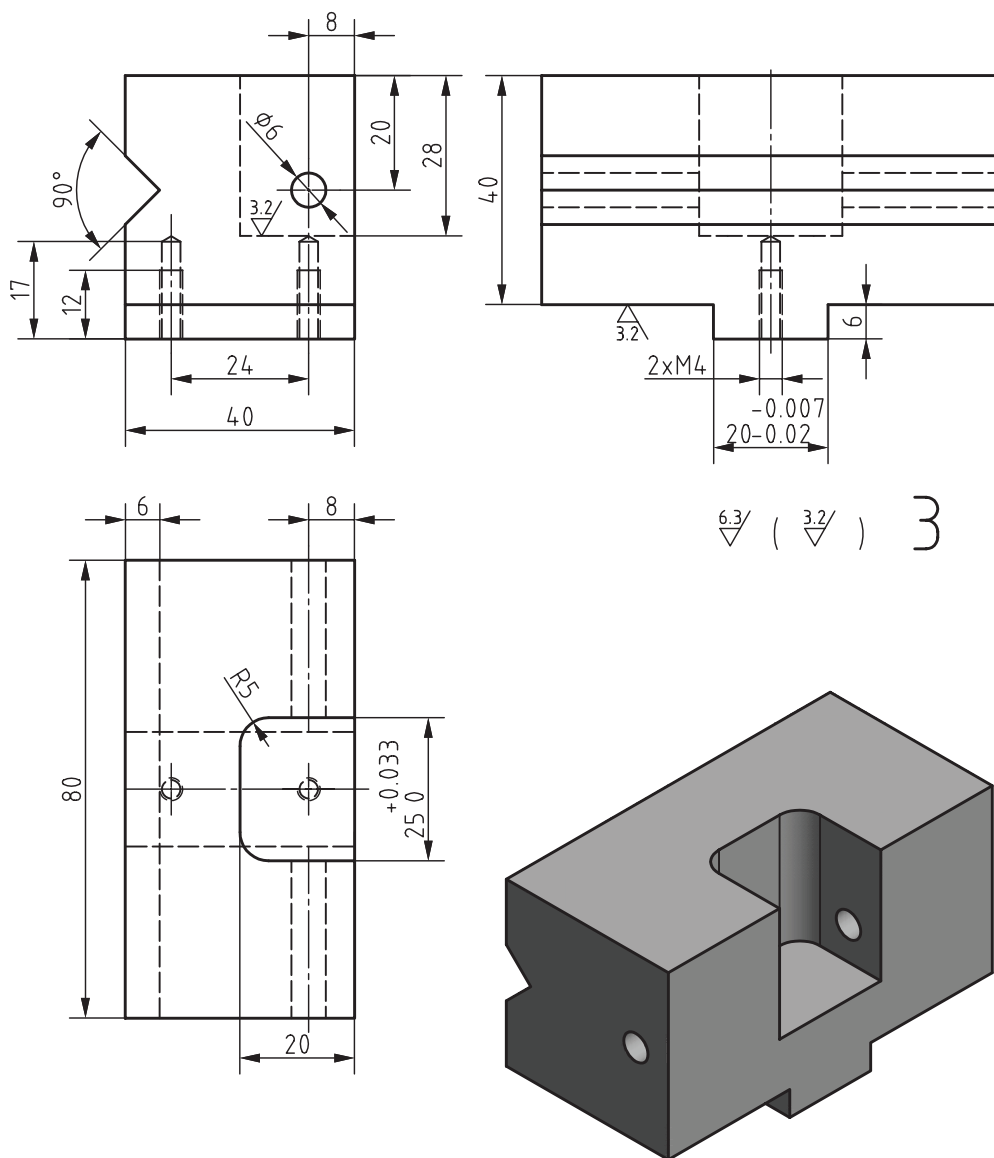
1	جنس :	ST37	هنرستان :	تاریخ :
	ابعاد :	255x100x15	نام قطعه :	پایه گیره
	مقیاس :	1:2		
	تولرنس :	ISO2768-f		



2



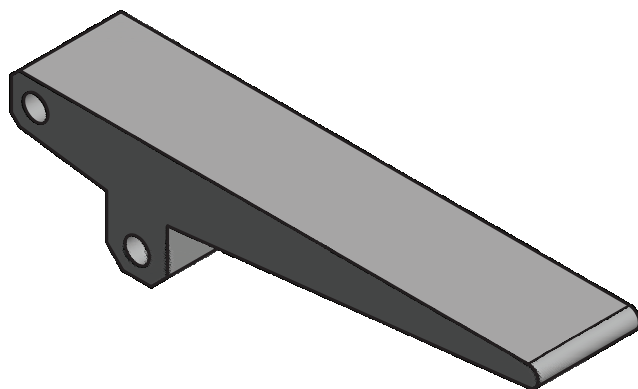
جنس :	ST37	هنرستان :	تاریخ :
ابعاد :	42x42x85	نام قطعه :	فک ثابت گیره
مقیاس :	1:1	2	
تولرانس :	ISO2768-f		



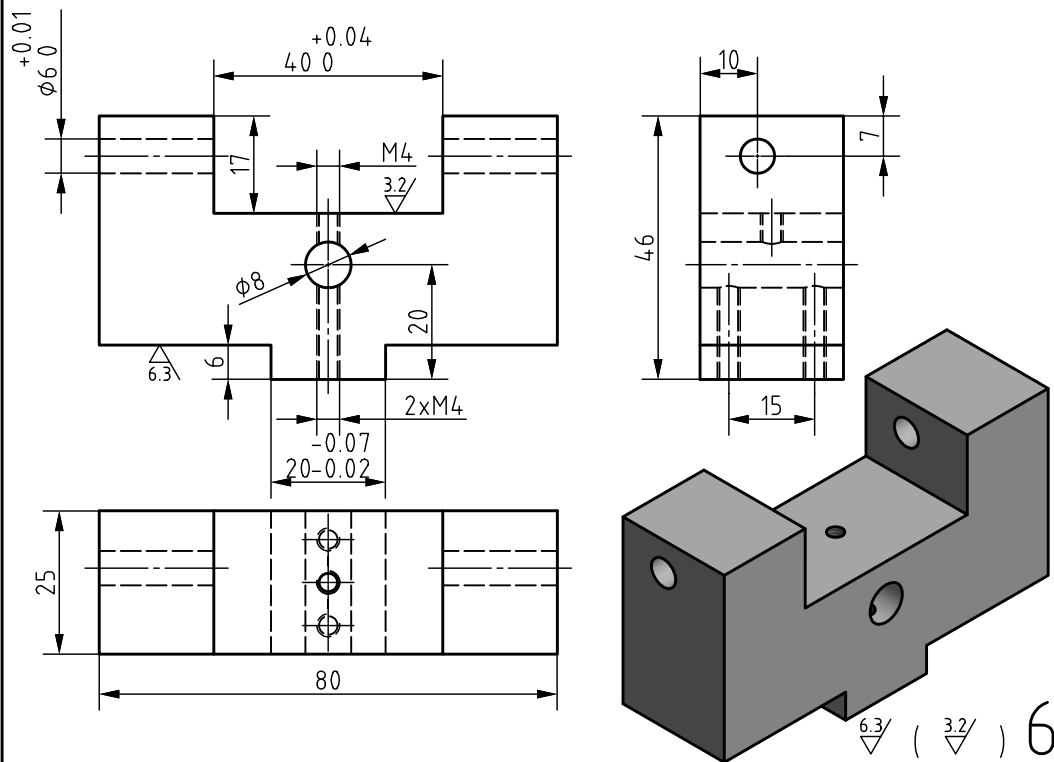
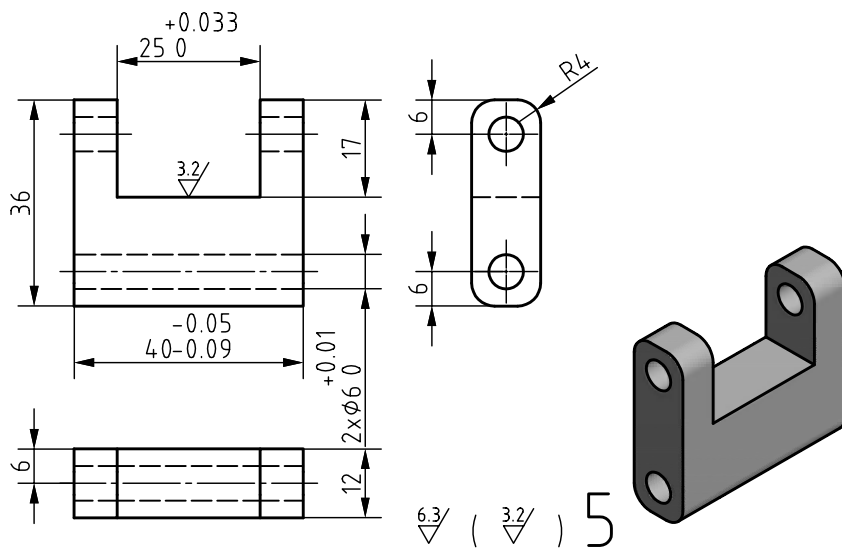
6.3 / ( 3.2 / ) 3

جنس :	ST37	هنرستان :	تاریخ :
ابعاد :	45x50x85	نام قطعه :	فک متحرک گیره
مقیاس :	1:1		
تولرانس :	ISO2768-f		

3



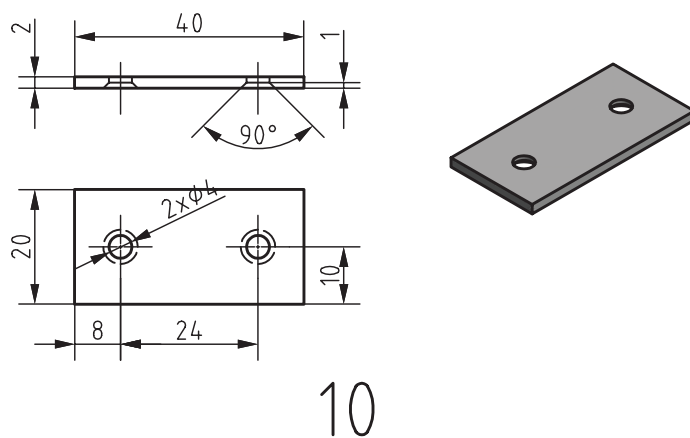
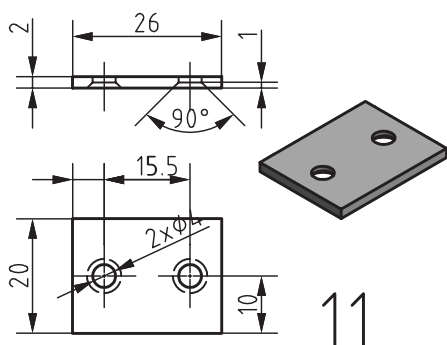
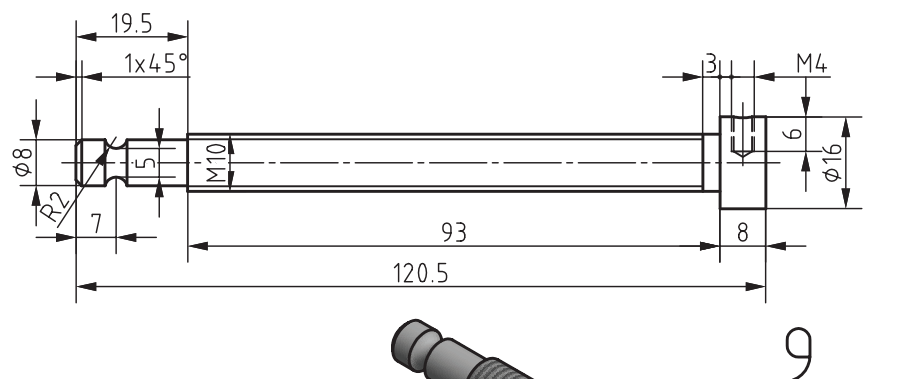
4	تاریخ :	هنرستان :	ST37 جنس :
	نام قطعه : دسته گیره		28x32x135 ابعاد :
			1:1 مقیاس :
			ISO2768-f تolerانس :



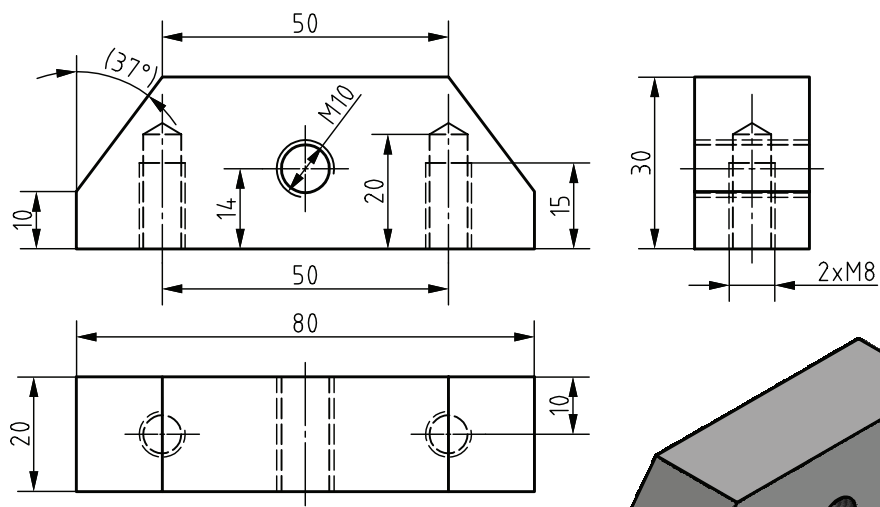
جنس :	ST37	هنرستان :	تاریخ :
ابعاد :	Part 5: 38x14x42 Part 6: 28x50x85	نام قطعه :	قطعه رابط دسته
مقیاس :	1:1	قطعه تنظیم خریف گیره	
تولرانس :	ISO2768-f		

5-6

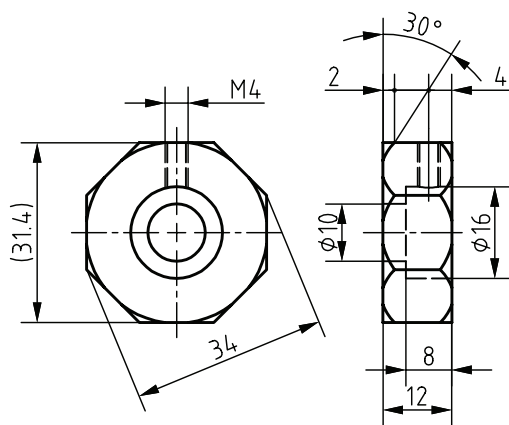
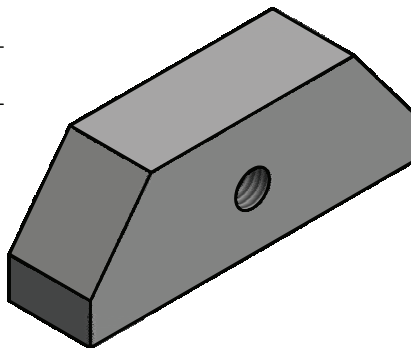




جنس :	ST37	هنرستان :	تاریخ :
ابعاد :	Part 9: Ø18x125 22x28x4-22x42x4	نام قطعه :	پیچ تنظیم خاریف گیره
مقیاس :	1:1	صفحه پشت بند ۱	صفحه پشت بند ۲
تولرانس :	ISO2768-f	9-10-11	



7



8

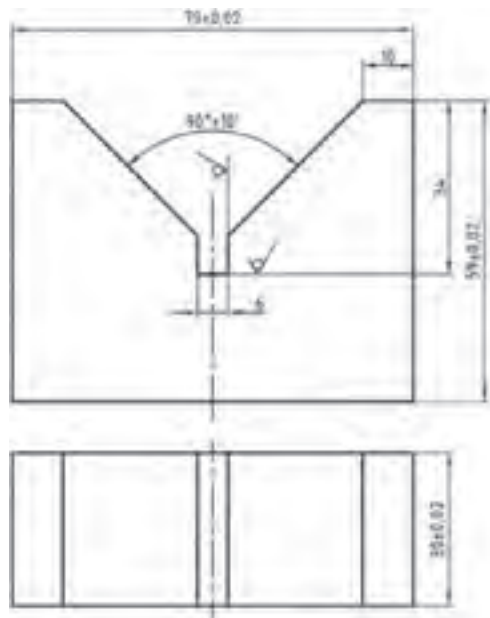


جنس :	ST37	هنرستان :	تاریخ :
ابعاد :	Part 7: 22x32x85 Part 8: $\phi 35 \times 16$	نام قطعه :	تکیه گاه پیچ گیره دسته چندضلعی گیره
مقیاس :	1:1		
تولرانس :	ISO2768-f		

7-8

## ارزشیابی هنرجو در واحد یادگیری: سنگ زنی سطوح تخت

— نمونه و نقشه کار:



**نقشه کار: سنگ زنی در سطوح تخت**

سنگ زنی قطعات با دستگاه سنگ تخت مطابق نقشه

**شاخص عملکرد:** ۱- ابعاد مطابق نقشه ۲- کیفیت سطح مطابق نقشه

**شرایط انجام کار:**

- ۱- در محیط کارگاه
- ۲- نور یکنواخت با شدت ۴۰۰ لوکس
- ۳- تهویه استاندارد و دمای  $30 \pm 3^\circ \text{C}$
- ۴- ابزارآلات و تجهیزات استاندارد و آماده به کار
- ۵- وسایل ایمنی استاندارد
- ۶- زمان ۸ ساعت

**مواد مصرفی:** جنس قطعه از فولاد st۳۷

**ابزار و تجهیزات:** دستگاه سنگ تخت و متعلقات - کولیس ۰/۰۵

با گستره اندازه گیری ۱۵۰ میلی متر - کمان اره - سوزن خط کش  
پایه دار و معمولی - سنبه نشان - چکش - گیره موازی - میز کار -  
کات کبود - وسایل تمیزکاری - قطعه کار - نقشه کار - میکرومتر  
۰/۰۱ با گستره ((۲۵-۵۰)، (۵۰-۷۵)، (۷۵-۱۰۰)) - زبری سنجی  
مقایسه ای - وسایل کمکی برای بستن قطعه کار

**معیار شایستگی:**

ردیف	مرحله کار	حداقل نمره قبولی از ۳	نمره هنرجو
۱	بررسی قطعه کار اولیه	۱	
۲	آماده سازی قطعه کار	۱	
۳	آماده سازی دستگاه	۱	
۴	بستن قطعه کار	۲	
۵	انجام عملیات سنگ زنی	۲	
<b>شایستگی های غیر فنی، ایمنی، بهداشت، توجهات زیست محیطی و نگرش:</b>			
۱- رعایت قواعد و اصول در مراحل کار ۲- مسئولیت پذیری ۳- مدیریت مواد و تجهیزات ۴- استفاده از لباس کار و کفش ایمنی و عینک محافظ ۵- تمیز کردن وسایل و محیط کار ۶- پایبندی به الزامات نقشه			
میانگین نمرات *			

\* حداقل میانگین نمرات هنرجو برای قبولی و کسب شایستگی، ۲ می باشد.

- برنامه درسی رشته ماشین ابزار - دفتر تألیف کتاب‌های درسی فنی و حرفه‌ای و کار دانش ۹۴
- میلر، رکس، حجتی، احمد و دیگران، ۱۳۷۷، دانشنامه ماشین‌کاری ۲، چاپ اول، انتشارات فنی ایران
- صافی محمد علی، (۱۳۹۲)، فرزکاری جلد اول کد ۶۰۳/۶، فرزکاری ۱، تهران، شرکت چاپ و نشر کتاب‌های درسی ایران
- غلامرضایی حمید، (۱۳۹۴)، رسم فنی تخصصی کد ۴۸۸/۸، رسم تخصصی، تهران، شرکت چاپ و نشر کتاب‌های درسی ایران
- صافی محمد علی، (۱۳۷۶)، کتاب درسی فرزکاری، فرز ۱ (چاپ اول)، تهران، نشر مدیریت پژوهش
- مهرزادگان محمد، (۱۳۹۴)، اندازه‌گیری دقیق، تهران، شرکت چاپ و نشر کتاب‌های درسی ایران
- جورج ای. دیتز، (۱۹۸۸)، متالورژی مکانیکی، شهره شهیدی (۱۳۹۲)، تهران، مرکز نشر دانشگاهی
- فیسچر اولریچ، (۱۹۹۲)، تیلن بوچ متال، جداول و استانداردهای طراحی و ماشین‌سازی، عبدالله ولی‌نژاد، (۱۳۸۹)، تهران، نشر طراح
- گرلینگ هنریش، (۱۹۶۰)، ... در پیرامون ماشین‌های ابزار، علی اکبر جوانفکر (۱۹۶۰)، تهران، ...
- اسکو، نلسون وپرتر (۱۹۹۴)، ماشین‌های افزار جدید ۲، ابراهیم صادقی (۱۳۷۳) تهران، جهاد دانشگاهی دانشگاه علم و صنعت ایران
- شفیع‌نیا حمید و قربانی محسن، (۱۳۹۵) فرزکاری جلد اول کد ۶۰۹/۵۲، تهران، شرکت چاپ و نشر کتاب‌های درسی ایران
- خادمی اقدم و نصیری زنوزی بهروز (۱۳۸۰) محاسبات فنی ۱ کد ۳۵۶، تهران، شرکت چاپ و نشر کتاب‌های درسی ایران
- خادمی اقدم و نصیری زنوزی بهروز (۱۳۸۳) محاسبات فنی ۲ کد ۴۶۱/۸، تهران، شرکت چاپ و نشر کتاب‌های درسی ایران
- رشیدزاده حسین و هدایتی علی اصغر (۱۳۹۰) کارگاه ساخت و تولید کد ۴۷۴/۴ تهران، شرکت چاپ و نشر کتاب‌های درسی ایران
- محمودی آستارایی ابراهیم و احمدزاده محمدحسین، (۱۳۶۹)، درس فنی چهارم، کد ۸۰۲، تهران، شرکت چاپ و نشر کتاب‌های درسی ایران
- اکبری محسن و خادمی اقدم صمد و نصیری زنوزی بهروز، (۱۳۶۹)، حساب فنی سوم، تهران، شرکت افست "سهامی عام"
- اکبری محسن و خادمی اقدم صمد و نصیری زنوزی بهروز، (۱۳۶۹)، درس فنی دوم کد ۵۰۳، تهران، شرکت چاپ و نشر کتاب‌های درسی ایران
- ماشین‌سازی تبریز، (۱۳۹۵)، کاتالوگ ماشین فرز FP4M، تبریز، ماشین‌سازی تبریز
- ۱- Fitzpatrick, M., (2014) Machining and CNC Technology, 3th ed. New York, McGraw. Hill
- ۲- Hopenel, P., (2012), Precision Machining Technology, USA, Delmar



سازمان پژوهش و برنامه‌ریزی آموزشی جهت ایفای نقش خطیر خود در اجرای سند تحول بنیادین در آموزش و پرورش و برنامه درسی ملی جمهوری اسلامی ایران، مشارکت معلمان را به‌عنوان یک سیاست اجرایی مهم دنبال می‌کند. برای تحقق این امر در اقدامی نوآورانه سامانه تعاملی بر خط اعتبارسنجی کتاب‌های درسی راه‌اندازی شد تا با دریافت نظرات معلمان درباره کتاب‌های درسی نونگاشت، کتاب‌های درسی را در اولین سال چاپ، با کمترین اشکال به دانش‌آموزان و معلمان ارجمند تقدیم نماید. در انجام مطلوب این فرایند، همکاران گروه تحلیل محتوای آموزشی و پرورشی استان‌ها، گروه‌های آموزشی و دبیرخانه راهبری دروس و مدیریت محترم پروژه آقای محسن باهو نقش سازنده‌ای را بر عهده داشتند. ضمن ارج نهادن به تلاش تمامی این همکاران، اسامی دبیران و هنرآموزانی که تلاش مضاعفی را در این زمینه داشته و با ارائه نظرات خود سازمان را در بهبود محتوای این کتاب یاری کرده‌اند به شرح زیر اعلام می‌شود.

#### اسامی هنرآموزان شرکت‌کننده در اعتبارسنجی کتاب تولید به روش فرزکاری و سنگ‌زنی - کد ۲۱۱۴۲۰

ردیف	نام و نام خانوادگی	استان محل خدمت	ردیف	نام و نام خانوادگی	استان محل خدمت
۱	سعید رجبی	مرکزی	۱۳	بهرام فیضی	گلستان
۲	غلامرضا رحیمی‌نژاد	شهرستان‌های تهران	۱۴	عرفان نعیمی‌حسینی	فارس
۳	روح اله احمدی	شهر تهران	۱۵	سید هاشم رمضانزاده سکه	خراسان رضوی
۴	سیدعلی هاشم آبادی	خراسان جنوبی	۱۶	یعقوب خلج	قزوین
۵	حسینعلی نیستانی	خراسان شمالی	۱۷	سید مرتضی سجادی حور	اردبیل
۶	علیرضا دهقانی حبیب آبادی	اصفهان	۱۸	حمیدرضا دولو	سمنان
۷	مجید دهقان	یزد	۱۹	حمزه صالحی راد	مازندران
۸	علی عزیزی	ایلام	۲۰	سعید دهقان	هرمزگان
۹	بابک کریم نواز	آذربایجان شرقی	۲۱	حسین رحمانی	کردستان
۱۰	سهراب آزموده	کرمانشاه	۲۲	اصغر نگارستانی	کرمان
۱۱	علی شیر افکن	همدان	۲۳	محسن دوروباف	یزد
۱۲	بشار آذرگ	آذربایجان غربی			

