

## ۱-۲۲- مولتی متر (multimeter)

همان طور که قبلاً اشاره شد مولتی متر وسیله‌ای است که توسط آن می‌توان چندین کمیت الکتریکی را اندازه‌گیری کرد. کلمه multi به معنی چند و meter به معنی اندازه‌گیر است. در مباحث قبل با چگونگی اتصال مولتی متر به صورت ولت‌متر و آمپر‌متر در مدار آشنا شدید. در این قسمت می‌خواهیم از مولتی متر به عنوان اهم متر، ولت متر و آمپر متر استفاده کنیم. مولتی مترها در دو نوع عقربه‌ای و دیجیتالی ساخته می‌شوند. به دلیل کاربرد گسترده و ارزانی قیمت مولتی متر دیجیتالی، در این قسمت به مولتی متر دیجیتالی می‌پردازیم.

### مولتی متر دیجیتالی

مولتی متر دیجیتالی دستگاهی است که کمیت‌های مورد نظر را به صورت عدد و رقم نشان می‌دهد. مولتی متر دیجیتالی در انواع بسیار متنوعی ساخته می‌شود، شکل ۱-۸۴. همان طور که قبلاً اشاره شد، یکی از روش‌های کسب توانایی در کاربرد دستگاه‌های الکترونیکی مطالعه دفترچه راهنمای آن است.



شکل ۱-۸۴- نمونه دیگری از مولتی متر دیجیتالی و صفحه اول دفترچه راهنما

دفترچه راهنما معمولاً همراه با دستگاه در اختیار کاربران قرار می‌گیرد. این دفترچه معمولاً به زبان انگلیسی یا سایر زبان‌ها است. یک تکنسین الکترونیک باید توانایی خواندن دفترچه راهنمای دستگاه‌های اندازه‌گیری در الکترونیک

مانند مولتی متر، اسیلوسکوپ، فانکشن ژنراتور و منبع تغذیه را داشته باشد و دستگاه‌های پر کاربرد دیگر را بیاموزد. از آنجا که زبان انگلیسی یک زبان بین‌المللی و پرکاربرد است، ضرورت دارد طرز خواندن و معنی کردن این گونه دفترچه‌های راهنمای کاربرد را فرا بگیرید. در ادامه به توضیح چگونگی فراگیری دفترچه راهنمای کاربرد یک نمونه مولتی مترهای دیجیتالی موجود در بازار می‌پردازیم.

### دفترچه راهنمای کاربرد مولتی متر دیجیتالی به زبان انگلیسی

در شکل ۱-۸۴ نمونه دیگری از مولتی متر دیجیتالی و صفحه اول دفترچه راهنمای کاربرد مولتی متر مدل XXXX را ملاحظه می‌کنید. در این راهنما، نام دستگاه، شماره سریال و استانداردهای حاکم بر دستگاه درج می‌شود. در صفحه دوم معمولاً نکات ایمنی و خطراتها نوشته می‌شود. این نکات درباره تمام دستگاه‌های اندازه‌گیری صدق می‌کند. در شکل ۱-۸۵ متن اصلی و ترجمه مربوط به این نکات را ملاحظه می‌کنید. در صورتی که برای یک بار این اصطلاحات را فرا بگیرید، می‌توانید آنها را برای انواع مولتی مترها به کار ببرید. مشخصات فنی و سایر ویژگی‌های مربوط به یک نمونه دفترچه راهنمای مولتی متر در کتاب همراه هنرجو آمده است.

فیلم ۱۳

فیلم مربوط به کاربرد مولتی متر دیجیتالی را در ساعات غیر درسی مشاهده کنید و نکات آن را به خاطر بسپارید و چگونگی کاربرد آن را یاد بگیرید.

## ! warinig

### احتیاط

- To avoid damages to the instrument, do not exceed the maximum limits of the input values shown in the technical specification table.
- Do not use the meter or test leads if they look damaged use extreme caution when working around bare conductors
- Accidental contact the conductor could result inn electric shock.
- Use the instrument only as specified in this manual, otherwise, the protection provided by the instrument may be impaired.
- caution when working with voltages above 60Vdc or 30Vdc RMS, because such voltages will may pose a shock hazard.
- Before taking resistance measurements or testing continuity, disconnect circuit from power supply and all loads from circuit.
- remember to replace the fuses inside the instrument with same ratin fuses.

با توجه به مقادیر مجاز تعیین شده برای ورودی ها، مراقب باشید از حد تعیین شده تجاوز نکنند.

در صورتی که سیم رابط دستگاه (پروب) آسیب دیده یا لخت شده است، حتماً آن را تعویض یا تعمیر کنید.

هرگونه تماس تصادفی با قسمت‌های فلزی سیم رابط باعث بروز شوک الکتریکی می‌شود.

بر اساس دستورات داده شده در این راهنما کار کنید، در غیر این صورت، دستگاه شما آسیب خواهد دید.

هنگام کار با ولتاژهای بیش از ۳۰ ولت یا ۶۰ ولت احتیاط کنید، زیرا این ولتاژها خطر برق‌گرفتگی دارند.

هنگام اندازه‌گیری مقاومت یا بررسی پیوستگی مدار، حتماً برق دستگاه را قطع کنید.

هنگام جایگزینی فیوز در داخل دستگاه از فیوزی با مشخصات داده شده استفاده کنید.


### Safety symbols

### نمادهای ایمنی

 see your instruction manual

 DC Direct current

 AC Alternating current

 سیم زمین

 Duble insulation

عایق دوبل

 Dangerous voltages

ولتاژ خطرناک

به دفترچه کاربرد مراجعه کنید.

جریان مستقیم  
دی‌سی (DC)

جریان متناوب  
ا‌سی (AC)

توجه: یادگیری لغات فنی در ابتدا کمی مشکل به نظر می‌آید ولی بعد از مدتی تمرین به آسانی می‌توانید آنها را فرا بگیرید و استفاده کنید.

شکل ۸۵-۱- نکات و نمونه‌های ایمنی برای دستگاه اندازه‌گیری دیجیتال

### آموزش ترجمه متن

لغات و متن شکل ۸۵-۱ و ترجمه آن را یاد بگیرید و در فرایند استفاده از دستگاه‌ها به کار ببرید.

### الگوی پرسش:

بر اساس آنچه که تاکنون آموخته‌اید، بر مبنای تقسیم‌بندی‌هایی که توسط مربی صورت می‌گیرد، هر یک از گروه‌ها، تعداد ۳ تا ۴ سؤال نظری و عملی همراه با پاسخ آن طراحی کنند. مجموعه سؤال‌ها به صورت یک آزمون در کلاس به اجرا در می‌آید.

طراحی سؤال



### مراحل اجرای کار

- ۱ از ضربه زدن به مولتی متر خودداری کنید.
- به حوزه کار ولتاژ یا جریان قابل اندازه‌گیری توجه کنید.
- این نکات برای همه مولتی‌مترها صادق است و باید رعایت شود.

۲۳-۱- کار عملی ۷:

اندازه‌گیری مقاومت با کد «عدد - حرف»

هدف: کار عملی با مولتی متر واقعی (۱)

مواد، ابزار و تجهیزات: مقاومت با کد «عدد - حرف» در اندازه‌های مختلف ۳ عدد - مولتی متر دیجیتالی یک

۲ مقاومت‌ها با کد «عدد - حرف» را به ترتیب  $R_1$ ,  $R_2$  و  $R_3$  نام‌گذاری کنید.

۳ رمز «عدد - حرف»، مقدار و تولرانس مقاومت‌ها را از روی مقاومت بخوانید و مقادیر را در جدول ۴-۱ بنویسید.



در صورت نیاز فیلم مربوط به کاربرد مولتی متر دیجیتالی را در ساعات غیر درسی دوباره مشاهده کنید و نکات آن را به خاطر بسپارید.

جدول ۴ - ۱

شماره مقاومت	کد «عدد حرف» روی مقاومت	مقدار مقاومت «کد عدد و حرف»	مقدار تولرانس مقاومت از کد «عدد و حرف»	مقدار مقاومت اندازه گیری شده	مقدار مقاومت خوانده شده با نرم افزار	آیا مقادیر تطبیق می کند؟
R <sub>۱</sub>						<input type="checkbox"/> بلی <input type="checkbox"/> خیر
R <sub>۲</sub>						<input type="checkbox"/> بلی <input type="checkbox"/> خیر
R <sub>۳</sub>						<input type="checkbox"/> بلی <input type="checkbox"/> خیر

۹ با استفاده از نرم افزار resistor calculator (یا نرم افزار مشابه دیگر) مقدار مقاومت ها را بخوانید و در جدول ۴ - ۱ بنویسید.

۱۰ مقادیر مقاومت های خوانده شده از روی مقاومت و مقادیر خوانده شده با نرم افزار را با هم مقایسه کنید و در ستون مربوطه در جدول ۴ - ۱ بنویسید.

۱۱ آیا مقادیر به دست آمده در مراحل ۶ و ۱۰ با هم انطباق دارد؟ توضیح دهید.

۴ راهنمای کاربرد مولتی متر را مطالعه کنید و آن را برای اندازه گیری مقاومت آماده کنید.

۵ مناسب ترین حوزه کار مولتی متر را انتخاب کنید و مقادیر آنها را با آن اندازه بگیرید و مقادیر را در جدول ۴ - ۱ بنویسید.

۶ مقادیر مقاومت های خوانده شده از روی مقاومت و مقادیر اندازه گیری شده را با هم مقایسه کنید و در ستون مربوطه در جدول ۴ - ۱ بنویسید.

۷ در صورتی که تفاوتی وجود دارد علت تفاوت مقاومت ها را توضیح دهید.

۲۴ - ۱ - کار عملی ۸: اندازه گیری مقاومت با کد رنگی

هدف: کار عملی با مولتی متر واقعی (۲)

۱ مواد، ابزار و تجهیزات: مقاومت یک چهارم یا یک دوم وات با کد رنگی در اندازه های مختلف ۳ عدد - مولتی متر دیجیتالی یک دستگاه - نرم افزار electronic assistant (یا نرم افزار مشابه دیگر) - راهنمای کاربرد یک جلد - نرم افزار ادیسون

۸ آیا مقادیر اندازه گیری شده در محدوده تولرانس مقاومت قرار دارد؟ توضیح دهید.

## مراحل اجرای کار

۳ با استفاده از رمز «رنگی»، مقدار و تولرانس مقاومت‌ها

۲ مقاومت‌ها با کد «رنگی» را به ترتیب  $R_1$ ،  $R_2$  و  $R_3$  نام‌گذاری کنید. را از روی مقاومت بخوانید و مقادیر رادر جدول ۵ - ۱ بنویسید.

جدول ۵ - ۱

شماره مقاومت	کد رنگی موجود روی مقاومت	مقدار مقاومت «کد رنگی»	مقدار تولرانس مقاومت از کد «رنگی»	مقدار مقاومت اندازه‌گیری شده	مقدار مقاومت خوانده شده با نرم افزار	آیا مقادیر تطبیق می‌کند؟
$R_1$						<input type="checkbox"/> بلی <input type="checkbox"/> خیر
$R_2$						<input type="checkbox"/> بلی <input type="checkbox"/> خیر
$R_3$						<input type="checkbox"/> بلی <input type="checkbox"/> خیر

۹ با استفاده از نرم افزار electronic assistant (یا نرم افزار مشابه دیگر) مقدار مقاومت‌ها را بخوانید و در جدول ۵ - ۱ بنویسید.

۱۰ مقادیر مقاومت‌های خوانده شده از روی مقاومت و مقادیر خوانده شده با نرم افزار را با هم مقایسه کنید و در ستون مربوطه در جدول ۵ - ۱ بنویسید.

۱۱ آیا مقادیر به دست آمده در مراحل ۶ و ۱۰ با هم انطباق دارد؟ توضیح دهید.

۴ راهنمای کاربرد مولتی متر را مطالعه کنید و آن را برای اندازه گیری مقاومت آماده کنید.

۵ مناسب‌ترین حوزه کار مولتی متر را انتخاب کنید و مقاومت‌ها را با آن اندازه بگیرید و مقادیر را در جدول ۵ - ۱ بنویسید.

۶ مقادیر مقاومت‌های خوانده شده از روی مقاومت و مقادیر اندازه‌گیری شده را با هم مقایسه کنید و در ستون مربوطه در جدول ۵ - ۱ بنویسید.

۷ در صورتی که تفاوتی وجود دارد، علت تفاوت مقاومت‌ها را توضیح دهید.

۱۲ عیوبی که در مقاومت‌ها ایجاد می‌شود شامل قطع شدن مقاومت و افزایش مقدار آن است. دو نمونه مقاومت معیوب (قطع شده و افزایش یافته) را در اختیار بگیرید و آن را به وسیله مولتی متر مورد آزمایش قرار دهید.

۸ آیا مقادیر اندازه‌گیری شده در محدوده تولرانس مقاومت قرار دارد؟ توضیح دهید.




شکل ۸۷- ۱- اتصال قطعات روی برد برد

جست و جو

درباره انواع «برد بُرد»، «ورو بُرد» و چگونگی عددگذاری و حروف روی برد برد جست و جو کنید و تصاویری از آنها بیابید و نتیجه را به کلاس ارائه دهید.

### اتصال‌های داخلی برد بُرد

در شکل ۸۸- ۱- اتصالات داخلی سوراخ‌های برد بُرد را ملاحظه می‌کنید. همان‌طور که مشاهده می‌شود سوراخ‌های حروف گذاری شده در جهت عمودی با هم ارتباط دارند و در جهت افقی بین آنها هیچ گونه ارتباطی وجود ندارد. سوراخ‌های ردیف‌های بالا و پایین در جهت افقی به هم مربوط هستند. در شکل ۸۹- ۱- اتصالات فلزی داخل برد بُرد را ملاحظه می‌کنید.



شکل ۸۸- ۱- چگونگی اتصال پایه‌های برد بُرد به یکدیگر



شکل ۸۹- ۱- اتصالات داخلی برد بُرد

### ۲۵- ۱- منبع تغذیه (Power Supply)

روی میز آزمایشگاه دستگاهی به نام منبع تغذیه DC وجود دارد. توسط این دستگاه می‌توانید ولتاژهای مختلف تولید نمایید. از آنجا که تنوع دستگاه‌های منبع تغذیه بسیار زیاد است و هر آزمایشگاهی منبع تغذیه خاص مربوط به خود را دارد، از تشریح آن خودداری می‌کنیم. برای فراگیری نحوه استفاده از منبع تغذیه به دفترچه راهنمای آن مراجعه کنید. شکل ۸۶- ۱- یک نمونه دستگاه منبع تغذیه را نشان می‌دهد.



شکل ۸۶- ۱- یک نمونه دستگاه منبع تغذیه

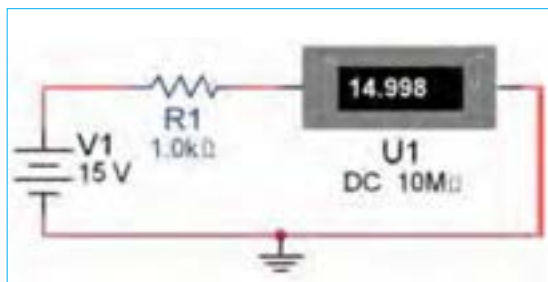
### ۲۶- ۱- برد بُرد (bread board)

برد بُرد یا بُرد آزمایشگاهی کوچک وسیله‌ای است که توسط آن به آسانی می‌توانید آزمایش‌های الکترونیک را بدون نیاز به لحیم‌کاری با سیم‌های رابط جداگانه اجرا کنید. چون این بُرد (صفحه تخته) به صورت یک صفحه ساده ساخته شده است و مشابه یک تکه نان به نظر می‌آید، نام Bread board یا تخته آزمایشگاهی شبیه قطعه نان به آن داده شده است. در شکل ۸۷- ۱- قسمتی از برد بُرد که تعدادی قطعه روی آن نصب شده است را مشاهده می‌کنید.



در برخی از برد ردها ردیف‌های بالا و پایین در قسمت وسط برد با هم ارتباط ندارند و در صورت نیاز باید با یک سیم آنها را به هم متصل کنید. برای کسب اطلاعات بیشتر می‌توانید به کتاب آزمایشگاه اندازه‌گیری کد ۳۵۹/۹۴ مراجعه کنید.

۲ مدار شکل ۹۰ - ۱ را در نرم افزار مولتی سیم ببینید و جریان عبوری از مقاومت را اندازه بگیرید و مقادیر را در جدول ۶ - ۱ یادداشت کنید.



شکل ۹۰ - ۱ بررسی قانون اهم

۳ با استفاده از قانون اهم مقدار جریان مدار را محاسبه کنید و مقادیر را در جدول ۶ - ۱ یادداشت کنید.

۲۷ - ۱ - کار عملی ۹: اجرای عملی قانون اهم  
هدف: بررسی عملی قانون اهم با استفاده از نرم افزار و سخت افزار  
مواد، ابزار و تجهیزات لازم: مقاومت ۱ kΩ یک چهارم یا یک دوم وات یک عدد - مولتی متر دیجیتالی یک دستگاه - رایانه مجهز به اینترنت - منبع تغذیه یک دستگاه - نرم افزار مولتی سیم (یا نرم افزار مشابه دیگر) - راهنمای کاربرد دستگاه‌ها - سیم رابط - برد  
مراحل اجرای کار

۱ دفترچه راهنمای مولتی متر را مطالعه کنید و با رعایت نکات ایمنی و انتخاب حوزه کار مناسب آن را برای اندازه‌گیری جریان تنظیم کنید. هنگام اندازه‌گیری جریان، حوزه کار انتخاب شده باید حتماً بالاتر از مقدار جریان مورد اندازه‌گیری باشد.



جدول ۶ - ۱

کمیت	اندازه‌گیری با نرم افزار	محاسبه با قانون اهم	اندازه‌گیری با مولتی متر	آیا مقادیر تطبیق می‌کند؟
I				<input type="checkbox"/> بلی <input type="checkbox"/> خیر

۸ در صورتی که تفاوتی وجود دارد علت تفاوت را توضیح دهید.

۴ دفترچه راهنمای منبع تغذیه DC را مطالعه کنید و با رعایت نکات ایمنی آن را روی ۱۵ ولت تنظیم کنید.

۵ مدار شکل ۹۰ - ۱ را با استفاده از منبع تغذیه روی برد برد ببینید.

۶ با استفاده از مولتی متر جریان عبوری از مقاومت را اندازه بگیرید و مقادیر را در جدول ۶ - ۱ یادداشت کنید.

۷ مقادیر درج شده در جدول را با هم مقایسه کنید و نتایج را در ستون مربوطه در جدول ۶ - ۱ درج کنید.

## ۲۸- ۱- کار عملی ۱۰: مدارهای سری

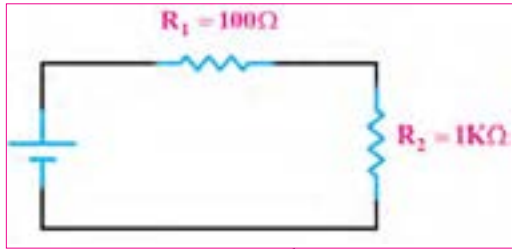
هدف: بررسی عملی مدارهای سری با استفاده از نرم افزار و سخت افزار

مواد، ابزار و تجهیزات لازم: مقاومت یک چهارم یا یک دوم وات سه عدد (انتخاب مقاومت‌ها با توجه به امکانات اختیاری است) - مولتی متر دیجیتالی یک دستگاه - رایانه مجهز به اینترنت - منبع تغذیه DC یک دستگاه - نرم افزار مولتی سیم (یا نرم افزار مشابه دیگر) - راهنمای کاربرد دستگاه‌ها - سیم رابط - برد بُرد

### مراحل اجرای کار

۱- مدار شکل ۹۱- ۱ را در نرم افزار مولتی سیم ببینید. ولتاژ تغذیه را روی ۱۲ ولت بگذارید (انتخاب تغذیه مدار

می تواند با توجه به شرایط مدار تغییر کند).



شکل ۹۱-۱- بررسی قانون اهم

- ۲- مقدار ولتاژ دو سر هر یک از مقاومت‌ها را در نرم افزار اندازه بگیرید و مقادیر را در جدول ۷- ۱ یادداشت کنید.
- ۳- مقدار جریان‌ها را در نرم افزار اندازه بگیرید و مقادیر را در جدول ۷- ۱ یادداشت کنید.

جدول ۷- ۱

شماره مقاومت	اندازه‌گیری ولتاژها با نرم افزار	اندازه‌گیری جریان‌ها با نرم افزار	اندازه‌گیری ولتاژها با مولتی متر	اندازه‌گیری جریان‌ها با مولتی متر	محاسبه مقدار مقاومت‌ها با استفاده از ولتاژ و جریان	آیا مقادیر تطبیق می‌کند؟
R <sub>۱</sub>						<input type="checkbox"/> بلی <input type="checkbox"/> خیر
R <sub>۲</sub>						<input type="checkbox"/> بلی <input type="checkbox"/> خیر
R <sub>T</sub>						<input type="checkbox"/> بلی <input type="checkbox"/> خیر

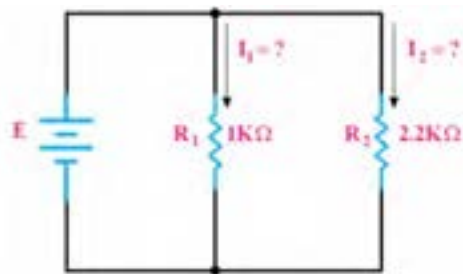
- ۴- بررسی کنید آیا در نرم افزار، فرایند عیب‌گذاری روی مقاومت‌ها وجود دارد، در صورتی که پاسخ مثبت است، آن را تجربه کنید.
  - ۵- دفترچه راهنمای منبع تغذیه DC را مطالعه کنید و با رعایت نکات ایمنی آن را روی ۱۲ ولت تنظیم کنید.
  - ۶- دفترچه راهنمای مولتی متر را مطالعه کنید و با رعایت نکات ایمنی و انتخاب حوزه کار مناسب آن را برای اندازه‌گیری ولتاژ تنظیم کنید.
  - ۷- مدار شکل ۹۱- ۱ را با استفاده از منبع تغذیه روی بُرد بُرد ببینید.
  - ۸- با استفاده از مولتی متر ولتاژ دوسر هر یک از مقاومت
- را اندازه بگیرید و مقادیر را در جدول ۷- ۱ یادداشت کنید.
- ۹- با استفاده از مولتی متر جریان‌های عبوری از هر یک از مقاومت‌ها و جریان کل را اندازه بگیرید و مقادیر را در جدول ۷- ۱ یادداشت کنید.
- ۱۰- مقدار هر یک از مقاومت‌ها را با استفاده از مقادیر جریان و ولتاژ اندازه‌گیری شده با مولتی متر، محاسبه کنید.
- ۱۱- مقادیر درج شده در جدول را با هم مقایسه کنید و نتایج را در ستون مربوطه، در جدول ۷- ۱ درج کنید.
- ۱۲- در صورتی که تفاوتی وجود دارد علت تفاوت مقاومت‌ها را توضیح دهید.



- ۱۲ با استفاده از قانون اهم و مدارهای سری، مقدار جریان مدار را محاسبه کنید و مقادیر را در جدول ۱-۸ یادداشت کنید.
- ۱۵ مقادیر جریان‌ها در جدول ۱-۸ را با هم مقایسه کنید و نتایج را در ستون مربوطه درج کنید.
- ۱۴ مقادیر جریان‌های اندازه‌گیری شده در نرم‌افزار را با استفاده از مولتی‌متر از جدول ۱-۷ استخراج و در جدول جدول ۱-۸

کمیت	$I_{R1}$	$I_{R2}$	$I_T$	آیا مقادیر تطبیق می‌کند؟
I (محاسبه)				<input type="checkbox"/> بلی <input type="checkbox"/> خیر
I (نرم‌افزار)				<input type="checkbox"/> بلی <input type="checkbox"/> خیر
I (مولتی‌متر)				<input type="checkbox"/> بلی <input type="checkbox"/> خیر
آیا مقادیر تطبیق می‌کند؟	<input type="checkbox"/> بلی <input type="checkbox"/> خیر	<input type="checkbox"/> بلی <input type="checkbox"/> خیر	<input type="checkbox"/> بلی <input type="checkbox"/> خیر	

- ۱۶ در صورتی که تفاوتی بین جریان‌ها وجود دارد علت تفاوت را توضیح دهید.
- تغذیه را روی ۱۲ ولت بگذارید. (انتخاب تغذیه مدار می‌تواند با توجه به شرایط مدار تغییر کند).



شکل ۱-۹۲- بررسی مدارهای موازی

- ۲۹- ۱- کار عملی ۱۱: مدارهای موازی
- هدف: بررسی عملی مدارهای موازی با استفاده از نرم‌افزار و سخت‌افزار
- ۱ مواد ابزار و تجهیزات لازم: مقاومت یک چهارم یا یک دوم وات دو عدد (انتخاب مقاومت‌ها با توجه به امکانات اختیاری است) - مولتی‌متر دیجیتالی یک دستگاه - رایانه مجهز به اینترنت - منبع تغذیه DC یک دستگاه - نرم‌افزار مولتی‌سیم (یا نرم‌افزار مشابه دیگر) - راهنمای کاربرد دستگاه‌ها - سیم رابط - پرد بُرد
- مراحل اجرای کار
- ۲ مدار شکل ۱-۹۲ را در نرم‌افزار مولتی‌سیم ببینید و ولتاژ

- ۳ مقدار ولتاژ دو سر هر یک از مقاومت‌ها را در نرم‌افزار اندازه بگیرید و مقادیر را در جدول ۱-۹ یادداشت کنید.
- ۴ مقادیر جریان‌ها را در نرم‌افزار اندازه بگیرید و در جدول ۱-۹ یادداشت کنید.

جدول ۱-۹

شماره مقاومت	اندازه‌گیری ولتاژها با نرم‌افزار	اندازه‌گیری ولتاژها با مولتی‌متر	اندازه‌گیری جریان‌ها با مولتی‌متر	محاسبه مقدار مقاومت‌ها با استفاده از ولتاژ و جریان	آیا مقادیر تطبیق می‌کند؟
$R_1$					<input type="checkbox"/> بلی <input type="checkbox"/> خیر
$R_2$					<input type="checkbox"/> بلی <input type="checkbox"/> خیر
$R_T$					<input type="checkbox"/> بلی <input type="checkbox"/> خیر



۵ در صورت نیاز دفترچه راهنمای منبع تغذیه DC و دفترچه راهنمای مولتی متر را مطالعه کنید.

۶ بارعایت نکات ایمنی و انتخاب حوزه کار مناسب مولتی متر را برای اندازه گیری ولتاژ تنظیم کنید.

۷ مدار شکل ۹۲-۱ را با استفاده از منبع تغذیه روی برد بُرد ببندید.

۸ با استفاده از مولتی متر ولتاژ دوسر هر یک از مقاومت را اندازه بگیرید و مقادیر را در جدول ۹-۱ یادداشت کنید.

۹ با استفاده از مولتی متر جریان های عبوری از هر یک از مقاومت ها و جریان کل را اندازه بگیرید و مقادیر را در جدول ۹-۱ یادداشت کنید.

۱۰ مقادیر درج شده در جدول را با هم مقایسه کنید و نتایج را در ستون مربوطه در جدول ۹-۱ درج کنید.

۱۱ در صورتی که تفاوتی وجود دارد علت را توضیح دهید.

۱۲ با استفاده از قانون اهم و مدارهای موازی، مقدار جریان مدار را محاسبه کنید و مقادیر را در جدول ۱۰-۱ یادداشت کنید.

۱۳ مقادیر جریان های اندازه گیری شده در نرم افزار و با استفاده از مولتی متر را از جدول ۹-۱ استخراج و در جدول ۱۰-۱ درج کنید.

جدول ۱۰-۱

کمیت	$I_{R1}$	$I_{R2}$	$I_T$	آیا مقادیر تطبیق می کند؟
I (محاسبه)				<input type="checkbox"/> بلی <input type="checkbox"/> خیر
I (نرم افزار)				<input type="checkbox"/> بلی <input type="checkbox"/> خیر
I (مولتی متر)				<input type="checkbox"/> بلی <input type="checkbox"/> خیر
آیا مقادیر تطبیق می کند؟	<input type="checkbox"/> بلی <input type="checkbox"/> خیر	<input type="checkbox"/> بلی <input type="checkbox"/> خیر	<input type="checkbox"/> بلی <input type="checkbox"/> خیر	

را می توان توسط عوامل مختلف مانند تغییر مکان مکانیکی (متغیر معمولی)، نور (تابع نور) و حرارت تغییر داد.



فیلم مقاومت های متغیر را ببینید و با اصول کار آنها آشنا شوید.

**مقاومت متغیر معمولی:** مقاومت های متغیر معمولی مقاومت هایی هستند که مقدار مقاومت آنها را می توان با تغییر مکان یا تغییر زاویه محور متحرکی که دارند تنظیم کرد. در شکل ۹۳-۱ چند نمونه مقاومت متغیر معمولی با محور دوار و کشویی را ملاحظه می کنید. مقدار این مقاومت ها را معمولاً روی آن می نویسند. اطلاعات مربوط به این مقاومت ها در برگه اطلاعات آن داده می شود.

۱۴ مقادیر جریان ها در جدول ۱۰-۱ را با هم مقایسه کنید و نتایج را در ردیف مربوطه درج کنید.

۱۵ در صورتی که تفاوتی بین جریان ها وجود دارد، علت را توضیح دهید.

۳۰-۱ مقاومت های متغیر (Variable resistors):  
مقاومت های متغیر مقاومت هایی هستند که مقدار مقاومت آنها



بحث کنید

حروف اختصاری PTC و NTC مخفف چه کلماتی است؟ چه مفهومی دارد؟  
مقاومت‌های تابع حرارت چه کاربردی دارد؟

### مقاومت وابسته به نور (فتورزیستور — LDR) :

مقدار مقاومت تابع نور (LDR) وابسته به شدت نور تابیده شده به آن است. هر قدر شدت نور بیشتر شود مقدار مقاومت فتورزیستور کاهش می‌یابد. در شکل ۹۵-۱ یک نمونه مقاومت تابع نور و نماد آن را مشاهده می‌کنید. مقدار این مقاومت‌ها را روی آن می‌نویسند یا با کد «عدد-حرف» یا «کد رنگی» مشخص می‌کنند.



شکل ۹۵-۱- مقاومت تابع نور و نماد آن

### مقاومت وابسته به ولتاژ (وارزیستور — varistor) :

مقاومت‌های متغیری هستند که مقدار مقاومت آنها به ازای ولتاژهای مختلف ثابت نیست و تغییر می‌کند. در این نوع مقاومت‌ها که به VDR معروف هستند، هر قدر ولتاژ داده شده بیشتر شود، مقدار مقاومت کاهش می‌یابد. شکل ۹۶-۱ چند نمونه مقاومت تابع ولتاژ و نماد آن را مشاهده می‌کنید. مقدار این مقاومت‌ها را روی آن می‌نویسند یا با کد «عدد-حرف» یا «کد رنگی» مشخص می‌کنند.



شکل ۹۶-۱- چند نمونه مقاومت‌های تابع ولتاژ و نماد آن



شکل ۹۳-۱- چند نمونه مقاومت‌های متغیر معمولی با محور دوار و کشویی

درباره datasheet مقاومت‌های متغیر معمولی پژوهش کنید و نمونه‌ای از آن را از رسانه‌های مجازی بارگیری کنید و پس از ترجمه آن را به کلاس ارائه دهید.

پژوهش



درباره موارد کاربرد مقاومت‌ها گفت و گو کنید و چند مورد کاربرد عملی آنها را در زندگی روزمره بیابید.

بحث کنید



### مقاومت وابسته به حرارت (thermistors) :

این مقاومت‌ها تابع حرارت هستند و تغییرات دما روی مقدار مقاومت آنها اثر می‌گذارد. این نوع مقاومت‌ها در دو نوع PTC و NTC وجود دارند. مقاومت‌های PTC در اثر افزایش حرارت مقدارشان زیاد می‌شود. مقاومت‌های NTC در اثر زیاد شدن حرارت مقدارشان کاهش می‌یابد. در شکل ۹۴-۱ چند نمونه مقاومت تابع حرارت را مشاهده می‌کنید. مقدار این مقاومت‌ها را روی آن می‌نویسند یا با کد «عدد-حرف» یا «کد رنگی» مشخص می‌کنند. این مقاومت‌ها نیز دارای datasheet هستند.



شکل ۹۴-۱- چند نمونه مقاومت‌های تابع حرارت و نماد آن

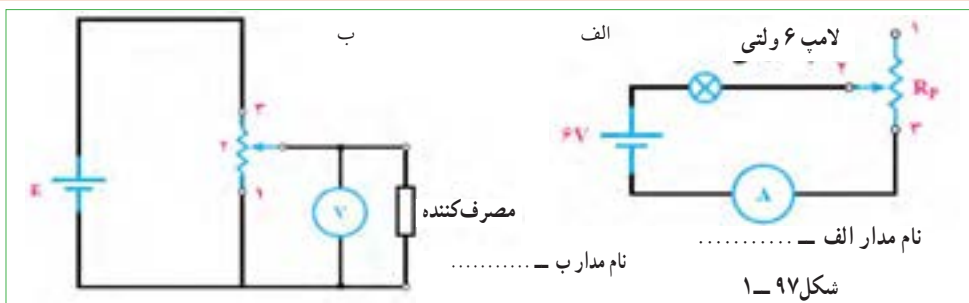
## فعالیت در ساعات غیر درسی

- نام مدارهای شکل ۹۷-۱ چیست؟ و چه کاربردی دارد؟
- در نرم افزارهای مختلف جست و جو کنید و انواع مقاومت های متغیر را بیابید و مشخصات آنها را استخراج کنید. این کتاب آمده است مراجعه کنید.

فیلم عملکرد مقاومت متغیر را در مدار ببینید.

چند نمونه مقاومت متغیر را در اختیار بگیرید و از روی نوشته های آن مشخصات مقاومت ها را به دست آورید.

مدار شکل ۹۷-۱ را روی برد برد ببندید و عملکرد آن را تجربه کنید.



فیلم شارژ و دشارژ خازن را ببینید و نتایج را با آنچه که تا کنون یاد گرفته اید تطبیق دهید.

## خازن (Capacitor)

خازن، قطعه ای (آلمانی) است که انرژی الکتریکی را در خود ذخیره می کند. ساختمان خازن از سه قسمت تشکیل شده است:

الف) صفحات هادی که به آنها جوشن نیز گفته می شود. این صفحات معمولاً ورقه هایی نازک از جنس آلومینیوم، روی یا نقره هستند.

ب) عایق بین صفحات هادی که به آن دی الکتریک نیز گفته می شود. معمولاً خازن ها از نظر دی الکتریک به کار رفته در ساختمان آنها تقسیم بندی می شوند.

پ) پایه های اتصال خازن پایه هایی هستند که به جوشن ها اتصال دارند.

**ظرفیت خازن:** توانایی ذخیره بار الکتریکی در خازن را ظرفیت خازن می نامند و آن را با حرف C نمایش می دهند. مقدار ظرفیت خازن را بر حسب فاراد (Farad) می سنجند.

چون فاراد ظرفیت بزرگی است از واحدهای کوچکتر شامل میلی فاراد (mF)، میکرو فاراد (μF)، نانو فاراد، (nF) و پیکو فاراد (pF) استفاده می کنند و مقدار آن را با روش های مختلف روی بدنه خازن می نویسند.

**ولتاژ کار (Working voltage wv):** ماکزیمم ولتاژی را که به دو سر خازن اعمال می شود تا مولکول های عایق درون خازن شکسته نشوند، ولتاژ کار می نامند. معمولاً ولتاژ کار خازن همراه با ظرفیت آن روی بدنه نوشته می شود. خازن ها در انواع الکترولیتی، کاغذی، سرامیکی، پلی استر و تانتالیوم ساخته می شوند.

خازن های الکترولیتی اکثراً دارای قطب مثبت و منفی هستند؛ بنابراین باید توجه داشت که در حین کار، دو قطب آنها جابه جا نصب نشود. در صورت اشتباه متصل کردن دو قطب خازن الکترولیتی، واکنش های الکتروشیمیایی درون خازن روی می دهد و خازن معیوب می شود. در شکل ۹۸-۱ چند نمونه خازن را مشاهده می کنید.

فیلم ۱۵



الگوی پرسش

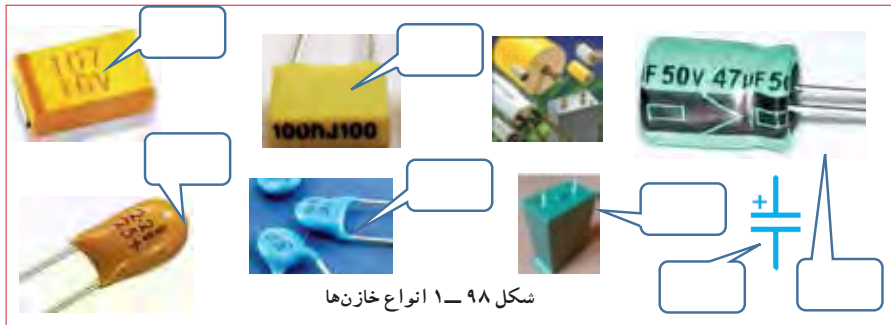


تمرین عملی



فیلم ۱۶





شکل ۹۸-۱ انواع خازن‌ها

پژوهش



با مراجعه به فضای مجازی و بارگیری انواع dataset های خازن‌ها، نوع خازن‌های شکل ۹۸-۱ را مشخص کنید. می‌توانید از منابع ذکر شده در مباحث قبل نیز استفاده کنید.


شکل الف - ۹۹-۱ سری شود با توجه به مقدار ظرفیت خازن و مقدار اهمی مقاومت، پس از اتصال تغذیه، مدت زمانی طول می‌کشد تا ولتاژ دو سر خازن به اندازه ولتاژ تغذیه شود و جریان مدار به صفر برسد. در این حالت می‌گویند خازن بعد از ۵ ثابت زمانی (RC) شارژ شده است. هر ثابت زمانی عبارت از مدت زمانی است که خازن به اندازه ۶۳/۲۵ درصد ولتاژ منبع یا ولتاژ باقی مانده شارژ می‌شود. شدن خازن از تابع نمایی شکل ب- ۹۹-۱ تبعیت می‌کند.

ظرفیت خازن را با دستگاهی به نام LCR متر اندازه می‌گیرند. در واحد یادگیری ۲ از این دستگاه استفاده خواهیم کرد.

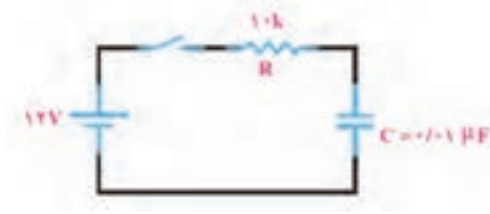
**عملکرد خازن در جریان الکتریکی DC:** با اتصال ولتاژ DC به خازن، در لحظه اتصال، خازن به صورت اتصال کوتاه عمل می‌کند و بیشترین جریان از مدار می‌گذرد. پس از مدت زمان کوتاهی ولتاژ دو سر خازن به اندازه ولتاژ تغذیه می‌شود و جریان مدار به صفر می‌رسد. این حالت را حالت گذرا یا transient می‌نامند. در صورتی که مقاومتی با مدار طبق

درباره کاربرد خازن پژوهش کنید و نتیجه را به کلاس ارائه دهید.

پژوهش



ب - منحنی شارژ خازن در DC



الف - مدار RC سری در جریان مستقیم

شکل ۹۹-۱-۱ شارژ خازن در جریان مستقیم

یاد آور می‌شود که اگر روی خازنی عدد کوچک‌تر از یک (مثلاً ۰.۱٪) بدون ذکر واحد نوشته شده باشد مقدار ظرفیت برحسب میکرو فاراد است. همچنین اگر عدد ظرفیت عددی دورقمی (مثلاً ۴۷) یا رمز عددی (مثلاً ۱۰۳) باشد مقدار ظرفیت بر حسب پیکوفاراد است.

خواندن خازن‌ها: خواندن مقادیر خازن‌ها تا حدود زیادی مشابه مقاومت‌ها است و با سه روش، نوشتن مقدار روی خازن، کد «عدد - حرف» و کد رنگی مشخص می‌شود. برای فراگیری چگونگی خواندن خازن‌ها به مبحث مقاومت‌ها مراجعه کنید.



برای ولتاژ کار این نوع خازن‌ها ممکن است حروفی بعد از کد ظرفیت نیز نوشته شود، در هر صورت باید برای تعیین ولتاژ کار به برگه اطلاعات خازن مراجعه کنید.

### ۳۲-۱- کار عملی ۱۲: خواندن مقادیر خازن و مقاومت متغیر

**هدف:** خواندن خازن و مقاومت‌های متغیر با استفاده از نرم افزار و قطعات واقعی

**مواد ابزار و تجهیزات لازم:** انواع خازن‌ها و مقاومت‌های متغیر، از هر نمونه دو عدد - نرم افزار electronic assistant (یا نرم افزار مشابه دیگر) - نرم افزار ادیسون.

**۱** مقاومت‌های متغیر و خازن‌ها را در اختیار بگیرید و مقادیر **۱۱-۱** با استفاده کنید.

**۲** با استفاده از نرم افزارهای ادیسون و electronic assistant یا هر نرم افزار دیگر دو نمونه خازن و دو نمونه مقاومت متغیر را پیدا کنید و مقادیر را در جدول ۱۱-۱ یادداشت کنید.

جدول ۱۱-۱

قطعه	مقادیر از روی قطعه واقعی	مقادیر در نرم افزار	آیا مقادیر تطبیق می‌کند؟
C <sub>۱</sub>			<input type="checkbox"/> بلی <input type="checkbox"/> خیر
C <sub>۲</sub>			<input type="checkbox"/> بلی <input type="checkbox"/> خیر
P <sub>۱</sub>			<input type="checkbox"/> بلی <input type="checkbox"/> خیر
P <sub>۲</sub>			<input type="checkbox"/> بلی <input type="checkbox"/> خیر

**۳** مقادیر را باهم مقایسه کنید و نتیجه را بنویسید.

**۴** خازن‌ها ممکن است اتصال کوتاه، قطع یا نشستی شوند. با استفاده از مولتی متر می‌توانید فقط اتصال کوتاه شدن خازن را تشخیص دهید. یک عدد خازن اتصال کوتاه شده را با مولتی متر آزمایش کنید. قطع شدن یا نشستی شدن خازن فقط با دستگاه LCR متر قابل تشخیص است.

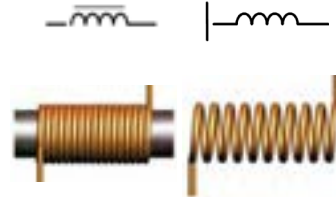


در مورد خازن‌ها به صورت سری و موازی پژوهش کنید و نتایج را به کلاس ارائه دهید.

فیلم شارژ و دشارژ سیم پیچ را ببینید و نتایج را با آنچه که تا کنون یاد گرفته‌اید تطبیق دهید.



### ۳۳-۱- سیم پیچ (سلف - inductor)

از پیچیدن چند دور سیم در کنار هم، یا روی هم، سیم پیچ یا سلف ساخته می‌شود. یک سلف را با اسامی دیگر، مانند بوبین، پیچه، خود القا و چوک (سولونوئید) نیز نام گذاری می‌کنند. یک سلف ممکن است دارای هسته یا بدون هسته باشد، شکل ب و الف - ۱۰-۱. سیم پیچ دارای خاصیت القایی است که آن را با ضریب خود القایی L نشان می‌دهند. واحد ضریب خود القایی هانری (H) و اجزای آن میلی هانری و میکروهانری است. ضریب خود القایی را با دستگاهی به نام LCR متر اندازه می‌گیرند. در واحد یادگیری ۲ از این دستگاه استفاده خواهیم کرد.



ت - منحنی شارژ سیم پیچ در DC

ب - مدار RL سری در جریان

الف - سیم پیچ بدون هسته و نماد آن  
ب - سیم پیچ با هسته و نماد آن

شکل ۱۰-۱ - ساختمان سیم پیچ و رفتار آن در جریان مستقیم (DC)

مقاومتی با مدار طبق شکل پ-۱۰۰-۱ سری شود مدت زمانی طول می کشد تا جریان به مقدار بیشینه برسد. در این حالت می گویند سلف بعد از ۵ ثابت زمانی  $(\frac{5L}{R})$  شارژ می شود. شارژ شدن سیم پیچ از تابع نمایی شکل ت - ۱۰۰-۱ تبعیت می کند.

**عملکرد سلف در جریان الکتریکی DC:** چون مقاومت سیم پیچ بسیار کم است، با اتصال ولتاژ DC به آن به صورت اتصال کوتاه عمل می کند ولی مدت زمان کوتاهی طول می کشد تا جریان مدار به بیشترین حد خود برسد. این حالت را حالت گذرا یا transient می نامند. در صورتی که

درباره کاربرد ضریب خود القایی پژوهش کنید و نتیجه را به کلاس ارائه دهید.

پژوهش



مواد، ابزار و تجهیزات لازم

انواع سیم پیچ ها از هر نمونه دوعدد - نرم افزار electronic assistant، (یا نرم افزار مشابه دیگر) - نرم افزار ادیسون.

مراحل اجرای کار

۱ چهار عدد سیم پیچ را در اختیار بگیرید و مقادیر آنها را با توجه به کد رنگی مقاومت ها بخوانید و مقادیر را در جدول ۱-۱۲ یادداشت کنید.

**خواندن سیم پیچ ها:** خواندن سلف تا حدود زیادی مشابه مقاومت ها است و با سه روش مقدار روی سیم پیچ، کد «عدد - حرف» و کد رنگی مشخص می کنند. برای فراگیری کد رنگی سیم پیچ ها به مبحث مقاومت ها مراجعه کنید.

۳۴-۱- کار عملی ۱۳: سیم پیچ

هدف: خواندن مقادیر سیم پیچ

جدول ۱-۱۲

شماره سیم پیچ	مقادیر از روی قطعه واقعی	مقادیر در نرم افزار	آیا مقادیر تطبیق می کند؟
L <sub>۱</sub>			<input type="checkbox"/> بلی <input type="checkbox"/> خیر
L <sub>۲</sub>			<input type="checkbox"/> بلی <input type="checkbox"/> خیر
L <sub>۳</sub>			<input type="checkbox"/> بلی <input type="checkbox"/> خیر
L <sub>۴</sub>			<input type="checkbox"/> بلی <input type="checkbox"/> خیر

پژوهش

در مورد سیم پیچ ها به صورت سری و موازی پژوهش کنید و نتایج را به کلاس ارائه دهید.

۲ با استفاده از نرم افزار electronic assistant یا هر نرم افزار دیگر چند نمونه سیم پیچ را بخوانید و مقادیر را یادداشت کنید.

۳ مقادیر را باهم مقایسه کنید و نتیجه را بنویسید.

۳۵-۱- الگوی آزمون نظری پایان واحد کار

- ۱ بارهای همنام یکدیگر را ..... و بارهای غیر همنام یکدیگر را ..... می کنند.
- ۲ اجسام از طریق ..... و ..... بردار می شوند.
- ۳ EMF مخفف کلمات انگلیسی ..... است.
- ۴ خاصیت ابرسانایی در دمای ..... در اجسام رخ می دهد و در این حالت مقاومت جسم ..... می شود.

۵ در مقطع سیمی بار الکتریکی  $5 \times 10^{-6}$  کولن در مدت  $10^{-3}$  ثانیه

جا به جا می شود. جریان عبوری را محاسبه کنید؟

۶  $47 \mu$  میلی آمپر چند میکرو آمپر است؟

(۱)  $47 \times 10^{-6}$       (۲)  $47 \times 10^{-3}$

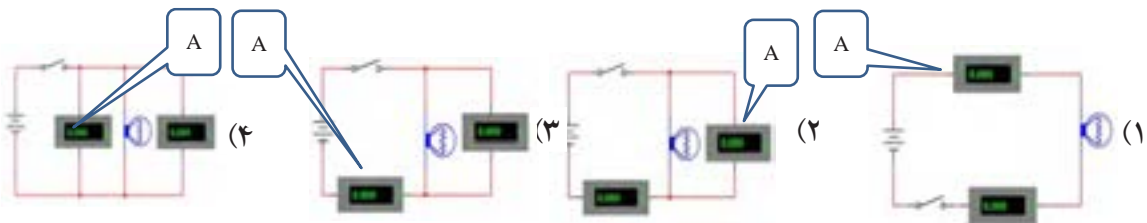
(۳)  $47 \times 10^1$       (۴)  $47 \times 10^3$

۷ با توجه به رابطه  $R = \frac{\rho l}{A}$  واحد مقاومت مخصوص کدام گزینه است؟

(۱)  $\frac{m}{\Omega mm}$       (۲)  $\frac{m}{\Omega mm^2}$

(۳)  $\frac{\Omega mm^2}{m}$       (۴)  $\frac{\Omega mm}{m}$

۸ در کدام مدار شکل های ۱-۱-۱ - ۱-۱-۱ ولت متر و آمپر متر درست بسته شده است؟



شکل های ۱-۱-۱

۹ اگر مقطع سیمی  $10^{-6}$  میلی متر مربع و طول آن  $1120$  متر

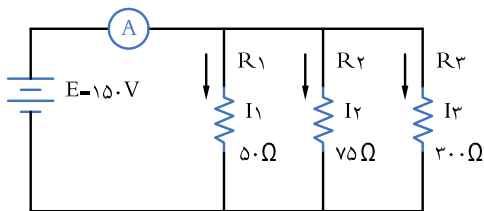
باشد، مقاومت سیم را محاسبه کنید.  $\rho_{Cu} = 56 \frac{m}{\Omega mm^2}$

۱۰ اگر در شکل ۱-۱-۲ ولت متر  $40$  ولت را نشان دهد:

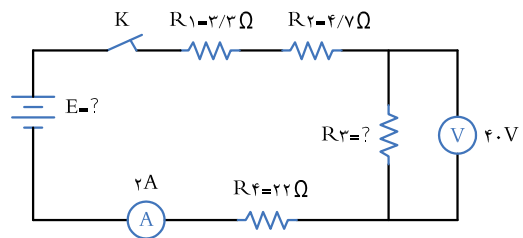
الف) مقدار  $R_3$  چند اهم است؟

ب) مقاومت کل مدار چند اهم است؟

پ) مقدار  $E$  چند ولت است؟



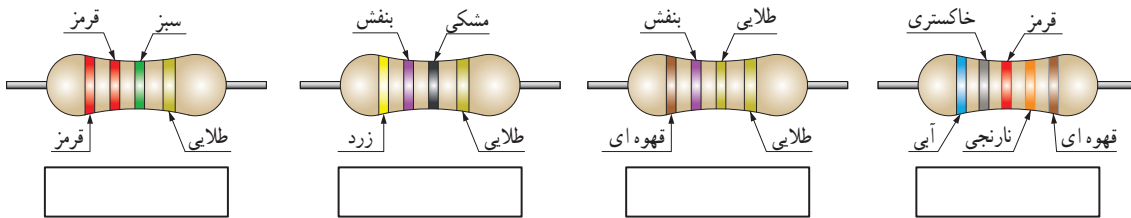
شکل ۱-۱۰۳



شکل ۱-۱۰۲



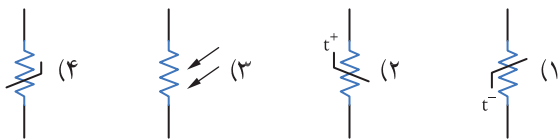
۱۲ در شکل‌های ۱-۱۰۴ مقدار و درصد تolerانس هر مقاومت را بنویسید.



شکل‌های ۱-۱۰۴

۱۵ در شکل‌های ۱-۱۰۷ نماد فنی مقاومت تابع ولتاژ کدام

است؟



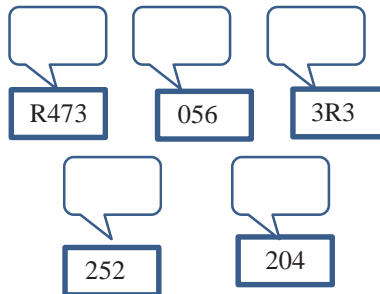
شکل ۱-۱۰۷

۱۶ ظرفیت خازن با کد ۱۰۴ کدام گزینه است؟

- (۱) ۱۰۴ PF
- (۲) ۱۰۰۰۰ μF
- (۳) ۱۰ nF
- (۴) ۱۰۰ nF

۱۳ در شکل‌های ۱-۱۰۵ روی هر مقاومت SMD کدهای


زیر نوشته شده است، مقدار هر مقاومت چند اهم است؟



شکل‌های ۱-۱۰۵

۱۴ در شکل ۱-۱۰۶ کد رنگی و کد عدد حرف را برای

مقاومت با مقدار ۳/۹ کیلو اهم و تolerانس ۵ درصد مشخص کنید.



شکل ۱-۱۰۶

۳۶-۱ الگوی آزمون نرم افزاری و عملی پایان واحد کار:

الگوی آزمون عملی نرم افزاری پایان واحد کار، مشابه کارهای عملی ارائه شده در طول تدریس است.

در ادامه ارزشیابی شایستگی بر اساس استاندارد عملکرد آمده است.

در این ارزشیابی نمره ۳ معادل ۲۰-۱۷، نمره ۲ معادل ۱۷-۱۲ و نمره زیر ۲ مردود است.

## ارزشیابی شایستگی آزمایش قطعات الکترونیکی (مقاومت، خازن و سلف)

### شرح کار:

- ۱- نصب مقاومت‌ها روی بردبرد، تنظیم مولتی‌متر عقربه‌ای یا دیجیتال و اندازه‌گیری دقیق مقدار مقاومت
- ۲- نصب خازن‌ها روی بردبرد، تنظیم پل LCR متر و اندازه‌گیری دقیق مقدار خازن
- ۳- نصب سلف‌ها روی بردبرد، تنظیم پل LCR متر و اندازه‌گیری دقیق مقدار سلف
- ۴- نصب برنامه Electronic Assistant یا مشابه آن روی رایانه و راه‌اندازی نرم‌افزار
- ۵- خواندن مقادیر مقاومت، سلف و خازن با استفاده از نرم‌افزار

### استاندارد عملکرد:

اندازه‌گیری مقادیر مقاومت، خازن و سلف با دقت براساس استانداردهای تعریف شده و خواندن برگه اطلاعاتی

### شاخص‌ها:

- ۱- خواندن صحیح مقدار دو نمونه از هر یک از قطعات مقاومت، خازن و سلف با استفاده از علائم ظاهری و تولرانس  $5\%$  (۱۰ دقیقه)
- ۲- اندازه‌گیری صحیح مقدار دو نمونه از هر یک از قطعات مقاومت، خازن و سلف با استفاده از مولتی‌متر و پل LCR متر (۱۰ دقیقه)
- ۳- اندازه‌گیری کمیته‌ها در مدارهای سری و موازی شامل دو مقاومت با استفاده از مولتی‌متر (۱۰ دقیقه)
- ۴- انطباق اطلاعات مقاومت، سلف و خازن با برگه اطلاعات (DataSheet) یا انتخاب یک قطعه با استفاده از برگه اطلاعات (DataSheet) (۱۰ دقیقه)
- ۵- اندازه‌گیری مقدار ظرفیت معادل دو خازن به صورت سری و موازی و ضریب خودالتقایی دو سلف به صورت سری و موازی توسط LCR متر (۱۰ دقیقه)
- ۶- تشخیص سه قطعه معیوب مقاومت، خازن و سلف از بین ۹ قطعه سالم و معیوب (۲۰ دقیقه)
- ۷- آزمایش و اندازه‌گیری مقاومت متغیر با مولتی‌متر (دو نمونه) (۶ دقیقه)
- ۸- نصب و راه‌اندازی و استفاده از نرم‌افزار (۱۲ دقیقه)

### شرایط انجام کار و ابزار و تجهیزات:

**شرایط:** مکان انجام کار با کف عایق یا آنتی استاتیک - نور مناسب برای کارهای ظریف (مونتاز کاری) - ابعاد حداقل ۶ مترمربع - دارای تهویه یا پنجره - دمای طبیعی ( $27^{\circ}\text{C}$  -  $18^{\circ}\text{C}$ ) و مجهز به وسایل اطفای حریق - میز کار استاندارد با ابعاد  $W180 \times D180 \times H80$  مجهز به فیوز حفاظت جان - رایانه متصل به شبکه اینترنت - فرد با لباس کار - انجام کار در حال نشسته - نرم‌افزار خاص - ذره‌بین با بزرگ‌نمایی  $10\times$

**ابزار و تجهیزات:** مقاومت‌های ساده (TH و SMD) - مقاومت‌های متغیر - انواع خازن - انواع سلف - ابزار عمومی برق یا الکترونیک - جداول استاندارد - LCR متر - لوازم التحریر - سیم‌های رابط - فرهنگ لغات (انگلیسی به فارسی) - پردبرد - رایانه

### معیار شایستگی:

ردیف	مرحله کار	حداقل نمره دریافتی	نمره هنرجو
۱	اندازه‌گیری مقاومت‌های ثابت	۲	
۲	اندازه‌گیری مقاومت‌های متغیر	۲	
۳	اندازه‌گیری ظرفیت خازن‌های ثابت و متغیر	۲	
۴	اندازه‌گیری ضریب خودالتقایی سلف	۲	
۵	استفاده از نرم‌افزارهای مرتبط برای بندهای ۱ تا ۴	۱	
	شایستگی‌های غیر فنی، ایمنی، بهداشت، توجهات زیست محیطی و نگرش:	۲	
	۱- رعایت نکات ایمنی دستگاه‌ها ۲- دقت و تمرکز در اجرای کار ۳- شایستگی تفکر و یادگیری مادام‌العمر ۴- اخلاق حرفه‌ای		
	میانگین نمرات		*

\* حداقل میانگین نمرات هنرجو برای قبولی و کسب شایستگی، ۲ می‌باشد.

رشته: الکترونیک درس: عرضه تخصصی قطعات الکتریکی و الکترونیکی واحد یادگیری: ۱



## واحد یادگیری ۲

### شایستگی پیچیدن سیم پیچ یا بوبین

آیا تا به حال پی برده‌اید :

- یکی از قطعات پر کاربرد در صنایع برق و الکترونیک بوبین یا سیم پیچ است؟
- سیم پیچ جریان DC را از خود عبور می‌دهد و مانع عبور جریان AC می‌شود؟
- در ترانسفورمورها، موتورها، رله‌ها، کنتاکتورها و شارژرها، از سیم پیچ استفاده می‌شود؟
- در کلیه مدارهای مخابراتی حتماً باید از سیم پیچ استفاده شود؟
- اگر سیم پیچ نباشد نمی‌توانیم هیچ موجی را از آنتن تلفن همراه پخش و دریافت کنیم؟
- در مدار لامپ‌های کم مصرف کوچک (CFL = compact flourcent lamp) سیم پیچ نقش اساسی دارد؟

استاندارد عملکرد :

محاسبه و پیچیدن دو نمونه بوبین به صورت دستی و با بوبین پیچ با دقت تولرانس حداکثر ۱۰ درصد.

یکی از قطعات پر کاربرد در صنایع برق و الکترونیک بوبین یا سیم پیچ است. از پیچیدن سیم هادی روپوش دار روی یک استوانه، یک سیم پیچ الکتریکی، بوبین یا سلف شکل می‌گیرد. سیم پیچ‌ها دارای ابعاد و اشکال مختلفی هستند و به دو دسته، سیم پیچ بدون هسته (با هسته هوا) و سیم پیچ با هسته فلزی یا فریت طبقه‌بندی می‌شوند. در این واحد یادگیری به شرح اجزای بوبین، عوامل مؤثر در ضریب خود القا، انواع سیم‌های لاکه و چگونگی پیچیدن می‌پردازیم. در مرحله بعد بوبین را با استفاده از روابط کاربردی محاسبه می‌کنیم و یک نمونه بوبین یک لایه و چند لایه را با رعایت نکات ایمنی و بهداشتی می‌سازیم. در نهایت بوبین‌های ساخته شده را آزمایش و اصلاح می‌کنیم. توجه به مهارت‌های غیر فنی مانند کار گروهی، مسئولیت پذیری، رعایت نظم و ترتیب، توجه به محیط زیست و اخلاق حرفه‌ای از اهمیت ویژه‌ای برخوردار است و در تمام مراحل باید رعایت شود.

مشخصات فضای آموزشی و تجهیزات مربوط به آن و مشخصات فنی تجهیزات کارگاهی و تعداد آن در سند تجهیزات و فضای کارگاهی آمده است.

## ۱-۲- مواد، تجهیزات و ابزار مورد نیاز

ابزار عمومی برق یا الکترونیک - لوازم التحریر - میز کار با برق - چسب کاغذی - LCR متر دیجیتالی - میکرومتر یا کولیس - کاتر - بوبین پیچ - جداول استاندارد مرتبط - ابزار عمومی لحیم کاری - وارنیش - سیم افشان - لباس کار - رایانه - انواع سیم لاکه - هسته فریت و آهن - قرقره در ابعاد مختلف متناسب با برنامه آموزشی.

## ۲-۲- ساختمان بوبین

از پیچیدن سیم‌های روپوش‌دار روی یک استوانه، یک سیم پیچ الکتریکی، بوبین یا سلف ساخته می‌شود. از بوبین برای ایجاد خودالقایی در مدارها استفاده می‌کنند. سیم پیچ‌ها دارای ابعاد و اشکال مختلفی هستند، ولی می‌توان آنها را به دو دسته کلی طبقه‌بندی کرد؛

الف) سیم پیچ بدون هسته (با هسته هوا)

ب) سیم پیچ با هسته فلزی یا فریت

در سیم پیچ بدون هسته، سیم را روی لوله‌های عایق، مانند مقوا یا پلاستیک، می‌پیچند. این لوله‌ها که قرقره نام دارند فقط برای حفظ و نگهداری سیم پیچ مورد استفاده قرار می‌گیرند. سلف‌ها با خودالقایی زیاد، اگر بدون هسته (با هسته هوا) ساخته شوند ابعاد آنها بزرگ می‌شود، بنابراین بهتر است آنها را با هسته فلزی بسازند، در این مورد هسته مناسب، به خصوص در صنعت الکترونیک فریت‌ها هستند. در شکل ۱-۲ تعدادی از سلف‌ها و ترانسفورماتورها، نشان داده شده‌اند.



شکل ۱-۲- نمونه‌هایی از سلف‌ها، ترانسفورماتورهای کوچک با هسته فریت و شیر برقی

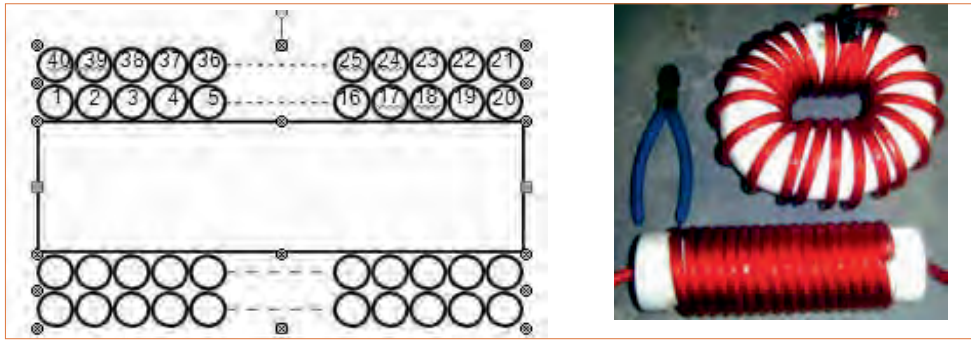
## ۳-۲- چگونگی پیچیدن بوبین

پیچیدن سیم روی هسته معمولاً به دو صورت یک لایه و چند لایه انجام می‌شود.

**الف) سیم پیچ یک لایه:** در این نوع سیم پیچ بر روی یک قرقره یا بر روی هسته استوانه‌ای شکل سیم را به طور منظم می‌پیچند. شکل ۲-۲ دو بوبین یک لایه را نشان می‌دهد.

**ب) سیم پیچ چند لایه:** اگر بوبین با خودالقایی زیاد احتیاج باشد، از سیم پیچ چند لایه استفاده می‌کنیم. پیچیدن سیم پیچ چند لایه روش‌های مختلفی دارد. شکل ۳-۲ یک سیم پیچ

دو لایه را که به صورت معمولی پیچیده شده است، نشان می‌دهد. می‌دانیم وجود دوهادی و یک عایق بین آنها یک خازن را شکل می‌دهد. چنانچه دو سیم عایق‌دار در کنار هم قرار گیرند نیز تشکیل یک خازن می‌دهند. این ظرفیت‌های خازنی را خازن‌های پراکنده می‌گویند. در سیم پیچ‌ها به دلیل قرار گرفتن سیم‌ها در کنار یا روی یکدیگر خازن‌های پراکنده شکل می‌گیرد. برای کاهش ظرفیت خازن‌های پراکنده در سیم پیچ، می‌توان از روش پیچیدن مستقیم بر روی هم




شکل ۳-۲- بوبین چندلایه

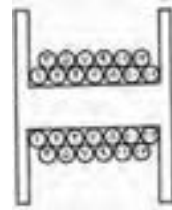
شکل ۲-۲- بوبین یک لایه

روش رایج برای کاهش ظرفیت خازن‌های پراکنده، پیچیدن سیم پیچ چند لایه به روش یونیورسال یا لانه زنبوری است، شکل ۶-۲ نمونه‌ای از سیم پیچ ساخته شده با این روش را نشان می‌دهد.

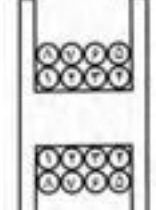
مطابق شکل ۴-۲ استفاده کرد. برای کاهش بیشتر ظرفیت خازن‌های پراکنده از روشی مطابق شکل ۵-۲ استفاده می‌کنند. البته پیچیدن سیم پیچ با این روش بسیار مشکل است.



شکل ۶-۲- سیم پیچ چندلایه با روش لانه زنبوری



شکل ۵-۲- نوع دیگری از بوبین چندلایه



شکل ۴-۲- پیچیدن سیم‌ها روی هم

به نحوه پیچیدن سیم‌ها روی قرقره توجه کنید. با این روش ظرفیت خازن‌های پراکنده کاهش می‌یابد.



پژوهش

با مراجعه به منابع مختلف و سایت‌های رایانه‌ای، پژوهشی در زمینه چگونگی پیچیدن بوبین چندلایه با روش لانه زنبوری تهیه کنید و آن را به کلاس ارائه دهید.

فیلم انواع بوبین‌ها را مشاهده کنید.

فیلم ۱



سیم پیچ چندلایه با روش لانه زنبوری را چگونه می‌پیچند؟

فکر کنید



فیلم خازن‌های پراکنده را مشاهده کنید.

فیلم ۲



۴ - ۲ عوامل مؤثر بر ضریب خودالقایی بوبین با هسته هوا :

اندوکتانس یا ضریب خودالقایی بوبین به عوامل زیر بستگی دارد :


الف) قطر قرقره (D)

ب) طول مفید سیم پیچ (l)

پ) تعداد دور سیم پیچ (N)

ت) قطر سیم مورد استفاده (d)

شکل ۷-۲ یک بوبین یک لایه را با عوامل مؤثر بر ضریب خودالقایی بوبین نشان می دهد. علاوه بر عوامل ذکر شده جنس هسته نیز به طور مؤثری روی ضریب خودالقایی بوبین اثر می گذارد که در ادامه درباره آن بحث خواهیم کرد.



شکل ۷-۲ عوامل مؤثر بر ضریب خودالقایی بوبین

به منابع معتبر مراجعه کنید و در مورد پویانمایی تعاملی که عوامل مؤثر بر ضریب خودالقایی بوبین یک لایه را نشان می دهد پژوهش کنید و در صورت موجود بودن، آن را بارگیری کنید و با تغییر هر عامل اثر آن را روی ضریب خودالقایی (L) مشاهده کنید.

پژوهش



۵ - ۲ رابطه محاسبه ضریب خودالقایی بوبین با در دست داشتن عوامل مؤثر بر ضریب خودالقایی بوبین می توانیم ضریب خودالقایی بوبین را محاسبه کنیم. برای محاسبه یک بوبین یک لایه منظم با هسته هوا، از این رابطه استفاده می شود. در این رابطه L ضریب خودالقایی بوبین

برحسب میکروهانری، D قطر قرقره برحسب سانتی متر، l طول سیم پیچ برحسب سانتی متر و N تعداد دور سیم پیچ است. همان طور که ملاحظه می شود ضریب خودالقایی نسبت مستقیم با قطر قرقره و تعداد دور سیم پیچ و نسبت معکوس با طول مفید سیم پیچ دارد.

$$L = \frac{0.8 D^2 N^2}{3D + 9l} \quad (\text{ضریب خود القایی})$$

بارش فکری

توسعه پایدار را شرح دهید، چگونه می توان توسعه پایدار را عملاً به اجرا در آورد؟

الگوی پرسش

اگر تعداد دور بوبین دو برابر، قطر آن نصف و طول آن چهار برابر شود ضریب خودالقایی آن چند برابر می شود؟

نکته

توجه داشته باشید که برای محاسبه بوبین از نرم افزار خاص مرتبط استفاده می شود که در قسمت های بعدی درباره آن صحبت خواهیم کرد.

فعالیت

یک عدد بوبین با هسته هوا مستعمل و از رده خارج شده را در اختیار بگیرید و با ابزارهای مناسب مانند سیم چین، انبردست، اره آهن بر و پیچ گوشتی آن را برش دهید و نتایج یافته های خود را با آموخته های خود مقایسه کنید. این فعالیت را با بوبین با هسته فلزی تکرار کنید. در مورد این فعالیت به طور خلاصه به کلاس گزارش دهید.



## ۶-۲- سیم‌ها و کابل‌ها

سیم‌ها و یا هادی‌های مورد استفاده در سیم‌کشی ساختمان برای انتقال جریان الکتریکی به مصرف‌کننده‌ها و محل‌های مختلف و همچنین ارتباط بین دستگاه‌های الکتریکی می‌باشند. در ساختمان آنها از یک‌هادی خوب که معمولاً مس و یا آلومینیوم است، استفاده می‌شود. نمونه‌هایی از سیم‌ها را در شکل ۸-۲ مشاهده می‌کنید.



شکل ۸-۲- نمونه‌هایی از سیم‌های الکتریکی

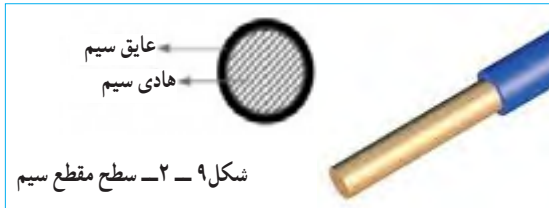
**ساختمان سیم‌ها:** سیم‌ها از دو قسمت هادی و عایق تشکیل شده‌اند. جنس هادی سیم‌ها معمولاً از مس یا آلومینیوم است. ولی از مس به خاطر حجم کم و هدایت بهتر بیشتر استفاده می‌شود. عایق سیم، از یک ماده پلاستیکی یا لاستیکی است که به صورت لایه‌ای روی هادی سیم را می‌پوشاند.

چرا سیم‌ها دارای عایق هستند؟ چند عایق را که می‌شناسید نام ببرید. عایق سیم‌ها چه تفاوتی با هم دارند؟

الگوی پرسش



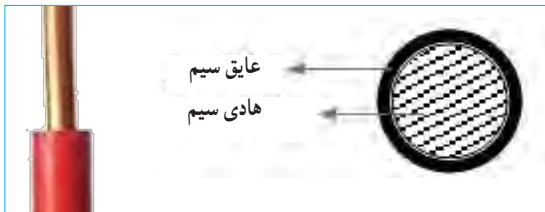
**ابعاد فیزیکی سیم‌ها:** برای مقایسه ابعاد فیزیکی سیم‌ها از واحدهای استاندارد استفاده می‌شود. اندازه فیزیکی سیم‌های مورد استفاده در سیم‌کشی ساختمان که سیم‌های روکش‌دار از جنس پلاستیک می‌باشند، برحسب  $\text{mm}^2$  بیان می‌شود. مثلاً منظور از سیم ۱/۵ یعنی سیمی که سطح مقطع آن  $1/5 \text{mm}^2$  است، شکل ۹-۲ سطح مقطع سیم را نشان می‌دهد.



شکل ۹-۲- سطح مقطع سیم

**سیم‌های مورد استفاده در سیم‌کشی ساختمان:** در سیم‌کشی ساختمان سه نوع سیم به شرح زیر استفاده می‌شود:

**سیم‌های مفتولی یا استخوانی یا سیم‌های خشک:** انعطاف‌پذیری این سیم نسبت به دو سیم دیگر (نیمه‌افشان و افشان) کمتر است. موارد کاربرد سیم‌های مفتولی برای مصرف در تابلوهای برق و تأسیساتی که به طور ثابت نصب می‌شوند و در نقاط خشک در داخل لوله، روی دیوار، داخل دیوار و خارج از آن با استفاده از مقره می‌باشد. سیم‌های مفتولی در حلقه‌های  $100^\circ$  متری با عایق به رنگ‌های مختلف در بازار به مصرف‌کننده‌ها عرضه می‌شود. در شکل ۱۰-۲ تصویر ظاهری سطح مقطع سیم مفتولی را مشاهده می‌کنید.



شکل ۱۰-۲- تصویر سطح مقطع سیم مفتولی

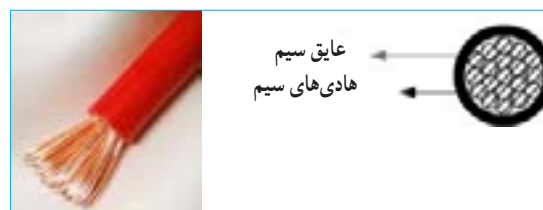
**سیم‌های نیمه‌افشان:** ساختمان این سیم شبیه سیم مفتولی است یعنی از تعداد محدودی رشته سیم با پوششی از PVC به عنوان عایق تشکیل شده است. ولتاژ نامی این سیم  $50^\circ/45^\circ$  ولت است. زمینه کاربرد این سیم شبیه سیم مفتولی بوده و در مواردی که به انعطاف بیشتری نسبت به سیم مفتولی نیاز است، از سیم نیمه‌افشان استفاده می‌شود. در شکل ۱۱-۲ تصویر ظاهری سطح مقطع سیم نیمه‌افشان آمده است. سیم‌های نیمه‌افشان از تعدادی سیم مفتولی با مقطع کوچک‌تر شکل می‌گیرند.



شکل ۱۱ - ۲ - سطح مقطع سیم نیمه افشان

سیم‌های روشنایی را نشان می‌دهد. این سیم‌ها براساس سطح مقطع طبقه‌بندی می‌شوند. برای مدارهای الکتریکی سیم‌ها براساس مقدار جریانی که می‌توانند تحمل کنند، انتخاب می‌شوند. در انتخاب سیم‌ها معمولاً دو محدودیت وجود دارد. اولین محدودیت، محدودیت مکانی است که به طریقی به محدودیت اقتصادی نیز مربوط می‌شود، به عبارت دیگر سیم مصرفی باید حداقل فضا را اشغال کند و از نظر اقتصادی مقرون به صرفه باشد. دومین محدودیت آن تحمل جریان الکتریکی است. بدیهی است که اگر به خاطر مسائل اقتصادی، سیم با مقطع کمتری انتخاب شود، جریان مدار را تحمل نمی‌کند و می‌سوزد. بنابراین لازم است مقطع انتخاب شده، از نظر اقتصادی و تحمل جریان بهینه باشد. برای این منظور جداول

**سیم‌های افشان یا رشته‌ای:** ساختمان این سیم نیز شبیه سیم‌های مفتولی و نیمه افشان از دو قسمت هادی و عایقی از جنس PVC تشکیل شده است با این تفاوت که هادی در این نوع سیم‌ها از رشته‌های نازکی از جنس مس می‌باشد. انعطاف‌پذیری این سیم از سیم مفتولی و سیم نیمه افشان بیشتر است. ولتاژ نامی این سیم ۵۰۰/۳۰۰ ولت است. سیم‌های افشان نیز در حلقه‌های ۱۰۰ متری با عایق به رنگ‌های مختلف و با سطح مقطع‌های مختلف در بازار به مصرف‌کننده‌ها عرضه می‌شود. سطح مقطع ظاهری سیم افشان به صورت شکل ۱۲-۲ است.



شکل ۱۲ - ۲ - سطح مقطع سیم افشان



ب - سایر سیم‌های روکش‌دار

شکل ۱۳ - ۲ - انواع سیم‌ها

با مراجعه به آیین‌نامه مقررات ملی ساختمان، موارد و کاربرد سیم‌های مفتولی، افشان و نیمه افشان را بیابید و نتایج را به کلاس عرضه کنید.

**۲-۷ - طبقه‌بندی سیم‌ها با توجه به قطر و سطح مقطع**  
سیم‌های مورد استفاده در صنایع الکتریکی معمولاً از جنس مس یا آلومینیوم ساخته می‌شوند. سیم‌های لاکی که داخل دستگاه‌های الکتریکی به منظور سیم‌پیچ (الفاگر) به کار می‌روند، با قطر سیم شناسایی می‌شوند. شکل‌های ب و الف - ۱۳ - ۲، سایر سیم‌های ارتباطی از قبیل کابل‌ها و

پژوهش



استانداردی را برای مقطع و مقدار جریانی که سیم‌ها در حالت کار طبیعی می‌توانند تحمل کنند تهیه و در اختیار مصرف کنندگان قرار می‌دهند. جدول ۱-۲ نمونه‌ای از این جداول استاندارد را نشان می‌دهد.

جدول ۱-۲- نمونه‌ای از جداول استاندارد

تعداد دور در هر $cm^2$	مقاومت سیم $\Omega/m$	وزن سیم $gr/m$	سطح مقطع سیم $mm^2$	قطر سیم با لاک $mm$	قطر سیم $mm$
۲۰۰۰	۸/۹۴	۰/۱۹	۰/۰۰۲	۰/۰۶۲	۰/۰۵
۱۵۰۰	۶/۲۱	۰/۲۷	۰/۰۰۲۸	۰/۰۷۵	۰/۰۶
۱۱۰۰	۴/۵۶	۰/۳۷	۰/۰۰۳۹	۰/۰۸۵	۰/۰۷

### پویانمایی

پویانمایی قطر سیم با لاک و بدون لاک و چگونگی قرار گرفتن تعداد مقطع حلقه‌های سیم در یک سانتی متر مربع را مشاهده کنید.

با مراجعه به منابع مختلف از جمله سایت‌های اینترنتی جدول کامل سیم‌های لاک‌ی را که در جدول ۱-۲ آمده است بیابید و چگونگی کاربرد آن را به بحث بگذارید و گزارشی به کلاس ارائه دهید.

پژوهش



فکر کنید



۸-۲- محاسبه شدت جریان عبوری از سیم پیچ یکی از مراحل مهم در طراحی و ساخت بوبین محاسبه جریان مجاز عبوری از سیم پیچ و تعیین قطر سیم است. برای تعیین قطر سیم باید چگالی جریان مجاز عبوری از سیم را داشته باشیم. **چگالی جریان:** شدت جریانی که یک میلی‌متر مربع سطح مقطع هر سیم در کار طبیعی تحمل می‌کند را چگالی جریان می‌گویند. چگالی جریان را با  $J$  نشان می‌دهند. واحد چگالی جریان آمپر بر میلی‌متر مربع ( $\frac{A}{mm^2}$ ) است و از رابطه  $J = \frac{I}{A}$  محاسبه می‌شود. در این رابطه  $I$  شدت جریان عبوری از سیم بر حسب آمپر و  $A$  سطح مقطع سیم مورد نیاز بر حسب میلی‌متر مربع است. چگالی جریان بر حسب آمپر بر میلی‌متر مربع در نظر گرفته می‌شود. در تعیین قطر و سطح مقطع سیم‌ها، داشتن جداول یا منحنی‌هایی که چگالی جریان را نشان بدهند ضروری است. مقدار  $J$  متناسب با توان مورد نیاز برای بوبین تعیین می‌شود. جدول ۲-۲ مقادیر مختلف  $J$  را با توجه به جریان عبوری از سیم پیچ به ما می‌دهد. از آنجا که بوبین‌های مورد نظر ما معمولاً جریان کمی دارند،

- به چه دلیل جریان برق موجب آتش‌سوزی در یک فروشگاه یا منزل مسکونی می‌شود؟
- چرا برق‌کاران ساختمان از سیم‌ها با ضخامت و رنگ‌های متفاوت استفاده می‌کنند؟
- آیا برای اتصال سیم‌ها استاندارد وجود دارد؟ در صورت کوتاه بودن سیم آیا امکان اتصال سیم به قطعه دیگری از سیم وجود دارد؟

هنگام محاسبه جریان سیم برای سیم‌پیچی بوبین باید قطر سیم بدون روکش را در نظر بگیرید، در صورتی که برای محاسبه فضای مورد نیاز باید قطر سیم با روکش در نظر گرفته شود.

در فضای یک سانتی‌متر مربع حدوداً چند رشته سیم لاک‌ی با قطر  $0.5$  میلی‌متر جای می‌گیرد؟ محاسبه کنید.

نکته



لگوی پرسش



انتخاب سیم پیچ با توان تا ۵۰ وات و با چگالی جریان ۴ آمپر بر میلی متر مربع کفایت می کند.

جدول ۲-۲ رابطه چگالی جریان و توان برای سیم های لاکه

P (V . A)	J ( $\frac{\text{آمپر}}{\text{میلی متر مربع}}$ )
۰ - ۵۰	۴
۵۰ - ۱۰۰	۳/۵
۱۰۰ - ۲۰۰	۳
۲۰۰ - ۵۰۰	۲/۵

باید همواره توجه داشته باشیم که جریان نامی یا جریان مجاز سیم، عبارت از جریانی است که در شرایط کار طبیعی از سیم عبور می کند بدون اینکه آسیبی به آن وارد شود. علاوه بر جریان مجاز، جریان دیگری به نام جریان ذوب سیم یا جریان فیوژی سیم وجود دارد که موجب ذوب شدن سیم و آتش سوزی می شود. از این خاصیت برای طراحی فیوزها استفاده می کنند.

**مثال:** چگالی جریان برای یک سیم ۴ آمپر بر میلی متر مربع است در صورتی که جریان عبوری از سیم ۲/۵ آمپر باشد، قطر سیم را محاسبه کنید.

**حل:** با استفاده از رابطه چگالی جریان وسطح مقطع، قطر سیم را محاسبه می کنیم.

$$A = \frac{I}{J} = \frac{2/5A}{4A/mm^2} = 0.625mm^2, A = \pi r^2 = \frac{\pi d^2}{4}$$

$$d = \sqrt{\frac{4A}{\pi}} = \sqrt{\frac{4 \times 0.625}{\pi}} = \sqrt{0.796} = 0.89mm$$

با مراجعه به جدول سیم ها، مشاهده می شود که سیم شماره ۸/۹ وجود ندارد. در این حالت باید سیمی با شماره بالاتر را انتخاب کنیم. نزدیک ترین و مناسب ترین سیم در جدول سیم شماره ۹/۰ است که آن را انتخاب می کنیم.

### بویانمایی

بویانمایی در مورد انتخاب قطر سیم مناسب و نامناسب (کمتر یا بیشتر) و اثر آن در کاربرد سیم پیچ را ببینید.

### بارش فکری

با کمک اعضای گروه خود مثال های دیگری را طراحی کنید و از بین مثال های طراحی شده یک نمونه را انتخاب و به کلاس ارائه دهید.

### نرم افزار

با مراجعه به اینترنت ابزار محاسبه ای را پیدا کنید که با استفاده از آن بتوانید با دادن مقادیر A و J قطر سیم مورد نیاز برای پیچیدن بوبین را بیابید.

### نکته

برای محاسبه فضای مورد نیاز باید قطر سیم با روکش در نظر گرفته شود.

### خلاقیت

رابطه ای به دست آورید که بدون محاسبه سطح مقطع، قطر سیم به دست آید.

### فیلم ۳

فیلم کاربرد میکرومتر را ملاحظه کنید و کاربرد آن را به طور کامل بیاموزید.

### الگوی پرسش

در صورتی که چگالی جریان ۴ آمپر و قطر سیم ۱/۰ میلی متر باشد، جریان مجاز عبوری از سیم چند میلی آمپر است؟

۹-۲- اندازه‌گیری قطر سیم با میکرومتر (ریزسنج)  
ریزسنج یا میکرومتر دستگاهی است که می‌توان با آن قطر سیم‌های نازک و ضخامت ورق‌ها را تا دقت یک صدم میلی‌متر، اندازه‌گیری کرد. میکرومتر اساساً از یک میله و یک پیچ درست شده است. در این وسیله، میله استوانه‌ای تو خالی است که سطح خارجی آن بر حسب میلی‌متر مدرج شده است. روی پیچ کلاهکی قرار دارد که می‌تواند در امتداد غلاف جابه‌جا شود. کلاهک پیچ روی سطح خارجی میله حرکت می‌کند. با پیچاندن جغجغه هرزگرد، کلاهک بر روی میله جابه‌جا می‌شود. در شکل ۱۴-۲ میکرومتر مکانیکی و دیجیتالی و قسمت‌های مختلف آن معرفی شده است.

اگر کلاهک یک دور بچرخد زبانه متحرک نیم میلی‌متر جابه‌جا می‌شود (گام پیچ نیم میلی‌متر است). لبه کلاهک به  $50^\circ$  قسمت تقسیم شده است، بنابراین هر درجه موجود بر روی کلاهک یک صدم میلی‌متر را نشان می‌دهد. برای اندازه‌گیری قطر سیم، سیم را بین دو فک میکرومتر قرار می‌دهیم و جغجغه هرزگرد را آنقدر می‌چرخانیم تا دو فک، سیم را در میان بگیرند. در این حالت جغجغه هرزگرد با چرخش خود صدایی تولید می‌کند و فک‌ها دیگر پیش نمی‌روند. از خط‌کش موجود در مهره غلاف میکرومتر، مقدار میلی‌متر و از لبه کلاهک صدم میلی‌متر را می‌خوانیم.



شکل ۱۴-۲- دو نمونه میکرومتر

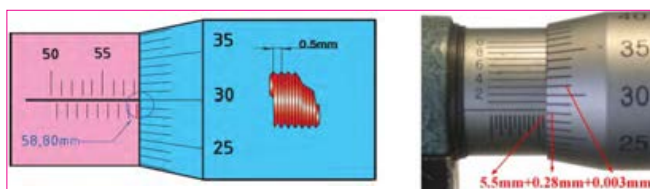
با استفاده از منابع مختلف از جمله اینترنت، درباره میکرومتر دیجیتالی پژوهش کنید و یک گزارش کامل تنظیم کنید و به کلاس ارائه دهید.

پژوهش



چگونگی خواندن مقادیر را در شکل ۱۵-۲ تشریح کنید.

فعالیت



شکل ۱۵-۲- اندازه‌گیری با میکرومتر

## ۱۰- ۲- کار عملی ۱: کار با میکرومتر

هدف: کسب مهارت لازم در اندازه‌گیری ضخامت و قطر سیم و وسایل لازم: میکرومتر - چهار قطعه سیم لاکه در قطرهای متفاوت - برچسب نکات ایمنی: میکرومتر دستگاهی بسیار حساس و دقیق است، مطابق شکل ۱۶- ۲ آن را طوری در دست بگیرید که هرگز بر روی زمین سقوط نکند.



شکل ۱۶- ۲- چگونگی در دست گرفتن میکرومتر

- از ضربه زدن به کلیه اجزاء میکرومتر و بازی کردن با آن جداً خودداری کنید.
- چنانچه از میکرومتر مکانیکی استفاده می‌کنید، هنگام اندازه‌گیری وقتی صدای جغجغه شنیده شد، فوراً چرخاندن قسمت‌های متحرک دستگاه را متوقف کنید.
- از وارد کردن فشار در جهات مختلف به اهرم‌ها و سایر اجزاء میکرومتر پرهیز کنید.

### مراحل انجام کار

- ۱ یک میکرومتر در اختیار بگیرید و عملکرد آن را به طور کامل شرح دهید.
- ۲ چهار نمونه سیم لاکه در اختیار دارید با برچسب شماره‌گذاری کنید.
- ۳ با استفاده از سمباده نرم قسمت پوشش لاکه سیم را بردارید.
- ۴ قطر سیم لاکه را که در اختیار دارید (بدون روکش) اندازه بگیرید.
- ۵ مقادیر خوانده شده را به ترتیب شماره در جدول ۳- ۲ وارد کنید.

## ۶- مقادیر اندازه‌گیری شده را با شماره سیم‌های موجود در

جدول انطباق دهید.

جدول ۳- ۲- اندازه‌گیری قطر سیم با میکرومتر

شماره	d قطر (mm)	$A = \frac{\pi d^2}{4}$ سطح مقطع (mm <sup>2</sup> )
۱		
۲		
۳		
۴		

## ۷- گزارش کاملی از انجام این کار در حداکثر یک صفحه در

دفتر یا کتاب گزارش کار بنویسید.

### تمرین

با استفاده از میکرومتر ضخامت کاغذ، قطر میله خودکار، قطر سیم‌های مختلف یا موارد مشابه دیگر را اندازه بگیرید تا شایستگی و مهارت لازم را در کاربرد میکرومتر کسب کنید.

### ارزشیابی

به شاخص‌ها و معیارهای ارزشیابی و امتیازدهی که در کتاب همراه آمده است توجه کنید. این معیارها تعیین‌کننده میزان شایستگی شما در انجام کار است.

## آشنایی با صنایع مس ایران: یکی از تولیدات اصلی و

ارزشمند در ایران مس و فراورده‌های آن است. کارخانه‌های مس سرچشمه (شکل ۱۷- ۲) و مس شهید باهنر از جمله کارخانه‌هایی هستند که با استفاده از مواد خام، شمش و ورق، مس تولید می‌کنند.



شکل ۱۷- ۲- کارخانه مس سرچشمه





با استفاده از منابع مختلف تعداد کارخانه‌هایی که شمش مس را تبدیل به سیم مسی روکش دار (لاکی) می‌کنند، شناسایی و کاربرد محصولات آنها را تشریح نمایید و نتایج را به کلاس ارائه دهید.

۲) موضوع را با مشتری مطرح کند سپس اقدام به تعمیر سیم پیچی نماید.  
 ۳) سیم پیچی نکند.  
 موضوع را در کلاس مطرح و بحث کنید و نتایج به دست آمده را به صورت یک گزارش کار ارائه دهید.

### الگوی پرسش

- ۱ سیم‌های لاکی بر اساس ..... و سیم‌های روشنایی بر اساس ..... طبقه‌بندی می‌شوند.
  - ۱) قطر - قطر (۲) سطح مقطع - سطح مقطع
  - ۳) سطح مقطع - قطر (۴) قطر - سطح مقطع
- ۲ چگالی جریان یک سیم  $4 \text{ A/mm}^2$  است. قطر سیم مورد نیاز را برای عبور جریان ۱ آمپر محاسبه کنید.
 

۰/۲۸ (۱)	۰/۵۶ (۲)
۱/۱۳ (۳)	۲/۲۶ (۴)
- ۳ کدام یک از اندازه‌گیری‌های داده شده دقیق‌تر است؟
 

۱۲/۲ (۱)	۱۲/۲۰۰ (۲)
۱۲/۲۰ (۳)	۴ (۴) دقت همه یکسان است
- ۴ دقت اندازه‌گیری ریزسنج (میکرومتر) که با آن کار کردید کدام است؟
  - ۱) پنج صدم میلی‌متر (۲) یک دهم میلی‌متر
  - ۳) دو صدم میلی‌متر (۴) یک صدم میلی‌متر
- ۵ شخصی پنکه‌ای را جهت تعمیر به تعمیرگاه می‌برد. مشخص می‌شود که سیم پیچ آن سوخته است. تعمیرکار قطر سیم را با میکرومتر اندازه می‌گیرد. در تعمیرگاه سیم با قطر مورد نظر وجود ندارد ولی قطر نزدیک به آن موجود است. مشتری اصرار دارد کارش سریع‌تر انجام گیرد. به نظر شما تعمیرکار کدام یک از کارهای زیر را باید انجام دهد؟
  - ۱) بدون آنکه موضوع را با مشتری مطرح کند، سیم موجود را برای سیم پیچی استفاده کند تا مشتری دچار تردید نشود.

۱۱-۲- محاسبه عملی سیم پیچ (بوبین) با هسته هوا  
 برای پیچیدن بوبین باید اطلاعات زیر را داشته باشیم:  
 ◀ جریان عبوری از بوبین (I برحسب آمپر یا میلی‌آمپر)  
 ◀ ضریب خودالقایی بوبین (L برحسب میکروهانری)  
 ◀ حجم فضایی که بوبین اشغال می‌کند (سانتی‌متر مکعب که بستگی به طول و قطر بوبین دارد)  
 ◀ قطر قرقره (D برحسب سانتی‌متر)  
 ◀ طول مفید سیم پیچ (l بر حسب سانتی‌متر)  
 ◀ تعداد دور سیم پیچ (N بر حسب تعداد دور)  
 ◀ قطر سیم مورد استفاده (d بر حسب سانتی‌متر)  
 با در دست داشتن اطلاعات کافی می‌توانیم مقدار مجهول را با استفاده از رابطه‌های مرتبط تعیین کنیم.  
 می‌دانیم مقدار ضریب خودالقایی بوبین را می‌توانیم از رابطه  $L = \frac{0.08 D^2 N^2}{3D + 9l}$  محاسبه کنیم. از طرفی هدف ما پیچیدن یک سیم پیچ با ضریب خودالقائه مشخص است، لذا این رابطه نمی‌تواند قابل استفاده باشد. ما نیاز به رابطه‌ای داریم که بتوانیم تعداد دور (N) را برای بوبینی با ابعاد معین و محدودیت‌های تعیین شده به شرح زیر محاسبه کنیم:  
 ● چون سیم‌ها روی قرقره پیچیده می‌شود طبق رابطه زیر، طول بوبین تابعی از قطر سیم و تعداد دور آن است که با افزایش تعداد دور، طول بوبین افزایش و ضریب خودالقایی آن کاهش می‌یابد:

$$l = Nd \rightarrow \text{طول بوبین} = \text{تعداد دور} \times \text{قطر سیم}$$





بنابراین باید به گونه‌ای عمل کنیم که این محدودیت را پوشش دهیم.

• معمولاً محدودیت فضا برای نصب بوبین وجود دارد که باید در نظر گرفته شود. برای به دست آوردن یک رابطه قابل قبول و مطلوب، به جای  $l$  در رابطه ضریب خودالقایی مقدار  $l = Nd$  را می‌گذاریم:

$$L = \frac{0.08DN^2}{3D + 9Nd}$$

با استفاده از رابطه بالا می‌توانیم مقدار تعداد دور  $N$  را محاسبه کنیم. محاسبه مقدار  $N$  و تعیین طول مناسب در بحث ما نمی‌گنجد. در صورت تمایل به محاسبه می‌توانید به منابع مرتبط مراجعه کنید. در این محاسبات استفاده از نرم افزار مانعی ندارد.

• با مراجعه به منابع مختلف و اینترنت وجود یا نبود روابط دیگر برای محاسبه بوبین با هسته هوا را بررسی کنید و نتایج را به کلاس ارائه دهید.

• بهترین روش برای انتخاب طول بوبین و قطر سیم با توجه به فضای محدودی که در اختیار داریم را بیابید و در کلاس به بحث بگذارید.

حل:

• **محاسبه قطر سیم:** ابتدا با استفاده از چگالی جریان و جریان عبوری از بوبین قطر سیم را محاسبه می‌کنیم.

$$d = 1/13 \sqrt{\frac{I}{J}} = 1/13 \sqrt{\frac{0/2}{4}} = 1/13 \sqrt{\frac{2}{4}}$$

$$d = 1/13 \sqrt{0/5} = 0/252 \text{ mm}$$

• **انتخاب سیم استاندارد:** با مراجعه به جدول قطر سیم مناسب (بدون لاک) را انتخاب می‌کنیم. در جدول سیم‌های استاندارد، سیم با قطر  $0/252$  وجود ندارد، اما سیم با قطر  $0/25$  و  $0/26$  وجود دارد. در این شرایط باید قطر بزرگتر یعنی  $0/26 \text{ mm}$  را انتخاب کنیم.

قطر سیم استاندارد بدون لاک  $d = 0/26 \text{ mm} = 0/26 \text{ cm}$  برای محاسبه تعداد دور بوبین از قطر سیم بدون لاک و برای محاسبه فضای مورد نیاز از قطر سیم با لاک استفاده می‌کنیم. برای اجرای این محاسبات می‌توانید از نرم افزار استفاده کنید. برای ساخت بوبین در این کار عملی محاسبات را از قبل انجام داده ایم. باتوجه به محاسبات انجام شده، قرقره‌ای با طول  $1/6$  سانتیمتر نیاز ما را برطرف می‌کند.



بررسی کنید، در صورتی که طول بوبین بزرگتر از فضای پیش‌بینی شده باشد، برای کاهش طول چه باید کرد؟ نتیجه پژوهش خود را به کلاس ارائه دهید.

۱۳-۲- محاسبه بوبین‌های یک لایه با استفاده از نرم‌افزار

◀ نرم‌افزار محاسبه بوبین یک لایه را نصب کنید.

◀ با استفاده از امکانات نرم‌افزار مشخصات بوبین  $10$  میکروهانری داده شده در مثال را محاسبه کنید.

◀ مقادیر به دست آمده به وسیله نرم‌افزار را با مقادیر محاسبه شده با استفاده از رابطه مقایسه کنید.

۱۲-۲- برای محاسبه یک بوبین کاربردی باید مراحل زیر را اجرا کنید

الف) متناسب با فضای موجود، ابعاد قرقره را انتخاب کنید.  
ب) قطر سیم را مطابق با جریان عبوری مورد نیاز محاسبه کنید. چون سیم لاک‌ی با سطح مقطع دایره‌ای برای پیچیدن بوبین به کار می‌رود، باید برای محاسبه قطر سیم از چگالی جریان و جریان عبوری از سیم پیچ استفاده کنید.

**مثال:** بوبینی طراحی کنید که ضریب خودالقایی آن  $10 \mu\text{H}$  و جریان عبوری از آن  $20 \text{ mA}$ ،  $D = 1 \text{ cm}$  و  $z = 4 \frac{\text{A}}{\text{mm}^2}$  باشد. طول بوبین در این شرایط چقدر می‌شود؟

## ۱۴-۲- دستگاه بوبین پیچ

بوبین را روی قرقره یا هسته می پیچند. برای پیچیدن بوبین از دستگاه بوبین پیچ استفاده می کنند. در صورتی که تعداد دور بوبین کم باشد، آن را با دست می پیچند. دستگاه بوبین پیچ در دو نوع دستی و برقی ساخته می شود. بوبین پیچ های برقی در دو نوع معمولی و خودکار ساخته می شوند. چگونگی نصب، راه اندازی و کاربرد دستگاه بوبین پیچ را در دفترچه راهنمای آن می نویسند. در شکل ۱۸ - ۲ چهار نمونه دستگاه بوبین پیچ دستی را ملاحظه می کنید.

### ابتکار و خلاقیت

کدام یک از دستگاه های نشان داده شده را می توانید بسازید؟ آیا ایده دیگری برای ساخت این دستگاه دارید؟ نتایج را به صورت یک گزارش به کلاس ارائه دهید. در صورت امکان یک نمونه را بسازید.

### مطالعه کنید

دفترچه راهنمای دستگاه بوبین پیچ موجود در کارگاه به زبان فارسی را مطالعه کنید و چگونگی کاربرد دستگاه را بیاموزید. در صورت نیاز از هنرآموز کارگاه کمک بگیرید.

◀ توجه داشته باشید که مقادیر محاسبه شده در هر دو روش باید با تولرانس قابل قبول نزدیک به هم باشد. در صورتی که تفاوت خیلی زیاد باشد، به طور قطع یکی از محاسبات اشتباه انجام شده است. در این شرایط لازم است که محاسبات بازبینی شود.

بوبینی طراحی کنید که ضریب خودالقایی آن  $100 \mu\text{H}$  و جریان عبوری از آن  $400 \text{ mA}$  و قطر قرقره  $D = 1/5 \text{ cm}$  و چگالی جریان  $j = 4 \frac{\text{A}}{\text{mm}^2}$  باشد. طول بوبین در این شرایط چقدر می شود؟

◀ به سایت های اینترنتی مراجعه کنید. آیا نرم افزار دیگری برای محاسبه بوبین وجود دارد؟ نتیجه را گزارش دهید.

- ★ هنگام کار با قیچی و کاتر، چه نکاتی مانند مراقبت از دست خود را باید رعایت کنید؟ حداقل ۳ مورد را نام ببرید.
- ★ در صورتی که چسب روی لباس یا دست های شما بریزد چه مشکلاتی به وجود می آید؟ نام ببرید.
- ★ چرا هنگام کار باید جدی باشیم و از حرکات بی مورد و نابه جا پرهیز کنیم؟
- ★ اگر هنرجویی در زمان تعیین شده نتواند بوبین خود را ببیچد چه مشکلاتی برای وی بوجود می آید؟

از طریق بحث و گفت و گو با اعضاء گروه خود روش های مختلفی را برای ارزشیابی کار با میکرومتر بیابید و نتایج را به کلاس ارائه کنید.


لگوی پرسش



نکته ایمنی



بحث کنید



شکل ۱۸ - ۲ - نمونه هایی از دستگاه بوبین پیچ دستی



پژوهش

با مراجعه به اینترنت و سایر منابع درباره کاربرد انواع بوبین پیچ‌ها در زمینه‌های مختلف تحقیق کنید و نتایج را در قالب یک گزارش به معلم خود ارائه دهید.

دفترچه راهنمای دستگاه بوبین پیچ موجود در کارگاه به زبان انگلیسی را مطالعه و ترجمه کنید. در صورت نیاز از معلم خود کمک بگیرید.

فیلم کاربرد دستگاه بوبین پیچ را ببینید.

ترجمه کنید



فیلم ۴



ترجمه کنید



راهنمای کاربرد دستگاه بوبین پیچ شکل ۱۹ - ۲ را از زبان انگلیسی به فارسی ترجمه کنید. در صورت نیاز از دیگران کمک بگیرید. توجه داشته باشید که هدف فقط ترجمه متن نیست، هدف کاربرد دستگاه با استفاده از دفترچه راهنما است.

## BOBBIN WINDERS Instruction manual


### HAND BOBBIN WINDERS

Our manual bobbin winders are belt driven, have self-lubricating bronze bearing, and are available in single-ended and double-ended models. The single-ended winder has a tapered shaft that will accommodate a variety of bobbins up to "6inches" long. The double-ended winders can be used for "bobbins", Pins, and a variety of large-flanged spools up to 9" long. A clamp incorporated into the design of all of our bobbin winders means you'll never have to hunt around for a "C" clamp again.



### DOUBLE-ENDED ELECTRIC BOBBIN WINDER

will Our electric bobbin winder is double-ended and accommodate bobbins, spools, and pirns up to 9" long and with flanges up to 4" in diameter. An electric winder saves time, especially when there's a lot of winding to do. The speed of the winder is controlled by a foot-powered rheostat like that of a sewing machine.



### Dimensions

شکل ۱۹ - ۲ - نمونه‌هایی از دستگاه بوبین پیچ دستی و راهنمای دستگاه

SINGLE END HAND WINDER	6" x 11" x 10"	۲ lb
DOUBLE ENDE HAND WINDER	6" x 11" x 18"	۲/۱۲ lb
DOUBLE END ELECTRIC WINDER	4" x 4" x 20"	۶lb

بررسی کنید چند نمونه دستگاه بوبین پیچ ایرانی وجود دارد. راهنمای کاربرد آنها را بارگیری (download) کنید.

فعالیت





قسمتی از راهنمای کاربرد نمونه دیگری از دستگاه بوین بیچ را از زبان انگلیسی به فارسی ترجمه کنید. در صورت نیاز از دیگران کمک بگیرید. توجه داشته باشید که هدف فقط ترجمه متن نیست، هدف کاربرد دستگاه با استفاده از دفترچه راهنما است.

۱۵-۲- انتخاب ابزار، مواد، ملزومات و تجهیزات در این مرحله می‌خواهیم ابزار مورد نیاز برای پیچیدن بوین و اندازه‌گیری آن را انتخاب کنیم. با توجه به آموخته‌های قبلی موارد زیر را نیاز داریم. برای انتخاب هر مورد باید مشخصات فنی و تعداد آنها را داشته باشیم، جدول ۴-۲.



توجه

از آنجا که کاربرد ابزار، مشخصات فنی و نکات ایمنی مربوط به آن بسیار مهم است فیلم را با دقت کافی و چندین بار ملاحظه کنید و محتوای آن را کاملاً بیاموزید.

فیلم مشخصات ابزار و نکات ایمنی مربوط به آنها را مشاهده کنید.

ابزار، مواد، ملزومات و تجهیزاتی که در اختیار دارید را با مشخصات فنی آن تطبیق دهید و سلامت آنها را تأیید کنید.

جدول ۴-۲- ابزار، مواد، ملزومات و تجهیزات مورد نیاز برای هر هنرجو

ردیف	عنوان	تعداد / مقدار	مشخصات فنی
۱	قرقره بوین	یک عدد	با توجه به محاسبات و طراحی
۲	سیم لاک	۱۰ متر	با توجه به محاسبات و طراحی
۳	سیم افشان	۱۰ سانتی‌متر	$75 \text{ mm}^2 / \text{mm}^2 =$ سطح مقطع
۴	بوین بیچ ساده	یک دستگاه	نوع ساده با دور شمار معمولی (موجود)
۵	وارنیش حرارتی	۵ سانتی‌متر	نمره ۱/۵ یا ۲
۶	سمباده نرم	۱۰ سانتی‌متر مربع	۹۰ (برای آهن)
۷	چسب کاغذی	۱۰ سانتی‌متر	پهنا ۱ سانتی‌متر
۸	سیم چین	یک عدد	استاندارد (متوسط، مینیاتوری، ۱۰ سانتی‌متر)
۹	دم باریک	یک عدد	استاندارد (متوسط، مینیاتوری، ۱۰ سانتی‌متر)
۱۰	سشوار مخصوص وارنیش حرارتی	یک دستگاه	استاندارد - معمولی
۱۱	پل RLC	یک دستگاه	استاندارد با حوزه mH و $\mu\text{H}$
۱۲	میکرومتر	یک دستگاه	استاندارد با قابلیت اندازه‌گیری یک صدم میلی‌متر
۱۳	برد بُرد	یک قطعه	استاندارد
۱۴	هسته	۴ قطعه	با توجه به قطر داخلی قرقره از جنس چوب، آهن، فریت و مس
۱۵	سیم بُرد سیم رابط با گیره دوسر سوسماری	به مقدار کافی	استاندارد
۱۶	ابزار لحیم کاری با هویه قلمی	یک سری برای هنرآموز و استاد کار آزمایشگاه	



۷ برا ساس آنچه که در فیلم دیده‌اید یک سر سیم روکش‌دار را به سر لخت شده سیم لاکی اتصال دهید و با کمک مربی خود آن را لحیم کنید.

۸ طبق دستور اجرایی داده شده در فیلم بوبین‌پیچی، بوبین ۱۰ میکروهانزی را با دست بیچید.

۹ سر دیگر بوبین را مانند سر اول آن به سیم روکش‌دار متصل و روی قرقره محکم کنید. اکنون بوبین شما آماده بهره‌برداری است. این بوبین را بعداً به عنوان یک قطعه الکترونیکی، مورد استفاده قرار می‌دهید.

۱۰ می‌خواهیم بوبین دیگری با مشخصات داده شده در جدول ۶-۲ را با دستگاه بیچیم.

جدول ۶-۲- مشخصات بوبین ۱۰۰ میکروهانزی

تعداد دور	ضریب خود القاء	طول قرقره I	قطر قرقره	قطر سیم با لاک
۱۰۰	۱۰۰ μH	۳۰ mm	D=۲۰ mm	۰/۲۵ mm

۱۱ مراحل ۲ تا ۷ را برای بوبین ۱۰۰ میکروهانزی تکرار کنید.

۱۲ دستگاه بوبین‌پیچ را مورد بررسی قرار دهید و با استفاده از دفترچه راهنمای کاربرد آن چگونگی استفاده از آن را بیاموزید.

۱۳ طبق دستور اجرایی داده شده در فیلم بوبین‌پیچی، بوبین ۱۰۰ میکروهانزی را با دستگاه بوبین‌پیچ بیچید.

۱۴ سر دیگر بوبین را مانند سر اول آن به سیم روکش‌دار متصل و روی قرقره محکم کنید. اکنون بوبین شما آماده بهره‌برداری است. این بوبین را بعداً به عنوان یک قطعه الکترونیکی، مورد استفاده قرار می‌دهید.

تنظیم گزارش کار

۱۵ گزارش فرایند اجرای کار خود را در حداکثر دو برگ تنظیم کنید و ارائه دهید.

مواد، ملزومات و تجهیزاتی که در اختیار دارید را با مشخصات فنی آن تطبیق دهید و سلامت آنها را تأیید کنید.

مهم‌ترین نکات ایمنی مربوط به دستگاه بوبین‌پیچ و سشوار مخصوص وارنیش حرارتی را شرح دهید. در صورت رعایت نکردن این نکات چه مشکلاتی پیش می‌آید؟

۱۶-۲- کار عملی ۲: بیچیدن بوبین با دست و دستگاه هدف: کسب مهارت لازم در بیچیدن بوبین با دست و دستگاه وسایل لازم: سیم لاکی ۰/۲۵- قرقره مناسب- ابزار لحیم‌کاری- سیم افشان ۵٪- سیم چین- سیم لخت‌کن- سمباده نرم

مراحل انجام کار

۱ فیلم بوبین‌پیچی را مشاهده کنید.

۲ می‌خواهیم بوبین با مشخصات داده شده در جدول ۵-۲ را با دست بیچیم.

جدول ۵-۲- مشخصات بوبین ۱۰ میکروهانزی

تعداد دور	ضریب خود القا	طول قرقره I	قطر قرقره	قطر سیم با لاک
۳۸	۱۰ μH	۲۰ mm	D=۱۰ mm	۰/۲۵ mm

۳ سیم را انتخاب و قطر آن را با میکرومتر اندازه بگیرید.

$$d = \dots \dots \dots \text{mm} = \text{قطر سیم لاکی}$$

۴ قرقره مناسب انتخاب کنید، طول سیم پیچ را محاسبه کنید.

۵ دو قطعه سیم روکش‌دار با سطح مقطع ۰/۷۵ میلی‌متر مربع را به طول ۵ سانتی‌متر ببرید و دوطرف آن را به اندازه ۷ میلی‌متر روکش‌برداری کنید.

۶ روکش لاک سر سیم لاکی را با استفاده از روش بیان شده در فیلم بوبین‌پیچی به وسیله سمباده بردارید.

## ۱۷-۲- کار عملی ۳: اندازه‌گیری ضریب خودالقایی بوبین و اصلاح آن

دارد، مراحل پیچیدن بوبین‌ها را بازبینی و تکرار کنید تا به نتیجه مطلوب برسید. چنانچه مقدار تفاوت کم است، تعداد دور را کمی تغییر دهید تا به نتیجه قابل قبول برسید.

### تنظیم گزارش کار

۵ گزارش کار خود را طبق روش‌های قبل تنظیم کنید و در دفتر گزارش کار بنویسید.

### الگوی پرسش

قسمتی از دفترچه راهنمای کاربرد که به وسیله مربی تقسیم‌بندی شده است را در ساعات غیر درسی به صورت یک کار تیمی ترجمه کنید و نتایج را به کلاس ارائه دهید.

۱۸-۲- کار عملی ۴: پیچیدن بوبین با دست و دستگاه هدف: کسب مهارت لازم در پیچیدن بوبین با دستگاه و وسایل لازم: سیم لاکه ۲۵/۰ - فرقه مناسب ابزارلحیم کاری - سیم افشان ۵/۰ - سیم چین - سیم لخت کن - سمباده نرم - دستگاه پل RLC متر - راهنمای کاربرد دستگاه.

### مراحل انجام کار

۱ می‌خواهیم بوبین چند لایه و از پیش محاسبه شده با ضریب خودالقایی  $1 \text{ mH}$  برای جریان  $20 \text{ mA}$  میلی‌آمپر روی فرقه‌ای به طول دو سانتی‌متر و قطر داخلی  $1/5 \text{ cm}$  سانتی‌متر پیچیم:  $D_{\min} = 1 \text{ cm}$  شکل بوبین چند لایه مشابه شکل ۲۱ - ۲ است. در این شکل قطر داخلی ( $D_{\min}$ )، قطر خارجی مورد نیاز ( $D_{\max}$ )، قطر متوسط ( $D_{\text{ave}}$ )، طول بوبین ( $l$ ) و عمق بوبین ( $e$ ) است. معمولاً مقدار قطر داخلی، طول بوبین و جریان مجاز بوبین را می‌دهند، سایر مقادیر از طریق محاسبه با روش سعی و خطا به دست می‌آید.

در این فرایند محاسبات بوبین چند لایه مورد نظر نبوده، فقط مهارت پیچیدن آن مورد ارزشیابی قرار می‌گیرد.



شکل ۲۰-۲ دو نمونه دستگاه پل RLC متر

هدف: کسب مهارت لازم در اندازه‌گیری ضریب خودالقایی بوبین پیچیده شده به وسیله دست و دستگاه و اندازه‌گیری آن با پل RLC متر

وسایل لازم: بوبین آماده - دستگاه پل RLC متر - راهنمای کاربرد دستگاه.

### مراحل انجام کار

۱ راهنمای کاربرد پل RLC متر را مطالعه کنید و چگونگی کاربرد آن را بیاموزید. (به کتاب همراه هنرجو مراجعه کنید.)

۲ فیلم اندازه‌گیری بوبین با دستگاه پل RLC متر را مشاهده کنید.

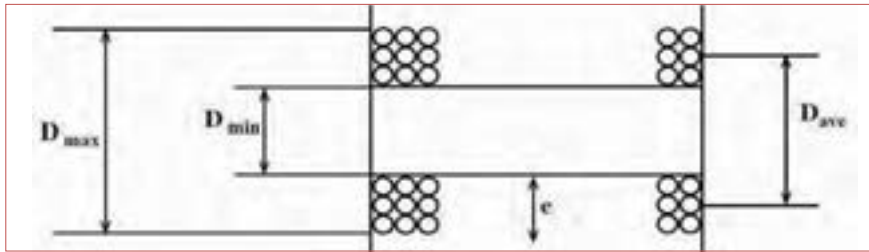
فیلم ۷



۲ با استفاده از دستگاه پل LCR متر مقدار ضریب خودالقایی بوبین‌ها را اندازه بگیرید و در جدول ۷-۲ یادداشت نمایید. در شکل ۲۰-۲ دو نمونه دستگاه پل LCR متر را مشاهده می‌کنید. جدول ۷-۲ اندازه‌گیری بوبین

سیم پیچ	مقدار پیش‌بینی شده	مقدار اندازه‌گیری شده	آیا مقادیر تطبیق می‌کند؟
L <sub>۱</sub>	۱۰ μH		<input type="checkbox"/> بلی <input type="checkbox"/> خیر
L <sub>۲</sub>	۱۰۰ μH		<input type="checkbox"/> بلی <input type="checkbox"/> خیر

۴ مقدار اندازه‌گیری شده را با مقدار پیش‌بینی شده مقایسه کنید. در صورتی که بین مقادیر اختلاف فاحشی وجود



شکل ۲۱-۲- بوبین چند لایه

تنظیم  
گزارش کار

پژوهش



۹ گزارش کار خود را طبق روش‌های قبل تنظیم کنید و در دفتر گزارش کار بنویسید.

۳ با مراجعه به منابع مختلف در مورد بوبین‌های چند لایه بررسی کنید که مقادیر  $D_{min}$ ،  $D_{max}$ ،  $D_{ave}$  و  $e$  چه کاربردی دارد؟ نتایج را به کلاس ارائه دهید.

۴ پس از انجام محاسبه با در نظر گرفتن قطر سیم برابر با  $d = 0.25 \text{ mm}$ ، مقادیر زیر به دست می‌آید:

دور  $N = 1000$ ،  $D_{ave} = 1.85 \text{ cm}$ ،  $l = 2 \text{ cm}$ ،  $D_{min} = 1.5 \text{ cm}$

۵ بندهای ۱ تا ۶ کار عملی شماره ۲ را برای بوبین  $1^\circ$  میلی‌هائری نیز انجام دهید.

۶ با استفاده از مقادیر داده شده فرقه مناسب انتخاب کنید (یا بسازید) و با دستگاه بوبین پیچ تعداد  $1000$  دور سیم لاکه با قطر  $d = 0.25 \text{ mm}$  را به طور منظم دور آن پیچید و سیم روکش دار را به طرف دیگر آن اتصال دهید.

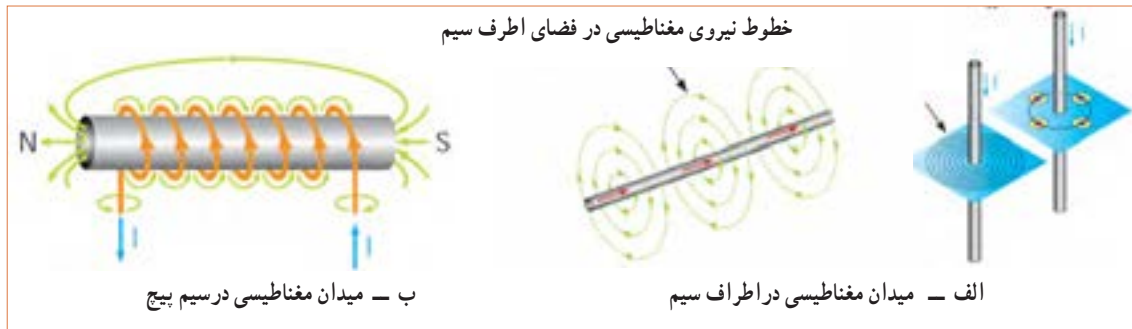
۷ با استفاده از دستگاه پل RLC متر مقدار ضریب خودالقایی بوبین‌ها را اندازه بگیرید. در شکل ۲-۲ دو نمونه دستگاه پل RLC متر را مشاهده می‌کنید.

$L = \dots\dots\dots \text{ mH}$

۸ مقدار اندازه‌گیری شده را با مقدار محاسبه شده ( $1^\circ$  میلی‌هائری) مقایسه کنید. در صورتی که بین مقادیر اختلاف فاحشی وجود دارد، مراحل پیچیدن بوبین‌ها را بازبینی و تکرار کنید تا به نتیجه مطلوب برسید. چنانچه مقدار تفاوت کم است، تعداد دور را کمی تغییر دهید تا به نتیجه قابل قبول برسید. این بوبین را بعداً به عنوان یک قطعه الکترونیکی، مورد استفاده قرار می‌دهید.

۱۹-۲- تأثیر هسته بر ضریب خودالقایی بوبین همان‌طور که در قسمت‌های قبل اشاره شد، یکی از اجزاء بوبین هسته است. تاکنون درباره بوبین با هسته هوا بحث کردیم و نمونه‌هایی از آن را ساختیم. در این مرحله می‌خواهیم اثر هسته را روی بوبین بررسی کنیم. هنگامی که جریان الکتریکی از سیم یا سیم پیچ عبور می‌کند در اطراف آن میدان مغناطیسی مطابق شکل ۲۲-۲ ایجاد می‌شود. سه عنصر آهن، نیکل و کبالت و بعضی از آلیاژهای آنها که به شدت جذب آهن‌ریا می‌شوند، را مواد مغناطیسی، مغناطیس‌شونده یا "فرومغناطیس" می‌نامند. موادی مانند مس، برنج، شیشه و چوب که جذب آهن‌ریا نمی‌شوند، مواد "غیرمغناطیسی" نام دارند. مواد مغناطیسی وقتی در کنار یک آهن‌ریا قرار می‌گیرند مولکول‌های آنها منظم شده و خاصیت مغناطیسی پیدا می‌کنند. میزان نفوذ خطوط نیروی مغناطیسی در مواد مغناطیس‌شونده را ضریب نفوذ مغناطیسی می‌نامند و آن را با  $\mu$  نمایش می‌دهند. هر قدر این ضریب در مواد بیشتر باشد میزان قابلیت مغناطیس شدن ماده بیشتر است. چنانچه هسته‌ای از جنس مواد مغناطیسی در داخل فرقه بوبین قرار گیرد، متناسب با ضریب نفوذ مغناطیسی، مقدار ضریب خودالقایی بوبین زیاد می‌شود.





خطوط نیروی مغناطیسی در فضای اطراف سیم

ب - میدان مغناطیسی در سیم پیچ

الف - میدان مغناطیسی در اطراف سیم

شکل ۲۲-۲- میدان مغناطیسی

**پویانمایی**

به انیمیشن خطوط نیروی اطراف سیم حامل جریان توجه کنید.

در مورد اجسام پارامغناطیس و دیامغناطیس پژوهش کنید و نتیجه را به کلاس ارائه دهید.

مواد فرو مغناطیسی را نام ببرید.

پژوهش



الگوی پرسش



**۲-۲- کار عملی ۵: تأثیر هسته در مقدار ضریب خودالقایی**

۳ در نرم افزار مولتی سیم یا هر نرم افزار دیگر دستگاه پل LCR متر و تعدادی بوبین را روی میز کار نرم افزار بیاورید و ضریب خودالقایی بوبین را به وسیله دستگاه اندازه بگیرید و در جدول ۸-۲ بنویسید و با مقدار نامی آن مقایسه کنید.

۱ فیلم تأثیر هسته از جنس مواد مختلف در ضریب خودالقایی بوبین را مشاهده کنید.

۲ برد بُرد، سیم‌های رابط، دستگاه LCR متر، بوبین‌های ساخته شده و هسته‌ها را آماده کنید.

فیلم ۸



جدول ۸-۲- اندازه‌گیری مقدار اندوکتانس (ضریب خودالقایی) بوبین با نرم افزار

ردیف	مقدار نامی	مقدار اندازه‌گیری شده	اثر تغییر هسته (جنس - جابه‌جائی)
۱			
۲			
۳			
۴			

**پرسش:** با توجه به اجرای کار نرم‌افزاری آیا توانستید با تغییر هسته (جنس - جابجائی) ضریب خودالقایی را تغییر دهید؟ در صورتی که پاسخ منفی است چرا؟



۶ هسته‌های چوبی، مسی، پلاستیکی، آهنی و فریت را به طور کامل در داخل سوراخ قرقره بوبین قرار دهید و مقدار اندوکتانس را اندازه بگیرید و در جدول ۹-۲ بنویسید.

۷ مرحله ۶ را برای بوبین‌های ۱۰۰ میکروهانری و ۱۰ میلی‌هانری تکرار کنید و نتایج را در جدول ۹-۲ یادداشت کنید.

۴ با استفاده از بُرد بوبین ۱۰ میکروهانری ساخته شده را به دستگاه پل LCR متر اتصال دهید و مقدار اندوکتانس آن را در جدول ۹-۲ بنویسید.

۵ فاصله سیم‌ها را روی هسته از یکدیگر زیاد کنید و اثر آن را روی ضریب خود القایی مشاهده کنید و نتایج را بنویسید.

توضیح: .....

جدول ۹-۲ اندازه‌گیری مقدار اندوکتانس (ضریب خودالقایی) بوبین با دستگاه LCR متر

ردیف	مقدار نامی	مقدار اندازه‌گیری شده بدون هسته				مقدار اندازه‌گیری شده با هسته			
		چوب	آهن	پلاستیک	مس	فریت	مس	پلاستیک	آهن
۱	۱۰ $\mu\text{H}$								
۲	۱۰۰ $\mu\text{H}$								
۳	۱۰ mH								

تنظیم گزارش کار

۱۲ گزارش کار خود را طبق روش‌های قبل تنظیم کنید و در دفتر گزارش کار بنویسید.

ارزشیابی:

در دنیای آموزش ارزشیابی از دو دیدگاه نظری و عملی براساس استاندارد عملکرد و مطابق با نمون برگ‌های ۱-۸ و ۱-۹ دنیای کار و انطباق یافته‌ها با دنیای آموزش، به صورت مستمر، فرایندی، مقطعی یا پایانی به اجرا در می‌آید و گواهینامه صلاحیت زمانی صادر خواهد شد که دانش‌آموختگان در ارتباط با هر کار و مطابق با استاندارد عملکرد ارزشیابی شوند، همچنین هنگام استخدام نیز ارزشیابی براساس استاندارد عملکرد صورت می‌گیرد.


۸ سیم‌پیچ معیوب می‌تواند به صورت اتصال کوتاه یا قطع باشد. در صورتی که لاک روی سیم‌های بوبین از بین برود، تمام سیم‌پیچ یا قسمتی از آن اتصال کوتاه می‌شود. با استفاده از دستگاه RLC متر و مولتی‌متر، سه نمونه سیم‌پیچ قطع، قسمتی اتصال کوتاه و اتصال کوتاه کامل را آزمایش کنید.

۹ در صورتی که بوبین دیگری هم در اختیار دارید مرحله ۵ را برای آن تکرار کنید.

۱۰ با یکدیگر درباره نتایج حاصل شده در جدول ۹-۲ بحث کنید و نتیجه را در دو سطر جمع‌بندی کنید.

۱۱ هسته آهنی و فریت را به تدریج وارد قرقره بوبین‌ها کنید و اثر آن را روی تغییر اندوکتانس مشاهده کنید و نتیجه را توضیح دهید.

توضیح: .....



## ۲۱-۲- الگوی آزمون پایانی عملی

۱ روی قرقره‌ای به قطر ۲ سانتی متر ۱۱۵ دورسیم با قطر ۰/۳ میلی متر می‌پیچیم. اگر بخواهیم ضریب خود القایی ۱۵۰ میکروهانری شود، طول سیم پیچ را محاسبه کنید. جنس هسته هوا است.

۲ بوبین طراحی شده را به کمک بوبین پیچ پیچید.

۳ به کمک LCR متر ضریب خودالقایی بوبین را اندازه بگیرید و یادداشت کنید.

۴ اثر هسته‌های مختلف را روی ضریب خودالقایی بوبین پیچیده شده تحقیق کرده و نتایج را یادداشت کنید.

## ۲۲-۲- الگوی آزمون پایانی نظری

۱ هسته مناسب برای بوبین‌های با ضریب خودالقایی زیاد ..... است.

۲ مقدار جریان عبوری از ..... مقطع سیم را از جنس ..... می‌نامند و آن را با حرف J نشان می‌دهند.

۳ قرار دادن هسته فریتی در داخل قرقره بوبین با هسته هوا ضریب خودالقایی بوبین را افزایش  کاهش  می‌دهد.

۴ اگر چگالی جریان  $I(\frac{A}{mm^2})$  و جریان عبوری از سیم I آمپر باشد، قطر سیم با استفاده از رابطه  $d = 1/13 \sqrt{\frac{I}{J}}$  به دست می‌آید.  نادرست  درست

۵ اگر حلقه‌های سیم پیچ یک بوبین یک لایه را از هم دور کنیم (فاصله حلقه‌ها را زیاد کنیم) ضریب خودالقایی بوبین کاهش می‌یابد.  نادرست  درست

۶ کدام رابطه برای محاسبه بوبین یک لایه منظم با هسته هوا صحیح است؟

$$L = \frac{0.08DN^2}{3D+9l} \quad 1 \quad L = \frac{0.08AD^2N^2}{3D+9l} \quad 2$$

$$L = \frac{0.08AD^2N^2}{3l+9D} \quad 3 \quad L = \frac{0.08AD^2N^2}{3D+9l} \quad 4$$

۷ قطر مناسب برای عبور ۲۵۰ میلی آمپر جریان از سیم با

چگالی جریان ۴ آمپر بر میلی متر مربع کدام است؟

۱- ۰/۲۸ mm  ۲- ۰/۲۵ mm

۳- ۰/۲ mm  ۴- ۱/۱۳ mm

۸ چگالی جریان یک سیم  $\frac{3A}{mm^2}$  است. برای عبور جریان

۵۰۰ میلی آمپر، قطر سیم مورد نیاز بر حسب میلی متر کدام است؟

۱- ۰/۱۶  ۲- ۰/۴۶

۳- ۱/۸۸  ۴- ۲/۷۶

۹ با توجه به پاسخ سؤال‌های ۷ و ۸ اگر قطر سیم به دست آمده در جدول موجود نباشد، با مراجعه به جدول، قطر مناسب و استاندارد انتخابی را بنویسید.

۱۰ کدام یک از اندازه‌گیری‌های داده شده دقیق تر است؟

۱- ۱۲/۲  ۲- ۱۲/۲۰

۱۱ دقت اندازه‌گیری خط‌کش‌هایی که درجه‌بندی میلی متر دارند کدام است؟

۱- سانتی متر  ۲- یک دهم میلی متر

۳- میلی متر  ۴- متر

۱۲ دقت اندازه‌گیری ریز سنج (میکرومتر استفاده شده در کارگاه) کدام است؟

۱- پنج صدم میلی متر  ۲- یک دهم میلی متر

۳- دو صدم میلی متر  ۴- یک صدم میلی متر

۱۳ واحد چگالی جریان را بنویسید.

۱۴ سیم‌های لاکی بر اساس ..... و سیم‌های روشنایی بر اساس ..... طبقه‌بندی می‌شوند.

۱- قطر - قطر

۲- سطح مقطع - سطح مقطع

۳- سطح مقطع - قطر

۴- قطر - سطح مقطع

- ۱۵ در رابطه  $L = \frac{0.8 D^2 N^2}{3D + 91}$  که مربوط به محاسبه ضریب خودالقایی بوبین یک لایه با هسته هوا است، L، D، I چه کمیت‌هایی هستند؟ واحد هر یک از کمیت‌ها را بنویسید.
- ۱۶ در این واحد یادگیری برای رسیدن به توسعه پایدار چه کارهایی را باید انجام دهیم؟ چگونه؟
- ۱۷ چگونه می‌توانیم با ابزار و مواد دور ریز یک بوبین پیچ ساده بسازیم؟ شرح دهید.
- ۱۸ نکات ایمنی هنگام کار با بوبین پیچ را نام ببرید.
- ۱۹ ترجمه کنید.

An internal zeroing function is provided and selectable from the front panel. Auto/Manual ranging is selectable for the five measurement ranges. Connection to the device under test (DUT) is through 4 BNC terminals on the 100/101 front panel units. Various test fixtures are provided for different device under test to improve the measurement throughput and reliability.

- ۲۰ جدول استاندارد سیم‌ها چه کاربردی دارند؟ شرح دهید.
- ۲۱ جدول ۱۰ - ۲ مربوط به چه دستگاهی است و چه کاربردی دارد؟ ترجمه کنید.

جدول ۱۰ - ۲

SPECIFICATIONS	
Model	۱۰۰
Measurement Parameter	
Primary Display	L.C.R
Secondary Display	Q.D.
Test Signal Information	
Test Level	۰/۲۵V
Test Frequency	۱۲۰ Hz, ۱ kHz (۱۰۰ Hz optional)

- ۲۲ با توجه به رابطه  $L = \frac{0.8 D^2 N^2}{3D + 91}$  در صورتی که در بوبین یک لایه قطر بوبین ۱/۵ برابر شود و سایر کمیت‌ها تغییر نکنند، مقدار L چند برابر می‌شود؟ چرا؟

## ارزشیابی شایستگی پیچیدن یک نمونه بوبین ساده در حد mH و $\mu H$

### شرح کار:

۱. تعیین مشخصات و مقدار اندازه بوبین
۲. تعیین مجهولات (قطر سیم، قطر قرقره، تعداد دور، طول سیم پیچ، ضریب خودالقایی، جنس هسته)
۳. تعیین و استفاده از رابطه مناسب جهت محاسبه مجهولات
۴. آماده سازی اجزای بوبین (سیم لاک، قرقره، هسته مناسب، وارنیش، سیم افشان)
۵. آماده سازی ابزار (سیم چین، هویه، کاتر، قلع، روغن لحیم، دستگاه بوبین پیچ، LCR متر، مولتی متر)
۶. پیچیدن بوبین با رعایت استاندارد
۷. اندازه گیری ضریب خودالقایی و تست صحت بوبین پیچیده شده

### استاندارد عملکرد:

محاسبه پیچیدن دو نمونه بوبین به صورت دستی و با بوبین پیچ ترانس حداکثر ۱۰ درصد

### شاخص ها:

- ۱- تشریح اجزای ساختمان یک بوبین یک لایه (۱۰ دقیقه)
- ۲- انجام محاسبات یک نوع بوبین یک لایه (۳۰ دقیقه)
- ۳- انتخاب اجزاء و پیچیدن بوبین با دست یا دستگاه (۶۰ دقیقه)
- ۴- استفاده از مولتی متر و LCR متر جهت تست صحت مقدار بوبین پیچیده شده و نرم افزار (۲۰ دقیقه)

### شرایط انجام کار و ابزار و تجهیزات:

**شرایط:** مکان انجام کار با کف عایق یا آنتی استاتیک - نور مناسب برای کارهای ظریف (مونتازکاری) - ابعاد حداقل ۶ مترمربع - دارای تهویه یا پنجره - دمای طبیعی ( $27^{\circ}C - 18^{\circ}C$ ) و مجهز به وسایل اطفای حریق - میز کار استاندارد با ابعاد  $W180 \times D180 \times H80$  مجهز به فیوز حفاظت جان - رایانه متصل به شبکه اینترنت - فرد با لباس کار - انجام کار در حال نشسته و یا ایستاده - ماسک - تهویه - نرم افزار خاص

**ابزار و تجهیزات:** ابزار عمومی برق یا الکترونیک - لوازم التحریر - میز کار با برق - چسب - میکرومتر - کاتر - LCR دیجیتالی - بوبین پیچ - جداول استاندارد مرتبط - ابزار عمومی لحیم کاری - تهویه - وارنیش - سیم افشان - رایانه - انواع سیم لاک - هسته فریت و آهن - قرقره در ابعاد مختلف متناسب با برنامه آموزشی

### معیار شایستگی:

ردیف	مرحله کار	حداقل نمره دریافتی	نمره هنرجو
۱	تشریح ساختمان بوبین	۱	
۲	محاسبه یک بوبین	۲	
۳	پیچیدن یک بوبین با هسته هوا	۲	
۴	بوبین با هسته آهنی یا فریت	۱	
	شایستگی های غیرفنی، ایمنی، بهداشت، توجهات زیست محیطی و نگرش:	۲	
	۱- حفاظت از دستگاه ۲- دقت و ظرافت ۳- شایستگی تفکر و یادگیری مادام العمر و کسب اطلاعات ۴- محاسبه ریاضی		
	میانگین نمرات		*

\* حداقل میانگین نمرات هنرجو برای قبولی و کسب شایستگی، ۲ می باشد.

۱. رشته: الکترونیک درس: عرضه تخصصی قطعات الکتریکی و الکترونیکی واحد یادگیری: ۲





## فصل دوم

# کمیت‌های پایه الکتریکی



امواج DC مربوط به باتری‌ها و امواج متناوب مانند موج برق شهر (موج سینوسی) و یا امواج صوتی و تصویری، امواجی هستند که همواره با آن سروکار داریم. به طور مثال منابع تغذیه‌ای که با استفاده از برق شهر ساخته می‌شوند، قلب تپنده دستگاه‌های الکتریکی و الکترونیکی هستند. لذا شناخت این امواج، کمیت‌های مربوط به آن و نیز اندازه‌گیری این کمیت‌ها از طریق نرم‌افزاری و سخت‌افزاری اصولی‌ترین دانش پایه است که باید مورد مطالعه دقیق قرار گیرد.



## واحد یادگیری ۳

### شایستگی اندازه‌گیری کمیت‌های موج

آیا تا به حال پی برده‌اید :

- شکل موج جریان باتری و جریان برق شهر چگونه است؟
- چه تفاوتی بین ولتاژ برق شهر و ولتاژ باتری وجود دارد؟
- کمیت‌های یک موج کدام‌اند و چگونه آنها را اندازه می‌گیرند؟
- چه دستگاه‌هایی کمیت‌های موج را اندازه می‌گیرند؟
- چه نرم افزارهای رایانه‌ای و اندرویدی برای اندازه‌گیری کمیت‌های موج وجود دارد؟
- از برق شهر چگونه می‌توان ولتاژی مانند ولتاژ باتری ساخت؟

استاندارد عملکرد :

اندازه‌گیری ولتاژ و جریان DC و AC با در نظر گرفتن نکات ایمنی و استاندارد تعریف شده

۳-۱- مواد، ابزار و تجهیزات مورد نیاز واحد یادگیری ابزار عمومی برق یا الکترونیک، لوازم التحریر، منبع تغذیه، مولتی متر، ترانسفورماتور، رایانه و نرم افزارهای مناسب

## ۳-۲- انواع جریان الکتریکی

جریان الکتریکی به سه دسته، جریان مستقیم، متناوب و متغیر تقسیم بندی می شود.

### الف - جریان مستقیم (Direct Current) DC

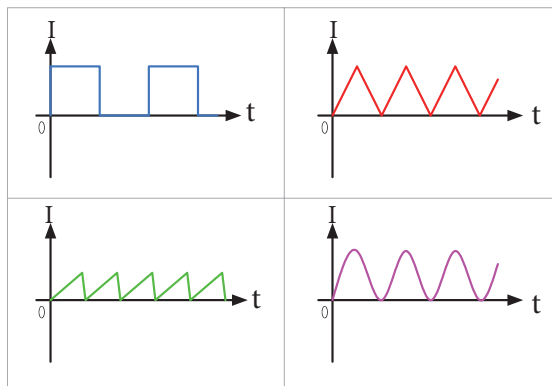
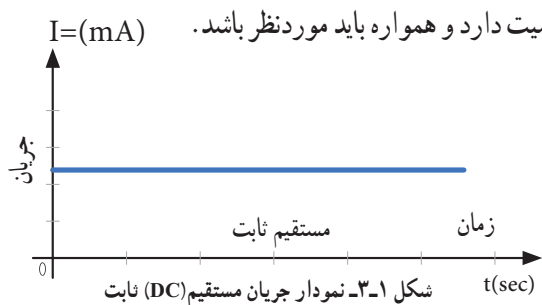
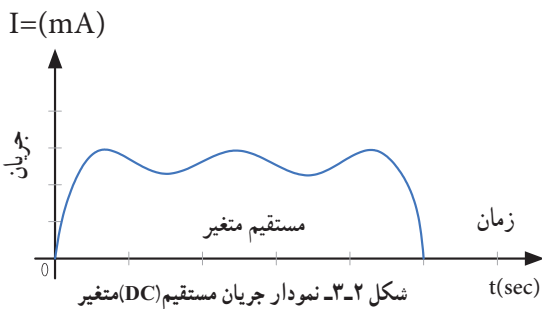
جریان مستقیم یا یک طرفه جریانی است که فقط در یک جهت در مدار جاری می شود. باتری ها مولد جریان مستقیم هستند.

در شکل ۱-۳ نمودار جریان مستقیم روی محورهای مختصات رسم شده است. همان طور که در شکل مشاهده می کنید، در زمان های مختلف مقدار جریان و جهت آن ثابت است. به این جریان، جریان مستقیم ثابت گویند. اگر جهت جریان تغییر نکند ولی مقدار آن متغیر باشد، جریان مستقیم متغیر نام دارد. شکل ۲-۳ یک نمونه جریان مستقیم متغیر را نشان می دهد.

مشخصات فنی تجهیزات و تعداد آن در سند برنامه درسی آمده است.

سیگنال الکتریکی حاصل از صحبت کردن انسان، تصاویر تلویزیونی، سیگنال های رادیویی، همه امواج متفاوتی اند که به طور مستمر و روزمره با آنها سروکار داریم. در این فصل به تشریح امواج AC و DC و منابع تولید آنها می پردازیم و کمیت های مرتبط با موج را با استفاده از سخت افزار و نرم افزار محاسبه می کنیم. در فرایند اجرای کار، توجه به شایستگی های غیر فنی و نکات ایمنی در به کارگیری دستگاه های اندازه گیری و دقت در مراحل اندازه گیری بسیار

اهمیت دارد و همواره باید مورد نظر باشد.



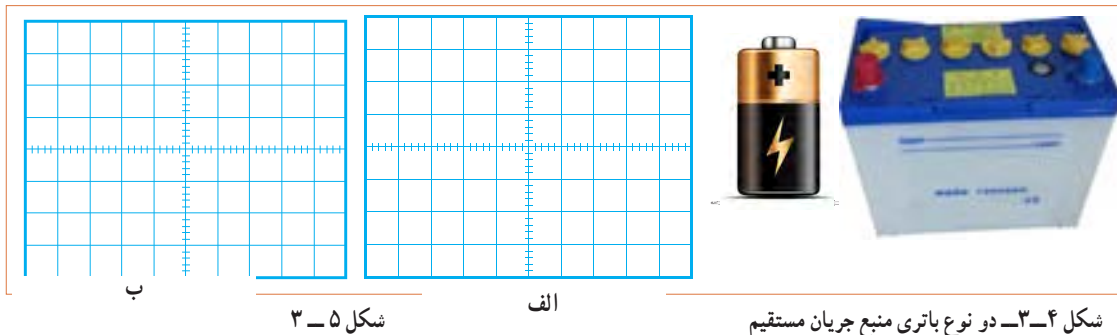
شکل ۳-۳- انواع شکل موج های جریان مستقیم (DC)

۱ چند نوع جریان مستقیم متغیر را در شکل ۳-۳ مشاهده می کنید. آنها را نام گذاری کنید. انواع دیگر جریان مستقیم متغیر را بیابید.

کار گروهی



۲ در شکل ۳-۴ دو نوع باتری قلمی ۱/۵ ولتی و باتری اتومبیل با ولتاژ ۱۲ ولت را مشاهده می کنید. نمودار ولتاژ این دو باتری را با مقیاس مناسب نسبت به زمان در شکل الف و ب ۳-۵ رسم کنید.



شکل ۳-۴- دو نوع باتری منبع جریان مستقیم

شکل ۳-۵

### پویانمایی

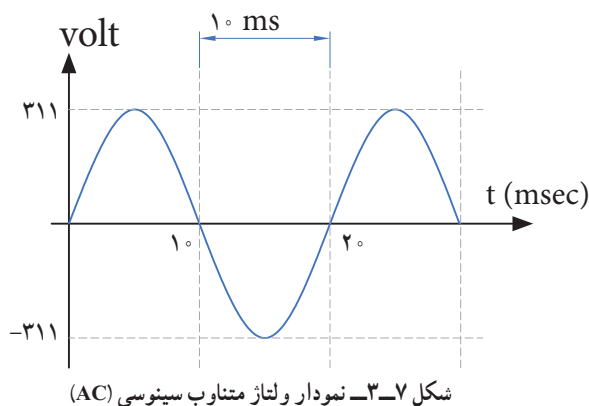
نمایش انیمیشن (پویانمایی): پویانمایی مربوط به جریان‌های DC ثابت و متغیر و AC را ببینید و پس از نمایش آن، در کلاس در مورد آن بحث کنید.

۳ در مورد سیگنال صوتی که از طریق آمپلی فایر (تقویت کننده صوتی) به بلندگو می رسد بررسی کنید، آیا این سیگنال متغیر (غیرمستقیم غیر متناوب) است؟ آیا این سیگنال قسمت منفی هم دارد؟ نتیجه را در کلاس ارائه دهید.

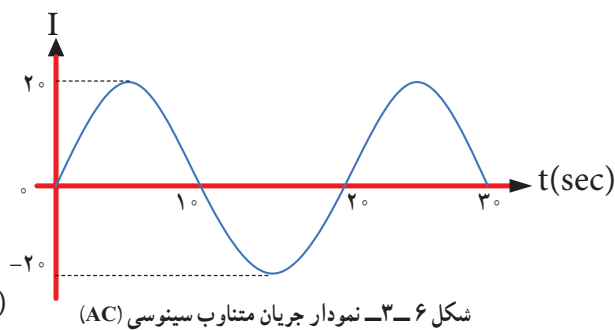
### ب - جریان متناوب (Alternating Current) AC :

● شکل‌های ولتاژ و جریان متناوب: متداول‌ترین شکل جریان متناوب، شکل موجی است که شرکت‌های برق تولید می کنند. این شکل موج، به صورت سینوسی است. شکل ۳-۷ ولتاژ متناوب سینوسی تولیدی توسط شرکت‌های تولید برق در ایران را نشان می دهد.

جریان متناوب یا AC جریانی است که جهت و مقدار آن با زمان و به صورت یکنواخت تغییر می کند. برق مصرفی منازل که در نیروگاه‌ها تولید می شود، جریان متناوب است. در شکل ۳-۶ یک نمونه جریان متناوب سینوسی رسم شده است.



شکل ۳-۷- نمودار ولتاژ متناوب سینوسی (AC)



شکل ۳-۶- نمودار جریان متناوب سینوسی (AC)

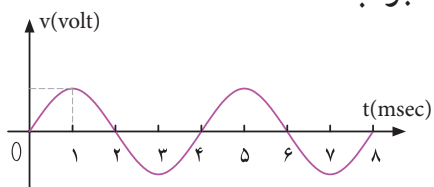
همان‌طور که در شکل ۳-۶ مشاهده می کنید، جریان در ابتدا صفر است، سپس افزایش یافته به مقدار حداکثر (بیشینه) خود می رسد، سپس به صفر برمی گردد. مجدداً در جهت منفی به بیشترین مقدار خود می رسد و بار دیگر به صفر برمی گردد. طی این مراحل را یک چرخه (دوره تناوب یا سیکل) می نامند. این مراحل در زمان‌های مساوی عیناً تکرار می شود.

فکر کنید



**مثال ۱:** زمان تناوب موج سینوسی شکل  $10^\circ - 3$  را محاسبه کنید.

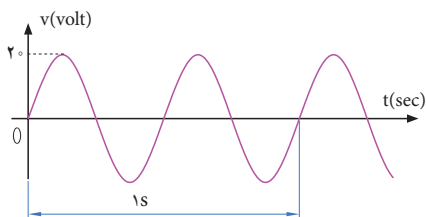
پاسخ: با توجه به شکل، مدت زمان یک سیکل ۴ میلی ثانیه است. **جواب:**  $T = 4 \text{ msec}$



شکل ۱۰-۳ موج سینوسی

**پرسش:** در صورتی که تقسیمات محور زمان ۴ برابر شود (یعنی عدد ۱ تبدیل به ۴ و عدد ۲ تبدیل به ۸ و .... شود)، زمان تناوب چند میلی ثانیه خواهد بود؟

**فرکانس یا بسامد (Frequency):** به تعداد چرخه (دوره یا سیکل) در مدت زمان یک ثانیه فرکانس گویند. واحد فرکانس، سیکل (چرخه) بر ثانیه (CPS—cycle Per Second) یا هرتز (Hz) است. برای مثال، چون موج سینوسی نشان داده شده در شکل ۱۱-۳ دارای ۲ چرخه (سیکل) در یک ثانیه است، پس فرکانس آن ۲ سیکل بر ثانیه یا ۲ هرتز می شود.

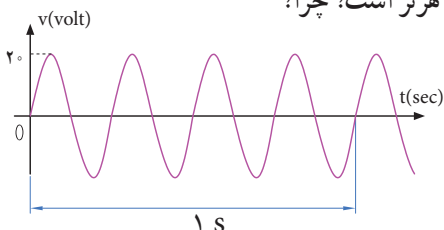


شکل ۱۱-۳ موج سینوسی با فرکانس ۲ Hz



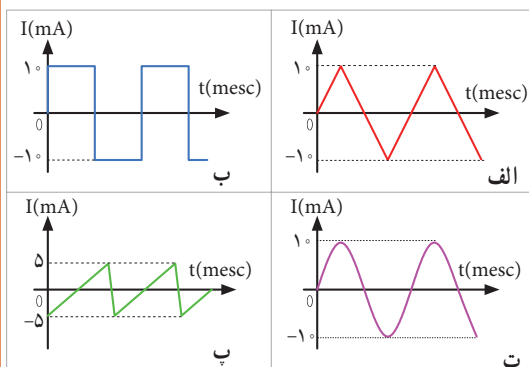
فکر کنید

● تعداد چرخه‌ها (سیکل‌ها) برای موج سینوسی شکل (۱۲-۳) چند هرتز است؟ چرا؟



شکل ۱۲-۳ موج سینوسی با فرکانس ۸ Hz

در شکل ۸-۳ نمونه‌های دیگر جریان متناوب نشان داده شده است. این جریان‌ها را نام‌گذاری کنید. انواع دیگر جریان متناوب را بیابید.



شکل ۸-۳- انواع شکل موج‌های جریان متناوب (AC)

فیلم ۱

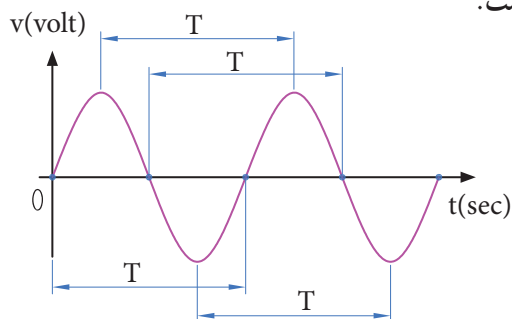


فیلم چگونگی تولید جریان متناوب سینوسی را مشاهده کنید و اطلاعات مهم آن را به خاطر بسپارید.

### ۳-۳- ویژگی‌های موج سینوسی

هر موج سینوسی دارای ویژگی زمان تناوب، فرکانس یا بسامد و دامنه است که به آن می‌پردازیم.

**زمان تناوب (T):** مدت زمانی که طول می‌کشد تا یک چرخه (دوره یا سیکل) کامل طی شود را زمان تناوب یا پریود موج گویند. شکل ۹-۳ زمان تناوب موج را نشان می‌دهد. زمان تناوب را با حرف T مشخص می‌کنند. واحد زمان تناوب، ثانیه است. اجزاء ثانیه، میلی ثانیه (msec)، میکروثانیه ( $\mu\text{sec}$ )، نانو ثانیه (nsec) و پیکو ثانیه (psec) است.



شکل ۹-۳- زمان تناوب موج سینوسی

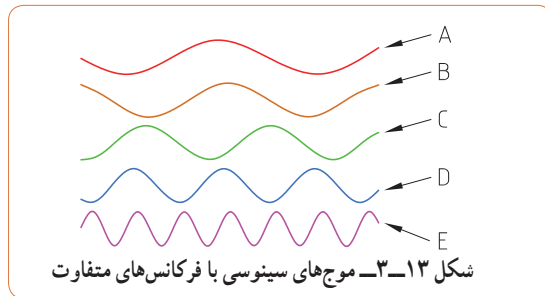


چه پدیده‌هایی می‌شناسید که حرکت آنها تناوبی است؟

● در مورد کمترین فرکانس و بیشترین فرکانس شناخته شده، پژوهش کنید و نتایج را به کلاس ارائه دهید.

● در مورد فرکانس موج‌های تولید شده توسط مغز انسان در حالات مختلف (حالت بیداری - خواب، در حالت دیدن رؤیا و سایر موارد) پژوهش کنید و نتایج را به کلاس ارائه دهید.

**پرسش:** در شکل ۱۳-۳ کدام موج فرکانس بیشتری دارد؟ کدام موج فرکانس کمتری دارد؟ مشخص کنید و دلیل آن را توضیح دهید.

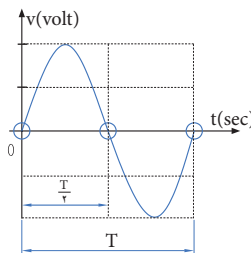


در مورد فرکانس کار میکروفر تحقیق کنید و نتیجه را به کلاس ارائه دهید.



**رابطه بین فرکانس و زمان تناوب:** به شکل موج سینوسی ۱۴-۳ توجه کنید، در زمان تناوب T یک سیکل از موج طی شده است، چون فرکانس تعداد سیکل‌ها در یک ثانیه است لذا با استفاده از یک تناسب ساده رابطه بین زمان تناوب و فرکانس به دست می‌آید.

$$\begin{matrix} \text{یک سیکل} & \rightarrow & f = \frac{1}{T} & \rightarrow & T = \frac{1}{f} \\ \text{X} & & & & \\ \text{یک ثانیه} & & & & \end{matrix}$$



شکل ۱۴-۳ زمان تناوب یک موج سینوسی

**الگوی پرسش**

۱ زمان تناوب موج سینوسی  $1 \mu\text{sec}$  است، فرکانس موج کدام است؟

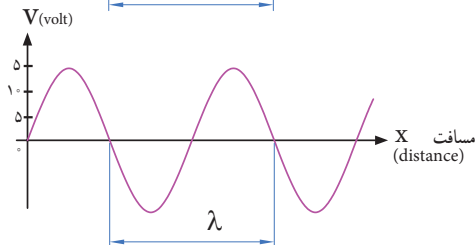
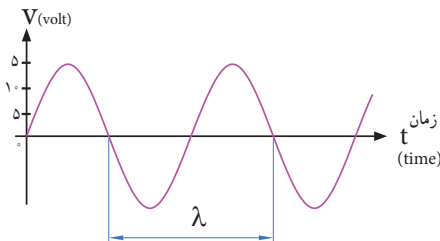
- ۱-  $1 \text{ kHz}$
- ۲-  $10 \text{ kHz}$
- ۳-  $100 \text{ kHz}$
- ۴-  $1 \text{ MHz}$

۲ اگر فرکانس یک موج صوتی  $f = 500 \text{ Hz}$  باشد زمان تناوب آن کدام است؟

- ۱- ۲ ثانیه
- ۲- ۲ میلی ثانیه
- ۳-  $0.5$  ثانیه
- ۴- ۱ ثانیه

**طول موج:** مسافتی را که موج در مدت زمان یک سیکل طی می‌کند، طول موج گویند و آن را با  $\lambda$  (لاندا) نشان می‌دهند. شکل ۱۵-۳ طول موج، یک موج سینوسی را نشان می‌دهد. مقدار طول موج از رابطه زیر قابل محاسبه است:

$$\lambda = v \times T$$



شکل ۱۵-۳ زمان تناوب یک موج سینوسی

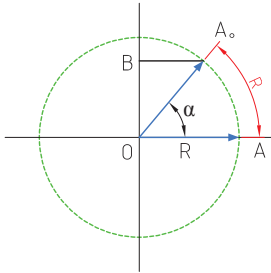
در این رابطه  $\lambda$  طول موج برحسب متر (m)،  $v$  سرعت موج برحسب متر بر ثانیه (m/sec) و  $T$  زمان تناوب برحسب ثانیه (sec) است. سرعت موج بستگی به محیطی دارد که موج در آن منتشر می‌شود. مثلاً صدای انسان در دمای محیط تقریباً دارای سرعت  $340$  متر بر ثانیه است. امواج الکترومغناطیس که با سرعت نور حرکت می‌کنند دارای سرعت  $C = 3 \times 10^8 \text{ m/sec}$  هستند.

شکل ۱۶-۳ در نظر بگیرید. اگر متحرک از نقطه A روی محیط دایره حرکت کند و مسافتی از محیط دایره را که برابر شعاع دایره است، طی کند، می‌گوییم زاویه پیموده شده یک رادیان است، به عبارت دیگر زاویه مقابل به کمانی از دایره که طول کمان برابر شعاع دایره باشد را یک رادیان گویند.

$$\text{درجه } 3 = 57 \text{ Rad} = 1 \text{ رادیان}$$

سرعت زاویه‌ای، زاویه پیموده شده بر حسب رادیان در مدت یک ثانیه است.  $\omega = \text{سرعت زاویه‌ای}$

$$\omega = \frac{\text{زاویه پیموده شده بر حسب رادیان}}{\text{زمان طی زاویه بر حسب ثانیه}} \rightarrow \omega = \frac{\alpha}{t}$$



شکل ۱۶-۳ زاویه برابر یک رادیان

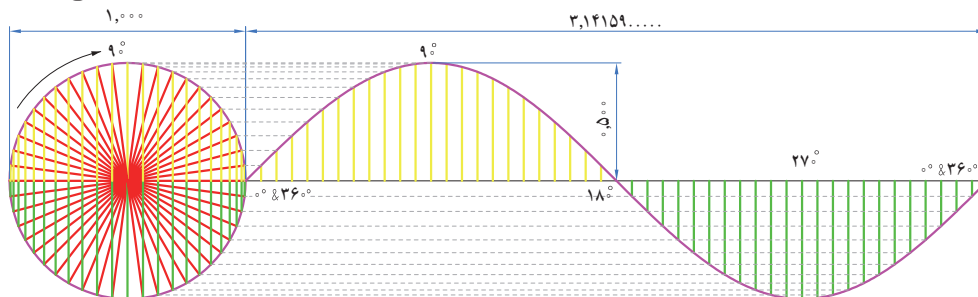
پویانمایی

به انیمیشن مربوط به پیمودن بردار شعاع دایره به اندازه  $36^\circ$  درجه و حرکت آونگ برای ایجاد موج سینوسی توجه کنید.

فکر کنید

محیط یک دایره با شعاع R برابر  $2\pi R$  است. زاویه پیموده شده در یک دور کامل حول محیط دایره که برابر  $360^\circ$  درجه است برابر با چند رادیان می‌شود؟

به شکل ۱۷-۳ توجه کنید، اگر بردار شعاع دایره محیط دایره را یک دور کامل بزند معادل یک سیکل موج سینوسی است.



شکل ۱۷-۳ یک سیکل موج سینوسی معادل  $360^\circ$  درجه است

**مثال ۲:** اگر یک ایستگاه رادیویی دارای فرکانس  $10^6$  مگاهرتز (MHZ) باشد و امواج رادیویی با سرعت امواج الکترومغناطیس در فضا پخش شوند، طول موج این ایستگاه چقدر است؟

پاسخ:  $\lambda = \frac{C}{F} = \frac{3 \times 10^8}{10^6} = 3 \text{ m}$

در مورد فرکانس و طول موج چند ایستگاه رادیویی پژوهش کنید و نتایج را به کلاس ارائه دهید.

اگر فرکانس شنوایی (AF=Audio Frequency) در فاصله  $20$  هرتز تا  $20$  کیلوهرتز باشد و سرعت انتشار صوت تقریباً  $340$  متر بر ثانیه در نظر گرفته شود، کمترین و بیشترین طول موج برای فرکانس شنوایی چند متر است؟

**سرعت زاویه‌ای:** سرعت، مقدار مسافتی است که متحرک در واحد زمان طی می‌کند، مثلاً وقتی می‌گویند سرعت یک اتومبیل  $80$  کیلومتر بر ساعت است، یعنی در صورتی که حرکت یکنواخت باشد این وسیله نقلیه در هر ساعت  $80$  کیلومتر راه را طی می‌کند. مقدار سرعت بر حسب مسافت طی شده از رابطه  $v = \frac{x}{t}$  به دست می‌آید. در این رابطه V سرعت بر حسب m/sec و x مسافت بر حسب m و t زمان بر حسب sec است.

اگر متحرک پیرامون یک مسیر دایره شکل حرکت کند، برای بیان سرعت از اصطلاح سرعت زاویه‌ای استفاده می‌کنند. سرعت زاویه‌ای را با امگا ( $\omega$ ) نشان می‌دهند. برای محاسبه سرعت زاویه‌ای، دایره‌ای به شعاع R را مطابق

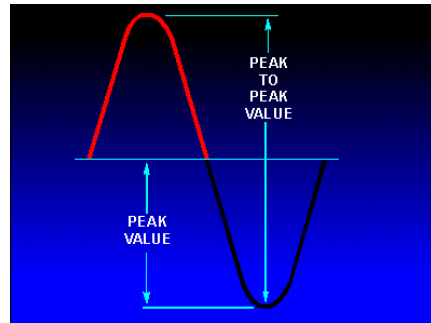
پژوهش



فکر کنید




زمان تناوب یک موج سینوسی معادل  $360^\circ$  درجه است. لذا سرعت زاویه‌ای از رابطه  $\omega = \frac{2\pi \text{Rad}}{T} = 2\pi f$  به دست می‌آید. **دامنه بیشینه موج سینوسی:** حداکثر مقدار دامنه ولتاژ یا جریان موج سینوسی در هر نیم سیکل را مقدار ماکزیمم یا بیشینه یا پیک (peak=max) موج سینوسی گویند. شکل ۱۸-۳ مقدار پیک مثبت و منفی یک موج سینوسی را نشان می‌دهد.



شکل ۱۸-۳ مقدار پیک مثبت و منفی یک موج سینوسی

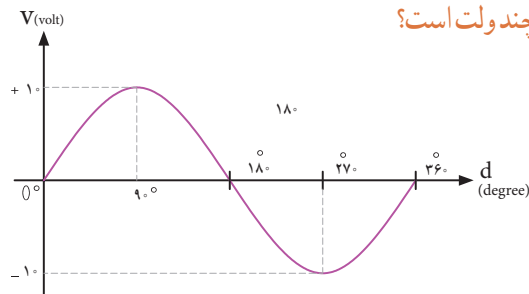
آیا پیک مثبت و منفی موج سینوسی شبیه قله و ته دره یک کوه مانند شکل ۱۹-۳ است؟ شرح دهید.

فکر کنید



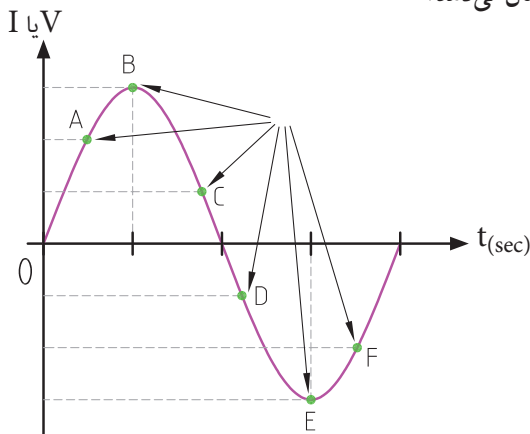
شکل ۱۹-۳ قله و دره مانند پیک تا پیک موج سینوسی

**پرسش:** مقدار پیک مثبت و منفی موج سینوسی شکل ۲۰-۳ چند ولت است؟



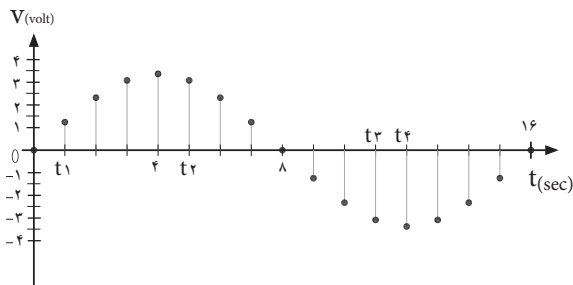
شکل ۲۰-۳ محاسبه مقدار پیک موج سینوسی

**دامنه لحظه‌ای موج:** به مقدار دامنه موج در هر لحظه از زمان، مقدار لحظه‌ای موج یا دامنه لحظه‌ای موج گویند. شکل ۲۱-۳ مقدار لحظه‌ای موج را در زمان‌های مختلف نشان می‌دهد.



شکل ۲۱-۳ مقدار لحظه‌ای موج سینوسی

**پرسش:** مقدار لحظه‌ای موج سینوسی شکل ۲۲-۳، در زمان‌های  $t_1 = 1 \text{ sec}$  و  $t_2 = 5 \text{ sec}$  و  $t_3 = 11 \text{ sec}$  و  $t_4 = 12 \text{ sec}$  چقدر است؟ مقدار تقریبی را در جدول بنویسید.



شکل ۲۲-۳ مقدار لحظه‌ای موج سینوسی

زمان	$t_1$	$t_2$	$t_3$	$t_4$
مقدار دامنه موج				