

پوشاک، نیازی پایان ناپذیر

فصل ۳



..... ﴿يُبْنِيْءَادَمَ قَدْ اَنْزَلْنَا عَلَیْكُمْ لِبَاسًا یُّوَارِیْ سَوَاتِیْكُمْ وَرِیْشًا...﴾ (سوره اعراف- آیه ۲۶)

ای فرزندان آدم! لباسی برای شما فرو فرستادیم که شما را می پوشاند و مایه زینت شماست و...

خداوند یکتا و آفریدگار هستی، جانوران را با پوشش هایی مانند پشم، پر، فلس و... آفریده است. انسان با بهره مندی از هوش و تجربه های برگرفته از طبیعت توانست نخستین پوشش خود را از پشم، مو و پوست جانوران تهیه کند. او با گذشت زمان از بافت های گیاهی نیز برای پوشش خود استفاده کرد. در گذر زمان با تشکیل جوامع بشری، پوشش انسان ها افزون بر پیشرفت و تبدیل شدن به صنعتی به نام پوشاک، دچار تنوع و گوناگونی شد، به طوری که امروزه پوشاک به شرایط آب و هوایی، فرهنگ، آداب و رسوم، باورها و... در هر جامعه بستگی دارد. اما اینکه پوشاک از چه موادی و چگونه تهیه می شوند؟ نقش دانش و فناوری در صنعت پوشاک چیست؟ ما را بر آن می دارد تا با بهره گیری از دانش شیمی در این فصل، در صدد یافتن پاسخ پرسش هایی از این دست باشیم.

آیا می‌دانید

یافته‌های باستان‌شناسی نشان می‌دهد که پیشینهٔ ریسندگی و بافندگی از الیافی مانند پشم، ابریشم، پنبه و کتان به هزاران سال پیش برمی‌گردد. به دیگر سخن، نساجی از کهن‌ترین صنایع در تمدن بشری است که با دوک نخ‌ریسی پایه عرصهٔ ظهور گذاشت.



انسان در طول تاریخ، همواره به دنبال تهیهٔ پوشاک مناسب بوده است. پوشاک افزون بر پوشش بدن، در تمدن بشری نقش بزرگی داشته است آن‌چنان که نوع پوشاک در هر قوم، نشان‌دهندهٔ توانایی و مهارت دستی، هنر، تصویرگری، دانش، فناوری و نیز آداب و رسوم آن قوم است. پوشاک، بدن را در برابر عوامل محیطی گوناگون مانند سرما و گرما، نور خورشید، باران، تگرگ، گزند حشرات و... نیز محافظت می‌کند. برای مثال کلاه لبه‌دار، سر و صورت را در برابر تابش نور خورشید و آفتاب سوختگی و نیز پوشیدن کفش، پاها را در برابر خاک، سنگ، اشیای سخت، سردی و داغی زمین محافظت می‌کند (شکل ۱).



شکل ۱- برخی پوشش‌ها برای حفاظت بدن در برابر عوامل محیطی

با رشد و گسترش دانش و فناوری در صنایع و ایجاد نیازهای جدید و خاص، پوشاک گوناگونی مانند انواع کلاه ایمنی، کفش پنجه فولادی، عینک ایمنی و... تولید شد. پوشش‌هایی که هر کدام ایمنی فیزیکی بدن را در شرایط دشوار و خطرناک به‌ویژه هنگام انجام فعالیت‌ها افزایش می‌دهد. به تازگی بشر با تکیه بر دانش و فناوری‌های نو توانسته است انواع تازه‌ای از پوشاک تولید کند که از بدن در برابر مواد شیمیایی مانند اسیدها، سموم، بخارهای سمی و غلیظ، پرتوها، آلودگی‌های عفونی، آتش، گلوله و... محافظت می‌کند (شکل ۲).



(پ)

(ب)

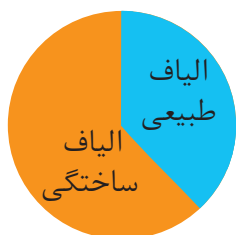
(الف)

شکل ۲- چند نمونه پوشاک، (الف) لباس غواصی، (ب) لباس فضانورد، (پ) لباس آتش‌نشان

انسان در گذشته پوشاک خود را از مواد طبیعی مانند پشم گوسفند و شتر، پوست، چرم، پنبه و... تهیه می‌کرد. با رشد جمعیت جهان، مصرف پوشاک به میزان چشمگیری افزایش یافت، به طوری که روش‌های سنتی تولید پوشاک دیگر پاسخگوی نیازهای جامعه نبود.

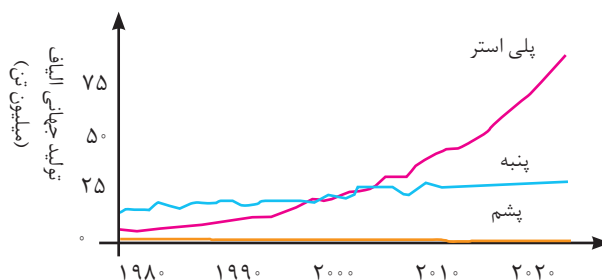
آیا می دانید

● سنگ نگاره ای با قدمتی حدود ۳۰۰۰ سال، تصویر یک زن عیلامی را در حال نخ‌ریسی نشان می‌دهد که خدمتگزاری در حال باد زدن اوست.



● میزان نسبی الیاف تولید شده در جهان

به همین دلیل صنعت نساجی به شکل صنعتی و امروزی پدیدار شد، صنعتی که با بهره‌گیری از فناوری‌های نو به تولید پوشاک پرداخت. اما موفقیت این صنعت در گرو تأمین الیاف^۱ مورد نیاز بود. از آنجا که منابع طبیعی محدود بود، الیاف تولید شده پاسخگوی نیاز صنایع نساجی و جامعه نبود. گویی زمان آن رسیده بود که شیمی‌دان‌ها طلای سیاه را به کار بگیرند و الیافی جدید تولید کرده و راهی شرکت‌های نساجی کنند. با گذشت زمان تلاش شیمی‌دان‌ها نتیجه داد و در طول چند دهه، انواع گوناگونی از الیاف ساختگی بر پایه نفت، شناسایی و تولید شد؛ الیافی که جایگزین الیاف طبیعی شد و امروزه بخش عمده پوشاک را تشکیل می‌دهد. آمارها نشان می‌دهند که در سال ۲۰۱۴ میلادی نزدیک به صد میلیون تن انواع الیاف در جهان تولید و مصرف شده است (نمودار ۱).



نمودار ۱- روند تولید الیاف پشمی، نخی و پلی استری در جهان.

آیا می دانید



● با وجود گسترش صنعت نساجی و پوشاک، تولید فراورده‌های دستی به دلیل بی‌نظیر، محدود و خاص بودن اهمیت و جایگاه ویژه‌ای در زندگی انسان‌ها دارند. کفش گیوه^۲ اورامانات یکی از این موارد است. کفشی که دست‌دوز بوده و همتایی ندارد. این پوشش بسیار انعطاف‌پذیر، سبک و محکم است و امکان جابه‌جایی هوا دارد. این کفش در زبان محلی به کَلاش معروف است.

خود را بیازمایید

در هریک از جاهای خالی یکی از واژه‌های «نخ^۲، الیاف، دوزندگی، فراوری و بافندگی» را قرار دهید.



۱- Fibers
۲- Reel

آیا می دانید

الیاف جمع لیف است. لیف رشته های نازک، بلند و موماندی با استحکام و انعطاف پذیری مناسب است. از کنار هم قرار گرفتن این رشته ها، الیاف به دست می آید. در واقع با تنیدن لیف ها، الیاف را تولید می کنند.

آیا می دانید

سلولز از اتصال حدود ۳۰۰۰ مولکول گلوکز به یکدیگر تشکیل می شود، از این رو فرمول مولکولی آن به تقریب $C_{18000}H_{32000}O_{15100}$ است. با این توصیف جرم مولی سلولز در حدود ۴۷۸۰۰۰ گرم است. توجه کنید هر مولکول سلولز هنوز آن قدر کوچک است که قابل دیدن نیست.

آیا می دانید

تمدن های آغازین را بر اساس گستره کاربری مواد به سه دوره سنگی، برنزی و آهنی نام گذاری می کنند. تاریخ آغاز این دوره ها به ترتیب به ۲/۵ میلیون، ۳۵۰۰ و ۱۰۰۰ سال پیش از میلاد برمی گردد.

در میان تار نما ها

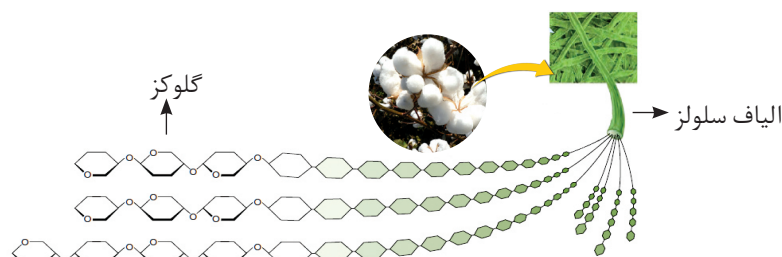
با مراجعه به منابع اینترنتی معتبر درباره نام و ویژگی های برخی پوشاک اقوام ایرانی اطلاعاتی جمع آوری و به کلاس گزارش کنید.

الیاف ساختگی، الیافی هستند که در طبیعت یافت نمی شود بلکه از واکنش بین مواد شیمیایی در شرکت های پتروشیمی تولید می شوند. در واقع اغلب فراورده های پتروشیمیایی برای تولید انواع گوناگون الیاف مانند پلی استر، نایلون و... به کار می روند. از این الیاف افزون بر تهیه پارچه و پوشاک، به طور گسترده ای در تهیه (انواع پوشش ها، ظروف نجسب، یکبار مصرف و پلاستیکی) فرش، پرده و... استفاده می شود.

اکنون این پرسش ها مطرح می شوند که الیاف ساختگی چه موادی هستند؟ چه ساختاری دارند؟ چه رابطه ای بین ساختار و رفتار آنها وجود دارد؟ آیا شناخت ویژگی های ماده و به ویژه ترکیب های آلی می تواند به تولید الیاف جدید منجر شود؟ آیا می توان الیافی تهیه کرد که در پزشکی به کار آید؟ واکنش های شیمیایی تولید الیاف در چه شرایطی انجام می شوند؟ مولکول های سازنده الیاف چه ویژگی هایی دارند؟ برای یافتن پاسخ این پرسش ها و پرسش هایی از این دست با ما همراه شوید.

الیاف و درشت مولکول ها

پنبه یکی از الیاف طبیعی است که در تولید پوشاک سهم قابل توجهی دارد. آمارها نشان می دهد که حدود نیمی از لباس های تولیدی در جهان از پنبه تهیه می شود. از پنبه افزون بر تولید پوشاک در تولید روبه مبیل، پرده، تور ماهیگیری، گاز استریل و... استفاده می شود. می دانید که پنبه از الیاف سلولز تشکیل شده، زنجیری بسیار بلند که از اتصال شمار بسیار زیادی مولکول گلوکز به یکدیگر ساخته می شود (شکل ۳). با این توصیف شمار اتم های سازنده هر مولکول سلولز، بسیار زیاد بوده و اندازه مولکول آن بزرگ است.



شکل ۳- نمایی ساده از الیاف سلولز و مولکول های سازنده آن در پنبه

با توجه به شکل‌های زیر به پرسش‌ها پاسخ دهید.



الف) جدول را کامل کنید.

نام ماده	اندازهٔ مولکول		جرم مولی		شمار اتم‌ها	
	کوچک یا متوسط	بسیار بزرگ	کم یا متوسط	بسیار زیاد	کم یا متوسط	بسیار زیاد
آب						
پلی اتن						
پروپان						
نشاسته گندم						
انسولین		*		*		*
سلولز						

آیا می‌دانید

نام ماده	جرم مولی (g mol^{-1})
اتن	۲۸/۰۵
اتانول	۴۶/۰۷
انسولین	۵۸۳۱/۶۵
نایلون	۱۰۴-۱۰۶
پلی اتن	۱۰۴-۱۰۵

ب) به دسته‌ای از ترکیب‌های جدول، درشت مولکول می‌گویند. این مفهوم را در یک سطر تعریف کنید.

پ) درشت مولکول‌های جدول صفحه قبل را با هم مقایسه کنید. چه شباهت‌ها و تفاوت‌هایی دارند؟

ت) در کدام مولکول‌ها بخش‌هایی هست که در سرتاسر مولکول تکرار شده است؟
ث) سلولز و نشاسته، پلیمر (بسیار) اند، با توجه به ساختار آنها پلیمر را تعریف کنید.
ج) پیش‌بینی کنید نیروی بین مولکولی در کدام دسته از مواد قوی‌تر است؟ چرا؟

● واژه پلیمر از واژه یونانی polys، به معنای «بسیار» و meros به معنای «پاره» گرفته شده است.

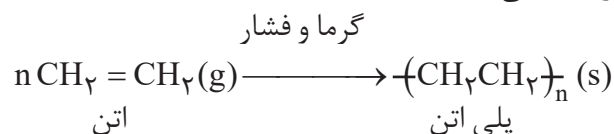
آیا می‌دانید

مولکول‌های گاز اتن در دمای 500°C و فشار 1000 atm با یکدیگر واکنش داده و به پلی‌اتن تبدیل می‌شوند.

می‌دانید که ترکیب مولکولی، ترکیبی است که ذره‌های سازنده آن مولکول‌ها هستند. برای مثال کربن دی اکسید (CO_2)، برم (Br_2)، متان (CH_4)، آب (H_2O)، آمونیاک (NH_3)، گوگرد تری اکسید (SO_3)، هیدروکربن‌ها و... نمونه‌هایی از این ترکیب‌ها هستند. این مولکول‌ها کوچک بوده و شمار اتم‌های سازنده آنها کم بوده، در نتیجه جرم مولی آنها کم تا متوسط است. در حالی که مولکول برخی ترکیب‌ها مانند سلولز، نشاسته و پروتئین موجود در پشم، ابریشم و... بسیار بزرگ است به طوری که شمار اتم‌های آنها به ده‌ها هزار می‌رسد، از این رو به درشت مولکول معروف‌اند. درشت مولکول‌های دیگری مانند پلی‌اتن، نایلون، تفلون و... نیز وجود دارند که در طبیعت یافت نمی‌شوند و ساختگی هستند. این مواد از واکنش پلیمری شدن (بسیارش) تهیه می‌شوند.

پلیمری شدن^۱ (بسیارش)

پلیمری شدن واکنشی است که در آن مولکول‌های کوچک در شرایط مناسب به یکدیگر متصل می‌شوند و مولکول‌هایی با زنجیرهای بلند و جرم مولی زیاد تولید می‌کنند. برای نمونه هرگاه گاز اتن را در فشار بالا گرما دهیم، جامد سفیدرنگی به دست می‌آید. بررسی‌ها نشان می‌دهد که جرم مولی این فراورده، اغلب ده‌ها هزار گرم بر مول است. زیاد بودن جرم مولی بیانگر این است که در ساختار هر مولکول آن هزاران اتم کربن و هیدروژن وجود دارد. معادله زیر واکنش شیمیایی انجام شده را توصیف می‌کند.

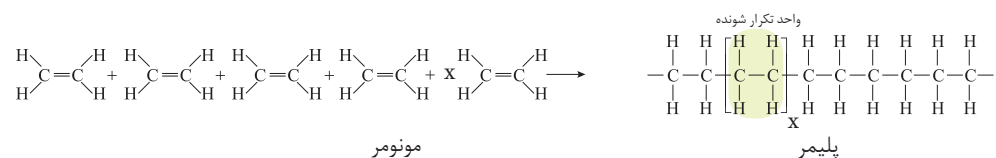


با دقت در ساختار پلی‌اتن (فراورده) در می‌یابید که هیدروکربنی سیر شده است زیرا هر اتم کربن در آن با چهار پیوند اشتراکی یگانه به چهار اتم دیگر متصل است، در حالی که در یک مولکول اتن هر اتم کربن به سه اتم دیگر متصل است. با این توصیف در طی این واکنش یکی

آیا می دانید

سالانه در حدود ۱۰۰,۰۰۰,۰۰۰,۰۰۰ کیلوگرم بسیار در شرکت های پتروشیمی در سراسر دنیا تولید می شود، به طوری که سرانه آن به ازای هر نفر حدود ۱۵ کیلوگرم برآورد می شود.

از پیوندهای دوگانه در اتن شکسته شده و مولکول‌های اتن از سوی اتم‌های کربن به یکدیگر متصل می‌شوند. با ادامهٔ این روند، شمار زیادی از مولکول‌های اتن به یکدیگر افزوده شده و مولکول‌هایی با زنجیر کربنی بلند ایجاد می‌شوند (شکل ۴).



به یاد داشته باشید هر ترکیب آلی که در ساختار خود پیوند دوگانه کربن-کربن ($\text{C}=\text{C}$) در زنجیر کربنی داشته باشد، می‌تواند در این نوع واکنش پلیمری شدن شرکت کند. بر همین اساس، ترکیب‌های سیر نشده و حاوی چنین پیوندی در زنجیر کربنی می‌توانند در صنایع پتروشیمی با تأمین شرایط مناسب واکنش داده و پلیمرهای گوناگونی تولید کنند.

آیا می‌دانید

پلی‌وینیل استات پلیمری است که در تهیه انواع پاستیل به کار می‌رود.








آیا می‌دانید

قرار دادن لایه‌ای از پلی‌وینیل کلرید بین دو صفحه شیشه‌ای مانع از فرو ریختن خرده‌های آن در اثر ضربه می‌شود.



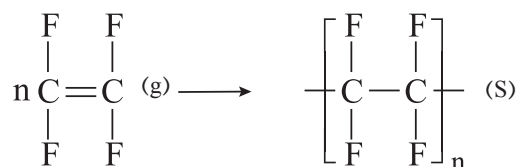
خود را بیازمایید

در جدول زیر هر یک از جاهای خالی را پر کنید.

نام و ساختار مونومر	نام و ساختار پلیمر	کاربرد پلیمر
.....	$\left[\begin{array}{c} \text{H} \\ \\ \text{CH}_2 - \text{C} \\ \\ \text{CN} \end{array} \right]_n$ <p>پلی سیانواتن</p>	 پتو
$\text{CH}_2 = \begin{array}{c} \text{H} \\ \\ \text{C} \\ \\ \text{CH}_3 \end{array}$ <p>پروپن</p>	<p>.....</p> <p>پلی پروپن</p>	 سرنگ
..... استیرن	$\left[\begin{array}{c} \text{H} \\ \\ \text{CH}_2 - \text{C} \\ \\ \text{C}_6\text{H}_5 \end{array} \right]_n$ <p>.....</p>	 ظروف یکبار مصرف
$\begin{array}{c} \text{F} & & \text{F} \\ & \diagdown & / \\ & \text{C} = \text{C} \\ & / & \diagdown \\ \text{F} & & \text{F} \end{array}$ <p>تترافلورو اتن</p>	<p>.....</p> <p>تفلون</p>	 نخ دندان
.....	$\left[\begin{array}{c} \text{H} \\ \\ \text{CH}_2 - \text{C} \\ \\ \text{Cl} \end{array} \right]_n$ <p>پلی وینیل کلرید</p>	 کیسه خون

«بخت، یار ذهن‌های آماده است»

تفلون نام تجاری پلیمری است که کشف اتفاقی آن، بلانکت را به شهرت و ثروت رساند. ماجرا در سال ۱۹۲۰ اتفاق افتاد. بلانکت و گروه پژوهشی او در حال بررسی و مطالعه انواع سردکننده‌ها بودند. یکی از گازهایی که آنها مصرف می‌کردند، تترافلوئورواتن بود. یک روز هنگامی که بلانکت شیر کپسول گاز را باز کرد، متوجه شد که گاز خارج نمی‌شود. او تصور کرد که مسیر خروج گاز بسته است، از این‌رو تلاش کرد تا مسیر را باز کند، اما هیچ چیز نبود و او تعجب کرد. کنجکاوی وی سبب شد موضوع را بیشتر پیگیری کند. بلانکت برای یافتن دلیل آن، جرم کپسول را اندازه‌گیری کرد و با نتیجه غیرمنتظره‌ای روبه‌رو شد. جرم کپسول مورد نظر با کپسول پر از گاز برابر بود! پافشاری وی برای حل مسئله، باعث شد تا او کپسول را برش دهد و داخل آن را مشاهده کند. او پس از برش کپسول با منظره تازه‌ای روبه‌رو شد. لایه نازکی از یک ماده جامد ته کپسول تشکیل شده بود. بررسی دقیق‌تر نشان داد که این ماده جامد از پلیمری شدن تترافلوئورواتن به دست آمده است.



ناخودآگاه توفیق بزرگی نصیب بلانکت شده بود زیرا تفلون در مدت کوتاهی کاربردهای گسترده‌ای در صنعت و زندگی یافت (شکل ۶).



شکل ۶- برخی کاربردهای تفلون

تفلون، نقطه ذوب بالایی دارد و در برابر گرما مقاوم است. این پلیمر از نظر شیمیایی بی‌اثر است و با مواد شیمیایی واکنش نمی‌دهد، در حلال‌های آلی حل نمی‌شود و نجسب است. این ویژگی‌ها دلیل کاربرد وسیع این پلیمر است.

به نظر شما شانس و اتفاق تا چه اندازه در پیشبرد علم سهم دارند؟

پلی اتن یکی از مهم ترین پلیمرهای ساختگی است که سالانه میلیون ها تن از آن در شرکت های پتروشیمی تولید شده و برای ساخت وسایل گوناگون استفاده می شود (شکل ۷).




شکل ۷- برخی کاربردهای پلی اتن

همان طور که مشاهده می کنید کالاهای ساخته شده از پلی اتن ویژگی های گوناگونی دارند. برخی مانند کیسه پلاستیک موجود در مغازه ها و فروشگاه ها شفاف بوده و کمی انعطاف پذیرند در حالی که برخی دیگر مانند لوله های پلاستیکی، دبه های آب یا بطری کدر شیر، سخت تر و محکم تر هستند. یک تفاوت آشکار دیگر بین آنها تفاوت در چگالی است. آیا می دانید چگونه ممکن است این مواد از یک نوع پلیمر با مونومرهای یکسان تولید شوند، اما ویژگی های متفاوت و گاهی متضاد داشته باشند؟ آیا ساختار مولکول های سازنده این کالاها یکسان است؟

یافته های تجربی نشان داد که اتن در شرایط گوناگون، با انجام واکنش پلیمری شدن فراورده هایی با ساختار متفاوت پدید می آورد. نوعی پلی اتن، چگالی کمتری داشته و شفاف است، از این رو به **پلی اتن سبک**^۱ معروف است در حالی که **پلی اتن سنگین**^۲، چگالی بیشتری داشته و کدر است. شکل ۸ ساختار کلی این پلی اتن ها را نشان می دهد.

همان طور که در شکل ۸ می بینید، مولکول های اتن می توانند به دو صورت به یکدیگر افزوده شوند و دو فراورده متفاوت ایجاد کنند. مولکول های اتن در شرایط معین پشت سرهم به یکدیگر متصل شده و زنجیرهای بلند و بدون شاخه ایجاد می شود. اما در

یافتن روش مناسب و شرایط بهینه برای انجام واکنش های شیمیایی آن قدر مهم است که به مناسب ترین روش ها جایزه نوبل اختصاص می دهند. یافتن روش مناسب برای تولید پلی اتن سنگین (بدون شاخه) سال ها طول کشید و در نهایت دو شیمی دان آلمانی و ایتالیایی به نام های کارل زیگلر (Karl Ziegler، ۱۸۹۸-۱۹۷۳) و گیولیو ناتا (Giulio Natta، ۱۹۰۳-۱۹۷۹) برنده جایزه نوبل شیمی شدند. آنها موفق شدند کاتالیزگری بیابند که واکنش پلیمری شدن اتن را بدون ایجاد شاخه فرعی پیش می برد.




● پلی اتن مذاب را در دستگاهی با عمل دمیدن هوا به ورقه نازک پلاستیکی تبدیل می کنند.

۱- Low Density Poly Ethene (LDPE)

۲- High Density Poly Ethene (HDPE)

شرایطی دیگر برخی مولکول‌های اتن از کناره‌ها به یکدیگر افزوده شده و زنجیرهای شاخه‌دار تولید می‌شود.



شکل ۸- ساختار دو نوع پلی اتن

خود را بیازمایید

داده‌های تجربی نشان می‌دهد که چگالی پلی اتن‌های نشان داده شده در شکل ۸ برابر با $97/0$ و $92/0$ گرم بر سانتی‌متر مکعب است.

الف) کدام چگالی به کدام پلی اتن تعلق دارد؟ چرا؟

ب) کدام پلی اتن سبک و کدام سنگین است؟

پ) نیروی بین مولکولی در پلی اتن چیست؟


ت) چرا استحکام پلی اتن سنگین از سبک بیشتر است؟

تاکنون با پلیمرهایی آشنا شدید که از واکنش مونومرهای دارای پیوند دوگانه کربن-کربن در زنجیر کربنی به دست می‌آیند. افزون بر آنها در صنعت، پلیمرهای دیگری نیز ساخته شده است، پلیمرهایی که در ساختار آنها افزون بر اتم‌های کربن و هیدروژن، اتم‌های دیگری مانند اکسیژن، نیتروژن و... وجود دارند. در ادامه با تهیه، ساختار و کاربرد این پلیمرها آشنا می‌شوید.

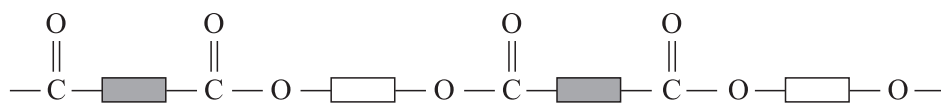
پلی استرها

نیاز به تولید پوشاک بیشتر و با کاربردهای گسترده‌تر، شیمی دان‌ها را برای یافتن پلیمرهای جدید تشویق می‌کرد. آنها با بررسی رفتار انواع مواد آلی، موفق به تهیه و ساخت پلیمرهایی شدند که در ساختار آنها اتم‌های اکسیژن و نیتروژن نیز وجود داشت. پلی استرها دسته‌ای از آنها هستند که از اتم‌های C، H و O تشکیل شده‌اند. از این پلیمرها می‌توان الیاف، نخ و در

نهایت پارچه‌های پلی استری تولید کرد. شکل ۹ نمایی از ساختار کلی پلی استرها را نشان می‌دهد.

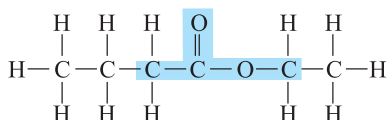



• بوی خوش گل یاسمن به دلیل وجود نوعی استر است.



شکل ۹- الگویی از ساختار پلی استرها

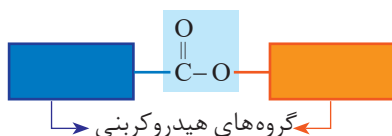
برای اینکه بدانید چنین پلیمرهایی از چه موادی تهیه می‌شوند، افزون بر گروه عاملی هیدروکسیل باید با گروه عاملی، کربوکسیل و به‌ویژه گروه عاملی استر و برخی رفتار آنها بیشتر آشنا شوید. استرها دسته‌ای از مواد آلی هستند که منشأ بوی خوش شکوفه‌ها، گل‌ها، عطرها و نیز بو و طعم میوه‌ها هستند. برای نمونه، بو و طعم خوش آناناس به دلیل وجود اتیل بوتانوات در آن است (شکل ۱۰).



شکل ۱۰- ساختار لوویس و اتیل بوتانوات

با دقت در ساختار مولکول استر در می‌یابید که به گروه عاملی آن دو بخش یا دو زنجیر هیدروکربنی متصل است. در یک سوی آن گروه هیدروکربنی به اتم اکسیژن و در سوی دیگر آن به اتم کربن این گروه متصل است. در ادامه خواهید دید که گروه عاملی استری از واکنش یک الکل با یک کربوکسیلیک اسید ایجاد می‌شود (شکل ۱۱).

گروه عاملی استر



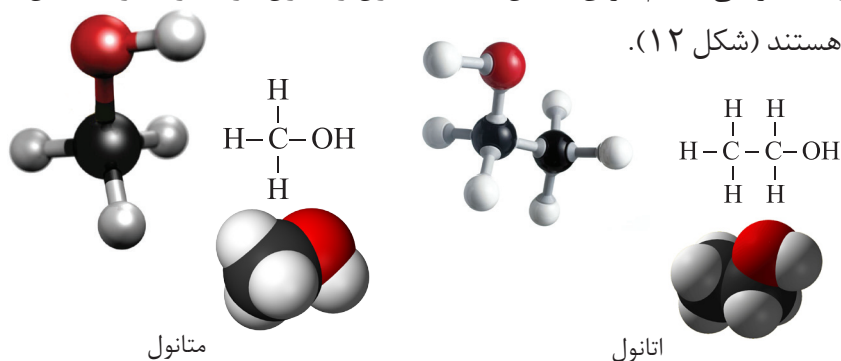
شکل ۱۱- نمایش گروه عاملی استر

الکل‌ها و اسیدها

آیا می‌دانید

متانوائیک اسید ساده‌ترین اسید آلی است که در سال ۱۶۷۰ کشف شد و چون از تقطیر مورچه سرخ به دست می‌آمد، نام فورمیک اسید یا جوهر مورچه بر آن نهادند. در زبان لاتین به مورچه فورمیکا می‌گویند.

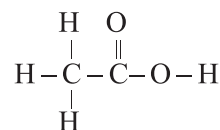
آموختید الکل‌ها ترکیب‌هایی هستند که در ساختار آنها یک گروه هیدروکسیل (OH) با یک پیوند اشتراکی به اتم کربن متصل است. متانول و اتانول دو عضو خانواده الکل‌های یک عاملی هستند (شکل ۱۲).



شکل ۱۲- فرمول ساختاری، فضاپرکن و گلوله-میله متانول و اتانول

الکل‌های یک عاملی را می‌توان با فرمول ROH نشان داد که در آن، R یک زنجیر هیدروکربنی است.

کربوکسیلیک اسیدها نیز دسته‌ای دیگر از ترکیب‌های آلی هستند که گروه عاملی کربوکسیل (COOH) دارند. این ترکیب‌ها مزه ترش دارند به طوری که مزه ترش میوه‌هایی مانند ریواس، انگور، لیمو ترش، کیوی، گوجه سبز و... ناشی از وجود چنین مولکول‌هایی در آنهاست. متانوائیک (فورمیک) اسید HCOOH اولین عضو خانواده کربوکسیلیک اسیدهاست که بر اثر گزش مورچه سرخ وارد بدن شده و باعث سوزش و خارش در محل گزیدگی می‌شود. اتانوائیک اسید (استیک اسید) یک اسید دو کربنی است که یکی از پرکاربردترین اسیدها در زندگی روزانه است (شکل ۱۳).



شکل ۱۳- ساختار استیک اسید و کاربردی از آن

کربوکسیلیک اسیدهای یک عاملی را می‌توان با فرمول RCOOH یا $\text{R}-\overset{\text{O}}{\parallel}{\text{C}}-\text{OH}$ نشان داد که در آن R ، یک زنجیر هیدروکربنی است.

با هم بیندیشیم

۱- با توجه به دو ساختار داده شده به پرسش‌ها پاسخ دهید:



- الف) پیش‌بینی کنید چه نوع نیروهای بین مولکولی در این دو الکل وجود دارد؟
 ب) مولکول این الکل‌ها دو بخش قطبی و ناقطبی دارند. با توجه به اینکه گشتاور دوقطبی هیدروکربن‌ها حدود صفر است، این دو بخش را در هر مولکول بالا مشخص کنید.
 پ) پیش‌بینی کنید در شرایط یکسان انحلال‌پذیری کدام الکل در آب بیشتر است؟
 ت) درستی پیش‌بینی خود را با توجه به داده‌های جدول زیر بررسی کنید.

فرمول الکل	انحلال پذیری (g/100 g H ₂ O)
CH ₃ CH ₂ OH	به هر نسبتی حل می‌شود
CH ₃ CH ₂ CH ₂ CH ₂ CH ₂ CH ₂ CH ₂ CH ₂ CH ₂ OH	۰/۰۴۶

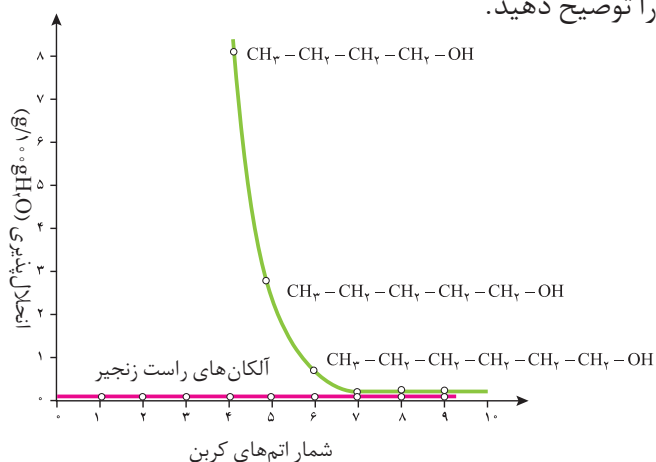
ث) درباره درستی جمله زیر گفت‌وگو کنید.

«با افزایش طول زنجیر هیدروکربنی در الکل‌ها، نیروی وان‌دروالس بر هیدروژنی غلبه

می‌کند و ویژگی ناقطبی الکل افزایش می‌یابد.»

ج) نمودار زیر انحلال‌پذیری الکل‌ها را در مقایسه با هیدروکربن‌ها در آب نشان می‌دهد.

روند تغییر آنها را توضیح دهید.



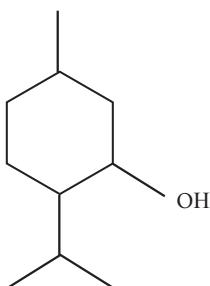
دریافتید که مولکول الکل‌ها دو بخش قطبی و ناقطبی دارد. زنجیر هیدروکربنی، بخش ناقطبی مولکول و گروه عاملی هیدروکسیل، بخش قطبی مولکول را تشکیل می‌دهد. بنابراین

آیا می دانید

منتول الکلی است که بوی نعنای و سوسنبر ناشی از آن است. از منتول در تهیه برخی آدامس ها، آب نبات ها و داروها استفاده می شود.



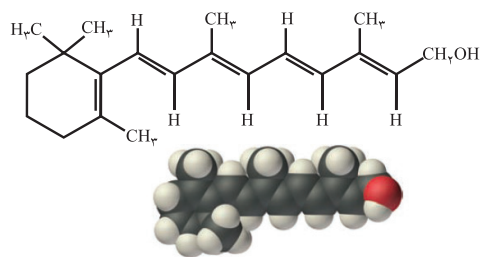
شاید تاکنون با افرادی روبه رو شده اید که از گرفتگی عضلات، کمردرد، دردهای عضلانی و درد مفاصل رنج می برند. این افراد برای کاهش درد خود از پمادهای موضعی گوناگونی استفاده می کنند که دارای چندین ماده آلی هستند. یکی از ترکیب های آلی موجود در برخی از آنها منتول است.



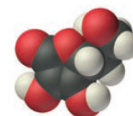
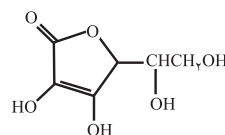
در الکل ها دو نوع نیروی بین مولکولی هیدروژنی و وان دروالسی وجود دارد. به طوری که در الکل های کوچک و تا پنج کربن، بخش قطبی بر ناقطبی غلبه دارد و الکل در آب محلول است. به دیگر سخن نیروی بین مولکولی غالب در الکل ها تا پنج کربن از نوع هیدروژنی بوده و به همین دلیل به خوبی در آب حل می شوند. اما با افزایش شمار اتم های کربن، بخش ناقطبی مولکول بزرگ تر شده و میزان قطبیت مولکول کاهش می یابد. این روند سبب می شود که الکل های بزرگ تر در آب حل نشوند بلکه در چربی حل شوند. از این رو ویژگی چربی دوستی الکل ها با افزایش شمار اتم های کربن، افزایش می یابد. به بیان دیگر، هرچه شمار اتم های کربن الکل ها بیشتر شود، ویژگی آب گریزی آنها افزایش می یابد.

خود را بیازمایید

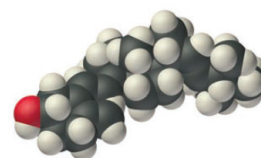
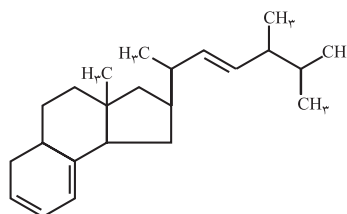
۱- کدام ویتامین های زیر در آب و کدام ها در چربی حل می شود؟ چرا؟
(الف) ویتامین آ



(ب) ویتامین ث

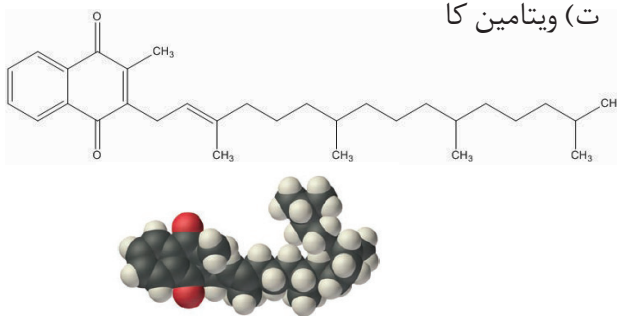


(پ) ویتامین دی





ت) ویتامین کا



۲- مصرف بیش از اندازه کدام دسته از ویتامین‌ها برای بدن مشکل خاصی ایجاد نمی‌کند؟ چرا؟

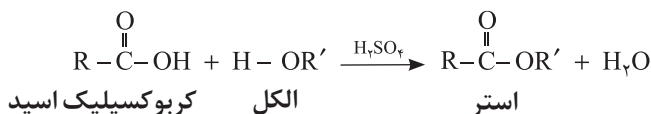
۳- گروه‌های عاملی موجود در هر یک از ترکیب‌های بالا را مشخص کنید.

۴- عبارت زیر را با خط زدن واژه نادرست در هر مورد کامل کنید.

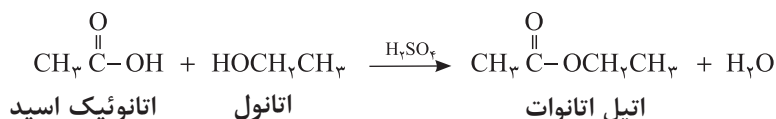
در ترکیب‌های آلی مانند الکل‌ها و کربوکسیلیک اسیدها که دو بخش قطبی و ناقطبی دارند، با افزایش طول زنجیر کربنی بخش $\frac{\text{ناقطبی}}{\text{قطبی}}$ بزرگ‌تر می‌شود، قطبیت مولکول $\frac{\text{کاهش}}{\text{افزایش}}$ می‌یابد و انحلال‌پذیری آن در آب $\frac{\text{بیشتر}}{\text{کمتر}}$ می‌شود.

واکنش استری شدن

یکی از ویژگی‌های مهم و کاربردی کربوکسیلیک اسیدها و الکل‌ها، واکنش میان آنهاست. این مواد در شرایط مناسب واکنش می‌دهند و با از دست دادن آب، به استر تبدیل می‌شوند. معادله زیر واکنش شیمیایی انجام شده را توصیف می‌کند.



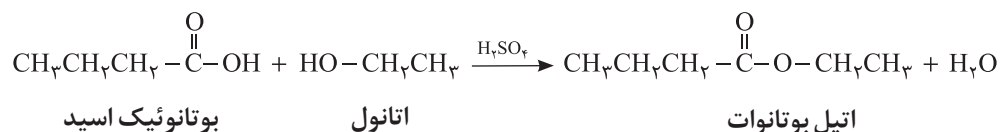
با این توصیف از واکنش استیک اسید با اتانول، طبق معادله زیر اتیل استات به دست می‌آید.



آیا می‌دانید

طعم یک ماده غذایی و میوه از کنار هم قرار گرفتن شمار زیادی از ترکیب‌های شیمیایی ایجاد می‌شود. برای مثال، پرتقال دارای ۲۵۰ نوع ماده شیمیایی است که با هم طعم آن را می‌سازند. استرها از مواد اصلی سازنده طعم و بوی مواد غذایی هستند. شیمی‌دان‌ها با شناسایی اجزای سازنده طعم‌های گوناگون، آنها را در آزمایشگاه و صنعت تهیه و تولید می‌کنند.

به همین ترتیب می‌توان اتیل بوتانات را در مقیاس صنعتی تولید و از آن برای تولید شوینده با بوی آناناس استفاده کرد.



خود را بیازمایید

با رسم ساختار الکل و اسید سازنده برای هر یک از استرهای داده شده در جدول زیر، آن را کامل کنید.

نام میوه	ساختار الکل سازنده	ساختار اسید سازنده	ساختار استر
موز			
سیب			
انگور			

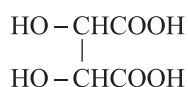


آیا می‌دانید

اسیدهای موجود در انگور و ریواس به ترتیب تارتاریک اسید و اگزالیک اسید نام دارند.



HOOCCH₂COOH



اکنون با توجه به واکنش استری شدن، می‌توان نتیجه گرفت که از واکنش یک کربوکسیلیک اسید دو عاملی با یک الکل دو عاملی در شرایط مناسب، یک پلی استر تولید می‌شود. در مرحله نخست این واکنش، یکی از گروه‌های هیدروکسیل موجود در الکل با یکی از گروه‌های کربوکسیل موجود در اسید ترکیب شده و با از دست دادن آب، گروه عاملی استری را ایجاد می‌کند (شکل ۱۴).



شکل ۱۴- الگویی از واکنش استری شدن بین یک کربوکسیلیک اسید و الکل دو عاملی

همان‌طور که در شکل ۱۴ می‌بینید در ساختار فرآورده، همچنان یک گروه عاملی هیدروکسیل و یک گروه عاملی کربوکسیل وجود دارد. این ساختار نوید می‌دهد که واکنش استری شدن می‌تواند ادامه پیدا کند، آن‌چنان که از یک سو با عامل اسیدی و از سوی دیگر با عامل الکلی در واکنش شرکت می‌کند.

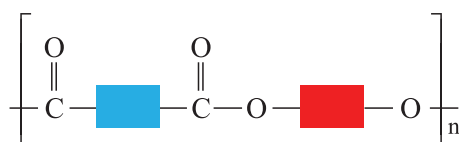
با ادامه این روند مولکول‌های بیشتری و بیشتری با یکدیگر واکنش می‌دهند و سرانجام مولکول‌هایی با زنجیر بلند و شمار زیادی عامل استری تشکیل می‌شود. فرآورده‌ای که

آیا می دانید

نخ‌های خیاطی از جنس پلی استر هستند. هر چه مولکول سازنده پلی استر طولانی‌تر باشد، نیروی بین آنها قوی‌تر و استحکام نخ آن بیشتر است.



پلی استر^۱ نامیده می‌شود. الگوی زیر فرمول پلی استر تولید شده را نشان می‌دهد.



نمایشی از فرمول عمومی پلی استر

می‌دانید که رفتار و ویژگی‌های مواد به ساختار آنها بستگی دارد. بنابراین با استفاده از کربوکسیلیک اسیدها و الکل‌های دو عاملی گوناگون، پلی استرهایی با ساختار متفاوت و گوناگون می‌توان تهیه کرد. پلیمرهایی که به دلیل داشتن خواص معین و منحصر به فرد، کاربردهای ویژه‌ای دارند. گوناگونی رفتار پلیمرها سبب شد تا شیمی‌دان‌های بیشتری به بررسی واکنش پلیمری شدن علاقه‌مند شوند. نتیجه این بررسی‌ها شناسایی دسته تازه‌ای از پلیمرها بود.

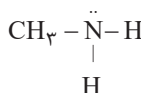
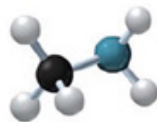

پلی آمیدها

پلیمرهای طبیعی زیادی شناسایی شده است که در ساختار آنها اتم‌های C، H، O و N وجود دارد. مو، ناخن، پوست بدن ما همچنین شاخ حیوانات و پشم گوسفند نمونه‌ای از این پلیمرهای طبیعی هستند. در این دسته از پلیمرها گروه عاملی آمید $\left(\begin{array}{c} \text{O} \\ \parallel \\ \text{---C---N---} \\ | \end{array} \right)$ در طول زنجیر کربنی تکرار شده است (شکل ۱۵).



شکل ۱۵- نمونه‌هایی از پلیمرهای طبیعی

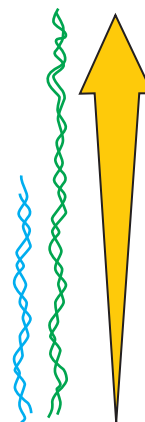
عامل آمیدی از واکنش اسید آلی با آمین به دست می‌آید. آمین، ترکیبی آلی است که در ساختار آنها اتم‌های C، H و N وجود دارد. متیل آمین، ساده‌ترین آمین است. وجود اتم نیتروژن، خواص شیمیایی و فیزیکی منحصر به فردی به آمین‌ها داده است (شکل ۱۶). به طوری که بوی ماهی ناشی از آمین‌های موجود در آن است.



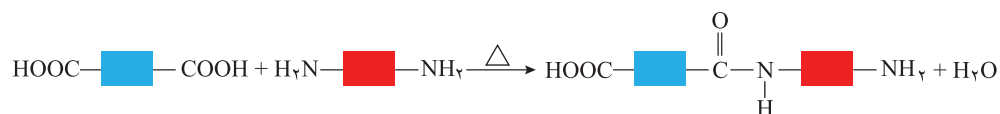
شکل ۱۶- فرمول ساختاری، مدل گلوله - میله و فضا پرکن متیل آمین



● بوی ماهی به دلیل وجود متیل آمین و برخی آمین‌های دیگر است.

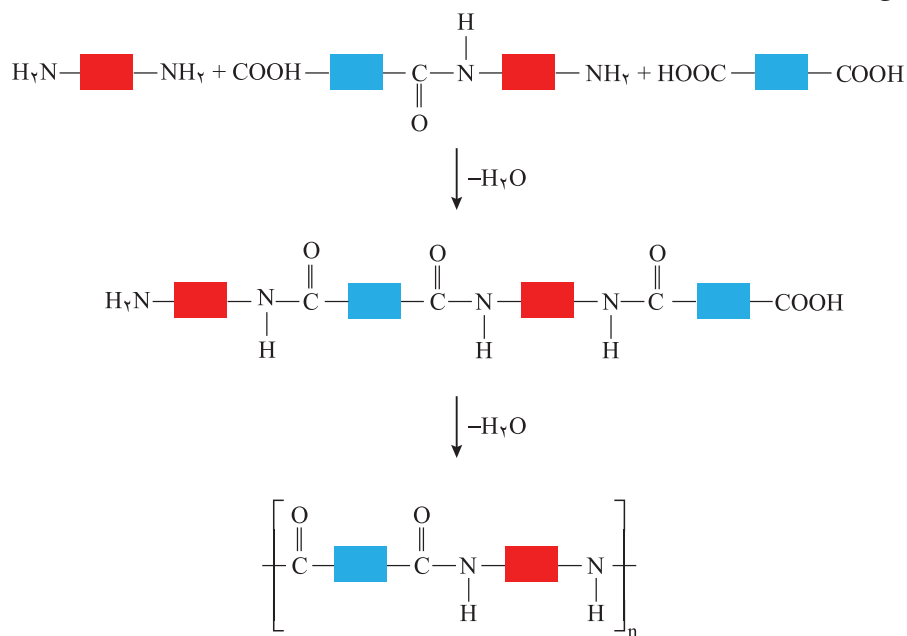


واکنش تولید پلی آمید شبیه به تولید پلی استر است با این تفاوت که به جای گروه عاملی الکل، گروه عاملی آمین با گروه کربوکسیل واکنش می دهد (شکل ۱۷- الف).



شکل ۱۷- الف) تشکیل گروه آمیدی

با ادامه واکنش، گروه های آمیدی بیشتری تشکیل شده و سرانجام پلی آمید^۱ تولید می شود (شکل ۱۷- ب).



شکل ۱۷- ب) الگوی واکنش تشکیل پلی آمید



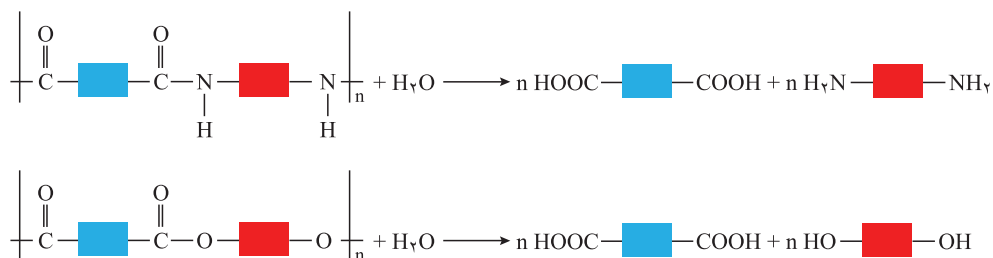
● پوشاک دوخته شده از کولار سبک و بسیار محکم بوده و در برابر ضربه، خراش و بریدگی مقاوم است. این پلیمر تاکنون جان میلیون ها انسان را در حوادث گوناگون نجات داده است.

پلی آمیدهای ساختگی را در صنایع پتروشیمی از واکنش دی آمین ها با دی اسیدها تولید می کنند. کولاریکی از معروف ترین پلی آمیدها است. این پلیمر از فولاد هم جرم خود پنج برابر مقاوم تر است. از کولار در تهیه تیر اتومبیل، قایق بادبانی، لباس های مخصوص مسابقه موتورسواری و جلیقه های ضد گلوله استفاده می شود (شکل ۱۸).



شکل ۱۸- برخی کاربردهای کولار

پلی آمیدها و پلی استرها نیز در شرایط مناسب با آب واکنش می دهند و به مونومرهای سازنده تبدیل می شوند (شکل ۲۰).



شکل ۲۰ الف) نمایی کلی از واکنش های تجزیه پلی آمید و ب) تجزیه پلی استر

با توجه به اینکه هر نوع پوشاک تاریخ مصرفی دارد می توان گفت پس از مدتی تار و پود آنها سست و پوسیده می شوند زیرا مولکول های پلیمر سازنده آنها با مولکول های موجود در محیط پیرامون واکنش می دهند و برخی از پیوندهای موجود در ساختار آنها مانند پیوند استری یا آمیدی شکسته می شوند. با شکستن این پیوندها، استحکام الیاف پارچه کم شده و تار و پود آن به سادگی گسسته می شود. بدیهی است که هرچه آهنگ شکستن این پیوندها سریع تر باشد، فرایند پوسیده شدن پارچه سریع تر رخ می دهد.

● مواد زیست تخریب پذیر موادی هستند که در طبیعت توسط جانداران ذره بینی به مولکول های ساده و کوچک مانند کربن دی اکسید، متان، آب و... تبدیل می شوند. پلیمرهای طبیعی زیست تخریب پذیرند.

خود را بیازمایید

۱- در کدام شرایط زیر لباس های نخی زودتر پوسیده می شوند؟ چرا؟

الف) محیط سرد و خشک ب) محیط گرم و مرطوب

۲- چرا استفاده بی رویه از شوینده ها در شستن لباس ها سبب پوسیده شدن سریع تر آنها می شود؟






۳- اگر لباس ها را برای مدت طولانی در محلول آب و شوینده قرار دهید، بوی بد و نافذی پیدا می کنند. توضیح دهید چه رخ می دهد؟

۴- برای شستن تمیزتر لباس ها از شوینده ها و سفیدکننده ها استفاده می کنند. اگر سفیدکننده ها را به طور مستقیم روی لباس بریزند، رنگ لباس در محل تماس به سرعت از بین می رود. اما اگر سفیدکننده را در آب بریزید سپس لباس را درون محلول فرو ببرید، تغییر محسوسی در رنگ لباس ایجاد نمی شود. چرا؟

۵- لباس های پلی استری در اثر عوامل محیطی در طول زمان پوسیده می شوند. این پوسیده شدن به معنی شکستن پیوندهای استری و سست شدن تار و پود لباس است. جدول صفحه بعد داده های مربوط به واکنش تجزیه یک نوع استر را در حضور اسید نشان می دهد. با توجه به آن به پرسش های مطرح شده پاسخ دهید:

آیا می‌دانید؟

مصرف برخی پلیمرها در صنایع گوناگون بیشتر است. به طوری که شش پلیمر نشان داده شده در جدول زیر نزدیک به ۷۵ درصد پلیمرهای ساختگی را تشکیل می‌دهند.

نام پلیمر	نشانه پلیمر
پلی اتیلن ترفتالات	 PETE or PET
پلی اتن سنگین	 HDPE
پلی وینیل کلرید	 PVC, or V
پلی اتن سبک	 LDPE
پلی پروپن	 PP
پلی استیرن	 PS

[استر]	۰/۵۵	۰/۴۲	۰/۳۱	۰/۲۳	۰/۱۷	۰/۱۲	۰/۰۸
زمان (s)	۰	۱۵	۳۰	۴۵	۶۰	۷۵	۹۰

الف) نمودار تغییر غلظت استر بر حسب زمان را رسم کنید.

ب) سرعت متوسط تجزیه استر در بازه زمانی صفر تا ۳۰ ثانیه چند مول بر لیتر بر ثانیه است؟

پ) سرعت واکنش در کدام بازه زمانی بیشتر است؟ چرا؟

صفر تا ۲۰ ثانیه ۶۰ تا ۹۰ ثانیه

هرچند پلی استرها و پلی آمیدها تجزیه می‌شوند، اما آهنگ تجزیه آنها به ساختار مونومرهای سازنده بستگی دارد. بنابراین بسته به جنس لباس، زمان استفاده از لباس‌ها متفاوت است. تجربه نشان می‌دهد که به طور کلی واکنش تجزیه پلی استرها و پلی آمیدها بسیار کند است. به همین دلیل لباس‌های تهیه شده از این نوع پارچه‌ها برای مدت‌های طولانی قابل استفاده است زیرا استحکام خود را حفظ می‌کنند. این در حالی است که پلیمرهای حاصل از هیدروکربن‌های سیر نشده، به انجام واکنش تمایلی ندارند و از این رو پوشاک و پوشش‌های تهیه شده از این مواد در طبیعت تجزیه نمی‌شوند و برای سالیان طولانی دست نخورده باقی می‌مانند. در واقع پلیمرهای ماندگارند. علت این است که این پلیمرها، ساختاری شبیه به آلکان‌ها دارند و سیر شده هستند. هر چند استفاده از این پلیمرها صرفه اقتصادی دارد، اما از نگاه پیشرفت پایدار، تولید و استفاده از این پلیمرها الگوی مصرف مطلوبی نیست زیرا ماندگاری دراز مدت این مواد در طبیعت سبب ایجاد مشکلات فراوانی مانند تبدیل محیط زیست به گورستان زباله، کثیف شدن چهره شهرها و محیط زیست، آسیب زدن به زندگی جانداران و... می‌شود که هزینه‌های تحمیل شده به اقتصاد یک جامعه را خیلی بالا می‌برد. بدیهی است بازیافت این مواد یکی از راهکارهای عملی است که به حفظ و بهره‌برداری بهینه از منابع منجر خواهد شد. به منظور آسان‌سازی و افزایش کارایی بازیافت و افزایش کیفیت فرآورده‌های حاصل از بازیافت، برای هر پلیمر نشانه‌ای در نظر گرفته‌اند که بر روی کالاها حک می‌شود. این نشانه شامل عددی است که درون یک مثلث قرار دارد. از این رو انتظار می‌رود که این نشانه روی کالاها ایرانی نیز حک شود تا فرایند بازیافت آنها آسان‌تر شود.

جایگزینی پلیمرهای ساختگی با پایه نفتی با پلیمرهای زیست تخریب پذیر، راهکار دیگری است که در دو دهه اخیر مورد توجه همه جهانیان قرار گرفته است.

پلیمر سبز^۱



● شیر ترش شده دارای لاکتیک اسید است.

شیمی دان‌ها با انجام پژوهش‌های گسترده، موفق به ساخت دسته‌ای از پلیمرها شدند که توسط جانداران ذره‌بینی تجزیه می‌شوند. هرگاه این پلیمرها و کالاهای ساخته شده از آنها در طبیعت رها شوند، پس از چند ماه به مولکول‌های ساده مانند آب و کربن دی‌اکسید تبدیل می‌شوند. به همین دلیل به پلیمرهای دوستدار محیط زیست یا پلیمرهای سبز معروف هستند.

این پلیمرها را از فراورده‌های کشاورزی مانند سیب‌زمینی، ذرت و نیشکر تهیه می‌کنند. به‌طوری که نخست نشاسته موجود در این مواد را به لاکتیک اسید تبدیل کرده، سپس از واکنش پلیمری شدن آن در شرایط مناسب پلی لاکتیک اسید^۲ تولید می‌کنند. از پلی لاکتیک اسید انواع ظرف‌های پلاستیکی یکبار مصرف مانند وسایل آشپزخانه، سفره، سطل زباله، کیسه پلاستیکی و... تولید شده و کاربرد آنها رو به گسترش است. این پلاستیک‌ها امکان تبدیل شدن به کود را دارند به همین دلیل ردپای کوچک‌تری در محیط‌زیست برجای می‌گذارند.

آیا می‌دانید

از پلیمرهای زیست تخریب‌پذیر برای بخیه زدن استفاده می‌شود.



در میان تارنماها

شیمی دان‌ها همچنان در جستجوی پلیمرهای جدید با کاربردهای ویژه‌ای هستند. برخی از آنها عبارت‌اند از:

- مواد پرکننده دندان
- آستر نرم برای دندان مصنوعی
- پوشاک ضد آب
- پلاستیک‌های رسانا
- نخ بخیه هوشمند

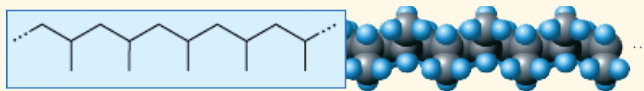
با مراجعه به منابع اینترنتی معتبر درباره آنها اطلاعات جمع‌آوری و در کلاس ارائه کنید.

۱- Green Polymer

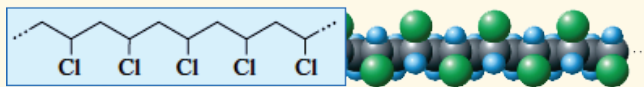
۲- Poly Lactic Acid (PLA)

تمرین‌های دوره‌ای

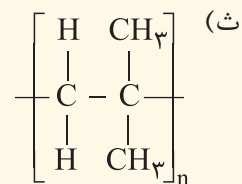
۱- در هر یک از موارد زیر ساختار پلیمر یا مونومر خواسته شده را مشخص کنید.



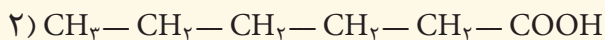
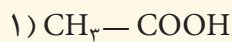
(الف)



(ب)



۲- در شرایط یکسان انحلال‌پذیری کدام کربوکسیلیک اسید در آب بیشتر است؟ چرا؟



۳- برای استری با فرمول $\text{C}_6\text{H}_4\text{O}_2$:

(الف) ساختار آن را رسم کنید.

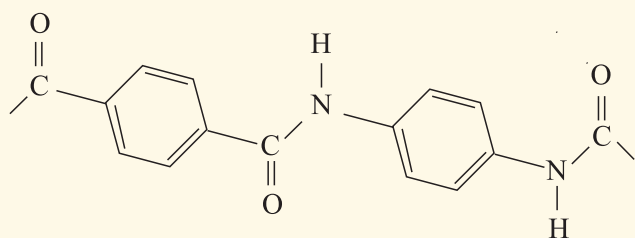
(ب) ساختار الکل و اسید سازنده آن را رسم کنید.

(پ) نیروی بین مولکولی را مشخص کنید.

(ت) جرم مولی را حساب کنید.

(ث) نقطه جوش آن را با بیان دلیل با اتانوائیک اسید مقایسه کنید.

۴- بخشی از ساختار مولکول سازنده یک پلیمر در شکل زیر ارائه شده است. با توجه به آن:



الف) این پلیمر به کدام دسته از پلیمرها تعلق دارد؟

ب) نیروی بین مولکول‌های این پلیمر از چه نوعی است؟

پ) واحدهای سازنده این پلیمر کدام گروه از مواد زیر است؟

● دی آمین‌ها و دی اسیدها

● دی الکل‌ها و دی اسیدها

● آمین‌ها و اسیدها

۵- با توجه به معادله واکنش زیر به پرسش‌های خواسته شده پاسخ دهید.



۱، ۲- دی کلرواتان

الف) ساختار لوویس فراورده (۱، ۲- دی کلرواتان) را رسم کنید.

ب) نمودار آنتالپی واکنش را رسم کنید.

پ) حساب کنید از واکنش ۴۲ گرم گاز اتن با گاز کلر، چند کیلو ژول گرما مبادله می‌شود؟

۶- واکنش پلیمری شدن اتن در شرایط گوناگونی به تولید پلی اتن‌هایی با جرم مولی میانگین متفاوت منجر می‌شود. تجربه

نشان می‌دهد که جرم مولی میانگین به مقدار کاتالیزگرهای واکنش بستگی دارد. در جدول زیر نتایج یک پژوهش تجربی در

این مورد داده شده است.

جرم مولی میانگین پلیمر (گرم)	مقدار کاتالیزگر محتوی آلومینیم (شماره ۲) (مول)	مقدار کاتالیزگر محتوی تیتانیوم (شماره ۱) (مول)
۲۷۰۰۰	۱۲	۱
۲۹۲۰۰۰	۶	۱
۲۹۸۰۰۰	۳	۱
۲۸۴۰۰۰	۱	۱
۱۶۰۰۰۰	۰/۶۳	۱
۴۰۰۰۰	۰/۵۳	۱
۲۱۰۰۰	۰/۵۰	۱
۳۱۰۰۰	۰/۲۰	۱

الف) در چه نسبت مولی از این دو کاتالیزگر پلی اتن با بیشترین جرم مولی تولید می‌شود؟

ب) تغییر جرم مولی پلیمر را برحسب نسبت مولی کاتالیزگر شماره ۲ به ۱ رسم کنید.

پ) در نسبت مولی ۸ به ۱ از این کاتالیزگرها جرم مولی را پیش‌بینی کنید.

ت) تحلیل خود از داده‌های جدول و نمودار رسم شده را بیان کنید.

.....واژه نامه.....

نوعی از هیدروکربن های سیر شده که میل ترکیبی زیادی ندارند و به فراوانی در نفت خام یافت می شوند.

Alkane آلکان

آلکان هایی که هر اتم کربن در ساختار آن به یک یا دو اتم کربن دیگر متصل است.

Chain – Straight Alkane آلکان راست زنجیر

آلکان هایی که در ساختار آنها یک یا چند اتم کربن با سه یا چهار اتم کربن دیگر پیوند داشته باشد.

Branched Alkane آلکان شاخه دار

نوعی هیدروکربن سیر نشده که دو اتم کربن آن با پیوند کووالانسی دوگانه به هم متصل شده اند.

Alkene آلکن

نوعی هیدروکربن سیر نشده که دو اتم کربن آن با پیوند کووالانسی سه گانه به هم متصل شده اند.

Alkyne آلکین

مقاومت یک سیال (شاره) را در برابر جاری شدن نشان می دهد.

Viscosity گران روی

کمیتی که نشان می دهد یک واکنش شیمیایی در چه گستره ای از زمان انجام می شود.

Reaction Rate آهنگ واکنش

مولکول بزرگی که از به هم پیوستن یک صد تا چند هزار تک پار به وجود می آید.

Polymer بَسپار یا پلیمر

فرایندی که در آن اجزای نفت خام را از یکدیگر جدا می کند.

Refine پالایش

مولکول ساده ای که از به هم پیوستن آنها بَسپار (پلیمر) به وجود می آید.

Monomer تک پار

روشی برای جداسازی اجزای مخلوط چند مایع که دارای نقطه جوش متفاوت هستند.

Fractional Distillation تقطیر جزء به جزء

موادی که در محیط زیست به کمک باکتری ها به مواد ساده تری تجزیه می شوند.

Biodegradation مواد زیست تخریب پذیر

ماده ای سوختنی است که تنها برای تأمین انرژی سوزانده می شود.

Fuel سوخت

موادی مانند زغال سنگ، نفت خام و گاز طبیعی که طی میلیون ها سال از تجزیه گیاهان و جانوران به وجود می آیند.

Fossil Fuel سوخت فسیلی

واکنش اکسایشی که سریع روی می دهد و با ایجاد شعله و آزاد کردن مقدار زیادی انرژی همراه است.

Combustion Reaction واکنش سوختن

به مجموع انرژی جنبشی ذره های سازنده یک نمونه ماده گفته می شود.

Thermal Energy انرژی گرمایی

ترکیب ها و مواد آلی گوناگون که از نفت یا گاز طبیعی تهیه می شوند.

Petrochemical Products فراورده های پتروشیمیایی

سوختن یک ترکیب آلی در حضور اکسیژن کافی که کربن دی اکسید و آب تولید می کند.

Complete Combustion سوختن کامل

شبه فلز	Metalloid	عنصری که برخی از خواص فیزیکی آن شبیه فلزها اما خواص شیمیایی آنها شبیه نافلزهاست.
شیمی آلی	Organic Chemistry	شاخه‌ای از شیمی که به بررسی ترکیب‌های آلی می‌پردازد و به آن شیمی ترکیب‌های کربن نیز گفته می‌شود.
طلای سیاه	Black Gold	عنوانی که به نفت خام نسبت می‌دهند و ارزش اقتصادی آن را یادآور می‌شود.
فلز	Metal	عنصری با جلای فلزی و خاصیت چکش‌خواری که اغلب نقطه ذوب و جوش بالایی دارد و جریان برق و گرما را از خود عبور می‌دهد.
فلزهای قلیایی	Alkali Metals	فلزهای گروه اول جدول دوره‌ای عناصر که شامل Cs, Rb, K, Na, Li و Fr است.
فوتوسنتز	Photosynthesis	واکنشی که در آن گیاه از کربن دی‌اکسید، آب و نور خورشید، گلوکز و اکسیژن می‌سازد.
رادیکال	Radical	گونه پرنرژی و ناپایدار که در ساختار خود الکترون جفت نشده دارد.
هالوژن	Halogene	به عنصرهای گروه ۱۷ جدول دوره‌ای شامل فلوئور، کلر، برم، ید و استاتین گفته می‌شود.
کاتالیزگر	Catalyst	ماده‌ای که سرعت واکنش شیمیایی را افزایش می‌دهد.
فلز واسطه	Transition Metal	همان فلزهای دسته d هستند که در اتم آنها زیر لایه d در حال پر شدن است.
واکنش ترمیت	Thermite Reaction	واکنشی بسیار گرماده میان فلز آلومینیم و آهن (III) اکسید که از آهن مذاب تولید شده در آن برای جوشکاری خطوط راه‌آهن استفاده می‌شود.
منبع تجدیدپذیر	Renewable Resource	منبعی که از طریق فرایندهای طبیعی تشکیل یا از نو تولید می‌شوند.
منبع تجدیدناپذیر	Nonrenewable Resource	منبعی که تشکیل و جایگزین شدن آن از طریق فرایندهای طبیعی عملی نیست یا سرعت آنها بسیار کم است.
نفت خام	Petroleum	مایعی قهوه‌ای مایل به سیاه که مخلوطی طبیعی از صدها هیدروکربن و ترکیب آلی است.
واکنش‌پذیری شیمیایی	Chemical Reactivity	به تمایل برای انجام واکنش شیمیایی می‌گویند.
هم‌پار	Isomer	موادی که فرمول مولکولی یکسان اما فرمول ساختاری متفاوتی دارند.
هیدروکربن	Hydrocarbon	ترکیب‌هایی که از دو عنصر کربن و هیدروژن تشکیل شده‌اند.
هیدروکربن سیرشده	Saturated Hydrocarbon	هیدروکربنی که در آن اتم کربن با چهار پیوند کووالانسی به چهار اتم دیگر متصل شده است.
هیدروکربن سیرنشده	Unsaturated Hydrocarbon	هیدروکربنی که در آن بین اتم‌های کربن پیوند دویا سه‌گانه وجود دارد.
هیدروکربن حلقوی	Cyclic Hydrocarbon	هیدروکربن دارای بیش از سه اتم کربن که ساختاری حلقوی دارد.

گروه آلکیل	Alkyl Group	گونه‌ای که با برداشتن یک اتم هیدروژن از یک مولکول آلکان به دست می‌آید.
گروه عاملی	Functional Group	اتم یا گروهی از اتم‌ها که وجود آنها در مولکول‌های اعضای یک خانواده از مواد آلی، خواص فیزیکی و شیمیایی ویژه و منحصر به فردی به آنها می‌بخشد.
نیروهای وان در والس	Van der Waals Forces	نوعی نیروی جاذبه بین مولکولی که در میان همه مولکول‌ها وجود دارد اما در ترکیب‌های مولکولی ناقطبی نیروی جاذبه‌ای مهمی به شمار می‌آید.
واکنش تجزیه	Decomposition Reaction	واکنشی که در آن یک ماده به مواد ساده‌تری تبدیل می‌شود.
پلیمر شدن	Polymerization	مجموعه‌ای از واکنش‌ها که در آن شمار بسیاری مولکول کوچک با یکدیگر ترکیب می‌شوند و درشت مولکول‌هایی به نام پلیمر یا بسپار تولید می‌کنند.
مقدار نظری	Theoretical Yield	مقدار فراورده مورد انتظار که از محاسبه‌های استوکیومتری به دست می‌آید.
مقدار عملی	Actual Yield	مقدار فراورده‌ای که در عمل تولید می‌شود.
بازده درصدی	Percent Yield	نسبت مقدار عملی فراورده یک واکنش به مقدار نظری آن است که به صورت درصد بیان می‌شود.
گرماشیمی	Thermochemistry	شاخه‌ای از علم شیمی که به مطالعه کمی و کیفی انرژی گرمایی مبادله شده در واکنش‌های شیمیایی می‌پردازد.
گرما	Heat	انرژی گرمایی که به دلیل اختلاف دما جاری می‌شود.
ظرفیت گرمایی	Heat Capacity	مقدار گرمای مورد نیاز برای افزایش دمای ماده به اندازه یک درجه سلسیوس را نشان می‌دهد.
گرمای ویژه	Specific Heat	مقدار گرمای مورد نیاز برای افزایش دمای یک گرم ماده به اندازه یک درجه سلسیوس را نشان می‌دهد.
سامانه	System	بخشی از جهان که برای مطالعه انتخاب می‌شود.
محیط	Surrounding	هر چیزی که در پیرامون سامانه باشد، محیط نامیده می‌شود.
آنتالپی واکنش	Enthalpy Change	به تغییر محتوای انرژی یک سامانه شیمیایی در فشار ثابت، آنتالپی واکنش گفته می‌شود.
آنتالپی سوختن	Enthalpy of Combustion	گرمای آزاد شده در فشار ثابت هنگام سوختن یک مول از ماده در مقدار کافی اکسیژن را نشان می‌دهد.
آنتالپی تبخیر	Enthalpy of Vaporization	گرمای مصرف شده در فشار ثابت هنگام تبدیل یک مول مایع به بخار را در دمای معین نشان می‌دهد.
آنتالپی ذوب	Enthalpy of Fusion	گرمای مصرف شده در فشار ثابت هنگام تبدیل یک مول جامد به مایع را در دمای ثابت نشان می‌دهد.
آنتالپی تصعید	Enthalpy of Sublimation	تغییر آنتالپی هنگام تصعید شدن یک مول ماده را نشان می‌دهد.

مقدار انرژی مصرف شده هنگام شکستن یک مول پیوند بین دو اتم گازی و تبدیل آنها به اتم‌های گازی جدا از یکدیگر.	Average Bond Energy	میانگین آنتالپی پیوند
روش مستقیم برای اندازه‌گیری گرمای آزاد یا جذب شده در یک فرایند است.	Calorimetry	گرماسنجی
دستگاهی که برای اندازه‌گیری گرمای یک واکنش در فشار ثابت به کار می‌رود.	Coffee - Cup Calorimeter	گرماسنج لیوانی
دستگاهی که برای اندازه‌گیری دقیق گرمای سوختن یک ماده به کار می‌رود.	Bomb Calorimeter	گرماسنج بمبی
ΔH یک واکنش را می‌توان از جمع جبری مقادیر ΔH چند واکنش دیگر به دست آورد.	Hess's Law	قانون هس
فرایندی که در آن گرما آزاد می‌شود و آنتالپی سامانه کاهش می‌یابد.	Exothermic Process	فرایند گرماده
فرایندی که در آن گرما جذب می‌شود و آنتالپی سامانه افزایش می‌یابد.	Endothermic Process	فرایند گرماگیر
ویتامین ث؛ جامد سفید رنگ و بلوری که به خوبی در آب حل می‌شود.	Ascorbic Acid	آسکوربیک اسید
کمیتی تجربی که برای یک واکنش شیمیایی نسبت تغییر ویژگی‌های قابل اندازه‌گیری واکنش دهنده (ها) یا فراورده (ها) را به زمان نشان می‌دهد.	Reaction Rate	سرعت واکنش
شاخه‌ای از علم شیمی که دربارهٔ سرعت واکنش‌های شیمیایی، عوامل مؤثر بر سرعت و نحوهٔ انجام آنها گفت‌وگو می‌کند.	Chemical Kinetics	سینتیک شیمیایی

منابع و مآخذ

- 1- Silberberg, M. S. , Principles of General Chemistry , Mc GrawHill, 2007.
- 2- Reger, D. L. ,Goode, S. R. Ball, D.W., Chemistry, Brooks/Cole, 2010.
- 3- Kotz, John C. ; Treichel, Paul M.; Weaver, Gabriela C., Chemistry & Chemical Reactivity , 2006,Thomson - Brooks/Cole.
- 4- Ebbing, Darrell D.; Gammon, Steven D., General Chemistry, 2009, Brooks/Cole.
- 5- Tro, Nivaldo J., Principles of Chemistry, A Molecular Approach, 2010, Pearson.
- 6- Russo, S.; Silver, M., Introductory Chemistry, 2011, Prentice Hall.
- 7- Phillips, J.S.; Strozak, V.S.; Wistrom, C.; Zike, D. Chemistry, Concepts and Applications, 2009, Glencoe McGraw- will.
- 8- Gilbert, T.R.; kirss, R.V., Foster, N.; Davies, Chemistry, the science context, 2009, W.W. Norton & Company.
- 9- Middlecamp Catherine H. [et al.] Chemistry In Context: Applying Chemistry To Society, 2012.
- 10- Seager Spencer L., Slabaugh Micheal R., Chemistry for Today General, Organic, and Bio-chemistry, 2014.
- 11- Tro Nivaldi J., Chemistry in Focus, A Molecular View of Our World, 2009
- 12- Chang Raymond, Chemistry. 2010



سازمان پژوهش و برنامه‌ریزی آموزشی جهت ایفای نقش خطیر خود در اجرای سند تحول بنیادین در آموزش و پرورش و برنامه درسی ملی جمهوری اسلامی ایران، مشارکت معلمان را به‌عنوان یک سیاست اجرایی مهم دنبال می‌کند. برای تحقق این امر در اقدامی نوآورانه سامانه تعاملی بر خط اعتبارسنجی کتاب‌های درسی راه‌اندازی شد تا با دریافت نظرات معلمان درباره کتاب‌های درسی نونگاشت، کتاب‌های درسی را در اولین سال چاپ، با کمترین اشکال به دانش‌آموزان و معلمان ارجمند تقدیم نماید. در انجام مطلوب این فرایند، همکاران گروه تحلیل محتوای آموزشی و پرورشی استان‌ها، گروه‌های آموزشی، دبیرخانه راهبری دروس و مدیریت محترم پروژه آقای محسن باهو نقش سازنده‌ای را بر عهده داشتند. ضمن ارج نهادن به تلاش تمامی این همکاران، اسامی دبیران و هنرآموزانی که تلاش مضاعفی را در این زمینه داشته و با ارائه نظرات خود سازمان را در بهبود محتوای این کتاب یاری کرده‌اند به شرح زیر اعلام می‌شود.

کتاب شیمی ۲- کد ۱۱۱۲۱۰

ردیف	نام و نام خانوادگی	استان محل خدمت	ردیف	نام و نام خانوادگی	استان محل خدمت
۱	سوسن نادری	مرکزی	۲۵	محمدعلی اسلامی نیا	کرمان
۲	فاطمه رنجینه خجسته	آذربایجان شرقی	۲۶	علی مویدی	شهرستانهای تهران
۳	هما غفاری	کردستان	۲۷	مریم قربانی	خراسان شمالی
۴	شمسی حیدری	کرمانشاه	۲۸	حسن کاشی	اصفهان
۵	منور احمدی	قزوین	۲۹	فاطمه شفاهی	سمنان
۶	طوبی زارع	مازندران	۳۰	رقیه پور قبادی	لرستان
۷	افسانه آیین	بوشهر	۳۱	کامیار کامل شیخ رجه	مازندران
۸	آریتا معصوم پور	سمنان	۳۲	مژگان حسین پور	گیلان
۹	فریبا مرسلی	آذربایجان شرقی	۳۳	سمانه حبیب الهی	شهرتهران
۱۰	ژیلا توتونچی	آذربایجان شرقی	۳۴	علیرضا رضایی	همدان
۱۱	لیلا فانی	یزد	۳۵	عبدالمجید متیان	ایلام
۱۲	صبح شیری	ایلام	۳۶	امیر خلیل زاده	آذربایجان غربی
۱۳	هادی نجار زاده	قزوین	۳۷	فرزین خرسندی	البرز
۱۴	مهناز خراشادی زاده	خراسان جنوبی	۳۸	امید رضوانی راد	سیستان و بلوچستان
۱۵	حسین کاووسی	خراسان جنوبی	۳۹	مسعود اشتری	شهرتهران
۱۶	طاهره پالیزدار	البرز	۴۰	سید فیروز عسگری ارجنکی	چهارمحال و بختیاری
۱۷	مهری طاهری	هرمزگان	۴۱	مهدی شیر	خراسان رضوی
۱۸	اورنگ باقی	گیلان	۴۲	عزیز گرمودی	خراسان رضوی
۱۹	شهلا مهدوی	اصفهان	۴۳	نادر منصوری	خراسان شمالی
۲۰	منوچهر اسماعیل زاده	کرمان	۴۴	مسعود راستیانی منش	کهگیلویه و بویراحمد
۲۱	رضا همتی	آذربایجان غربی	۴۵	عباسعلی صمدی	گلستان
۲۲	زهره شمالی	زنجان	۴۶	ناصر بالکانه	کردستان
۲۳	فریده سلطانی اصل	شهرستانهای تهران	۴۷	محمد قادر پناه	لرستان
۲۴	مژگان مصلحیون	همدان	۴۸	محمد سعید همایونی	فارس