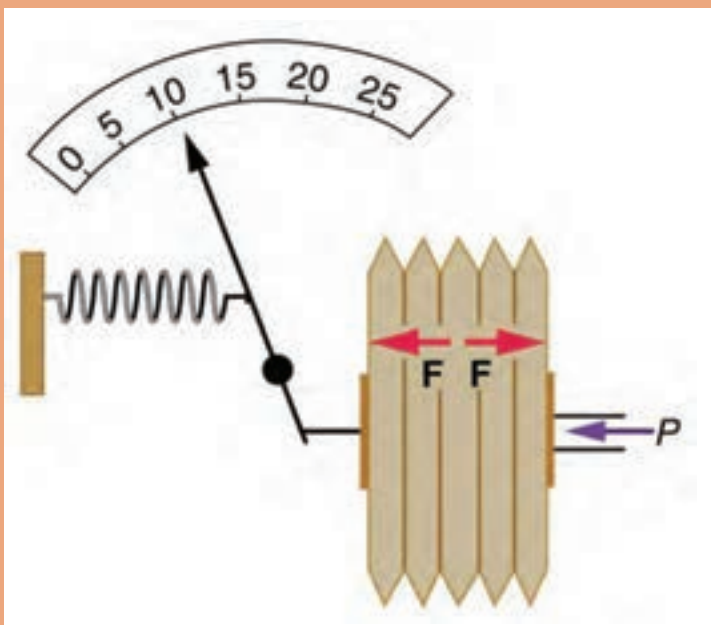


پودمان ۳

اندازه‌گیری، ثبت و کنترل فشار



بسیاری از فرایندهای شیمیایی در فشارهای بالا و بعضی دیگر در فشارهای پایین صورت می‌گیرند. بنابراین وقت در اندازه‌گیری و کنترل فشار اهمیت زیادی دارد.

واحد یادگیری ۳

اندازه‌گیری، ثبت و کنترل فشار

مقدمه

بسیاری از فرایندهای شیمیایی در فشارهای بالا و بعضی دیگر در فشارهای بسیار پایین انجام می‌شوند. از این جهت درک مفهوم فشار برای کاربران و مهندسين فرایند امری ضروری می‌باشد. امروزه فرایندهایی وجود دارند که در فشارهای تا ۱۵۰۰ بار و یا فشارهای خلأ تا 10^{-7} بار انجام می‌شوند. علاوه بر این زندگی موجودات وابسته به فشار جو می‌باشد و بسیاری از فرایندهای حیاتی وابستگی شدیدی به مقدار فشار دارند. در صنایع شیمیایی تولید بسیاری از محصولات مانند آمونیاک، پلیمرها و... در فشار نسبتاً بالا صورت می‌پذیرد. از این روی درک غلط از فشار و اندازه‌گیری و کنترل نادرست آن مانند تقطیر در خلأ، علاوه بر تأثیرات نامطلوب بر فرایند باعث خسارات مالی و جانی می‌گردد. در این پودمان مباحث به‌کارگیری مفاهیم و محاسبات در اندازه‌گیری فشار، دستگاه‌های اندازه‌گیری فشار و کنترل آن توضیح داده شده است.

استاندارد عملکرد

به‌کارگیری محاسبات و اندازه‌گیری فشار و کنترل آن مطابق دستورالعمل

شایستگی‌های غیر فنی مورد انتظار این پودمان عبارت‌اند از:

شایستگی‌های غیر فنی

- ۱ اخلاق حرفه‌ای: حضور منظم و وقت‌شناسی - انجام وظایف و کارهای محوله - پیروی از قوانین
- ۲ مدیریت منابع: شروع به کار به موقع - مدیریت مؤثر زمان - استفاده از مواد و تجهیزات
- ۳ کار گروهی: حضوری فعال در فعالیتهای گروهی - انجام کارها و وظایف محوله
- ۴ مستندسازی: گزارش نویسی فعالیتهای کارگاهی
- ۵ محاسبه و کاربست ریاضی: انجام مثال و تمرین‌ها با کمک فرمول و محاسبات ریاضی

پس از اتمام این واحد یادگیری هنرجویان قادر خواهند بود

- ۱ مفاهیم و محاسبات در اندازه‌گیری فشار را به کار گیرند.
- ۲ روش‌های اندازه‌گیری فشار را انجام دهند.
- ۳ فشار را کنترل نمایند.



شما می توانید به راحتی روی دو پا بایستید، در حالی که ایستادن روی یک پا دشوار بوده و زمان کوتاه تری قابل تحمل است. علت چیست؟

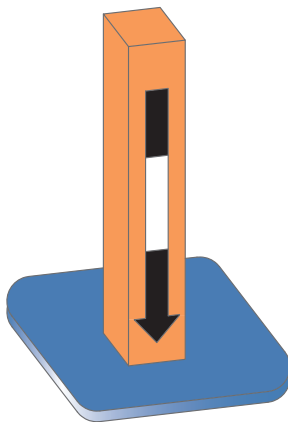


هر جسمی مانند کتاب روی میز، آب موجود در یک لیوان و... بر روی سطحی که قرار دارند، نیرو وارد می کند. این نیرو حاصل ضرب شتاب جاذبه زمین و جرم جسم بوده و نیروی وزن نامیده می شود.

$$F = m \cdot g \quad (\text{معادله ۱})$$

در سامانه اندازه گیری SI (متریک)، نمادهای F ، نماد نیرو بر حسب نیوتن، m ، نماد جرم بر حسب کیلوگرم و g شتاب جاذبه زمین می باشند که مقدار متوسط آن در این سامانه 9.8 m/s^2 است. یک بادکنک پر از هوا را در نظر بگیرید. در این بادکنک به دلیل حرکت مولکول های هوا و برخورد آنها با دیواره بادکنک، نیروی (F) بر سطح داخلی بادکنک (A) وارد می شود و فشار (P) را بر سطح بادکنک ایجاد می کند. بنابراین مطابق شکل ۱ و معادله (۲) فشار (P) عبارت از نیروی عمودی (F) وارد بر سطح (A) می باشد.

$$P = \frac{F}{A} \quad (\text{معادله ۲})$$



شکل ۱- مفهوم فشار

معادله (۲) نشان می دهد که فشار، وابسته به دو کمیت است:

۱- نیروی اعمال شده

۲- مساحتی که این نیرو به صورت عمودی به آن وارد می شود.



چرا سوزن خیاطی با نیروی کمی و به راحتی در اجسام فرو می‌رود؟



فیلم شماره ۱: فشار و نیرو

فیلم شماره ۲: مفهوم فشار



با استفاده از معادله (۲)، در مورد چگونگی افزایش یا کاهش فشار با تغییر سطح و یا نیرو بحث کنید.



یک مکعب مستطیل فلزی یا از جنس دیگر تهیه کنید و فعالیت‌های زیر را انجام دهید:

(الف) جرم مکعب را اندازه‌گیری کنید.

(ب) نیروی وزن مکعب مستطیل را با استفاده از معادله ۱ محاسبه کنید.

(ج) مساحت وجوه مختلف مکعب مستطیل را محاسبه کنید.

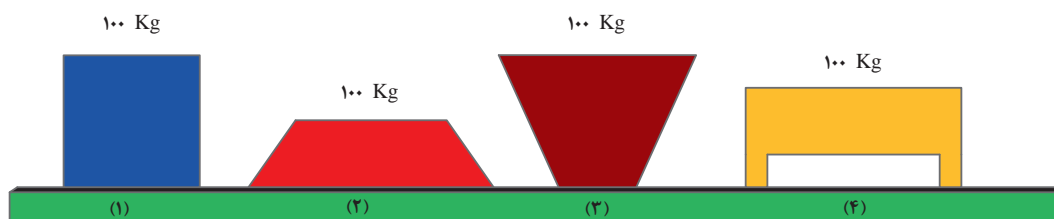
(د) با استفاده از معادله ۲ محاسبه کنید که در حالت‌های مختلفی که مکعب مستطیل روی سطح قرار می‌گیرد چه فشاری ایجاد می‌کند؟



۱ فشار ایجادشده توسط یک نیروی ۸۰۰ نیوتونی بر مساحت ۲ متر مربع را محاسبه کنید.

۲ یک سیلندر و پیستون را در نظر بگیرید. مساحت پیستون ۰/۵ متر مربع می‌باشد و درون سیلندر گازی با فشار ۳۰۰ Pa قرار دارد. نیروی وارده به پیستون را محاسبه کنید.

۳ در شکل زیر ضخامت کلیه اجسام یکسان و دارای جرم ۱۰۰ کیلوگرم می‌باشند. کدام شکل فشار بیشتری ایجاد می‌کند؟ کدام یک کمترین فشار را ایجاد می‌کند؟



یکاهای اندازه گیری فشار

با توجه به یکاهای نیرو و سطح در سامانه های مختلف اندازه گیری، یکاهای متنوعی برای اندازه گیری فشار وجود دارد. متداول ترین یکاهای اندازه گیری فشار عبارتند از: **پاسکال**^۱: یکای اندازه گیری فشار در دستگاه بین المللی SI پاسکال می باشد که با نماد Pa نشان داده می شود. استفاده از این یکا در اندازه گیری های علمی بسیار متداول است. یک پاسکال فشار ناشی از نیروی یک نیوتن بر سطحی با مساحت یک مترمربع می باشد. ($1 \text{ Pa} = 1 \text{ N/m}^2$)

بار^۲: بار یکای اندازه گیری فشار در سامانه متریک می باشد. یک بار معادل صد کیلو پاسکال می باشد. **اتمسفر**^۳: یک اتمسفر برابر با فشار ناشی از ستون آب به ارتفاع ۱۰/۳ متر است و تقریباً معادل با میانگین فشار هوا در سطح آب های آزاد در سطح دریا می باشد. هر اتمسفر برابر با ۱۰۱۳۲۵ پاسکال است. **میلی متر جیوه**^۴: مقدار فشار ناشی از ستون جیوه به ارتفاع یک میلی متر را «یک میلی متر جیوه» گویند. هر میلی متر جیوه برابر با ۱۳۳/۳۲۲۴ پاسکال می باشد.

پی اس آی^۵: یکای اندازه گیری psi بر پایه سامانه انگلیسی بوده و معادل پوند نیرو بر اینچ مربع می باشد. این یکا متداول ترین یکای اندازه گیری فشار در صنعت می باشد. هر واحد psi برابر است با فشار ناشی از یک پوند نیرو به سطحی با مساحت یک اینچ مربع و هر psi برابر با ۶۸۹۴/۸ پاسکال می باشد.

تبدیل یکاهای فشار

در دروس دیگر با تبدیل واحدها در سامانه های مختلف آشنا شده اید. به کمک جدول ۱ می توانید واحدهای فشار را به یکدیگر تبدیل کنید.

فشار چاه های گاز می تواند تا ۵۰۰۰ psi باشد. این فشار را به اتمسفر، کیلو پاسکال و میلی متر جیوه تبدیل کنید.
فشار داخلی راکتور تولید آمونیاک، ۲۵۰ بار می باشد. این فشار را به میلی متر جیوه، psi و پاسکال تبدیل کنید.

پرسش



تحقیق کنید



به وبسایت هواشناسی شهر خود رجوع کنید و یا از اداره هواشناسی محل سکونت خود فشار هوای محیط را بپرسید. به کمک جدول ۱ این فشار را در سامانه های دیگر اندازه گیری محاسبه کنید.

۱- Pascal

۲- bar

۳- Atmosphere

۴- mmHg

۵- psi (lb_f/in^۲) Pound force per square inch

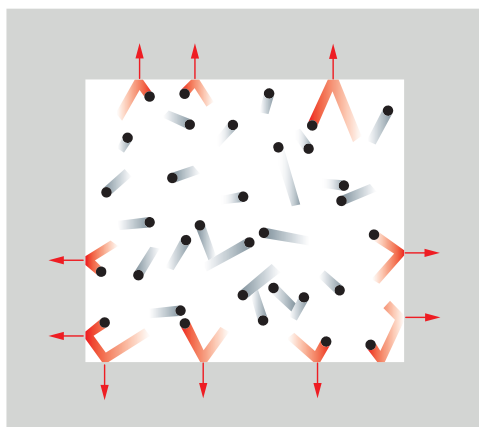
جدول ۱- ضرایب تبدیل واحدهای فشار به یکدیگر

	bar	Pa	kPa	mmHg	atm	psi
bar	۱	$۱۰^۵$	$۱۰۱/۳۲۵$	$۷۵۰/۰۶۴$	$۰/۹۸۶۹۲۳$	$۱۴/۵۰۳$
Pa	$۱۰^{-۵}$	۱	$۱۰^{-۳}$	$۷/۵۰۰۶۴ \times ۱۰^{-۳}$	$۹/۸۶۹۲۳ \times ۱۰^{-۶}$	$۰/۰۰۰۱۴۵$
kPa	$۱۰۱/۳۲۵$	$۱۰^۳$	۱	$۷/۵۰۰۶۴$	$۰/۹۸۶۹۲۳ \times ۱۰^{-۳}$	$۰/۱۴۵۰۳۷$
mmHg	$۱/۳۳۳۲۲ \times ۱۰^{-۳}$	$۱۳۳/۳۲۲$	$۱۳۳/۳۲۲ \times ۱۰^{-۳}$	۱	$۱/۳۱۵۷۹ \times ۱۰^{-۳}$	$۰/۰۱۹۴۴۶$
atm	$۱/۰۱۳۲۵$	$۱۰۱/۳۲۵ \times ۱۰^۳$	$۱۰۱/۳۲۵$	۷۶۰	۱	$۱۴/۶۹۵$
psi	$۶/۸۹۴۷۵۷ \times ۱۰^{-۳}$	$۶/۸۹۴۷۵۷ \times ۱۰^۳$	$۶/۸۹۴۷۵۷$	$۵۱/۷۱۴۹$	$۰/۰۶۸۰۵$	۱

* به خاطر سپردن اعداد جدول الزامی نیست.

در جدول (۱) واحدهای کاربردی و متداول آمده است. واحدهای دیگری نیز برای فشار وجود دارد که می‌توانید در مورد آنها تحقیق کنید.

فشار گازها



شکل ۲ - نمایش حرکت مولکول‌ها در گازها

همانند شکل ۲، مولکول‌های گاز را می‌توان به صورت گره‌های کوچکی تجسم کرد که در یک ظرف بسته در حال حرکت تصادفی می‌باشند. این مولکول‌ها تمام فضای ظرف را اشغال می‌کنند و در حین حرکت با یکدیگر و دیواره ظرف برخورد کرده و تولید فشار می‌کنند. فشار گاز وابسته به تعداد مولکول‌ها (عده مول)، جرم آنها و سرعت متوسط مولکول‌های گاز می‌باشد. سرعت وابسته به انرژی جنبشی گاز می‌باشد و انرژی جنبشی بیشتر به مفهوم دمای بالاتر است. هر چه تعداد مولکول‌های گاز و انرژی جنبشی افزایش پیدا کند، تعداد برخوردها به دیواره ظرف محتوی گاز افزایش می‌یابد، بنابراین میزان نیرو بر واحد سطح و در نتیجه آن فشار نیز افزایش خواهد داشت.

چگونه می‌توان فشار گاز را در یک ظرف سر بسته بیشتر کرد؟

پرسش



فیلم شماره ۳: فشار گازها

گاز ایده آل

از آن جایی که مطالعه گازها، به دلیل محدودیت‌هایی مشکل می‌باشد، دانشمندان برای حل این موضوع، گاز ایده آل را معرفی کرده‌اند. گاز ایده آل گازی است که هیچ نیروی بین مولکولی بین ذرات آن وجود ندارد و حجم مولکول‌های آن صفر می‌باشد. گرچه از دیدگاه عملی چنین گازی وجود ندارد اما این فرض کمک می‌کند تا روابط بین دما، فشار، حجم و تعداد مول گازها را درک کنیم و محاسبات ساده را انجام دهیم. تاکنون با این مفاهیم آشنا شده‌اید در گاز ایده آل بین متغیرهای نام‌برده معادله (۳) برقرار است.

$$PV = nRT \quad (\text{معادله ۳})$$

در بسیاری از شرایط مانند فشارهای کم و گازهای غیرقطبی گازها از خود رفتار ایده آل نشان می‌دهند و این معادله به خوبی کاربرد دارد.

لازم است در این رابطه مقدار R را بدانیم اگر حجم (V) بر حسب لیتر، فشار مطلق (P) بر حسب اتمسفر، دما (T) بر حسب کلوین و مقدار (n) ماده بر حسب گرم مول بیان شود، مقدار R ثابت عمومی گازها عبارت خواهد بود از:

$$R = 0.082057 \text{ (lit.atm)/(K.gmol)}$$

نکته

در سامانه‌های دیگر، چنانچه واحدهای حجم، فشار و دما متفاوت باشد، مقدار R متفاوت خواهد بود.



مقدار R در سامانه‌های مختلف در جدول (۲) آمده است:

جدول ۲- مقادیر R در سامانه‌های مختلف اندازه‌گیری

سامانه‌های اندازه‌گیری	---	SI	F.P.S
مقدار ثابت عمومی گازها R	$0.082057 \text{ (lit.atm)/(K.gmol)}$	$8.3145 \text{ Pa.m}^3\text{/(K.kmol)}$	$19.33 \text{ psi.ft}^3\text{/R.lbmole}$

در علوم و مهندسی دمای صفر درجه سلسیوس و فشار یک اتمسفر به عنوان شرایط استاندارد یا متعارفی (STP)^۱ پذیرفته شده است. در این شرایط حجم یک مول از گازها ۲۲/۴۱۴ لیتر خواهد بود. این مقدار را «حجم مولی استاندارد گازها» می‌نامند.

فیلم شماره ۴: گاز ایده آل



۱- Standard Temprature and Pressure



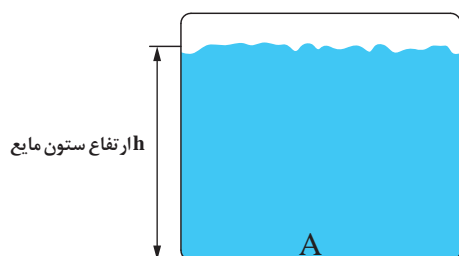
۱- یک کپسول حاوی گاز نیتروژن در دمای ۲۵ درجه سلسیوس دارای حجم ۱۲ لیتر و فشار مطلق ۵ اتمسفر می‌باشد. با فرض ایده آل بودن گاز نیتروژن، محاسبه کنید چند گرم گاز نیتروژن در آن وجود دارد.

۲- گاز متان در خط لوله اصلی گاز ورودی به شهرها دارای فشار ۲۵۰ psi می‌باشد در صورتی که دمای محیط ۳۴ درجه سلسیوس باشد، چگالی گاز متان را در سامانه‌های SI و انگلیسی محاسبه کنید.



- ۱ حجم اشغال شده توسط ۲/۳۴ گرم گاز کربن دی‌اکسید در شرایط متعارفی را محاسبه کنید.
- ۲ نمونه‌ای از گاز آرگون در شرایط استاندارد ۵۶/۲ لیتر حجم دارد. تعداد مول و جرم آرگون را محاسبه کنید.
- ۳ ۰/۶۵۴ مول گاز آرگون در فشار ۱/۹۵ اتمسفر حجمی معادل ۱۲/۳ لیتر دارد. دمای گاز را محاسبه کنید.
- ۴ یک کپسول اکسیژن در دمای ۲۵ درجه سلسیوس حاوی ۴۰ کیلوگرم گاز اکسیژن در فشار ۱۸۰ بار می‌باشد. چگالی این گاز را محاسبه کنید و تفسیر کنید که آیا مقدار محاسبه شده دقیق می‌باشد یا خیر.
- ۵ ۳۰/۶ گرم از یک گاز در شرایط متعارفی ۲۲/۴۱۴ لیتر حجم دارد. جرم مولکولی گاز را محاسبه کنید.
- ۶ حجم یک مول از گاز در شرایط استاندارد را محاسبه کنید.

فشار مایعات



شکل ۳- ستون سیال مایع

ابتدایی ترین مفهوم فشار مایعات مربوط به ستون مایع است. بدین طریق که اگر در یک ظرف، مایعی وجود داشته باشد، فشار در هر نقطه مفروض A در کف ظرف، ناشی از وزن ذرات مایع در بالای آن نقطه می‌باشد.

فشار مایع توسط ارتفاع ستون سیال و چگالی آن توسط رابطه معادله (۴) قابل محاسبه خواهد بود.

ارتفاع \times شتاب ثقل \times چگالی = فشار ستون مایع در نقطه A

$$P = d \cdot g \cdot h \quad (\text{معادله ۴})$$

که در این معادله، g شتاب جاذبه زمین (m/s^2)، d چگالی سیال (kg/m^3)، h ارتفاع ستون مایع از نقطه A تا سطح آزاد مایع (m) و P فشار بر حسب Pa می‌باشند.

مثال:

ریه‌های یک فرد سالم تنها تا عمق سه متری آب قادر است به خوبی عمل کند. اگر در عمق ۳ متری دریا قرار بگیرید بدن شما چه فشاری را تحمل می‌کند؟ چگالی آب دریا 1053 kg/m^3 و شتاب جاذبه را $9/8 \text{ m/s}^2$ فرض کنید.

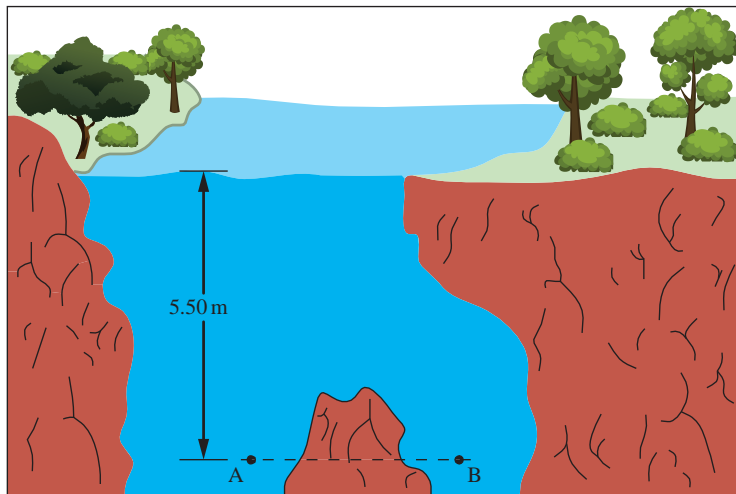
پاسخ:

$$P = d.g.h = 1053 \text{ (kg/m}^3\text{)} \times 9/8 \text{ (m/s}^2\text{)} \times 3 \text{ m} = 30958/2 \text{ kg/m.s}^2$$

تمرین



- ۱ با فرض این که چگالی آب 1000 kg/m^3 باشد. فشار را در کف لیوانی که تا ارتفاع ۱۵ سانتی متر از آب پر شده باشد بر حسب پاسکال، میلی متر جیوه، بار و اتمسفر محاسبه کنید.
- ۲ فشار را در نقاط A و B از شکل زیر به دست آورید. آیا این دو فشار با یکدیگر برابرند؟ در صورت جواب مثبت علت را توضیح دهید. چگالی آب را 1000 kg/m^3 در نظر بگیرید.



- ۳ یک استخر شنا دارای عرض ۹ متر و طول ۲۴ متر می باشد که تا عمق ۳ متر از آب پر شده است. آب موجود در استخر چه نیرویی به کف آن وارد می کند؟ فشار ایجاد شده در کف استخر چقدر است؟

فیلم شماره ۵: فشار مایعات

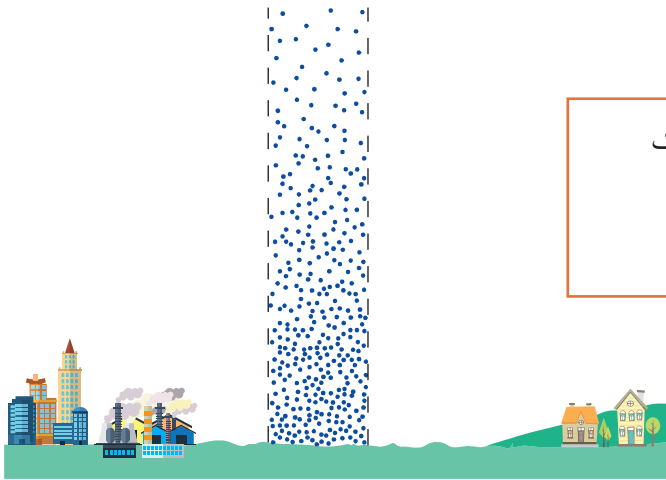


فشار جو

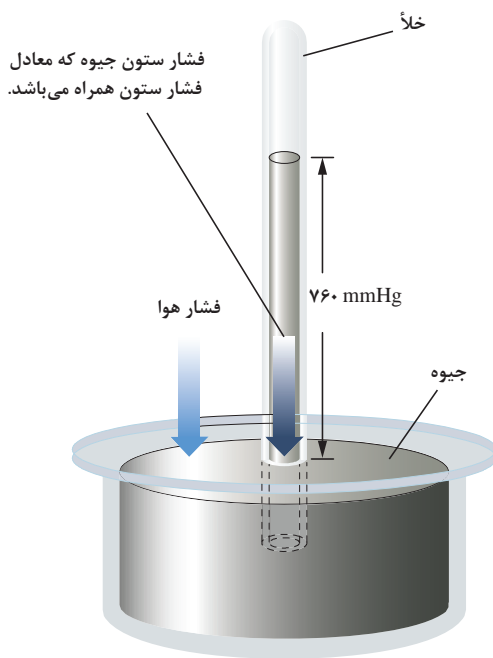
مهم ترین فشار برای زندگی موجودات زنده فشار هوای جو^۱ (P_{amb}) می باشد. این فشار توسط هوایی که کره زمین را تا ارتفاع تقریبی ۵۰۰ کیلومتر احاطه کرده است، ایجاد می گردد. در سطح دریا، جرم هوایی که می تواند روی یک متر مربع از سطح زمین قرار گیرد، ۱۰۰۰۰ کیلوگرم است. این جرم فشاری معادل $mmHg$ ۷۶۰ که برابر با 1 atm است، ایجاد می کند و می تواند به دلیل جریانات پرفشار و کم فشار هوا تا ۵ درصد نوسان داشته باشد، به این مقدار فشار استاندارد جو یا فشار اتمسفریک گفته می شود. با افزایش ارتفاع از فشار جو کاسته شده تا به صفر مطلق (خلاً کامل) در خارج از اتمسفر برسد (شکل ۴).

۱- Ambient or Atmospheric Pressure

فیلم شماره ۶: نیروی فشار هوای اتمسفریک



شکل ۴- ستون هوا روی سطح زمین



شکل ۵- بارومتر جیوه‌ای

فشار جو توسط وسیله‌ای به نام بارومتر^۱ اندازه‌گیری می‌شود. این وسیله توسط یکی از شاگردان گالیله^۲ به نام اوانگلیستا توریکلی^۳ (۱۶۴۷-۱۶۰۸) اختراع شد. بارومتر شامل یک لوله شیشه‌ای بلند است که انتهای آن بسته شده و توسط جیوه پر شده است. این لوله وارونه درون تشتکی پر از جیوه به‌گونه‌ای فرو رفته است که هوا وارد لوله نشود. در این حال مقداری جیوه از لوله خارج خواهد شد و فضای خالی تشکیل شده خلأیی خواهد بود که با بخار جیوه پر شده است (شکل ۵).

سؤال این است که چرا تمام جیوه موجود درون لوله در تشتک تخلیه نمی‌گردد؟ قطعاً نیروی وزن جیوه ناشی از گرانش باید باعث تخلیه جیوه از لوله گردد اما این اتفاق رخ نمی‌دهد. چرا؟

علت این است که نیرویی مخالف در جهت نیروی وزن جیوه وجود دارد که باعث می‌گردد جیوه به درون لوله رانده شود. این نیرو برابر با نیروی وزن ستون جیوه موجود در لوله است. اگر این وسیله در

سطح دریا باشد مشاهده خواهیم کرد که ارتفاع ستون جیوه برابر با ۷۶۰ میلی‌متر است.

۱- Barometer

۲- Galileo

۳- Evangelista Torricelli

بارومتر جیوه‌ای مدت‌های طولانی جهت اندازه‌گیری فشار هوا بر حسب میلی‌متر جیوه استفاده می‌شد اما امروزه بارومترهای دیجیتالی و عقربه‌ای جایگزین آن شده‌اند (شکل ۶).



شکل ۶ - نمونه‌ای از بارومترهای دیجیتالی و عقربه‌ای

تمرین



- ۱ به نظر شما اگر بارومتر را در مکانی که ۱۸۰۰ متر از سطح دریا ارتفاع دارد قرار دهیم، ارتفاع ستون جیوه از ۷۶۰ میلی‌متر جیوه کمتر خواهد بود یا بیشتر؟
- ۲ به نظر شما چرا تورپچی از جیوه استفاده نمود و به جای آن از آب استفاده نکرد. در صورت استفاده از آب آیا ارتفاع ستون آب همین مقدار ۷۶۰ میلی‌متر خواهد بود؟
- ۳ ارتفاع قله زردکوه ۴۵۴۱ متر از سطح دریا می‌باشد فشار محیط در آنجا ۴۵۰ میلی‌متر جیوه است. این فشار را به کیلو پاسکال و اتمسفر تبدیل کنید.

فشار مطلق^۱ و فشار نسبی^۲

فشار یک سامانه به دو صورت نسبی (P_g) و مطلق (P_a) بیان می‌گردد. عمدتاً لوازم اندازه‌گیری موجود قادر به اندازه‌گیری فشار به صورت نسبی هستند اما در محاسبات مهندسی همان‌گونه که در قانون گاز ایده‌آل مشاهده کردید نیازمند فشار به صورت مطلق می‌باشیم. مرجع تعریف‌شده اندازه‌گیری فشار، صفر مطلق می‌باشد و مکانی است که هیچ فشاری در آن وجود ندارد و خلأ کامل برقرار است. اگر فشار را با مبنای صفر مطلق اندازه‌گیری کنیم، فشار مطلق نامیده می‌شود. فشار نسبی که فشار گیج^۳ نیز نامیده می‌شود، متداول‌ترین روش اندازه‌گیری فشار می‌باشد. این فشار اختلاف بین فشار مطلق و فشار جو (P_{amb}) می‌باشد. فشار نسبی می‌تواند بیشتر یا کمتر از فشار محیط باشد. زمانی که از لفظ «فشار» استفاده می‌کنیم منظور فشار بالاتر از فشار محیط می‌باشد و زمانی که منظور فشار کمتر از فشار محیط باشد از لفظ «خلأ»^۴ استفاده می‌گردد.

۱- Absolute Pressure

۲- Relative Pressure

۳- Gauge pressure

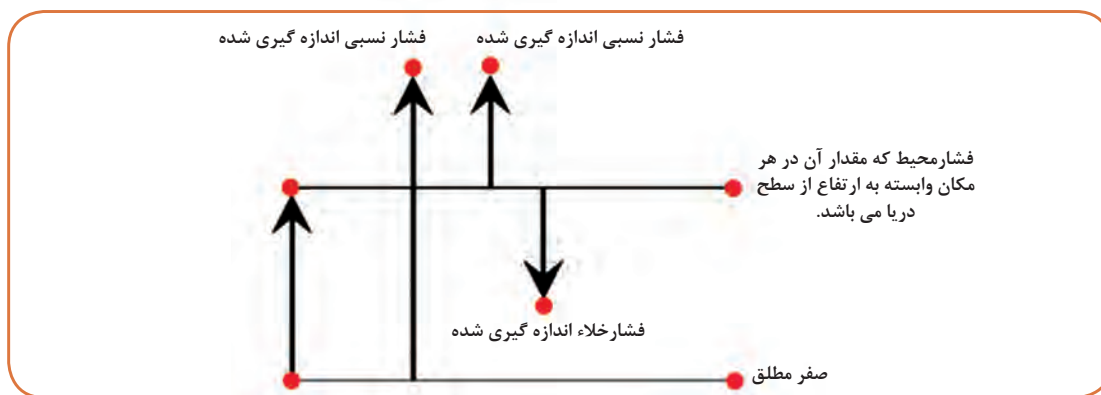
۴- Vacuum

رابطه بین فشار مطلق، نسبی و محیط مطابق معادله ۵ است.

$$P_a = P_g + P_{amb} \quad (\text{معادله ۵})$$

در صورتی که فشار سامانه کمتر از فشار محیط (خلاً) باشد، عدد فشار نسبی به صورت عددی منفی در معادله ۵ قرار داده شود.

نکته



شکل ۷- بیان تصویری انواع حالت فشار

مثال:

عمق آب در پشت دیواره سدها ممکن است تا ۸۰ متر باشد. اگر فشار محیط ۷۱۴ میلی متر جیوه باشد، فشار نسبی و فشار مطلق بر حسب پاسکال در بستر نزدیک دیواره را محاسبه کنید. چگالی آب را 1000 kg/m^3 فرض کنید.

پاسخ:

ابتدا فشار محیط را به واحد پاسکال تبدیل می کنیم.

$$714 \text{ mmHg} \times 101325 \text{ Pa}/760 \text{ mmHg} = 95192/17 \text{ Pa}$$

فشار نسبی عبارت است از:

$$P_g = d.g.h = 1000 \times 9.8 \times 80 = 784000 \text{ Pa}$$

فشار مطلق عبارت است از:

$$P_a = P_g + P_{amb} = 784000 + 95192/17 = 879192/17 \text{ Pa}$$

تمرین



- ۱ فشارسنج نصب شده روی یک سیلندر گاز عدد ۱۰۰ بار را نشان می دهد. اگر فشار جو ۷۴۰ میلی متر جیوه باشد فشار نسبی و فشار مطلق گاز درون سیلندر را بر حسب بار، اتمسفر و میلی متر جیوه محاسبه کنید.
- ۲ فشار نسبی یک تبخیرکننده خلأ ۴۵ کیلوپاسکال است. اگر فشار محیط ۹۳ کیلو پاسکال باشد، فشار مطلق را محاسبه کنید.

۳ غواصی در عمق ۱۰ متری آب دریا قرار دارد. چگالی آب دریا 1053 kg/m^3 می باشد و اداره هواشناسی فشار هوا را ۷۵۵ میلی متر جیوه اعلام کرده است. فشار نسبی و مطلق را که بدن غواص تحمل می کند، محاسبه کنید.



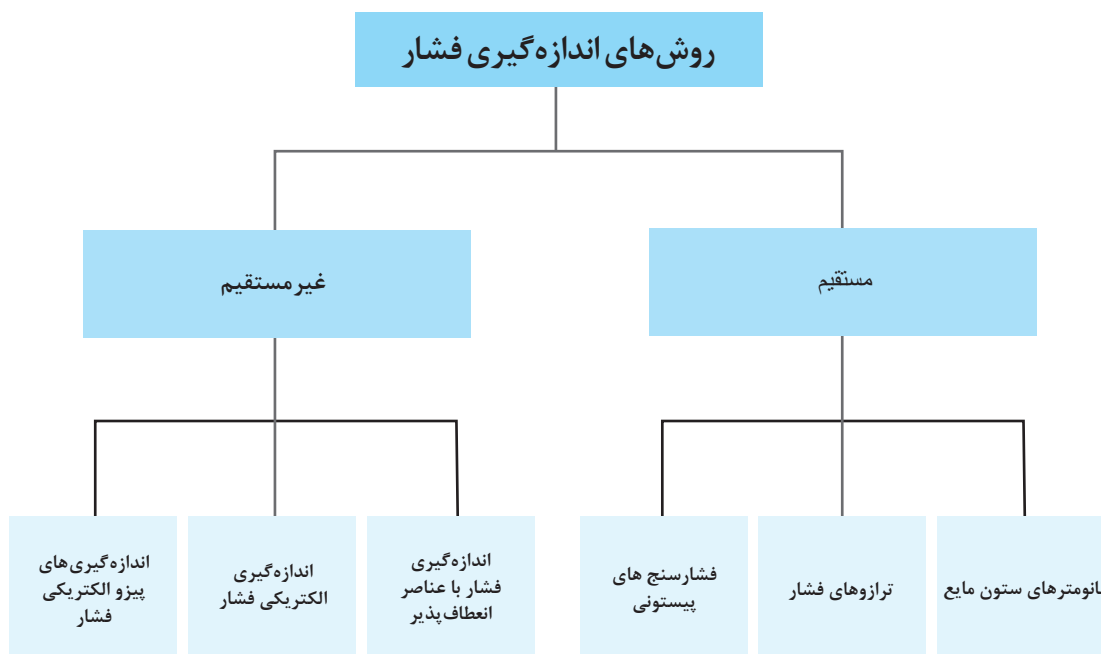
فیلم شماره ۷: بارومتر
پخش فیلم: طرز کار بارومتر عقربه‌ای

روش‌های اندازه‌گیری فشار

اندازه‌گیری و کنترل موفقیت‌آمیز فشار بستگی زیادی به روش و ابزار اندازه‌گیری فشار دارد. امروزه این وسایل دامنه‌ای بین ۱ میلی‌بار تا 10^5 بار را با دقت زیاد اندازه‌گیری می‌کنند. برای اندازه‌گیری فشار دو روش وجود دارد: مستقیم و غیرمستقیم
روش مستقیم: در این روش از معادلات اساسی فشار استفاده می‌شود. و در نهایت با اندازه‌گیری مستقیم متغیرهای مربوطه، فشار محاسبه می‌گردد.

$$P = F/A \quad \text{یا} \quad P = d \cdot g \cdot h$$

روش غیرمستقیم: در این روش مقدار فشار از انحراف در یک ماده انعطاف پذیر یا تغییر در خواص نوری، الکتریکی، یا شیمیایی سامانه، اندازه‌گیری می‌شود.



تجهیزات اندازه‌گیری مستقیم فشار^۱

پیزومتر^۲



شکل ۸- پیزومتر

ساده‌ترین ابزار اندازه‌گیری مستقیم فشار، یک لوله شیشه‌ای است که پیزومتر نامیده می‌شود. برای درک طرز کار پیزومتر، یک خط لوله محتوی مایعی را در نظر بگیرید. نقطه‌ای از این خط لوله را سوراخ کنید و به آن یک لوله شیشه‌ای بلند وصل کنید (شکل ۸). مشاهده می‌گردد که مایع تا ارتفاعی در لوله شیشه‌ای بالا خواهد آمد، اگر این ارتفاع با h نامگذاری شود فشار از معادله $P = d \cdot g \cdot h$ قابل محاسبه خواهد بود.

این نوع فشارسنج گرچه خیلی ساده می‌باشد اما در مورد مایعات سمی، فشارهای بالا، گازها و فشار خلاً کاربردی ندارد.

فعالیت عملی



استفاده از پیزومتر برای اندازه‌گیری فشار

روش کار:

یک جفت لوله شیشه‌ای با قطر یکسان تهیه کنید و روی یک خط لوله با فاصله ۳۰ سانتی‌متر از یکدیگر وصل کنید (شکل ۹).

دقت کنید که اگر شیر جریان خروجی بسته باشد، طبق قانون ظروف مرتبط ارتفاع آب در هر دو لوله یکی است.

الف) شیر خروجی را باز کنید و ارتفاع مایع در ستون پیزومترها را بخوانید (از جدول زیر کمک بگیرید).

ب) به‌طور هم‌زمان با قسمت الف، دبی حجمی آب را به‌وسیله استوانه مدرج و کرنومتر محاسبه کنید.

ج) اختلاف ارتفاع‌ها و فشار معادل آن را محاسبه کنید.

د) بندهای الف تا ج را در دبی‌های مختلف تکرار کنید.

ه) منحنی افت فشار بر حسب دبی را رسم کنید.



شکل ۹- کاربرد پیزومترها در خط لوله

۱- Direct Measuring Pressure Instruments

۲- Piezometer

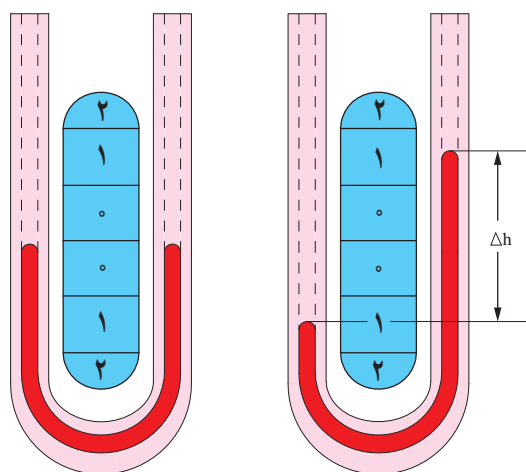
پودمان سوم - اندازه گیری، ثبت و کنترل فشار

ردیف	ارتفاع آب در پیزومترها		اختلاف ارتفاع		اختلاف فشار	حجم آب جمع آوری شده		زمان	دبی حجمی ^۱
	(cm)		(m)	(cm)	Pa	(cm ^۳)	(m ^۳)	(s)	(m ^۳ /s)
۱									
۲									
۳									
۴									
۵									
۶									

مانومتر U شکل^۲

ابزاری های زیادی برای اندازه گیری فشار سیالات با استفاده از ستون مایع به کار می روند. یک نوع از این فشارسنج ها، مانومترهای U شکل می باشند. معمولاً این نمونه از مانومترها، لوله شیشه ای U شکلی است که توسط جیوه و یا یک مایع با فراریت کم دیگر که به مایع مانومتری معروف است پر شده باشد. اختلاف فشار از ارتفاع ستون مایع طبق رابطه زیر محاسبه می گردد.

$$\Delta P = dg\Delta h$$



الف

شکل ۱۰- مانومتر U شکل، در قسمت الف) فشار در هر دو شاخه یکسان است و در قسمت ب) فشار در شاخه چپ بیشتر از شاخه سمت راست است.

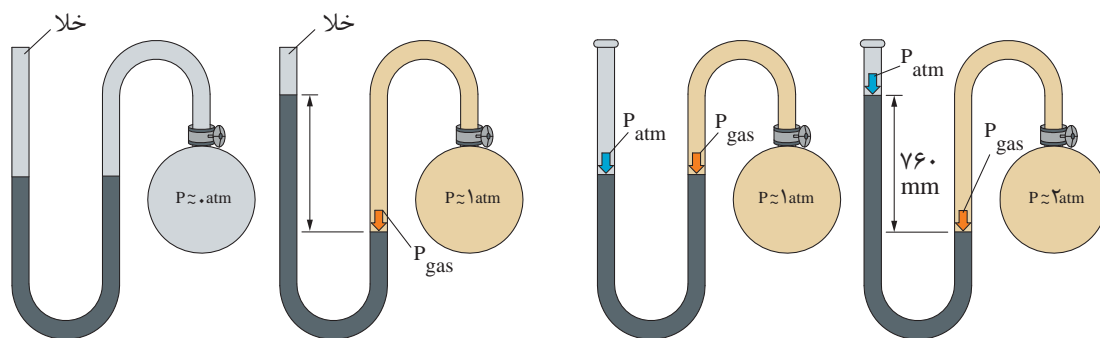
Δh اختلاف ارتفاع مایع در دو ستون است که از روی یک خط کش درجه بندی شده خوانده می شود (شکل ۱۰). انتخاب مایع مانومتر به اندازه فشار مورد اندازه گیری بستگی دارد. الکل، جیوه و آب از متداول ترین مایعات مانومتری می باشند. چون چگالی سیال مانومتر وابسته به دما می باشد و شتاب جاذبه زمین در نقاط مختلف متفاوت است، دقت این وسایل وابسته به مکان و دما است.

۱- دبی حجمی: میزان حجم سیال عبوری در واحد زمان می باشد که یکای آن در سامانه SI بر حسب مترمکعب بر ثانیه است.

۲- U Type Manometer

در شکل ۱۱ مانومتر با انتهای بسته مشاهده می‌گردد که در بالای شاخه سمت چپ خلأ برقرار است. زمانی که حباب سمت راست حاوی هیچ گازی نباشد و درون آن نزدیک به خلأ باشد ارتفاع ستون جیوه در دو طرف لوله یکسان است و چنانچه در این حباب گازی با فشار یک اتمسفر وارد کنیم ارتفاع جیوه در ستون‌ها تغییر خواهد کرد اختلاف بین ارتفاع این دو ستون برابر با فشار مطلق گاز بر حسب طول ستون سیال به کار رفته در مانومتر خواهد بود (فشار مطلق).

در شکل ۱۲، لوله سمت چپ مانومتر باز بوده و در معرض فشار محیط قرار دارد و فشار نسبی گاز را نشان می‌دهد. چنانچه حباب گازی دارای فشار یک اتمسفر باشد و فشار محیط نیز استاندارد و معادل یک اتمسفر، ارتفاع ستون جیوه در هر دو شاخه برابر خواهد بود. در صورتی که فشار گاز درون حباب از فشار محیط بیشتر شود، جیوه درون شاخه سمت راست لوله U شکل جابه‌جا شده و اختلاف فشار بین محیط و حباب به صورت اختلاف در طول ستون جیوه نمایان می‌گردد. در این حالت فشار مطلق گاز، برابر مجموع فشار ناشی از اختلاف ارتفاع ستون‌های جیوه و فشار محیط می‌باشد.



شکل ۱۱- مانومتر با انتهای باز (فشار نسبی)

شکل ۱۲- مانومتر با انتهای بسته (فشار مطلق)

اگر فشار درون حباب شکل ۱۱ کمتر از فشار محیط (خلأ) باشد، اختلاف ارتفاع ستون‌های جیوه چگونه خواهد بود. در این صورت فشار مطلق گاز چگونه محاسبه می‌گردد؟

پرسش



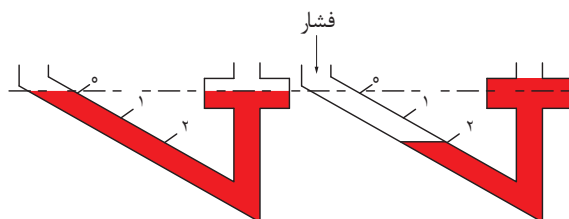
تمرین



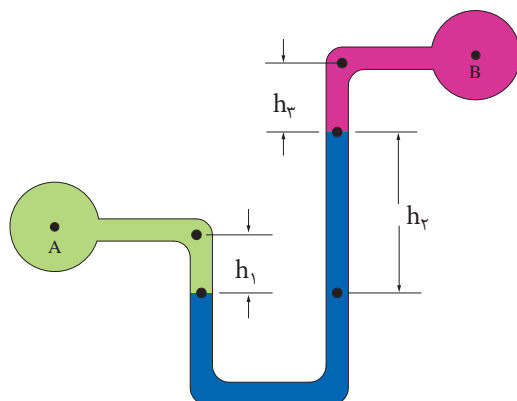
۱ قرار است با یک مانومتر با انتهای بسته فشار گازی را اندازه‌گیری کنید که بین ۰ تا ۰/۲ اتمسفر در نوسان است. به دلیل سمی بودن جیوه تصمیم داریم از آب به جای جیوه درون مانومتر استفاده کنیم. برای آب به چه طولی از ستون نیازمندیم؟ (در ۲۵ درجه سلسیوس چگالی آب ۰/۹۹۷۰ g/cm^۳ و چگالی جیوه ۱۳/۵۳ g/cm^۳ می‌باشد).
۲ فرض کنید برای اندازه‌گیری فشاری معادل یک اتمسفر توسط مانومتر U شکل به جای جیوه در مکانی که دمای آن ۳۰ درجه سلسیوس است از گالیوم با نقطه ذوب ۲۹/۷۶°C استفاده کنیم. چگالی گالیوم در برابر با ۶/۱۱۴ g/cm^۳ است. در این حالت، به چه طولی از ستون مانومتر نیازمندیم؟

هنگام انتخاب مانومتر دقت کنید که بیشترین مقدار فشار فرایند، ۷۰ درصد فشار نهایی قابل اندازه گیری توسط مانومتر باشد. مثلاً برای فرایندی که بیشترین فشار آن ۷۰ بار است از مانومتری استفاده می گردد که تا ۱۰۰ بار را بتواند اندازه گیری کند.

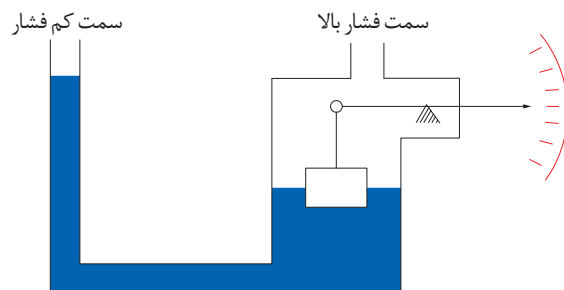
انواع دیگری از این نوع مانومترهای مایعی مانند مانومتر با لوله مورب^۱، مانومترهای با چند مایع مانومتری^۲، مانومترهای نوع شناور^۳ نیز وجود دارند (شکل های ۱۲-۱۵).



شکل ۱۳- مانومتر با لوله مورب



شکل ۱۴- مانومتر با چند مایع مانومتری



شکل ۱۵- مانومتر نوع شناور

۱- Inclined- Tube Manometer

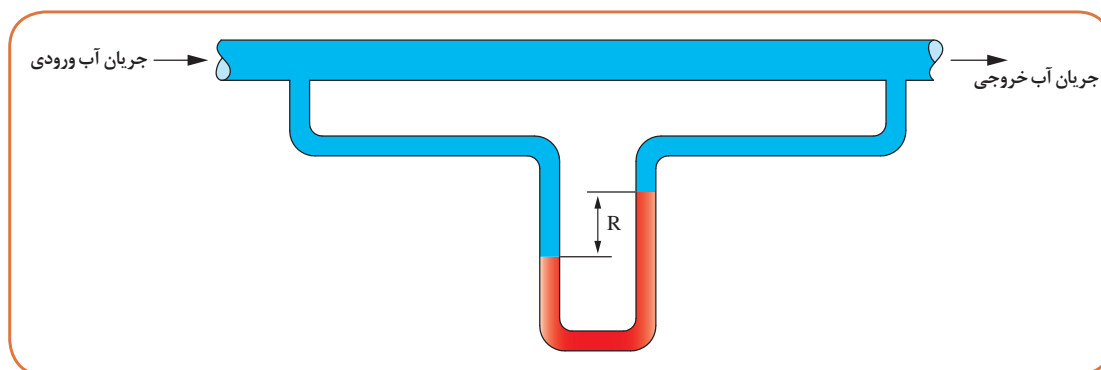
۲- Multiple liquid Manometer

۳- Float- type Manometer



ساخت مانومتر U شکل

مطابق شکل ۱۶ و با استفاده از انواع لوله‌های شیشه‌ای و پلیمری، یک مانومتر U شکل مدرج متصل به خط لوله آب بسازید. آیا می‌توانید توسط مانومتر ساخته شده اختلاف فشار آب را تا فاصله یک متری اندازه‌گیری کنید؟



شکل ۱۶- یک نمونه مانومتر U شکل



استفاده از مانومتر U شکل برای اندازه‌گیری فشار ستون مایع

روش کار:

با استفاده از یک لوله پلیمری و نوارهای کاغذی، یک مانومتر U شکل مدرج آماده کنید. مطابق شکل ۱۷ وسایل آزمایش را سوار کنید.

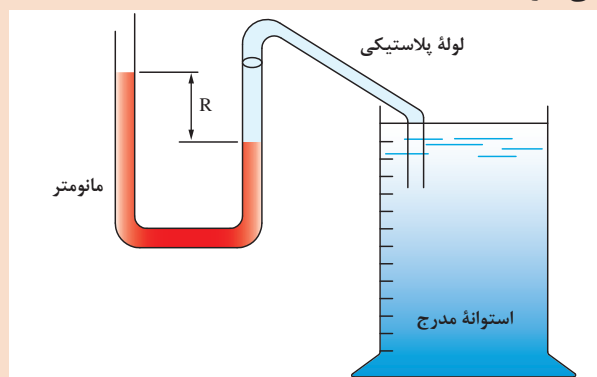
الف) ارتفاع استوانه مدرج را از بالا تا پایین بر حسب سانتی‌متر درجه‌بندی کنید.

ب) استوانه را تا نقطه صفر درجه‌بندی شده از آب پر نمایید.

ج) جدولی مطابق جدول صفحه بعد رسم کرده و با فرو بردن نوک لوله پلاستیکی درون استوانه در ارتفاع‌های مختلف اطلاعات خواسته‌شده را تکمیل کنید.

د) نمودار تغییرات ارتفاع ستون مایع (h) را بر حسب فشار (P) رسم کنید.

ه) از این نمودار چه نتیجه‌ای می‌گیرید؟



شکل ۱۷- استفاده از مانومتر U شکل برای اندازه‌گیری فشار ستون مایع

ردیف	ارتفاع ستون مایع h		اختلاف ارتفاع ستون مایع مانومتری		فشار P
	m	cm	m	cm	Pa
۱	۰	۰	۰	۰	۰
۲	۱۰	۰/۱			
۳	۲۰				
۴	۳۰				
۵	۴۰				
۶	۵۰				
۷	۶۰				

همچنین وسایل دیگری مانند ترازوهای فشار^۱ وجود دارند که از فرمول $\Delta P = d. g. \Delta h$ برای اندازه گیری مستقیم فشار استفاده می کنند (شکل ۱۸).

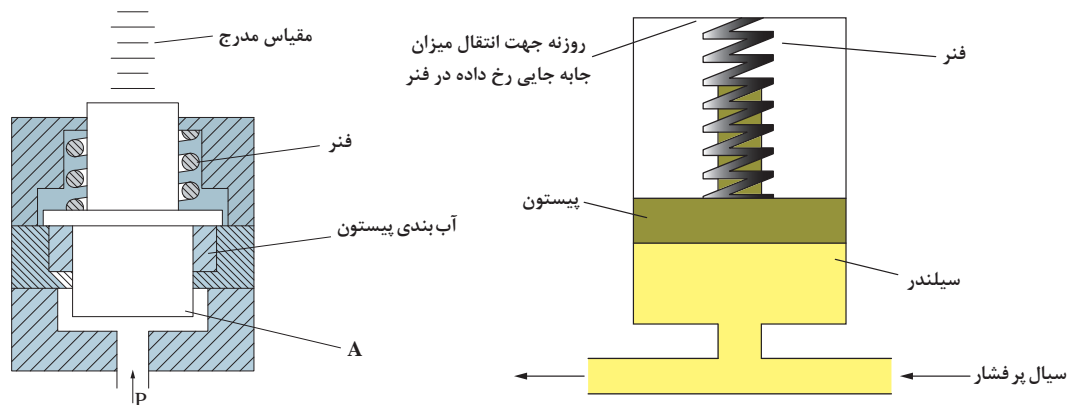


شکل ۱۸- ترازوی فشار

لوازم اندازه گیری فشار پیستونی^۲: از این وسایل به روش مستقیم و از معادله اساسی فشار استفاده می کنند $(P=F/A)$. در این وسایل فشار بر سطح مشخص A یک پیستون آب بندی شده وارد می شود و تولید نیروی F می نماید. این نیرو باعث جمع شدن یک فنر می گردد که میزان جابه جایی فنر تابعی از فشار می باشد و می توان آن را روی یک مقیاس مدرج مشاهده نمود (شکل ۱۹). دامنه اندازه گیری این وسیله ۱۵ تا ۱۵۰۰ psi و با دقت بین ۱ تا ۵ درصد است.

۱- Pressure Balances

۲- Piston type Pressure Measuring Instrument



شکل ۱۹- مانومتر نوع پیستونی

فیلم شماره ۸: مانومتر U شکل



تجهیزات غیر مستقیم اندازه گیری فشار^۱

در این روش‌ها از تأثیر فشار بر یک ماده انعطاف پذیر و تغییر شکل آن و یا تغییر در خواص الکتریکی، مغناطیسی، نوری و یا شیمیایی مواد در اثر فشار استفاده می‌گردد. فشارسنج بوردون^۲ متداول ترین نوع فشارسنج از این دسته است. در ادامه انواع فشارسنج بوردون توضیح داده می‌شود.

لوله بوردون^۳: لوله بوردون از یک لوله خمیده عمدتاً از جنس فلز و با قابلیت ارتجاعی تشکیل شده است. این لوله از یک طرف مسدود و از طرف دیگر آزاد می‌باشد. فشار ورودی از سر باز لوله وارد می‌شود و سر مسدود به نسبت فشار وارده به سمت خارج از شعاع منحرف می‌گردد. این انحراف با انجام تنظیمات می‌تواند به عنوان مرجع اندازه گیری فشار مورد استفاده قرار گیرد. با انتقال این حرکت به یک عقربه می‌توان فشار را اندازه گیری نمود. جنس لوله بوردون وابسته به نوع سیال و دامنه فشار مورد اندازه گیری می‌باشد. جدول ۳ جنس مناسب لوله بوردون سازگار با انواع سیالات را نشان می‌دهد.

جدول ۳- جنس مناسب لوله بوردون برای فرایندها و فشارهای مختلف

سیال	جنس لوله بوردون	دامنه فشار (psi)
آب و هوا	آلیاژ فسفر برنز	۱۰۰۰
فراورده‌های نفتی	انواع فولاد	۳۰۰۰
محصولات خورنده و یا دارای فشار بخار زیاد	فولاد ضد زنگ	۸۰۰

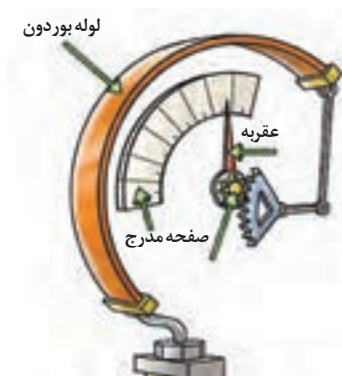
۱- Indirect- Measuring Pressure Measuring Instruments

۲- Burdon Guage

۳- Burdon Tube

انواع لوله بوردون

۱- حسگر C شکل^۱: این نوع حسگر برای فشارهای نسبتاً پایین مناسب است. همان طور که در شکل ۲۰ مشاهده می کنید با وارد شدن فشار به یک لوله C شکل، سر دیگر به سمت بیرون منحرف می شود. این حرکت توسط یک اهرم که انتهای آن به یک چرخ دنده قطاعی متصل شده منتقل می گردد. چرخ دنده قطاعی با یک چرخ دنده کوچک تر درگیر شده که عقربه را می چرخاند. در نتیجه با وارد شدن فشار به فشارسنج، موقعیت عقربه در روی صفحه تغییر می کند و مقدار فشار را نشان می دهد. یک فنر پیچشی متصل به چرخ دنده دوار نیز کمک می کند تا با برداشته شدن فشار عقربه به موقعیت قبلی بازگردد..



شکل ۲۰- نمای درونی و بیرونی فشارسنج بوردون از نوع C

۲- حسگر نوع حلزونی^۲: برای افزایش حساسیت و دقت در اندازه گیری فشارهای پایین طول لوله بوردون را افزایش می دهند. گاهی ممکن است طول لوله بوردون به قدری زیاد شود که زاویه آن از ۳۶۰ درجه هم بگذرد (شکل ۲۱) یعنی لوله به صورت یک دایره کامل در آمده و از آن هم تجاوز کند. در این حالت لوله به شکل مارپیچ در خواهد آمد، اما سازوکار اندازه گیری فشار همانند لوله C شکل می باشد.

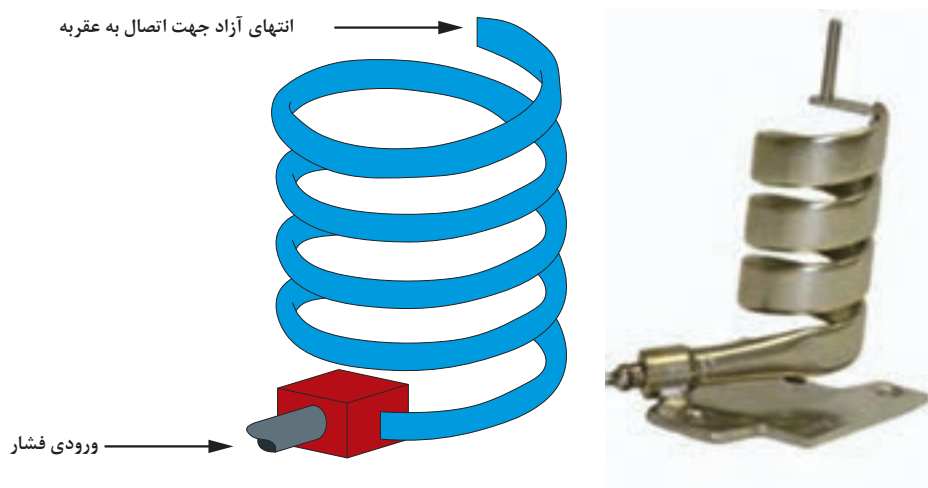
۱- C Type Sensor

۲- Helical Sensor



شکل ۲۱- لوله بوردون از نوع مارپیچی یا حلزونی

۳- حسگر نوع حلقوی^۱: برای اندازه‌گیری فشارهای بالا (تا ۱۰۰۰۰ پوند بر اینچ مربع از لوله بوردون حلقوی استفاده می‌گردد. فشارسنج‌ها و ثبت‌کننده‌هایی که از لوله بوردون نوع حلقوی و حلزونی استفاده می‌کنند، دارای اصطکاک کمتر و حساسیت زیادتری می‌باشند. در این نمونه نیز سازوکار انتقال حرکت به عقربه مانند انواع دیگر می‌باشد (شکل ۲۲).



شکل ۲۲- لوله بوردون از نوع حلقوی

علاوه بر فشارسنج‌های نوع بوردون انواع دیگر فشارسنج که بر اساس تأثیر فشار بر یک ماده انعطاف‌پذیر کار می‌کنند مانند فشارسنج دیافراگمی نیز وجود دارند.

فیلم شماره ۹: فشارسنج بوردون
فیلم شماره ۱۰: ساخت فشارسنج بوردون



آشنایی با فشارسنج بوردون

روش کار: از یک فشارسنج بوردون و یک نوع کمپرسور هوا استفاده کنید. در صورت عدم دسترسی به کمپرسور می توانید از لاستیک بادشده خودرو و یا تلمبه دستی استفاده کنید.

الف) ابتدا فشارسنج را باز کنید و اجزای داخلی آن را مورد بررسی قرار دهید و با تکان دادن ملایم لوله بوردون سازوکار انتقال حرکت به عقربه را بررسی کنید.

ب) با اتصال فشارسنج به یک منبع پرفشار مانند کمپرسور و یا لاستیک خودرو، به نحوه تغییر شکل لوله بوردون و انتقال این حرکت به عقربه توجه کنید و مشاهدات خود را یادداشت کنید.



اگر لوله بوردونی که برای فشار ۱۰ بار طراحی گردیده است، در معرض فشار بالاتری قرار بگیرد چه اتفاقی رخ خواهد داد؟

اندازه گیری الکتریکی فشار


در اندازه گیریهای ارتجاعی مانند فشارسنج بوردون معمولاً فشار اندازه گیری شده باید به کمیتی الکتریکی تبدیل شود. این امر استفاده از قطعات و اجزای اضافی و افزایش هزینه را به دنبال داشته و همچنین میزان خطا را افزایش می دهد. اندازه گیریهای الکتریکی فشار، فشار را مستقیماً به کمیتی الکتریکی مانند ولتاژ و یا شدت جریان الکتریکی تبدیل می نمایند و از این نظر صرفه جویی قابل ملاحظه ای در هزینه ها می شود و دقت اندازه گیری نیز افزایش می یابد. این ابزار بر اساس تغییر در مقاومت الکتریکی ناشی از فشار، ایجاد جریان الکتریکی، تغییر در ظرفیت یک خازن و ...، فشار را به یک موج الکتریکی قابل اندازه گیری تبدیل می کند. یک نمونه از اندازه گیریهای الکتریکی فشار، انواع فشارسنج های دیجیتالی می باشد. (شکل ۲۳)



شکل ۲۳ - مانومتر دیجیتال قابل حمل و ثابت

تنظیم^۱ فشارسنج‌ها

تمامی وسایل اندازه‌گیری پس از مدتی از دقت و حساسیت آنها کاسته می‌شود و باید مجدداً تنظیم شوند. اصول تنظیم فشارسنج‌ها وابسته به نوع فشارسنج می‌باشد. در مورد فشارسنج‌های بوردون این کار بسیار ساده بوده و از قانون $P=F/A$ استفاده می‌شود. این روش به روش بار مرده^۲ معروف است (شکل ۲۴). در این روش، یک وزنه با جرم معلوم روی یک پیستون آب‌بندی شده با سطح مقطع ثابت قرار می‌گیرد. نیروی وزن وزنه تقسیم بر مساحت پیستون فشاری ایجاد می‌کند که میزان آن از معادله اساسی فشار معلوم است. این فشار توسط یک سیال هیدرولیک به فشارسنج منتقل می‌گردد. اگر فشارسنج عدد صحیح را نشان بدهد، کالیبره است و در غیر این صورت تنظیم می‌شود.



شکل ۲۴- سامانه تنظیم فشارسنج‌های بوردون به روش بار مرده

تنظیم‌کننده‌های فشار^۳

هوای فشرده، گازهای صنعتی، گاز شهری و انواع دیگر گازها، توسط سیلندرهای فلزی و کامپوزیتی و یا خطوط لوله منتقل می‌شوند. جهت ایجاد نیروی محرکه در خط لوله‌های گاز و غلبه بر افت فشار در طول مسیر و نیز جهت ذخیره‌سازی بیشتر گاز در سیلندرهای گاز و خطوط لوله، آنها را تحت فشار ذخیره و منتقل می‌کنند. به عنوان مثال گاز طبیعی موجود در خط لوله‌های گاز بین شهرها تا ۶۰۰ psi فشار دارد.

۱- Calibration

۲- Dead Weight Method

۳- Pressure Regulators

اما مصرف کننده های گاز نیاز به فشارهای پایین تری در حد ۰/۲۵psi دارد. کاهش فشار زیاد به فشار مناسب توسط تنظیم کننده های فشار یا رگولاتورها صورت می پذیرد.

متغیرهای زیادی در انتخاب یک رگولاتور مناسب نقش دارند که شامل دامنه فشار عملیاتی ورودی و خروجی، شدت جریان مورد نیاز، نوع و مشخصات سیال (گاز یا مایع بودن و یا سمی و خورنده بودن)، دمای عملیاتی و... می باشد. معمولاً جنس رگولاتورها از انواع کامپوزیت، برنج، آلومینیوم و فولادهای ضد زنگ است.

انتخاب رگولاتور مناسب بر چهار اصل استوار است که عبارت اند از:

- طراحی مناسب و جنس متناسب با گاز مورد نظر

- دامنه فشار کپسول و فشار مورد نیاز

- دامنه دقت اندازه گیری

- شدت جریان گاز

رگولاتورهای گازی دارای فشارها و کاربردهای مختلفی هستند (شکل های ۲۵ تا ۲۷). برخی مانند رگولاتورهای گاز شهری در مواقعی که فشار خط لوله کم می شود جریان گاز را برای مصرف کننده قطع می کنند.



شکل ۲۶- رگولاتور گازهای صنعتی



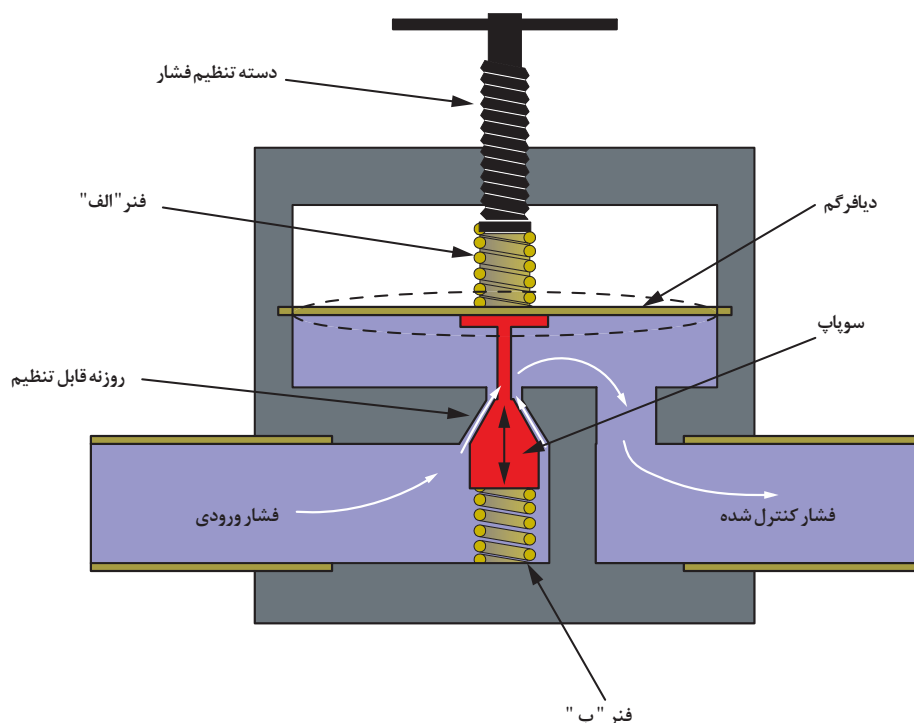
شکل ۲۵- رگولاتور گاز شهری



شکل ۲۷- رگولاتور گاز مایع

شیر فشار شکن^۱

شیرهای فشار شکن، گونه‌ای از شیرهای صنعتی می‌باشند که جهت تنظیم، کاهش و ثابت نگه داشتن فشار خروجی سیالاتی مانند بخار، آب و گازهای صنعتی در خطوط انتقال، شبکه و توزیع مواد خام مورد استفاده قرار می‌گیرند. یک نوع از شیرهای فشار شکن با عملکرد مستقیم^۲ در شکل ۲۸ نشان داده شده است.



شکل ۲۸- طرح ساده‌ای از یک شیر فشار شکن با عملکرد مستقیم

طرز کار شیر فشار شکن با عملکرد مستقیم به این صورت است که با چرخاندن دسته تنظیم فشار در جهت عقربه ساعت فنر «الف» به دیافراگم نیرو وارد می‌کند این نیرو به سوپاپ وارد می‌شود و سوپاپ، علاوه بر کنار رفتن و باز کردن مسیر سیال فنر «ب» را فشرده می‌کند. چنانچه فشار سیال ورودی به هر دلیلی افزایش یابد، در اثر نیروی ایجاد شده ناشی از افزایش فشار نیروی وارده به دیافراگم افزایش پیدا می‌کند و فنر «الف» را فشرده می‌کند و سپس فنر «ب» سوپاپ را به بالا می‌راند و مسیر عبور سیال را محدود می‌کند تا زمانی که فشار سیال ورودی آن قدر کم شود که نیروی وارده به دیافراگم و نیروی فنر «الف» برابر شوند.

فیلم شماره ۱۱: شیر فشار شکن

فیلم شماره ۱۲: شیر فشار شکن

۱- Pressure Reducing Valve

۲- Direct Acting Pressure Reducing Valve

تجهیزات آرام سازی و کاهش فشار^۱

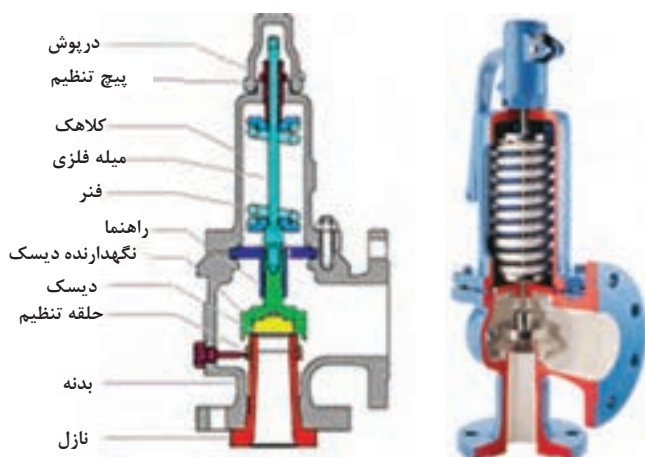
در واحدهای صنعتی ممکن است به دلایل گوناگون فشار سامانه از حد مجاز و یا حد قابل تحمل طراحی شده، بیشتر شود، در این صورت احتمال نشتی سیال و انفجار سامانه وجود خواهد داشت. به همین دلیل سامانه های کنترل به طور دایم فشار را کنترل می کنند.

در صورت افزایش فشار و عدم توانایی سامانه های خودکار، سامانه های هشدار و ایمنی فعال می شوند و کاربرها به صورت دستی برای کنترل فشار اقدام خواهند کرد. چنانچه هیچ کدام از این راه حل ها فشار را کنترل نکنند، تجهیزات آرام سازی و رهاسازی فشار به عنوان آخرین عنصر از زنجیره ایمنی سامانه، فشار اضافه را به بیرون هدایت می کنند. امروزه در بازار انواع مختلف تجهیزات کاهش فشار وجود دارند که به دو دسته بسته شونده^۲ و غیر بسته شونده^۳ تقسیم بندی می گردند. در ادامه توضیح مختصر این نوع تجهیزات آورده شده است.

الف) تجهیزات کاهش فشار بسته شونده

این وسایل به گونه ای طراحی شده اند که بتوانند پس از آزاد کردن فشار اضافی، دوباره بسته شوند تا نه تنها مواد اضافی از سامانه خارج نشود بلکه سامانه بتواند به عملیات خود ادامه دهد. انواع این تجهیزات عبارت اند از:

۱- شیر ایمنی^۴: این وسیله در سامانه های بخار استفاده می شود و در اثر نیروی ناشی از افزایش فشار درون سامانه، باز می شود و با کاهش فشار، بسته می شود (شکل ۲۹).



شکل ۲۹- شیر ایمنی

این شیر از قسمت نازل به بدنه سامانه تحت فشار متصل می گردد، با برداشتن درپوش و با محکم کردن پیچ تنظیم، می توان دامنه عملکرد فشاری شیر ایمنی را بالا برد تا در فشار بالاتری عمل کند. بسته شدن این پیچ باعث می گردد فنر تحت فشار جمع شود و نیروی بیشتری روی دیسک وارد کند. چنانچه فشار سامانه از حدی که تنظیم گردیده است بالاتر رود، فشار وارده به دیسک، نیرویی ایجاد می کند که بر نیروی فنر غلبه می نماید و دیسک به عقب رانده شده و مسیر خروج بخار باز می شود.

۱- Pressure Relief Devices

۲- Reclosing Pressure Relief Devices

۳- Non- Reclosing Pressure Relief Devices

۴- Safety Valve



شکل ۳۰- شیر رهاسازی

با تخلیه بخارات، فشار سامانه کاهش می‌یابد و نیروی وارده به دیسک کمتر می‌شود و زمانی که فشار کمتر از نیروی فنر شود دیسک به جای خود باز می‌گردد و مسیر را مسدود می‌کند.

۲- شیر رهاسازی: این شیر برای سامانه‌های تحت فشار حاوی مایعات مورد استفاده قرار می‌گیرد. این نمونه از شیر از دید ظاهری و عملکرد مشابه شیر ایمنی می‌باشد ولی برای سامانه‌های مایع طراحی شده است. مشابه این شیر را می‌توانید بالای مخازن آبگرمکن‌های مخزنی مشاهده کنید. (شکل ۳۰)

۳- شیر ایمنی اطمینان: عملکرد این نوع شیر هم

مانند دو مورد قبلی می‌باشد و تنها تفاوت آن در این است که به گونه‌ای طراحی شده است که در سامانه‌های مایع و بخار نیز قابلیت استفاده دارد.

ب) تجهیزات کاهش فشار غیر بسته‌شونده

اگر شیرهای ایمنی و اطمینان به هر دلیلی عمل نکنند، آخرین عضو سامانه ایمنی وارد عمل می‌شود و با باز کردن یک مسیر خروجی، مواد اضافه را به بیرون از سامانه هدایت می‌کند. این نمونه پس از عمل کردن بسته نمی‌شود و بعداً باید تعویض شود. یک نمونه از این سامانه‌ها دیسک پاره‌شونده یا دیسک انفجاری^۳ می‌باشد (شکل ۳۱).



شکل ۳۱- دیسک انفجاری قبل و بعد از پاره شدن و نحوه نصب آن

این دیسک‌ها در هنگام افزایش فشار مخزن پاره شده و فشار درون مخزن را آزاد می‌کنند و سامانه را از ترکیدن و یا آتش‌سوزی محافظت می‌کنند. این دیسک‌ها پس از پاره شدن قابلیت استفاده ندارند و باید تعویض گردند. نمونه دیگری از این تجهیزات «مجرای ذوب‌شدنی»^۴ می‌باشد. این مجرا یک قطعه فلزی سوراخ‌دار است که سوراخ‌های آن توسط یک آلیاژ فلزی از سرب، بیسموت، آنتیموان و قلع با نقطه ذوب معین پر شده است. در صورت بالا رفتن دمای سامانه‌های تحت فشار، این آلیاژ ذوب می‌شود و مسیر را برای خروج فشار اضافه باز می‌کند (شکل ۳۲).

۱- Relief Valves ۲- Safety Relief Valves ۳- Rupture Disc ۴- Fusible Plug

پودمان سوم - اندازه گیری، ثبت و کنترل فشار



شکل ۳۲- مجرای ذوب شدنی روی شانه یک سیلندر گاز تحت فشار و یک مجرای ذوب شدنی مجزا قبل از نصب

فیلم شماره ۱۳: دیسک انفجاری




آیا بدون اندازه گیری و کنترل فشار می توان محصولات مختلف را در صنایع شیمیایی تولید کرد؟

پرسش



اتاق کنترل^۱

در اتاق کنترل، متخصصین فرایند، بر کلیه تحولات، نظارت دقیق دارند و در صورت لزوم فرمان های دستی یا خودکار را صادر می کنند (شکل ۳۳). در حالت عادی فرایند به صورت خودکار کنترل می شود و محصولات به صورت ایمن و با ملاحظات زیست محیطی و با کیفیت و کمیت مورد نظر تولید می گردند.



شکل ۳۳- اتاق کنترل موجود در پالایشگاه گاز

در اتاق‌های کنترل علاوه بر کنترل فرایند، کلیه اتفاقات فرایندی توسط نشانگرها نمایش داده و ثبت می‌گردند. نشانگرها برای نمایش مقادیر عددی یک متغیر در تابلو کنترل و یا اتاق فرمان مورد استفاده قرار می‌گیرند. در اتاق‌های کنترل امروزی مشاهده و ثبت متغیرهای فرایندی نظیر دما و فشار توسط سامانه‌های رایانه‌ای صورت می‌پذیرد و به راحتی می‌توان به اطلاعات آنی و یا ذخیره شده دسترسی داشت.

فیلم شماره ۱۴: اتاق کنترل



نشانگرها

یکی از اجزای مهم سامانه کنترل یا همان ابزار دقیق، نشان دادن متغیرهای اندازه‌گیری به گونه‌ای است که کاربران به سادگی به آن دسترسی داشته باشند. نشانگرها دو دسته‌اند: نشانگر آنالوگ و نشانگر دیجیتال.

نشانگر آنالوگ: این نشانگرها مقدار خوانده شده متغیر را به یک قلم که بر روی یک صفحه شطرنجی در حال حرکت است، منتقل می‌کنند. نشانگرهای آنالوگ معمولاً عقربه‌ای دارند که روی یک صفحه مقیاس کالیبره شده حرکت می‌کند. به عنوان مثال در فشارسنج نوع بوردون نشانگر یا همان عقربه عدد فشار را روی یک مقیاس مدور که همان صفحه فشارسنج است، نشان می‌دهد.

نشانگر دیجیتال: در نوع دیجیتال مقادیر خوانده شده به شکل عدد، یا موج‌های مغناطیسی و یا نقاطی که روی کاغذهای حرارتی شکل می‌گیرند، ثبت می‌شوند.

ثبات‌ها^۲



شکل ۳۴- دو نوع ثبات کاغذی

برای ثبت اندازه‌گیری‌ها از ثبات استفاده می‌شود. ثبات زمانی استفاده می‌گردد که نیاز به دانستن و داشتن جزئیات تغییرات در طول زمان می‌باشد. ثبات‌ها انواع گوناگونی دارند که عبارت‌اند از:

ثبات‌های کاغذی^۳: این ثبات‌ها دارای کاغذ می‌باشند

و متغیرهای فرایندی نظیر فشار را بر حسب زمان روی

کاغذ ثبت می‌کنند (شکل ۳۴). کاغذ ثبات با سرعت معلوم حرکت می‌کند و یک قلم تغییرات متغیرهای موردنظر را روی کاغذ ثبت می‌کند و کاربر می‌تواند با رجوع به آن تاریخچه‌ای از زمان وقوع رخدادها را داشته باشد. به علاوه این اتفاقات ثبت شده را می‌توان بایگانی نمود. برخی از این نوع ثبات‌ها تا ۱۶ عدد قلم برای ثبت ۱۶ متغیر هم‌زمان را دارا هستند.

ثبات‌های بدون کاغذ

این نمونه‌ها نسل جدیدی از ثبات‌ها می‌باشند که نیاز به کاغذ و قلم در آنها به کمک فناوری‌های جدید از بین رفته است. این ثبات‌ها دارای صفحه نمایش، قابلیت اتصال به اینترنت، ارسال داده‌ها و... می‌باشند (شکل ۳۵).



شکل ۳۵- یک نوع ثبات جدید



کنترل فشار:

روش کار:

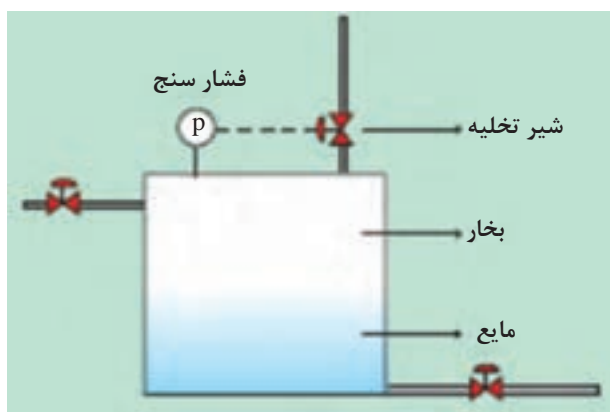
- برای انجام این فعالیت از یک اتوکلاو یا یک دیگ زودپز مجهز به فشارسنج، مطابق شکل ۳۶ استفاده کنید.
- الف) حدود $\frac{1}{3}$ از مخزن را از آب پر نموده و درب مخزن را مطابق دفترچه راهنمای آن ببندید.
- ب) اتوکلاو را روشن کنید تا آب درون مخزن شروع به گرم شدن کند.
- ج) در طول فعالیت، جدول زیر را با دقت پر نمایید.
- د) فعالیت را ادامه دهید تا شیر اطمینان عمل کرده و بخارات اضافی را خارج کند.
- ه) بگذارید آزمایش ۲-۳ دقیقه دیگر هم ادامه یابد.
- و) نمودار تغییرات دما بر حسب فشار را رسم نمایید.
- ی) در چه زمانی شیر اطمینان عمل کرد؟

نکته



در هنگام کار کردن با اتوکلاو و دیگ زودپز، مراقب نشتی‌ها باشید و سامانه را کاملاً آب‌بندی نمایید.

ردیف	فشار	دما	زمان	
	(Pa)	(°C)	(s)	
۱	۰	۲۰	۰	۰
۲				
۳				
۴				زمان عملکرد شیر اطمینان
۵				



شکل ۳۶- کنترل فشار مخزن

ارزشیابی شایستگی اندازه‌گیری، ثبت و کنترل فشار

شرح کار:

چگونگی استفاده تجهیزات کارگاهی را بداند و کار داده‌شده را با دقت انجام دهد.
هنگام کار مراقب باشد که دستگاه صدمه نبیند.
پس از انجام کار وسایل را تمیز و سالم در حالت اولیه قرار دهد.

استاندارد عملکرد:

به کارگیری محاسبات و اندازه‌گیری فشار و کنترل آن مطابق دستورالعمل

شاخص‌ها:

- رعایت مسائل ایمنی حین کار
- انجام کار طبق دستورالعمل

شرایط انجام کار و ابزار و تجهیزات:

شرایط مکان: کارگاه

شرایط دستگاه: سرویس شده

زمان: یک جلسه آموزشی

ابزار و تجهیزات: تعدادی مکعب مستطیل فلزی و چوبی و پلیمری - ترازو - مانومتر - مانومتر U شکل - فشارسنج
بوردون - استوانه مندرج - یک نوع کمپروسر هوا یا تلمبه دستی - اتوکلا و یا دیگ زودپز مجهز به فشارسنج

معیار شایستگی:

ردیف	مرحله کار	حداقل نمره قبولی از ۳	نمره هنجار
۱	به کارگیری مفاهیم و محاسبات در اندازه‌گیری فشار	۱	
۲	انجام روش‌های اندازه‌گیری فشار	۲	
۳	کنترل فشار	۱	
	شایستگی‌های غیرفنی، ایمنی، بهداشت، توجهات زیست‌محیطی و نگرش (۱- ایمنی: انجام کار کارگاهی با رعایت موارد ایمنی و استفاده از وسایل ایمنی شخصی ۲- نگرش: صرفه‌جویی در مواد مصرفی ۳- توجهات زیست‌محیطی: جلوگیری از صدمه زدن به محیط زیست از طریق انجام کار بدون ریخت و پاش ۴- شایستگی‌های غیرفنی: الف) اخلاق حرفه‌ای ب) مدیریت منابع پ) محاسبه و کاربست ریاضی ۵- مستندسازی: گزارش‌نویسی	۲	
	میانگین نمرات		*

* حداقل میانگین نمرات هنجار برای قبولی و کسب شایستگی، ۲ می‌باشد.