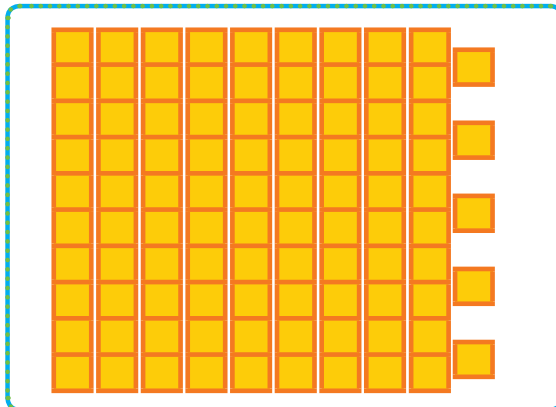






دسته‌های ده‌تایی درست کن. جدول را کامل کن و عدد مربوط را بنویس.




یکی	ده‌تایی
۵	۹



یکی	ده‌تایی



یکی	ده‌تایی



یکی	ده‌تایی

قبل از ورود به این صفحه، همین فعالیت را می‌توانید با چیزهای ملموس انجام دهید.


شمردن چیزها در زندگی روزمره به کمک دسته‌بندی توصیه می‌شود. به این ترتیب، عددهای ۲۰ تا ۹۹ می‌تواند ساخته شود.






بشمار و بنویس


شکل‌های هر دسته را بشمار و عدد مربوط به آن را بنویس. پس از آن جدول را کامل کن.




ده تایی	یکی



ده تایی	یکی



ده تایی	یکی



ده تایی	یکی



۵۳ _ ۵۴ _ ۵۵ _

دانش‌آموز در این فعالیت با شمردن پشت سر هم،









عدد مربوط به دسته را به دست می‌آورد و می‌نویسد. سپس عدد نوشته شده را به جدول منتقل می‌کند.

در تصویری مثل تصویر صفحه‌ی ۱۳۴ شمردن آدم‌ها و یا هر چیزی که قابل شمارش است، توصیه می‌شود.



جاهای خالی را پر کن.
مقارن هر شکل را رسم کن.

بشمار و
بنویس

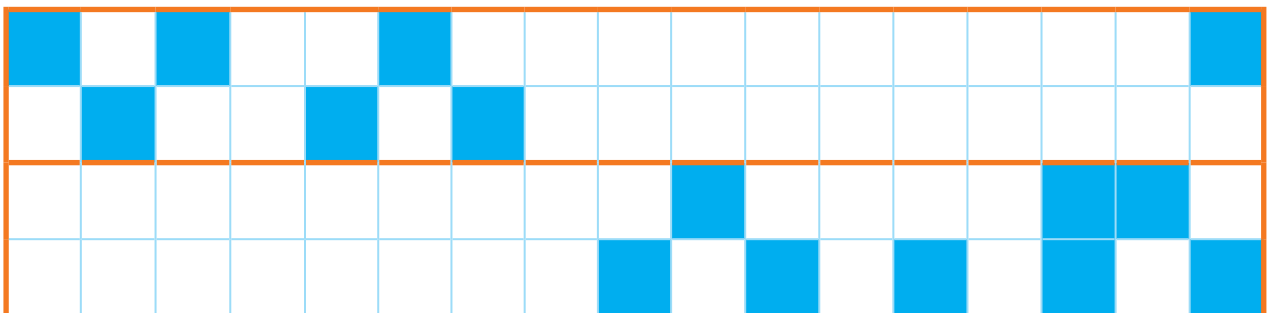


۱۵ ۲۰ ۲۵ ۵۰

+۵ +۵ +۵

۵۵ ۶۰ ۶۵

-۵ -۵ -۵







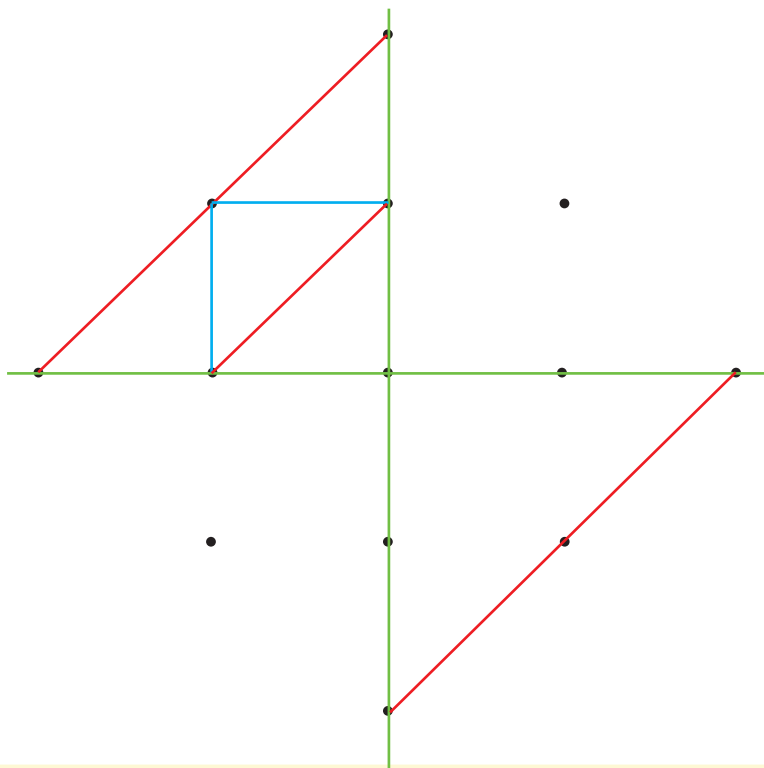
دانش آموزان باید شمردن ۵ تا ۵ را به صورت مستقیم یا معکوس با سرعت انجام دهند تا در جمع و تفریق ها از آن استفاده کنند.
فرزند شما باید شمردن مضرب های ۵ را به صورت مستقیم و معکوس به صورت ذهنی و با مهارت انجام دهد.





با ابزار کار کن

نقطه‌ها را با خط کش به هم وصل کن تا یک شکل با ۴ قسمت مثل هم ساخته شود. با نوشتن عدد مناسب، ترتیب کارها را مشخص کن.



ممکن است دانش‌آموزان تفسیرهای مختلفی از تصاویر ترتیب وضو ارائه کنند. به توضیح آنها و ترتیب شماره‌گذاری توجه کنید.

فرزند شما در این سن باید ترتیب وضو را فرا بگیرد.



حاصل جمع و تفریق‌ها را به صورت ذهنی پیدا کن و بنویس.
مسئله‌ها را با رسم شکل حل کن.

مسئله
حل کن



$$10 + 10 + 10 = \square$$

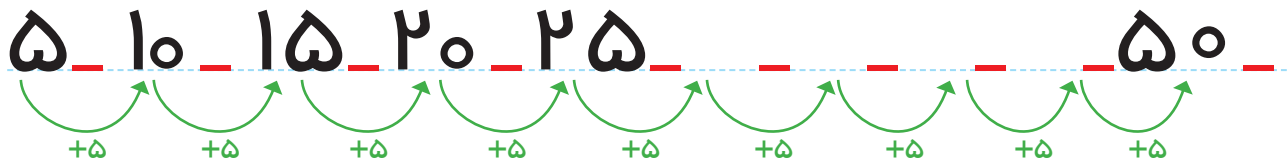
$$10 - 5 = \square$$

$$5 + 5 + 5 = \square$$

$$10 + 10 = \square$$

$$10 + 5 - 5 = \square$$

$$5 - 5 = \square$$



دو دسته‌ی ۱۰ تایی کبوتر در حال پرواز بودند. ۵ کبوتر به آنها اضافه شدند. حالا چند کبوتر در حال پرواز هستند؟

کبوتر _____



دو دسته‌ی ده‌تایی مداد روی میز بود. آموزگار ۳ بسته‌ی ۱۰ تایی دیگر مداد روی میز گذاشت. حالا چند مداد روی میز قرار دارد؟

مداد _____



دانش‌آموزان را به نوشتن عبارت جمع وادار نکنید. آنها می‌توانند پاسخ را با رسم شکل یا به صورت ذهنی به دست آورند.
مثال‌های مشابهی را با فرزند خود انجام دهید.

صد و بیست و یک

۱۴۰



جای خالی را پر کن.
مانند الگوی داده شده ادامه بده و جدول را رنگ کن.

بشمار و
بنویس



یکی	ده تایی
۳	۲

یکی	ده تایی
۹	۳


یکی	ده تایی
۱	۷

یکی	ده تایی
۰	۴

۴۷ ۴۸ ۵۱ ۵۵

از عدد ۶۳ شروع کنید و تا عدد ۷۵ بنویسید.

۱	۲	۳	۴	۵	۶	۷	۸	۹	۱۰
۱۱	۱۲	۱۳	۱۴	۱۵	۱۶	۱۷	۱۸	۱۹	۲۰
۲۱	۲۲	۲۳	۲۴	۲۵	۲۶	۲۷	۲۸	۲۹	۳۰
۳۱	۳۲	۳۳	۳۴	۳۵	۳۶	۳۷	۳۸	۳۹	۴۰



در این کتاب برای تعدادی از عددهای دو رقمی، شکل و جدول ارزش مکانی رسم شده است. برای سایر عددها نیز با استفاده از چیزهای

ملموس و شکل و ... همین فعالیت‌ها را انجام دهید.

فرزند شما به مرور با جدول عددهای ۱ تا ۱۰۰ آشنا می‌شود و شمردن چندتا چند تا را روی آن تمرین می‌کند.





صد و چهل و دو

۱۴۲



بشمار و بنویس

با توجه به مربع‌های رنگ شده یا چوب‌خط‌ها جمع‌ها را بنویس و حاصل را پیدا کن. 
عددهایی را که با حروف نوشته شده است با عدد بنویس. 



$$\text{---} + \text{---} + \text{---} = \text{---}$$



$$\text{---} + \text{---} + \text{---} = \text{---}$$



$$\text{---} + \text{---} + \text{---} = \text{---}$$

$$۵ + ۵ + ۱۰ + ۱۰ = \text{---}$$

$$۱۰ + ۲۰ + ۱۰ + ۲۰ = \text{---}$$

$$۵ + ۵ + ۲۰ + ۲۰ = \text{---}$$

$$۲ + ۳ + ۵ + ۱۰ = \text{---}$$



یک چهار هفت دو سه

ده شش نه هشت پنج



با چوب خط جمع یا تفریق کن.
مسئله‌ها را با رسم چوب خط حل کن.

مسئله
حل کن



$$7 + 8 = \square$$



$$11 + 4 + 5 = \square$$

$$15 - 5 = \square$$



۴ اردک در آب بودند. ۵ اردک دیگر به آنها اضافه شدند. ۳ اردک دیگر هم آمدند. چند اردک در آب است؟

..... اردک در آب است.



۸ دانش آموز در کلاس بودند. ۴ دانش آموز دیگر به کلاس آمدند. ۵ دانش آموز دیگر هم به کلاس آمدند. چند دانش آموز در کلاس هستند؟

..... دانش آموز در کلاس است.

استفاده از ۲ یا چند رنگ برای رسم چوب خط صرفاً برای تشخیص جمع چند عدد است. تأکید بر آن ضروری نیست.

فرزند شما مسئله‌ها را با رسم چوب خط حل می‌کند. کشیدن چوب خط و نوشتن جواب، راه حل قابل قبول و کافی است. به نوشتن عبارت جمع نیازی نیست.



با ابزار کار کن

اندازه‌ی مداد بین کدام دو عدد است؟
جاهای خالی را با عدد مناسب پر کن.



اندازه‌ی مداد بین تا است.




اندازه‌ی مداد بین تا است.



اندازه‌ی مداد بین تا است.

مداد شماره‌ی ۳ کوتاه‌تر از مداد شماره‌ی است.
مداد شماره‌ی ۱ هم اندازه‌ی مداد شماره‌ی است.
مداد شماره‌ی بلندترین مداد است.
مداد شماره‌ی کوتاه‌ترین مداد است.



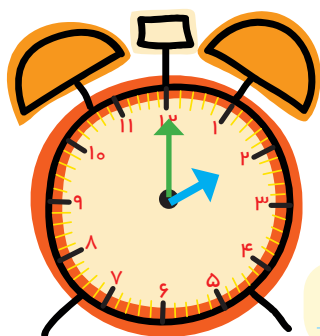
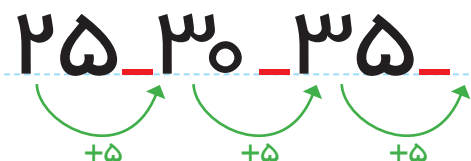
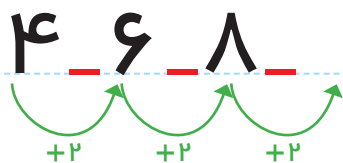

قبل از وارد شدن به این صفحه، همین فعالیت را با چیزهای ملموس و به‌طور عملی انجام دهید.

فرزند شما باید واژه‌های بلند، بلندتر و بلندترین و همچنین کوتاه، کوتاه‌تر و کوتاه‌ترین را به‌درستی به‌کار برد.

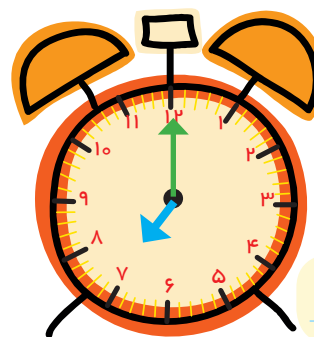
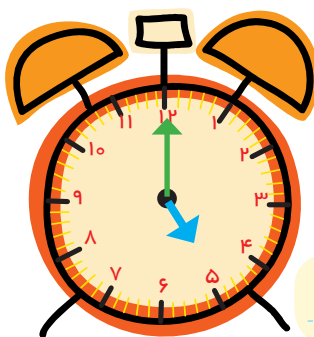
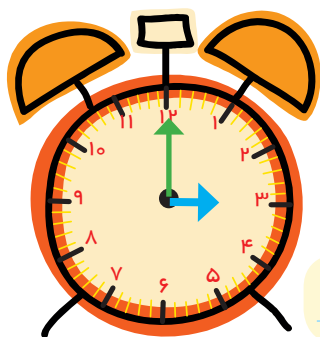
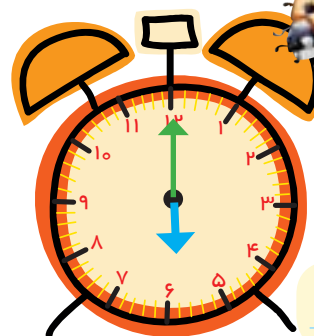
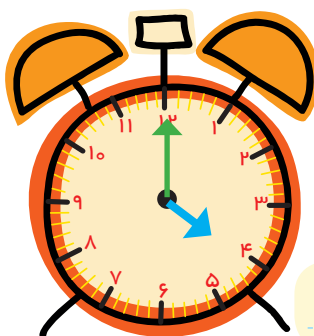


عددها و یا شکل‌ها را با توجه به الگو ادامه بده.
مانند نمونه، زمانی را بنویس که ساعت نشان می‌دهد.

الگویابی
کن



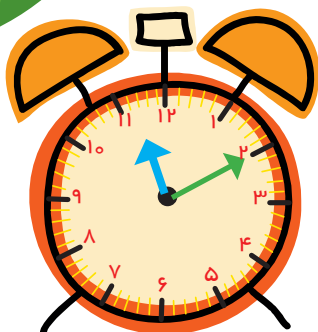
۲



هر کدام از تمرین‌های بالا در واقع نوعی حل مسئله است. دانش‌آموزان باید الگوی عددی را کشف کنند و سپس ادامه دهند.
از فرزند خود بخواهید الگوها را به صورت کلامی برای شما توضیح دهد. همچنین در طول روز، ساعت‌های کامل را با فرزند خود کار کنید.

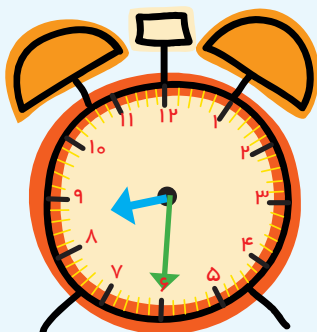


صد و چهل و شش
۱۴۶




زمان بین

ساعت _____ و _____
است.



زمان بین

ساعت _____ و _____
است.



زمان بین

ساعت _____ و _____
است.



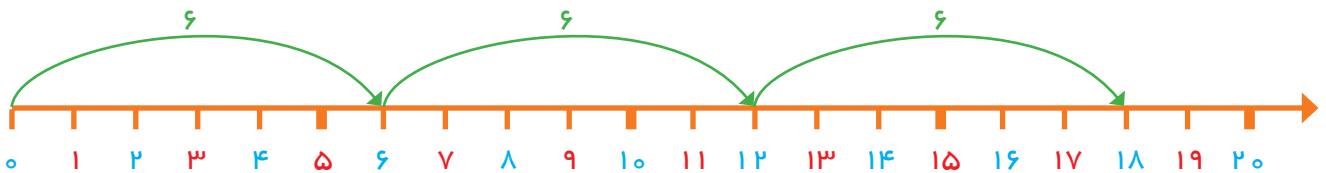
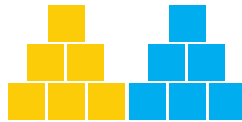






بشمار و بنویس

جاهای خالی را پر کن.

جدول عددها را با شمردن ۶ تا ۶ تا رنگ کن و سپس الگوی عددی را با کمک جدول کامل کن.



۱	۲	۳	۴	۵	۶	۷	۸	۹	۱۰
۱۱	۱۲	۱۳	۱۴	۱۵	۱۶	۱۷	۱۸	۱۹	۲۰
۲۱	۲۲	۲۳	۲۴	۲۵	۲۶	۲۷	۲۸	۲۹	۳۰
۳۱	۳۲	۳۳	۳۴	۳۵	۳۶	۳۷	۳۸	۳۹	۴۰
۴۱	۴۲	۴۳	۴۴	۴۵	۴۶	۴۷	۴۸	۴۹	۵۰



۰ ۶ ۱۲ ۱۸ ۲۴ ۳۰



هدف این صفحه، شمردن و ادامه دادن الگوهای ۶ تایی به صورت ذهنی نیست. دانش آموزان در اینجا فقط به کمک شکل یا

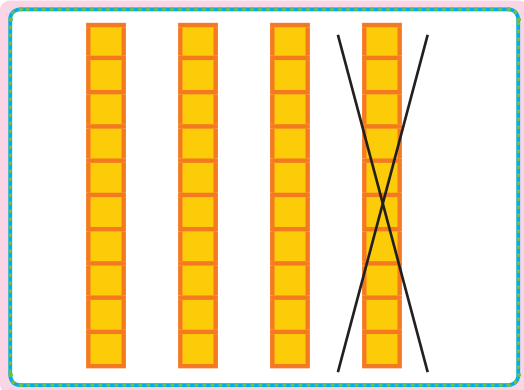
چیزهای ملموس، عدد بعدی را مشخص می کنند.

از فرزند خود بخواهید الگوی شمارش ۶ تایی را توضیح دهد. روی جدول بین عددهای رنگ شده، الگویی را کشف کند.

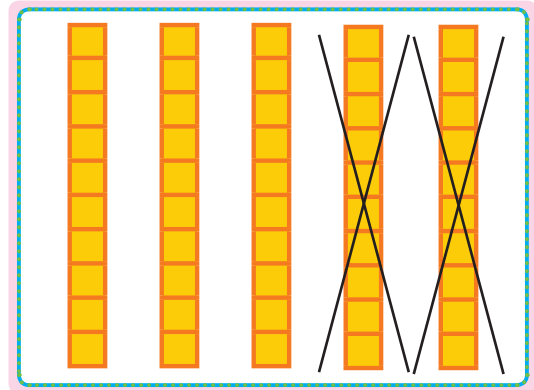


جاهای خالی را با عدد مناسب پر کن.

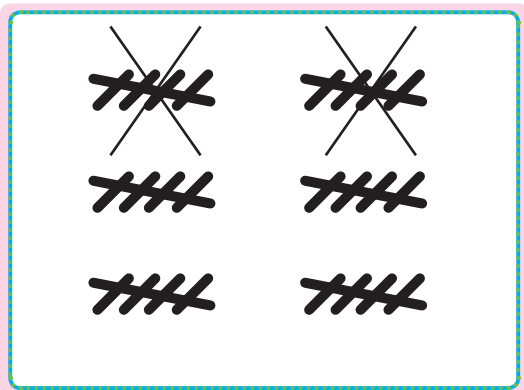
بشمار و
بنویس



$$40 - 10 = \square$$



$$\square - \square = \square$$



$$\square - \square = \square$$

$$40 - 20 = \square$$

$$15 - 5 = \square$$

$$25 - 5 = \square$$

قبل از ورود به این صفحه، تفریق ۱۰ تایی یا ۵ تایی را با چیزهای ملموس انجام دهید.
فرزند شما تفریق‌های ضرب ۱۰ را به صورت ذهنی انجام دهد تا به مهارت دست یابد.

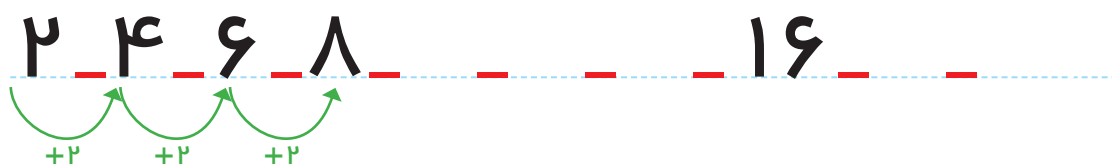
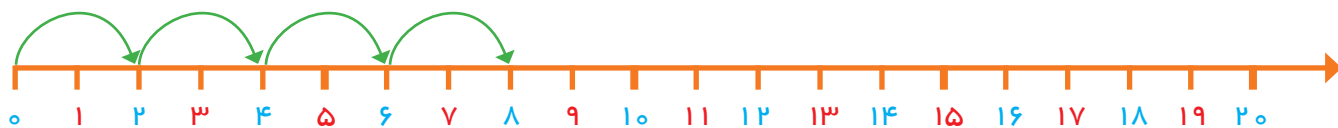


صد و پنجاه

۱۵۰

مسئله حل کن

الگورا ادامه بده.
مسئله‌ها را با محور حل کن.



یک اتوبوس ۱۸ مسافر داشت. در اولین ایستگاه ۲ نفر پیاده شدند. در دومین ایستگاه ۲ نفر دیگر پیاده شدند. در ایستگاه سوم ۲ نفر دیگر پیاده شدند. حالا اتوبوس چند مسافر دارد؟ مسافر دارد.



در یک کلاس ۱۲ دانش‌آموز نشسته بودند. ۴ نفر وارد کلاس شدند. ۵ نفر از کلاس بیرون رفتند. حالا چند نفر در کلاس هستند؟ دانش‌آموز در کلاس است.



هدف این فعالیت‌ها حل مسئله‌های ۲ مرحله‌ای به کمک محور اعداد است.

لازم نیست فرزند شما برای حل این مسئله‌ها عبارت جمع یا تفریق بنویسد. پیدا کردن جواب به کمک محور کافی است.

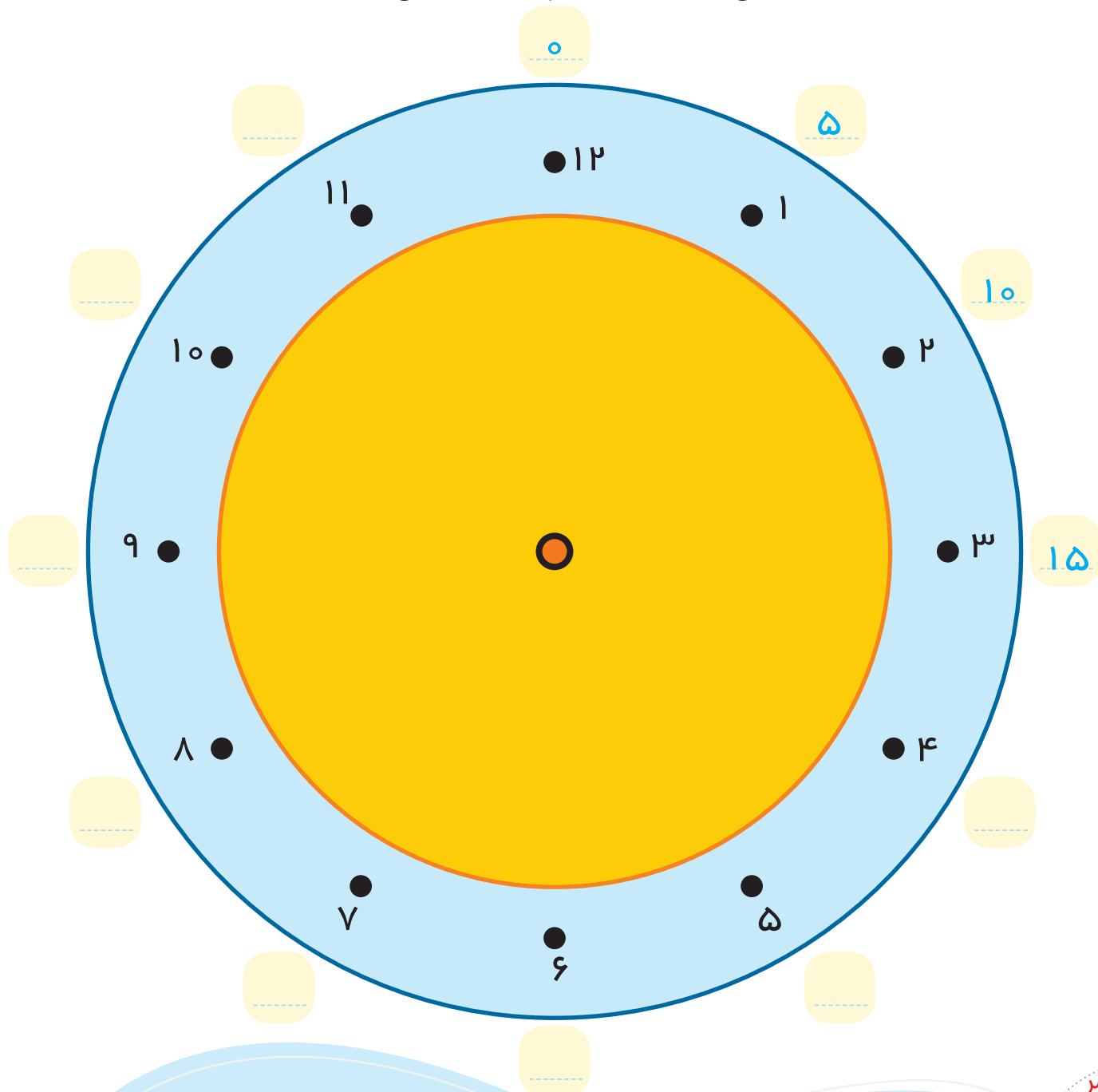


با توجه به توضیحات داده شده، نقطه‌ها را روی دایره با خط کش به هم وصل کن.

با ابزار
کار کن



از ۲ شروع کن و ۲ تا ۲ تا بشمار و نقطه‌ها را وصل کن و به ۲ برگرد.
از ۳ شروع کن. ۳ تا ۳ تا بشمار و نقطه‌ها را به هم وصل کن و به ۳ برگرد.
از ۴ شروع کن. ۴ تا ۴ تا بشمار و نقطه‌ها را به هم وصل کن و به ۴ برگرد.
عددهای آبی رنگ دور ساعت را هم با توجه به الگویی که دارد، ادامه بده و کامل کن.



هدف این فعالیت، علاوه بر استفاده از ابزار، تمرین شمردن چند تا چند تا و همچنین دنبال کردن دستورالعمل نیز هست.
فرزند شما همین فعالیت را با شروع از عددهای مختلف نیز می‌تواند در منزل انجام دهد.



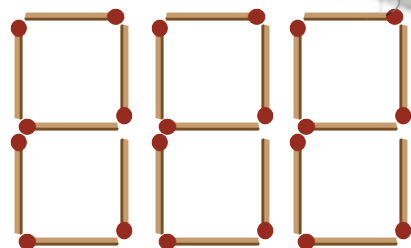
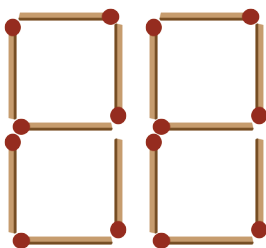
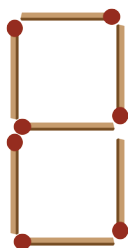
صد و پنجاه و دو

۱۵۲



بشمار و بنویس

جاهای خالی را با عدد مناسب پر کن.
۷ تا ۷ تا بشمار و رنگ کردن را ادامه بده.



۱	۲	۳	۴	۵	۶	۷	۸	۹	۱۰
۱۱	۱۲	۱۳	۱۴	۱۵	۱۶	۱۷	۱۸	۱۹	۲۰
۲۱	۲۲	۲۳	۲۴	۲۵	۲۶	۲۷	۲۸	۲۹	۳۰
۳۱	۳۲	۳۳	۳۴	۳۵	۳۶	۳۷	۳۸	۳۹	۴۰
۴۱	۴۲	۴۳	۴۴	۴۵	۴۶	۴۷	۴۸	۴۹	۵۰



$$7 \quad 14 \quad 21 \quad \quad \quad 49$$

$\xrightarrow{+7}$
 $\xrightarrow{+7}$
 $\xrightarrow{+7}$
 $\xrightarrow{+7}$
 $\xrightarrow{+7}$
 $\xrightarrow{+7}$

شنبه	یکشنبه	دوشنبه	سه شنبه	چهارشنبه	پنجشنبه	جمعه
۱	۲	۳	۴	۵	۶	۷
۸	۹	۱۰	۱۱	۱۲	۱۳	۱۴
۱۵	۱۶	۱۷	۱۸	۱۹	۲۰	۲۱
۲۲	۲۳	۲۴	۲۵	۲۶	۲۷	۲۸
۲۹	۳۰					


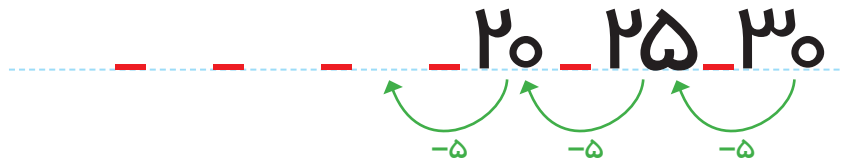
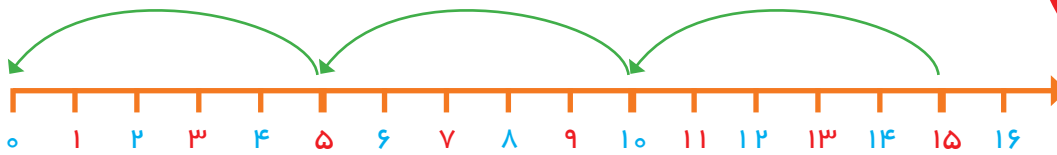
هدف، شمردن و ادامه دادن الگوی ۷ تا ۷ تا بیشتر از عددی داده شده در جدول و یا به صورت ذهنی نیست.

شمردن ۷ تا ۷ تا با کمک چیزها و مهره ها یا رسم شکل توصیه می شود. یکی از این نمونه ها تقویم ماهانه است که روزهای هفته ۷ تا

۷ تا مشخص می شود.

جاهای خالی را پر کن.

بشمار و
بنویس



شصت هفتاد هشتاد نود

هدف، تفريق عددهای بزرگتر از عددهای نوشته شده در این صفحه نیست. دانش آموزان در این محدوده‌ی عددها به کمک محور یا تفريق با انگشتان می‌توانند عددهای قبلی را پیدا کنند.

فرزند شما باید بتواند عددهای مضرب ۵ را به صورت معکوس به کمک شکل، چوب خط یا محور بشمارد و بیان کند.



صد و پنجاه و چهار

۱۵۴

