

بِسْمِ اللّٰهِ الرَّحْمٰنِ الرَّحِیْمِ

مفاهیم و روشهای

آماري (۲)

رشته حسابداری بازرگانی

گروه تحصیلی اداری مالی

زمینه خدمات

شاخه آموزش فنی و حرفه‌ای

شماره درس ۳۹۵۸

زهره بخش، محمدعلی	۵۱۹/۵
مفاهیم و روشهای آماری (۲) / مؤلف: محمدعلی زهره بخش. - تهران: شرکت چاپ و	م ۷۸ ز
نشر کتابهای درسی ایران، ۱۳۹۴.	۱۳۹۴
۱۲۳ ص. - مصور. - (آموزش فنی و حرفه‌ای؛ شماره درس ۳۹۵۸)	
متون درسی رشته حسابداری بازرگانی گروه تحصیلی اداری مالی، زمینه خدمات.	
برنامه‌ریزی و نظارت، بررسی و تصویب محتوا: کمیسیون برنامه‌ریزی و تألیف کتابهای	
درسی رشته حسابداری بازرگانی دفتر تألیف کتابهای درسی فنی و حرفه‌ای و کاردانش	
وزارت آموزش و پرورش.	
۱. آمار. الف. ایران. وزارت آموزش و پرورش. دفتر تألیف کتابهای درسی فنی و حرفه‌ای	
و کاردانش. ب. عنوان. ج. فروست.	

همکاران محترم و دانش‌آموزان عزیز :

پیشنهادات و نظرات خود را درباره محتوای این کتاب به نشانی
تهران - صندوق پستی شماره ۴۸۷۴/۱۵ دفتر تألیف کتابهای درسی
فنی و حرفه‌ای و کاردانش، ارسال فرمایند.

info@tvoccd.sch.ir

پیام‌نگار (ایمیل)

www.tvoccd.sch.ir

وب‌گاه (وب‌سایت)

این کتاب براساس نتایج ارزشیابی‌های عکس‌العملی غیر تحریک شده از حوزه آموزش
توسط مؤلف و با نظر کمیسیون تخصصی در سال ۱۳۸۷ بررسی و تجدید نظر شده است.

وزارت آموزش و پرورش

سازمان پژوهش و برنامه‌ریزی آموزشی

برنامه‌ریزی محتوا و نظارت بر تألیف : دفتر تألیف کتابهای درسی فنی و حرفه‌ای و کاردانش

نام کتاب : مفاهیم و روشهای آماری (۲) - ۴۶۹/۸

مؤلف : محمدعلی زهره‌بخش

آماده‌سازی و نظارت بر چاپ و توزیع : اداره کل نظارت بر نشر و توزیع مواد آموزشی

تهران : خیابان ایرانشهر شمالی - ساختمان شماره ۴ آموزش و پرورش (شهید موسوی)

تلفن : ۸۸۸۳۱۱۶۱-۹، دورنگار : ۸۸۳۰۹۲۶۶، کدپستی : ۱۵۸۴۷۴۷۳۵۹

وب‌سایت : www.chap.sch.ir

صفحه‌آرا : راحله زادفتح‌اله

طراح جلد : مریم کیوان


ناشر : شرکت چاپ و نشر کتابهای درسی ایران - تهران - کیلومتر ۱۷ جاده مخصوص کرج - خیابان ۶۱ (داروپخش)

تلفن : ۴۴۹۸۵۱۶۱-۵، دورنگار : ۴۴۹۸۵۱۶۰، صندوق پستی : ۳۷۵۱۵-۱۳۹

چاپخانه : شرکت چاپ و نشر کتابهای درسی ایران «سهامی خاص»

سال انتشار : ۱۳۹۴

حَقّ چاپ محفوظ است.



شما عزیزان کوشش کنید که از این وابستگی بیرون آید و احتیاجات کشور خودتان را برآورده سازید، از نیروی انسانی ایمانی خودتان غافل نباشید و از اتکای به اجانب پرهیزید.

امام خمینی «قدّس سرّه الشّریف»

فهرست مطالب

۱	فصل اوّل آنالیز ترکیبی
۲۰	فصل دوم احتمال (اندازه گیری مقدار شانس)
۴۷	فصل سوم همبستگی متغیرها و ضریب همبستگی
۷۴	فصل چهارم سریهای زمانی
۱۰۰	فصل پنجم اعداد شاخص
۱۲۲	منابع و مأخذ

مقدمه

برای آمار، تعاریف زیادی ارائه شده تا آنجا که می‌توان گفت، به تعداد انسانهایی که آمار را می‌شناسند، تعریف وجود دارد. از ترکیب و تلفیق تعاریف مختلف آمار و استخراج وجوه مشترک آنها، می‌توان نتیجه گرفت که هر بررسی آماری دو هدف اصلی را تعقیب می‌کند:

- ۱- توصیف مشاهدات تجربی به دست آمده از نمونه‌های مناسب آماری.
- ۲- تعمیم نتایج حاصل با درصد اطمینانی مشخص (= احتمال معین) به جامعه‌ای که نمونه مشاهده شده از آن انتخاب شده است.

با همین استدلال، مباحث آمار را به دو بخش اصلی و عمده تقسیم می‌کنند:

۱- آمار توصیفی ۲- آمار استنباطی

شما دانش‌آموزان عزیز! در درس مفاهیم و روشهای آماری (۱) با آمار توصیفی آشنا شدید. آمار استنباطی، شامل آن بخش از روشهای آماری است که با کمک داده‌های مشاهده شده، از نمونه‌های مناسب و استخراج شده از جوامع آماری، به استخراج و بیان نتایجی علمی و تعمیم نتایج مزبور به کل جامعه می‌پردازد. تئوری نمونه‌گیری، تئوری برآورد (= تخمین)، آزمون فرضیه‌ها، سریهای زمانی، همبستگی و رگرسیون، بررسی شاخصهای اقتصادی و مفاهیمی از این قبیل، از جمله مقوله‌هایی است که در مبحث استنباط آماری، مورد مطالعه قرار می‌گیرند. تئوری احتمالات، مانند پلی است که عبور از آمار توصیفی به آمار استنباطی را ممکن می‌سازد.

در این کتاب با فصول و مباحث زیر آشنا خواهید شد:

- ۱- آنالیز ترکیبی
- ۲- تئوری احتمال
- ۳- همبستگی و ضریب رگرسیون
- ۴- سریهای زمانی
- ۵- اعداد شاخص.

در پایان هر فصل، به منظور درک بیشتر مفاهیم، تعداد متناسبی تمرین ارائه شده است. طبیعی است که بدون حل تمرینهای هر فصل و بحث در مورد آنها، دریافت کامل مفاهیم آن فصل، میسر نخواهد بود. سرانجام، در انتهای هر فصل تعدادی تست چهار گزینه‌ای آورده شده تا ابزاری مناسب برای خودآزمایی دانش‌آموزان عزیز باشد.

چون برخی از مباحث این کتاب در کتابهای درسی سایر رشته‌ها توسط دیگر مؤلفان محترم

ارائه شده است حتی الامکان سعی شده تا هماهنگی لازم بین مطالب کتابهای مختلف مراعات گردد. امید است مطالب این کتاب برای شما دانش آموزان در جهت درک مفاهیم و حل مسائل آماری مفید واقع شود. برای رسیدن به این مقصود لازم است مدرسان محترم مثالهایی ساده از زندگی روزمره و مربوط به رشته تحصیلی ارائه نمایند و دانش آموزان عزیز تمرینهای هر جلسه را در همان روز در فرصتی مناسب حل کنند.

مؤلف

هدف کلی

ایجاد توانایی برای انجام محاسبات آنالیز ترکیبی، احتمال، همبستگی، سریهای زمانی و اعداد شاخص با تأکید بر جنبه‌های عملی و کاربردی مباحث مربوطه.

«عمل شمردن حالتها را خیلی ساده تصوّر نکنیم. در نظر داشته

باشیم که ده نفر می‌توانند به 3628800 طریق در یک صف جابجا شوند.»

فصل اول

آنالیز ترکیبی

هدفهای رفتاری: در پایان این فصل، از فراگیر انتظار می‌رود:

- ۱- اصول شمارش (اصل جمع و اصل ضرب) را تعریف کند.
- ۲- مفهوم فاکتوریل را تعریف کند.
- ۳- محاسبات مربوط به فاکتوریل را انجام دهد.
- ۴- ابزارهای شمارش (تبدیل، ترتیب و ترکیب) را همراه با کاربرد آنها توجیه

کند.

- ۵- مسائل مربوط به آنالیز ترکیبی را حل کند.

با توجه به اینکه بسیاری از مسائل احتمالات، متکی بر شمردن تعداد عضوهای متعلق به مجموعه‌های معین می‌باشند، در این فصل با مهمترین فنون شمارش آشنا خواهید شد تا در حل مسائل احتمالات بتوانید از آنها کمک بگیرید.

دو اصل مهم در شمارش

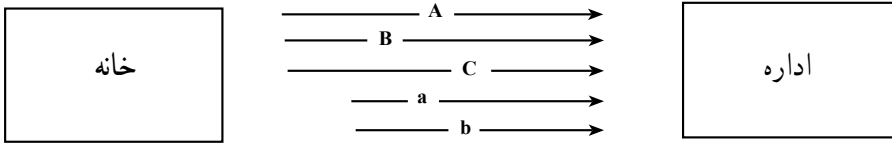
اصول شمارش بر پایه دو اصل بدیهی زیر بنا شده‌اند:

اصل جمع (« یا »)

اگر عمل A را بتوان به m طریق مختلف و عمل B را بتوان به n طریق متفاوت انجام داد، آنگاه A یا B را می‌توان به $m + n$ طریق به انجام رساند.

مثال ۱- کارمندی برای رفتن از خانه به اداره، می‌تواند از یکی از سه خط اتوبوسرانی A، B یا C و یا یکی از خطوط مینی بوسرانی a یا b استفاده کند. این کارمند به چند صورت می‌تواند وسیله رفتن خود را برگزیند؟

جواب: $3 + 2 = 5$



مثال ۲- در یک سلف سرویس چهار نوع چلو و خورش و پنج نوع خوراک بدون برنج وجود دارد. یک مشتری به چند طریق می‌تواند غذای خود را برگزیند؟

$$m + n = 4 + 5 = 9$$

اصل ضرب (« و »)

اگر عمل A را بتوان به m طریق مختلف و عمل B را بتوان به n طریق متفاوت انجام داد، A و B را می‌تواند به $m \times n$ طریق به انجام رساند.

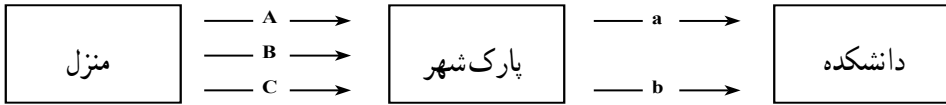
توجه داشته باشیم که اصول جمع و ضرب برای بیش از دو عمل نیز قابل تعمیم هستند و به طور کلی می‌توان گفت: برای تعیین تعداد راههای ممکن انجام یک امر که دارای چند مرحله متوالی است، باید تعداد راه‌های ممکن هر مرحله را در هم ضرب کرد.

تذکر: حرف ربط «یا» در اصل جمع و «و» در اصل ضرب نقش تعیین کننده‌ای در تشخیص این اصول خواهند داشت البته ممکن است مفاهیم «یا» و «و» در جمله مستتر باشند.

مثال ۳- دانشجویی برای رفتن از منزل به دانشکده باید ابتدا با استفاده از یکی از خطوط اتوبوسرانی A، B یا C، خود را به پارک شهر برساند و سپس با استفاده از یکی از خطوط مینی بوسرانی

a یا b به دانشکده برود. این دانشجوی، به چند طریق می تواند از منزل به دانشکده برود؟

جواب: $3 \times 2 = 6$



در بسیاری از مسائل عملی، اصول جمع و ضرب به صورت توأم مورد استفاده قرار می گیرند.

مثال ۴- از بین چهار اقتصاددان و دو جامعه شناس و سه حسابدار، به چند طریق می شود، کمیته ای دو نفره تشکیل داد، به طوری که اعضای کمیته دارای یک نوع تخصص نباشند؟
جواب: این کمیته را می توان به $4 \times 2 = 8$ طریق از بین اقتصاددانان و جامعه شناسها یا به $4 \times 3 = 12$ طریق از بین اقتصاددانان و حسابدارها، یا به $2 \times 3 = 6$ طریق از بین جامعه شناسها و حسابدارها و در نتیجه به: $8 + 12 + 6 = 26$ طریق متمایز تشکیل داد.

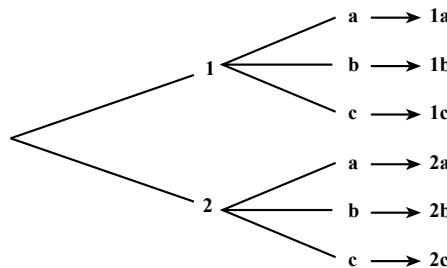
خودآزمایی - دو مثال برای اصل جمع و دو مثال برای اصل ضرب بیان کنید.

به نظر شما کدام اصل بیشتر کاربرد دارد؟

مثال ۵- احمد پنج شلوار و چهار کت دارد. او به چند طریق می تواند کت و شلوار بپوشد؟

$$m \times n = 5 \times 4 = 20$$

برای درک بیشتر اصل ضرب می توان از روش درختی (= شاخه ای) نیز کمک گرفت. مثلاً اگر $A = \{1, 2\}$ ، $B = \{a, b, c\}$ باشد، حاصل ضرب $A \times B$ طبق اصل ضرب برابر $2 \times 3 = 6$ و طبق روش درختی این شش عضو به صورت زیر خواهند بود:



توجه داشته باشیم که در اصل ضرب گاهی اوقات انتخابها وابسته به انتخابهای قبلی هستند و گاهی اوقات انتخابها، مستقل از انتخابهای قبلی خواهند بود. مثلاً اگر بخواهیم با ارقام ۱، ۲، ۳ و

۴ اعداد سه رقمی بدون تکرار را بنویسیم، خواهیم داشت :

$$\boxed{4 \ 3 \ 2} = 4 \times 3 \times 2 = 24$$

اما اگر هدف ما نوشتن همه اعداد سه رقمی «با تکرار یا بدون تکرار» باشد، خواهیم داشت :

$$\boxed{4 \ 4 \ 4} = 4 \times 4 \times 4 = 64$$

توجه دارید که در نوشتن اعداد سه رقمی بدون تکرار، انتخابها وابسته به انتخابهای قبلی، اما در مورد اعداد سه رقمی با تکرار، انتخابها مستقل از انتخابهای قبلی هستند.

فاکتوریل چیست؟

حاصلضرب اعداد صحیح و مثبت ۱، ۲، ۳، ...، n را فاکتوریل n گویند، که با نماد n! نشان داده می‌شود. با توجه به تعریف بالا می‌توان نوشت :

(فرمول ۱)

$$\boxed{1 \times 2 \times 3 \times \dots \times (n-1) \times n = n! \quad \text{یا} \quad n! = n(n-1)(n-2) \times \dots \times 3 \times 2 \times 1}$$

به بیان دیگر می‌شود گفت : n! یعنی ضرب کردن n در همه اعداد صحیح متوالی قبل از خودش تا یک.
مثلاً :

$$5! = 5 \times 4 \times 3 \times 2 \times 1 = 120$$

$$6! = 6 \times 5 \times 4 \times 3 \times 2 \times 1 = 720$$

$$6! = 6 \times 5!$$

از ترکیب دو مثال بالا می‌توان نتیجه گرفت که :

و حالت کلی این مطلب را، می‌توان به صورت فرمول ۲ بیان کرد :

$$\boxed{n! = n(n-1)!}$$

(فرمول ۲)

ضمناً ۰! و ۱! را مساوی یک در نظر می‌گیرند. (در ادامه این فصل دلیل این مطلب را خواهید دید.)

مثال ۶- حاصلضرب اعداد زیر را به صورت فاکتوریل یک عدد طبیعی بنویسید.

$$\begin{array}{ccc} 6 \times 20 = & & 24 \times 30 = \\ \downarrow & & \downarrow \\ 1 \times 2 \times 3 \times 4 \times 5 = 5! & & 1 \times 2 \times 3 \times 4 \times 5 \times 6 = 6! \end{array}$$

$$3! \times 5! = 6 \times 5! = 6!$$

مثال ۷- کسرهای زیر را ساده کنید :

$$\frac{4!}{6!} = \frac{4!}{6 \times 5 \times 4!} = \frac{1}{30}$$

$$\frac{10! \cdot 8!}{12! \cdot 7!} = \frac{10! \times 8 \times 7!}{12! \cdot 7!} = \frac{10! \times 8}{12 \times 11 \times 10!} = \frac{2}{33}$$

$$\frac{a!}{(a-2)!} = \frac{a(a-1)(a-2)!}{(a-2)!} = a^2 - a$$

$$\frac{a!(b-1)!}{b!(a-1)!} = \frac{a(a-1)!(b-1)!}{b(b-1)!(a-1)!} = \frac{a}{b}$$

نکته: توجه داشته باشید که اعداد را به صورت فاکتوریل نمی‌توان با هم دیگر جمع یا تفریق یا ضرب یا تقسیم کرد. بلکه ابتدا باید هر عدد فاکتوریل دار را به صورت یک عدد صحیح در آورده، سپس اعداد صحیح را در عملیات چهار عمل اصلی شرکت دهیم. مثلاً:

$$3! \times 2! \neq 6!$$

$$3! = 6$$

$$2! = 2$$

$$3! \times 2! = 6 \times 2 = 12$$

ابزارهای شمارش

منظور از «ابزارهای شمارش» که گاهی (آنالیز ترکیبی) نامیده می‌شوند، سه ابزار تبدیل، ترتیب و ترکیب می‌باشند که بر پایه اصول شمارش (= اصلهای جمع و ضرب) و تعریف فاکتوریل، ساخته و پرداخته شده‌اند.

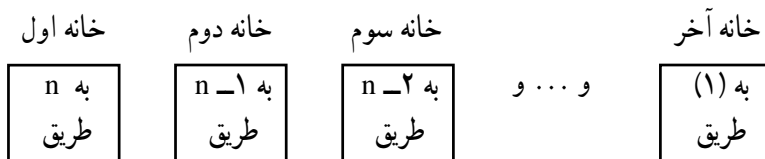
تبدیل^۱ (جایگشت)

جایجا کردن n شیء متمایز را به صورتهای مختلف در کنار هم، تبدیل n شیء گویند. که با نماد P_n نشان داده می‌شود.

برای تعیین تعداد کل تبدیلهای n شیء، می‌توان n خانه (حُجره) را در نظر گرفت که برای پر کردن خانه اول یکی از n شیء و پس از آن، برای پر کردن خانه دوم یکی از $n-1$ شیء باقیمانده و... و سرانجام برای پر کردن خانه آخر، فقط یک شیء باقیمانده را می‌توان مورد استفاده قرار داد و طبق اصل ضرب، پر کردن این خانه‌ها به:

$$n(n-1)(n-2)\dots\times 1$$

طریق، امکان‌پذیر خواهد بود.



به کمک این استدلال می‌توان نوشت:

$$P_n = n!$$

(فرمول ۳)

برای درک بیشتر فرمول ۳ (فرمول تبدیل) به یک مثال دیگر توجه کنید: فرض کنید در یک ردیف از یک سالن سخنرانی، چهار صندلی در کنار هم قرار دارد و قرار است چهار نفر از بیرون وارد سالن شده، روی صندلیها بنشینند. نفر اولی که وارد می‌شود، می‌تواند به چهار طریق جای خود را انتخاب کند. نفرات دوم، سوم و چهارم به ترتیب می‌توانند به ۲، ۳ و ۱ طریق صندلی خود را برگزینند. اگر انتخاب محل نشستن را توسط هر یک از این چهار نفر، یک عمل جداگانه در نظر بگیریم، عمل اول به ۴ طریق، عمل دوم به ۳ طریق، عمل سوم به ۲ طریق و عمل چهارم به ۱ طریق امکان‌پذیر می‌باشد و طبق اصل ضرب، این چهار عمل را به $4 \times 3 \times 2 \times 1$ طریق، می‌توان انجام داد. با توجه به تعریف فاکتوریل که حاصلضرب اعداد صحیح و مثبت ۱، ۲، ۳ و ۴ را چهار فاکتوریل ($4! =$) می‌نامیم، داریم:

$$P_4 = 4! = 4 \times 3 \times 2 \times 1 = 24$$

مثال ۸- پنج پرونده مالیاتی مختلف را به چند طریق می‌توان در یک قفسه چید؟

$$P_5 = 5! = 5 \times 4 \times 3 \times 2 \times 1 = 120$$

مثال ۹- کتابداری می‌خواهد شش کتاب متفاوت با نامهای مختلف را در یک قفسه کتابخانه بدون در نظر گرفتن هیچ شرطی از راست به چپ، بچیند. این کار را به چند صورت می‌تواند انجام دهد؟

$$P_6 = 6! = 6 \times 5 \times 4 \times 3 \times 2 \times 1 = 720$$

تبدیل‌های حلقوی - اگر n شیء مختلف را بخواهیم روی یک حلقه بسته (مثلاً روی محیط یک دایره) به شکلهای مختلف قرار دهیم، تعداد حالتها، از رابطه $(n-1)!$ به دست می‌آید. علت این امر آنست که اگر تمامی n شیء مزبور که بر محیط بسته‌ای چیده شده‌اند، در یک جهت تغییر مکان دهند، صورت جدیدی پدیدار نخواهد شد، لیکن اگر یکی از n شیء را ثابت نگه داریم و $n-1$ شیء باقیمانده را جابجا کنیم صورتهای تازه‌ای فراهم می‌شود. با این توضیح، می‌توان نوشت:

$$*P_n = (n-1)! \quad \text{(فرمول ۴)*}$$

مثال ۱۰- پنج نفر اعضای شورای یک دادگاه، به چند صورت می‌توانند دور یک میز

بنشینند؟

$$*P_5 = (5-1)! = 4! = 4 \times 3 \times 2 \times 1 = 24$$

تبدیل‌های با تکرار - اگر از n شیء مفروض، r_1 شیء از یک نوع، r_2 شیء از نوع دیگر و ... و سرانجام r_k شیء از نوع دیگری باشند، به طوری که $r_1 + r_2 + \dots + r_k = n$ باشد، تعداد تبدیل‌های کل آنها از رابطه $\frac{n!}{r_1! r_2! \dots r_k!}$ تعیین خواهد شد. به بیان دیگر، هرگاه یک مجموعه n عضوی به k زیرمجموعه r_1, r_2, \dots, r_k عضوی افزا شده باشد، تعداد تبدیل‌های ممکن از فرمول ۵ معلوم خواهد شد.

$$*P_n = \frac{n!}{r_1! r_2! \dots r_k!} \quad \text{(فرمول ۵)*}$$

برای روشن شدن مطلب و درک فرمول ۵ به مثال عینی زیر توجه کنید.
فرض کنید می‌خواهیم با حروف به کار رفته در کلمه «دبیر»، بدون توجه به معنی کلمات ساخته شده، کلمات چهار حرفی بسازیم، چون حروف به کار رفته در کلمه «دبیر»، متفاوت هستند، طبق تعریف تبدیل از رابطه:

$$P_4 = 4! = 4 \times 3 \times 2 \times 1 = 24$$

* وجود علامت ستاره در برخی از فرمولها، به معنی استثنایی بودن آن موارد است.

تعداد کلمات را می‌توان معلوم کرد. اما اگر بخواهیم با حروف به کار رفته در کلمه «دیدم» کلمات چهار حرفی بسازیم، چون جابجا کردن دو حرف «د»، تغییری در کلمات به وجود نمی‌آورد، لذا باید ۴! را بر ۲! تقسیم کرد (در حقیقت با این عمل ۲! ضرب اضافی به عمل آمده در ۴! را به خاطر حرف «د» جبران خواهیم کرد). در این صورت باید بنویسیم:

$$*P_4 = \frac{4!}{2!} = 12$$

و اگر در کلمات دیگر، به جای یک دسته حروف تکراری، چند دسته حروف تکراری داشته باشیم، (نظیر کلمه ساسانیان که دارای دو حرف «س» و سه حرف «الف» و دو حرف «ن» می‌باشد). باید $n!$ را بر فاکتوریل هر یک از دسته‌های تکراردار، تقسیم کنیم. مثلاً برای واژه (ساسانیان) تعداد کلمات هشت حرفی از رابطه $\frac{8!}{2!3!2!}$ معلوم خواهد شد.

مثال ۱۱— با حروف به کار رفته در واژه «بابا خانیان» چند کلمه ده حرفی می‌توان نوشت؟

$$*P_{10} = \frac{10!}{2!4!2!} = 37800$$

مثال ۱۲— با ارقام به کار رفته در عدد ۳۴۳۳۴، چند عدد پنج رقمی می‌توان نوشت؟

$$*P_5 = \frac{5!}{3!2!} = 10$$

مثال ۱۳— به چند طریق متمایز می‌توان چهار خودکار آبی و پنج خودکار سبز و دو خودکار قرمز

را در کنار هم چید؟

$$*P_{11} = \frac{11!}{4!5!2!} = 6930$$

توجه داشته باشید که اگر این یازده خودکار به لحاظ تفاوت‌هایی که مثلاً در اندازه یا حجم یا اسم

یا شماره آنها وجود دارد، متمایز بودند، به:

$$*P_{11} = 11! = 39916800$$

طریق می‌شد آنها را کنار هم چید.

ترتیب^۱

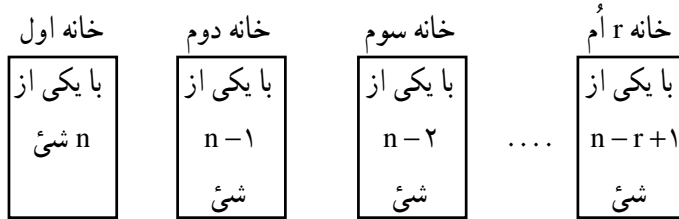
تعریف— جابجا کردن r شیء از n شیء مختلف را ($r \leq n$) ترتیب r شیء از n شیء،

یا ترتیب n شیء r به r گویند که با نمادهای P_n^r یا A_n^r نشان داده می‌شود.^۲ برای به دست آوردن

^۱— Arrangement

^۲— ترتیب را با نماد $P_{(n,r)}$ نیز نشان می‌دهند.

تعداد ترتیبهای r عنصری از n شیء مختلف، می توان n خانه مختلف را در نظر گرفت که برای پر کردن خانه اول یکی از n شیء، پس از آن برای پر کردن خانه دوم یکی از $n-1$ شیء باقیمانده و برای پر کردن خانه سوم یکی از $n-2$ شیء به جا مانده و... و سرانجام برای پر کردن خانه r ام یکی از $n-(r-1)$ یا $n-r+1$ شیء را در نظر گرفت:



حال اگر بخواهیم همه این خانه ها را پر کنیم (بخواهیم تمام r عمل را انجام دهیم)، طبق اصل ضرب خواهیم داشت:

$$P_n^r = n(n-1)(n-2)\times\dots\times(n-r+1) \quad (\text{فرمول ۶})$$

اگر رابطه بالا را یک بار در $(n-r)!$ ضرب و یک بار بر $(n-r)!$ تقسیم کنیم، خواهیم داشت:

$$P_n^r = \frac{n(n-1)(n-2)\times\dots\times(n-r+1)\times(n-r)!}{(n-r)!}$$

ضمناً طبق فرمول ۱ می توان نوشت:

$$n(n-1)(n-2)\times\dots\times(n-r+1)\times(n-r)! = n!$$

بنابراین فرمول ۶ را به صورت زیر نیز می توان بیان کرد:

$$P_n^r = \frac{n!}{(n-r)!} \quad (\text{فرمول ۷})$$

تذکر: به کمک فرمولهای تبدیل و ترتیب، می توان نتایج زیر را به دست آورد:

$$P_n^n = \frac{n!}{(n-n)!} = \frac{n!}{0!} \quad (۱) \quad \text{طبق فرمول ترتیب}$$

$$P_n^n = n! \quad (۲) \quad \text{طبق فرمول تبدیل}$$

$$\frac{n!}{0!} = n! \quad (۳) \quad \text{نتیجه}$$

و رابطه (۳)، زمانی با معنی خواهد بود که: $0! = 1$ باشد.

با بیان این تذکر، متوجه می‌شویم که ترتیب، حالت خاصی از تبدیل است که در آن $r \leq n$ است. چنانچه $r = n$ باشد، اصطلاح تبدیل و در صورتی که $r < n$ باشد، اصطلاح ترتیب به کار برده می‌شود.

برای تفهیم بهتر فرمول ترتیب، به یک مثال عینی توجه کنید :

فرض کنید در یک ردیف از یک سالن سخنرانی، ۸ صندلی وجود دارد و قرار است ۳ نفر وارد سالن شوند و روی صندلیها بنشینند.

نفر اول می‌تواند به ۸ طریق جای خود را برگزیند، نفر دوم به ۷ طریق و نفر سوم به ۶ طریق می‌تواند جاهای خود را انتخاب کند، طبق اصل ضرب، این سه نفر می‌توانند به $8 \times 7 \times 6$ طریق جاهای خود را برگزینند و با این ترتیب، می‌توان نوشت :

$$P_8^3 = 8 \times 7 \times 6 = n(n-1)(n-r+1)$$

و این همان فرمول ۶ است، از طرفی می‌توان نوشت :

$$P_8^3 = 8 \times 7 \times 6 = \frac{8!}{5!} = \frac{8!}{(8-3)!}$$

و این نیز همان فرمول ۷ می‌باشد.

مثال ۱۴- یک خانوادهٔ چهار نفری به چند طریق می‌توانند سه به سه در کنار هم، عکس بگیرند؟

$$P_4^3 = \frac{4!}{(4-3)!} = 4 \times 3 \times 2 \times 1 = 24$$

مثال ۱۵- در یک شرکت، ۱۰ کارمند کار می‌کنند، به چند صورت می‌توان از بین آنها یک شورای ۳ نفره تشکیل داد که شامل یک رئیس شورا، یک معاون شورا و یک بازرس شورا باشد؟

$$P_{10}^3 = \frac{10!}{(10-3)!} = \frac{10 \times 9 \times 8 \times 7!}{7!} = 720$$

ترتیبهای با تکرار - هرگاه تکرار یک یا چند شیء از n شیء در ترتیبهای ساخته شده مجاز باشد، «ترتیب با تکرار» حاصل خواهد شد. فرض کنید شما می‌خواهید با استفاده از ارقام ۱، ۲، ۳ و ۴، تمام اعداد سه رقمی ممکن را بسازید. برای تعیین تعداد آنها، از استدلال زیر استفاده خواهید کرد :

جای صدگان

به چهار
طریق

جای دهگان

به چهار
طریق

جای یکان

به چهار
طریق

زیرا در هر یک از خانه‌های یکان، دهگان و صدگان می‌توان ۱ یا ۲ یا ۳ یا ۴ را قرار داد و طبق اصل ضرب، هر سه جا را می‌توان به $4 \times 4 \times 4$ یا 4^3 طریق پرکرد.

به طور کلی فرمول ۸ را برای ترتیبهای با تکرار به کار می‌برند:

$$*P_n^r = n^r \quad (\text{فرمول ۸})$$

همان‌طور که قبلاً اشاره شد، فرمول ۸ درحالتی است که انتخابهای بعدی مستقل از انتخابهای قبلی هستند.

مثال زیر تفاوت ترتیبهای بدون تکرار و با تکرار را نشان می‌دهد.

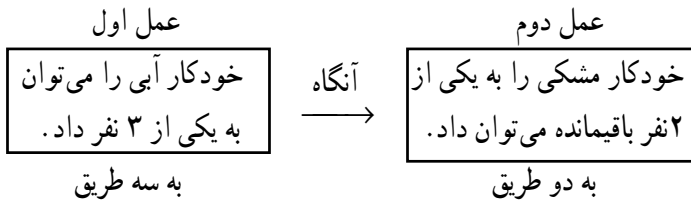
مثال ۱۶— دو خودکار آبی و مشکی (A و M) را به چند صورت می‌توان به ۳ نفر داد؟

چنانچه:

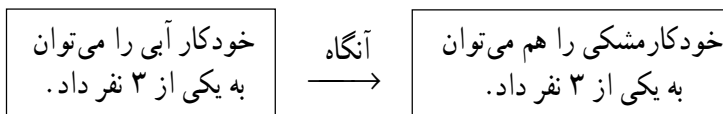
الف) دادن بیش از یک خودکار به هر نفر مجاز نباشد.

ب) دادن بیش از یک خودکار به هر نفر مجاز باشد.

حل: موضوع بند «الف»، ترتیبهای بدون تکرار است.

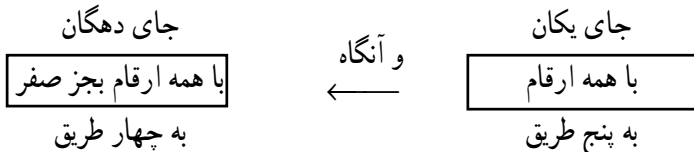


و طبق اصل ضرب، دادن دو خودکار متمایز به سه نفر از رابطه $3 \times 2 = 6$ معلوم می‌شود. اما موضوع بند «ب»، مربوط به ترتیبهای با تکرار خواهد بود:



و طبق اصل ضرب، هر دو عمل را به $3 \times 3 = 9$ طریق می‌توان انجام داد.

مثال ۱۷— با ارقام ۰، ۱، ۲، ۳ و ۵ چند عدد دو رقمی با تکرار مجاز ارقام، می‌توان نوشت؟



$$P_5^2 = 4 \times 5 = 20$$

لذا طبق اصل ضرب، داریم:

تذکر: بهتر است مسائل تبدیل و ترتیب را با کمک اصل ضرب حل کنیم تا با سرعت بیشتری به جواب برسیم. مثلاً اگر در مثال ۱۷ گفته شود که چند عدد دو رقمی زوج می‌توان نوشت با کمک اصل ضرب به صورت زیر عمل خواهیم کرد:

جای دهگان	جای یکان
$\boxed{\text{همه ارقام بجز صفر}}$	$\boxed{\text{فقط صفر یا } ۲}$
به چهار طریق	به دو طریق

$$P_5^2 = 4 \times 2 = 8$$

در حالی که اگر بخواهیم این مثال را ابتدا با کمک فرمول ترتیبهای با تکرار حل کنیم، خواهیم داشت:

$$P_n^r = n^r \Rightarrow P_5^2 = 5^2 = 25$$

کُل اعداد
سپس باید اعدادی را که سمت چپشان صفر است و نیز اعدادی را که یکانشان فرد است، محاسبه کرده، از کُل اعداد کنار بگذاریم.

$$25 \times \frac{1}{5} = 5$$

آن تعداد که سمت چپشان صفر است.

$$25 - 5 = 20$$

آن تعداد که سمت چپشان صفر نیست.

$$20 \times \frac{3}{5} = 12$$

آن تعداد که یکانشان فرد است.

$$20 - 12 = 8$$

آن تعداد که یکانشان زوج است.

مشاهده می‌کنید که راه حل اول (استفاده از اصل ضرب) بسیار کوتاه‌تر از راه حل دوم (استفاده از فرمول ترتیبهای با تکرار و منطق ریاضی) می‌باشد.

نکته: در مسایلی که ترتیب قرار گرفتن اشیاء مورد توجه باشد، یا از تبدیل استفاده خواهیم کرد و یا از ترتیب. مانند نوشتن کلمات با حروف و یا نوشتن اعداد با ارقام. حال اگر کل اشیاء بخواهند جابه‌جا شوند فرمول «تبدیل» کاربرد پیدا می‌کند و اگر بخشی از کل اشیاء بخواهند جابه‌جا شوند، دستور «ترتیب» مورد استفاده قرار می‌گیرد.

ترکیب^۱

تعریف — در هم آمیختن r شیء از n شیء مختلف را ترکیب r شیء از n شیء گویند، که با نمادهای C_n^r یا $\binom{n}{r}$ نشان داده می‌شود.^۲

به بیان دیگر می‌توان گفت که ترکیب، انتخابی از اشیا را گویند که در آن، ترتیب قرار گرفتن اجزا در کنار هم مهم نباشد، بلکه با هم بودن اجزا مد نظر باشد.

در ترکیب (برخلاف ترتیب) جابجا شدن اشیا در هر نمونه r عضوی، نمونه تازه‌ای فراهم نمی‌کند. با این ترتیب می‌توان ترکیب را معادل مفهوم «زیر مجموعه» در ریاضیات دانست. برای تشخیص تفاوت بین ترتیب و ترکیب و رابطه آنها به یک مثال توجه کنید.

حروف A، B و C را در نظر بگیرید. اگر بخواهید کلمات دو حرفی بدون تکرار را که می‌توان با این حروف ساخت، بنویسید، با موضوع ترتیب روبرو خواهید بود و خواهید داشت :

$$AB - AC - BC - BA - CA - CB$$

$$P_3^2 = 3 \times 2 = 6$$

ترتیبهای دو شیء از سه شیء مختلف

توجه دارید که در این صورت AB و BA با هم فرق دارند حال اگر همان سه حرف را نماینده ۳ رنگ مثلاً آبی (A)، بنفش (B)، سرخ (C) در نظر بگیرید و بخواهید رنگهایی مرکب از دو رنگ مختلف بسازید، موضوع مسأله به «ترکیب» مربوط می‌شود :

$$\left. \begin{array}{l} AB \rightarrow \text{بنفش و آبی} \\ CA \rightarrow \text{آبی و سرخ} \\ CB \rightarrow \text{بنفش و سرخ} \end{array} \right\} \text{ترکیبهای دو عضوی از یک مجموعه سه عضوی}$$

توجه دارید که در این صورت AB و BA یک معنی خواهند داشت، زیرا رنگهای آبی و بنفش، همان رنگهای بنفش و آبی هستند. مشاهده می‌شود که تعداد ترکیبها همواره به اندازه

$\frac{1}{r!}$ تعداد ترتیبها خواهند بود. و با کمک همین استدلال می‌نویسیم :

$$C_n^r = \frac{1}{r!} \times P_n^r = \frac{1}{r!} \times \frac{n!}{(n-r)!} = \frac{n!}{r!(n-r)!}$$

^۱ - Combination

^۲ - مفهوم ترکیب را با نماد $C_{(n,r)}$ نیز نشان می‌دهند.

و با این ترتیب، فرمول زیر برای تعیین تعداد ترکیبها ساخته خواهد شد :

$$C_n^r = \frac{n!}{r!(n-r)!}, \quad n \geq r \quad (\text{فرمول ۹})$$

نکته: برای تعیین تعداد ترکیبها، می‌توانید ابتدا تعداد ترتیبها را محاسبه کرده، نتیجه را بر $r!$ تقسیم نمایید.

مثال ۱۸- به چند طریق می‌توان از بین 10 حساب جاری در یک بانک، به طور تصادفی دو حساب جاری را به عنوان یک نمونه، انتخاب کرد؟

$$C_{10}^2 = \frac{10!}{2!8!} = 45$$

مثال ۱۹- دبیر حسابداری در امتحان آخر ترم 20 سؤال به دانش‌آموزان خود داده است که آنها به طور دلخواه به 18 سؤال پاسخ دهند. دانش‌آموزان به چند طریق می‌توانند سؤالات خود را برگزینند؟

$$C_{20}^{18} = \frac{20!}{18!2!} = 190$$

مثال ۲۰- تعداد زیرمجموعه‌های سه عضوی را که می‌توان از مجموعهٔ:

$\{a, 2, \square, \Delta, 8\}$ ساخت، معلوم کنید.

$$C_6^3 = \frac{6!}{3!3!} = \frac{6 \times 5 \times 4}{6} = 20$$

خودآزمایی (۱)- ترکیبهای زیر را حل کرده، برای هر کدام یک قانونمندی ثابت بیان کنید:

$$C_5^0, C_5^1, C_5^2, C_5^3, C_5^4, C_5^5$$

خودآزمایی (۲)- ترکیبهای عنوان شده در خودآزمایی (۱) را محاسبه کرده، مجموع آنها را

به صورت توانی از 2 بنویسید.

روابط زیر شما را در پیدا کردن جواب ترکیبها، کمک می‌کند:

$$1) C_n^0 = C_n^n = 1$$

$$2) C_n^1 = C_n^{n-1} = n$$

$$3) C_n^2 = C_n^{n-2} = \frac{n(n-1)}{2!}$$

$$۴) C_n^r = \frac{n(n-1)(n-2)}{3!}$$

$$۵) C_n^r = C_n^{n-r}$$

$$۶) C_n^0 - C_n^1 + C_n^2 - C_n^3 + \dots + C_n^n = 0$$

ترکیبهای با تکرار — اگر در n شیء مورد نظر، برخی از اشیا مثل هم و یکسان باشند و بخواهیم ترکیبهایی r تایی بسازیم، در برخی از ترکیبها اشیا تکراری خواهیم داشت. (مثلاً AA می تواند یک ترکیب دو حرفی با تکرار از مجموعه حروف A و A و B و C و D باشد.) به چنین مواردی ترکیبهای با تکرار گفته می شود.

چون اثبات و توضیح فرمول ترکیبهای با تکرار، خارج از برنامه درسی است، لذا این فرمول را بدون ذکر دلیل نشان می دهیم:

$$\boxed{*C_{(n+r-1)}^r = \frac{(n+r-1)!}{r!(n-1)!}} \quad (\text{فرمول } ۱۰)$$

مثال ۲۱ — به چند طریق می توان از بین ۵ فوتبالیست، یک دروازه بان و یک کاپیتان انتخاب کرد؟ با توجه به این که یک فرد نیز می تواند هر دو کار را انجام دهد.

$$C_{(5+2-1)}^2 = \frac{(5+2-1)!}{2!(5-1)!} = \frac{6!}{2!4!} = \frac{6 \times 5}{2} = 15$$

توضیح: در مثال بالا اگر قرار بر این باشد که از بین پنج فوتبالیست دو نفر را برای وظایف مختلف (مثلاً دروازه بانی و دفاع) انتخاب کنیم، تعداد حالتهای انتخاب از ترکیبهای بدون تکرار به صورت $C_5^{10} = 10$ معلوم می شوند. توجه دارید که اختلاف در این دو حالت ۵ مورد است. ($5 = 10 - 5$) که این موارد به حالتی برمی گردد که هر یک از پنج فوتبالیست در حالت اول می توانستند هم دروازه بان باشند و هم کاپیتان، درحالی که در حالت دوم دروازه بان و دفاع حتماً باید دو نفر مختلف باشند.

تمرینهای فصل اول

۱- اصل « جمع » و اصل « ضرب » را همراه با ذکر مثال توضیح دهید.

۲- فاکتوریل را تعریف کنید.

۳- تساوی مقابل را با استفاده از آنالیز ترکیبی توجیه کنید: $0! = 1! = 1$

۴- با همه حروف به کار رفته در کلمه « مالیات »، چند کلمه شش حرفی می‌شود نوشت؟

۵- کسرهای زیر را ساده کنید:

$$\frac{10!}{12!}, \frac{5!8!}{7!10!}, \frac{a!}{(a-2)!}, \frac{(a+2)!}{(a-2)!}, \frac{(n+1)!}{n!}$$

۶- هفت نفر افراد یک خانواده به چند طریق می‌توانند در یک صف بایستند؟ این افراد به چند

طریق می‌توانند در دو اتومبیل به ظرفیتهای ۴ نفره و ۳ نفره سوار شوند؟

۷- اگر تکرار ارقام در اعداد مجاز باشد، با ارقام ۱، ۲، ۳، ۵ و ۷ چند عدد سه رقمی می‌شود

نوشت؟ چند تای آنها زوج است؟

۸- درستی تساویهای زیر را نشان دهید.

$$C_n^r = \frac{P_n^r}{r!} \quad (2) \qquad C_n^n = C_n^0 \quad (1)$$

۹- از ده کارمند مرد و ۵ کارمند زن شاغل در یک شرکت، به چند صورت می‌شود یک

شورای چهار نفره انتخاب کرد؟ اگر بخواهیم دو نفر از اعضای شورا مرد و دو نفر دیگر آن زن باشند،

این عمل را به چند طریق می‌توان انجام داد؟

۱۰- در یک امتحان، ۱۲ سؤال در اختیار دانش‌آموزان قرار داده شده است که باید ۱۰ سؤال

را به دلخواه انتخاب کرده، حل کنند، چنانچه مجبور باشند سوالات (۱) و (۲) را حتماً انتخاب کنند

این عمل را به چند طریق می‌توانند انجام دهند؟

۱۱- شش نفر افراد شاغل در حسابداری یک اداره، به چند طریق می‌توانند دور یک میز

بنشینند؟

۱۲- به چند صورت می‌توان پنج پرونده مالی و چهار پرونده اداری را در یک قفسه چید،

به طوری که پرونده‌های مالی در سمت راست باشند؟

۱۳- حاصل عبارت P_n^{n-1} را معلوم کنید.

۱۴- اگر تعداد ترتیبهای x شیء از پنج شیء، x برابر تعداد ترتیبهای $x-1$ شیء از پنج شیء

باشد، مقدار x را به دست آورید.

- ۱۵- در یک آزمون ۱۰ سوال ریاضی و ۸ سوال آمار داده شده که دانش‌آموزان باید به ۱۲ سوال از آن‌ها پاسخ دهند. معلوم کنید دانش‌آموزان به چند طریق می‌توانند سوالات خود را انتخاب کنند، اگر بخواهیم به نیمی از سوالات آمار پاسخ داده باشند؟
- ۱۶- با حروف کلمه حسابداری چند کلمه مختلف می‌شود، نوشت؟
- ۱۷- به چند طریق می‌شود از بین ۱۰ نفر افراد یک شرکت، شورای شامل یک رئیس، یک منشی و یک حسابدار انتخاب کرد؟
- ۱۸- در یک هتل سه اتاق خواب وجود دارد که یکی از آنها سه نفره و دوتای دیگر دو نفره هستند. مدیر این هتل هفت مسافر را به چند طریق می‌تواند در اتاقهای مختلف استقرار دهد.
- ۱۹- در یک کشور اروپایی پلاکهای اتومبیل‌ها را با استفاده از دو حرف الفبا در سمت چپ و یک عدد چهار رقمی در سمت راست تنظیم می‌کنند با توجه به این که ۲۶ حرف الفبا دارند، چند اتومبیل را می‌توانند پلاک بدهند؟
- ۲۰- به چند طریق می‌توانید هفت شمع مختلف را دور یک کیک دایره‌ای شکل برای یک فرد هفت ساله بچینید؟
-

تستهای چهار گزینه‌ای

۱- حاصل عبارت $\frac{P_n^r}{P_{n+1}^{r+1}}$ کدام است؟

(۱) $\frac{1}{n+1}$ (۲) $\frac{r}{n}$ (۳) $\frac{1}{(n+1)!}$ (۴) $\frac{r+1}{n+1}$

۲- با ارقام صفر، ۱، ۲، ۳، ۴ و ۵ چند عدد سه رقمی بزرگتر از 300 ، بدون تکرار ارقام می‌شود

نوشت:

(۱) ۴۰ (۲) ۶۰ (۳) ۸۰ (۴) ۱۲۰

۳- یک تاس و یک سکه را با هم پرتاب می‌کنیم. تعداد صورت‌هایی که در آنها عدد زوج آمده،

کدام است؟

(۱) ۲ (۲) ۳ (۳) ۶ (۴) ۱

۴- سه کتاب ریاضی و ۲ کتاب اقتصاد را که با هم متفاوت‌اند، به چند طریق می‌توان در یک

قفسه کنار هم قرار داد به طوری که کتابهای هم موضوع، همواره کنار هم باشند؟

(۱) ۶۰ (۲) ۱۲۰ (۳) ۱۲ (۴) ۲۴

۵- اگر ترکیب $\binom{a+b}{a} = m$ باشد، مقدار ترکیب $\binom{a+b}{b}$ کدام است؟

(۱) m (۲) bm (۳) am (۴) $(a+b)m$

۶- شخصی از میان ۱۰ کتاب خود، می‌خواهد دو کتاب را انتخاب کرده، به یکی از دوستانش

هدیه کند. این عمل به چند صورت ممکن است؟

(۱) ۴۰ (۲) ۴۵ (۳) ۹۰ (۴) ۲۰

۷- مجموعه $\{a, b, c, d, e\}$ چند زیرمجموعه ۲ عضوی دارد؟

(۱) ۲۵ (۲) ۲۰ (۳) ۱۵ (۴) ۱۰

۸- بین ۵ دبیر و ۴ دانش‌آموز، چند کمیته ۵ نفری مرکب از ۳ دبیر و ۲ دانش‌آموز می‌توان

تشکیل داد؟

(۱) ۶ (۲) ۱۰ (۳) ۱۵ (۴) ۶۰

۱- نماد ترکیب را به دو صورت C_{a+b}^a یا $\binom{a+b}{a}$ می‌نویسند.

۹- اگر $P_n^2 = 20$ باشد، مقدار n کدام است؟

۲ (۱) ۵ (۲) ۱۰ (۳) ۲۰ (۴)

۱۰- جواب معادله $C_x^2 = 2x$ کدام است؟

۲ (۱) ۳ (۲) ۴ (۳) ۵ (۴)

۱۱- در یک آزمون، ده سؤال دو جوابی صحیح یا غلط داده شده است. به چند طریق می‌شود

به این سؤالات پاسخ داد؟

۲^{۱۰} (۱) ۱۰^۲ (۲) ۲ × ۱۰ (۳) ۱۰ (۴)

۱۲- ده تیم فوتبال به چند طریق می‌توانند، دو به دو با هم مسابقه بدهند؟

۹۰ (۱) ۴۵ (۲) ۵۵ (۳) ۲۰ (۴)

۱۳- با ارقام ۱، ۲، ۳، ۴، ۵، ۰، چند عدد دو رقمی بدون تکرار ارقام می‌شود نوشت؟

۲۰ (۱) ۳۶ (۲) ۲۵ (۳) ۳۰ (۴)

۱۴- با حروف واژه «ترازنامه» چند کلمه هشت حرفی می‌شود نوشت؟

۸! (۱) ۸^۸ (۲) ۸ × ۸ (۳) $\frac{8!}{2!}$ (۴)

۱۵- پنج کارمند حسابداری یک شرکت به چند طریق می‌توانند دور یک میز کنفرانس بنشینند؟

۶۰ (۱) ۲۰ (۲) ۱۲۰ (۳) ۲۴ (۴)



«حوادث آینده را نمی‌توان دقیقاً پیش‌بینی کرد،

اما احتمال پیش‌آمدهای آینده را می‌توان محاسبه کرد.»

فصل دوم

احتمال (اندازه‌گیری مقدار شانس)

هدفهای رفتاری: در پایان این فصل، از فراگیر انتظار می‌رود:

- ۱- مفهوم مجموعه را با مثال بیان کرده، اجتماع، اشتراک و متمم را تعریف کند.
- ۲- آزمایش و فضای نمونه‌ای را تعریف کند.
- ۳- پیشامد و انواع آن را تبیین نماید.
- ۴- برداشتهای مختلف از احتمال را بیان کند.
- ۵- اصول قراردادی (موضوعه) احتمال را برشمارد.
- ۶- احتمال پیشامدها را بر مبنای فراوانی نسبی محاسبه کند.
- ۷- احتمال متمم یک پیشامد را محاسبه کند.
- ۸- احتمال اجتماع و اشتراک دو پیشامد را محاسبه کند.
- ۹- احتمال شرطی را برای پیشامدها محاسبه کند.

مقدمه

واژه «احتمال» را در صحبت‌های روزمره اشخاص زیاد شنیده‌اید. مثلاً وقتی هوا ابری است، می‌گویند: احتمال دارد که باران بیارد و یا فرضاً دانش‌آموزی که با جدیت درس می‌خواند می‌گویند که: احتمال قبول شدن این دانش‌آموز در امتحانات زیاد است و در مورد دانش‌آموزی که وقت خود را بیهوده تلف می‌کند و کار مدرسه‌اش را جدی نمی‌گیرد، می‌گویند: احتمال قبول شدن در امتحانات برای این دانش‌آموز کم است. به کار بردن واژه‌های «زیاد» و «کم» در کنار کلمه احتمال این معنی

را می‌رساند که احتمال قابل اندازه‌گیری است. در این فصل، با مفهوم احتمال و چگونگی اندازه‌گیری آن آشنا خواهید شد.

امروزه از موضوع و تئوری احتمال در برنامه‌ریزیهای اقتصادی، اجتماعی تکنولوژیکی، سیاسی و بسیاری دیگر از پدیده‌های علمی نظیر زیست‌شناسی، روانشناسی، جامعه‌شناسی، آموزش و پرورش، پزشکی و غیره استفاده می‌شود.

نکته: به طور کلی احتمالات درباره پدیده‌هایی قابل طرح است که نمی‌توان نتیجه قطعی آنها را قبل از وقوع تعیین کرد. چنین پدیده‌هایی را پدیده‌های تصادفی می‌گویند.

مروری بر نظریهٔ مجموعه‌ها

در این قسمت برخی از مفاهیم اساسی نظریهٔ مجموعه‌ها را، که در طرح مباحث احتمال مورد نیاز خواهد بود، یادآوری می‌کنیم.

مجموعه چیست؟

هر فهرست یا گردآورده‌ای از اشیا را «مجموعه» گویند. اشیایی را که مجموعه شامل آنها می‌شود عناصر یا اعضای مجموعه نامند. همه مجموعه‌های تحت بررسی، زیر مجموعه‌ای از مجموعهٔ ثابتی به نام «مجموعهٔ جهانی» فرض می‌شوند. مجموعهٔ جهانی را غالباً با علامت Ω و مجموعهٔ تهی، یعنی مجموعهٔ بدون عضو را با علامت \emptyset نشان می‌دهند.

اجتماع دو مجموعه

اجتماع دو مجموعه A و B عبارت است از مجموعه‌ای که عناصر آن یا به A تعلق دارد، یا به B (و یا به هر دو). اجتماع A و B را با نماد $A \cup B$ نشان می‌دهند.

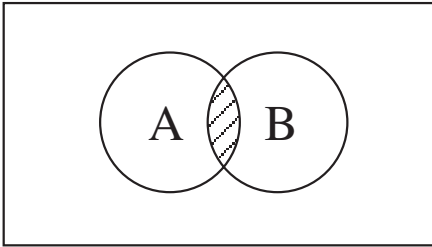
اشتراک دو مجموعه

اشتراک دو مجموعه A و B که با نماد $A \cap B$ نشان داده می‌شود، عبارت است از مجموعه‌ای

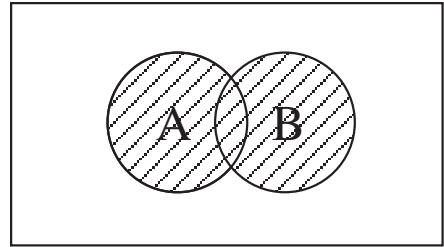
که عناصر آن هم به A تعلق دارند و هم به B . اگر $A \cap B = \emptyset$ باشد، A و B را مجزاً از هم می‌نامند.

متمم دو مجموعه (= مکمل دو مجموعه)

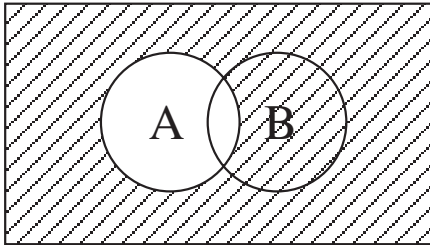
متمم مطلق یک مجموعه مانند A از یک مجموعه جهانی که با علامت A^c یا A' نشان داده می‌شود، عبارت از مجموعه‌ای است که عناصر آن به A تعلق ندارند. (گروهی از ریاضی دانان واژه مکمل را به جای متمم به کار می‌برند.) در نمودارهای ۱ تا ۴ که به نمودارهای ون^۲ شهرت دارند، مفاهیم بالا را به صورت هندسی نشان داده‌ایم.



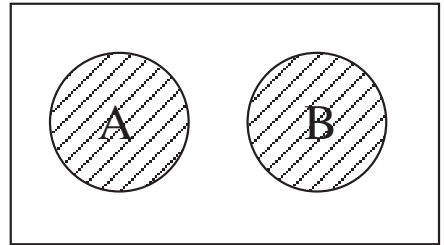
نمودار ۲- $A \cap B$ سایه خورده است.



نمودار ۱- $A \cup B$ سایه خورده است.



نمودار ۴- A^c سایه خورده است.



نمودار ۳- $A \cup B$ سایه خورده است.

۱- حرف C بالای A از کلمه Complementary گرفته شده است که به معنای مکمل می‌باشد.

۲- ون «Ven» دانشمندی است که اولین بار از این نمودارها استفاده کرده است.

زیر پیشامد (= زیر مجموعه)

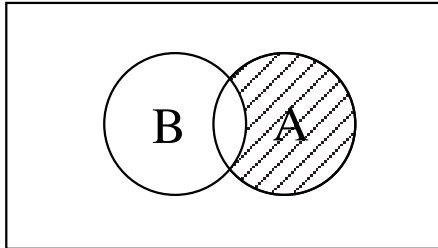
اگر هر پیشامد ساده که در A هست در B نیز وجود داشته باشد، می‌گویند A زیرپیشامد B است (که به صورت $B \supset A$ نشان داده می‌شود). توجه دارید که رخ دادن A باعث رخ دادن B می‌شود، اما لزوماً عکس آن درست نیست.

پیشامدهای برابر

اگر A زیرپیشامد B و B زیرپیشامد A باشد می‌گویند A و B برابرند. (که به صورت $A = B$ نشان داده می‌شود).

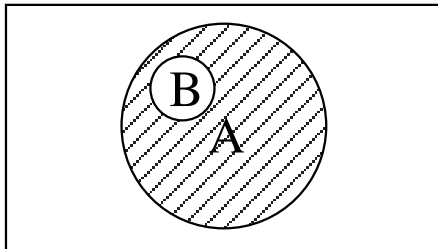
تفاضل دو پیشامد A و B

پیشامدی که از تمام پیشامدهای ساده که در A هستند ولی در B نباشند تشکیل شده باشد، تفاضل A از B نامیده شده و به صورت $A - B$ (A نه B) نشان داده می‌شود. به تصویر زیر نگاه کنید:



نمودار ۵- $A-B$ هاشور خورده است.

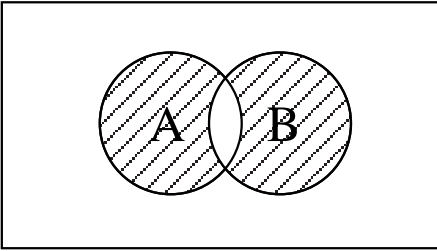
ممکن است A زیرمجموعه B باشد، در این صورت $A - B$ را یک تفاضل واقعی می‌نامند. در تصویر زیر تفاضل واقعی $A - B$ سایه خورده است.



نمودار ۶- $A-B$ به صورت تفاضل واقعی

تفاضل متقارن A و B

پیشامدی که از تمام پیشامدهای ساده که یا در A یا در B اما نه در هر دو باشند، تشکیل شده باشد، تفاضل متقارن A و B نامیده می‌شود که با علامت $A \Delta B$ نشان داده می‌شود. (یا A یا B نه هر دو) در تصویر مقابل تفاضل متقارن A و B را مشاهده می‌کنید.



نمودار $A \Delta B$ سایه خورده است.

مثال زیر می‌تواند در بیان مفاهیم اساسی نظریه مجموعه‌ها، شما را کمک کند.*

مثال — فرض کنید دو عدد کارت سفید با شماره‌های ۱ و ۲، سه عدد کارت قرمز با شماره‌های ۳، ۴، ۵ و دو عدد کارت سبز با شماره‌های ۶ و ۷ را که هم اندازه و هم شکل هستند به خوبی مخلوط کرده، به طور تصادفی یک کارت از هفت کارت را بیرون بیاوریم در این صورت اگر A پیشامد کارت بزرگتر از ۱ و B پیشامد کارت کوچکتر از ۵ باشد خواهیم داشت:

$$A = \{2, 3, 4, 5, 6, 7\}$$

$$B = \{1, 2, 3, 4\}$$

با این ترتیب می‌توان نوشت:

$$S = \{1, 2, 3, 4, 5, 6, 7\}$$

$$A \cap B = \{1, 2, 3, 4, 5, 6, 7\}$$

$$A \cup B = \{2, 3, 4\}$$

$$A - B = \{1\}$$

$$B - A = \{5, 6, 7\}$$

$$A - B = \{5, 6, 7\}$$

$$B - A = \{1\}$$

$$A \Delta B = \{1, 5, 6, 7\}$$

فضای نمونه‌ای

اجتماع دو پیشامد A و B

اشتراک دو پیشامد A و B

مکمل پیشامد A

مکمل پیشامد B

تفاضل B از A

تفاضل A از B

تفاضل متقارن A و B

* این مثال از کتاب آمار و احتمال مقدماتی تألیف دکتر جواد بهبودیان اقتباس شده است.

مفاهیم اساسی احتمال (اصطلاحات)

آزمایش و انواع آن

واژه آزمایش در مبحث احتمال به معنای هر نوع تحقیق عملی است، که بر اثر انجام آن، داده‌های آماری به دست می‌آیند. دو نوع آزمایش متمایز، وجود دارد:

آزمایش تجربی — آزمایش تجربی عبارت است از فرآیند شناخته شده‌ای که به نتیجه معینی منجر شود و در شرایط کنترل شده قابلیت تکرار را داشته باشد. مانند نتایجی که در آزمایشهای درس شیمی، انتظار آنها را داریم. مثل اینکه بر اثر واکنش اسیدسولفوریک گرم و غلیظ و مس، انتظار داریم که سولفات مس و انیدرید سولفور و دو مولکول آب حاصل شود.

آزمایش تجربی — تصادفی — آزمایشهای تجربی — تصادفی به آن دسته از آزمایشها گویند که عامل تصادف در نتیجه آنها دخالت داشته باشد. و به همین دلیل، نتیجه قطعی آنها را قبل از انجام آزمایش نمی‌توان پیش‌بینی کرد. مانند نتیجه پرتاب یک سکه سالم (ایده‌آل) که یا روی سکه یا پشت سکه ظاهر خواهد شد.

تئوری احتمالات در مورد آزمایشهای تجربی کاربردی ندارد، زیرا در شرایط اطمینان، انجام می‌شوند، در حالی که این تئوری می‌تواند در مورد آزمایشهای تجربی — تصادفی، که در شرایط عدم اطمینان انجام می‌شوند، کاربردهای فراوانی داشته باشد. می‌توان گفت به‌طور کلی هرگاه انسان با عدم یقین مواجه می‌شود، واژه احتمال را به کار می‌برد.

فضای نمونه‌ای چیست؟

مجموعه نتایج ممکن و متمایز یک آزمایش تجربی — تصادفی را «فضای نمونه‌ای» گویند که با علامت S نشان داده می‌شود. مثلاً اگر روی سکه را با علامت H (از کلمه Head) و پشت سکه را با نماد T (از واژه Tail) نشان دهیم، در پرتاب یک سکه سالم، خواهیم داشت $S = \{ H, T \}$. اگر تعداد عضوهای یک فضای نمونه‌ای به گونه‌ای باشند که بتوان عددی را به تعداد عناصر فضای نمونه‌ای نسبت داد، فضا را متناهی (محدود) می‌نامند و در غیر این صورت، فضای نمونه‌ای را نامتناهی (نامحدود) گویند. مثلاً اگر سکه‌ای را آنقدر بریزید تا سرانجام روی سکه ظاهر شود، فضای

۱- سکه سالم یا ایده‌آل سکه‌ای است که دو طرف آن برای بالا قرار گرفتن، شانس مساوی داشته باشند. چنین سکه‌هایی را، سکه‌های ناریب گویند.

نمونه‌ای از نوع نامتناهی خواهد بود، زیرا معلوم نیست که در چندمین نوبت، روی سکه ظاهر خواهد شد. نگاه کنید:

$$S = \{ H, TH, TTH, TTT, \dots \}$$

چنانچه عضوهای فضاهای نمونه‌ای متناهی یا نامتناهی شمارش پذیر باشند، می‌گویند فضای نمونه‌ای گسسته است. اما اگر فضای نمونه‌ای، مجموعه‌ای مشتمل بر تمامی اعداد متعلق به یک فاصله یا اجتماع چند فاصله باشد، آن فضا را اصطلاحاً پیوسته می‌نامند. طول خطوط، سطح زیرمنحنیها و حجم اجسام فضایی از نوع فضاهای نمونه‌ای پیوسته محسوب می‌شوند.

برآمد چیست؟

به هر نتیجه از نتایج ممکن یک آزمایش تجربی - تصادفی یک «برآمد» گفته می‌شود. مثلاً اگر سکه‌ای را سه بار پرتاب کنیم، فضای نمونه‌ای شامل $(2^3 = 8)$ برآمد زیر خواهد بود:

$$S = \{ HHH - HHT - HTH - HTT - THH - THT - TTH - TTT \}$$

تذکر: برای تعیین تعداد عضوهای هر فضای نمونه‌ای گسسته، تعداد حالت‌های یک بار آزمایش را به توان تعداد تکرار آزمایش برسانید.

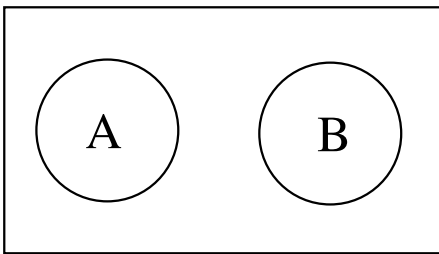
تذکر: تعداد عضوهای فضای نمونه‌ای پیوسته، مانند طول یا سطح یا حجم بی‌نهایت بوده و قابل شمارش نیست.

پیشامد (رویداد) چیست؟

هر زیر مجموعه از مجموعه فضای نمونه‌ای S را یک «پیشامد» گویند. پیشامدها را با حروف A, B, C و... نشان می‌دهند. پیشامد می‌تواند ساده یا مرکب باشد. اگر تنها یک برآمد، در کل برآمدها دارای خصوصیتی مشخص و قابل تعریف کردن باشد، پیشامد مزبور را ساده نامند. مانند: آمدن دقیقاً سه بار روی سکه در پرتاب یک سکه سه بار. اما اگر یک پیشامد، مجموعه‌ای از چند برآمد باشد که خصوصیت مشترکی را دارا باشند، اصطلاحاً به آن «پیشامد مرکب» گفته می‌شود. مانند ظاهر شدن دوبار روی سکه در پرتاب یک سکه سه بار.

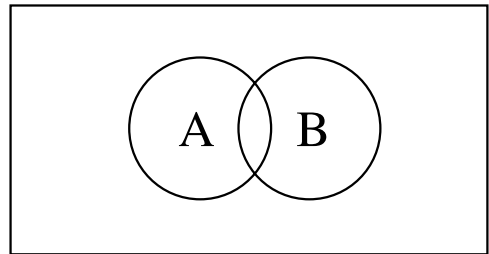
پیشامدهای ناسازگار و سازگار^۱

A و B را ناسازگار گویند هرگاه نتوانند همزمان رخ دهند. مانند تولد پسر و دختر در یک زایمان با یک فرزند. یا آمدن روی سکه و پشت سکه به طور همزمان در پرتاب یک سکه یک بار. اما دو پیشامد A و B، سازگار خواهند بود، هرگاه بتوانند همزمان رخ دهند. مثل اینکه در یک جعبه، پنج مهرهٔ زرد با شماره‌های ۱ تا ۵ و پانزده مهرهٔ سفید با شماره‌های ۱ تا ۱۵ وجود داشته باشد و یک مهره به تصادف بیرون بیاوریم و بخواهیم مهرهٔ استخراج شده، زرد یا عددی کوچکتر از چهار باشد. در نمودارهای ۸ و ۹ با پیشامدهای سازگار و ناسازگار به صورت هندسی آشنا می‌شوید:



$$A \cap B = \emptyset$$

نمودار ۹ — دو پیشامد ناسازگار



$$A \cap B \neq \emptyset$$

نمودار ۸ — دو پیشامد سازگار

پیشامدهای مستقل (ناسته) و غیرمستقل (وابسته) — هرگاه وقوع A تأثیری در مقدار احتمال وقوع B نداشته باشد، پیشامدهای A و B را مستقل گویند، اما اگر وقوع A در مقدار احتمال B مؤثر باشد و مقدار احتمال را تغییر دهد، A و B را غیرمستقل گویند. مثلاً اگر از یک گلدان با ۱۰ مهرهٔ سفید و ۲۰ مهرهٔ سیاه، دو مهره یک بار متوالیاً و با جایگذاری و یک بار متوالیاً و بدون جایگذاری استخراج کنیم و بخواهیم هر دو مهره سفید باشند، در حالت اول سفید بودن مهرهٔ اول و سفید بودن مهرهٔ دوم دو پیشامد مستقل خواهند بود، اما در حالت دوم، این دو پیشامد غیرمستقل محسوب می‌شوند، زیرا در حالت بدون جایگذاری، سفید بودن مهرهٔ اول در احتمال سفید بودن مهرهٔ دوم تأثیر خواهد گذاشت.

پیشامدهای حتمی، غیرممکن و تصادفی — پیشامدهای موجود را از نظر شدت و ضعف مقدار ریاضی احتمال به ۳ دسته تقسیم می‌کنند:

— پیشامدهای حتمی (یقینی) — پیشامدی را حتمی گویند که تحت هر شرایطی به‌طور

۱— پیشامدهای ناسازگار را مانع‌الجمع و پیشامدهای سازگار را غیرمانع‌الجمع نیز می‌گویند.

اجتناب ناپذیری رخ خواهد داد. در صفحات بعد، خواهیم دید که مقدار احتمال چنین پیشامدهایی مساوی واحد ($= 1$) خواهد بود (یعنی امکان وقوع آنها صددرصد است).

— **پیشامدهای غیرممکن (محال)** — پیشامدی را غیرممکن گویند که تحت هیچ شرایطی امکان وقوع نداشته باشد. مقدار احتمال چنین پیشامدهایی مساوی صفر است.

— **پیشامدهای تصادفی (احتمالی)** — به پیشامدهایی که امکان وقوع یا عدم وقوع آنها وجود دارد، پیشامدهای تصادفی گفته می‌شود. مقدار احتمال چنین پیشامدهایی بین صفر و یک است.

برای مثال اگر در داخل یک گلدان ۵ سکه 10° ریالی وجود داشته باشد و یک سکه به طور تصادفی بیرون بیاوریم، آمدن یک سکه 10° ریالی، یک پیشامد حتمی و آمدن یک سکه 20° ریالی یک پیشامد غیرممکن است، اما اگر علاوه بر ۵ سکه 10° ریالی در داخل گلدان، ۵ سکه 20° ریالی نیز وجود داشته باشد و یک سکه بیرون بیاوریم، آمدن یک سکه 10° ریالی یک پیشامد تصادفی است.

خودآزمایی — در زندگی شخصی خودتان سه پیشامد حتمی و سه پیشامد غیرممکن و سه پیشامد احتمالی بیان نمایید.

برداشت‌های مختلف از احتمال

واژه احتمال را می‌توان معادل کلمه «شانس» وقوع و یا عدم وقوع پیشامدهای معین تلقی کرد. مثلاً وقتی یک سکه را پرتاب می‌کنیم، احتمال آمدن روی سکه، معادل است با شانس آمدن روی سکه. یا احتمال اینکه دانشجویی از سلف سرویس دانشکده‌ای استفاده کند، معادل است با شانس استفاده کردن دانشجو از سلف سرویس. و یا احتمال اینکه کالای جدیدی در بازار موفق باشد، در حقیقت منظور همان شانس موفقیت کالای جدید در بازار می‌باشد. هر کدام از این سه مثال، نشان‌دهنده برخوردی خاص با مفهوم احتمال است. در مثال اول (پرتاب سکه) پیشامد مطرح شده به فضای نمونه‌ای تعلق دارد با تعدادی برآمد هم شانس. چنین برداشتی را «**احتمال کلاسیک**» نام داده‌اند. هر یک از برآمدها در چنین آزمایشها، شانسی مساوی $\frac{1}{n}$ خواهند داشت. (اگر آزمایش دارای

n برآمد باشد.)

اولین بار «لاپلاس» در قرن هفدهم، تئوری احتمال را با این برداشت، پایه‌گذاری کرد.

در مثال دوم (احتمال استفاده کردن دانشجو از سلف سرویس) پیشامدی مطرح شده که فضای نمونه‌ای آن دارای برآمدهای هم‌شانس نیستند، یعنی تعداد کل موفقیتها و تعداد کل پیشامدهای ممکن از قبل مشخص نیستند بلکه بر اساس مشاهدات نمونه‌ای معلوم خواهند شد. چنین برداشتی را «احتمال تجربی – کلاسیک» گویند.

اما در مثال سوم (احتمال موفقیت کالای جدید در بازار) نمی‌توان به صورت عینی، تعداد موفقیتها و تعداد کل حالات را مشخص کرد و لذا محاسبه احتمال، جنبه ذهنی و شخصی پیدا کرده، متکی بر ادراک و شخصیت فرد در حدس زدن می‌باشد. به چنین برداشتی «احتمال ذهنی – شخصی» نام داده‌اند. اکثر تصمیم‌گیرهای اقتصادی – تجاری با تکیه بر چنین برداشتی از احتمال صورت می‌پذیرند. برداشت احتمال کلاسیک را به این دلیل که فضای نمونه‌ای آن حامل برآمدهای هم‌شانس می‌باشد، «مدل احتمال یکنواخت» و برداشت احتمال تجربی – کلاسیک را به این دلیل که فضای نمونه‌ای آن حامل برآمدهای غیر هم‌شانس می‌باشد، «مدل احتمال غیر یکنواخت» می‌نامند.

اصول قراردادی (موضوعه) احتمال

چون برداشتهای سه‌گانه احتمال، دارای این ضعف مهم هستند که برای تعریف احتمال، از خود واژه احتمال استفاده می‌کنند، لذا ریاضیدان معروف روس، آندره کولموگروف^۱ احتمال را یک مفهوم ثابت و غیرقابل تعریف در نظر گرفت، (مثل اینکه در هندسه نقطه را یک مفهوم ثابت و تعریف‌نشده در نظر می‌گیرند.) و سه اصل زیر را به عنوان اصول بدیهی، ثابت و بی‌نیاز از استدلال، عنوان کرد:

اصل اول

احتمال رخ دادن هر برآمد در هر فضای نمونه‌ای، یک عدد غیرمنفی است، به طوری که اگر فضای نمونه‌ای S را با برآمدهای $e_1, e_2, e_3, \dots, e_n$ در نظر بگیریم، خواهیم داشت:

$$0 \leq P \leq 1$$

(فرمول ۱)

^۱ – Kolmogorov André

اصل دوم

مجموع احتمالهای رخ دادن تمامی برآمدهای فضای نمونه‌ای S، مساوی یک خواهد بود.
یعنی اگر S دارای چند برآمد باشد:

$$\begin{aligned} S &= e_1 + e_2 + e_3 + \dots + e_n \\ P(S) &= P(e_1) + P(e_2) + P(e_3) + \dots + P(e_n) = 1 \end{aligned} \quad (\text{فرمول ۲})$$

اصل سوم

احتمال رخ دادن هر پیشامد مشخص (مانند پیشامد A) برابر است با مجموع احتمالهای رخ دادن برآمدهایی که پیشامد مورد نظر را تشکیل می‌دهند. مثلاً برای پیشامد A که از چند برآمد ناسازگار تشکیل شده است:

$$\begin{aligned} A &= e_1 + e_2 + e_3 + \dots + e_k \\ P(A) &= P(e_1) + P(e_2) + P(e_3) + \dots + P(e_k) \end{aligned} \quad (\text{فرمول ۳})$$

تذکر: سایر قوانین احتمال را می‌توان با کمک سه اصل بالا استنتاج کرد.

فرمولهای ریاضی احتمال

تعریف احتمال بر مبنای فراوانی نسبی (= احتمال نظری)

از سه نظریه و برداشتهای مختلف احتمال و با استفاده از منطق فراوانی نسبی (که در درس مفاهیم و روشهای آماری (۱) با آن آشنا شده‌اید.) می‌توان قانونمندی زیر را برای محاسبه احتمال یک پیشامد بیان کرد:

$$\text{مقدار احتمال هر پیشامد} = \frac{\text{تعداد حالات مساعد آن پیشامد}}{\text{تعداد کل حالات ممکن آزمایش}}$$

توجه نمایید که از دستور بالا فقط وقتی استفاده می‌کنیم که نتایج یک آزمایش هم‌شانس باشند.

مثلاً اگر پیشامدی مانند A را در فضای نمونه‌ای S در نظر بگیریم، و احتمال را با علامت P

(از کلمه انگلیسی Probability) نشان دهیم، خواهیم داشت:

$$P_{(A)} = \frac{n(A)}{n(S)}$$

(فرمول ۴)

برای توجیه بیشتر این دستور، به یک مثال توجه کنید :
شما وقتی یک سکه سالم را یک بار پرتاب می کنید، چرا و به کدامین دلیل احتمال آمدن روی سکه را مساوی $\frac{1}{2}$ می پندارید؟ آیا از هر دو بار پرتاب یک سکه سالم حتماً یک بار آن روی سکه بالا قرار می گیرد؟

طبیعی است که جواب این سؤال منفی است. اما چرا احتمال روی سکه را $\frac{1}{2}$ می دانند؟ دلیل این امر، آن است که اگر سکه سالم باشد^۱ (سکه ناریب باشد). با افزوده شدن بر دفعات تکرار آزمایش، نسبت دفعاتی که روی سکه بالا قرار می گیرد، به کل دفعات پرتاب به سمت $\frac{1}{2}$ میل می کند. درحالی که اگر سکه اریب باشد، (مثلاً چکش خورده باشد). نسبت مزبور به سوی احتمالی متفاوت از $\frac{1}{2}$ گرایش پیدا می کند :

هرگاه تعداد آزمایشهای تصادفی را به سمت بی نهایت میل دهیم، فراوانی نسبی نیز به سمت مقدار احتمال پیشامد مورد نظر، میل خواهد کرد.

تذکر: هرگاه شمارش حالات مساعد و حالات ممکن، به علت بی شمار بودن آنها امکان پذیر نباشد، برای محاسبه احتمال از طول یا مساحت یا حجم حالات مساعد و حالات ممکن، استفاده می کنند. این شیوه محاسبه احتمال را اصطلاحاً «احتمال هندسی» نام داده اند.

مثال ۱- در گلدانی ۴ مهره سفید، ۶ مهره سیاه و ۱۰ مهره آبی وجود دارد. (مهره ها صرف نظر از رنگ، کاملاً یکسان هستند). از این ظرف، یک مهره به تصادف بیرون می آوریم. احتمال اینکه این مهره سیاه باشد، چقدر است؟

$$P_{(سیاه\ بودن)} = \frac{6}{20} = \frac{3}{10}$$

۱- به سکه سالم یا به تاس سالم، اصطلاحاً سکه ایده ال یا تاس ایده ال گفته می شود.

این مثال، از مدل احتمال غیر یکنواخت، تبعیت می کند زیرا برآمدهای سفید و سیاه و آبی هم شانس نیستند.

مثال ۲- سکه سالمی را دوبار پشت سر هم پرتاب می کنیم، احتمال آمدن هر دو بار پشت سکه چقدر است؟

$$S = \{ HH - HT - TH - TT \}$$

$$P_{(TT)} = \frac{1}{4}$$

ملاحظه می کنید که این مثال، منطبق با مدل احتمال یکنواخت می باشد. (زیرا هر یک از برآمدهای HH - HT - TH و TT هم شانس هستند.)

احتمال متمم یک پیشامد

با توجه به اینکه اگر A یک پیشامد از S باشد، A^c پیشامدی است به نام متمم A (یا مکمل A) به طوری که عضوهایش به جز عضوهای A باشند^۱. و با توجه به اصل دوم از اصول قراردادی (موضوعه) احتمال. (مجموع احتمالهای رخ دادن تمامی برآمدهای فضای نمونه ای S باید مساوی یک باشند.) می توان نوشت :

$$\boxed{P(A) + P(A^c) = 1} \quad \text{بنابراین} \quad \Rightarrow P_{(A^c)} = 1 - P(A) \quad \text{(فرمول ۵)}$$

معمولاً از رابطه بالا وقتی استفاده می کنیم که بخواهیم احتمال رخ ندادن یک پیشامد را محاسبه نماییم.

مثال ۳- کارمندان یک شرکت را از نظر اهلیت و جنسیت، مورد بررسی قرار داده ایم، جدول

زیر حاصل شده است :

اهلیت → ↓ جنسیت	تهرانی	شیرازی	تبریزی	کرمانی	مشهدی	جمع
زن	۵	۴	۳	۶	۷	۲۵
مرد	۸	۷	۵	۱۰	۱۵	۴۵
جمع	۱۳	۱۱	۸	۱۶	۲۲	۷۰

۱- بنابراین می توان گفت که بین A و A^c رابطه $A \cap A^c = \emptyset$ برقرار است.

اگر یک کارمند را به طور تصادفی انتخاب کنیم، چقدر احتمال هست :

اولاً - تبریزی باشد؟ (A)

ثانیاً - تبریزی نباشد؟ (A^c)

$$P_{(A)} = \frac{1}{V_0} = \frac{4}{35}$$

$$P_{(A^c)} = 1 - \frac{4}{35} = \frac{31}{35}$$

مثال بالا، مثال بسیار ساده‌ای برای استفاده از احتمال متمم «یا احتمال مکمل» است. در مواردی که مثال اندکی پیچیده‌تر می‌شود، قانون ۲-۵ راهگشا خواهد بود. به عنوان نمونه می‌توان به موردی اشاره کرد که مثلاً بخواهیم احتمال این امر را محاسبه کنیم که از افراد یک خانواده ۵ نفره چقدر احتمال هست که حداقل ۲ نفرشان در یک روز متولد شده باشند؟

حل: احتمال حداقل ۲ نفر از ۵ نفر در یک روز از سال متولد شده باشند

پس $P_{(A)}$ را محاسبه کرده، مقدار آن را از یک کم می‌کنیم

احتمال آنکه تولد هر ۵ نفر در یک روز نباشد $P_{(A^c)}$

$$P_{(A^c)} = \frac{365 \times 364 \times 363 \times 362 \times 361}{(365)^5}$$

$$P_{(A)} = 1 - \frac{365 \times 364 \times 363 \times 362 \times 361}{(365)^5}$$

و در نتیجه :

توضیح: توجه دارید که مخرج کسر بالا (یعنی تعداد عضوهای فضای نمونه‌ای) طبق اصل ضرب برای ۵ نفر از $365 \times 365 \times 365 \times 365 \times 365$ یعنی $(365)^5$ به دست آمده است زیرا هر کدام از افراد خانواده می‌توانسته‌اند در یکی از ۳۶۵ روز سال متولد شده باشند. (سال کبیسه را صرف نظر کرده‌ایم.)

احتمال اجتماع دو پیشامد

اگر A و B دو پیشامد ناسازگار باشند، احتمال اجتماع آنها از فرمول ۶ به دست می‌آید :

$$P_{(A \cup B)} = P_{(A)} + P_{(B)} \quad (\text{فرمول ۶})$$

در حالی که اگر A و B سازگار باشند، احتمال اجتماع آنها، طبق فرمول ۷ محاسبه خواهد شد.

$$P_{(A \cup B)} = P_{(A)} + P_{(B)} - P_{(A \cap B)} \quad (\text{فرمول ۷})$$

مثال ۴- اگر از جدول مثال ۳ یک نفر به طور تصادفی انتخاب کنیم چقدر احتمال دارد که اولاً فرد انتخاب شده، تهرانی یا تبریزی باشد؟ ثانیاً، احتمال اینکه فرد انتخاب شده تهرانی یا زن باشد، چقدر است؟

$$P_{(\text{تهرانی یا تبریزی})} = P_{(\text{تهرانی})} + P_{(\text{تبریزی})} = \frac{13}{70} + \frac{8}{70} = \frac{21}{70} = \frac{3}{10}$$

$$P_{(\text{تهرانی یا زن})} = P_{(\text{تهرانی})} + P_{(\text{زن})} - P_{(\text{تهرانی و زن})} = \frac{13}{70} + \frac{25}{70} - \frac{5}{70} = \frac{33}{70}$$

احتمال اشتراک دو پیشامد

اگر A و B دو پیشامد مستقل از همدیگر باشند، طبق اصل ضرب، احتمال اشتراک آنها از حاصلضرب احتمالهایشان به دست خواهد آمد. (به شرط آنکه احتمال هریک از پیشامدهای A و B مخالف صفر باشد.)

$$P_{(A \cap B)} = P_{(A)} \times P_{(B)} = P_{(B)} \times P_{(A)} \quad (\text{فرمول ۸})$$

فرمول ۸ شرط مستقل بودن دو پیشامد A و B نیز خواهد بود.

مثال ۵- احتمال اینکه کارمندی در یک اداره در مرخصی باشد، $\frac{2}{10}$ و احتمال اینکه به کارمندی حکم جدیدی داده شود، $\frac{1}{10}$ است.

احتمال اینکه کارمندی در مرخصی باشد و حکم جدیدی نیز برایش صادر شود، چقدر است؟ توجه دارید که دو پیشامد «در مرخصی بودن» و «صدور حکم جدید»، دو پیشامد مستقل هستند.

$$P_{(A \cap B)} = \frac{2}{10} \times \frac{1}{10} = \frac{2}{100}$$

تذکره: اگر در فرمول ۸ پیشامد A مشروط به پیشامد B باشد، که با نماد $A|B$ نشان داده می‌شود، باید فرمول ۸ را به صورت زیر بنویسیم:

$$P_{(A \cap B)} = P_{(B)} \cdot P_{(A|B)} \quad (\text{فرمول ۹})$$

۱- احتمال شرطی را با نماد $A|B$ نیز نشان می‌دهند.

مثال ۶- در داخل یک انبار، از انبارهای اتومبیل‌های ساخته شده یک کارخانه، ۸۰ اتومبیل سواری و ۲۰ اتومبیل وانت وجود دارد. دو اتومبیل به طور تصادفی از انبار خارج می‌کنیم. احتمال این که هر دو اتومبیل سواری باشند، چقدر است؟

$$P_{\text{(اولی سواری باشد)}} = \frac{80}{100}$$

$$P_{\text{(دومی سواری باشد)}} = \frac{79}{99}$$

$$P_{\text{(هر دو سواری باشد)}} = \frac{80}{100} \times \frac{79}{99} = \frac{316}{495}$$

مثال ۷- در یک قفسه در یک بانک، ۱۰ کارت حساب جاری و ۲۰ کارت حساب پس‌انداز وجود دارد. اگر بخواهیم سه کارت به طور تصادفی انتخاب کنیم، چقدر احتمال دارد که هر سه کارت از نوع حساب جاری باشند؟

$$P = \frac{10}{30} \times \frac{9}{29} \times \frac{8}{28} = \frac{6}{203}$$

تذکر: مثالهایی نظیر مثال ۷ را می‌توان با کمک ترکیب (یا سایر عوامل آنالیز ترکیبی) نیز حل کرد. مثلاً می‌توان مثال ۷ را به صورت زیر حل کرد.

$$P = \frac{\text{حالات مساعد}}{\text{حالات ممکن}} = \frac{C_{10}^3}{C_{30}^3} = \frac{6}{203}$$

مثال ۸- در یک انبار، ۱۰ کارتن یخچال، ۲۰ کارتن فریزر و ۲۰ کارتن یخچال - فریزر وجود دارد که از نظر ظاهر، شبیه هم هستند. اگر به طور تصادفی ۳ جعبه از آنها را انتخاب کنیم، چقدر احتمال هست که:

$$P = \frac{C_{10}^3}{C_{50}^3} \quad \text{اولاً - هر سه کارتن یخچال باشند؟}$$

$$P = \frac{C_{20}^2 \times C_{10}^1}{C_{50}^3} \quad \text{ثانیاً - دو عدد فریزر و یکی یخچال - فریزر باشد؟}$$

$$P = \frac{C_{10}^1 \times C_{20}^1 \times C_{20}^1}{C_{50}^3} \quad \text{ثالثاً - هیچ کدام مثل هم نباشند؟}$$

مثال ۹— در یک جعبه، ۱۰ مهره سفید و ۳۰ مهره سیاه وجود دارد که از نظر شکل و اندازه و وزن کاملاً یکسان هستند. دو مهره، متوالیاً، یک بار با جایگذاری و یک بار بدون جایگذاری بیرون می‌آوریم. احتمال سفید بودن هر دو مهره را در دو حالت با جایگذاری و بدون جایگذاری محاسبه کنید.

توضیح: در روش با جایگذاری، هر مهره که بیرون آورده می‌شود، مجدداً به داخل جعبه برگردانده می‌شود، در حالی که در روش بدون جایگذاری هر مهره که از جعبه خارج می‌شود، کنار گذاشته شده، مهره بعدی از بقیه مهره‌ها، بیرون آورده می‌شود.

$$P = \frac{10}{40} \times \frac{10}{40} = \frac{1}{16} \quad \text{در روش با جایگذاری}$$

$$P = \frac{10}{40} \times \frac{9}{39} = \frac{3}{52} \quad \text{در روش بدون جایگذاری}$$

مثال بالا را می‌توان با کمک آنالیز ترکیبی به صورت زیر نیز حل کرد:

در روش با جایگذاری با کمک ترتیبهایی با تکرار

$$P = \frac{P_{10}^2}{P_{40}^2} = \frac{10^2}{40^2} = \frac{10 \times 10}{40 \times 40} = \frac{1}{16}$$

در روش بدون جایگذاری با کمک ترتیبهایی بدون تکرار

$$P = \frac{P_{10}^2}{P_{40}^2} = \frac{10!}{38!} = \frac{10 \times 9}{40 \times 39} = \frac{3}{52}$$

تفاوت « مستقل بودن » و « ناسازگار بودن » پیشامدها

گاهی مفاهیم « مستقل بودن » و « پیشامد و ناسازگار بودن » دو پیشامد، با هم اشتباه می‌شوند. برای دوری از چنین اشتباهی، توضیح این نکته ضروری است که هرگاه در مورد مستقل بودن دو پیشامد A و B سخن به میان می‌آید، منظور این است که وقوع پیشامد A، هیچ ارتباطی به پیشامد B ندارد. درحالی که وقتی صحبت از ناسازگار بودن A و B می‌شود، مقصود این است که، A و B نمی‌توانند همزمان رخ دهند. شاید این اشتباه، از آنجا ناشی شده است که در نمودارهای ون، تصور بر این است که، دو پیشامد مستقل A و B نباید هیچ نقطه مشترکی داشته باشند، در حالی که این تصور برای دو پیشامد ناسازگار درست است، نه برای دو پیشامد مستقل. مثلاً اگر A پیشامدی باشد با

احتمالی برابر $0/2$ و B پیشامد دیگری باشد با احتمالی مساوی $0/3$ به طوری که بشود نوشت :

$$P_{.A} = 0/2 \text{ و } P_{.B} = 0/3$$

حال اگر A و B مستقل از یکدیگر باشند، خواهیم داشت :

$$P_{A \cdot B} = P_{.A} \cdot P_{.B} = 0/2 \times 0/3 = 0/06$$

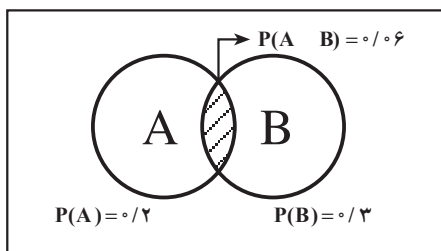
در حالی که اگر A و B دو پیشامد ناسازگار باشند، باید $A \cdot B = .$ باشد، و چون $P_{..} = 0$

است، بنابراین :

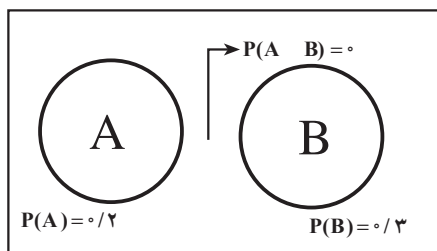
$$P_{A \cdot B} = 0$$

در نمودارهای 1^0 و 11 وضعیت دو پیشامد ناسازگار و دو پیشامد مستقل را به صورت هندسی

مشاهده می کنید :



نمودار ۱۱ - دو پیشامد مستقل



نمودار 1^0 - دو پیشامد ناسازگار

محاسبهٔ احتمال شرطی

دو پیشامد را شرطی گویند، هرگاه وقوع یکی مشروط به وقوع « یا عدم وقوع » دیگری باشد در فرمول ۹، اگر $P_{(A|B)}$ را مجهول در نظر بگیریم و $P_{(B)}$ و $P_{(A \cdot B)}$ معلوم باشند، باید طرف معلوم را بر ضریب مجهول تقسیم کنیم تا مقدار مجهول محاسبه شود :

$$P_{(A|B)} = \frac{P_{(A \cdot B)}}{P_{(B)}} \quad (\text{فرمول } 10)$$

در واقع در احتمالات شرطی، فضای نمونه‌ای محدود به موارد شرط (یعنی B) خواهد شد.

فرمول بالا را می‌شود به صورت خلاصه شده زیر نیز بیان کرد :

$$\text{مقدار احتمال شرطی} = \frac{\text{از موارد شرط آن تعداد که مورد سؤال هستند}}{\text{موارد شرط}}$$

$$P_{(A|B)} = \frac{\text{تعداد حالت‌هایی که A و B می‌توانند رخ دهند}}{\text{تعداد حالت‌هایی که B می‌تواند رخ دهد}}$$

توجه دارید که در این صورت $P_{(A|B)}$ بزرگتر از $P_{(A)}$ خواهد بود، مگر موقعی که A و B دو پیشامد مستقل باشند، که در این صورت احتمال شرطی، مساوی احتمال غیر شرطی خواهد بود. یعنی:

$$P_{(A|B)} = \frac{P_{(A \cap B)}}{P_{(B)}} \Rightarrow \frac{P_{(A)} \cdot P_{(B)}}{P_{(B)}} = P_{(A)} \quad (\text{فرمول ۱۱})$$

تذکر: توجه داشته باشید که فرمول احتمال شرطی، زمانی درست است که $P_{(B)}$ مخالف صفر باشد، چه پیشامدها از مدل احتمال یکنواخت تبعیت کنند و چه از مدل احتمال غیر یکنواخت.

مثال ۱۰— دو مکعب شش وجهی منتظم (تاس) را که اعداد ۱ تا ۶ روی وجوه مختلف آنها نوشته شده با هم می‌ریزیم. احتمال اینکه حداقل، شماره یکی از مکعبها ۲ باشد، چقدر است؟ (اگر بدانیم که مجموع شماره‌های دو مکعب، مساوی ۶ است.)
حل: اگر A را پیشامد «حداقل، شماره یک مکعب ۲ باشد» بدانیم و B را پیشامد «مجموع دو مکعب شش». در این صورت می‌توان نوشت:

$$n_{(S)} = 6^2 = 36$$

$$A = \{(2,1), (2,2), (2,3), (2,4), (2,5), (2,6), (1,2), (3,2), (4,2), (5,2), (6,2)\}$$

$$B = \{(1,5), (2,4), (3,3), (4,2), (5,1)\}$$

$$(A \cap B) = \{(2,4), (4,2)\}$$

$$P_{(A|B)} = \frac{P_{(A \cap B)}}{P_{(B)}} = \frac{\frac{2}{36}}{\frac{5}{36}} = \frac{2}{5}$$

مثال ۱۱— احتمال اینکه احمد در مرحله اول کنکور دانشگاهها قبول شود، $7/10$ است و احتمال اینکه اگر در مرحله اول قبول شده، در مرحله دوم نیز قبول شود، $8/10$ است. احتمال اینکه

احمد در هر دو مرحله، قبول شود، چقدر است؟

$$P_{(A|B)} = \frac{P_{(A \cap B)}}{P_{(B)}} \Rightarrow 0/8 = \frac{P_{(A \cap B)}}{0/7} \Rightarrow P_{(A \cap B)} = 0/56$$

مثال ۱۲- در مثال ۱۰ آیا A و B دو پيشامد مستقل اند؟ چرا؟

حل: برای اینکه A و B دو پيشامد مستقل باشند باید رابطه زیر بین آنها برقرار باشد:

$$P_{(A \cap B)} = P_{(A)} \cdot P_{(B)}$$

$$P_{(A)} = \frac{11}{36}, \quad P_{(B)} = \frac{5}{36}, \quad P_{(A \cap B)} = \frac{2}{36}$$

$$\frac{11}{36} \times \frac{5}{36} = \frac{55}{1296}$$

مشاهده می کنیم که شرط مستقل بودن بین A و B برقرار نیست زیرا:

$$\frac{55}{1296} \neq \frac{2}{36}$$

تذکر ۱: مفهوم حداقل x بار، معادل $X \geq x$ و مفهوم حداکثر x بار معادل

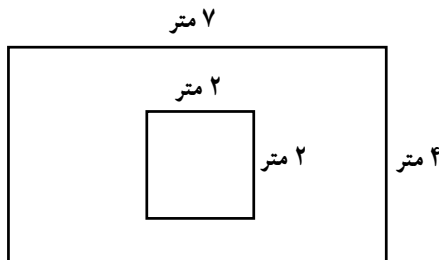
$X \leq x$ می باشد.

تذکر ۲: همه مسائلی که در این فصل بیان شده مربوط به مجموعه های

شمارش پذیر بودند. توجه داشته باشید که احتمالات در مورد مجموعه های شمارش ناپذیر مانند مساحت اشکال هندسی و یا حجم و یا طول و نظایر آن نیز کاربردهای فراوانی دارد. تمرینهای ۱۸ و ۱۹ همین فصل نمونه ای از احتمالات هندسی هستند.

مثال ۱۳- در تصویر زیر، اگر تیری به سمت مستطیل رها شود، احتمال آن که تیر، به مربع

برخورد کند، چقدر است؟



حل: در این مسأله، هم فضای نمونه‌ای (یعنی مساحت مستطیل) و هم عضوهای حالت‌های مساعد (مساحت مربع) از نوع فضاهای نمونه‌ای پیوسته هستند.

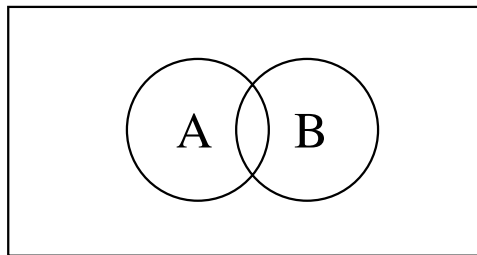
$$\text{مقدار احتمال} = \frac{\text{مساحت مربع}}{\text{مساحت مستطیل}} = \frac{2 \times 2}{7 \times 4} = \frac{4}{28} = \frac{1}{7}$$

تمرینهای فصل دوم

- ۱- اجتماع دو پیشامد را تعریف کرده، علامت آن را نشان دهید.
- ۲- اشتراک دو پیشامد را تعریف کرده، علامت آن را نشان دهید.
- ۳- مفهوم تهی را توضیح داده، علامت آن را نشان دهید.
- ۴- آزمایش تصادفی چیست؟ انواع آن را نام ببرید و برای هر کدام مثال ذکر کنید.
- ۵- فضای نمونه‌ای را تعریف کرده، برای فضاهای نمونه‌ای محدود و نامحدود مثال بیاورید.
- ۶- پیشامد را تعریف کنید. برای پیشامدهای سازگار و ناسازگار مثال ذکر کنید.
- ۷- برداشتهای مختلف از احتمال را شرح دهید.
- ۸- سه اصل اساسی احتمال را که به اصول قراردادی (موضوعه) احتمال معروفند، توضیح

دهید.

- ۹- در نمودار زیر $(A \cap B)^c$ را سایه بزنید.



- ۱۰- احمد، محمود و حامد در یک مسابقه علمی شرکت کرده‌اند. اگر بدانیم احتمال برنده شدن احمد دو برابر برنده شدن محمود و احتمال برنده شدن محمود دو برابر برنده شدن حامد است، احتمال برنده شدن هر یک از این سه نفر را معلوم کنید.
- ۱۱- اگر احتمال بالا قرار گرفتن روی سکه‌ای، دو برابر احتمال بالا قرار گرفتن پشت آن باشد، چقدر احتمال دارد که در دو بار پرتاب این سکه، هر دو بار روی سکه بالا قرار گیرد؟
- ۱۲- در یک شرکت بیمه، ۱۰ بیمه‌نامه تنظیم شده که چهار عدد آنها مربوط به بیمه اتومبیل و ۶ عدد بقیه، مربوط به بیمه آتش سوزی می‌باشند. اگر به طور تصادفی سه عدد از بیمه‌نامه‌ها را انتخاب کنیم، چقدر احتمال دارد:
 - الف) هر سه، بیمه‌نامه اتومبیل باشند؟
 - ب) دو عدد از بیمه‌نامه‌ها، از نوع بیمه آتش سوزی باشند؟

ج) حداقل یکی از آنها مربوط به بیمه اتومبیل باشد؟
 د) حداکثر دو بیمه نامه از نوع بیمه آتش سوزی باشند؟
 ۱۳- ۲۵۰ نفر از دانش آموزان یک دبیرستان را از نظر رشته تحصیلی و کلاس، مطابق جدول زیر مورد بررسی قرار داده ایم. اگر یک دانش آموز به طور تصادفی از این گروه انتخاب کنیم، چقدر احتمال دارد که:

- الف) کلاس سوم باشد؟
 ب) کلاس سوم نباشد؟
 ج) کلاس اول یا دوم باشد؟
 د) رشته حسابداری و کلاس سوم باشد؟
 ه) رشته حسابداری یا کلاس دوم باشد؟
 و) رشته بازرگانی باشد به شرطی که بدانیم کلاس اول است؟
 ز) آیا کلاس چهارم بودن و رشته حسابداری بودن، دو پیشامد مستقل اند؟ چرا؟

کلاس → رشته ↓	اول	دوم	سوم	چهارم
تجربی	۲۰	۱۵	۲۵	۸
ریاضی	۱۰	۵	۱۵	۱۰
حسابداری	۳۰	۱۵	۱۰	۱۲
بازرگانی	۴۰	۲۰	۱۰	۵

۱۴- اگر از جدول تمرین ۱۳، چهار نفر به طور تصادفی انتخاب کنیم، احتمال اینکه رشته های آنها متفاوت باشد، چقدر است؟ و احتمال اینکه هر چهار نفر از یک رشته باشند، چقدر است؟
 ۱۵- ۷۰٪ دانش آموزان یک دبیرستان، درس آمار را و ۴۰٪ آنها درس ریاضیات عمومی و ۳۰٪ دانش آموزان هر دو درس را انتخاب کرده اند. اگر یک دانش آموز را به صورت تصادفی انتخاب کنیم، احتمال اینکه:

الف) آمار یا ریاضی را انتخاب کرده باشد، چقدر است؟

ب) هیچ کدام از این دروس را انتخاب نکرده باشند، چقدر است؟

۱۶- احتمال اینکه آقای x یک مسأله را حل کند $\frac{2}{9}$ و احتمال اینکه همین مسأله را آقای y

حل کند $\frac{3}{5}$ است. این مسأله را به هر دو نفر ارائه می‌دهیم تا حل کنند. چقدر احتمال دارد که:

الف) هر دو نفر مسأله را حل کنند.

ب) مسأله حل شود.

ج) فقط یکی از آنها مسأله را حل کند.

۱۷- در یک دانشکده، کلاس A دارای ۱۵ دانشجوی تهرانی و ۲۵ دانشجوی شهرستانی و

کلاس B دارای ۲۰ دانشجوی تهرانی و ۴۰ دانشجوی شهرستانی است. اگر از هر کلاس یک

دانشجو به صورت تصادفی انتخاب کنیم، چقدر احتمال دارد که از کلاس A تهرانی و از کلاس B

شهرستانی باشند؟ اگر بخواهیم از هر دو کلاس شهرستانی باشند، احتمال را معلوم کنید. اگر بخواهیم

هر دو نفری که انتخاب می‌شوند یا تهرانی باشند یا شهرستانی، مقدار احتمال چقدر خواهد بود؟

۱۸- دایره‌ای به شعاع R را در نظر بگیرید. اگر به طور تصادفی نقطه‌ای در داخل این دایره

انتخاب شود، احتمال آنکه این نقطه به مرکز دایره نزدیکتر از محیط دایره باشد، چقدر است؟

راهنمایی - فضای نمونه‌ای، مجموعه شمارش ناپذیر مساحت یک دایره به شعاع R است.

۱۹- مستطیلی به طول ۲۵ و عرض ۲۰ سانتی متر را در نظر بگیرید که در داخل آن دایره‌ای به

شعاع ۱۰ سانتی متر واقع شده باشد. اگر تیری به سمت مستطیل رها شود، احتمال آنکه به دایره

اصابت نماید چقدر است؟

۲۰- اگر سه پیشامد A، B و C دو به دو با همدیگر ناسازگار باشند و بدانیم که $P(A) = 0/1$ ،

$P(B) = 0/3$ و $P(C) = 0/3$ باشد، $P(A \cap B \cap C)$ چقدر است؟

----- تستهای چهار گزینه‌ای -----

۱- A و B مستقل اند $P_{A \cdot B} = \frac{1}{8}$ ، $P_{A \cdot} = \frac{1}{4}$ است. $P_{B \cdot}$ کدام است؟

- (۱) $\frac{1}{4}$ (۲) $\frac{1}{16}$ (۳) $\frac{3}{8}$ (۴) $\frac{5}{8}$

۲- از ظرفی با ۲ مهره سفید و ۳ مهره سیاه، ۲ مهره با هم بیرون می‌آوریم. احتمال آنکه حداقل یک مهره سیاه بیرون آمده باشد، کدام است؟

- (۱) $\frac{3}{8}$ (۲) $\frac{6}{10}$ (۳) $\frac{7}{8}$ (۴) $\frac{9}{10}$

۳- اگر A و B دو پیشامد مستقل و $P_{A \cdot} = \frac{3}{10}$ و $P_{B \cdot} = \frac{2}{10}$ باشد، $P_{A \cdot B}$ کدام است؟

- (۱) $\frac{1}{4}$ (۲) $\frac{3}{44}$ (۳) $\frac{3}{5}$ (۴) $\frac{56}{10}$

۴- یک تاس را دوبار می‌اندازیم. احتمال آنکه جمع دو شماره، حداقل برابر 10° باشد، کدام است؟

- (۱) $\frac{2}{36}$ (۲) $\frac{3}{36}$ (۳) $\frac{4}{36}$ (۴) $\frac{6}{36}$

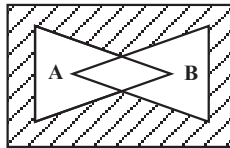
۵- اگر A و B دو پیشامد مستقل باشند، $P_{A|B}$ کدام است؟

- (۱) $P_{B \cdot}$ (۲) $P_{A \cdot}$ (۳) ۱ (۴) صفر

۶- یک سکه سالم را سه بار پرتاب می‌کنیم. احتمال آنکه دو بار روی سکه بیاید، کدام است؟

- (۱) $\frac{3}{8}$ (۲) $\frac{5}{8}$ (۳) $\frac{6}{8}$ (۴) $\frac{1}{2}$

۷- در تصویر زیر کدام بخش، هاشور خورده است؟



(۱) $A \cdot B$ (۲) $A \cdot B^c$

(۳) $A^c \cdot B^c$ (۴) گزینه‌های ۲ و ۳ درست است.

۸- هرگاه $S = 1, 5, 2, 8$ ، $A = 1, 5$ و $B = 8$ باشد، کدام پیشامد در یک آزمایش

تصادفی حتمی است؟

- (۱) A (۲) B (۳) A · B (۴) S

۹- احتمال اینکه احمد یک مسأله را درست حل کند، $\frac{3}{5}$ است و احتمال اینکه محمود همان

مسأله را درست حل کند، $\frac{1}{4}$ است. این مسأله را به هر دو شخص می‌دهیم تا حل کنند. احتمال آنکه

مسأله درست حل شود، کدام است؟

$$\frac{3}{20} (1) \quad \frac{14}{20} (2) \quad \frac{17}{20} (3) \quad \frac{20}{20} (4)$$

۱۰- در جعبه A دو مهرهٔ سبز و سه مهرهٔ قرمز و در جعبه B سه مهرهٔ قرمز و دو مهرهٔ زرد وجود دارد. از هر جعبه، یک مهره به تصادف اختیاری کنیم. احتمال هم‌رنگ بودن مهره‌ها کدام است؟

$$\frac{4}{25} (1) \quad \frac{6}{25} (2) \quad \frac{9}{25} (3) \quad \frac{16}{25} (4)$$

۱۱- اگر از کلاسی که ۱۰ دانش‌آموز تهرانی و ۲۰ دانش‌آموز غیرتهرانی در آن درس

می‌خوانند، دو نماینده انتخاب کنیم، احتمال آن که هر دو نماینده تهرانی باشند، کدام است؟

$$\frac{3}{29} (1) \quad \frac{1}{9} (2) \quad \frac{1}{10} (3) \quad \frac{2}{29} (4)$$

۱۲- در تست ۱۱ احتمال آن که هر دو نماینده غیرتهرانی باشند، کدام است؟

$$\frac{4}{9} (1) \quad \frac{38}{87} (2) \quad \frac{38}{90} (3) \quad \frac{19}{87} (4)$$

۱۳- در تست ۱۱ چقدر احتمال هست که یکی از نمایندگان تهرانی و دیگری غیرتهرانی باشد؟

$$\frac{10}{87} (1) \quad \frac{20}{87} (2) \quad \frac{40}{87} (3) \quad \frac{80}{87} (4)$$

۱۴- در تست ۱۱ احتمال آن که لااقل یکی از نمایندگان تهرانی باشد، کدام است؟

$$\frac{20}{87} (1) \quad \frac{40}{87} (2) \quad \frac{31}{87} (3) \quad \frac{49}{87} (4)$$

۱۵- در داخل یک جعبه ۶ مهره سفید و ۴ مهره سیاه هم شکل و هم وزن وجود دارد. اگر از

داخل این جعبه دو مهره متوالیاً و بدون جایگذاری بیرون بیاوریم. احتمال آن که مهره دومی سفید

باشد، کدام است؟

$$\frac{54}{90} (1) \quad \frac{24}{90} (2) \quad \frac{30}{90} (3) \quad \frac{48}{90} (4)$$

۱۶- در تست ۱۵ احتمال آن که لااقل یکی از مهره‌ها سفید باشد، کدام است؟

$$\frac{42}{90} \text{ (۴)}$$

$$\frac{39}{90} \text{ (۳)}$$

$$\frac{78}{90} \text{ (۲)}$$

$$\frac{12}{90} \text{ (۱)}$$



«با شناخت همبستگی بین پدیده‌ها، می‌توان

به رابطه علت و معلولی بسیاری از حوادث پی برد.»

فصل سوم

همبستگی متغیرها و ضریب همبستگی

هدفهای رفتاری: در پایان این فصل، از فراگیر انتظار می‌رود:

- ۱- همبستگی را تعریف کند.
- ۲- مفهوم کلی همبستگی را توضیح دهد.
- ۳- علل وجود همبستگی بین پدیده‌ها را برشمارد.
- ۴- انواع همبستگی را توضیح دهد.
- ۵- درجات و حالات همبستگی را نام برد.
- ۶- درجات و حالات همبستگی را تعریف کند.
- ۷- نمودارهای پراکنش را رسم کرده، تفسیر کند.
- ۸- ضریب همبستگی را محاسبه کند.
- ۹- معنای ضریب همبستگی را بیان کند.
- ۱۰- ضریب تعیین را محاسبه کند.
- ۱۱- کاربرد ضریب تعیین را توضیح دهد.
- ۱۲- درجه معنی‌دار بودن ضریب همبستگی را تبیین کند.
- ۱۳- معادله خط رگرسیون را بنویسد و خط رگرسیون را رسم کند.
- ۱۴- کوواریانس «همیراش» را محاسبه و تفسیر کند.

مقدمه

حتماً دیده‌اید و یا شنیده‌اید که برخی از کوهنوردان، در ارتفاعات بالای کوهستان خون دماغ

می‌شوند. هیچ فکر کرده‌اید که دلیل این امر چیست؟ فیزیک‌دانان نشان داده‌اند که هرچه ارتفاع از سطح دریا افزایش پیدا کند، فشار هوا کاهش می‌یابد. و دقیقاً به همین دلیل است که گروهی، در ارتفاعات، خون دماغ می‌شوند. در حقیقت فشار داخلی بدن آنها، بر فشار بیرون غالب می‌شود. مثالی دیگر: معمولاً به چه کسانی چاق و به چه کسانی لاغر گفته می‌شود؟ آیا وزن یا قد معینی به عنوان معیار چاقی یا لاغری وجود دارد که تعیین‌کننده قضاوت ما درباره چاقی یا لاغری افراد باشد؟ طبیعی است که پاسخ این سؤال منفی باشد. اما نوع رابطه‌ای که باید بین وزن و قد افراد برقرار باشد، می‌تواند به عنوان یک معیار به کار برده شود. مثلاً در روان‌شناسی رشد می‌گویند، سانتیمترهای قد افراد در دوران رشد باید حدود ۱۰۰ واحد بیشتر از کیلوگرمهای وزن آنها باشد. برای مثال کسی که ۱۶۰ سانتیمتر قد دارد، باید حدود ۶۰ کیلوگرم وزن داشته باشد تا نه چاق تلقی شود و نه لاغر. حال اگر فردی که ۱۶۰ سانتیمتر قد دارد، ۷۰ کیلوگرم وزن داشته باشد اصطلاح چاقی برای او به کار می‌رود و اگر فرضاً همین شخص ۵۰ کیلوگرم وزن داشته باشد؛ اصطلاحاً وی را لاغر می‌نامند. به‌طور دقیق‌تر برای تعیین چاقی و لاغری امروزه از شاخص توده بدن (B.M.I) که مخفف عبارت: Body Mass Index است و به‌صورت زیر محاسبه می‌شود، استفاده می‌کنند:

$$\text{وزن با مقیاس کیلوگرم} \\ \text{شاخص توده بدن} = \frac{\text{وزن با مقیاس کیلوگرم}}{(\text{قد به متر})^2}$$

که اگر این شاخص بین ۲۰ تا ۲۵ باشد قد و وزن انسان حکایت از سالم بودن دارد اگر بین ۲۵ تا ۳۰ باشد فرد را چاق می‌دانند و چنانچه این شاخص از ۳۰ تجاوز کند، خطرناک است و باید مواظبت بیشتری از وزن انجام شود.

به این ترتیب، می‌توان گفت که: بین فشار هوا و ارتفاع از سطح دریا و نیز بین وزن و قد افراد، نوعی رابطه (همبستگی) وجود دارد. در این زمینه می‌توان مثالهای مختلفی نظیر:

- رابطه بین کشیدن سیگار و ابتلا به بیماری سرطان ریه
 - رابطه بین مقدار باران سالانه و مقدار تولید محصولات کشاورزی
 - رابطه بین سرعت اتومبیل و طول خط ترمز آن
 - رابطه بین هزینه‌های تولید و مقدار تولید و ... را ارائه داد.
- در این فصل، به بررسی انواع همبستگیها، مقدار و شدت و ضعف همبستگیها، مدل ریاضی و رابطه‌های بین متغیرهای مختلف خواهیم پرداخت. توجه داشته باشید که برخلاف آمار توصیفی که فقط

یک متغیر را برای هر یک از عناصر جامعه یا نمونه، اندازه‌گیری و بررسی می‌کردیم، در مبحث همبستگی، دو یا چند متغیر از جامعه یا نمونه آماری را در نظر گرفته، امکان وجود یا عدم وجود همبستگی بین آن دو یا چند متغیر را مورد مطالعه قرار خواهیم داد و بر دو مطلب زیر تأکید بیشتری خواهیم داشت:

۱- آیا دو متغیر به همدیگر مرتبط هستند یا خیر؟

۲- اگر دو متغیر مرتبط هستند، نوع ارتباط و شدت و ضعف ارتباط چگونه است؟

تعریف همبستگی

همبستگی را می‌توان نوعی رابطه کمی (مقداری) تعریف کرد که ممکن است بین متغیرهای مختلف وجود داشته باشد. به عبارت دیگر؛ همبستگی خصیصه‌ایست بین دو یا چند متغیر به نحوی که تغییر در یکی از متغیرها، تغییری قابل پیش‌بینی در متغیر یا متغیرهای دیگر را به دنبال داشته باشد. بنابراین، می‌توان با شناخت همبستگی در بسیاری از مسائل اقتصادی، مالی، فرهنگی، سیاسی، نظامی و... عمل تصمیم‌گیری را سهولت بخشید. مثلاً با محاسبه اندازه همبستگی بین «مقدار تولید» یک کارخانه و «مقدار ضایعات» آن کارخانه، مشکلات را بررسی کرد و یا با شناخت رابطه بین «مقدار کارآیی کارکنان» و «نتایج آزمایشهای استخدامی» در یک مؤسسه، به تنظیم و تدوین سؤالات و آزمونهای استخدامی پرداخت. ذکر این نکته ضروری است که هرگاه وجود همبستگی بین دو متغیر برای ما اثبات شد، نمی‌توان عوامل علت و معلول را از هم تشخیص داد، یعنی پدیده همبستگی را نباید با موضوع علت و معلول مساوی دانست، ضمن اینکه در برخی از انواع همبستگیها، علت و معلول نیز می‌تواند مطرح باشد.

علل وجود همبستگی بین متغیرها

در بررسی رابطه بین متغیرها علل مختلفی را می‌توان مشاهده کرد. از آن جمله:

تصادفی بودن همبستگی

گاهی همبستگی بین دو متغیر ممکن است جنبه کاملاً تصادفی داشته باشد. غالباً در این موارد

با تعویض اعضای نمونه یا با زیاد کردن حجم نمونه، نتیجه بررسی تغییر می‌کند.

تأثیر یک عامل شناخته شده

ممکن است وجود همبستگی بین دو متغیر بر اثر تأثیر یک عامل شناخته شده باشد. برای مثال بین هزینه‌های ضروری خانواده‌ها «مثلاً غذا» و هزینه‌های غیرضروری (مثلاً تفریح و گردش)، نوعی همبستگی مشاهده می‌شود و این رابطه به دلیل پدیده «درآمد» است. به این معنی که، با بالا رفتن درآمد خانواده‌ها، به طور موازی، هم هزینه خوراک بالا می‌رود و هم هزینه تفریح و گردش. ضمن اینکه اگر درآمد این خانواده‌ها به دلیلی کاهش پیدا کند، فوراً هزینه‌های گردش را به صفر می‌رسانند، اما نمی‌توانند هزینه‌های خوراک را به صفر برسانند.

مسأله علیّت

گاهی یک متغیر در متغیر دیگر تأثیر دارد و باعث نوعی همبستگی بین آن متغیرها می‌شود. مثلاً رشد درختان با مقدار آبی که به آنها داده می‌شود، نوعی رابطه دارد و این بیشتر مربوط به اصل علت و معلولی است. بسیاری از مباحث مربوط به همبستگی از نوع مسأله علت و معلولی هستند.

انواع همبستگی

اگر بین دو پدیده، همبستگی وجود داشته باشد، نوع آن از دو حالت زیر خارج نخواهد بود:

۱- همبستگی مستقیم (مثبت)

۲- همبستگی معکوس (غیر مستقیم یا منفی)

هرگاه در یک بررسی نمونه‌ای، تغییرات عددی دو پدیده مانند x و y در یک جهت باشد، به طوری که زیاد شدن x با زیاد شدن y و یا کم شدن x با کم شدن y همراه باشد، می‌گویند x و y همبستگی مستقیم دارند. مانند رابطه قد و وزن افراد در دوران رشد. اما در مواردی که تغییرات مقداری دو متغیر x و y در دو جهت مخالف باشد، یعنی زیاد شدن یک متغیر (مثل x) با کم شدن متغیر دیگر (مثلاً y) همراهی کند و بالعکس، مانند رابطه فشار هوا و ارتفاع از سطح دریا، همبستگی را غیرمستقیم یا معکوس می‌نامند، یکی از معیارهای تشخیص نوع همبستگی، ضریب همبستگی است

که در صفحات بعد به مطالعه آن خواهیم پرداخت. چون این ضریب در همبستگی مستقیم، مثبت و در همبستگی معکوس، منفی می‌شود، به همین دلیل، گروهی از آمارشناسان همبستگی مستقیم را مثبت و همبستگی معکوس را منفی نیز می‌نامند.

شدت و ضعف همبستگی (مقدار همبستگی)

مقدار همبستگی بین دو متغیر از دو حالت زیر خارج نیست.

۱- همبستگی کامل (وجود 100% ارتباط بین دو متغیر)

۲- همبستگی ناقص (وجود کمتر از 100% ارتباط بین دو متغیر)

هرگاه رابطه دو متغیر x و y به گونه‌ای باشد که هر تغییر در اندازه x تغییر متناسبی در اندازه y را به همراه داشته باشد، همبستگی را کامل (صد درصد) می‌نامند، مانند رابطه بین قطر دایره و اندازه محیط آن. اما اگر رابطه بین دو متغیر x و y کمتر از صد درصد باشد، همبستگی را ناقص می‌گویند، نظیر همبستگی بین قد و وزن دانش‌آموزان یک دبیرستان که می‌تواند تحت تأثیر عوامل اقتصادی، ارث، ژنتیک و نظایر آن برای افراد یکسان نباشد.

ابزارهای تشخیص همبستگی

برای تشخیص نوع همبستگی و مقدار شدت و ضعف آن، از ابزارهای مختلفی می‌توان استفاده کرد که در این کتاب به بررسی آنها خواهیم پرداخت.

نمودار پراکندگی (دیاگرام پراکنش)

ساده‌ترین روش بررسی وجود یا عدم وجود همبستگی بین دو متغیر، رسم دیاگرام پراکنش است. برای رسم چنین دیاگرامی، باید یک دستگاه مختصات را در نظر بگیریم و اندازه یکی از صفات را تحت عنوان صفت x روی محور طولها و اندازه‌های متناظر صفت مقابل آن را تحت عنوان صفت y ، روی محور عرضها قرار داده، برای هر مشاهده یک نقطه روی محورهای مختصات به دست

بیاوریم، به طوری که طول آن نقطه اندازه صفت x و عرض آن نقطه اندازه صفت y باشد. مجموعه نقاط حاصل را روی محورهای مختصات دیاگرام پراکنش گویند. با کمک شکل کلی نقاط دیاگرام پراکنش، می توان به وجود یا عدم وجود همبستگی و نیز به نوع آن پی برد.

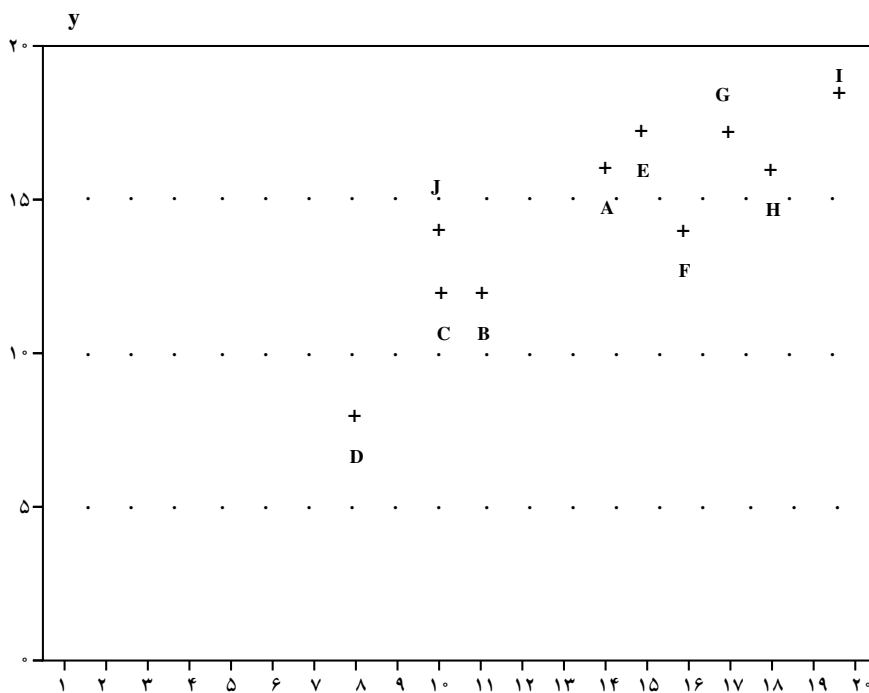
مثال ۱- فرض کنید نمرات ریاضی و نمرات آمار 10° دانش آموز را طبق جدول زیر در اختیار دارید:

جدول ۱

نام دانش آموز	A	B	C	D	E	F	G	H	I	J
نمره ریاضی = x	۱۴	۱۱	۱۰	۸	۱۵	۱۶	۱۷	۱۸	۲۰	۱۰
نمره آمار = y	۱۶	۱۲	۱۲	۸	۱۷	۱۴	۱۷	۱۶	۱۸	۱۴

دیاگرام پراکنش اطلاعات فوق را رسم کنید.

حل: نمرات ریاضی را روی محور طولها و نمرات آمار را روی محور عرضها قرار می دهیم و برای هر دانش آموز یک نقطه روی دستگاه مختصات به دست می آوریم.



نمودار ۱

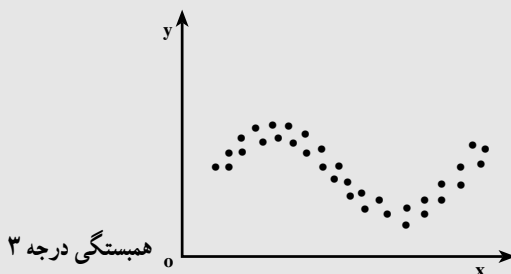
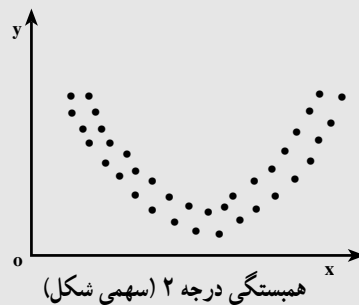
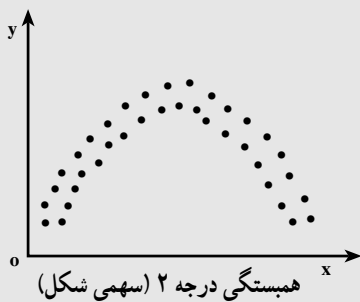
تفسیر دیاگرام پراکنش — برای اینکه مشخص شود آیا بین متغیرهای x_i و y_i همبستگی وجود دارد یا خیر؟ میانگین مقادیر x_i (\bar{x}) و میانگین مقادیر y_i (\bar{y}) را محاسبه کرده، روی دیاگرام پراکنش نقطه‌ای با طول \bar{x} و عرض \bar{y} ، به دست می‌آوریم و دو خط به موازات محورهای طولها و عرضها روی نقاط دیاگرام رسم می‌کنیم. به این ترتیب، چهار ناحیه ۱، ۲، ۳ و ۴ به دست می‌آید. اکنون:

(۱) — اگر بیشتر نقاط دیاگرام در نواحی (۱) و (۳) باشند، همبستگی مستقیم و اگر این تجمع در نواحی (۲) و (۴) مشاهده شود، همبستگی معکوس خواهد بود.

(۲) — اگر ضمن رعایت بند (۱) نقاط دیاگرام درست روی یک خط مستقیم قرار بگیرند، همبستگی کامل است و چنانچه نقاط دیاگرام در اطراف یک خط مستقیم باشند، همبستگی ناقص خواهد بود.

(۳) — چنانچه نقاط دیاگرام پراکنش به موازات خطوط سازنده نواحی چهارگانه واقع شوند و یا هیچ نظام خاصی را تبعیت نکرده، و در مناطق چهارگانه پخش شده باشند، نشانه عدم همبستگی است.

تذکر: تفسیر فوق‌الذکر مربوط به همبستگیهای خطی است. توجه داشته باشید که ممکن است بین دو یا چند متغیر، همبستگی غیرخطی نظیر درجه دو (سهمی)، درجه ۳ و ... نیز وجود داشته باشد، مانند دیاگرامهای پراکنش زیر که بحث و بررسی آنها خارج از برنامه این کتاب است.

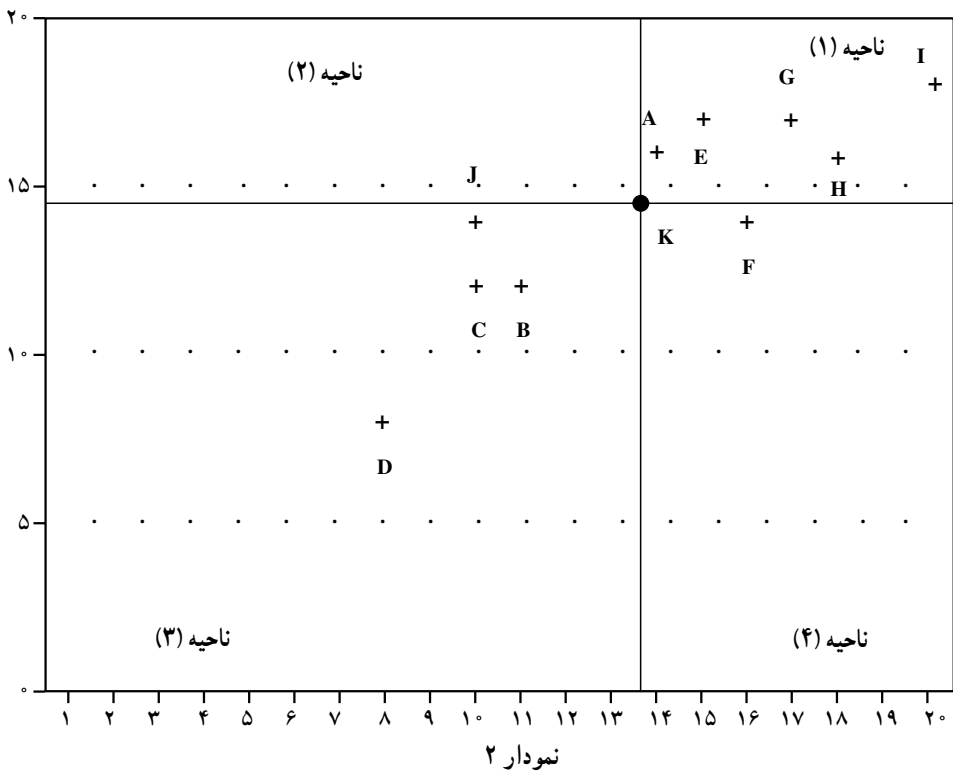


مثال ۲- در مثال ۱، \bar{x} و \bar{y} را محاسبه کرده، با کمک دیاگرام پراکنش در مورد وجود یا عدم وجود همبستگی، نوع و مقدار آن بحث کنید.

$$\bar{x} = \frac{14+11+10+8+15+16+17+18+20+10}{10} = 13/9$$

$$\bar{y} = \frac{16+12+12+8+17+14+17+16+18+14}{10} = 14/4$$

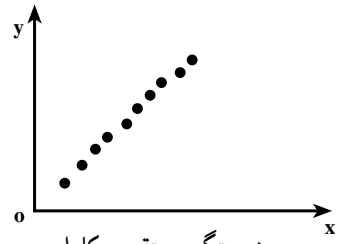
$$\bar{x} = 13/9 \qquad \bar{y} = 14/4 \qquad K \begin{array}{l} 13/9 \\ 14/4 \end{array}$$



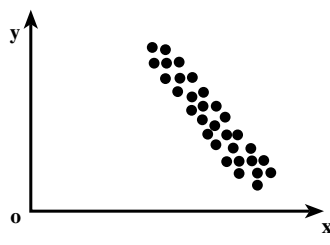
ملاحظه می‌شود که بیشتر نقاط دیاگرام، در مناطق (۱) و (۳) در اطراف یک خط مستقیم (نه درست روی یک خط مستقیم) واقع شده‌اند و این می‌تواند نشانه همبستگی مستقیم و ناقص باشد. انواع دیاگرام‌های پراکنش - در این قسمت، با تعدادی دیاگرام پراکنش، همراه با تفسیر آنها آشنا می‌شوید:




همبستگی مستقیم و ناقص



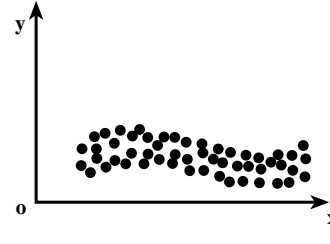
همبستگی مستقیم و کامل



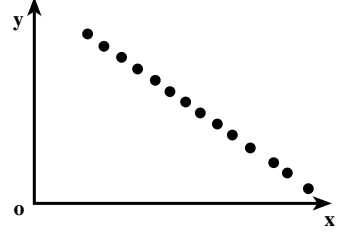
همبستگی معکوس و ناقص




همبستگی منحنی



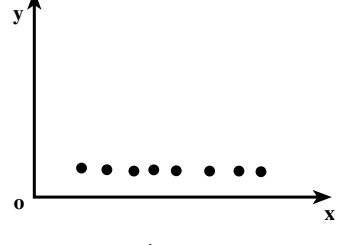
عدم همبستگی



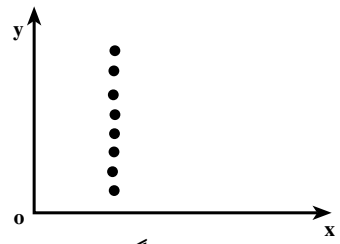
همبستگی معکوس و کامل



عدم همبستگی



عدم همبستگی



عدم همبستگی

خودآزمایی – قد و وزن ۱۰ نفر از دانش‌آموزان کلاس خودتان را سؤال کنید و نمودار پراکنش آنها را رسم کنید.

ضریب همبستگی^۱

بعد از اینکه با کمک دیاگرام پراکنش مشخص شد که بین دو صفت x و y ، همبستگی خطی وجود دارد، برای تعیین درجه همبستگی، از پدیده‌ای به نام ضریب همبستگی استفاده خواهیم کرد، که با علامت (x, y) . $(RHO)^2$ یا برآوردکننده آن r نشان داده می‌شود. ضریب همبستگی شاخصی است که می‌تواند در فاصله -1 تا $+1$ تغییرات را بپذیرد. علامت آن نشانه نوع همبستگی (مستقیم بودن یا معکوس بودن) و قدر مطلق آن تعیین‌کننده درجه همبستگی است.

تفسیر ضریب همبستگی – ضریب همبستگی در دامنه $+1, 0, -1$ تغییر می‌کند و به صورت زیر تفسیر می‌شود:

اگر $r = +1$ باشد، همبستگی مستقیم و کامل است.

اگر $r = -1$ باشد، همبستگی معکوس و کامل است.

اگر $r = 0$ باشد، نشانه عدم همبستگی است.

اگر $|r| \neq 1$ باشد، در صورت معنی‌دار بودن، (به اندازه کافی بزرگ و قابل قبول بودن) همبستگی ناقص اعلام می‌شود. در مورد معنی‌دار بودن ضریب همبستگی، بعداً بیشتر، توضیح خواهیم داد.

چگونگی محاسبه ضریب همبستگی – برای محاسبه ضریب همبستگی، روشهای مختلفی وجود دارد که معروفترین آنها را مورد بحث و بررسی قرار خواهیم داد.

ضریب همبستگی گشتاوری پیرسن – اگر اندازه‌های n مشاهده از زوجهای مرتب (x, y) را به صورت تصادفی در اختیار بگیریم، پس از کسب اطمینان از وجود همبستگی خطی بین x و y ، می‌توان ضریب همبستگی گشتاوری پیرسن را (برای تعیین درجه همبستگی خطی) به صورت زیر محاسبه کرد:

۱ – Coefficient of correlation

۲ – علامت . برای ضریب همبستگی در کل جامعه و علامت r برای ضریب همبستگی در نمونه‌های مورد آزمایش به کار

برده می‌شود.

$$r = \frac{\sum (x_i - \bar{x})(y_i - \bar{y})}{\sqrt{\sum (x_i - \bar{x})^2 \sum (y_i - \bar{y})^2}} \quad \text{فرمول (۱)}$$

فرمول ۱ را به صورت زیر نیز می‌توان بیان کرد:

$$\text{ضریب همبستگی} = \frac{\text{مجموع حاصلضرب انحرافات } x \text{ از میانگینشان در انحرافات } y \text{ از میانگینشان}}{\sqrt{(\text{مجموع مجزورات انحرافات } x \text{ از میانگینشان}) \times (\text{مجموع مجزورات انحرافات } y \text{ از میانگینشان})}}$$

در این فرمول (فرمول ۱) اگر به جای اصطلاح فارسی «مجموع حاصل ...» از علامت SP_{xy} (Sum Product ...) و به جای اصطلاح فارسی «مجموع مجزورات ...» از علامت SS (Sum Squares ...) استفاده کنیم، فرمول ۱ را به صورت زیر نیز می‌توان نوشت:

$$r = \frac{SP_{xy}}{\sqrt{SS_x \cdot SS_y}} \quad \text{فرمول (۲) کوتاه شده فرمول ۱}$$

تذکر: اگر انحراف معیار مقادیر متغیرهای x و y در اختیار باشند، ضریب همبستگی را به صورت زیر نیز می‌توان محاسبه کرد:

$$r = \frac{SP_{xy}}{n \cdot s_x \cdot s_y} \quad \text{فرمول (۳)}$$

و چنانچه میانگینهای دو متغیر x و y (یا میانگین یکی از آنها) اعشاری باشد، بهتر است ضریب همبستگی را از فرمول ۴ که با فرمولهای ۱ و ۲ و ۳ هم‌ارز است، محاسبه کنیم تا با سهولت بیشتری به نتیجه برسیم.

$$r = \frac{\sum x_i y_i - \frac{(\sum x_i)(\sum y_i)}{n}}{\sqrt{\left(\sum x_i^2 - \frac{(\sum x_i)^2}{n} \right) \left(\sum y_i^2 - \frac{(\sum y_i)^2}{n} \right)}} \quad \text{فرمول (۴)}$$

مثال ۳- در جدول زیر مقدار ضریب همبستگی را با کمک:

x_i	۴	۶	۸	۱۰	۱۲
y_i	۲۵	۲۰	۱۵	۱۰	۵

(۱) فرمول ۲،

(۲) فرمول ۳،

(۳) فرمول ۴، محاسبه کنید:

حل:

(۱) با کمک فرمول ۲

$$\bar{x} = \frac{40}{5} = 8, \quad \bar{y} = \frac{75}{5} = 15$$

جدول ۲

x_i	y_i	$(x_i - \bar{x})$	$(y_i - \bar{y})$	$(x_i - \bar{x})(y_i - \bar{y})$	$(x_i - \bar{x})^2$	$(y_i - \bar{y})^2$
۴	۲۵	-۴	۱۰	-۴۰	۱۶	۱۰۰
۶	۲۰	-۲	۵	-۱۰	۴	۲۵
۸	۱۵	۰	۰	۰	۰	۰
۱۰	۱۰	+۲	-۵	-۱۰	۴	۲۵
۱۲	۵	+۴	-۱۰	-۴۰	۱۶	۱۰۰
۴۰	۷۵			$SP_{xy} = -100$	$SS_x = 40$	$SS_y = 250$

$$\bar{x} = \frac{40}{5} = 8, \quad \bar{y} = \frac{75}{5} = 15$$

$$r = \frac{SP_{xy}}{\sqrt{SS_x \cdot SS_y}} = \frac{-100}{\sqrt{40 \times 250}} = \frac{-100}{\sqrt{10000}} = \frac{-100}{+100} = -1$$

(۲) با کمک فرمول ۳

جدول ۳

x_i	y_i	$x_i - \bar{x}$	$y_i - \bar{y}$	$(x_i - \bar{x})^2$	$(y_i - \bar{y})^2$
۴	۲۵	-۴	۱۰	۱۶	۱۰۰
۶	۲۰	-۲	۵	۴	۲۵
۸	۱۵	۰	۰	۰	۰
۱۰	۱۰	+۲	-۵	۴	۲۵
۱۲	۵	+۴	-۱۰	۱۶	۱۰۰
۴۰	۷۵			$\cdot (x_i - \bar{x})^2$ = ۴۰	$\cdot (y_i - \bar{y})^2$ = ۲۵۰

$$\bar{x} = \frac{40}{5} = 8$$

$$\bar{y} = \frac{75}{5} = 15$$

$$SP_{xy} = -100$$

$$s_x = \sqrt{\frac{40}{5}} = \sqrt{8}$$

$$s_y = \sqrt{\frac{250}{5}} = \sqrt{50}$$

$$r = \frac{SP_{xy}}{n \cdot s_x \cdot s_y} = \frac{-100}{5 \times \sqrt{8} \times \sqrt{50}} = \frac{-100}{5 \times \sqrt{400}} = \frac{-100}{+100} = -1$$

(۳) با کمک فرمول ۴

جدول ۴

x_i	y_i	$x_i y_i$	x_i^2	y_i^2
۴	۲۵	۱۰۰	۱۶	۶۲۵
۶	۲۰	۱۲۰	۳۶	۴۰۰
۸	۱۵	۱۲۰	۶۴	۲۲۵
۱۰	۱۰	۱۰۰	۱۰۰	۱۰۰
۱۲	۵	۶۰	۱۴۴	۲۵
۴۰	۷۵	۵۰۰	۳۶۰	۱۳۷۵

$$\cdot x_i = 40 \text{ و } \cdot y_i = 75$$

$$\cdot x_i y_i = 500$$

$$\cdot x_i^2 = 360 \text{ و } \cdot y_i^2 = 1375$$

$$r = \frac{\cdot x_i y_i - \frac{(\cdot x_i)(\cdot y_i)}{n}}{\sqrt{\left[\cdot x_i^2 - \frac{(\cdot x_i)^2}{n} \right] \left[\cdot y_i^2 - \frac{(\cdot y_i)^2}{n} \right]}} = \frac{500 - \frac{40 \times 75}{5}}{\sqrt{\left[360 - \frac{(40)^2}{5} \right] \left[1375 - \frac{(75)^2}{5} \right]}} = -1$$

۱- فرمول انحراف معیار همانگونه که در آمار (۱) خوانده‌اید به صورت $\sqrt{\frac{\cdot (x_i - \bar{x})^2}{N}}$ می‌باشد.

معنی دار بودن ضریب همبستگی — گفتیم که هرگاه $-1 < r < +1$ و $r \neq 0$ باشد، اگر همبستگی معنی دار بود، همبستگی را ناقص می گویند. حال سؤال اینست که با توجه به اینکه بین صفر تا -1 و بین صفر تا $+1$ بی نهایت عدد وجود دارد، مرز قابل قبول بودن و قابل قبول نبودن ضریب همبستگی کجاست؟ جواب سؤال را باید در جدولی به نام جدول معنی دار بودن r جستجو کنیم. این جدول را در انتهای کتاب ملاحظه می کنید که شامل پنج ستون است. در ستون اول از سمت چپ، درجات آزادی ($n-2$) نوشته شده و چهار ستون بعدی بترتیب به 0.1 ، 0.05 ، 0.02 ، 0.01 و اختصاص داده شده اند. این اعداد درجات عدم اطمینان آزمون هستند که اختلاف آنها با عدد (۱) میزان اطمینان قضاوت ما را در آزمون مشخص خواهد ساخت که اگر میزان اطمینان (احتمال درستی قضاوت) را با P نشان دهیم، می توان نوشت:

$$P = 1 - \alpha$$

به یک مدل ساده از جدول معنی دار بودن r نگاه کنید:

درجه آزادی	0.1	0.05	0.02	0.01
۱				
۲				
۳				
۴				

برای استفاده از جدول معنی دار بودن r ، ابتدا درجه آزادی را از رابطه $(D.F. = n - 2)$ به دست می آوریم (که در آن n تعداد زوجهای مرتب « x, y » است.) و سپس به جدول معنی دار بودن r مراجعه می کنیم. اگر ضریب همبستگی محاسبه شده مساوی یا بزرگتر از عدد جدول (نقطه بحرانی) باشد، (که در محل تلاقی درجه آزادی و نوشته شده) ضریب همبستگی معنی دار و قابل قبول خواهد بود و در غیر این صورت، ضریب همبستگی معنی دار نیست و غیر قابل قبول اعلام خواهد شد. اگر $r = 0$ باشد، دقیقاً می توان گفت که بین x و y ارتباط خطی وجود ندارد. (ولی ممکن است بین دو متغیر مزبور، ارتباط غیر خطی وجود داشته باشد.)

مثال ۴- فرض کنید در محاسبه همبستگی بین هفت زوج مرتب از x و y ، $r = 0.8$ شده باشد و در جدول معنی دار بودن، نقاط بحرانی برای درجه آزادی پنج ($\alpha = 0.05$ ، $D.F = 7$) طبق جدول زیر مشاهده شود:

درجه آزادی	0.1	0.05	0.02	0.01
۱				
۲				
۳				
۴				
۵	0.6694	0.7545	0.8329	0.8745

معلوم کنید x و y چه رابطه‌ای دارند؟

حل: با توجه به اینکه $0.6694 < 0.8 < 0.7545$ است، ضریب همبستگی در سطوح 0.1 و 0.05 معنی دار است (اما در سطوح 0.02 و 0.01 معنی دار نیست. زیرا 0.8 از اعداد 0.8329 و 0.8745 کوچکتر است.) و به این ترتیب می‌توان ادعا کرد که با 0.95 اطمینان، C و y با همدیگر همبستگی دارند. لذا بین x و C همبستگی مستقیم (چون r مثبت است) و ناقص وجود دارد. خودآزمایی: وزن و قد ده نفر از همکلاسیهای خود را که به طور تصادفی انتخاب می‌کنید (مثلاً با قرعه‌کشی) به عنوان دو متغیر x_i و y_i در نظر بگیرید. دیاگرام پراکنش آنها را رسم کرده، ضریب همبستگی را بین وزن و قد محاسبه نمایید و ببینید آیا معنی دار هست یا خیر؟

چند نکته ضروری در ضریب همبستگی

نکته اول - اگر در یک بررسی بین دو متغیر x و y (مثلاً نمرات آمار و ریاضی دانش‌آموزان کلاس الف) ضریب همبستگی فرضاً مساوی 0.8 و در یک بررسی دیگر بین دو متغیر x و y (مثلاً نمرات آمار و ریاضی دانش‌آموزان کلاس ب) ضریب همبستگی مساوی 0.4 شده باشد، نمی‌توان ادعا کرد که ارتباط دو متغیر x و y در بررسی اول دو برابر شدیدتر از ارتباط دو متغیر x و y در بررسی دوم می‌باشد. برای این مقایسه از ضریب تعیین، که توان دوم ضریب همبستگی است، استفاده خواهیم کرد. اگر ضریب تعیین را با علامت K نشان دهیم، می‌توان نوشت: $K = r^2$

مثلاً در مثال بالا : ضریب تعیین در بررسی اول

$$K_1 = r_1^2 - (0/8)^2 = 0/64$$

ضریب تعیین در بررسی دوم

$$K_2 = r_2^2 - (0/4)^2 = 0/16$$

همبستگی در بررسی اول، چهار بار شدیدتر از همبستگی در بررسی دوم است.

$$\frac{K_1}{K_2} = 0/64 / 0/16 = 4$$

نکته دوم – مشاهده ضریب همبستگی بالا بین دو متغیر x و y ، لزوماً رابطه علیت بین x و y را اثبات نمی کند بلکه ممکن است عامل یا عوامل دیگری باعث و بانی ارتباط و همبستگی x و y شده باشند.

نکته سوم – اگر مقادیر متغیر x را به صورت $ax + b$ و مقادیر y را به صورت $cy + d$ تغییر دهیم، r تغییری نخواهد کرد. (البته به شرط آنکه a و c هم علامت باشند.)

۳- معادله خط رگرسیون

اگر بین دو متغیر تصادفی x و y همبستگی مشاهده شد، می توان اندازه و مقدار یکی از این دو متغیر را بر حسب دیگری برآورد کرد. مطالعه این پدیده، موضوع بحث رگرسیون است. واژه رگرسیون^۱ به معنای بازگشت و رجعت است و چون اولین بار دانشمندی به نام گالتون در بررسی رابطه قد فرزندان پسر و قد والدین آنها، متوجه شد که غالباً قد فرزندان پسر به متوسط قد والدین گرایش پیدا می کند، یعنی قد فرزند برمی گردد به متوسط قد والدین. لذا او واژه رگرسیون را در این زمینه به کاربرد و از آن زمان تا به حال کاربرد این کلمه متداول شده است.

برای مثال اگر بین وزن و قد دانش آموزان یک دبیرستان همبستگی وجود داشته باشد، می توان با دانستن وزن فردی، اندازه قد او را و نیز با آگاهی از قد شخص، وزن او را تخمین زد. برای این منظور کافی است روی نقاط دیاگرام پراکنش، خطی رسم کنیم که در مقایسه با سایر خطوط ممکن، کمترین فاصله را از همه نقاط دیاگرام پراکنش داشته باشد. (مناسب ترین خطی باشد که می توان بر داده ها برازنده کرد)^۲ چنین خطی را خط رگرسیون می نامند. مثلاً اگر اندازه وزن (x) و اندازه قد (y) ده دانش آموز را به صورت جدول صفحه بعد در اختیار داشته باشیم :

۱ - Regression

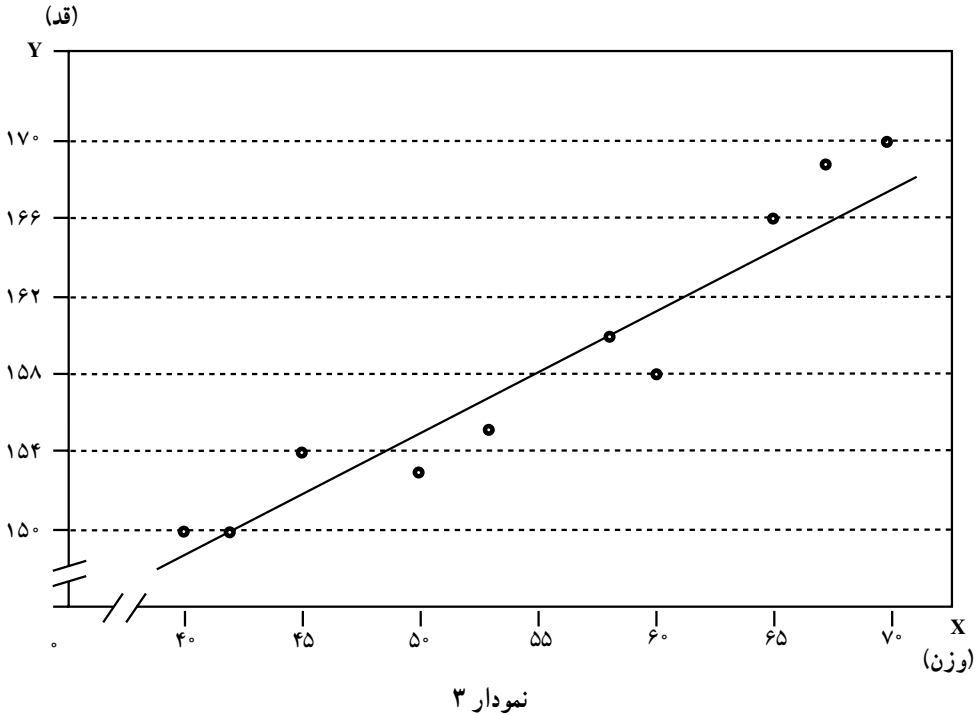
۲- مناسب ترین خط، خطی است که مجموع توان های دوم انحرافات نقاط دیاگرام با خط، حداقل باشد. (از دیگر

خطوط ممکن کمتر باشد.)

جدول ۵

x_i	۴۰	۴۲	۴۵	۵۰	۵۳	۵۸	۶۰	۶۵	۶۷	۷۰
y_i	۱۵۰	۱۵۰	۱۵۴	۱۵۳	۱۵۵	۱۶۰	۱۵۹	۱۶۶	۱۶۸	۱۷۰

شکل خط رگرسیون روی نقاط دیاگرام پراکندگی، می‌تواند به صورت نمودار ۳ باشد:



برای تخمین مثلاً قد دانش‌آموزی که ۶۵ کیلوگرم وزن دارد، کافی است از نقطه ۶۵ روی محور x ها، عمودی به موازات محور y ها رسم کنید و از محل تلاقی آن با خط رگرسیون، خطی به موازات محور x ها آن گونه رسم کنید که محور y ها را قطع کند. محل برخورد خط اخیر با محور y ها، برآوردی برای قد دانش‌آموزی است که وزن او ۶۵ کیلوگرم است.

چون رسم این خط به شیوه بالا نمی‌تواند خیلی دقیق باشد، به کمک معادله دو مجهولی درجه اول که حالت کلی آن به صورت زیر است، خط رگرسیون را رسم می‌کنند: به این معادله اصطلاحاً معادله خط رگرسیون گفته می‌شود.

$$y = ax + b$$

(فرمول ۵)

در این معادله: a شیب خط رگرسیون را مشخص می‌کند و از رابطه $a = \frac{SP_{xy}}{SS_x}$ حاصل

می‌شود. b مقدار ثابتی است که از رابطه $b = \bar{y} - a\bar{x}$ به دست می‌آید و y مقدار برآوردی است که در

ازای مقدار معینی از x حاصل می‌شود.

این روش را اصطلاحاً روش کمترین مربعات می‌نامند.

ضمناً برای تعیین مقدار a در معادله بالا می‌توانید از رابطه زیر نیز استفاده کنید.

$$a = r \frac{s_y}{s_x}$$

\downarrow شیب خط \downarrow ضریب همبستگی \times $\frac{\text{انحراف معیار مقادیر } y}{\text{انحراف معیار مقادیر } x}$

برای آزمایش فرمول ۵، مثال ۵ را با کمک فرمول مزبور حل کنید.

مثال ۵— اگر مقادیر دو صفت x و y (مثلاً مقدار تولید و مقدار ضایعات تولید) به صورت زیر

در پنج مشاهده، در اختیار باشد معادله رگرسیون را نوشته، خط رگرسیون را رسم کنید.

x_i	۲	۳	۱	۵	۴
y_i	۸	۱۰	۶	۱۶	۱۵

حل:

$$\bar{x} = \frac{۱۵}{۵} = ۳ \quad , \quad \bar{y} = \frac{۵۵}{۵} = ۱۱$$

$$a = \frac{SP_{xy}}{SS_x} = \frac{۲۷}{۱۰} = ۲/۷$$

$$b = \bar{y} - a\bar{x} = ۱۱ - (۲/۷) \times ۳ = ۱۱ - ۸/۷ = ۲/۹$$

$$y = ۲/۷x + ۲/۹ \quad \text{معادله خط رگرسیون}$$

جدول ۶

x_i	y_i	$x_i - \bar{x}$	$y_i - \bar{y}$	$(x_i - \bar{x})(y_i - \bar{y})$	$(x_i - \bar{x})^2$
۲	۸	-۱	-۳	۳	۱
۳	۱۰	۰	-۱	۰	۰
۱	۶	-۲	-۵	۱۰	۴
۵	۱۶	+۲	+۵	۱۰	۴
۴	۱۵	+۱	+۴	۴	۱
$\cdot x_i =$	$\cdot y_i =$			$SP_{xy} = ۲۷$	$SS_x = ۱۰$
۱۵	۵۵				

ابتدا دیاگرام پراکنش را رسم می‌کنیم. سپس خط رگرسیون را روی نقاط دیاگرام برازنده می‌کنیم. برای این منظور، به x دو مقدار دلخواه را نسبت می‌دهیم (مثلاً مقادیر ۲ و ۴ را) و مقادیر متناظر y را به دست می‌آوریم (که در این مثال اعداد $۸/۳$ و $۱۳/۷$ می‌باشند). و آنگاه دو نقطه A و B را با مختصات $A|_{۸/۳}$ و $B|_{۱۳/۷}$ معلوم کرده، به هم وصل می‌کنیم تا خط رگرسیون حاصل شود.

توجه: مقدار a (شیب خط) را از رابطه $a = r \cdot \frac{y}{x}$ نیز می‌توان محاسبه کرد. مثلاً در مثال ۵

خواهیم داشت:

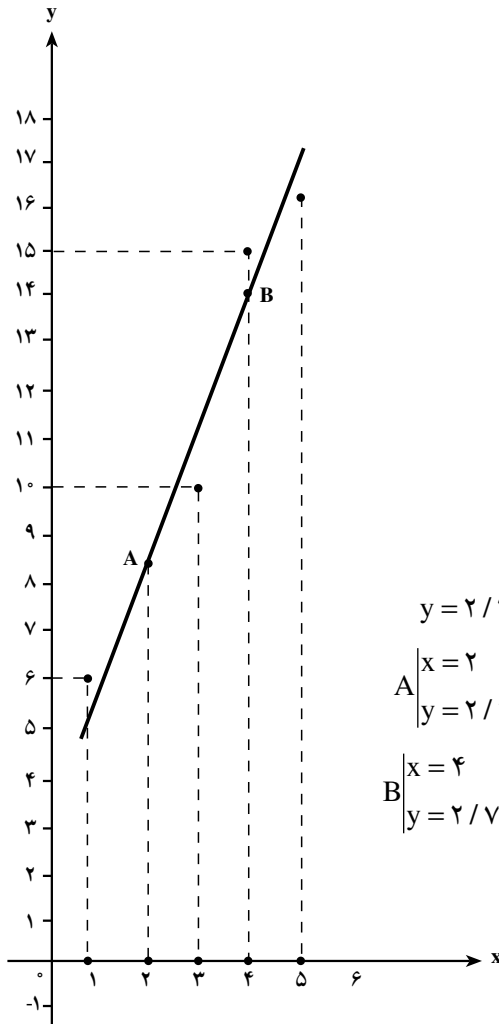
$$r = \frac{SP_{xy}}{\sqrt{SS_x \cdot SS_y}} = \frac{۲۷}{\sqrt{۱۰ \times ۷۶}} = \frac{۲۷}{\sqrt{۷۶۰}} = \frac{۲۷}{۲۷/۶} = ۰/۹۷۸$$

$$\cdot x = \sqrt{\frac{\cdot (x_i - \bar{x})^2}{n}} = \sqrt{\frac{۱۰}{۵}} = \sqrt{۲} = ۱/۴۱$$

$$\cdot y = \sqrt{\frac{\cdot (y_i - \bar{y})^2}{n}} = \sqrt{\frac{۷۶}{۵}} = \sqrt{۱۵/۲} = ۳/۸۹$$

$$a = ۰/۹۷۸ \times \frac{۳/۸۹}{۱/۴۱} = ۰/۹۷۸ \times ۲/۷۵۸ = ۲/۶۹۷ \approx ۲/۷$$

ملاحظه می‌کنید که در هر دو روش، مقدار a مساوی $۲/۷$ به دست می‌آید.



نمودار ۴

با این ترتیب می‌توان گفت: خط رگرسیون، وسیله‌ای است که با کمک آن می‌توانیم مقدار یک متغیر را با توجه به مقدار متغیر دیگری که به آن وابسته است، تخمین بزنیم.

تذکر: توجه داشته باشید که نوشتن معادله خط رگرسیون و رسم این خط، زمانی صورت می‌پذیرد که ضریب همبستگی بین x و y معنی‌دار بوده باشد.

کوواریانس^۱ (همپراش)

معیار دیگری که مقدار و شدت و ضعف وابستگی بین دو متغیر را نشان می‌دهد، کوواریانس یا همپراش است. کوواریانس به گونه‌ای محاسبه می‌شود که اگر همبستگی بین x و y خطی مثبت باشد، علامت کوواریانس نیز مثبت است و اگر وابستگی خطی x و y منفی باشد، علامت کوواریانس نیز منفی می‌شود. علت این امر، آن است که اگر تغییرات x و y در یک جهت باشند، هر دو مقدار انحرافات $x_i - \bar{x}$ و $y_i - \bar{y}$ یا مثبت خواهند بود و یا منفی (هم علامت هستند). و اگر تغییرات x و y در دو جهت مخالف باشند، دو مقدار $x_i - \bar{x}$ و $y_i - \bar{y}$ هم علامت نخواهند شد و چون کوواریانس میانگین حاصلضرب این دو انحراف می‌باشد. یعنی:

$$\text{COV}_{(x,y)} = \frac{SP_{xy}}{n} = \frac{(x_i - \bar{x})(y_i - \bar{y})}{n} \quad (\text{فرمول ۶})$$

بنابراین، همواره علامت کوواریانس از علامت ضریب همبستگی تبعیت می‌کند (فراموش نکنیم که علامت ضریب همبستگی نیز با علامت SP_{xy} هماهنگی دارد).
مثال ۶- اگر در بررسی همبستگی بین پنج مشاهده از دو متغیر x و y ، معلوم شده باشد که $SP_{xy} = -100$ ، مقدار کوواریانس را معلوم کنید.

$$\text{COV}_{(x,y)} = \frac{SP_{xy}}{n} = \frac{-100}{5} = -20$$

تذکر: اگر x و y دو متغیر مستقل از همدیگر باشند، حتماً کوواریانس آنها مساوی صفر می‌شود، اما عکس این مطلب لزوماً نباید درست باشد، یعنی اگر کوواریانس دو متغیر، تصادفی مساوی صفر شد، نباید تصور کرد که حتماً آن دو متغیر مستقل از هم هستند. زیرا ممکن است دو متغیر مزبور به صورت غیرخطی به یکدیگر وابسته باشند.

اگر x و y دو متغیر تصادفی مستقل از یکدیگر باشند، کوواریانس آنها مساوی صفر خواهد بود. اما اگر کوواریانس x و y مساوی صفر باشد، نباید لزوماً x و y را مستقل از هم دانست.

مثال ۷- اندازه دو متغیر تصادفی x (تعداد کارمندان پنج شعبه بانک) و y (تعداد حسابهای جاری این پنج شعبه) را در جدول زیر با واحد $\frac{1}{1000}$ برای متغیر x و با واحد $\frac{1}{1000}$ برای متغیر y در اختیار دارید. مطلوب است محاسبه ضریب همبستگی با استفاده از فرمول ۴.

نام شعبه	x_i	y_i	$x_i y_i$	x_i^2	y_i^2
شمال	۷	۵	۳۵	۴۹	۲۵
جنوب	۸	۷	۵۶	۶۴	۴۹
شرق	۵	۴	۲۰	۲۵	۱۶
غرب	۴	۲	۸	۱۶	۴
مرکز	۴	۳	۱۲	۱۶	۹
	$\cdot x_i = 28$	$\cdot y_i = 21$	$\cdot x_i y_i = 131$	$\cdot x_i^2 = 170$	$\cdot y_i^2 = 103$

$$r = \frac{\cdot x_i y_i - \frac{(\cdot x_i)(\cdot y_i)}{n}}{\sqrt{\left[\cdot x_i^2 - \frac{(\cdot x_i)^2}{n} \right] \left[\cdot y_i^2 - \frac{(\cdot y_i)^2}{n} \right]}} = \frac{131 - \frac{28 \times 21}{5}}{\sqrt{\left[170 - \frac{28 \times 28}{5} \right] \left[103 - \frac{21 \times 21}{5} \right]}}$$

$$r = \frac{13/4}{\sqrt{195/228}} = \frac{13/4}{13/97} = 0/959 \quad \text{ضریب همبستگی}$$

تمرینهای فصل سوم

- ۱- مفهوم کلی همبستگی را توضیح دهید.
- ۲- همبستگی را تعریف کنید.
- ۳- علل وجودی همبستگی را برشمارید.
- ۴- انواع همبستگی را نام ببرید و برای هر کدام ضمن ارائه مثال، تعریف مناسبی بیان کنید.
- ۵- درجات همبستگی را از نظر شدت و ضعف همبستگی، تعریف کنید و برای هر کدام مثالی ذکر کنید.
- ۶- اگر اندازه دو صفت x (مقدار تولید) و y (هزینه تولید) در ۶ ماه در یک کارخانه به صورت زیر باشد، با کمک دیاگرام پراکندگی، نوع و درجه همبستگی را معلوم کنید.

شهریور	مرداد	تیر	خرداد	اردیبهشت	فروردین	ماه
۷۰	۱۰۰	۸۰	۳۰	۵۰	۴۰	مقدار تولید
۸	۱۰	۷	۳	۶	۴	هزینه تولید

- ۷- اگر در پنج نمونه آماری در پنج کارخانه تولیدی، تعداد کارگران فنی (x) و مقدار تولید (y) را به صورت زیر در اختیار داشته باشید، ضریب همبستگی بین این دو متغیر را محاسبه کرده، آزمون معنی دار بودن ضریب همبستگی را انجام دهید.

تعداد کارگر	۴	۶	۷	۸	۱۵
مقدار تولید	۱۰	۱۲	۱۴	۱۷	۱۷

- ۸- تعداد کارمندان ۱۰ شعبه از بانکهای ملی (x) را همراه با تعداد حسابهای جاری این بانکها (y) در اختیار دارید. ضریب تعیین را محاسبه کنید.

نام شعبه	A	B	C	D	E	F	G	H	I	J
تعداد کارمند	۵	۶	۷	۱۰	۴	۱۵	۲۰	۱۲	۱۶	۸
تعداد حساب جاری با واحد $\frac{۱}{۱۰۰}$	۱۲	۱۴	۱۵	۱۸	۱۰	۲۵	۳۰	۲۰	۳۰	۱۶

۹- در جدول زیر، معادله خط رگرسیون y نسبت به x را نوشته، خط رگرسیون را رسم کنید.

(x)	حجم تولید با واحد $\frac{1}{10}$	۵۰	۷۰	۶۰	۴۰	۱۰۰	۹۰	۷۵	۴۵
(y)	حجم ضایعات	۱۲	۱۶	۱۴	۱۰	۲۰	۱۸	۱۷	۱۱

۱۰- اگر $SP_{xy} = -120$ ، $SS_x = 1000$ و $SS_y = 144$ باشد، ضریب همبستگی را محاسبه کرده، معنای آن را بیان کنید.

۱۱- در جدول زیر کوواریانس را محاسبه کرده، مفهوم آن را توضیح دهید.

x_i	۲	۳	۴	۵	۶
y_i	-۲	-۴	-۶	-۸	-۱۰

۱۲- برای مطالعه رابطه بین مدت دوام یک خودکار تولیدی و قیمت آن، یک نمونه پنج تایی از مدل‌های مختلف خودکار را انتخاب کرده، مدت دوام را با واحد ساعت کار (x_i) و قیمت آنها را با واحد ۱۰۰ تومان (y_i) به صورت زیر یادداشت کرده‌ایم:

x_i	مدت دوام به ساعت	۱۰	۱۲	۱۴	۲۰	۲۴
y_i	قیمت به صد تومان	۱	۱/۲	۱/۳	۱/۵	۲

مطلوب است:

الف) محاسبه ضریب همبستگی

ب) آزمون معنی دار بودن ضریب همبستگی و تفسیر آن

ج) محاسبه ضریب تعیین

د) در صورت معنی دار بودن r ، تعیین معادله خط رگرسیون

ه) با کمک معادله خط رگرسیون معلوم کنید خودکاری که ۳۰۰ تومان قیمت دارد، چند ساعت باید کار کند؟

۱۳- در یک کارخانه اتومبیل‌سازی، برای بررسی رابطه بین سرعت اتومبیل (x_i) و طول

خط ترمز (y_i) را، در پنج آزمایش مختلف به صورت زیر اندازه‌گیری کرده‌ایم:

x_i	سرعت اتومبیل به کیلومتر در ساعت	۳۰	۴۰	۵۰	۶۰	۷۰
y_i	طول خط ترمز به متر	۳	۵	۵/۵	۷	۸/۵

معلوم کنید اتومبیلی که با سرعت 100 کیلومتر در ساعت ترمز می کند، چند متر بعد از لحظه ترمز کردن، متوقف خواهد شد؟ (از معادله خط رگرسیون کمک بگیرید.)

۱۴- نمرات دانش آموزان دو کلاس A و B را در دروس آمار و ریاضی طبق جدول زیر در اختیار دارید. ضریب تعیین را در این دو کلاس محاسبه نموده، معلوم کنید شدت ارتباط همبستگی بین نمرات آمار و ریاضی در این دو کلاس چگونه است؟

کلاس	نمرات آمار	۱۴	۱۶	۱۵	۱۷	۱۸
A	نمرات ریاضی	۱۲	۱۴	۱۳	۱۶	۱۵
کلاس	نمرات آمار	۱۷	۱۸	۲۰	۱۶	۱۹
B	نمرات ریاضی	۱۴	۱۴	۱۹	۱۶	۱۷

۱۵- در جدول زیر تعداد غیبتها و تعداد روزهای بیمار شدن 10 دانش آموز کلاس را در طول ترم گذشته مشاهده می کنید.

نام دانش آموز	A	B	C	D	E	F	G	H	I	J
تعداد غیبتهای ترم پیش	۲	۳	۲	۱	۰	۱	۲	۳	۳	۳
تعداد روزهای بیماری	۱	۲	۲	۱	۰	۰	۱	۳	۲	۱

تعداد روزهای بیماری دانش آموزان را x و تعداد غیبتها را y در نظر بگیرید و ضریب همبستگی بین x و y را محاسبه و تفسیر نمایید. از این مثال چه نتیجه ای به دست آوردید؟

----- تستهای چهار گزینه‌ای -----

۱- بین x و y رابطه $y = 2x - 15$ برقرار است. اگر میانگین x برابر با ۱۴ باشد، میانگین y کدام است؟

- ۳۳ (۱) ۲۸ (۲) ۱۶ (۳) ۱۳ (۴)

۲- اگر $SP_{xy} = -9$ ، $SS_x = 225$ ، $SS_y = 144$ باشد، ضریب همبستگی کدام است؟

- ۰/۵ (۱) -۰/۷۵ (۲) ۰/۵ (۳) ۰/۷۵ (۴)

۳- مهندسی برای نظارت کارهای ساختمانی، ۲۵ درصد کل هزینه را دریافت می‌کند. اگر x کل هزینه و y سهم مهندس باشد، ضریب همبستگی x و y کدام است؟

- ۱ (۱) ۰ (۲) ۱ (۳) ۰/۲۵ (۴)

۴- اگر $SP_{xy} = 300$ ، $SS_x = 200$ ، $\bar{x} = 2$ و $\bar{y} = 3$ باشد، معادله خط رگرسیون کدام است؟

- $y = \frac{2}{3}x + 2$ (۱) $y = 1/5x + 2$ (۲) $y = \frac{2}{3}x$ (۳) $y = 1/5x$ (۴)

۵- از نمونه‌ای به حجم $n = 5$ ضریب همبستگی بین دو متغیر $0/8$ است. اگر در جدول معنی‌دار بودن r با احتمال 99% عدد $0/959$ مشاهده شود، در این صورت با احتمال 99% بین دو متغیر همبستگی معنی‌دار ...

- (۱) کامل وجود دارد (۲) معکوس وجود دارد
(۳) ناقص وجود دارد (۴) وجود ندارد

۶- اگر اندازه‌های دو صفت x و y به صورت زیر باشد، ضریب همبستگی کدام است؟

x_i	۱	۲	۳	۴	۵
y_i	-۵	-۴	-۳	-۲	-۱

۰/۵ (۴) -۱ (۳) +۱ (۲) صفر (۱)

۷- فرض کنید $y = \frac{1}{3}x + 3$ معادله خط رگرسیون y نسبت به x باشد در صورتی که $SS_y = 4$

و $SS_x = 1$ باشد، ضریب همبستگی کدام است؟

- $\frac{1}{3}$ (۱) $-\frac{1}{4}$ (۲) $\frac{1}{4}$ (۳) $-\frac{1}{3}$ (۴)

۸- در کدام حالت دو متغیر x و y ، دارای همبستگی مستقیم می‌باشند؟ (r ضریب همبستگی)

است.

۱. r. ° (۴) ۱. r. ° (۳) r = ° (۲) °. r. ۱ (۱)

۹- در جدول زیر، تغییرات x و y نشان داده شده است. ضریب همبستگی x و y کدام است؟

x_i	۱	۳	۵	۷
y_i	۱	۱	۱	۱

°/۹۷ (۴) °. ۱ (۳) صفر (۲) ۱ (۱)

۱۰- اگر x و y دارای همبستگی کامل و معکوس باشند و $SS_x = SS_y$ باشد، معادله خط

رگرسیون y نسبت به x کدام است؟

$y = \frac{1}{4}x + b$ (۲) $y = \frac{1}{3}x + b$ (۱)


$y = x + b$ (۴) $y = .x + b$ (۳)

۱۱- اگر x و y دو متغیر تصادفی مستقل از هم باشند کوواریانس آن‌ها کدام است؟

۱ (۴) °/۲۵ (۳) °/۵ (۲) صفر (۱)

۱۲- اگر دیاگرام پراکنش زیر برای دو متغیر x و y به دست آمده باشد، چه رابطه‌ای بین x و y

وجود دارد؟



(۱) همبستگی آنها کامل و مستقیم است.

(۲) همبستگی ندارند.

(۳) همبستگی آنها کامل و معکوس است.

(۴) همبستگی آنها ناقص است.

۱۳- اگر ضریب همبستگی بین x و y مساوی °/۲۵ باشد، ضریب تعیین کدام است؟

°/۶۲۵ (۱) °/۵ (۲) °/۶۲۵ (۳) °/۲۵ (۴)

«آینده از آن کسانی است که برای آن، برنامه‌ریزی کرده باشند.»

فصل چهارم

سریهای زمانی

هدفهای رفتاری: در پایان این فصل، از فراگیر انتظار می‌رود:

- ۱- مفهوم سریهای زمانی و هدف از مطالعه آنها را توضیح دهد.
- ۲- سریهای زمانی را تعریف کرده، کاربرد آنها را در مسائل مالی توضیح دهد.
- ۳- عوامل مهم در سریهای زمانی را برشمرده، برای هر کدام تعریف مناسبی ارائه دهد.
- ۴- نمودار حرکات سریهای زمانی را رسم کند.
- ۵- خط گرایش را از روشهای چهارگانه: دست آزاد، میانگینهای مضاعف، میانگینهای متحرک و حداقل مربعات رسم کند.
- ۶- وضعیت آینده را با کمک خط روند، پیش‌بینی کند.
- ۷- منحنی سهمی گرایش را محاسبه و رسم کند.

مفهوم کلی سریهای زمانی^۱

واژه «سری» به معنای ردیف و کلمه «زمانی» به معنای نسبت داده شده به زمان می‌باشد و اصطلاح «سریهای زمانی» به معنای داده‌هایی است که با نظمی مشخص در طی زمان تغییر می‌کنند. به چند مثال توجه کنید:

– در دایره حسابداری یک شرکت، همه ماهه در موعد معینی از ماه، باید لیست حقوق ماه آینده کارکنان به صورت پیش‌نویس تهیه شود؛ در روز معینی از هر ماه، باید تغییرات احتمالی حقوق کارکنان (نظیر ترفیعات، بازنشستگی، اضافه‌کار، مرخصی، وامها، نوسانات مالیاتی و...) در لیست اعمال شود؛ در روزهای مشخصی از هر ماه، این لیست باید پاکنویس شده، برای تأمین اعتبار و تأیید و امضا به مسئولین امر ارائه شود و سرانجام در روزهای معینی حقوق کارکنان به بانک فرستاده شده، در حسابهای آنها ثبت شود.

– در شرکت‌های بازرگانی در برخی از ماههای سال، فروش کم و در بعضی از ماهها، فروش زیاد است. مثلاً شرکت‌های توزیع‌کننده لوازم التحریر در شهریورماه و مهرماه هر سال به دلیل گشایش مدارس، بیشترین فروش را دارند و در خردادماه به دلیل نزدیک شدن به انتهای سال تحصیلی، کمترین مشتریها را خواهند داشت.

– در کشاورزی در برخی از فصول، فعالیت بیشتر است و در بعضی از فصول فعالیت کمتر است.

– فروش نفت در آغاز زمستان و فروش یخ در تابستان افزایش پیدا می‌کند.

– در اوایل فصل تابستان، میوه نسبتاً گران است و بتدریج ارزان می‌شود، زیرا در آغاز تابستان، مقدار محصول کم است و در اواسط تابستان عرضه میوه زیاد می‌شود و مجدداً در اواخر تابستان که مقدار میوه‌های تابستانی کاهش پیدا می‌کند، قیمت آن رو به فزونی می‌گذارد.

– در کتابخانه یک دبیرستان یا یک دانشکده، در روزهای قبل از امتحانات، تعداد زیادتری از دانش‌آموزان یا دانشجویان برای امانت گرفتن کتاب مراجعه می‌کنند.

مثالهای بالا، همه از نوساناتی حکایت می‌کنند که در پدیده‌های مختلف اقتصادی، اجتماعی، فرهنگی و... در طول زمان و در فواصل مشخصی از ماه، فصل، سال و... رخ می‌نمایند. مطالعه و تجزیه و تحلیل این وقایع به صورت کلی ما را در درک اوضاع گذشته، ارزشیابی وضعیت حال و برنامه‌ریزی برای آینده، یاری خواهد کرد.

طبیعی است که هر تغییر که در یک پدیده به وجود می‌آید، می‌تواند تحت تأثیر عوامل مختلفی ایجاد شده باشد. مثلاً، وقتی قیمت یک کالای کشاورزی افزایش می‌یابد، باید عواملی نظیر: شرایط آب و هوا، قیمت کود و بذر، هزینه‌های آبیاری، سیستم توزیع، نحوه انبارداری و... را مورد بررسی قرار داد. شناخت و اندازه‌گیری تأثیرات این عوامل، هدف اصلی تجزیه و تحلیل سربهای زمانی است. در این فصل از کتاب، به روشهایی توجه خواهیم کرد که با کمک آنها خواهیم توانست با استفاده از تجارب گذشته، حوادث آینده را پیش‌بینی کنیم.

این مبحث، می‌تواند کمک مفیدی به سازمانهای مالی، صنعتی، اقتصادی و تجاری باشد. مثلاً یک متخصص امور مالی، با شناخت درآمد شرکتهای تجاری در سالهای آینده می‌تواند سطح درآمد مالیاتی دولت را در آن سالها پیش‌بینی کند و یا مدیر یک فروشگاه بزرگ با استفاده از سریهای زمانی، متوجه خواهد شد که چه موقع از سال و با چه مقیاسی باید کالا سفارش دهد تا بموقع بتواند تقاضای بازار را پاسخگو باشد.

تعریف سریهای زمانی

با توجه به توضیحات بالا، می‌توان گفت؛ رخدادهای متوالی و منظم یک پدیده را در طول یک دوره معین از زمان «سری زمانی» گویند.

عوامل مهم در سریهای زمانی

آمارشناسان تغییرات ایجاد شده در سریهای زمانی را ناشی از چهار عامل زیر می‌دانند:

گرایشهای دراز مدت (روند)^۱

گرایشهای دراز مدت، به آن دسته از عوامل گویند که در تمام طول دوره فعالیت یک سری زمانی، به صورت منظم و پیوسته وجود دارد و باید مورد بررسی قرار گیرد. مانند تغییرات ایجاد شده در رشد جمعیت و یا مانند پیشرفتهای تکنولوژیکی یک جامعه.

تغییرات فصلی^۲

تغییراتی را که به طور منظم و متوالی در فواصلی از یک سال اتفاق می‌افتند، «تغییرات فصلی» گویند. توجه دارید که اصطلاح «فصلی» همیشه نشانه‌ای از یک فصل شامل سه ماه نیست و گاهی برای هر نوع تغییر در دوره کوتاه یا بلندی از یک سال، به کار برده می‌شود. مثل: فصل آغاز مدارس،

فصل امتحانات، فصل تنظیم ترازنامه شرکتها، فصل سرما. (که می‌تواند در برخی از مناطق بیش از سه ماه و در بعضی از جاها کمتر از سه ماه باشد).

تغییرات ادواری^۱ (دوره‌ای)

تغییراتی را که نشاندهندهٔ افزایش و کاهش متناوب یک فعالیت تجاری - اقتصادی به‌طور مداوم، مرتب و منظم باشند، «تغییرات ادواری» گویند. این تغییرات را در فعالیت‌های بازرگانی «سیکلهای تجاری» نیز می‌نامند. بررسی دوره‌هایی نظیر دورهٔ بهبود، دورهٔ رونق، دورهٔ بحران و دورهٔ کساد و رکود در اقتصاد از این گونه هستند.

تغییرات ناگهانی^۲ (بی‌قاعده - تصادفی - نامنظم)

تغییرات ناگهانی، تغییراتی هستند که به صورتی کاملاً تصادفی و غیر منتظره اتفاق می‌افتند. به همین دلیل، این عامل از عوامل سربهای زمانی غالباً به‌طور دقیق قابل پیش‌بینی نیست. تغییرات ناگهانی، می‌توانند ناشی از رفتار انسان باشند، مانند جنگ، اعتصاب و... و یا منشأ طبیعی (غیر انسانی) داشته باشند. نظیر سیل، زلزله، توفان و مواردی از این قبیل. غالباً در بررسی عوامل سربهای زمانی، آن دسته را که نمی‌توان در گرایشهای دراز مدت، تغییرات فصلی و تغییرات ادواری طبقه‌بندی کرد، جزء تغییرات ناگهانی به حساب می‌آورند و به همین دلیل، گروهی از آمارشناسان به این دسته از عوامل «تغییرات پس‌ماند» نام داده‌اند.

به این ترتیب، هر سری زمانی می‌تواند حاصل جمع جبری چهار عامل فوق‌الذکر باشد، که اگر جزء گرایشهای دراز مدت را با علامت «T»، جزء تغییرات فصلی را با علامت «S»، جزء تغییرات ادواری را با علامت «C» و جزء تغییرات ناگهانی را با علامت «I» نشان دهیم، می‌توان هر مشاهده از سری زمانی مانند y را، به صورت زیر بیان کرد:

$$y = T + S + C + I \quad (\text{فرمول ۱})$$

این مدل را «مدل حاصل جمع» می‌نامند. مدل دیگری نیز به نام «مدل حاصل ضرب» وجود دارد که دقیق‌تر است و به شکل $y = T.S.C.I$ نوشته می‌شود.


در این کتاب، از مدل حاصل جمع استفاده می‌کنیم. هدف از بررسی سربهای زمانی، جدا کردن هر یک از چهار عامل بالا در یک سری زمانی و اندازه‌گیری میزان تأثیر آن عامل در کل مقدار سری

زمانی (y) است. مثلاً وقتی در دراز مدّت، قیمت یک کالا افزایش پیدا می‌کند، باید بررسی کرد که این افزایش (تغییر) به چه نسبت‌هایی مربوط به S ، T ، C و I بوده است. چون در بین چهار عامل بالا، گرایشهای دراز مدّت یک عامل اصلی و سرنوشت‌ساز است، در این کتاب به منظور کوتاه کردن مطلب، این عامل را بیشتر مورد بحث و بررسی قرار داده‌ایم.

نمودار حرکات سریهای زمانی

برای رسم حرکات زمانی، می‌توانید از اصولی استفاده کنید که در رسم نمودارهای آماری با آنها آشنا می‌باشید. برای این منظور، کافی است عامل زمان را روی محور افقی و اندازه‌های متغیر مورد بررسی را روی محور عمودی محورهای مختصات قرار داده، پس از نقطه‌یابی، از اتصال نقاط، نمودار حرکات سریهای زمانی را بسازید.

در نمودار ۱، یک مدل کلی از سه نوع عامل گرایشهای دراز مدّت، تغییرات ادواری و تغییرات فصلی را مشاهده می‌کنید. گرایشهای دراز مدّت به وسیله خطی مستقیم، تغییرات ادواری با خطی انحنایی و تغییرات فصلی با پاره‌خطهایی که نقاط را به هم وصل کرده‌اند، مشخص شده‌اند.



نمودار ۱

تذکره: در نمودار ۱، عامل تغییرات ناگهانی منظور نشده است. زیرا این حرکات، قابل پیش‌بینی نیست و یا پیش‌بینی آنها، بسیار مشکل است و به همین دلیل، غالباً مورد اندازه‌گیری قرار نمی‌گیرند.

روشهای رسم خط روند (خط گرایش دراز مدت)

برای رسم خطی مستقیم روی نمودار حرکات سربهای زمانی، چهار روش معمول است:

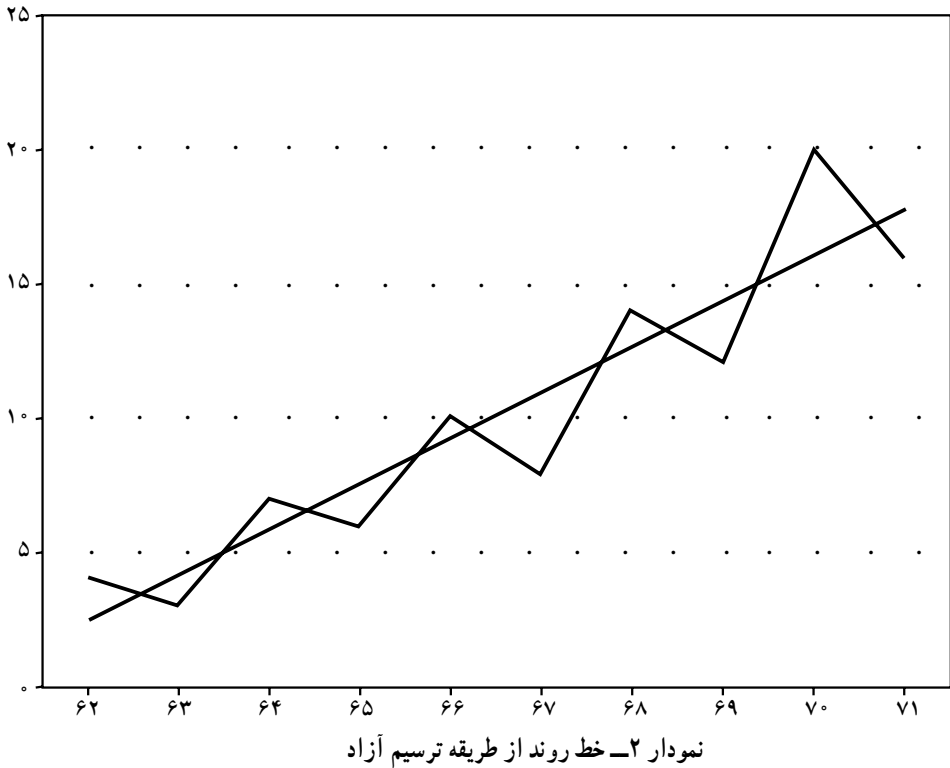
روش ترسیم آزاد (دست آزاد)

در این روش، ابتدا نمودار حرکات سربهای زمانی را رسم می‌کنند. سپس به طور تقریبی، یک خط مستقیم روی نمودار به گونه‌ای رسم می‌نمایند که خط مذکور شیب کلی حرکات نمودار را از جهت صعودی بودن، نزولی بودن، افقی بودن یا عمودی بودن نشان دهد. این روش از دقت چندانی برخوردار نیست و تحت تأثیر رسم‌کننده قرار می‌گیرد، اما روش بسیار ساده‌ایست.

مثال ۱- در جدول زیر، فروش یک فروشگاه را در ده سال متوالی مشاهده می‌کنید. ابتدا نمودار حرکات فروش را رسم کنید. سپس خط گرایش را از طریق دست‌آزاد، روی آن برآزنده کنید.

جدول ۱

سالها	۱۳۷۲	۱۳۷۳	۱۳۷۴	۱۳۷۵	۱۳۷۶	۱۳۷۷	۱۳۷۸	۱۳۷۹	۱۳۸۰	۱۳۸۱
فروش	۴	۳	۷	۶	۱۰	۸	۱۴	۱۲	۲۰	۱۶



روش میانگینهای مضاعف

در این روش، پس از رسم نمودار حرکات سریهای زمانی، مقادیر سری زمانی (y_i) را به دو بخش مساوی تقسیم کرده، میانگین هر بخش را روی زمان متناظرش نقطه‌یابی می‌کنیم، سپس نقاط حاصل را به هم وصل کرده، خط گرایش را به وجود می‌آوریم.

اگر تعداد داده‌ها (y_i) فرد باشد، عدد وسطی (مربوط به زمان وسطی) را یک‌بار با گروه قبلی و یک‌بار با گروه بعدی در نظر می‌گیریم.

مثال ۲- اگر تولید یک کارخانه در ۶ سال متوالی، طبق جدول ۲ باشد، پس از رسم نمودار حرکات تولید، خط گرایش را روی نمودار از طریق میانگینهای مضاعف برازنده نماییم.

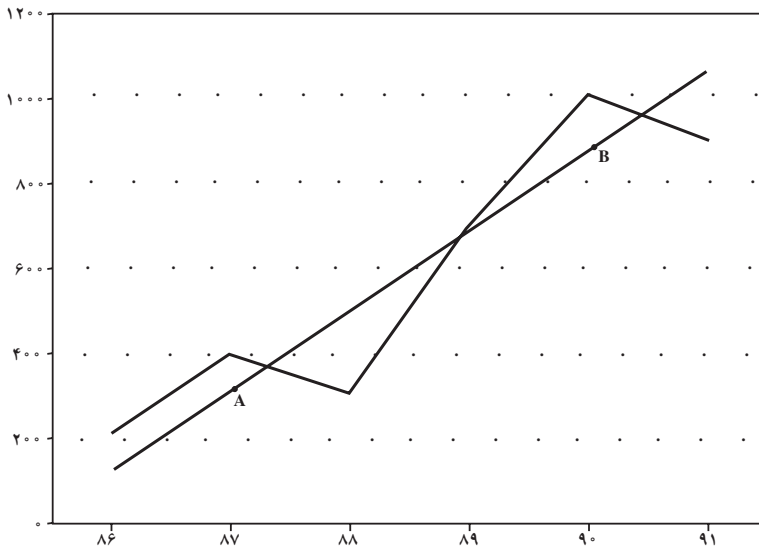
جدول ۲

سالها	۱۹۸۶	۱۹۸۷	۱۹۸۸	۱۹۸۹	۱۹۹۰	۱۹۹۱
مقدار تولید	۲۰۰	۴۰۰	۳۰۰	۷۰۰	۱۰۰۰	۹۰۰

ابتدا میانگینهای مضاعف را طبق جدول ۳ مشخص می‌کنیم. آنگاه، نمودار تولید را رسم کرده، خط‌گرایش را با داشتن دو نقطه میانگینهای مضاعف روی نمودار، برازنده خواهیم کرد.

جدول ۳

سالها	تولید = y_i	مجموع هربخش	میانگینهای مضاعف	نقطه میانگین
۱۹۸۶	۲۰۰			
۱۹۸۷	۴۰۰	۹۰۰	$۹۰۰ \cdot ۳ = ۳۰۰$	A
۱۹۸۸	۳۰۰			
۱۹۸۹	۷۰۰			
۱۹۹۰	۱۰۰۰	۲۶۰۰	$۲۶۰۰ \cdot ۳ \approx ۸۶۷$	B
۱۹۹۱	۹۰۰			



نمودار ۳ - خط روند از طریق میانگینهای مضاعف

روش میانگینهای متحرک

در این روش، میانگینهای متحرک K دوره‌ای (مثلاً سه ساله) را به این شکل محاسبه می‌کنند: ابتدا از اولین K داده سری زمانی میانگین می‌گیرند، سپس اولین داده را حذف کرده، داده بعدی را طوری به داده‌ها اضافه می‌کنند که K ثابت بماند و مجدداً میانگین را محاسبه می‌کنند. (مثلاً اگر $K = ۳$ باشد،

یعنی میانگینهای متحرک را سه ساله محاسبه کنند، ابتدا میانگین مقادیر مربوط به سالهای اول، دوم و سوم را محاسبه می‌نمایند و سپس میانگین مقادیر مربوط به سالهای دوم، سوم و چهارم را. بعد از آن میانگین مقادیر مربوط به سالهای سوم، چهارم و پنجم را محاسبه خواهند کرد و... این کار را آنقدر ادامه می‌دهند تا آخرین داده، در آخرین گروه K دوره‌ای قرار گیرد، میانگینهای حاصل را میانگینهای متحرک گویند که تعداد آنها را می‌توان از رابطه $(n - K + 1)$ به دست آورد. n (تعداد مقادیر سری زمانی است). پس از محاسبه میانگینهای متحرک آنها را در مقابل وسط دوره زمانی که برای آن دوره محاسبه شده‌اند، قرار می‌دهیم. مشاهده خواهیم کرد که این میانگینها نسبت به مقادیر اصلی سری زمانی، از نوسانات کمتری برخوردار هستند و تمایل دارند که سری زمانی را هموار کنند. غالباً برای بررسی اثرات روند بلند مدت، از میانگینهای سه ساله یا پنج ساله یا هفت ساله یا... استفاده می‌کنند و اگر سری زمانی مربوط به فصول مختلف چند سال متوالی باشد، بهتر است از میانگینهای متحرک چهار فصلی استفاده شود و چنانچه داده‌های سری زمانی در ارتباط با ماههای مختلف چند سال متوالی باشد، مفیدتر خواهد بود که از میانگینهای متحرک دوازده ماهه استفاده کنیم.

مثال ۳- در جدول ۴ تولید یک کارخانه را در هشت سال متوالی مشاهده می‌کنید. ابتدا نمودار حرکات سریهای زمانی را رسم کنید. سپس خط روند را از روش میانگینهای متحرک سه ساله، روی نمودار حرکات بگنجانید.

جدول ۴

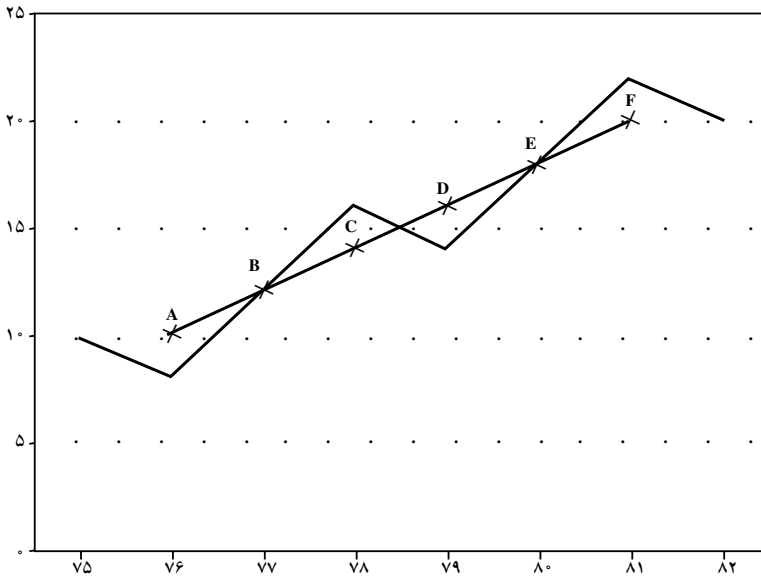
سالها	۱۳۷۵	۱۳۷۶	۱۳۷۷	۱۳۷۸	۱۳۷۹	۱۳۸۰	۱۳۸۱	۱۳۸۲
$y_i =$ مقدار تولید	۱۰	۸	۱۲	۱۶	۱۴	۱۸	۲۲	۲۰

ابتدا میانگینهای متحرک سه ساله را در جدول ۵ محاسبه می‌کنیم.

جدول ۵

سالها	۷۵	۷۶	۷۷	۷۸	۷۹	۸۰	۸۱	۸۲
y_i	۱۰	۸	۱۲	۱۶	۱۴	۱۸	۲۲	۲۰
مجموع سه ساله متحرک	-	۳۰	۳۶	۴۲	۴۸	۵۴	۶۰	-
میانگینهای متحرک	-	۱۰	۱۲	۱۴	۱۶	۱۸	۲۰	-
نقاط	-	A	B	C	D	E	F	-

و آنگاه به رسم نمودار و خط روند می‌پردازیم :



نمودار ۴ - خط روند از طریق میانگینهای متحرک

مثال ۴ - فروش یک فروشگاه را در فصول مختلف سه سال متوالی، در جدول ۶ در اختیار

دارید، مطلوب است :

الف) محاسبه میانگینهای متحرک چهار فصلی

ب) تعدیل مقدار فروش از نظر نوسانات فصلی

ج) رسم نمودار حرکات سری زمانی (فروش) و نمودار مقادیر تعدیل شده فروش بر روی یک

دستگاه محورهای مختصات

جدول ۶

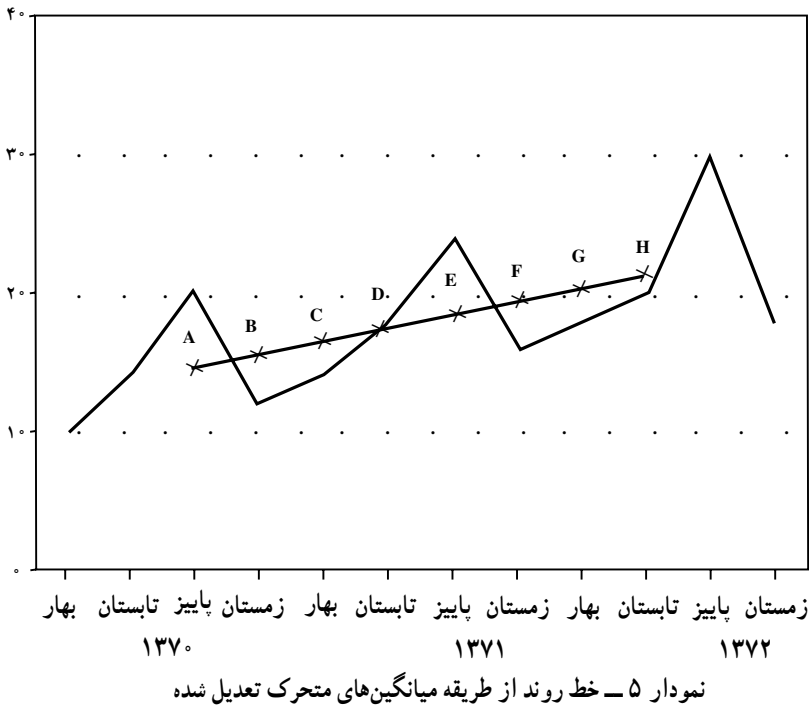
سالها	فصول			
	بهار	تابستان	پاییز	زمستان
۱۳۷۰	۱۰	۱۴	۲۰	۱۲
۱۳۷۱	۱۴	۱۸	۲۴	۱۶
۱۳۷۲	۱۸	۲۰	۳۰	۱۸

ابتدا، مقادیر فروش مربوط به اولین چهار فصل ۷۰ را جمع کرده، میانگین آنها را محاسبه می‌کنیم. آنگاه مقادیر مربوط به تابستان، پاییز و زمستان ۷۰ و بهار ۷۱ را جمع کرده، میانگین آنها را معلوم می‌کنیم. در مرحله بعد، مقادیر مربوط به پاییز و زمستان سال ۷۰ و بهار و تابستان سال ۷۱ را جمع کرده و میانگین آنها را معلوم می‌کنیم. این عمل را تا آنجا ادامه می‌دهیم که مقادیر فروش (y_i) چهار فصل مربوط به سال ۷۲ را جمع کرده، میانگین آنها را محاسبه کنیم. (به جدول ۷ نگاه کنید.) در این مثال چون مجموعهای متحرک چهار فصلی دقیقاً مقابل زمانهای مشخص قرار نمی‌گیرند، یک بار دیگر مجموعهای متحرک ۲ دوره‌ای را محاسبه می‌کنیم، تا میانگینها درست متناظر با زمانهای جدول فروش باشند. به همین دلیل، برای محاسبه میانگینها، مقسوم علیه ۸ منظور شده است. (مثلاً عدد ۱۱۶ مجموع ۸ عدد است.)

جدول ۷

سالها	فصول	فروش $y_i =$	مجموعهای متحرک چهار فصل	دومین مجموعهای متحرک	میانگینهای متحرک (T_i)	نقاط میانگین
۱۳۷۰	بهار	۱۰	۵۶ ۶۰ ۶۴ ۶۸ ۷۲ ۷۶ ۷۸ ۸۴ ۸۶			
۱۳۷۰	تابستان	۱۴				
۱۳۷۰	پاییز	۲۰		۱۱۶	$۱۱۶ / ۸ = ۱۴ / ۵$	A
۱۳۷۰	زمستان	۱۲		۱۲۴	$۱۲۴ / ۸ = ۱۵ / ۵$	B
۱۳۷۱	بهار	۱۴		۱۳۲	$۱۳۲ / ۸ = ۱۶ / ۵$	C
۱۳۷۱	تابستان	۱۸		۱۴۰	$۱۴۰ / ۸ = ۱۷ / ۵$	D
۱۳۷۱	پاییز	۲۴		۱۴۸	$۱۴۸ / ۸ = ۱۸ / ۵$	E
۱۳۷۱	زمستان	۱۶		۱۵۴	$۱۵۴ / ۸ = ۱۹ / ۲۵$	F
۱۳۷۲	بهار	۱۸		۱۶۲	$۱۶۲ / ۸ = ۲۰ / ۲۵$	G
۱۳۷۲	تابستان	۲۰		۱۷۰	$۱۷۰ / ۸ = ۲۱ / ۲۵$	H
۱۳۷۲	پاییز	۳۰				
۱۳۷۲	زمستان	۱۸				

اکنون ابتدا نمودار حرکات سری زمانی را رسم می‌کنیم، آنگاه نقاط میانگینهای متحرک را روی محورهای مختصات مشخص کرده، به هم وصل می‌کنیم. در نمودار ۵ مشاهده می‌کنید که نوسانات میانگینهای متحرک به مراتب آرامتر از نوسانات اندازه‌های اصلی (y_i) است.



روش کمترین مربعات

دقیق‌ترین روش به دست آوردن خط روند بلند مدت، استفاده از روش رگرسیونی است که در فصل قبل با معادله آن آشنا شده‌اید. شکل کلی معادله به صورت $y = ax + b$ بود. در این روش، خط گرایش را با استفاده از تابع خطی رسم می‌کنیم.

همانگونه که در خط رگرسیون در فصل قبل دیدید:

$$y = ax + b$$

$$a = \frac{SP_{xy}}{SS_x} = \frac{\sum x_i y_i \cdot \frac{(\sum x_i)(\sum y_i)}{n}}{\sum x_i^2 \cdot \frac{(\sum x_i)^2}{n}}$$

$$b = \bar{y} - a\bar{x}$$

اگر تمام عوامل صورت و مخرج کسر بالا را در n ضرب کنیم، خواهیم داشت :

$$a = \frac{n \cdot \sum x_i y_i - \sum x_i \cdot \sum y_i}{n \cdot \sum x_i^2 - (\sum x_i)^2}, \quad b = \bar{y} - a\bar{x} \quad (\text{فرمول ۲})$$

در روابط بالا :

n = تعداد عوامل سری زمانی (سالها، ماهها و...) می باشد.

y_i = مقادیر تعدیل شده سری زمانی است.

a = ضریب تغییر سری زمانی است که تندی شیب خط را نشان می دهد. (ضریب زاویه خط).

b = میانگین مقدار سری زمانی است که ارتفاع خط روند را در سال وسطی (یا به طور کلی در

زمان وسطی) مشخص می کند.

x_i = بیانگر زمان است که نقش متغیر مستقل را به عهده دارد. برای تعیین اعداد x در سالهای

مختلف به ترتیب اعداد، ۰، ۱، ۲ و ... را در نظر می گیریم (مثال ۷).

اما چنانچه بتوانیم مقادیر x_i را با تغییر مبدأ از زمان آغاز بررسی سری زمانی به زمان وسط،

به گونه ای تنظیم کنیم که $x_i = 0$. بشود (که این مطلب را در چند سطر بعد بیشتر توضیح خواهیم

داد.) در آن صورت فرمولهای بالا به شکل زیر خلاصه خواهند شد :

$$a = \frac{\sum x_i y_i}{\sum x_i^2}, \quad b = \bar{y} \quad (\text{فرمول ۳})$$

و برای اینکه مجموع اندازه های x (یعنی $\sum x_i$. مساوی صفر بشود، کافی است، هرگاه تعداد سالها

فرد باشد، مقابل سال وسطی صفر منظور کرده، سالهای قبل از آن را به ترتیب، -۱، -۲، -۳ و ...

و سالهای بعد از آن به ترتیب +۱، +۲، +۳ و ... قرار دهیم و هرگاه تعداد سالها زوج باشد، دو سال

وسطی را در نظر گرفته، مقابل سال بالاتری -۱ و مقابل سال پایین تری +۱ را برای x اختصاص داده،

اعداد -۳، -۵، -۷ و ... را قبل از -۱ و اعداد +۳، +۵، +۷ و ... را بعد از +۱ در نظر می گیریم

و به این ترتیب، هرگاه تعداد سالها زوج باشد، x تعداد دوره های تناوب شش ماهه را قبل و بعد از زمان

وسطی نشان می دهد.

مثال ۵— مقدار تولید یک کارخانه را در هفت سال متوالی در جدول ۸ مشاهده می کنید.

نمودار حرکات سری زمانی را رسم کرده، خط روند را روی نمودار حرکات از طریق کمترین مربعات

بگنجانید.

جدول ۸

سالها	۱۳۷۶	۱۳۷۷	۱۳۷۸	۱۳۷۹	۱۳۸۰	۱۳۸۱	۱۳۸۲
مقدار تولید y_i	۱۲۰	۱۵۰	۱۴۰	۱۷۰	۱۶۰	۲۰۰	۱۱۰

ابتدا در جدول ۹، محاسبات لازم را برای تعیین a و b انجام می‌دهیم.

جدول ۹

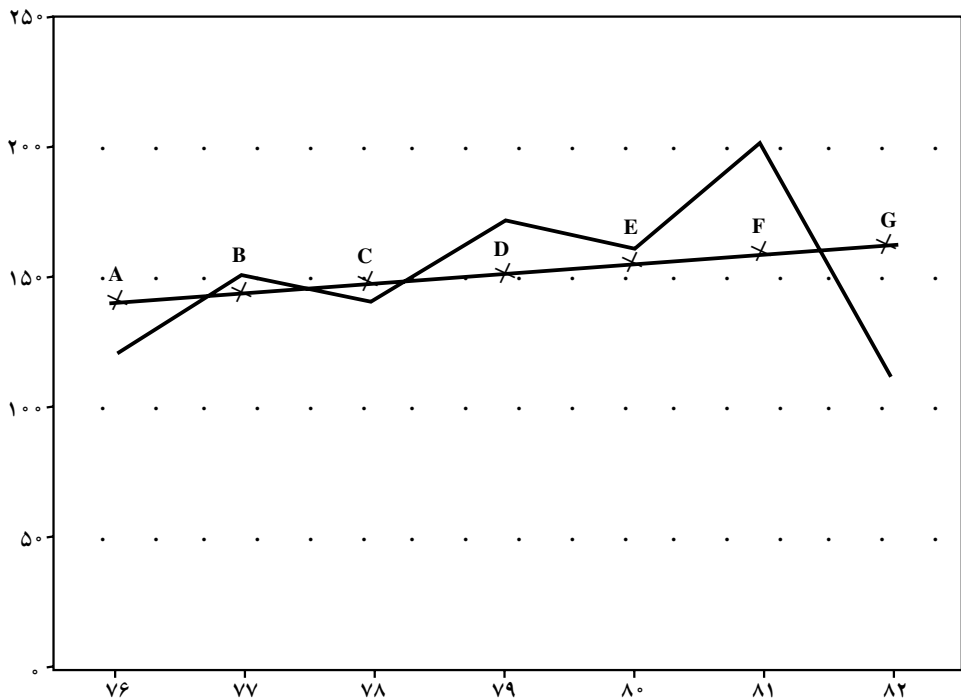
سالها	y_i	x_i	$x_i y_i$	x_i^2	مقادیر تعدیل شده سری زمانی $y_0 =$	نقاط
۷۶	۱۲۰	-۳	-۳۶۰	۹	$y_{(۶۶)} = ۳/۲(-۳) + ۱۵۰ = ۱۴۰/۴$	A
۷۷	۱۵۰	-۲	-۳۰۰	۴	$y_{(۶۷)} = ۳/۲(-۲) + ۱۵۰ = ۱۴۳/۶$	B
۷۸	۱۴۰	-۱	-۱۴۰	۱	$y_{(۶۸)} = ۳/۲(-۱) + ۱۵۰ = ۱۴۶/۸$	C
۷۹	۱۷۰	۰	۰	۰	$y_{(۶۹)} = ۳/۲(۰) + ۱۵۰ = ۱۵۰$	D
۸۰	۱۶۰	+۱	۱۶۰	۱	$y_{(۷۰)} = ۳/۲(+۱) + ۱۵۰ = ۱۵۳/۲$	E
۸۱	۲۰۰	+۲	۴۰۰	۴	$y_{(۷۱)} = ۳/۲(+۲) + ۱۵۰ = ۱۵۶/۴$	F
۸۲	۱۱۰	+۳	۳۳۰	۹	$y_{(۷۲)} = ۳/۲(+۳) + ۱۵۰ = ۱۵۹/۶$	G
	۱۰۵۰		= . ۹۰	= . ۲۸		

$$a = \frac{\sum x_i y_i}{\sum x_i^2} = \frac{۹۰}{۲۸} = ۳/۲۱ \approx ۳/۲$$

$$b = \bar{y} = \frac{۱۰۵۰}{۷} = ۱۵۰$$

$$y_0 = ۳/۲x + ۱۵۰$$

اکنون با کمک معادلهٔ اخیر، مقادیر فروش (y_i) را تعدیل می‌کنیم. برای این مقصود، کافی است برای هر سال در معادله به جای x مقدار x آن سال را قرار دهیم. برای سهولت کار می‌توانید فقط مقادیر تعدیل شدهٔ اولین سال و آخرین سال را به دست آورده، خط را رسم کنید.



نمودار ۶

مثال ۶- فرض کنید مقدار ضایعات تولید یک کارخانه را در ده سال متوالی، طبق جدول ۱۰ در اختیار دارید. خط روند را روی منحنی نوسانات، از طریق کمترین مجذورات برازنده کنید:

جدول ۱۰

سال	۱۳۷۳	۷۴	۷۵	۷۶	۷۷	۷۸	۷۹	۸۰	۸۱	۸۲
ضایعات	۲۰	۲۲	۱۶	۱۴	۱۸	۱۲	۱۰	۶	۸	۴

ابتدا در جدول ۱۱، عملیات لازم را برای تعدیل کردن مقادیر انجام می‌دهیم. سپس منحنی حرکات و خط روند را رسم می‌کنیم.

جدول ۱۱

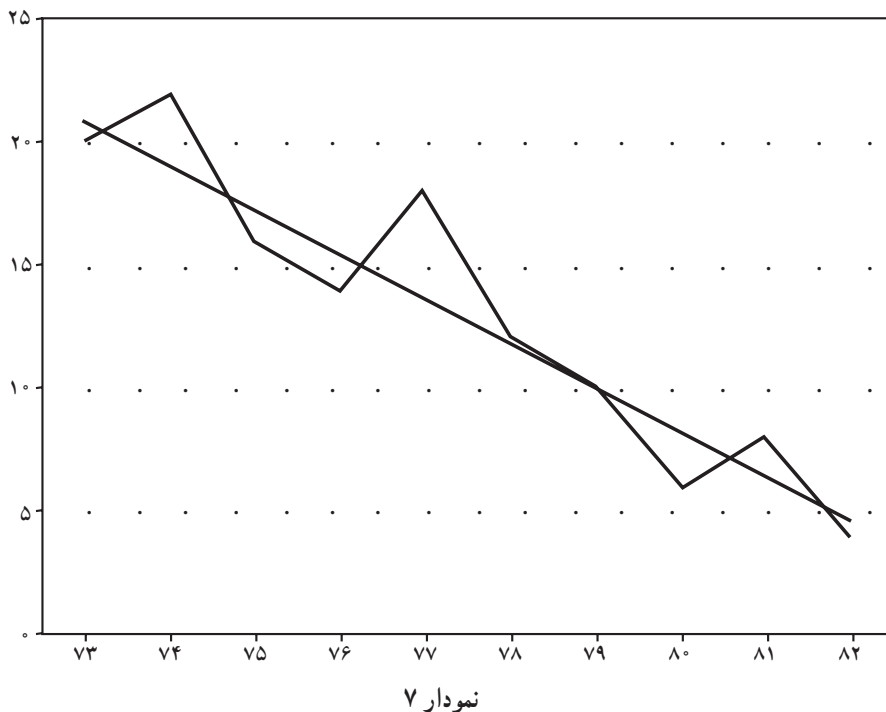
سالها	y_i	x_i	x_i^2	$x_i y_i$	مقادیر تعدیل شده ضایعات $y.$	نقاط
۷۳	۲۰	. ۹	۸۱	. ۱۸۰	$y_{(۷۳)} = . ۰/۹۳(. ۹)+۱۳=۲۱/۳۷$	A
۷۴	۲۲	. ۷	۴۹	. ۱۵۴		
۷۵	۱۶	. ۵	۲۵	. ۸۰		
۷۶	۱۴	. ۳	۹	. ۴۲		
۷۷	۱۸	. ۱	۱	. ۱۸		
۷۸	۱۲	+۱	۱	+۱۲		
۷۹	۱۰	+۳	۹	+۳۰		
۸۰	۶	+۵	۲۵	+۳۰		
۸۱	۸	+۷	۴۹	+۵۶		
۸۲	۴	+۹	۸۱	+۳۶		
	۱۳۰		۳۳۰	. ۳۱۰		

$$a = \frac{\sum x_i y_i}{\sum x_i^2} = \frac{. ۳۱۰}{۳۳۰} = . ۰/۹۳$$

$$b = \frac{\sum y_i}{N} = \frac{۱۳۰}{۱۰} = ۱۳$$

$$y. = . ۰/۹۳x + ۱۳$$

تذکره: توجه دارید که در این مثال، که تعداد سالها زوج است، در ستون x_i عدد صفر متناظر با زمان معینی نیست. بنابراین x تعداد دوره‌های شش ماهه را نشان می‌دهد.



پیش‌بینی مقادیر سریهای زمانی

برای پیش‌بینی مقادیر یک سری زمانی، دقیق‌ترین روش، استفاده از معادله خط رگرسیون بلندمدت است. خطی که با کمک معادله $y' = ax + b$ و با ضرایب a و b به صورت زیر تعیین می‌شود:

$$a = \frac{n \cdot \sum x_i y_i - \sum x_i \cdot \sum y_i}{n \cdot \sum x_i^2 - (\sum x_i)^2}$$

$$b = \bar{y} - a\bar{x}$$

بعد از تعیین معادله رگرسیونی، از مدل $y = T + S + C + I$ و حذف عامل تغییرات ناگهانی (I) به صورت $y = T + S + C$ استفاده می‌کنیم. (حذف I به این دلیل است که پیش‌بینی تغییرات ناگهانی برایمان مقدور نیست.)

مثال ۷- در مثال ۴ (که قبلاً حل کرده‌ایم) معادله خط رگرسیونی را تنظیم کنید و با ثابت فرض کردن تغییرات ناگهانی و دوره‌های تجاری، مقدار پیش‌بینی فروش را برای بهار و تابستان سال ۱۳۷۳ برآورد کنید.

ابتدا جدول فروش را مجدداً در نظر می‌گیریم :

جدول ۱۲

فصول سالها	بهار	تابستان	پاییز	زمستان
۱۳۷۰	۱۰	۱۴	۲۰	۱۲
۱۳۷۱	۱۴	۱۸	۲۴	۱۶
۱۳۷۲	۱۸	۲۰	۳۰	۱۸

اکنون در جدول ۱۳ محاسبات a و b و معادله رگرسیونی را انجام می‌دهیم.

جدول ۱۳

سال	فصل	y_i	x_i	x_i^2	$x_i y_i$	
۷۰	بهار	۱۰	۰	۰	۰	
۷۰	تابستان	۱۴	۱	۱	۱۴	$a = \frac{n \cdot \sum xy - \sum x \cdot \sum y}{n \cdot \sum x^2 - (\sum x)^2} =$
۷۰	پاییز	۲۰	۲	۴	۴۰	
۷۰	زمستان	۱۲	۳	۹	۳۶	$\frac{(12 \times 1314) - (66 \times 214)}{(12 \times 506) - (66)^2} = 0/96$
۷۱	بهار	۱۴	۴	۱۶	۵۶	
۷۱	تابستان	۱۸	۵	۲۵	۹۰	$b = \bar{y} - a\bar{x} = 17/83 - (0/96) \times \frac{66}{12}$
۷۱	پاییز	۲۴	۶	۳۶	۱۴۴	
۷۱	زمستان	۱۶	۷	۴۹	۱۱۲	$b = 12/55$
۷۲	بهار	۱۸	۸	۶۴	۱۴۴	معادله خط رگرسیون $y = 0/96x + 12/55$
۷۲	تابستان	۲۰	۹	۸۱	۱۸۰	
۷۲	پاییز	۳۰	۱۰	۱۰۰	۳۰۰	
۷۲	زمستان	۱۸	۱۱	۱۲۱	۱۹۸	
		۲۱۴	۶۶	۵۰۶	۱۳۱۴	

اکنون با کمک معادله خط روند $(y_0 = 0/96x + 12/55)$ مقادیر مربوط به روند بلند مدت را به شکلی که در جدول زیر نشان داده‌ایم معلوم می‌کنیم.

جدول ۱۴

سال	فصل	y_i	x_i	$T = \text{روند بلند مدت} = y_0$
۷۰	بهار	۱۰	۰	$y_0 = 0/96(0) + 12/55 = 12/55$
۷۰	تابستان	۱۴	۱	$y_0 = 0/96(1) + 12/55 = 13/51$
۷۰	پاییز	۲۰	۲	$y_0 = 0/96(2) + 12/55 = 14/47$
۷۰	زمستان	۱۲	۳	$= 15/43$
۷۱	بهار	۱۴	۴	$16/39$
۷۱	تابستان	۱۸	۵	$17/35$
۷۱	پاییز	۲۴	۶	$18/31$
۷۱	زمستان	۱۶	۷	$19/27$
۷۲	بهار	۱۸	۸	$20/23$
۷۲	تابستان	۲۰	۹	$21/19$
۷۲	پاییز	۳۰	۱۰	$22/15$
۷۲	زمستان	۱۸	۱۱	$y_0 = 0/96(11) + 12/55 = 23/11$
		۲۱۴	۶۶	

حالا با کمک مدل کلی سری زمانی یعنی :

$$y = T + C + S + I$$

و بعد از حذف I یعنی تغییرات ناگهانی، (به دلیل این که پیش‌بینی تغییرات ناگهانی یا بسیار مشکل و یا غیرممکن است.) به صورت $y_i = T + C + S$ تأثیر نوسانات فصلی را برای فصول مختلف معلوم می‌کنیم. برای این کار اختلاف هر یک از مقادیر اولیه (y_i) را با مقدار روند بلند مدت تعدیل شده (T_i) به دست آورده (جدول ۱۵)، برای هر فصل میانگین تأثیرات را محاسبه می‌کنیم (جدول ۱۶).

۱- از رابطه $y_i = T + C + S$ رابطه $T = C + S$ نتیجه خواهد شد.

جدول ۱۵

y_i	T_i	$y_i - T_i$
۱۰	۱۲/۵۵	-۲/۵۵
۱۴	۱۳/۵۱	۰/۴۹
۲۰	۱۴/۴۷	۵/۵۳
۱۲	۱۵/۴۳	-۳/۴۳
۱۴	۱۶/۳۹	-۲/۳۹
۱۸	۱۷/۳۵	۰/۶۵
۲۴	۱۸/۳۱	۵/۶۹
۱۶	۱۹/۲۷	-۳/۲۷
۱۸	۲۰/۲۳	-۲/۲۳
۲۰	۲۱/۱۹	-۱/۱۹
۳۰	۲۲/۱۵	۷/۸۵
۱۸	۲۳/۱۱	-۵/۱۱

جدول ۱۶

سالها / فصول	۱۳۷۰	۱۳۷۱	۱۳۷۲	مجموع تغییرات فصول	میانگین تغییرات فصول
بهار	-۲/۵۵	-۲/۳۹	-۲/۲۳	-۷/۱۷	-۲/۳۹
تابستان	۰/۴۹	۰/۶۵	-۱/۱۹	-۰/۰۵	-۰/۰۱۶۶
پاییز	۵/۵۳	۵/۶۹	۷/۸۵	۱۹/۰۷	+۶/۳۵۶۶
زمستان	-۳/۴۳	-۳/۲۷	-۵/۱۱	-۱۱/۸۱	-۳/۹۳۶۶

حالا اگر مقادیر x را در معادله $y = ۰/۹۶x + ۱۲/۵۵$ جایگذاری کنیم، مقادیر روند بلند مدت (T) حاصل می‌شوند. مثلاً برای تعیین مقدار روند بلند مدت در بهار ۱۳۷۳ و تابستان ۱۳۷۳ که مقدار x آنها به ترتیب ۱۲ و ۱۳ خواهد بود، خواهیم داشت:

$$\text{برآورد بلند مدت در بهار } ۷۳ \rightarrow ۰/۹۶(۱۲) + ۱۲/۵۵ = ۲۴/۰۷ = y. (\text{بهار } ۷۳)$$

$$\text{برآورد روند بلند مدت در تابستان } ۷۳ \rightarrow ۰/۹۶(۱۳) + ۱۲/۵۵ = ۲۵/۰۳ = y. (\text{تابستان } ۷۳)$$

حال، اگر مقدار نوسان فصلی مربوط به فصول بهار و تابستان ۷۳ را از جدول ۱۵ به مقدار روند بلند مدت اضافه کنیم، رقم پیش‌بینی فروش برای فصول بهار و تابستان ۱۳۷۳ معلوم خواهد شد.

برای مثال، در مورد بهار سال ۱۳۷۳ خواهیم داشت :

$$24/07 + (-2/39) = 21/68$$

و برای تابستان سال ۱۳۷۳ خواهیم داشت :

$$25/03 + (-0/0166) = 25/0134$$

تذکر مجدداً این مطلب لازم است که در این مثال، مقدار برآورد فروش را شامل تغییرات فصلی و روند دراز مدت در نظر گرفته‌ایم.

روش محاسبه و رسم منحنی سهمی گرایش

در سریهای زمانی ممکن است مشاهده شود که تغییرات سری زمانی غیر خطی است. در این موارد، چنانچه تغییرات نمودار از تابع درجه دوم تبعیت کند، شکل کلی تابع به صورت $y = ax^2 + bx + c$ خواهد بود. در این تابع، مقادیر a ، b و c را مقادیر ثابت و x و y را مقادیر متغیر می‌نامند. مقادیر b و c می‌توانند مثبت، منفی و یا صفر باشند و نمودار تابع درجه دوم تحت تأثیر این مقادیر، شکلهای مختلفی به خود می‌گیرد.

مثال ۸- فرض کنید تابع $y = x^2 - 6x + 8$ مربوط به تغییرات یک سری زمانی باشد. نمودار این تابع را رسم کرده، ویژگیهای آن را توضیح دهید.

حل: برای رسم نمودار تابع بالا، کافی است، مقادیر مختلفی به x نسبت داده، مقادیر متناظر y را از تابع به دست آوریم و روی محورهای مختصات، نقاط مذکور را معلوم کرده، به هم وصل کنیم.

x	0	1	2	3	4	5	6
y	8	3	0	-1	0	3	8

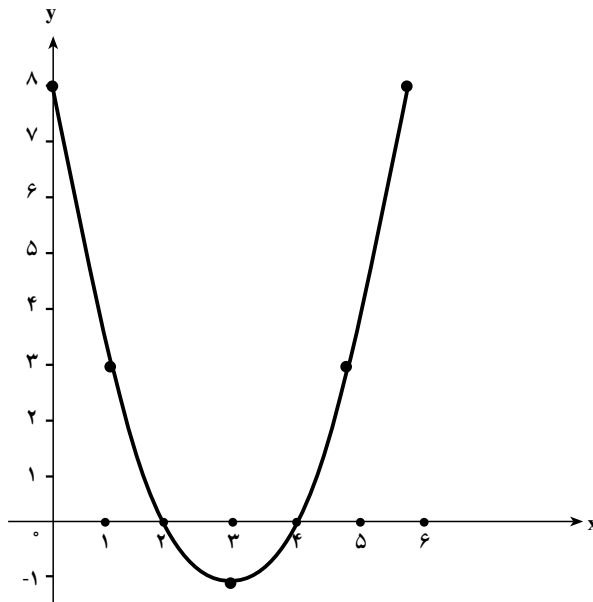
مشاهده می‌شود که این تابع محور عرضها را در یک نقطه قطع می‌کند که مقدار آن در تابع، معادل مقدار ثابت c می‌باشد و تغییر دادن این مقدار، موجب انتقال تابع به بالا یا پایین دستگاه

محورهای مختصات خواهد بود و این تابع با محور طولها در دو نقطه برخورد دارد، که این دو نقطه معادله را صفر می‌کنند. به این دو مقدار «ریشه‌های معادله» گفته می‌شود. معادله‌های درجه دو، دارای دو ریشه خواهند بود، مگر در موارد زیر:

۱- اگر تابع در پایین‌ترین نقطه خود با محور طولها مماس باشد، که در این صورت، فقط یک ریشه خواهد داشت.

۲- اگر نمودار، در بالای محور طولها واقع شود که ریشه نخواهد داشت.

اکنون به شکل منحنی تابع توجه کنید:



نمودار ۸

تمرینهای فصل چهارم

- ۱- مفهوم سریهای زمانی را توضیح دهید.
- ۲- سریهای زمانی را تعریف کنید و کاربرد آنها را در مسائل مالی توضیح دهید.
- ۳- عوامل را در سریهای زمانی نام برده، برای هر کدام تعریف مناسبی بیان کنید.
- ۴- چند روش برای رسم خط روند می‌شناسید؟ آنها را نام برده، نحوه رسم هر کدام را به‌طور کلی توضیح دهید.
- ۵- در جدول زیر، فروش یک فروشگاه را در ۱۲ ماه از یک سال مشاهده می‌کنید. نمودار حرکات سریهای زمانی را رسم کرده، خط روند را روی نمودار از طریق دست‌آزاد برازنده کنید.

ماهها	فروردین	اردیبهشت	خرداد	تیر	مرداد	شهریور	مهر	آبان	آذر	دی	بهمن	اسفند
$y_i =$ فروش	۸	۱۰	۲۰	۶	۴	۸	۱۲	۱۸	۳۰	۲۵	۳۵	۲۸

- ۶- مقدار تولید یک کارخانه را در فصول مختلف چهار سال متوالی در اختیار دارید. مطلوب است: اولاً، رسم نمودار حرکات فصلی. ثانیاً، رسم خط روند دراز مدت با استفاده از روش میانگینهای متحرک چهار فصلی.

سالها → فصول ↓	۱۳۸۳	۱۳۸۴	۱۳۸۵	۱۳۸۶
بهار	۱۰	۱۲	۱۹	۲۲
تابستان	۱۴	۱۶	۲۱	۲۵
پاییز	۱۲	۱۴	۱۸	۲۰
زمستان	۸	۱۰	۱۲	۱۶

- ۷- اگر صادرات یک کشور در ده سال متوالی، به‌صورت صفحه‌بعد باشد، نمودار حرکات سری زمانی را رسم کرده، خط روند دراز مدت را با کمک روشهای زیر روی نمودار حرکات سریهای زمانی برازنده کنید.

(الف) طریقۀ میانگینهای مضاعف (ب) طریقۀ میانگینهای متحرک سه ساله

ج) طریقه کمترین مجزورات

سالها	۱۹۸۰	۱۹۸۱	۱۹۸۲	۱۹۸۳	۱۹۸۴	۱۹۸۵	۱۹۸۶	۱۹۸۷	۱۹۸۸	۱۹۸۹
صادرات	۲۰۰	۱۸۰	۲۲۰	۲۶۰	۲۴۰	۲۵۰	۳۰۰	۲۸۰	۳۲۰	۲۶۰

۸- تعداد دانشجویان یک دانشگاه در طول پنج سال متوالی، طبق جدول زیر بوده است. خطّ روند دراز مدّت را از طریقه رگرسیونی رسم کنید و تعداد دانشجو را برای سه سال متوالی بعد از سال ۱۳۷۲ پیش‌بینی کنید.

سالها	۱۳۸۲	۱۳۸۳	۱۳۸۴	۱۳۸۵	۱۳۸۶
تعداد دانشجو	۱۵۰۰	۱۸۰۰	۱۶۰۰	۲۰۰۰	۲۲۰۰

۹- در جدول تمرین ۸ خطّ روند را از طریقه میانگینهای متحرک سه ساله، روی نمودار حرکات سریهای زمانی برازنده کنید.

۱۰- تعداد مشتریهای یک بانک را در ساعات مختلف پنج روزکاری، در جدول زیر در اختیار دارید. نمودار حرکات سری زمانی را رسم کرده، خطّ روند را از طریقه میانگینهای متحرک روی نمودار حرکات سری زمانی برازنده کنید.

روزها ساعت	شنبه	یکشنبه	دوشنبه	سه‌شنبه	چهارشنبه
۸	۲۰	۱۵	۱۲	۱۴	۱۸
۱۰	۱۴	۱۲	۱۰	۱۲	۲۰
۱۲	۱۰	۸	۶	۸	۸
۱۴	۶	۴	۴	۵	۱۰

----- تستهای چهار گزینه‌ای -----

۱- در معادله کمترین مربعات $y = ax + b$ مقدار a برابر است با :

(۱) $\frac{\cdot xy}{\cdot x^2}$ (۲) $\frac{\cdot x^2}{\cdot xy}$ (۳) $\frac{\cdot x}{\cdot xy}$ (۴) $\frac{\cdot xy}{\cdot x}$

۲- اگر تعداد سالهای مورد بررسی در سریهای زمانی ۹ باشد، در تعیین مقادیر x_i برای سال چهارم چه عددی را در نظر می‌گیرید تا x_i مساوی صفر شود؟

(۱) -۱ (۲) ۴ (۳) ۵ (۴) صفر

۳- کدام روش برای رسم خط روند، دقیقتر از سایر روشها است؟

(۱) دست آزاد (۲) میانگینهای مضاعف

(۳) میانگینهای متحرک (۴) کمترین مربعات

۴- کدام عامل از عوامل سریهای زمانی، غالباً قابل پیش‌بینی نیست؟

(۱) تغییرات فصلی (۲) تغییرات ناگهانی (۳) تغییرات دوره‌ای (۴) تغییرات دراز مدت

۵- برای اینکه در تعیین ضرایب a و b در معادله خط رگرسیون، $x_i = 0$ بشود، مقدار x را برای کدام سال صفر در نظر می‌گیرید؟ اگر تعداد سالها فرد باشد :

(۱) سال اول (۲) سال آخر

(۳) سال وسطی (۴) میانگین دو سال وسطی

۶- در تبدیل معادله رگرسیون به معادله کمترین مربعات برای پیش‌بینی، مقدار b را در معادله $y = ax + b$ از کدام رابطه معلوم خواهید کرد؟

(۱) $b = \bar{y}$ (۲) $b = \bar{y} - a\bar{x}$ (۳) $b = a\bar{x}$ (۴) $b = \bar{x}$

۷- مقادیر تعدیل شده (y_i) در روش میانگینهای متحرک نسبت به مقادیر اولیه سری زمانی $(y_i =)$:

(۱) از نوسانات بیشتری برخوردار است. (۲) از نوسانات کمتری برخوردار است

(۳) تفاوتی ندارد. (۴) گاهی نوسانات، کمتر و گاهی بیشتر است.

۸- در جدول صفحه بعد اولین و دومین میانگینهای متحرک سه ساله کدامند؟

(۱) ۱۸ و ۱۰ (۲) ۱۴ و ۱۲ (۳) ۱۵ و ۱۲ (۴) ۱۴ و ۱۰

سالها	۶۵	۶۶	۶۷	۶۸	۶۹	۷۰	۷۱	۷۲
y_i	۱۰	۱۵	۵	۲۲	۱۸	۱۴	۱۹	۱۰

۹- استفاده از بررسی سربهای زمانی به منظور :

(۱) شناخت گذشته است. (۲) پیش‌بینی آینده است.

(۳) بررسی وضعیت حال است. (۴) هر سه مورد درست هستند.

۱۰- تغییرات ناگهانی ناشی از کدام عامل زیر هستند؟

(۱) عامل انسان (۲) عامل طبیعت

(۳) هم عامل انسان و هم عامل طبیعت (۴) نه عامل انسان و نه عامل طبیعت

«با مقایسه نسبی، می‌توان ارزش واقعی هر عدد را درک کرد.»

فصل پنجم

اعداد شاخص

هدفهای رفتاری: در پایان این فصل، از فراگیر انتظار می‌رود:

- ۱- مفهوم و تعریف عدد شاخص را بیان کند.
- ۲- کاربرد اعداد شاخص را در زمینه‌های بازرگانی، مالی و اقتصادی توضیح دهد.
- ۳- فواید محاسبه اعداد شاخص را برشمارد.
- ۴- انواع شاخصها را نام ببرد.
- ۵- شرایط یک شاخص خوب را بیان کند.
- ۶- روشهای: درصد ساده مجموع، موزون مجموع و میانگین ساده نسبتها را در محاسبه اعداد شاخص به کار بگیرد.
- ۷- منحنی تغییرات اعداد شاخص را رسم کند.
- ۸- چگونگی تغییر دوره پایه را توضیح دهد.
- ۹- روشهای محاسبه اعداد شاخص را ارزیابی کند.

مفهوم کلی و تعریف اعداد شاخص^۱

واژه «شاخص» به معنای وسیله تشخیص است و عدد شاخص عددی است که به وسیله آن

تغییرات ایجاد شده در یک پدیده را در فاصله دو زمان مختلف (یا دو مکان مختلف) تشخیص می‌دهیم. بنابراین می‌توان گفت که شاخص عددی است که برای اندازه‌گیری و سنجش تغییرات عوامل مختلف در فواصل زمانی (یا در فواصل مکانی) به کار برده می‌شود. معمولاً اعداد شاخص به صورت درصد بیان می‌شوند. و به بیان کوتاه، می‌توان گفت که: عدد شاخص نسبت دو عدد یا دو گروه از اعداد است که به صورت درصد بیان می‌شود. به عنوان مثال وقتی می‌شنویم که شاخص قیمتها در سال ۱۳۷۲ نسبت به سال ۱۳۷۰ مساوی ۱۲۰ شده است، در خواهیم یافت که قیمت یک کالا یا یک خدمت مصرفی که در سال ۷۰ مساوی ۱۰۰ ریال بوده است، در سال ۷۲ قیمت همان کالا یا خدمت برابر ۱۲۰ ریال شده است. (یعنی ۲۰٪ رشد داشته است.)

کاربرد شاخصها در مسائل اقتصادی و بازرگانی

با محاسبه اعداد شاخص بسادگی می‌توان هزینه‌های زندگی، میزان تولید محصولات کشاورزی یا صنعتی، مقدار صادرات و واردات، مرگ و میر، حقوق و دستمزد، بیکاری یا اشتغال، قیمت کالاها و خدمات مصرفی و سایر پدیده‌های اقتصادی را در دو زمان مختلف (یا در دو مکان متفاوت) با همدیگر مقایسه کرده، تغییرات ایجاد شده را بررسی کرد. در این کتاب فقط شاخصهای زمانی (یعنی شاخصهایی که بیان‌کننده تغییرات ایجاد شده در پدیده‌های مختلف در طول زمان هستند.) را مورد مطالعه قرار خواهیم داد. ضمناً موضوع شاخصها را بیشتر در ارتباط با زمینه‌هایی نظیر قیمتها، مقادیر و ارزشها که جنبه اقتصادی دارند، مطرح خواهیم کرد.

فواید محاسبه اعداد شاخص

- به طور کلی می‌توان فواید زیر را برای اعداد شاخص برشمرد:
- بررسی تغییرات احتمالی در زمانهای آینده.
- بررسی تغییرات یک یا چند پدیده در دو زمان مختلف.

- بررسی تغییرات یک یا چند پدیده در دو مکان مختلف.
- شناخت ارزش واقعی اعداد و ارقام.
- محرمانه نگهداشتن اطلاعات اقتصادی یا سیاسی از رقبا.
- بیان کلی اطلاعات و کنار گذاشتن جزئیات امر.
- استفاده از اعداد شاخص در تجزیه و تحلیل‌های آماری نظیر شاخصهای مرکزی و انحرافات (پراکندگیها) و رسم نمودارهای آماری در فعالیت سازمانها و...
- بدین ترتیب، آگاهی از اعداد شاخص به ما توانایی می‌دهد که:
- وضعیت مالی مؤسسات مختلف را با همدیگر مقایسه کنیم.
- تغییرات ایجاد شده در قیمت یا مقدار کالاها یا خدمات را در دو زمان مختلف بشناسیم.
- تغییرات ایجاد شده در قیمت یا مقدار کالاها یا خدمات را در دو مکان مختلف بشناسیم.
- ارزش واقعی حقوق و دستمزدها را در رابطه با تغییرات قیمتها، درک کنیم.
- تغییرات ایجاد شده در مسائلی مانند اشتغال، بیکاری، بهداشت، کشاورزی، آموزش و پرورش، هنر و... را بررسی کنیم.

در اینجا به عنوان نمونه کاربرد اعداد شاخص را در تعیین قدرت خرید پول مطرح می‌کنیم:

قدرت خرید پول - منظور از قدرت خرید پول، ارزش پول در مبادله کالاها و خدمات می‌باشد، که رابطه معکوسی با سطح قیمتها خواهد داشت. یعنی هرچه سطح قیمتها افزایش می‌یابد، قدرت خرید پول کاهش خواهد یافت.

بنابراین، اگر سطح قیمتها دو برابر شود، قدرت خرید پول نصف خواهد شد.

برای تعیین قدرت خرید پول می‌توانید از رابطه زیر استفاده کنید:

$$\text{قدرت خرید پول} = \frac{1}{\text{شاخص قیمتها}} \times 100 \quad (\text{فرمول ۱})$$

مثال ۱- اگر شاخص قیمت کالاها و خدمات مصرفی در سال ۱۳۷۲ نسبت به سال ۱۳۷۰ مساوی ۲۵۰ شده باشد، قدرت خرید پول در سال ۱۳۷۲ نسبت به سال ۱۳۷۰ به صورت زیر محاسبه خواهد شد:

$$\frac{1}{250} \times 100 = \frac{100}{250} = 0/4$$

مفهوم عدد ۰/۴ این است که قدرت خرید هر تومان در سال ۱۳۷۲ مساوی قدرت خرید ۴ ریال

در سال ۱۳۷۰ شده است، یعنی همان کالایی را که در سال ۱۳۷۰ می توانسته ایم با ۴ ریال بخریم، در سال ۱۳۷۲ باید با ۱۰ ریال خریداری کنیم.

حقوق و دستمزد واقعی

حقوق یا دستمزدی که کارکنان یک مؤسسه (بخش دولتی یا بخش خصوصی) دریافت می کنند یک مبلغ اسمی است که باید قدرت خرید واقعی آن را در زمانهای مختلف معلوم کرد. برای تعیین حقوق و دستمزد واقعی کارمندان یا کارگران یک سازمان باید حقوق و دستمزد اسمی آنها را (حقوق یا دستمزدی که در حال حاضر دریافت می کنند) در قدرت خرید پول، که در بالا توضیح داده شد، ضرب کنیم. برای مثال اگر شاخص قیمتها در سال ۱۳۸۶ نسبت به سال ۱۳۸۰ مساوی ۲۴۰ شده باشد و فردی به نام X در سال ۱۳۸۶ حقوق یا دستمزدی معادل ۴۰۰ هزار تومان دریافت کند، حقوق و دستمزد واقعی او در سال ۸۶ از رابطه زیر به دست خواهد آمد:

$$480000 \times \frac{100}{240} = 200000$$

در واقع حقوق واقعی آقای X در سال ۱۳۸۶ نسبت به سال ۱۳۸۰ معادل ۲۰۰ هزار تومان

است.

$\text{شاخص قیمتها} \times \text{حقوق و دستمزد اسمی} = \text{حقوق و دستمزد واقعی}$
--

انواع شاخصهای اقتصادی

کارشناسان مختلف، شاخصها را به شکلهای متنوعی (باتوجه به دیدگاههای متفاوت) دسته بندی می کنند. برای مثال می توان به موارد زیر اشاره کرد:

انواع شاخصها از نظر موضوع مورد بررسی

شاخصهای اقتصادی، مانند شاخص هزینه های زندگی

شاخصهای اجتماعی، مانند شاخص مرگ و میر

انواع شاخصها از نظر اجزای مورد بررسی در عدد شاخص

شاخصهای ساده (بدون ضریب)

شاخصهای موزون (وزن دار = ضریب دار)

انواع شاخصها از نظر هدف مورد بررسی

شاخصهای اطلاع‌دهنده

شاخصهای پیش‌بینی‌کننده

شاخصهای شناخت مشکلات و حل آنها

شاخصهای ارزیابی‌کننده برنامه‌ها و کنترل آنها

انواع شاخصها از نظر روش محاسبه

شاخص درصد ساده مجموع (غیر وزنی)

شاخص موزون مجموع (وزنی)

شاخص میانگین نسبتها (نسبتی) و ...

در این کتاب، دسته‌بندی اخیر (دسته‌بندی ۴-۴) مورد مطالعه دقیق قرار خواهد گرفت.

شرایط یک شاخص خوب

برای اینکه بتوان به یک عدد شاخص اعتماد کرد، باید شرایط زیر را داشته باشد :
حتی‌الامکان بیشترین اطلاعات را دربر داشته باشد. مثلاً اگر شاخص قیمتها را محاسبه می‌کنیم، باید نمونه‌ای نسبتاً بزرگ و جامع از انواع کالاها و خدمات را در اکثر نقاط کشور مورد بررسی قرار داده باشیم. نمی‌توان با داشتن قیمت چند قلم محدود از کالاها و خدمات، در چند نقطه محدود، شاخص قیمتها را برای یک مملکت محاسبه کرد.

زمان پایه آنها، مناسب انتخاب شده باشد. مقصود از زمان پایه، زمانی است که سایر زمانها را نسبت به آن می‌سنجیم. این زمان باید حتی‌المقدور از شرایط عادی و متعالی برخوردار باشد. این

درست نیست که مثلاً قیمت‌ها را در زمان صلح نسبت به زمان جنگ مقایسه کنیم. همچنین زمان پایه، نباید نسبت به زمان انجام بررسی، خیلی نزدیک یا خیلی دور باشد. برای مثال، مقایسه قیمت‌های سال ۱۳۷۳ نسبت به سال ۱۳۵۳ نتایج گمراه‌کننده‌ای به دنبال خواهد داشت.

ضرایب لازم در محاسبهٔ اعداد شاخص به کار گرفته شده باشند. برای مثال اگر شاخص قیمت‌ها را در سال‌های مختلف نسبت به سال مشخصی به نام سال پایه محاسبه می‌کنیم، از ضرایب مقدار و عرضه کالاها یا خدمات مذکور نیز استفاده لازم را کرده باشیم. زیرا می‌دانیم که همواره کم و زیاد شدن عرضه کالا در قیمت آن تأثیر خواهد داشت. هدف اصلی محاسبهٔ عدد شاخص، مشخص باشد تا استفاده‌کنندگان از شاخص گمراه نشوند. فرضاً اگر بخواهیم در مورد اشتغال در کل جامعه قضاوت کنیم، نمی‌توانیم از شاخص پرداخت حقوق و دستمزد در بخش معینی از اقتصاد استفاده کنیم.

روشهای محاسبهٔ اعداد شاخص

تذکر: به منظور سهولت بخشیدن در طرح روشهای محاسبهٔ اعداد شاخص، در این کتاب بیشتر شاخص قیمت‌ها مورد بررسی قرار گرفته است. شما می‌توانید با تغییر نمادهای لازم، این روشها را در هر زمینه‌ای که لازم باشد، به کار ببرید. ضمناً حرف «P» از واژه Price به عنوان نماد قیمت به کار رفته است و P_n را به عنوان شاخص قیمت‌ها در سال n ام نسبت به سال پایه، مورد استفاده قرار داده‌ایم.

روش درصد ساده مجموع

در این روش، مجموع داده‌های آماری مربوط به یک متغیر «مثلاً قیمت» را در هر سال (یا هر زمان مورد نظر دیگر) بر مجموع داده‌های آماری مربوط به همان متغیر در سال پایه، تقسیم کرده، در عدد صد ضرب می‌کنیم. مثلاً برای شاخص قیمت‌ها خواهیم داشت:

$$P_n = \frac{P_n}{P_0} \times 100 \quad (\text{فرمول ۲})$$

علت ضرب کردن اعداد شاخص در عدد صد، این است که به این ترتیب درک تغییرات ساده‌تر

خواهد شد. هرگاه عدد شاخص از عدد صد بزرگتر باشد، در متغیر مورد بررسی، به اندازه اختلاف عدد شاخص با عدد صد، افزایش حاصل شده و هرگاه عدد شاخص از عدد صد کوچکتر باشد، به اندازه اختلاف عدد شاخص با عدد صد، در متغیر مورد مطالعه، کاهش ایجاد شده است. برای مثال اگر شاخص قیمتها در سالهای ۷۲ و ۷۳ نسبت به سال ۷۰ به ترتیب ۱۲۰ و ۹۰ شده باشد، می توان قضاوت کرد که قیمتها در سال ۷۲ نسبت به سال ۷۰ به اندازه ۲۰٪ افزایش و در سال ۷۳ نسبت به سال ۷۰ به اندازه ۱۰٪ کاهش را نشان می دهند.

مثال ۲- اگر قیمت پنج نوع کالای مختلف در چهار سال متوالی طبق جدول زیر بوده باشد، شاخص قیمتها را برای سالهای ۷۰، ۷۱ و ۷۲ نسبت به سال ۶۹، که سال پایه است، از طریق درصد ساده مجموع محاسبه کنید :

جدول ۱

سالها کالاها	۱۳۶۹	۱۳۷۰	۱۳۷۱	۱۳۷۲
کالای الف	۲۰	۲۸	۱۵	۳۰
کالای ب	۱۰	۱۲	۸	۱۵
کالای ج	۵۰	۵۷	۴۵	۶۰
کالای د	۶۵	۶۸	۶۰	۷۰
کالای هـ	۵۵	۶۰	۵۲	۶۵
	$P_0 = 200$	$P_1 = 225$	$P_2 = 180$	$P_3 = 240$

تذکر: برای حل یک مسأله شاخص، ابتدا به سؤالات زیر پاسخ داده، سپس به حل مسأله بپردازید :

اول- چه نوع شاخصی محاسبه می شود؟ (در این مثال شاخص قیمتها محاسبه می شود.)
دوم- از چه روش محاسبه می شود؟ (در این مثال از روش درصد ساده مجموع محاسبه می شود.)

سوم- برای چه سالهایی و نسبت به چه سالی محاسبه می شود؟ (در این مثال برای سالهای ۷۰، ۷۱ و ۷۲ نسبت به سال ۶۹ محاسبه می شود.)

حل:

$$P_{\cdot 1} = \frac{P_1}{P_0} \times 100 = \frac{225}{200} \times 100 = 112.5$$

(شاخص قیمت‌ها در سال ۷۰ نسبت به سال ۶۹)

$$P_{\cdot 2} = \frac{P_2}{P_0} \times 100 = \frac{180}{200} \times 100 = 90$$

(شاخص قیمت‌ها در سال ۷۱ نسبت به سال ۶۹)

$$P_{\cdot 3} = \frac{P_3}{P_0} \times 100 = \frac{240}{200} \times 100 = 120$$

(شاخص قیمت‌ها در سال ۷۲ نسبت به سال ۶۹)

تذکره: اگر عدد شاخص را برای سال پایه محاسبه کنیم، حتماً عدد ۱۰۰ حاصل می‌شود.

روش موزون مجموع

در این روش، بجز داده‌های آماری از ضرایب با اهمیت هر یک از اعداد نیز، استفاده می‌شود. به این ترتیب که ابتدا هر یک از اعداد را در ضرایب مربوط ضرب می‌کنیم. آنگاه، مطابق روش درصد ساده مجموع به محاسبه اعداد شاخص می‌پردازیم. در محاسبه شاخص قیمت‌ها غالباً از مقادیر سال پایه و در محاسبه شاخص مقادیر از قیمت‌های سال پایه به عنوان ضرایب با اهمیت استفاده می‌کنند. مثلاً شاخص قیمت‌ها را در این روش به صورت زیر محاسبه می‌کنند:

$$P_{\cdot n} = \frac{P_n Q_0}{P_0 Q_0} \times 100 \quad (\text{فرمول ۳})$$

حرف Q در فرمول ۳ از واژه «Quantity» به معنای «مقدار» گرفته شده است.

فرمول ۳ را فرمول لاسپیرز^۱ (Laspeyres) نیز می‌نامند.

توجه دارید که در این روش، علاوه بر مقادیر متغیر مورد بررسی «مثلاً قیمت‌ها» باید مقادیر ضریب با اهمیت مربوط «مثلاً مقادیر سال پایه» را نیز در اختیار داشت. (به همین دلیل به این گونه شاخص‌ها، شاخص مرکب گفته می‌شود.)

مثال ۳- در جدول زیر، شاخص قیمت‌ها را برای سال‌های ۷۱ و ۷۲ نسبت به سال ۷۰ که سال

پایه است، از روش موزون مجموع «لاسپیرز» محاسبه کنید.

۱- لاسپیرز نام یک دانشمند آلمانی است که اولین بار این روش را پیشنهاد کرده است.

جدول ۲

نوع محصولات	۱۳۷۰		۱۳۷۱	۱۳۷۲
	Q.	P.	P _۱	P _۲
A	۲۰۰	۱۰	۱۵	۸
B	۵۰۰	۲	۳	۲
C	۴۰۰	۲۰	۳۰	۲۰
D	۱۰۰	۹۰	۹۰	۸۰

حل:

جدول ۳

نوع محصولات	۱۳۷۰		۱۳۷۱	۱۳۷۲	۱۳۷۰	۷۰ و ۷۱	۷۰ و ۷۲
	Q.	P.	P _۱	P _۲	P _۰ Q.	P _۱ Q.	P _۲ Q.
A	۲۰۰	۱۰	۱۵	۸	۲۰۰۰	۳۰۰۰	۱۶۰۰
B	۵۰۰	۲	۳	۲	۱۰۰۰	۱۵۰۰	۱۰۰۰
C	۴۰۰	۲۰	۳۰	۲۰	۸۰۰۰	۱۲۰۰۰	۸۰۰۰
D	۱۰۰	۹۰	۹۰	۸۰	۹۰۰۰	۹۰۰۰	۸۰۰۰
					. P _۰ Q. = ۲۰۰۰۰	. P _۱ Q. = ۲۵۵۰۰	. P _۲ Q. = ۱۸۶۰۰

$$P_{.۱} = \frac{. P_{۱}Q.}{. P_{۰}Q.} \times 100 = \frac{۲۵۵۰۰}{۲۰۰۰۰} \times 100 = ۱۲۷/۵ \quad (\text{شاخص قیمت‌های سال ۷۱})$$

$$P_{.۲} = \frac{. P_{۲}Q.}{. P_{۰}Q.} \times 100 = \frac{۱۸۶۰۰}{۲۰۰۰۰} \times 100 = ۹۳ \quad (\text{شاخص قیمت‌های سال ۷۲})$$

تذکره ۱: توجه داشته باشید که فرمول لاسپیرز برای شاخص مقادیر، به صورت

صفحه بعد نوشته خواهد شد:

$$Q_n = \frac{Q_n P_0}{Q_0 P_n} \times 100$$

(فرمول ۴)

که مقصود از نماد Q_n ، شاخص مقدار در سال n م نسبت به سال پایه و منظور از علامت P_0 ، قیمت در سال پایه می باشد.

تذکره ۲: دانشمند دیگری به نام پاشه (Paasche)، که او هم آلمانی است، به جای مقادیر سال پایه در شاخص قیمتها، از مقادیر هر سال به عنوان ضریب با اهمیت استفاده می کند (و در شاخص مقدار از قیمت‌های هر سال به عنوان ضریب با اهمیت یاد می کند). و به این ترتیب، فرمولهای پاشه، در روش موزون مجموع برای شاخص قیمتها و شاخص مقادیر به صورت زیر خواهند بود:

$$P_n = \frac{P_n Q_n}{P_0 Q_n} \times 100$$

(فرمول ۵)

$$Q_n = \frac{Q_n P_n}{Q_0 P_n} \times 100$$

(فرمول ۶)

مثال ۴- در جدول زیر شاخص قیمتها برای سال ۱۳۸۰ نسبت به سال ۱۳۷۹ از دو روش لاسپیرز و پاشه محاسبه شده است. (طریقه پاشه را طریقه موزون مجموع برای سال مورد نظر، نیز می نامند.)

جدول ۴

کالاها	۱۳۷۹		۱۳۸۰		۷۹ و ۸۰	۸۰	۷۹	۷۹ و ۸۰
	Q_0	P_0	Q_1	p_1	$P_0 Q_1$	$P_1 Q_1$	$P_0 Q_0$	$P_1 Q_0$
A	۱۰۰	۵۰	۱۲۰	۶۰	۶۰۰۰	۷۲۰۰	۵۰۰۰	۶۰۰۰
B	۲۰۰	۴۰	۲۵۰	۵۰	۱۰۰۰۰	۱۲۵۰۰	۸۰۰۰	۱۰۰۰۰
C	۵۰	۲۰	۶۰	۲۴	۱۲۰۰	۱۴۴۰	۱۰۰۰	۱۲۰۰
D	۲۰	۱۰	۲۵	۱۲	۲۵۰	۳۰۰	۲۰۰	۲۴۰
					$\cdot P_0 Q_1 =$ ۱۷۴۵۰	$\cdot P_1 Q_1 =$ ۲۱۴۴۰	$\cdot P_0 Q_0 =$ ۱۴۲۰۰	$\cdot P_1 Q_0 =$ ۱۷۴۴۰

$$P_{\cdot 1} = \frac{\cdot P_1 Q_1}{\cdot P_0 Q_1} \times 100 = \frac{21440}{17450} \times 100 = 122/86$$

شاخص قیمت‌ها از طریقهٔ پاشه

$$P_{\cdot 1} = \frac{\cdot P_1 Q_0}{\cdot P_0 Q_0} \times 100 = \frac{17440}{14200} \times 100 = 122/81$$

شاخص قیمت‌ها از طریقهٔ لاسپیرز

روش میانگین نسبتها

در این روش، همانگونه که از اسم آن معلوم است، ابتدا نسبت هر یک از داده‌های آماری را به مقدار متناظر آن در سال پایه محاسبه کرده، سپس میانگین نسبت‌های به‌دست آمده را به‌عنوان شاخص در نظر می‌گیریم. بهتر است ابتدا نسبت‌ها را در عدد صد ضرب کرده، آنگاه میانگین نسبت‌ها را محاسبه کنیم. با این توضیح، فرمول شاخص قیمت‌ها طبق روش میانگین نسبت‌ها به‌صورت ۷ خواهد بود:

$$P_{\cdot n} = \frac{\cdot \left(\frac{P_n}{P_0} \times 100 \right)}{n} \quad (\text{فرمول ۷})$$

در فرمول ۷، n تعداد نمونه کالاها یا خدماتی است که شاخص قیمت‌ها برای آنها محاسبه

می‌شود.

تذکر: در فرمول ۷ اگر به‌جای حرف P (برای قیمت) از حرف Q (برای مقدار) استفاده کنیم، فرمول شاخص مقدار حاصل خواهد شد.

مثال ۵- در جدول صفحه بعد شاخص قیمت‌ها را برای سالهای ۷۹ و ۸۰ نسبت به سال ۱۳۷۸ از طریقهٔ میانگین سادهٔ نسبت‌ها محاسبه کرده‌ایم.

$$P_{\cdot 1} = \frac{\cdot \left(\frac{P_1}{P_0} \times 100 \right)}{n} = \frac{360}{3} = 120 \quad (\text{شاخص قیمت‌ها در سال ۷۹})$$

$$P_{\cdot 2} = \frac{\cdot \left(\frac{P_2}{P_0} \times 100 \right)}{n} = \frac{247/5}{3} = 82/5 \quad (\text{شاخص قیمت‌ها در سال ۸۰})$$

جدول ۵

محصولات	۱۳۷۸	۱۳۷۹	۱۳۸۰	۷۸ و ۷۹	۷۸ و ۸۰
	P_0	P_1	P_2	$\frac{P_1}{P_0} \times 100$	$\frac{P_2}{P_0} \times 100$
الف	۲۰۰	۲۸۰	۱۶۰	$\frac{280}{200} \times 100 = 140$	$\frac{160}{200} \times 100 = 80$
ب	۴۰۰	۴۴۰	۳۵۰	$\frac{440}{400} \times 100 = 110$	$\frac{350}{400} \times 100 = 87.5$
ج	۵۰	۵۵	۴۰	$\frac{55}{50} \times 100 = 110$	$\frac{40}{50} \times 100 = 80$
				$\left(\frac{P_1}{P_0} \times 100\right) = 360$	$\left(\frac{P_2}{P_0} \times 100\right) = 247.5$

تذکره ۱: اگر شاخصها را در روش میانگین نسبتها به صورت ضریب دار حل کنیم، مثلاً طبق روش پیشنهادی لاسپیرز از مقادیر سال پایه به عنوان ضریب، در شاخص قیمتها استفاده کنیم، نتیجه عیناً مساوی طریقه موزون مجموع خواهد شد؛ زیرا با اندکی دقت در فرمولهای زیر درمی یابیم که این دو فرمول هم ارز هستند. (= یکسان هستند.)

$$P_n = \frac{P_n Q_0}{P_0 Q_0} \times 100 \quad (\text{فرمول ۳ تکراری})$$

شاخص قیمتها از طریقه لاسپیرز

$$P_n = \frac{\left(\frac{P_n}{P_0} \times 100 \times P_0 Q_0\right)}{P_0 Q_0} \quad (\text{فرمول ۸})$$

شاخص قیمتها از طریقه میانگین موزون نسبتها

اما اگر اطلاعات آماری به صورت نسبت در اختیار ما باشند و بخواهیم از شاخصهای ضریب دار و موزون استفاده کنیم، طبیعی است که از فرمول مربوط به روش میانگین موزون نسبتها، استفاده

۱- در فرمول ۸ اگر در صورت کسر P_0 ها را با هم ساده کنید، فرمول ۳ حاصل خواهد شد.

تذکره ۲: اگر در هر یک از روشهای عنوان شده، واژه «زنجیره‌ای» در دنباله اسم روش اضافه شود، مقصود این است که هر سال را نسبت به سال قبل از آن مقایسه کنید. یعنی در روش زنجیره‌ای سال قبل همان سال پایه محسوب می‌شود.

تذکره ۳: بجز روشهای عنوان شده در این کتاب، روشهای دیگری نیز برای محاسبه اعداد شاخص وجود دارد که خارج از برنامه درسی است. بنابراین از ذکر آنها خودداری می‌کنیم. (برای مطالعه بیشتر می‌توانید به منابع آخر کتاب مراجعه کنید.)

منحنی تغییرات اعداد شاخص

به منظور مقایسه اعداد شاخص، می‌توان از نمایش هندسی اعداد شاخص (نمودار) استفاده کرد. برای این مقصود، کافی است، روی محور Ox ، سالهای مختلف و روی محور Oy ، اعداد شاخص مربوط به آن سالها را قرار داده، برای هر سال متناسب با عدد شاخص نقطه‌ای به دست آوریم. از اتصال نقاط حاصل، منحنی تغییرات اعداد شاخص به دست خواهد آمد.

مثال ۶- در جدول زیر، قیمت چهار نوع محصول را در پنج سال متوالی مشاهده می‌کنید. اولاً، شاخص قیمتها را برای سالهای ۷۷، ۷۸، ۷۹ و ۸۰ از طریق درصد ساده مجموع نسبت به سال ۷۶ محاسبه کنید. ثانیاً، نمودار تغییرات اعداد شاخص را روی محورهای مختصات نشان دهید.

جدول ۶

کالاها	۱۳۷۶	۱۳۷۷	۱۳۷۸	۱۳۷۹	۱۳۸۰
الف	۱۰۰	۱۲۰	۸۰	۲۰۰	۷۰
ب	۱۲۰	۱۳۰	۱۰۰	۱۸۰	۹۰
ج	۸۰	۱۰۰	۶۰	۱۲۰	۵۰
د	۲۰۰	۲۵۰	۱۶۰	۲۸۰	۱۳۰
مجموع	۵۰۰	۶۰۰	۴۰۰	۷۸۰	۳۴۰

فرمول کلی شاخص قیمتها از طریقهٔ درصد سادهٔ مجموع

$$P_{\cdot 1} = \frac{P_1}{P_0} \times 100 = \frac{600}{500} \times 100 = 120$$

(شاخص قیمت در سال ۷۷ نسبت به سال ۷۶)

$$P_{\cdot 2} = \frac{P_2}{P_0} \times 100 = \frac{400}{500} \times 100 = 80$$

(شاخص قیمت در سال ۷۸ نسبت به سال ۷۶)

$$P_{\cdot 3} = \frac{P_3}{P_0} \times 100 = \frac{780}{500} \times 100 = 156$$

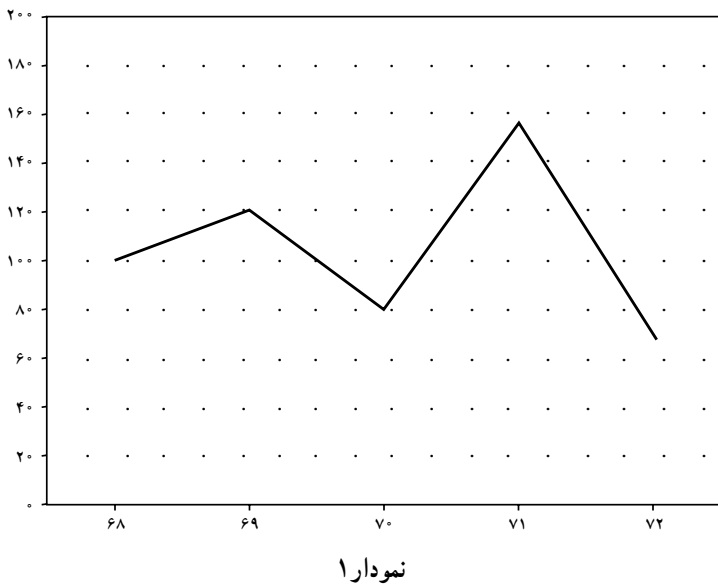
(شاخص قیمت در سال ۷۹ نسبت به سال ۷۶)

$$P_{\cdot 4} = \frac{P_4}{P_0} \times 100 = \frac{340}{500} \times 100 = 68$$

(شاخص قیمت در سال ۸۰ نسبت به سال ۷۶)

$$P_{\cdot 0} = \frac{P_0}{P_0} \times 100 = \frac{500}{500} \times 100 = 100$$

(شاخص سال ۷۶ نسبت به سال ۷۶)



تذکر: عدد شاخص در همه روشها برای سال پایه، مساوی صد خواهد بود به این معنا که سال پایه نسبت به خودش هیچ تغییری را نشان نمی دهد.

چگونگی تغییر دوره پایه (سال پایه)

در صفحات قبل گفتیم که سال پایه، یا به طور کلی زمان و دوره پایه، باید طوری انتخاب شود که نسبت به زمان محاسبه اعداد شاخص خیلی دور نباشد. در غیر این صورت، تجزیه و تحلیل و تفسیر اعداد شاخص مفهوم خود را از دست خواهد داد. بنابراین با گذشت زمان، عملاً باید سال پایه «یا دوره پایه» را تغییر داد و آن را جلوتر کشید. به این عمل اصطلاحاً «تغییر دوره پایه» گفته می شود. با تغییر دوره پایه، اعداد شاخص محاسبه شده قبلی نیز تغییر خواهند کرد. در عمل برای تعیین اعداد شاخص جدید، بعد از تغییر دوره پایه، دو شیوه مرسوم است. تمام محاسبات اعداد شاخص را مجدداً از اول انجام دهیم. تمام اعداد شاخص قبلی را به شاخص دوره ای که می خواهد دوره پایه محسوب شود، تقسیم کنیم.

روش دومی روش ساده تری است و هزینه کمتری را نیز به همراه خواهد داشت. و به این ترتیب، شاخص سال پایه، خود بخود مساوی ۱۰۰ خواهد شد. مثال ۷- فرض کنید قبلاً اعداد شاخص قیمتها را برای سالهای ۶۸، ۶۹، ۷۰، ۷۱ و ۷۲ نسبت به سال ۶۷ (که سال پایه بوده است) محاسبه کرده ایم و اعداد ۱۲۰٪، ۱۱۰٪، ۹۰٪، ۹۵٪ و ۱۴۰٪ حاصل شده اند. اگر بخواهیم سال ۷۰ را سال پایه جدید در نظر بگیریم، شاخصهای جدید قیمتها را محاسبه کنید.

حل: چون در این مثال، اطلاعات و اعداد مربوط به محاسبه شاخصها را در اختیار نداریم، بنابراین از روش ۸-۲ استفاده می کنیم و برای این مقصود، هر یک از اعداد شاخص را بر ۹۰، که شاخص قبلی ۱۳۷۰ می باشد، تقسیم خواهیم کرد:

$$\frac{120}{90} \times 100 = 133.3 \rightarrow \text{شاخص جدید سال ۶۸ نسبت به سال ۷۰}$$

$$\frac{110}{90} \times 100 = 122.2 \rightarrow \text{شاخص جدید سال ۶۹ نسبت به سال ۷۰}$$

$$\frac{90}{90} \times 100 = 100 \longrightarrow \text{شاخص سال پایه}$$

$$\frac{95}{90} \times 100 = 105/5 \longrightarrow \text{شاخص جدید سال ۷۱ نسبت به سال ۷۰}$$

$$\frac{140}{90} \times 100 = 155/5 \longrightarrow \text{شاخص جدید سال ۷۲ نسبت به سال ۷۰}$$

ارزیابی روشهای محاسبه اعداد شاخص

در ارزیابی روشهای مختلف محاسبه اعداد شاخص، نکات زیر قابل توجه است:

– هرگاه اطلاعات آماری، محدود به اندازه‌های یک متغیر آماری (مثلاً قیمت) در چند سال مختلف باشد، روش درصد ساده مجموع، روش مناسبی است؛ اما اگر بجز اندازه‌های متغیر مربوط، ضریب با اهمیتی (مثلاً قیمت‌های سال پایه) در محاسبه شاخص مقدار یا مقادیر تولید در سال پایه برای محاسبه اعداد شاخص قیمت نیز در اختیار باشد، روش موزون مجموع مناسب‌تر خواهد بود و چنانچه به‌جای اندازه‌های مطلق متغیرهای مختلف، نسبت تغییرات اندازه‌ها در زمانهای مختلف در اختیار باشند، از روش میانگین نسبتها، اعداد شاخص را محاسبه خواهیم کرد.

– اگر همه امکانات برای استفاده کردن از روشهای مختلف در اختیار باشند، روش موزون مجموع روش مناسبتری است، مگر اینکه هدف بررسی نسبت تغییرات باشد، که در این صورت روش میانگین نسبتها را ترجیح خواهیم داد.

– در تفسیر یک عدد شاخص، باید همه جوانب را در نظر گرفت.

مثلاً وقتی می‌گویند، شاخص پرداخت حقوق کارمندان دولت در سال ۱۳۷۰ نسبت به سال ۱۳۶۰ مثلاً ۲۴٪ شده است، باید شاخص قیمت را نیز در نظر گرفت، در غیر این صورت، ممکن است تصور کنیم که حقوق کارمندان ۱۴٪ زیادتر شده است، درحالی که اگر درآمد ظاهری کارمندان را بر شاخص هزینه‌های زندگی تقسیم کنیم، درآمد واقعی آنان معلوم خواهد شد.

به‌عنوان مثال، اگر درآمد آقای X در سال ۱۳۷۰، ۱۴٪ درآمد او در سال ۱۳۶۰ شده باشد، (یعنی درآمد او ظاهراً ۴٪ افزایش یافته باشد.) و شاخص هزینه‌های زندگی در سال ۱۳۷۰ نسبت به سال ۱۳۶۰ مثلاً ۲۰٪ (یعنی دو برابر) شده باشد، درآمد واقعی آقای X از تقسیم عدد ۱۴ به ۲۰۰ (۷۰٪ = $\frac{14}{200} \times 100$) معلوم خواهد شد، که حتی ۳٪ هم کاهش نشان می‌دهد.

– برای درک و تفسیر بهتر اعداد شاخص، در صورت امکان اعداد شاخص را از روشهای مختلف محاسبه کرده، میانگین اعداد شاخص را به عنوان شاخص تعدیل شده، مورد تفسیر قرار خواهیم داد.

– بجز سه روش – درصد ساده مجموع، موزون مجموع و میانگین ساده نسبتها –، روشهای دیگری نیز برای محاسبه اعداد شاخص وجود دارد که ضرایب با اهمیت آنها متفاوت است. به طور نمونه، همانگونه که قبلاً گفته شد «پاشه» در طریقه موزون مجموع، به جای ضرایب مربوط به سال پایه، از ضرایب سالهای جاری استفاده کرده است، به عنوان مثال شاخص قیمتها را با استفاده از فرمول زیر محاسبه می کند:

$$P_n = \frac{P_n Q_n}{P_0 Q_n} \times 100 \quad (\text{فرمول ۵ تکراری})$$

ملاحظه می کنید که اگر اطلاعات لازم در اختیار باشند، روش پاشه کاملتر از روش پیشنهادی «لاسپیرز» است. به طور کلی هر چه اطلاعات آماری کاملتر باشند، محاسبه شاخصها دقیق تر و معتبرتر خواهد شد.

تمرینهای فصل پنجم

- ۱- «واژه شاخص» را تعریف کنید.
- ۲- «عدد شاخص» یعنی چه؟
- ۳- مفهوم کلی اعداد شاخص را بیان کنید.
- ۴- در چه مواردی از اعداد شاخص در زمینه‌های مالی استفاده می‌کنید؟
- ۵- فواید محاسبه اعداد شاخص را بیان کنید.
- ۶- یک شاخص خوب، چه شرایطی باید داشته باشد؟
- ۷- در جدول زیر، شاخص قیمت‌ها را از طریق درصد ساده مجموع و شاخص مقدار را از طریق میانگین ساده نسبتها برای سالهای ۷۹ و ۸۰ نسبت به سال ۱۳۷۸ محاسبه کنید.

محصولات نمونه	۱۳۷۸		۱۳۷۹		۱۳۸۰	
	P _۰	Q _۰	P _۱	Q _۱	P _۲	Q _۲
الف	۱۲۰	۲۰۰	۱۴۰	۲۵۰	۱۰۰	۱۴۰
ب	۸۰	۴۰۰	۱۰۰	۵۰۰	۶۰	۲۵۰
ج	۱۰۰	۱۰۰	۱۲۰	۱۵۰	۹۰	۸۰
د	۵۰	۵۰۰	۷۰	۶۰۰	۴۵	۴۰۰

- ۸- در جدول مسأله (۷) شاخص قیمت‌ها و شاخص مقادیر را در سالهای ۱۳۷۹ و ۱۳۸۰ نسبت به سال ۱۳۷۸ از طریق موزون مجموع «لاسیرز» محاسبه کنید.
- ۹- در جدول زیر شاخص مقادیر تولید را برای سالهای مختلف، از طریق میانگین ساده نسبتهای زنجیره‌ای محاسبه کرده، نمودار منحنی تغییرات شاخصها را رسم کنید.

محصولات نمونه	۷۸	۷۹	۸۰	۸۱	۸۲
	مقدار	مقدار	مقدار	مقدار	مقدار
الف	۲۰	۲۵	۱۸	۳۰	۱۰
ب	۵۰	۶۵	۴۲	۶۰	۴۰
ج	۱۰	۱۵	۸	۱۵	۶
د	۱۲۰	۱۲۵	۱۲۰	۱۴۵	۷۴

۱۰- اگر قیمت یک کالای مصرفی در سال ۱۳۷۰، مساوی ۲۵ ریال و در سال ۱۳۸۰ مساوی ۳۰ ریال شده باشد، شاخص ساده قیمت این کالا را در سال ۱۳۸۰ نسبت به سال ۱۳۷۰ محاسبه کنید.

۱۱- در جدول زیر شاخص مقادیر را در سالهای ۱۳۸۲ و ۱۳۸۱ نسبت به سال ۱۳۸۰ از طریق پائنه محاسبه کرده، درصد تغییرات را نشان دهید.

نمونه‌ها	۱۳۸۰	۱۳۸۱		۱۳۸۲	
	مقدار	قیمت	مقدار	قیمت	مقدار
الف	۱۰	۸	۱۲	۱۵	۲۰
ب	۲۰	۱۰	۲۴	۲۰	۲۵
ج	۱۰۰	۲۰	۱۲۰	۲۰	۱۴۰
د	۵۰	۱۰	۶۰	۱۲	۸۰

۱۲- در جدول زیر شاخص قیمتها را در سالهای ۱۳۸۲ و ۱۳۸۱ نسبت به سال ۱۳۸۰ از طریق میانگین موزون نسبتها محاسبه نموده و درصد تغییرات را نشان دهید.

نمونه کالاها	۱۳۸۰		۱۳۸۱	۱۳۸۲
	قیمت	مقدار	قیمت	قیمت
A	۲۰	۱۰	۲۵	۱۸
B	۴۰	۵	۶۰	۳۰
C	۱۰۰	۴	۱۴۰	۷۵
D	۱۰	۲۰	۱۲	۷/۵

تستهای چهار گزینه‌ای

۱- اعداد شاخص، تغییرات ایجاد شده در یک متغیر را، در :

(۱) طول زمان نشان می‌دهند.

(۲) دو مکان مختلف نشان می‌دهند.

(۳) طول زمان یا در دو مکان مختلف نشان می‌دهند.

(۴) هیچکدام

۲- عدد شاخص را غالباً به صورت :

(۱) نسبت عددی نشان می‌دهند.

(۲) مطلق نشان می‌دهند.

(۳) درصد نشان می‌دهند.

(۴) نسبت هندسی نشان می‌دهند.

۳- ارزش واقعی حقوق دریافتی یک کارگر یا کارمند از :

(۱) تقسیم کردن شاخص هزینه‌های زندگی به شاخص پرداختهای حقوق مؤسسات حاصل

می‌شود.

(۲) تقسیم کردن شاخص پرداختهای حقوق مؤسسات به شاخص هزینه‌های زندگی حاصل

می‌شود.

(۳) تقسیم کردن شاخص قیمت‌ها به شاخص هزینه‌های زندگی حاصل می‌شود.

(۴) تقسیم کردن شاخص پرداختهای حقوق مؤسسات به شاخص قیمت‌ها حاصل می‌شود.

۴- قدرت خرید پول برابرست با :

$$(۱) \frac{\text{شاخص قیمت‌ها}}{۱۰۰}$$

$$(۲) \frac{۱۰۰}{\text{شاخص قیمت‌ها}}$$

(۳) شاخص قیمت‌ها \times صد

$$(۴) \frac{۱}{\text{شاخص قیمت‌ها}}$$

۵- اعداد شاخص می‌توانند :

(۱) اطلاع دهنده باشند.

(۲) پیش‌بینی‌کننده باشند.

(۳) ارزیابی‌کننده باشند.

(۴) هر سه مورد درست است.

۶- علت ضرب کردن اعداد شاخص در عدد صد، این است که :

(۱) درک تغییرات ایجاد شده در متغیر مورد بررسی، ساده‌تر و سریع‌تر انجام می‌پذیرد.

- ۲) باید به صورت درصد بیان شوند.
- ۳) امکان مقایسه با سایر اعداد شاخص فراهم می‌شود.
- ۴) همه کشورها، اعداد شاخص را به صورت درصد بیان می‌کنند.
- ۷- جواب حاصل از کدام روشها برای اعداد شاخص یکسان و مساوی است؟
- ۱) درصد ساده مجموع و موزون مجموع
- ۲) درصد ساده مجموع و میانگین ساده نسبتها
- ۳) میانگین موزون نسبتها و موزون مجموع «لاسیرز»
- ۴) میانگین ساده نسبتها و میانگین موزون نسبتها
- ۸- مقصود از روش «زنجیره‌ای» در محاسبه اعداد شاخص :
- ۱) همان روش درصد ساده مجموع است.
- ۲) این است که سال قبل را سال پایه در نظر بگیریم.
- ۳) این است که سال بعد را سال پایه در نظر بگیریم.
- ۴) شاخصها را برای سالهای متوالی محاسبه کنیم.
- ۹- در کدام روش، از مقادیر سالهای جاری، به عنوان ضرایب با اهمیت استفاده می‌شود؟
- ۱) روش میانگین موزون نسبتها ۲) روش پاشه
- ۳) روش لاسیرز ۴) در هر سه مورد
- ۱۰- محاسبه اعداد شاخص، غالباً در کدام زمینه کاربرد بیشتری دارد؟
- ۱) در مسائل مالی ۲) در مسائل بازرگانی
- ۳) در مسائل حسابداری ۴) در مسائل اقتصادی
-

جدول آزمون معنی دار بودن ضریب همبستگی پیرسون

α d. f.	0,10	0,05	0,02	0,01
1	0,9877	0,9969	0,9995	0,9999
2	0,9000	0,9500	0,9800	0,9900
3	0,8054	0,8783	0,9343	0,9587
4	0,7293	0,8114	0,8822	0,9172
5	0,6694	0,7545	0,8329	0,8745
6	0,6215	0,7067	0,7887	0,8343
7	0,5822	0,6664	0,7498	0,7977
8	0,5494	0,6319	0,7155	0,7646
9	0,5214	0,6021	0,6851	0,7348
10	0,4973	0,5760	0,6581	0,7079
11	0,4762	0,5529	0,6339	0,6835
12	0,4575	0,5324	0,6120	0,6614
13	0,4409	0,5139	0,5923	0,6411
14	0,4259	0,4973	0,5742	0,6226
15	0,4124	0,4821	0,5577	0,6055
16	0,4000	0,4683	0,5425	0,5897
17	0,3887	0,4555	0,5285	0,5751
18	0,3783	0,4438	0,5155	0,5614
19	0,3687	0,4329	0,5034	0,5487
20	0,3598	0,4227	0,4921	0,5368
25	0,3233	0,3809	0,4451	0,4869
30	0,2960	0,3494	0,4093	0,4437
35	0,2746	0,3246	0,3810	0,4182
40	0,2573	0,3044	0,3578	0,3932
45	0,2428	0,2875	0,3384	0,3721
50	0,2306	0,2732	0,3218	0,3541
60	0,2108	0,2500	0,2948	0,3248
70	0,1954	0,2319	0,2737	0,3017
80	0,1829	0,2172	0,2565	0,2830
90	0,1726	0,2050	0,2422	0,2673
100	0,1638	0,1946	0,2301	0,2540

منابع و مآخذ

- ۱- آلدنر، هنری و ادوارد راسلر، مقدمه‌ای بر احتمالات و آمار، ترجمه زالی و شبستری، دانشگاه تهران، تهران، ۱۳۶۵.
- ۲- اردبیلی، محمدحسن، احتمالات و آمار، دهخدا، تهران، ۱۳۴۵.
- ۳- باتاچاریا، گوری و ریچارد جانسون، مفاهیم و روشهای آماری، ترجمه مرتضی ابن شهر آشوب و فتاح میکائیلی، مرکز نشر دانشگاهی، تهران، ۱۳۶۴.
- ۴- بهبودیان، جواد، آمار و احتمال مقدماتی، آستان قدس رضوی، شیراز، ۱۳۶۸.
- ۵- زهره بخش، محمدعلی و عبدالله زاده، یحیی، مقدمه‌ای بر آمار و احتمالات، نشر بشارت، ۱۳۷۳.
- ۶- عادل آذر، منصور مؤمنی، آمار و کاربرد آن در مدیریت، سازمان سمت، تهران ۱۳۷۹.
- ۷- لارسن، هرولد، نظریه احتمالات و نتیجه‌گیری آماری، ترجمه غلامحسین همدانی، دانشگاه صنعتی شریف، تهران، ۱۳۶۵.
- ۸- لیبشوتز، سیمور، تئوری و مسائل احتمالات، ترجمه عادل ارشقی، نشر نی، تهران، ۱۳۶۶.
- ۹- معین تقوی، احمد، آمار کاربردی در اقتصاد و بازرگانی، مؤسسه مطالعات و پژوهشهای بازرگانی، تهران، ۱۳۷۶.
- ۱۰- منصورفر، کریم، روشهای آماری، دانشگاه تهران، تهران، ۱۳۶۹.
- ۱۱- نصفت، مرتضی، اصول و روشهای آماری، دانشگاه تهران، تهران، ۱۳۵۶.
- ۱۲- وزارت آموزش و پرورش، آمار، تهران، ۱۳۷۰. (کتاب درسی)
- ۱۳- وزارت آموزش و پرورش، آمار بازرگانی، تهران. (کتاب درسی)
- ۱۴- ووناکات، توماس و راندووناکات، آمار مقدماتی، ترجمه محمدرضا مشکانی، مرکز نشر دانشگاهی، تهران، ۱۳۶۵.

۱۵- رنجبران، هادی، آمار و احتمال، نشر کتاب دانشگاهی، تهران، ۱۳۸۴.

16 – Chris. Spatz - James O. Johnston Basic Statistics Thomson Information Publishing Group.

17 – G.Klimov Probability Theory and Mathematical Statistics - Mir Publishers Moscow.

18 – Murray. R. Spiegel Theory and Problems of Statistics Mc Graw - Hill Book Company.

