

بِسْمِ اللّٰهِ الرَّحْمٰنِ الرَّحِیْمِ

حساب دیفرانسیل و انتگرال

(۱) و (۲)

دورهٔ پیش‌دانشگاهی

رشتهٔ علوم ریاضی

وزارت آموزش و پرورش
سازمان پژوهش و برنامه ریزی آموزشی

برنامه ریزی محتوا و نظارت بر تألیف: دفتر برنامه ریزی و تألیف کتاب‌های درسی

نام کتاب: حساب دیفرانسیل و انتگرال (۱) و (۲) - ۲۹۵/۱

شورای برنامه ریزی: دکتر یحیی تابش، دکتر محمدحسن بیژن‌زاده، دکتر امیر نادری،

حمیده داریوش همدانی و جواد حاجی بابائی

مؤلفان: محمود تلگینی، فروزان خردپزوه، علی رجالی و احمد قیاسیان

آماده‌سازی و نظارت بر چاپ و توزیع: ادارهٔ کل چاپ و توزیع کتاب‌های درسی

تهران: خیابان ایرانشهر شمالی - ساختمان شمارهٔ ۴ آموزش و پرورش (شهید موسوی)

تلفن: ۸۸۸۳۱۱۶۱-۹، دورنگار: ۹۲۶۶۰۸۸۳، کدپستی: ۱۵۸۴۷۴۷۳۵۹

وبسایت: www.chap.sch.ir

صفحه‌آرا: شهرزاد قنبری

طراح جلد: طاهره حسن‌زاده

ناشر: شرکت چاپ و نشر کتاب‌های درسی ایران - تهران - کیلومتر ۱۷ جادهٔ مخصوص کرج - خیابان ۶۱ (داروبخش)

تلفن: ۵ - ۴۴۹۸۵۱۶۱، دورنگار: ۴۴۹۸۵۱۶۰، صندوق پستی: ۱۳۴۴۵/۶۸۴

چاپخانه: شرکت چاپ و نشر کتاب‌های درسی ایران «سهامی خاص»

سال انتشار و نوبت چاپ: چاپ هفدهم ۱۳۹۰

حق چاپ محفوظ است.

شابک ۹۶۴-۰۵-۰۲۷۷-۴-۹ ISBN 964-05-0277-4



جوان‌ها و کودکان ما در سرتاسر کشور، در هر مرکزی که اشتغال به تحصیل دارند باید توجه داشته باشند تحصیل همراه تهذیب و همراه تعهد و همراه اخلاق فاضله‌ی انسانی است که می‌تواند ما را به حیات انسانی برساند و می‌تواند ما را از وابستگی‌ها نجات بدهد.

امام خمینی

فهرست مطالب

<p>۱۰۳ ۴-۴ تابع مشتق</p> <p>۱۰۵ ۵-۴ مشتق تابع مرکب</p> <p>۱۰۸ ۶-۴ مشتق تابع ضمنی</p> <p>۱۰۹ ۷-۴ مشتق تابع معکوس</p> <p>۱۱۱ ۸-۴ مشتق مراتب بالاتر</p> <p>۱۱۴ ۹-۴ آهنگ تغییر</p> <p>۱۱۸ ۱۰-۴ آهنگ‌های تغییر وابسته</p> <p>۱۲۶ فصل پنجم: مشتق (۲)</p> <p>۱۲۶ ۱-۵ اکستریم‌های نسبی</p> <p>۱۳۲ ۲-۵ قضیه‌های رول و مقدار میانگین</p> <p>۱۳۹ ۳-۵ تابع‌های صعودی و نزولی</p> <p>۱۴۲ ۴-۵ آزمون‌های مشتق</p> <p>۱۴۷ ۵-۵ جهت تقعر، نقطه‌ی عطف</p> <p>۱۴۹ ۶-۵ رسم نمودار</p> <p>۱۵۶ ۷-۵ قاعده‌ی هوییتال</p> <p>۱۶۰ ۸-۵ دیفرانسیل، خطی‌سازی و خطا</p> <p>۱۶۵ ۹-۵ حل معادله‌ی $f(x) = 0$</p> <p>۱۷۵ فصل ششم: انتگرال</p> <p>۱۷۵ ۱-۶ مقدمه</p> <p>۱۸۳ ۲-۶ انتگرال معین</p> <p>۱۸۸ ۳-۶ ویژگی‌های انتگرال معین</p> <p>۱۹۴ ۴-۶ قضیه‌های بنیادی</p> <p>۱۹۸ ۵-۶ تابع اولیه (انتگرال نامعین)</p> <p>۲۰۵ مسائل تکمیلی</p> <p>۲۱۱ مراجع</p>	<p>فصل اول: دستگاه اعداد</p> <p>۱-۱ اعداد حقیقی</p> <p>۲-۱ آشنایی با چند نماد</p> <p>۳-۱ قدرمطلق</p> <p>فصل دوم: دنباله‌ها و سری‌ها</p> <p>۱-۲ دنباله‌ها</p> <p>۲-۲ همگرایی</p> <p>۳-۲ اعمال اصلی روی دنباله‌ها</p> <p>۴-۲ دنباله‌های کراندار و یکنوا</p> <p>۵-۲ سری‌ها</p> <p>۶-۲ سری هندسی</p> <p>فصل سوم: حد و پیوستگی</p> <p>۱-۳ مفهوم حد</p> <p>۲-۳ حد چپ و راست</p> <p>۳-۳ دنباله‌ها و حد</p> <p>۴-۳ قضیه‌های حد</p> <p>۵-۳ پیوستگی در نقطه</p> <p>۶-۳ پیوستگی روی یک بازه</p> <p>۷-۳ قضیه‌های مهم پیوستگی و کاربردها</p> <p>۸-۳ پیوستگی تابع معکوس</p> <p>۹-۳ حد بی‌نهایت</p> <p>۱۰-۳ رفتار تابع در بی‌نهایت</p> <p>فصل چهارم: مشتق (۱)</p> <p>۱-۴ مقدمه</p> <p>۲-۴ مشتق پذیری و پیوستگی</p> <p>۳-۴ چند قضیه</p>
---	---

حساب دیفرانسیل و انتگرال یکی از بزرگ‌ترین دستاوردها و حاصل نبوغ و تفکر خلاق انسان است. جهان در حال تغییر و تحوّل دائمی، از اجسامی در حال حرکت و پدیده‌های رشد و زوال انباشته است. شناخت پدیده‌های مربوط به تغییر و حرکت به کمک مدل‌سازی ریاضی و استفاده از حساب دیفرانسیل و انتگرال میسر است که حاصل کوشش‌های ریاضی‌دانانی چون ایزاک نیوتن (۱۶۴۲-۱۷۲۷) و گوٹفرد ویلهلم لایبنیتس (۱۶۴۶-۱۷۱۶) است. توان خارق‌العاده‌ی این رشته از دانش بشری، در تبدیل مسایل پیچیده به قوانین و روش‌های ساده، باعث شده است تا در عرصه‌ی علوم ریاضی از موقعیت ویژه‌ای برخوردار شود.

اگرچه این درس می‌تواند با دیدگاه‌های متفاوت و کاربردهای مختلفی ارائه شود اما نباید تنها به عنوان معرفی مجموعه‌ای از قوانین و روش‌ها مطرح شود و ضروری است به ارزش‌های ریاضی و زیبایی‌ها و لطایفی که در اصول آن‌ها نهفته به قدر کافی توجه شود. در تدریس این کتاب توصیه می‌کنیم که دو اصل مدنظر همکاران محترم باشد:

۱- هر مطلبی باید تا حد امکان با استفاده از روش‌های تجسمی هندسی، محاسبات عددی، و خواص جبری تدریس گردد.

۲- اساس بیان تعاریف و قوانین و روش‌ها در این درس، کاربردهای عملی و واقعی است و باید از آن‌ها برای انتقال مفاهیم کمک گرفته شود.

بر این اساس و برای ایجاد فکر منطقی و اصولی در دانش‌آموزان، سعی کرده‌ایم مطالب را تا حد امکان از طرح مسایل شهودی آغاز کرده و آن‌گاه به وسیله‌ی بیان اصول و قضیه‌های ریاضی آن‌ها را به کاربردها پیوند بزنیم. هم‌چنین از ذکر اثبات بعضی قضایای پیچیده صرف‌نظر شده و تنها به بیان صورت آن‌ها و چگونگی کاربردشان اکتفا شده است.

در این کتاب همانند سایر کتاب‌های ریاضی، نیاز به تدریس صحیح و به‌کارگیری موضوعات کاربردی برای یادگیری مطالب آن محسوس است. تعداد زیادی تمرین نیز برای دانش‌آموزان مطرح شده‌اند. همکاران عزیز از طرح موارد تکراری در کلاس و حل تمام مسایل خودداری کنند و به دانش‌آموزان اجازه دهند که خود در یادگیری سهیم و با اتکاء به خود و تحت راهنمایی به حل تمرین‌ها بپردازند. تمرین‌هایی نیز در انتهای کتاب وجود دارد که در پایان ترم یا در صورت فرصت کافی در کلاس طرح گردند ولی در هر حال از نتایج آن می‌توان در حل مسایل دیگر استفاده نمود. به‌علاوه برای تمرین و درک بهتر مسایل کاربردی، استفاده از ماشین حساب و کامپیوتر هم در این درس توصیه می‌شود.

گروه مؤلفان سعی کرده‌اند قبل از چاپ کتاب از نظریات اعضاء هیأت علمی دانشکده ریاضی دانشگاه صنعتی اصفهان و دبیران ریاضی و برخی اساتید دانشگاه از جمله جناب آقای دکتر منوچهر وصال استفاده کنند. دفتر برنامه‌ریزی و تألیف کتب درسی از همه آنان سپاسگزاری می‌کند.

از دبیران محترم، دانش‌آموزان عزیز و سایر خوانندگان کتاب درخواست می‌کنیم موارد و نکات آموزشی، پیشنهادها و نظرات خود را به این دفتر ارسال فرمایند تا در چاپ‌های بعدی از این نظرات استفاده شود.

دستگاه اعداد

از قدیم اعداد طبیعی برای شمارش و اعداد حقیقی برای اندازه‌گیری فاصله‌ها یا تعیین مکان نسبی نقاط روی یک خط، شناخته شده‌اند. در این فصل با اعداد حقیقی بیشتر آشنا می‌شویم.

۱-۱- اعداد حقیقی

حساب دیفرانسیل و انتگرال بر ویژگی‌های اعداد حقیقی مبتنی است، در این بخش می‌خواهیم این ویژگی‌ها را مورد بررسی قرار دهیم.

اعداد حقیقی از طریق بسط اعشاری نمایش داده می‌شوند. مثلاً، بسط‌های اعشاری پایان‌پذیر،

$$\frac{7}{22} = 0/3181818\dots \text{ مثل } \frac{3}{8} = 0/375$$

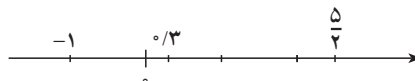
در هر دو حالت بالا این اعداد به صورت خارج قسمت دو عدد صحیح بیان می‌شوند. به عبارت

دیگر این اعداد، اعدادی گویا هستند. اما مجموعه اعداد حقیقی فقط شامل این نوع اعداد نیست.

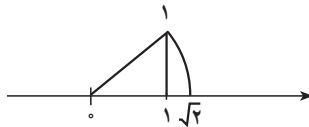
اعداد حقیقی از طریق هندسی به وسیله نقاط یک محور مشخص می‌شوند. پس از انتخاب

نقطه صفر هر عدد را با نقطه‌ای به طول قدرمطلق آن عدد مشخص می‌کنیم که اگر مثبت باشد سمت

راست صفر و اگر عدد منفی باشد، آن را در سمت چپ صفر در نظر می‌گیریم:



هر عدد حقیقی با یک نقطه از محور مشخص می‌شود و برعکس هر نقطه از محور یک عدد حقیقی را مشخص می‌کند. حال می‌بینیم که نقاطی روی محور وجود دارند که طول آن‌ها با یک عدد گویا قابل بیان نیست، مثلاً:



مثلاً قائم‌الزاویه‌ای که اضلاع زاویه قائمه آن هر دو ۱ واحد هستند را در نظر می‌گیریم. طول وتر آن $\sqrt{2}$ است. نقطه‌ای به طول $\sqrt{2}$ روی محور نمایش عدد $\sqrt{2}$ است، ولی $\sqrt{2}$ همان‌طور که قبلاً دیده‌اید گویا نیست. (چرا؟) در واقع $\sqrt{2}$ یک بسط اعشاری بی‌پایان غیرمتناوب دارد.

$$\sqrt{2} = 1.414213562\dots$$

هر عدد حقیقی که بسط اعشاری بی‌پایان غیرمتناوب دارد به صورت خارج‌قسمت دو عدد صحیح قابل بیان نیست و آن را عدد اصم می‌نامیم، نظیر $\sqrt{2}$ یا $3.141592653\dots = \pi$. بنابراین مجموعه اعداد حقیقی که با \mathbb{R} نشان داده می‌شود از اعداد با بسط اعشاری با پایان، یا بی‌پایان تناوبی یعنی اعداد گویا و بی‌پایان غیرتناوبی، یعنی اعداد اصم تشکیل شده است، و داریم:

$$\mathbb{N} \subset \mathbb{Z} \subset \mathbb{Q} \subset \mathbb{R}$$

حال ویژگی‌های اعداد حقیقی را از لحاظ ساختمان جبری، و مقایسه‌پذیر بودن آن‌ها، بیان می‌کنیم:

فرض کنیم $x, y, z \in \mathbb{R}$,

الف) $x + y \in \mathbb{R}$.

ب) $x \times y \in \mathbb{R}$. ($x \times y$ را با xy نیز نمایش می‌دهند.)

ج) $x + (y + z) = (x + y) + z$.

د) $x \times (y \times z) = (x \times y) \times z$.

ه) $x + y = y + x$.

و) $x \times y = y \times x$.

۱- نیازی به اثبات این ویژگی‌ها در کلاس نیست و دانش‌آموزان فقط باید بتوانند از آن‌ها در محاسبات خود استفاده

کنند.

$$. x + 0 = x \text{ (ز)}$$

$$. x \times 1 = x \text{ (ح)}$$

(ط) اگر $x \in \mathbb{R}$ ، آن‌گاه $(-x) \in \mathbb{R}$ وجود دارد که $x + (-x) = 0$ را قرینه‌ی x می‌نامند).

(ی) اگر $x \in \mathbb{R}$ ، $x \neq 0$ ، آن‌گاه $x^{-1} = \frac{1}{x} \in \mathbb{R}$ وجود دارد که $x \times \frac{1}{x} = 1$ را وارون x می‌نامند).

$$. x \times (y + z) = (x \times y) + (x \times z) \text{ (ک)}$$

تعریف: فرض کنیم $x, y \in \mathbb{R}$ ، تفاضل y از x عبارت است از:

$$x - y = x + (-y)$$

به‌ازای $y \neq 0$ ، تقسیم x بر y چنین است:

$$x/y = \frac{x}{y} = x \times y^{-1}$$

روی \mathbb{R} رابطه‌ی $<$ (بخوانید: رابطه‌ی کوچک‌تری) وجود دارد که دارای ویژگی‌های زیر

است:

فرض کنیم $x, y, z \in \mathbb{R}$

الف) یکی و فقط یکی از سه رابطه‌ی زیر برقرار است:

$$y < x \text{ یا } x = y \text{ یا } x < y$$

ب) اگر $x < y$ و $y < z$ ، آن‌گاه $x < z$.

ج) اگر $x < y$ ، آن‌گاه $x + z < y + z$.

د) اگر $x < 0$ و $0 < y$ ، آن‌گاه $x < x \times y$.

رابطه‌ی \leq (بخوانید: رابطه‌ی کوچک‌تر از یا مساوی) روی \mathbb{R} به‌صورت زیر تعریف می‌شود:

$$x \leq y \text{ یعنی } x < y \text{ یا } x = y$$

مفاهیم مجموعه‌های کراندار و ماکسیمم و مینیمم آن در موارد متعددی مورد استفاده قرار

می‌گیرند که به تعریف دقیق آن‌ها می‌پردازیم.

تعریف: مجموعه‌ی $A \subset \mathbb{R}$ را از بالا کراندار گویند هرگاه $x \in \mathbb{R}$ وجود داشته باشد که

به‌ازای هر $a \in A$ ، $a \leq x$. در این حالت x را یک کران بالای A در \mathbb{R} می‌نامند.

تعریف: مجموعه‌ی $A \subset \mathbb{R}$ را از پایین کراندار گویند هرگاه $x \in \mathbb{R}$ وجود داشته باشد که برای هر $a \in A$ ، $x \leq a$. در این حالت x را یک کران پایین A در \mathbb{R} می‌نامند.

تعریف: مجموعه‌ی $A \subset \mathbb{R}$ را کراندار گویند هرگاه هم از بالا و هم از پایین کراندار باشد. در غیر این صورت آن را بی‌کران می‌نامند.

در این رابطه دو مفهوم دیگر را که قبلاً دیده‌ایم یادآوری می‌کنیم:

تعریف: فرض کنیم $A \subset \mathbb{R}$ از بالا کراندار باشد. اگر عدد M عضو A وجود داشته باشد که برای هر $a \in A$ داشته باشیم $a \leq M$ ، آن‌گاه M را **ماکسیمم مجموعه‌ی A** می‌نامند و آن را با $\max A$ نشان می‌دهند.^۱ (در حقیقت M یک کران بالای A و عضو آن نیز است.)

تعریف: فرض کنیم $A \subset \mathbb{R}$ از پایین کراندار باشد. اگر عدد m عضو A وجود داشته باشد، که برای هر $a \in A$ داشته باشیم $m \leq a$ ، آن‌گاه m را **مینیمم مجموعه‌ی A** می‌نامند و آن را با $\min A$ نشان می‌دهند.^۲ (در حقیقت m کران پایین A و عضو آن نیز است.)

ویژگی‌های^۳ دیگر اعداد حقیقی

با پذیرش ویژگی‌های فوق در مورد مجموعه‌ی اعداد حقیقی، خواص دیگری از این مجموعه را می‌توان ثابت کرد، در این جا برخی از آن‌ها را یادآوری می‌کنیم:

فرض کنیم $a, b, c, d \in \mathbb{R}$

$$- \quad a + b = a + c \quad \text{اگر و تنها اگر} \quad b = c$$

$$- \quad -(-a) = a$$

$$- \quad -(a + b) = -a - b \quad \text{و} \quad (-a)b = -(ab)$$

$$- \quad a(b - c) = ab - ac$$

$$- \quad a \times 0 = 0$$

$$- \quad \text{اگر} \quad ab = ac \quad \text{و} \quad a \neq 0 \quad \text{آن‌گاه} \quad b = c$$

$$- \quad \text{اگر} \quad a \neq 0 \quad \text{و} \quad b \neq 0 \quad \text{آن‌گاه} \quad (ab)^{-1} = a^{-1}b^{-1} \quad \text{و اگر} \quad a \neq 0 \quad \text{آن‌گاه} \quad (a^{-1})^{-1} = a$$

$$- \quad \text{اگر} \quad ab = 0 \quad \text{آن‌گاه} \quad a = 0 \quad \text{یا} \quad b = 0$$

۱- M را عضو انتهای A هم می‌نامند.

۲- m را عضو ابتدای A هم می‌نامند.

۳- نیاز به اثبات هیچ‌یک از این ویژگی‌ها در کلاس نیست. بیان آن‌ها در کتاب جهت یادآوری است.

$$-(-a)(-b) = ab$$

اگر $b \neq 0$ و $d \neq 0$ ، آن گاه:

$$\frac{a}{b} + \frac{c}{d} = \frac{ad + bc}{bd} \quad -1$$

$$\frac{a}{b} \times \frac{c}{d} = \frac{ac}{bd} \quad -2$$

$$\left(\frac{d}{b}\right)^{-1} = \frac{b}{d} \quad -3$$

اگر علاوه بر آن $c \neq 0$ ، آن گاه:

$$\left(\frac{a}{b}\right) / \left(\frac{c}{d}\right) = \frac{ad}{bc} \quad -4$$

تعریف: چون عدد 0 یک عدد حقیقی است برای هر عدد حقیقی دیگر a داریم: $a > 0$ یا $a < 0$. در حالت اول a را عدد مثبت و در حالت دوم آن را منفی می نامند. $\mathbb{R}^+ = \{a \in \mathbb{R} : a > 0\}$ مجموعه‌ی اعداد حقیقی مثبت است. اگر برای عدد حقیقی a داشته باشیم $a \geq 0$ ، a را غیر منفی یا نامنفی و اگر $a \leq 0$ ، a را غیر مثبت یا نامثبت می نامند.

حال اگر $a \neq 0$ ، آن گاه $a \in \mathbb{R}^+$ یا $(-a) \in \mathbb{R}^+$. این مطلب و برخی دیگر از خواص رابطه‌ی ترتیب در زیر خلاصه شده‌اند که آن‌ها را بدون اثبات بیان می کنیم:

— فرض کنیم $a, b, c \in \mathbb{R}$

(الف) اگر $a < b$ و $c > 0$ ، آن گاه $ac < bc$.

(ب) اگر $a < b$ ، آن گاه $b > -a$. در حالت خاص، اگر $a < 0$ ، آن گاه $-a > 0$.

(ج) اگر $a \neq 0$ ، آن گاه $a^2 > 0$ ($a^2 = a \times a$) و در نتیجه $1 > 0$.

(د) اگر $a < b$ و $c < 0$ ، آن گاه $ac > bc$.

(ه) اگر $ab > 0$ ، آن گاه اعداد a و b هر دو مثبت یا هر دو منفی اند.

(و) اگر $a < b$ و $c < d$ ، آن گاه $a + c < b + d$.

(ز) اگر $a < b$ و $0 < c < d$ ، آن گاه $ac < bd$.

ویژگی دیگر

ویژگی مهم دیگر اعداد حقیقی به ویژگی ارشمیدسی موسوم است و به صورت زیر بیان

می شود :

برای هر عدد حقیقی y ، و هر عدد حقیقی $x > 0$ ، عدد طبیعی n وجود دارد که $nx > y$

از ویژگی مهم فوق، در مورد اعداد حقیقی نتایج مفیدی حاصل می شود، این نتیجه ها عبارتند از :

نتیجه ۱: برای هر عدد حقیقی a ، یک عدد طبیعی n وجود دارد که $n > a$.

اثبات: در اصل ارشمیدس $y = a$ و $x = 1$ فرض می کنیم، نتیجه حاصل می شود.

نتیجه ۲: برای هر عدد حقیقی $a > 0$ ، عدد طبیعی n وجود دارد که $\frac{1}{n} < a$.

اثبات: در اصل ارشمیدس $x = a$ و $y = 1$ فرض می شود.

نتیجه ۳: هیچ عدد حقیقی r ای وجود ندارد که برای هر $n \in \mathbb{N}$ داشته باشیم $n < r$.

اثبات: اگر چنین r ای وجود داشته باشد، آن گاه در اصل ارشمیدس فرض می کنیم $y = r$ و

$x = 1$. آن گاه چون بنا بر فرض r از همه اعداد طبیعی n بزرگ تر است لذا هیچ n ای وجود ندارد که

$n \times 1 > r$. که این نتیجه با اصل ارشمیدس در تناقض است. لذا چنین r ای وجود ندارد.

نتیجه ۴: بین هر دو عدد حقیقی x و y لا اقل یک عدد گویا وجود دارد، یعنی اگر $x < y$ ،

آن گاه یک عدد گویای $\frac{m}{n}$ وجود دارد که $x < \frac{m}{n} < y$.

اثبات: بدون از دست دادن عمومیت مسئله فرض می کنیم $x < y$ ، پس $0 < y - x$ ، لذا

بنابر نتیجه ۲، عدد طبیعی n وجود دارد که $\frac{1}{n} < y - x$ به عبارت دیگر $ny - nx > 1$ ، ولی چون

فاصله دو عدد ny و nx از ۱ بیشتر است پس لزوماً یک عدد صحیح m وجود دارد که $nx < m < ny$ ،

پس $x < \frac{m}{n} < y$ و اثبات کامل می شود.

نتیجه ۵: بین هر دو عدد حقیقی x و y یک عدد اصم وجود دارد، که بین آن ها است.

اثبات: فرض می کنیم $x < y$ ، پس $\frac{x}{\sqrt{2}} < \frac{y}{\sqrt{2}}$ ؛ حال بنا بر نتیجه ۴ بین $\frac{x}{\sqrt{2}}$ و $\frac{y}{\sqrt{2}}$ یک

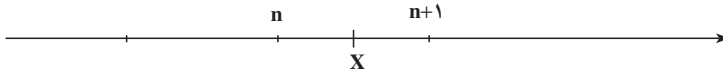
عدد گویای $\frac{m}{n}$ وجود دارد یعنی $\frac{x}{\sqrt{2}} < \frac{m}{n} < \frac{y}{\sqrt{2}}$ پس $x < \sqrt{2} \frac{m}{n} < y$ ولی $\sqrt{2} \frac{m}{n}$ یک عدد

اصم است (چرا؟) و اثبات کامل است.

جزء صحیح

با بررسی شهودی و هندسی نتیجه می‌گیریم که هر عدد حقیقی بین دو عدد صحیح متوالی قرار

دارد:



به عبارت دیگر برای هر عدد حقیقی x ، یک عدد صحیح n وجود دارد که $n \leq x < n+1$ ، و این عدد n یکتا است. عدد n را با $[x]$ (براکت x) نشان می‌دهیم و آن را جزء صحیح عدد x می‌نامیم، پس داریم

$$[x] = \max\{n \in \mathbb{Z} | n \leq x\}$$

$$\text{مثلاً } [2/\sqrt{2}] = 2 \text{ و } [-4/\sqrt{2}] = -5.$$

برای هر x حقیقی، نامساوی زیر برقرار است و یک ویژگی مهمی برای تابع جزء صحیح است:

$$[x] \leq x < [x] + 1$$

توان و ریشه‌ی اعداد حقیقی

توان‌های عدد حقیقی a به‌ازای اعداد طبیعی 1 و $n > 1$ به‌صورت زیر تعریف می‌شوند:

$$a^1 = a$$

$$a^n = a^{n-1} \times a$$

این تعریفی استقرایی برای توان طبیعی یک عدد حقیقی است.

حال به تعریف توان صحیح برای یک عدد حقیقی ناصفر می‌پردازیم. فرض کنیم a یک عدد

حقیقی ناصفر باشد. بنا بر تعریف، $a^0 = 1$. برای n ، که n یک عدد صحیح مثبت (طبیعی) است، a^n را در بالا تعریف کرده‌ایم. حال اگر n یک عدد صحیح منفی باشد (یعنی $(-n) \in \mathbb{N}$)، تعریف می‌کنیم:

$$a^n = \left(\frac{1}{a}\right)^{-n}$$

برای تعریف ریشه‌ی طبیعی اعداد حقیقی مثبت، می‌دانیم که:

$$b^n = a \text{ و } a \geq 0 \text{ و } n \in \mathbb{N} \text{، آن‌گاه عدد یکتای } b \geq 0 \text{ وجود دارد که}$$

$$\text{مقدار } b \text{ را با } \sqrt[n]{a} \text{ نمایش می‌دهند و آن را ریشه‌ی } n \text{ام عدد } a \text{ می‌نامند.}$$

اگر n فرد باشد، برای هر عدد $a \in \mathbb{R}$ ، ریشه n ام a وجود دارد ولی اگر n زوج باشد، اعداد منفی ریشه n ام ندارند؛ چون حاصل ضرب n عدد منفی (وقتی n زوج است) مثبت می‌شود و لذا $\sqrt[n]{a}$ برای عدد منفی a و عدد زوج n وجود ندارد. در کتاب‌های دانشگاهی ثابت می‌کنند که عدد حقیقی $\sqrt{2}$ کوچک‌ترین کران بالای مجموعه‌ی $A = \{q \in \mathbb{Q} : q > 0, q^2 < 2\}$ در \mathbb{R} است.

همین‌طور برای $r = \frac{m}{n} \in \mathbb{Q}$ ، $(n \in \mathbb{N})$ و $a \geq 0$ تعریف می‌کنیم:

$$a^r = (\sqrt[n]{a})^m$$

۱-۲- آشنایی با چند نماد

اگر به عبارتی مانند $x \geq 2$ برخورد کنیم و x را یک عدد حقیقی دلخواه بگیریم، آن‌گاه این عبارت برای برخی از x ها درست و برای برخی از x ها نادرست است. ولی عبارت $x^2 \geq 0$ ، برای هر عدد حقیقی درست است. برای بیان مطلب اخیر از نماد \forall (بخوانید «برای هر») می‌توانیم استفاده کنیم:

$$\forall x \in \mathbb{R}, x^2 \geq 0$$

یعنی برای هر عدد حقیقی x داریم $x^2 \geq 0$.

حال اگر عبارت $x^2 = 2$ را در نظر بگیریم، دو عدد حقیقی ($\pm\sqrt{2}$) وجود دارند که در این عبارت صدق می‌کنند. برای بیان وجود دارد از نماد \exists استفاده می‌کنیم:

$$\exists x \in \mathbb{R}, x^2 = 2$$

یعنی حداقل یک عدد حقیقی x ($x = \sqrt{2}$) وجود دارد که $x^2 = 2$. برای وجود نداشتن نیز از نماد \nexists استفاده می‌کنیم؛ مثلاً عبارت

$$\nexists x \in \mathbb{R}, x^2 = -2$$

خوانده می‌شود هیچ عددی مانند x در \mathbb{R} وجود ندارد که توان دوم آن عدد -2 باشد.

عبارت «اگر $x, y \in \mathbb{R}^+$ ، آن‌گاه $x + y \in \mathbb{R}^+$ » نیز گاهی به صورت

$$x, y \in \mathbb{R}^+ \Rightarrow x + y \in \mathbb{R}^+$$

نوشته می‌شود و معنی آن عبارت است از این که اگر اعداد حقیقی مثبت x و y را با هم جمع کنیم حاصل آن نیز یک عدد حقیقی مثبت است. این عبارت موقعی به کار می‌رود که قسمت اول عبارت، قسمت دوم آن را نتیجه دهد.

علاوه بر آن عبارت « $a + b = a + c$ اگر و تنها اگر $b = c$ » نیز گاهی به صورت

$$a + b = a + c \Leftrightarrow b = c$$

نوشته می‌شود و معنی آن این است که این دو عبارت با هم معادل یا هم‌ارزند. یعنی از هر یک دیگری را می‌توان نتیجه گرفت.

۱-۳- قدر مطلق

در نمایش هندسی اعداد حقیقی، فاصله‌ی نقطه‌ی متناظر با عدد a روی محور تا مبدأ مختصات اهمیت فراوان دارد، این مقدار را **قدر مطلق** a می‌نامند.

تعریف: برای هر عدد حقیقی a ، قدر مطلق a را چنین تعریف می‌کنیم:

$$|a| = \begin{cases} a & a \geq 0 \\ -a & a < 0 \end{cases}$$

برای مثال، $|2/3| = 2/3$ و $|-1/4| = 1/4$ است. می‌توان ثابت کرد که $|a| = \max\{a, -a\}$.
 واضح است که برای هر عدد حقیقی a ، $|a| \leq a \leq -|a|$. به راحتی می‌توان ثابت کرد که اگر $a \geq 0$ ، آن‌گاه $|x| \leq a$ اگر و تنها اگر $-a \leq x \leq a$.
 به‌ازای $a > 0$ ، نمایش هندسی مجموعه‌ی نقاط x ، که $|x| \leq a$ عبارت است از:



تعریف: اگر a و b دو عدد حقیقی باشند، منظور از فاصله‌ی a تا b ، عدد $|a - b|$ است.

برخی از ویژگی‌های قدر مطلق (نامساوی مثلث)

۱- برای اعداد حقیقی a و b ، داریم $|a + b| \leq |a| + |b|$.

۲- $|a| = 0$ اگر و تنها اگر $a = 0$.

۳- $|a - b| = |b - a|$.

$$4- |ab| = |a||b|$$

$$5- \frac{|a|}{|b|} = \frac{|a|}{|b|} \text{ آن گاه } b \neq 0$$

$$6- |a - b| \leq |a| + |b|$$

$$7- |a|^2 = a^2$$

$$8- |a| = \sqrt{a^2}$$

$$9- ||a| - |b|| \leq |a - b|$$

در پایان این فصل، برخی از زیرمجموعه‌های \mathbb{R} را که اهمیت خاص دارند تعریف می‌کنیم.
تعریف: الف) اگر $a, b \in \mathbb{R}$ و $a \leq b$ ، مجموعه‌ی

$$(a, b) = \{x \in \mathbb{R} : a < x < b\}$$

(یعنی مجموعه‌ی نقاط حقیقی بین a و b) را فاصله‌ی باز یا بازه‌ی باز می‌نامند و آن را با $]a, b[$ هم نمایش می‌دهند.

نمایش هندسی آن به صورت زیر است:



دقت کنید که اگر $a = b$ ، آن گاه $(a, b) = \emptyset$.

ب) اگر $a, b \in \mathbb{R}$ و $a \leq b$ ، مجموعه‌ی

$$[a, b] = \{x \in \mathbb{R} : a \leq x \leq b\}$$

$$= \{a\} \cup (a, b) \cup \{b\}$$

(یعنی مجموعه‌ی نقاط حقیقی بین a و b به اضافه‌ی خود a و b) را فاصله‌ی بسته یا بازه‌ی بسته $[a, b]$ می‌نامند. نمایش هندسی آن عبارت است از:



دقت کنید که اگر $a = b$ ، آن گاه $[a, b] = \{a\}$.

بازه‌های دیگری مانند

$$[a, b[= [a, b) = \{x \in \mathbb{R} : a \leq x < b\}$$



$$]a, b] = (a, b] = \{x \in \mathbb{R} : a < x \leq b\}$$

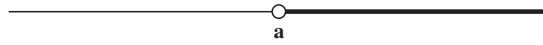


هم قابل تعریف اند. این نوع بازه‌ها را نیم‌باز می‌خوانیم.

بازه‌های بی‌کران زیر نیز در مباحث مختلف حساب دیفرانسیل و انتگرال به کار می‌روند. تعریف

این بازه‌ها همراه با نمایش‌های هندسی آن‌ها به شرح زیرند: برای $a \in \mathbb{R}$,

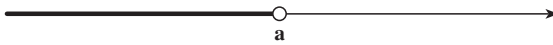
$$(a, +\infty) = \{x \in \mathbb{R} : x > a\}$$



$$[a, +\infty) = \{x \in \mathbb{R} : x \geq a\}$$



$$(-\infty, a) = \{x \in \mathbb{R} : x < a\}$$



$$(-\infty, a] = \{x \in \mathbb{R} : x \leq a\}$$



$$(-\infty, +\infty) = \mathbb{R}$$



تعریف: همسایگی باز عدد حقیقی a عبارت است از بازه‌ی باز a که شامل عدد a باشد. به

عبارت دیگر، بازه‌ی باز (c, d) را همسایگی a می‌نامند هرگاه $a \in (c, d)$.



تعریف: همسایگی متقارن عدد حقیقی a عبارت است از بازه‌ی باز

$$(a - \epsilon, a + \epsilon)$$

که در آن $\epsilon > 0$. این بازه را همسایگی متقارن a به شعاع ϵ و گاهی ϵ همسایگی a می‌نامند.



بازه‌های به صورت $(a, a + \epsilon)$ را همسایگی راست a و بازه‌های به صورت $(a - \epsilon, a)$ را همسایگی چپ a می‌نامند.

مثلاً $(0, 3)$ یک همسایگی باز عدد ۲ است، هم‌چنین $(1, 3)$ و $(\frac{3}{2}, \frac{5}{2})$ همسایگی‌های متقارن ۲ اند، ولی $(2, 3)$ یک همسایگی برای ۲ نیست.

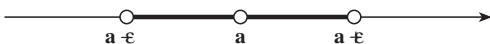
همسایگی متقارن a به شعاع ϵ را به شکل زیر هم می‌توان نوشت:

$$(a - \epsilon, a + \epsilon) = \{x \in \mathbb{R} : |x - a| < \epsilon\}$$

حال اگر عدد a را از این مجموعه برداریم، یک همسایگی محذوف متقارن برای a به دست می‌آید:

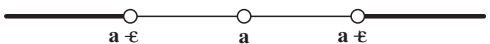
$$(a - \epsilon, a + \epsilon) - \{a\} = \{x \in \mathbb{R} : 0 < |x - a| < \epsilon\}$$

که آن را همسایگی محذوف متقارن a به شعاع ϵ نیز می‌نامند.



(دقت کنید که همسایگی محذوف یک نقطه، یک بازه نیست، بلکه اجتماع دو بازه است.)

نمایش مجموعه‌ی $\mathbb{R} - \{x : |x - a| \leq \epsilon\} = \{x \in \mathbb{R} : |x - a| \geq \epsilon\}$ نیز به شکل زیر است:



تمرین‌ها

۱- ثابت کنید که معکوس یک عدد مثبت، عددی مثبت و معکوس یک عدد منفی، عددی منفی است.

۲- اگر $0 < a < b$ ، ثابت کنید که $a^{-1} < b^{-1} < 0$.

۳- اگر $a \leq b$ ، $b \leq c$ و $a = c$ ، ثابت کنید که $b = c$.

۴- به ازای $a > 0$ ، ثابت کنید که $-a < x < a$ اگر و تنها اگر $x^2 < a^2$.

۵- اگر $0 < a < 1$ ، ثابت کنید که برای هر $n \in \mathbb{N}$ ، $a^n < a$.

۶- اگر برای هر عدد حقیقی x داشته باشیم $x \leq 0$ ، ثابت کنید که $x = 0$.

۷- کدام یک از مجموعه‌های زیر یک بازه است:

الف) $\{x: 0 < |x-1| < 2\}$

ب) $\{x: 3 < |x-3|\}$

ج) $\{x: |x-2| < 2\}$

د) $\{x: x \notin \mathbb{Z}\}$

۸- نامساوی‌های زیر را به صورت $|x-a| < b$ بنویسید:

الف) $2 < x < 4$.

ب) $-5 < x \leq 3$.

ج) $-3 < x < 2$.

۹- ثابت کنید که $A \subset \mathbb{R}$ کراندار است اگر و فقط اگر عدد حقیقی مثبت K موجود باشد که

به ازای هر $x \in A$ داشته باشیم $|x| \leq K$.

۱۰- ثابت کنید:

الف) اشتراک دو همسایگی یک عدد، یک همسایگی آن عدد است.

ب) اشتراک دو همسایگی متقارن یک عدد، یک همسایگی متقارن آن عدد است.

۱۱- فرض کنیم a و b دو عدد حقیقی باشند که $a < b$. ثابت کنید که بازه‌های (a, b) ،

$[a, b]$ ، $(a, b]$ و $[a, b]$ کراندارند.

تابع

مفهوم تابع در ادامه‌ی توسعه‌ی ریاضیات به دست آمد. ریاضی‌دانان از عهد باستان تا قرون وسطی ایده‌های مبهمی از مفهوم تابع داشته‌اند اما از زمانی که حساب دیفرانسیل و انتگرال در اواخر قرن هفدهم توسعه یافت، نیاز به بیان دقیق تعریف تابع احساس شد. «تابع» از لغت لاتین Perform به مفهوم «عمل» گرفته شده و ابتدا توسط لایبنتس به کار رفته است. اویلر ریاضی‌دان سوئسی اوایل قرن هجدهم، علامت $f(x)$ را به عنوان مقدار تابع در نقطه‌ی x اختیار کرد و سرانجام در اواسط قرن نوزدهم تعریف دقیق آن ظاهر شد. تعریف زیر از تابع توسط دیریکله ارائه گردیده است:

تعریف: تابع f عبارت است از یک دامنه یا حوزه‌ی تعریف D_f و یک دستورالعمل یا ضابطه، به طوری که برای هر عضو دامنه، یکی و فقط یک مقدار ارائه شود.

اگر حوزه‌ی مقادیر یا برد تابع را با R_f نمایش دهیم، داریم:

$$R_f = \{f(x) : x \in D\}$$

باید دقت نمود که گاهی تابع را با $f(x)$ هم نمایش می‌دهند ولی در حقیقت $f(x)$ مقدار تابع در نقطه‌ی x است. مثلاً اگر می‌گوییم تابع $x^2 + 1$ ، بدون آن که دامنه‌اش را تعیین کنیم، یعنی

$$D_f = \mathbb{R}$$

و برای هر $x \in \mathbb{R}$ ، $f(x) = x^2 + 1$ می‌توان تابع را به عنوان یک رابطه نیز در نظر گرفت و به این صورت نمایش داد:

$$f = \{(x, f(x)) : x \in A\}$$

که در آن اگر $x_1 = x_2$ ، آن‌گاه $f(x_1) = f(x_2)$ و $D_f = A$.

دنباله‌ها و سری‌ها

در این فصل ابتدا دنباله‌های حقیقی و حد آن‌ها را معرفی کرده و در مورد قضیه‌های مربوطه بحث می‌کنیم. سپس سری‌های اعداد حقیقی را تعریف و در انتها چند نکته و قضیه‌ی مقدماتی در مورد سری‌ها را بیان می‌کنیم.

۱-۲- دنباله‌ها

به مجموعه‌ی

$$S = \left\{ 1, \frac{1}{2}, \frac{1}{3}, \dots \right\}$$

$$= \left\{ \frac{1}{n} : n \in \mathbb{N} \right\}$$

از اعداد گویا توجه کنید، این مجموعه را می‌توان برد تابعی با دامنه‌ی اعداد طبیعی در نظر گرفت که تصویر عدد طبیعی n ، عدد گویای $\frac{1}{n}$ است.

$$T = \left\{ \frac{1}{2}, \frac{1}{4}, \frac{1}{8}, \dots \right\}$$

$$= \left\{ \frac{1}{2^n} : n \in \mathbb{N} \right\}$$

یا مجموعه‌ی

برد تابع دیگری با دامنه‌ی اعداد طبیعی را مشخص می‌کند. مجموعه‌های S و T را به صورت جدول‌های

زیر می‌توان نمایش داد :

n	۱	۲	۳	۴	...
$\frac{1}{n}$	۱	$\frac{1}{2}$	$\frac{1}{3}$	$\frac{1}{4}$...

و

n	۱	۲	۳	۴	...
$\frac{1}{2^n}$	$\frac{1}{2}$	$\frac{1}{4}$	$\frac{1}{8}$	$\frac{1}{16}$...

در هر دو مثال بالا، به هر عدد طبیعی، یک عدد حقیقی نسبت داده‌ایم، در حقیقت توابعی را تعریف کرده‌ایم که دامنه‌ی آن‌ها اعداد طبیعی و برد آن‌ها زیرمجموعه‌ای از اعداد حقیقی است که دنباله نامیده می‌شوند. به‌طور کلی تعریف می‌کنیم :

تعریف: هر تابع a که دامنه‌اش مجموعه‌ی اعداد طبیعی و برد آن زیرمجموعه‌ای از اعداد حقیقی باشد ($a: \mathbb{N} \rightarrow \mathbb{R}$)، یک دنباله‌ی نامتناهی از اعداد حقیقی نامیده می‌شود.

معمولاً $a(n)$ را با a_n نمایش داده و آن را جمله‌ی عمومی دنباله می‌نامند. دنباله را معمولاً با جمله‌ی عمومی‌اش و به‌صورت $\{a_n\}$ یا مقادیرش

$$a_1, a_2, a_3, \dots, a_n, \dots$$

نمایش می‌دهند.

مثال ۱: چند دنباله دیگر را در زیر مشاهده می‌کنید :

(الف) $\frac{1}{2}, \frac{2}{3}, \frac{3}{4}, \frac{4}{5}, \dots, \frac{n}{n+1}, \dots$

(ب) $1, 1, 1, 1, \dots, 1, \dots$

(ج) $-1, 1, -1, 1, -1, \dots, (-1)^n, \dots$

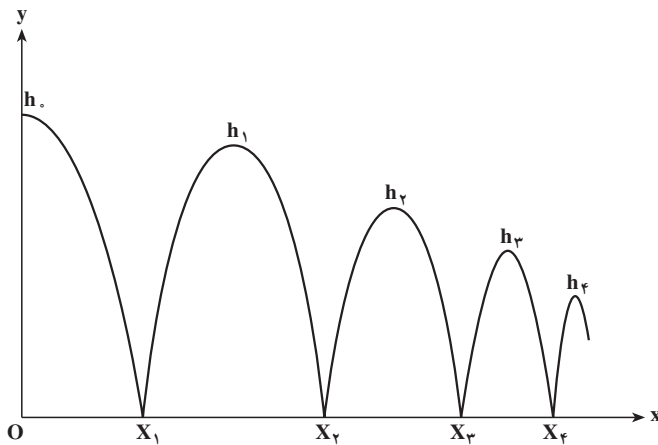
(د) $1, 0, 1, 0, 0, 1, 0, 0, 0, 1, \dots, (0/1)^{n-1}, \dots$

(ه) $1, -\frac{1}{2}, \frac{1}{3}, -\frac{1}{4}, \dots, \frac{(-1)^{n+1}}{n}, \dots$

مثال ۲: اگر گلوله‌ای فلزی را در فاصله‌ی h از یک صفحه‌ی افقی، با سرعت اولیه‌ی افقی

۷. پرتاب کنیم، بر اثر نیروی جاذبه، این گلوله از امتداد افقی منحرف شده پس از طی قسمتی از یک مسیر سهمی گون به صفحه برخورد می‌کند. مسیر گلوله زاویه‌ای با خط قائم دارد، و از این رو پس از برخورد با صفحه، با زاویه‌ای نسبت به خط قائم (شبهه یک حرکت پرتابی جدید) به بالا برمی‌گردد و با طی یک مسیر سهمی گون دیگر مجدداً به صفحه برخورد می‌کند و باز به بالا برمی‌گردد. گرچه این عمل باید بی‌نهایت بار تکرار شود، لیکن عملاً بر اثر انرژی‌ای که گلوله هنگام برخورد به صفحه از دست می‌دهد، سرعت اولیه‌ی آن پس از هر برخورد کمتر می‌شود و در نتیجه نقاط برخورد به تدریج به یکدیگر نزدیک می‌شوند.

اگر خط افقی گذرنده بر نقاط برخورد گلوله با صفحه را محور x و خط قائم گذرنده بر نقطه‌ی پرتاب را محور y بگیریم، محل تلاقی خط قائم با صفحه، مبدأ مختصات خواهد بود. اگر از پهلو به این صحنه نگاه کنیم مسیر گلوله مطابق شکل زیر است:



در این جا دو دنباله‌ی $\{x_n\}$ ، که طول x_n n امین نقطه‌ی برخورد گلوله با صفحه است و $\{h_n\}$ ، که بیشترین ارتفاع گلوله در n امین بازگشت است، به دست می‌آید.
 نکته: مفهوم دنباله از آن‌چه در تعریف بیان شد، کلی‌تر است. برای مثال اگر دامنه‌ی تابع a زیرمجموعه‌ای متناهی از \mathbb{N} باشد، دنباله را متناهی می‌نامند، مانند دنباله‌های

$$a_1, a_2, \dots, a_n.$$

$$2, \frac{3}{4}, \frac{9}{16}$$

یا دامنه‌ی تابع a می‌تواند هر زیرمجموعه‌ی نامتناهی از \mathbb{Z} باشد، مانند دنباله‌های

$$a_{-2}, a_{-1}, a_0, a_1, a_2, \dots$$

و

$$a_1, a_3, a_5, a_7, \dots$$

البته در این جا می‌توان با یک تغییر در نام‌گذاری به تعریف اصلی رسید.

هم‌چنین برد دنباله می‌تواند زیرمجموعه‌ای از مجموعه‌ای دلخواه باشد، مانند دنباله‌ی $\{I_{ij}\}$

که I_n بازه‌ی بسته‌ی $\left[2 - \frac{1}{n}, 3\right]$ است و آن را دنباله‌ای از بازه‌ها می‌نامند و یا دنباله‌ی $\{A_{ij}\}$ که

A_n یک پیشامد است و آن را دنباله‌ای از پیشامدها می‌نامند.

در این کتاب منظور از دنباله، همان دنباله‌ی نامتناهی از اعداد حقیقی است.

نمایش دنباله

جمله‌های دنباله را می‌توان روی یک محور و به شکل زیر نمایش داد:



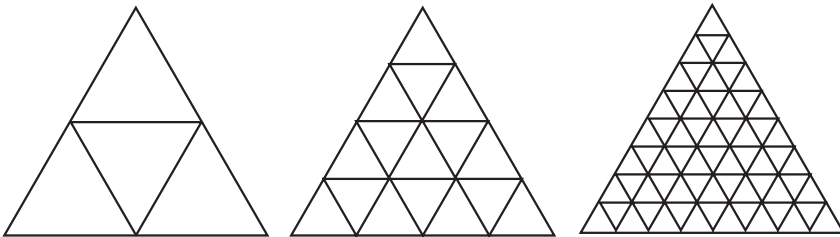
۲-۲- همگرایی

مثال ۳: اگر در یک مثلث متساوی‌الاضلاع که طول ضلع آن ۲ است، در اولین مرحله وسط

هر ضلع را به وسط سایر اضلاع وصل کنیم، ۴ مثلث متساوی‌الاضلاع جدید ساخته می‌شود که طول

ضلع هر یک نصف طول ضلع مثلث اولیه، یعنی ۱، است. در دومین مرحله نیز همین کار را انجام

می‌دهیم؛ ۱۶ مثلث با طول ضلع $\frac{1}{4}$ به وجود می‌آیند و این کار را ادامه می‌دهیم.



مشاهده می‌شود که محیط این مثلث‌ها یک دنباله به صورت

$$3, \frac{3}{2}, \frac{3}{4}, \frac{3}{8}, \frac{3}{16}, \dots, \frac{3}{2^{n-1}}, \dots$$

و مساحت این مثلث‌ها دنباله‌ای به صورت

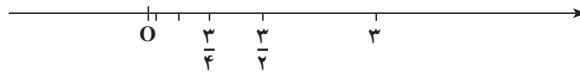
$$\frac{\sqrt{3}}{4}, \frac{\sqrt{3}}{16}, \frac{\sqrt{3}}{64}, \dots, \frac{\sqrt{3}}{4^n}, \dots$$

و تعداد مثلث‌ها نیز دنباله‌ی

$$4, 16, 64, \dots, 4^n, \dots$$

را ایجاد می‌کند.

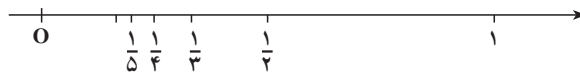
نمایش دنباله‌ی اول را روی محور مشاهده می‌کنید:



همان‌گونه که مشاهده می‌کنید، با افزایش n ، محیط مثلث‌ها به سمت صفر میل می‌کنند. آیا هر یک از دنباله‌های مثال ۱، به سمت عدد معینی میل می‌کنند؟
حال مجدداً دنباله‌ی

$$1, \frac{1}{2}, \frac{1}{3}, \dots, \frac{1}{n}, \dots$$

را در نظر بگیرید، نمایش این دنباله روی محور به شکل زیر است:



هر اندازه که n را بزرگ اختیار کنیم، مقدار $\frac{1}{n}$ کوچک‌تر می‌شود و در واقع به سمت صفر میل می‌کند. اصطلاحاً می‌گوییم دنباله به صفر همگراست و می‌نویسیم:

$$\lim_{n \rightarrow \infty} \frac{1}{n} = 0$$

مقصود از نوشتن حد این است که «هر اندازه که بخواهیم می‌توانیم $\frac{1}{n}$ را به صفر نزدیک

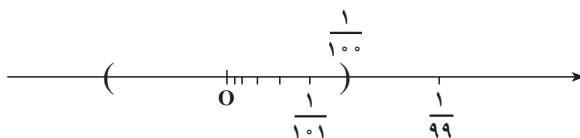
کنیم؛ برای این کار کافی است که n را به اندازه‌ی کافی بزرگ اختیار کنیم».

عبارت فوق را قدری بیشتر مورد بررسی قرار می‌دهیم و آن را به زبان ریاضی بیان می‌کنیم:
 برای این که «هر اندازه که بخواهیم بتوانیم $\frac{1}{n}$ را به صفر نزدیک کنیم» کافی است فاصله‌ی $\frac{1}{n}$ از 0 هر عدد دلخواهی کوچک‌تر شود، «به این وسیله که n را به اندازه‌ی کافی بزرگ انتخاب کنیم»؛ یعنی این که n را از یک عدد طبیعی M که به طور مناسب انتخاب شده است بزرگ‌تر بگیریم.

مثلاً اگر بخواهیم $\frac{1}{n}$ به اندازه‌ی 0.01 به صفر نزدیک شود، یعنی

$$\frac{1}{n} < 0.01$$

کافی است $n > 100$ اختیار شود. از روی شکل



نتیجه می‌شود که فاصله‌ی هر جمله‌ی بعد از جمله‌ی صدم تا 0 ، کمتر از 0.01 است. حال اگر به جای 0.01 هر عدد دلخواه دیگری در نظر بگیریم، این کار به طور مشابه میسر است. به تعریف زیر توجه کنید:

تعریف: فرض کنیم $\{a_n\}$ یک دنباله و L یک عدد حقیقی باشد، اگر برای هر عدد حقیقی و مثبت ε ، عدد طبیعی M وجود داشته باشد که برای هر n :

$$n \geq M \Rightarrow |a_n - L| < \varepsilon$$

به عبارت دیگر

$$\forall \varepsilon > 0, \exists M \in \mathbb{N}, \forall n \in \mathbb{N} (n \geq M \Rightarrow |a_n - L| < \varepsilon)$$

در این صورت می‌گوییم $\{a_n\}$ به عدد L همگراست و L حد $\{a_n\}$ است و می‌نویسیم

$$\lim_{n \rightarrow \infty} a_n = L$$

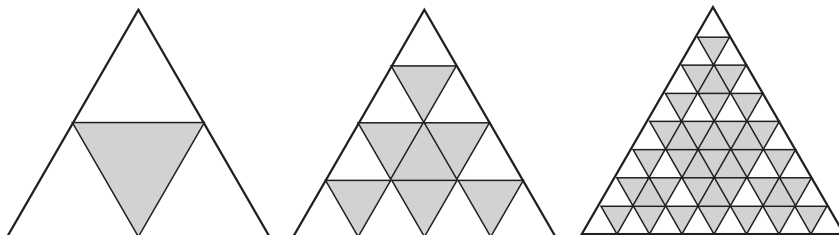
توجه کنید که در این تعریف، M معمولاً به ε بستگی دارد. اگر دنباله حد داشته باشد، آن را همگرا و در غیر این صورت آن را واگرا می‌نامند.

در ضمن، لزومی ندارد حد دنباله، یعنی L ، یکی از جملات دنباله باشد.

مثال ۴: مثال ۳ را به طریق زیر تغییر می‌دهیم:

در مرحله‌ی اول یکی از ۴ مثلث حاصل را رنگ می‌کنیم، مطابق شکل صفحه‌ی بعد، در مرحله‌ی دوم یکی از ۴ مثلث تولید شده از هریک از مثلث‌های رنگ نشده را رنگ می‌کنیم و این کار

را ادامه می‌دهیم. در نهایت چه سطحی از مثلث رنگ شده است؟



اگر مجموع مساحت مثلث‌های رنگ شده را در هر مرحله به ترتیب با S_1, S_2, S_3, \dots نمایش دهیم،

داریم:

$$S_1 = \frac{\sqrt{3}}{4}$$

$$S_2 = \frac{7\sqrt{3}}{16}$$

$$S_3 = \frac{37\sqrt{3}}{64}$$

$$S_4 = \frac{175}{256}\sqrt{3}$$

$$S_5 = \frac{781}{1024}\sqrt{3}$$

:

آیا می‌توانید بگویید دنباله‌ی فوق همگراست یا نه؟ و اگر همگراست حد آن چه قدر است؟ بعداً پاسخ را خواهید دید. اکنون به چند مثال دیگر توجه کنید:

مثال ۵: برای دنباله‌ی $\left\{ \frac{(-1)^n}{n} \right\}$ مقدار حد برابر صفر است، یعنی

$$\lim_{n \rightarrow \infty} \frac{(-1)^n}{n} = 0$$

زیرا برای هر $\varepsilon > 0$ کفایت $M > \frac{1}{\varepsilon}$ اختیار شود، آن‌گاه برای $n \geq M$ ،

$$\left| \frac{(-1)^n}{n} - 0 \right| = \frac{1}{n} \leq \frac{1}{M} < \varepsilon$$

مثال ۶: به طور طبیعی، ارزش پول (قدرت خرید واحد پول) هر کشور پس از گذشت یک سال به دلیل تورم کاهش می‌یابد. اگر در پایان هر سال ارزش پول، ۹۰ درصد ارزش آن در ابتدای همان سال باشد، ارزش یک تومان در مدت زمانی طولانی چه قدر خواهد بود؟
 اگر a_n ارزش یک تومان در پایان سال n ام باشد، $a_n = (0.9)^n$ می‌توان برای n های مختلف جدولی به شکل زیر ساخت:

n	۱	۲	۵	۱۰	۲۰	۵۰
a_n	۰/۹	۰/۸۱	۰/۵۹۰۵	۰/۳۴۸۷	۰/۱۲۱۶	۰/۰۰۵۲

از جدول فوق حدس می‌زنیم

$$\lim_{n \rightarrow \infty} a_n = 0$$

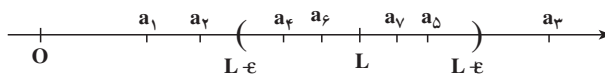
که می‌توان آن را اثبات کرد: به ازای هر $\varepsilon > 0$ ، برای آن که

$$\left| (0.9)^n - 0 \right| = (0.9)^n < \varepsilon$$

$$\text{کافیست } n \geq M > \frac{\log \varepsilon}{\log 0.9} \text{ (در هر مبنایی می‌تواند باشد).}$$

نمایش همگرایی

همگرایی دنباله‌ی $\{a_n\}$ به عدد L را می‌توان در شکل زیر مشاهده کرد:



و می‌توان این گونه بیان کرد که جملات دنباله‌ی $\{a_n\}$ از M به بعد همگی داخل همسایگی متقارن L به شعاع ε قرار دارند.

قضیه‌ی ۱: اگر دنباله‌ی $\{a_n\}$ همگرا باشد، آن‌گاه حد آن یکتا است.

اثبات: فرض کنید دنباله دارای دو حد L_1 و L_2 باشد. فرض می‌کنیم $\varepsilon > 0$ داده شده باشد،

چون $\lim_{n \rightarrow \infty} a_n = L_1$ ، عدد طبیعی M_1 وجود دارد که برای هر $n \geq M_1$

$$n \geq M_1 \Rightarrow |a_n - L_1| < \frac{\varepsilon}{3}$$

و چون $\lim_{n \rightarrow \infty} a_n = L_2$ ، عدد طبیعی M_2 وجود دارد که برای هر n

$$n \geq M_2 \Rightarrow |a_n - L_2| < \frac{\varepsilon}{2}$$

پس برای هر $n \geq M = \max\{M_1, M_2\}$ داریم:

$$\begin{aligned} |L_1 - L_2| &= |L_1 - a_n + a_n - L_2| \leq |a_n - L_1| + |a_n - L_2| \\ &< \frac{\varepsilon}{2} + \frac{\varepsilon}{2} = \varepsilon \end{aligned}$$

یعنی $\varepsilon > |L_1 - L_2| \geq 0$ ، چون ε دلخواه است، پس $|L_1 - L_2| = 0$ و $L_2 = L_1$. بنابراین دنباله همگرا تنها یک حد دارد.

قضیه ۲: اگر در دنباله $\{a_n\}$ ، $a_n \geq 0$ و $\lim_{n \rightarrow \infty} a_n = L$ ، آن گاه $L \geq 0$.

مثال ۷: دنباله $\{n\}$ واگراست، زیرا جمله‌های $\{n\}$ مرتباً افزایش می‌یابند و نمی‌توانند در ε همسایگی هیچ عدد حقیقی قرار گیرند. زیرا اگر فرض کنیم دنباله همگرا و حد آن L باشد، برای $\varepsilon = 1$ ، باید بتوانیم عدد طبیعی M را بیابیم که برای هر n

$$n \geq M \Rightarrow |n^2 - L| < 1$$

در نتیجه

$$n \geq M \Rightarrow L - 1 < n^2 < L + 1$$

و این غیرممکن است، چون مجموعه‌ی اعداد طبیعی کراندار نیست.

مثال ۸: نشان می‌دهیم دنباله $\{(-1)^n\}$ نیز واگراست. گرچه رفتار این دنباله با دنباله‌ی مثال قبل متفاوت است ولی در این جا نیز جملات دنباله نمی‌توانند در ε همسایگی هیچ عدد حقیقی قرار گیرند. اگر فرض کنیم که دنباله همگرا و حد آن برابر L باشد، برای $\varepsilon = \frac{1}{4}$ باید عدد طبیعی M را بیابیم که برای

$$n \geq M \Rightarrow \left| (-1)^n - L \right| < \frac{1}{4} \quad n$$

ولی اگر $n \geq M$ و زوج باشد، داریم:

$$|1 - L| < \frac{1}{4}$$

$$|-1 - L| < \frac{1}{4}$$

و اگر $n \geq M$ و فرد باشد، داریم

ولی با توجه به نامساوی مثلث هیچ عدد حقیقی L همزمان نمی‌تواند در دو رابطه‌ی فوق صدق کند (چرا؟)

تمرین‌ها

۱- با استفاده از تعریف حد دنباله‌ها ثابت کنید :

$$\lim_{n \rightarrow \infty} \frac{4n+1}{2n-1} = 2 \quad (\text{ب}) \qquad \lim_{n \rightarrow \infty} \frac{1}{n^2} = 0 \quad (\text{الف})$$

$$\lim_{n \rightarrow \infty} \frac{2^{n-1} + (-1)^n}{2^n} = \frac{1}{2} \quad (\text{د}) \qquad \lim_{n \rightarrow \infty} \frac{2n^2}{n^2+1} = 2 \quad (\text{ج})$$

$$\lim_{n \rightarrow \infty} \frac{1+(-1)^n}{n^2} = 0 \quad (\text{ه})$$

۲- در دنباله‌ی $\left\{ \frac{4n+1}{2n-5} \right\}$ برای چه مقادیر n ، $2/0.01 < \frac{4n+1}{2n-5} < 1/999$ ؟

۳- نشان دهید دنباله $\left\{ \frac{2+3n}{2+n} \right\}$ به ۲ همگرا نیست.

۴- ثابت کنید دنباله‌های زیر واگرا هستند.

$$\{n\}$$

$$\{\sqrt{n}\}$$

۵- دنباله‌ای که همه‌ی جملات آن ثابت و برابر c باشد را دنباله‌ی ثابت $\{c\}$ می‌نامند. نشان دهید که این دنباله همگرا و حد آن c است.

۶- ثابت کنید دنباله‌ی $\{c^n\}$ همگراست اگر $|c| < 1$ و واگراست اگر $|c| > 1$. برای $|c| = 1$ چه می‌توان گفت؟

۷- چند جمله‌ی اول هر یک از دنباله‌های زیر را نوشته و ثابت کنید که این دنباله‌ها واگرا هستند.

$$\{1+(-1)^n\}$$

$$\{n\}$$

۸- ثابت کنید اگر p عددی گویا و مثبت باشد، آن گاه

$$\lim_{n \rightarrow \infty} \frac{1}{n^p} = 0$$

۹- اگر برای دنباله‌های $\{a_n\}$ و $\{b_n\}$ و $\{c_n\}$ داشته باشیم:

$$a_n \leq c_n \leq b_n$$

$$\text{و } \lim_{n \rightarrow \infty} c_n = L, \text{ آن گاه } \lim_{n \rightarrow \infty} a_n = \lim_{n \rightarrow \infty} b_n = L$$

۱۰- ثابت کنید:

$$\lim_{n \rightarrow \infty} \frac{1}{n^2 + 4} = 0 \quad (\text{ب})$$

$$\lim_{n \rightarrow \infty} \frac{\sin n}{n} = 0 \quad (\text{الف})$$

$$\lim_{n \rightarrow \infty} \frac{1}{n!} = 0 \quad (\text{د})$$

$$\lim_{n \rightarrow \infty} (\sqrt{n+1} - \sqrt{n}) = 0 \quad (\text{ج})$$

۱۱- اگر جملات دو دنباله $\{a_n\}$ و $\{b_n\}$ برای $n \geq M$ ، مساوی بوده و دنباله $\{a_n\}$ به L همگرا باشد، آن گاه دنباله $\{b_n\}$ نیز به L همگراست.

۱۲- می‌دانیم حذف (یا اضافه) کردن تعداد متناهی جمله تغییری در وضعیت همگرایی و یا حدّ دنباله ایجاد نمی‌کند. با یک مثال نشان دهید شرط متناهی بودن الزامی است.

۲-۳ اعمال اصلی روی دنباله‌ها

می‌توان با استفاده از دو دنباله‌ی $\{a_n\}$ و $\{b_n\}$ و چهار عمل اصلی دنباله‌های جدیدی ساخت که عبارتند از:

$$\{a_n b_n\}, \{a_n - b_n\}, \{a_n + b_n\}$$

$$\text{و } \left\{ \frac{a_n}{b_n} \right\} \text{ در صورتی که } b_n \neq 0$$

مثال ۹: دنباله‌ی ثابت $\{1\}$ و نیز دنباله $\left\{ \frac{1}{n} \right\}$ را در نظر بگیرید. با توجه به نکات فوق دنباله‌های زیر ساخته می‌شوند:

$$\{2\}, \left\{ \frac{2}{n} \right\}, \left\{ 2 - \frac{1}{n} \right\}, \left\{ 2 + \frac{1}{n} \right\}$$

سؤال طبیعی در این مرحله این است که چه ارتباطی بین همگرایی دنباله‌ی $\{a_n\}$ و $\{b_n\}$ و

دنباله‌های فوق وجود دارد؟ در این مورد می‌توان قضیه‌های زیر را بیان کرد :

قضیه‌ی ۳: اگر $\lim_{n \rightarrow \infty} a_n = L_1$ و $\lim_{n \rightarrow \infty} b_n = L_2$ ، آن‌گاه

$$\lim_{n \rightarrow \infty} (a_n + b_n) = L_1 + L_2$$

اثبات: برای هر $\varepsilon > 0$ داریم:

$$\exists M_1 \in \mathbb{N} \exists n \geq M_1 \Rightarrow |a_n - L_1| < \frac{\varepsilon}{2}$$

$$\exists M_2 \in \mathbb{N} \exists n \geq M_2 \Rightarrow |b_n - L_2| < \frac{\varepsilon}{2}$$

پس اگر $M = \max\{M_1, M_2\}$ ، به ازای $n \geq M$ دو نامساوی اخیر برقرار است و

$$|(a_n + b_n) - (L_1 + L_2)| \leq |a_n - L_1| + |b_n - L_2|$$

$$< \frac{\varepsilon}{2} + \frac{\varepsilon}{2} = \varepsilon$$

در این جا چند قضیه دیگر در مورد حد دنباله‌ها را بدون اثبات بیان می‌کنیم.

قضیه‌ی ۴: اگر $\lim_{n \rightarrow \infty} a_n = L_1$ و $\lim_{n \rightarrow \infty} b_n = L_2$ ، آن‌گاه

$$\lim_{n \rightarrow \infty} (a_n - b_n) = L_1 - L_2 \quad (\text{الف})$$

$$\lim_{n \rightarrow \infty} (a_n b_n) = L_1 L_2 \quad (\text{ب})$$

قضیه‌ی ۵: اگر $\lim_{n \rightarrow \infty} a_n = L_1$ ، $\lim_{n \rightarrow \infty} b_n = L_2$ ، و برای هر n ، $b_n \neq 0$ و $L_2 \neq 0$ باشد،

آن‌گاه

$$\lim_{n \rightarrow \infty} \frac{1}{b_n} = \frac{1}{L_2} \quad (\text{الف})$$

$$\lim_{n \rightarrow \infty} \frac{a_n}{b_n} = \frac{L_1}{L_2} \quad (\text{ب})$$

به کمک دنباله‌ها می‌توانیم یکی از ویژگی‌های اعداد حقیقی را که در رابطه با بی‌بستگی توابع

کاربرد فراوان دارد، اثبات کنیم :

قضیه‌ی ۶: هر عدد حقیقی r ، حد یک دنباله از اعداد گویا و حد یک دنباله از اعداد اصم

است. یعنی یک دنباله $\{x_n\}$ وجود دارد که $x_n \in \mathbb{Q}$ و $\lim_{n \rightarrow \infty} x_n = r$ و همین‌طور یک دنباله

$\{y_n\}$ وجود دارد که $y_n \in \mathbb{R} - \mathbb{Q}$ و $\lim_{n \rightarrow \infty} y_n = r$.

اثبات: بنا بر فرض $r \in \mathbb{R}$ و برای هر $n \in \mathbb{N}$ ، اعداد حقیقی $r - \frac{1}{n}$ و r را در نظر می‌گیریم. بنا بر ویژگی اعداد حقیقی که بین هر دو عدد حقیقی یک عدد گویا وجود دارد پس به ازای هر n ، یک عدد گویای x_n وجود دارد که $r - \frac{1}{n} < x_n < r$.

حال اگر $n \rightarrow \infty$ چون طرفین نامساوی فوق هر دو به r میل می‌کنند، پس $\lim_{n \rightarrow \infty} x_n = r$. به طریق مشابه می‌دانیم بین هر دو عدد حقیقی یک عدد اصم نیز وجود دارد، پس برای هر n یک عدد اصم y_n وجود دارد که $r - \frac{1}{n} < y_n < r$ ، مجدداً نتیجه می‌شود که $\lim_{n \rightarrow \infty} y_n = r$.

۲-۴- دنباله‌های کراندار و یکنوا

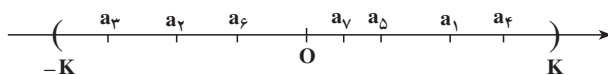
تعریف: اگر برای دنباله‌ی $\{a_n\}$ ، عدد حقیقی $K > 0$ وجود داشته باشد که به ازای هر $n \in \mathbb{N}$

$$|a_n| \leq K$$

دنباله را کراندار، و در غیر این صورت آن را بی‌کران می‌نامند.^۱

مثال ۱: دنباله‌های $\left\{\frac{1}{n}\right\}$ ، $\left\{1 + \frac{1}{n^2}\right\}$ ، $\{n\}$ و $\{(-1)^n\}$ کراندار و دنباله‌های $\{n^2\}$ ، $\{1+n\}$ و $\{(-1)^n\}$ بی‌کران هستند.

از نظر هندسی، دنباله‌ی کراندار دنباله‌ای است که برای یک $K > 0$ مناسب کلیه‌ی جملات آن در یک همسایگی صفر به شعاع K قرار گیرند.



تعریف: در صورتی که در دنباله‌ی $\{a_n\}$ ، برای هر $n \in \mathbb{N}$ ، $a_n \leq a_{n+1}$ دنباله را صعودی و اگر برای هر $n \in \mathbb{N}$ ، $a_n \geq a_{n+1}$ دنباله را نزولی می‌نامند. دنباله‌ی صعودی و یا دنباله‌ی نزولی را یکنوا هم می‌نامند.

۱- ملاحظه می‌شود که یک دنباله کراندار است اگر و فقط اگر مجموعه‌ی جملات (برد) آن زیر مجموعه‌ی کراندار از \mathbb{R} باشد.

مثال ۱۱: دنباله‌های $\left\{1 - \frac{1}{n}\right\}$ و $\{n\}$ صعودی، دنباله‌های $\left\{1 + \frac{1}{n}\right\}$ و $\{-n\}$ نزولی و

دنباله‌های $\{(-1)^n\}$ و $\left\{1 + \frac{(-1)^n}{n}\right\}$ نه صعودی و نه نزولی اند. کدام یک از دنباله‌های فوق

همگراست؟

می‌توان نشان داد در صورتی که دنباله‌ای هم یکنوا و هم کراندار باشد، همگراست. به قضیه زیر که بدون اثبات بیان می‌شود توجه کنید.

قضیه ۷: هر دنباله‌ی یکنوا و کراندار همگراست.

نکته: معمولاً هنگامی از قضیه ۶ استفاده می‌شود که هدف تنها نشان دادن همگرایی دنباله است، بدون آن که محاسبه‌ی مقدار حد موردنظر باشد.

مثال ۱۲: نشان می‌دهیم که دنباله‌ی $\left\{\frac{n^2}{2^n}\right\}$ همگراست.

به چند جمله‌ی اول این دنباله توجه کنید:

$$\frac{1}{2}, 1, \frac{9}{8}, 1, \frac{25}{32}, \frac{36}{64}, \frac{49}{128}, \dots$$

برای $n \geq 3$ به نظر می‌رسد که $a_n \geq a_{n+1}$ ، زیرا نامساوی‌های زیر با یکدیگر معادلند:

$$\frac{n^2}{2^n} \geq \frac{(n+1)^2}{2^{n+1}}$$

$$n^2 \geq \frac{(n+1)^2}{2}$$

$$2n^2 \geq (n+1)^2$$

$$n^2 - 2n \geq 1$$

$$n(n-2) \geq 1$$

و آخرین نامساوی نیز به روشنی برای $n \geq 3$ برقرار است. پس دنباله‌ی

$$\frac{9}{8}, 1, \frac{25}{32}, \frac{36}{64}, \frac{49}{128}, \dots$$

(که از حذف دو جمله‌ی اول دنباله به دست می‌آید) نزولی است و چون همه‌ی جملات آن مثبت هستند،

پس بنا بر قضیه‌ی ۷ همگراست. در نتیجه دنباله‌ی اولیه نیز همگراست (چرا؟)

تمرین‌ها

۱- حد دنباله‌های زیر را با استفاده از قضایای حد دنباله‌ها حساب کنید:

$$\left\{ \frac{2n-4}{3-4n} \right\} \text{ (ب)} \quad \left\{ \frac{1}{n^2} + \frac{2n+1}{n} \right\} \text{ (الف)}$$

$$\left\{ \left(\frac{2n-1}{n+2} \right)^3 \right\} \text{ (د)} \quad \left\{ \left(2 + \frac{1}{10^n} \right)^2 \right\} \text{ (ج)}$$

$$\left\{ \frac{2+7^n}{5+7^{n-1}} \right\} \text{ (ه)}$$

۲- دو دنباله با جملات عمومی $a_n = (-1)^n$ و $b_n = (-1)^{n+1}$ مفروض‌اند، تعیین کنید کدام یک از دنباله‌های زیر همگرا و کدام یک واگراست:

$$\{a_n b_n\} \text{ (الف)}$$

$$\left\{ \frac{a_n}{b_n} \right\} \text{ (ب)}$$

$$\{a_n - b_n\} \text{ (ج)}$$

۳- جملات عمومی سه دنباله عبارتند از $a_n = \frac{1}{n^2}$ ، $b_n = 2n$ و $c_n = \frac{1-2n^2}{n}$. تعیین کنید

کدام یک از دنباله‌های زیر همگرا و کدام یک واگراست:

$$\{b_n + c_n\} \text{ (ب)} \quad \{a_n + b_n\} \text{ (الف)}$$

$$\{a_n b_n\} \text{ (د)} \quad \{b_n - c_n\} \text{ (ج)}$$

$$\{a_n c_n\} \text{ (و)} \quad \{b_n c_n\} \text{ (ه)}$$

۴- مقدار $\lim_{n \rightarrow \infty} \left(1 - \left(\frac{3}{4} \right)^n \right)$ را یافته و ارتباط آن را با مثال ۴ بیان کنید.

۵- ثابت کنید:

(الف) دنباله کراندار هم کران بالا دارد و هم کران پایین.

ب) اگر دنباله‌ی کراندارى همگرا باشد، مقدار حد آن بين کران بالا و کران پايين قرار دارد.
 ۶- نشان دهید که هر دنباله‌ی همگرا کراندار است. (و در نتیجه هر دنباله بی کران واگراست).
 ۷- با یک مثال نشان دهید که دنباله‌ی کراندار ممکن است همگرا نباشد.

۸- ثابت کنید دنباله‌ی $\left\{1 + \frac{(-1)^n}{n}\right\}$ غیر یکنوا، کراندار و همگراست.

۹- در مورد کراندار بودن و یکنوا بودن هر یک از دنباله‌های زیر بحث کنید :

الف) $\{\sqrt{n}\}$

ب) $\{(-1)^n \sqrt{n}\}$

ج) $\left\{\frac{1}{\sqrt{n}}\right\}$

د) $\left\{\frac{(-1)^n}{\sqrt{n}}\right\}$

کدام یک از دنباله‌های فوق همگرايند؟

۱۰- فرض می‌کنیم $\{a_n\}$ و $\{b_n\}$ دو دنباله باشند که به ترتیب به L_1 و L_2 همگرا هستند و به ازای هر n ، $a_n \leq b_n$ ، در این صورت $L_1 \leq L_2$. (حتی اگر به ازای هر n ، $a_n < b_n$ ، در این صورت $L_1 < L_2$).

۱۱- اگر در دنباله‌های $\{a_n\}$ و $\{b_n\}$ برای هر عدد طبیعی n ، $0 \leq a_n \leq b_n$ و $\{a_n\}$ یکنوا باشد ثابت کنید :

الف) اگر $\{b_n\}$ همگرا باشد، آن گاه $\{a_n\}$ نیز همگراست.

ب) اگر $\{a_n\}$ واگرا باشد، آن گاه $\{b_n\}$ نیز واگراست.

۱۲- نشان دهید اگر برای هر n ، $a_n \geq \sqrt{n}$ ، آن گاه دنباله $\{a_n\}$ واگراست.

۱۳- الف) نشان دهید دنباله‌ی $\{a_n\}$ به L همگراست اگر و فقط اگر دنباله‌ی $\{a_n - L\}$ به صفر همگرا باشد.

ب) اگر دنباله‌ی $\{a_n\}$ کراندار و دنباله‌ی $\{b_n\}$ به صفر همگرا باشد، آن گاه دنباله‌ی $\{a_n b_n\}$ نیز به صفر همگراست.

۲-۵- سری‌ها

در این قسمت ابتدا نماد \sum (بخوانید: سیگما) را معرفی می‌کنیم:

برای نمایش مجموع n عدد a_1, a_2, \dots, a_n ، (یعنی $a_1 + a_2 + \dots + a_n$) می‌توان نماد زیر را به کار برد:

$$\sum_{k=1}^n a_k$$

«می‌خوانیم مجموع a_k ، k از ۱ تا n ». مثلاً

$$\begin{aligned} \sum_{k=1}^5 10^{-k} &= 10^{-1} + 10^{-2} + 10^{-3} + 10^{-4} + 10^{-5} \\ &= 0.11111 \end{aligned}$$

و یا

$$\begin{aligned} &\sum_{k=0}^n \binom{n}{k} a^{n-k} b^k \\ &= \binom{n}{0} a^n + \binom{n}{1} a^{n-1} b + \dots + \binom{n}{n-1} a b^{n-1} + \binom{n}{n} b^n \\ &= (a+b)^n \end{aligned}$$

با توجه به ویژگی‌های اعداد حقیقی می‌توان به سادگی نشان داد که روابط زیر برقرار است:

$$\sum_{k=1}^n a_k + \sum_{k=1}^n b_k = \sum_{k=1}^n (a_k + b_k)$$

$$\sum_{k=1}^n c a_k = c \sum_{k=1}^n a_k$$

$$\sum_{k=1}^n (a_{k+1} - a_k) = a_{n+1} - a_1$$

و برای $n < m$

$$\sum_{k=1}^n a_k + \sum_{k=n+1}^m a_k = \sum_{k=1}^m a_k$$

توجه کنید که اندیس جمع‌بندی k را می‌توان با هر حرف دیگر نیز نشان داد:

$$\sum_{k=1}^n a_k = \sum_{i=1}^n a_i = \sum_{j=1}^n a_j$$

اکنون می‌خواهیم ببینیم آیا می‌توانیم مفهوم جمع را از تعداد متناهی به تعداد نامتناهی گسترش دهیم. ابتدا به مثال زیر توجه کنید :

مثال ۱۳: برای پیدا کردن نمایش اعشاری کسر $\frac{1}{9}$ به این صورت می‌توان عمل کرد : ابتدا 10 را بر 9 تقسیم می‌کنیم و خارج قسمت یعنی 1 را به دست می‌آوریم : در نظر بگیرد :

$$S_1 = 1$$

در مرحله‌ی دوم عمل تقسیم را ادامه می‌دهیم تا به $1/1$ برسیم. در نظر بگیرد :

$$S_2 = 1/1$$

این عمل را n بار ادامه می‌دهیم تا به $1/\underbrace{111\dots1}_{n-1 \text{ بار}}$ برسیم.
 $S_n = 1/\underbrace{111\dots1}_{n-1 \text{ بار}}$ را در نظر داشته باشید.

در هر مرحله داریم :

$$S_n = S_{n-1} + 10^{-(n-1)}$$

پس هر جمله‌ی دنباله‌ی $\{S_n\}$ مجموع جمله‌ی قبلی و مقدار جدیدی است. می‌توان این دنباله را به صورت زیر نمایش داد : $S_1 = a_1$ و برای هر $n \geq 2$ ،

$$S_n = \sum_{k=1}^n a_k = \sum_{k=1}^{n-1} a_k + a_n$$

وقتی که برای هر $n \in \mathbb{N}$ ، $a_n = 10^{-(n-1)}$.

حد این دنباله برابر $\frac{1}{9}$ است (چرا)؟

تعریف: برای دنباله‌ی $\{a_n\}$ ، دنباله‌ی $\{S_n\}$ را به صورت زیر تعریف می‌کنند :

$$S_1 = a_1$$

$$S_2 = a_1 + a_2$$

⋮

$$S_n = a_1 + a_2 + \dots + a_n = \sum_{k=1}^n a_k$$

⋮

دنباله $\{S_n\}$ را سری می‌نامند و S_n را مجموع جزئی و a_k را جمله‌ی عمومی سری می‌نامند. اگر دنباله $\{S_n\}$ همگرا باشد، می‌گویند سری همگراست و S حد دنباله $\{S_n\}$ را مجموع سری می‌نامند و می‌نویسند $S = \sum_{k=1}^{\infty} a_k$ (بخوانید: مجموع a_k از $k=1$ تا بی‌نهایت)،

$$S = a_1 + a_2 + a_3 + \dots \quad \text{یا}$$

اگر دنباله $\{S_n\}$ واگرا باشد می‌گویند سری واگراست.

سؤال اصلی درباره یک سری، همگرایی یا واگرایی آن است که در این قسمت به بررسی بیشتر آن می‌پردازیم و در صورتی که امکان داشته باشد، مجموع آن یعنی $\lim_{n \rightarrow \infty} S_n$ را می‌یابیم.

نکته ۱: عمل جمع را ابتدا تنها برای دو عدد و سپس به کمک استقرا برای n عدد، (تعداد متناهی) دیده‌ایم. با استفاده از مفهوم سری و همگرایی آن می‌توان چنین تصور کرد که این مفهوم به جمع تعداد نامتناهی عدد هم قابل گسترش است، با این تفاوت که در حالت با تعداد متناهی، مجموع همواره یک عدد (حقیقی) است، درحالی که برای تعداد نامتناهی (سری) مجموع ممکن است یک عدد (حقیقی) باشد (وقتی که دنباله‌ی مجموع‌های جزئی همگرا است)، که آن را مجموع نامتناهی نیز می‌نامند، و یا ممکن است موجود نباشد (دنباله‌ی مجموع‌های جزئی واگرا باشد).

نکته ۲: سری را با $\lim_{n \rightarrow \infty} S_n$ یا $\sum_{k=1}^{\infty} a_k$ یا $a_1 + a_2 + a_3 + \dots$ یا $a_1 + a_2 + \dots + a_n + \dots$

هم نمایش می‌دهند (حتی اگر دنباله‌ی S_n همگرا نباشد). یعنی برای سری و مجموع سری یک نماد را به کار می‌برند. در این کتاب این نماد هم به کار می‌رود.

علاوه بر آن در جمع نامتناهی مفهوم همگرایی دنباله‌ها علاوه بر عمل جمع هم لازم است.

مثال ۱۴: دنباله‌ی مجموع‌های جزئی سری $\sum_{k=1}^{\infty} \frac{1}{2^k}$ عبارت است از:

$$S_1 = \frac{1}{2}$$

$$S_2 = \frac{1}{2} + \frac{1}{2^2} = \frac{2+1}{2^2} = \frac{2^2-1}{2^2}$$

$$S_3 = \frac{1}{2} + \frac{1}{2^2} + \frac{1}{2^3} = \frac{2^2+2+1}{2^3} = \frac{2^3-1}{2^3}$$

⋮

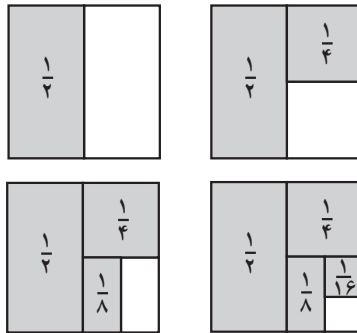
$$S_n = \frac{1}{2} + \frac{1}{2^2} + \dots + \frac{1}{2^n} = \frac{2^n-1}{2^n} = 1 - 2^{-n}$$

⋮

پس $\lim_{n \rightarrow \infty} S_n = 1$ ، و می توان نوشت

$$\sum_{k=1}^{\infty} \frac{1}{2^k} = 1$$

مثال ۱۵: یک مربع به طول اضلاع ۱ را در نظر بگیرید. اگر در مرحله ی اول نصف مساحت آن را رنگ کنیم و در مرحله ی دوم نصف مساحت باقی مانده و در مرحله ی سوم نصف مساحت باقی مانده را رنگ کنیم و این عمل را بدون وقفه ادامه دهیم، چه بخشی از مربع رنگ می شود؟



مساحت بخشی که در هر مرحله رنگ می شود به ترتیب برابر با $\frac{1}{2}$ ، $\frac{1}{4}$ ، $\frac{1}{8}$ ، ... است. مساحت بخش های رنگ شده تا مرحله n ام برابر

$$S_n = \frac{1}{2} + \frac{1}{4} + \frac{1}{8} + \dots + \frac{1}{2^n}$$

است و بنا بر مثال قبل، در تعداد دفعات نامحدود همه ی سطح مربع رنگ می شود.

قضیه ی ۸: اگر سری $\sum_{k=1}^{\infty} a_k$ همگرا باشد، آنگاه

$$\lim_{n \rightarrow \infty} a_n = 0$$

اثبات: S_n و S_{n-1} را در نظر بگیرید

$$S_{n-1} = a_1 + a_2 + \dots + a_{n-1}$$

$$S_n = a_1 + a_2 + \dots + a_{n-1} + a_n$$

$$a_n = S_n - S_{n-1}$$

داریم

از آن جایی که دنباله‌ی $\{S_n\}$ همگراست، اگر حد آن را S بنامیم داریم

$$\lim_{n \rightarrow \infty} a_n = \lim_{n \rightarrow \infty} (S_n - S_{n-1}) = S - S = 0$$

بنابراین، شرط لازم همگرایی سری این است که حد جمله‌ی عمومی آن صفر باشد. توجه کنید که شرط کافی نیست بدین معنی که ممکن است $\lim_{n \rightarrow \infty} a_n$ برابر صفر باشد بدون این که سری همگرا باشد.

البته از این قضیه برای نشان دادن واگرایی برخی از سری‌ها می‌توان استفاده کرد.

مثال ۱۶: سری $\sum_{k=1}^{\infty} (1 + \frac{1}{k})$ و نیز سری $\sum_{k=1}^{\infty} 2^k$ هر دو به دلیل عدم برقراری شرط لازم

همگرایی، واگرایند.

مثال ۱۷: سری

$$\sum_{k=1}^{\infty} \frac{1}{k} = 1 + \frac{1}{2} + \frac{1}{3} + \dots + \frac{1}{n} + \dots$$

سری همساز (هارمونیک) نامیده می‌شود. نشان می‌دهیم که این سری گرچه شرط لازم همگرایی را داراست ولی واگراست.

برای اثبات واگرایی سری همساز می‌توان بدین ترتیب عمل کرد که جملات سری را به صورت زیر دسته‌بندی کنیم:

$$1 + \frac{1}{2} + \underbrace{\frac{1}{3} + \frac{1}{4}} + \underbrace{\frac{1}{5} + \frac{1}{6} + \frac{1}{7} + \frac{1}{8}} + \underbrace{\frac{1}{9} + \dots + \frac{1}{16}} + \frac{1}{17} + \dots$$

مجموع جملات در هر گروه بزرگ‌تر از $\frac{1}{4}$ است و چون تعداد گروه‌هایی که مجموع جمله‌های هر یک از $\frac{1}{4}$ بزرگ‌تر است نامتناهی است (چرا؟) مجموع‌های جزئی سری از هر عدد دلخواه بزرگ‌تر می‌شود.

۲-۶- هندسی

سری

$$a + ar + ar^2 + \dots + ar^n + \dots$$

که در آن $a \neq 0$ و r عدد دلخواهی است یک سری هندسی با قدر نسبت r نامیده می‌شود. این سری

به صورت‌های زیر نیز نوشته می‌شود :

$$\sum_{k=1}^{\infty} ar^{k-1} \quad \text{و} \quad a \sum_{k=1}^{\infty} r^{k-1}$$

مجموع جزئی سری هندسی برابر است با :

$$S_n = a + ar + \dots + ar^{n-1}$$

برای یافتن فرمول ساده‌تری برای S_n می‌توان نوشت :

$$\begin{aligned} S_n(1-r) &= S_n - rS_n = (a + ar + \dots + ar^{n-1}) - (ar + ar^2 + \dots + ar^n) \\ &= a - ar^n \end{aligned}$$

پس داریم $S_n(1-r) = a(1-r^n)$ و اگر $r \neq 1$ ، خواهیم داشت :

$$S_n = \frac{a(1-r^n)}{1-r}$$

قضیه‌ی ۹: سری هندسی

$$a + ar + ar^2 + \dots + ar^n + \dots$$

برای $|r| < 1$ همگرا و برای $|r| \geq 1$ واگراست. در حالتی که سری همگرا باشد، مقدار آن برابر است با

$$\frac{a}{1-r}$$

اثبات: مشاهده کردیم که $S_n = \frac{a(1-r^n)}{1-r}$. اگر $|r| < 1$ ، $\lim_{n \rightarrow \infty} r^n = 0$ که نتیجه می‌دهد

$$\lim_{n \rightarrow \infty} S_n = \frac{a}{1-r}$$

و اگر $|r| \geq 1$ ، حدّ جمله‌ی عمومی صفر نخواهد بود و بنابر قضیه‌ی ۸ سری واگراست.

مثال ۱۸: می‌خواهیم عدد با بسط اعشاری زیر را به صورت کسر متعارفی بنویسیم :

$$0.012012012012\dots$$

عدد موردنظر در واقع مجموع سری زیر است :

$$\frac{12}{1000} + \frac{12}{(1000)^2} + \frac{12}{(1000)^3} + \dots + \frac{12}{(1000)^n} + \dots$$

همان‌طور که مشاهده می‌کنید یک سری هندسی با $a = \frac{12}{1000}$ و $r = \frac{1}{1000}$ داریم، و بنابر

قضیه ی قبل :

$$S = \frac{\frac{12}{1000}}{1 - \frac{1}{1000}} = \frac{12}{999}$$

مثال ۱۹: نشان می دهیم سری $\sum_{k=0}^{\infty} \frac{1}{k!}$ همگراست.

$$S_n = 1 + 1 + \frac{1}{1 \times 2} + \frac{1}{1 \times 2 \times 3} + \dots + \frac{1}{1 \times 2 \times \dots \times n}$$

$$< 1 + 1 + \frac{1}{2} + \frac{1}{2^2} + \dots + \frac{1}{2^{n-1}} < 3$$

دنباله $\{S_n\}$ صعودی و کراندار است، پس سری همگراست. مقدار سری را با e نمایش می دهند. می توان ثابت کرد e عددی است گنگ بین ۲ و ۳ و مقدار تقریبی آن $2/7183$ است. در حقیقت اثبات می کنند :

$$e = \lim_{n \rightarrow \infty} \left(1 + \frac{1}{n}\right)^n$$

قضیه ۱۰: اگر $\sum_{k=1}^{\infty} a_k$ و $\sum_{k=1}^{\infty} b_k$ دو سری همگرا و c عدد ثابتی باشد، آن گاه سری های

$$\sum_{k=1}^{\infty} ca_k, \sum_{k=1}^{\infty} (a_k + b_k) \text{ و } \sum_{k=1}^{\infty} (a_k - b_k) \text{ نیز همگراست و داریم:}$$

$$\sum_{k=1}^{\infty} ca_k = c \sum_{k=1}^{\infty} a_k$$

$$\sum_{k=1}^{\infty} (a_k \pm b_k) = \sum_{k=1}^{\infty} a_k \pm \sum_{k=1}^{\infty} b_k$$

اثبات: اگر $S_n = \sum_{k=1}^n a_k$ و $T_n = \sum_{k=1}^n ca_k$,

$$T_n = cS_n$$

و چون $\{S_n\}$ همگراست، $\{T_n\}$ نیز همگراست و در نتیجه

$$\lim_{n \rightarrow \infty} T_n = c \lim_{n \rightarrow \infty} S_n$$

و این یعنی

$$\sum_{k=1}^{\infty} ca_k = c \sum_{k=1}^{\infty} a_k$$

اثبات حالت های دیگر به عنوان تمرین برعهده ی دانش آموزان است.

این بخش را با ارائه‌ی چند مثال دیگر به پایان می‌رسانیم.

مثال ۲۰: می‌خواهیم نشان دهیم سری $\sum_{k=1}^{\infty} \frac{1}{k(k+1)}$ همگراست.

توجه کنید که

$$\frac{1}{k(k+1)} = \frac{(k+1) - k}{k(k+1)} = \frac{1}{k} - \frac{1}{k+1}$$

پس

$$\begin{aligned} S_n &= \sum_{k=1}^n \frac{1}{k(k+1)} = \sum_{k=1}^n \left(\frac{1}{k} - \frac{1}{k+1} \right) \\ &= \left(1 - \frac{1}{2} \right) + \left(\frac{1}{2} - \frac{1}{3} \right) + \dots + \left(\frac{1}{n} - \frac{1}{n+1} \right) \\ &= 1 - \frac{1}{n+1} \end{aligned}$$

$$\lim_{n \rightarrow \infty} S_n = \lim_{n \rightarrow \infty} \left(1 - \frac{1}{n+1} \right) = \lim_{n \rightarrow \infty} 1 - \lim_{n \rightarrow \infty} \frac{1}{n+1} = 1$$

در نتیجه

و سری به عدد ۱ همگراست.

مثال ۲۱: سری

$$\sum_{k=1}^{\infty} \frac{2k+1}{(k^2+1)(k^2+2k+2)}$$

همگراست. از

$$2k+1 = (k+1)^2 - k^2 = (k+1)^2 + 1 - (k^2+1)$$

داریم:

$$\begin{aligned} \frac{2k+1}{(k^2+1)(k^2+2k+2)} &= \frac{2k+1}{(k^2+1)((k+1)^2+1)} \\ &= \frac{1}{k^2+1} - \frac{1}{(k+1)^2+1} \end{aligned}$$

پس می‌توان نوشت

$$S_n = \sum_{k=1}^n \left(\frac{1}{k^2+1} - \frac{1}{(k+1)^2+1} \right)$$

$$= \left(\frac{1}{2} - \frac{1}{5}\right) + \left(\frac{1}{5} - \frac{1}{10}\right) + \dots + \left(\frac{1}{n^2+1} - \frac{1}{(n+1)^2+1}\right)$$

$$= \frac{1}{2} - \frac{1}{(n+1)^2+1}$$

و بالاخره $\lim_{n \rightarrow \infty} S_n = \frac{1}{2}$. پس سری به عدد $\frac{1}{2}$ همگراست.

مثال ۲۲: در مورد همگرایی یا واگرایی سری $\sum_{k=1}^{\infty} \log \frac{k}{k+1}$ چه می توان گفت؟

$$\log \frac{k}{k+1} = \log k - \log(k+1) \quad \text{چون}$$

داریم

$$S_n = \sum_{k=1}^n \log \frac{k}{k+1} = \sum_{k=1}^n (\log k - \log(k+1))$$

$$= (\log 1 - \log 2) + (\log 2 - \log 3) + \dots + (\log n - \log(n+1))$$

$$= \log 1 - \log(n+1) = -\log(n+1)$$

و می توان n را چنان بزرگ اختیار کرد که $|S_n|$ از هر عدد دلخواه بزرگ تر باشد، پس دنباله ی $\{S_n\}$ و در نتیجه سری $\sum_{k=1}^{\infty} \log \frac{k}{k+1}$ واگراست.

تمرین ها

۱- نشان دهید سری های زیر واگرایند.

$$\sum_{k=1}^{\infty} \frac{1}{\sqrt{k}} \quad (\text{ج}) \quad \sum_{k=1}^{\infty} \frac{1}{\sqrt{k-1} + \sqrt{k}} \quad (\text{ب}) \quad \sum_{k=1}^{\infty} \frac{2k-1}{2k} \quad (\text{الف})$$

۲- الف) a و b را چنان تعیین کنید که برای هر $k \in \mathbb{N}$

$$\frac{1}{4k^2-1} = \frac{a}{2k-1} + \frac{b}{2k+1}$$

ب) مجموع سری $\sum_{k=1}^{\infty} \frac{1}{4k^2-1}$ را به دست آورید.

۳- ثابت کنید که سری‌های زیر همگرایند و مقدار آن‌ها را حساب کنید.

(الف) $\sum_{k=1}^{\infty} \frac{1}{(3k-1)(3k+2)}$ (ب) $\sum_{k=1}^{\infty} (-1)^{k+1} \frac{2k+1}{k(k+1)}$

(ج) $\sum_{k=1}^{\infty} \frac{3^k + 4^k}{6^k}$ (د) $\sum_{k=1}^{\infty} \frac{1}{k(k+1)(k+2)}$


(هـ) $\sum_{k=1}^{\infty} \log \frac{k(k+2)}{(k+1)^2}$

۴- اعداد با بسط اعشاری داده شده در زیر را به شکل یک سری نوشته و مقدار هریک را به دست آورید:

(الف) $0.222222\dots$ (ب) $0.499999\dots$

(ج) $0.212121\dots$ (د) $0.36717171\dots$

۵- فرض کنید که در مربعی به طول اضلاع ۱ نقاط میانی اضلاع آن را به هم وصل و بخشی از آن را رنگ کنیم، مطابق شکل زیر. اگر این روند را برای رنگ کردن سطح آن ادامه دهیم، در نهایت چه سطحی از مربع رنگ می‌شود؟



حد و پیوستگی

۳-۱- مفهوم حد

در سال‌های قبل با مفهوم حد و نحوه‌ی حدس زدن آن در یک نقطه و حد چپ و راست، آشنا شده‌اید. در این فصل پس از بیان مسائل شهودی حد، تعریف دقیق آن را مطرح کرده فضایی مهم مربوط به حد را بیان و برخی از آن‌ها را اثبات می‌کنیم.

مثال ۱: تابع‌های حقیقی زیر و دو دنباله‌ی $\{1 - (0/1)^n\}$ و $\{1 + (0/1)^n\}$ را در نظر

بگیرید :

$$f(x) = 2x + 1$$

$$g(x) = \frac{2x^2 - x - 1}{x - 1} \quad (x \neq 1)$$

$$h(x) = \begin{cases} 6 - 3x & x < 1 \\ 2x + 1 & x \geq 1 \end{cases}$$

$$i(x) = \begin{cases} 6 - 3x & x < 1 \\ 0 & x = 1 \\ 2x + 1 & x > 1 \end{cases}$$

$$j(x) = \begin{cases} 2x & x < 1 \\ 2x + 1 & x \geq 1 \end{cases}$$

$$k(x) = \begin{cases} 2x & x \leq 1 \\ 2x + 1 & x > 1 \end{cases}$$

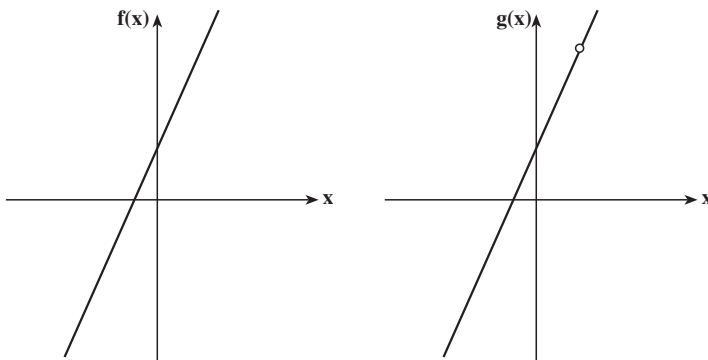
دنباله‌ی اول از چپ و دنباله‌ی دوم از راست به ۱ میل می‌کنند. در دو جدول زیر مقادیر تابع‌ها به‌ازای پنج جمله‌ی اول این دو دنباله و به‌ازای $x=1$ نمایش داده شده‌اند:

x	۰	۰/۹	۰/۹۹	۰/۹۹۹	۰/۹۹۹۹	...	۱
f	۱	۲/۸	۲/۹۸	۲/۹۹۸	۲/۹۹۹۸		۳
g	۱	۲/۸	۲/۹۸	۲/۹۹۸	۲/۹۹۹۸		تعریف نشده
h	۶	۳/۳	۳/۰۳	۳/۰۰۳	۳/۰۰۰۳		۳
i	۶	۳/۳	۳/۰۳	۳/۰۰۳	۳/۰۰۰۳		۰
j	۰	۱/۸	۱/۹۸	۱/۹۹۸	۱/۹۹۹۸		۳
k	۰	۱/۸	۱/۹۸	۱/۹۹۸	۱/۹۹۹۸		۲

x	۲	۱/۱	۱/۰۱	۱/۰۰۱	۱/۰۰۰۱	...	۱
f	۵	۳/۲	۳/۰۲	۳/۰۰۲	۳/۰۰۰۲		۳
g	۵	۳/۲	۳/۰۲	۳/۰۰۲	۳/۰۰۰۲		تعریف نشده
h	۵	۳/۲	۳/۰۲	۳/۰۰۲	۳/۰۰۰۲		۳
i	۵	۳/۲	۳/۰۲	۳/۰۰۲	۳/۰۰۰۲		۰
j	۵	۳/۲	۳/۰۲	۳/۰۰۲	۳/۰۰۰۲		۳
k	۵	۳/۲	۳/۰۲	۳/۰۰۲	۳/۰۰۰۲		۲

اکنون رفتار تابع‌های فوق را بررسی می‌کنیم:

مقدار تابع f در نقطه‌ی ۱، برابر ۳ است ولی تابع g در نقطه‌ی ۱ تعریف نشده است، هر دو تابع در اطراف نقطه‌ی ۱ وضعیت یکسانی دارند. مشاهده می‌شود که مقادیر هر دو تابع، نزدیک ۳ هستند و میزان نزدیک بودن آن‌ها به ۳، بستگی به میزان نزدیک بودن x به ۱ دارد. (توجه داشته باشید که وقتی گفته می‌شود x به ۱ میل می‌کند یا نزدیک می‌شود، x برابر با ۱ نیست.)
به نمودارهای زیر توجه کنید.



برای مثال، اگر بخواهیم حداکثر فاصله‌ی مقدار تابع (برای هر دو تابع فوق) از عدد ۳ به اندازه 0.02 باشد، مقدار x باید به اندازه 0.01 یا کمتر نزدیک ۱ باشد. در حالی که اگر بخواهیم حداکثر فاصله‌ی مقدار $f(x)$ یا $g(x)$ از ۳ به اندازه 0.002 باشد، باید x به اندازه‌ی 0.001 یا کمتر، از عدد ۱ فاصله داشته باشد. مفاهیم فوق را می‌توان به این صورت هم نوشت. برای 0.02 عدد 0.01 وجود دارد که اگر $0 < |x-1| < 0.01$ ، آن‌گاه $|f(x)-3| < 0.02$ و $0 < |x-1| < 0.01$ ، هم‌چنین برای 0.002 عدد 0.001 وجود دارد که اگر $0 < |x-1| < 0.001$ ، آن‌گاه $|f(x)-3| < 0.002$ و $|g(x)-3| < 0.002$ و به همین ترتیب هر چه بخواهیم می‌توانیم مقادیر این دو تابع را به عدد ۳ نزدیک کنیم و وسیله‌ی کار نزدیک بودن به ۱ است. در این صورت همان‌طور که می‌دانید، می‌گوییم حدّ تابع در نقطه‌ی ۱ برابر ۳ است و می‌نویسیم:

$$\lim_{x \rightarrow 1} f(x) = 3 \quad \text{و} \quad \lim_{x \rightarrow 1} g(x) = 3$$

به دو تابع h و i هم دقت کنید، چه تفاوتی می‌بینید؟ آیا نتایج فوق برای این دو تابع هم صادق‌اند؟

$$\text{(یعنی آیا } \lim_{x \rightarrow 1} h(x) = 3 \text{ و } \lim_{x \rightarrow 1} i(x) = 3 \text{؟)}$$

حال می‌خواهیم بینیم در حالت کلی مقصود از $\lim_{x \rightarrow a} f(x) = L$ چیست؟ مقصود این است

که: «به هر اندازه که بخواهیم می‌توانیم $f(x)$ را به L نزدیک کنیم. ابزار لازم برای این کار نزدیک کردن x به a است.» عبارت اخیر را به زبان ریاضی بیان می‌کنیم: فاصله‌ی $f(x)$ تا L را با $|f(x) - L|$ و فاصله‌ی x تا a را با $|x - a|$ نشان می‌دهیم. پس باید $|f(x) - L|$ از هر عدد دلخواهی کوچک‌تر شود و برای رسیدن به این هدف کافی است $|x - a|$ به اندازه‌ی کافی کوچک باشد. لذا تعریف دقیق را به صورت زیر بیان می‌کنیم:

تعریف: فرض می‌کنیم f تابعی باشد که دامنه آن شامل یک همسایگی چپ یا راست a باشد، می‌گویند تابع f در نقطه‌ی a ، حدّی برابر L دارد و می‌نویسند $\lim_{x \rightarrow a} f(x) = L$ هرگاه برای هر $\epsilon > 0$ ، عدد $\delta > 0$ وجود داشته باشد که برای هر x از دامنه f اگر $0 < |x - a| < \delta$ ، آن‌گاه $|f(x) - L| < \epsilon$.
به عبارت دیگر،

$$0 < |x - a| < \delta \Rightarrow |f(x) - L| < \epsilon, \quad \forall x \in D_f$$

۱- می‌توان هر عدد مثبت کوچک‌تر از δ هم در نظر گرفت، زیرا اگر δ_1 و δ_2 ، آن‌گاه $0 < |x - a| < \delta_1$

با استفاده از تعریف در مثال ۱ می‌توان ثابت کرد :

$$\lim_{x \rightarrow 1} f(x) = 3, \quad \lim_{x \rightarrow 1} g(x) = 3$$

$$\lim_{x \rightarrow 1} h(x) = 3, \quad \lim_{x \rightarrow 1} (x) = 3$$

مثلاً برای تابع g می‌خواهیم $|g(x) - 3|$ کمتر از ε باشد، یا $|2x + 1 - 3| < \varepsilon$ (چون همواره همسایگی محذوف موردنظر است مقدار $g(1)$ در حد نقشی ندارد.) یا $|2x - 2| = 2|x - 1| < \varepsilon$ و لذا کافی است $\frac{\varepsilon}{2} < |x - 1| < \frac{\varepsilon}{2}$ (یا عددی کمتر از آن) در نظر گرفته شود. پس برای هر $\varepsilon > 0$ ، عدد $\delta = \frac{\varepsilon}{2} > 0$ وجود دارد که برای هر x در دامنه g

$$0 < |x - 1| < \delta = \frac{\varepsilon}{2} \Rightarrow |g(x) - 3| < \varepsilon$$

و برای تابع h می‌خواهیم $|h(x) - 3|$ کمتر از ε باشد. برای هر نقطه در یک همسایگی محذوف 1 ، یکی از دو حالت زیر اتفاق می‌افتد :

الف) $x > 1$. در این صورت $|h(x) - 3| = |2x + 1 - 3| = 2|x - 1| < \varepsilon$ که برای رسیدن به هدف، کافی است $\frac{\varepsilon}{2} < |x - 1| < \frac{\varepsilon}{2}$ انتخاب شود.

ب) $x < 1$. در این صورت $|h(x) - 3| = |6 - 3x - 3| = 3|x - 1| < \varepsilon$ که برای رسیدن به هدف، کافی است $\frac{\varepsilon}{3} < |x - 1| < \frac{\varepsilon}{3}$ انتخاب شود.

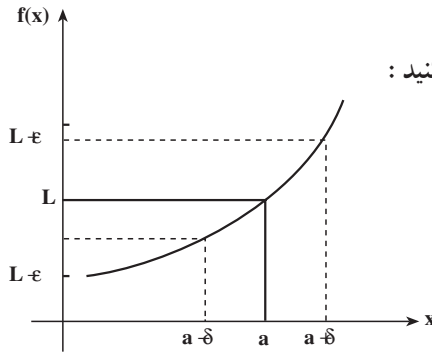
پس برای هر $\varepsilon > 0$ ، و برای هر x در دامنه h

$$0 < |x - 1| < \delta = \frac{\varepsilon}{3} \Rightarrow |h(x) - 3| < \varepsilon$$

(دقت کنید که این‌جا حتی برای نقطه‌ی $x = 1$ شرط برقرار است، ولی از نظر مفهوم حد اهمیتی ندارد ولی همان‌طور که بعداً می‌بینیم این یک شرط اساسی برای پیوستگی است.)

بررسی هندسی تعریف حد

$\lim_{x \rightarrow a} f(x) = L$ از نظر هندسی یعنی این‌که برای هر ε همسایگی L یک δ همسایگی محذوف a وجود دارد که تصویر هر نقطه‌ی این δ همسایگی محذوف در داخل ε همسایگی L قرار



گیرد. به شکل زیر توجه کنید :

مثال ۲: به راحتی می توان دید که تابع

$$f(x) = \begin{cases} x+1 & x > 1 \\ 0 & x = 0 \end{cases}$$

در نقطه ۰ حد ندارد. (چرا؟)

گاهی برای پیدا کردن حد، ساده تر است با انتقال، متغیر دیگری را انتخاب کنیم. اساس این عمل نکته زیر است :

نکته: به راحتی دیده می شود که به جای بررسی رفتار تابع f در اطراف نقطه a ، می توان رفتار تابع g ، $g(t) = f(a+t)$ ، در اطراف نقطه صفر را مطالعه کرد و در نتیجه با استفاده از تعریف داریم :

$$\lim_{t \rightarrow 0} f(a+t) = L \quad \text{اگر و تنها اگر} \quad \lim_{x \rightarrow a} f(x) = L$$

$$\text{مثلاً،} \quad \lim_{x \rightarrow 1} (x-1)^2 = \lim_{t \rightarrow 0} t^2 = 0$$

۳-۲- حد چپ و راست

در مثال ۱، به مقادیر مختلف تابع های z و k در دو طرف نقطه ی ۱ دقت کنید، مشاهده می شود که در طرف راست، هر دو تابع به سمت ۳ ولی در طرف چپ، به سمت ۲ میل می کنند. تعریف: فرض کنیم تابع f در یک همسایگی نقطه a تعریف شده باشد. می گویند تابع f در نقطه ی a ، حد راست برابر L دارد و می نویسند :

$$\lim_{x \rightarrow a^+} f(x) = L$$

هرگاه برای هر $\epsilon > 0$ ، عدد $\delta > 0$ وجود داشته باشد که برای هر x از دامنه f ، اگر $0 < x - a < \delta$ ، آن گاه

$$|f(x) - L| < \epsilon$$

(می دانیم که $0 < x - a < \delta$ با $a < x < a + \delta$ معادل است).

می‌گویند تابع f در نقطه‌ی a ، حدّ چپ برابر L دارد و می‌نویسند: $\lim_{x \rightarrow a^-} f(x) = L$
هرگاه برای هر $\epsilon > 0$ ، عدد $\delta > 0$ وجود داشته باشد که برای هر x از دامنه f ، اگر $0 < a - x < \delta$ ، آن‌گاه $|f(x) - L| < \epsilon$.

با استفاده از تعریف‌های فوق برای مثال ۱، می‌توان ثابت کرد:

$$\begin{aligned} \lim_{x \rightarrow 1^+} f(x) &= \lim_{x \rightarrow 1^+} g(x) = \lim_{x \rightarrow 1^+} h(x) = \lim_{x \rightarrow 1^+} i(x) \\ &= \lim_{x \rightarrow 1^+} j(x) = \lim_{x \rightarrow 1^+} k(x) = 3 \\ \lim_{x \rightarrow 1^-} f(x) &= \lim_{x \rightarrow 1^-} g(x) = \lim_{x \rightarrow 1^-} h(x) = \lim_{x \rightarrow 1^-} i(x) = 3 \end{aligned}$$

ولی

$$\lim_{x \rightarrow 1^-} j(x) = \lim_{x \rightarrow 1^-} k(x) = 2$$

چون حدّ چپ و راست برای توابع j و k در نقطه‌ی ۱ برابر نیستند، به راحتی می‌توان ثابت کرد که این دو تابع در نقطه‌ی ۱ حد ندارند. به طور کلی می‌توان ثابت کرد:

نکته ۱- تابع f که در یک همسایگی محذوف نقطه‌ی a تعریف شده است، در نقطه‌ی a حد دارد اگر و تنها اگر حدّ چپ و حدّ راست f در نقطه‌ی a موجود و با هم برابر باشند. به عبارت دیگر،

$$\lim_{x \rightarrow a^+} f(x) = \lim_{x \rightarrow a^-} f(x) = L \text{ اگر و تنها اگر } \lim_{x \rightarrow a} f(x) = L$$

نکته ۲- اگر تابع f فقط در همسایگی راست (همسایگی چپ) a تعریف شده باشد، حد راست

(حد چپ) f در a همان حد f در a خواهد بود.

تمرین‌ها

۱- حد تابع‌های زیر را در نقطه دلخواه $a \in \mathbb{R}$ حدس زده و ادعای خود را ثابت کنید.

(الف) $f(x) = c$ (یک عدد حقیقی است).

(ب) $f(x) = x$.

(ج) $f(x) = bx + c$ که در آن c و b دو عدد حقیقی ثابت‌اند.

۲- با استفاده از تعریف حد ثابت کنید:

$$\lim_{x \rightarrow 1^-} \frac{4x^2 - 4}{x - 1} = 8 \quad (\text{ج})$$

$$\lim_{x \rightarrow 1} \sqrt{x - 1} = 0 \quad (\text{ب})$$

$$\lim_{x \rightarrow 3} (x^2 - 6x) = -9 \quad (\text{الف})$$

۳-۳- دنباله‌ها و حد

همان‌طور که در تعریف دیدیم، لازمی وجود حد در نقطه‌ی a این است که دامنه‌ی تابع f شامل یک همسایگی چپ یا راست a باشد. بنابراین اگر تابع در یک همسایگی چپ a یا در یک همسایگی راست a تعریف نشده باشد، در آن نقطه حد ندارد. یکی دیگر از راه‌های تشخیص عدم وجود حد در یک نقطه درونی، عدم وجود حد چپ یا راست و یا نامساوی بودن حد چپ و راست در آن نقطه است (مانند توابع z و k در مثال ۱). اما روش‌های دیگری نیز وجود دارند. قضیه‌ی زیر با استفاده از مفهوم حد دنباله‌ها، راه دیگری را پیشنهاد می‌کند.

قضیه‌ی ۱: فرض کنید $\lim_{x \rightarrow a} f(x) = L$ ، در این صورت برای هر دنباله از عضوهای دامنه f مانند $\{a_n\}$ که به a همگرا باشد، و برای هر $a_n \neq a$ ، n ، آن‌گاه دنباله‌ی $\{f(a_n)\}$ نیز به L همگراست.^۱
اثبات: نشان می‌دهیم اگر $\lim_{x \rightarrow a} f(x) = L$ و $\{a_n\}$ دنباله‌ای همگرا به a با شرط مذکور باشد آن‌گاه $\lim_{n \rightarrow \infty} f(a_n) = L$. برای این کار باید ثابت کنیم برای هر $\epsilon > 0$ ، عدد طبیعی M یافت می‌شود که برای هر $n \geq M$ نتیجه بگیریم $|f(a_n) - L| < \epsilon$. اما داریم:

$$\forall \epsilon > 0, \exists \delta > 0, \forall x \in D_f \left(0 < |x - a| < \delta \Rightarrow |f(x) - L| < \epsilon \right)$$

و چون دنباله‌ی $\{a_n\}$ به a همگراست، برای $\delta > 0$ ، عدد طبیعی M وجود دارد که اگر $n \geq M$ ، آن‌گاه $|a_n - a| < \delta$ پس $|f(a_n) - L| < \epsilon$ یعنی:

$$\forall \epsilon > 0, \exists M \in \mathbb{N}, \forall n \in \mathbb{N} (n \geq M \Rightarrow |f(a_n) - L| < \epsilon) \quad \text{یا}$$

$$\lim_{n \rightarrow \infty} f(a_n) = L$$

نتیجه‌ی ۱: اگر $\{a_n\}$ و $\{b_n\}$ دو دنباله از عضوهای دامنه f باشند که هر دو به a همگرا بوده و برای هر n ، $a_n \neq a$ و $b_n \neq a$ ، ولی دنباله‌های $\{f(a_n)\}$ و $\{f(b_n)\}$ به ترتیب به L_1 و L_2 همگرا شوند و $L_1 \neq L_2$ ، آن‌گاه $\lim_{x \rightarrow a} f(x)$ وجود ندارد.

۱- حتی اگر حداکثر برای تعدادی متناهی n ، $a_n = a$ ، قضیه‌ی ۱ درست است و یا اگر مقدار حد تابع در نقطه‌ی a ، برابر $f(a)$ باشد، به ازای همه‌ی دنباله‌های $\{a_n\}$ به شرط آن که $\lim_{n \rightarrow \infty} a_n = a$ قضیه برقرار است.

نتیجه‌ی ۲: اگر دنباله $\{c_n\}$ از عضوهای دامنه f همگرا به a باشد و برای هر n ، $c_n \neq a$ ، و $\{f(c_n)\}$ واگرا باشد، آن‌گاه $\lim_{x \rightarrow a} f(x)$ وجود ندارد.

برای نمایش نحوه‌ی به کارگیری نتایج فوق به مثال‌های زیر توجه کنید:

مثال ۳: تابع حقیقی

$$f(x) = \begin{cases} x & \text{گویا} \\ 0 & \text{اصم} \end{cases}$$

را در نظر گرفته، فرض می‌کنیم a عددی گویا باشد. ثابت می‌کنیم که f در a حد ندارد.

اگر $\{a_n\}$ دنباله‌ای از اعداد گویا باشد که به سمت عدد گویای a میل کند (مثلاً $a_n = a + \frac{1}{n}$)، در این صورت $\lim_{n \rightarrow \infty} f(a_n) = 1$. در حالی که اگر b_n دنباله‌ای از اعداد اصم باشد که به سمت همان عدد گویای a میل کند (مثلاً $b_n = a + \frac{\sqrt{2}}{n}$)، در این صورت $\lim_{n \rightarrow \infty} f(b_n) = 0$. لذا تابع در نقطه a نمی‌تواند حد داشته باشد (چرا؟).

مثال ۴: $f(x) = \sin \frac{1}{x}$ در نقطه 0 حد ندارد.

دو دنباله‌ی $\left\{ \frac{1}{2n\pi} \right\}$ و $\left\{ \frac{1}{(2n+1)\pi} \right\}$ از دامنه f را در نظر می‌گیریم که هر دو به صفر همگرایند.

ولی برای هر n ، $f\left(\frac{1}{2n\pi}\right) = 0$ و $f\left(\frac{1}{(2n+1)\pi}\right) = 1$. لذا دو دنباله‌ی ثابت $\left\{ f\left(\frac{1}{2n\pi}\right) \right\}$ و

$\left\{ f\left(\frac{1}{(2n+1)\pi}\right) \right\}$ به ترتیب به دو مقدار 0 و 1 همگرایند. پس $\lim_{x \rightarrow 0} \sin \frac{1}{x}$ وجود ندارد.

یکی دیگر از کاربردهای قضیه ۱، اثبات یکتایی حد است، که برای نمونه قضیه زیر را بیان و

اثبات می‌کنیم:

قضیه‌ی ۲: مقدار حد تابع f در نقطه‌ی a ، در صورت وجود، یکتا است (یعنی اگر

$$\lim_{x \rightarrow a} f(x) = L_1 \text{ و } \lim_{x \rightarrow a} f(x) = L_2 \text{، آن‌گاه } L_1 = L_2).$$

اثبات: دیدیم که حد دنباله‌ها در صورت وجود یکتاست. پس برای دنباله $\{a_n\}$ با عضوهای

دامنه f همگرا به a ، $a_n \neq a$ (مثلاً $a_n = a + \frac{1}{n}$) برای هر $n \in \mathbb{N}$ ، $\{f(a_n)\}$ نمی‌تواند به L_1 و L_2 همگرا باشد مگر این که $L_1 = L_2$. پس حد f یکتاست.

**

نکته: عکس قضیه‌ی ۱ هم برقرار است، یعنی اگر برای هر دنباله‌ی $\{a_n\}$ از عضوهای دامنه f که به a همگرا باشد و برای هر n ، $a_n \neq a$ دنباله‌ی $\{f(a_n)\}$ به L همگرا شد، آن‌گاه $\lim_{x \rightarrow a} f(x) = L$.

مثال ۵: با استفاده از نکته‌ی فوق نشان می‌دهیم:

الف) برای $f(x) = x^2$ ، $\lim_{x \rightarrow 2} f(x) = 4$. زیرا اگر $\{a_n\}$ دنباله‌ای دلخواه و همگرا به ۲ باشد به طوری که برای هر n ، $a_n \neq 2$ ، آن‌گاه $f(a_n) = a_n^2$. اما برای دنباله $\{a_n^2\}$ داریم:

$$\lim_{n \rightarrow \infty} a_n^2 = \lim_{n \rightarrow \infty} a_n \cdot \lim_{n \rightarrow \infty} a_n = 2 \times 2 = 4$$

ب) برای $g(x) = \frac{1}{x}$ ، $\lim_{x \rightarrow 2} g(x) = \frac{1}{4}$. زیرا اگر $\{a_n\}$ دنباله‌ای دلخواه و همگرا به ۲ باشد، به طوری که برای هر n ، $a_n \neq 2$ ، آن‌گاه $g(a_n) = \frac{1}{a_n}$. اما برای دنباله $\left\{\frac{1}{a_n}\right\}$ داریم:

$$\lim_{n \rightarrow \infty} \frac{1}{a_n} = \frac{1}{\lim_{n \rightarrow \infty} a_n} = \frac{1}{4}$$

(توجه کنید که شرایط قضیه‌های ۴ و ۵ فصل ۲ برقرار است.)

نکته: اگر بخواهیم حد راست و چپ را با استفاده از دنباله‌ها بررسی کنیم. کافی است دنباله‌ی دلخواه $\{a_n\}$ همگرا به a در شرط $a_n > a$ (برای حد راست) و $a_n < a$ (برای حد چپ)، برای هر n صدق کند.

تمرین‌ها

۱- ثابت کنید توابع زیر در نقطه‌ی 0 حد ندارند.

$$f(x) = \begin{cases} x & x \geq 0 \\ 1 & x < 0 \end{cases} \quad \text{الف)}$$

ب) $f(x) = \cos \frac{1}{x}$ با $D_f = \mathbb{R} - \{0\}$

ج) $f(x) = \frac{1}{x}$ با $D_f = \mathbb{R} - \{0\}$

۲- ثابت کنید اگر تابع f در نقطه‌ی a حدّ راست داشته باشد، آن‌گاه دنباله‌ی $\left\{f\left(a + \frac{1}{n}\right)\right\}$ حدّ

دارد.

۳- نشان دهید توابع زیر در نقاط داده شده حد ندارند.

الف) $\frac{|x|}{x}$ در نقطه‌ی ۰

ب) $x[x]$ در نقطه‌ی ۱

۴- ثابت کنید.

ب) $\lim_{x \rightarrow 1} \frac{2x+1}{2x-1} = 3$

الف) $\lim_{x \rightarrow 3} \frac{x^3+9}{x^2} = 4$

۳-۴ قضیه‌های حد

ثابت کردیم که برای هر عدد حقیقی a ، $\lim_{x \rightarrow a} x^2 = a^2$. از طرف دیگر، تابع فوق را می‌توان به

صورت حاصل ضرب تابع $g(x) = x$ در خودش نیز در نظر گرفت، که برای آن $\lim_{x \rightarrow a} g(x) = a$

(چرا؟). پس به نظر می‌آید که

$$\lim_{x \rightarrow a} g(x) \lim_{x \rightarrow a} g(x) = \lim_{x \rightarrow a} x^2$$

در قضایای زیر که بدون اثبات بیان می‌شوند، مسائلی از این قبیل که درباره‌ی جمع، ضرب،

تفریق، و تقسیم توابع اند مورد بررسی قرار می‌گیرند. اما قبل از آن می‌توان نشان داد که

مثال ۶: اگر تابع حقیقی f ثابت باشد، یعنی برای هر x ، $f(x) = c$ ، آن‌گاه $\lim_{x \rightarrow a} f(x) = c$

(چرا؟).

قضیه‌ی ۳: اگر $\lim_{x \rightarrow a} f(x) = L$ ، آن‌گاه برای عدد حقیقی ثابت c داریم

$$\lim_{x \rightarrow a} cf(x) = cL.$$

قضیه‌ی ۴: توابع f و g روی یک همسایگی چپ یا راست یا هر دو نقطه a تعریف شده‌اند، اگر

$$\lim_{x \rightarrow a} f(x) = L_1 \text{ و } \lim_{x \rightarrow a} g(x) = L_2 \text{، آن‌گاه}$$

$$\lim_{x \rightarrow a} (f(x) \pm g(x)) = L_1 \pm L_2$$

نکته: باید دقت کرد که شرط استفاده از این قضیه این است که $\lim_{x \rightarrow a} f(x)$ و $\lim_{x \rightarrow a} g(x)$ هر

دو موجود باشند، در غیر این صورت نمی‌توان از این قضیه استفاده کرد. به طور مثال برای

$$f(x) = \sin \frac{1}{x} \text{ و } g(x) = 1 - \sin \frac{1}{x}$$

$$h(x) = f(x) + g(x) = 1 \quad \text{داریم}$$

h همواره حد دارد. در صورتی که توابع f و g هیچ کدام در نقطه صفر حد ندارند (چرا؟).

مثال ۷: می‌توان ثابت کرد که

$$\lim_{x \rightarrow 1} (4x^2 - 3x + 1) = 2$$

$$\lim_{x \rightarrow 1} 4x^2 = 4 \lim_{x \rightarrow 1} x^2 = 4 \quad \text{چون}$$

$$\text{و } \lim_{x \rightarrow 1} (-3x) = (-3) \lim_{x \rightarrow 1} x = -3 \text{ پس}$$

$$\begin{aligned} \lim_{x \rightarrow 1} (-3x + 1) &= \lim_{x \rightarrow 1} (-3x) + \lim_{x \rightarrow 1} 1 \\ &= -3 + 1 = -2 \end{aligned}$$

بنابراین

$$\begin{aligned} \lim_{x \rightarrow 1} (4x^2 - 3x + 1) &= \lim_{x \rightarrow 1} 4x^2 + \lim_{x \rightarrow 1} (-3x + 1) \\ &= 4 - 2 = 2 \end{aligned}$$

قضیه‌ی ۵: اگر تابع f در نقطه‌ی a حد داشته باشد، آن‌گاه در یک همسایگی a کراندار است.

یعنی اعداد $M > 0$ و $\delta > 0$ وجود دارند که برای هر x از دامنه f که $0 < |x - a| < \delta$ داریم

$$|f(x)| < M$$

یادآوری می‌کنیم که تابع f روی مجموعه‌ی A کراندار است هرگاه

$$f(A) = \{f(x) : x \in A\}$$

به عنوان یک زیر مجموعه از اعداد حقیقی کراندار باشد. در این صورت عدد حقیقی مثبت M وجود

$$\text{دارد که برای هر } x \in A, |f(x)| < M.$$

قضیه ۶: اگر حد تابع f در نقطه a ، صفر و تابع g در یک همسایگی (محدوف) a کراندار

$$\lim_{x \rightarrow a} f(x)g(x) = 0 \text{ باشد، آن گاه } \circ$$

$$\text{نکته: } \lim_{x \rightarrow a} f(x) = L \text{ اگر و تنها اگر } \lim_{x \rightarrow a} (f(x) - L) = 0$$

قضیه ۷: اگر تابع های f و g روی یک همسایگی چپ یا راست یا هر دو نقطه a تعریف شده

$$\lim_{x \rightarrow a} f(x) = L_1, \lim_{x \rightarrow a} f(x) = L_2 \text{ باشند و}$$

آن گاه

$$\lim_{x \rightarrow a} f(x)g(x) = L_1 L_2$$

مثال ۸: برای اعداد حقیقی ثابت c, c_1, c_2, \dots, c_n ، عبارت

$$P_n(x) = c + c_1x + c_2x^2 + \dots + c_nx^n$$

را یک چند جمله‌ای از درجه n می‌نامیم (به شرط این که $c_n \neq 0$)
با استفاده از قضایای فوق می‌توان ثابت کرد که

$$\lim_{x \rightarrow a} P_n(x) = c + c_1a + c_2a^2 + \dots + c_na^n = P_n(a)$$

(چرا؟)

قضیه ۸: اگر $\lim_{x \rightarrow a} f(x) = L_1$ و $\lim_{x \rightarrow a} g(x) = L_2 \neq 0$ ، آن گاه

$$\lim_{x \rightarrow a} \frac{1}{g(x)} = \frac{1}{L_2} \text{ (الف)}$$

$$\lim_{x \rightarrow a} \frac{f(x)}{g(x)} = \frac{L_1}{L_2} \text{ (ب)}$$

قضیه ۹: اگر n یک عدد طبیعی باشد و $\lim_{x \rightarrow a} f(x) = L$ ، آن گاه

(الف)

$$\lim_{x \rightarrow a} f^n(x) = \lim_{x \rightarrow a} (f(x))^n = L^n$$

(ب) اگر علاوه بر آن $L > 0$ ، آن گاه

$$\lim_{x \rightarrow a} \sqrt[n]{f(x)} = \sqrt[n]{L}$$

۱- می‌توان ثابت کرد که برای هر عدد طبیعی n ، $\lim_{n \rightarrow a} x^n = a^n$ و پس از آن برای چند جمله‌ای‌های ساده $c + c_1x + c_2x^2 + \dots + c_nx^n$

و $P_n(x) = c + c_1x + c_2x^2 + \dots + c_nx^n$ مثال را به اثبات رساند، تا روش کلی را بهتر درک کرد.

مثال ۹: بنا به قضیه‌های فوق داریم

$$\lim_{x \rightarrow 1} (4x^2 - 3x + 1)(2x + 1) = 6 \quad (\text{الف})$$

$$\lim_{x \rightarrow 1} (4x^2 - 3x + 1)^4 = 2^4 = 16 \quad (\text{ب})$$

$$\lim_{x \rightarrow 1} \frac{2x + 1}{4x^2 - 3x + 1} = \frac{3}{2} \quad (\text{ج})$$

$$\lim_{x \rightarrow 1} \sqrt{\frac{2x + 1}{4x^2 - 3x + 1}} = \sqrt{\frac{3}{2}} \quad (\text{د})$$

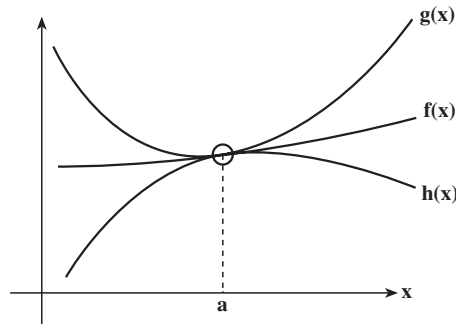
$$\lim_{x \rightarrow 1} \sqrt[3]{\frac{1}{(4x^2 - 3x + 1)^4}} = \sqrt[3]{\frac{1}{2^4}} = 2^{-\frac{4}{3}} \quad (\text{ه})$$

قضیه‌ی ۱۰: اگر در یک همسایگی محذوف a ، $h(x) \leq f(x) \leq g(x)$ و

$$\lim_{x \rightarrow a} h(x) = \lim_{x \rightarrow a} g(x) = L$$

آن‌گاه

$$\lim_{x \rightarrow a} f(x) = L$$



اثبات: باید نشان دهیم که برای هر دنباله دلخواه، $\{a_n\}$ و $a_n \neq a$ و $\lim_{n \rightarrow \infty} a_n = a$ دنباله

$\{f(a_n)\}$ به L همگراست.

ولی برای هر دنباله $\{a_n\}$ ، عدد طبیعی M وجود دارد که برای $n \geq M$ ، a_n داخل همسایگی

محذوف مورد نظر قرار گیرد. بنابراین برای $n \geq M$ داریم:

$$h(a_n) \leq f(a_n) \leq g(a_n)$$

و چون دنباله‌های $\{g(a_n)\}$ و $\{h(a_n)\}$ هر دو همگرا به L هستند، بنابراین دنباله $\{f(a_n)\}$ نیز به L

همگراست.

مثال ۱۰: نشان می‌دهیم $\lim_{x \rightarrow 0} x \sin \frac{1}{x} = 0$.

راه اول: $|\sin \frac{1}{x}| \leq 1$ ، یعنی $\sin \frac{1}{x}$ تابعی است که در همسایگی محذوف 0 کراندار و

$\lim_{x \rightarrow 0} x = 0$ پس $\lim_{x \rightarrow 0} x \sin \frac{1}{x} = 0$.

راه دوم: $-1 \leq \sin \frac{1}{x} \leq 1$. در نتیجه $x \sin \frac{1}{x}$ همواره بین x و $-x$ است (در مورد $x > 0$ و

$x < 0$ بحث کنید.) و چون $\lim_{x \rightarrow 0} x = \lim_{x \rightarrow 0} (-x) = 0$ ، پس $\lim_{x \rightarrow 0} x \sin \frac{1}{x} = 0$.

تمرین‌ها

۱- حدهای زیر را به دست آورید.

(ب) $\lim_{x \rightarrow 3} (x^3 + 27)$

(الف) $\lim_{x \rightarrow 4} (5x + 2)$

(د) $\lim_{x \rightarrow 1^+} \frac{2x + 1}{x^2 - 3x + 4}$

(ج) $\lim_{x \rightarrow \frac{1}{3}} \frac{3x - 1}{9x^2 - 1}$

(و) $\lim_{x \rightarrow 1} \frac{\sqrt{x+2} - \sqrt{2}}{x}$

(ه) $\lim_{x \rightarrow 0} \frac{\sqrt{x+9} - 3}{x}$

۲- ثابت کنید که $\lim_{x \rightarrow 0} x \left[\frac{1}{x} \right] = 1$.

۳- ثابت کنید که

(ب) $\lim_{x \rightarrow 0} \cos x = 1$

(الف) $\lim_{x \rightarrow 0} \sin x = 0$

(د) $\lim_{x \rightarrow a} \cos x = \cos a$

(ج) $\lim_{x \rightarrow a} \sin x = \sin a$

۴- فرض کنیم $\lim_{x \rightarrow a} f(x) = L$. در این صورت

(الف) هرگاه $L > 0$ ، ثابت کنید که f در یک همسایگی محذوف a مثبت است.

(ب) هرگاه $L < 0$ ، ثابت کنید که f در یک همسایگی محذوف a منفی است.

(ج) اگر $L = 0$ ، چه می‌توان گفت؟

۵- حدهای زیر را به دست آورید. (می دانیم $\lim_{x \rightarrow 0} \frac{\sin x}{x} = 1$)

الف) $\lim_{x \rightarrow 0} \frac{\sin nx}{\sin mx} \quad m \neq 0$

ب) $\lim_{x \rightarrow 0} \frac{\sin 5x - \sin 3x}{\sin x}$

ج) $\lim_{x \rightarrow 0} \frac{6x - \sin 2x}{2x + 3 \sin 4x}$

۶- اگر در یک همسایگی محذوف a داشته باشیم $f(x) \leq g(x)$ و اگر $\lim_{x \rightarrow a} f(x) = L_1$ و

$\lim_{x \rightarrow a} g(x) = L_2$ ، ثابت کنید که $L_1 \leq L_2$. (حتی اگر $f(x) < g(x)$ نتیجه می شود $L_1 \leq L_2$).

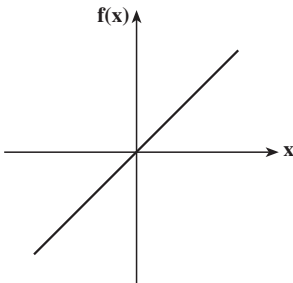
۷- قضیه های ۳ و ۴ را با استفاده از دنباله ها ثابت کنید.

۳-۵ پیوستگی در نقطه

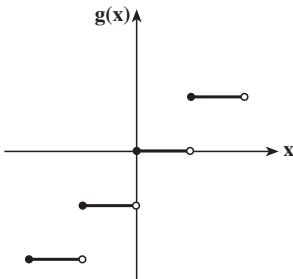
با مفهوم پیوستگی تابع در یک نقطه در سال قبل آشنا شده ایم. به طور شهودی تابعی را در

نقطه ای a پیوسته گویند که نمودار آن در نقطه ای a بریدگی و یا پرش نداشته باشد.

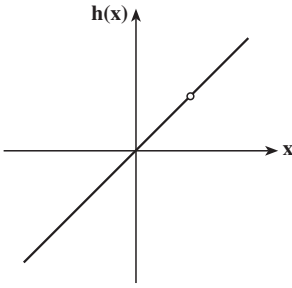
مثال ۱۱: به نمودار تابع های حقیقی زیر در نقطه ای a توجه کنید:



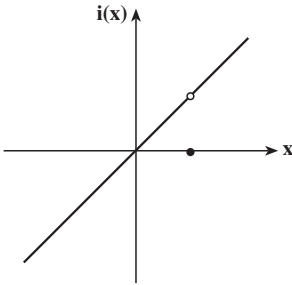
الف) $f(x) = x$



ب) $g(x) = [x]$



$$h(x) = \frac{x(x-1)}{x-1}, \quad x \neq 1 \quad \text{ج}$$



$$i(x) = \begin{cases} x & x \neq 1 \\ 0 & x = 1 \end{cases} \quad \text{د}$$

از میان تابع‌های فوق، فقط تابع f در نقطه‌ی ۱ بریدگی ندارد. حال حد این تابع‌ها را در نقطه‌ی ۱ بررسی می‌کنیم. چون $\lim_{x \rightarrow 1^+} g(x) = 1$ و $\lim_{x \rightarrow 1^-} g(x) = 0$ پس تابع g در نقطه‌ی ۱ حد ندارد. از طرف دیگر، $\lim_{x \rightarrow 1} h(x) = 1$ ولی تابع در نقطه‌ی ۱ تعریف نشده است. بالاخره $\lim_{x \rightarrow 1} i(x) = 1$ ولی مقدار حد برابر مقدار تابع در این نقطه نیست، که این مسئله باز هم منجر به بریدگی تابع در نقطه ۱ می‌شود. اما $\lim_{x \rightarrow 1} f(x) = 1 = f(1)$ که هیچ بریدگی در نمودار تابع f در نقطه‌ی ۱ نیست. پس برای نداشتن بریدگی، وجود حد تابع و برابر بودن آن با مقدار تابع در آن نقطه ملاک اصلی است.

تعریف: تابع f در نقطه‌ی a از دامنه‌اش پیوسته است هرگاه برای هر $\epsilon > 0$ ، عدد $\delta > 0$ وجود داشته باشد که برای x های دامنه f اگر $|x-a| < \delta$ ، آن‌گاه $|f(x) - f(a)| < \epsilon$. در غیر این صورت تابع f در نقطه‌ی a ناپیوسته است.

در تعریف پیوستگی دامنه تابع زیرمجموعه‌ای دلخواه از اعداد حقیقی است. با توجه به اینکه تابع‌هایی که در این درس مورد بحث و بررسی قرار می‌گیرند روی زیرمجموعه‌های خاصی از اعداد حقیقی، یعنی بازه‌ها تعریف می‌شوند، صورت معادلی از تعریف پیوستگی تابع روی بازه‌ها را بیان می‌کنیم. تعریف. فرض کنید تابع f از بازه‌ی I به \mathbb{R} تعریف شده باشد. در این صورت تابع f در نقطه‌ی a از

$$\lim_{x \rightarrow a} f(x) = f(a)$$

بازه I پیوسته است، هرگاه

به راحتی می‌توان دید که تابع f در نقطه‌ی a پیوسته است، اگر و تنها اگر برای هر دنباله‌ی

همگرای $\{a_n\}$ در دامنه f که $\lim_{n \rightarrow \infty} a_n = a$ ، دنباله‌ی $\{f(a_n)\}$ به $f(a)$ همگرا باشد.

مثال ۱۲: تمام تابع‌های مثال ۹ در نقطه‌ی ۱ پیوسته‌اند.

مثال ۱۳: چند جمله‌ای P_n و توابع \sin و \cos در هر نقطه‌ی $a \in \mathbb{R}$ پیوسته‌اند. (چرا؟)

تمرین‌ها

۱- ثابت کنید تابع‌های زیر در نقاط داده شده پیوسته نیستند.

$$f(x) = \begin{cases} \sqrt{x} - 2 & x \neq 4 \\ 0 & x = 4 \end{cases} \quad \text{(الف)}$$

در نقطه‌ی ۴.

$$f(x) = \begin{cases} 2x - 3 & x \leq 1 \\ x^2 & 1 < x \end{cases} \quad \text{(ب)}$$

در نقطه‌ی ۱.

$$f(x) = \begin{cases} x \sin \frac{1}{x} & x \neq 0 \\ 1 & x = 0 \end{cases} \quad \text{(ج)}$$

در نقطه‌ی ۰.

$$f(x) = \begin{cases} \frac{3 - \sqrt{x+9}}{x} & x \neq 0 \\ 1 & x = 0 \end{cases} \quad \text{(د)}$$

در نقطه‌ی ۰.

$$f(x) = \begin{cases} |x-3| & x \neq 3 \\ 2 & x = 3 \end{cases} \quad \text{(ه)}$$

در نقطه‌ی ۳.

$$f(x) = \begin{cases} \frac{x^3 + 1}{x^2 - 9} & x \neq 3 \\ 1 & x = 3 \end{cases} \quad \text{(و)}$$

در نقطه‌ی ۳.

۲- در کدام یک از مسائل تمرین ۱، می‌توان با تغییر مقدار تابع در نقطه‌ی داده شده، تابع جدید پیوسته‌ای در آن نقطه ساخت؟ (در این حالت، این نقطه را برای آن تابع نقطه‌ی ناپیوستگی رفع شدنی می‌نامند.)

۳- نقاط ناپیوستگی تابع‌های حقیقی زیر را به دست آورید.

$$f(x) = \begin{cases} -x & x < 0 \\ 1 & x \geq 0 \end{cases} \text{ (الف)}$$

$$f(x) = [x] \text{ (ب)}$$

۴- دامنه تعریف تابع $f(x) = \sqrt{x^3 - x^2}$ را مشخص کنید. پیوستگی تابع f در نقاط $x = 0$ و $x = 1$ را بررسی کنید.

قضیه‌های پیوستگی

همان‌طور که درباره‌ی حد مطرح کردیم، به شرط وجود حدّ تابع‌های مختلف در یک نقطه ثابت، حدّ مجموع و حدّ حاصل ضرب آن‌ها هم قابل محاسبه‌اند. در این قسمت با استفاده از قضیه‌های حد، قضیه‌های نظیر را در مورد پیوستگی بیان می‌داریم.

قضیه‌ی ۱۱: اگر توابع f و g روی دامنه مشترکی تعریف شده باشند و در نقطه‌ی a ، پیوسته باشند، آن‌گاه

(الف) $f + g$ در نقطه‌ی a پیوسته است.

(ب) $f - g$ در نقطه‌ی a پیوسته است.

(ج) fg در نقطه‌ی a پیوسته است.

(د) f/g در نقطه‌ی a پیوسته است، هرگاه $g(a) \neq 0$.

اثبات: فقط قسمت (د) را ثابت می‌کنیم، بقیه‌ی اثبات‌ها به صورت تمرین به عهده‌ی دانش‌آموزان

است. اگر $g(a) \neq 0$ و f و g در نقطه a پیوسته باشند، داریم

$$\lim_{x \rightarrow a} f(x) = f(a) \text{ و } \lim_{x \rightarrow a} g(x) = g(a) \neq 0$$

$$\lim_{x \rightarrow a} \frac{f(x)}{g(x)} = \frac{f(a)}{g(a)}$$

پس

یعنی تابع $\frac{f}{g}$ در نقطه‌ی a پیوسته است. (از آن‌جا که $\lim_{x \rightarrow a} g(x) \neq 0$ ، پس تابع g در یک

همسایگی a مخالف صفر است و لذا $\frac{f}{g}$ در آن همسایگی تعریف شده است.)

مثال ۱۴: $f(x) = \frac{x-2}{x^2+2x-8}$ در نقطه \circ پیوسته است. چون

$$\lim_{x \rightarrow 0} (x-2) = -2, \quad \lim_{x \rightarrow 0} (x^2+2x-8) = -8 \neq 0$$

پس $\lim_{x \rightarrow 0} f(x) = \frac{-2}{-8} = \frac{1}{4}$ و چون $f(0) = \frac{1}{4}$ لذا تابع f در نقطه‌ی 0 پیوسته است.

در حالت کلی، اگر $P(x)$ و $Q(x)$ دو چندجمله‌ای باشند و $Q(a) \neq 0$ آن‌گاه تابع گویای

$$R(x) = \frac{P(x)}{Q(x)}$$

در نقطه‌ی a پیوسته است (چرا؟).

در این‌جا دو قضیه‌ی دیگر را بدون اثبات بیان کرده و کاربردهایی از آنان را ذکر می‌کنیم:

قضیه‌ی ۱۲: اگر $\lim_{x \rightarrow a} g(x) = b$ و تابع f در نقطه‌ی b پیوسته باشد، آن‌گاه

$$\lim_{x \rightarrow a} (f \circ g)(x) = f(b)$$

$$\lim_{x \rightarrow a} f(g(x)) = f(\lim_{x \rightarrow a} g(x))$$

یعنی

مثال ۱۵: حدّ تابع $h(x) = \sin \frac{x-1}{x^2+x}$ را در نقطه‌ی 1 پیدا می‌کنیم:

چون $\lim_{x \rightarrow 1} \frac{x-1}{x^2+x} = 0$ و تابع \sin در نقطه 0 پیوسته است.

$$\lim_{x \rightarrow 1} h(x) = \sin\left(\lim_{x \rightarrow 1} \frac{x-1}{x^2+x}\right) = \sin 0 = 0$$

نتیجه: اگر تابع g در نقطه‌ی a و تابع f در نقطه‌ی $g(a)$ پیوسته باشند، آن‌گاه $f \circ g$ در نقطه‌ی a

پیوسته است.

مثال ۱۶: تابع $f(t) = \sin 3t$ در هر نقطه‌ی $a \in \mathbb{R}$ پیوسته است. تابع $3t$ در نقطه‌ی $t = a$

و تابع $\sin t$ در نقطه‌ی $t = 3a$ پیوسته‌اند پس تابع $\sin 3t$ در نقطه‌ی $t = a$ پیوسته است.

مثال ۱۷: می‌خواهیم مقدار حدّ زیر را به‌دست آوریم:

$$\lim_{t \rightarrow \pi} \frac{\sin^2 t}{1 + \cos^3 t}$$

$$\frac{\sin^2 t}{1 + \cos^3 t} = \frac{(1 - \cos t)(1 + \cos t)}{(1 + \cos t)(1 - \cos t + \cos^2 t)} = \frac{1 - \cos t}{1 - \cos t + \cos^2 t}$$

(در همسایگی محذوف π ، $\cos t \neq 1$) و با توجه به پیوسته بودن تابع $\cos t$ در نقطه‌ی $t = \pi$

داریم:

$$\lim_{t \rightarrow \pi} \frac{\sin^2 t}{1 + \cos^3 t} = \frac{(1 - \cos \pi)}{1 - \cos \pi + \cos^2 \pi} = \frac{2}{3}$$

مثال ۱۸: می‌خواهیم a و b را چنان تعیین کنیم که تابع زیر در هر نقطه از \mathbb{R} پیوسته باشد.

$$f(t) = \begin{cases} a \sin t + b \cos 2t & t < \frac{\pi}{6} \\ \cos 2t + 2 & \frac{\pi}{6} \leq t \leq \frac{\pi}{3} \\ \sin^2 t + b & t > \frac{\pi}{3} \end{cases}$$

کافی است تابع در نقاط $t = \frac{\pi}{6}$ و $t = \frac{\pi}{3}$ پیوسته باشد (چرا؟)

$$\lim_{t \rightarrow \frac{\pi}{6}^-} (a \sin t + b \cos 2t) = a \sin \frac{\pi}{6} + b \cos \frac{\pi}{3} = \frac{a}{2} + \frac{b}{2}$$

و

$$\lim_{t \rightarrow \frac{\pi}{6}^+} (\cos 2t + 2) = \cos \frac{\pi}{2} + 2 = 2$$

پس $a + b = 4$ و نیز

$$\lim_{t \rightarrow \frac{\pi}{3}^-} (\cos 2t + 2) = \cos \frac{2\pi}{3} + 2 = 1$$

و

$$\lim_{t \rightarrow \frac{\pi}{3}^+} (\sin^2 t + b) = \sin^2 \frac{\pi}{3} + b = \frac{3}{4} + b$$

پس $\frac{3}{4} + b = 1$ و در نتیجه $b = \frac{1}{4}$ و $a = \frac{15}{4}$.

قضیه ۱۳: اگر n یک عدد طبیعی باشد، آنگاه تابع $f(x) = \sqrt[n]{x}$ در هر نقطه از دامنه‌اش

پیوسته است.

مثال ۱۹: تابع $f(x) = \sqrt{5 - 2x^2}$ در نقطه‌ی \circ پیوسته است. زیرا تابع $g(x) = 5 - 2x^2$ در

نقطه‌ی \circ پیوسته است و تابع $h(x) = \sqrt{x}$ در $h(x) = \sqrt{5} > 0 = g(\circ) = 5 > 0$ پیوسته است پس $f = \text{hog}$ در نقطه‌ی \circ

پیوسته است.

نکته: فرض کنید f در نقطه‌ی x_0 پیوسته و در یک همسایگی آن نامنفی باشد، آنگاه

$$\lim_{x \rightarrow x_0} \sqrt{f(x)} = \sqrt{f(x_0)}$$

تمرین‌ها

۱- نقاط ناپیوستگی توابع زیر را در دامنه‌ی آن‌ها پیدا کنید.

$$f(x) = \begin{cases} x^2 - 4 & x \leq 2 \\ x & x > 2 \end{cases} \quad \text{(الف)}$$

$$f(x) = \frac{3 - \sqrt{x+9}}{\sqrt{x+1} - 1} \quad \text{(ب)}$$

$$f(x) = \begin{cases} \frac{x^2}{x-5} & x < 4 \\ \frac{x}{\sqrt{x-4}} & x \geq 4 \end{cases} \quad \text{(ج)}$$

۲- نمودار تابع

$$f(x) = \begin{cases} 0 & x < 0 \\ x & 0 \leq x < \frac{1}{2} \\ 2 & \frac{1}{2} \leq x < 1 \\ \frac{3}{2} & 1 \leq x < 2 \\ 1 & 2 \leq x \end{cases}$$

را رسم کرده و نقاط ناپیوستگی آن را به دست آورید (ادعای خود را ثابت کنید).

۳- اگر

$$f(x) = \begin{cases} -x & x < 0 \\ 1 & 0 \leq x \end{cases}$$

و

$$g(x) = \begin{cases} 1 & x < 0 \\ x & 0 \leq x \end{cases}$$

ثابت کنید تابع‌های f و g در نقطه‌ی 0 ناپیوسته‌اند ولی fg در نقطه‌ی 0 پیوسته است.

۴- ثابت کنید که اگر $\lim_{x \rightarrow a} f(x) = L$ آن گاه $\lim_{x \rightarrow a} |f(x)| = |L|$. آیا عکس این مطلب نیز

درست است؟

۵- آیا مجموع یک تابع پیوسته و یک تابع ناپیوسته، می تواند پیوسته باشد؟ چرا؟

۶- ثابت کنید که

الف) تابع $f(x) = \sqrt{x^2 - 2x + 1}$ در نقطه‌ی ۱ پیوسته است.

ب) تابع $g(x) = \sqrt{1 - \cos x}$ در نقطه‌ی ۰ پیوسته است.

ج) تابع $f(x) = \sqrt{(x-3)(1-x)}$ در نقطه‌ی ۳ پیوسته است.

۳-۶ پیوستگی روی یک بازه

به طور شهودی یک تابع روی یک بازه، پیوسته است اگر نمودارش در آن بازه هیچ پرش، سوراخ و یا برشی نداشته باشد. یا به عبارتی نمودار تابع‌های پیوسته را می توان بدون برداشتن مداد از روی کاغذ رسم کرد.

مثال ۲: به نمودار هر یک از تابع‌های زیر در بازه‌ی $I = (-1, 1)$ توجه کنید:

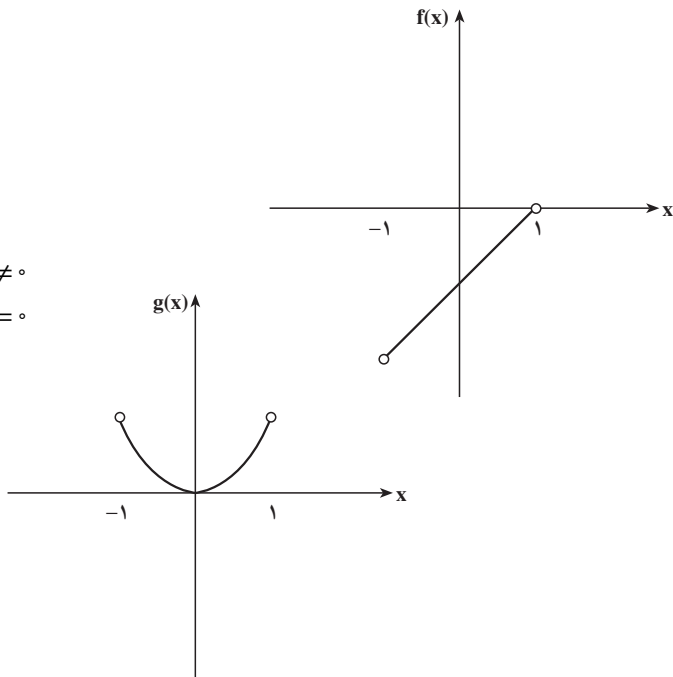
$$f(x) = x - 1$$

$$g(x) = x^2$$

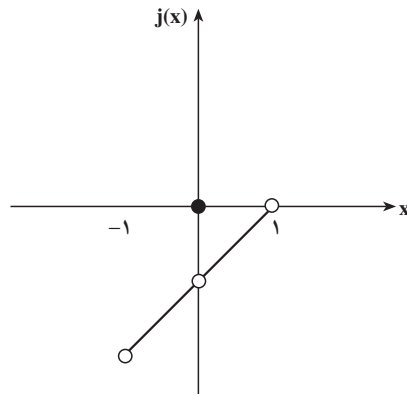
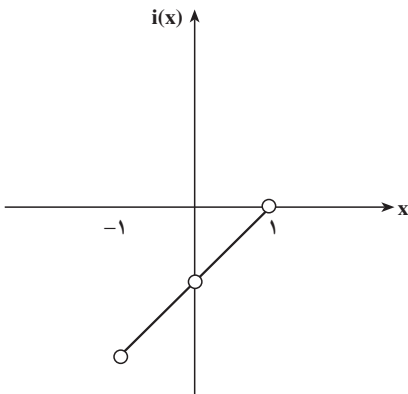
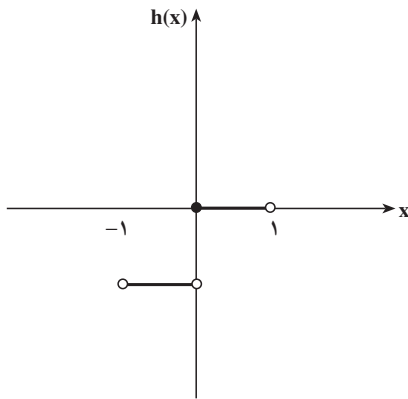
$$h(x) = [x]$$

$$i(x) = \frac{x(x-1)}{x}$$

$$j(x) = \begin{cases} x-1 & x \neq 0 \\ 0 & x = 0 \end{cases}$$



همان گونه که دیده می شود، تابع های f, g در بازه I هر دو پیوسته اند، اما هیچ یک از تابع های h, i, j در این بازه پیوسته نیستند.



تعریف: تابع f پیوسته است هرگاه در تمام نقاط دامنه خود پیوسته باشد.^۱

مثال ۲۱: تابع $g(x) = x^2$ در هر بازه ی بازی پیوسته است، چون این تابع در تمام نقاط مجموعه ی اعداد حقیقی پیوسته است.

مثال ۲۲: تابع $h(x) = [x]$ در بازه ی $(0, 1)$ پیوسته است (چون مقدار h در این بازه همواره ۰ است، در نتیجه در تمام نقاط $(0, 1)$ پیوسته است). از طرفی چون h در نقطه ی صفر پیوسته نیست (چرا؟)، در بازه ی $(-1, 1)$ پیوسته نخواهد بود.

پیوستگی راست و چپ

به مثال ۲۰ توجه کنید. گرچه تابع h در نقطه ی ۰ دارای حد های چپ و راست متفاوت است (یعنی حد ندارد)، ولی حد راست آن با مقدار تابع در آن نقطه برابر است. اما تابع j با این که در

۱- بازه ی I باز می تواند هر یک از بازه های $(-\infty, a), (a, \infty), (a, b), (-\infty, \infty)$ باشد.

نقطه‌ی ° حدّهای چپ و راست یکسان دارد، ولی این حدّها با مقدار تابع در نقطه‌ی ° برابر نیست. برای تشخیص بهتر این تفاوت، تعریف‌های زیر را مطرح می‌کنیم:

تعریف: فرض کنید تابع f از بازه I به \mathbb{R} و a یک نقطه از I باشد. می‌گویند تابع f در نقطه‌ی a از راست پیوسته است، هرگاه این تابع در نقطه‌ی a حدّ راست داشته باشد و حدّ راست تابع در آن نقطه برابر مقدار تابع در نقطه‌ی a باشد، یعنی

$$\lim_{x \rightarrow a^+} f(x) = f(a)$$

تعریف: فرض کنید تابع f از بازه I به \mathbb{R} و a یک نقطه از I باشد. می‌گویند تابع f در نقطه‌ی a از چپ پیوسته است، هرگاه این تابع در نقطه‌ی a حدّ چپ داشته باشد و حدّ چپ تابع در آن نقطه برابر مقدار تابع در نقطه‌ی a باشد، یعنی

$$\lim_{x \rightarrow a^-} f(x) = f(a)$$

مثال ۲۳: تابع $h(x) = [x]$ در تمام اعداد صحیح از راست پیوسته است (چرا؟).

مثال ۲۴: تابع $m(x) = [1-x]$ در تمام اعداد صحیح از چپ پیوسته است (چرا؟).

می‌توان ثابت کرد اگر a یک نقطه درونی بازه I باشد، آنگاه تابع f در نقطه‌ی a پیوسته است اگر و تنها اگر این تابع در نقطه‌ی a ، پیوستگی راست و چپ داشته باشد (چرا؟).

نکته: وقتی دامنه تابع f بازه $[a, b]$ است پیوستگی چپ f در b همان پیوستگی f در b و پیوستگی راست f در a همان پیوستگی f در a است.

مثال ۲۵: تابع $f(x) = \sqrt{4-x^2}$ روی بازه $[-2, 2]$ پیوسته است.

۳-۷- قضیه‌های مهم پیوستگی و کاربردها

هنگامی که تابعی در یک بازه پیوسته باشد، ویژگی‌هایی دارد که در این قسمت به بررسی برخی از آن‌ها می‌پردازیم. با توجه به این که نمودار یک تابع پیوسته، هیچ پرش یا سوراخی ندارد، پس اگر تابع پیوسته‌ای دو مقدار را روی محور y انتخاب کرد، هر مقدار بین این دو عدد را هم باید انتخاب کند. این اساس شهودی قضیه‌ی مهم زیر است که اثبات آن از حدود درس حساب دیفرانسیل و انتگرال خارج است.

قضیه‌ی ۱۴، (قضیه‌ی مقدار میانی): اگر تابع f در بازه‌ی بسته $[a, b]$ پیوسته باشد، و اگر عدد حقیقی k بین $f(a)$ و $f(b)$ باشد، آن‌گاه حداقل یک عدد حقیقی x در بازه‌ی $[a, b]$ وجود دارد

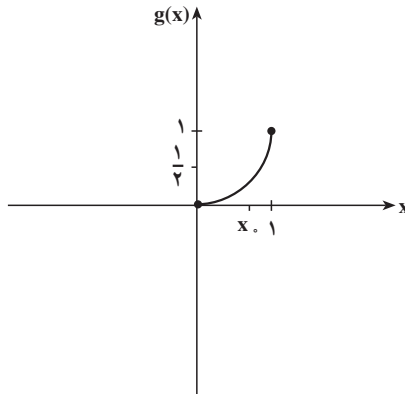
$$f(x_0) = k$$

تعبیر هندسی قضیه‌ی فوق‌الذکر بدین صورت است که خط $y = k$ ، نمودار f را حتماً قطع می‌کند. به مثال‌های زیر توجه کنید:

مثال ۲۶: $g(x) = x^2$ در بازه‌ی $[0, 1]$ پیوسته است و

$$g(0) = 0 < \frac{1}{4} < g(1) = 1$$

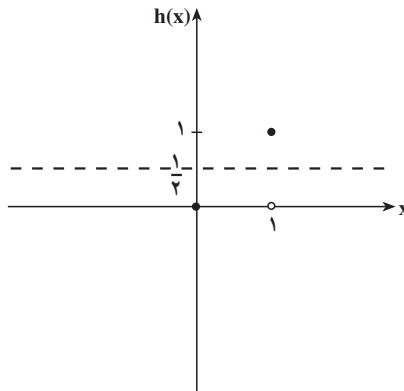
پس حتماً نقطه‌ای مانند $x_0 = \frac{1}{\sqrt{4}}$ وجود دارد که $g(x_0) = \frac{1}{4}$.



مثال ۲۷: این موضوع برای تابع $h(x) = [x]$ در بازه‌ی $[0, 1]$ درست نیست. چون برای

مثال، $h(0) = 0 < \frac{1}{4} < h(1) = 1$ ولی هیچ نقطه‌ی x_0 وجود ندارد که $h(x_0) = \frac{1}{4}$. یعنی خط $y = \frac{1}{4}$

هیچ‌گاه نمودار تابع h را قطع نمی‌کند.



یکی از موارد مهم کاربرد قضیه‌ی مقدار میانی پیدا کردن صفرهای یک تابع (یا حل معادلات $f(x) = 0$) است.

نتیجه: اگر تابعی در بازه‌ی بسته‌ی $[a, b]$ پیوسته و در نقطه‌ی a مثبت و در نقطه‌ی b منفی یا برعکس باشد ($f(a)f(b) < 0$)، آن‌گاه در نقطه‌ای در بازه‌ی (a, b) مقدار آن 0 می‌شود. یعنی حداقل یک $a < x_0 < b$ وجود دارد به طوری که $f(x_0) = 0$.

مثال ۲۸: تابع $f(x) = 4x^3 - 12x^2 + 11x - 3$ در بازه‌ی $[0, 2]$ پیوسته است و $f(0) = -3 < 0$ و $f(2) = 3 > 0$ ، قضیه‌ی مقدار میانی وجود عدد $0 < x_0 < 2$ را تضمین می‌کند که برای آن $f(x_0) = 0$ (موقعیت x_0 در بازه‌ی $(0, 2)$ چیست؟).

ضرورت پیدا کردن صفرهای یک چندجمله‌ای و یا تعیین محل تلاقی دو منحنی در مسائل مختلف ظاهر می‌شود. تعیین صفرهای چندجمله‌ای‌های درجه ۱ و ۲ ساده است و به‌طور دقیق می‌توان آن‌ها را پیدا کرد:

$$x = \frac{-b}{a} \text{ برای } ax + b = 0 \text{ (درجه‌ی یک).}$$

$$\text{برای } ax^2 + bx + c = 0 \text{ (درجه‌ی ۲) (به شرط آن‌که}$$

$b^2 - 4ac \geq 0$). برای چندجمله‌ای‌های با درجه‌ی بالاتر، یا مسئله بسیار پیچیده است و یا همان‌طور که در اوایل قرن نوزدهم ثابت شده است، هیچ فرمول جبری برای تعیین صفرهای چندجمله‌ای‌های از درجه‌ی ۵ به بالا وجود ندارد. وضعیت برای تعیین صفرهای غیرچندجمله‌ای‌ها بهتر از این نیست ولی پیدا کردن مقدار تقریبی این ریشه‌ها امکان‌پذیر است. قضیه‌ی مقدار میانی به‌طور کلی راه‌حلی برای این مسئله ارائه می‌دهد.

مثال ۲۹: ریشه‌های تقریبی $f(x) = x^3 - 4x - 2 = 0$ را پیدا کنید.

$f(2) = -2$ و $f(3) = 13$. چون f در بازه‌ی $[2, 3]$ پیوسته است، پس حتماً صفری در این فاصله دارد. اما $f(2/5) = 3/625$ ، پس حتماً صفری در بازه‌ی $[2, 2/5]$ وجود دارد. به همین ترتیب می‌توان دید که f در ابتدا و انتهای هر یک از بازه‌های $[2/125, 2/25]$ ، $[2/1875, 2/25]$ ، $[2/2109375, 2/21875]$ ، $[2/203125, 2/21875]$ ، $[2/1875, 2/21875]$ و $[2/2109375, 2/214375]$ تغییر علامت می‌دهد و لذا با هر دقتی که لازم باشد، می‌توان جواب را به‌دست آورد. مثلاً، تا یک صدم اعشار جواب تقریبی $2/21$ است. (همان‌طور که می‌بینیم مقدار

دقیق x به وسیله‌ی قضیه‌ی مقدار میانی به دست نمی‌آید.

مثال ۳۰: برای ریشه $f(x) = \cos x - 2x^2 = 0$ جدول زیر چه حقیقی را مطرح می‌کند؟

x	۰	۰/۲	۰/۴	۰/۶	۰/۸	۱
$f(x)$	۱/۰	۰/۹	۰/۶	۰/۱۱	-۰/۵۸	-۱/۴۶

معادله‌ی $f(x) = 0$ حداقل ریشه‌ای در فاصله‌ی $(0/۸, 0/۶)$ دارد (چرا؟).

یکی دیگر از ویژگی‌های تابع‌های پیوسته روی بازه‌های بسته $[a, b]$ ، وجود مقدار ماکسیمم و مینیمم مطلق تابع است، که آن را به صورت قضیه‌ای بدون اثبات بیان می‌کنیم. اما قبل از آن ماکسیمم و مینیمم مطلق را تعریف می‌کنیم:

تعریف: الف) تابع f روی مجموعه‌ی A دارای مینیمم مطلق است هرگاه نقطه‌ای مانند $x_1 \in A$ یافت شود که برای هر $x \in A$ ، $f(x_1) \leq f(x)$. این نقطه را نقطه‌ی مینیمم مطلق تابع f روی مجموعه‌ی A و $f(x_1)$ را مقدار مینیمم مطلق می‌نامند.

ب) تابع f روی مجموعه‌ی A دارای ماکسیمم مطلق است هرگاه نقطه‌ای مانند $x_2 \in A$ یافت شود که برای هر $x \in A$ ، $f(x_2) \geq f(x)$. این نقطه را نقطه‌ی ماکسیمم مطلق تابع f روی مجموعه‌ی A و $f(x_2)$ را مقدار ماکسیمم مطلق می‌نامند.

قضیه‌ی ۱۵: اگر تابع f روی بازه‌ی $[a, b]$ پیوسته باشد، آن‌گاه

الف) عدد حقیقی K وجود دارد که برای هر $x \in [a, b]$ ، $|f(x)| \leq K$.

ب) دو عدد x_1 و x_2 در بازه‌ی $[a, b]$ وجود دارند که برای هر $x \in [a, b]$

$$f(x_1) \leq f(x) \leq f(x_2)$$

به عبارت دیگر، اگر تابع در بازه‌ی بسته $[a, b]$ پیوسته باشد در این بازه کراندار است و ماکسیمم و مینیمم مطلق دارد.

مثال ۳۱: تابع $f(x) = 1 - x$ در بازه‌ی $[-1, 1]$ پیوسته است. پس طبق قضیه‌ی ۱۵ کراندار

است؛ در واقع، واضح است که به ازای هر x در این بازه، $|f(x)| \leq 2$ ، مقدار ماکسیمم مطلق f برابر ۲ در نقطه‌ی -1 ، و مقدار مینیمم مطلق f برابر ۰ در نقطه‌ی ۱ است.

مثال ۳۲: الف) تابع $f(x) = x - 1$ را روی \mathbb{R} در نظر بگیرید. این تابع ماکسیمم و مینیمم

مطلق ندارد و کراندار هم نیست.

ب) تابع

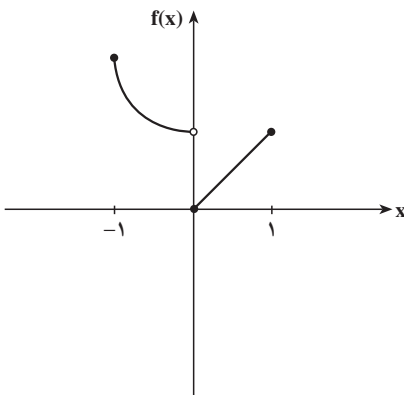
$$h(x) = \begin{cases} \frac{1}{x} & -1 \leq x < 1, x \neq 0 \\ 0 & x = 0 \end{cases}$$

اگرچه در بازه‌ی بسته $[-1, 1]$ تعریف شده ولی در آن بازه پیوسته نیست (چرا؟). علاوه بر آن، تابع h در $[-1, 1]$ کراندار نیست و مقدار ماکسیمم و مینیمم مطلق هم ندارد.

شرط‌های قضیه ۱۵ برای وجود ماکسیمم و مینیمم مطلق و کراندار بودن کافی است، ولی حتماً ضروری نیست، برای مشاهده‌ی این مطلب به مثال‌های زیر توجه کنید:

مثال ۳۳: الف)

$$f(x) = \begin{cases} x^2 + 1 & -1 \leq x < 0 \\ x & 0 \leq x \leq 1 \end{cases}$$



در بازه‌ی $[-1, 1]$ پیوسته نیست، ولی کراندار است و مقدار ماکسیمم مطلق آن ۲ و مینیمم مطلق آن ۰ است و برای هر $x \in [-1, 1]$ ، $|f(x)| \leq 2$.

ب) تابع $g(x) = 1 - x$ روی $(1, 2)$ کراندار است ولی مقدار ماکسیمم و مینیمم مطلق ندارد.

مثال ۳۴: بزرگ‌ترین مساحت زمین مستطیلی شکل که بتوان با ۲۰۰ متر حصار، محصور کرد

چه قدر است؟

اگر x طول و y عرض مستطیل باشد آن‌گاه محیط مستطیل عبارت است از

$$P(x, y) = 2x + 2y = 200$$

پس $x + y = 100 - x$ یعنی $y = 100 - x$. مساحت مستطیل عبارت است از

$$A(x) = xy = x(100 - x) = 100x - x^2$$

تابع A در بازه‌ی $[0, 100]$ پیوسته است. (آیا می‌توانید بگویید چرا بازه را $[0, 100]$ در نظر

$$A(0) = A(100) = 0 \quad \text{می‌گیریم؟}$$

پس مقدار ماکسیمم A در نقطه‌ای مانند $x_0 \in (0, 100)$ به دست می‌آید. برای پیدا کردن مقدار ماکسیمم، $A(x)$ را به صورت زیر می‌نویسیم:

$$\begin{aligned} A(x) &= -(x^2 - 2 \times 50x + 50^2 - 50^2) \\ &= 2500 - (50 - x)^2 \end{aligned}$$

واضح است که $A(x) \leq 2500$ و $A(50) = 2500$ پس مقدار ماکسیمم مطلق A برابر 2500 مترمربع در نقطه‌ی $x_0 = 50$ به دست می‌آید.

قضیه‌ی ۱۵، همانند قضیه‌ی مقدار میانی، روشی برای به دست آوردن ماکسیمم و مینیمم مطلق ارائه نمی‌دهد. در بحث مشتق، روش مشخصی ارائه خواهد شد.

۳-۸- پیوستگی تابع معکوس

یادآوری می‌کنیم که اگر f تابعی یک به یک باشد، آن‌گاه برای معکوس آن f^{-1} داریم $f^{-1}(y) = x$ اگر و تنها اگر $y = f(x)$.

تابع f را صعودی اکید می‌گویند هرگاه برای هر $x_1, x_2 \in D_f$ ، که $x_1 < x_2$ داشته باشیم $f(x_1) < f(x_2)$.

تابع f را نزولی اکید می‌گویند هرگاه برای هر $x_1, x_2 \in D_f$ ، که $x_1 < x_2$ داشته باشیم $f(x_1) > f(x_2)$.

تابعی را که در دامنه‌اش صعودی اکید و یا نزولی اکید باشد، تابع یکنوای اکید می‌نامند. نکته: دقت کنید که تابع‌های یکنوای اکید، یک به یک هستند (چرا؟).

در مورد تابع‌های یکنوای اکید و پیوسته قضیه‌ی زیر را بدون اثبات بیان می‌کنیم:

قضیه‌ی ۱۶: اگر تابع f در بازه‌ی $[a, b]$ پیوسته و صعودی اکید باشد، آن‌گاه برد f برابر $[f(a), f(b)]$ است. به علاوه f^{-1} روی $[f(a), f(b)]$ پیوسته و صعودی اکید است.

قضیه‌ی مشابهی برای تابع‌های پیوسته‌ای که نزولی اکید هستند، می‌توان بیان کرد. در این حالت، دامنه‌ی تابع معکوس $[f(b), f(a)]$ است.

مثال ۳۵: الف) تابع Arcsin روی بازه $[-1, 1]$ پیوسته و صعودی اکید است. زیرا معکوس

آن تابع \sin روی $\left[-\frac{\pi}{2}, \frac{\pi}{2}\right]$ پیوسته و صعودی اکید است.

ب) تابع Arccos روی بازه $[-1, 1]$ پیوسته و نزولی اکید است. زیرا تابع معکوس آن، \cos روی $[0, \pi]$ پیوسته و نزولی اکید است.

تمرین‌ها

۱- درباره‌ی پیوستگی تابع‌های زیر در بازه‌های داده‌شده بحث کنید.

الف) $f(x) = \frac{2x}{x+3}$ در بازه‌های $(-3, 0)$ و $[-3, 1]$.

$$g(x) = \begin{cases} 2x-3 & x < 2 \\ x-5 & -2 \leq x \leq 1 \\ 3-x & 1 < x \end{cases} \quad \text{ب)}$$

در بازه‌های $(2, \infty)$ ، $[-2, 1]$ و $(3, \infty)$.

$$h(x) = \begin{cases} [x] + 1 & -2 \leq x < 0 \\ 2x & 0 \leq x < 1 \\ x+1 & 1 \leq x \leq 2 \end{cases} \quad \text{ج)}$$

در بازه‌های $[-2, 1]$ و $[0, 1]$.

۲- در مورد پیوستگی و پیوستگی چپ و راست تابع‌های زیر در نقطه‌ی داده‌شده بحث کنید.

$$f(x) = \begin{cases} \frac{x^2 + 2x - 3}{\sqrt{x^2 - 2x + 1}} & x \neq 1 \\ -4 & x = 1 \end{cases} \quad \text{الف)}$$

در نقطه‌ی $x = 1$.

$$\text{ب)} \quad g(x) = \left[\frac{x+1}{2} \right] + \left[\frac{x-1}{2} \right] \quad \text{در نقطه‌ی } x = 1.$$

$$f(t) = \begin{cases} \tan t - \sec t & t \neq \frac{\pi}{2} \\ c & t = \frac{\pi}{2} \end{cases} \quad \text{۳- مقدار ثابت } c \text{ را طوری تعیین کنید که تابع}$$

$$\left[\frac{\pi}{4}, \frac{3\pi}{4} \right] \text{ پیوسته باشد. } (\sec t = \frac{1}{\cos t})$$

۴- با استفاده از جدول به پرش‌های زیر در مورد ریشه‌های معادله‌ی $f(x) = 0$ در بازه‌ی

$[0, 1/8]$ که

$$f(x) = \sin 3x \cos 4x + 0/8$$

جواب دهید :

x	0	0/2	0/4	0/6	0/8	1	1/2	1/4	1/6	1/8
f(x)	0/8	1/19	0/77	0/08	0/13	0/71	0/76	0/12	-0/19	0/33

الف) این تابع در بازه‌ی $[0, 1/8]$ چند ریشه می‌تواند داشته باشد؟

ب) آیا مطمئن هستید که تمام ریشه‌ها را به این طریق پیدا کرده‌اید؟

۵- نمودار سه تابع پیوسته در بازه‌ی $[0, 1]$ را رسم کنید که مقدارهای آن‌ها در نقاط داده‌شده بر

جدول زیر منطبق باشند، اولی یک و فقط یک ریشه در بازه‌ی $[0, 1]$ داشته باشد. دومی حداقل دو ریشه

تمایز در بازه‌ی $[0, 1/6]$ داشته باشد و سومی حداقل سه ریشه متمایز در بازه‌ی $[0, 1/8]$ داشته

باشد.

x	0	0/2	0/4	0/6	0/8	1
f(x)	1	0/9	0/6	0/11	-0/58	-1/46

۶- با استفاده از جدول زیر محل تقریبی جواب معادله‌ی $\frac{x^3}{\pi} = \sin 3x \cos 4x$ را در بازه‌ی

$[1/07, 1/14]$ به دست آورید.

x	x^3 / π^3	$\sin 3x \cos 4x$
1/07	0/0395	0/0286
1/08	0/0406	0/0376
1/09	0/0418	0/0442
1/10	0/0429	0/0485
1/11	0/0441	0/0504
1/12	0/0453	0/0499
1/13	0/0465	0/0470
1/14	0/0478	0/0417
1/15	0/0491	0/0340

۷- کدام یک از تابع‌های زیر در بازه‌های داده‌شده کراندارند؟

الف) $f(x) = \frac{1}{x}$ در بازه‌ی $[1, 1]$.

ب) $f(x) = \frac{1}{x}$ در بازه‌ی $(-1, 0)$.

ج) $g(x) = \sin \frac{1}{x}$ در بازه‌ی $(0, \pi)$.

۸- اگر تابع f در بازه‌ی $[a, b]$ و نیز در بازه‌ی $[b, d]$ پیوسته باشد، ثابت کنید این تابع در بازه‌ی $[a, d]$ پیوسته است.

۹- مقدارهای ماکسیمم و مینیمم مطلق تابع‌های زیر را در مجموعه‌های داده‌شده پیدا کنید.

الف) $f(x) = x^2$ در بازه‌ی $[1, 4]$.

ب) $g(x) = \sin x$ در بازه‌ی $[0, \pi]$.

ج) $h(x) = \frac{1}{x}$ در بازه‌ی $[1, 4]$.

۱۰- نشان دهید که خط $y = \frac{a+b}{2}$ نمودار تابع $f(x) = (x-a)(x-b) + x$ را قطع می‌کند.

۳-۹ حد بی‌نهایت

دیدیم که L حدّ تابع f در نقطه‌ی a است، هرگاه مقادیر تابع در نقاط نزدیک به a نزدیک به L باشند. حال به مثال زیر توجه کنید:

مثال ۳۶: جدول‌های زیر مقادیر تابع‌های داده‌شده را در نقاطی در همسایگی نقطه‌ی 0 به

نمایش می‌گذارند:

$$f(x) = \frac{1}{x}$$

$$g(x) = \begin{cases} \frac{1}{|x|} & x \neq 0 \\ 0 & x = 0 \end{cases}$$

$$h(x) = -\sin\left(\frac{\pi}{x}\right)/x$$

x	$-0/3$	$-0/1$	$-0/0.3$	$-0/0.1$	$-0/0.03$	$-0/0.01$	0
$f(x)$	$-\frac{1}{3}$	-1	$-\frac{1}{0.3}$	-10	$-\frac{1}{0.03}$	$-\frac{1}{0.01}$	تعریف نشده
$g(x)$	$\frac{1}{3}$	1	$\frac{1}{0.3}$	10	$\frac{1}{0.03}$	$\frac{1}{0.01}$	0
$h(x)$	$+\frac{5\sqrt{3}}{3}$	0	$+\frac{50\sqrt{3}}{3}$	0	$\frac{500\sqrt{3}}{3}$	0	تعریف نشده

x	+۰/۳	+۰/۱	+۰/۰۳	+۰/۰۱	+۰/۰۰۳	+۰/۰۰۱	۰
f(x)	$\frac{۱۰}{۳}$	۱۰	$\frac{۱۰۰}{۳}$	۱۰۰	$\frac{۱۰۰۰}{۳}$	۱۰۰۰	تعریف نشده
g(x)	$\frac{۱۰}{۳}$	۱۰	$\frac{۱۰۰}{۳}$	۱۰۰	$\frac{۱۰۰۰}{۳}$	۱۰۰۰	۰
h(x)	$+\frac{۵\sqrt{۳}}{۳}$	۰	$+\frac{۵۰\sqrt{۳}}{۳}$	۰	$\frac{۵۰۰\sqrt{۳}}{۳}$	۰	تعریف نشده

برای تابع g ، هر قدر x به ۰ نزدیک تر شود، مقدار تابع بیشتر می شود و این افزایش بدون کران است. برای تابع f اگر x از طرف چپ به ۰ نزدیک شود، مقدار تابع کوچک تر می شود و بی کران کاهش پیدا می کند ولی اگر x از طرف راست به ۰ نزدیک شود، مقدار تابع مجدداً افزایش پیدا می کند. برای تابع h وضعیت متفاوت است!

در مثال ۳۶، هیچ یک از تابع ها در نقطه ی ۰ حد ندارند (چرا؟). ولی همان طور که تجربه شد، رفتار تابع های f و g با h متفاوت است (آیا می توانید شرح دهید؟). پس از این مقدمه حد بی نهایت را تعریف می کنیم:

تعریف: الف) اگر تابع f در یک همسایگی چپ یا راست یا هر دو a تعریف شده باشد، می گویند وقتی x به a نزدیک می شود، مقدار تابع بدون کران افزایش می یابد اگر برای هر $M > 0$ ، عدد $\delta > 0$ وجود داشته باشد که به ازای هر x از دامنه f که در $|x - a| < \delta$ صدق کند، آن گاه $f(x) > M$ و

$$\lim_{x \rightarrow a} f(x) = +\infty \quad \text{می نویسند}$$

ب) اگر تابع f در یک همسایگی چپ یا راست یا هر دو a تعریف شده باشد، می گویند وقتی x به a نزدیک می شود، مقدار تابع بدون کران کاهش می یابد اگر برای هر $M > 0$ ، عدد $\delta > 0$ وجود داشته باشد که به ازای هر x از دامنه f که در $|x - a| < \delta$ صدق کند، آن گاه $f(x) < -M$ و

$$\lim_{x \rightarrow a} f(x) = -\infty \quad \text{می نویسند}$$

ج) اگر تابع f در بازه ی (a, c) تعریف شده باشد، می گویند وقتی x در این بازه به a نزدیک می شود، مقدار تابع بدون کران افزایش می یابد اگر برای هر $M > 0$ ، عدد $\delta > 0$ وجود داشته باشد که به ازای هر x که در $a < x < a + \delta$ صدق کند، آن گاه $f(x) > M$ و می نویسند

$$\lim_{x \rightarrow a^+} f(x) = +\infty$$

د) اگر تابع f در بازه ی (a, c) تعریف شده باشد، می گویند وقتی x در این بازه به a نزدیک می شود، مقدار تابع بدون کران کاهش می یابد اگر برای هر $M > 0$ ، عدد $\delta > 0$ وجود داشته باشد که

به ازای هر x که در $a < x < a + \delta$ صدق کند، آن گاه $f(x) < -M$ و می نویسند

$$\lim_{x \rightarrow a^+} f(x) = \infty$$

به همین ترتیب $\lim_{x \rightarrow a^-} f(x) = \infty$ و $\lim_{x \rightarrow a^-} f(x) = \infty$ را نیز می توان تعریف کرد.

نکته: نمایش، $\lim_{x \rightarrow a} f(x) = \infty$ یا $\lim_{x \rightarrow a} f(x) = \infty$ فقط یک علامتگذاری است و

همان طور که در مثال ۳۶ دیدیم در هریک از این حالت ها، تابع f حد ندارد.

مثال ۳۷: در مورد تابع های مثال ۳۶، می توان ثابت کرد که

$$\lim_{x \rightarrow \infty} g(x) = \infty$$

$$\lim_{x \rightarrow \infty^+} f(x) = \infty$$

$$\lim_{x \rightarrow \infty^-} f(x) = \infty$$

ولی h از این قانون ها تبعیت نمی کند، زیرا برای $M = 1 > 0$ ، عدد δ وجود ندارد که اگر

$|x - \infty| < \delta$ آن گاه $h(x) > M$ می نویسیم $x_0 = \frac{1}{\delta}$ برای $k \cdot k \in \mathbb{N}$ را آن قدر بزرگ می گیریم

که $|x_0| \cdot \delta \leq 1$ ، $h(x_0) = 0$ با $h(x) > M$ تناقض دارد. پس

$$\lim_{x \rightarrow \infty} h(x) \neq \infty$$

به همین ترتیب می توان ثابت کرد که

$$\lim_{x \rightarrow \infty^+} h(x) \neq \infty, \quad \lim_{x \rightarrow \infty^-} h(x) \neq \infty$$

$$\lim_{x \rightarrow \infty^-} h(x) \neq \infty, \quad \lim_{x \rightarrow \infty^+} h(x) \neq \infty$$

قضیه ۱۷: اگر n یک عدد طبیعی باشد، آن گاه

$$\lim_{x \rightarrow \infty^+} \frac{1}{x^n} = 0 \quad (\text{الف})$$

$$\lim_{x \rightarrow \infty^-} \frac{1}{x^n} = \begin{cases} 0 & \text{زوج } n \\ \infty & \text{فرد } n \end{cases} \quad (\text{ب})$$

نکته ۱: می توان ثابت کرد که $\lim_{x \rightarrow a^+} f(x) = \infty$ و $\lim_{x \rightarrow a^-} f(x) = \infty$ اگر و تنها اگر

$$\lim_{x \rightarrow a} f(x) = \infty \quad \text{و} \quad \lim_{x \rightarrow a^+} f(x) = \infty \quad \text{و} \quad \lim_{x \rightarrow a^-} f(x) = \infty \quad \text{اگر و تنها اگر} \quad \lim_{x \rightarrow a} f(x) = \infty$$

نکته‌ی ۲: می‌توان از قضیه‌ی ۱۷ نتیجه گرفت که اگر n زوج باشد، آن‌گاه

$$\lim_{x \rightarrow 0} \frac{1}{x^n} = \infty$$

مثال ۳۸:

$$\lim_{x \rightarrow 0^+} \frac{1}{x^5} = \infty, \quad \lim_{x \rightarrow 0^-} \frac{1}{x^5} = \infty$$

$$\lim_{x \rightarrow 0^+} \frac{1}{x^6} = \lim_{x \rightarrow 0^-} \frac{1}{x^6} = \lim_{x \rightarrow 0} \frac{1}{x^6} = \infty$$

(چرا؟).

در اینجا قضیه‌ی مهم دیگری را بدون اثبات بیان می‌کنیم.

قضیه‌ی ۱۸: فرض می‌کنیم برای عدد حقیقی a و $M > 0$ $\lim_{x \rightarrow a} g(x) = M$ در این صورت

الف) اگر $f(x)$ در یک همسایگی محذوف a مثبت و حدش در a صفر باشد، آن‌گاه

$$\lim_{x \rightarrow a} \frac{g(x)}{f(x)} = \infty$$

ب) اگر $f(x)$ در یک همسایگی محذوف a منفی و حدش در a صفر باشد، آن‌گاه

$$\lim_{x \rightarrow a} \frac{g(x)}{f(x)} = \infty$$

نکته‌ی ۱: می‌توان ثابت کرد که $\lim_{x \rightarrow a} f(x) = \infty$ اگر و تنها اگر $\lim_{x \rightarrow a} (-f(x)) = \infty$.

نکته‌ی ۲: قضیه‌ی ۱۸ برای حالت $M < 0$ به شرح زیر است:

الف) اگر $f(x)$ در یک همسایگی محذوف a مثبت و حدش در a صفر باشد، آن‌گاه

$$\lim_{x \rightarrow a} \frac{g(x)}{f(x)} = \infty$$

ب) اگر $f(x)$ در یک همسایگی محذوف a منفی و حدش در a صفر باشد، آن‌گاه

$$\lim_{x \rightarrow a} \frac{g(x)}{f(x)} = \infty$$

نکته‌ی ۳: می‌توان نشان داد که اگر $\lim_{x \rightarrow a} f(x) = \infty$ و یا $\lim_{x \rightarrow a} f(x) = \infty$ ، آن‌گاه

$$\lim_{x \rightarrow a} \frac{1}{f(x)} = 0$$

نکته‌ی ۴: قضیه‌ی ۱۸ و نکته‌های ۱، ۲ و ۳ نیز در حالت $x \rightarrow a^+$ یا $x \rightarrow a^-$ نیز برقرارند.
برای نمایش نحوه‌ی استفاده از قضیه‌ی ۱۸ به مثال زیر توجه کنید:

مثال ۳۹:

$$\lim_{x \rightarrow 3^-} \frac{x^2 + x + 2}{x^2 - 2x - 3} = \infty$$

چون $\lim_{x \rightarrow 3^-} (x^2 + x + 2) = 14 > 0$ و $\lim_{x \rightarrow 3^-} (x^2 - 2x - 3) = 0$ پس شرایط قضیه برقرار است. اما $x^2 - 2x - 3 = (x - 3)(x + 1)$. اگر بازه‌ی $(3, 3 + \delta)$ را آن قدر کوچک انتخاب کنیم که -1 ، ریشه‌ی دیگر چندجمله‌ای در داخل این بازه نباشد، مثلاً $\delta = 1$ ، در این صورت برای تمام $x \in (2, 3)$ بین دو ریشه است و در نتیجه

$$x^2 - 2x - 3 < 0$$

(یا به عبارتی اگر $x \in (2, 3)$ آن‌گاه $x + 1 > 0$ و $(x - 3) < 0$ ، پس $(x - 3)(x + 1) < 0$) و در نتیجه

$$\lim_{x \rightarrow 3^-} \frac{x^2 + x + 2}{x^2 - 2x - 3} = \infty$$

در این جا مثال دیگری را بحث می‌کنیم که با تغییری به شکل یکی از موارد قضیه‌ی ۱۸ تبدیل می‌شود.

مثال ۴۰:

$$\lim_{x \rightarrow 2^+} \frac{\sqrt{x^2 - 4}}{x - 2} = \phi$$

چون $x \rightarrow 2^+$ ، پس $x > 2$. بنابراین $x - 2 > 0$ و $x + 2 > 0$ ، لذا

$$\frac{\sqrt{x^2 - 4}}{x - 2} = \frac{\sqrt{(x - 2)(x + 2)}}{\sqrt{(x - 2)(x - 2)}} = \frac{\sqrt{x + 2}}{\sqrt{x - 2}}$$

توجه کنید که $x > 2$ نتیجه می‌دهد $x - 2 \neq 0$ و بنابراین می‌توانیم عامل $\sqrt{x - 2}$ را از صورت و مخرج حذف کنیم، و

$$\lim_{x \rightarrow 2^+} \sqrt{x + 2} = 2 > 0, \quad \lim_{x \rightarrow 2^+} \sqrt{x - 2} = 0$$

$$\lim_{x \rightarrow 2^+} \frac{\sqrt{x^2 - 4}}{x - 2} = \phi$$

پس

۱- با استفاده از قضیه‌ها، نشان دهید

$$\cdot \lim_{x \rightarrow 5} \frac{1}{(x-5)^6} = \infty \quad (\text{الف})$$

$$\cdot \lim_{x \rightarrow 0} \frac{\sqrt{3+x^2}}{x^2} = \infty \quad (\text{ب})$$

$$\cdot \lim_{x \rightarrow 0} \left(\frac{1}{x} - \frac{1}{x^2} \right) = \infty \quad (\text{ج})$$

$$\cdot \lim_{x \rightarrow 3} \left| \frac{5-x}{3+x} \right| = \infty \quad (\text{د})$$

۲- با استفاده از قضیه‌ها، نشان دهید

$$\cdot \lim_{x \rightarrow 0^-} \frac{\sqrt{3+x^2}}{x} = \infty \quad (\text{الف})$$

$$\cdot \lim_{x \rightarrow 4^+} \frac{\sqrt{x^2-4}}{x-4} = \infty \quad (\text{ب})$$

$$\cdot \lim_{x \rightarrow 2^+} \left(\frac{1}{x-2} - \frac{2}{(x-2)^2} \right) = \infty \quad (\text{ج})$$

۳- a و b را طوری تعیین کنید که

$$\lim_{x \rightarrow 3} \frac{x}{x^2 + ax + b} = \infty$$

۴- رفتار تابع f را وقتی x به سمت مقادیر داده‌شده میل می‌کند بررسی کنید.

$$\cdot x \rightarrow 2^- \text{ وقتی } f(x) = \frac{\sqrt{4-x^2}}{x-2} \quad (\text{الف})$$

$$\cdot x \rightarrow 4^- \text{ وقتی } f(x) = \frac{[x] - 4}{x-4} \quad (\text{ب})$$

قضیه‌های حد بی‌نهایت

در این قسمت قضیه‌های مربوط به حد حاصل جمع و حد حاصل ضرب تابع‌ها را بدون اثبات

بیان می‌کنیم.

قضیه‌ی ۱۹:

الف) اگر $\lim_{x \rightarrow a} f(x) = \infty$ و $\lim_{x \rightarrow a} g(x) = L$ (یا $\lim_{x \rightarrow a} g(x) = \infty$)، آنگاه

$$\cdot \lim_{x \rightarrow a} (f(x) + g(x)) = \infty$$

(ب) اگر $\lim_{x \rightarrow a} f(x) = \infty$ و $\lim_{x \rightarrow a} g(x) = L$ (یا $\lim_{x \rightarrow a} g(x) = \infty$)، آن‌گاه
 $\lim_{x \rightarrow a} (f(x) + g(x)) = \infty$

قضیه ۲۰: اگر $\lim_{x \rightarrow a} f(x) = \infty$ و $\lim_{x \rightarrow a} g(x) = L$ و $L \neq 0$ ، آن‌گاه

(الف) برای $L > 0$ داریم $\lim_{x \rightarrow a} f(x)g(x) = \infty$

(ب) برای $L < 0$ داریم $\lim_{x \rightarrow a} f(x)g(x) = \infty$

قضیه ۲۱: اگر $\lim_{x \rightarrow a} f(x) = \infty$ و $\lim_{x \rightarrow a} g(x) = L$ و $L \neq 0$ ، آن‌گاه

(الف) برای $L > 0$ داریم $\lim_{x \rightarrow a} f(x)g(x) = \infty$

(ب) برای $L < 0$ داریم $\lim_{x \rightarrow a} f(x)g(x) = \infty$

مثال ۴۱: (الف) چون $\lim_{x \rightarrow 0} \frac{1}{x^2} = \infty$ و $\lim_{x \rightarrow 0} -\frac{1}{x-2} = \frac{1}{2}$ ، پس
 $\lim_{x \rightarrow 0} \left(\frac{1}{x^2} - \frac{1}{x-2} \right) = \infty$

(ب) چون $\lim_{x \rightarrow 0} \frac{1}{x^2} = \infty$ و $\lim_{x \rightarrow 0} (x+2) = 2$ ، پس

$$\lim_{x \rightarrow 0} \frac{x+2}{x^2} = \infty$$

نکته: در قضیه‌های ۱۹، ۲۰ و ۲۱، $x \rightarrow a^+$ یا $x \rightarrow a^-$ می‌تواند جایگزین $x \rightarrow a$ شود.
 مثال‌های زیر نشان می‌دهند در صورتی که شرایط قضیه‌های فوق برقرار نباشد نمی‌توان از آن‌ها استفاده کرد و این نه تنها نکته‌ای در مورد این قضیه‌هاست بلکه در مورد هر قضیه‌ای اگر شرایط برقرار نباشد، امکان غلط بودن نتیجه وجود دارد. پس برای به کارگیری قضیه‌ها باید شرایط آن‌ها برقرار باشد.

مثال ۴۲:

(الف) $\lim_{x \rightarrow 0^-} \frac{1}{x} = \infty$ و $\lim_{x \rightarrow 0^-} \frac{1}{x^2} = \infty$ ، اما $\frac{1}{x} + \frac{1}{x} = \frac{1+x}{x^2}$ ، که

$$\lim_{x \rightarrow 0^-} \frac{1+x}{x^2} = \infty$$

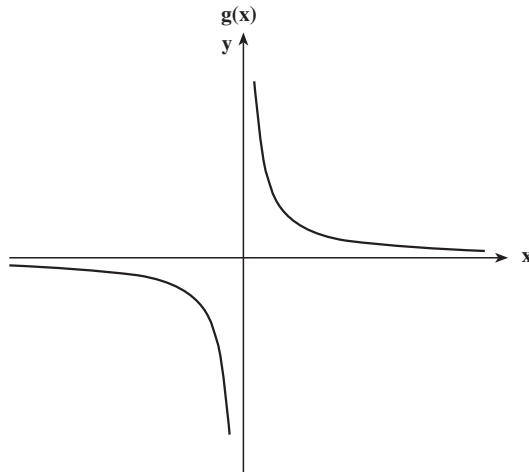
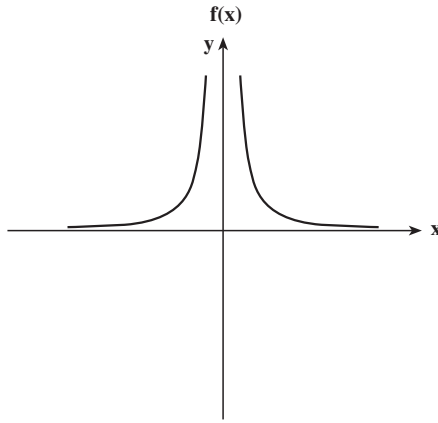
(ب) $\lim_{x \rightarrow 0^-} \frac{1}{x} = \infty$ و $\lim_{x \rightarrow 0^-} \frac{-1}{x} = \infty$ ، ولی $\frac{1}{x} + \left(-\frac{1}{x}\right)$ ، پس

$$\lim_{x \rightarrow 0^-} \left(\frac{1}{x} + \left(-\frac{1}{x}\right) \right) = 0$$

ج) $\lim_{x \rightarrow 0} x^3 = 0$ و $\lim_{x \rightarrow 0} \frac{1}{x^2} = \infty$ اما $x^3 \frac{1}{x^2} = x$ ، که $\lim_{x \rightarrow 0} x^3 \frac{1}{x^2} = 0$

مجانب قائم

مثال ۴۳: به نمودار هریک از تابع‌های $f(x) = \frac{1}{x^2}$ و $g(x) = \frac{1}{x}$ در اطراف نقطه‌ی $x = 0$ توجه کنید:



این دو تابع در بازه‌های $(0, \infty)$ و $(-\infty, 0)$ پیوسته‌اند ولی در نقطه‌ی $x = 0$ تعریف نشده‌اند، از طرفی می‌دانیم $\lim_{x \rightarrow 0^+} f(x) = \infty$ و $\lim_{x \rightarrow 0^+} g(x) = \infty$ ، $\lim_{x \rightarrow 0^-} g(x) = -\infty$ خط $x = 0$ را در هر دو حالت مجانب قائم نمودار می‌گویند.

تعریف: خط $x = a$ را مجانب قائم نمودار تابع f گویند هرگاه حداقل یکی از موارد زیر

برقرار باشد:

الف) $\lim_{x \rightarrow a^+} f(x) = \infty$

ب) $\lim_{x \rightarrow a^+} f(x) = -\infty$

ج) $\lim_{x \rightarrow a^-} f(x) = \infty$

د) $\lim_{x \rightarrow a^-} f(x) = -\infty$

مثال ۴۴: خط $x = ۳$ مجانب قائم تابع

$$f(x) = \frac{x^2 + x + 2}{x^2 - 2x - 3}$$

است (چرا؟).

تمرین‌ها

۱- مطلوب است:

الف) $\lim_{x \rightarrow 4^-} \left(\frac{2}{x^2 + 3x - 4} - \frac{3}{x + 4} \right)$

ب) $\lim_{x \rightarrow 3^-} \frac{x^3 + 9x^2 + 12x}{x^2 + x - 12}$

۲- برای هریک از تابع‌های زیر مجانب‌های قائم را پیدا کنید.

الف) $f(x) = \frac{x^2 + x - 2}{x^2 - x - 6}$

ب) $g(x) = \frac{1}{x^2 + 5x - 6}$

۳- الف) ثابت کنید که اگر $\lim_{x \rightarrow a} f(x) = \infty$ و g در یک همسایگی محذوف a کراندار باشد،

آن‌گاه $\lim_{x \rightarrow a} (f(x) + g(x)) = \infty$

ب) ثابت کنید $\lim_{x \rightarrow 0} \left(\frac{1}{x} + [x] \right) = \infty$

ج) ثابت کنید $\lim_{x \rightarrow 0^+} \left(\frac{1}{x} + \sin \frac{1}{x} \right) = \infty$

۳-۱- رفتار تابع در بی نهایت

تاکنون رفتار تابع را در یک عدد حقیقی بررسی می کردیم. اما اگر تابعی روی مجموعه‌ی اعداد حقیقی $(-\infty, \infty)$ یا بازه‌هایی شبیه (a, ∞) یا $(-\infty, a)$ تعریف شده باشد آن‌گاه بررسی مقادیر تابع وقتی که x خیلی بزرگ می‌شود ($x \rightarrow +\infty$) یا خیلی کوچک می‌شود ($x \rightarrow -\infty$) در برخی از مسائل کاربرد دارد.

مثال زیر نمونه‌ای از کاربرد مسئله است.

مثال ۴۵: رابطه‌ی بین مقاومت موجود در یک مدار (R) ، شدت جریان (I) و اختلاف پتانسیل دو سر یک مدار (V) به صورت زیر است:

$$V = RI$$

اگر اختلاف پتانسیل ثابت، ولی مقاومت خیلی زیاد شود، آن‌گاه شدت جریان خیلی کوچک می‌شود. حال برای تعیین نحوه‌ی بررسی، مثال زیر را در نظر می‌گیریم:

مثال ۴۶: جدول‌های زیر مقادیر تابع‌های داده‌شده را برای x های بزرگ و کوچک نمایش

می‌دهند.

$$f(x) = \frac{1}{x}$$

$$g(x) = \frac{1}{|x|}$$

$$h(x) = x$$

$$i(x) = |x|$$

تابع‌های f و g در بازه‌های $(-\infty, \infty)$ و $(-\infty, \infty)$ و تابع‌های h و i روی مجموعه‌ی اعداد حقیقی

$(-\infty, \infty)$ تعریف شده‌اند.

x	-۱۰	-۱۰۰	-۱۰۰۰	-۱۰۰۰۰	-۱۰۰۰۰۰
$f(x)$	-۰/۱	-۰/۰۱	-۰/۰۰۱	-۰/۰۰۰۱	-۰/۰۰۰۰۱
$g(x)$	+۰/۱	+۰/۰۱	+۰/۰۰۱	+۰/۰۰۰۱	+۰/۰۰۰۰۱
$h(x)$	-۱۰	-۱۰۰	-۱۰۰۰	-۱۰۰۰۰	-۱۰۰۰۰۰
$i(x)$	۱۰	۱۰۰	۱۰۰۰	۱۰۰۰۰	۱۰۰۰۰۰

x	۱۰	۱۰۰	۱۰۰۰	۱۰۰۰۰	۱۰۰۰۰۰
$f(x)$	۰/۱	۰/۰۱	۰/۰۰۱	۰/۰۰۰۱	۰/۰۰۰۰۱
$g(x)$	۰/۱	۰/۰۱	۰/۰۰۱	۰/۰۰۰۱	۰/۰۰۰۰۱
$h(x)$	۱۰	۱۰۰	۱۰۰۰	۱۰۰۰۰	۱۰۰۰۰۰
$i(x)$	۱۰	۱۰۰	۱۰۰۰	۱۰۰۰۰	۱۰۰۰۰۰

همان طوری که مشاهده می شود هر قدر x بزرگ تر شود ($x \rightarrow \infty$) تابع های f و g به 0 نزدیک تر می شوند و هر قدر بخواهیم می توانیم با بزرگ گرفتن x ، مقادیر f و g را به 0 نزدیک کنیم. همین نتیجه برای تابع های f و g با کوچک گرفتن x ($x \rightarrow 0$) نیز حاصل می شود. اما در مورد تابع های h و i وضعیت متفاوت است. (شرح دهید!)

تعریف: اگر تابع f در بازه (a, ∞) تعریف شده باشد و وقتی که x به اندازه ی کافی بزرگ انتخاب شود و مقدار تابع هر اندازه ی دلخواه به عدد ثابت L نزدیک باشد یعنی برای هر $\epsilon > 0$ ، عدد $M > 0$ وجود داشته باشد که اگر $x > M$ ، آن گاه $|f(x) - L| < \epsilon$ ، می گویند وقتی x به بی نهایت میل کند f به عدد L میل می کند و می نویسند:

$$\lim_{x \rightarrow \infty} f(x) = L$$

تعریف: اگر تابع f در بازه $(-\infty, a)$ تعریف شده باشد و وقتی که x به اندازه ی کافی کوچک انتخاب شود و مقدار تابع هر اندازه ی دلخواه به عدد ثابت L نزدیک باشد یعنی برای هر $\epsilon > 0$ ، عدد $M > 0$ وجود دارد که اگر $x < -M$ ، آن گاه $|f(x) - L| < \epsilon$ ، می گویند وقتی x به منهای بی نهایت میل کند f ، به عدد L میل می کند و می نویسند:

$$\lim_{x \rightarrow -\infty} f(x) = L$$

مثال ۴۷:

$$\lim_{x \rightarrow \infty} \frac{1}{x} = \lim_{x \rightarrow \infty} \frac{1}{x} = 0$$

برای هر $\epsilon > 0$ ، اگر $M = \frac{1}{\epsilon}$ آن گاه برای $x > M$ داریم $\frac{1}{x} < \epsilon$ یا $\left| \frac{1}{x} - 0 \right| < \epsilon$ ، یعنی

$$\lim_{x \rightarrow \infty} \frac{1}{x} = 0 \text{ و برای } x < -M \text{ (چون } x \text{ منفی است) } \frac{1}{x} > -\epsilon \text{ یا } \left| \frac{1}{x} - 0 \right| < \epsilon \text{ یعنی } \lim_{x \rightarrow -\infty} \frac{1}{x} = 0$$

قضیه ی ۲۲: اگر n یک عدد طبیعی باشد، آن گاه

$$\lim_{x \rightarrow \infty} \frac{1}{x^n} = 0 \text{ (الف)}$$

$$\lim_{x \rightarrow -\infty} \frac{1}{x^n} = 0 \text{ (ب)}$$

قضیه ی ۲۳: اگر $\lim_{x \rightarrow \infty} f(x) = L_1$ و $\lim_{x \rightarrow \infty} g(x) = L_2$ ، آن گاه

$$\lim_{x \rightarrow \infty} (f(x) \pm g(x)) = L_1 \pm L_2 \text{ (الف)}$$

$$\lim_{x \rightarrow \infty} (f(x)g(x)) = L_1 L_2 \quad (\text{ب})$$

$$\lim_{x \rightarrow \infty} \frac{f(x)}{g(x)} = \frac{L_1}{L_2} \quad L_2 \neq 0 \text{ و } g(x) \neq 0 \quad (\text{ج})$$

نکته: قضیه ۲۳ برای حالتی که x به سمت ∞ میل می کند نیز درست است.

$$\text{مثال ۴۸: می توان نشان داد } \lim_{x \rightarrow \infty} \frac{1+x}{x-2x^3} = 0 \text{ زیرا}$$

$$\lim_{x \rightarrow \infty} \frac{1+x}{x-2x^3} = \lim_{x \rightarrow \infty} \frac{\frac{1}{x^3} + \frac{1}{x^2}}{\frac{1}{x^2} - 2} = \frac{0}{-2} = 0$$

به همین ترتیب

$$\lim_{x \rightarrow \infty} \frac{1+x}{x-2x^3} = 0$$

(چرا؟)

مثال ۴۹: می خواهیم در مورد $\lim_{x \rightarrow \infty} \frac{2x \text{Arc tan } x}{1+x}$ تحقیق کنیم. با توجه به تعریف تابع

$\text{Arctan } x$ روی $(-\infty, \infty)$ و صعودی اکید بودن آن نتیجه می شود $\lim_{x \rightarrow \infty} \text{Arc tan } x = \frac{\pi}{2}$ و نیز

$$\lim_{x \rightarrow \infty} \frac{2x \text{Arc tan } x}{1+x} = \pi \text{ بنابراین } \lim_{x \rightarrow \infty} \frac{2x}{1+x} = 2$$

نکته: اگر $\lim_{x \rightarrow \infty} f(x) = L$ ، آن گاه دنباله $\{f(n)\}$ نیز به L همگراست.

مثال ۵۰: اگر $f(x) = \begin{cases} 1 & \text{فرد } [x] \\ 0 & \text{زوج } [x] \end{cases}$ می توان ثابت کرد که $\lim_{x \rightarrow \infty} f(x)$ وجود ندارد.

چون اگر $\lim_{x \rightarrow \infty} f(x) = L$ ، آن گاه براساس نکته فوق باید دنباله $\{f(n)\}$ نیز به L همگرا باشد

ولی دنباله

$$f(n) = \begin{cases} 1 & \text{فرد } n \\ 0 & \text{زوج } n \end{cases}$$

واگراست و این یک تناقض است.

مجانب‌های افقی و مایل

تعریف: خط $y = L$ را مجانب افقی نمودار تابع f گویند هرگاه حداقل یکی از شرایط زیر

برقرار باشد:

$$\lim_{x \rightarrow \infty} f(x) = L \quad (\text{الف})$$

$$\lim_{x \rightarrow -\infty} f(x) = L \quad (\text{ب})$$

مثال ۵۱: مجانب‌های افقی تابع $\frac{x}{\sqrt{x^2+1}}$ خطوط $y = 1$ و $y = -1$ هستند.

$$\lim_{x \rightarrow \infty} \frac{x}{\sqrt{x^2+1}} = \lim_{x \rightarrow \infty} \frac{1}{\sqrt{1+\frac{1}{x^2}}} = 1$$

$$\lim_{x \rightarrow -\infty} \frac{x}{\sqrt{x^2+1}} = \lim_{x \rightarrow -\infty} \frac{-x}{\sqrt{1+\frac{1}{x^2}}} = -1$$

در مثال ۴۶، تابع‌های h و i با افزایش مقدار x ، بدون کران افزایش می‌یابند و با کاهش x ،

بدون کران کاهش و i بدون کران افزایش می‌یابد. پس می‌توان گفت

$$\lim_{x \rightarrow \infty} h(x) = \lim_{x \rightarrow \infty} i(x) = \infty$$

و $\lim_{x \rightarrow \infty} h(x) = \infty$ و $\lim_{x \rightarrow \infty} i(x) = \infty$ نمونه‌های فوق به‌طور کلی به شکل زیر تعریف می‌شوند:

تعریف:

(الف) $\lim_{x \rightarrow \infty} f(x) = \infty$ ، اگر برای هر $M_1 > 0$ ، عدد $M_2 > 0$ وجود داشته باشد که اگر

$$x > M_2, \text{ آن گاه } f(x) > M_1$$

(ب) $\lim_{x \rightarrow \infty} f(x) = \infty$ ، اگر برای هر $M_1 > 0$ ، عدد $M_2 > 0$ وجود داشته باشد که اگر $x > M_2$ ،

$$f(x) \leq M_1 \text{ آن گاه}$$

(ج) $\lim_{x \rightarrow \infty} f(x) = \infty$ ، اگر برای هر $M_1 > 0$ ، عدد $M_2 > 0$ وجود داشته باشد که اگر

$$x \leq M_2, \text{ آن گاه } f(x) > M_1$$

(د) $\lim_{x \rightarrow \infty} f(x) = \infty$ ، اگر برای هر $M_1 > 0$ ، عدد $M_2 > 0$ وجود داشته باشد که اگر

$$x \leq M_2, \text{ آن گاه } f(x) \leq M_1$$

قضیه ۲۴: اگر $\lim_{x \rightarrow \infty} f(x) = \infty$ و $\lim_{x \rightarrow \infty} g(x) = L$ ، که در آن $L \neq 0$ ، آن گاه

(الف) اگر $L > 0$ ، آن گاه $\lim_{x \rightarrow \infty} g(x)f(x) = \infty$

(ب) اگر $L < 0$ ، آن گاه $\lim_{x \rightarrow \infty} g(x)f(x) = -\infty$

مثال ۵۲:

$$\lim_{x \rightarrow \infty} (x^3 - 3x^2 + 5) = \lim_{x \rightarrow \infty} x^3 \left(1 - \frac{3}{x} + \frac{5}{x^2}\right) = \infty \quad (\text{الف})$$

(ب)

$$\begin{aligned} \lim_{x \rightarrow \infty} \frac{x^2 + 1}{x + 5} &= \lim_{x \rightarrow \infty} \frac{x^2 \left(1 + \frac{1}{x}\right)}{x \left(1 + \frac{5}{x}\right)} \\ &= \lim_{x \rightarrow \infty} \frac{x \left(1 + \frac{1}{x}\right)}{1 + \frac{5}{x}} = \infty \end{aligned}$$

(چرا؟)

در پایان این قسمت مفهوم مجانب مایل را تعریف می‌کنیم.

تعریف: خط $y = ax + b$ مجانب مایل نمودار تابع $f(x)$ است، هرگاه حداقل یکی از شرایط

زیر برقرار باشد.

(الف) $\lim_{x \rightarrow \infty} |f(x) - (ax + b)| = 0$

(ب) $\lim_{x \rightarrow \infty} |f(x) - (ax + b)| = 0$

مثال ۵۳: اگر $f(x) = \frac{x^2 + 1}{x + 5}$ ، آن گاه

$$f(x) = x - 5 + \frac{26}{x + 5}$$

و چون $\lim_{x \rightarrow \infty} \frac{26}{x + 5} = 0$ ، پس $\lim_{x \rightarrow \infty} |f(x) - (x - 5)| = 0$ یعنی $y = x - 5$ مجانب مایل نمودار تابع

$$f(x) = \frac{x^2 + 1}{x + 5} \text{ است.}$$

اگر تابع f در یک بازه شامل بازه‌ی (c, ∞) تعریف شده و خط $y = ax + b$ مجانب مایل

نمودار آن باشد، با در نظر گرفتن $h(x) = f(x) - ax - b$ طبق تعریف مجانب مایل داریم

$$\lim_{x \rightarrow \infty} h(x) = 0$$

حال می‌نویسیم:

$$a = \frac{f(x)}{x} - \frac{b}{x} - \frac{h(x)}{x}$$

در نتیجه

$$(1) \quad a = \lim_{x \rightarrow \infty} \frac{f(x)}{x}$$

و همچنین

$$(2) \quad b = f(x) - ax - h(x)$$

و یا

$$b = \lim_{x \rightarrow \infty} (f(x) - ax)$$

بدیهی است که وقتی خط $y = ax + b$ مجانب نمودار تابع $y = f(x)$ است که حدهای (1) و

(2) وجود داشته باشند.

به طریق مشابه می‌توان نشان داد که اگر تابع f در یک بازه شامل بازه‌ی (c, ∞) تعریف شده

و $y = ax + b$ مجانب مایل نمودار آن باشد، آن‌گاه

$$\lim_{x \rightarrow \infty} (f(x) - ax) = b \quad \text{و} \quad \lim_{x \rightarrow \infty} \frac{f(x)}{x} = a$$

(چرا؟)

$$\text{مثال ۵۴: برای تابع } f(x) = \frac{x^2}{\sqrt{x^2 - 1}}$$

$$a_1 = \lim_{x \rightarrow \infty} \frac{x}{\sqrt{x^2 - 1}} = 1 \quad \text{و} \quad a_2 = \lim_{x \rightarrow -\infty} \frac{x}{\sqrt{x^2 - 1}} = -1$$

و

$$b_1 = \lim_{x \rightarrow \infty} \left(\frac{x^2}{\sqrt{x^2 - 1}} - x \right) = 0$$

و

$$b_2 = \lim_{x \rightarrow -\infty} \left(\frac{x^2}{\sqrt{x^2 - 1}} + x \right) = 0$$

پس خط‌های $y = -x$ و $y = x$ مجانب‌های مایل نمودار تابع فوق‌اند.

تمرین‌ها

۱- حدهای زیر را به دست آورید.

$$\lim_{x \rightarrow \infty} \frac{3x^2 + 1}{2x^2 + 5} \quad (\text{الف})$$

$$\lim_{x \rightarrow \infty} \frac{\sqrt{x}(x+1)}{(2\sqrt{x}+5)^2(1-\sqrt{x})} \quad (\text{ب})$$

$$\lim_{x \rightarrow \infty} (\sqrt{x^2 + x} - x) \quad (\text{ج})$$

۲- ثابت کنید اگر P_n و Q_n دو چندجمله‌ای با درجه n باشند و a_n ضریب x^n در P_n و b_n ضریب x^n در Q_n باشند، آن‌گاه

$$\lim_{x \rightarrow \infty} \frac{P_n(x)}{Q_n(x)} = \frac{a_n}{b_n}$$

۳- مجانب‌های افقی و مایل هر یک از تابع‌های زیر را در صورت وجود به دست آورید.
(الف)

$$f(x) = \frac{4x}{x^2 + 5} \quad (\text{ب})$$

$$f(x) = \frac{x^3}{x^2 - 1} \quad (\text{ج})$$

$$f(x) = x + \sqrt{x^2 + 2x} \quad (\text{د})$$

$$f(x) = x \sqrt{\frac{x-1}{x+1}}$$

حد

ریاضی‌دان‌ها حتی قبل از این‌که بتوانند مفهوم دقیق حد را بیان کنند، در مورد آن بحث می‌کرده‌اند. یونانیان باستان درکی از مفهوم حد داشته‌اند. مثلاً ارشمیدس مقدار تقریبی 2π را با استفاده از محیط چندضلعی‌های منتظم محاط در دایره به شعاع واحد، وقتی که تعداد اضلاع بدون کران افزایش می‌یابد به دست آورد. در قرون وسطی نیز تا زمان رنسانس انواع مفاهیم حد برای به دست آوردن مساحت شکل‌های مختلف به کار رفته است.

نیوتن و لابنیتس در قرن هفدهم، درک شهودی خوبی از حد داشته و حتی حدهای پیچیده‌ای را نیز محاسبه کرده‌اند. اما نه آن‌ها و نه در آن قرن، دانشمندان دیگر تعریف دقیقی از حد را ارائه نکرده‌اند.

یک قرن پس از پیشرفت حساب دیفرانسیل و انتگرال، آلمبرت در سال ۱۷۵۴ عنوان کرد که پایه‌ی منطقی مباحث این رشته از دانش بشری مفهوم حد است. کُشی در اوایل قرن نوزدهم حساب دیفرانسیل و انتگرال را به شکلی شبیه آنچه در حال حاضر می‌خوانیم ارائه داد:

«وقتی که مقادیر متوالی که به یک متغیر نسبت داده می‌شود، بی‌نهایت به عدد ثابتی نزدیک شوند، به طوری که اختلاف آن‌ها از مقدار ثابت به هر اندازه کوچک قابل انتخاب باشد، این مقدار ثابت را حد همه مقادیر متغیر می‌گویند.»

اگرچه تعریف او از حد، باز هم دقیق نبود ولی او قدم بزرگی برای رسیدن به تعریف دقیق فعلی برداشت.

تا این‌که سرانجام ویراشتراس در قرن نوزدهم تعریف دقیق حد را مطرح کرد که همواره مورد استناد ریاضی‌دانان است و در این کتاب نیز آورده شده است.

مشق (۱)

در این فصل پس از معرفی مفهوم مشتق، چند قضیه درباره‌ی مشتق بیان می‌کنیم و سپس به برخی از کاربردهای آن می‌پردازیم.

۴-۱- مقدمه

سرعت را چگونه اندازه‌گیری می‌کنیم؟ اگر اتومبیلی مسافت بین دو شهر را که ۱۲° کیلومتر است در دو ساعت بپیماید، می‌گوییم سرعت متوسط این اتومبیل ۶° کیلومتر در ساعت بوده است ولی این بدین معنی نیست که عقربه‌ی سرعت‌سنج اتومبیل همواره عدد ۶° را نشان داده است. از طرفی اگر سانحه‌ی تصادفی برای این اتومبیل رخ دهد و گزارش کارشناس بدین گونه باشد که «اتومبیل هنگام تصادف سرعتی برابر ۱۴° کیلومتر داشته است» چه تعبیری می‌توان داشت؟ در این جا می‌توان گفت که در لحظه‌ی تصادف عقربه‌ی سرعت‌سنج عدد ۱۴° را نمایش داده و می‌گوییم سرعت لحظه‌ای برابر ۱۴° بوده است. قبلاً در دروس فیزیک مشاهده کرده‌اید که سرعت متوسط، نسبت (خارج قسمت) مسافت طی شده به طول زمان لازم برای این کار است و سرعت لحظه‌ای متحرک در یک زمان خاص، مقدار حدی همین سرعت متوسط است، هرگاه طول زمان را کوچک و کوچک‌تر کنیم.

مثال ۱: (سرعت لحظه‌ای): فرض کنید جسمی هنگام سقوط آزاد از حالت سکون مسافتی

برابر $S(t) = 5t^2$ متر را در t ثانیه طی کند. مسافت طی شده توسط این متحرک را برای چند مقدار

مشخص t در جدول صفحه‌ی بعد مشاهده می‌کنید:

t	۱	۱/۰۱	۱/۱	۲	۳
S(t)	۵	۵/۱۰۰۵	۶/۰۵	۲۰	۴۵

سرعت متوسط این متحرک در فاصله‌ی زمانی $t=1$ تا $t=2$ برابر است با

$$\frac{S(2) - S(1)}{2 - 1} = \frac{20 - 5}{1} = 15 \text{ متر در ثانیه}$$

همچنین سرعت متوسط این متحرک در فاصله‌ی زمانی $t=1$ تا $t=1/1$ ثانیه برابر

است با :

$$\frac{S(1/1) - S(1)}{1/1 - 1} = \frac{6/05 - 5}{0/1} = 10/5 \text{ متر در ثانیه}$$

و بالاخره سرعت متوسط این متحرک در فاصله‌ی زمانی $t=1$ تا $t=1/01$ ثانیه برابر است با :

$$\frac{S(1/01) - S(1)}{1/01 - 1} = \frac{5/1005 - 5}{0/01} = 10/05 \text{ متر در ثانیه}$$

در این جا می‌توان با کوچک‌تر کردن فاصله‌ی زمانی، به سرعت لحظه‌ای در $t=1$ رسید.

اگر سرعت متوسط متحرک را در فاصله‌ی زمانی $t=a$ تا $t=a+h$ با \bar{V} نمایش

دهیم، آن‌گاه

$$\bar{V} = \frac{S(a+h) - S(a)}{h}$$

V سرعت لحظه‌ای متحرک در $t=a$ برابر خواهد شد با :

$$V = \lim_{h \rightarrow 0} \frac{S(a+h) - S(a)}{h}$$

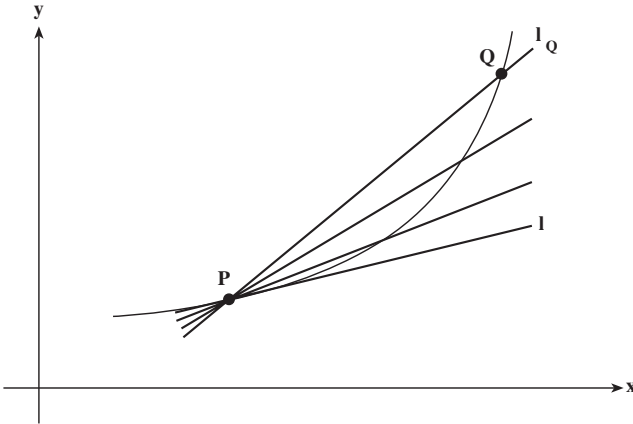
سرعت لحظه‌ای این متحرک در $t=1$ برابر است با

$$\begin{aligned} \lim_{h \rightarrow 0} \frac{S(1+h) - S(1)}{h} &= \lim_{h \rightarrow 0} \frac{5(1+h)^2 - 5}{h} = \lim_{h \rightarrow 0} \frac{10h + 5h^2}{h} \\ &= \lim_{h \rightarrow 0} (10 + 5h) = 10 \text{ متر در ثانیه} \end{aligned}$$

مثال ۲: (خط مماس) نقطه‌ی $P(a, f(a))$ را روی نمودار تابع f در نظر بگیرید. اگر Q نقطه‌ی

دیگری روی نمودار f باشد، خط قاطع که از نقاط P و Q می‌گذرد را I_Q می‌نامیم. اکنون اگر اجازه

دهیم که نقطه‌ی Q روی نمودار f به P نزدیک شود، خط I_Q حول نقطه‌ی P می‌چرخد و در صورتی



که شرایط مناسب باشد به سمت خطی که از نقطه‌ی P می‌گذرد و آن را l می‌نامیم میل خواهد کرد. به شکل روبه‌رو توجه کنید :

خط l که حالت حدی خطوطِ قاطعِ گذرنده از P و Q است، هنگامی که Q به P میل می‌کند را، خط مماس بر نمودار f در نقطه‌ی P می‌نامند. (توجه کنید که نقطه‌ی Q می‌تواند در هر یک از دو طرف نقطه‌ی P روی نمودار f اختیار شود)

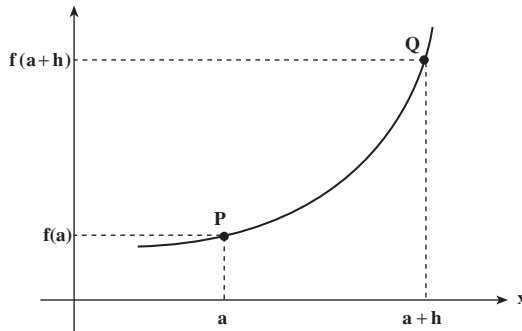
اکنون به بررسی وضعیت شیب^۱ (ضریب زاویه) هر یک از خطوط فوق می‌پردازیم. اگر مختصات نقطه‌ی Q، $(x, f(x))$ باشد، آن‌گاه شیب خط l_Q برابر است با :

$$\frac{f(x) - f(a)}{x - a}$$

اگر $h = x - a$ باشد، آن‌گاه $f(x) = f(a + h)$ و رابطه‌ی فوق را می‌توان به صورت زیر هم نوشت :

$$\frac{f(a + h) - f(a)}{h}$$

از آن‌جا که هر نقطه‌ی Q روی نمودار f متناظر با یک h است



۱- شیب یک خط برابر تانژانت زاویه‌ای است که آن خط با جهت مثبت محور x می‌سازد.

و هنگامی که Q به P میل می کند، h به صفر میل می کند، پس شیب خط l، مماس بر منحنی در P، برابر است با

$$\lim_{h \rightarrow 0} \frac{f(a+h) - f(a)}{h}$$

(توجه کنید که اگر h منفی باشد، نقطه‌ی Q در سمت چپ P و روی نمودار f قرار دارد).^۱ همان گونه که در مثال‌های ۱ و ۲ مشاهده کردید، دو مفهوم متفاوت از فیزیک و هندسه وقتی به زبان ریاضی بیان شدند یک شکل واحد پیدا کردند. می‌توان مثال‌های دیگری از سایر شاخه‌های علوم مطرح کرد که آن‌ها نیز همین ایده را بیان می‌کنند. به ارائه تعریف دقیق این مفهوم ریاضی می‌پردازیم.

تعریف: برای تابع f که در همسایگی نقطه‌ی a تعریف شده است، اگر

$$(۱) \quad \lim_{h \rightarrow 0} \frac{f(a+h) - f(a)}{h}$$

وجود داشته باشد، می‌گویند f در a مشتق پذیر است و این حد بکتا را با $f'(a)$ نمایش داده آن را مشتق تابع f در a می‌نامند.
نکته: گاهی هم می‌نویسند:

$$(۲) \quad f'(a) = \lim_{x \rightarrow a} \frac{f(x) - f(a)}{x - a}$$

زیرا دیده‌ایم که حدهای (۱) و (۲) معادلند. همچنین گاهی می‌نویسند $\Delta f = f(x) - f(a)$ و $\Delta x = x - a$

$$(۳) \quad f'(a) = \lim_{\Delta x \rightarrow 0} \frac{\Delta f}{\Delta x}$$

از آن جا که (۱)، (۲) و (۳) با هم تفاوتی ندارند، با توجه به موقعیت، می‌توان از هر کدام که مناسب و ساده‌تر است استفاده کرد.

۱- اگر f در a پیوسته باشد و $\lim_{h \rightarrow 0} \frac{f(a+h) - f(a)}{h} = \infty$ یا $\lim_{h \rightarrow 0} \frac{f(a+h) - f(a)}{h} = \infty$ ، آن گاه خط $x = a$ مماس بر منحنی در نقطه P است.

مثال ۳: برای تابع $f(x) = x^3$ ، داریم:

$$\begin{aligned} f'(2) &= \lim_{x \rightarrow 2} \frac{x^3 - 8}{x - 2} \\ &= \lim_{x \rightarrow 2} \frac{(x-2)(x^2 + 2x + 4)}{x - 2} \\ &= \lim_{x \rightarrow 2} (x^2 + 2x + 4) = 12 \end{aligned}$$

مثال ۴: اگر $f(x) = \sqrt{x}$ و $a > 0$ ، آن‌گاه

$$\begin{aligned} f'(a) &= \lim_{h \rightarrow 0} \frac{\sqrt{a+h} - \sqrt{a}}{h} \\ &= \lim_{h \rightarrow 0} \frac{\sqrt{a+h} - \sqrt{a}}{h} \times \frac{\sqrt{a+h} + \sqrt{a}}{\sqrt{a+h} + \sqrt{a}} \\ &= \lim_{h \rightarrow 0} \frac{1}{\sqrt{a+h} + \sqrt{a}} = \frac{1}{2\sqrt{a}} \end{aligned}$$

مثال ۵: برای تابع $f(x) = |x|$ ، $f'(0)$ وجود ندارد. زیرا حد عبارت

$$\frac{f(0+h) - f(0)}{h} = \frac{|h|}{h}$$

وقتی $h \rightarrow 0$ به دلیل عدم برابری حدهای راست و چپ وجود ندارد. (چرا؟)

مثال ۶: جدول زیر برخی از مقادیر تابع f را در همسایگی نقطه‌ی ۱ (با دقت سه رقم اعشار)

نشان می‌دهد.

x	۰/۹	۰/۹۹	۱	۱/۰۱	۱/۱
$f(x)$	۱/۵۹۰	۱/۹۵۱	۲	۲/۰۵۱	۱/۶۱۱

از این اطلاعات برای تخمین $f'(1)$ می‌توان بدین صورت استفاده کرد:

$$f'(1) \approx \frac{f(1) - f(0/99)}{1 - 0/99} = \frac{2 - 1/951}{0/01} = 4/9$$

و یا

$$f'(1) \approx \frac{f(1) - f(1/01)}{1 - 1/01} = \frac{2 - 2/051}{-0/01} = 5/1$$

توجه کنید که در این جا فرض می‌کنیم $f'(1)$ وجود دارد و h را تا حد امکان کوچک اختیار می‌کنیم. اگر همچنین بدانیم که $f(0/999) = 1/999$ و $f(1/001) = 2/005$ ، آن گاه تخمین بهتری برای $f'(1)$ برابر است با:

$$f'(1) \approx \frac{f(1) - f(0/999)}{1 - 0/999} = \frac{2 - 1/999}{0/001} = 5/00$$

و یا

$$f'(1) \approx \frac{f(1) - f(1/001)}{1 - 1/001} = \frac{2 - 2/005}{-0/001} = 5/00$$

۴-۲- مشتق پذیری و پیوستگی

در مثال ۲، هنگام بررسی خط مماس بر نمودار یک تابع، گفتیم که اگر شرایط مناسب باشد خط مماس وجود دارد؛ این شرایط چیست؟ اگر f در a ناپیوسته باشد آیا نقطه‌ی Q می‌تواند روی نمودار به P میل کند؟ قضیه‌ی زیر که اثبات آن را قبلاً دیده‌اید بیان می‌کند که پیوستگی f در a شرطی لازم است. **قضیه‌ی ۱:** اگر تابع f در نقطه‌ی a مشتق پذیر باشد، آن گاه در آن نقطه پیوسته است.

نکته: مثال ۵ نشان می‌دهد که عکس قضیه‌ی ۱ برقرار نیست، یعنی ممکن است f در نقطه‌ای پیوسته باشد، ولی در آن نقطه مشتق پذیر نباشد. همچنین از قضیه‌ی ۱ نتیجه می‌شود که اگر f در نقطه‌ای ناپیوسته باشد در آن نقطه مشتق ندارد. برای نمونه، چون تابع $f(x) = [x]$ در نقطه‌ی ۱ ناپیوسته است، در آن نقطه مشتق نیز ندارد.

مثال ۷: مشتق تابع $f(x) = mx + b$ در نقطه‌ی دلخواه a برابر است با

$$\begin{aligned} f'(a) &= \lim_{x \rightarrow a} \frac{f(x) - f(a)}{x - a} \\ &= \lim_{x \rightarrow a} \frac{(mx + b) - (ma + b)}{x - a} = m \end{aligned}$$

بنابراین مشتق ثابت و برابر m است. همان طور که مشاهده کردید و انتظار هم می‌رفت، شیب یک خط عددی ثابت است. این مطلب را با توجه به مثال ۲، هنگامی که $f(x) = mx + b$ می‌توان دید، دقت کنید وقتی نمودار f یک خط باشد، مماس بر آن در هر نقطه منطبق بر خود f است.

مثال ۸: معادله‌ی خط مماس بر نمودار تابع $f(x) = \frac{1}{4}x^2$ در نقطه‌ی $(2, 1)$ را می‌توان به این

ترتیب به دست آورد که ابتدا شیب خط مماس در نقطه‌ی ۲، $f'(2)$ ، را محاسبه کرد:

$$\begin{aligned} f'(2) &= \lim_{x \rightarrow 2} \frac{\frac{1}{4}x^2 - 1}{x - 2} \\ &= \lim_{x \rightarrow 2} \frac{1}{4} \frac{(x-2)(x+2)}{(x-2)} = \lim_{x \rightarrow 2} \frac{1}{4}(x+2) = 1 \end{aligned}$$

و سپس معادله‌ی خطی که از نقطه‌ی $(2, 1)$ با شیب ۱ می‌گذرد را به دست آورد.

$$y = x - 1$$

مثال ۹: تابع $f(x) = \sin x$ در نقطه‌ی 0 مشتق‌پذیر است زیرا

$$\begin{aligned} f'(0) &= \lim_{h \rightarrow 0} \frac{\sin(0+h) - \sin(0)}{h} \\ &= \lim_{h \rightarrow 0} \frac{\sin(h)}{h} = 1 \end{aligned}$$

و خط $y = x$ بر نمودار آن در مبدأ مماس است.

مثال ۱۰: به ازای چه مقادیری از m و b تابع $f(x)$ که

$$f(x) = \begin{cases} mx + b & x < a \\ x^2 & x \geq a \end{cases}$$

در نقطه‌ی a مشتق‌پذیر است؟

با توجه به شرط لازم مشتق‌پذیری (قضیه‌ی ۱)، تابع f باید در نقطه‌ی a پیوسته باشد. بنابراین

$$\lim_{x \rightarrow a^-} f(x) = \lim_{x \rightarrow a^+} f(x) = f(a)$$

یعنی

$$ma + b = a^2$$

و همچنین باید

$$\lim_{h \rightarrow 0} \frac{f(a+h) - f(a)}{h}$$

وجود داشته که کافیت حدهای راست و چپ در $h = 0$ موجود و برابر باشند، پس

$$\lim_{h \rightarrow 0^+} \frac{f(a+h) - f(a)}{h} = \lim_{h \rightarrow 0^+} \frac{(a+h)^2 - a^2}{h} = 2a$$

و

$$\lim_{h \rightarrow 0^-} \frac{f(a+h) - f(a)}{h} = \lim_{h \rightarrow 0^-} \frac{m(a+h) + b - (ma+b)}{h} = m$$

بنابراین $m = 2a$ و بالاخره

$$b = a^2 - ma = -a^2$$

پرسش: چه موقع تابع f در نقطه‌ی a مشتق پذیر نیست؟

همان طور که مشاهده کردید، تابع f در نقطه‌ی a مشتق دارد هرگاه

$$(۴) \lim_{h \rightarrow 0} \frac{f(a+h) - f(a)}{h}$$

وجود داشته باشد. اگر حداقل یکی از حالت‌های زیر برای تابع f اتفاق بیفتد، f در a مشتق ندارد:

۱- f در هیچ همسایگی نقطه a تعریف نشده باشد (مانند \sqrt{x} در نقطه‌ی 0).

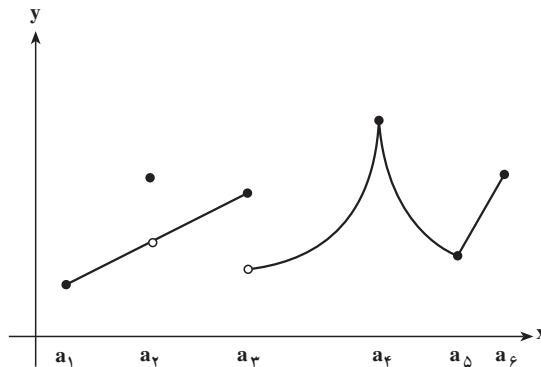
۲- f گرچه در همسایگی a تعریف شده ولی در آن نقطه پیوسته نباشد (مانند تابع $[x]$ در نقطه‌ی 0).

۳- در رابطه‌ی (۴) حدهای راست و چپ موجود ولی نابرابر باشند (مانند تابع $|x|$ در نقطه‌ی 0).

۴- در رابطه‌ی (۴) حداقل یکی از حدهای راست و چپ موجود نباشند (مانند تابع $\sqrt[3]{x}$ در

نقطه‌ی 0).

در شکل زیر تابع f با $D_f = [a_1, a_6]$ در شش نقطه‌ی $a_1, a_2, a_3, a_4, a_5, a_6$ مشتق ندارد. (چرا؟)



نکته: در صورتی که $\lim_{h \rightarrow 0^+} \frac{f(a+h) - f(a)}{h}$ وجود داشته باشد، آن را مشتق راست تابع f در

a نامیده با $f'_+(a)$ نمایش می‌دهند. از طرف دیگر، اگر $\lim_{h \rightarrow 0^-} \frac{f(a+h) - f(a)}{h}$ وجود داشته باشد،

آن را مشتق چپ f در a نامیده با $f'_-(a)$ نمایش می دهند. هنگام صحبت از مشتق های چپ یا راست، نیازی نیست که تابع در طرف دیگر تعریف شده باشد.

دقت کنید که $f'(a)$ موجود است اگر و تنها اگر $f'_+(a)$ و $f'_-(a)$ موجود و برابر باشند. با توجه به مثال ۵، برای تابع $f(x) = |x|$ در نقطه 0 داریم $f'_+(0) = 1$ و $f'_-(0) = -1$.

تمرین ها

۱- مکان متحرکی پس از t ثانیه از مبدأ در جدول زیر برحسب متر داده شده است.

t	۰	۰/۲	۰/۴	۰/۶	۰/۸	۱
$s(t)$	۰	۰/۲۵	۰/۹	۱/۵۵	۳/۲۵	۴/۸

الف) سرعت متوسط متحرک در بازه $[0, 1]$ چقدر است؟

ب) سرعت لحظه ای متحرک در $t = 0/2$ ثانیه، تقریباً چقدر است؟

۲- جسمی روی یک خط راست به گونه ای حرکت می کند که مکان آن در لحظه t (برحسب ثانیه) $S(t) = 2t^2 + 2$ متر است.

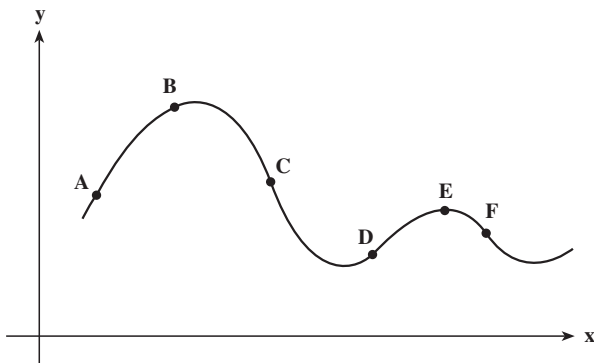
الف) سرعت متوسط متحرک در فاصله ی زمانی $2 \leq t \leq 3$ چقدر است؟

ب) سرعت متوسط متحرک در فاصله ی زمانی $2 \leq t \leq 2/1$ چقدر است؟

ج) سرعت لحظه ای متحرک در $t = 2$ چقدر است؟

۳- اگر جسمی روی محور به گونه ای حرکت کند که فاصله ی آن از مبدأ پس از t ثانیه برابر $S(t) = -t^2 + 4t$ متر باشد، در چه لحظه ای جسم متوقف می شود (سرعت لحظه ای آن صفر می شود)؟

۴- شیب تقریبی خط مماس بر نمودار



در تعدادی نقطه در جدول زیر داده شده است. آن نقطه‌ها را تعیین کنید.

شیب	-۲	-۱	۰	$\frac{1}{2}$	۱	۳
نقطه						

۵- تابع $f(x) = x^3 + 1$ را در نظر بگیرید.

الف) نمودار f را رسم کنید.

ب) خط مماس بر نمودار f را در نقطه‌ی $(2, 9)$ رسم کنید.

ج) شیب این خط مماس را به‌طور تقریبی تعیین کنید.

د) شیب خط قاطع‌گذرنده از نقطه‌های $(2, 9)$ و $(1/999, 1 + (1/999)^3)$ را محاسبه کنید.

ه) شیب خط مماس را در نقطه‌ی $(2, 9)$ دقیقاً تعیین کنید.

۶- با استفاده از تعریف مشتق توابع زیر را در نقاط داده‌شده به‌دست آورید:

الف) $f(x) = \sqrt[3]{x}$ در نقطه‌ی ۱.

ب) $f(x) = \sqrt{x^2 + 1}$ در نقطه‌ی ۰.

۷- مشتق هریک از تابع‌های زیر را با استفاده از تعریف در نقطه‌ی a تعیین کنید.

الف) $f(x) = 4x^2 - 3$.

ب) $g(x) = x^4$.

ج) $h(x) = \frac{1}{x}$ برای $a \neq 0$. وضعیت در نقطه‌ی ۰ چیست؟

۸- در مورد مشتق‌پذیری هریک از تابع‌های زیر در نقطه‌های داده‌شده بحث کنید.

الف) $f(x) = \begin{cases} x & x \leq 0 \\ x^2 & x > 0 \end{cases}$ در نقطه‌ی ۰.

ب) $f(x) = \begin{cases} 2x+1 & x < 1 \\ 3 & x = 1 \\ x^2+3 & x > 1 \end{cases}$ در نقطه‌ی ۱.

۹- نمودار تابع $f(x) = (x-1)[x]$ را روی بازه‌ی $[0, 1]$ رسم کنید و $f'_-(1)$ و $f'_+(1)$ و $f'(1)$

را بیابید.

۱۰- نشان دهید که برای تابع $f(x) = \cos x$ ، $f'(0) = 0$.

۱۱- اگر تابع f در نقطه‌ی a پیوسته باشد، نشان دهید تابع $g(x) = (x-1)f(x)$ در a مشتق پذیر است.

۴-۳- چند قضیه

استفاده از تعریف برای محاسبه مشتق توابع همواره آسان نیست. در این قسمت، چند قضیه که محاسبه‌ی مشتق تابع‌ها را ساده می‌کند، بیان و برخی از آن‌ها را ثابت می‌کنیم.

قضیه‌ی ۲: اگر f و g هر دو در نقطه‌ی a مشتق پذیر باشند و c یک عدد ثابت باشد، آن‌گاه تابع‌های $f \pm g$ ، cf و fg نیز در a مشتق پذیرند و

$$\text{الف) } (f \pm g)'(a) = f'(a) \pm g'(a)$$

$$\text{ب) } (cf)'(a) = cf'(a)$$

$$\text{ج) } (fg)'(a) = f'(a)g(a) + f(a)g'(a)$$

اثبات: قسمت (ج) را ثابت می‌کنیم، اثبات سایر قسمت‌ها به عهده دانش‌آموزان است. فرض کنید که $F = fg$. در این صورت

$$\begin{aligned} \frac{F(a+h) - F(a)}{h} &= \frac{f(a+h)g(a+h) - f(a)g(a)}{h} \\ &= \frac{f(a+h)g(a+h) - f(a)g(a+h) + f(a)g(a+h) - f(a)g(a)}{h} \\ &= \frac{f(a+h) - f(a)}{h} g(a+h) + f(a) \frac{g(a+h) - g(a)}{h} \end{aligned}$$

و چون f و g هر دو در a مشتق پذیرند، پس

$$\lim_{h \rightarrow 0} \frac{f(a+h) - f(a)}{h} = f'(a)$$

و

$$\lim_{h \rightarrow 0} \frac{g(a+h) - g(a)}{h} = g'(a)$$

علاوه بر آن، به دلیل پیوستگی g در a

$$\lim_{h \rightarrow 0} g(a+h) = g(a)$$

بنابراین

$$\lim_{h \rightarrow 0} \frac{F(a+h) - F(a)}{h} = f'(a)g(a) + f(a)g'(a)$$

قضیه ۳: اگر f و g هر دو در نقطه‌ی a مشتق پذیر و g در یک همسایگی a مخالف صفر

باشد، آن گاه توابع $\frac{1}{g}$ و $\frac{f}{g}$ در a مشتق پذیرند و

$$\left(\frac{1}{g}\right)'(a) = \frac{-g'(a)}{g^2(a)}$$

$$\left(\frac{f}{g}\right)'(a) = \frac{f'(a)g(a) - f(a)g'(a)}{g^2(a)}$$

اثبات: قسمت الف را ثابت می‌کنیم و اثبات قسمت دوم به عهده دانش‌آموزان است.

تابع $F = \frac{1}{g}$ در یک همسایگی نقطه‌ی a تعریف شده است. پس برای h که $F(a+h)$ تعریف

شده باشد، داریم

$$\begin{aligned} \frac{F(a+h) - F(a)}{h} &= \frac{1}{h} \left[\frac{1}{g(a+h)} - \frac{1}{g(a)} \right] \\ &= \frac{1}{h} \left[\frac{g(a) - g(a+h)}{g(a+h)g(a)} \right] \\ &= \frac{-1}{g(a)g(a+h)} \left[\frac{g(a+h) - g(a)}{h} \right] \end{aligned}$$

و چون g در a مشتق پذیر است، داریم

$$\lim_{h \rightarrow 0} \frac{F(a+h) - F(a)}{h} = \frac{-1}{g^2(a)} g'(a)$$

مثال ۱۱: هر دو جزء تشکیل دهنده تابع $f(x) = x^3 + (4x+2)$ بنا بر مثال‌های ۳ و ۷ در

نقطه‌ی ۲ مشتق پذیرند و به ترتیب مشتق‌های ۱۲ و ۴ دارند، پس می‌توان گفت:

$$f'(2) = 12 + 4 = 16$$

معادله‌ی خط مماس بر نمودار این تابع در نقطه‌ی (۲, ۱۸) برابر

$$y = 18 + 16(x - 2)$$

و معادله‌ی خط قائم بر نمودار این تابع در آن نقطه (خطی که بر خط مماس در آن نقطه عمود است) برابر

$$y = 18 - \frac{1}{16}(x - 2)$$

است.

مثال ۱۲: اگر تابع‌های f_1, f_2, \dots, f_n همگی در نقطه‌ی a مشتق‌پذیر باشند، چون

$$(f_1 + f_2 + \dots + f_n)(a) = (f_1 + f_2 + \dots + f_{n-1})(a) + f_n(a)$$

با استفاده از استقرا و (بخش الف) قضیه‌ی ۲ می‌توان نتیجه گرفت که تابع

$$f_1 + f_2 + \dots + f_n$$

نیز در a مشتق‌پذیر است (چرا؟) و

$$(f_1 + f_2 + \dots + f_n)'(a) = f_1'(a) + f_2'(a) + \dots + f_n'(a)$$

بنابراین تابع $f(x) = x^3 + 4x + 2 + \sqrt{x}$ در نقطه‌ی ۲ مشتق‌پذیر است و داریم

$$f'(2) = 12 + 4 + \frac{1}{2\sqrt{2}} = 16 + \frac{1}{2\sqrt{2}}$$

قضیه‌ی زیر را بدون اثبات بیان می‌کنیم.

قضیه‌ی ۴: برای $n \in \mathbb{N}$ ،

الف) تابع $f(x) = x^n$ در هر نقطه‌ی a مشتق‌پذیر است و

$$f'(a) = na^{n-1}$$

ب) تابع $g(x) = x^{\frac{1}{n}}$ در هر نقطه‌ی $a \neq 0$ که تابع در یک همسایگی آن تعریف شده باشد،

مشتق‌پذیر است و

$$g'(a) = \frac{1}{n} a^{\frac{1}{n}-1}$$

۱- یادآوری: حاصل ضرب شیب دو خط عمود بر هم (که هیچ‌یک از آن‌ها افقی نیست) در یک نقطه برابر -۱ است.

مثال ۱۳: چند جمله‌ای درجه‌ی n

$$P_n(x) = c_0 + c_1x + \dots + c_nx^n \quad (C_n \neq 0)$$

در هر نقطه‌ی a مشتق پذیر است و

$$P'_n(a) = c_1 + 2c_2a + 3c_3a^2 + \dots + nc_n a^{n-1}$$

مثال ۱۴: برای $n \in \mathbb{N}$ نشان می‌دهیم تابع $f(x) = x^{-n}$ برای $a \neq 0$ مشتق پذیر است و

$$f'(a) = -na^{-n-1}$$

چون $f(x) = x^{-n} = \frac{1}{x^n}$ بنا به قضیه‌ی ۳

$$f'(a) = \frac{-na^{n-1}}{a^{2n}} = -na^{-n-1}$$

مثال ۱۵: برای $m \in \mathbb{N}$ مشتق تابع $f(x) = x^{-\frac{1}{m}}$ در هر نقطه‌ی $a > 0$ وجود دارد، زیرا

$$f(x) = x^{-\frac{1}{m}} = \frac{1}{x^{\frac{1}{m}}}$$

لذا بنا بر قضیه‌های ۳ و ۴

$$f'(a) = \frac{-\frac{1}{m} a^{\frac{1}{m}-1}}{\frac{1}{a^{\frac{1}{m}}}} = -\frac{1}{m} a^{-\frac{1}{m}-1}$$

مثال ۱۶: مشتق تابع $f(x) = \sqrt[5]{x} + \frac{1}{\sqrt{x}}$ در نقطه‌ی $a > 0$ وجود دارد، زیرا

$$f(x) = x^{\frac{1}{5}} + x^{-\frac{1}{2}}$$

$$f'(a) = \frac{1}{5} a^{-\frac{4}{5}} - \frac{1}{2} a^{-\frac{3}{2}} = \frac{1}{5\sqrt[5]{a^4}} - \frac{1}{2\sqrt{a^3}}$$

مثال ۱۷: تابع‌های $f(x) = \sin x$ و $g(x) = \cos x$ در هر نقطه $a \in \mathbb{R}$ ، مشتق پذیرند و

$$g'(a) = -\sin a \quad \text{و} \quad f'(a) = \cos a \quad (\text{چرا؟}).$$

۱- هر یک از حدهای زیر مربوط به مشتق تابع f در نقطه‌ی a است. f و a را تعیین کنید.

$$\lim_{x \rightarrow 2} \frac{x^3 + x - 1}{x - 2} \quad (\text{ب}) \qquad \lim_{h \rightarrow 0} \frac{(3+h)^2 + 2(3+h) - 15}{h} \quad (\text{الف})$$

آیا تابع‌های به‌دست‌آمده یکتا هستند؟

۲- مشتق هر یک از تابع‌های زیر را در نقطه‌ی دلخواه a حساب کنید. آیا برای a شرطی لازم

است؟

$$f(x) = \tan x \quad (\text{ب}) \qquad f(x) = c^x \quad (\text{الف})$$

$$f(x) = -3x^{-8} + 2\sqrt{x} \quad (\text{ج})$$

۳- معادله‌ی خط مماس و خط قائم بر نمودار تابع $f(x) = 3x^2 - 6x + 1$ را در نقطه‌ی

$(-2, 1)$ بنویسید.

۴- در مورد مشتق‌پذیری هر یک از تابع‌های زیر در نقطه‌ی a تحقیق کنید.

$$a = 1 \qquad f(x) = x[x] \quad (\text{الف})$$

$$a = -1 \qquad f(x) = \begin{cases} x^2 & x \leq 1 \\ -1 - 2x & x \geq 1 \end{cases} \quad (\text{ب})$$

۵- در مورد مشتق‌پذیری توابع زیر در نقطه $a = 0$ تحقیق کنید.

$$f(x) = \begin{cases} x \sin \frac{1}{x} & x \neq 0 \\ 0 & x = 0 \end{cases}$$

و

$$g(x) = \begin{cases} x^2 \sin \frac{1}{x} & x \neq 0 \\ 0 & x = 0 \end{cases}$$

۴-۴- تابع مشتق

تاکنون مشتق‌پذیری تابع f را در یک نقطه بررسی کردیم. اکنون می‌خواهیم که تعریف را به

کلیه‌ی نقاط یک بازه گسترش دهیم.

تعریف: هرگاه تابع f در تمام نقاط بازه‌ی I مشتق‌پذیر باشد، آن‌گاه می‌گویند f روی I مشتق‌پذیر

است. در این حالت، تابع جدیدی به نام **تابع مشتق** ($f': I \rightarrow \mathbb{R}$) وجود دارد که برای هر $x \in I$

$$f'(x) = \lim_{h \rightarrow 0} \frac{f(x+h) - f(x)}{h}$$

این تابع را با f' یا y' (وقتی $y = f(x)$) نمایش می‌دهند.

توجه کنید که حتی اگر f در برخی از نقاط I مشتق پذیر نباشد، می‌توان تابع مشتق، f' ، را روی

نقاطی که مشتق f وجود دارد تعریف کرد، یعنی

$$D_{f'} = \{x \in I : f'(x) \text{ وجود دارد}\}$$

مثال ۱۸: با توجه به مثال‌هایی که تاکنون مشاهده کردید

الف) تابع $f(x) = x^2$ روی \mathbb{R} مشتق پذیر است و $f'(x) = 2x$.

ب) تابع $f(x) = \sqrt{x}$ روی $(0, \infty)$ مشتق پذیر است و $f'(x) = \frac{1}{2\sqrt{x}}$.

ج) برای تابع $f(x) = |x|$

$$f'(x) = \begin{cases} -1 & x < 0 \\ \text{وجود ندارد} & x = 0 \\ 1 & x > 0 \end{cases}$$

بنابراین $D_{f'} = (\infty, 0) \cup (0, \infty)$

نکته ۱: توجه کنید که تابعی که روی بازه‌ی باز I مشتق پذیر باشد، بنا به قضیه‌ی ۱، روی آن

بازه پیوسته است.

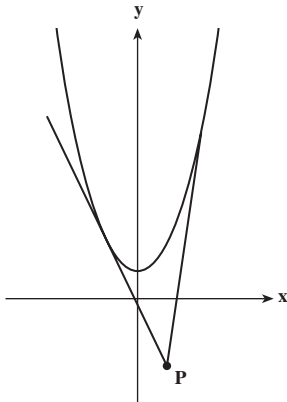
نکته ۲: به طور کلی، تابع f بر روی مجموعه‌ی $A \subset \mathbb{R}$ مشتق پذیر است هرگاه f در تمام

نقطه‌های A مشتق پذیر باشد.

مثال ۱۹: از نقطه‌ی $P(1, -2)$ می‌توان دو خط

مماس بر نمودار $f(x) = x^2 + 1$ رسم کرد. می‌خواهیم

معادله‌ی این خط‌ها را بیابیم.



اگر محل تماس را A بنامیم، مختصات آن $(a, a^2 + 1)$ است. از طرفی چون $f'(x) = 2x$ ، شیب خط مماس بر نمودار در A ، برابر $2a$ و در نتیجه معادله خط مماس بر نمودار در A برابر است با

$$y = 1 + a^2 + 2a(x - a)$$

این خط باید از نقطه P بگذرد، پس

$$-2 = 1 + a^2 + 2a(1 - a)$$

و یا

$$a^2 - 2a - 3 = 0$$

یعنی $a = -1$ یا $a = 3$. پس معادله‌ی خط‌های مماس عبارتند از

$$y = -2x \text{ و } y = 6x - 8$$

۴-۵ - مشتق تابع مرکب

هدف اصلی این بخش بیان و چگونگی به کارگیری قضیه‌ی مشتق تابع مرکب است، که آن را قاعده‌ی زنجیری نیز می‌نامند. از اثبات قضیه صرف نظر شده است.

قضیه‌ی ۵ (قاعده‌ی زنجیری): اگر تابع g در نقطه‌ی a و تابع f در $g(a)$ مشتق پذیر باشند، آن‌گاه تابع $F = f \circ g$ نیز در a مشتق پذیر است و

$$F'(a) = (f \circ g)'(a) = f'(g(a))g'(a)$$

مثال ۲۰: اگر $f(x) = x^n$ ، که در آن $n \in \mathbb{Z}$ ، بنا به قضیه‌ی ۵، مشتق تابع

$$f(x) = (g(x))^n$$

در هر نقطه‌ی a که g در آن مشتق پذیر باشد، وجود داشته و برابر است با

$$F'(a) = n(g(a))^{n-1}g'(a)$$

البته اگر n منفی باشد، شرط $g(a) \neq 0$ نیز لازم است (چرا؟).

مثال ۲۱: مشتق تابع $F(x) = (x^2 + 3x - 1)^5$ در نقطه‌ی دلخواه a برابر است با

$$F'(a) = 5(a^2 + 3a - 1)^4(2a + 3)$$

و مشتق تابع $G(x) = \frac{1}{(x^4 + 2x^2 + 2)^2}$ در نقطه‌ی دلخواه a برابر است با

$$G'(a) = -2(a^4 + 2a^2 + 2)^{-3}(4a^3 + 4a)$$

(چرا؟)

همان‌طور که مشاهده کردید، تاکنون نشان داده‌ایم که اگر r عدد صحیح (مثبت، منفی یا صفر) و یا عدد گویای $\frac{1}{m}$ (عدد صحیح مثبت یا منفی) باشد، تابع $f(x) = x^r$ در هر نقطه‌ای $a \neq 0$ که f در همسایگی آن تعریف شده باشد، مشتق‌پذیر است و

$$f'(a) = ra^{r-1}$$

حال نشان می‌دهیم که این امر برای هر عدد گویا نیز درست است.

قضیه‌ی ۶: اگر r یک عدد گویا باشد، آنگاه تابع $f(x) = x^r$ در $a \neq 0$ ، مشروط بر این‌که f در همسایگی a تعریف شده باشد، مشتق‌پذیر بوده و

$$f'(a) = ra^{r-1}$$

اثبات: کافی است $r = \frac{n}{m}$ اختیار و

$$f(x) = x^{\frac{n}{m}} = (x^n)^{\frac{1}{m}}$$

در نظر گرفته شود، در این صورت

$$\begin{aligned} f'(a) &= \frac{1}{m} (a^n)^{\frac{1}{m}-1} (na^{n-1}) \\ &= \frac{n}{m} a^{\frac{n}{m}-n} a^{n-1} = \frac{n}{m} a^{\frac{n}{m}-1} \end{aligned}$$

مثال ۲۲: فرض کنید می‌خواهیم بدانیم تابع $f(x) = (x^4 - 1)^{\frac{3}{4}}$ در چه نقطه‌هایی مشتق‌پذیر است؟

اولاً توجه کنید که دامنه‌ی تعریف تابع f مجموعه x هایی است که در $|x| \geq 1$ صدق می‌کند. با توجه به این‌که روی بازه‌های $(1, \infty)$ و $(-\infty, -1)$ ، تابع $x^4 - 1$ مخالف صفر و مشتق‌پذیر بوده و نیز تابع $f(x) = x^{\frac{3}{4}}$ در همه‌ی نقاط مثبت x مشتق‌پذیر است، بنا بر قاعده‌ی زنجیری

$$f'(x) = \frac{3}{4} (x^4 - 1)^{-\frac{1}{4}} (4x^3) = \frac{3x^3}{\sqrt[4]{x^4 - 1}}$$

تمرین‌ها

۱- چه قدر طول می‌کشد تا سرعت جسم در حال سقوطِ مثال ۱، به ۲۵ متر در ثانیه برسد.
 ۲- کلیه‌ی نقاطی را تعیین کنید که خط مماس بر نمودار تابع $f(x) = x^3 - x^2$ در آن نقاط افقی باشد.

۳- از نقطه‌ی $(2, 5)$ دو خط می‌توان به نمودار $f(x) = 4x - x^2$ مماس کرد. معادله‌های این دو خط کدامند؟

۴- یک سفینه‌ی فضایی از چپ به راست روی منحنی $y = x^2$ حرکت می‌کند. هرگاه این سفینه موتورهاى خود را خاموش کند، از آن لحظه به بعد روی خط مماس بر مسیر در آن نقطه حرکت خواهد کرد. در چه نقطه‌ای موتورها باید خاموش شوند تا سفینه از نقطه‌ی $(4, 16)$ بگذرد.
 ۵- برای هر یک از تابع‌های زیر $D_{f'}$ را مشخص کنید.

$$f(x) = x^2 + |x - 1| \quad (\text{الف})$$

$$f(x) = [x] \quad (\text{ب})$$

$$f(x) = \text{sgn}(x) = \begin{cases} -1 & x < 0 \\ 0 & x = 0 \\ 1 & x > 0 \end{cases} \quad (\text{ج})$$

۶- اگر $n \in \mathbb{N}$ و

$$f(x) = \begin{cases} 0 & x \leq 0 \\ x^n & x > 0 \end{cases}$$

برای چه مقادیری از n ، تابع f روی \mathbb{R} مشتق‌پذیر است؟

۷- اگر بدانیم $f'(0) = 1$ ، $g(0) = 0$ و $g'(0) = 3$. مشتق تابع $F = f \circ g$ را در نقطه‌ی 0 به دست آورید.

۸- تابع مشتق را برای تابع‌های زیر به دست آورید.

$$f(x) = \cos^3(2x + 1) \quad (\text{ب})$$

$$f(r) = \sqrt{r^3 - 2r + 5} \quad (\text{الف})$$

۹- اگر $g(x) = x^2 - 1$ و $f'(x) = \sqrt{3x + 4}$ و $F = f \circ g$ باشد، $F'(x)$ را به دست آورید.

۱۰- فرض کنید که تابع f در هر نقطه مشتق پذیر است. نشان دهید.

(الف) اگر تابع f زوج باشد، تابع f' فرد است.

(ب) اگر تابع f فرد باشد تابع f' زوج است.

۱۱- اگر $f(x) = x^2$ و $g(x) = [x]$ باشد، مشتق تابع $F = f \circ g$ را در نقاط $a = 1$ و $a = \frac{3}{4}$

به دست آورید.

۱۲- اگر برای $x > 0$ ، $f'(x) = \frac{1}{x}$ ، مطلوبست مشتق توابع زیر

(الف) $g(x) = f(x^2 + 1)$

(ب) $g(x) = f(|x|)$ به ازای $x \neq 0$

۴-۶- مشتق تابع ضمنی

می توان نشان داد که رابطه $x^2 + y^2 = 25$ می تواند دو تابع

$$y = f(x) = \sqrt{25 - x^2}$$

$$y = g(x) = -\sqrt{25 - x^2}$$

را روی $[-5, 5]$ تعیین کند. هر دو تابع روی بازه $(-5, 5)$ مشتق پذیرند، در واقع

$$f'(x) = \frac{-x}{\sqrt{25 - x^2}} \quad \text{و} \quad g'(x) = \frac{-x}{\sqrt{25 - x^2}}$$

آیا می توان بدون محاسبه ی صورت صریح توابع f و g ، مشتق آن ها را از روی معادله و یا

صورت ضمنی تابع به دست آورد؟

با استفاده از قاعده ی زنجیری به راحتی می توان این کار را انجام داد، مشروط بر این که y را

تابعی مشتق پذیر از x در نظر بگیریم:

$$2x + 2yy' = 0$$

و از این رابطه y' را به دست می آوریم، یعنی $y' = -\frac{x}{y}$. اگر هدف محاسبه ی مقدار مشتق در نقطه ی

۳ باشد، مقدار y نظیر، ± 4 است و لذا $y' = \pm \frac{3}{4}$. بر حسب این که کدام یک از دو تابع f و g در

نظر گرفته شده باشد.

توجه کنید که معادله ی $x^2 + y^2 = 25$ می تواند صورت ضمنی تابع های دیگری از جمله

$$h(x) = \begin{cases} \sqrt{25-x^2} & -5 \leq x \leq 3 \\ -\sqrt{25-x^2} & 3 \leq x \leq 5 \end{cases}$$

باشد که در نقطه ی ۳ حتی پیوسته نیست پس مشتق ندارد. و لذا، در صورتی از این روش برای محاسبه ی مشتق استفاده می کنیم، که y مشتق پذیر باشد.

مثال ۲۳: برای محاسبه y' از $x^2 + 5y^3 = x + 9$ ، می توان نوشت

$$2x + 15y^2 y' = 1$$

$$y' = \frac{1-2x}{15y^2} \quad (y \neq 0)$$

مثال ۲۴: می خواهیم معادله ی خط مماس بر نمودار $x^3 + xy^2 + x^3y^5 = 3$ را در نقطه ی $P(1, 1)$ بنویسیم. (توجه کنید که نقطه ی P روی نمودار قرار دارد.)

ابتدا شیب خط مماس را در این نقطه تعیین می کنیم. برای این کار y' را محاسبه می کنیم:

$$3x^2 + y^2 + 2xyy' + 3x^2y^5 + 5x^3y^4y' = 0$$

و

$$y' = -\frac{3x^2 + y^2 + 3x^2y^5}{2xy + 5x^3y^4}$$

که مقدار آن در $(1, 1)$ برابر -1 است. بنابراین معادله ی خط مماس عبارت است از

$$y = 2 - x$$

۴-۷- مشتق تابع معکوس

در این قسمت قضیه ای را بیان می کنیم که براساس آن ارتباط بین مشتق تابع f و مشتق تابع معکوس آن f^{-1} مطرح می گردد. این قضیه ی مشتق تابع معکوس نامیده می شود و از اثبات آن صرف نظر می کنیم. قبل از بیان صورت قضیه توجه شما را به این نکته جلب می کنیم که برای وجود f^{-1} لازم است تابع f تابعی یک به یک باشد. در این بخش فرض می کنیم که f در یک همسایگی نقطه ی مورد نظر، a ، معکوس پذیر است.

قضیه‌ی ۷ (مشتق تابع معکوس): اگر تابع f در همسایگی نقطه‌ی a پیوسته و یک به یک بوده

و $f'(a)$ موجود و غیر صفر باشد، آن گاه تابع f^{-1} در نقطه‌ی $b = f(a)$ مشتق پذیر است و

$$(f^{-1})'(b) = \frac{1}{f'(a)}$$

که در آن $a = f^{-1}(b)$.

مثال ۲۵: تابع $y = f(x) = x^3 + x$ روی \mathbb{R} یک به یک و پیوسته است. می توان نشان داد

که مشتق f غیر صفر است. هم چنین می دانیم که $f(2) = 10$. می خواهیم بدون یافتن f^{-1} مقدار $(f^{-1})'(10)$ را به دست آوریم.

با توجه به قضیه‌ی ۷

$$(f^{-1})'(10) = \frac{1}{f'(2)} = \frac{1}{13}$$

مثال ۲۶: تابع $y = f(x) = \frac{1+x}{1-x}$ برای $x \neq 1$ (روی بازه‌های $(-\infty, 1)$ و $(1, \infty)$) پیوسته و

یک به یک است و مشتق غیر صفر دارد. معکوس آن برابر است با

$$x = f^{-1}(y) = \frac{y-1}{y+1} \quad (y \neq -1)$$

چون $f'(x) = \frac{2}{(1-x)^2}$ ، پس برای هر $x \neq 1$

$$\begin{aligned} (f^{-1})'(y) &= \frac{1}{f'(x)} = \frac{(1-x)^2}{2} \\ &= \frac{\left(1 - \frac{y-1}{y+1}\right)^2}{2} = \frac{2}{(y+1)^2} \end{aligned}$$

مثال ۲۷: تابع

$$y = f(x) = \frac{x}{1+x^2}$$

روی بازه‌ی $(-\infty, 1)$ تابعی پیوسته و یک به یک است و تابع مشتق آن

$$f'(x) = \frac{1-x^2}{(1+x^2)^2}$$

به علاوه، چون $f'(2) = \frac{-3}{25}$ ، پس $(f^{-1})'(\frac{2}{5}) = \frac{-25}{3}$ (با محاسبه فرم صریح $f^{-1}(y)$ و مشتق‌گیری از آن نتیجه فوق را تحقیق کنید).

مثال ۲۸: تابع $h(t) = \text{Arcsin } t$ در هر نقطه $a \in (-1, 1)$ مشتق‌پذیر است زیرا اگر $f(b) = \sin b$ و $b = h(a)$ ، آن‌گاه

$$h'(a) = (f^{-1})'(a) = \frac{1}{f'(b)} = \frac{1}{f'(h(a))}$$

ولی $f'(b) = \cos b$ پس

$$\begin{aligned} f'(h(a)) &= \cos(\text{Arcsin } a) \\ &= \sqrt{1 - \sin^2(\text{Arcsin } a)} = \sqrt{1 - a^2} \end{aligned}$$

دقت کنید وقتی $-\frac{\pi}{2} < \text{Arcsin } a < \frac{\pi}{2}$ ، $-1 < a < 1$ و در نتیجه $\cos(\text{Arcsin } a) > 0$ بنابراین

$$h'(a) = \frac{1}{\sqrt{1 - a^2}}$$

۴-۸- مشتق مراتب بالاتر

اگر تابع f روی بازه‌ی I مشتق‌پذیر باشد، یعنی: $I \subset D_{f'}$ ، تابع f' خود ممکن است در نقطه‌ای مثل a و یا همه‌ی نقاط I مشتق‌پذیر باشد. به عبارتی، اگر

$$\lim_{h \rightarrow 0} \frac{f'(a+h) - f'(a)}{h}$$

موجود باشد، می‌گوییم مشتق مرتبه‌ی دوم f در a موجود است و آن را با $f''(a)$ نمایش می‌دهیم. و در صورتی که f' برای همه‌ی نقاط I موجود باشد، می‌گوییم f در I مشتق مرتبه‌ی دوم دارد.

مثال ۲۹: برای تابع $f(x) = (x^2 + x + 1)^3$

$$f'(x) = 3(x^2 + x + 1)^2(2x + 1)$$

و

$$f''(x) = 6(x^2 + x + 1)^2(2x + 1) + 6(x^2 + x + 1)^2$$

این عمل را می‌توان باز هم ادامه داد و مشتق‌های مرتبه‌ی سوم، چهارم، تا n ام تابع f را تعریف کرد. این مشتق‌ها را به ترتیب با f'' ، $f^{(4)}$ و تا $f^{(n)}$ نمایش می‌دهند (برای این که تعداد علامت‌های (\cdot)

زیاد نشود، مشتق‌های مرتبه‌ی چهارم به بعد را با $f^{(۴)}$ و $f^{(۵)}$ و ... نمایش می‌دهند).
 مثال ۳۰: یک چند جمله‌ای درجه n ,

$$P_n(x) = c_0 + c_1x + c_2x^2 + \dots + c_nx^n \quad (c_n \neq 0)$$

از هر مرتبه مشتق پذیر است و

$$P'_n(x) = c_1 + 2c_2x + 3c_3x^2 + \dots + nc_nx^{n-1}$$

$$P''_n(x) = 2c_2 + 6c_3x + \dots + n(n-1)c_nx^{n-2}$$

$$P'''_n(x) = 6c_3 + 12c_4x + \dots + n(n-1)(n-2)c_nx^{n-3}$$

⋮

$$P_n^{(n)}(x) = n(n-1)(n-2) \dots \times 1 \times c_n = n!c_n$$

$$P_n^{(k)}(x) = 0, \quad k > n$$

توجه کنید برای این که تابع f روی بازه‌ی I دارای مشتق مرتبه n ام باشد $f^{(n)}$ وجود داشته باشد (حداقل لازم است که $f^{(n-1)}$ روی I پیوسته باشد (شرط لازم)).

مثال ۳۱: قبلاً مشاهده کردید که اگر مکان یک جسم در حال حرکت را در لحظه‌ی t با $S(t)$ نشان دهیم، $V(t) = S'(t)$ بیانگر سرعت لحظه‌ای این حرکت است. در فیزیک $V'(t) = S''(t)$ ، که در آن مشتق سرعت نسبت به زمان است، نیز مورد توجه است و آن را شتاب این حرکت می‌نامند. برای نمونه در مثال ۱ برای $S(t) = 5t^2$ ، $V(t) = s'(t) = 10t$ و $S''(t) = 10$ متر بر مجذور ثانیه شتاب سقوط آن جسم خواهد بود. یعنی جسم در حین سقوط دارای شتاب ثابتی است.

مثال ۳۲: مشتق‌پذیری تابع $f(x) = x|x|$ و مشتق‌های مراتب بالاتر آن را روی \mathbb{R} بررسی می‌کنیم. می‌دانیم

$$f(x) = \begin{cases} -x^2 & x < 0 \\ x^2 & x \geq 0 \end{cases}$$

چون

$$\begin{aligned} f'(0) &= \lim_{h \rightarrow 0^+} \frac{h^2 - 0}{h} = 0 \\ &= \lim_{h \rightarrow 0^-} \frac{-h^2 - 0}{h} = 0 \end{aligned}$$

بنابراین

$$f'(x) = \begin{cases} -2x & x < 0 \\ 0 & x = 0 \\ 2x & x > 0 \end{cases}$$

و همچنین

$$\lim_{h \rightarrow 0^+} \frac{2h - 0}{h} = 2$$

$$\lim_{h \rightarrow 0^-} \frac{-2h - 0}{h} = -2$$

پس $f'(0)$ وجود ندارد. ولی f' در سایر نقاط \mathbb{R} وجود دارد، یعنی

$$f'(x) = \begin{cases} -2 & x < 0 \\ \text{وجود ندارد} & x = 0 \\ 2 & x > 0 \end{cases}$$

و برای $n \geq 3$

$$f^{(n)}(x) = 0 \quad (x \neq 0)$$

(چرا؟)

تمرین‌ها

۱- y' را در مورد هر یک از رابطه‌های زیر به دست آورید.

الف) $\frac{x}{y} - 2y = x^2$

ب) $x\sqrt{y} - y + \sqrt{x} = 1$

۲- معادله‌ی خط مماس بر نمودار $2x^3 + y^2 = 3$ را در نقطه‌ی $(1, -1)$ بنویسید.

۳- معادله‌ی خط‌های عمود بر نمودار $y = |x^2 - 1|$ را در نقاط $(0, 1)$ و $(1, 0)$ ، در صورت

وجود، بنویسید.

۴- در چه نقاطی روی نمودار $x^2 - xy + y^2 = 1$ مماس بر منحنی افقی است؟ در چه نقاطی

مماس، قائم است؟

۵- برای هر یک از تابع‌های زیر مقدار مشتق تابع معکوس را در $b \in D_{f^{-1}}$ پیدا کنید.

الف) $f(x) = 4x^3 + 5x + 1$ در $b = 10$

ب) $f(x) = \frac{x+1}{x-1}$ در $b = 5$

۶- برای هر یک از تابع‌های زیر معادله‌ی خط مماس بر نمودار $x = f^{-1}(y)$ را در نقطه‌ی P به دست آورید.

الف) $f(x) = \frac{x}{x-4}$ در $P(-3, 3)$

ب) $f(x) = \frac{x+1}{x-5}$ در $P(2, 1)$

۷- مشتق مرتبه‌ی دوم، f'' ، و مرتبه‌ی سوم، f''' ، را برای تابع‌های زیر بنویسید و دامنه‌ی هر یک را مشخص کنید.

الف) $f(x) = (1+x^2)^3$

ب) $f(x) = 5x^{10} + 10x^5 + 4$

۸- برای چه مقداری از a ، b ، و c تابع

$$f(x) = \begin{cases} x^3 & x \leq 1 \\ ax^2 + bx + c & x > 1 \end{cases}$$

در نقطه‌ی a مشتق مرتبه‌ی دوم دارد.

۴-۹- آهنگ تغییر

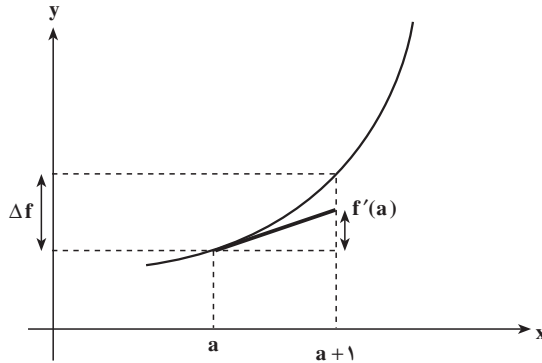
در ابتدای فصل مشاهده کردید که حدّ تغییر مسافت نسبت به زمان (سرعت لحظه‌ای) همان مشتق تابع مسافت نسبت به زمان است و گفتیم که مفهوم مشتق را در مسائل دیگری نیز می‌توان یافت.

برای تابع f و $a \in D_f$ ، وقتی h مقدار کوچکی است، $\frac{f(a+h)-f(a)}{h}$ تقریبی از $f'(a)$ است. حال

اگر $h = 1$ اختیار شود.

$$\Delta f = f(a+1) - f(a)$$

نیز تقریباً برابر $f'(a)$ است. لذا میزان تغییر f در a را هنگامی که متغیر آن یک واحد تغییر می‌کند می‌توان با $f'(a)$ جایگزین کرد. $f'(a)$ آهنگ تغییر f نسبت به متغیر x در نقطه‌ی $x = a$ نامیده می‌شود.



مثال ۳۳: فرض کنید بادکنکی کروی مملو از هوا شعاعی برابر ۲۰ سانتی‌متر دارد. اگر ۱ سانتی‌متر دیگر به شعاع آن افزوده شود، حجم بادکنک چه مقدار افزایش خواهد یافت؟ (آهنگ تغییر حجم چقدر است؟) همان‌طور که می‌دانید حجم کره تابعی از شعاع آن r است،

$$V = \frac{4}{3} \pi r^3$$

میزان تغییر حجم نسبت به شعاع برابر است با

$$V'(r) = 4\pi r^2$$

یعنی ۱ واحد تغییر در شعاع موجب $4\pi r^2$ واحد تغییر در حجم خواهد شد. پس آهنگ تغییر $4\pi r^2$ است.

در این جا $r = ۲۰$ ، پس $۵۰۲۶/۶ = ۱۶۰۰\pi \approx \Delta V \approx V'(۲۰) = ۱۶۰۰\pi$ ، یعنی هرگاه ۱ سانتی‌متر به شعاع بادکنک اضافه شود، حجم آن تقریباً $۵۰۲۶/۶$ سانتی‌متر مکعب افزوده می‌شود. در این مثال توجه شما را به میزان واقعی تغییر حجم نیز جلب می‌کنیم.

$$V(۲۱) - V(۲۰) = ۳۸۷۹۲/۳۹ - ۳۳۵۱۰/۳۲ = ۵۲۸۲/۰۷$$

دقت کنید که اگر شعاع بادکنک $r = ۱۰$ سانتی‌متر بود و همین ۱ سانتی‌متر به شعاع افزوده می‌شد حجم آن به مقدار $۱۲۵۶/۶ \approx ۴۰۰\pi$ سانتی‌متر مکعب افزایش می‌یافت.

مثال ۳۴: فرض کنید که یک شرکت برای فروش محصولات خود x تومان در روز هزینه

تبلیغات داشته باشد، و سود شرکت $y = 100y - 0/2x^2 + 36x - 0$ باشد که در آن $y = 2500 + 36x - 0/2x^2$. اگر در حال حاضر شرکت روزانه ۶۰ تومان هزینه تبلیغات داشته باشد، آهنگ اضافه شدن سود به ازای یک تومان افزایش هزینه تبلیغات را می توان به این طریق محاسبه کرد که اگر $P = 100y$ میزان سود باشد.

$$P'(x) = 100y'(x) = 100(36 - 0/4x)$$

و به ازای $x = 60$ ، $P'(x) = 1200$ تومان، یعنی افزایش سود به ازای ۱ تومان هزینه تبلیغات اضافی تقریباً ۱۲۰۰ تومان است.

اگر شرکت روزانه ۱۰۰ تومان هزینه تبلیغات داشته باشد، یعنی به ازای $x = 100$ ، آن گاه $P'(x) = -400$. یعنی تقریباً ۴۰۰ تومان کاهش سود به ازای هر تومان افزایش تبلیغات اضافی خواهد داشت!

مثال ۳۵: طبق قانون انبساط گازها، قانون بویل، حاصل ضرب فشار P گاز در حجم V آن

همواره مقداری ثابت است. اثر افزایش فشار به میزان ۱ کیلوگرم بر واحد سطح هنگامی که $P = 4$ کیلوگرم بر متر مربع و $V = 8$ متر مکعب باشد، بدین ترتیب قابل محاسبه است. داریم:

$$PV = c$$

$$V = \frac{c}{P}$$

$$V'(P) = \frac{c}{P^2}$$

و در زمان مورد نظر $-2 = -\frac{32}{16} = V'(4)$ ، یعنی افزایش یک کیلوگرم فشار در آن لحظه موجب کاهش ۲ متر مکعب از حجم گاز خواهد بود.

مثال ۳۶: استخراج t تن مس از یک معدن هزینه ای برابر $C = f(t)$ تومان خواهد داشت.

$$f'(2000) = 10000$$

عبارت فوق بدین معنی است که هرگاه تصمیم بگیریم از معدنی که در حال استخراج ۲۰۰۰ تن مس از آن هستیم، یک تن دیگر استخراج کنیم، می بایست تقریباً هزینه ای اضافی ۱۰۰۰۰ تومان را بپردازیم. اقتصاددانان و صاحبان شرکت ها علاقه مندند بدانند که تغییر در برخی از متغیرها مانند موجودی،

۱- این اطلاعات معمولاً با استفاده از موارد مشابه و داده های آماری مربوط به آنها به دست می آید.

تولید، ذخیره، تبلیغ، و قیمت چگونه روی متغیرهای دیگری مانند تقاضا، فروش، سود، تورم و حتی بیکاری اثر خواهد گذاشت. این گونه مسائل را تجزیه و تحلیل نهایی^۱ می‌نامند. در واقع، لغت «نهایی» را اقتصاددانان به جای آهنگ تغییر به کار می‌برند.

وقتی x مقدار محصول باشد، سه تابع مهم می‌توان تعریف کرد:

تابع هزینه، $C(x)$ ؛ هزینه تولید

تابع درآمد، $R(x)$ ؛ درآمد حاصل از فروش

تابع سود، $P(x)$ ؛ سود حاصل از فروش

$$P(x) = R(x) - C(x)$$

و داریم

اگر هزینه‌ی متوسط، درآمد متوسط، و سود متوسط هر واحد مورد نظر باشد، می‌توان به ترتیب آن‌ها را از رابطه‌های $\frac{C(x)}{x}$ و $\frac{R(x)}{x}$ و $\frac{P(x)}{x}$ به دست آورد و در صورتی که هدف یافتن هزینه‌ی نهایی، درآمد نهایی و سود نهایی باشد، می‌توان به ترتیب آن‌ها را برابر $C'(x)$ و $R'(x)$ و $P'(x)$ گرفت.

مثال ۳۷: یک شرکت کوچک تولیدکننده‌ی رنگ در روز

$$C(x) = 10000 + 5x + 0.01x^2$$

تومان هزینه برای تولید x کیلوگرم رنگ دارد. توجه کنید که $C(0) = 10000$ نشان می‌دهد که حتی اگر هیچ محصولی تولید نشود شرکت متحمل هزینه‌هایی (از قبیل اجاره، تلفن، بیمه، دستمزد و ...) خواهد بود. هزینه‌ی نهایی شرکت هنگامی که روزانه x کیلوگرم رنگ تولید می‌کند برابر است با

$$C'(x) = 5 + 0.02x$$

و $C'(500) = 15$ یعنی وقتی شرکت ۵۰۰ کیلو رنگ تولید می‌کند هزینه‌ی تولید ۵۰۱ آمین کیلوگرم رنگ تقریباً ۱۵ تومان خواهد بود. هزینه واقعی ۵۰۱ آمین کیلوگرم رنگ برابر است با

$$C(501) - C(500) = 15.015 - 15.000 = 15.015$$

تومان

مثال ۳۸: فرض کنید که هزینه‌ی چاپ x کارت دعوت

$$C(x) = 8300 + 3/25x + 40\sqrt[3]{x}$$

تومان باشد هزینه‌ی متوسط و نیز هزینه‌ی نهایی چاپ ۱۰۰۰ کارت دعوت چه قدر است؟

۱- «نهایی» ترجمه‌ی لغت marginal است که «کناره‌ای» و «حاشیه‌ای» نیز ترجمه شده است.

با توجه به توضیحات بیان شده

$$\text{هزینه متوسط} = \frac{C(x)}{x} = \frac{8300 + 3/25x + 40\sqrt[3]{x}}{x}$$

$$\text{هزینه نهایی} = C'(x) = 3/25 + \frac{40}{3}x^{-2/3}$$

که به ازای $x = 1000$ ، هزینه متوسط و هزینه نهایی به ترتیب برابر $11/95$ و $3/38$ تومان خواهند بود. یعنی به طور متوسط هزینه چاپ هر کارت دعوت $11/95$ تومان برای 1000 کارت اول است، و هزینه چاپ کارت بعدی تقریباً $3/38$ تومان خواهد بود.

۴-۱۰- آهنگ‌های تغییر وابسته

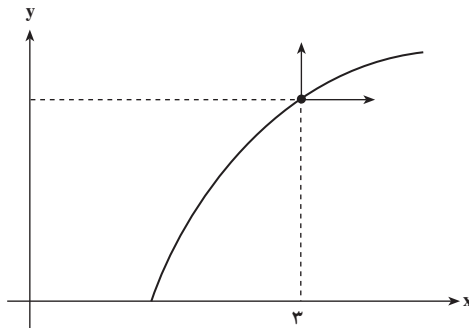
در برخی از مسائل نه تنها دو کمیت (متغیر) به هم مربوط اند، بلکه هر دوی این کمیت‌ها تابعی از متغیر سوم (در اغلب موارد زمان) هستند. در این صورت آهنگ تغییر هر یک از دو کمیت نسبت به کمیت سوم می‌تواند مورد بررسی قرار گیرد. به چند نمونه توجه کنید:

مثال ۳۹: می‌خواهیم بدانیم اگر متحرکی روی نمودار $y = \sqrt{x^2 - 4}$ ، $x \geq 2$ به گونه‌ای حرکت کند که آهنگ افزایش مؤلفه‌ی x آن ۵ متر در ثانیه باشد، برای $x = 3$ مؤلفه y آن با چه آهنگی افزایش می‌یابد.

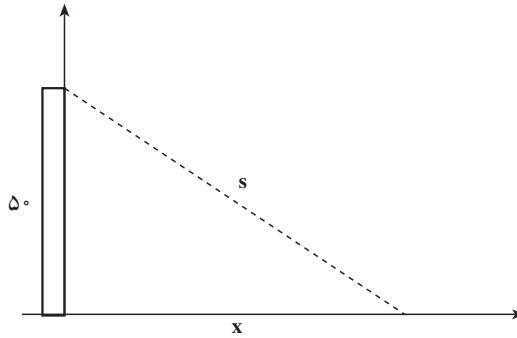
در این جا x و y هر دو تابعی از t اند و می‌دانیم $x'(t) = 5$. می‌خواهیم $y'(t)$ را به دست آوریم. ولی بنا بر قاعده‌ی زنجیری

$$y' = \frac{xy'}{\sqrt{x^2 - 4}}$$

و برای لحظه‌ی مورد نظر یعنی وقتی که $x = 3$ ، آهنگ افزایش مؤلفه y ، $y'(t) = 3\sqrt{5}$ متر در ثانیه است.



مثال ۴۰: اگر ناظری از بالای یک برج دریایی به ارتفاع ۵۰ متر، به اطراف خود نگاه کند و یک قایق که در فاصله ۲۰۰ متری از پای برج قرار دارد با سرعت ۵ متر در ثانیه به برج نزدیک شود، می‌خواهیم بدانیم فاصله‌ی ناظر و قایق با چه سرعتی تغییر می‌کند. به شکل زیر توجه کنید.



در این جا دو کمیت x ، (فاصله قایق از برج) و S ، (فاصله‌ی قایق از ناظر)، توسط معادله‌ی

$$S^2 = x^2 + 2500$$

به هم مربوط اند. هم‌چنین x و S هر دو تابعی از t یعنی زمان‌اند. $x'(t)$ سرعت نزدیک شدن قایق به برج و $S'(t)$ سرعت نزدیک شدن قایق به ناظر است. به کمک قاعده‌ی زنجیری

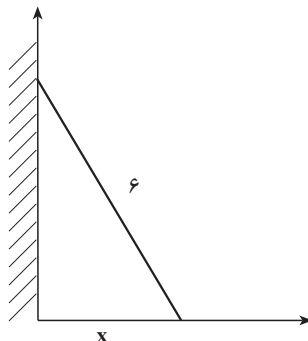
$$2SS'(t) = 2xx'(t)$$

یا $S'(t) = \frac{x}{S}x'(t)$ پس در لحظه‌ی مورد نظر، که $x = 200$ ، $S = 206.16$

$$S'(t) = \frac{200}{206.16} \times (-5) = -4/85 \quad \text{متر در ثانیه}$$

یعنی قایق با سرعت $4/85$ متر در ثانیه به ناظر نزدیک می‌شود.

مثال ۴۱: نردبانی به طول ۶ متر به دیواری مطابق شکل زیر تکیه دارد:



اگر هنگامی که پای نردبان در فاصله‌ی ۴ متری از دیوار قرار دارد با سرعت 5° متر در ثانیه از دیوار دور شود، انتهای نردبان با چه سرعتی به زمین نزدیک خواهد شد؟

همان‌گونه که در شکل مشاهده می‌کنید، اگر زمان را با t (ثانیه) و فاصله پای نردبان از دیوار را با x (متر) و فاصله‌ی انتهای نردبان از پای دیوار را با y (متر) نمایش دهیم، آنگاه داریم:

$$x^2 + y^2 = 36$$

در این جا $x'(t)$ سرعت دور شدن پای نردبان از دیوار در راستای محور x و $y'(t)$ سرعت دور شدن انتهای نردبان از زمین در راستای محور y است. (اگر $y'(t)$ مثبت باشد انتهای نردبان از زمین دور می‌شود و اگر $y'(t)$ منفی باشد انتهای نردبان به زمین نزدیک خواهد شد).

$$2xx'(t) + 2yy'(t) = 0$$

$$y'(t) = -\frac{x}{y}x'(t)$$

و در لحظه‌ی مورد نظر، که $x'(t) = 5^\circ$ و $x = 4$ و $y = 4\sqrt{2}$ ،

$$y'(t) = -5^\circ / 4\sqrt{2}$$

مثال ۴۲: بر اثر انفجاری که در یک نفت‌کش رخ داده است، یک لکه نفت به شکل دایره حول نفتکش ایجاد شده است. اگر شعاع این لکه نفت با سرعت ثابت 5° متر در ثانیه افزایش یابد، می‌خواهیم بدانیم سطح این لکه نفت هنگامی که شعاع لکه برابر 3° متر است، با چه سرعتی افزایش خواهد یافت؟



در این جا اگر زمان را با t (ثانیه) و شعاع لکه را با r (متر) و سطح لکه را با A (متر مربع) نمایش

دهیم، داریم

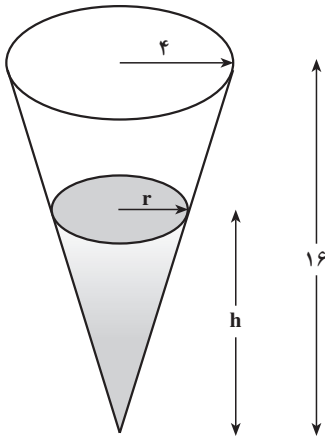
$$A = \pi r^2$$

و r و A هر دو تابعی از t اند. به کمک قاعده‌ی زنجیری

$$A'(t) = 2\pi r r'(t)$$

چون $r'(t) = 5^\circ$ و در لحظه‌ی مورد نظر $r = 3^\circ$ ، پس

$$A'(t) = 3^\circ \pi \times 94/248 \text{ متر مربع در ثانیه}$$



مثال ۴۳: قرار است برای تصفیه یک محلول از ذراتی که در آن معلق است، از یک ظرف به شکل مخروط که در رأس آن سوراخ بسیار ریزی تعبیه شده است، استفاده شود؛ مطابق شکل:

اگر ارتفاع مخروط ۱۶ و شعاع قاعده آن ۴ سانتی متر باشد، و محلول با سرعت ثابت ۲ سانتی متر مکعب در دقیقه از ظرف خارج شود، هنگامی که ارتفاع محلول ۸ سانتی متر است، سرعت کاهش ارتفاع محلول در ظرف چه قدر است؟ اگر t را زمان فرض کنیم، V حجم محلول موجود، h ارتفاع محلول، و r شعاع سطح مایع در ظرف در لحظه‌ی t باشند، بین r و h و V در لحظه‌ی t رابطه‌ی

$$V = \frac{1}{3} \pi r^2 h$$

برقرار است، $h'(t)$ مورد نظر است و می‌دانیم $V'(t) = -2$ (چرا؟) دقت کنید که در این جا متغیر دیگری نیز وجود دارد که با t تغییر می‌کند و آن r است. پس لازم است به گونه‌ای آن را بر حسب h یا V بیان کنیم. با استفاده از مقایسه‌ی مثلث‌های مشابه داریم

$$\frac{r}{h} = \frac{4}{16}$$

$$V = \frac{1}{48} \pi h^3$$

$$\text{پس } r = \frac{1}{4} h \text{ و در نتیجه}$$

پس

$$V'(t) = \frac{1}{16} \pi h^2 h'(t)$$

$$h'(t) = \frac{16}{\pi h^2} V'(t)$$

و یا

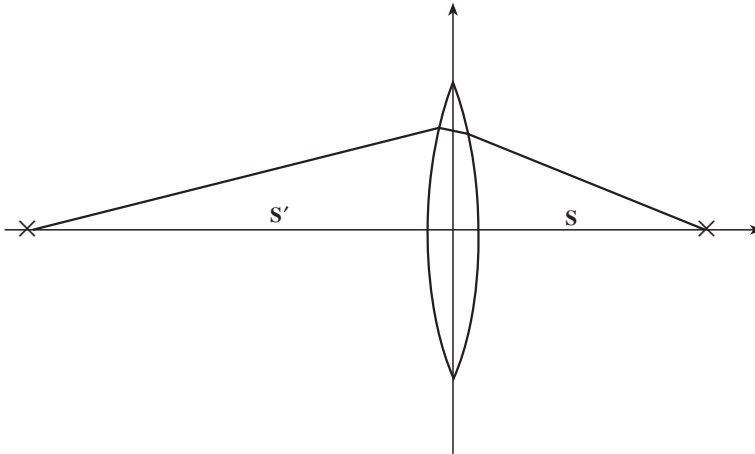
که وقتی $h = 8$ ، $0/16 \approx \frac{-1}{2\pi}$ $h'(t) = \frac{-1}{2\pi}$ (سانتی متر در دقیقه). به عبارتی هنگامی که ارتفاع محلول

در ظرف ۸ سانتی متر است، ارتفاع با سرعت $0/16$ سانتی متر در دقیقه کاهش می یابد.

مثال ۴۴: هنگام مطالعه ی ویژگی عدسی های نازک در فیزیک به رابطه ی

$$\frac{1}{s} + \frac{1}{S} = \frac{1}{f}$$

برمی خوریم که در آن s فاصله ی جسم از عدسی، S فاصله ی تصویر از عدسی و f فاصله ی کانونی عدسی است. فاصله ی کانونی یک عدسی ۶ سانتی متر است. اگر جسمی که فاصله ی آن با عدسی 10 سانتی متر است، با سرعت ثابت 2 سانتی متر در ثانیه به عدسی نزدیک شود، فاصله تصویر از عدسی با چه سرعتی تغییر می کند؟



در این جا هدف یافتن $S'(t)$ است در حالی که می دانیم $s'(t) = -2$ (چرا؟). اما داریم

$$-\frac{s'(t)}{s^2} - \frac{S'(t)}{S^2} = 0$$

پس

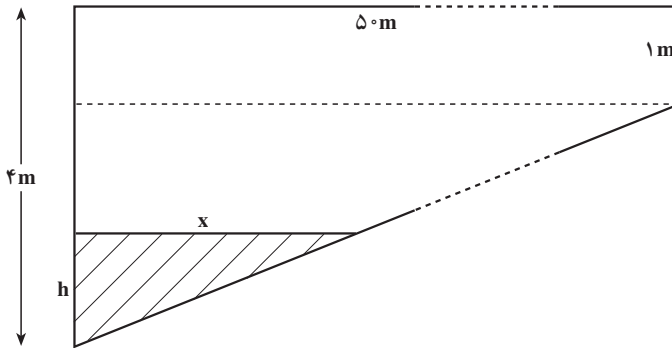
$$S'(t) = -\frac{S^2}{s^2} s'(t)$$

که در لحظه ی مورد نظر $s = 10$ و $S = 15$ سانتی متر است، پس

$$S'(t) = 4/5 \text{ سانتی متر در ثانیه}$$

دقت کنید هنگامی که جسم به عدسی نزدیک می شود تصویر آن از عدسی دور می شود.

مثال ۴۵: در یک استخر به طول ۵۰ متر و عرض ۲۰ متر، ارتفاع بخش کم عمق ۱ متر و ارتفاع بخش عمیق ۴ متر است. مطابق شکل



آب با سرعت ۳۰ لیتر در دقیقه وارد استخر می‌شود، و سطح آب در یک متری از بخش عمیق قرار دارد. می‌خواهیم سرعت افزایش ارتفاع آب را حساب کنیم.

در این جا اگر ارتفاع آب را در بخش عمیق h ، حجم آب موجود در استخر را V و طول بخشی از استخر را که آب در آن قرار گرفته x بنامیم، آن‌گاه حجم آب موجود در استخر برابر است با

$$V = 20 \times \frac{1}{3} xh = 10 \cdot xh$$

هدف یافتن $h'(t)$ است در صورتی که می‌دانیم $V'(t) = 0.03$ (متر مکعب در دقیقه). متغیر x را نیز می‌توان برحسب h به صورت زیر به دست آورد:

$$\frac{h}{3} = \frac{x}{50}$$

(چرا؟) پس $V = \frac{50}{3} h^2$ و یا

$$V'(t) = \frac{100}{3} hh'(t)$$

و برای $h = 1$ داریم

$$h'(t) = \frac{3}{100} 0.03 = 0.00009 \text{ متر در دقیقه}$$

به عبارتی ارتفاع با سرعت ۰/۰۰۰۹ سانتی متر در دقیقه افزایش می‌یابد.

۱- میزان تغییر در مساحت سطح بادکنک مثال ۳۳ را به ازای یک سانتی متر افزایش شعاع، هنگامی که شعاع برابر 2° سانتی متر است محاسبه کنید. اگر شعاع 1° سانتی متر باشد میزان این تغییر چه قدر خواهد بود؟

۲- می توان گفت شعاع بادکنک مثال ۳۳ نیز تابعی از حجم آن است (تابع معکوس). هنگامی که حجم بادکنک $40^\circ \pi$ سانتی متر مکعب است، ۱ سانتی متر مکعب افزایش حجم، چه مقدار به شعاع آن اضافه می کند؟

۳- اگر بدانیم تابع مشتق پذیر $P(t)$ ، جمعیت یک جامعه را در زمان t سال بعد نشان می دهد. در این صورت $P'(5) = 10000$ و $P'(10) = -20000$ چه مفهومی دارند؟

۴- فرض می کنیم ارتفاع نفوذ آب در خاک از رابطه‌ی $y = 3\sqrt{t}$ به دست می آید، یعنی آب در عرض مدت t ساعت به مقدار $3\sqrt{t}$ سانتی متر در خاک نفوذ کند.

الف) مفهوم $\frac{3}{2\sqrt{t}}$ چیست؟

ب) درباره‌ی آهنگ نفوذ آب در خاک، وقتی t بزرگ باشد، چه می توان گفت؟

۵- کارخانه‌ای برای تولید x ساعت مچی

$$C(x) = 2000 + 10x + \frac{x^2}{100}$$

تومان هزینه می کند.

الف) برای تولید 0 ساعت چه میزان باید هزینه کند؟ (هزینه‌ی اولیه تولید)

ب) هزینه‌ی نهایی چیست؟

ج) هزینه‌ی نهایی وقتی $x = 50$ چیست؟

د) هزینه‌ی تولید ۵۱ امین ساعت، یعنی $C(51) - C(50)$ چه قدر است؟

۶- نقطه‌ی P روی مسیر $y = \sqrt{x^3 + 17}$ در حرکت است. هنگامی که P در $(2, 5)$ قرار

دارد اگر y با سرعت ۲ متر در ثانیه افزایش یابد، x با چه سرعتی تغییر می کند؟

۷- اگر طول هر ضلع یک مکعب با سرعت ۳ سانتی متر در ثانیه افزایش یابد، حجم آن هنگامی

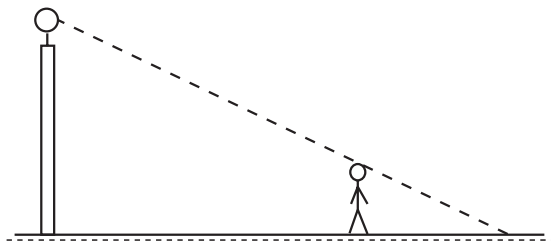
که طول ضلع آن 1° سانتی متر است با چه سرعتی افزایش می یابد؟

- ۸- اگر شعاع یک دایره با سرعت ۲ سانتی متر در ثانیه افزایش یابد، مساحت سطح آن هنگامی که شعاع ۵ سانتی متر است با چه سرعتی افزایش می یابد (افتادن یک سنگ در آب)؟
- ۹- یک توده باکتری پس از t ساعت دارای جرم $m(t) = \sqrt{t} + 2t^3$ گرم است.
- الف) جرم این توده باکتری در ساعت چهارم، $3 \leq t \leq 4$ ، چند گرم افزایش می یابد؟
- ب) آهنگ رشد جرم توده باکتری در لحظه $t = 3$ چه قدر است؟
- ۱۰- اگر ذره ای روی مسیر

$$\frac{xy^2}{1+y^2} = \frac{8}{5}$$

حرکت کند و مؤلفه x آن با سرعت ۶ متر در ثانیه افزایش یابد، هنگامی که ذره در نقطه $(1, 2)$ قرار دارد:

- الف) مؤلفه y با چه سرعتی تغییر می کند؟
- ب) ذره در حال اوج گرفتن است یا در حال سقوط؟
- ۱۱- هنگام پرکردن گاز به داخل یک بالن کروی شکل، با سرعت ۱۲ لیتر در دقیقه وقتی شعاع آن ۲ متر است، قطر بالن با چه سرعتی افزایش می یابد.
- ۱۲- مردی با قد 170° سانتی متر، با سرعت 3° متر در ثانیه در خیابانی افقی به طرف تیر چراغی حرکت می کند که ارتفاع آن ۶ متر است. طول سایه ی این فرد با چه سرعتی تغییر می کند؟



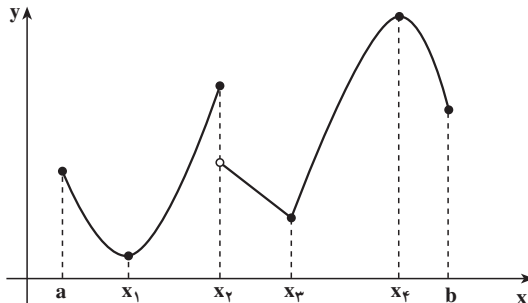
مشتق (۲)

در این فصل ابتدا به بررسی این مطلب می‌پردازیم که از مشتق تابع f چه اطلاعاتی در مورد آن می‌توان به دست آورد و سپس برخی دیگر از کاربردهای آن را مطرح می‌کنیم.

۵-۱- اکسترم‌های نسبی

به خاطر آورید که در بررسی ویژگی‌های توابع پیوسته گفتیم که اگر f روی $[a, b]$ پیوسته باشد، x_1 و x_2 در این بازه وجود دارند که f به ترتیب در آن‌ها مینیمم مطلق و ماکسیمم مطلق است ولی به محل این نقاط و چگونگی یافتن x_1 و x_2 اشاره نکردیم. این نقاط را چگونه می‌توان یافت؟ قبل از پاسخ به این سؤال ماکسیمم نسبی، مینیمم نسبی و اکسترم نسبی را تعریف می‌کنیم. به مثال زیر توجه کنید.

مثال ۱: شکل زیر نمودار تابعی مانند f را روی بازه‌ی $[a, b]$ نشان می‌دهد.



f در x_4 ماکسیمم مطلق و در x_1 مینیمم مطلق دارد ولی نقاط x_2 و x_3 ، هنگامی که یک بازه‌ی کوچک شامل آن نقاط در نظر گرفته شوند نیز به ترتیب در آن بازه نقاط ماکسیمم یا مینیمم است. در واقع چنین تعریف می‌کنیم.

تعریف: اگر تابع f روی بازه‌ای شامل بازه‌ی باز I تعریف شده باشد، و $c \in I$ وجود داشته باشد که برای هر $x \in I$ داشته باشیم $f(x) \geq f(c)$ ، آن‌گاه می‌گویند f در c دارای یک مینیمم نسبی است و c را نقطه‌ی مینیمم نسبی f می‌نامند.

تعریف: اگر تابع f روی بازه‌ای شامل بازه‌ی باز I تعریف شده، و $c \in I$ وجود داشته باشد که برای هر $x \in I$ داشته باشیم $f(c) \geq f(x)$ ، آن‌گاه می‌گویند f در c دارای یک ماکسیمم نسبی است و c را نقطه‌ی ماکسیمم نسبی f می‌نامند.

تعریف: اگر f در c دارای مینیمم نسبی یا ماکسیمم نسبی باشد، می‌گویند f در c دارای اکسترمم نسبی است و c را نقطه اکسترمم نسبی f می‌نامند.

در مثال ۱، f در نقاط x_1 و x_3 مینیمم نسبی و در نقاط x_2 و x_4 ماکسیمم نسبی دارد، یعنی در هر چهار نقطه x_1 ، x_2 ، x_3 و x_4 اکسترمم نسبی دارد و نقاط فوق نقاط اکسترمم نسبی تابع f اند. نکته‌ی ۱: اگر تابع f فقط روی $[a, b]$ تعریف شده باشد، آن‌گاه چون f در همسایگی نقاط a و b تعریف نشده است، این دو نقطه، نمی‌توانند نقاط اکسترمم نسبی f باشند.

نکته‌ی ۲:

– لزومی ندارد که f در نقاط اکسترمم نسبی پیوسته و یا مشتق‌پذیر باشد.

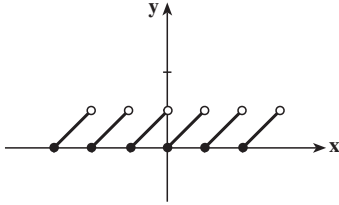
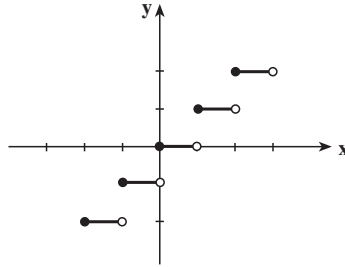
– نقطه‌ی اکسترمم نسبی می‌تواند نقطه‌ی اکسترمم مطلق f نیز باشد.^۱

– اگر c نقطه‌ی اکسترمم مطلق تابع f روی دامنه‌ی آن باشد و تابع در همسایگی آن نقطه تعریف شده باشد، آن‌گاه نقطه c نقطه‌ی اکسترمم نسبی f نیز است.

مثال ۲: الف) برای تابع ثابت $f(x) = k$ ، هر نقطه اکسترمم نسبی است. در واقع هر نقطه می‌تواند نقطه‌ی ماکسیمم نسبی یا مینیمم نسبی تلقی شود (چرا؟)

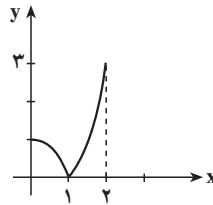
ب) برای تابع $g(x) = [x]$ ، هر نقطه اکسترمم نسبی است. در واقع هر نقطه ماکسیمم نسبی است و نقاط غیرصحيح مینیمم نسبی نیز هستند.

۱- هر نقطه‌ی ماکسیمم مطلق و یا مینیمم مطلق، نقطه‌ی اکسترمم مطلق نامیده می‌شود.



ج) برای تابع $h(x) = x - [x]$ ، نقاط $x \in \mathbb{Z}$ ،
نقاط مینیمم نسبی تابع اند. (چرا؟)

د) اگر $[0, 1]$ دامنه‌ی تابع $k(x) = |x^2 - 1|$ باشد، آن‌گاه تابع دارای ماکسیمم مطلق ۱ و مینیمم مطلق ۰ است و هیچ نقطه‌ی اکسترمم نسبی ندارد. در حالی که اگر $[0, 1]$ دامنه‌ی تابع باشد، آن‌گاه تابع دارای ماکسیمم مطلق ۳ و مینیمم مطلق ۰ است. توجه کنید که در این حالت $x = 1$ نقطه‌ی مینیمم نسبی f است.



قضیه‌ی ۱: اگر تابع f در نقطه‌ی c دارای اکسترمم نسبی باشد و $f'(c)$ وجود داشته باشد، آن‌گاه $f'(c) = 0$ است.

اثبات: فرض کنید که f در c دارای ماکسیمم نسبی است، در این صورت برای نقاط x در یک همسایگی c داریم $f(x) - f(c) \leq 0$. حال اگر $x > c$ ، آن‌گاه

$$\frac{f(x) - f(c)}{x - c} \leq 0.$$

$$\lim_{x \rightarrow c^+} \frac{f(x) - f(c)}{x - c} = f'_+(c) = f'(c) \leq 0.$$

و در نتیجه

(۱)

(چرا؟) و نیز اگر $x < c$ ، آن‌گاه

$$\frac{f(x) - f(c)}{x - c} \geq 0$$

و در نتیجه

$$\lim_{x \rightarrow c^-} \frac{f(x) - f(c)}{x - c} = f'_-(c) = f'(c) \geq 0 \quad (۲)$$

(۱) و (۲) نتیجه می‌دهد که $f'(c) = 0$.

اثبات برای حالتی که در c مینیمم نسبی دارد مشابه اثبات فوق است.

تعریف: نقطه‌ی $c \in D_f$ را **نقطه‌ی بحرانی**^۱ تابع f می‌نامند، هرگاه $f'(c)$ تعریف نشده باشد

یا $f'(c) = 0$.

نکته: دقت کنید هر نقطه‌ی اکسترمم نسبی f ، نقطه‌ی بحرانی f است، در صورتی که یک

نقطه‌ی بحرانی ممکن است نقطه‌ی اکسترمم نسبی نباشد، مانند نقطه‌ی $x = 0$ برای تابع $f(x) = x^3$.

مثال ۳: الف) تنها نقطه‌ی بحرانی تابع $f(x) = x^2 + 3x$ ، $x = -\frac{3}{2}$ است زیرا

$$f'(x) = 2x + 3$$

$$f'(x) = 0 \Leftrightarrow x = -\frac{3}{2}$$

توجه کنید که تابع در بازه‌ی $(-1, 1)$ نقطه‌ی بحرانی ندارد.

ب) تابع

$$g(x) = \begin{cases} x & -1 \leq x < 0 \\ 2x^2 - x & 0 \leq x \leq 1 \end{cases}$$

با دامنه‌ی $D_g = [-1, 1]$ ، دارای نقاط بحرانی $x_1 = -1$ ، $x_2 = 0$ ، $x_3 = 0/25$ و $x_4 = 1$

است. چون

$$g'(x) = \begin{cases} 1 & -1 < x < 0 \\ \text{وجود ندارد} & x = 0 \\ 4x - 1 & 0 < x < 1 \end{cases}$$

۱- گاهی نقطه‌ی $(c, f(c))$ روی نمودار f را نقطه‌ی بحرانی نمودار تابع f می‌نامند.

g' در نقاط -1 ، 0 و 1 وجود ندارد و $(0/25)$ g' .
(ج) تابع

$$h(x) = \sqrt{1-x^2}$$

با دامنه $D_h = [-1, 1]$ دارای نقاط بحرانی -1 ، 0 و 1 است زیرا

$$h'(x) = \frac{-x}{\sqrt{1-x^2}}$$

$h'(0) = 0$ و 1 تعریف نشده و $h'(0) = 0$.

اکنون ابزار لازم برای تعیین نقاطی که اکسترمم مطلق در آن‌ها اتفاق می‌افتد فراهم شده است.

قضیه ۲: اگر تابع f روی بازه‌ی $[a, b]$ تعریف شده و نقطه‌ی c ، $a < c < b$ نقطه‌ی اکسترمم

مطلق تابع روی این بازه باشد، آن‌گاه c نقطه‌ی بحرانی f است.

اثبات: چون f در همسایگی نقطه‌ی c تعریف شده است، c یک اکسترمم نسبی f است، حال

اگر $f'(c) = 0$ وجود نداشته باشد، c نقطه‌ی بحرانی f است و اگر $f'(c) \neq 0$ وجود داشته باشد، بنا به قضیه‌ی

۱، $f'(c) = 0$ که باز هم c نقطه‌ی بحرانی f است.

نکته: برای یافتن اکسترمم‌های مطلق تابع پیوسته‌ی f روی بازه‌ی $[a, b]$ چون اکسترمم یا در

a ، یا b و یا نقاط بحرانی f در (a, b) اتفاق می‌افتند، پس از یافتن نقاط بحرانی f در (a, b) و تعیین

مقادیر f در آن‌ها و مقایسه آن‌ها با $f(a)$ و $f(b)$ و با یکدیگر، می‌توان ماکسیمم مطلق و مینیمم مطلق f

در این بازه را تعیین کرد.^۱

مثال ۴: تابع

$$A(x) = 100x - x^2$$

روی بازه‌ی $[0, 100]$ تعریف شده و پیوسته است،

$$A'(x) = 100 - 2x \quad 0 < x < 100$$

پس $x = 50$ تنها نقطه‌ی بحرانی f در $(0, 100)$ است و

$$A(0) = 0, \quad A(50) = 2500, \quad A(100) = 0$$

پس A در 50 دارای ماکسیمم مطلق برابر 2500 است.

۱- در برخی از کتاب‌ها، هنگامی که مشتق راست f در a و مشتق چپ f در b وجود داشته باشد، a یا b را نقطه‌ی بحرانی

در نظر نمی‌گیرند ولی برای تعیین اکسترمم مطلق از همین روش استفاده می‌شود. اگر $[a, b]$ جزئی از دامنه‌ی تابع f باشد، آن‌گاه

می‌توان ابتدا دامنه‌ی f را به $[a, b]$ محدود و سپس نقاط بحرانی آن را یافت.

مثال ۵: برای تابع

$$C(r) = 45\pi r^2 + \frac{30375\pi}{r}$$

هنگامی که $0 < r \leq 30$ ، مینیمم مطلق در چه نقطه‌ای اتفاق می‌افتد؟ توجه کنید که تابع C در $r = 0$ تعریف نشده است و $\lim_{r \rightarrow 0^+} C(r) = \infty$. این سؤال مطرح است که اگر اکسترم مطلق در بازه‌ی $(0, 30)$ اتفاق بیفتد، در چه نقطه‌ای خواهد بود. با توجه به قضیه‌ی ۲، کافی است نقاط بحرانی $C(r)$ را در این بازه بیابیم.

$$C'(r) = 90\pi r - \frac{30375\pi}{r^2}$$

و با قرار دادن $C'(r) = 0$ ، خواهیم داشت $r = 15$ و با مقایسه

$$C(15) = 30375\pi, \quad C(30) = 50625\pi$$

در می‌یابیم که C در $r = 15$ دارای مینیمم مطلق است.

تمرین‌ها

۱- نقاط ماکسیمم مطلق و مینیمم مطلق هر یک از توابع را روی بازه‌های داده شده تعیین

کنید.

الف) $f(x) = x^2$ روی $[-1, 2]$

ب) $g(x) = \sin x$ روی $[\pi, 2\pi]$

ج) $h(x) = |x|(x-2)$ روی $[-1, 2]$

۲- نقاط بحرانی توابع زیر را در صورت وجود به دست آورید.

الف) $f(x) = 3x^4 + x^3$ ب) $f(t) = t^4 + 2t^3 - 5t^2$

ج) $f(t) = \frac{t}{1+t^2}$

۳- نقاط ماکسیمم و مینیمم‌های نسبی هر یک از تابع‌های زیر را در صورت وجود بیابید.

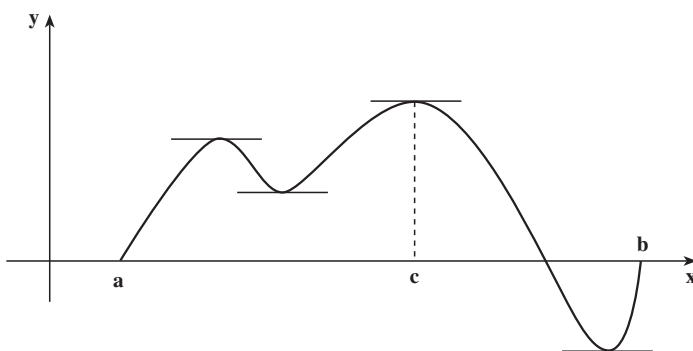
الف) $f(x) = x|x|$ ب) $f(x) = [\sin x]$ روی $[\pi, 2\pi]$

ج) $f(x) = [x] - x$ روی $[0, 3]$ د) $f(x) = \begin{cases} x & x < 1 \\ 1-x^2 & x \geq 1 \end{cases}$

۵-۲- قضیه‌های رول و مقدار میانگین

اکنون به بیان قضیه‌ای می‌پردازیم که از آن برای یافتن ویژگی‌های بیشتری از تابع f استفاده خواهیم کرد. این قضیه به نام قضیه‌ی رول معروف است.

قضیه‌ی ۳ (قضیه‌ی رول): اگر تابع f روی $[a, b]$ پیوسته و روی (a, b) مشتق‌پذیر باشد و $f(a) = f(b)$ ، آنگاه حداقل یک نقطه‌ی c ، $a < c < b$ وجود دارد که برای آن $f'(c) = 0$.
 نکته: شکل زیر بیان‌کننده‌ی شرایط قضیه‌ی رول است:



نقاطی که در آن‌ها مماس بر نمودار افقی است، نقاط c در قضیه‌اند.

مثال ۶: تابع $f(x) = \sqrt{x(4-x)}$ روی بازه‌ی $[0, 4]$ پیوسته و روی بازه‌ی $(0, 4)$ مشتق‌پذیر

است و داریم:

$$f'(x) = \frac{2-x}{\sqrt{x(4-x)}}$$

همچنین $f(0) = f(4) = 0$ ، پس تمام شرایط قضیه‌ی رول برقرار است. نقطه‌ی $c=2$ در شرط $f'(c) = 0$ صدق می‌کند.

مثال ۷: تابع پیوسته $f(x) = |x| - 1$ در شرایط $f(-1) = f(1) = 0$ صدق می‌کند و

$$f'(x) = \begin{cases} -1 & x < 0 \\ \text{وجود ندارد} & x = 0 \\ 1 & x > 0 \end{cases}$$

شرط مشتق‌پذیری قضیه‌ی رول برقرار نیست و لذا عدم وجود نقطه‌ای مانند c که برای آن $f'(c) = 0$ متناقض با قضیه نیست.

باید دقت کرد که در صورتی از نتیجه یک قضیه می‌توان استفاده کرد که تمام شرایط آن قضیه برقرار باشد. همچنین ممکن است مثال‌هایی وجود داشته باشند که با این که شرایط قضیه برای آن‌ها صادق نیست، نتیجه‌ی قضیه برقرار باشد. به مثال‌های زیر توجه کنید.

مثال ۸: تابع

$$f(x) = \begin{cases} 2x+2 & -1 \leq x < 0 \\ x^2 - x + 2 & 0 \leq x < 1 \\ -2x+4 & 1 \leq x \leq 2 \end{cases}$$

روی $[-1, 2]$ پیوسته است و

$$f'(x) = \begin{cases} 2 & -1 < x < 0 \\ \text{وجود ندارد} & x = 0 \\ 2x-1 & 0 < x < 1 \\ \text{وجود ندارد} & x = 1 \\ -2 & 1 < x < 2 \end{cases}$$

پس f روی بازه‌ی $(-1, 2)$ مشتق‌پذیر نیست ولی $f'(\frac{1}{2}) = 0$.

مثال ۹: با استفاده از قضیه‌ی رول نشان می‌دهیم که معادله‌ی $x^3 - 3x^2 + 27x - 2 = 0$ دقیقاً یک ریشه دارد.

زیرا اگر $f(x) = x^3 - 3x^2 + 27x - 2$ در نظر گرفته شود، $f(0) = -2$ و $f(1) = 23$ بنابراین چون f پیوسته است در بازه‌ی $(0, 1)$ حداقل یک ریشه دارد. حال اگر f دارای ۲ ریشه یا بیشتر باشد و x_1 و x_2 دو ریشه‌ی معادله باشند، $f(x_1) = f(x_2) = 0$ ، پس بنا به قضیه‌ی رول باید برای حداقل یک c بین x_1 و x_2 ، داشته باشیم $f'(c) = 0$ ولی

$$\begin{aligned} f'(x) &= 3x^2 - 6x + 27 = 3(x^2 - 2x + 9) \\ &= 3[(x-1)^2 + 8] \end{aligned}$$

همواره مثبت است، و این با قضیه‌ی رول تناقض دارد. پس فرض این که f بیش از یک ریشه دارد غلط است.

نکته: از قضیه‌ی رول نتیجه می‌شود که بین هر دو ریشه‌ی تابع مشتق‌پذیر f ، مشتق f حداقل

یک ریشه دارد. در مثال ۹ این نتیجه به کار برده شده است.

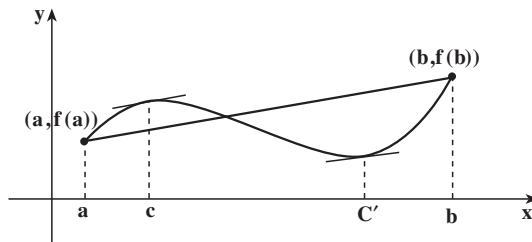
یکی از مهم‌ترین نتایج قضیه‌ی رول، قضیه‌ای است به نام قضیه‌ی مقدار میانگین که بدون اثبات بیان می‌کنیم.

قضیه‌ی ۴ (قضیه‌ی مقدار میانگین): هرگاه تابع f روی بازه‌ی $[a, b]$ پیوسته و روی بازه‌ی

(a, b) مشتق‌پذیر باشد، آنگاه حداقل یک نقطه‌ی c ، $a < c < b$ ، وجود دارد که

$$f'(c) = \frac{f(b) - f(a)}{b - a}$$

نکته: به شکل زیر که بیان‌کننده‌ی شرایط قضیه‌ی مقدار میانگین است توجه کنید.



شیب خط‌گذرنده از نقاط $(a, f(a))$ و $(b, f(b))$ است و در نتیجه قضیه بیان می‌کند که اگر f مشتق‌پذیر باشد، آنگاه در نقطه‌ای مثل c خط مماس بر منحنی دارای شیبی برابر مقدار فوق خواهد بود.

مثال ۱۰: تابع پیوسته $f(x) = 2x^3 - 8x + 3$ را روی بازه‌ی $[-1, 3]$ در نظر بگیرید داریم:

$$f(-1) = 9, \quad f(3) = 33$$

و

$$\frac{f(3) - f(-1)}{3 - (-1)} = 6$$

و چون f' روی بازه‌ی $(-1, 3)$ موجود است باید حداقل نقطه‌ای وجود داشته باشد که $f'(c) = 6$ ولی

$$f'(x) = 6x^2 - 8$$

پس

$$6c^2 - 8 = 6$$

و بالاخره $1/528 \pm \sqrt{1/528} \leq c \leq \pm \sqrt{1/528} \pm 1/528$ در بازه‌ی $[-1, 3]$ قرار دارد.

مثال ۱۱: تابع

$$f(x) = \frac{x^2 - 4x + 5}{x - 2}$$

را روی بازه‌ی $[1, 3]$ در نظر بگیرید، مشاهده می‌شود که $f(1) = -2$ و $f(3) = 2$

$$\frac{f(3) - f(1)}{3 - 1} = 2$$

و

آیا نقطه‌ای در بازه‌ی فوق وجود دارد که $f'(c) = 2$ ؟ دقت کنید که تابع f در بازه‌ی $[1, 3]$ پیوسته نیست، یعنی در شرایط قضیه‌ی مقدار میانگین صدق نمی‌کند، پس از قضیه نمی‌توان نتیجه گرفت که چنین نقطه‌ای وجود دارد، با محاسبه‌ی

$$f'(x) = \frac{x^2 - 4x + 3}{(x - 2)^2}$$

برای $f'(c) = 2$ ، معادله‌ی $c^2 - 4c + 5 = 0$ ، که جواب ندارد به دست می‌آید. پس چنین نقطه‌ای وجود ندارد.

مثال ۱۲: تابع پیوسته‌ی

$$f(x) = \begin{cases} x^3 & 0 \leq x \leq 1 \\ x^2 & 1 < x \leq 2 \end{cases}$$

را روی بازه‌ی $[0, 2]$ در نظر بگیرید. مشتق این تابع

$$f'(x) = \begin{cases} 3x^2 & 0 < x < 1 \\ \text{وجود ندارد} & x = 1 \\ 2x & 1 < x < 2 \end{cases}$$

توجه کنید که $\frac{f(2) - f(0)}{2 - 0} = 2$ و با این که شرایط قضیه‌ی مقدار میانگین برقرار نیست،
 $f'(\sqrt{\frac{2}{3}}) = 2$.

مثال ۱۳: برای هر دو عدد حقیقی x_1 و x_2 نشان می‌دهیم نامعادله‌ی

$$|\sin x_1 - \sin x_2| \leq |x_1 - x_2|$$

برقرار است.

بدون از دست دادن کلیت مسئله می‌توان فرض کرد $x_1 < x_2$ (چرا؟)، کافی است تابع $f(x) = \sin x$ را روی بازه‌ی $[x_1, x_2]$ در نظر بگیریم. f پیوسته و روی بازه‌ی (x_1, x_2) مشتق پذیر

است، پس بنا بر قضیه‌ی مقدار میانگین نقطه‌ی c ، $x_1 < c < x_2$ ، وجود دارد که

$$\sin x_1 - \sin x_2 = (\cos c)(x_1 - x_2)$$

و یا

$$|\sin x_1 - \sin x_2| = |\cos c| |x_1 - x_2|$$

و چون $|\cos c| \leq 1$ است، پس

$$|\sin x_1 - \sin x_2| \leq |x_1 - x_2|$$

در این جا نتیجه‌ای از قضیه‌ی مقدار میانگین را که در محاسبه‌ی مشتق توابع چندضابطه‌ای به کار می‌رود بدون اثبات بیان می‌کنیم.

نتیجه: اگر تابع f در نقطه‌ی c پیوسته و در یک همسایگی محذوف c مشتق‌پذیر باشد و

$$\lim_{x \rightarrow c} f'(x) = l$$

آنگاه $f'(c)$ موجود و برابر l است (یعنی f در c مشتق‌پذیر است).

مثال ۱۴: به ازاء چه مقادیری از m و b تابع

$$f(x) = \begin{cases} mx + b & x < a \\ x^2 & x \geq a \end{cases}$$

در نقطه a مشتق‌پذیر است؟

برای برقراری شرط پیوستگی f در a ، باید $a^2 = ma + b$

و چون

$$f'(x) = \begin{cases} m & x < a \\ 2x & x > a \end{cases}$$

و $\lim_{x \rightarrow a^+} f'(x) = 2a$ و $\lim_{x \rightarrow a^-} f'(x) = m$ ، کافیت $m = 2a$ باشد و در نتیجه $b = -a^2$.

قبلاً مشاهده کردید که مشتق تابع ثابت برابر صفر است، ولی آیا هر تابعی که مشتق آن برابر صفر باشد، تابع ثابتی است؟ به قضیه زیر توجه کنید.

قضیه‌ی ۵: اگر تابع f روی بازه‌ی I مشتق‌پذیر بوده و f' روی I برابر مقدار ثابت صفر باشد،

آنگاه f روی I ثابت است.

اثبات: نقطه‌ی دلخواه $a \in I$ را اختیار می‌کنیم، نشان می‌دهیم که برای هر $x \in I$ ، $f(x)$ برابر

$f(a)$ است و در نتیجه f ثابت است. فرض کنید که $a < x$ ، تابع f روی بازه‌ی $[a, x]$ در شرایط قضیه‌ی مقدار میانگین صدق می‌کند، پس

$$f(x) - f(a) = f'(c)(x - a)$$

ولی $f'(c) = 0$ و در نتیجه :

$$f(x) = f(a)$$

اگر $x < a$ ، کافی است f را روی بازه‌ی $[x, a]$ در نظر بگیریم تا به نتیجه مطلوب برسیم. (چرا؟) نتیجه: اگر f روی I مشتق پذیر باشد، مشتق f روی I صفر است اگر و تنها اگر f تابع ثابت باشد. مثال ۱۵: تابع $f(x) = [x]$ در نقاط $x \in \mathbb{Z}$ ناپیوسته است و در نتیجه مشتق پذیر نیست و روی مجموعه $\mathbb{R} - \mathbb{Z}$ دارای مشتق صفر است ولی تابع ثابت نیست، آیا این مثال با قضیه‌ی فوق در تضاد نیست؟

مثال ۱۶: می‌خواهیم با استفاده از قضیه‌ی ۵، نشان دهیم که برای هر عدد حقیقی x

$$\sin^2 x + \cos^2 x = 1$$

تابع

$$f(x) = \sin^2 x + \cos^2 x$$

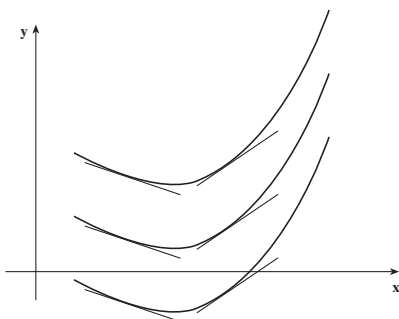
را روی \mathbb{R} در نظر بگیرید، f تابعی پیوسته و مشتق پذیر است و داریم $f'(x) = 0$. پس بنا به قضیه‌ی ۵، $f(x) = k$. نشان دادن $k = 1$ به عهده‌ی خواننده است.

نکته: اگر برای دو تابع مشتق پذیر f و g روی بازه‌ی I ، بدانیم

$$f'(x) = g'(x) \quad x \in I$$

آنگاه $f(x) = g(x) + k$ ، زیرا مشتق تابع $h(x) = f(x) - g(x)$ روی I برابر صفر است و بنابراین قضیه‌ی ۵ برای هر $x \in I$ ، $h(x) = k$ یا در I ، $h \equiv k$ ؛ (بخوانید تابع h متحد با مقدار ثابت k است). به عبارت دیگر، مشتق دو تابع f و g روی بازه‌ی I با هم برابرند، اگر و فقط اگر $f - g$ روی I تابعی ثابت مانند k باشد.

به شکل روبه‌رو توجه کنید.



یعنی هرگاه دو تابع در هر نقطه‌ی یک بازه یک شیب داشته باشند، نمودار یکی را می‌توان با انتقال دیگری به اندازه‌ی k در امتداد محور y (به سوی بالا یا پایین)، به دست آورد.

مثال ۱۷: می‌خواهیم تحقیق کنیم که چه تابع یا تابع‌هایی روی R وجود دارند که مشتق آن‌ها

$$\text{برابر } \frac{1}{1+x^2} \text{ است.}$$

قبلاً دیدیم که اگر $f(x) = \text{Ar c tan } x$ ، آن‌گاه $f'(x) = \frac{1}{1+x^2}$. پس یکی از این تابع‌ها f

است و با اضافه کردن مقدار ثابتی به f توابع دیگری با همین ویژگی به دست می‌آیند، یعنی تمام این توابع به فرم $(\text{Ar c tan } x) + k$ هستند.

تمرین‌ها

۱- برای توابع زیر روی بازه‌های داده شده، شرایط قضیه‌ی رول را بررسی کنید و در صورت برقراری شرایط، نقاطی را که در آن‌ها مشتق صفر است بیابید.

(الف) $f(x) = x^2 - 2x - 3$ روی بازه‌ی $[-1, 3]$

(ب) $f(x) = x^3 - 6x^2 + 10x - 5$ روی بازه‌ی $[1, 4]$

(ج) $f(x) = \sin x + \cos x - 1$ روی بازه‌ی $[0, 4\pi]$

۲- برای توابع زیر روی بازه‌های داده شده شرایط قضیه‌ی مقدار میانگین را بررسی کنید و در صورت برقراری شرایط، نقطه یا نقاط c مذکور در قضیه را بیابید.

(الف) $f(x) = \sqrt{x^2 + 81}$ روی $[12, 40]$

(ب) $f(x) = x^4 + x^3 - 3x^2 + 2x$ روی $[-2, -1]$

(ج) $f(x) = \cos x - \frac{x}{\pi}$ روی $[\pi, \pi]$

۳- برای تابع $f(x) = 2x^{\frac{2}{3}}$ روی $[-1, 1]$ نشان دهید که هیچ عدد c یافت نمی‌شود که در

رابطه‌ی قضیه‌ی مقدار میانگین صدق کند. چرا؟

۴- با استفاده از قضیه‌ی رول ثابت کنید:

(الف) هر چندجمله‌ای درجه دو، $c_0 + c_1x + c_2x^2$ ، حداکثر ۲ ریشه دارد.

(ب) هر چندجمله‌ای درجه سه، $c_0 + c_1x + c_2x^2 + c_3x^3$ ، حداکثر ۳ ریشه دارد.

ج) هر چند جمله‌ای درجه n ، $n \geq 1$ ، $p_n(x)$ ، حداکثر n ریشه دارد.

۵- با استفاده از قضیه‌ی ۵، ثابت کنید $\text{Arcsin } x + \text{Arccos } x = \frac{\pi}{2}$

۶- نشان دهید که مشتق تابع علامت

$$f(x) = \text{sgn}(x) = \begin{cases} -1 & x < 0 \\ 0 & x = 0 \\ 1 & x > 0 \end{cases}$$

در نقاطی که وجود دارد برابر صفر است. شرایط قضیه‌ی ۵ را برای این تابع بررسی کنید.

۵-۳- تابع‌های صعودی و نزولی

در این قسمت به یکی دیگر از کاربردهای مهم قضیه‌ی مقدار میانگین که ارتباط بین صعودی و نزولی بودن تابع و مشتق آن را بیان می‌کند، می‌پردازیم.

تعریف: تابع f را روی بازه‌ی I صعودی نامند، اگر برای هر $x_1, x_2 \in I$ ، که $x_1 < x_2$ داشته باشیم $f(x_1) \leq f(x_2)$.

تعریف: تابع f را روی بازه‌ی I نزولی نامند، اگر برای هر $x_1, x_2 \in I$ ، که $x_1 < x_2$ داشته باشیم $f(x_1) \geq f(x_2)$.

تعریف: تابعی را که روی بازه‌ی I صعودی و یا نزولی باشد، یکنوا نامند.

(تعریف‌های فوق را با تعریف‌های صعودی اکید و نزولی اکید مقایسه کنید. توجه کنید اگر f

روی بازه‌ای صعودی اکید (نزولی اکید) باشد، روی آن بازه صعودی (نزولی) است.)

مثال ۱۸: الف) تابع $f(x) = x$ روی R صعودی است.

ب) تابع $g(x) = x^2$ روی $(0, \infty)$ نزولی و روی $(-\infty, 0]$ صعودی است. (چرا؟)

ج) تابع $h(x) = [x]$ روی R صعودی است.

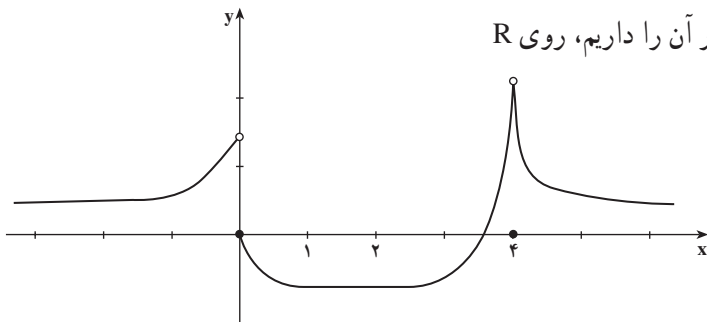
د) تابع $k(x) = \frac{1}{x}$ روی $(0, \infty)$ و روی $(-\infty, 0)$ نزولی است ولی در دامنه‌اش یکنوا

نیست.

۱- در برخی از کتاب‌ها از لفظ صعودی به جای صعودی اکید و غیرنزولی به جای صعودی استفاده می‌کنند.

مثال ۱۹: تابع f که نمودار آن را داریم، روی \mathbb{R}

نه صعودی و نه نزولی است.



ولی روی بازه‌های $(-\infty, 0)$ و $[1, 4]$ صعودی و روی بازه‌های $[0, 2]$ و $(4, +\infty)$ نزولی است. دقت کنید که f روی بازه $[1, 2]$ ثابت است در نتیجه هم نزولی و هم صعودی می‌تواند تلقی شود.

مثال ۲۰: تابع

$$f(x) = \begin{cases} x & \text{گویا} \\ 0 & \text{اصم} \end{cases}$$

روی هیچ بازه‌ای یکنوا نیست (چرا؟)

قضیه ۶:

الف) اگر برای هر $x \in I$ ، $f'(x) > 0$ ، آن‌گاه f روی I صعودی اکید است.

ب) اگر برای هر $x \in I$ ، $f'(x) < 0$ ، آن‌گاه f روی I نزولی اکید است.

اثبات: قسمت الف را ثابت می‌کنیم و اثبات ب به عهده دانش‌آموزان است.

دو نقطه‌ی دلخواه x_1 و x_2 را در I اختیار می‌کنیم که $x_1 < x_2$. تابع f روی بازه‌ی $[x_1, x_2]$ در شرایط قضیه‌ی مقدار میانگین صدق می‌کند، لذا عدد c وجود دارد که

$$f(x_2) - f(x_1) = f'(c)(x_2 - x_1) \quad x_1 < c < x_2$$

ولی $x_2 - x_1 > 0$ و $f'(c) > 0$ پس $f(x_2) - f(x_1) > 0$. یعنی $f(x_1) < f(x_2)$ و در نتیجه f صعودی اکید است.

نکته ۱: اگر تابع f روی بازه‌هایی به شکل $(-\infty, a]$ یا $[a, b]$ و یا $(b, +\infty)$ پیوسته باشد

برای صعودی اکید بودن f ، کافی است f' به ترتیب روی $(-\infty, a)$ یا (a, b) و یا $(b, +\infty)$ موجود و مثبت باشد. همین مطلب را در مورد نزولی اکید بودن f به طور مشابه می‌توان بیان کرد.

نکته ۲: اگر روی بازه‌ی I ، $f' \geq 0$ باشد، f صعودی و اگر $f' \leq 0$ باشد، f نزولی است.

نکته ۳: اگر تابع f روی بازه‌های (a, c) و (c, b) صعودی (صعودی اکید) و در نقطه‌ی C پیوسته

باشد، آنگاه f روی بازه‌ی (a,b) صعودی (صعودی اکید) است. و نیز اگر f روی بازه‌های (a,c) و (c,b) نزولی (نزولی اکید) و در نقطه‌ی c پیوسته باشد، آنگاه f روی بازه‌ی (a,b) نزولی (نزولی اکید) است.
مثال ۲۱: تابع‌های زیر روی بازه‌های مطرح شده صعودی اند.

الف) $f(x) = \sin x$ روی $[-\frac{\pi}{4}, \frac{\pi}{4}]$

ب) $g(x) = x^3 + 1$ روی \mathbb{R}

ج) $h(x) = \begin{cases} x+1 & x < 1 \\ 0 & -1 \leq x \leq 0 \\ \text{Arc tan } x & x > 0 \end{cases}$ روی \mathbb{R}

مثال ۲۲: تابع‌های زیر روی بازه‌های مطرح شده نزولی اند.

الف) $f(x) = \cos x$ روی $[0, \pi]$

ب) $g(x) = \frac{1}{x}$ روی $(0, \infty)$ یا روی $(-\infty, 0)$

ج) $h(x) = |x-2| - |x-1|$ روی \mathbb{R}

مثال ۲۳: برای تابع $h(x) = \tan x$ ، می‌دانیم که

$$h'(x) = 1 + \tan^2 x \quad x \neq k\pi + \frac{\pi}{2} \quad k \in \mathbb{Z}$$

و h' روی بازه‌هایی که وجود دارد مثبت است، آیا می‌توان گفت که تابع $\tan x$ روی \mathbb{R} صعودی است؟
 بخشی از جدول رفتار تابع h را مشاهده می‌کنید.

x	$-\frac{5\pi}{2}$	$-\frac{3\pi}{2}$	$-\frac{\pi}{2}$	$+\frac{\pi}{2}$	$\frac{3\pi}{2}$
h'		+		+	
h		↗		↗	

این بار به دلیل عدم پیوستگی تابع h در نقاط $k\pi + \frac{\pi}{2}$ ، نمی‌توان گفت که تابع در \mathbb{R} صعودی است.

مثال ۲۴: نشان می‌دهیم برای عدد $a > 0$ ، عدد حقیقی یکتای b وجود دارد که

$$b = \sqrt[n]{a}$$

کافی است تابع پیوسته‌ی $f(x) = x^n - a$ را روی بازه‌ی $[0, \infty)$ در نظر بگیریم $f(0) = -a < 0$ و $\lim_{x \rightarrow \infty} f(x) = \infty$. پس بنابه قضیه‌ی مقدار میانی f در این بازه حداقل یک بار صفر می‌شود. پس

عدد حقیقی b وجود دارد که $f(b) = 0$ (چرا؟) و چون برای هر x در این بازه $f' > 0$ است، b یکتاست. این قسمت را با بیان قضیه‌ای که از آن برای اثبات برخی از نامساوی‌ها می‌توان استفاده کرد به پایان می‌بریم.

قضیه‌ی ۷: اگر تابع‌های f و g روی بازه‌ی $[a, b]$ پیوسته و روی بازه‌ی (a, b) مشتق پذیر باشند و $f(a) = g(a)$ و نیز برای هر x ، $a < x < b$

$$f'(x) < g'(x)$$

آن‌گاه برای هر x ، $a < x < b$ ، $f(x) < g(x)$.

مثال ۲۵: نشان می‌دهیم که اگر $n \in \mathbb{N}$ و $n \geq 2$ ، آن‌گاه نامساوی

$$(1+x)^n > 1+nx$$

برای تمام x ‌های حقیقی و مثبت برقرار است.

اگر $F(x) = 1+nx$ و $g(x) = (1+x)^n$ اختیار شوند. این تابع‌ها روی $(-\infty, \infty)$ پیوسته و روی $(-\infty, \infty)$ مشتق پذیرند و

$$g'(x) = n(1+x)^{n-1} \quad f'(x) = n$$

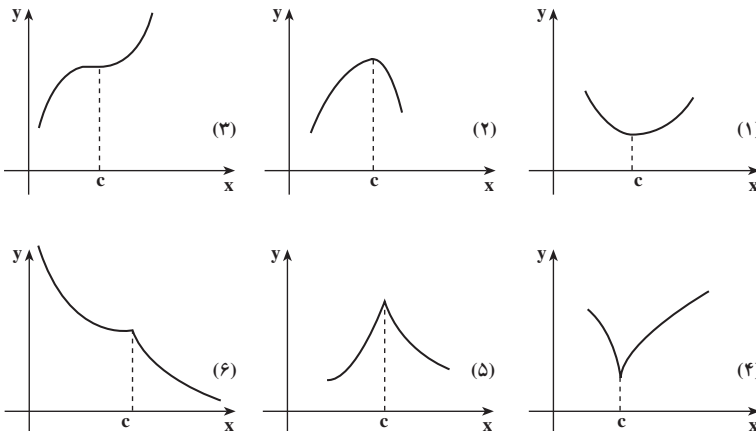
و چون برای هر x مثبت، $g'(x) > f'(x)$ است، (چرا؟) بنا به قضیه‌ی ۷، نامساوی موردنظر برقرار است. می‌توان نشان داد این نامساوی برای هر عدد گویای بزرگ‌تر از ۱ نیز درست است، یعنی

$$(1+x)^r > 1+rx \quad x > 0, \quad r \in \mathbb{Q}, \quad r > 1$$

۵-۴- آزمون‌های مشتق

مشاهده کردیم که برای یافتن نقاط اکسترمم نسبی و یا مطلق باید نقاط بحرانی تابع را شناسایی

کنیم و نیز دیدیم که نقاط بحرانی لزوماً اکسترمم نیستند. به شکل‌های زیر توجه کنید:



نقطه‌ی c نقطه‌ی بحرانی برای همه‌ی نمودارهای صفحه‌ی قبل است. در (۱) و (۴)، c نقطه‌ی مینیم نسبی است و نمودارها قبل از c نزولی و بعد از آن صعودی اند. در (۲) و (۵)، c نقطه‌ی ماکسیم نسبی است و نمودارها قبل از c صعودی و بعد از آن نزولی اند.

و در (۳) و (۶)، c نقطه‌ی اکسترم نیست، و نمودارها قبل و بعد از c به صعودی یا نزولی بودن خود ادامه می‌دهند.

آنچه را که در شکل‌های بالا مشاهده شد می‌توان در قضیه‌ی زیر که بدون اثبات بیان می‌کنیم خلاصه کرد.

قضیه‌ی ۸ (آزمون مشتق اول): فرض کنید c ، $a < c < b$ ، نقطه‌ی بحرانی تابع f باشد و f روی بازه‌ی (a, b) پیوسته و بجز احتمالاً در c مشتق‌پذیر باشد.

الف) اگر f' روی (a, c) مثبت و روی (c, b) منفی باشد، آنگاه f در c ماکسیم نسبی دارد.

ب) اگر f' روی (a, c) منفی و روی (c, b) مثبت باشد، آنگاه f در c مینیم نسبی دارد.

ج) اگر f' روی (a, c) و (c, b) هم علامت باشد، آنگاه f در c اکسترم ندارد.

مثال ۲۶: می‌خواهیم نقاط اکسترم تابع $h(x) = \frac{\sin x}{2 + \cos x}$ را روی R تعیین کنیم.

داریم:

$$h'(x) = \frac{2 \cos x + 1}{(2 + \cos x)^2}$$

و نقاط $x = 2k\pi - \frac{2\pi}{3}$ نقاط بحرانی h را تشکیل می‌دهند. بخشی از جدول رفتار تابع را که در بازه‌ی $[\pi, 2\pi]$ قرار دارد مشاهده می‌کنید.

x	π	$-\frac{2\pi}{3}$	$\frac{2\pi}{3}$	π
h'		-	+	-
h		\searrow	\nearrow	\searrow

و h در $-\frac{2\pi}{3}$ مینیم نسبی و در $\frac{2\pi}{3}$ ماکسیم نسبی دارد و به دلیل متناوب بودن h می‌توان گفت که

در نقاط $2k\pi - \frac{2\pi}{3}$ مینیم نسبی و در نقاط $2k\pi + \frac{2\pi}{3}$ ماکسیم نسبی دارد ($k \in Z$). h دارای

مینیمم مطلق $\frac{-\sqrt{3}}{3} \approx -0.58$ و ماکسیمم مطلق $\frac{\sqrt{3}}{3} \approx 0.58$ است. (چرا؟)

مثال ۲۷: برای تابع $f(x) = 3x^5 - 5x^3$ ، $f'(x) = 15x^4 - 15x^2$ پس نقاط $1, 0, -1$ ، نقاط بحرانی اند. بخشی از جدول رفتار تابع f به صورت زیر است.

x		-1	0	1	
f'	$+$	0	$-$	0	$+$
f	\nearrow		\searrow		\nearrow

همان طور که مشاهده می شود نقطه -1 نقطه f ماکسیمم نسبی، نقطه 1 نقطه f مینیمم نسبی و نقطه 0 با این که نقطه بحرانی تابع f است ولی نقطه f اکسترمم نسبی نیست. در برخی از مواقع تعیین علامت مشتق قبل و بعد از نقطه بحرانی کار ساده ای نیست، قضیه 9 زیر ابزار دیگری را که از مشتق دوم تابع کمک می گیرد، جهت شناسایی نوع نقطه f اکسترمم در اختیار ما قرار می دهد.

قضیه 9 (آزمون مشتق دوم): اگر c نقطه بحرانی تابع f و $f'(c)$ موجود باشد و

(الف) $f'(c) > 0$ ، آن گاه f در c مینیمم نسبی دارد.

(ب) $f'(c) < 0$ ، آن گاه f در c ماکسیمم نسبی دارد.

نکته: در حالتی که $f'(c) = 0$ ، آزمون بی نتیجه است.

مثال ۲۸: برای تابع $h(x) = \frac{\sin x}{2 + \cos x}$ ، $h'(x) = \frac{2 \sin x (\cos x - 1)}{(2 + \cos x)^2}$ و

$$h'(2k\pi - \frac{2\pi}{3}) = -0.77, \quad h'(2k\pi + \frac{2\pi}{3}) = -0.77$$

پس h در نقاط $2k\pi - \frac{2\pi}{3}$ مینیمم نسبی و در نقاط $2k\pi + \frac{2\pi}{3}$ ماکسیمم نسبی دارد.

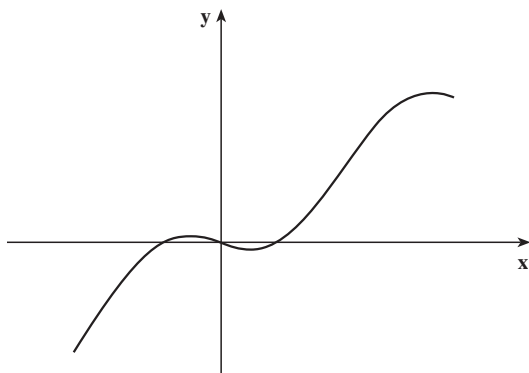
مثال ۲۹: در مورد اکسترمم های نسبی تابع $g(x) = \frac{\sqrt{2}}{4}x - \sin x$ روی R تحقیق می کنیم.

$$\text{داریم } g'(x) = \frac{\sqrt{2}}{4} - \cos x \text{ و } g(x) = \sin x$$

نقاط $x = 2k\pi - \frac{\pi}{4}$ ($k \in Z$) نقاط بحرانی تابع g اند و $g'(2k\pi - \frac{\pi}{4}) = \frac{\sqrt{2}}{4}$

پس g در نقاط $2k\pi - \frac{\pi}{4}$ دارای مینیمم نسبی و در $2k\pi + \frac{\pi}{4}$ دارای

ماکسیمم نسبی است. g در R دارای ماکسیمم مطلق و مینیمم مطلق نیست. به شکل زیر توجه کنید.



مثال ۳۰: مشتق دوم همه‌ی تابع‌های زیر در نقطه‌ی $c = 0$ برابر صفر است.

الف) $f(x) = -x^4$

ب) $g(x) = x^2 + \cos^2 x$

ج) $h(x) = \tan^{-1} x$

در نقطه‌ی صفر f دارای ماکسیمم نسبی، g دارای مینیمم نسبی است و h نه ماکسیمم نسبی دارد و نه مینیمم نسبی (چرا؟)

مثال ۳۱: اگر ارتفاع یک موشک پرتاب شده با رابطه‌ی

$$s = f(t) = -t^3 + 96t^2 + 195t + 5 \quad t \geq 0$$

متر در ثانیه مشخص شود، حداکثر ارتفاع موشک چقدر است؟
می‌توان فرض کرد که دامنه‌ی تغییرات t بازه‌ی $[0, T]$ برای یک $T > 0$ است. برای یافتن ماکسیمم f ، داریم:

$$\begin{aligned} f'(t) &= -3t^2 + 192t + 195 \\ &= -3(t-65)(t+1) \end{aligned}$$

که ریشه‌های معادله‌ی $f'(t) = 0$ عبارتند از $t = -1$ (که در بازه‌ی موردنظر قرار ندارد) و $t = 65$. با محاسبه $f'(65) = -198$ به این نتیجه می‌رسیم که f در $t = 65$ ماکسیمم دارد و مقدار آن برابر 143655 متر است که 65 ثانیه پس از شلیک به دست می‌آید. (دقت کنید که f برای $t > 65$ نزولی است).

مثال ۳۲: برای ساختن یک انبار بدون سقف به شکل یک استوانه در زمینی مربع شکل به

ضلع ۶۰ متر، هزینه‌ی ساخت هر مترمربع کف برابر ۴۵ هزار تومان و هزینه‌ی ساخت هر مترمربع دیوار برابر ۱۳۵ هزار تومان است. می‌خواهیم این انبار حجمی برابر ۳۵۳۴×۱۱۲۵ مترمکعب داشته باشد، شعاع قاعده و ارتفاع این استوانه چقدر باشد تا کمترین هزینه‌ی ساخت را داشته باشیم؟ اگر r شعاع قاعده و h ارتفاع استوانه باشد، آنگاه سطح قاعده برابر πr^2 و سطح جانبی آن برابر $2\pi r h$ است. حجم این استوانه برابر است با

$$\pi r^2 h = 1125\pi$$

یا به عبارتی $h = \frac{1125}{r^2}$. از طرفی هزینه‌ی ساخت این انبار برابر است با

$$\begin{aligned} C(r) &= 45\pi r^2 + 135\left(2\pi r\left(\frac{1125}{r^2}\right)\right) \\ &= 45\pi r^2 + 30375 \cdot \frac{\pi}{r} \end{aligned}$$

هزار تومان. توجه کنید که در مثال ۵ نشان دادیم که این تابع به ازاء $r = 15$ مقدار مینیمم خود را که تقریباً برابر $95426 \times 30375\pi$ هزار تومان است خواهد داشت.

تمرین‌ها

۱- جدول رفتار توابع زیر و مختصات نقاط ماکسیمم و مینیمم نسبی آن‌ها را (در صورت وجود) تعیین کنید.

الف) $y = 2x^3 - 9x^2 + 12x + 1$ ب) $y = x^2(x+2)^3$

ج) $y = \frac{x}{2x-1}$ د) $y = x + \frac{1}{x}$

۲- ثابت کنید برای $0 < x < \pi$ ، $x - \frac{x^3}{6} < \sin x$.

۳- جدول رفتار توابع زیر و نقاط ماکسیمم و مینیمم نسبی آن‌ها را (در صورت وجود) تعیین کنید.

الف) $y = (x-1)x^{\frac{2}{3}}$ ب) $y = |x^2 - 2x|$

۴- جهت تغییرات و نقاط ماکسیمم و مینیمم نسبی توابع زیر را در یک دوره‌ی تناوب تعیین کنید.

الف) $y = 2 \sin x + \cos 2x$ ب) $y = \tan x + \cot x$

۵- هزینه متوسط روزانه‌ی یک کارخانه‌ی تولید کننده‌ی نوعی ماشین حساب برحسب

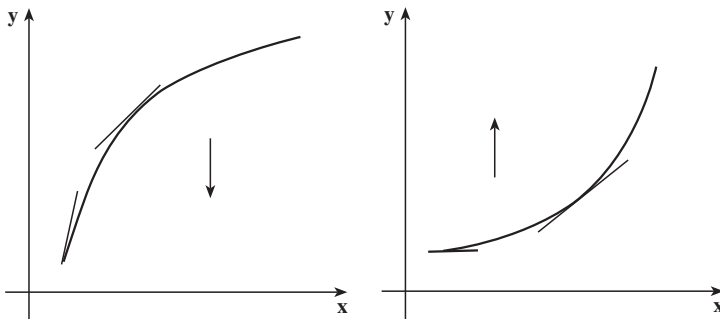
تومان، برابر است با:

$$A(x) = 0.0001x^2 - 0.08x + 40 + \frac{5000}{x} \quad x > 0$$

که در آن x تعداد ماشین حساب تولید شده در روز است. تحقیق کنید که اگر تولید روزانه ۵۰۰ عدد باشد، هزینه متوسط مینیمم می‌شود.

۵-۵- جهت تقعر، نقطه‌ی عطف

به شکل‌های زیر توجه کنید.



گرچه هر دو تابع روی بازه‌ی (a, b) صعودی‌اند ولی در یکی تقعر (خمیدگی یا گودی) نمودار رو به بالا و در دیگری رو به پایین است.

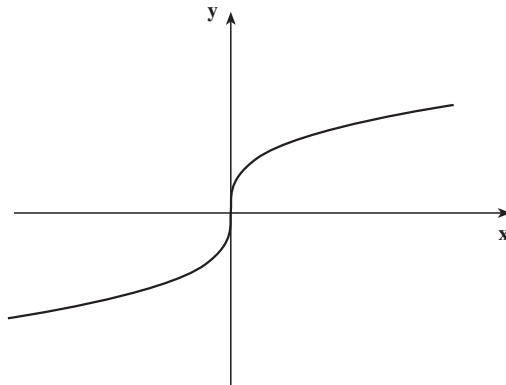
تعریف: اگر f' روی بازه‌ی I صعودی اکید باشد، گویند جهت تقعر نمودار f روی I رو به بالاست و اگر f' روی بازه‌ی I نزولی اکید باشد، گویند جهت تقعر نمودار f روی I رو به پایین است.

نکته: می‌توان نشان داد که روی بازه‌ی I ، جهت تقعر نمودار رو به بالاست اگر و تنها اگر خطوط مماس بر نمودار در زیر آن واقع شوند. همچنین روی بازه‌ی I جهت تقعر نمودار رو به پایین است اگر و تنها اگر خطوط مماس بر نمودار بالای نمودار واقع شوند.

مثال ۳۳: الف) در نمودار تابع $f(x) = x^3$ جهت تقعر روی بازه‌ی $(0, \infty)$ رو به بالاست زیرا در این بازه $f'(x) = 3x^2$ صعودی است و نیز جهت تقعر روی بازه‌ی $(-\infty, 0)$ رو به پایین است زیرا در این بازه نزولی است.

در قضیه‌ی زیر صعودی و نزولی بودن f' با کمک مشتق آن شناسایی شده است.
 قضیه‌ی ۱۰ (الف): اگر f' روی بازه‌ی I موجود و همواره مثبت باشد، آن‌گاه جهت تقعر نمودار f روی این بازه رو به بالاست.
 (ب) اگر f' روی بازه‌ی I موجود و همواره منفی باشد، آن‌گاه جهت تقعر نمودار f روی این بازه رو به پایین است.

مثال ۳۴: برای تابع $h(x) = x^{\frac{1}{3}}$ ، اگر $x \neq 0$ ، $h'(x) = \frac{1}{3}x^{-\frac{2}{3}}$ و $h'(x) = -\frac{2}{9}x^{-\frac{5}{3}}$ و چون h' روی بازه‌ی $(0, \infty)$ مثبت است، جهت تقعر نمودار در این بازه رو به بالاست و چون روی بازه‌ی $(-\infty, 0)$ منفی است جهت تقعر نمودار در این بازه رو به پایین است.



توجه کنید که h' در 0 تعریف نشده است.
 تعریف: اگر جهت تقعر نمودار f در c ، تغییر کند و نمودار f در $(c, f(c))$ مماس داشته باشد، آن‌گاه $(c, f(c))$ را نقطه‌ی عطف نمودار f می‌نامند.
 گاهی به جای این که بگوییم $(c, f(c))$ نقطه‌ی عطف نمودار f است به طور خلاصه می‌گوییم c نقطه‌ی عطف f است.

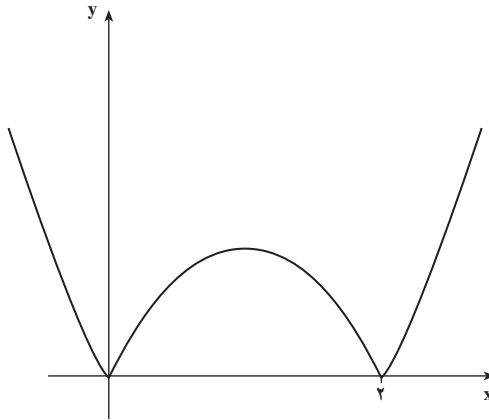
مثال ۳۵: جهت تقعر تابع $f(x) = \tan x$ روی بازه‌ی $(0, \frac{\pi}{2})$ رو به بالا و روی بازه‌ی $(\frac{\pi}{2}, \pi)$ رو به پایین است ولی نمی‌توان گفت که در $\frac{\pi}{2}$ نقطه‌ی عطف دارد زیرا پیوسته نیست که خط مماس داشته باشد.

نکته: برای یافتن نقاط عطف نمودار تابع کافی است نقاطی که f' در آن‌ها وجود ندارد یا برابر صفر است را تعیین و علامت f' را قبل و بعد از این نقاط و نیز وجود خط مماس را در این نقاط

بررسی کرد.

مثال ۳۶: برای تابع پیوسته $g(x) = |x^2 - 2x|$ ، می‌توان نشان داد که جهت تقعر نمودار

روی بازه‌های $(-\infty, 0)$ و $(2, \infty)$ رو به بالا و روی بازه‌ی $(0, 2)$ رو به پایین است. گرچه در نقاط $x=2$ و $x=0$ جهت تقعر نمودار تغییر یافته ولی به دلیل عدم وجود خط مماس، این نقاط، نقاط عطف نیستند.



مثال ۳۷: برای تابع $h(x) = x^{\frac{4}{3}}$ ، $h'(x) = \frac{4}{3}x^{\frac{1}{3}}$ و برای $x \neq 0$ ، $h'(x) = \frac{4}{9}x^{-\frac{2}{3}}$ و

چون h' در 0 وجود ندارد، علامت h' را قبل و بعد از آن بررسی می‌کنیم که هر دو مثبت‌اند، پس نقطه‌ی عطف h نیست.

۵-۶- رسم نمودار

با کمک اطلاعاتی که از تابع f و مشتق‌های اول و دوم آن به دست می‌آید، می‌توان نمودار تابع

را با دقت نسبتاً خوبی رسم کرد، این اطلاعات عبارتند از:

- دامنه‌ی تعریف f
- محل تلاقی نمودار و محورهای مختصات
- اینکه آیا f زوج است یا فرد یا هیچکدام؟
- دوره‌ی تناوب f در صورت تناوب بودن.
- بازه‌هایی که f در آن‌ها صعودی یا نزولی است.
- مقادیر اکسترم‌های نسبی در صورت وجود.

- جهت تقعر نمودار f در بازه‌های مختلف.
 - نقاط عطف نمودار f در صورت وجود.
 - رفتار تابع f برای مقادیر بسیار بزرگ و کوچک x در صورت نیاز.
 - مجانب‌های افقی، عمودی و مایل در صورت وجود.
- البته توجه داشته باشید که ممکن است تعیین برخی از موارد فوق به سادگی امکان‌پذیر نباشد.

در سال‌های قبل مثال‌های متعددی از رسم نمودار توابع مختلف دیده‌اید، در این‌جا فقط جهت یادآوری چند مثال را ارائه می‌دهیم.

مثال ۳۸: نمودار تابع $f(x) = x^4 - 2x^3$ را رسم می‌کنیم.

دامنه تابع \mathbb{R} ، محل تلاقی نمودار f با محور y در مبدأ و با محور x به جز مبدأ در $x = 2$ است.

$$f'(x) = 4x^3 - 6x^2 = 2x^2(2x - 3)$$

پس برای $x < \frac{3}{2}$ تابع نزولی و برای $x > \frac{3}{2}$ تابع صعودی است و نقطه‌ی $x = \frac{3}{2}$ نقطه‌ی

مینیمم نسبی و مطلق f است (چرا؟) و

$$f''(x) = 12x^2 - 12x = 12x(x - 1)$$

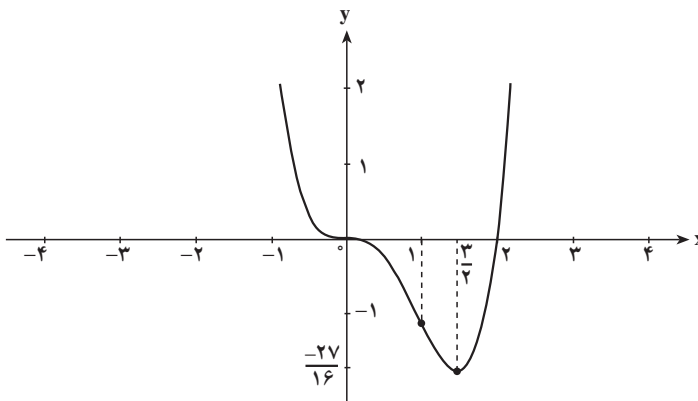
پس $f''(0) = f''(1) = 0$ و برای $x < 0$ ، همچنین برای $x > 1$ ، $f'' > 0$ است پس تقعر نمودار

رو به بالاست و برای $0 < x < 1$ ، $f'' < 0$ ، پس تقعر نمودار رو به پایین است. لذا نقاط 0 و 1 نقاط

عطف نمودار هستند همچنین

$$\lim_{x \rightarrow \pm\infty} f(x) = \lim_{x \rightarrow \pm\infty} f(x) = \pm\infty$$

تابع هیچ‌گونه مجانبی هم ندارد. نمودار f را در شکل زیر مشاهده می‌کنید.



مثال ۳۹: نمودار تابع $h(x) = \frac{x}{1+x^2}$ را رسم می‌کنیم.

دامنه‌ی تابع، R و محل تلاقی نمودار با محورها در مبدأ است و تابع نسبت به مبدأ مختصات متقارن است چون $h(-x) = -h(x)$ ، لذا کافی است رفتار h را در $[0, \infty)$ بررسی و سپس نمودار آن را کامل کنیم. داریم:

$$h'(x) = \frac{1-x^2}{(1+x^2)^2}$$

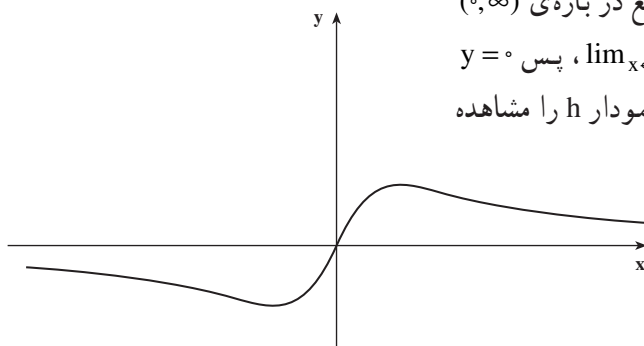
بنابراین نقطه‌ی 1 ، نقطه‌ی بحرانی h است و چون h' روی بازه‌ی $(1, \infty)$ منفی است h در این بازه نزولی و روی بازه‌ی $(0, 1)$ صعودی است. پس h در $x=1$ دارای ماکسیمم نسبی است. همچنین

$$h''(x) = \frac{2x(x^2-3)}{(1+x^2)^3}$$

پس نقاطی که نمودار h می‌تواند در آن‌ها نقطه‌ی عطف داشته باشد عبارتند از نقاط $x=0$ و $x = \pm\sqrt{3}$ که تنها $\sqrt{3}$ در بازه‌ی $(0, \infty)$ قرار دارد. علامت h'' را می‌توان در جدول زیر به همراه سایر اطلاعات فوق مشاهده کرد.

x	0	1	$\sqrt{3}$	3		
h'		$+$	0	$-$	$-$	
h''	0	$-$	$-$	0	$+$	
h	0	\nearrow	$\frac{1}{2}$	\searrow	$\frac{\sqrt{3}}{4}$	\searrow

نقطه‌ی $\sqrt{3}$ نقطه‌ی عطف تابع در بازه‌ی $(0, \infty)$ است. همچنین $\lim_{x \rightarrow \infty} h(x) = 0$ پس $y=0$ مجانب افقی نمودار h است. نمودار h را مشاهده می‌کنید.



توجه کنید که نقاط $-\sqrt{3}$ ، $\sqrt{3}$ و 0 نقاط عطف و نقطه‌ی ۱ نقطه‌ی ماکسیمم مطلق و نقطه‌ی ۱ - نقطه‌ی مینیمم مطلق h هستند. (چرا؟)

مثال ۴: نمودار تابع $k(x) = 1 + \frac{1}{x^2 - 2x}$ را رسم می‌کنیم.

دامنه‌ی این تابع $\mathbb{R} = -\{0, 2\}$ است و محل تلاقی نمودار با محور x ، در نقطه‌ای به طول ۱ است. داریم:

$$k'(x) = \frac{2-2x}{(x^2-2x)^2}$$

و $k'(x) = 0$ نتیجه می‌دهد $x = 1$ ، پس نقطه‌ی ۱ نقطه‌ی بحرانی k است. همچنین

$$k''(x) = \frac{2(3x^2 - 6x + 4)}{(x^2 - 2x)^3}$$

و $k''(x) \neq 0$. بخشی از جدول رفتار تابع k را مشاهده می‌کنید:

x	-۱	۰	۱	۲	۳
k'	+	+	۰	-	-
k''	+	-	-	+	
k	$\frac{2}{3}$ ↗	↗	۰ ↘	↘	$\frac{4}{3}$

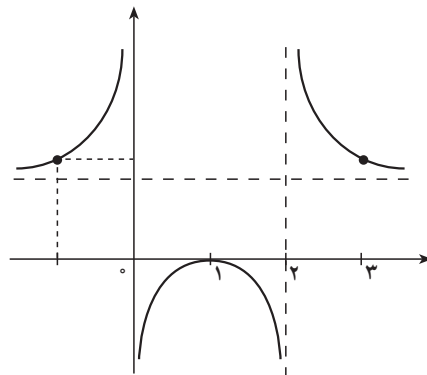
$$\lim_{x \rightarrow 0} k(x) = \lim_{x \rightarrow 2} k(x) = 1$$

و نیز

پس خط $y = 1$ مجانب افقی نمودار k است و چون

$$\lim_{x \rightarrow 0^-} k(x) = \lim_{x \rightarrow 2^+} k(x) = +\infty$$

$$\lim_{x \rightarrow 0^+} k(x) = \lim_{x \rightarrow 2^-} k(x) = -\infty$$



توجه کنید که k در $x = 1$ دارای ماکسیمم نسبی است.

مثال ۴۱: نمودار تابع $f(x) = \frac{x^2 - 1}{x^3}$ را رسم می‌کنیم.

دامنه تابع $\mathbb{R} - \{0\}$ و نمودار آن محور x را در $x = 1$ و $x = -1$ قطع می‌کند. چون

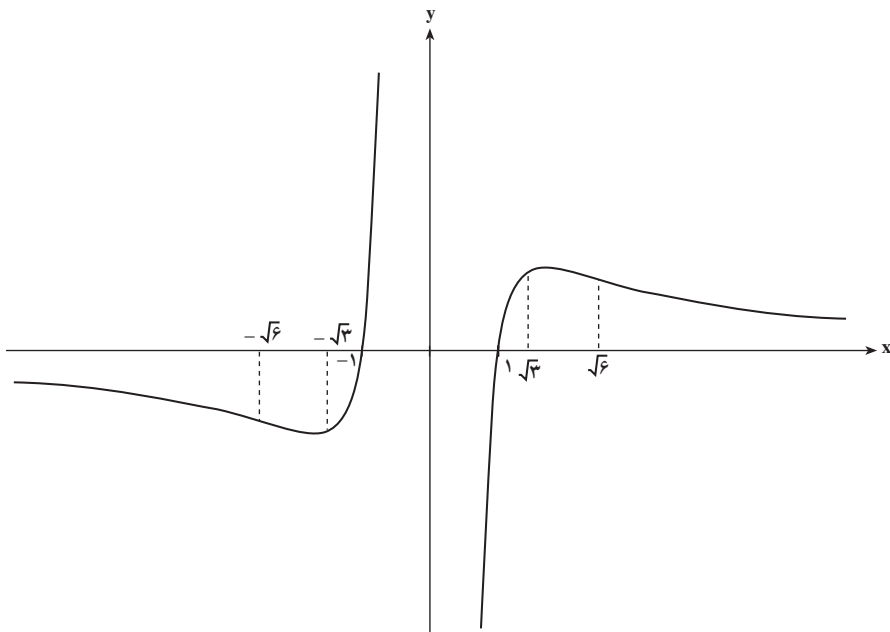
$$\lim_{x \rightarrow 0^+} f(x) = \infty \quad \text{یا} \quad \lim_{x \rightarrow 0^-} f(x) = -\infty, \quad \text{خط} \quad y = 0 \quad \text{مجانب افقی} \quad f \quad \text{است و چون} \quad \lim_{x \rightarrow 0^+} f(x) = \infty$$

دارای $f'(x) = \frac{-x^4 + 3x^2}{x^6}$ ، مشتق تابع، خط $x = 0$ مجانب قائم است. مشتق تابع، $f'(x) = \frac{-x^4 + 3x^2}{x^6}$ ،

ریشه‌های $\sqrt{3}$ و $-\sqrt{3}$ است و مشتق دوم تابع، $f''(x) = \frac{2x^2 - 12}{x^5}$ ، که ریشه‌های $\sqrt{6}$ و $-\sqrt{6}$

دارد. جدول رفتار و نمودار این تابع عبارتند از: (دقت کنید f تابعی فرد و لذا نمودار آن نسبت به مبدأ مختصات قرینه است).

x	$-\sqrt{6}$	$-\sqrt{3}$	0	$\sqrt{3}$	$\sqrt{6}$
f'	$-$	0	$+$	$+$	0
f''	$-$	0	$+$	$-$	0
f	$\searrow \frac{-5\sqrt{6}}{36}$	$\searrow \frac{-2\sqrt{3}}{9}$	\nearrow	$\nearrow \frac{-2\sqrt{3}}{9}$	$\searrow \frac{5\sqrt{6}}{36}$



مثال ۴۲: نمودار تابع $f(x) = x + \sqrt{x^2 - 1}$ را رسم می‌کنیم:

دامنه f مجموعه $(-\infty, -1) \cup [1, \infty)$ است چون

$$\lim_{x \rightarrow \infty} (x + \sqrt{x^2 - 1}) = \lim_{x \rightarrow \infty} \frac{1}{x - \sqrt{x^2 - 1}} = 0$$

پس خط $y = 0$ مجانب افقی نمودار تابع f است. چون $\lim_{x \rightarrow \infty} f(x) = \infty$ ، بنابراین تابع می‌تواند

مجانب مایل داشته باشد،

$$a = \lim_{x \rightarrow \infty} \frac{f(x)}{x} = \lim_{x \rightarrow \infty} \frac{x + \sqrt{x^2 - 1}}{x} = 2$$

و

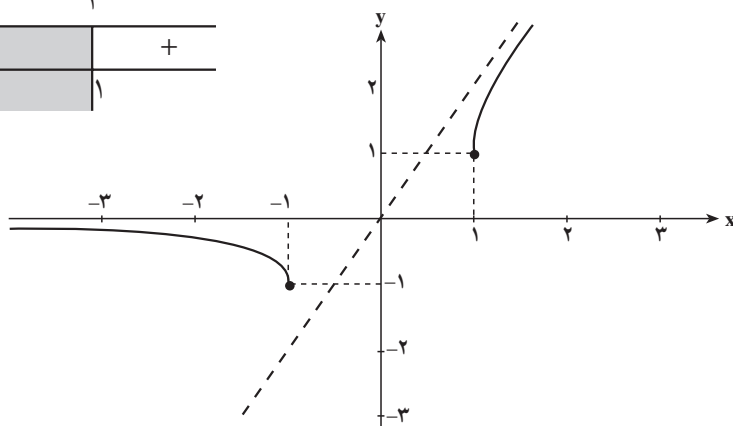
$$b = \lim_{x \rightarrow \infty} (f(x) - ax) = \lim_{x \rightarrow \infty} (\sqrt{x^2 - 1} - x) = 0$$

و در نتیجه خط $y = 2x$ مجانب مایل f است.

مشتق تابع، $f'(x) = 1 + \frac{x}{\sqrt{x^2 - 1}} = \frac{\sqrt{x^2 - 1} + x}{\sqrt{x^2 - 1}}$ ریشه دارند.

جدول رفتار و نمودار تابع عبارتند از:

x	-1	1
f'	$-$	$+$
f	-1	1



مثال ۴۳: نمودار تابع $g(x) = x - \cos x$ را رسم می‌کنیم.

دامنه‌ی این تابع \mathbb{R} است و نمودار، محور y را در نقطه‌ای به عرض -1 و محور x را در

نقطه‌ای به طول c ، $0 < c < \frac{\pi}{4}$ قطع می‌کند. (چرا؟). چون

$$g'(x) = 1 + \sin x$$

و برای $x \in \mathbb{R}$ ، $g' \geq 0$ ، g تابعی صعودی است و نقطه‌ی c تنها محل تلاقی نمودار با محور x است.

همچنین $x = 2k\pi - \frac{3\pi}{4}$ ، $(k \in \mathbb{Z})$ نقاط بحرانی g اند ولی هیچیک اکسترم نیستند. همچنین

$g'(x) = \cos x$. و g' روی بازه‌های $(2k\pi - \frac{\pi}{4}, 2k\pi + \frac{\pi}{4})$ مثبت و تقعر نمودار رو به بالاست

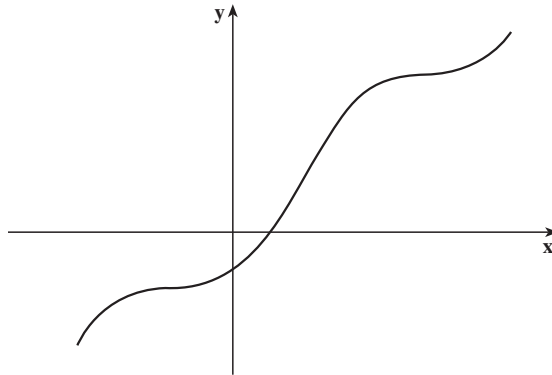
و g' روی بازه‌های $(2k\pi + \frac{\pi}{4}, 2k\pi + \frac{3\pi}{4})$ منفی و تقعر نمودار رو به پایین است. و در نتیجه برای

هر نقطه‌ی $k\pi - \frac{\pi}{4}$ ، $k \in \mathbb{Z}$ ، نقطه‌ی عطف نمودار است. (چرا؟) همچنین $\lim_{x \rightarrow \pm\infty} g(x) = \pm\infty$

و $\lim_{x \rightarrow \pm\infty} g(x) = \pm\infty$ دارای هیچ‌گونه مجانبی نیست. همچنین می‌توان دید که

$g(x + 2\pi) = g(x) + 2\pi$ ، پس کافی است مثلاً g را در بازه‌ی $[0, 2\pi]$ رسم کرده و سپس به \mathbb{R}

گسترش دهیم. نمودار g مطابق شکل است.



تمرین‌ها

۱- جهت تقعر در بازه‌های مختلف و نیز نقاط عطف توابع زیر را در صورت وجود تعیین

کنید.

$$f(x) = \frac{2(x+1)}{(x-2)^2} \quad (\text{ب})$$

$$f(x) = \frac{4}{x^2 + 3} \quad (\text{الف})$$

۲- a و b را چنان تعیین کنید که $A(1, 3)$ نقطه‌ی عطف نمودار تابع $f(x) = \frac{ax+b}{x^2+1}$ باشد.

۳- جدول رفتار و نمودار توابع زیر را رسم کنید.

$$f(x) = x^3 - 3x^2 \quad \text{الف)} \quad f(x) = \frac{x^2}{x^2 + 1} \quad \text{ب)}$$

$$f(x) = \frac{2x^2}{x^2 - 8x + 12} \quad \text{ج)}$$

۴- جدول رفتار و نمودار توابع زیر را در بازه‌ی $[0, 2\pi]$ رسم کنید.

$$f(x) = \sin x - \cos x \quad \text{الف)} \quad f(x) = \frac{1}{\sin x + \cos x} \quad \text{ب)}$$

۵- جدول رفتار و نمودار توابع زیر را رسم کنید.

$$f(x) = 2x\sqrt{4-x^2} \quad \text{الف)} \quad f(x) = \frac{x}{\sqrt{x^2+2}} \quad \text{ب)}$$

۶- نقاط عطف نمودار تابع $f(x) = x^2 + 2\sqrt{2}(\sin x + \cos x)$ را در بازه‌ی $[0, 2\pi]$ تعیین

کنید.

۵-۷- قاعده‌ی هوییتال

هنگام بیان قضیه‌های حدّ خارج قسمت دو تابع f و g حالتی که حد صورت و مخرج کسر $\frac{f}{g}$

هر دو صفر می‌شوند، مگر در حالت‌های خاصی نظیر $\frac{\sin x}{x}$ و $\frac{1 - \cos x}{x}$ ، مورد بررسی قرار نگرفتند.

در این قسمت به این حالت و سایر موارد مشابه می‌پردازیم. به قضیه‌ی زیر توجه کنید.

قضیه‌ی ۱۱: (قاعده‌ی هوییتال) اگر توابع f و g روی بازه‌ی $I = (a, b)$ مشتق‌پذیر و $g' \neq 0$ در

هر نقطه‌ی I مخالف صفر باشد، $\lim_{x \rightarrow a^+} f(x) = \lim_{x \rightarrow a^+} g(x) = 0$ ، $\lim_{x \rightarrow a^+} \frac{f'(x)}{g'(x)} = L$ ،

$$\lim_{x \rightarrow a^+} \frac{f(x)}{g(x)} = L \quad \text{آن‌گاه}$$

نکته‌ی ۱: این حالت را اصطلاحاً یک صورت مبهم می‌نامند و هدف از بیان قاعده‌ی هوییتال

یافتن مقدار واقعی $\lim_{x \rightarrow a^+} \frac{f(x)}{g(x)}$ با استفاده از $\frac{f'(x)}{g'(x)}$ است. یافتن مقدار واقعی صورت مبهم را

رفع ابهام می‌نامند.

۱- لوییتال، ریاضیدان، در فارسی به اشتباه هوییتال نوشته، تلفظ و رایج شده است.

نکته‌ی ۲: با انتخاب بازه‌ی مناسب I در قضیه‌ی ۱۱، $\lim_{x \rightarrow a^+}$ را می‌توان با هریک از $\lim_{x \rightarrow a^-}$ ، $\lim_{x \rightarrow a}$ ، $\lim_{x \rightarrow \infty}$ و یا $\lim_{x \rightarrow -\infty}$ جایگزین کرد.

مثال ۴۴: محاسبه‌ی مقدار $\lim_{x \rightarrow 0^+} \frac{\sin x}{\sqrt{x}}$ مورد نظر است.

مشاهده می‌کنیم $\lim_{x \rightarrow 0^+} \sqrt{x} = \lim_{x \rightarrow 0^+} \sin x = 0$. شرایط قضیه برقرار است و چون داریم:

$$\lim_{x \rightarrow 0^+} \frac{\cos x}{2\sqrt{x}} = \lim_{x \rightarrow 0^+} 2\sqrt{x} \cos x = 0 \quad \text{پس} \quad \lim_{x \rightarrow 0^+} \frac{\sin x}{\sqrt{x}} = 0$$

مثال ۴۵: مقدار $\lim_{x \rightarrow \frac{\pi}{4}} \frac{\sqrt{2} \cos x - 1}{1 - \tan^2 x}$ را نیز به دلیل برقراری شرایط قضیه می‌توان با

قاعده‌ی هوییتال حساب کرد:

$$\lim_{x \rightarrow \frac{\pi}{4}} \frac{-\sqrt{2} \sin x}{-2 \tan x (1 + \tan^2 x)} = \frac{1}{4}$$

پس مقدار حد مورد نظر نیز برابر $\frac{1}{4}$ است.

مثال ۴۶: اگر برای یافتن مقدار $\lim_{x \rightarrow 0} \frac{\tan x}{1+x}$ از قاعده‌ی هوییتال استفاده کنیم، خواهیم

داشت:

$$\lim_{x \rightarrow 0} \frac{1 + \tan^2 x}{1} = 1$$

درحالی که با استفاده از این نکته که کسر مورد مطالعه در همسایگی صفر تابعی پیوسته است،

$$\lim_{x \rightarrow 0} \frac{\tan x}{1+x} = 0 \quad \text{علت نتیجه‌گیری نادرست از قاعده‌ی هوییتال را توضیح دهید.}$$

مثال ۴۷: مقدار $\lim_{x \rightarrow \infty} \frac{x^{-\frac{4}{3}}}{\sin \frac{1}{x}}$ را حساب می‌کنیم.

$$\lim_{x \rightarrow \infty} x^{-\frac{4}{3}} = \lim_{x \rightarrow \infty} \sin\left(\frac{1}{x}\right) = 0$$

۱- در این حالت همسایگی محذوف a در نظر گرفته می‌شود.

$$\lim_{x \rightarrow 0} \frac{-\frac{4}{3}x^{-\frac{1}{3}}}{\left(-\frac{1}{x^2}\right)\cos\frac{1}{x}} = \lim_{x \rightarrow 0} \frac{\frac{4}{3}x^{-\frac{1}{3}}}{\cos\frac{1}{x}} = 0$$

نکته ۳: اگر در قاعده‌ی هوییتال $\lim_{x \rightarrow a^+} \frac{f'(x)}{g'(x)} = L$ باشد باز هم می‌توان نتیجه

گرفت که

$$\lim_{x \rightarrow a^+} \frac{f(x)}{g(x)} = L$$

مثال ۴۸: مقادیر $\lim_{x \rightarrow 0^+} \frac{\tan x}{x^2}$ و $\lim_{x \rightarrow 0^-} \frac{\tan x}{x^2}$ را حساب می‌کنیم.

مشاهده می‌شود که $\lim_{x \rightarrow 0} \tan x = \lim_{x \rightarrow 0} x^2 = 0$ و چون

$$\lim_{x \rightarrow 0^-} \frac{1 + \tan^2 x}{2x} = \infty \quad \text{و} \quad \lim_{x \rightarrow 0^+} \frac{1 + \tan^2 x}{2x} = \infty$$

$$\lim_{x \rightarrow 0^-} \frac{\tan x}{x^2} = \infty \quad \text{و} \quad \lim_{x \rightarrow 0^+} \frac{\tan x}{x^2} = \infty \quad \text{پس}$$

نکته ۴: ممکن است لازم باشد که بیش از یک بار از قاعده‌ی هوییتال استفاده شود، به مثال

زیر توجه کنید.

مثال ۴۹: مقدار $\lim_{x \rightarrow 0} \frac{\cos x^2 - 1}{x^4}$ را حساب می‌کنیم.

مشاهده می‌شود

$$\lim_{x \rightarrow 0} (\cos x^2 - 1) = \lim_{x \rightarrow 0} x^4 = 0$$

$$\lim_{x \rightarrow 0} \frac{-2x \sin x^2}{4x^3} = \lim_{x \rightarrow 0} -\frac{1}{2} \frac{\sin x^2}{x^2}$$

و

می‌توان مجدداً از قاعده‌ی هوییتال استفاده کرد:

$$-\frac{1}{2} \lim_{x \rightarrow 0} \frac{2x \cos x^2}{2x} = -\frac{1}{2} \lim_{x \rightarrow 0} \cos x^2 = -\frac{1}{2}$$

پس مقدار حد موردنظر $-\frac{1}{2}$ است.

صورت‌های مبهم دیگر

هنگام محاسبه‌ی حد خارج قسمت دو تابع، $\frac{f}{g}$ ، ممکن است دو تابع به ∞ یا ∞ میل کنند. این هم یکی از صور مبهم است. در این جا نیز می‌توان با بیان قضیه‌ای مشابه قضیه‌ی ۱۱، از این حالت نیز رفع ابهام کرد. هم‌چنین ممکن است هنگام محاسبه‌ی حد fg ، حاصل ضرب دو تابع f و g یکی بی‌کران شود و دیگری به صفر میل کند که این هم یکی دیگر از صور مبهم است و می‌توان آن را به صورتی نوشت که به یکی از دو حالت قبلی تبدیل شود. به مثال‌های زیر توجه کنید:

مثال ۵۰: مقدار

$$\lim_{x \rightarrow \infty} \frac{x + \sqrt{x}}{2x + 1}$$

در این جا $\lim_{x \rightarrow \infty} (2x + 1) = \infty$ و $\lim_{x \rightarrow \infty} (x + \sqrt{x}) = \infty$ پس می‌توان نوشت:

$$\lim_{x \rightarrow \infty} \frac{1 + \frac{1}{2\sqrt{x}}}{2} = \frac{1}{2}$$

یعنی حد عبارت موردنظر برابر $\frac{1}{2}$ است.

مثال ۵۱: مقدار $\lim_{x \rightarrow \infty} x \sin \frac{1}{x}$ را محاسبه می‌کنیم. در این جا $\lim_{x \rightarrow \infty} x = \infty$ و

$$\lim_{x \rightarrow \infty} \sin \frac{1}{x} = 0 \text{ است. پس}$$

$$\lim_{x \rightarrow \infty} x \sin \frac{1}{x} = \lim_{x \rightarrow \infty} \frac{\sin \frac{1}{x}}{\frac{1}{x}}$$

$$\lim_{x \rightarrow \infty} \frac{-\frac{1}{x^2} \cos \frac{1}{x}}{-\frac{1}{x^2}} = \lim_{x \rightarrow \infty} \cos \frac{1}{x} = 1$$

و چون

حد عبارت موردنظر برابر ۱ است.

بالاخره ممکن است هنگام محاسبه حد، f و g هر دو به ∞ میل کنند. $f - g$ صورت مبهم دیگری است که با تبدیل آن به صور قبلی می‌توان آن را رفع ابهام کرد. به مثال زیر توجه کنید:

مثال ۵۲: برای محاسبه‌ی $\lim_{x \rightarrow 0^-} \left(\frac{1}{x} - \frac{1}{\cos x - 1} \right)$ داریم:

$$\lim_{x \rightarrow 0^-} \left(\frac{1}{x} - \frac{1}{\cos x - 1} \right) = \lim_{x \rightarrow 0^-} \frac{\cos x - 1 - x}{x(\cos x - 1)}$$

و با استفاده از قاعده‌ی هوییتال

$$\lim_{x \rightarrow 0^-} \frac{-\sin x - 1}{\cos x - 1 - x \sin x} = \infty$$

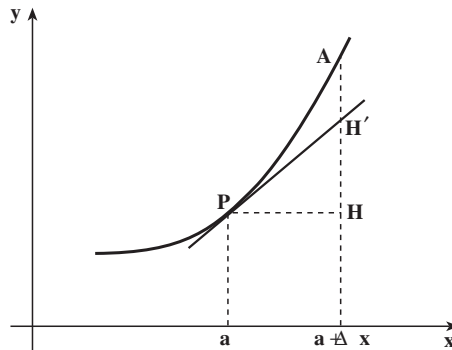
۵-۸- دیفرانسیل، خطی‌سازی و خطا

در بحث آهنگ تغییر دیدیم، اگر تابع $y = f(x)$ در نقطه‌ی a مشتق‌پذیر باشد.

$$\Delta y = f(a + \Delta x) - f(a) \approx f'(a) \Delta x$$

مقدار تقریبی برای تغییرات تابع f به ازای افزایش یک واحد در متغیر x بود. لازم نیست از این فکر تقریبی تنها هنگامی که در متغیر چنین افزایشی روی می‌دهد استفاده کرد و می‌توان آن را برای تغییر به میزان Δx نیز بیان کرد. یعنی برای Δx کوچک $\frac{\Delta y}{\Delta x}$ را تقریبی از $f'(a)$ و یا $f'(a) \Delta x$ را تقریبی

از Δy در نظر گرفت. به شکل زیر توجه کنید.



$$|AH| = \Delta y = f(a + \Delta x) - f(a)$$

و نقطه‌ی H' نقطه‌ای به طول $a + \Delta x$ روی خط مماس بر نمودار f در $P(a, f(a))$ است (معادله این خط $y = f(a) + f'(a)(x - a)$ است) و

$$|HH'| = f'(a) \Delta x$$

که تقریباً برابر $|AH|$ است. مقدار $f'(a) \Delta x$ را دیفرانسیل تابع f در نقطه‌ی a و عمل جایگزینی خط مماس به جای f را اصطلاحاً خطی‌سازی و فاصله بین Δy و $f'(a) \Delta x$ ، یعنی $|AH'|$ را خطای خطی‌سازی می‌نامند. با کوچک کردن Δx مقدار این خطا کاهش می‌یابد. در حالت کلی داریم:

تعریف: اگر $y = f(x)$ در نقطه‌ی x مشتق‌پذیر باشد، آن‌گاه $f'(x) \Delta x$ را دیفرانسیل f نامیده‌اند

را با df (یا dy) نشان می دهند.

$$df = f'(x)\Delta x$$

نکته: برای یک تابع داده شده f ، مقدار df به هر دو کمیت x و Δx بستگی دارد. برای

نمونه،

$$d(x^2) = 2x\Delta x$$

$$d(x) = 1 \Delta x = \Delta x$$

و به همین دلیل می توان نوشت

$$df = f'(x)dx$$

و یا

$$\frac{dy}{dx} = f'(x)$$

مثال ۵۳: تابع $y = f(x) = x^2 + 2x + 3$ را در نقطه $x = 1$ در نظر می گیریم. چون

$$f'(1) = 4$$

$$dy = df = 4dx$$

حال برای $dx = 0.1$ ، $dy = 0.4$ و

$$\Delta y = ((1/1)^2 + 2(1/1) + 3) - (6) = 0.41$$

برای $dx = 0.1$ خطا برابر است با $|0.41 - 0.4| = 0.01$ و برای $dx = -0.1$

$$dy = -0.4$$

$$\Delta y = ((0.9/0.9)^2 + 2(0.9/0.9) + 3) - 6 = -0.399$$

و برای $dx = -0.1$ خطا برابر است با

$$|\Delta y - dy| = |-0.399 - (-0.4)| = 0.001$$

همان طور که مشاهده می کنید هرچه $|dx|$ کوچک تر شود، خطای خطی سازی کمتر می شود یا

به عبارتی dy تقریب بهتری از Δy می شود. هم چنین خط جایگزین تابع در اطراف نقطه $x = 1$ ، برابر

$$y = 6 + 4(x-1) = 4x + 2 \text{ است.}$$

مثال ۵۴: می خواهیم مقدار تقریبی $\sqrt[3]{26}$ را محاسبه کنیم. تابع $y = f(x) = \sqrt[3]{x}$ را در نظر

می گیریم دیفرانسیل را در نقطه $x = 27$ و برای $dx = -1$ حساب می کنیم. چون

داریم $f'(27) = \frac{1}{27} \approx 0/037$ و مقدار Δy در این نقطه عبارت است از :

$$\Delta y = f(26) - f(27) = \sqrt[3]{26} - \sqrt[3]{27} = \sqrt[3]{26} - 3$$

که از تقریب $\Delta y \approx dy$ نتیجه می‌شود

$$\sqrt[3]{26} = \sqrt[3]{27-1} \approx 3 - 0/037 = 2/963$$

نکته‌ی ۱: با توجه به این که $\frac{dy}{dx} = f'(x)$ ، یکی دیگر از نمادهایی است که برای مشتق

اول یک تابع به کار می‌رود. هم‌چنین مشتق مرتبه‌ی دوم y ، یعنی $\frac{d}{dx}(\frac{dy}{dx})$ را با نماد $\frac{d^2y}{dx^2}$ نمایش

می‌دهند.

نکته‌ی ۲: به دلیل همین ارتباط نزدیک بین مشتق و دیفرانسیل می‌توان نتایج زیر را بیان کرد :

هرگاه f و g توابع مشتق‌پذیری در نقطه‌ی x باشند و c عددی ثابت باشد، آن‌گاه

$$d(c) = 0$$

$$d(x^n) = nx^{n-1}dx$$

$$d(f + g) = df + dg$$

$$d(cf) = cdf$$

$$d(fg) = gdf + fdg$$

$$d\left(\frac{f}{g}\right) = \frac{1}{g^2}(gdf - fdg) \quad g(x) \neq 0$$

$$d(f^n) = nf^{n-1}df$$

نکته‌ی ۳: اگر تابع g در نقطه‌ی x و تابع f در نقطه‌ی $g(x)$ مشتق‌پذیر باشند، آن‌گاه

$$df(g) = f'(g)dg$$

مثال ۵۵: دیفرانسیل چند تابع در زیر آمده است.

$$d(x^2 + 1) = 2x dx$$

$$d(\sin x) = \cos x dx$$

$$d(\text{Arc tan } x) = \frac{dx}{1+x^2}$$

$$d\left(\frac{\tan x}{x}\right) = \frac{x \sec^2 x - \tan x}{x^2} dx$$

$$d(\cos x^2) = -2x \sin x^2 dx$$

البته توجه دارید که دیفرانسیل تابع را روی بازه‌هایی در نظر می‌گیریم که تابع مشتق‌پذیر است.

مثال ۵۶: فرض کنید که می‌خواهیم مقدار تقریبی $\sin 1^\circ$ و $\sin 15^\circ$ را حساب کنیم.

می‌دانیم $\sin 0^\circ = 0$ و چون 1° درجه برابر با $\frac{\pi}{180} \approx 0.0175$ رادیان است، با استفاده از فرمول

دیفرانسیل برای $y = \sin x$ داریم:

$$dy = \cos x dx$$

و در نقطه‌ی 0° ، $dy = dx$. پس برای $dx \approx 0.0175$ ، $dy \approx 0.0175$ یعنی $\sin 1^\circ \approx 0.0175$

که این مقدار تا چهار رقم اعشار برابر مقدار واقعی است. اما برای محاسبه‌ی مقدار تقریبی $\sin 15^\circ$ ، داریم $dx \approx 15 \times 0.0175 \approx 0.2625$ و در نتیجه $\sin 15^\circ \approx 0.2625$ که با مقدار واقعی در حدود 0.2598 اختلاف دارد.

مثال ۵۷: بادکنک کروی شکل مملو از هوا که شعاع 20° سانتی‌متر (مثال ۳۳ فصل ۴) دارد

مفروض است، اگر 2° سانتی‌متر به شعاع آن افزوده شود، حجم آن چقدر زیاد خواهد شد؟

با توجه به مطالب بیان شده $dv = 4\pi r^2 dr$. به ازای $r = 20^\circ$ ، $dr = 2^\circ$ خواهیم داشت

$dv = 10005/3$ یعنی تقریباً حجم به میزان $10005/3$ سانتی‌متر مکعب افزوده می‌شود. اگر شعاع

بادکنک 2° سانتی‌متر کاهش یابد، حجم به میزان $10005/3$ سانتی‌متر مکعب کاهش می‌یابد.

تمرین‌ها

۱- حدهای زیر را با استفاده از قاعده‌ی هوییتال حساب کنید.

$$\lim_{x \rightarrow 3^+} \frac{\sin \frac{\pi x}{3}}{x^2 - 5x + 6} \quad (\text{ب})$$

$$\lim_{x \rightarrow 0} \frac{x - \sin x}{x^3} \quad (\text{الف})$$

$$\lim_{x \rightarrow 2} (x^2 - 4) \tan \frac{\pi x}{4} \quad (\text{ج})$$

۲- حدهای زیر را حساب کنید. آیا برای محاسبه‌ی آن‌ها می‌توان از قاعده‌ی هوییتال استفاده کرد؟

$$\lim_{x \rightarrow 0} \frac{x^2 \sin \frac{1}{x}}{\sin x} \quad \text{الف)} \quad \lim_{x \rightarrow 0} \frac{x + \sin x}{x} \quad \text{ب)}$$

۳- دیفرانسیل هریک از توابع زیر را در نقطه‌ی داده شده به دست آورید.

$$\text{الف)} \quad f(x) = -\frac{1}{4}x^2 + 3x - 1, \quad \text{در نقطه‌ی } x = 1$$

$$\text{ب)} \quad f(x) = x + \frac{2}{x}, \quad \text{در نقطه‌ی } x = -1$$

$$\text{ج)} \quad f(x) = 3x^{\frac{7}{3}} - 2x^{\frac{5}{2}}, \quad \text{در نقطه‌ی } x = a$$

۴- مقدار تقریبی اعداد زیر را به دست آورید.

$$\text{الف)} \quad \sqrt{10} \quad \text{ب)} \quad \sqrt{99/7} \quad \text{ج)} \quad \sqrt[4]{81/6} \quad \text{د)} \quad \sin 29^\circ$$

$$\text{۵- برای تابع } y = f(x) = \text{Arc tan } x$$

الف) دیفرانسیل f را در نقطه‌ی $x = 1$ بیابید.

ب) مقدار تقریبی افزایش f هنگامی که x از 1 به $1/0.3$ افزایش می‌یابد چقدر است؟

ج) با کمک ماشین حساب یا کامپیوتر مقدار دقیق‌تر افزایش f را هنگامی که x از 1 به $1/0.3$

افزایش می‌یابد پیدا کنید.

۶- حدهای زیر را با استفاده از قاعده هوییتال حساب کنید.

$$\lim_{x \rightarrow \frac{\pi}{4}} \cot 2x \tan \left(x + \frac{\pi}{4}\right) \quad \text{ب)} \quad \lim_{x \rightarrow \frac{\pi}{2}^-} \left(x \tan x - \frac{\pi}{2} \sec x\right) \quad \text{الف)}$$

$$\lim_{x \rightarrow \infty} (x + \sqrt{x^2 + 4x + 5}) \quad \text{د)} \quad \lim_{x \rightarrow 0} \left(\frac{1}{\sin^2 x} - \frac{1}{x^2}\right) \quad \text{ج)}$$

۷- در یک گلوله‌ی کروی شکل که شعاع آن $1/1$ سانتی متر است، اگر شعاع 0.005 سانتی متر

اضافه شود، حجم چقدر تغییر می‌کند؟

۸- اگر تابع تقاضا برای نوع خاصی از زنگ خطر توسط فرمول زیر محاسبه شود:

$$P = f(x) = \frac{30000}{0.02x^2 + 1}$$

که در آن x میزان تقاضا (برحسب واحد ۱۰۰۰ عدد) و P قیمت هر واحد (برحسب تومان) است. با استفاده از دیفرانسیل میزان تغییر قیمت هر واحد را هنگامی که تقاضا از ۵۰۰۰ به ۵۵۰۰ دستگاہ در ماه تغییر می‌یابد، به دست آورید.

۵-۹ حل معادله‌ی $f(x) = 0$

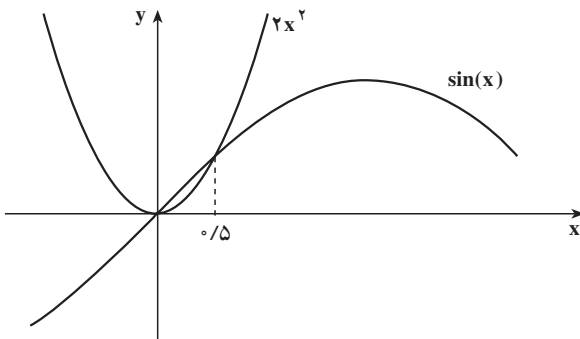
همان‌طور که می‌دانید حل بسیاری از مسایل منجر به حل یک معادله یعنی یافتن ریشه‌های آن می‌شود. حل یک معادله همواره کار ساده‌ای نیست و تنها می‌توان جواب دقیق را در حالت‌های خاصی به دست آورد. اما در اغلب موارد می‌توان مقدار تقریبی ریشه‌ها را پیدا کرد. مقدار تقریبی ریشه‌های یک معادله را چگونه می‌توان یافت؟ اگر نمودار تابع f را رسم کنیم، نقطه‌ی x محل تلاقی نمودار با محور x ریشه‌ی معادله‌ی $f(x) = 0$ است که مقدار تقریبی x را می‌توان اندازه گرفت. در برخی از موارد هم می‌توان نوشت:

$$f(x) = g(x) - h(x)$$

که در این صورت با رسم نمودارهای توابع g و h ، x که طول محل تلاقی نمودار آن‌ها است، مقدار تقریبی ریشه معادله‌ی $f(x) = 0$ را مشخص می‌کند.

مثال ۵۸: مقدار تقریبی ریشه‌های

معادله‌ی $f(x) = 2x^2 - \sin x = 0$ را می‌توان با رسم نمودارهای توابع $g(x) = 2x^2$ و $h(x) = \sin x$ در یک دستگاہ مختصات تعیین کرد.



از روی شکل (در صورتی که دقیق

رسم شده باشد) می‌توان نتیجه گرفت که مقدار تقریبی ریشه (طول تقریبی محل تلاقی دو نمودار) 0.5 است. مقادیر تابع f را در ابتدا و انتهای بازه‌ی $[0.4, 0.6]$ محاسبه می‌کنیم.

$$f(0.4) = -0.069$$

$$f(0.6) = 0.155$$

بنابراین تابع پیوسته‌ی f در این بازه تغییر علامت داده و بنا به قضیه‌ی مقدار میانی دارای یک ریشه در این بازه است.

ریشه‌های معادلات را با چندین روش می‌توان با دقت کافی به دست آورد. ما به روش‌های «نصف کردن» و «نیوتن» بسنده می‌کنیم.

روش نصف کردن

این روش را قبلاً هم (پس از بیان قضیه‌ی مقدار میانی) بدون آن که به نام آن اشاره کرده باشیم به کار برده‌ایم. در این روش فرض بر این است که تابع f در بازه‌ی $[a, b]$ پیوسته است و $f(a)f(b) < 0$.

این بازه را $[a_1, b_1]$ می‌نامیم و نقطه‌ی $c_1 = \frac{a_1 + b_1}{2}$ را در نظر می‌گیریم. اگر $f(c_1) = 0$ که c_1 ریشه

است. در غیر این صورت یا $f(a)f(c_1) < 0$ یا $f(c_1)f(b) < 0$ است. پس ریشه یا در بازه‌ی $[a_1, c_1]$ و یا در بازه‌ی $[c_1, b_1]$ قرار دارد، بازه‌ای را که ریشه در آن قرار دارد $[a_2, b_2]$ می‌نامیم.

توجه کنید که طول بازه‌ی $[a_2, b_2]$ نصف طول بازه‌ی $[a_1, b_1]$ است. مجدداً نقطه‌ی $c_2 = \frac{a_2 + b_2}{2}$

را یافته و اگر $f(c_2) \neq 0$ باشد، آن‌گاه ریشه در یکی از بازه‌های $[a_2, c_2]$ و یا $[c_2, b_2]$ قرار دارد، آن

را که شامل ریشه است $[a_3, b_3]$ می‌نامیم. طول این بازه $\frac{1}{4}$ طول بازه‌ی اولیه است. این کار را n بار

ادامه می‌دهیم و n را آن قدر بزرگ می‌گیریم تا طول بازه‌ی $[a_n, b_n]$ از هر مقدار که بخواهیم کوچک‌تر شود. در این صورت هر عددی در این بازه می‌تواند ریشه‌ی تقریبی با خطای کمتر از مقدار

دلخواه $\frac{b-a}{2^n}$ ، تلقی شود.

نکته ۱: دقت کنید که دنباله $\{a_n\}$ صعودی و کراندار و دنباله $\{b_n\}$ نزولی و کراندارند و حد

آن‌ها یکسان است، مقدار این حد همان ریشه معادله $f(x) = 0$ است.

نکته ۲: در بسیاری از محاسبات ارقام اعشاری به دست آمده بیش از مقدار موردنظر است.

معمولاً برای حذف این ارقام اضافی از روش گرد کردن استفاده می‌شود. به این ترتیب که اگر اولین

رقمی که حذف می‌شود، ۰ تا ۴ باشد در آخرین رقمی که باقی می‌ماند هیچ تغییری نمی‌دهیم و در

صورتی که اولین رقمی که حذف می‌شود، ۵ تا ۹ باشد به آخرین رقمی که باقی می‌ماند ۱ واحد اضافه

می‌کنیم.

مثال ۵۹: الف) اعداد $۳/۴۵۰۲۹۶$ و $۴/۲۸۷۱۴۸$ که به ترتیب تا سه رقم اعشار، چهار رقم اعشار و پنج رقم اعشار گرد شده‌اند را در زیر مشاهده می‌کنید.

$$۴/۲۸۷ \quad ۳/۴۵۰$$

$$۴/۲۸۷۱ \quad ۳/۴۵۰۳$$

$$۴/۲۸۷۱۵ \quad ۳/۴۵۰۳۰$$

ب) دو عدد $۲/۷۴۴$ و $۲/۷۳۵$ در صورتی که تا دو رقم اعشار گرد شوند، نتیجه‌ی یکسان $۲/۷۴$ را خواهند داد.

نکته‌ی ۳: در روش نصف کردن اگر هدف یافتن جواب با دقت k رقم اعشار باشد، هنگامی که گرد شده‌ی اعداد a_n و b_n در k رقم اعشار با یکدیگر برابر شدند محاسبات را متوقف نموده، و ریشه را برابر مقدار مشترک آن‌ها می‌گیریم.

مثال ۶۰: می‌خواهیم ریشه‌ی معادله‌ی $2x^2 - \sin x = 0$ را با دقت دو رقم اعشار حساب کنیم. جدول زیر نتایج محاسبه‌ها را در مراحل مختلف نشان می‌دهد.

توجه کنید که در مرحله‌ی ششم، a_6 و b_6 هر دو تا دو رقم اعشار برابر $۰/۴۸$ بوده و در نتیجه

n	a_n	b_n	$f(a_n)$	$f(b_n)$	c_n	$f(c_n)$
۱	$۰/۴$	$۰/۶$	$-۰/۰۶۹$	$۰/۱۵۵$	$۰/۵$	$۰/۰۲۱$
۲	$۰/۴$	$۰/۵$	$-۰/۰۶۹$	$۰/۰۲۱$	$۰/۴۵$	$-۰/۰۳۰$
۳	$۰/۴۵$	$۰/۵$	$-۰/۰۳۰$	$۰/۰۲۱$	$۰/۴۷۵$	$-۰/۰۰۶$
۴	$۰/۴۷۵$	$۰/۵$	$-۰/۰۰۶$	$۰/۰۲۱$	$۰/۴۸۸$	$۰/۰۰۶$
۵	$۰/۴۷۵$	$۰/۴۸۸$	$-۰/۰۰۶$	$۰/۰۰۶$	$۰/۴۸۲$	$۰/۰۰۰۱$
۶	$۰/۴۷۵$	$۰/۴۸۲$				

می‌گوییم مقدار ریشه با دقت ۲ رقم اعشار برابر $۰/۴۸$ است.

روش نیوتن

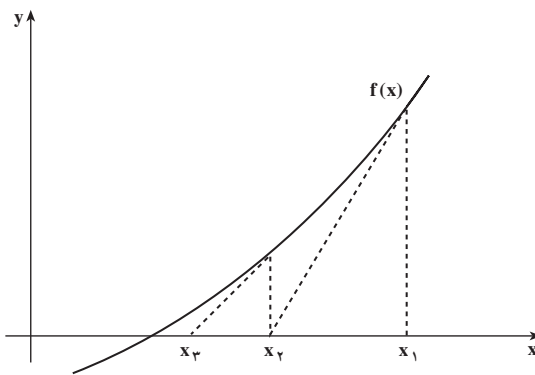
در این روش از خطی سازی استفاده می‌کنیم. اگر x_1 تقریبی از ریشه‌ی معادله‌ی $f(x) = 0$ باشد می‌توان خط مماس بر نمودار تابع f در نقطه‌ی $(x_1, f(x_1))$ را رسم کرد و محل تلاقی آن را با

$$y = f(x_1) + f'(x_1)(x - x_1) \quad \text{محور } x \text{ به دست آورد. معادله‌ی این خط}$$

است و نقطه‌ی تلاقی با محور x ، $x_2 = x_1 - \frac{f(x_1)}{f'(x_1)}$ است. (مشروط بر این که $f'(x_1)$ مخالف

صفر باشد.) توجه کنید که x_2 نیز تقریبی از ریشه‌ی معادله‌ی $f(x) = 0$ است. حال خط مماس بر نمودار f در نقطه‌ی $(x_2, f(x_2))$ را رسم کرده، نقطه‌ی تلاقی این خط با محور x را x_3 می‌نامیم، برای این کار کافی است در رابطه $x_2 = x_1 - \frac{f(x_1)}{f'(x_1)}$ به جای x_1 و x_2 به ترتیب x_2 و x_3 بگذاریم،

یعنی $x_3 = x_2 - \frac{f(x_2)}{f'(x_2)}$. این عمل را آن قدر ادامه می‌دهیم تا اختلاف دو تقریب متوالی از مقداری



خطای مورد قبول کمتر شود و یا به عبارتی دو تقریب متوالی با تعداد ارقام اعشاری مورد نیاز با هم برابر شوند. در شکل وضعیت نقاط و خطوط مماس را مشاهده می‌کنید:

در صورتی که نقطه‌ی x_1 نزدیک ریشه باشد می‌توان انتظار داشت که دنباله‌ی $\{x_n\}$ تولید شده با رابطه‌ی

$$x_{n+1} = x_n - \frac{f(x_n)}{f'(x_n)} \quad n = 1, 2, \dots$$

به ریشه‌ی تابع f همگرا باشد.

مثال ۶۱: برای یافتن ریشه‌ی معادله‌ی $2x^2 - \sin x = 0$ با روش نیوتن با تقریب اولیه‌ی

$x_1 = 0.5$ می‌توان چنین عمل کرد:

$$f(x) = 2x^2 - \sin x$$

$$f'(x) = 4x - \cos x$$

$$x_{n+1} = x_n - \frac{2x_n^2 - \sin x_n}{4x_n - \cos x_n}$$

و

و برای $x_1 = 0.5$ ، داریم

$$x_2 = 0.5 - \frac{2(0.5)^2 - \sin(0.5)}{4(0.5) - \cos(0.5)}$$

$$\approx 0.5 - \frac{0.5 - 0.4794}{2 - 0.8776} = 0.4816$$

و

$$x_3 = 0.4816 - \frac{2(0.4816)^2 - \sin(0.4816)}{4(0.4816) - \cos(0.4816)}$$

$$\approx 0.4809$$

بنابراین، مقدار ریشه با دقت ۲ رقم اعشار برابر 0.48 است. اگر دقت بیشتری مثلاً ۳ رقم مورد نیاز باشد می‌توان محاسبه را ادامه داد

$$x_4 = 0.4809 - \frac{2(0.4809)^2 - \sin(0.4809)}{4(0.4809) - \cos(0.4809)}$$

$$\approx 0.4809$$

پس جواب 0.481 است.

مثال ۶۲: ریشه‌ی معادله‌ی $f(x) = x^3 - 3x^2 + 27x - 2 = 0$ را به دست می‌آوریم (در مثال

۹ دیدیم که این معادله در بازه‌ی $[0, 1]$ تنها یک ریشه دارد) از روش نیوتن استفاده می‌کنیم.

$$x_{n+1} = x_n - \frac{x_n^3 - 3x_n^2 + 27x_n - 2}{3x_n^2 - 6x_n + 27}$$

با انتخاب $x_1 = 0$ ، می‌توان دنباله‌ی $\{x_n\}$ را به دست آورد. این مقادیر را در جدول زیر

مشاهده می‌کنید.

n	x_n	$f(x_n)$	$f'(x_n)$	$f(x_n)/f'(x_n)$
۱	۰	-۲	۲۷	-۰/۰۷۴۱
۲	۰/۰۷۴۱	-۰/۰۱۶۱	۲۶/۵۷۲۱	-۰/۰۰۰۶
۳	۰/۰۷۴۷	۰/۰۰۰۸	۲۶/۵۶۸۵	۰/۰۰۰۰
۴	۰/۰۷۴۷			

بنابراین مقدار ریشه برابر 0.747 و دقت آن تا ۴ رقم اعشار است.

مثال ۶۳: مقدار $\sqrt{3}$ را با استفاده از روش نیوتن می‌توان به طریق زیر حساب کرد. $\sqrt{3}$

ریشه‌ی مثبت معادله‌ی $f(x) = x^2 - 3 = 0$ است، که با روش نیوتن داریم:

$$x_{n+1} = x_n - \frac{x_n^2 - 3}{2x_n}$$

$$= \frac{1}{2} \left(x_n + \frac{3}{x_n} \right)$$

مثلاً محاسبه مقدار $\sqrt{3}$ را با دقت ۸ رقم اعشار با تقریب اولیه‌ی $x_1 = 2$ در جدول زیر

مشاهده می‌کنید.

n	x_n
۱	۲
۲	۱/۷۵
۳	۱/۷۳۲۱۴۲۸۶
۴	۱/۷۳۲۰۵۰۸۱
۵	۱/۷۳۲۰۵۰۸۱

و در حالت کلی برای حساب کردن مقدار \sqrt{a} ، برای $a > 0$ می‌دانیم \sqrt{a} ریشه‌ی مثبت معادله‌ی

$f(x) = x^2 - a = 0$ است که با روش نیوتن داریم

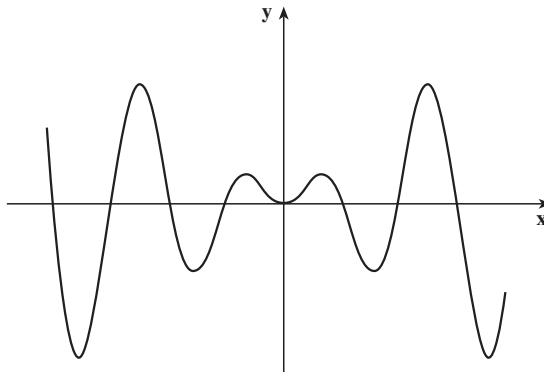
$$x_{n+1} = \frac{1}{2} \left(x_n + \frac{a}{x_n} \right)$$

نکته: در این روش معمولاً فرض می‌شود که تابع f در یک بازه‌ی شامل ریشه، پیوسته و مشتق

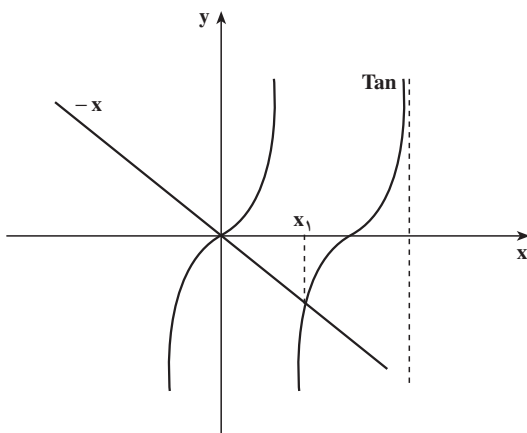
آن، f' نیز در آن بازه مخالف صفر است تا در یافتن مقادیر دنباله اشکالی ایجاد نگردد.

مثال ۶۴: می‌خواهیم نقاط اکسترمم نسبی تابع $f(x) = x \sin x$ را بیابیم، نمودار تقریبی این تابع

به صورت زیر است:



برای یافتن نقاط اکسترمم نسبی f ، ابتدا نقاط بحرانی آن را به دست می آوریم. به دلیل مشتق پذیری f روی R ، نقاط بحرانی تابع نقاطی اند که $f'(x) = 0$ ، یعنی ریشه های معادله $\sin x + x \cos x = 0$. محل تقریبی این ریشه ها را نیز می توان با رسم نمودار تابع $\tan x$ و $-x$ به دست آورد.



همان طور که مشاهده می کنید، معادله ی فوق تعداد بی شماری ریشه دارد که می توان با استفاده از روش نیوتن به محاسبه ی تقریبی آن ها پرداخت. برای نمونه اولین ریشه ی مثبت این معادله در نزدیکی نقطه ی $x_1 = \pi$ قرار دارد و داریم:

$$x_{n+1} = x_n - \frac{\sin x_n + x_n \cos x_n}{2 \cos x_n - x_n \sin x_n}$$

و دنباله ی حاصل برابر است با

n	x_n
۱	۳/۱۴۱۶
۲	۱/۵۷۰۸
۳	۲/۲۰۷۴
۴	۲/۰۳۶۰
۵	۲/۰۲۸۷
۶	۲/۰۲۸۷

پس اولین ریشه ی مثبت معادله، $۲/۰۲۹$ است و چون

$$f'(x) = 2 \cos x - x \sin x$$

$$f'(2/0.29) \approx 2/70.44$$

این نقطه، نقطه‌ی ماکسیمم نسبی f است.

تمرین‌ها

۱- با استفاده از روش نصف کردن، ریشه‌ی معادله‌ی $x^3 - 3x^2 + 27x - 2 = 0$ را که در بازه‌ی $[\frac{1}{2}, 1]$ قرار دارد با دقت دو رقم اعشار به دست آورید.

۲- معادله‌ی $x^3 - 3x^2 + 1 = 0$ دارای ریشه‌ای در بازه‌ی $[\frac{1}{2}, 1]$ است، این ریشه را با استفاده از روش نصف کردن تا دو رقم اعشار بیابید.

۳- با استفاده از روش نیوتن کوچک‌ترین ریشه‌ی مثبت $\tan x = x - 1$ را تا دو رقم اعشار بیابید.

۴- ابتدا نشان دهید که معادله $f(x) = 12x^3 + 4x^2 - 15x - 4 = 0$ دارای سه ریشه حقیقی است و سپس با استفاده از روش نیوتن مقدار این ریشه‌ها را تا دو رقم اعشار بیابید.

چه کسی حساب دیفرانسیل و انتگرال را ابداع کرد؟

گفته می‌شود که نیوتن و لایبنیتس مخترعین حساب دیفرانسیل و انتگرال بوده‌اند. اما براساس اطلاعات موجود در رابطه با مشتق و انتگرال و به‌طور خاص قضیه‌ی بنیادی حساب دیفرانسیل و انتگرال، این سؤال مطرح است که چرا این دو ریاضی‌دان بزرگ به عنوان بنیان‌گذاران این شاخه از دانش بشری مشهور شده‌اند، در حالی که خیلی قبل از آن‌ها، نحوه‌ی محاسبه‌ی مماس بر منحنی‌ها رایج بوده است. علاوه بر آن، با استفاده از مماس‌های افقی، روشی برای تعیین ماکسیمم و مینیمم منحنی‌ها وجود داشته است. وقتی سخن از مساحت به میان می‌آید، حتی ارشمیدس هم قادر بوده مساحت ناحیه‌هایی که با منحنی‌هایی خاص محصور می‌شده‌اند را حساب کند. مثلاً او برای محاسبه‌ی مساحت دایره، مساحت چندضلعی‌های منتظم محاط در دایره را به دست می‌آورده و برای دقت بیشتر تعداد اضلاع را بیشتر می‌کرده است.

به‌هرحال در اوایل قرن هفدهم، پیشکسوتان ریاضی روش‌های پیشرفته‌تری را برای اندازه‌گیری مساحت‌ها و محاسبه‌ی آن‌چه به انتگرال معروف است، در دست داشتند. حتی تاریخچه‌ی قضیه‌ی بنیادی حساب دیفرانسیل و انتگرال نیز به قبل از زمان لایبنیتس و نیوتن می‌رسد. بارو معلم نیوتن در کمبریج، بدون اطلاع از مفهوم دقیق مشتق و انتگرال، یک معادل هندسی قضیه‌ی بنیادی را بیان و اثبات کرده است.

آن‌چه که باعث شده این دو نفر را به عنوان پایه‌گذاران این علم بشناسند، درک آن‌ها از نیاز بشر به وجود یک روش سیستماتیک برای مشتق‌گیری و انتگرال‌گیری و نیز به‌کارگیری علامات رایج و بیان استدلال‌های منطقی به‌جای اثبات‌های شهودی است.

نیوتن و لایبنتس تشخیص دادند که به کمک قضیه‌ی اساسی حساب دیفرانسیل و انتگرال می‌توان انتگرال توابع مختلف را به‌دست آورد. علاوه بر آن، این دو دانشمند قوانینی را برای مشتق و انتگرال ترکیب توابع کشف کردند.

نیوتن در اواسط دهه‌ی ۱۶۶۰ به این افکار دسترسی یافت، در حالی که لایبنتس کار خود را از اوایل دهه‌ی ۱۶۷۰ آغاز کرد. اما لایبنتس آن‌ها را زودتر به چاپ رساند و علامت‌گذاری‌های او بسیار جالب‌تر از علامت‌گذاری‌های نیوتن بودند. این‌ها همان علائمی هستند که در حال حاضر هم به‌کار می‌روند.

در حالی که قصد بر این نیست که تأثیر عمیق کارهای نیوتن و لایبنتس کم‌جلوه کند، بلکه لازم به ذکر است که افکار آن‌ها تکیه‌ی زیادی بر کارهای قبلی دارد. در حقیقت آن‌ها پلی استوار بین ایده‌های قبلی و روش‌های مدرن در رابطه با این دانش را بنا نهاده‌اند.

انتگرال

۶-۱- مقدمه

در مبحث مشتق دیدیم که با استفاده از معادله‌ی مسیر حرکت روی یک خط می‌توان سرعت لحظه‌ای را پیدا کرد. حال اگر عکس مطلب موردنظر باشد، یعنی با داشتن سرعت لحظه‌ای بخواهیم مسافت طی شده تا لحظه‌ی t را محاسبه کنیم، چه عملی باید انجام دهیم؟
اگر سرعت ثابت و برابر v_0 باشد، واضح است که مسافت برابر سرعت ضربدر زمان است.

$$s(t) = v_0 \cdot t$$

حال به مثال زیر توجه کنید :

مثال ۱: اطلاعات زیر را در مورد حرکت یک شیء (که به تدریج سرعتش افزایش می‌یابد) در

لحظات مختلف داریم :

زمان (ثانیه)	۰	۱	۲	۳	۴	۵
سرعت (متر بر ثانیه)	۱۰	۱۵	۱۹	۲۲	۲۴	۲۵

نمی‌توانیم مقدار دقیق مسافت طی شده تا لحظه‌ی ۵ ثانیه را پیدا کنیم. ولی به‌طور تقریب

می‌توانیم چنین عمل کنیم :

با توجه به این که سرعت به‌طور مرتب افزایش یافته است، مسافت طی شده در اولین ثانیه

حداقل ۱۰ متر، در دومین ثانیه حداقل ۱۵ متر و ... به همین ترتیب در مجموع حداقل

$$۱۰ + ۱۵ + ۱۹ + ۲۲ + ۲۴ = ۹۰$$

متر و هم چنین حداکثر

$$\text{متر } 105 = 15 + 19 + 22 + 24 + 25$$

است. (یعنی $90 < s(5) < 105$).

اگر اطلاعات بیشتری داشته باشیم (یعنی فاصله‌های زمانی نقاط مجاور با سرعت‌های لحظه‌ای معلوم، کمتر باشد) و مثلاً جدول زیر را داشته باشیم،

زمان (ثانیه)	۰	۰/۵	۱	۱/۵	۲	۲/۵	۳	۳/۵	۴	۴/۵	۵
سرعت (متر بر ثانیه)	۱۰	۱۳	۱۵	۱۷/۵	۱۹	۲۱	۲۲	۲۳	۲۴	۲۴/۵	۲۵

آن‌گاه حد پایین و بالای تقریب برای $s(5)$ به ترتیب

$$\text{متر } 94/5 = 10 + 13 + \dots + 24/5$$

و

$$102 = 13 + 15 + \dots + 25$$

متر خواهد شد. پس $94/5 < s(5) < 102$ به همین ترتیب می‌توانیم فاصله‌های زمانی را کوتاه‌تر کنیم تا به جواب دقیق‌تر برسیم.

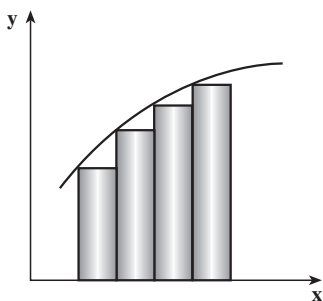
در حقیقت پذیرفته‌ایم که در هر بازه (فاصله‌ی زمانی مثلاً $[0, 0/5]$) سرعت ثابت داشته‌ایم و لذا حداقل و حداکثر مسافت طی شده در این بازه به ترتیب $5 = 10 \times 0/5$ و $6/5 = 13 \times 0/5$ متر بوده است، پس هر چه طول بازه‌های زمانی کوتاه‌تر باشد، جواب دقیق‌تر خواهد شد.

همین مسئله را برای مساحت زیر منحنی در بازه‌ی $[a, b]$ داریم:

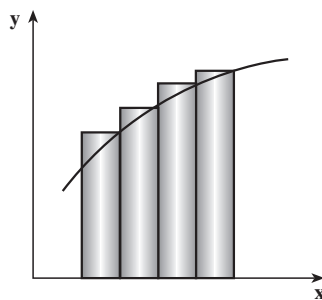
به‌طور کلی می‌دانیم که مساحت یک مستطیل، حاصل ضرب طول در عرض آن است

$$s = ab$$

حال اگر مساحت سطح زیر نمودار $y = f(x) \geq 0$ را در بازه‌ی $[a, b]$ بخواهیم پیدا کنیم، کاری را که از زمان‌های بسیار دور و به‌طور طبیعی انجام می‌شده تکرار می‌کنیم. یعنی سطح را با مستطیل‌هایی می‌پوشانیم و مجموع مساحت‌های این مستطیل‌ها را حساب می‌کنیم. بدیهی است که برای بسیاری از سطوح این کار امکان‌پذیر نیست و قسمتی از سطح باقی می‌ماند، تقریب نقصانی، و یا مجبور می‌شویم سطح بیشتری را بپوشانیم که تقریب اضافی به دست می‌آید. به دو شکل صفحه‌ی بعد توجه کنید.



تقریب نقصانی



تقریب اضافی

در واقع بازه‌ی $[a, b]$ را به بازه‌های $[x_0, x_1]$, $[x_1, x_2]$, \dots , $[x_{n-1}, x_n]$ که در آن

$$a = x_0 < x_1 < x_2 < x_3 < \dots < x_n = b$$

تقسیم می‌کنیم. اگر چه لزومی ندارد که فاصله‌های $x_i - x_{i-1}$ مساوی باشند، ولی برای سادگی معمولاً آن‌ها را مساوی می‌گیریم. در این صورت برای هر $i = 1, 2, \dots, n$ داریم

$$x_i - x_{i-1} = \Delta x = \frac{b-a}{n}$$

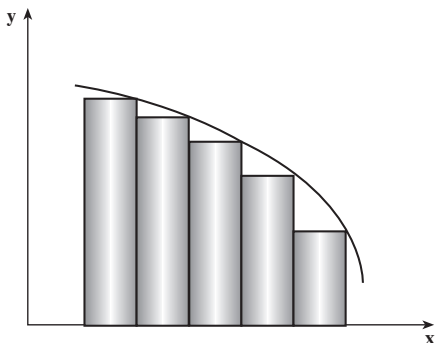
حال اگر تابع f صعودی باشد (مانند شکل‌های فوق)، آنگاه تقریب نقصانی عبارت است از:

$$f(x_0)\Delta x + f(x_1)\Delta x + \dots + f(x_{n-1})\Delta x = \sum_{i=1}^n f(x_{i-1})\Delta x$$

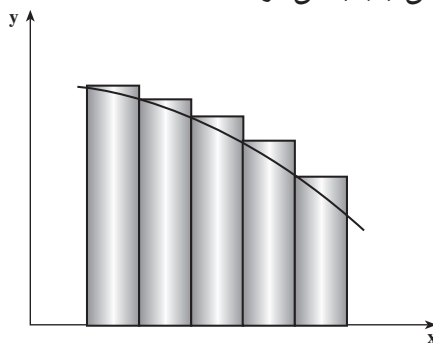
و تقریب اضافی عبارت است از: $f(x_1)\Delta x + f(x_2)\Delta x + \dots + f(x_n)\Delta x = \sum_{i=1}^n f(x_i)\Delta x$

$$\sum_{i=1}^n f(x_{i-1})\Delta x < \text{مساحت شکل} < \sum_{i=1}^n f(x_i)\Delta x \quad \text{و}$$

اما اگر تابع f نزولی باشد، آنگاه عکس این مطلب را داریم یعنی مطابق شکل تقریب نقصانی و اضافی جا به جا می‌شوند.



تقریب اضافی



تقریب اضافی

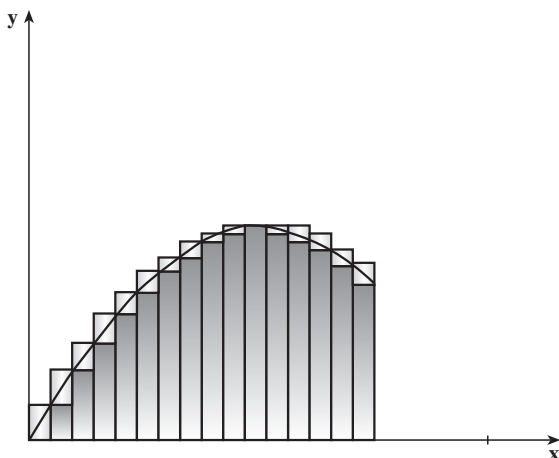
$$\sum_{i=1}^n f(x_i) \Delta x < \sum_{i=1}^n f(x_{i-1}) \Delta x$$

حال اگر با افزایش n (کاهش طول بازه‌های $[x_{i-1}, x_i]$) این دو مقدار به هم نزدیک شوند و به یک عدد میل کنند، آن‌گاه این عدد حقیقی مساحت زیر منحنی $y = f(x)$ را در بازه $[a, b]$ مشخص می‌کند.

اگر حتی تابع f ، در بازه $[a, b]$ یکنوا نباشد باز هم این امکان وجود دارد که این دو مقدار به یک عدد میل کنند. به مثال زیر توجه کنید:

مثال ۲: منحنی $y = 2x - x^2$ را در بازه $[\frac{3}{4}, 1]$ در نظر گرفته، به جدول زیر توجه کنید:

n	$\sum_{i=1}^n f(x_i) \Delta x$	$\sum_{i=1}^n f(x_{i-1}) \Delta x$
۲	۱/۲۶۵۶۲۵	۰/۷۰۳۱۲۵
۱۰	۱/۱۷۵۶۲۵	۱/۰۶۳۱۲۵
۵۰	۱/۱۳۶۰۲۵	۱/۱۱۳۵۲۵
۲۵۰	۱/۱۲۷۲۴۱	۱/۱۲۲۷۴۱
۲۵۰۰	۱/۱۲۵۴۵۱	۱/۱۲۴۵۵۱



همان‌طور که دیده می‌شود این مقادیر با افزایش n ، به هم نزدیک می‌شوند.

تعریف: اگر تابع f روی بازه $[a, b]$ پیوسته باشد و برای هر $x \in [a, b]$ ، $f(x) \geq 0$ ، و برای هر $n \in \mathbb{N}$ بازه $[a, b]$ را به زیربازه‌های

$$[x_0, x_1], [x_1, x_2], \dots, [x_{n-1}, x_n]$$

افراز^۱ کنیم، یعنی

$$x_0 = a < x_1 < x_2 < \dots < x_{n-1} < x_n = b$$

۱- بازه‌ها به جز در دو انتها نقطه‌ی مشترکی ندارند و اجتماع همه‌ی آن‌ها بازه‌ی $[a, b]$ است.

و فرض کنیم برای هر $i, i = 1, 2, \dots, n$,

$$x_i - x_{i-1} = \Delta x = \frac{b-a}{n}$$

و برای هر i ، مقدار مینیمم مطلق تابع f در بازه $[x_{i-1}, x_i]$ باشد، آن گاه مساحت زیر منحنی $y = f(x)$ محصور به خطوط $x = a$ ، $x = b$ و $y = 0$ برابر است با:

$$A = \lim_{n \rightarrow \infty} \sum_{i=1}^n f(I_i) \Delta x$$

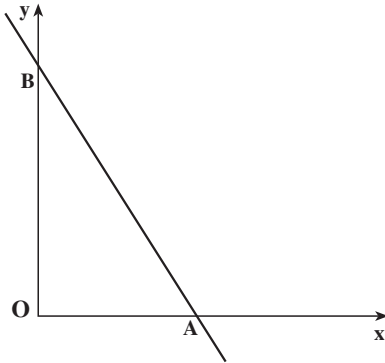
این رابطه به این معنی است که برای هر $\epsilon > 0$ ، عدد طبیعی N یافت می شود که برای هر $n \geq N$

$$\left| \sum_{i=1}^n f(I_i) \Delta x - A \right| < \epsilon$$

بعداً نشان می دهیم که، I_i را می توان هر عدد در بازه $[x_{i-1}, x_i]$ اختیار کرد.

مثال ۳: مساحت مثلث OAB مطابق شکل زیر برابر مساحت زیر خط $y = 4 - 2x$ بین 0 و

۴ است.



برای هر n ، $\Delta x = \frac{4-0}{n} = \frac{4}{n}$ و چون تابع نزولی است، برای هر i ، $I_i = x_i = \frac{4}{n}i$. (چرا؟).

$$A = \lim_{n \rightarrow \infty} \sum_{i=1}^n f(I_i) \Delta x \quad \text{داریم:}$$

$$= \lim_{n \rightarrow \infty} \sum_{i=1}^n (4 - 2x_i) \frac{4}{n} = 4 \lim_{n \rightarrow \infty} \left(\sum_{i=1}^n \frac{1}{n} - \frac{2}{n} \sum_{i=1}^n x_i \right)$$

۱- چون تابع f روی بازه $[x_{i-1}, x_i]$ پیوسته است، این مقدار وجود دارد.

$$= 4 \lim_{n \rightarrow \infty} \left(8 - \frac{2}{n} \sum_{i=1}^n i \right) = 4 \lim_{n \rightarrow \infty} \left(8 - \frac{1}{n} \sum_{i=1}^n i \right)$$

$$= 4 \lim_{n \rightarrow \infty} \left(8 - \frac{1}{n} \frac{n(n+1)}{2} \right) = 16$$

این نتیجه دور از انتظار نیست. چون مساحت مثلث عبارت است از:

$$(8 \times 4) \div 2 = 16 \text{ (واحد سطح)}$$

همان طور که دیدیم برای محاسبه‌ی مساحت به فرمول‌هایی نیاز داریم که بسیاری از آن‌ها با استقرای ریاضی قابل اثبات‌اند. از آن جمله‌اند

$$\sum_{i=1}^n i = \frac{n(n+1)}{2}$$

$$\sum_{i=1}^n i^2 = \frac{n(n+1)(2n+1)}{6}$$

$$\sum_{i=1}^n i^3 = \frac{n^2(n+1)^2}{4}$$

$$\sum_{i=1}^n i^4 = \frac{n(n+1)(6n^3 + 9n^2 + n - 1)}{30}$$

هم‌چنین گاهی لازم است اندیس جمع‌بندی را تغییر داد، مثلاً می‌دانیم که

$$\sum_{i=1}^n (i-1)^2 = \sum_{i=0}^{n-1} i^2, \quad \sum_{i=1}^n (i-1) = \sum_{i=0}^{n-1} i$$

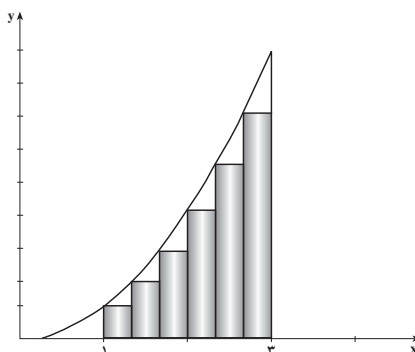
و به‌طور کلی

$$\sum_{i=1}^n a_{i-1} = \sum_{i=0}^{n-1} a_i$$

مثال ۴: مساحت زیر منحنی $y = x^2$ بین ۱ و ۳ عبارت است از:

$$A = \lim_{n \rightarrow \infty} \sum_{i=1}^n f(I_i) \Delta x$$

$$= \lim_{n \rightarrow \infty} \frac{1}{n} \sum_{i=1}^n x_{i-1}^2 = \frac{1}{n} \lim_{n \rightarrow \infty} \sum_{i=0}^{n-1} x_i^2$$



دقت کنید که $\frac{2}{n} = \frac{3-1}{n} = \Delta x$. اما

$$x_i = 1 + \frac{2i}{n}$$

$$x_i^2 = 1 + \frac{4i^2}{n^2} + \frac{4i}{n}$$

$$\begin{aligned} \sum_{i=0}^{n-1} x_i^2 &= \sum_{i=0}^{n-1} 1 + \sum_{i=0}^{n-1} \frac{4i^2}{n^2} + \sum_{i=0}^{n-1} \frac{4i}{n} \\ &= n + \frac{4}{n^2} \sum_{i=0}^{n-1} i^2 + \frac{4}{n} \sum_{i=0}^{n-1} i \\ &= n + \frac{4}{n^2} \left(\frac{(n-1)(n)(2(n-1)+1)}{6} \right) + \frac{4}{n} \left(\frac{(n-1)n}{2} \right) \\ &= n + \frac{2(n-1)(2n-1)}{3n} + 2(n-1) \\ &= \frac{2(n-1)(2n-1)}{3n} + 3n - 2 \end{aligned}$$

و

$$\begin{aligned} A &= 2 \lim_{n \rightarrow \infty} \left(\frac{2}{3} \left(\frac{n-1}{n} \right) \left(\frac{2n-1}{n} \right) + 3 - \frac{2}{n} \right) \\ &= 2 \left(\frac{4}{3} + 3 \right) = \frac{26}{3} \approx 8.6667 \end{aligned}$$

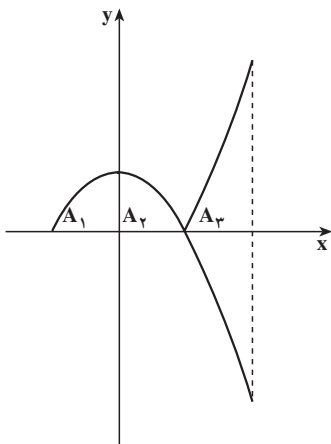
در این مثال می‌توان برای هر i ، x_{i-1} را به x_i تبدیل کرد و همان نتیجه را به دست آورد (تحقیق کنید!) می‌توان نشان داد که با محاسبه مقادیر تقریب اضافی و نقصانی برای $n=100$ ، داریم:

$$8.6650 < A < 8.6683$$

در مثالی که در زیر می‌آید شرط نامنفی بودن تابع برقرار نیست. ببینید در این حالت چگونه مساحت را حساب می‌کنیم.

مثال ۵: مساحت محصور بین نمودار تابع $y=1-x^2$ ، خط‌های $y=0$ ، $x=-1$ و $x=2$

را پیدا می‌کنیم.



تابع $f(x) = 1 - x^2$ در بازه $[-1, 1]$ نامنفی ولی در بازه $[1, 2]$ نامثبت است. مقدار مساحت در بازه $[1, 2]$ مساوی مقدار مساحت زیر منحنی $y = -f(x)$ در همین بازه است و لذا می‌توان مساحت زیر منحنی را در بازه $[-1, 1]$ پیدا کرد و با مساحت زیر منحنی $y = -f(x)$ در بازه $[1, 2]$ جمع کرد. داریم:

$$A = A_1 + A_2 + A_3$$

وقتی که $A_1 + A_2$ مساحت زیر منحنی $y = 1 - x^2$ در بازه $[-1, 1]$ و A_3 مساحت زیر منحنی $y = -(1 - x^2) = x^2 - 1$ در بازه $[1, 2]$ است. داریم:

$$\begin{aligned} A_2 &= \lim_{n \rightarrow \infty} \sum_{i=1}^n f(x_i) \Delta x \\ &= \lim_{n \rightarrow \infty} \sum_{i=1}^n \left(1 - \left(\frac{i}{n}\right)^2\right) \frac{1}{n} \\ &= \lim_{n \rightarrow \infty} \left(1 - \sum_{i=1}^n \frac{i^2}{n^3}\right) = \frac{2}{3} \end{aligned}$$

به همین ترتیب می‌توان نشان داد $A_1 = \frac{2}{3}$ و $A_3 = \frac{4}{3}$ (چرا؟)، پس $A = \frac{8}{3}$.

تمرین‌ها

۱- ماشینی ۵ ثانیه پس از ترمز گرفتن می‌ایستد. سرعت در لحظات مختلف این ۵ ثانیه در

جدول زیر آمده است :

زمان	۰	۱	۲	۳	۴	۵
سرعت (متر بر ثانیه)	۴۴	۳۰	۲۰	۱۲/۵	۵	۰

مطلوب است تقریب اضافی و نقصانی برای مسافتی که ماشین در عرض این ۵ ثانیه طی می کند.

۲- مقادیر تقریب اضافی و نقصانی مساحت ربع دایره به مرکز مبدأ مختصات و شعاع ۱ را برای $n = 4$ به دست آورید. (این مقدار عدد $\frac{\pi}{4}$ را تقریب می زند، چرا؟)

۳- مقادیر تقریب اضافی و نقصانی مساحت زیرمنحنی $y = \frac{1}{x}$ را بین ۱ تا ۲ برای $n = 4$ به دست آورید.

۴- مساحت ناحیه ی داده شده در مثال ۳ را با استفاده از مستطیل های محیط بر ناحیه به دست آورید. چه تفاوتی مشاهده می کنید؟

۵- مساحت زیر خط $y = mx$ (برای $m > 0$) را بین a و b ، $(b > a > 0)$ حساب کنید.

۶- ثابت کنید در مثال ۱ اگر مقدار سرعت لحظه ای را در هر $\frac{1}{10}$ ثانیه داشته باشیم، آن گاه تفاضل تقریب اضافی و نقصانی برای مسافت حداکثر $1/5$ متر است.

۷- وقتی چتربازی از هواپیما خود را پرتاب می کند، تا باز شدن چتر سرعتش رو به افزایش است ولی به دلیل مقاومت هوا شتاب او کاهش می یابد. جدول زیر شتاب لحظه ای چترباز، a را در هر ثانیه ثبت کرده است :

t (ثانیه)	۰	۱	۲	۳	۴	۵
a (متر بر مربع ثانیه)	۹/۸۱	۸/۰۳	۶/۵۳	۵/۳۸	۴/۴۱	۳/۶۱

مقادیر تقریب نقصانی و اضافی سرعت را در لحظه ی $t = 5$ به دست آورید.

۲-۶- انتگرال معین

اکنون برای تعریف انتگرال معین آمادگی داریم، ابتدا فرض می کنیم برای $a < b$ تابع f در بازه ی بسته $[a, b]$ ، پیوسته باشد (دقت کنید که شرط $f(x) \geq 0$ ضروری نیست!) حال بازه ی $[a, b]$ را به n

زیر بازه‌ی

$$[x_0, x_1], [x_1, x_2], \dots, [x_{n-1}, x_n]$$

که در آن

$$a = x_0 < x_1 < x_2 < x_3 < \dots < x_n = b$$

افراز می‌کنیم و برای هر i ، $\Delta_i x = x_i - x_{i-1}$ ، معمولاً $\Delta_i x = \Delta x = \frac{b-a}{n}$ فرض می‌شود. برای هر $i = 1, 2, \dots, n$ ، نقطه‌ی c_i را در بازه‌ی $[x_{i-1}, x_i]$ به‌طور دلخواه در نظر می‌گیریم.

$$R_n(f) = \sum_{i=1}^n f(c_i) \Delta x$$

را مجموع ریمان تابع f روی بازه‌ی $[a, b]$ برای افراز فوق می‌نامند (دقت کنید که می‌توان حتی $\Delta_i x$ ها را برابر با یکدیگر فرض نکرده و نوشت $\sum_{i=1}^n f(c_i) \Delta_i x$).

حال با در نظر گرفتن پیوستگی تابع f روی بازه‌ی $[a, b]$ ، نتیجه می‌شود که این تابع در هر یک از زیر بازه‌های $[x_{i-1}, x_i]$ پیوسته است و لذا در هر یک از این زیر بازه‌ها ماکسیمم و مینیمم مطلق دارد. اگر برای هر $i = 1, 2, \dots, n$ ، نقطه‌ی مینیمم مطلق l_i و نقطه‌ی ماکسیمم مطلق u_i در بازه‌ی $[x_{i-1}, x_i]$ باشد، آن‌گاه داریم

$$f(l_i) \leq f(c_i) \leq f(u_i)$$

حال

$$U_n(f) = \sum_{i=1}^n f(u_i) \Delta x$$

را مجموع بالای ریمان تابع f در بازه‌ی $[a, b]$ برای افراز فوق و

$$L_n(f) = \sum_{i=1}^n f(l_i) \Delta x$$

را مجموع پایین ریمان تابع f در بازه‌ی $[a, b]$ می‌نامیم. به راحتی دیده می‌شود که $L_n(f) \leq R_n(f) \leq U_n(f)$.

۱- دقت کنید که برای هر f ، $\{L_n(f)\}$ ، $\{R_n(f)\}$ و $\{U_n(f)\}$ سه دنباله‌اند.

نکته: اگر تابع f در بازه‌ی $[a, b]$ پیوسته نباشد ولی برای هر یک از زیر بازه‌ها مقدار ماکسیمم مطلق و مقدار مینیمم مطلق وجود داشته باشند باز هم می‌توان $U_n(f)$ و $L_n(f)$ را به همین ترتیب تعریف کرد.

تعریف: تابع f بر بازه‌ی بسته $[a, b]$ را انتگرال‌پذیر گویند، هرگاه

$$\lim_{n \rightarrow \infty} L_n(f) = \lim_{n \rightarrow \infty} U_n(f)$$

و این مقدار مشترک حدی را انتگرال معین تابع f روی بازه‌ی $[a, b]$ می‌نامند و آن را با $\int_a^b f(x) dx$ نشان می‌دهند.

در حقیقت $\int_a^b f(x) dx$ یک عدد حقیقی است که آن را مقدار انتگرال معین می‌نامند، f تابع زیر انتگرال است، a حد پایینی انتگرال و $b > a$ حد بالایی انتگرال است. علامت "∫" از روش سنتی نوشتن S به جای لغت مجموع "Sum" گرفته شده است و dx همان دیفرانسیل x است.

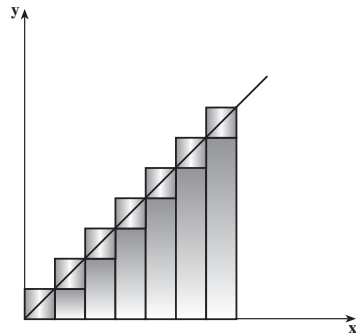
نکته‌ی ۱: هرگاه $\lim_{n \rightarrow \infty} L_n(f) = \lim_{n \rightarrow \infty} U_n(f)$ (یعنی تابع f در بازه‌ی $[a, b]$ انتگرال‌پذیر بود) در آن صورت $\lim_{n \rightarrow \infty} R_n(f)$ هم همین مقدار خواهد بود.

نکته‌ی ۲: چون حد مجموع ریمان به متغیر x بستگی ندارد می‌توان x را به هر متغیر دیگر تبدیل کرد و داریم:

$$\int_a^b f(x) dx = \int_a^b f(t) dt$$

مثال ۶: اگر $b > 0$ ، برای محاسبه‌ی $\int_0^b x dx$ ، $\Delta x = \frac{b-0}{n} = \frac{b}{n}$ و برای هر i ، $x_i = i \frac{b}{n}$.

$$\begin{aligned} L_n(f) &= \frac{b}{n} \left(0 + \frac{b}{n} + \frac{2b}{n} + \dots + (n-1) \frac{b}{n} \right) \\ &= \frac{b^2}{n^2} (1 + 2 + 3 + \dots + (n-1)) \\ &= \frac{b^2}{n^2} \frac{(n-1)n}{2} = \frac{b^2}{2} \left(1 - \frac{1}{n} \right) \end{aligned}$$



۱- انتگرال‌پذیری فقط برای تابع‌هایی که در بازه بسته $[a, b]$ تعریف شده و کراندار باشند مفهوم دارد. انتگرال روی بازه‌های دیگر هم با استفاده از مفهوم حد قابل تعریف است ولی به‌طور کلی از حدود این کتاب خارج است.

به همین ترتیب

$$U_n(f) = \frac{b}{n} \left(\frac{b}{n} + \frac{2b}{n} + \dots + n \frac{b}{n} \right)$$

$$= \frac{b^2}{n^2} \frac{n(n+1)}{2} = \frac{b^2}{2} \left(1 + \frac{1}{n} \right)$$

پس

$$\lim_{n \rightarrow \infty} L_n(f) = \lim_{n \rightarrow \infty} U_n(f) = \frac{b^2}{2}$$

یعنی

$$\int_a^b x dx = \frac{1}{2} (b^2)$$

و مثلاً $\int_1^1 x dx = \frac{1}{2}$. به طور کلی می‌توان ثابت کرد که

$$\int_a^b x dx = \frac{1}{2} (b^2 - a^2)$$

قضیه‌ی زیر را که شرط کافی برای انتگرال‌پذیری است بدون اثبات بیان می‌کنیم
قضیه‌ی ۱: اگر تابع f در بازه‌ی بسته‌ی $[a, b]$ پیوسته باشد، آن‌گاه f در این بازه انتگرال‌پذیر است.

مثال ۷: برای هر $x > 1$ ، تابع $f(t) = \frac{1}{t}$ در بازه‌ی بسته $[1, x]$ پیوسته است و در نتیجه

انتگرال‌پذیر است.

نکته: لزومی ندارد که تابع f پیوسته باشد تا انتگرال‌پذیر باشد. به مثال زیر توجه کنید:

مثال ۸:

$$f(x) = \begin{cases} 0 & x \neq 0 \\ 1 & x = 0 \end{cases}$$

این تابع در بازه $[-1, 1]$ پیوسته نیست (چرا؟) ولی انتگرال‌پذیر است.

$$L_n(f) = \sum_{i=1}^n f(l_i) \Delta x = 0$$

$$0 \leq U_n(f) = \sum_{i=1}^n f(u_i) \Delta x \leq \frac{1}{n}$$

(دقت کنید که ممکن است نقطه‌ی \circ به دو بازه از افراز یعنی $[x_i, x_{i+1}]$ و $[x_{i-1}, x_i]$ تعلق

$$\text{داشته باشد، } U_n(f) = \frac{\psi}{n} \text{ و یا نقطه } \circ \text{ به یکی از آن‌ها تعلق داشته باشد، } (U_n(f) = \frac{\psi}{n})$$

پس $\lim_{n \rightarrow \infty} L_n(f) = \lim_{n \rightarrow \infty} U_n(f) = \circ$ ، یعنی f انتگرال پذیر است و

$$\int_{-1}^1 f(x) dx = \circ$$

در مثال ۸، تابع f در همه‌ی نقاط مگر نقطه‌ی \circ تابع ثابت \circ برابر است و همان طور که دیده می‌شود انتگرال این دو تابع در بازه‌ی $[-1, 1]$ با هم برابرند و به طور کلی مطلب زیر را می‌توان ثابت کرد.

نکته: هرگاه دو تابع f و g در تمام نقاط یک بازه‌ی بسته تعریف شده و در همه نقاط این بازه مگر نقطه‌ای از آن برابر باشند، به شرط انتگرال پذیری یکی از آن‌ها، دیگری هم انتگرال پذیر است و مقادیر این دو انتگرال برابرند.

تا به حال انتگرال معین $\int_a^b f(x) dx$ را برای $a < b$ تعریف کردیم، با استفاده از تعریف زیر این انتگرال را برای هر a و b می‌توان تعریف کرد:

تعریف: ۱- اگر $a > b$ و $\int_b^a f(x) dx$ وجود داشته باشد، آن‌گاه تعریف می‌کنیم

$$\int_a^b f(x) dx = -\int_b^a f(x) dx$$

۲- اگر $f(a)$ وجود داشته باشد، آن‌گاه تعریف می‌کنیم

$$\int_a^a f(x) dx = \circ$$

همان طور که در مثال ۷ دیدیم، برای هر $x > 1$ ، $\int_1^x \frac{dt}{t}$ تعریف شده است، حال تعریف می‌کنیم:

تعریف: به ازاء هر $x \in (0, \infty)$ ، $\int_1^x \frac{dt}{t}$ را لگاریتم طبیعی x می‌نامند و آن را با $\ln x$ نمایش

می‌دهند. مقدار تقریبی این تابع را می‌توان با استفاده از حاصل جمع ریمان تابع $\frac{1}{t}$ در بازه $[1, x]$ برای $x > 1$ و یا $[x, 1]$ برای $0 < x < 1$ به دست آورد.

عدد حقیقی‌ای که مقدار تابع \ln در آن برابر ۱ است را e نمایش می‌دهیم و عدد نپر نامیده می‌شود ($\ln e = 1$).

نکته: این عدد e در موارد دیگر هم ظاهر شده است. (مثال ۱۹ فصل دوم) علاوه بر آن $\ln x = \log_e^x$ (یعنی لگاریتم طبیعی همان \log در مبنای e است.)

۶-۳ ویژگی‌های انتگرال معین

برخی از ویژگی‌های مهم انتگرال معین را در این قسمت بیان می‌کنیم:

مثال ۹: عبارت $\int_a^b dx$ است از انتگرال تابع ثابت $f \equiv 1$ در بازه‌ی $[a, b]$ و می‌توان ثابت کرد:

$$\int_a^b dx = b - a$$

قضیه‌ی ۲: اگر f در بازه‌ی $[a, b]$ انتگرال‌پذیر و k یک عدد حقیقی ثابت باشد، آنگاه

$$\int_a^b kf(x)dx = k \int_a^b f(x)dx$$

اثبات:

$$\int_a^b kf(x)dx = \lim_{n \rightarrow \infty} \sum_{i=1}^n kf(c_i)\Delta x = \lim_{n \rightarrow \infty} k \sum_{i=1}^n f(c_i)\Delta x$$

$$= k \lim_{n \rightarrow \infty} \sum_{i=1}^n f(c_i)\Delta x = k \int_a^b f(x)dx$$

قضیه‌ی ۳: اگر f و g دو تابع انتگرال‌پذیر در بازه‌ی $[a, b]$ باشند، آنگاه

$$\int_a^b (f(x) + g(x))dx = \int_a^b f(x)dx + \int_a^b g(x)dx$$

اثبات:

$$\lim_{n \rightarrow \infty} \sum_{i=1}^n (f(c_i) + g(c_i))\Delta x = \lim_{n \rightarrow \infty} \left(\sum_{i=1}^n f(c_i)\Delta x + \sum_{i=1}^n g(c_i)\Delta x \right)$$

$$= \lim_{n \rightarrow \infty} \sum_{i=1}^n f(c_i)\Delta x + \lim_{n \rightarrow \infty} \sum_{i=1}^n g(c_i)\Delta x$$

$$= \int_a^b f(x)dx + \int_a^b g(x)dx .$$

قضیه‌های زیر را بدون اثبات بیان می‌کنیم:

قضیه‌ی ۴: اگر f در بازه‌ی بسته‌ای که شامل نقاط a ، b و c است انتگرال‌پذیر باشد، آنگاه

$$\int_a^b f(x)dx = \int_a^c f(x)dx + \int_c^b f(x)dx$$

لزوماً عدد c بین a و b نیست.

نکته: با استفاده از قضیه ی ۴، می توان ثابت کرد که اگر تابعی در یک بازه ی بسته تعریف شده و تعدادی متناهی نقطه ی ناپیوستگی داشته باشد و تابع در این نقاط دارای حدهای راست و چپ باشد، باز هم تابع در آن بازه انتگرال پذیر است. به مثال زیر توجه کنید:

مثال ۱۰:

$$\begin{aligned} \int_0^3 [x] dx &= \int_0^1 [x] dx + \int_1^2 [x] dx + \int_2^3 [x] dx \\ &= \int_0^1 0 dx + \int_1^2 1 dx + \int_2^3 2 dx \\ &= 0 + (2-1) + 2(3-2) \\ &= 1 + 2 = 3 \end{aligned}$$

قضیه ی ۵: اگر f و g دو تابع انتگرال پذیر در بازه ی $[a, b]$ باشند، و برای هر $x \in [a, b]$ ، $f(x) \leq g(x)$ آن گاه

$$\int_a^b f(x) dx \leq \int_a^b g(x) dx$$

با استفاده از قضیه ی ۵، می توان نتیجه گرفت که اگر $a \leq b$ ، آن گاه

$$\left| \int_a^b f(x) dx \right| \leq \int_a^b |f(x)| dx$$

قضیه ی ۶: اگر تابع f در بازه ی $[a, b]$ پیوسته و m و M به ترتیب مقدار مینیمم مطلق و ماکسیمم مطلق تابع در این بازه باشند، آن گاه

$$m \leq \frac{1}{b-a} \int_a^b f(x) dx \leq M$$

اثبات: واضح است که برای هر $x \in [a, b]$ ، $m \leq f(x) \leq M$

پس

$$\int_a^b m dx \leq \int_a^b f(x) dx \leq \int_a^b M dx$$

و یا

$$m(b-a) \leq \int_a^b f(x) dx \leq M(b-a)$$

یعنی

$$m \leq \frac{1}{b-a} \int_a^b f(x) dx \leq M$$

مقدار $\frac{1}{b-a} \int_a^b f(x) dx$ ، مقدار متوسط یا میانگین تابع f از نقطه‌ی a تا نقطه‌ی b (یا در بازه‌ی

$[a, b]$) نامیده می‌شود. دلیل این نام‌گذاری را می‌توان به شرح زیر بیان کرد:

اگر بازه‌ی $[a, b]$ را به n قسمت مساوی تقسیم کنیم و $\Delta x = \frac{b-a}{n}$ ، آن‌گاه می‌توان برای

افراز حاصل

$$[x_0, x_1], [x_1, x_2], \dots, [x_{n-1}, x_n]$$

یکی از حاصل جمع‌های ریمان را در نظر گرفت:

$$\sum_{i=1}^n f(x_i) \Delta x = (b-a) \frac{\sum_{i=1}^n f(x_i)}{n}$$

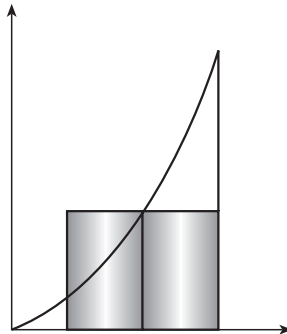
و اگر چنانچه انتگرال معین f بر بازه‌ی $[a, b]$ وجود داشته باشد، آن‌گاه

$$\lim_{n \rightarrow \infty} \sum_{i=1}^n f(x_i) \Delta x = \lim_{n \rightarrow \infty} (b-a) \frac{\sum_{i=1}^n f(x_i)}{n} = \int_a^b f(x) dx$$

و لذا به طور تقریب

$$\frac{1}{b-a} \int_a^b f(x) dx \approx \frac{\sum_{i=1}^n f(x_i)}{n}$$

که عبارت طرف راست همان مقدار متوسط یا میانگین مقادیر $f(x_n), \dots, f(x_1)$ است. به شکل هم توجه کنید، قسمت هاشور خورده مقدار مساحت زیر منحنی $y = f(x)$ در بازه‌ی $[a, b]$ است. که این مساحت با مساحت مستطیلی که اضلاع آن به طول‌های $b-a$ و مقدار متوسط f هستند، برابر است.



مثال ۱۱: می‌خواهیم بدون محاسبه‌ی انتگرال، کران بالا و کران پایینی برای

$$\int_{\frac{1}{4}}^{\frac{1}{2}} (x^3 - 6x^2 + 9x + 1) dx$$

به دست آوریم.

$$f(x) = x^3 - 6x^2 + 9x + 1$$

در بازه‌ی $\left[\frac{1}{4}, \frac{1}{2}\right]$ دارای مقدار ماکسیمم مطلق ۵ و مینیمم مطلق ۱ است. (چرا؟)

پس

$$1\left(4 - \frac{1}{4}\right) \leq \int_{\frac{1}{4}}^{\frac{1}{2}} (x^3 - 6x^2 + 9x + 1) dx \leq 5\left(4 - \frac{1}{4}\right)$$

$$3/5 \leq \int_{\frac{1}{4}}^{\frac{1}{2}} (x^3 - 6x^2 + 9x + 1) dx \leq 17/5$$

قضیه‌ی ۷: (قضیه‌ی مقدار میانگین برای انتگرال‌ها) اگر f در بازه‌ی بسته $[a, b]$

پیوسته باشد آن‌گاه عدد حقیقی c ، $a \leq c \leq b$ وجود دارد که

$$\int_a^b f(x) dx = f(c)(b-a)$$

اثبات: چون $\frac{1}{b-a} \int_a^b f(x) dx$ بین دو مقدار ماکسیمم مطلق M و مینیمم مطلق m تابع f

است، بنا به قضیه‌ی مقدار میانی، $c \in [a, b]$ وجود دارد که

$$f(c) = \frac{1}{b-a} \int_a^b f(x) dx$$

البته ممکن است نقطه‌ی c یکتا نباشد.

مثال ۱۲: تابع $f(x) = x^2$ را در بازه‌ی $[1, 4]$ در نظر بگیرید. می‌توان نشان داد

$$\int_1^4 x^2 dx = 21$$

مقدار متوسط تابع برابر است با $\frac{\int_1^4 x^2 dx}{3} = 7$. مقدار c باید طوری باشد که $f(c) = 7$ یا

$c^2 = 7$ که تنها جواب در بازه‌ی $[1, 4]$ ، $\sqrt{7}$ است. مساحت زیر منحنی در بازه‌ی $[1, 4]$ برابر

مساحت مستطیل به اضلاع $f(\sqrt{7}) = 7$ و 3 (طول بازه‌ی $[1, 4]$) است.

برخی دیگر از ویژگی‌های انتگرال معین، را بدون اثبات بیان می‌کنیم.
 ۱- اگر f تابعی فرد و در $[-a, a]$ انتگرال پذیر باشد (یعنی برای هر x ، $f(-x) = -f(x)$)،

آن‌گاه

$$\int_{-a}^a f(x) dx = 0$$

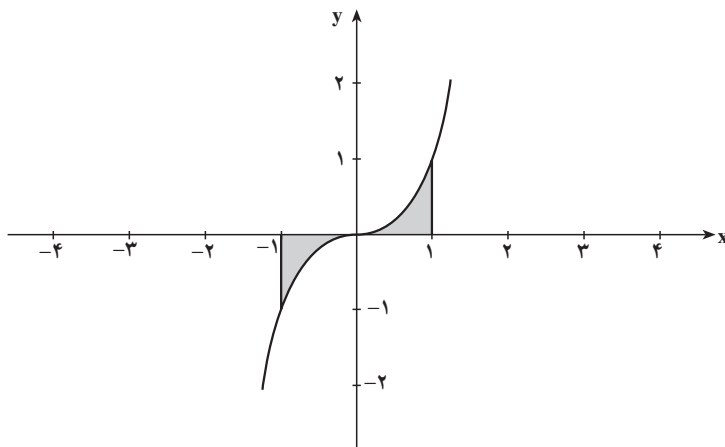
۲- اگر f تابعی زوج و در $[-a, a]$ انتگرال پذیر باشد (یعنی برای هر x ، $f(-x) = f(x)$)،

آن‌گاه

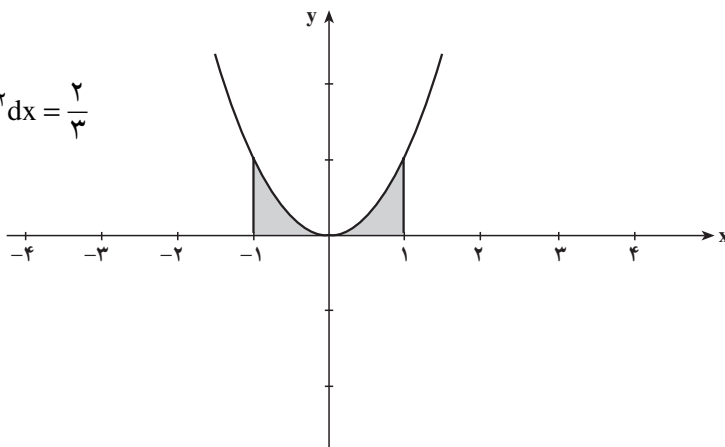
$$\int_{-a}^a f(x) dx = 2 \int_0^a f(x) dx$$

تصویر دو ویژگی اخیر را در شکل‌های زیر می‌توان مشاهده کرد:

$$\int_{-1}^1 x^3 dx = 0$$



$$\int_{-1}^1 x^2 dx = 2 \int_0^1 x^2 dx = \frac{2}{3}$$



۱- مجموع بالا و پایین ریمان را برای توابع زیر در بازه‌های داده شده و مقادیر n محاسبه کنید.

الف) $f(x) = \sin x$ در بازه‌ی $[0, \pi]$ برای $n = 6$

ب) $g(x) = x^3$ در بازه‌ی $[-1, 1]$ برای $n = 8$

ج) $h(x) = \cos x$ در بازه‌ی $[0, \frac{\pi}{2}]$ برای $n = 3$

د) $t(x) = \frac{1}{x}$ در بازه‌ی $[1, 2]$ برای $n = 10$

۲- ثابت کنید که برای هر $b > 0$,

$$\int_0^b x^3 dx = \frac{b^4}{4} \text{ و } \int_0^b x^2 dx = \frac{b^3}{3}$$

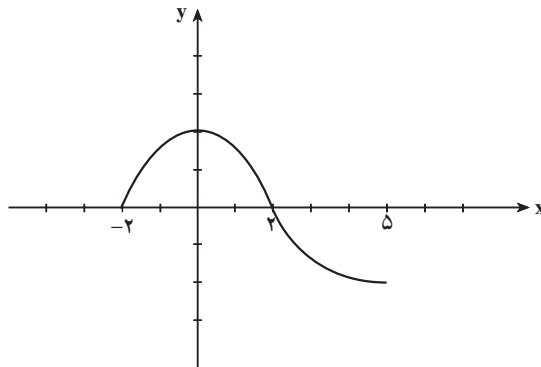
۳- نمودار تابع f در بازه‌ی $[-2, 4]$ نسبت به محور y متقارن است و در بازه‌ی $[-2, 4]$

پیوسته است (مطابق شکل). اگر $A = \int_{-2}^4 f(x) dx$ و $B = \int_0^5 f(x) dx$ ، مطلوب است

الف)

$$\int_2^5 f(x) dx$$

ب) مقدار متوسط تابع f را در بازه‌ی $[0, 4]$ و نیز مقدار متوسط تابع $|f|$ را در همان بازه پیدا کنید.



۴- اگر بدانیم $\int_1^3 3x^2 dx = 26$ و $\int_1^3 2x dx = 8$ ، مطلوب است

$$\int_1^3 (x^2 - x) dx$$

۵- انتگرال‌های معین زیر را محاسبه کنید.

الف) $\int_{-1}^1 (x^3 + 2) dx$ ب) $\int_{-1}^2 |x| dx$

ج) $\int_1^{-1} (x^5 - 3x^3 + 2) dx$

۶- نامساوی‌های زیر را ثابت کنید.

الف) $\frac{3}{5} \leq \int_2^5 \frac{1}{x^2 + 1} dx \leq \frac{3}{26}$ ب) $0 \leq \int_0^2 \sin\left(\frac{\pi}{4}x\right) dx \leq 2$

۷- مقدار متوسط تابع $f(x) = x^2$ را در بازه‌ی $[-1, 1]$ به دست آورید. در چه نقطه‌ای از این بازه مقدار تابع f با مقدار متوسط تابع برابر است؟ از نظر هندسی نتیجه‌ی به دست آمده را نمایش دهید.

۸- ثابت کنید برای هر a و b

$$\int_a^b x^3 dx = \frac{b^4 - a^4}{4}$$

۹- تابع

$$f(x) = \begin{cases} x & \text{گویا } x \\ 0 & \text{اصم } x \end{cases}$$

را در بازه‌ی بسته $\left[\frac{i}{n}, \frac{i+1}{n}\right]$ برای $n \in \mathbb{N}$ و $0 \leq i \leq n-1$ در نظر بگیرید.

الف) مقدار ماکسیمم و مینیمم مطلق این تابع را در هر یک از این بازه‌ها پیدا کنید.

ب) $L_n(f)$ و $U_n(f)$ را در بازه‌ی $[0, 1]$ به دست آورید.

ج) آیا تابع f در بازه‌ی $[0, 1]$ انتگرال‌پذیر است؟

۱۰- $\int_1^4 x^3 \lfloor x \rfloor dx$ را حساب کنید.

۶-۴ قضیه‌های بنیادی^۱

دیدیم که مشتق به عنوان نسبت تغییرات به کار می‌رود از طرف دیگر، با داشتن مشتق می‌توان اطلاعاتی را در رابطه با تابع به دست آورد. مثلاً مسافت را با استفاده از سرعت لحظه‌ای پیدا کردیم.

۱- این قضیه‌ها را قضیه‌های اساسی یا اصلی هم می‌نامند.

لذا به نظر می‌آید ارتباطی منطقی بین انتگرال و مشتق وجود دارد. قضیه‌های بنیادی حساب دیفرانسیل و انتگرال که در قرن هفدهم به طور دقیق اثبات شدند این ارتباط را نشان می‌دهند. اما قبل از آن به مثال زیر توجه کنید:

مثال ۱۳: به تابع $F(x) = 3x + 1$ توجه کنید. مشتق این تابع، تابع ثابت $f \equiv 3$ است و

$$\int_a^b f(x) dx = \int_a^b 3 dx = 3(b-a)$$

که برابر است با

$$\begin{aligned} F(b) - F(a) &= 3b + 1 - (3a + 1) \\ &= 3(b-a) \end{aligned}$$

به طور کلی داریم:

قضیه‌ی ۸: (قضیه‌ی بنیادی اول حساب دیفرانسیل و انتگرال) اگر f تابعی پیوسته در بازه‌ی I

شامل نقطه‌ی a باشد و F تابع با دامنه‌ی I با ضابطه‌ی زیر تعریف شود:

$$F(x) = \int_a^x f(t) dt$$

آن‌گاه F روی I مشتق‌پذیر است و برای هر $x \in I$ ، $F'(x) = f(x)$.

اثبات: به دلیل پیوستگی تابع f روی I ، برای هر x ، $F(x)$ موجود است. حال نشان می‌دهیم

این تابع مشتق‌پذیر است:

$$\begin{aligned} F'(x) &= \lim_{h \rightarrow 0} \frac{F(x+h) - F(x)}{h} \\ &= \lim_{h \rightarrow 0} \frac{\int_a^{x+h} f(t) dt - \int_a^x f(t) dt}{h} \\ &= \lim_{h \rightarrow 0} \frac{\int_x^{x+h} f(t) dt}{h} \end{aligned}$$

اما بنابر قضیه‌ی مقدار میانگین $\frac{1}{h} \int_x^{x+h} f(t) dt = f(c)$ که c بین x و $x+h$ قرار دارد. پس وقتی h به سمت صفر میل کرد، c به x میل می‌کند و به دلیل پیوستگی f داریم:

$$\lim_{h \rightarrow 0} \frac{1}{h} \int_x^{x+h} f(t) dt = \lim_{c \rightarrow x} f(c) = f(x)$$

در نتیجه

$$F'(x) = f(x)$$

قضیه ۹: قضیه‌ی بنیادی دوم حساب دیفرانسیل و انتگرال اگر f در بازه‌ی بسته $[a, b]$ پیوسته باشد و تابع g به گونه‌ای باشد که برای هر x در بازه‌ی $[a, b]$ داشته باشیم $g'(x) = f(x)$ ، آن‌گاه

$$\int_a^b f(t)dt = g(b) - g(a)$$

اثبات: اگر $F(x) = \int_a^x f(t)dt$ تعریف شود دیدیم که برای هر $x \in [a, b]$ ، $F'(x) = f(x)$. پس برای هر x ، $(F - g)'(x) = 0$ یعنی $F - g \equiv k$ که k یک مقدار ثابت است. (یعنی برای هر $(F(x) = g(x) + k, x \in [a, b])$

اما

$$F(b) = g(b) + k = \int_a^b f(t)dt$$

و

$$F(a) = g(a) + k = \int_a^a f(t)dt = 0$$

در نتیجه

$$k = -g(a)$$

و داریم

$$\int_a^b f(t)dt = g(b) - g(a)$$

$g(b) - g(a)$ را با $g(x) \Big|_a^b$ نیز نمایش می‌دهند.

نکته: در قضیه‌ی ۹ کافی است $g'(a)$ ، مشتق راست تابع g در نقطه‌ی a و $g'(b)$ ، مشتق چپ تابع در نقطه‌ی b باشد.

مثال ۱۴: اگر $g'(t) = f(t) = t$ و $g(0) = 2$ ، مقدار $g(b)$ را در نقاط $0, 1/2, 1, 3/4, \dots$ و ۱

پیدا می‌کنیم.

$$g(b) - g(0) = \int_0^b f(t) dt = \int_0^b t dt$$

یا

$$g(b) = 2 + \int_0^b t dt$$

در مثال ۶، $\int_0^b t dt$ را برای مقادیر مختلف b پیدا کرده و داریم $g(b) = 2 + \frac{1}{2}b^2$. پس مثلاً

b	۰	۰/۲	۰/۴	۰/۶	۰/۸	۱
$g(b)$	۲	۲/۰۲	۲/۰۸	۲/۱۸	۲/۳۲	۲/۵

مثال ۱۵: چون مشتق تابع $g(x) = -\cos x$ ، تابع $f(x) = \sin x$ است، پس

$$\int_0^{\frac{\pi}{2}} \sin x dx = -\cos x \Big|_0^{\frac{\pi}{2}} = 1$$

نکته: از قضیه‌ی اول برای محاسبه‌ی مشتق برخی از توابعی که به صورت انتگرال معین داده شده‌اند، می‌توان استفاده کرد، مثلاً داریم:

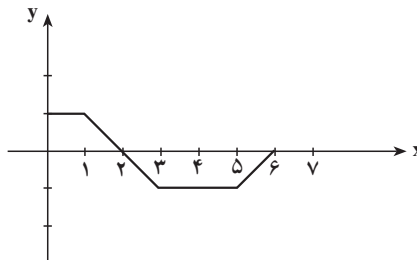
اگر $F(x) = \int_a^x f(t) dt$ ، آن‌گاه $F'(x) = f(x)$ و اگر $F(x) = \int_a^{g(x)} f(t) dt$ ، آن‌گاه

$$F'(x) = g'(x)f(g(x)) \quad (\text{چرا؟})$$

تمرین‌ها

۱- اگر نمودار تابع f مطابق شکل باشد و $F' = f$ و $F(0) = 0$ ، مطلوب است $F(b)$ برای نقاط

$$b = 1, 2, 3, 5, 6$$



۲- اگر $f(x) = 2x$ و $F(x) = x^2$ ،

الف) نشان دهید که $F' = f$.

ب) $\int_a^b f(x)dx$ را با استفاده از تعریف انتگرال معین محاسبه کنید.

ج) نشان دهید که $\int_a^b f(x)dx = F(b) - F(a)$

۳- مشتق‌های زیر را بدون محاسبه‌ی انتگرال معین داده شده به دست آورید.

الف) $\frac{d}{dx} \int_1^x \frac{\sin t}{t} dt$ ب) $\frac{d}{dt} \int_{\pi}^t \frac{\cos y}{1+y^2} dy$

۴- مشتق‌های زیر را پیدا کنید.

الف) $\frac{d}{dt} \int_0^{\cos t} \frac{dx}{4-x^2}$ ب) $\frac{d}{dt} \int_{\sin t}^{\cos t} \frac{dx}{4-x^2}$

۵- با استفاده از قضیه‌ی بنیادی و این که مشتق تابع $F(x) = \frac{1}{4}x^4$ برابر است با $f(x) = x^3$

برای هر $b > 0$ ، $\int_0^b x^3 dx$ را محاسبه کنید.

۶- نشان دهید برای هر $a > 0$ و $b > 0$

$$\int_a^b \frac{dt}{t} = \ln \frac{b}{a}$$

۷- مشتق توابع زیر را در دامنه تعریفشان به دست آورید.

الف) $f(x) = \ln|x|$ ب) $g(x) = \ln(\cos x)$

۶-۵- تابع اولیّه (انتگرال نامعین)

محاسبه‌ی انتگرال معین با استفاده از تعریف، بسیار طولانی و خسته‌کننده است ولی قضیه‌ی

بنیادی حساب دیفرانسیل و انتگرال که می‌گوید اگر $F'(x) = f(x)$ داریم

$$\int_a^b f(x)dx = F(b) - F(a) = F(x) \Big|_a^b$$

روشی را برای محاسبه‌ی انتگرال معین ارائه می‌دهد که با استفاده از آن جواب دقیق را می‌توان سریعاً

حساب کرد. این روش به شرطی به کار می‌رود که برای تابع f ، تابع F وجود داشته باشد که $F' = f$.

مثال ۱۶: برای محاسبه‌ی $\int_0^4 (\lambda - 2x) dx$

می‌بینیم اگر $F(x) = \lambda x - x^2$ ، آنگاه $F'(x) = \lambda - 2x$. پس

$$\int_0^4 (\lambda - 2x) dx = \lambda x - x^2 \Big|_0^4 = 16$$

نکته:

- برای دو تابع F و G ، $F' = G'$ ، اگر و تنها اگر $G = F + k$ که در آن k ثابت است.
- پیدا کردن تابع F که برای آن $F' = f$ ، در حقیقت عکس عمل مشتق‌گیری است.
- به دست آوردن F همواره ساده و امکان‌پذیر نیست، مثلاً برای تابع $f(x) = \sin x^2$ به سادگی نمی‌توان تابعی مانند F پیدا کرد که برای آن $F'(x) = f(x)$.

تعریف: اگر f تابعی باشد که در بازه‌ای شامل بازه‌ی بسته $[a, b]$ تعریف شده باشد، آنگاه F را تابع اولیه^۱ یا انتگرال نامعین تابع f می‌نامند اگر برای هر $x \in [a, b]$ ، $F'(x) = f(x)$. تابع اولیه‌ی تابع f را با

$$\int f(x) dx$$

نمایش می‌دهند.

دقت کنید که برای هر عدد حقیقی ثابت k ، $\int f(x) dx = F(x) + k$ ، وقتی که $F'(x) = f(x)$. پس هر تابع که تابع اولیه داشته باشد، بی‌نهایت تابع اولیه دارد، ولی هر زوج از آن‌ها اختلافی برابر عدد ثابت k دارند. به مثال زیر توجه کنید:

مثال ۱۷: برای تابع $f(x) = \lambda - 2x$ ، می‌توان توابع

$$F_1(x) = \lambda x - x^2$$

$$F_2(x) = \lambda x - x^2 + 1$$

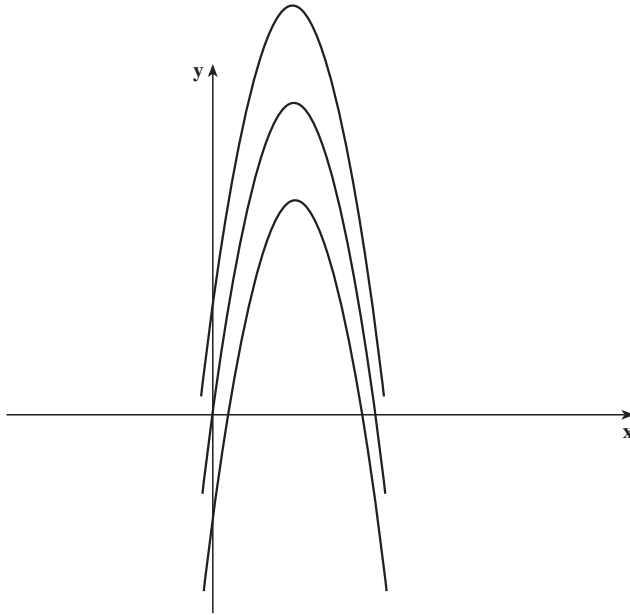
$$F_3(x) = \lambda x - x^2 - 1$$

را به عنوان تابع اولیه در نظر گرفت. مثلاً اگر تابع اولیه‌ای بخواهیم که نمودار آن از مبدأ بگذرد، داریم:

$$F'(x) = \lambda - 2x$$

۱- تابع اولیه در برخی از کتاب‌ها، تابع اولی هم نامیده شده است. از نظر دستور زبان فارسی هم تابع اولی صحیح‌تر است ولی ما همان لغت متداول آن را به کار می‌بریم.

پس $F(x) = \lambda x - x^2 + k$. چون می‌خواهیم $F(0) = 0$ ، $k = 0$ و F_1 جواب مورد نظر است. F_2 و F_3 نیز توابع اولیه $8 - 2x$ هستند که نمودار آن‌ها به ترتیب از نقاط $(0, 1)$ و $(0, -1)$ می‌گذرند.



نکته‌ی ۱: اگرچه برای نمایش انتگرال معین و انتگرال نامعین از یک علامت استفاده می‌شود ولی باید دقت کرد که $\int_a^b f(x) dx$ یک عدد حقیقی است درحالی که $\int f(x) dx$ ، دسته‌ای از توابع هستند که مشتق آن‌ها برابر f است.

همچنین

$$\int_a^b f(x) dx = \int f(x) dx \Big|_a^b$$

نکته‌ی ۲: برای محاسبه‌ی انتگرال معین با استفاده از تابع اولیه، تفاوتی ندارد که از کدام یک از تابع‌های اولیه استفاده کنیم چون

$$\begin{aligned} \int_a^b f(x) dx &= F(x) \Big|_a^b = F(b) - F(a) \\ &= F(b) + k - (F(a) + k) \\ &= G(b) - G(a) = G(x) \Big|_a^b \end{aligned}$$

وقتی که $F' = G' = f$. پس در محاسبه‌ی انتگرال معین می‌توان از نوشتن k صرف‌نظر

کرد.

مثال ۱۸: برای هر عدد گویای r چون اگر $f(x) = x^{r+1}$ ، آنگاه $f'(x) = (r+1)x^r$ ، پس

به ازای $r \neq -1$ ، داریم:

$$\int x^r dx = \frac{1}{r+1} x^{r+1} + k$$

و مثلاً

$$\int_1^3 x^2 dx = \frac{1}{3} x^3 \Big|_1^3 = 9 - \frac{1}{3} = \frac{26}{3} \approx 8.667$$

و یا

$$\int_1^4 \frac{dx}{\sqrt{x}} = \int_1^4 x^{-\frac{1}{2}} dx = \frac{1}{-\frac{1}{2}+1} x^{-\frac{1}{2}+1} \Big|_1^4 = 2$$

مثال ۱۹: چون به ترتیب مشتق تابع $\sin x$ برابر $\cos x$ و $\cos x$ برابر $-\sin x$ است،

$$\int \cos x dx = \sin x + k$$

و

$$\int \sin x dx = -\cos x + k$$

و مثلاً

$$\int_0^\pi \sin x dx = -\cos x \Big|_0^\pi = -\cos \pi - (-\cos 0) = 1 + 1 = 2$$

$$\int_0^\pi \cos x dx = \sin x \Big|_0^\pi = \sin \pi - \sin 0 = 0$$

برخی از ویژگی‌های تابع اولیه

با توجه به این که مشتق توابع $F \pm G$ برابر $F' \pm G'$ و مشتق تابع cF برابر cF' است.

$$\int (f(x) \pm g(x)) dx = \int f(x) dx \pm \int g(x) dx$$

و

$$\int cf(x) dx = c \int f(x) dx$$

و به طور کلی^۱

$$\int \{c_1 f(x) + c_2 g(x)\} dx = c_1 \int f(x) dx + c_2 \int g(x) dx$$

۱- تابع اولیه گرفتن عملی خطی است. با استقرای ریاضی می‌توان ثابت کرد که برای هر عدد طبیعی n

$$\int (c_1 f_1(x) + c_2 f_2(x) + \dots + c_n f_n(x)) dx = c_1 \int f_1(x) dx + \dots + c_n \int f_n(x) dx$$

مثال ۲۰:

$$\begin{aligned}\int (\lambda - 2x) dx &= \lambda \int x^0 dx - 2 \int x dx \\ &= \lambda x - \frac{2}{2} x^2 + k \\ &= \lambda x - x^2 + k\end{aligned}$$

و

$$\int (x^3 - 6x^2 + 9x + 1) dx = \frac{x^4}{4} - 2x^3 + \frac{9}{2}x^2 + x + k$$

و یا

$$\int_1^4 (x^3 - 6x^2 + 9x + 1) dx = \frac{679}{64} \approx 10.6094$$

(چرا؟) و نیز

$$\begin{aligned}\int (\sin x + 3 \cos x) dx &= \int \sin x dx + 3 \int \cos x dx \\ &= -\cos x + 3 \sin x + k\end{aligned}$$

و یا

$$\int \left(\sin x - \frac{2}{\sqrt{x^3}} \right) dx = -\cos x + \frac{4}{\sqrt{x}} + k$$

در اینجا قضیه‌ای را با استفاده از قاعده‌ی زنجیری اثبات می‌کنیم:

قضیه‌ی ۱۰:

$$\int g'(x)f(g(x))dx = F(g(x)) + k$$

که در آن F تابع اولیه‌ی تابع f است.

اثبات: مشتق $F(g(x)) + k$ برابر است با

$$g'(x)F'(g(x)) = g'(x)f(g(x))$$

مثال ۲۱:

$$\begin{aligned}\int x^3 \sqrt{x^4 + 5} dx &= \int \frac{1}{4} (4x^3) \sqrt{x^4 + 5} dx \\ &= \frac{1}{4} \int (4x^3) \sqrt{x^4 + 5} dx \\ &= \frac{1}{4} \times \frac{2}{3} (x^4 + 5)^{\frac{3}{2}} + k\end{aligned}$$

$$= \frac{1}{6} \sqrt{(x^2 + 5)^3} + k$$

و

$$\begin{aligned} \int x^2 \cos x^3 dx &= \int \frac{1}{3} (3x^2) \cos x^3 dx \\ &= \frac{1}{3} \sin x^3 + k \end{aligned}$$

تمرین‌ها

۱- برای هریک از تابع‌های زیر، تابع اولیه‌ای را پیدا کنید که نمودار آن از نقطه‌ی داده شده بگذرد.

الف) $f(x) = 3$ از مبدأ مختصات

ب) $f(x) = \sqrt{x}$ از (۱ و ۲)

ج) $f(x) = \sin x$ از (۰ و ۲)

۲- تابع اولیه‌های زیر را به دست آورید.

الف) $\int \frac{1}{\sqrt{x}} dx$ ب) $\int (x^3 + 5\sqrt{x} - \frac{2}{x^3}) dx$

ج) $\int (t^{\frac{3}{2}} + t^{-\frac{3}{2}}) dt$ د) $\int (\sin \theta - 4 \cos \theta) d\theta$

۳- انتگرال‌های معین زیر را پیدا کنید:

الف) $\int_{\frac{\pi}{6}}^{\pi} (\sin x + 2 \cos x) dx$ ب) $\int_1^2 \sqrt{x} dx$

۴- مقدار متوسط تابع $V(x) = \frac{6}{x^2}$ در بازه‌ی $[1, 4]$ برابر ۱ است. مقدار c را پیدا کنید.

۵- تابع اولیه‌های زیر را به دست آورید:

الف) $\int x(x^2 + 3)^2 dx$ ب) $\int x^2 \sin(x^3 + 5) dx$

ج) $\int \frac{\cos \sqrt{x}}{\sqrt{x}} dx$

۶- با استفاده و بدون استفاده از قضیه‌ی ۱.۰، $\int 4x(x^2 + 1) dx$ را به دست آورید.

۷- الف) نشان دهید که $\frac{(\frac{x^4}{4}) + 6x}{(\frac{x^3}{3})}$ تابع اولیه‌ی تابع $\frac{x^3+6}{x^2}$ نیست.

ب) تابع اولیه‌ی $\frac{x^3+6}{x^2}$ را به دست آورید.

۸- نشان دهید که یکی از توابع اولیه‌ی تابع $\frac{2}{1+4t^2}$ ، تابع $\text{Arctan}(2t)$ است.

۹- دو نوع هزینه برای حفاری چاه نفت وجود دارد، هزینه‌های ثابت که مستقل از مقدار حفاری است و هزینه‌های کناری که افزایش مقدار هزینه را با حفر ۱ متر اضافه تر در نظر می‌گیرد. این هزینه‌ها مشترکاً هزینه‌ی کلی برابر C را به دست می‌دهند. اگر هزینه ثابت برابر ۱۰۰۰۰ و $C'(x) = 4000 + 10x$ ، برحسب میلیون ریال بر متر، وقتی که x عمق چاه حفاری شده است، باشد. مطلوب است هزینه‌ی کلی چاهی به عمق ۱۰۰ متر.

۱۰- با استفاده از مفهوم انتگرال معین حدود زیر را به دست آورید.

الف) $\lim_{n \rightarrow \infty} \left(\frac{n}{n^2+1} + \frac{n}{n^2+4} + \frac{n}{n^2+9} + \dots + \frac{n}{2n^2} \right)$

ب) $\lim_{n \rightarrow \infty} \frac{\pi}{n} \left(\sin \frac{\pi}{n} + \sin \frac{2\pi}{n} + \dots + \sin \frac{n\pi}{n} \right)$

مسائل تکمیلی

۱- چند جمله‌ی اول هریک از دنباله‌های زیر را نوشته ثابت کنید که این دنباله‌ها واگرا هستند.

$$\left\{ \frac{n + (-1)^n n}{n+1} \right\} \text{ (الف)} \quad \left\{ n^{(-1)^n} \right\} \text{ (ب)}$$

۲- جمله‌ی اول یک دنباله $a_1 = 1$ و برای هر $n \in \mathbb{N}$ ، $a_{n+1} = 2a_n + 3$ ، چند جمله‌ی اول این دنباله را نوشته، ثابت کنید $a_n = 2^{n+1} - 3$. آیا این دنباله همگراست؟

۳- در مورد کراندار بودن و یکنوا بودن هریک از دنباله‌های زیر بحث کنید :

$$\left\{ n^2 + \cos \frac{\pi}{n} \right\} \text{ (الف)} \quad \left\{ \left(2 - \frac{1}{\sqrt[n]} \right)^2 \right\} \text{ (ب)} \quad \{ a_n \} \text{ (ج)}$$

$$a_n = \begin{cases} 1 & \text{فرد } n \\ -\frac{\pi}{2} & \text{زوج } n \end{cases} \quad \text{که}$$

۴- نشان دهید دنباله‌های $\{a_n\}$ که

$$a_{n+1} = \sqrt{2a_n} , \quad a_1 = 1 \text{ (الف)}$$

$$a_{n+1} = \frac{2(a_n+1)}{3} , \quad a_1 = 1 \text{ (ب)}$$

کراندار و صعودی‌اند. حدّ هریک را به دست آورید.

۵- با استفاده از تعریف ثابت کنید.

$$\lim_{x \rightarrow 3} \frac{x^2 - 6}{x - 2} = 3 \text{ (الف)}$$

$$\lim_{x \rightarrow 2} \frac{x^2 + 2}{5x - 8} = 3 \text{ (ب)}$$

$$\lim_{x \rightarrow 2^+} \frac{x+4}{[-x] - 3} = -1 \text{ (ج)}$$

۶- در مورد حد تابع $[x]$ در نقطه‌ی a بحث کنید (حالات $a \in \mathbb{Z}$ و $a \notin \mathbb{Z}$ را به‌طور جداگانه بررسی کنید).

۷- ثابت کنید دنباله‌ی $\left\{ \left[1 + \frac{1}{n} \right] \right\}$ حد دارد، حال آن‌که دنباله‌ی $\left\{ \left[1 + \frac{(-1)^n}{n} \right] \right\}$ حد ندارد.

۸- ثابت کنید که $\lim_{x \rightarrow 0} \frac{1 - \cos x}{x} = 0$.

۹- ثابت کنید که $\lim_{x \rightarrow 0} \frac{1 - \cos x}{\sin x} = 0$.

۱۰- تابع $f(x) = \lim_{n \rightarrow \infty} \frac{2nx}{1 - nx}$ در چه نقاطی ناپیوسته است؟ (دقت کنید که برای هر $x \in \mathbb{R}$ ،

دنباله‌ی $\left\{ \frac{2nx}{1 - nx} \right\}$ همگراست، حد این دنباله مقدار تابع در نقطه‌ی x است.) آیا این ناپیوستگی رفع‌شدنی است؟

۱۱- اگر $f(x) = \begin{cases} x & \text{گویا } x \\ 0 & \text{اصم } x \end{cases}$

در مورد پیوستگی f و ترکیب f با خودش (fof) در نقطه‌های مختلف بحث کنید.

۱۲- اگر $f(x) = \frac{x+1}{x-4}$ ($x \neq 4$) و $g(x) = \frac{x^2-5}{x-2}$ ($x \neq 2$)، در مورد پیوستگی fog در

نقاط $x=1$ و $x=4$ بحث کنید.

۱۳- در مورد پیوستگی تابع $f(x) = [x]^2 - [x]$ در نقطه‌ی $n \in \mathbb{Z}$ ، بحث کنید.

۱۴- مقادیر a و b را طوری تعیین کنید که تابع زیر در بازه‌ی $[-1, 1]$ پیوسته باشد.

$$f(x) = \begin{cases} a - x^3 & -1 \leq x < 0 \\ [x] + 1 & 0 \leq x < \frac{1}{2} \\ 2x + b & \frac{1}{2} \leq x \leq 1 \end{cases}$$

۱۵- اگر تابع f در بازه‌ی $[0, 1]$ پیوسته و برای هر $x \in [0, 1]$ ، $0 \leq f(x) \leq 1$ نشان دهید که

برای حداقل یک مقدار $c \in [0, 1]$

$$f(c) = c$$

۱۶- اگر یک تابع زوج در نقطه‌ی \circ از راست پیوسته باشد، نشان دهید که از طرف چپ هم

در نقطه‌ی \circ پیوسته است. (تابع f زوج است اگر برای هر $x \in D_f$ ، $f(-x) = f(x)$.)

۱۷- اگر تابع فردی در نقطه‌ی \circ از راست پیوسته باشد، نشان دهید $f(\circ) = 0$ و تابع در این

نقطه پیوسته است (تابع f فرد است اگر برای هر $x \in D_f$ ، $f(-x) = -f(x)$.)

۱۸- حدهای زیر را به دست آورید.

(الف)

$$\lim_{x \rightarrow \infty} \left(\frac{x}{x+1} - \frac{x}{x-1} \right)$$

(ب)

$$\lim_{x \rightarrow \infty} \frac{\sqrt{x^2 + 4}}{x + 4}$$

(ج)

$$\lim_{x \rightarrow \infty} \frac{\sqrt{x + \sqrt{x + \sqrt{x}}}}{\sqrt{x + 1}}$$

۱۹- ثابت کنید که اگر $\lim_{x \rightarrow a^+} f(x) = L$ ، آنگاه

$$\lim_{t \rightarrow \infty} f\left(\frac{1}{t}\right) = L$$

۲۰- ثابت کنید که هر چند جمله‌ای با درجه‌ی فرد، حتماً یک صفر دارد.

۲۱- با استفاده از قضیه‌ی دو جمله‌ای

$$(a + b)^n = a^n + na^{n-1}b + \frac{n(n-1)}{2!}a^{n-2}b^2 + \dots + nab^{n-1} + b^n$$

اثباتی برای مشتق‌پذیری تابع $f(x) = x^n$ در نقطه‌ی $a \in \mathbb{R}$ ارائه دهید.

۲۲- فرض کنید

$$f(x) = \begin{cases} \frac{1}{\sqrt{x}} & 0 < x < a \\ \frac{1}{4}x\sqrt{x} & a \leq x \end{cases}$$

(الف) برای چه مقدار a تابع f روی $(0, \infty)$ پیوسته است؟

ب) آیا f در مقدار به دست آمده در قسمت الف مشتق پذیر است؟
 ۲۳- برای چه مقدار k و b تابع

$$f(x) = \begin{cases} b + |x| & x < 1 \\ k\sqrt{x} & x \geq 1 \end{cases}$$

در نقطه‌ی ۱ مشتق پذیر است.

۲۴- آیا می‌توان a را چنان تعیین کرد که تابع f در \mathbb{R} مشتق پذیر باشد؟

$$f(x) = \begin{cases} ax - 3 & x < 1 \\ x^2 + a & x \geq 1 \end{cases} \quad (\text{الف})$$

$$f(x) = \begin{cases} ax + 1 & x \leq 1 \\ x^2 & x > 1 \end{cases} \quad (\text{ب})$$

۲۵- نشان دهید که تابع $y = \sqrt{1+x}$ در معادله‌ی

$$2(1+x)y' = y$$

که اصطلاحاً یک معادله‌ی دیفرانسیل نامیده می‌شود، صدق می‌کند.

۲۶- در صورتی که بدانیم برای $x \neq 1$

$$1 + x + x^2 + \dots + x^n = \frac{x^{n+1} - 1}{x - 1}$$

با استفاده از مشتق، فرمول‌هایی برای مجموع‌های زیر به دست آورید.

$$1 + 2x + 3x^2 + \dots + nx^{n-1} \quad (\text{الف})$$

$$1^2x + 2^2x^2 + 3^2x^3 + \dots + n^2x^n \quad (\text{ب})$$

۲۷- نشان دهید که تابع $y = f(x) = -\frac{1}{3}x^3 - \frac{3}{2}x^2 + x$ در معادله‌ی دیفرانسیل

$$y' - y' = x^2 + x - 4$$

صدق می‌کند.

۲۸- مشتق مرتبه‌ی n ام هر یک از تابع‌های زیر را بنویسید.

$$f(x) = \frac{1}{1-x} \quad (\text{الف})$$

$$g(x) = \frac{2x}{1-x^2} \quad (\text{ب})$$

۲۹- حاصل هریک از حدهای زیر را به دست آورید :

$$\lim_{t \rightarrow 0} \frac{\cos 5t - \cos t}{\cos 8t - \cos 2t} \quad (\text{الف})$$

$$\lim_{t \rightarrow 0} \frac{\cos^2 2t - \cos^2 t}{2 \cos 4t \sin t + \sin 2t} \quad (\text{ب})$$

۳۰- مقدار هریک از حدهای زیر را در صورت وجود به دست آورید.

$$\lim_{t \rightarrow \frac{\pi}{3}} \frac{\sin(t - \frac{\pi}{3})}{1 - 2 \cos t} \quad (\text{ب}) \quad \lim_{t \rightarrow \pi} \sin 2t \cot t \quad (\text{الف})$$

$$\lim_{t \rightarrow 0} \left(\frac{1}{\sin^2 t} - \frac{1}{2 \sin^2 \frac{t}{2}} \right) \quad (\text{د}) \quad \lim_{t \rightarrow \frac{\pi}{4}} \frac{\sin 2t - \cot 2t - 1}{\cos t - \sin t} \quad (\text{ج})$$

۳۱- a و b را چنان تعیین کنید که تابع زیر در هر نقطه $t \in \mathbb{R}$ پیوسته باشد.

$$f(t) = \begin{cases} \frac{a \cos 2t}{\sin t - \cos t} & t \neq k\pi - \frac{\pi}{4} \\ [2 \sin t] + b & t = k\pi - \frac{\pi}{4} \end{cases}$$

۳۲- از رابطه‌ی $y = \sin(t + y)$ مقدار y' را به دست آورید.

۳۳- a و b را طوری تعیین کنید که تابع زیر در نقطه‌ی $t = \pi$ مشتق پذیر باشد.

$$f(t) = \begin{cases} a \sin t + 3 \cos t & t < \pi \\ b \sin \frac{t}{2} + 2 \cos \frac{t}{2} & t \geq \pi \end{cases}$$

۳۴- نقاط ماکسیمم و مینیمم توابع زیر را به دست آورید.

$$y = 3x^2 - x^3 + 1 \quad (\text{الف})$$

$$y = x - 1 + \frac{1}{x+1} \quad (\text{ب})$$

۳۵- ثابت کنید دو عدد حقیقی که دارای مجموع ثابتی هستند، هنگامی دارای حاصل ضرب

ماکسیمم اند که با هم برابر باشند.

۳۶- نقاط ماکسیمم و مینیمم توابع زیر را به دست آورید.

$$y = \frac{x}{x^2 + 1} \quad (\text{الف})$$

$$y = \frac{\cos x}{2(\cos x - 2)} \quad (\text{ب})$$

$$y = \sqrt[3]{x^3 - 6x^2} \quad (\text{ج})$$

۳۷- جهت تقعر در بازه‌های مختلف و نیز نقاط عطف توابع زیر را در صورت وجود پیدا کنید.

$$f(x) = x + x^{\frac{2}{3}} \quad (\text{الف})$$

$$f(x) = \begin{cases} x^2 & x < 0 \\ \sqrt{x} & x \geq 0 \end{cases} \quad (\text{ب})$$

۳۸- نمودار دو منحنی $y = \cos 2x$ و $y = 2 \sin^2 x$ را در بازه‌ی $[0, 2\pi]$ ، روی یک دستگاه

مختصات، رسم کرده زاویه‌ی بین دو منحنی را حساب کنید. (زاویه‌ی بین دو منحنی زاویه‌ی بین خطوط مماس بر دو منحنی در نقطه‌ی تقاطع آن دو منحنی است).

۳۹- با استفاده از روش نیوتن کوچک‌ترین ریشه‌ی مثبت معادله‌ی $2 \sin x - x = 0$ را تا دو

رقم اعشار بیابید.

۴۰- مینیمم مقدار تابع $f(x) = x^4 - 2x^2 - 8x + 1$ روی R در چه نقطه‌ای قرار دارد؟ (با

دقت دو رقم اعشار) برای یافتن این مقدار از هریک از دو روش نصف کردن و یا نیوتن می‌توان استفاده کرد.

۴۱- با استفاده از مساحت مثلث حادث از ناحیه‌ی زیر خطی که از مبدأ مختصات و نقطه‌ی

$(1, \sin 1)$ می‌گذرد، یک کران پایین برای انتگرال زیر به دست آورید.

$$\int_0^1 \sin x dx$$

۴۲- نمودار سهمی $y = x(\pi - x)$ و منحنی $y = \sin x$ را رسم کرده، محل تلاقی آن‌ها را

به دست آورید و پس از آن مساحت بین این دو نمودار را محاسبه کنید.

مراجع

- [1] D. Hughes-Hallett, A.M. Gleason, et al, Calculus, (Preliminary Edition), John Wiley, (1992).
- [2] L. Leithold, The Calculus with Analytic Geometry, (Fifth Edition), Harper & Row (1986).
- ترجمه‌ی چاپ چهارم این کتاب را مرکز نشر دانشگاهی منتشر کرده است.
- [3] R.A. Silverman, Calculus with Analytic Geometry, Prentice- Hill (1985).
- ترجمه‌ی این کتاب را انتشارات ققنوس منتشر کرده است.
- [4] H.Anton, Calculus with Analytic Geometry, (Third Edition), John Wiley, (1988).



معلمان محترم، صاحب نظران، دانش آموزان عزیز و اولیای آنان می توانند نظر اصلاحی خود را در باره ی مطالب

این کتاب از طریق نامه به نشانی تهران - صندوق پستی ۳۶۲ ۱۵۸۵۵ - گروه درسی مربوطه و یا پیام نگار (Email):

talif@talif.sch.ir ارسال نمایند.

دفتر نشر یزدی و تبیین کتاب های ملی