

کاربرگه فعالیت



کاربرگه شماره ۱

طول و عرض جغرافیایی

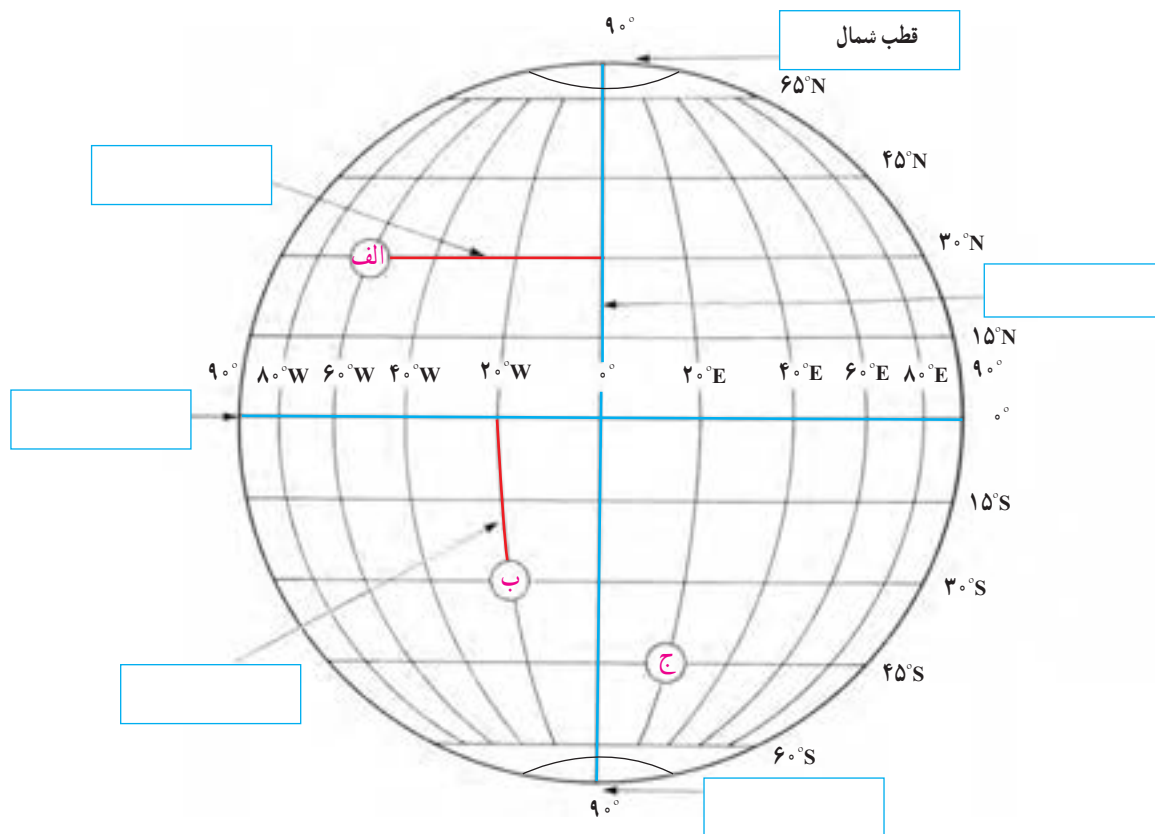
به شکل کره زمین که خط‌های فرضی نصف‌النهار و مدار از آن عبور کرده‌اند، دقت کنید. این خط‌ها با قطع کردن یکدیگر، شبکه‌هایی را به وجود آورده‌اند.

۱- هر یک از عبارات‌های زیر را مانند مثال در جای مربوط بنویسید.

نصف‌النهار مبدأ قطب جنوب استوا عرض جغرافیایی طول جغرافیایی

۲- با توجه به شکل زیر طول و عرض جغرافیایی مکان‌های زیر را بنویسید.

مکان	طول جغرافیایی	عرض جغرافیایی
الف	60°W	
ب		
ج		



کاربرگه شماره ۲

طول و عرض جغرافیایی بر روی نقشه

در این تصویر، نقشه استان کرمان را مشاهده می کنید. (توجه: هر درجه (°) ۶۰ دقیقه (′) است)



۱- نزدیک ترین طول و عرض جغرافیایی به هر یک از مکان های زیر را بنویسید.

(رودبار) ← و (رفسنجان) ← و
(یزد) ← و (بندرعباس) ← و

۲- نام شهر یا روستایی را که در نقاط زیر واقع شده است، به طور تقریبی بنویسید.

(30°N و 58°E) (30°N و 56°E) (55°N و 56°E)

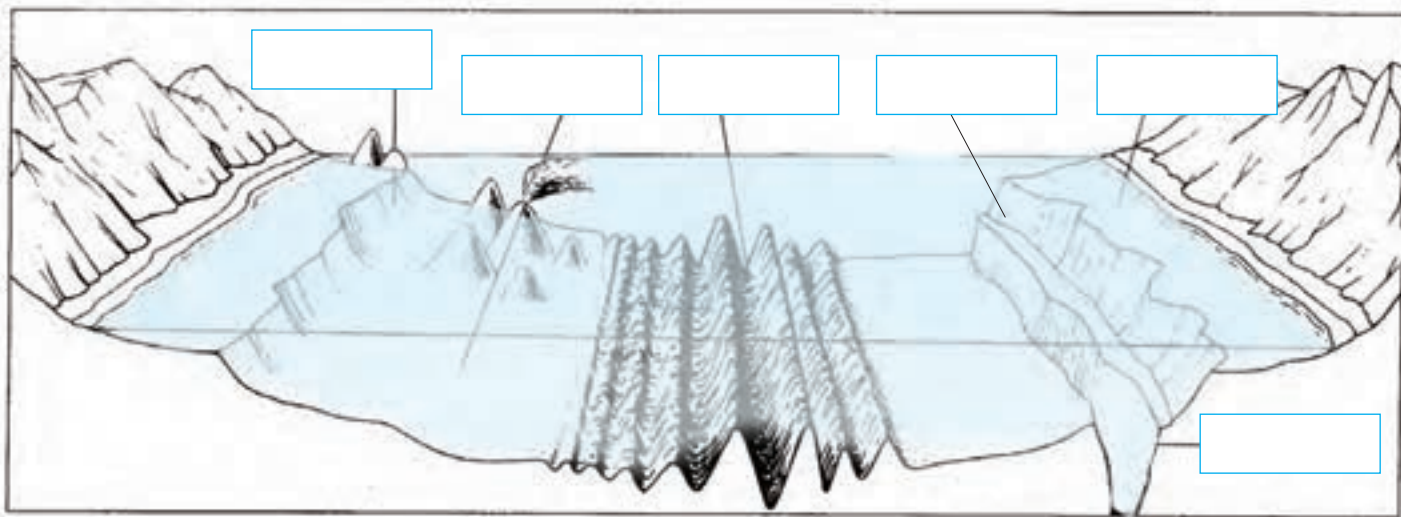
۳- به نظر شما، آیا ممکن است برای نشان دادن طول و عرض جغرافیایی مکانی در کشور ایران از علامت های W (غرب) و S (جنوب)

استفاده کنیم؟ چرا؟

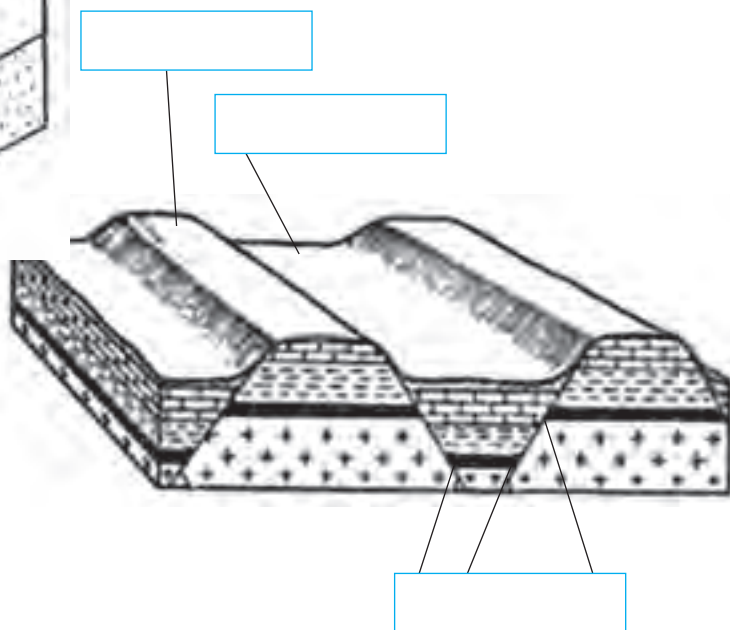
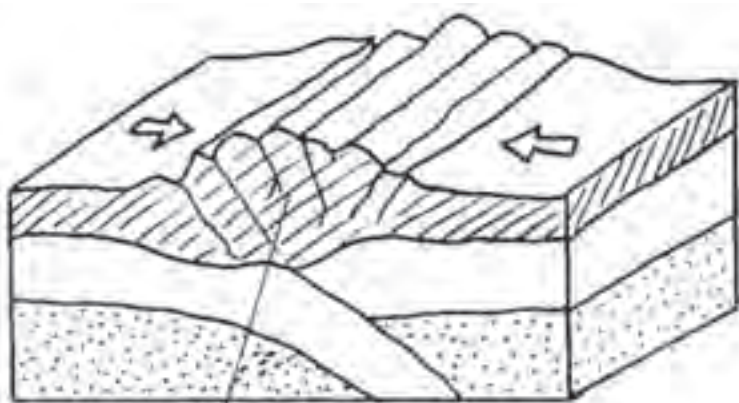


انواع ناهمواری‌ها

الف) این مدل، ناهمواری‌های بستر اقیانوس‌ها را نشان می‌دهد. موارد زیر را روی مدل در جای خالی بنویسید.
فلات قاره شیب قاره چین خوردگی‌های کف اقیانوس جزیره گودال اقیانوسی جزیره آتشفشانی



ب) روی مدل‌ها، موارد را در جای خالی بنویسید.
شکستگی (گسل) بالاآمدگی
دره چین خوردگی رسوبات

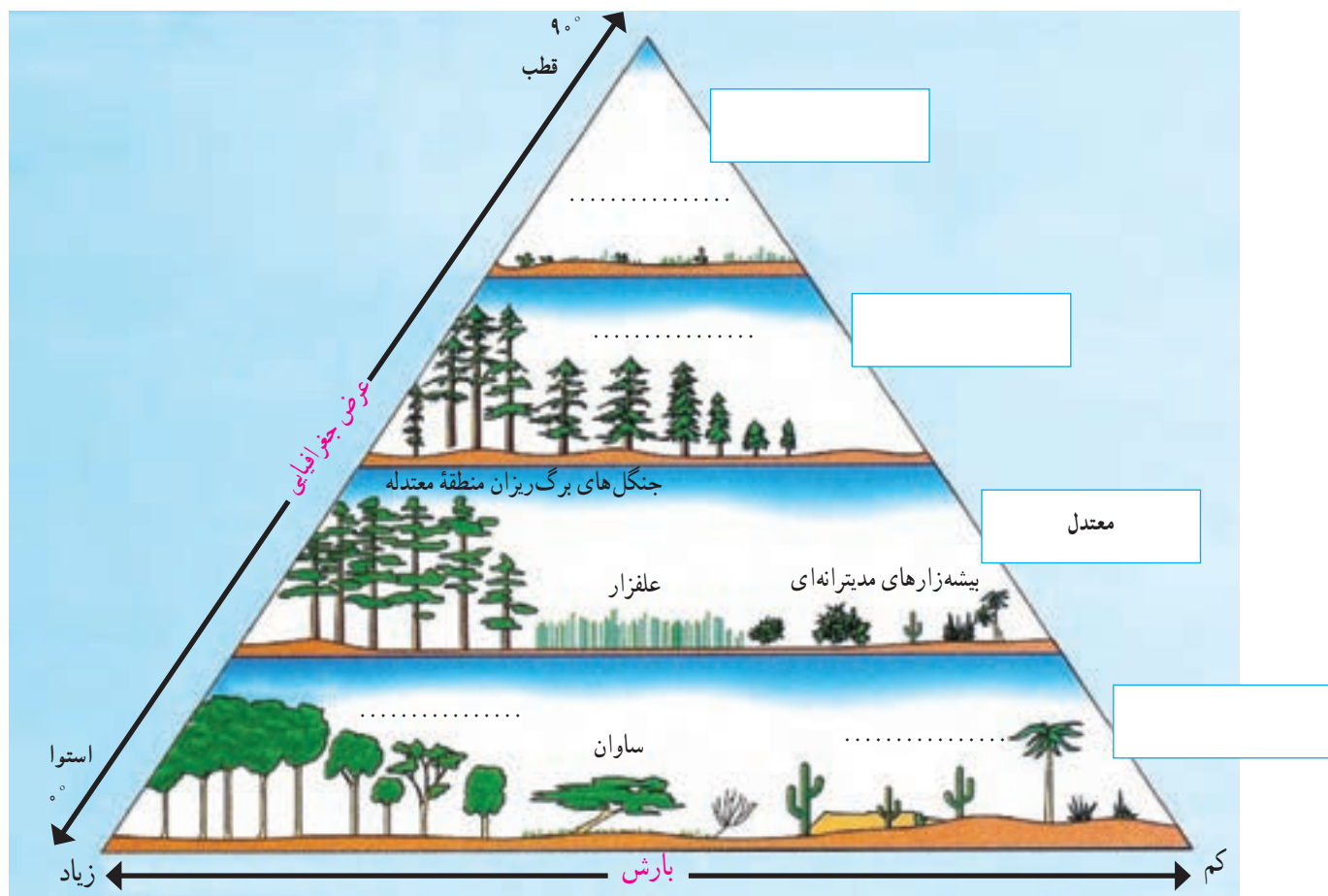




کاربرگه شماره ۴

رابطه پراکندگی زیست بوم‌های جهان با عرض جغرافیایی و بارش

- ۱- در خانه‌های مستطیل شکل، واژه‌های مناسب بگذارید: ناحیه قطبی، ناحیه جنب قطبی، ناحیه معتدل و ناحیه بین‌المدارین (بین مدار رأس‌السرطان و رأس‌الجدی)
- ۲- در نقطه چین‌ها واژه‌های مناسب بنویسید: توندرا، تایگا (مخروطیان)، بیابان، جنگل‌های استوایی.
- ۳- زیست‌بوم ساوان بین کدام زیست‌بوم‌ها، قرار گرفته است؟
- ۴- بین عرض جغرافیایی و میزان پوشش گیاهی چه رابطه‌ای وجود دارد؟ با ذکر علت از روی نمودار، توضیح دهید و مثال بزنید.
- ۵- بین میزان بارش و میزان پوشش گیاهی چه رابطه‌ای وجود دارد؟ با توجه به نمودار مثال بزنید.








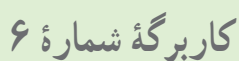


کاربرگ شماره ۵

زیست بوم های جهان

با توجه به نقشه ای که در سمت راست مشاهده می کنید، نوع زیست بوم را حدس بزنید و بنویسید. سپس با استفاده از دانسته های قبلی خود و آنچه در متن کتاب خوانده اید، جدول را کامل کنید.

نقشه	نام زیست بوم	آب و هوا	دو نمونه جانور و یک نمونه گیاه غالب




	ساوان



یک گروه پژوهشگر قصد دارند دربارهٔ زیست بوم‌های قاره آفریقا تحقیق کنند. آنها می‌خواهند از بندر ماتادی در کشور کنگو به بندر اسکندریهٔ مصر در کنارهٔ دریای مدیترانه بروند. این گروه به ترتیب از سه نوع زیست بوم عبور می‌کنند. این سه زیست بوم را نام ببرید. فرض کنید شما سرپرست این گروه هستید. نامه‌ای کوتاه به دوستان خود بنویسید و در آن نکات جالب و شگفتی‌هایی را که مشاهده کردید و یا گونه‌های در معرض خطر را شرح دهید.

[illegible][illegible]

نقشه سیاسی ایران در آستانه تأسیس حکومت صفویه



حاکمان ایران در آستانه تأسیس حکومت صفویه

خراسان : شاهزادگان تیموری

ساری و آمل : سادات مرعشی

لاهیجان : کیانیان

شیراز، اصفهان و همدان : سلطان مراد آق قویونلو

ایرفو : رئیس محمد

یزد : مراد بیک بایندر

کرمان : ابوالفتح بیک بایندر

هویزه : خاندان مشعشع

خرم آباد : ملک رستم

سمنان : حسین کیا چلاوی

کاشان : قاضی محمد و مولانا مسعود

تبریز : الوندبیک آق قویونلو

شروان : شروان شاهان

بغداد : باریک بیک پرنانک

به نقشه بالا دقت کنید و به پرسش‌های زیر پاسخ دهید.

۱- در آستانه شکل‌گیری حکومت صفویه، تقریباً چند حکومت محلی در ایران وجود داشت؟

۲- در آستانه شکل‌گیری حکومت صفویه، کدام کشورها ایران را تهدید می‌کرد؟ روی نقشه مشخص کنید.

۳- جدول را کامل کنید.

تهدیدهای داخلی	تهدیدهای خارجی	پیامدها و مشکلات سیاسی، اجتماعی، اقتصادی
		<ul style="list-style-type: none"> از رونق افتادن تجارت



کاربرگه شماره ۸

اداره شهرها و روستاها در عصر صفوی

در عهد صفویه شهرها و روستاها را تعدادی از صاحب منصبان اداری و نظامی اداره می کردند که تحت فرمان والی یا حاکم ولایت بودند. این صاحب منصبان عبارت بودند از :

داروغه : مسئول برقراری نظم و امنیت و جلوگیری از دزدی، غارت و نزاع در شهر و حومه آن بود.
حاکم شرع : قاضی شهر که به اختلافات و دعاوی حقوقی افراد براساس احکام شرعی رسیدگی می کرد.
محتسب : وظیفه داشت بر وزن و نرخ کالاها نظارت کند و از کارهای خلاف شرع جلوگیری نماید.
کلانتر : رابط میان اهالی شهر و اصناف با مقام های حکومتی بود و وظیفه داشت مراقبت کند که مالیات ها منصفانه میان مالیات دهندگان تقسیم شوند و مأموران حکومتی به مردم اجحاف و ستم نکنند.
کدخدا : وظایف کلانتر را در روستا انجام می داد.

از طریق به هم متصل کردن واژه ها و عبارت های دو ستون، مشخص نمایید که در زمان کنونی تقریباً چه نهادهایی وظایف صاحب منصبان شهری و روستایی دوره صفویه را انجام می دهند؟

دادگستری

داروغه

شورای روستا

حاکم شرع

سازمان تعزیرات حکومتی

محتسب

نیروی انتظامی

کلانتر

سازمان امور مالیاتی

کدخدا



کاربرگ شماره ۹

جدایی سرزمین‌های ایرانی در دوره قاجار



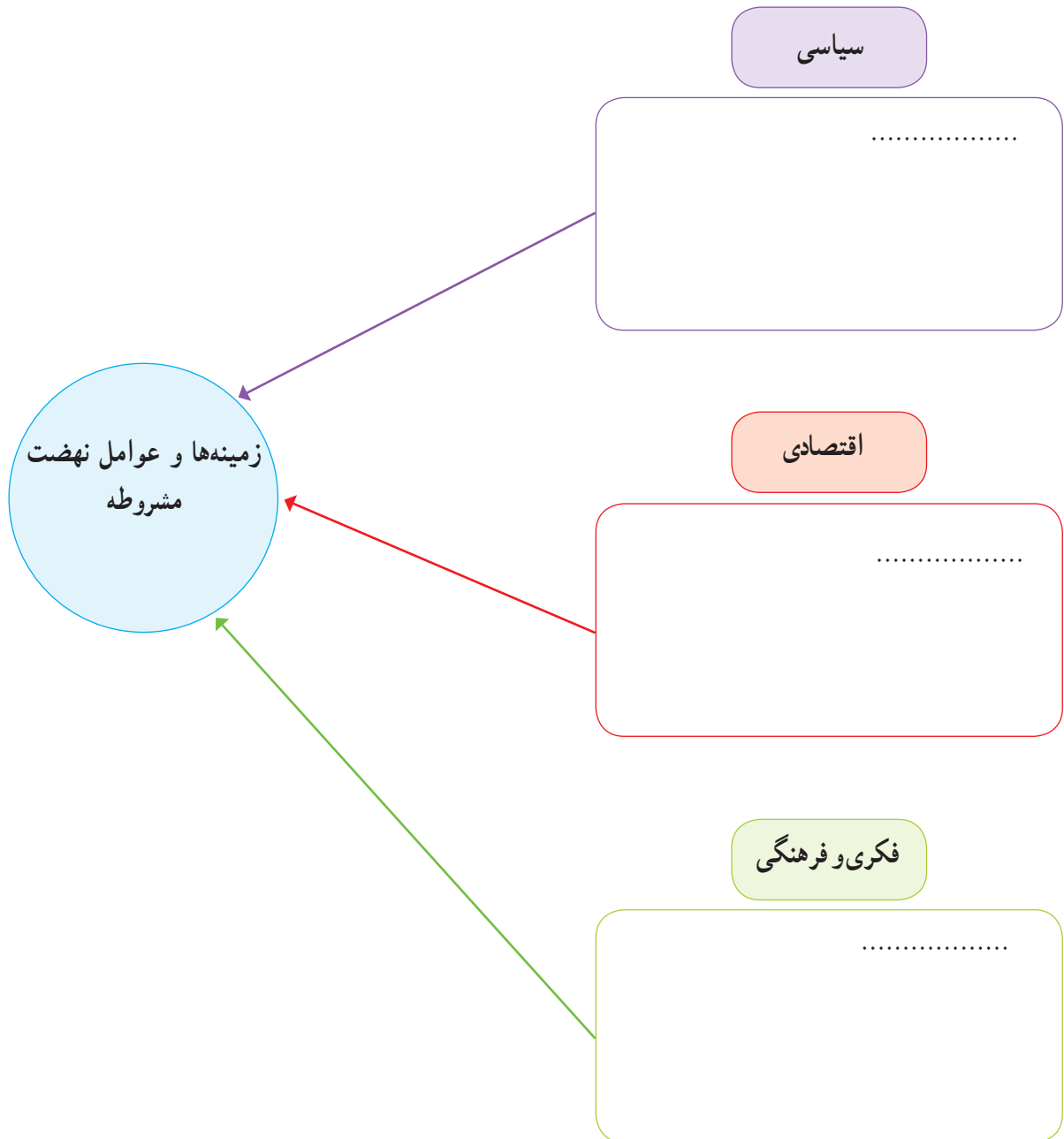
- عهدنامه گلستان
عهدنامه ترکمان‌چای
عهدنامه آخال
عهدنامه پاریس
قرارداد گلداستیت

با توجه به نقشه بگویید شهرها یا مناطق زیر توسط کدام کشور، در زمان کدام شاه قاجار و با چه عهدنامه و قراردادی از ایران جدا شدند؟

کشور استعمارگر	عنوان عهدنامه و قرارداد	
۱- تفریس و گنجه :		
۲- هرات :		
۳- مرو و خیوه :		
۴- ایروان و قره‌باغ :		
۵- بلوچستان و سیستان شرقی :		

زمینه‌ها و عوامل نهضت مشروطه

با مطالعه دقیق متن کتاب و اطلاعاتی که از منابع دیگر دارید، نمودار زیر را کامل کنید.





سخنرانی تاریخی امام خمینی در عصر عاشورا

فرازهایی از سخنان امام در عصر عاشورای ۱۳۴۲ را به دقت بخوانید و به پرسش‌های زیر پاسخ دهید.

«اگر دستگاه جبار با مراجع سر جنگ داشت و با علمای اسلام مخالف بود، به قرآن چه کار داشت؟ به مدرسه فیضیه چه کار داشت؟ به طلاب علوم دینی چه کار داشت؟ ... اینها با اساس اسلام و روحانیت مخالف‌اند؛ اینها نمی‌خواهند این اساس موجود باشد... اسرائیل نمی‌خواهد در این مملکت قرآن باشد، اسرائیل نمی‌خواهد در این مملکت علمای اسلام باشند. اسرائیل نمی‌خواهد در این مملکت احکام اسلام باشد، اسرائیل نمی‌خواهد در این مملکت دانشمند باشد. اسرائیل به دست عمال سیاه خود مدرسه فیضیه را کویید، ما را می‌کوبد، شما ملت را می‌کوبد، می‌خواهد اقتصاد شما را قبضه کند. می‌خواهد تجارت و زراعت را از بین ببرد، می‌خواهد ثروت شما را تصاحب کند.

ای آقای شاه، ای جناب شاه، بدبخت، بیچاره، ... به تو نصیحت می‌کنم. دست از این اعمال و رویه بردار! من میل ندارم که اگر روزی ارباب‌ها بخواهند تو بروی، مردم شکرگزاری کنند! من نمی‌خواهم تو مثل پدرت باشی ... کمی تأمل کن! ... کمی عبرت بگیر! عبرت از پدرت بگیر!».

- ۱- انگیزه اصلی امام از مخالفت و مبارزه با حکومت شاه چه بوده است؟
- ۲- در کلام امام خمینی چه خطر و تهدیداتی از جانب اسرائیل متوجه ایران بود؟ آیا این تهدیدها هم اکنون نیز وجود دارد؟
- ۳- منظور امام از ارباب‌ها در سطر دوم پاراگراف آخر کیست؟
- ۴- اینکه امام به شاه نصیحت می‌کند که از پدرت عبرت بگیر، اشاره به چه واقعه تاریخی دارد؟

رویدادهای مهم انقلاب اسلامی در سال ۱۳۵۷

به بریده روزنامه‌های دوران انقلاب اسلامی دقت کنید و به پرسش‌ها پاسخ دهید.

۱۳ مهر ۱۳۵۷

(۲)

۱۸ شهریور ۱۳۵۷

(۱)



۲۳ بهمن ۱۳۵۷

(۴)

۱۲ بهمن ۱۳۵۷

(۳)



۱- عنوان اصلی بریده شماره ۱، مربوط به چه رویدادی است؟

۲- بر اساس خبر بریده شماره ۲، چرا امام عراق را ترک کردند؟

۳- به بریده شماره ۲ دقت کنید و بگویید حکومت شاه برای آرام کردن مردم، چه قول‌هایی داد؟

۴- در بریده شماره ۳، منظور امام از «مملکت ۲ دولت ندارد، تو غیرقانونی هستی، برو» کدام دولت است؟

۵- در بریده شماره ۴، منظور از «کاخ ۵۷ ساله ظلم» چیست؟

۶- به بریده شماره ۴ دقت کنید و بگویید با فرو ریختن کدام سنگ‌های رژیم پهلوی، انقلاب پیروز شد؟

لایه‌های فرهنگ

متن زیر دربارهٔ روستای خان‌آباد نوشته شده است. خان‌آباد (محمدیه) روستایی کوهستانی است که در بخش جنوبی استان مرکزی و در ۳۵ کیلومتری غرب شهرستان خمین واقع شده و حدود ۵۰۰ نفر جمعیت دارد. متن را بخوانید و چند مورد از نمادها، هنجارها، ارزش‌ها و عقاید مردم این روستا را از متن استخراج و دسته‌بندی کنید و در جدولی بنویسید.

... روستای خان‌آباد با توجه به قدمت باستانی و داشتن آثار تاریخی و آب و هوای مناسب و جاذبه‌های طبیعی، قابلیت زیادی برای گردشگری دارد. با توجه به تحقیقات باستان‌شناسی، قدمت سکونت در این منطقه به حدود ۳۰۰۰ سال پیش برمی‌گردد. از جمله آثار باستانی روستا که نشانه‌هایی از این قدمت دارد می‌توان به چند قلعه قدیمی و چند قطعه سنگ نگاره و چهار غار در کوه‌های منطقه اشاره کرد.

از دیدنی‌های روستا یکی حفره‌ای در بلندترین نقطه کوه گره است که مردم منطقه آن را به نام «سوراخ بند باز» می‌شناسند و بنا بر روایاتی که سینه به سینه نقل شده، این حفره محل کمین و پناه‌گاه شخصی به نام بند باز بوده که البته قسمت‌هایی از آن تخریب شده است. «سنگ گینه» نیز از آثار قدیمی روستاست. در گذشته مردم روستا جهت تعیین زمان نقل و انتقال آب قنات از یک کشاورز به کشاورز دیگر جهت آبیاری زمین‌ها و باغ‌ها از این سنگ به‌عنوان ساعت استفاده می‌کردند. این سنگ در ضلع جنوب شرقی کوه گره و در دژه‌ای به نام دره گینه قرار دارد. تعیین زمان به این صورت بوده که در هنگام غروب که سایه کوه به این سنگ می‌رسیده، نقل و انتقال آب آغاز می‌شده است.

شغل اصلی اهالی روستای خان‌آباد کشاورزی و دامداری است.

... زنان روستا در گذشته (حدود نیم قرن پیش) پیراهن‌های بلند چیت و شلوار گشاد می‌پوشیدند. همهٔ زنان نوعی پوشش در روی سر داشتند که آن را چارقد می‌نامیدند و در زیر گردن با سنجاق قفلی آن را محکم می‌کردند، آنها از کفش‌های لاستیکی به نام گالش و در هنگام انجام فعالیت‌های روزانه از نوعی دمپایی روبسته به نام اروسی استفاده می‌کردند و فایده آن این بود که خار و خاشاک کمتری با پاها تماس پیدا می‌کرد. لباس مردها یک پیراهن بلند با دو جاک در طرفین و یک شلوار و یک کمر بند (شال دور کمر) و کفش‌های لاستیکی بود که عمدتاً جنس آنها از پارچه‌های ارزان قیمت چیت و کرباس بود. از نظر اجتماعی، داشتن کلاه بین مردان مسن ترده بسیار اهمیت داشته است.

در حال حاضر، مردان ده لباس‌های متداول مانند کت و شلوار و پیراهن و زن‌ها پیراهن و بلوز و دامن و شلوار و روسری می‌پوشند و هر چند در بین قدیمی‌ترها استفاده از شلوارهای پاچه گشاد، چارقد، کفش‌های لاستیکی، عبا دیده می‌شود اما نسل جدید لباس‌هایی با رنگ‌های شاد و مدل‌های روز را می‌پوشند. به‌علت همجواری روستای خان‌آباد با استان لرستان لهجه محلی روستا فارسی آمیخته با لری است و در کلمات فارسی، حرکات آن تغییر کرده و به‌حالت بسیار شیرین تکلم می‌شود. متأسفانه با نفوذ فرهنگ شهرنشینی در بین اهالی این گویش محلی شیرین کم‌کم رو به فراموشی می‌رود.

خواهر = خو آر	برادر = برار، کاکا	شب = شیو	پشه = پخشه	سرفه = کوو	صورت = توررو	عطسه = پشکه
خواب = خو	آستین = انگله	تاب بازی = قوقو	دیزی = دیگیله	آنطرف = اولا	زبان = زوآن	

روستای خان‌آباد، مسجد جامع و چند حسینیه دارد. از زیباترین و باشکوه‌ترین مراسم مذهبی که در روستای خان‌آباد اجرا می‌شود عزاداری دهه محرم است. یادواره شهدای روستا نیز به همت دهیاری، شورای اسلامی، انجمن جوانان، هیئت امناء و کانون فرهنگی هنری شفق و مسجد خاتم الانبیاء در روستا برگزار می‌شود و طی مراسمی افراد به دیدار خانواده شهدای روستا می‌روند و یاد و خاطره آنها را گرامی می‌دارند.

در روستای خان‌آباد رسم بر این است که هر سال بعد از پایان بارندگی‌های فصل بهار زن‌های روستا با همکاری و کمک همدیگر آش نذری کریم می‌پزند که به نیت زیاد شدن آب کریم (قنات اصلی روستا) و یا کم نشدن آب آن است و نذر می‌کنند که سال پر برکتی برای آنها باشد و بعد از پخت آش آن را بین همه اهالی تقسیم می‌کنند.

با گذشت زمان، برخی آداب و رسومی که در روستا با تشریفات خاصی انجام می‌شده از خاطر رفته اما برخی نیز با کمی تغییر، هر ساله اجرا می‌شود. شامگاه چهلمین روز پس از جشن شب چله، در جلّه زمستان، جشن ناقالی «کردعلی کوه» «سده» یا «سده سوزی» برگزار می‌شود. اهالی روستای خان‌آباد بر این باورند که سرمای زمستان در این هشت روز که برابر با چهار روز آخر چله بزرگ و چهار روز اول چله کوچک است به اوج خود می‌رسد و بعد از پایان این هشت روز زمین نفس می‌کشد و زندگی را از سر می‌گیرد. پس، به همین مناسبت جشن می‌گیرند و با آتش زدن مترسکی کریم و زشت به نام کوله مرجان که نماد چیره شدن نور بر ظلمت و سیاهی می‌باشد می‌گویند: «ناقالی گنه گنه چله رفته پنجا مانه». این مراسم هر ساله در روستای خان با حضور اهالی روستا و مهمانانی

از روستاهای همجوار در دهم بهمن ماه (چهل روز از زمستان گذشته و پنجاه روز به نوروز مانده) برگزار می شود. کشاورزان و باغداران نیز با قرار دادن تکه سنگی در روی تنه درختان میوه آرزوی سالی پر بار را در سر می پروراند آنها بر این باورند که قرار دادن سنگ در لابه لای شاخه و یا روی تنه درختان باردهی درخت را افزایش می دهد.

... رفتن به مهمانی های شبانه یا شب نشینی و خوردن شب چره از کارهای متداول اهالی خان آباد است. شب نشینی در اواخر پاییز و فصل زمستان بیشتر صورت می گیرد زیرا در روستاها بعد از برداشت محصول در فصل پاییز، اوقات فراغت و بیکاری روستائیان آغاز شده و تا پایان زمستان ادامه پیدا می کند. در شب های بلند زمستان، خانواده ها به دیدار اقوام، آشنایان و دوستان می روند. زنان در یک طرف کُرسی، کودکان در کنار هم و مردان خانواده نیز در طرف دیگر کرسی نشسته و با یکدیگر گفت و گو می کنند. افراد ابتدا از کارهای روزانه خود صحبت می کنند و خاطراتی نیز از گذشتگان بیان می کنند. بیان داستان ها و یا حوادث تاریخی که به آن مثل می گویند و معمولاً توسط بزرگ ترها و باسوادترها بیان می شود، بسیار جذاب و شیرین است به طوری که در هنگام بیان آنها سکوت مطلق حاکم می شود و همگی سراپا گوش می شوند. از ضروریات شب نشینی ها در خان آباد، خوردن «شب چره» است که در لهجه خان آبادی «شیوچر» می گویند. بعد از خوردن چای و کمی گفت و گو، زن میزبان به اندرونی رفته و با یک مَجْمَعه بزرگ که حاوی بشقاب هایی از تنقلات رنگارنگ مانند مغز گردو، مغز بادام، مغز هسته زردآلو، شاهدانه، نخودچی، کشمش، برگه، آلو، سنجد و گندم بوداده است وارد اتاق مهمانان می شود و بشقاب ها را به طرز مناسب بر روی کرسی و در مقابل مهمانان و سایر افراد قرار می دهد.

جشن خرمن زمانی برگزار می شود که محصولات در حال برداشت است. در این زمان، جوانان و بچه ها شادمانی خاصی دارند و با این شادمانی به محل خرمن می روند و از صاحب خرمن درخواست می کنند مقداری از محصول را به صورت پاداش به آنها بدهد که اصطلاحاً کوکوله می گویند. صاحب خرمن نیز با شادمانی خاصی مقداری از آن را که حدود ۲ تا ۳ کیلو می باشد به آنها می دهد و آنها نیز به همراه بچه های دیگر با پول یا کالایی که از فروش یا معامله آن به دست آورده اند، جشن می گیرند. اعتقاد بر این است که این عمل موجب برکت محصولات می شود.

... از مراسمی که در شب عید برگزار می شده و هنوز هم کم و بیش به قوت خود باقی است «تخ تخی» است. جوانان روستا در شب عید بر پشت بام ها رفته و پارچه ای که معمولاً چادر خانم ها است را از پشت بام خانه اهالی طوری آویزان می کنند که جلو درب ورودی خانه باشد و از اهل خانه طلب عیدی که معمولاً سکه یا تخم مرغ رنگی است می کنند، سپس اهل خانه عیدی را به چادر گره زده و چادر را به علامت بستن عیدی کمی تکان می دهند و چادر بالا کشیده می شود. البته در گذشته چادر از سوراخی که روی پشت بام بوده (دریچه) و جهت تهویه خانه از آن استفاده می شده آویزان می شد. این مراسم در اصطلاح تخ تخی نام دارد. در روستای خان آباد اعتقاد بر این است که سفره صبحانه روز نوروز را یکی از افراد فامیل که معمولاً پسر بزرگ فامیل است باز کند تا سفره همیشه پربرکت باشد. لذا در روز عید کسی حق باز کردن آن را ندارد تا فرد مورد نظر آن را باز کند و داخل سفره نیز کادویی قرار می دهند و شخصی که سفره را باز می کند کادو متعلق به اوست.

در نانوایی روستای خان آباد، نان شیرمال و فتیر محلی به مناسبت عید نوروز پخته و عرضه می شود. متأسفانه با ورود فرهنگ شهرنشینی در روستا خیلی از مراسم ها فراموش شده اند که از جمله می توان به مراسم پخت نان اشاره نمود. دیگر در روستا خبری از تنورهایی که با ملاتی از گل و موی بز ساخته می شد، نیست. همچنین از بوی دود تنور که هنگام صبح قبل از طلوع آفتاب به مشام می خورد و انسان را از خواب بیدار می کرد.

... مردم خان آباد به چشم کردن اعتقاد زیادی دارند. برای جلوگیری از چشم زخم، مهره هایی آبی رنگ به نام مُرْکُو آویزان می کنند و نیز آیه «وَإِنْ يَكَادُ» و ادعیه را با سنجاق بر شانه چپ افراد نصب می کنند. ریختن اسپند بر آتش و به اصطلاح اسفند دود کردن نیز همچون سایر مناطق ایران برای رفع چشم زخم مرسوم است. در خان آباد برای خنثی کردن اثر چشم زخم اشعاری را به زبان محلی می خوانند.

اهالی روستای خان آباد همچنین بر این باورند، اگر نوزادی در هنگام سپیده دم به دنیا بیاید موجب برکت است. رسم بر این است که اگر فردی کاری را شروع می کند مثلاً دار کردن قالی یا پخت نان و... انتظار دارند این فرد در ابتدای کار در آنجا حضور داشته باشد و یا او را دعوت می کنند تا موجب برکت در آن کار شود و اصطلاحاً می گویند فلان شخص پای سبکی دارد.

برگرفته از تارنمای روستای خان آباد

با تصرف و تلخیص

www.khanabad.ir

سازگاری همسران

۱- موقعیت‌های زیر را بخوانید. در مقابل هر موقعیت، یکی از عبارت‌های زیر را انتخاب کنید و بنویسید. سپس، برای تکمیل آن موقعیت جمله‌ای بنویسید که راهکاری برای سازگاری در خانواده باشد.

عذرخواهی و جبران

بهانه جویی نکردن

ادب و احترام

قدردانی کردن

گذشت

* آقای سعیدی در حالی که کیسه‌های خرید میوه و سبزی را در هر دو دست دارد، وارد خانه می‌شود.
همسر او

.....

* اعضای خانواده آقای صدیقی، برای زیارت به مشهد رفتند و خانه‌ای اجاره کردند. یک شب پس از برگشتن از حرم به خانه، آقای صدیقی کیف و جیب‌هایش را جست و جو کرد اما کلید خانه را پیدا نکرد. کلید گم شده بود و اعضای خانواده، هم بسیار خسته بودند.
آقای صدیقی
همسرش

عذرخواهی و جبران

* آقای دادخواه با خانواده به مسافرت رفته و در حال رانندگی است. او هرچند لحظه یک بار، درباره اینکه برادر همسرش یک ماه پیش در جایی به او تعارف نکرده است، حرف می‌زند و مدام این مسئله را تکرار می‌کند.
آقای دادخواه نباید

.....

* مهمان‌ها در حال نوشیدن چای و خوردن میوه‌اند. همسر آقای احمدی از آشپزخانه وارد اتاق می‌شود و در حال نگاه کردن است که جایی برای نشستن پیدا کند.
آقای احمدی

.....

* ساعت ۱۰ صبح آقای ناصری به همسرش تلفن می‌کند و می‌گوید برادرش با خانواده به سمت شهر آنها حرکت کرده است و برای ناهار به خانه آنها می‌آیند. بعد از ظهر هم وقت ملاقات با دکتر دارند. از طرفی، همسر آقای ناصری را یکی از دوستانش به ناهار دعوت کرده است.
همسر آقای ناصری می‌تواند

.....

سازگاری والدین و فرزندان

الف – جدول زیر را کامل کنید. چند مورد از انتظارات مهمی را که والدین از شما و شما از والدین خود دارید، بنویسید.

انتظارات والدین از من	انتظارات من از والدین
* آنها از من می خواهند	* من انتظار دارم
*	*
*	*
*	*
*	*

ب – جدولی را که کامل کرده اید، به پدر و مادرتان نشان دهید. آیا انتظارات والدین را درست نوشته اید؟ درباره انتظارات متقابل با خانواده گفت و گو کنید.

۲- ایلیا دوست دارد روزهای تعطیل با دوستانش به گردش برود. والدین ایلیا نگران سلامت اخلاقی این معاشرت ها و مواجه شدن او با محیط ها و عقاید و ارزش های مخالف ارزش های خانواده هستند. پیشنهاد شما برای حل این مسئله به طوری که انتظارات هر دو طرف برآورده و رعایت شود، چیست؟



حقوق و تکالیف شهروندی

حکومت و شهروندان در قبال یکدیگر از حقوقی برخوردارند و تکالیفی برعهده دارند. با توجه به آنچه در فصل یازدهم آموخته‌اید، جدول زیر را کامل کنید.

شهروندان/ ملت	حکومت/ دولت
شهروندان وظیفه دارند مالیات بپردازند.	حکومت وظیفه دارد
شهروندان وظیفه دارند	حکومت وظیفه دارد امنیت را برقرار کند و از سرزمین و مرزهای کشور دفاع کند.
شهروندان حق دارند در امور سیاسی کشور و انتخاب مسئولان توانمند و شایسته مشارکت کنند.	حکومت وظیفه دارد
شهروندان وظیفه دارند	حکومت وظیفه دارد قوانین مناسب و عادلانه‌ای تدوین و تصویب کند.
شهروندان حق دارند از تأمین اجتماعی برخوردار شوند.	حکومت وظیفه دارد

موقعیت‌های زیر را بخوانید و برای افزایش بهره‌وری در هر مورد، پیشنهادی با توضیح بنویسید.

قرار است نسرین با مادرش به دندان‌پزشکی برود. او می‌داند که کار ترمیم و پرکردن دندان مادرش یک ساعت و نیم تا دو ساعت طول می‌کشد و او باید این زمان را در اتاق انتظار مطب بنشیند.

.....
.....

خانم میرزایی در یک آپارتمان ۴ واحدی زندگی می‌کند. همسایه‌ها روابط خوبی با هم دارند. آنها یک باغچه مشترک ۱۵ متری در حیاط دارند که فقط چند بوته گل در آن کاشته شده و بیشتر آن بدون استفاده مانده است.

.....
.....

قرار است یک نمایشگاه عکاسی از طبیعت، در مدرسه برپا شود که مدیریت آن به عهده شماس است. شما با مسائلی چون انتخاب ۱۰ نفر دانش‌آموز برای عکاسی، برنامه‌ریزی برای تعیین مکان‌های عکس‌برداری از طبیعت و چگونگی رفتن به آن مکان‌ها، مکان برگزاری نمایشگاه، چگونگی بازدید مدعوین و ... روبه‌رو هستید. به عنوان مدیر گروه و نمایشگاه، طرحی بریزید که در هر یک از این مراحل و اقدامات بهره‌وری رعایت شود.

.....
.....
.....
.....
.....

حل مسئله

سال گذشته، برگزاری جشنواره مقاله‌های برتر به مؤسسه‌ای واگذار شد. افراد مؤسسه می‌بایست ۲۰۰ مقاله را که از طرف پژوهشگرانی از سراسر کشور برایشان ارسال شده بود، به ۲۵ نفر از استادان رشته‌های مختلف می‌دادند تا آنها را بخوانند و بررسی کنند. سپس، روی فرم‌های مخصوص به آن مقاله‌ها امتیاز بدهند، ده مقاله برتر را انتخاب کنند و به آنها جایزه بدهند. هر مقاله را سه استاد (داور) بررسی و امتیازدهی می‌کردند. بعضی از استادان در شهر محل برگزاری جشنواره و بعضی دیگر در شهرهای اطراف ساکن بودند. مؤسسه مدت دو هفته هر روز از چند تن از استادان دعوت می‌کرد که در محل موردنظر حاضر شوند و مقاله‌ها را بررسی کنند. هزینه‌های این کار به شرح زیر بود:

ردیف	موارد	هزینه (تومان)
۱	اجاره محل بررسی مقالات	۲,۵۰۰,۰۰۰
۲	دستمزد یک نفر خدمه برای پذیرایی (چای و ناهار)	۲۰۰,۰۰۰
۳	هزینه آمد و رفت استادان به محل (تاکسی، آژانس و ...)	۱,۰۰۰,۰۰۰
۴	ناهار و پذیرایی	۶۵۰,۰۰۰
۵	دستمزد استادان بابت بررسی مقالات	۲۰,۰۰۰,۰۰۰
۶	هزینه تکثیر مقاله و پیک	۴۵۰,۰۰۰
جمع کل		۲۴,۸۰۰,۰۰۰

سؤال: اگر قرار باشد امسال دوباره همین جشنواره برگزار شود، به نظر شما این مؤسسه چگونه می‌تواند برخی هزینه‌ها را کاهش دهد یا حذف کند؟ (توجه کنید که تعداد استادان و دستمزد آنها (ردیف ۵) را نمی‌توان کاهش داد.)

.....

.....

با راه حل پیشنهادی شما «هزینه کل» چقدر کاهش می‌یابد؟



معلمان محترم، صاحب نظران، دانش آموزان عزیز و اولیای آنان می توانند نظرات اصلاحی خود را درباره مطالب
این کتاب از طریق نامه به نشانی تهران صندوق پستی ۱۵۸۷۵/۴۸۷۴ گروه درسی مربوط و یا پیام نگار (Email)
talif@talif.sch.ir ارسال نمایند.
و قرائت کتاب های درسی ابتدایی و متوسطه نفعی