

فصل سوم

اتصال سری مقاومت‌های اهمی

(مطابق فصل دهم کتاب مبانی برق)

هدف کلی: اجرای آزمایش‌های مربوط به اتصال سری مقاومت‌ها و تأیید قانون ولتاژ کیرشهف با استفاده از نرم‌افزار مولتی سیم

هدف‌های رفتاری: در پایان این آزمایش که توسط نرم‌افزار مولتی سیم اجرا می‌شود، از فراگیرنده انتظار می‌رود:

۴- نسبی بودن پتانسیل الکتریکی را بررسی کند و مقدار آن را با توجه به اندازه‌ی مقاومت‌ها در یک مدار سری اندازه بگیرد.
۵- توان را در یک مدار سری به دست آورد.

۱- مقاومت‌ها را به صورت سری ببندد.
۲- مقاومت معادل چند مقاومت به صورت سری را به دست آورد.
۳- از قانون اهم برای محاسبه‌ی جریان و ولتاژ استفاده کند.

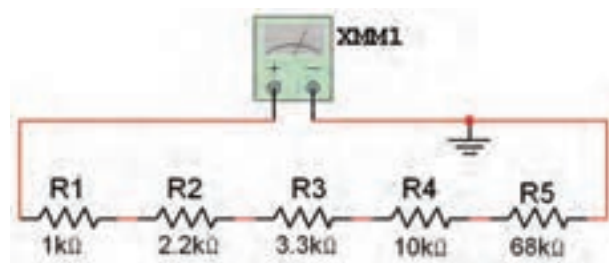
۳-۱ آزمایش ۱: مقاومت معادل مدار سری

۳-۱-۱ اگر چند مقاومت به صورت پشت سر هم به گونه‌ای به یک دیگر متصل شوند که فقط یک مسیر را برای عبور جریان به وجود آورند، یک مدار مقاومتی سری شکل می‌گیرد.

۳-۱-۲ در مدار سری اتصال مقاومت‌ها با یک دیگر همانند اتصال حلقه‌های زنجیر است. مقاومت‌ها را مطابق شکل ۳-۱ به صورت سری ببندید و با استفاده از اهم‌تر مقدار مقاومت معادل را اندازه بگیرید.

نکته: برای اندازه‌گیری مقاومت معادل توسط اهم‌تر

حتماً اتصال زمین را به پایه‌ی منفی آن وصل کنید.



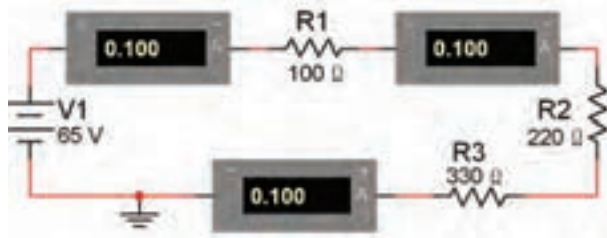
الف- نقشه‌ی فنی



ب- مقدار مقاومت

شکل ۳-۱ اتصال مقاومت‌ها به صورت سری در نرم‌افزار مولتی‌سیم

است. آمپر متر را در سه نقطه‌ی دل خواه از مدار قرار دهید و یکسان بودن جریان را در این نقاط بررسی کنید.



شکل ۳-۳ اندازه‌گیری جریان در مدار سری

به خاطر داشته باشید که آمپر متر به صورت سری در مدار قرار می‌گیرد.

سوال ۲: چه رابطه‌ای بین ولتاژ منبع، مقاومت معادل و جریان مدار برقرار است؟ توضیح دهید.

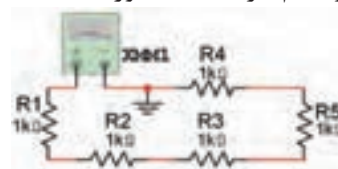
۳-۲-۲ ولتاژ منبع را در مدار شکل ۳-۳ افزایش دهید و جریان مدار را اندازه بگیرید.

$$I = \dots\dots\dots \text{mA}$$

سوال ۳: آیا با افزایش ولتاژ منبع مقدار جریان عبوری از مدار افزایش می‌یابد یا کاهش؟ شرح دهید.

$$R_T = \dots\dots\dots \Omega = \dots\dots\dots \text{K}\Omega$$

۳-۱-۳ پنج عدد مقاومت ۱ کیلو اهم را با هم به صورت سری ببندید و مطابق شکل ۳-۲ مقاومت کل مدار را با استفاده از اهم‌تر به دست آورید.



شکل ۳-۲ اندازه‌گیری مقاومت کل در مدار سری

$$R_T = \dots\dots\dots \Omega = \dots\dots\dots \text{K}\Omega$$

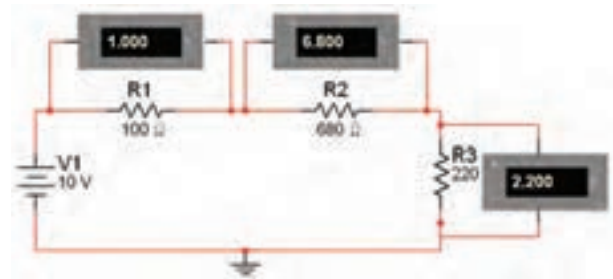
سوال ۱: چه رابطه‌ای بین مقاومت‌های مساوی و مقاومت کل مدار برقرار است؟ توضیح دهید.

۳-۲ آزمایش ۲: جریان در مدار سری

۳-۲-۱ مدار شکل ۳-۳ را ببندید. در این مدار مقاومت‌ها به صورت سری بسته شده‌اند. در مدار سری نکته‌ی مهم یکسان بودن شدت جریان در تمام نقاط مدار

۳-۳ آزمایش ۳: ولتاژ در مدار سری

۳-۳-۱ مدار شکل ۳-۴ را ببندید و ولتاژ هر یک از مقاومت‌ها را اندازه بگیرید.



شکل ۳-۴ اندازه‌گیری ولتاژ دو سر هر یک از مقاومت‌ها در مدار سری

$$V_{R1} = \dots\dots\dots V$$

$$V_{R2} = \dots\dots\dots V$$

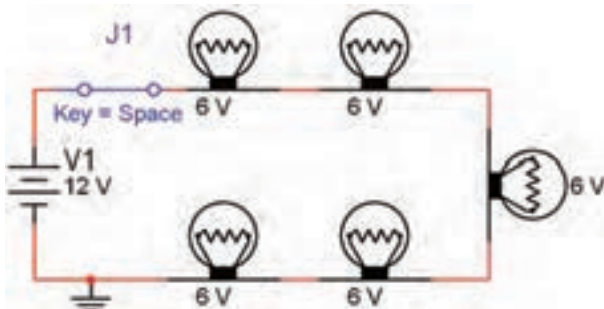
$$V_{R3} = \dots\dots\dots V$$

به‌خاطر داشته باشید که ولت‌متر به صورت موازی در مدار قرار می‌گیرد.

سوال ۴: چه رابطه‌ای بین ولتاژ کل و افت ولتاژ دو سر مقاومت‌ها وجود دارد؟ توضیح دهید.

سوال ۵: چه رابطه‌ای بین مقدار ولتاژ دو سر هر یک از مقاومت‌ها و مقدار آن وجود دارد؟ شرح دهید.


۳-۳-۲ تعداد ۵ لامپ مشابه ۶ ولت ۱۰ وات را مطابق شکل ۵-۳ به صورت سری با منبع ۱۲ ولتی اتصال دهید و مدار را راه‌اندازی کنید.



شکل ۵-۳ اتصال چند لامپ به صورت سری با ولتاژی کمتر از ولتاژ تغذیه‌ی هر لامپ

سوال ۶: با توجه به این که همه‌ی لامپ‌ها سالم هستند و اتصالات نیز اشکالی ندارند و ولتاژ تغذیه ۱۲ ولت است، چرا لامپ‌ها روشن نمی‌شوند؟ یا نور آن‌ها خیلی کم است؟ توضیح دهید.

۳-۳-۳ مدار شکل ۳-۶ را ببندید. ولتاژ هر یک از مقاومت‌ها را اندازه بگیرید.



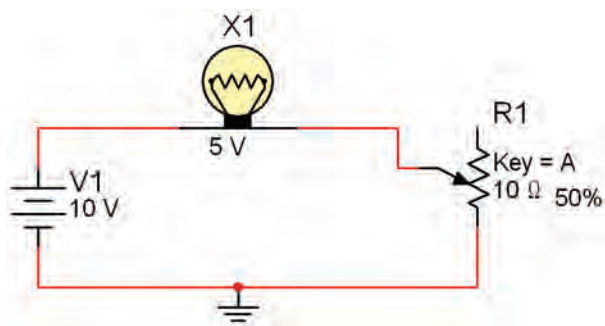
شکل ۳-۶ اندازه‌گیری ولتاژ در دو سر مقاومت‌ها در مدار سری

سوال ۱۰: آیا ولتاژ هر مقاومت در مدار سری را می‌توان از رابطه‌ی:

$$V_1 = V_T \frac{R_1}{R_1 + R_2 + R_3 + R_4}$$

به دست آورد؟ شرح دهید.

۴-۳-۳: مدار شکل ۷-۳ را با استفاده از مقاومت متغیر $10\ \Omega$ ببندید.



شکل ۷-۳ مقاومت متغیر به عنوان کنترل کننده‌ی جریان

۵-۳-۳: مقدار مقاومت متغیر را با کلیک کردن بر روی حرف A صفحه کلید تغییر دهید، توجه داشته باشید که با هر بار فشار دادن حرف A مقدار مقاومت متغیر به اندازه‌ی ۵٪ افزایش پیدا می‌کند و با فشار دادن هم‌زمان دکمه‌ی Shift و کلید A مقدار مقاومت با پله‌های ۵ در صدی کم می‌شود. با کم و زیاد کردن مقدار مقاومت متغیر میزان روشنایی لامپ چه تغییری می‌کند؟ توضیح دهید. آیا در مرحله‌ای لامپ می‌سوزد؟ توضیح دهید.

$$V_{R1} = \dots\dots\dots V$$

$$V_{R2} = \dots\dots\dots V$$

$$V_{R3} = \dots\dots\dots V$$

$$V_{R4} = \dots\dots\dots V$$

سوال ۷: چه رابطه‌ای بین ولتاژ دو سر هر یک از مقاومت‌ها و ولتاژ کل و مقدار اهمی مقاومت هاست؟ توضیح دهید.

سوال ۸: رابطه‌ی به دست آمده از سوال قبل چه قانونی را بیان می‌کند؟ بنویسید و در مورد آن توضیح دهید.

سوال ۹: مدار را با پنج مقاومت ببندید و قانون کیرشهف را در آن مدار تحقیق کنید.

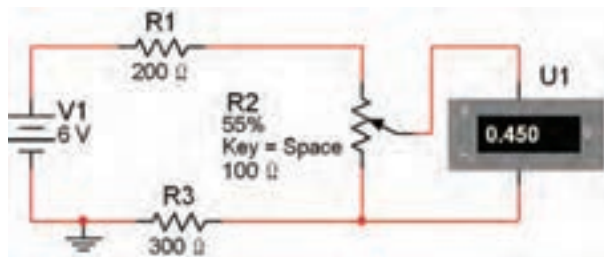
نکته: بر اساس قانون کیرشهف مجموع ولتاژهای موجود در یک حلقه‌ی بسته برابر با صفر است. به عبارت دیگر در یک حلقه‌ی بسته ولتاژ منبع تغذیه با مجموع افت ولتاژهای مدار برابر است.

سوال ۱۱: در این مدار از سر وسط مقاومت متغیر و یک سر ثابت آن استفاده شده است. در این حالت، مقاومت متغیر چه مشخصه‌ای را در مدار تغییر می‌دهد؟ شرح دهید.

سوال ۱۲: مقاومت متغیر استفاده شده در مدار شکل ۳-۷ چه نام دارد؟ توضیح دهید.

سوال ۱۳: با توجه به این که از هر سه پایه‌ی مقاومت متغیر در مدار شکل ۳-۸ استفاده شده است، نقش مقاومت در این مدار را چه می‌نامند؟ شرح دهید.

۳-۳-۶ مدار شکل ۳-۸ را ببینید. ولتاژ بین سر وسط و یکی از پایه‌های مقاومت متغیر را اندازه بگیرید.



شکل ۳-۸ مقاومت متغیر به عنوان کنترل کننده‌ی ولتاژ

$$V_{R2} = \dots\dots\dots V$$

۳-۳-۷ سر وسط مقاومت متغیر را با کلیک کردن بر روی دکمه‌ی Space صفحه کلید تغییر دهید. ولتاژ بین سر وسط و پایه‌ی دیگر مقاومت را اندازه بگیرید. این مدار در مقایسه با مدار شکل ۳-۷ چه تغییری کرده است؟ توضیح دهید.

نکته: اگر از هر سه پایه‌ی مقاومت متغیر

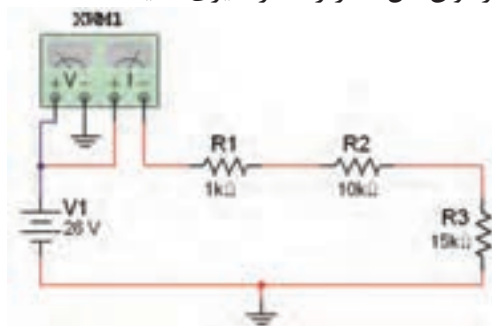
مطابق شکل ۳-۸ در مدار استفاده شود. **ولتاژ** مدار قابل کنترل است، در این حالت می‌گویند مقاومت متغیر به صورت **پتانسیومتر** در مدار بسته شده است. در صورتی که مطابق شکل ۳-۷ فقط از دو پایه‌ی مقاومت در مداری استفاده شود **جریان** مدار قابل کنترل است. در این حالت می‌گویند مقاومت متغیر به صورت **رئوستا** در مدار اتصال دارد.



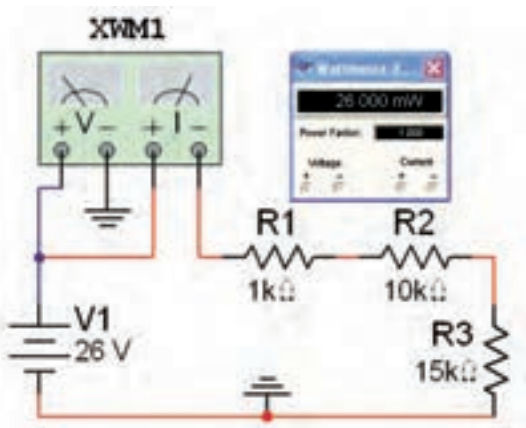
شکل ۱۰-۳ واتمتر در نرم افزار مولتی سیم

نکته: هنگام اتصال این دستگاه به مدار، ترمینال‌های آمپرمتر را به صورت سری و ترمینال‌های ولتمتر را به صورت موازی ببندید.

۳-۴-۴ مدار شکل ۱۱-۳ را ببندید و با استفاده از واتمتر توان کل مدار را اندازه‌گیری کنید.



الف- مدار اندازه‌گیری توان




ب- توان مدار در واتمتر

شکل ۱۱-۳ مدار اندازه‌گیری توان

۳-۴ آزمایش ۴: توان در مدار سری

۳-۴-۱ مدار شکل ۹-۳ را ببندید. جریان کل و ولتاژ تغذیه‌ی مدار را با استفاده از آمپرمتر و ولتمتر اندازه‌گیری کنید.



شکل ۹-۳ اندازه‌گیری ولتاژ و جریان مدار برای محاسبه‌ی توان

$$V = \dots\dots\dots V \quad I = \dots\dots\dots mA$$

۳-۴-۲ با استفاده از رابطه‌ی $P = V I$ توان مصرف شده در هر یک از مقاومت‌ها را به دست آورید و محاسبه کنید.

$$P_{R1} = \dots\dots\dots mW$$

$$P_{R2} = \dots\dots\dots mW$$

$$P_{R3} = \dots\dots\dots mW$$

۳-۴-۳ با استفاده از واتمتر می‌توانید توان مدار را اندازه‌گیری کنید. واتمتر را مطابق شکل ۱۰-۳ از نوار ابزار بر روی صفحه‌ی کار آزمایشگاهی بیاورید. این دستگاه چهار ترمینال ورودی دارد که دو ترمینال آن مربوط به اندازه‌گیری ولتاژ و دو ترمینال مربوط به اندازه‌گیری جریان است.

This image shows a single sheet of white paper with horizontal blue lines, resembling notebook paper. The lines are evenly spaced and run across the width of the page. There are no margins, text, or other markings on the paper.