

صوت



٥

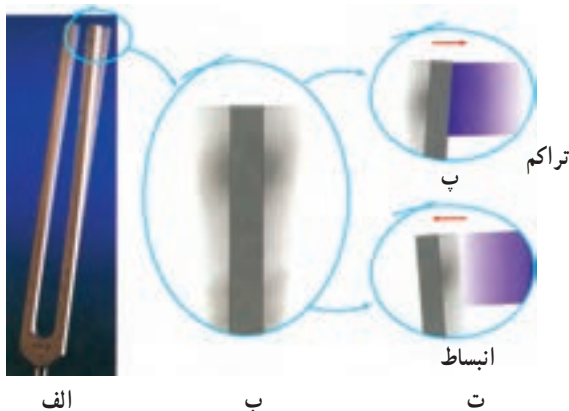
فصل

صوت

۵-۱- موج صوتی

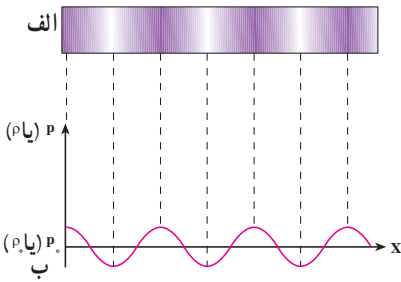
یکی از مهم ترین موج هایی که ما در زندگی روزمره با آن سروکار داریم موج صوتی است. برای مثال، از طریق این موج ها با یکدیگر گفتگو می کنیم، با به صدا در آوردن بوق ماشین، به عابری که از خیابان عبور می کند هشدار می دهیم و ...

برای اینکه بدانیم موج های صوتی چگونه ایجاد می شوند فرایند تولید صوت به وسیله یک دیافازون را تشریح می کنیم. یک دیافازون را مطابق شکل ۵-۱ الف و ب در نظر بگیرید قبل از ارتعاش دیافازون هوای مجاور آن در حال تعادل است و فشار و چگالی آن در همه جا ثابت و به ترتیب برابر P_0 و ρ_0 است. اکنون دیافازون را مرتعش می کنیم. هنگامی که شاخه آن مطابق شکل ۵-۱ ب به طرف راست حرکت می کند، لایه هوای مجاور خود را متراکم می کند و چگالی و فشار آن را نسبت به حالت تعادل افزایش می دهد که این لایه متراکم نیز به نوبه خود لایه مجاورش را متراکم می کند.

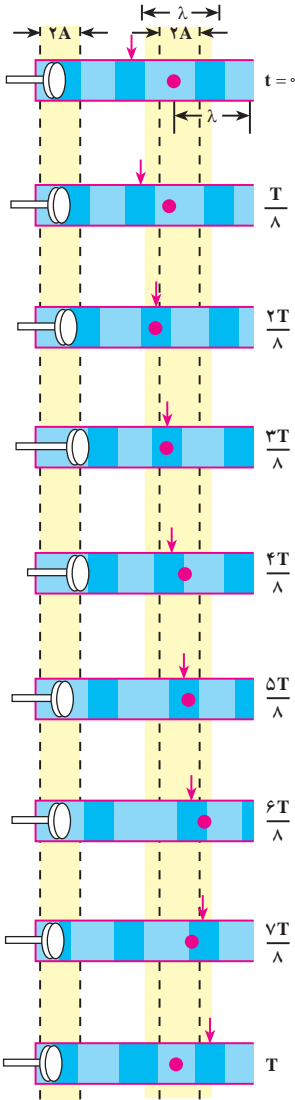


شکل ۵-۱

به این ترتیب یک آشفتگی یا تب ایجاد می شود که در آن فشار و چگالی بیشتر از حالت تعادل است. این تب تراکمی (پرفشار) در هوا منتشر می شود. هنگامی که شاخه دیافازون برمی گردد، همان طور که در شکل ۵-۱ ت می بینید، لایه هوای مجاور آن منبسط می شود و چگالی و فشار این لایه نسبت به حالت تعادل کاهش می یابد. این لایه انبساط یافته نیز به صورت یک تب انبساطی (کم فشار) در هوا منتشر



شکل ۲-۵



شکل ۳-۵

می‌شود. بنابراین هنگامی که دیافراگم مرتعش می‌شود تپ‌های متوالی تراکمی و انبساطی (شکل ۲-۵) در هوا منتشر می‌کند. نمودار تغییرات فشار (جگالی) برحسب فاصله در یک لحظه از زمان در شکل ۲-۵ ب نشان داده شده است.

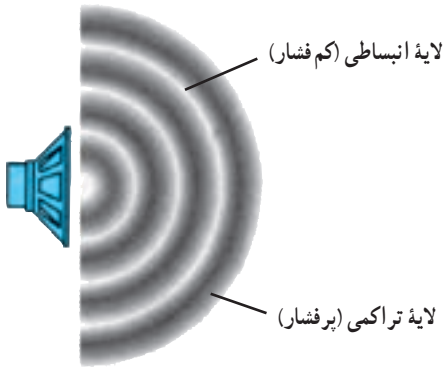
در مورد انتشار موج در طناب یا سطح آب دیدیم که آشفستگی یا تپ به صورت برجستگی و یا فرورفتگی بود. اما در حالت انتشار صوت در هوا، آشفستگی یا تپ به صورت لایه‌های تراکمی و انبساطی یا لایه‌های پرفشار و کم‌فشار است. همچنین، دیدیم که هنگام انتشار موج در محیط ذره‌های محیط منتقل نمی‌شوند، بلکه حول نقطه تعادل خود حرکت نوسانی انجام می‌دهند. مثلاً، در شکل ۳-۴ فصل چهارم دیدیم که اگر به یک نقطه از محیط نگاه کنیم، این نقطه (که با رنگ قرمز نشان داده شده است) در حین انتشار موج حول حالت تعادل خود نوسان می‌کند. ولی، اگر به یک نقطه از موج که با پیکان مشخص شده است نگاه کنیم، این نقطه با سرعت ثابت در محیط حرکت می‌کند.

در انتشار صوت نیز ذره‌های هوا منتقل نمی‌شوند بلکه حول نقطه تعادل خود نوسان می‌کنند. لایه‌های تراکمی و انبساطی نیز در اثر این نوسان‌ها به وجود می‌آید.

در شکل ۳-۵ انتشار یک موج صوتی در یک لوله، در بازه‌های زمانی $\frac{T}{8}$ ، نشان داده شده است. در این شکل یکی از ذره‌های هوا (محیط) با رنگ آبی مشخص شده است. این نقطه، در حین انتشار موج پس از یک نوسان کامل به محل اولیه خود برمی‌گردد. در حالی که اگر یک نقطه از موج را، مثلاً در ناحیه متراکم که در شکل ۳-۵ با پیکان مشخص شده است، در نظر بگیریم، می‌بینیم که با سرعت ثابت در هوا حرکت می‌کند، چون در انتشار صوت ذره‌های هوا در راستای انتشار نوسان می‌کنند. این موج‌ها طولی‌اند.

فعالیت ۱-۵

مثال‌هایی از انتشار صوت در مایع‌ها و جامدها ذکر کنید.



شکل ۴-۵

هر جسم مرتعش در هوا، خود یک چشمه تولید موج‌های صوتی است. چشمه صوت ممکن است به سادگی یک دیابازون و یا به پیچیدگی حنجره انسان باشد. در هنگام صحبت در اثر ارتعاش تارهای صوتی در حنجره امواج صوتی در هوا ایجاد می‌شوند.

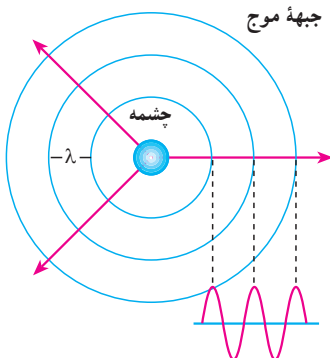
هنگامی که یک چشمه صوت مرتعش می‌شود، صوت ایجاد شده در تمام جهت‌ها منتشر می‌شوند. لایه‌های تراکمی (پرفشار) و انبساطی (کم فشار) یک

موج صوتی که از یک بلندگوی کوچک در هوا منتشر می‌شود در شکل ۴-۵ نشان داده شده است.

پرسش ۱-۵

مثال‌هایی ذکر کنید که نشان دهد امواج صوتی در هوا در تمام جهت‌ها منتشر

می‌شوند.



شکل ۵-۵

اگر یک چشمه صوت، صوت را به طور یکنواخت در تمام جهت‌ها گسیل کند، صوت به صورت موج کروی در فضا منتشر می‌شود. جبهه‌های موج این امواج به صورت کره‌هایی به مرکز چشمه صوت در شکل ۵-۵ نشان داده شده‌اند. جبهه‌های موج در این شکل نقاط پرفشار را نشان می‌دهند.

محدوده شنوایی انسان

انسان نمی تواند هر موج صوتی با هر بسامدی را بشنود. بلکه تنها می تواند موج هایی را که بسامد آن ها بین ۲۰ تا ۲۰/۰۰۰ هرتز است، بشنود. بعضی حیوان ها مانند سگ ها گستره وسیع تری از بسامدها (۱۵ تا ۵۰/۰۰۰ هرتز) را می شنوند. خفاش ها تا بسامد ۱۰۰/۰۰۰ هرتز را نیز می شنوند. موج های صوتی با بسامد پایین تر از ۲۰ Hz را فروصوت و بالاتر از ۲۰/۰۰۰ Hz را فراصوت می نامند. موج های فراصوت کاربردهای فراوانی در پزشکی و صنعت دارند.

۲-۵- سرعت صوت

در فصل چهارم دیدیم که سرعت انتشار موج در یک محیط (طناب) به ویژگی های محیط انتشار موج (کشش طناب و جرم واحد طول آن) بستگی دارد سرعت صوت نیز به ویژگی های فیزیکی محیطی که صوت در آن منتشر می شود وابسته است. صوت علاوه بر گازها در مایعات و جامدات نیز منتشر می شود. سرعت انتشار صوت در مواد مختلف در جدول ۱-۵ داده شده است. چنانکه می بینید هرچه ماده متراکم تر باشد، سرعت انتشار صوت در آن بیشتر است. زیرا در ماده متراکم مولکول ها به یکدیگر نزدیک ترند و تپ ایجاد شده می تواند در زمان کمتری به نقطه مجاور خود منتقل شود.

جدول ۱-۵- سرعت صوت در ماده های مختلف*

سرعت m/s	دما °C		
۳۱۶	۰	اکسیژن	گازها
۳۳۱	۰	هوا	
۳۴۳	۲۰	هوا	
۳۳۴	۰	نیتروژن	
۹۶۵	۰	هلیوم	
۱۴۵۰	۲۵	جیوه	مایع ها
۱۴۹۸	۲۵	آب	
۱۵۳۱	۲۵	آب دریا	
۲۱۰۰	-	سرب	جامدها
۳۰۰۰	-	طلا	
۵۰۰۰-۶۰۰۰	-	آهن	
۵۰۰۰-۶۰۰۰	-	شیشه	

می توان نشان داد که سرعت انتشار صوت در گازها از رابطه زیر به دست می آید :

$$v = \sqrt{\gamma \frac{RT}{M}} \quad (1-5)$$

که در آن T دمای گاز بر حسب کلوین، R ثابت عمومی گازها و M جرم مولکولی گاز است. γ نیز ضریب اتمیسیته گاز نام دارد که به صورت نسبت ظرفیت گرمایی مولی گاز در فشار ثابت (C_p) به ظرفیت گرمایی مولی آن در حجم ثابت (C_v) تعریف می شود. مقادیر C_p و C_v و $\gamma = \frac{C_p}{C_v}$ برای گازهای مختلف در جدول ۲-۵ داده شده است.

جدول ۲-۵- ظرفیت گرمایی مولی در حجم و فشار ثابت، γ و M

M	γ	C_p	C_v	گاز	
g/mol		J/mol.K	J/mol.K		
۴	۱/۶۷	۲۰/۸	۱۲/۵	He	تک اتمی
۴۰	۱/۶۷	۲۰/۸	۱۲/۵	Ar	
۲	۱/۴۱	۲۸/۸	۲۰/۴	H _۲	دو اتمی
۲۸	۱/۴۰	۲۹/۱	۲۰/۸	N _۲	
۳۲	۱/۳۹	۲۹/۴	۲۱/۱	O _۲	

مثال ۱-۵

سرعت انتشار صوت را در هوا و در دمای ۲۷°C به دست آورید. (برای هوا

$$R = ۸/۳ \text{ J/mol.K} \text{ و } \gamma = ۱/۴, M = ۲۹ \text{ g/mol}$$

پاسخ

با استفاده از رابطه ۱-۵ داریم :

$$v = \sqrt{\gamma \frac{RT}{M}} = \sqrt{\frac{۱/۴(۸/۳)(۲۷۳+۲۷)}{۲۹ \times ۱۰^{-۳}}} = ۳۴۷ \text{ m/s}$$

تمرین ۵-۱

با استفاده از اطلاعات جدول ۵-۲، سرعت صوت را در گازهای اکسیژن، نیتروژن و هلیوم در دمای صفر درجه سلسیوس محاسبه و نتیجه به دست آمده را با مقادیر جدول ۱-۱ مقایسه کنید.

مطالعه آزاد

کاربرد موج‌های صوتی

برای تعیین محل جسم‌هایی که زیر آب قرار دارند، از بازتاب موج‌های صوتی استفاده می‌شود. این روش که به نام روش پژواک تپ معروف است کاربردهای پزشکی نیز دارد.

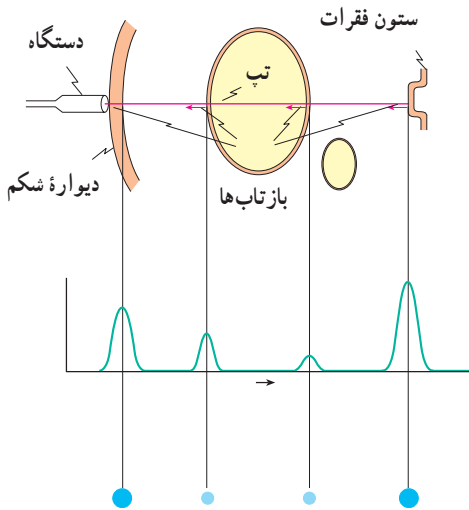
اساس این روش آن است که یک موج صوتی را به عمق آب می‌فرستند و با یک آشکارساز، بازتاب یا پژواک آن را اندکی بعد دریافت می‌کنند. سپس زمان رفت و برگشت موج را به دقت اندازه می‌گیرند و از روی آن فاصله جسمی را که موج را بازتابانده است تعیین می‌کنند. (سرعت صوت در آب مشخص است) با این روش عمق دریاها، محل صخره‌های زیرآب، محل کشتی‌های غرق شده، زیردریایی‌ها و حتی محل تجمع گروهی از ماهی‌ها را که باهم حرکت می‌کنند می‌توان تعیین کرد.

با این روش می‌توان ساختار داخلی زمین را نیز مشخص کرد. برای این منظور یک انفجار زیرزمینی ایجاد می‌کنند و با آشکارسازی بازتاب موج‌های تولید شده در اثر انفجار، می‌توان ساختار نواحی مختلف زمین را تعیین کرد. این روش در اکتشاف نفت و مواد معدنی به کار می‌رود.

در کاربردهای بالا اغلب از بسامدهای بیش از 20 kHz که در ناحیه فراصوتی قرار دارد استفاده می‌شود، زیرا این موج‌ها علاوه بر این که قابل شنیدن نیستند دارای طول موج کوتاه‌اند و اجسام با ابعاد کوچک را می‌توان با استفاده از آنها آشکار کرد. در پزشکی هم از این موج‌ها برای از بین بردن بافت‌های ناخواسته و یا اجسام نامطلوب در بدن (مانند غده‌ها و یا سنگ‌های کلیه) استفاده می‌شود. این موج‌ها بر روی

ماده ناخواسته متمرکز می‌شوند. برای مثال تابش متمرکز این موج‌ها بر روی سنگ کلیه باعث می‌شود که سنگ به پاره‌های کوچک شکسته شده و به تدریج از بدن دفع گردند. بدون اینکه احتیاجی به عمل جراحی باشد.

از موج‌های فراصوتی همچنین در تشخیص بیماری نیز استفاده می‌شود. بدین ترتیب که یک تب فراصوتی به داخل بدن بیمار فرستاده می‌شود. این تب از مرزها و فصل مشترک‌های بین اعضای داخل بدن بازتاب می‌یابد که با آشکارسازی آن می‌توان اطلاع لازم را در مورد بیماری عضو مورد نظر کسب کرد. این روش برای تشخیص محل غده‌ها و سایر عوامل غیرعادی در بدن، عملکرد قلب و دریچه‌های آن، وضعیت



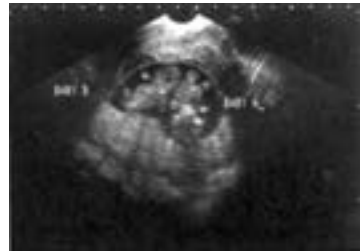
شکل ۵-۶

جنین، سنگ کلیه و غیره به کار می‌رود. روش کار به این ترتیب است که با دستگاه خاصی، مانند بلندگو، تب الکتریکی را به ارتعاش‌های مکانیکی تبدیل می‌کنند و به این وسیله یک تب صوتی ایجاد می‌شود. بخشی از این تب از فصل مشترک بافت‌های مختلف در بدن بازتابیده می‌شود (شکل ۵-۶). آشکارسازی تب‌های بازتابیده، با همان دستگاه صورت می‌گیرد که موج‌های صوتی را به تب‌های الکتریکی تبدیل

می‌کند. تب‌ها را می‌توان روی یک مونیتور مشاهده کرد (شکل ۵-۷). تصویر یک جنین که با استفاده از فراصوت تهیه شده نیز در این شکل نشان داده شده است.



شکل ۵-۷



۵-۳- لوله‌های صوتی

پیش از این دیدیم که وقتی یک موج عرضی در طنابی که یک انتهای آن ثابت است ایجاد می‌کنیم، این موج از انتهای ثابت بازتابیده می‌شود و از برهم نهی موج‌های فرودی و بازتابی موج ایستاده تشکیل می‌شود. همچنین، در انتهای ثابت که جابه‌جایی طناب صفر است گره تشکیل می‌شود، ولی اگر انتهای طناب آزاد باشد در آنجا شکم ایجاد می‌شود.

با موج‌های طولی نیز می‌توان موج ایستاده تشکیل داد. این موج را می‌توان در یک فنر و یا یک ستون هوا (مثلاً هوای داخل یک لوله) ایجاد کرد. در این بخش، چگونگی ایجاد موج‌های ایستاده را در ستون هوای داخل یک لوله مورد بررسی قرار می‌دهیم. چنین لوله‌ای را لوله صوتی می‌نامند.

هنگامی که در دهانه لوله صوتی، هوا می‌دمیم، در هوای داخل آن موج صوتی منتشر می‌شود. این موج از دو انتهای لوله بازتابیده می‌شود و از برهم نهی موج‌های فرودی و بازتابیده، موج ایستاده تشکیل می‌شود. حال اگر انتهای لوله بسته باشد، چون مولکول‌های هوا نمی‌توانند در این انتها نوسان طولی داشته باشند بنابراین در انتهای بسته گره ایجاد می‌شود. اگر، برعکس، انتهای لوله باز باشد مولکول‌ها می‌توانند آزادانه در آن نوسان کنند و در صورتی که قطر لوله در مقایسه با طول موج صوت کوچک باشد، در این انتها شکم تشکیل می‌شود. بسته به این که یک انتهای لوله صوتی باز و انتهای دیگر بسته و یا این که هر دو انتهای آن باز باشد، دو حالت متفاوت به وجود می‌آید که به بررسی آنها می‌پردازیم:

الف) یک انتهای لوله باز و انتهای دیگر آن بسته است. در این حالت در انتهای باز شکم و در انتهای بسته گره تشکیل می‌شود. در ساده‌ترین حالت، مطابق شکل ۵-۸- الف فقط یک گره و شکم در داخل لوله تشکیل می‌شود (در این شکل موج‌های صوتی داخل لوله برای سهولت نمایش به صورت موج‌های عرضی نشان داده شده‌اند. پیشینه دامنه در این شکل حالتی را نشان می‌دهد که در آن جابه‌جایی ذرات لایه هوا پیشینه است) در این حالت طول لوله، L ، با فاصله گره تا شکم برابر است یعنی:

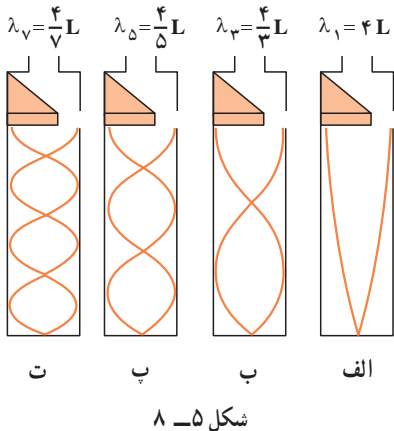
$$L = \frac{\lambda_1}{4} \quad (2-5)$$

و با طول موج صوت برابر است با:

$$\lambda_1 = 4L \quad (3-5)$$

اگر سرعت صوت در داخل لوله v باشد، بسامد این صوت، f_1 ، از رابطه زیر به دست می‌آید:

$$f_1 = \frac{v}{\lambda_1} = \frac{v}{4L} \quad (4-5)$$



موج ایستاده ایجاد شده در این حالت، کمترین بسامد را دارد و صوت اصلی نامیده می‌شود. مضرب‌های درست این صوت را هماهنگ‌های صوت اصلی می‌نامند. همان‌طور که در تار مرتعش دیدیم، این هماهنگ‌ها هنگامی ایجاد می‌شوند که مطابق شکل ۵-۸ ب، ب، پ، ... تعداد بیشتری گره و شکم در لوله تشکیل می‌شود یعنی ممکن است در داخل لوله دو گره، سه گره، ... n گره تشکیل شود. در این صورت، همان‌گونه که در این شکل می‌بینید،

طول لوله به ترتیب برابر است با $\frac{3\lambda_4}{4}$ ، $\frac{5\lambda_5}{4}$ ، ...، $\frac{\lambda_{2n-1}}{4}(2n-1)$ و در حالی که n گره در داخل لوله صوتی تشکیل می‌شود، طول موج مربوط به $2n-1$ امین هماهنگ با رابطه زیر داده می‌شود:

$$\lambda_{2n-1} = \frac{4L}{2n-1} \quad \text{و} \quad n = 1, 2, 3, \dots \quad (5-5)$$

و بسامد این صوت برابر است با:

$$f_{2n-1} = \frac{(2n-1)v}{4L} = (2n-1)f_1 \quad \text{و} \quad n = 1, 2, \dots \quad (6-5)$$

ملاحظه می‌شود در لوله‌ای که یک انتهای آن بسته است فقط هماهنگ‌های فرد صوت اصلی ایجاد می‌شود. یعنی، بسامد امواج ایستاده در داخل این لوله به صورت f_1 ، $3f_1$ ، $5f_1$ و ... است. این حالت‌ها نوسان‌های طبیعی هوای داخل لوله صوتی که یک انتهای آن بسته است به‌شمار می‌روند.

مثال ۵-۲

در یک لوله صوتی که یک انتهای آن بسته است، می‌خواهیم یک صوت اصلی با بسامد 340 Hz ایجاد کنیم. (الف) طول لوله باید چقدر باشد. (ب) بسامد هماهنگ‌های سوم و پنجم را حساب کنید. سرعت صوت در هوا را 340 m/s فرض کنید.

پاسخ

(الف) با استفاده از رابطه $v = \lambda f$ داریم:

$$\lambda_1 = \frac{v}{f_1} = \frac{340}{340} = 1 \text{ m}$$

در این صورت با استفاده از رابطه ۵-۲ طول لوله برابر است با :

$$L_1 = \frac{\lambda}{4} = 0.25 \text{ m}$$

(ب) با استفاده از رابطه ۵-۶ برای $n=2$ و $n=3$ داریم :

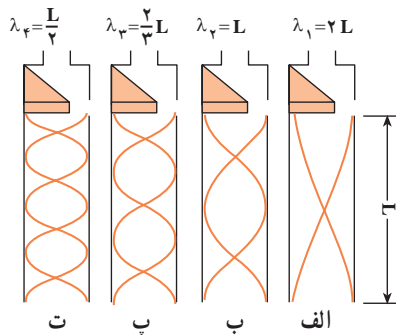
$$f_2 = (2 \times 2 - 1) \times 340 = 1020 \text{ Hz}$$

$$f_3 = (2 \times 3 - 1) \times 340 = 1700 \text{ Hz}$$

(ب) هر دو انتهای لوله باز است. در این حالت در هر دو انتها شکم تشکیل می‌شود. برای صوت اصلی، همان‌طور که در شکل ۵-۹ الف نشان داده شده است، دو شکم در دو انتها و یک گره در وسط لوله تشکیل می‌شود. در این حالت طول لوله برابر فاصله دو شکم است. در این صورت داریم :

$$L = \lambda_1 / 2 \quad (7-5)$$

یعنی، طول موج صوت برابر با $\lambda = 2L$ است.



شکل ۵-۹

در نتیجه بسامد اصلی برابر است با :

$$f_1 = \frac{v}{\lambda_1} = \frac{v}{2L} \quad (8-5)$$

همان‌گونه‌های دیگر این صوت هنگامی پدیدار می‌شوند که مطابق شکل ۵-۹ ب، پ و ... در داخل

لوله دو گره $(L = 4\frac{\lambda_2}{4})$ ، سه گره $(L = 6\frac{\lambda_3}{4})$ ، ... n گره $(L = 2n\frac{\lambda_n}{4})$ تشکیل شود. طول موج صوت فرودی هنگامی که n گره تشکیل شده است، از رابطه زیر به دست می آید:

$$\lambda_n = \frac{2L}{n} \quad n = 1, 2, \dots \quad (9-5)$$

و بسامد این صوت برابر است با:

$$f_n = \frac{v}{\lambda_n} = n \frac{v}{2L} = nf_1 \quad (10-5)$$


ملاحظه می کنید که تمام هماهنگ ها در لوله ای که هر دو انتهای آن باز است ایجاد می شود. در چنین لوله ای، بسامد نوسان های طبیعی هوای داخل آن به صورت $f_1, 2f_1, 3f_1, \dots$ است.

تمرین ۲-۵

بسامد صوت اصلی و هماهنگ های دوم و سوم را در یک لوله صوتی به طول ۱ m که هر دو انتهای آن باز است تعیین کنید. (سرعت صوت را در هوا 340 m/s فرض کنید)

در قسمت قبل دیدیم که برای ایجاد موج های ایستاده، باید در دهانه لوله صوتی بدمیم. در واقع، از این طریق به راحتی نمی توان امواج ایستاده در لوله ایجاد کرد. روش مناسب و مؤثر برای انجام این کار این است که از پدیده تشدید استفاده کنیم. در فصل سوم با پدیده تشدید آشنا شدیم و دیدیم که اگر یک نوسانگر را با یک نیروی دوره ای به نوسان درآوریم، هنگامی که بسامد نیرو با بسامد طبیعی نوسانگر برابر باشد، تشدید رخ می دهد و در این حالت بیشترین انرژی ممکن به نوسانگر منتقل می شود. برای ایجاد موج های ایستاده در لوله صوتی نیز می توانیم از این روش استفاده کنیم و هوای داخل لوله را با اعمال یک نیروی دوره ای به آن، به نوسان درآوریم. برای این کار کافی است که یک دیافراگم را در نزدیکی دهانه لوله به نوسان درآوریم. اگر بسامد نوسان این دیافراگم با هر یک از بسامدهای طبیعی لوله صوتی برابر باشد، تشدید رخ خواهد داد. بدین وسیله می توان موج ایستاده با بسامد مورد نظر را در لوله صوتی ایجاد کرد.

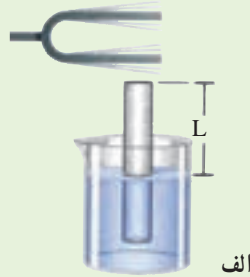
فعالیت ۲-۵



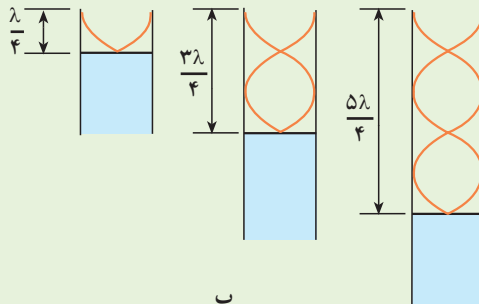
ب

در شکل ۵-۱۰ الف و ب می‌توان با تغییر مکان لیوان یا لوله، طول لوله صوتی را تغییر داد.

با توجه به شکل پ توضیح دهید که در هر یک از سه حالت شکل پ چگونه موج ایستاده تشکیل می‌شود؟



الف



ب

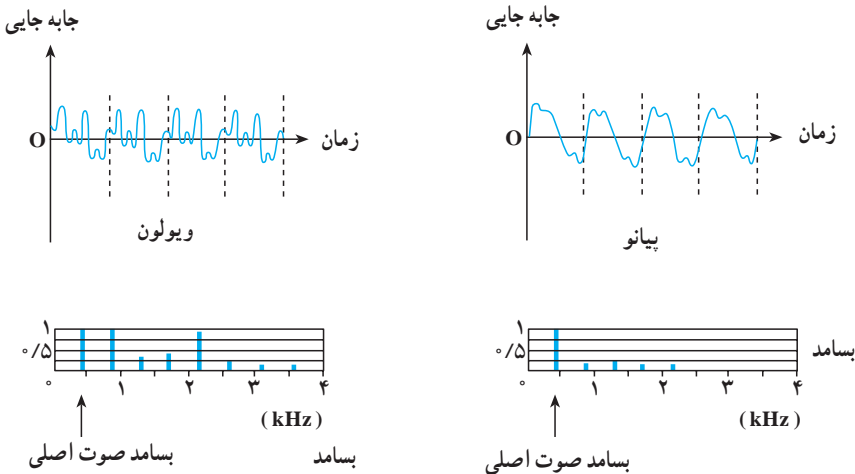
شکل ۵-۱۰

فعالیت ۳-۵

با استفاده از یک لوله صوتی، آزمایشی را برای اندازه‌گیری سرعت صوت در هوا طراحی کنید.

صوت‌های موسیقی

صوتی را که می‌شنویم به خصوصیت‌های گوش و ساز و کار شنوایی و نیز ویژگی‌های فیزیکی صوت بستگی دارد. معمولاً صوتی را که انسان با دستگاه شنوایی خود درک می‌کند برحسب سه مشخصهٔ بلندی، ارتفاع و طنین بیان می‌کنند. برای تعریف این مشخصه‌ها به بررسی صوتی که یک تار مرتعش تولید می‌کند، می‌پردازیم. هنگامی که یک تار را مرتعش می‌کنیم، تنها هماهنگ اول آن ایجاد نمی‌شود، بلکه هماهنگ‌های دیگر آن نیز به وجود می‌آیند و از برهم نهدی این هماهنگ‌ها یک موج مرکب ایجاد می‌شود. آنچه که ما پس از مرتعش کردن یک تار می‌شنویم از این موج مرکب حاصل می‌شود. در شکل ۵-۱۱ نسبت موج صوتی حاصل از پیانو و ویولون نشان داده شده است. در این شکل نسبت دامنهٔ هماهنگ‌ها به دامنهٔ صوت اصلی نیز آمده است. در هر دو مورد بسامد صوت اصلی 440 هرتز است. ولی تعداد و دامنهٔ هماهنگ‌هایی که در ساختن این موج مرکب سهیم‌اند در این دو مورد متفاوت است. در نتیجه شکل موج مرکب حاصل با یکدیگر فرق می‌کنند. اکنون به توصیف مشخصه‌های صوت می‌پردازیم. طنین صوت به شکل موج مرکب بستگی دارد. یعنی طنین به نوع،



شکل ۵-۱۱

تعداد و دامنه هماهنگ‌هایی که ایجاد شده‌اند وابسته است. ارتفاع صوت با بسامد موج اصلی که موج مرکب از آن ساخته می‌شود تعیین می‌شود و بلندی صوت، همان‌طور که دیدیم، به شدت صوت و خصوصیت‌های شنوایی شنونده بستگی دارد. اکنون به توصیف صوت‌های موسیقی می‌پردازیم. برای این منظور لازم است چند مفهوم را تعریف کنیم.

۱- صوت موسیقی یا نت، صوتی است که (مانند شکل ۵-۱۱) از ارتعاش‌های منظم تشکیل شده است و اثر خوشایندی بر گوش انسان دارد.

۲- فاصله موسیقی، نسبت بسامد دو نت را فاصله موسیقی می‌نامند. تجربه نشان می‌دهد که هر فاصله‌ای برای انسان خوشایند نیست.

۳- گام موسیقی، مجموعه‌ای از چند نت است که فاصله آنها برای گوش خوشایند است. گام‌های متفاوتی در موسیقی وجود دارد. اکنون به توصیف گام طبیعی (زارلن) می‌پردازیم.

گام طبیعی از هشت نت $do_1, re, mi, fa, sol, la, si, do_2$ تشکیل شده است که فاصله آنها از یک نت مبنا (do_1) که کمترین بسامد را دارد، به صورت زیر است:

$$\frac{do_2}{do_1} = 2 \quad \text{و} \quad \frac{re}{do_1} = \frac{9}{8}, \quad \frac{mi}{do_1} = \frac{5}{4}, \quad \frac{fa}{do_1} = \frac{4}{3}, \quad \frac{sol}{do_1} = \frac{3}{2}, \quad \frac{la}{do_1} = \frac{5}{3}, \quad \frac{si}{do_1} = \frac{15}{8}$$

بسامد do_2 دو برابر بسامد do_1 است و اکتاو do_1 نامیده می‌شود. اگر do_2 را نت مبنا بگیریم، با رعایت فاصله‌های فوق می‌توان گام دوم را ساخت. به همین ترتیب می‌توان بر مبنای do_2 که اکتاو do_2 است گام سوم را ساخت و به همین ترتیب ادامه داد.

به عنوان مثال اگر بسامد نت مبنا را $65/25$ هرتز اختیار کنیم، با استفاده از نسبت‌های بالا می‌توانیم بسامد نت‌های دیگر را به دست آوریم. در این صورت داریم:

$$\frac{re_1}{do_1} = \frac{9}{8}$$

$$re_1 = \frac{9}{8} do_1 = 73/41 \text{ Hz}$$

به همین ترتیب بسامدهای $87, 81/56, 97/88, 108/75$ و $122/34$ هرتز

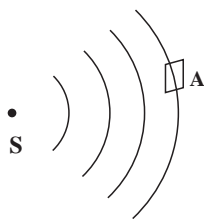
به ترتیب برای $si_1, la_1, sol_1, fa_1, me_1$ به دست می‌آیند. برای do_2 که اکتاو do_1 است

بسامد $13^\circ/5$ هرتز محاسبه می شود. اکنون می توانیم بر مبنای do_r گام بعدی را بسازیم. برای تنهای این گام به ترتیب مقدارهای $146/81, 163/13, 174, 195/75, 217/5$ ، $244/69$ هرتز به دست می آیند. هریک از این نت ها اکتاوت متناظر در گام اول است (چرا؟) به همین ترتیب برای گام سوم به ترتیب مقدارهای $261, 293/6, 326/25, 348, 391/5$ هرتز به دست می آیند. این مثال نت های گام طبیعی را بر مبنای قرارداد $la_r = 435\text{Hz}$ به دست می دهد. اکنون به عنوان تمرین تعیین کنید که بسامدهای 1044 و 870 هرتز بسامد چه نت هایی هستند و در کدام گام قرار دارند؟

۴-۵ - شدت صوت

در بخش ۱-۱ دیدیم که موج ها (در طناب یا سطح آب) با خود انرژی حمل می کنند و این انرژی با مجذور دامنه و مجذور بسامد موج متناسب است. این بیان در مورد موج های صوتی نیز درست است. در شکل ۱۲-۵ چشمه صوتی S را می بینید که موج های صوتی را در فضا منتشر می کند. فرض کنید انرژی E در زمان t به سطح A که عمود بر راستای انتشار صوت است برسد. شدت صوت بنا به تعریف عبارت است از مقدار انرژی ای که در واحد زمان به واحد سطح عمود بر راستای انتشار می رسد. در نتیجه، شدت صوت I در مکانی که سطح A قرار گرفته با رابطه زیر بیان می شود:

$$I = \frac{E}{At} \quad (11-5)$$



شکل ۱۲-۵

رابطه ۱۱-۵ را می توان با استفاده از تعریف توان ($P = \frac{E}{t}$) به صورت زیر نوشت:

$$I = \frac{P}{A} \quad (12-5)$$

یکای شدت موج در SI وات بر مترمربع (W/m^2) است.

مثال ۳-۵

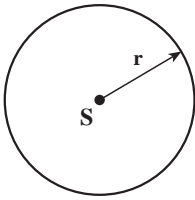
به سطح یک میکروفون که مساحت آن 3 cm^2 است در مدت ۵ ثانیه $1/5 \times 10^{-11} \text{ J}$ انرژی صوتی می‌رسد. شدت صوت در سطح میکروفون چقدر است؟ (سطح میکروفون عمود بر راستای انتشار صوت است).

پاسخ

با استفاده از رابطه ۱۱-۵ داریم:

$$I = \frac{E}{At} = \frac{1/5 \times 10^{-11}}{3 \times 10^{-4} \times 5} = 10^{-8} \text{ W/m}^2$$

اکنون ممکن است این پرسش پیش بیاید که: چرا هرچه از چشمه صوت دور می‌شویم صدا ضعیف‌تر می‌شود؟ برای پاسخ دادن به این سؤال چشمه صوت S را در نظر می‌گیریم که موج‌های کروی در فضا ایجاد می‌کند (شکل ۱۳-۵).

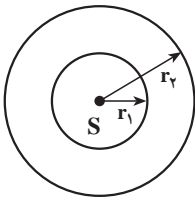


شکل ۱۳-۵

فرض کنید توان چشمه صوت P باشد و چشمه در تمام جهت‌های فضا، موج را به صورت یکسان گسیل کند. شدت صوت در روی کره‌ای به شعاع r چقدر است؟ اگر از اتلاف انرژی صوتی در هوا صرف نظر کنیم، در واحد زمان انرژی P به سطح کره‌ای به مساحت $4\pi r^2$ می‌رسد. در نتیجه شدت صوت بر روی این کره برابر است با:

$$I = \frac{P}{4\pi r^2} \quad (13-5)$$

این رابطه نشان می‌دهد که با دور شدن از چشمه S شدت صوت کاهش می‌یابد. حال برای اینکه ببینیم این کاهش به چه نسبتی صورت می‌گیرد، دو جبهه موج کروی به شعاع‌های r_1 و r_2 در نظر می‌گیریم (شکل ۱۴-۵).



شکل ۱۴-۵

انرژی‌ای که در واحد زمان به سطح کره‌ای با شعاع r_1 می‌رسد (P_1) با انرژی‌ای که در واحد زمان به سطح کره‌ای با شعاع r_2 می‌رسد (P_2) برابر است. بنابراین داریم:

$$P_1 = P_2 \quad (14-5)$$

$$I_1 = \frac{P_1}{4\pi r_1^2} \quad \text{شدت صوت روی سطح کره ۱ برابر است با:}$$

$$I_2 = \frac{P_2}{4\pi r_2^2} \quad \text{و روی سطح کره ۲ برابر است با:}$$

با جایگذاری این رابطه‌ها در رابطه ۵-۱۴ داریم:

$$4\pi r_1^2 I_1 = 4\pi r_2^2 I_2$$

و یا

$$\frac{I_2}{I_1} = \left(\frac{r_1}{r_2}\right)^2 \quad (5-15)$$

همان‌طور که این رابطه نشان می‌دهد، شدت صوت با مجذور فاصله از چشمه صوت نسبت

عکس دارد.

مثال ۵-۴

شدت صوت یک سخنان در یک سالن در فاصله ۴ متری از او برابر 10^{-6} W/m^2 است. شدت صوت سخنان در فاصله ۲ متری چقدر است؟

پاسخ

با استفاده از رابطه ۵-۱۵ داریم:

$$\frac{I_2}{I_1} = \frac{r_1^2}{r_2^2}$$

$$\frac{I_2}{10^{-6}} = \left(\frac{4}{2}\right)^2 = \frac{1}{25} \quad \text{با جایگذاری مقادیر } r_1 \text{ و } r_2 \text{ و } I_1 \text{ داریم:}$$

$$I_2 = 4 \times 10^{-8} \text{ W/m}^2$$

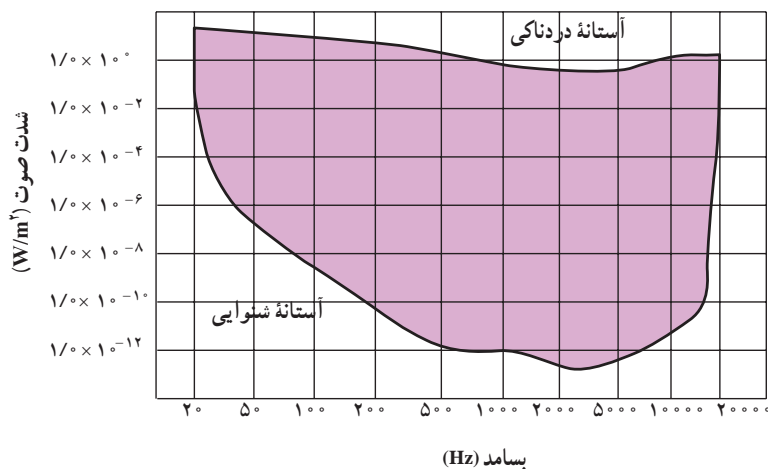
یعنی در مقایسه با فاصله ۴ متری، شدت صوت در فاصله ۲ متری ۲۵ مرتبه کاهش می‌یابد. به نظر شما آیا این بدان معنی است که صوت در فاصله ۴ متری ۲۵ بار بلندتر از صوت در فاصله ۲ متری شنیده می‌شود؟

شدت صوت برای برخی صداها در جدول ۵-۳ آمده است.

جدول ۵-۳- شدت صوت و تراز شدت صوت برای برخی صداها

تراز شدت صوت dB	شدت صوت W/m ²	صدا
۰	10^{-12}	شدت صوت مبنا
۱۰	10^{-11}	نفس کشیدن
۲۰	10^{-10}	برگ درختان در نسیم صحبت کردن از فاصله
۴۰	10^{-8}	یک متری
۶۰	10^{-6}	همهمه در فروشگاه سروصدای خودروها در
۷۰	10^{-5}	خیابان شلوغ
۱۲۰	۱	آستانه دردناکی (برای بسامد ۱۰۰۰ Hz)
۱۳۰	۱۰	مسلسل غرش هواپیمای جت
۱۴۰	10^2	درحین بلندشدن راکت فضایی، در موقع
۱۷۰	10^5	بلند شدن

آهسته‌ترین صدایی (کمترین شدت) را که انسان می‌تواند بشنود آستانه شنوایی می‌نامند، و بلندترین صدایی (بیشینه شدت) که انسان می‌تواند بشنود بدون اینکه گوش او به درد آید آستانه دردناکی می‌نامند. آستانه شنوایی و آستانه دردناکی به بسامد بستگی دارند. نمودار شدت صوت در آستانه شنوایی و دردناکی را، به صورت تابعی از بسامد، در شکل ۵-۱۵ مشاهده می‌کنید.



شکل ۵-۱۵ بسامد (Hz)

پرسش ۲-۵

با استفاده از نمودار شکل ۱۵-۵ تعیین کنید که آستانه شنوایی و دردناکی در بسامد $10,000$ هرتز تقریباً چقدر است.

هرچه شدت صوت بیشتر باشد، مقدار انرژی ای که گوش دریافت می کند بیشتر است و انسان صدا را بلندتر احساس می کند، با این حال، این به معنی آن نیست که بلندی صوت با شدت آن نسبت مستقیم دارد؛ پس اگر شدت صوت دو برابر شود، بلندی صدایی که احساس می کنیم دو برابر نمی شود. در جدول ۳-۵ می بینید که شدت صوت در غرش هواپیما 10^2 W/m^2 و شدت صوت در گفت و گوی بین دو نفر 10^{-4} W/m^2 است؛ یعنی شدت غرش هواپیمای جت 10^{10} برابر شدت گفت و گواست. ولی می دانید که ما غرش هواپیما را هیچ گاه 10^{10} برابر بلندتر از گفت و گوی دو نفر احساس نمی کنیم. به این علت به تعریف تراز شدت صوت که درک انسان را از بلندی صوت بیان می کند نیاز داریم: تراز شدت یک صوت عبارت است از لگاریتم (در پایه ده) نسبت شدت آن صوت به شدت صوت مبنا. تراز شدت صوت را با β نشان می دهند و یکای آن را به افتخار بل فیزیک دان امریکایی مخترع تلفن، بل (B) و دسی بل (dB) نام گذاری کرده اند. هر بل برابر ده دسی بل است.

$$\beta = \log \frac{I}{I_0} \quad \text{بل (B)} \quad (16-5)$$

$$\beta = 10 \log \frac{I}{I_0} \quad \text{دسی بل (dB)} \quad (17-5)$$

I_0 شدت صوت مبنا است که برابر با آستانه شنوایی گوش سالم در بسامد 1000 هرتز (10^{-12} W/m^2) در نظر گرفته می شود. در جدول ۳-۵ شدت پاره ای از صوت ها بر حسب دسی بل بیان شده است.

مثال ۵-۵

در جدول ۳-۵ شدت صوت آستانه دردناکی (برای بسامد 1000 Hz) برابر با 1 W/m^2 ذکر شده است. تراز شدت صوت را برای آن به دست آورید.

پاسخ

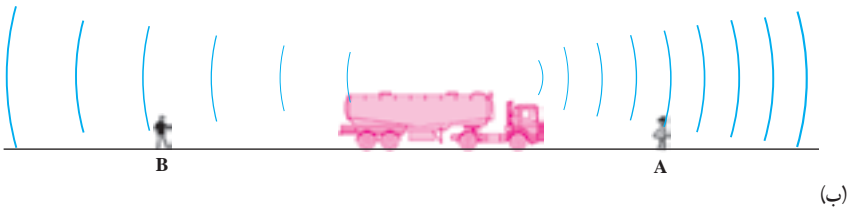

با استفاده از رابطه ۵-۱۷ داریم:

$$\beta = 10 \cdot \log \frac{I}{I_0} = 10 \cdot \log \frac{1}{10^{-12}} = 120 \text{ dB}$$

۵-۵- اثر دوپلر

آیا تاکنون توجه کرده‌اید که وقتی یک ماشین آتش‌نشانی یا آمبولانس آژیرکشان عبور می‌کند، صوت آن هنگامی که به شما نزدیک می‌شود با صوت آن هنگامی که از شما دور می‌شود متفاوت است؟ یا هنگامی که با ماشین در جاده حرکت می‌کنید، صدای بوق ماشینی که نزدیک می‌شود، با صدای بوق آن در هنگام دور شدن تفاوت دارد؟ برای بررسی این پدیده، ماشینی را مطابق شکل ۵-۱۶، در نظر بگیرید که دو ناظر A و B در جلو و پشت آن قرار دارند. در ابتدا فرض کنید که هم ناظرهای A و B و هم ماشین آتش‌نشانی، که آژیر می‌کشد، ساکن اند (شکل ۵-۱۶ الف). این ماشین یک موج صوتی با بسامد f_s و دوره T_s گسیل می‌کند. جبهه‌های موج مربوط به (مثلاً) قله‌های این صوت (بیشینه تراکم) نیز در شکل ۵-۱۶ الف نشان داده شده‌اند.

اگر طول موج صوت را در هوا، هنگامی که چشمه ساکن است، با λ نشان دهیم داریم:



شکل ۵-۱۶

$$\lambda = vT_s = \frac{v}{f_s} \quad (۱۸-۵)$$

که در آن v سرعت صوت در هواست.

اکنون دو حالت زیر را در نظر می‌گیریم:

الف) چشمه صوت به ناظر ساکن A نزدیک و از ناظر ساکن B دور می‌شود. (ب) ناظر A به چشمه ساکن (ماشین آتش‌نشان) نزدیک و یا از آن دور می‌شود. هر یک از این دو حالت را بررسی می‌کنیم:

الف) چشمه صوت با سرعت v_s به ناظر A نزدیک می‌شود. در این حالت چشمه در بازه زمانی بین گسیل یک جبهه موج و جبهه موج بعدی، مسافت $v_s T_s$ را طی می‌کند. یعنی، همان‌طور که در شکل ۵-۱۶- نشان داده شده است، طول موج صوتی که به طرف ناظر A در حرکت است به اندازه $v_s T_s$ از λ کوتاه‌تر است. پس، اگر طول موج این صوت را در هوا با λ' نشان دهیم داریم:

$$\lambda' = \lambda - v_s T_s \quad (۱۹-۵)$$

بسامد این صوت را با f_o نمایش می‌دهیم یعنی، ناظر ساکن، صوت را با بسامد f_o می‌شنود.

اکنون می‌توان f_o را، با استفاده از رابطه طول موج و بسامد ($f_o = \frac{v}{\lambda'}$) به دست آورد:

$$f_o = \frac{v}{\lambda - v_s T_s}$$

که با استفاده از رابطه ۵-۱۸ به صورت زیر درمی‌آید:

$$f_o = \frac{v}{\frac{v}{f_s} - v_s T_s} = \frac{v}{v - v_s} f_s \quad (۲۰-۵)$$

مثال ۵-۶

یک خودروی پلیس در حالی که صوتی را با بسامد 4000 Hz گسیل می‌کند با سرعت 72 km/h به یک عابر ساکن نزدیک می‌شود؛ بسامد صوتی را که عابر می‌شنود به دست آورید. سرعت صوت را در هوا 340 m/s فرض کنید.

پاسخ

با استفاده از رابطه ۵-۲۰ داریم:

$$f_o = \frac{v}{v - v_s} f_s$$

در این رابطه $v = 340 \text{ m/s}$ ، $v_s = 72 \text{ km/h} = 20 \text{ m/s}$ و $f_s = 4000 \text{ Hz}$ است.

در نتیجه :

$$f_o = \frac{340}{340 - 20} (4000) = 4250 \text{ Hz}$$

در همین حال، ماشین آتش‌نشانی از ناظر B دور می‌شود. در این صورت، همان‌طور که در شکل ۱۶-۵-ب نشان داده شده است، طول موج صوتی که به طرف ناظر B در حرکت است به اندازه $v_s T_s$ از λ بلندتر است (چرا؟). یعنی :

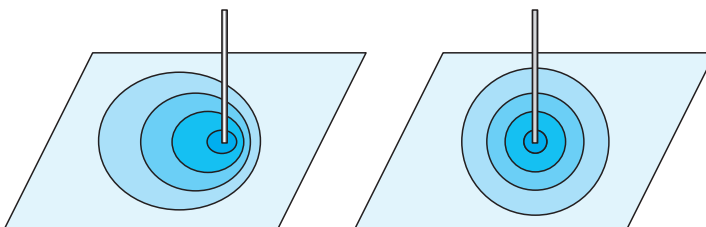
$$\lambda' = \lambda + v_s T_s$$

و برای بسامد صوتی که ناظر B می‌شنود، رابطه زیر به دست می‌آید.

$$f_o = \frac{v}{v + v_s} f_s \quad (21-5)$$

ملاحظه می‌شود هنگامی که چشمه به طرف ناظر در حرکت است، بسامد صوتی که ناظر می‌شنود بیشتر از بسامد صوتی است که چشمه ساکن ایجاد می‌کند؛ و برعکس، در حالتی که چشمه از ناظر دور می‌شود، بسامد صوتی که ناظر می‌شنود کمتر از بسامد صوتی است که چشمه ساکن ایجاد می‌کند. این تغییر بسامد، هم در حالتی که چشمه ساکن است و ناظر حرکت می‌کند (حالت ب) و هم در حالتی که هر دو حرکت می‌کنند رخ می‌دهد. به این تغییر بسامد که از حرکت چشمه، ناظر یا هر دو ناشی می‌شود اثر دوپلر می‌گویند.

دیدیم هنگامی که چشمه صوت در حرکت است، طول موج صوت در جلوی چشمه کوتاهتر و در پشت چشمه بلندتر از طول موج صوت در حالتی است که چشمه موج ساکن باشد. این پدیده در مورد موج‌های مکانیکی دیگر نیز رخ می‌دهد. شکل ۱۷-۵-الف میله‌ای را نشان می‌دهد که در بازه‌های زمانی یکسان روی سطح آب ضربه می‌زند و جبهه‌های موج دایره‌ای ایجاد می‌کند. در شکل ۱۷-۵-ب میله در حین حرکت بر روی سطح آب ضربه می‌زند. ملاحظه می‌شود که طول موج در جلوی میله کوتاهتر و در پشت آن بلندتر از طول موجی است که میله ساکن ایجاد می‌کند.



ب

الف

شکل ۱۷-۵

تمرین ۳-۵

در مثال ۵-۶ فرض کنید که خودروی پلیس با همان سرعت از عابر دور می‌شود. عابر چه بسامدی را می‌شنود؟

(ب) ناظر A با سرعت v_0 به چشمه ساکن نزدیک می‌شود (شکل ۵-۱۶-پ). در این حالت، چون چشمه ساکن است، طول موج صوتی که ایجاد می‌کند برابر λ است، و چون ناظر با سرعت v_0 به سوی آن در حرکت است، صوت با سرعت $v_0 + v$ به او نزدیک می‌شود. در نتیجه، بسامد صوتی که ناظر A می‌شنود، برابر خواهد بود با:

$$f_0 = \frac{v + v_0}{\lambda}$$

که با توجه به رابطه ۵-۱۸ داریم:

$$f_0 = \frac{v + v_0}{v} = \frac{v + v_0}{v} f_s \quad (۲۲-۵)$$

یعنی، در این حالت، بسامد صوتی که ناظر A می‌شنود بیشتر از بسامد صوتی است که چشمه ساکن ایجاد می‌کند.

حال اگر ناظر B با سرعت v_0 از چشمه ساکن دور شود، در این حالت نیز طول موج صوت برابر λ است صوت با سرعت $v - v_0$ به ناظر نزدیک می‌شود.

در نتیجه، بسامد صوتی که ناظر می‌شنود، با انجام محاسباتی نظیر حالت قبل، از رابطه زیر به دست می‌آید:

$$f_0 = \frac{v - v_0}{v} f_s \quad (۲۳-۵)$$

ملاحظه می‌شود که در این حالت بسامد صوتی که ناظر A می‌شنود، کمتر از بسامد صوتی است که چشمه ساکن ایجاد می‌کند.

تمرین ۴-۵

شخصی یک سوت را با بسامد 700 هرتز به صدا درمی‌آورد. سرنشین خودرویی که با سرعت 36 km/h ، (الف) به او نزدیک می‌شود. (ب) از او دور می‌شود، چه بسامدی را می‌شنود؟

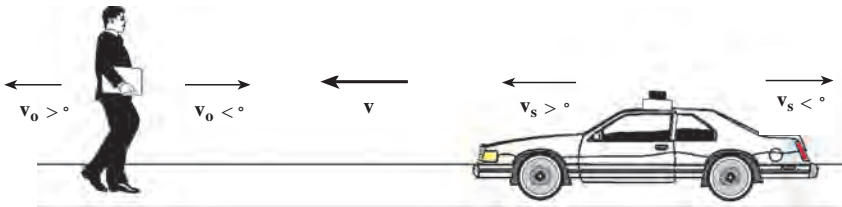
پرسش ۳-۵

در رابطه ۲۳-۵، اگر $v_0 > v$ باشد، f_0 منفی می‌شود. این نتیجه را چگونه می‌توان تحلیل کرد؟

در حالت کلی که چشمه صوت و ناظر هر دو در حرکت اند، بسامدی که ناظر می‌شنود از رابطه زیر به دست می‌آید:

$$f_0 = \frac{v - v_0}{v - v_s} f_s \quad (24-5)$$

در این رابطه سرعت صوت v به طرف ناظر را مثبت فرض کرده ایم. علامت v_s و v_0 در مقایسه با v مشخص می‌شود. اگر v_0 یا v_s با v هم جهت باشند، مثبت و در غیر این صورت منفی خواهند بود (شکل ۱۸-۵).



شکل ۱۸-۵

تمرین های فصل پنجم

- ۱- کدام یک از عامل های زیر بر سرعت صوت در هوا مؤثر است؟
(الف) شکل موج (ب) دامنه موج (پ) بسامد موج (ت) دمای هوا
- ۲- آزمایشی برای اندازه گیری سرعت صوت در آب طراحی کنید.
- ۳- دلفین، مانند خفاش، از خود فراصوت گسیل می‌کند. طول موج صوت دلفین با بسامد $4 \times 10^5 \text{ Hz}$ در آب چقدر است؟
- ۴- ناظری در سطح زمین ایستاده است. صدای رعد ۵ ثانیه پس از مشاهده برق به گوش او می‌رسد. اگر دمای هوا 27°C باشد، فاصله ناظر از محل ایجاد رعد و برق چقدر است؟

۵- دانش آموزی بین دو صخره قائم ایستاده است و فاصله او از صخره نزدیک 24° متر است. دانش آموز فریاد می زند و اولین پژواک صدای خود را پس از $1/5$ ثانیه و صدای پژواک دوم را 1 ثانیه بعد از پژواک اول می شنود.

الف) سرعت صوت در هوا را به دست آورید.

ب) فاصله بین دو صخره را محاسبه کنید.

۶- یک انتهای لوله ای صوتی، باز و انتهای دیگر آن بسته است. الف) طول لوله برای این که هوای داخل لوله در بسامد اصلی 6°Hz به تشدید درآید، چقدر است؟ ب) با رسم شکل، هماهنگ اصلی و هماهنگ های سوم و پنجم آن را نمایش دهید. پ) طول موج صوت اصلی و هماهنگ های سوم و پنجم آن را تعیین کنید. (سرعت صوت را 340 m/s در نظر بگیرید.)

۷- تمرین ۶ را در حالتی که هر دو انتهای لوله صوتی باز است، حل کنید.

۸- طول یک لوله صوتی که هر دو انتهای آن باز است، $1/7 \text{ m}$ است. بسامد هماهنگ سوم این لوله را محاسبه کنید. (سرعت صوت را 340 m/s در نظر بگیرید.)

۹- یک چشمه صوت، موج های کروی در هوا گسیل می کند. الف) نسبت شدت صوت در دو نقطه را که فاصله آنها از چشمه صوت d_1 و $2d_1$ است، محاسبه کنید. ب) کاهش شدت صوت گسیل شده از چشمه عملاً بیشتر از آن است که در قسمت الف) به دست می آید. علت چیست؟

۱۰- دو نفر به فاصله های d_1 و d_2 از یک چشمه صوت ایستاده اند. تراز شدت صوت برای این دو نفر به ترتیب 2°dB و 1°dB است. نسبت $\frac{d_2}{d_1}$ را حساب کنید.

۱۱- در فاصله 2 m از چشمه صوتی تراز شدت صوت 6°dB است. با این فرض که جذب صوت به وسیله هوا قابل چشم پوشی است، در چه فاصله ای از این چشمه می توان صوت را به زحمت شنید؟ آیا به نظر شما، پاسخ به دست آمده منطقی است؟

۱۲- دو قطار با سرعت یکسان 34 m/s به طرف یکدیگر در حرکت اند، یکی از آنها صوتی را با بسامد 50°Hz گسیل می کند. بسامد صوتی که مسافر قطار دیگر می شنود، چقدر است؟ (سرعت صوت را 334 m/s فرض کنید.)

۱۳- یک ماشین آتش نشانی با سرعت 4 m/s به یک اتومبیل که با سرعت 20 m/s در حرکت است، نزدیک می شود و از آن سبقت می گیرد. بسامد صوتی را که راننده اتومبیل می شنود، در دو حالت زیر حساب کنید :

الف) قبل از رسیدن ماشین آتش نشانی به اتومبیل

ب) بعد از عبور ماشین آتش نشانی از آن. بسامد آژیر ماشین آتش نشانی 855Hz و سرعت صوت در هوا 340m/s است.

۱۴- یک چشمه صوت با سرعت 30m/s در حرکت است. بسامد چشمه صوت 600Hz و سرعت صوت در هوا 330m/s است. طول موج صوت را در جلو و عقب این چشمه حساب کنید.

۱۵- خودرویی با سرعت 72km/h در جاده‌ای در حال حرکت است. صدای آژیر خودرو با بسامد 680Hz به صخره‌ای واقع در جلوی مسیر خودرو برخورد می‌کند. صوت بازتاب شده با چه بسامدی به گوش راننده می‌رسد؟ (سرعت صوت را 340m/s در نظر بگیرید.)

۱۶- یک پرده صماخ به قطر 75° سانتی متر به مدت ۲ ساعت صوتی با تراز شدت 90dB را جذب می‌کند. در این مدت، پرده گوش چه مقدار انرژی بر حسب ژول جذب کرده است؟

۱۷- سرعت صوت در بافت‌های بدن تقریباً مساوی سرعت صوت در آب دریاست، (1500m/s) قسمتی از یک موج فراصوت که به داخل خون فرستاده می‌شود، به وسیله گلبول‌های خون بازتابیده می‌شود. اگر بسامد پژواک برگشتی 400Hz بیشتر از بسامد 2MHz اولیه باشد، سرعت حرکت خون چه مقدار است؟ (توجه کنید که در اینجا دو جابه‌جایی دوپلری وجود دارد.)