

	<p>واحد کار: توانایی ترسیم الگوی انواع یقه  شماره‌ی شناسایی: ۸۸ و ۷-۹۱/۴۱/۲/۴-۹</p>	<p>استاندارد مهارت: نازک دوزی زنانه درجه ۲  الگوی انواع یقه  شماره‌ی شناسایی: ۸۸ و ۷-۹۱/۴۱/۲/۴</p>
--	---	--



خط لبه‌ی بیرونی یقه، متناسب با مدل یقه تغییر می‌کند، در طرح‌های ۲ و ۳ راستای پارچه  
با توجه به خطوط راه‌راه یا چهارخانه (در قسمت دال یقه) پارچه تنظیم می‌شود.

## مدل ب یقه انگلیسی با طرح بلیزی

### گام اول

گام اول این مدل عیناً همانند گام‌های اول الی هشتم مدل الف است؛ با این تفاوت که دال (د) یقه به طرف بالا و به نام بلیزی معروف است.

۷. ۵۰ سانتیمتر (دگمه خور) ۳

۵۴. ۵۵ سانتیمتر ۳

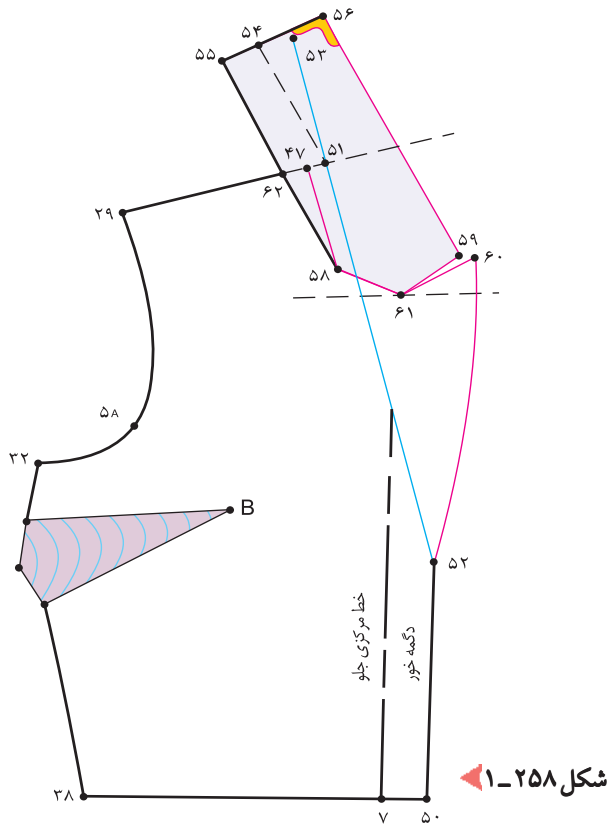
۵۴. ۵۶ سانتیمتر ۵

روی خط راهنمای دال یقه به اندازه‌ی دلخواه (بستگی به مدل یقه دارد)، در این مدل «۲ سانتیمتر»، بالا بروید تا «نقطه‌ی ۶۰» به دست آید.

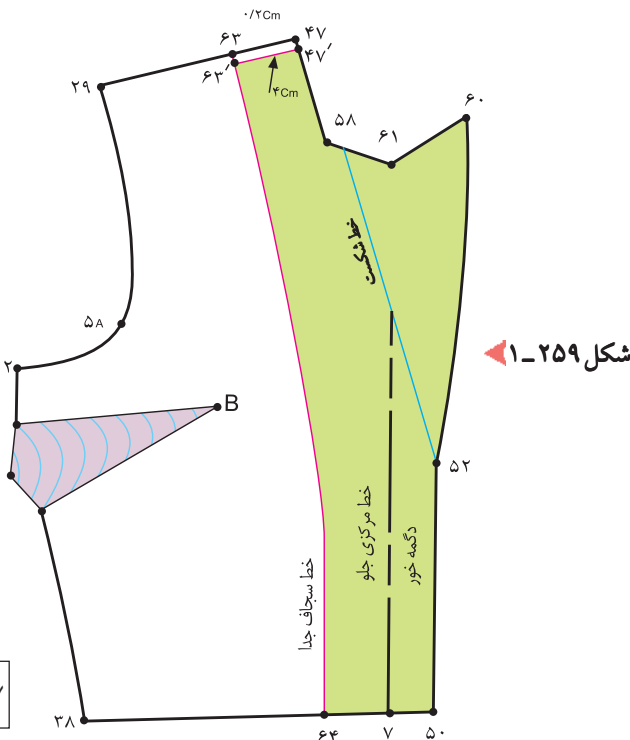
فاصله‌ی نقطه‌ی «۶۰» «۵۹» در حدود «۱/۲-۰/۲ سانتیمتر» است.

فرم برگرد یقه و تکه‌ی بالایی یقه را طراحی کنید.

پس از رولت کردن تکه‌ی بالایی یقه، از نقاط «۶۰»، «۶۱»، «۵۸» و «۴۷» الگوی بالاتنه را قیچی کنید. (شکل ۱-۲۵۸)



شکل ۱-۲۵۸



شکل ۱-۲۵۹

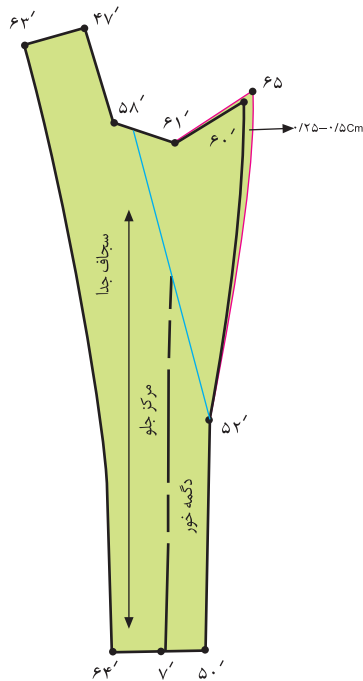
### گام دوم

برای ترسیم سجاف برگرد یقه‌ی بالاتنه عیناً همانند مدل الف یقه‌ی انگلیسی عمل کنید. (شکل ۱-۲۵۹)

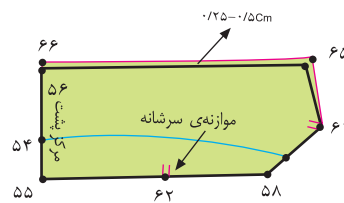
۴۷. ۶۳ سانتیمتر ۴-۳

۷. ۶۴ سانتیمتر ۱+۳ (اندازه‌ی دگمه خور + ۱ سانتیمتر)

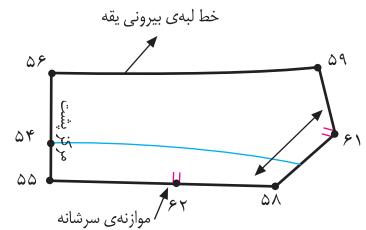
۴۷. ۶۳. ۶۳. ۶۳ سانتیمتر کم شده ۲/۰



شکل ۱-۲۶۲ ▲



شکل ۱-۲۶۱ ▲



شکل ۱-۲۶۰ ▲

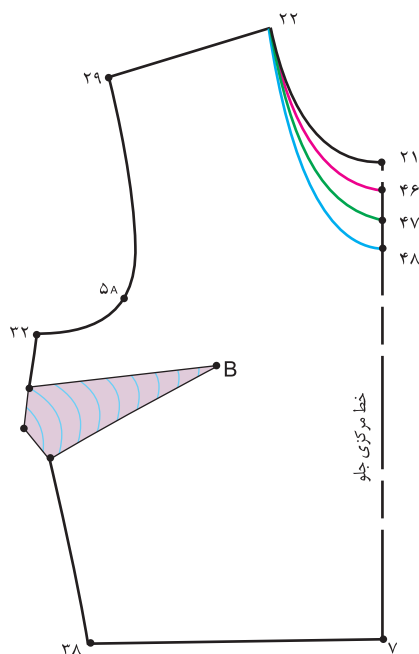
مراحل آماده سازی قسمت زیر و روی یقه و سجاف برگرد  
یقه‌ی بالاتنه عیناً همانند الگوی مدل الف یقه‌ی انگلیسی  
است. (شکل‌های ۲۶۰، ۲۶۱ و ۱-۲۶۲)

توجه کنید:

در صورتی که بخواهید دال یقه‌ی انگلیسی در  
محل مورد نظر مدل قرار گیرد، می‌توانید از  
«نقطه‌ی ۲۱» خط مرکزی جلو به اندازه‌ی دلخواه  
پایین بیاورید تا محل دال مورد نظر مدل مشخص  
شود. (شکل ۱-۲۶۳)

(د) دال نسبتاً بالا «نقطه‌ی ۴۶»

(د) دال نسبتاً پایین «نقطه‌ی ۴۸»



شکل ۱-۲۶۳ ▲

	<p>واحد کار: توانایی ترسیم الگوی انواع یقه شماره شناسایی: ۹-۴/۲/۴۱/۹۱-۷ و ۸۸</p>	<p>استاندارد مهارت: نازک دوزی زنانه درجه ۲ الگوی انواع یقه شماره ی شناسایی: ۴/۲/۴۱/۹۱-۷ و ۸۸</p>
--	--	--



در طرحهای این صفحه انواع یقه ی انگلیسی را مشاهده می کنید، دقت کنید فرم دال (د) و پهنای بیرونی یقه متفاوت است، الگوی آنان را ترسیم کنید.