

فصل ۷

وسایل اتصال در سازه‌های فولادی (پرچ، پیچ و جوش)



هدف‌های رفتاری:

در پایان این فصل از فراگیر انتظار می‌رود بتواند:

۱. معایب و محاسن پیچ و پرچ را بیان کند.
۲. روش کوبیدن پرچ را شرح دهد.
۳. انواع سوراخ‌ها در ورق اتصال را نام ببرد و هر یک را ترسیم نماید.
۴. سازوکار خرابی پیچ و پرچ را شرح دهد.
۵. جوشکاری را تعریف کند و انواع آن را نام ببرد و جوشکاری با قوس الکتریکی را شرح دهد.
۶. انواع الکترودها را از یکدیگر تشخیص دهد.
۷. انواع جوشکاری با قوس الکتریکی را شرح دهد.
۸. انواع اتصالات جوشی را از یکدیگر تشخیص دهد.
۹. کاربرد انواع مختلف جوش را شرح دهد.
۱۰. عوامل موثر در فرایند جوشکاری را نام ببرد.
۱۱. ماشین‌های مورد استفاده در جوش کاری دستی با الکتروود روکش‌دار را شرح دهد.
۱۲. نحوه‌ی استفاده‌ی صحیح از ابزار جوشکاری را بداند و نصب قطعات فلزی را شرح دهد.

۱-۷- تعریف

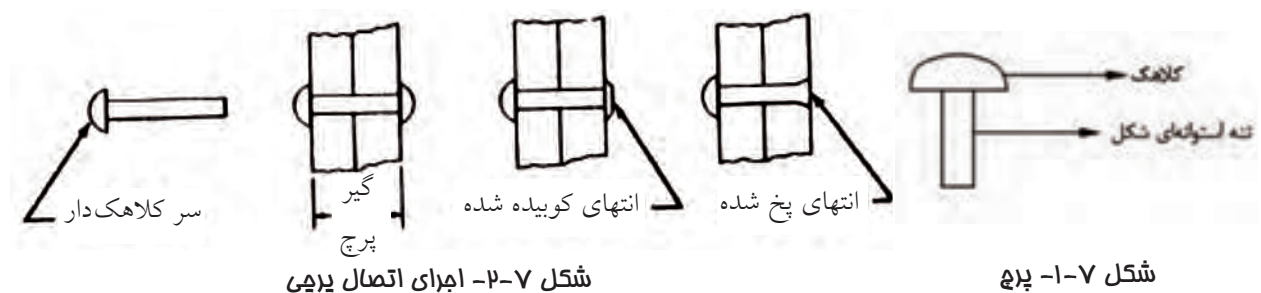
هر ساختمان فلزی ترکیبی از اعضای جدا از هم است که باید با روش‌های مناسبی به یکدیگر متصل شوند. در این فصل وسایلی که برای اتصال قطعات فولادی مورد استفاده قرار می‌گیرند، شرح داده می‌شود.

۲-۷- وسایل اتصال

برای اتصال قطعات فولادی برحسب مورد از وسایل اتصال مختلف شامل پرچ، پیچ و جوش استفاده می‌شود که در این فصل به بررسی آن‌ها خواهیم پرداخت.


۱-۲-۷- پرچ

پرچ از قدیمی‌ترین وسایلی است که از آن برای اتصال اعضای سازه‌های فلزی استفاده می‌شود. یک پرچ کوبیده نشده مطابق شکل ۱-۷ از یک تنه استوانه‌ای کوچک که سر آن دارای کلاهک می‌باشد تشکیل شده است. پرچ‌ها معمولاً از فولاد معمولی ساخته می‌شوند. روش کوبیدن پرچ بدین ترتیب است که ابتدا آن را تا دم‌ای سرخ شدن گرم می‌کنند، سپس آن را توسط انبر مخصوصی درون سوراخ اتصال قرارداده و با ثابت نگه داشتن سرکلاهک دار آن، سر دیگر را می‌کوبند تا به فرم کلاهک درآید و پرچ محکم گردد. در طی این مراحل تنه پرچ، به طور کامل سوراخی را که در آن فرورفته، پر می‌کند. (شکل ۲-۷)



شکل ۲-۷- اجرای اتصال پرچی

شکل ۱-۷- پرچ



آیا می‌دانید که ...

در ساخت برج ایفل بیش از هجده هزار قطعه آهنی و دو میلیون و پانصد هزار میخ پرچ به کار رفته و پنجاه مهندس و ۱۳۲ کارگر بر روی آن کار کرده‌اند. این مهندسان تدابیر بسیاری اندیشیده‌اند تا نحوه خم کردن این میله‌های عمودی را بیابند و آن را به ارتفاع ۳۲۴ متری اش برسانند.



درحین سرد شدن، پرچ منقبض می‌شود که این انقباض باعث به وجود آمدن نیروی پیش‌تندگی در پرچ می‌شود. امروزه پرچ‌کاری به دلایل زیر از رونق افتاده است:

- ۱- پیشرفت فناوری جوشکاری
- ۲- تولید پیچ‌های پرمقاومت
- ۳- احتیاج به نیروی انسانی زیاد و ماهر برای پرچ‌کاری
- ۴- احتیاج به نظارت دقیق
- ۵- تولید سروصدای زیاد در هنگام کوبیدن و خطر آتش‌سوزی در کارگاه

رفتار اتصالات پرچی

رفتار اتصالات پرچی به گونه‌ای است که با سرد شدن پرچ، در آن تمایل به کاهش طول پیدا می‌شود. اما تماس بین کلاهک پرچ با صفحه اتصال، با این تمایل مخالفت می‌کند که این موضوع باعث به وجود آمدن یک نیروی کششی در پرچ می‌شود که به آن نیروی پیش‌تندگی می‌گویند و در اثر این نیروی کششی صفحات اتصال به همدیگر فشرده می‌شوند. نیروی اصطکاک بین دو ورق از لغزش آن‌ها بر روی هم جلوگیری می‌کند. اما از آنجایی که در پرچ‌کاری مقدار نیروی پیش‌کشیدگی در پرچ بسته به وضعیت پرچ‌کاری بسیار متغیر است، نیروی اصطکاک هم وضعیت تثبیت شده‌ای نخواهد داشت.



نمونه‌ای از پیچ پرمقاومت

۷-۲-۲- پیچ

یک اتصال پیچی از نظر اجرایی، سریعتر و عملی‌تر از سایر اتصالات است و با توجه به سرعت و آسانی اجرا بر دیگر اتصالات برتری دارد. اجزای تشکیل‌دهنده هر اتصال پیچی شامل سرپیچ، تنه پیچ، واشر و مهره است. (شکل ۷-۴)

۷-۲-۲-۱- انواع پیچ

انواع پیچ باتوجه به جنس مصالح آن عبارتند از:

۱- پیچ‌های معمولی

پیچ‌های معمولی که از آن‌ها فقط در اتصالات اتکایی استفاده می‌گردد، از فولاد با تنش نهایی F_u از ۴۰۰۰ تا ۵۰۰۰ کیلوگرم بر سانتی‌متر مربع ساخته می‌شود.

این نوع پیچ، ارزان‌ترین نوع پیچ است، اما معلوم نیست اتصالی که با آن ساخته می‌شود، ارزان‌ترین باشد؛ زیرا به علت پایین بودن مقاومت، تعداد آن نسبت به پیچ‌های پرمقاومت بیشتر است. این نوع پیچ‌ها در ساختمان‌سازی سبک، اعضای مهاربندها و اعضای درجه دوم، خرپاهای کوچک، لاپه‌ها و کلیه اعضای که بار وارد بر آن‌ها سبک و استاتیکی می‌باشد، و همچنین در عملیات مونتاژ مورد استفاده قرار می‌گیرند.



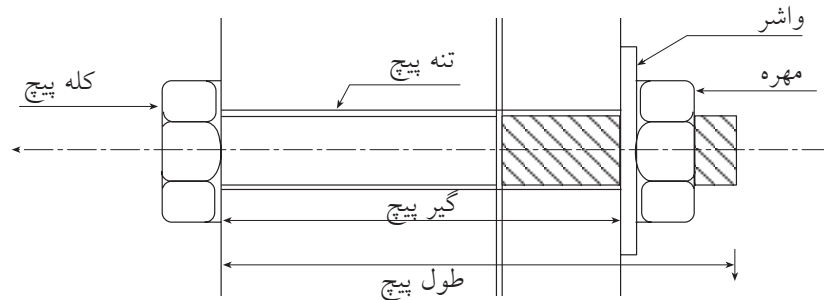
۲- پیچ‌های پرمقاومت

پیچ‌های پرمقاومت که از آنها در اتصالات اتکایی و اصطکاکی استفاده می‌شود، از فولادهای پرمقاومت با مقاومت نهایی ۸۰۰۰ تا ۱۰۰۰۰ کیلوگرم بر سانتی‌متر مربع ساخته می‌شوند.

قطر پیچ‌های پرمقاومت بین ۱۲ تا ۳۸ میلی‌متر می‌باشد که استفاده از قطرهای ۲۰ و ۲۲ میلی‌متر در ساختمان‌سازی معمول‌تر است.

مشخصه مهم پیچ‌های پرمقاومت در این است که با سفت کردن معین مهره‌های آنها، یک نیروی پیش‌تنیدگی در آنها ایجاد می‌شود.

شکل ۷-۳- استفاده از پیچ‌های پرمقاومت در اتصالات



شکل ۷-۴- اجزای اتصال پیچی

۷-۲-۲- انواع سوراخ در ورق

اتصال

انواع سوراخ مورد استفاده در اتصال پرچی و پیچی عبارتند از:

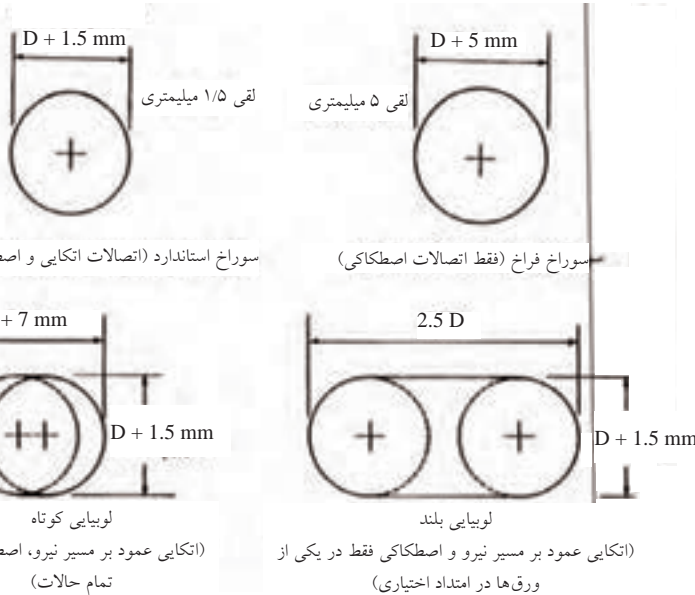
الف: سوراخ استاندارد

ب: سوراخ فراخ (بزرگ)

پ: لوبیایی کوتاه

ت: لوبیایی بلند

در شکل ۷-۵ انواع سوراخ به همراه میزان لقی مجاز نشان داده شده است و در این شکل، D قطر اسمی پیچ می‌باشد.

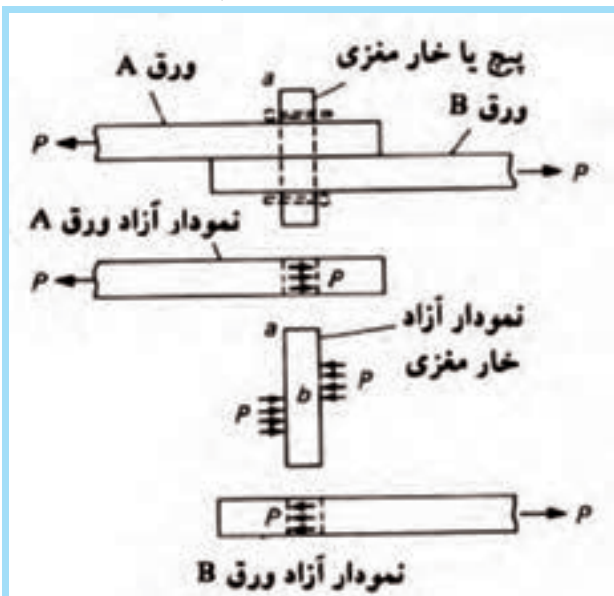


شکل ۷-۵- انواع سوراخ و اندازه لقی مجاز آنها



نمونه‌ای از ورق اتصال سوراخ‌کاری شده

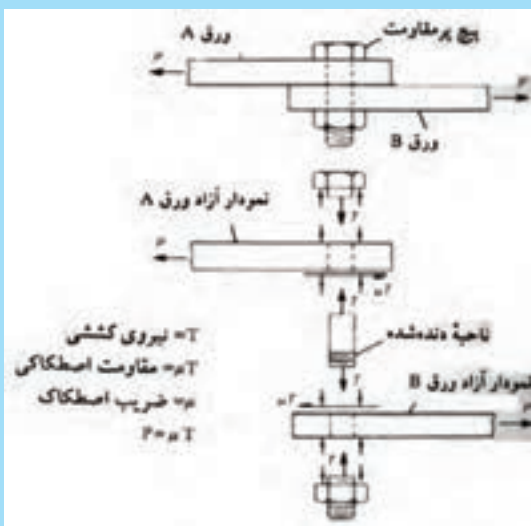
سوراخ‌های فراخ فقط در اتصالات اصطکاکی مجاز می‌باشند. سوراخ‌های لوبیایی کوتاه در تمام حالات در اتصالات اصطکاکی مجاز هستند و در اتصالات اتکایی باید عمود بر امتداد نیرو باشد (عملکرد اتصال اتکایی و اصطکاکی در بخش بعد معرفی شده است). سوراخ‌های لوبیایی بلند در اتصالات اتکایی فقط در امتداد عمود بر مسیر نیرو مجاز هستند و در اتصالات اصطکاکی فقط می‌توانند در یکی از ورق‌های اتصال در هر امتداد اختیاری وجود داشته باشند.



شکل ۷-۳- انتقال نیرو در یک پیچ با عملکرد اتکایی

۷-۲-۲-۳- رفتار برشی پیچ‌ها در اتصالات اتکایی

ساده‌ترین وسیله برای انتقال نیرو از یک عضو فولادی به عضو دیگر، استفاده از پیچ‌های با عملکرد اتکایی می‌باشد. در حین انتقال نیرو از اتصال، بین تنه پیچ و جدار سوراخ، فشار تماسی زیادی که به تنش لهیدگی مشهور است، به وجود می‌آید. در این نوع اتصالات اصطکاکی ناچیزی بین ورق‌ها وجود خواهد داشت. (شکل ۷-۶)



شکل ۷-۷- انتقال نیرو در یک پیچ با عملکرد اصطکاکی

۷-۲-۲-۴- پیچ‌ها در اتصالات اصطکاکی

رفتار یک پیچ پر مقاومت اصطکاکی بسیار شبیه پرچ می‌باشد. اگر پیچ طبق یکی از روش‌های استاندارد محکم گردد، نیروی پیش‌تنیدگی آن مقدار مشخصی خواهد داشت. از آنجا که در این نوع اتصالات، نیروی اصطکاکی ناشی از نیروی پیش‌کشیدگی توانایی انتقال نیروها را بین دو قطعه دارد، تحت بارهای خدمت، بین تنه پیچ و جدار سوراخ، نیروی لهیدگی ایجاد نمی‌شود. (شکل ۷-۷)

۷-۲-۵- روش ایجاد نیروی پیش‌تندگی در پیچ‌های پرمقاومت

برای ایجاد نیروی پیش‌تندگی در پیچ‌های پرمقاومت دو روش زیر معمول‌تر از سایر روش‌ها می‌باشد:

۱- استفاده از آچارهای مدرج (تُرک متر)


۲- سفت کردن مجدد مهره‌ها به مقدار معین، بعد از محکم شدن اولیه آن‌ها

در روش اول، توسط آچارهای دستی و یا مکانیکی مخصوصی که در روی آن‌ها وسیله‌ای برای اندازه‌گیری لنگر پیچشی وارد بر مهره وجود دارد، لنگر پیچشی مشخصی بر مهره وارد می‌آورند.

سفت کردن مجدد مهره‌ها به مقدار معین بعد از محکم شدن اولیه آن‌ها، ارزان‌ترین و قابل اطمینان‌ترین روشی است که برای ایجاد نیروی پیش‌تندگی در پیچ‌ها وجود دارد. در این روش بعد از اینکه پیچ به طور اولیه محکم



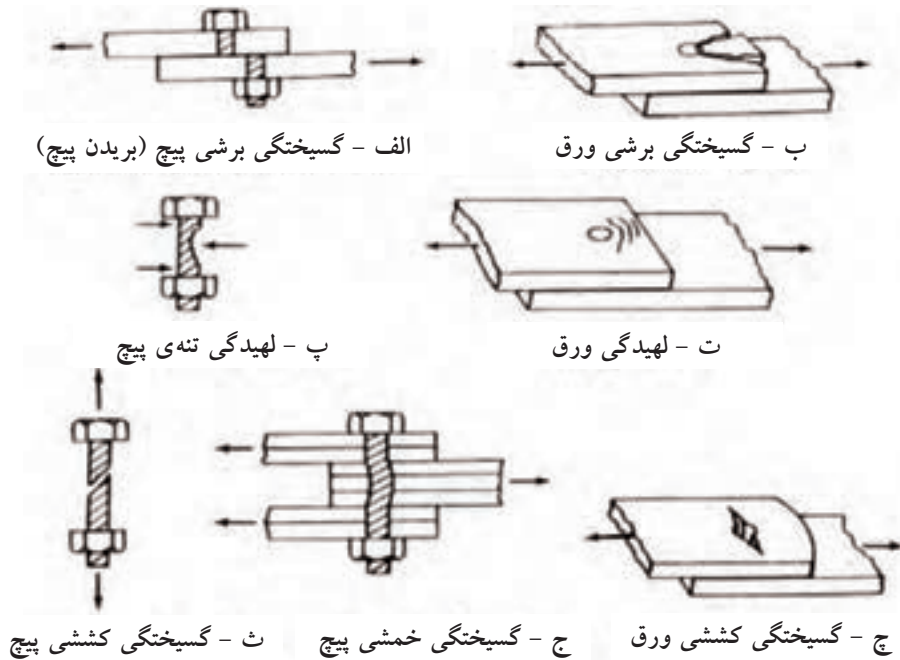
شد، مهره را به مقدار مشخصی مجدداً سفت می‌نمایند که این عمل باعث به وجود آمدن کرنش مشخصی در پیچ می‌شود. اگر برای سفت کردن مهره‌ها از روش‌های دستی استفاده نماییم، محکم شدن اولیه وقتی است که یک کارگر معمولی با یک آچار معمولی، کوشش کامل خود را برای سفت کردن پیچ به کار ببرد. در روش‌های ماشینی، محکم شدن اولیه پس از وارد شدن چند ضربه توسط دستگاه ایجاد می‌شود.



شکل ۷-۸- اتصال پیچی در سافتمان اسکلت فولادی

۷-۲-۲-۶- سازوکارهای خرابی پیچ و پرچ

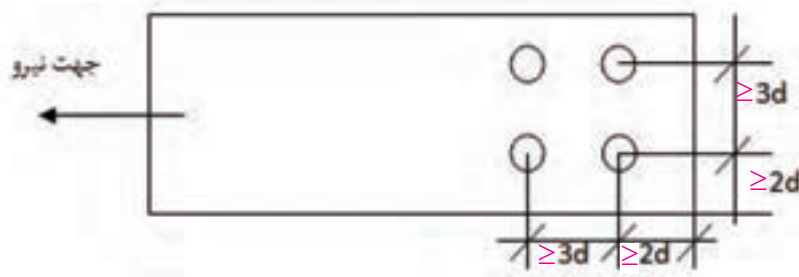
با افزایش بار در یک اتصال اتکایی یا اصطکاک، نیروی اصطکاک دیگر قادر به مقابله با بارهای وارده نمی‌باشد. از این لحظه به بعد، نیروهای مقابله‌کننده همان تنش‌های لهیدگی بین تنه و جدار سوراخ و تنش برشی در پیچ خواهد بود. بنابراین انواع گسیختگی یک اتصال، چه اتکایی و چه اصطکاک، مطابق با یکی از شکل‌های ۷-۹ خواهد بود.



شکل ۷-۹- انواع مختلف فرای یک اتصال پیچی

۷-۲-۲-۷- فواصل سوراخ‌ها در ورق‌های اتصال

فاصله مرکز به مرکز پیچ‌ها از یکدیگر نباید در هیچ حالتی از ۳ برابر قطر آن‌ها کمتر باشد. حداقل فاصله مرکز پیچ از لبه ورق ۲ برابر قطر پیچ در نظر گرفته می‌شود. (شکل ۷-۱۰) حداکثر فاصله پیچ تا لبه نباید از ۱۲ برابر ضخامت ورق تجاوز نماید، ضمناً نباید این فاصله از ۱۵ سانتیمتر بیشتر شود.



شکل ۷-۱۰- فواصل مجاز سوراخ‌ها

۷-۲-۳- جوش

۷-۲-۳-۱- تعریف

جوشکاری عبارت است از اتصال و یکپارچه کردن مصالح به یکدیگر به کمک حرارت، با و یا بدون استفاده از فشار و یا مواد پرکننده اضافی. به مصالحی که باید به هم متصل گردند فلز مینا و به ماده‌ای که این اتصال را برقرار می‌سازد فلز پرکننده یا فلز جوش گفته می‌شود.

برای ذوب فلز مینا و فلز جوش، حرارت به کار می‌رود تا مواد به صورت سیال درآمده و تداخل آن‌ها امکان‌پذیر شود.

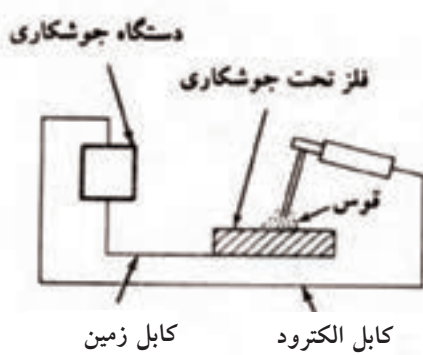
معمول‌ترین روش‌های جوشکاری، خصوصاً برای جوش فولاد ساختمانی، استفاده از انرژی برق به عنوان منبع حرارتی است و بدین منظور اغلب از قوس الکتریکی استفاده می‌شود. قوس الکتریکی عبارت است از تخلیه جریان نسبتاً بزرگ، بین فلز جوش (الکتروود یا سیم جوش) و فلز مینا که از میان ستونی از مواد گازی یونیزه به نام پلازما انجام می‌پذیرد. در جوش قوس الکتریکی، عمل ذوب و اتصال با جریان مواد در طول قوس و بدون اعمال فشار صورت می‌گیرد. (شکل ۷-۱۱)

۷-۲-۳-۲- جوشکاری با استفاده از قوس الکتریکی

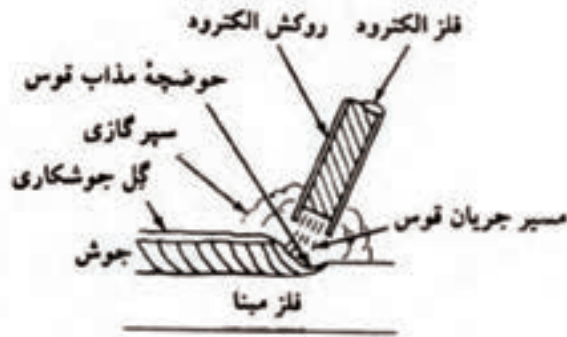
جوشکاری با استفاده از قوس الکتریکی با الکتروود روکشدار یکی از مهمترین، ساده‌ترین و شاید کارآمدترین روش‌هایی است که برای اتصال فولاد ساختمانی به کار می‌رود. در محاورات فنی، این روش به نام جوش دستی با الکتروود خوانده می‌شود.

حرارت لازم، با برقرار نمودن قوس الکتریکی بین الکتروود روکشدار و اجزایی که باید متصل شوند، ایجاد می‌گردد. مدار جوشکاری در شکل ۷-۱۱-الف، به نمایش درآمده است.





(الف) مدار جوش قوسی



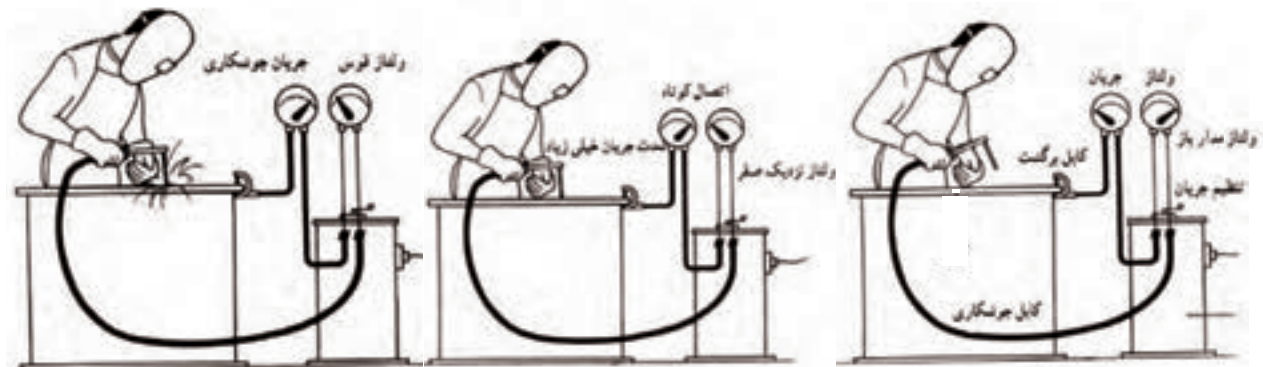
(ب) جوش قوس الکتریکی تحت حفاظ

شکل ۷-۱۱- جوش قوس الکتریکی فلزی تمت مفاظت سپرگازی

در جریان جوشکاری، با ذوب الکتروود و انتقال به فلز مبنا، الکتروود روکشدار مصرف می‌شود. فلز الکتروود تبدیل به ماده پرنکننده شده و قسمتی از روکش به گاز محافظ و قسمت دیگر آن به گل جوشکاری تبدیل می‌گردد. روکش، مخلوطی گل مانند از سیلیکات‌های سخت‌کننده و مواد دیگری، مانند فلوراید‌ها، کربنات‌ها، اکسیدها، آلیاژهای فلزی و سلولز است. این مخلوط، پخته و فشرده شده تا روکش سخت، خشک و متراکم را به وجود آورد.

روکش الکتروود وظایف زیر را بر عهده دارد:

- ۱- با ایجاد سپرگازی، هوا را جداساخته، قوس را تثبیت می‌کند.
 - ۲- مواد دیگری مانند احیاکننده‌ها را وارد فلز جوش می‌نماید تا بافت ساختمانی آن را بهبود بخشند.
 - ۳- با ایجاد یک روکش از گل جوشکاری روی حوضچه مذاب و جوش سخت شده، آن‌ها را در مقابل اکسیژن و نیتروژن هوا محافظت کرده، در ضمن مانع سرد شدن سریع جوش می‌گردد.
- روش‌های دیگر جوشکاری با قوس الکتریکی که اغلب به صورت اتوماتیک انجام می‌شود، عبارتند از جوشکاری زیرپودری، جوشکاری تحت حفاظت گاز و جوشکاری با سیم جوش توپودری که برای تشریح آن‌ها باید به کتب تخصصی مراجعه نمود. در این روش‌ها، الکتروود به صورت مفتول پیوسته عاری از روکش بوده و عمل پوشش را پودر و یا گاز CO_2 انجام می‌دهد.



(ج) ولتاژ و آمپراژ در حالت برقراری قوس

(ب) ولتاژ و آمپراژ در حالت اتصال کوتاه

(الف) ولتاژ و آمپراژ در حالتی که

مدار باز است

۲-۳-۳- جوش پذیری فولادهای ساختمانی

اغلب فولادهای ساختمانی استاندارد را می‌توان بدون تدابیر خاص و استفاده از روش‌های معین جوش کاری نمود. جوش پذیری فولاد، معرف درجه سهولت ایجاد یک اتصال ساختمانی سالم و بدون ترک است. بعضی انواع فولادهای ساختمانی برای جوشکاری از انواع دیگر مناسب‌ترند. جدول ۷-۱ ترکیب شیمیایی ایده‌آل فولادهای کربن‌دار را به نمایش می‌گذارد. اغلب فولادهای نرمه در این رده جای می‌گیرند، در حالی که مقادیر مطلوب برای فولادهای پرمقاومت ممکن است از حدود تحلیلی ایده‌آل نمایش داده شده در جدول ۷-۱ تجاوز کند.




قوس الکتریکی در جوشکاری با الکتروود روکش‌دار

جدول ۷-۱- ترکیب شیمیایی مطلوب فولادهای کربن‌دار به منظور جوش‌پذیری

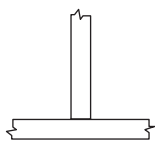
عنصر	محدوده نرمال	درصدی که احتیاج به تدابیر خاص جوشکاری دارد
کربن	۰/۰۶-۰/۲۵	۰/۳۵
منگنز	۰/۲۵-۰/۸۰	۱/۴۰
سیلیکون	حداکثر ۰/۱	۰/۳۰
گوگرد	حداکثر ۰/۰۳۵	۰/۵۰
فسفر	حداکثر ۰/۰۳۰	۰/۰۴۰



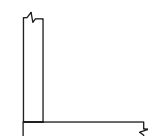
الف) اتصال لب به لب



ب) اتصال روی هم



پ) اتصال سپری



ت) اتصال گونیا



ث) اتصال پیشانی

۷-۲-۳-۴- انواع اتصالات جوشی

اگر چه در عمل انواع و ترکیبات مختلفی از انواع اتصال یافت می‌شود، ولی پنج نوع اتصال جوشی اصلی وجود دارد که عبارتند از لب‌به‌لب، رویهم، سپری، گونیا و پیشانی. در شکل ۷-۱۲ انواع آن نشان داده شده است.

شکل ۷-۱۲- انواع اصلی اتصال جوشی

اتصال لب به لب (Butt Joint)



نمونه‌ای از اتصال جوشی در مهاربند سافتمان

اتصال لب به لب اغلب برای متصل ساختن انتهای ورق‌های مسطح با ضخامت‌های نسبتاً مساوی مورد استفاده قرار می‌گیرد. امتیاز این نوع اتصال اجتناب از خروج از مرکزیتی است که در اتصالات روی هم یک طرفه مانند شکل ۷-۱۲-ب، به وجود می‌آید. وقتی که در اتصال لب به لب از جوش شیاری با نفوذ کامل استفاده شود، اندازه اتصال به حداقل خود رسیده و ظاهر آن بسیار خوشایندتر از انواع دیگر اتصالات می‌گردد.

اتصال پوششی (روی هم) (Lap Joint)

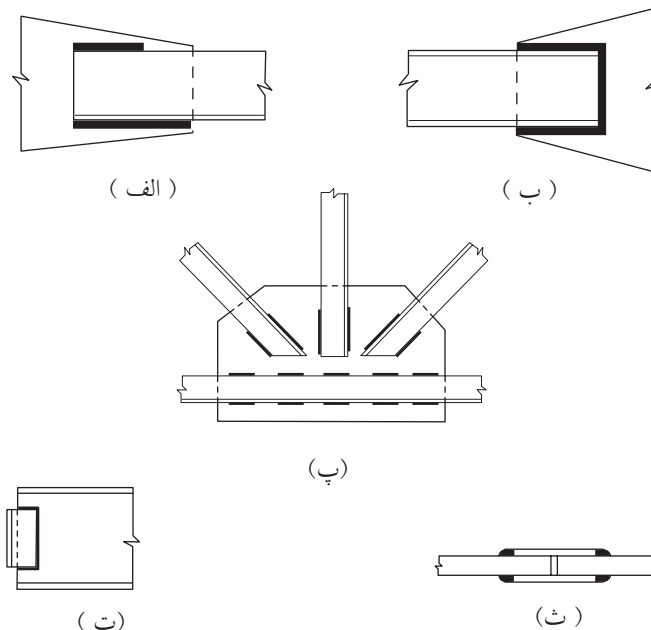


نمونه‌ای از اتصال جوشی در اتصال تیر به تیر

اتصال پوششی که انواع آن در شکل ۷-۱۳ نمایش داده شده، معمول‌ترین نوع اتصال است. این اتصال دو مزیت عمده دارد:

۱- سادگی جفت و جور کردن: ساخت قطعات این نوع اتصال احتیاج به وقت زیاد، به میزانی که در انواع دیگر اتصالات جوشی مورد نیاز است، ندارد. قطعات می‌توانند بر روی هم کمی جابجا گردند تا خطاهای کوچک ساخت را پوشانده یا تنظیم طول را عملی سازند.

۲- سادگی اتصال دادن: لبه‌های قطعات متصل شونده احتیاج به آمادگی خاصی ندارند و اغلب برش عادی خورده یا با شعله بریده می‌شوند. در اتصال پوششی اغلب از جوش گوشه استفاده می‌گردد.



شکل ۷-۱۳- نمونه‌هایی از اتصالات پوششی (روی هم)

اتصال سپری (Tee Joint)

این نوع اتصال در ساخت نیمرخ‌های مرکب به شکل T و I، تیر ورق‌ها، سخت‌کننده‌های تحت بار، آویزها، نشیمن‌های طاقچه‌ای و عموماً قطعاتی که با زاویه با هم جفت می‌گردند مانند شکل ۷-۱۲-پ، کاربرد دارد.



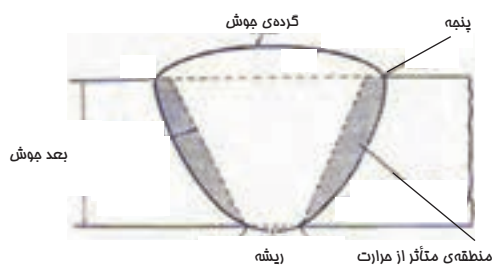
اتصال گونیا (Corner Joint)

اتصال گونیا عمدتاً در ساخت مقاطع جعبه‌ای مستطیل شکلی که تیرها و ستون‌های مقاوم در برابر پیچش را تشکیل می‌دهند، مورد استفاده قرار می‌گیرد. (شکل ۷-۱۲-ت)

اتصال پیشانی (Edge Joint)

اتصال پیشانی اغلب نقش سازه‌ای به عهده ندارد و مورد استفاده آن معمولاً در نگهداری دو یا چند صفحه در یک سطح و یا نگهداری امتداد اولیه عضو است. (شکل ۷-۱۲-ث)

نمونه اتصال گونیا



مزایای جوش شیاری



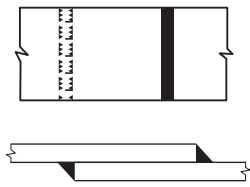
جوش شیاری

۷-۲-۳-۵- انواع جوش

چهار نوع از جوش‌ها که در شکل ۷-۱۴ نمایش داده شده‌اند، عبارتند از: جوش شیاری، جوش گوشه، جوش کام و جوش انگشتانه هر نوع جوش مزیت‌هایی مخصوص به خود دارد که دامنه کاربرد آن را تعیین می‌نماید. نسبت تقریبی استفاده از این چهار نوع جوش در ساخت اتصالات ساختمانی به این ترتیب است: جوش شیاری ۱۵ درصد، جوش گوشه ۸۰ درصد و ۵ درصد بقیه موارد، جوش‌های کام و انگشتانه و انواع دیگری از جوش‌های مخصوص به کار می‌روند.

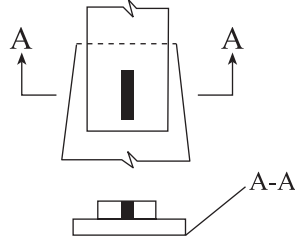
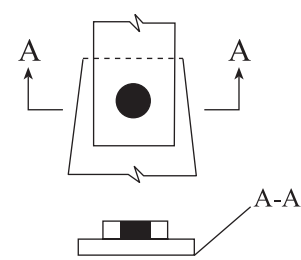
جوش‌های شیاری

مورد استفاده اصلی جوش شیاری متصل ساختن قطعات سازه‌ای است که در روی یک سطح و در امتداد هم قرار گرفته‌اند. از آنجا که جوش‌های شیاری اغلب به منظور انتقال کل نیروی قطعاتی که به وسیله‌ی این جوش متصل می‌شوند مورد استفاده قرار می‌گیرد، لذا باید جوش از مقاومتی هم اندازه با مقاومت قطعات متصل شونده، برخوردار باشد. چنین جوش شیاری به عنوان جوش شیاری با نفوذ کامل شناخته می‌شود. وقتی که درز جوش چنان



الف) جوش شیاری

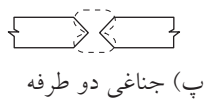
ب) جوش گوشه



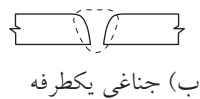
پ) جوش کام

ت) جوش انگشتانه

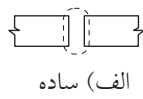
شکل ۷-۱۴- انواع جوش



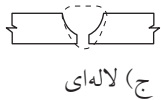
پ) جناغی دو طرفه



ب) جناغی یکطرفه



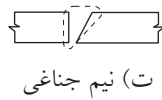
الف) ساده



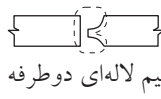
ج) لاله‌ای



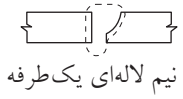
ث) نیم جناغی دو طرفه



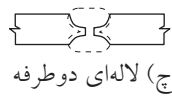
ت) نیم جناغی



خ) نیم لاله‌ای دوطرفه



ح) نیم لاله‌ای یک طرفه




چ) لاله‌ای دوطرفه

شکل ۷-۱۵- انواع معمول درز جوش شیاری



ج) اتصال بال تیر به ستون



ب) اتصال جان‌ها به بال‌ها



الف) اتصال ساق به بال سپری

طراحی شود که جوش شیاری در تمام عمق قطعات متصل شونده گسترش نیابد، به چنین جوشی، جوش شیاری با نفوذ نسبی اطلاق می‌شود. در طراحی این جوش‌ها الزامات خاصی را باید در نظر داشت. لبه درز جوش در اغلب جوش‌های شیاری باید به طرز مخصوصی آماده گردد. نام‌گذاری انواع درز جوش شیاری نیز با توجه به این امر انجام شده است. شکل ۷-۱۵ انواع معمول درز جوش شیاری را به نمایش گذاشته و نحوه‌ی آماده ساختن درز جوش را در هر یک مشخص می‌سازد. انتخاب جوش شیاری مناسب به روند جوشکاری مورد استفاده، هزینه‌ی آماده کردن لبه‌ی درزهای جوش و هزینه عملیات جوشکاری بستگی دارد. از جوش شیاری همچنین می‌توان در ساخت اتصالات سپری مانند شکل ۷-۱۶ استفاده نمود.

شکل ۷-۱۶- استفاده از جوش شیاری در اتصال سپری

بیشتر بدانیم

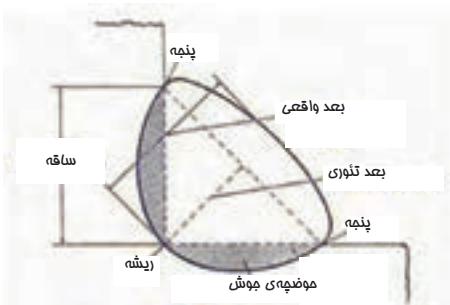
<http://www.iiw-iis.org> IIW انستیتو بین‌المللی جوش

<http://www.aws.org> انجمن جوش آمریکا AWS

جوش گوشه

جوش گوشه به خاطر اقتصادی بودن آن، سادگی به کارگیری و قابلیت استفاده از آن در اغلب موارد جوشکاری، بیشتر از تمام انواع دیگر جوش بیشتر به کار می‌رود.

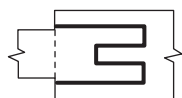
نمونه‌هایی از موارد استفاده‌ی جوش گوشه در شکل ۷-۱۷ ارائه شده است. در این نوع اتصالات به خاطر رویهم‌گذاری قطعات احتیاج به دقت کمتری در جفت و جور کردن می‌باشد، در حالی که در مورد جوش شیاری باید قطعات را به دقت در یک امتداد قرارداد و شکافی در ریشه‌ی جوش بین آنها باقی گذاشت. جوش گوشه به خصوص برای جوشکاری در محل نصب و یا برای جفت کردن دوباره‌ی اعضا یا اتصالاتی که قبلاً با رواداری‌های قابل قبولی ساخته شده‌اند ولی موقع نصب دقیقاً با هم جفت و جور نمی‌شوند، از مزیت‌های زیادی برخوردار است.



مزایای جوش گوشه



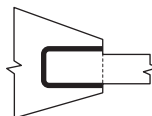
جوش گوشه



(پ) اتصال کام



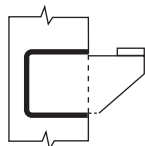
(ب) صفحات وصله




(ف) صفحات روی هم



(ج) ورق زیر سری تیرها



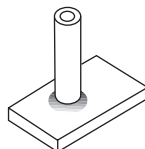
(ث) تیغه نشیمن




(ت) اتصال گونیا




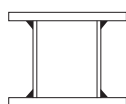
(خ) نبشی جان به تیر



(ح) اتصال لوله



(چ) صفحات کف ستون



(د) مقاطع ترکیبی و تیر ورق‌ها

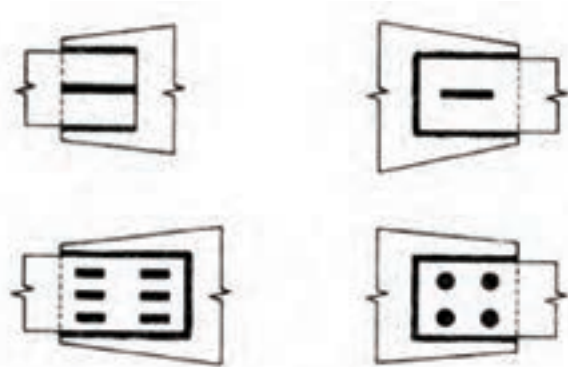
شکل ۷-۱۷- نمونه‌هایی از موارد استفاده از جوش گوشه

جوش های کام و انگشترانه

جوش های کام و انگشترانه را می توان به تنهایی و یا در ترکیب با جوش گوشه مانند شکل ۷-۱۸ به کار گرفت. یکی از موارد استفاده ی جوش کام و انگشترانه، انتقال برش در اتصالات پوششی است که طول جوش گوشه یا دیگر انواع جوش جوابگو نباشد. همچنین از این نوع جوش ها برای جلوگیری از کمانش قسمت های رویهم گذاشته شده، استفاده می شود.



شکل ۷-۱۹- جوش کام

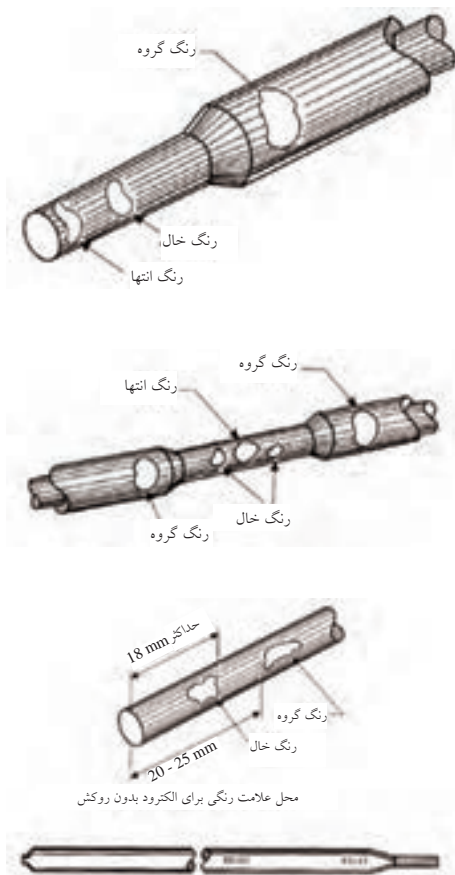


شکل ۷-۱۸- کاربرد جوش کام و انگشترانه

۷-۲-۳-۶- شناسایی انواع الکتروود

در استانداردهای مختلف برای نشان دادن انواع الکتروود از علائم گوناگون استفاده می شود. به عنوان مثال استاندارد انجمن جوشکاری آمریکا، الکتروودها را با حرف E شروع می کند و با یک عدد چهار یا پنج رقمی دنبال می نماید. دو رقم اول سمت چپ معرف مقاومت کششی فلز الکتروود بر حسب هزار پوند بر اینچ مربع (psi) می باشد^۱. به طور مثال الکتروودهای نشان داده شده به صورت E 60 XX دارای مقاومت کششی 60000psi (۴۲۰۰ کیلوگرم بر سانتیمترمربع) در فلز جوش است. اعداد بعدی که با XX نمایش داده شده اند، نمایشگر عوامل موثر دیگر مانند وضعیت جوشکاری، منبع توصیه شده برای تامین الکتروود، جنس روکش و مشخصات قوس الکتریکی می باشند. این استاندارد تا حدود زیادی در ایران متداول است و در این کتاب نیز از علائم آن استفاده شده است.

روش دیگر شناسایی الکتروودها، استفاده از یک سیستم رنگی است که توسط خطوط رنگی مشخص، انواع الکتروودها از یکدیگر تشخیص داده می شوند. این روش در حال حاضر منسوخ شده است.



۱- هر psi حدوداً معادل ۰/۰۷ کیلوگرم بر سانتیمترمربع است.

۷-۲-۳-۷- تجهیزات مورد استفاده در جوشکاری دستی با الکتروود روکش دار

تجهیزات مورد نیاز برای جوشکاری قوس الکتریکی با الکتروود روکش دار، ساده و قابل حمل و نسبت به تجهیزات لازم برای انواع دیگر جوشکاری ارزان قیمت هستند. با اجرای تمهیدات لازم جهت تهویه ی کافی، جلوگیری از آتش سوزی و دیگر خطرات موجود، این نوع جوشکاری می تواند در محیط بسته و هوای آزاد و در هر مکان و موقعیتی انجام شود.

به طور کلی سه نوع ماشین جوشکاری وجود دارد:


۱- موتور- مولدها، شامل موتور درونسوز یا موتور برقی (موتور - ژنراتور و دینامها)

۲- مبدل- یکسوکنندهها (رکتیفایر)

۳- مبدلها (ترانسها)

دینام جوشکاری کارگاهی شامل یک دینام (ژنراتور) تولید جریان و یک الکتروموتور سه فاز است که با هم کوپل شده یا اساساً محور آنها مشترک است. در یک سو، محور الکتروموتور و در سوی دیگر محور دینام تعبیه شده است. (شکل

۷-۲۰)



شکل ۷-۲۰- دینام جوش کارگاهی



شکل ۷-۲۱- قرار دادن کلید دینام جوشکاری

در حالت ▲

الکتروموتور حرکت دورانی مناسب را به وجود می آورد و این حرکت باعث گردش محور دینام می شود و برق مورد نیاز جوشکاری را تولید می کند.

اتصال الکتروموتور به برق شهر توسط یک کلید ستاره و مثلث صورت می گیرد و برای راه اندازی آن لازم است ابتدا کلید روی حالت ستاره (▲) قرار گرفته تا موتور به دور کامل برسد؛ سپس کلید روی حالت مثلث (Δ) (شکل ۷-۲۱) قرار می گیرد تا دور موتور ثابت و آماده ی جوشکاری شود.

هیچ گاه نباید در حالتی که کلید روی ستاره است، جوشکاری شود، زیرا باعث می شود که دور موتور کم و زیاد شده و در نهایت دستگاه از کار بیفتد. ماشین جوشکاری از نوع دیزل، بنزینی، دینام و یا رکتیفایر باید وضعیت مناسبی داشته باشد و جریان یکنواختی برای جوشکاری تولید نماید.

مبدل - یکسوکننده‌ها (رکتیفایرها)



شکل ۷-۲۲- (رکتیفایر جوشکاری
با الکتروود دستی


رکتیفایرها دارای طرح‌های متعدد برای مقاصد مختلف می‌باشند. انعطاف پذیری، یکی از دلایل پذیرش گسترده‌ی این ماشین در صنعت جوشکاری است. این ماشین‌ها قادر به تحویل جریان مستقیم (DC) با قطبیت منفی یا مثبت می‌باشند؛ همچنین ممکن است برای جوشکاری دستی با الکتروود، جوشکاری تحت حفاظت گاز، جوشکاری زیرپودری و جوشکاری گل‌میخ‌ها مورد استفاده قرار گیرند و امکان سرویس دهی همزمان به چندین کاربر را دارا می‌باشند.

۷-۲-۴- ابزار جوشکاری در ساخت و نصب اسکلت فلزی

برای اجرای موفق جوشکاری قوسی (بخصوص روش دستی) لازم است که از ابزار و تجهیزات دیگری نیز استفاده شود. این ابزار عبارتند از:

چکش جوش:


از این وسیله برای برداشتن سرباره روی جوش و زدودن جرقه‌های اطراف خط جوش استفاده می‌شود. جنس آن بسیار سخت است و دو سر آن به دو صورت تبری و مخروطی تیز می‌باشد. (شکل ۷-۲۳)



شکل ۷-۲۳- چکش جوش

برس سیمی:

برس سیمی برای تمیزکاری روی قطعات کار از گرد و غبار و زنگ به کار می‌رود و طوری ساخته شده که در برابر سایش مقاوم باشد. (شکل ۷-۲۴ و ۷-۲۵) یعنی سیم‌های آن نریزد و زود فرسوده نشود. برس سیمی معمولی از جنس فولاد ضدزنگ ساخته می‌شود.



شکل ۷-۲۴- برس سیمی و

چکش جوش سرهم

شکل ۷-۲۵- برس سیمی و تمیزکاری قطعه جوشکاری شده با آن

سنگ فرز:

سنگ فرز یکی از تجهیزاتی است که برای آماده‌سازی لبه‌های جوشکاری مورد استفاده‌ی زیادی دارد. از سنگ فرز همیشه در حالت ایستاده استفاده می‌کنند، بنابراین شرایط استفاده از سنگ فرز تقریباً همیشه سخت و نامساعد بوده و باید با دقت بسیار مورد استفاده قرار گیرد. (شکل ۷-۲۶)

دستگاه سنگ فرز با برق معمولی شبکه‌ی شهری کار می‌کند. یعنی اگر سیم رابط معیوب باشد یا دستگاه سنگ اتصالی داشته باشد خطر برق گرفتگی آن زیاد است. لازم است قبل از کار با دستگاه سنگ فرز اطمینان حاصل شود که تیغه‌ی سنگ شکسته نباشد و یا پیچ اتصال آن به ماشین سنگ شل نشده باشد.



شکل ۷-۲۶- نوعی ماشین سنگ فرز دستی با سنگ مربوطه

بیشتر بدانیم




جوش نا مرغوب موجب گسیختگی آن در محل اتصال ورق مهاربند به ستون در اثر نیروی ناشی از زمین‌لرزه شده است



جوش ندادن ورق اتصال مهاربند به تیر باعث شده است تا در هنگام زلزله ناحیه‌ی اتصال از ظرفیت باربری لازم برخوردار نباشد


کابل‌های جوشکاری و اتصالات آن‌ها:



شکل ۷-۲۷ - مقطع کابل جوشکاری قوسی



شکل ۷-۲۸ - کابل شوه برای اتصال کابل‌ها به اتصال
قطعه کار و به ماشین جوش



شکل ۷-۲۹ - نمونه اتصال کابل‌ها به یکدیگر

کابل‌های جوشکاری از نوع افشان و با عایق بسیار قوی و سبک است. (شکل ۷-۲۷) جنس سیم آن مسی یا آلومینیومی است. یکی از آن‌ها کابل انبر و دیگری کابل اتصال آهن است. کابل‌ها را با کمک کابل شو (کفش کابل) (شکل ۷-۲۸) به دستگاه جوش و به انبر وصل می‌کنند. اتصال کابل به کفش کابل باید محکم و بدون لقی باشد تا گرم نشود.

وقتی بخواهند کابل‌ها را به یکدیگر متصل کنند تا بلندتر شود، آن‌ها را با کمک اتصالات سرهم می‌کنند. (شکل ۷-۲۹)

انبرهای جوشکاری:

انبر جوشکاری وسیله گرفتن الکترو و اجرای جوشکاری است. انبرها را برحسب ظرفیت جریانی که می‌توانند از خود عبور دهند، دسته‌بندی می‌کنند (شکل ۷-۳۰ و ۷-۳۱).


روی انبرها را از جنس عایق بسیار قوی و سبک می‌پوشانند. کائوچو، لاستیک و فیبر فشرده عایق‌های مناسبی هستند. گیره‌های اتصال آهن نیز به کابل اتصال آهن متصل می‌شود و به پایه میز جوشکاری یا به قطعه‌ی مورد جوشکاری متصل می‌شود (شکل ۷-۳۲). این گیره‌ها باید تمیز باشد و فنر قوی داشته باشد که خوب به پایه میز یا به کار بچسبد.



شکل ۷-۳۰ - انبر، کابل‌شو و کابل جوشکاری

جعبه‌ی الکتروود:

جهت حفاظت از الکتروودها و دسته‌بندی آنها، در صورت استفاده از چند نوع الکتروود، باید برای هر جوشکار یک جعبه‌ی الکتروود مناسب تهیه شود.



شکل ۷-۳۱- انبر جوشکاری

گرم‌کن دستی:

جهت پیش گرم کردن درزهای جوش قبل از جوشکاری بخصوص در روزهای سرد، مطابق دستورالعمل‌های جوشکاری از گرم‌کن دستی استفاده می‌شود. (شکل ۷-۳۳ و ۷-۳۴)

فکها (دهانه)



این قسمت باز می‌شود تا کابل اتصال در آن قرار گیرد

شکل ۷-۳۲- گیره اتصال به قطعه کار



شکل ۷-۳۳- مشعل گرم‌کن درز اتصال



شکل ۷-۳۴- گرم‌کن دستی

ابزارهای اندازه گیری:

از این ابزارها برای تعیین محل برش و یا مونتاژ قطعات استفاده می شود. یکی از سودمندترین ابزارهای اندازه گیری، متر فولادی فنری است. معمولاً متر فنری ۳ متری نیازهای متعارف را برآورده می سازد، اما در پروژه های بزرگ ممکن است به متر ۱۵ متری نیاز باشد. برای انجام کارهای کوچکتر می توان از یک خطکش فولادی ۳۰ یا ۵۰ سانتیمتری نیز استفاده نمود. مناسب است همیشه یک خطکش پلاستیکی ۱۵ سانتیمتری در جیب لباس کار جوشکار موجود باشد.

ابزار نشانه گذاری:

از این ابزار برای ترسیم خط برش، بر طبق اندازه گیری های انجام شده، استفاده می شود. هنگام کار با مشعل برشکاری، به خط نشانه ای نیاز می باشد که بر اثر شعله محو نشود. ابزارهای نشانه گذاری عبارتند از سوزن خط کشی و سنبه نشان ۹۰ درجه یا ۳۰ درجه. سنبه نشان ۹۰ درجه منظور ما را برآورده می سازد، اما سنبه نشان ۳۰ درجه بصورت ویژه به همین منظور ساخته شده است. به کمک این سنبه نشان می توان خطی تشکیل شده از نشانه های نزدیک به هم ترسیم نمود.

روش دیگری برای نشانه گذاری فلز به منظور برشکاری با مشعل استفاده از سنگ صابون است. اثر این سنگ مانند اثر گچ است، اما در دمای بالای برشکاری نمی سوزد. بنابراین مناسب است همیشه چند قطعه سنگ صابون در جعبه ابزار موجود باشد.


برای ترسیم کمان یا دایره از پرگار فلزی استفاده می شود؛ این وسیله نوعی سوزن خط کشی شبیه پرگار است، اما دو نوک فولادی تیز دارد.

لازم به ذکر است که از سوزن خط کشی فقط باید برای ترسیم خط برش استفاده شود. این نکته به ویژه در هنگام خط کشی ورق باید رعایت شود، زیرا بسیار احتمال می رود که ترک یا پارگی از محل خط کشی به دلیل تمرکز تنش ایجاد شده آغاز شود.



ابزار نصب:

ابزار، وسایل و ماشین‌آلاتی که در نصب سازه‌های فولادی بکار می‌روند، بسته به نوع و اندازه سازه می‌توانند انواع مختلف داشته باشند. از طرف دیگر اغلب این وسایل طبق استانداردهای سازندگان مختلف تولید می‌شوند که از بین آن‌ها نوع و اندازه مناسب باید انتخاب شود. هرگاه بخواهند باری را به قلاب جراثقالی آویزان کنند. اگر اندازه و وزن بار اجازه چنین عملی را بدهد، می‌توان مطابق شکل ۷-۳۵ آن را به وسیله حلقه‌ای از طناب فلزی به قلاب آویزان کرد. طناب اصلی از یک قطعه طناب با طول مناسب که هر دو انتهای آن را به صورت حلقه کوچکی در آورده‌اند، تشکیل می‌شود. این طناب را دور قطعه به گونه‌ای که یکی از دو سر طناب از حلقه کوچک سر دیگر آن بگذرد، مهار می‌کنند. برای اتصال دو قطعه‌ی فلزی از وسایل اتصال استفاده می‌نمایند. میله اهرم، اسباب کشش، تخماق برای جفت کردن و رسانیدن قطعه به وضعیت مورد نظر برای اتصال استفاده می‌شود. از پین و آچار کج برای همسو کردن سوراخ‌های قطعات استفاده می‌شود. شکل ۷-۳۶، انواع ابزار نصب در سازه‌های فولادی و نحوه‌ی ایجاد حلقه را نشان می‌دهد.



شکل ۷-۳۵- انواع روش‌های باربرداری توسط جرثقیل

شکل ۷-۳۶- ابزار نصب سازه‌های فولادی

به این پرسش‌ها پاسخ دهید:

- ۱- روش کوبیدن پرچ‌ها را شرح دهید و دلایل عدم استفاده از این روش را در سازه‌های امروزی بیان کنید.
- ۲- انواع سوراخ پیچ در اتصالات پیچی را با رسم شکل توضیح دهید.
- ۳- رفتار پرچ‌ها مانند کدامیک از انواع اتصالات اتکایی یا اصطکاکی است؟ توضیح دهید.
- ۴- روش‌های ایجاد پیش‌تندگی در پیچ‌های پرمقاومت را شرح دهید؟
- ۵- جوشکاری با استفاده از قوس الکتریکی را با رسم مدار جوش قوسی شرح دهید؟
- ۶- به نظر شما اگر قسمتی از روکش الکتروود به هر علتی شکسته و یا ریخته باشد، چه مشکلاتی ممکن است در جوشکاری بوجود آید؟
- ۷- انواع اتصالات جوشی را با رسم شکل نشان دهید؟ و توضیح دهید کدامیک از آن‌ها مقاومت سازه‌ای کمتری دارد؟
- ۸- مورد استفاده جوش شیاری را شرح دهید و آن را از نظر مقاومت با جوش گوشه مقایسه نمایید.
- ۹- تحقیق کنید که در چه زمانی از جوش شیاری یک طرفه یا دوطرفه استفاده می‌شود؟
- ۱۰- تحقیق کنید که دلیل استفاده از جوش شیاری نیم‌جناغی به جای جوش جناغی چیست و در چه مواردی استفاده از این نوع جوش مجاز است؟
- ۱۱- موارد استفاده از جوش کام و انگشتانه را بیان کنید؟
- ۱۲- در یک ساختمان با اتصالات جوشی، از چه نوع جوش‌هایی در اتصالات مختلف آن استفاده می‌شود؟ با تهیه‌ی عکس و گزارش از یک ساختمان فلزی این موضوع را بررسی و در کلاس گزارش نمایید.
- ۱۳- تحقیق کنید جوشکاری با رکتیفایر مناسب‌تر است یا ترانسفورماتور؟ چرا؟
- ۱۴- حداقل ابزار لازم جهت انجام جوشکاری برای یک جوشکار چیست؟
- ۱۵- در صورتی که در کارگاه وزش شدید باد و بارش باران وجود داشته باشد و مجاز به تعطیل کردن کارگاه نباشید، چه راهی را جهت ادامه کار جوشکاری پیشنهاد می‌کنید؟