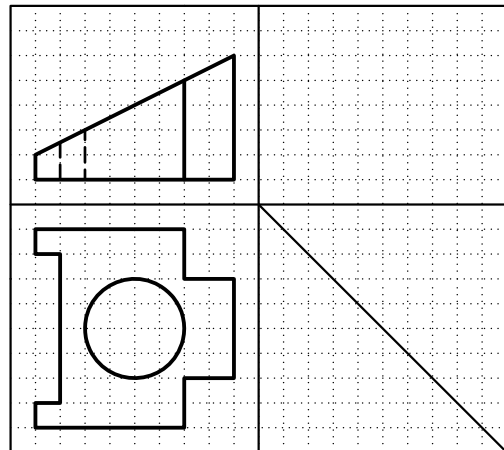
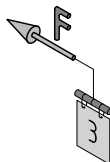
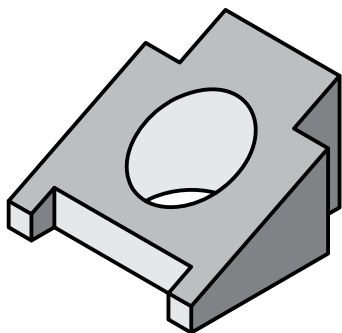
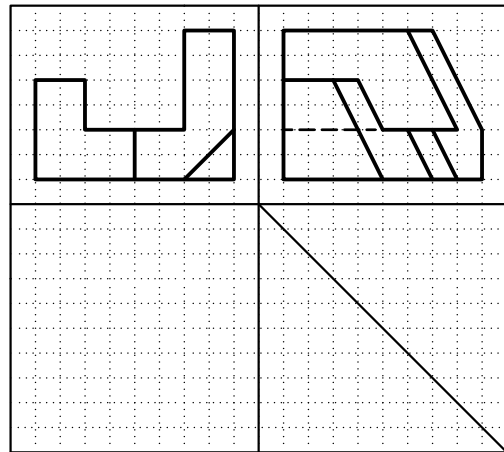
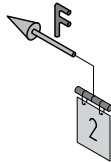
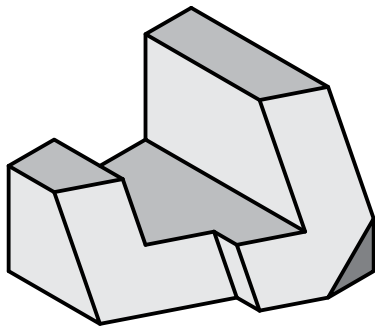
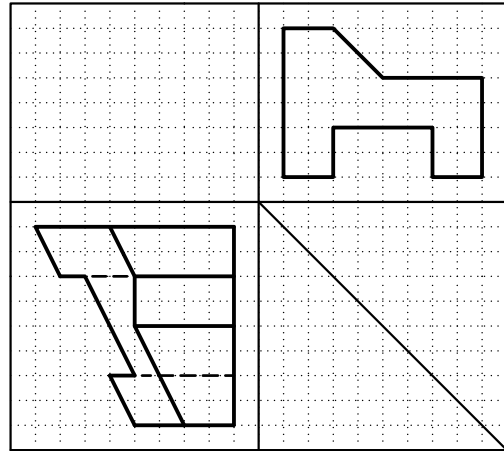
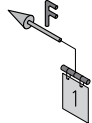
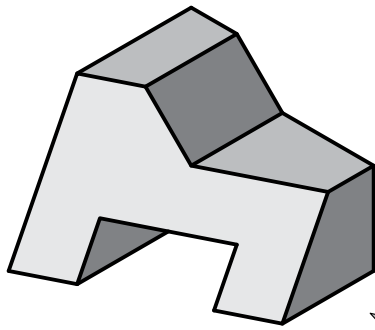


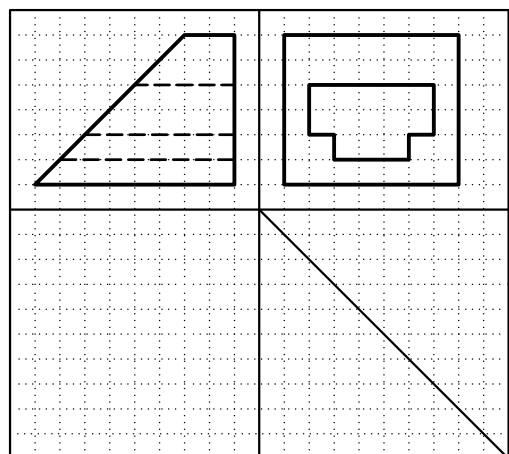
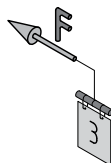
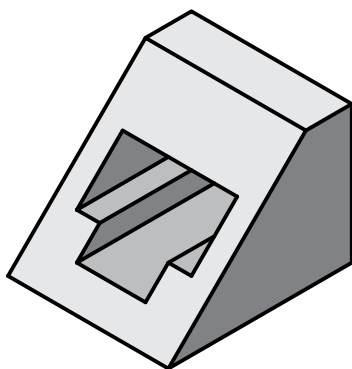
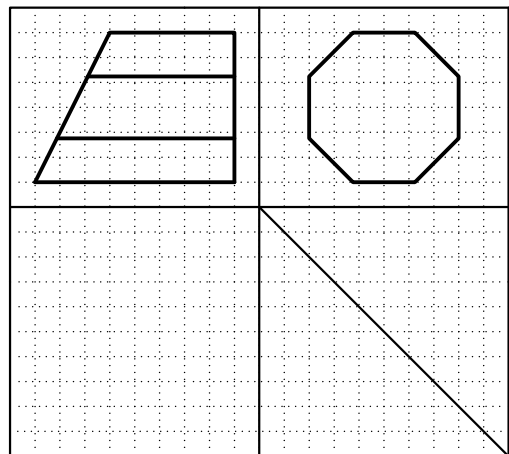
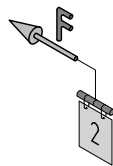
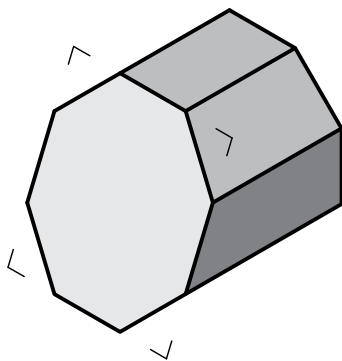
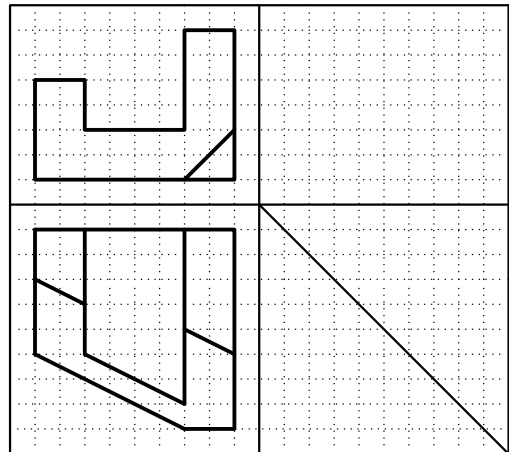
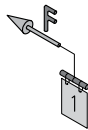
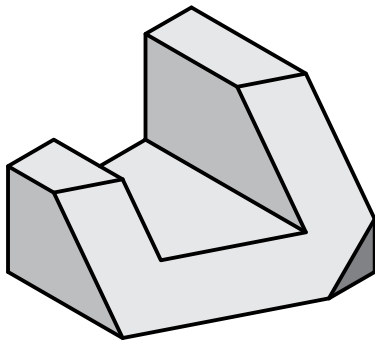
با توجه به تصویر مجسم، نمای سوم مجهول را ترسیم کنید.



جنس :	نام نقشه :	رسام :
تولرانس :		رشته :
ارزشیابی :	هنرستان :	بازبین :
شماره نقشه :		تاریخ :



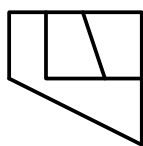
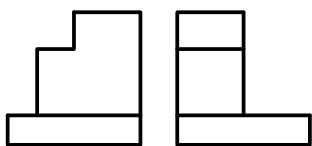
با توجه به تصویر مجسم، نمای سوم مجهول را ترسیم کنید.



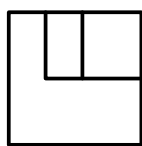
جنس :	نام نقشه :	رسام :
تولرانس :		رشته :
ارزشیابی :	هنرستان :	بازبین :
شماره نقشه :		تاریخ :



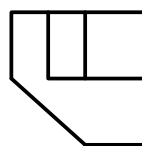
کدام نمای سوم درست است؟ انتخاب کنید.



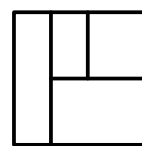
1



2

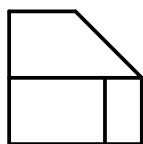
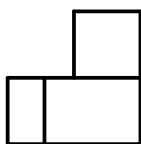


3

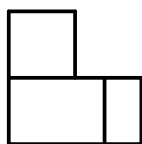


4

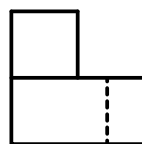
1



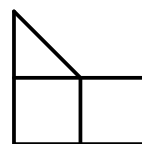
1



2

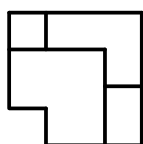
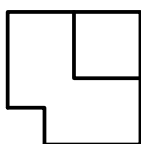


3

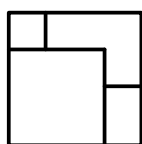


4

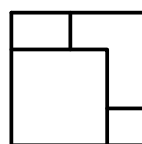
2



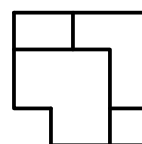
1



2

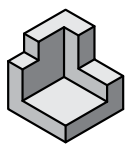
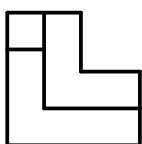
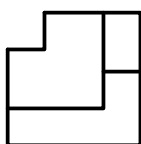


3

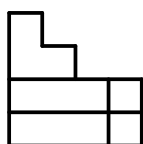
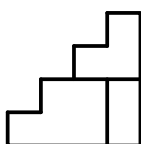


4

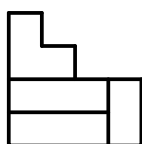
3



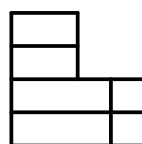
4



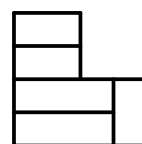
1



2



3



4

جنس:	نام نقشه:	رسام:
تولرانس:		رشته:
ارزشیابی:	هنرستان:	بازبین:
شماره نقشه:		تاریخ:

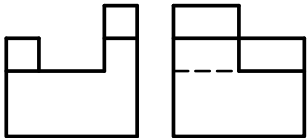
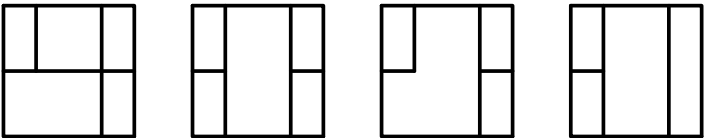
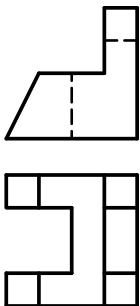
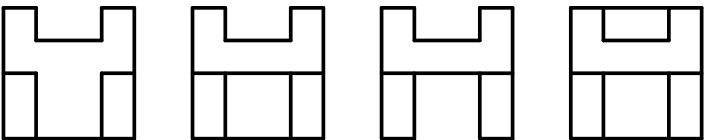

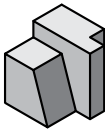
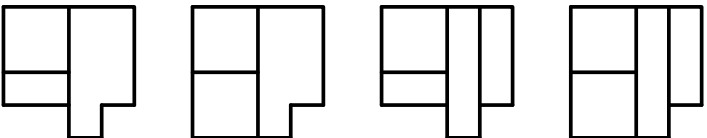
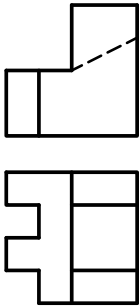
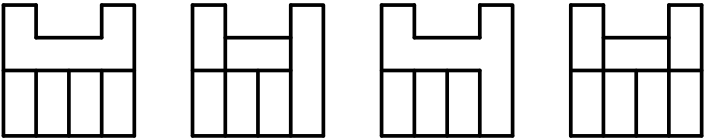
با توجه به تصویر مجسم، نمای سوم مناسب را انتخاب کنید.

	<p>1 2 3 4</p>
	<p>1 2 3 4</p>
	<p>1 2 3 4</p>
	<p>1 2 3 4</p>

جنس :	نام نقشه :	رسام :
تولرانس :		رشته :
ارزشیابی :	هنرستان :	بازبین :
شماره نقشه :		تاریخ :



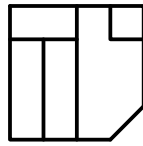
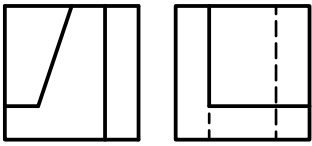
با توجه به تصویر مجسم، نمای سوم مناسب را انتخاب کنید.

	 <div style="display: flex; justify-content: space-around; margin-top: 10px;"> <span>1</span> <span>2</span> <span>3</span> <span>4</span> </div>
	 <div style="display: flex; justify-content: space-around; margin-top: 10px;"> <span>1</span> <span>2</span> <span>3</span> <span>4</span> </div>
 	 <div style="display: flex; justify-content: space-around; margin-top: 10px;"> <span>1</span> <span>2</span> <span>3</span> <span>4</span> </div>
	 <div style="display: flex; justify-content: space-around; margin-top: 10px;"> <span>1</span> <span>2</span> <span>3</span> <span>4</span> </div>

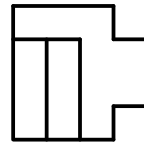
جنس :	نام نقشه :	رسم :
تولرانس :		رشته :
ارزشیابی :	هنرستان :	بازبین :
شماره نقشه :		تاریخ :



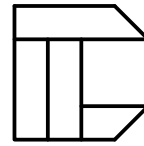
با توجه به تصویر مجسم، نمای سوم مناسب را انتخاب کنید.



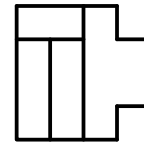
1



2

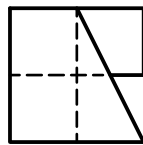
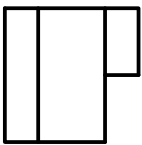


3

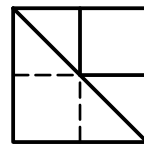


4

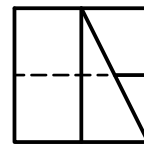
1



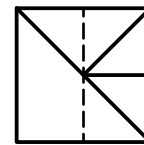
1



2

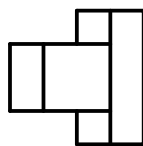
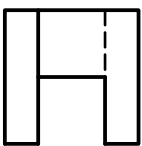


3

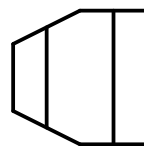


4

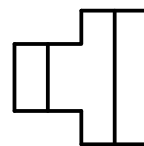
2



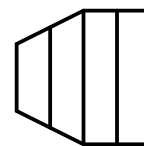
1



2

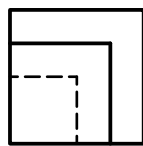
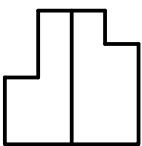


3

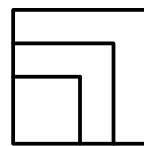


4

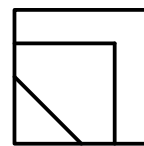
3



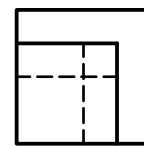
1



2

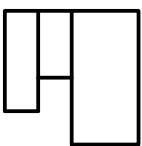
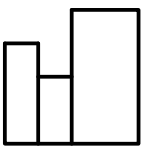


3



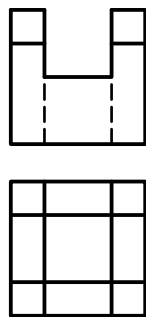
4

4

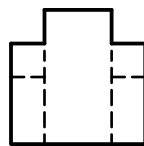


جنس :	نام نقشه :	رسام :
تولرانس :		رشته :
ارزشیابی :	هنرستان :	بازبین :
شماره نقشه :		تاریخ :

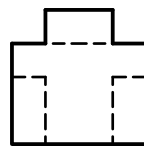
با توجه به تصویر مجسم، نمای سوم مناسب را انتخاب کنید.



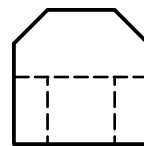
1



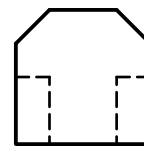
1



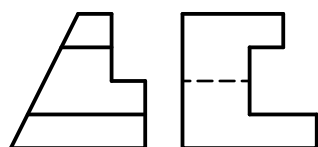
2



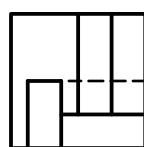
3



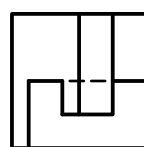
4



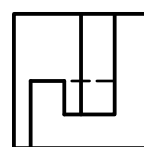
2



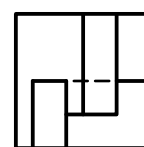
1



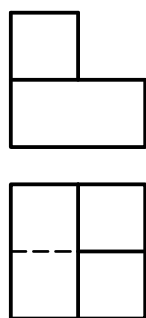
2



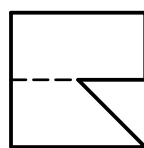
3



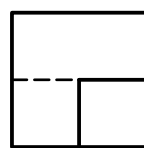
4



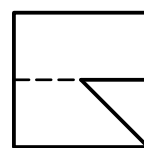
3



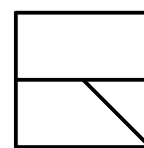
1



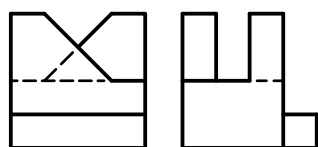
2



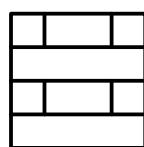
3



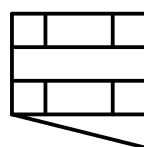
4



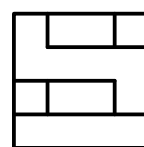
4



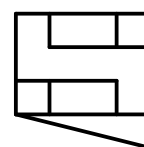
1



2



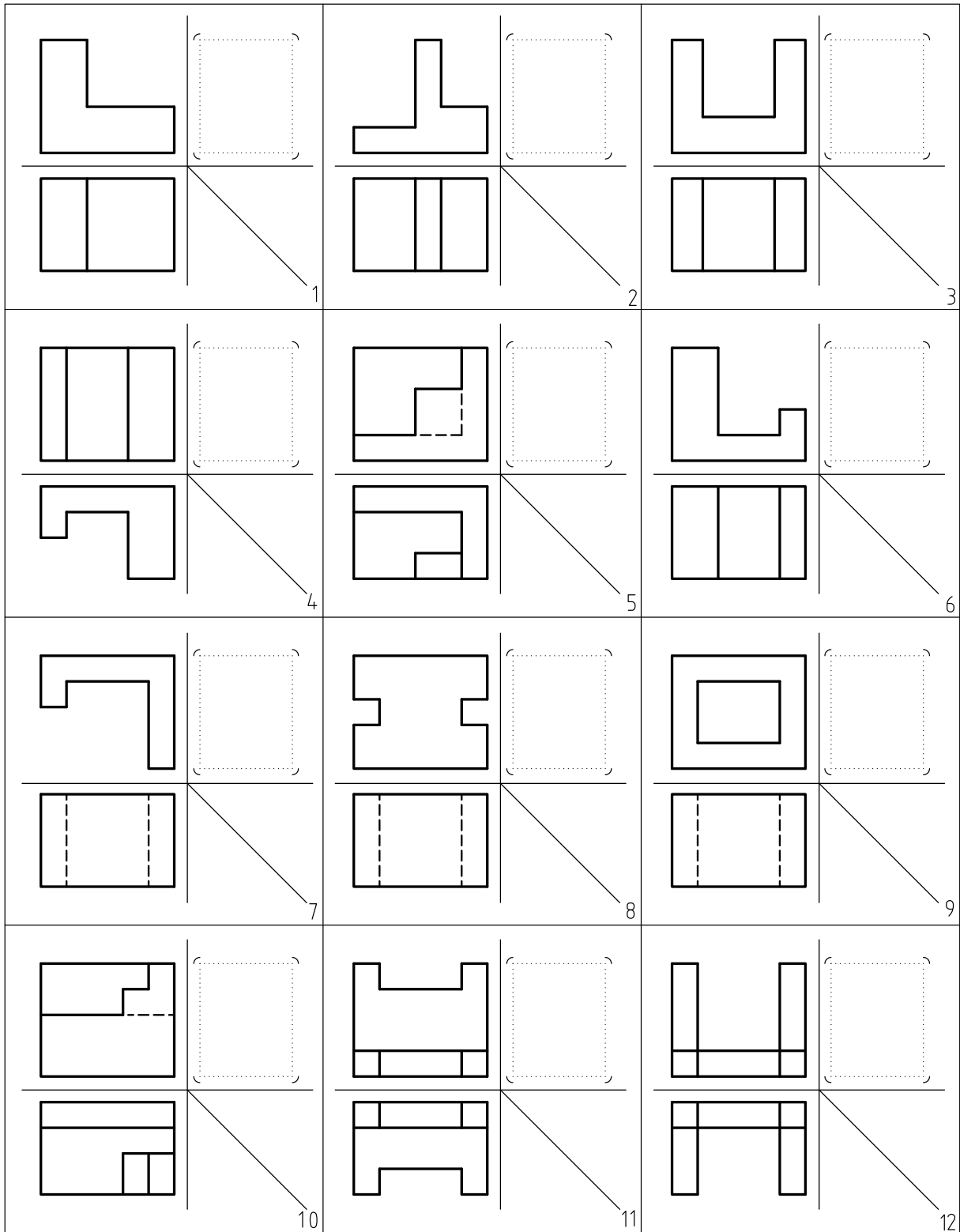
3



4

جنس :	نام نقشه :	رسم :
تولرانس :		رشته :
ارزشیابی :	هنرستان :	بازبین :
شماره نقشه :		تاریخ :

نمای سوم را رسم کنید.

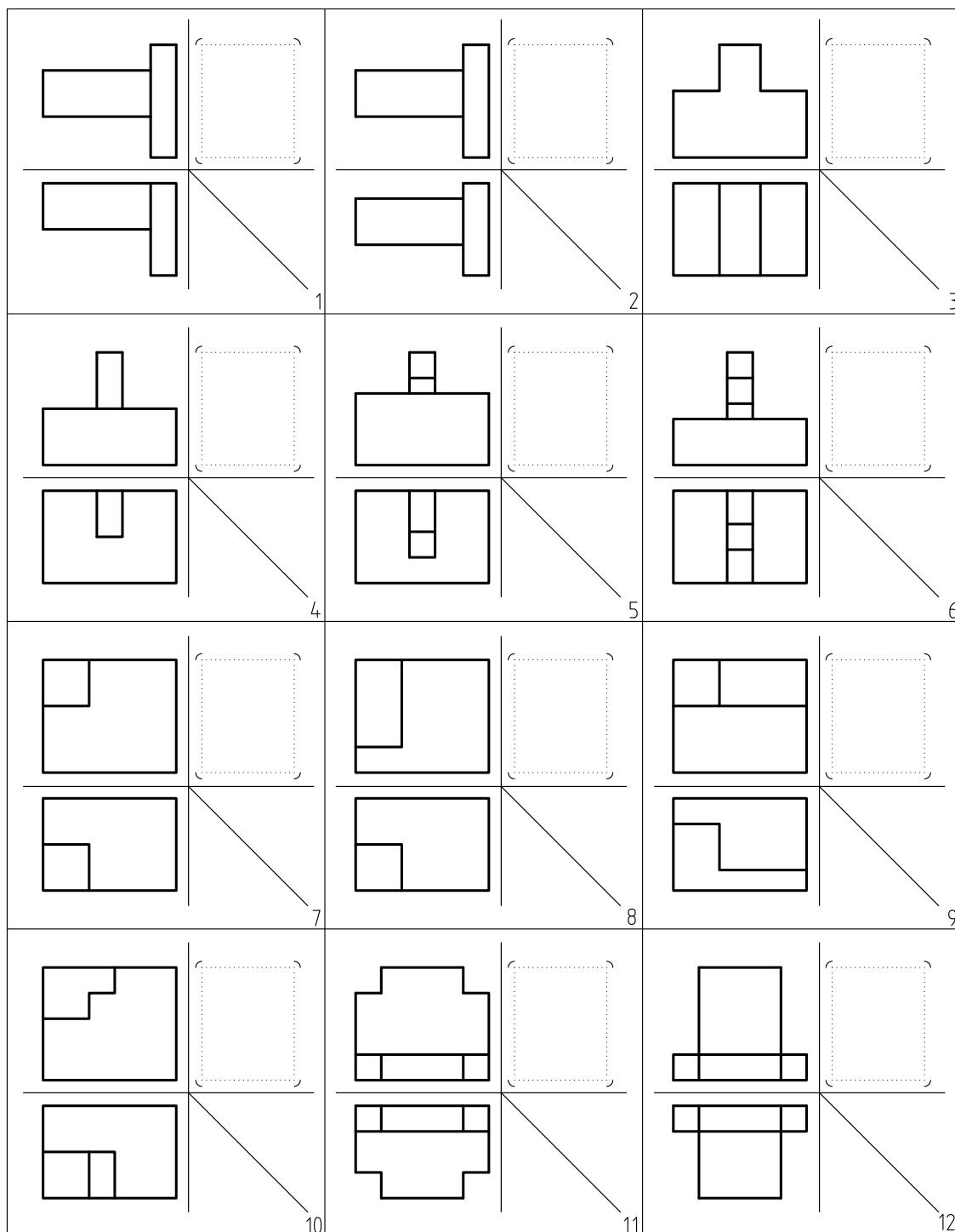


جنس :	نام نقشه :	رسم :
تولرانس :		رشته :
ارزشیابی :	هنرستان :	بازین :
شماره نقشه :		تاریخ :





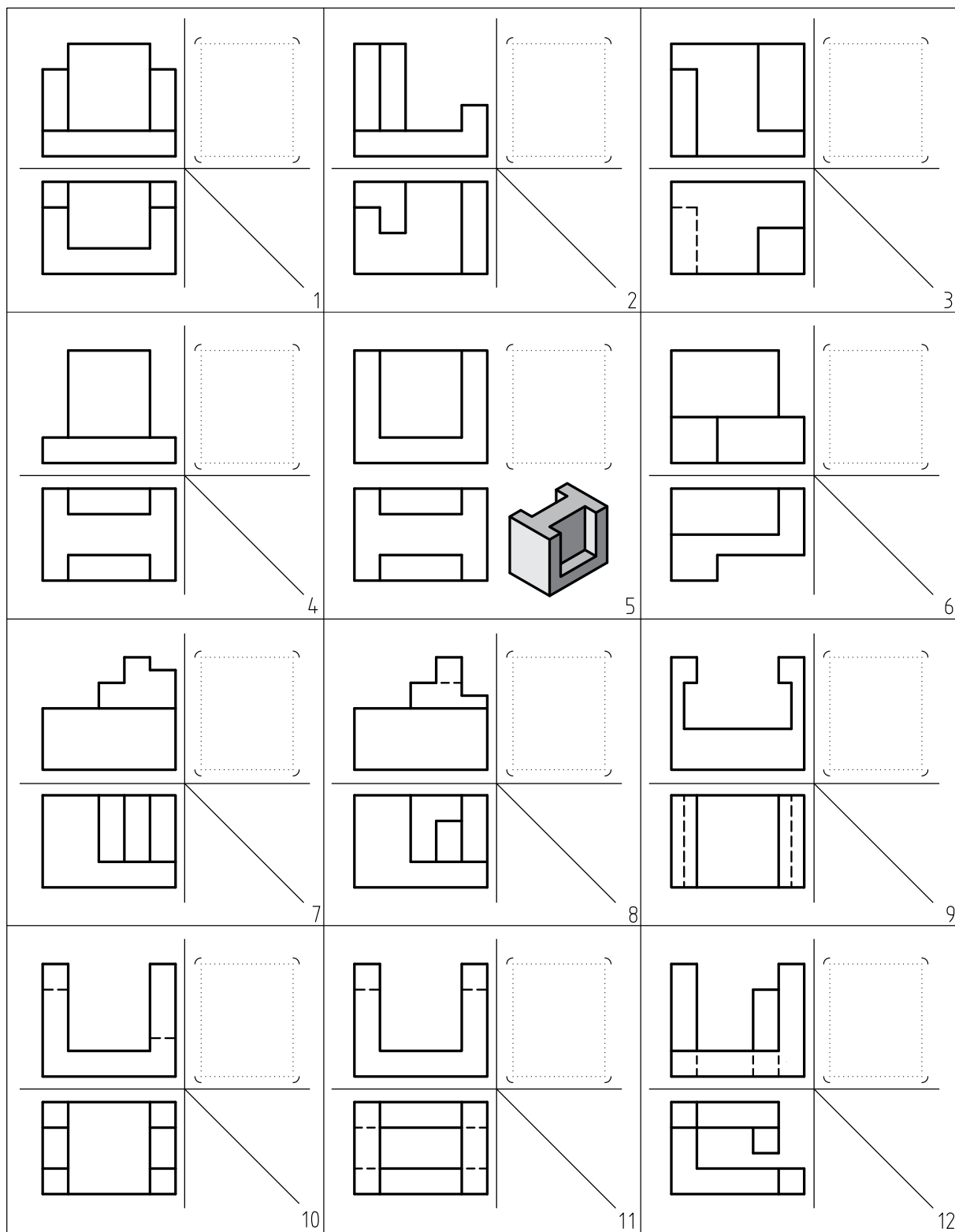
نمای سوم را رسم کنید.



جنس :	نام نقشه :	رسام :
تولرانس :		رشته :
ارزشیابی :	هنرستان :	بازیین :
شماره نقشه :		تاریخ :

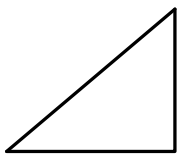


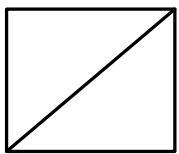


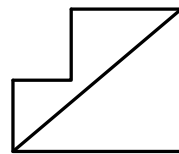
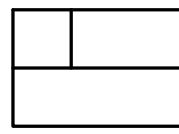

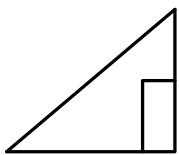
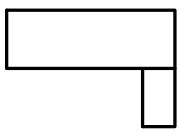

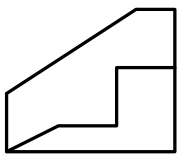
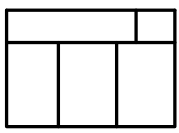

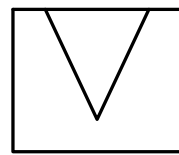
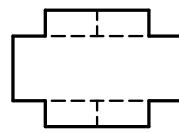

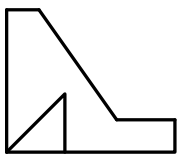
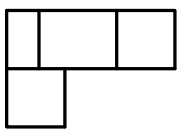


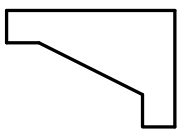

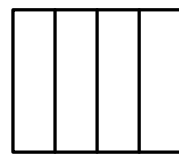
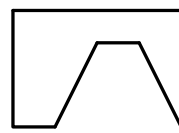

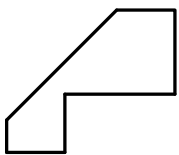
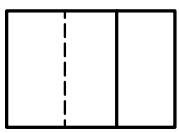

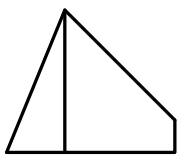
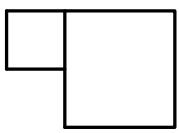

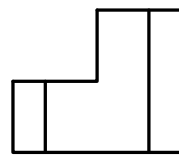
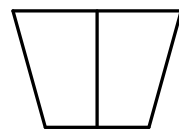



نمای سوم را رسم کنید.



جنس :	نام نقشه :	رسام :
تولرانس :		رشته :
ارزشیابی :	هنرستان :	بازین :
شماره نقشه :		تاریخ :

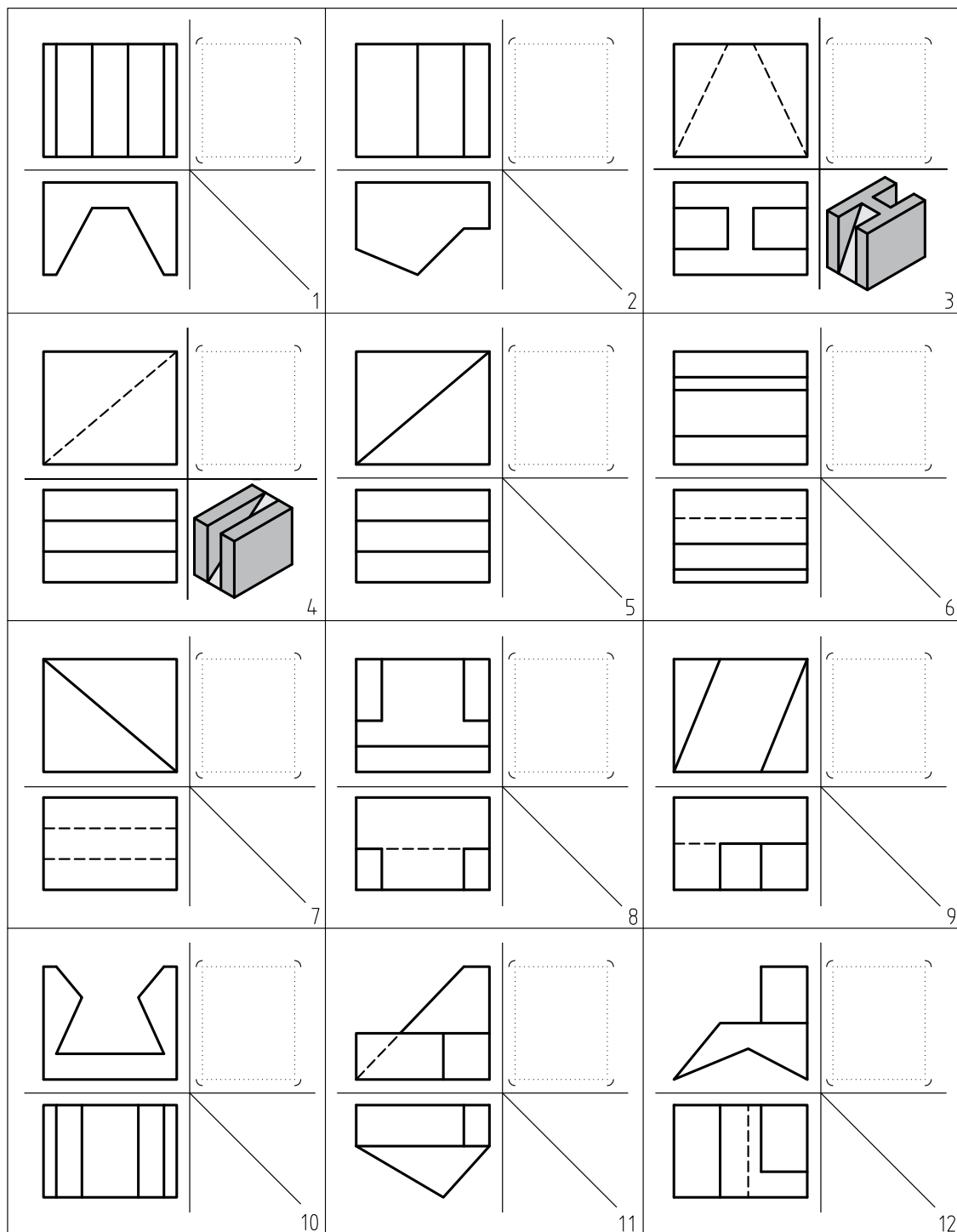


  	1	  	2	  	3
  	4	  	5	  	6
  	7	  	8	  	9
  	10	  	11	  	12

جنس :	نام نقشه :	رسام :
تولرانس :		رشته :
ارزشیابی :	هنرستان :	بازبین :
شماره نقشه :		تاریخ :



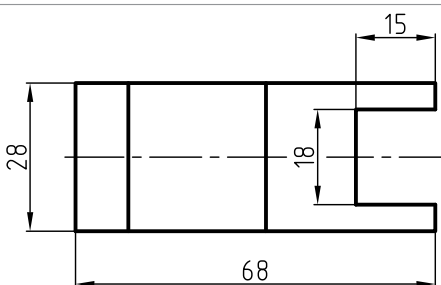
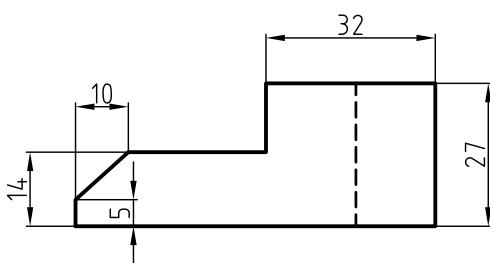
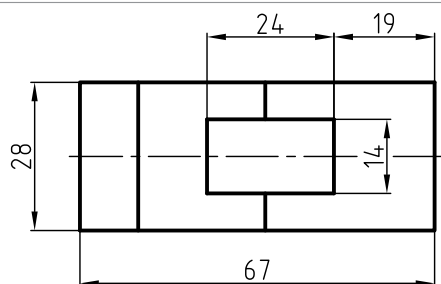
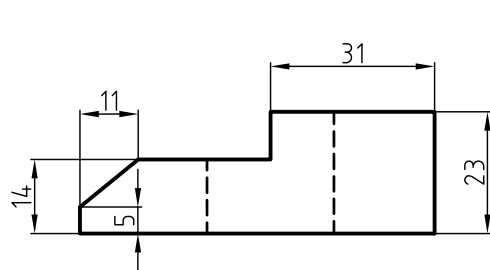
نمای سوم را رسم کنید.



جنس :	نام نقشه :	رسم :
تولرانس :		رشته :
ارزشیابی :	هنرستان :	بازیین :
شماره نقشه :		تاریخ :

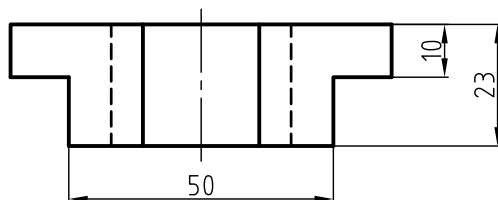
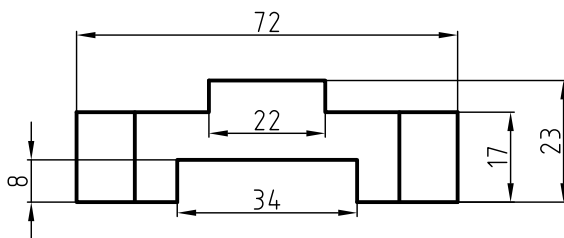
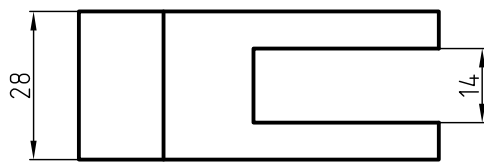
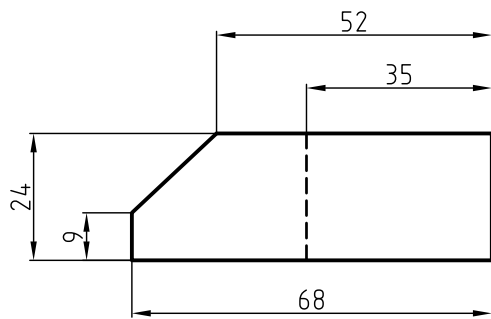


کاغذ را روی میز بچسبانید و نمای سوم را با ابزار ترسیم کنید.



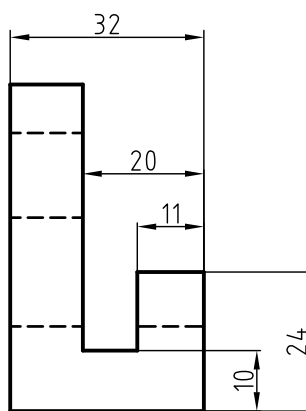
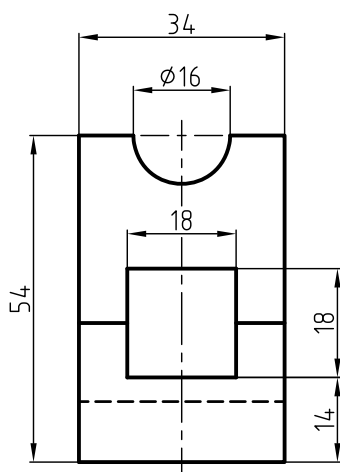
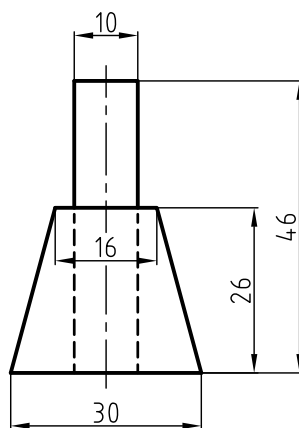
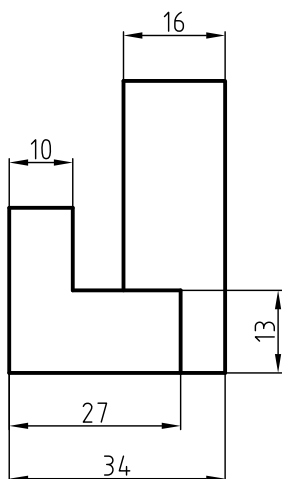
جنس :	نام نقشه :	رسام :
تولرانس :		رشته :
ارزشیابی :	هنرستان :	بازبین :
شماره نقشه :		تاریخ :

کاغذ را روی میز بچسبانید و نمای سوم را با ابزار ترسیم کنید.



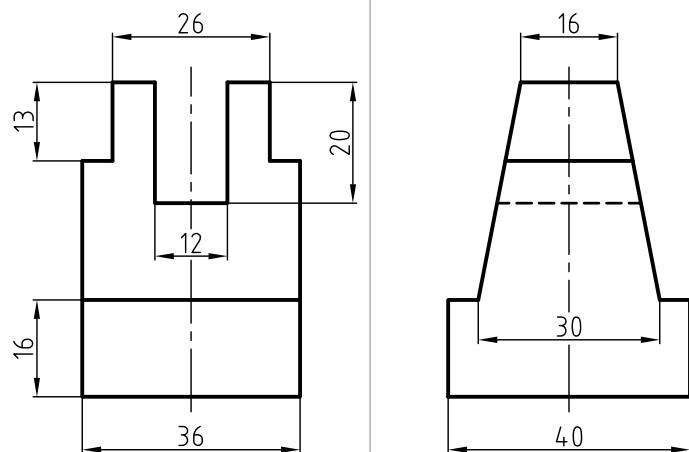
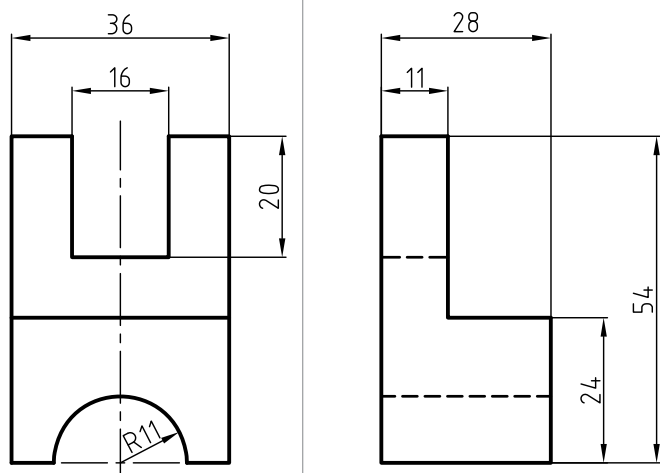
جنس :	نام نقشه :	رسام :
تولرانس :		رشته :
ارزشیابی :	هنرستان :	بازبین :
شماره نقشه :		تاریخ :

کاغذ را روی میز بچسبانید و نمای سوم را با ابزار ترسیم کنید.



جنس :	نام نقشه :	رسام :
تولرانس :		رشته :
ارزشیابی :	هنرستان :	بازبین :
شماره نقشه :		تاریخ :

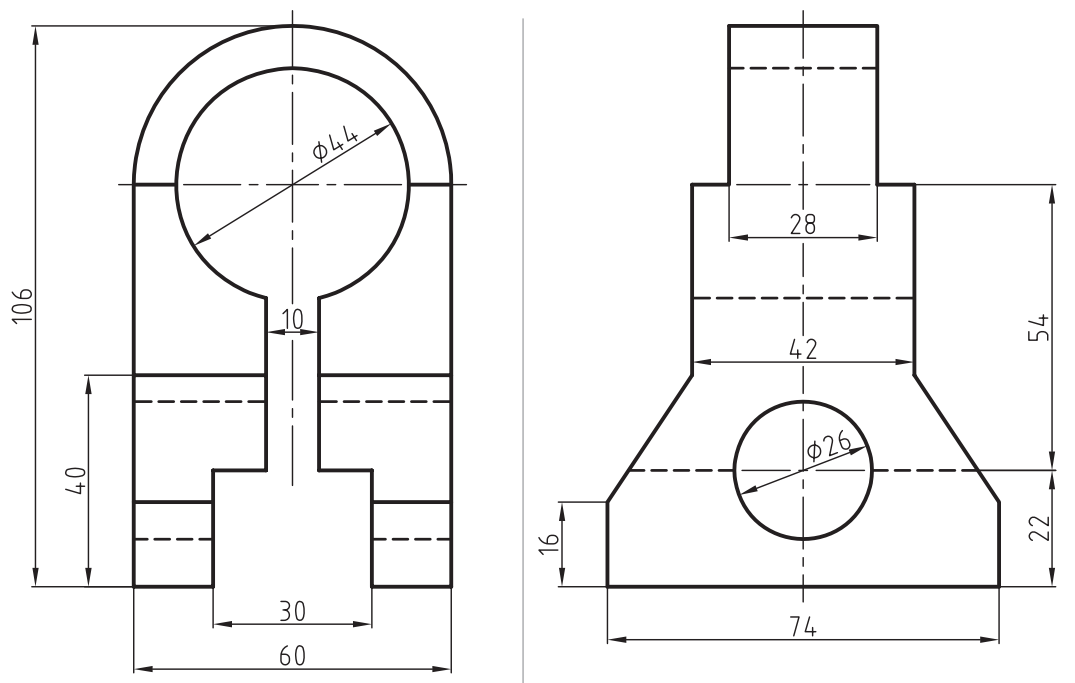
کاغذ را روی میز بچسبانید و نمای سوم را با ابزار ترسیم کنید.



جنس :	نام نقشه :	رسام :
تولرانس :		رشته :
ارزشیابی :	هنرستان :	بازیین :
شماره نقشه :		تاریخ :

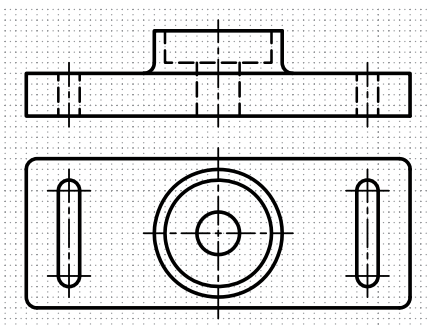
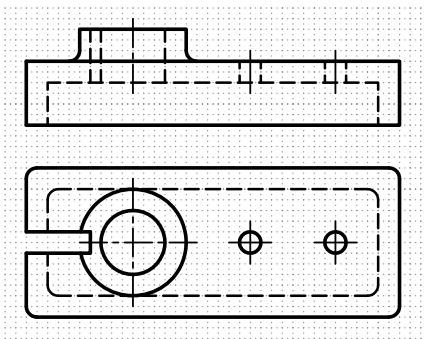
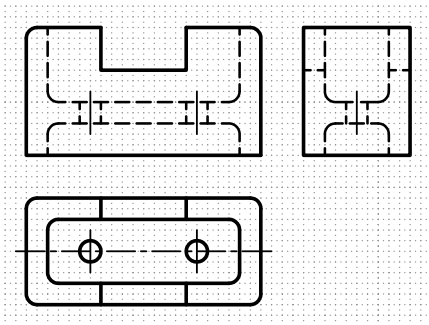

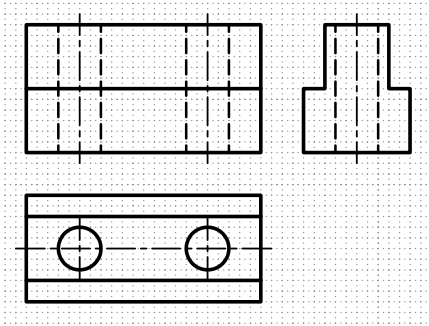


کاغذ را روی میز بچسبانید و نمای سوم را با ابزار ترسیم کنید.



جنس :	نام نقشه :	رسام :
تولرانس :		رشته :
ارزشیابی :	هنرستان :	بازیین :
شماره نقشه :		تاریخ :

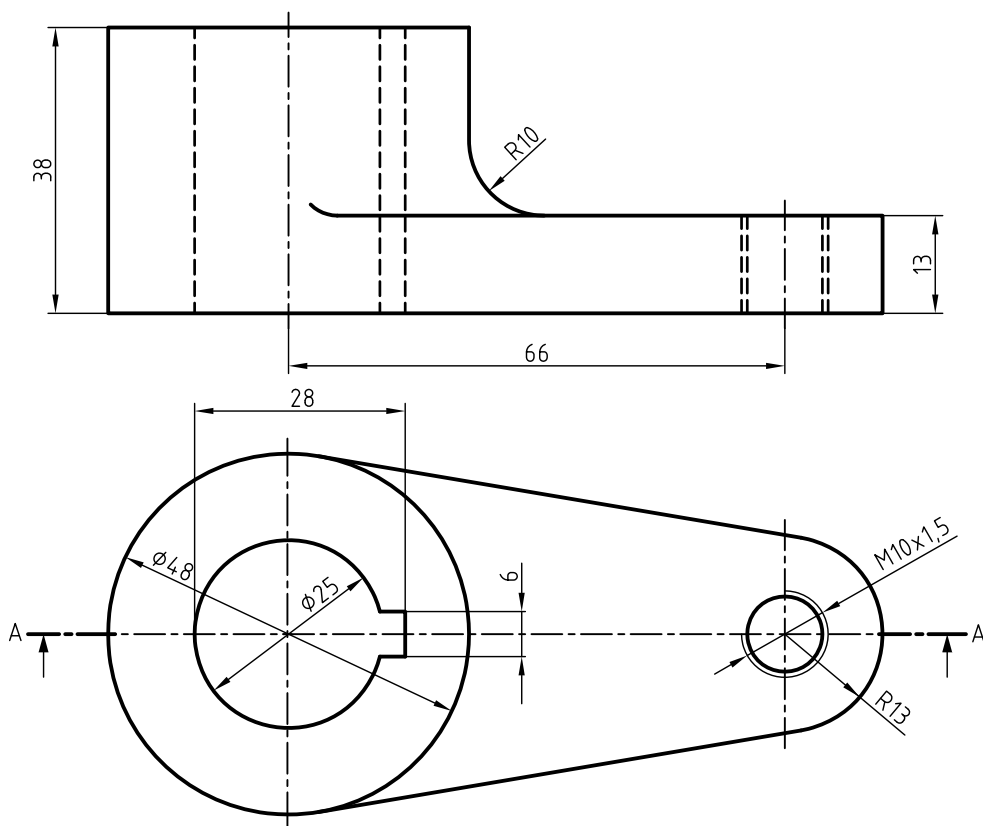
در قسمت شطرنجی نمای روبه‌روی هر نقشه را در برش ساده ترسیم کنید.



جنس :	نام نقشه :	رسام :
تولرانس :		رشته :
ارزشیابی :	هنرستان :	بازیین :
شماره نقشه :		تاریخ :

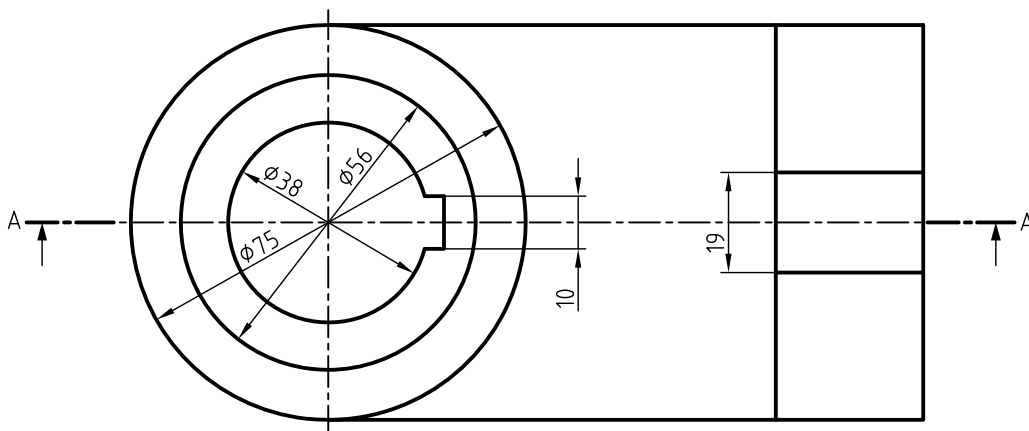
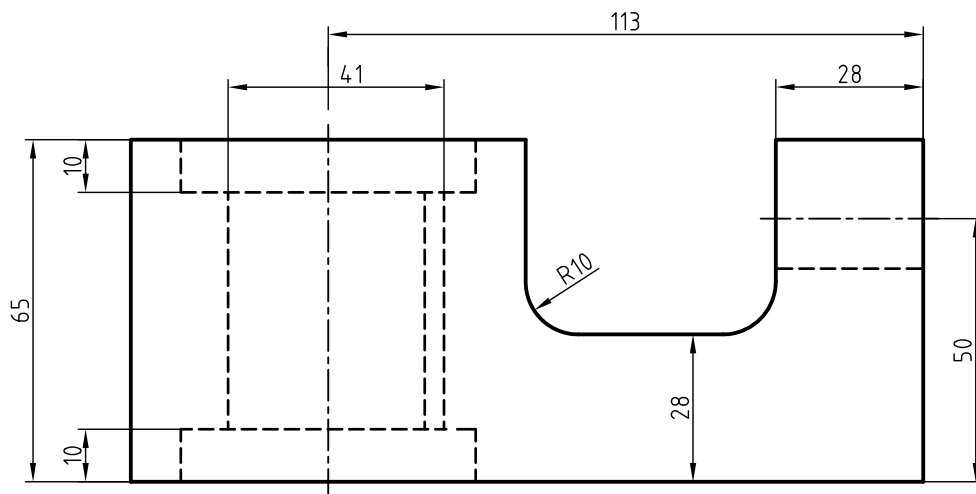


نمای مناسب را در برش ساده ترسیم کنید.



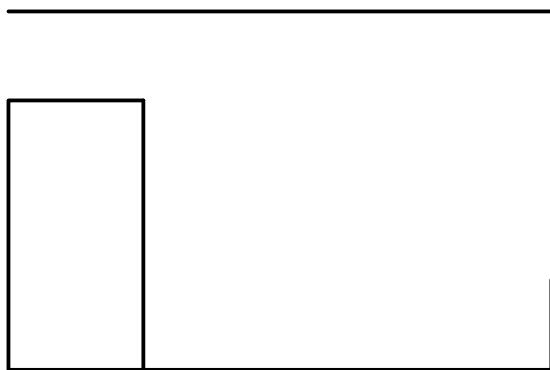
رسم :	نام نقشه :	جنس :
رشته :	تولرانس :	تولرانس :
بازین :	هنرستان :	ارزشیابی :
تاریخ :	شماره نقشه :	شماره نقشه :

نمای مناسب را در برش ساده ترسیم کنید.



جنس :	نام نقشه :	رسام :
تولرانس :		رشته :
ارزشیابی :	هنرستان :	بازبین :
شماره نقشه :		تاریخ :

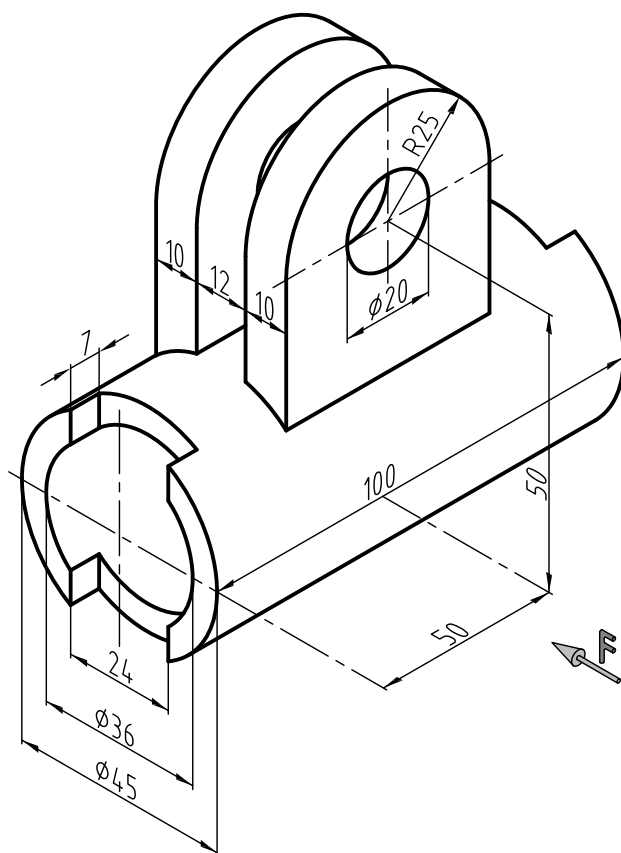




رسام :	نام نقشه :	جنس :
رشته :		تولرانس :
بازیین :	هنرستان :	ارزشیابی :
تاریخ :		شماره نقشه :

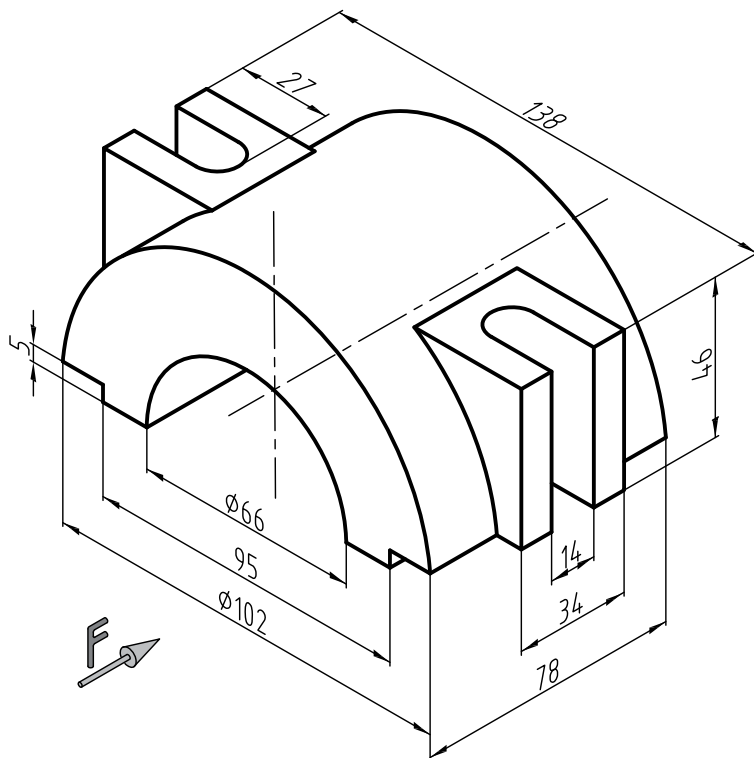


پس از ترسیم نمای روبه‌رو و افقی شکل زیر، نمای مناسب را در برش ساده ترسیم کنید.



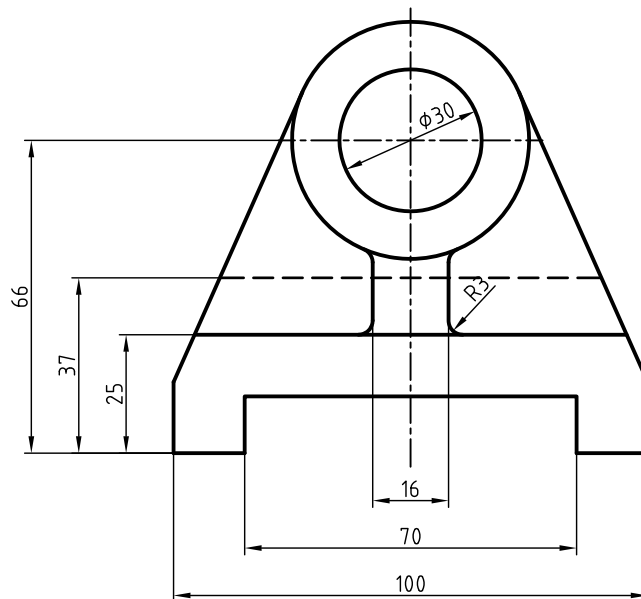
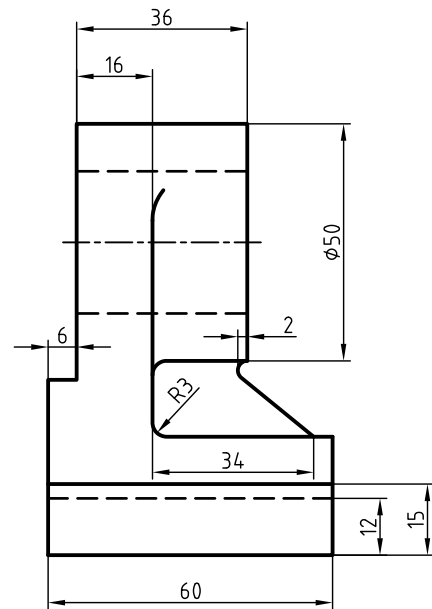
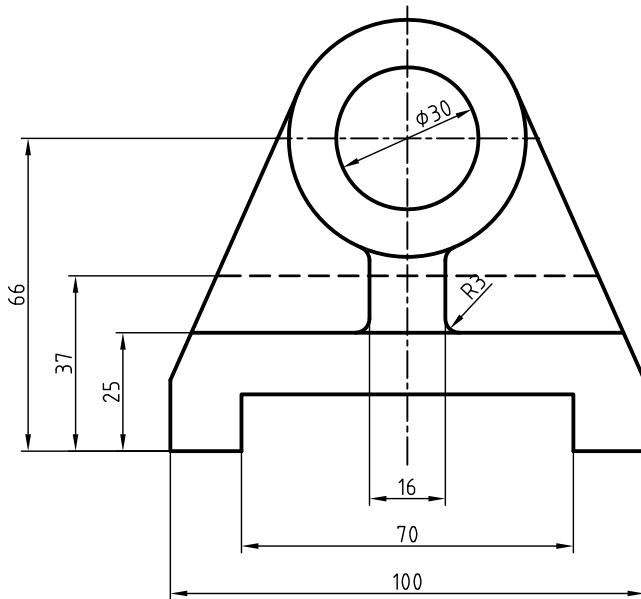
جنس :	نام نقشه :	رسام :
تولرانس :		رشته :
ارزشیابی :	هنرستان :	بازیین :
شماره نقشه :		تاریخ :

پس از ترسیم نمای روبه‌رو و افقی شکل زیر با مقیاس ۱:۲، نمای مناسب را در برش ساده ترسیم کنید.



رسم :	نام نقشه :	جنس :
رشته :	تولرانس :	تولرانس :
بازیین :	هنرستان :	ارزشیابی :
تاریخ :	شماره نقشه :	شماره نقشه :

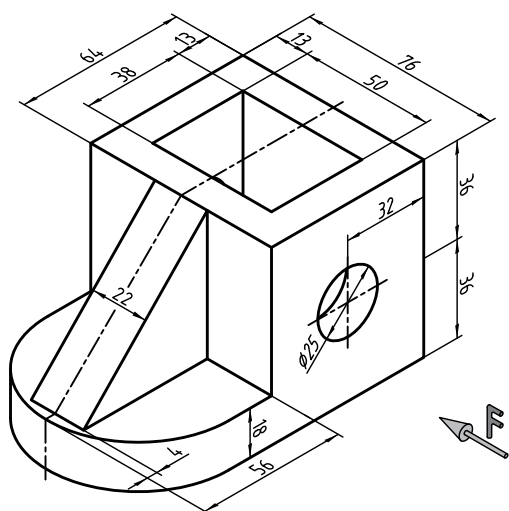
نمای جانبی را در برش ساده ترسیم کنید.



جنس :	نام نقشه :	رسام :
تولرانس :		رشته :
ارزشیابی :	هنرستان :	بازیین :
شماره نقشه :		تاریخ :



با توجه به جهت دید نمای جلو را در برش و برای نمای افقی مسیر برش را ترسیم کنید.




---



---



---

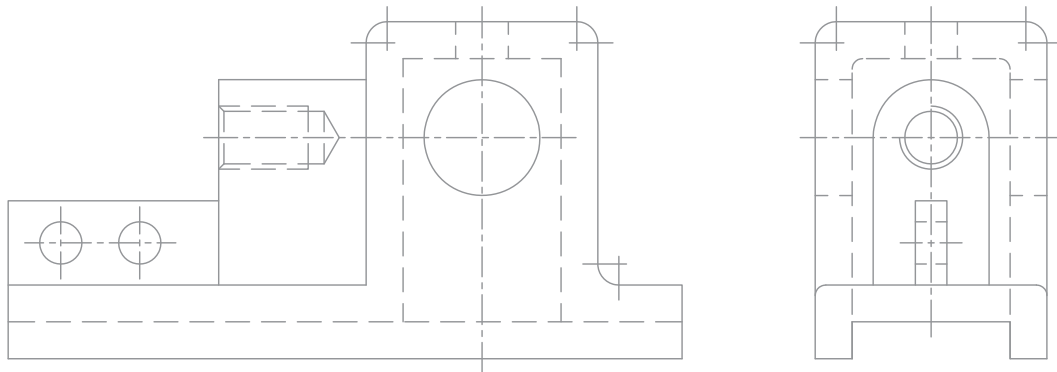
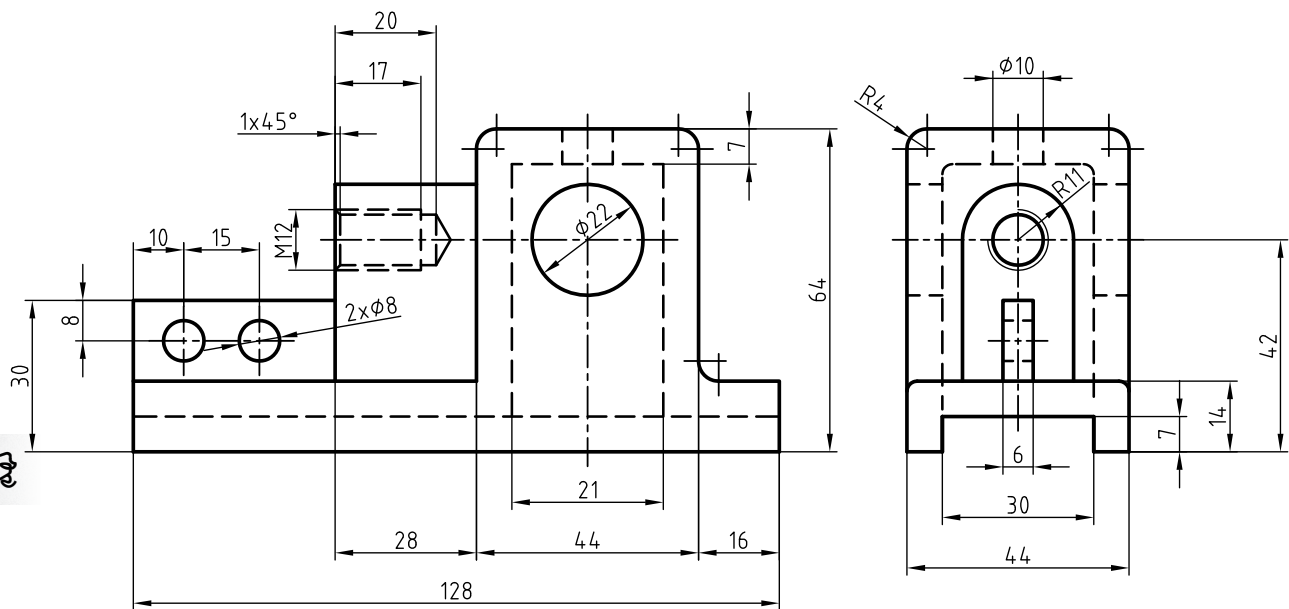


---

جنس :	نام نقشه :	رسام :
تولرانس :		رشته :
ارزشیابی :	هنرستان :	بازیین :
شماره نقشه :		تاریخ :

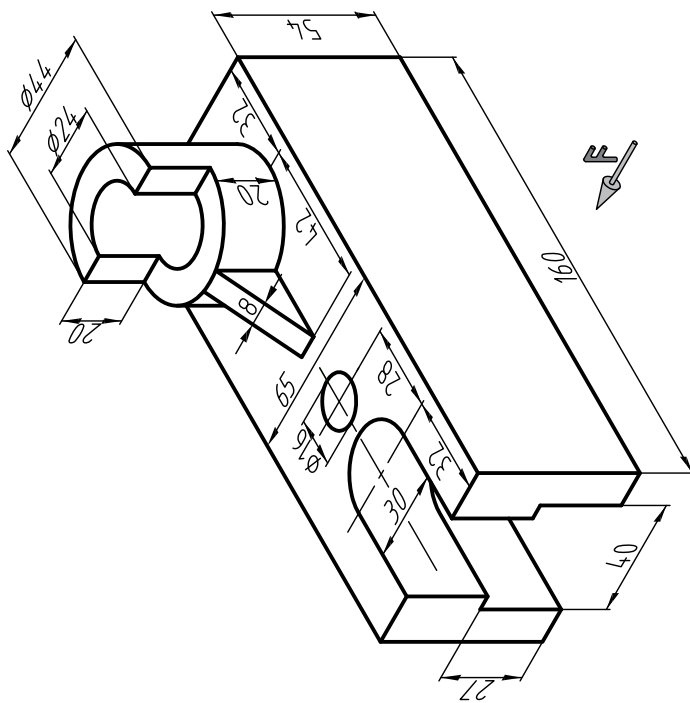


نمای روبه‌رو را در برش ساده ترسیم کنید.



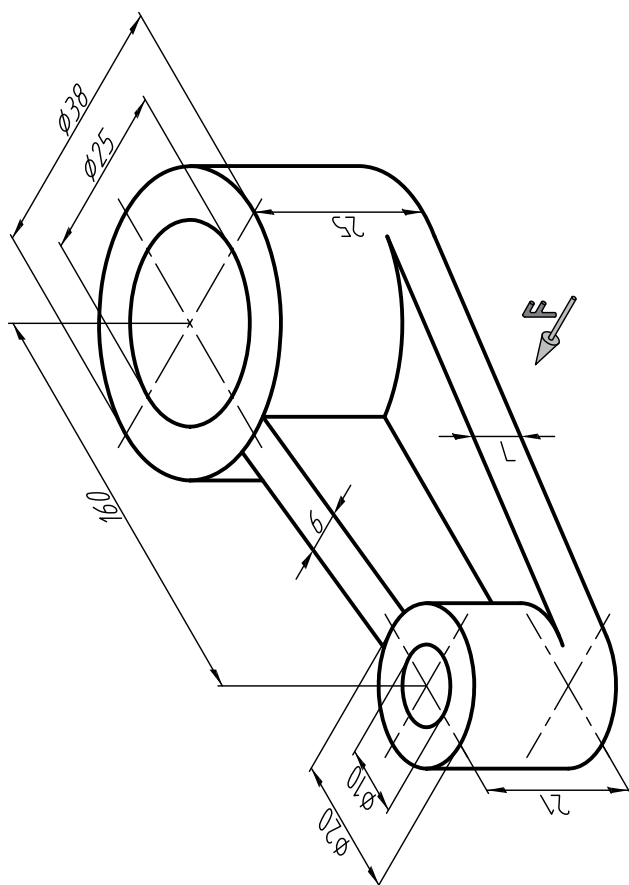
رسم :	نام نقشه :	جنس :
رشته :		تولرانس :
بازین :	هنرستان :	ارزشیابی :
تاریخ :		شماره نقشه :

پس از ترسیم دو نمای روبه‌رو و افقی از شکل زیر، نمای روبه‌رو را در برش ساده ترسیم کنید.



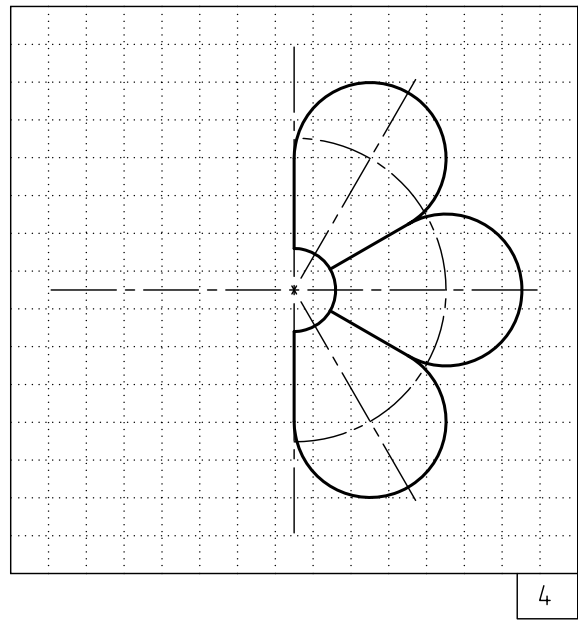
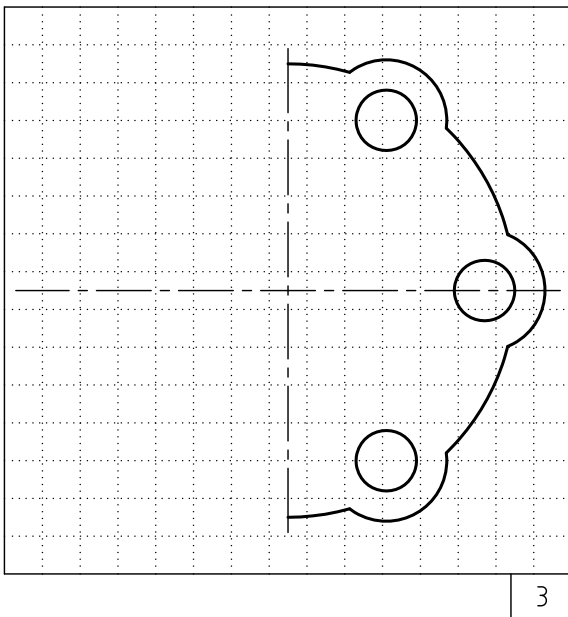
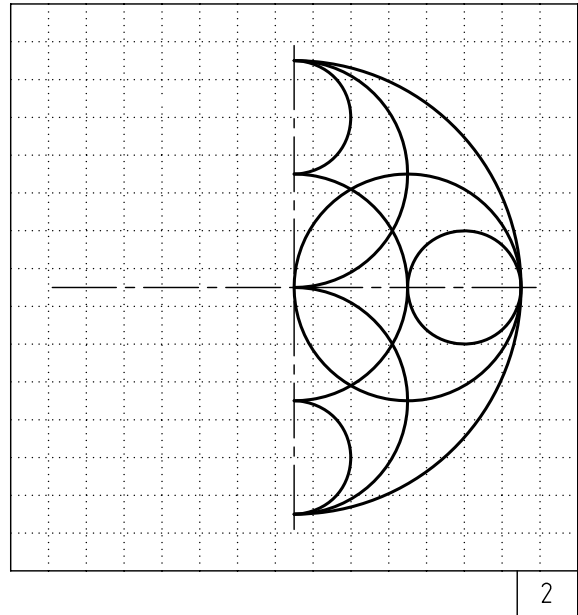
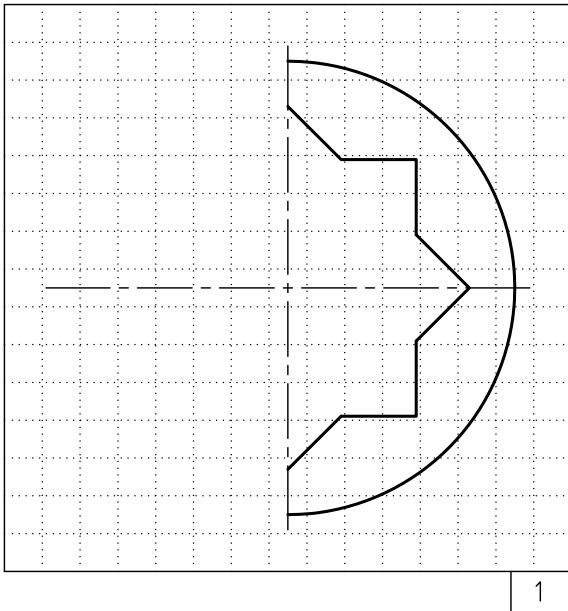
رسم :	نام نقشه :	جنس :
رشته :	هنرستان :	تولرانس :
بازبین :		ارزشیابی :
تاریخ :		شماره نقشه :

پس از ترسیم دو روپرو افقی از شکل زیر، نمای روپرو را در برش ساده ترسیم کنید.



رسم :	نام نقشه :	جنس :
رشته :	هنرستان :	تولرانس :
بازبین :		ارزشیابی :
تاریخ :		شماره نقشه :

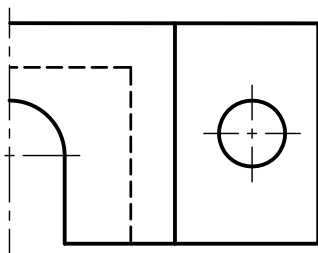
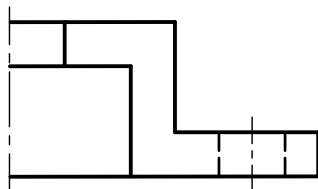
نیمه سمت چپ شکل‌های زیر را کامل کنید.



جنس :	نام نقشه :	رسام :
تولرانس :		رشته :
ارزشیابی :	هنرستان :	بازبین :
شماره نقشه :		تاریخ :



نیمه سمت چپ دو نمای زیر را کامل کنید. سپس شکل را اندازه گذاری کنید.



جنس :	نام نقشه :	رسام :
تولرانس :		رشته :
ارزشیابی :	هنرستان :	بازبین :
شماره نقشه :		تاریخ :

