

مهارت: فلزکاری عمومی در کشاورزی شماره شناسایی: ۱۶-۱ الی ۷۴-۳-۱/ک	پیمانه مهارتی: اتصالات دایم شماره شناسایی: ۱۶-۱۴ الی ۷۴-۳-۱/ک	واحد کار: پرچ کاری شماره شناسایی: ۱۶-۱۴۱ الی ۷۴-۳-۱/ک
---	--	--

واحد کار

پرچ کاری

هدفهای رفتاری: در پایان این واحد، فراگیر باید بتواند :

- پرچ کاری را تعریف کند.
- انواع میخ پرچها را از نظر جنس، شکل و کاربرد بیان نماید.
- روش پرچ کاری با میخ پرچهای آلومینیمی (بوپ) را توضیح دهد.
- با میخ پرچهای آلومینیمی پرچ کاری کند.
- با میخ پرچهای توپر پرچ کاری کند.
- عیوب احتمالی در پرچ کاری با پرچهای توپر را توضیح دهد.

مهارت: فلزکاری عمومی در کشاورزی شماره شناسایی: ۱۶-۱ الی ۷۴-۳-۱/ک	پیمانه مهارتی: اتصالات دایم شماره شناسایی: ۱۶-۱۴ الی ۷۴-۳-۱/ک	واحد کار: پرچ کاری شماره شناسایی: ۱۶-۱۴۱ الی ۷۴-۳-۱/ک
---	--	--

۱- پرچ کاری

کلیات

هر ماشین پیچیده‌ای، از قطعات ساده تشکیل می‌شود. به عنوان مثال، یک ماشین سواری ممکن است از بیش از ۲۰۰۰ قطعه تشکیل شده باشد. این قطعات به روشهای مختلف به هم متصل می‌شوند. مهمترین دسته‌بندی برای اتصال قطعات، شامل اتصال موقت و اتصال دایم است.

الف - اتصال موقت: قطعاتی که به هم متصل می‌شوند و پس از مدت کوتاهی از هم جدا خواهند شد معمولاً به این روش به هم متصل می‌گردند. یکی از روشهای اتصال موقت اتصال دو قطعه با پیچ و مهره است که قبلاً با کاربرد آن آشنا شده‌اید.

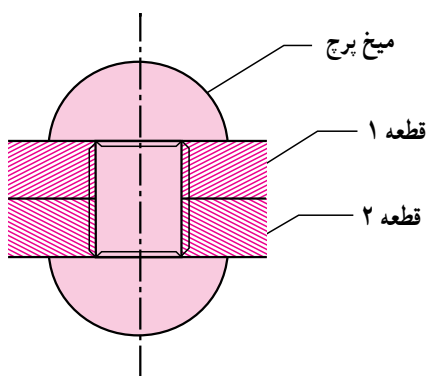
ب - اتصال دایم: این روش برای قطعاتی که باید به مدت طولانی یا دایم و یا به طور بی حرکت نسبت به هم، متصل شوند به کار می‌رود مانند اتصال اسکلت ساختمان و یا اتصال شاسی اتومبیل که به روش جوش کاری به هم متصل می‌شوند.

جدا کردن قطعاتی که به صورت دایم به هم متصل شده‌اند معمولاً باعث خرابی محل اتصال یا عامل اتصال‌دهنده می‌شود. روشهای اتصال دایم که در صنعت کاربرد زیادی دارد شامل موارد زیر است:

الف - پرچ کاری، ب - لحیم کاری و ج - جوش کاری.

۱-۱- تعریف پرچ کاری: اتصال دو قطعه (معمولاً فلزی)

را به وسیله میخ پرچ، «پرچ کاری» می‌گویند.



شکل ۱-۱

<p>مهارت: فلزکاری عمومی در کشاورزی</p> <p>شماره شناسایی: ۱۶-۱ الی ۷۴-۳-۱/ک</p>	<p>پیمانه مهارتی: اتصالات دایم</p> <p>شماره شناسایی: ۱۶-۱۴ الی ۷۴-۳-۱/ک</p>	<p>واحد کار: پرچ کاری</p> <p>شماره شناسایی: ۱۶-۱۴۱ الی ۷۴-۳-۱/ک</p>
--	---	---

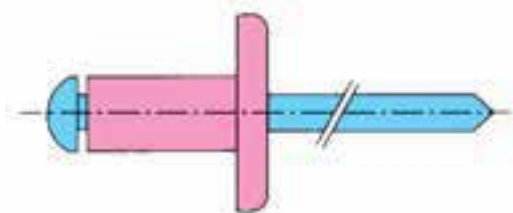
۱-۲- انواع میخ پرچ: میخ پرچها از نظر جنس و نوع

کاربرد به انواع مختلفی تقسیم می شوند.

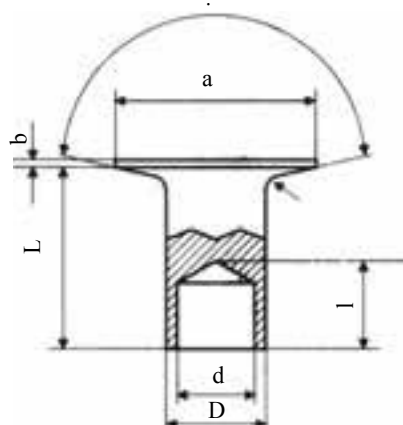
- میخ پرچها معمولاً از جنس فولاد نرم، مس، برنج و آلومینیم و یا آلیاژهای آلومینیم هستند.

- از نظر شکل، میخ پرچها به دو دسته توپر و توخالی تقسیم می شوند. اکثر پرچهای توپر برای اتصالات آب بندی به کار می روند.

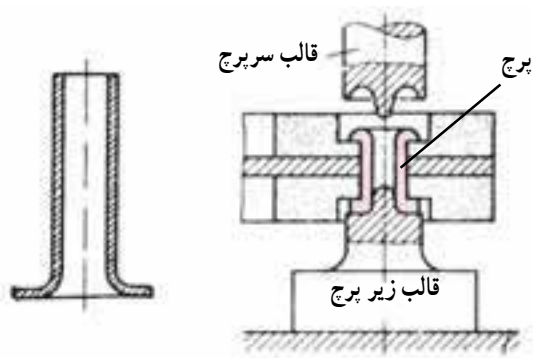
از نظر نوع کاربرد نیز، میخ پرچها به انواع مختلف تقسیم می شوند. برخی از انواع میخ پرچها در شکل ۱-۲ نشان داده شده اند.



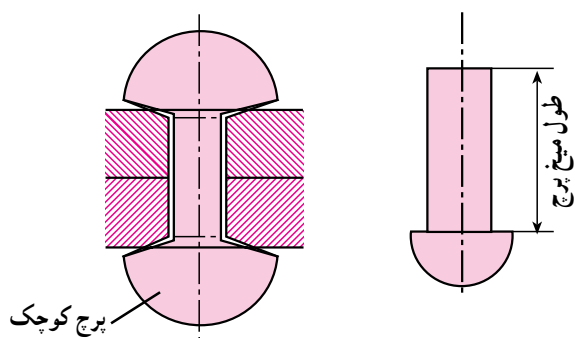
الف - پرچ آلومینیمی (پوپ)



ب - پرچ نیمه پر



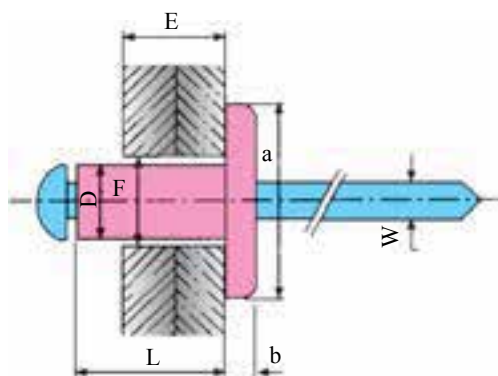
ج - پرچ لوله ای



د - پرچ توپر فولادی

شکل ۱-۲

مهارت: فلزکاری عمومی در کشاورزی شماره شناسایی: ۱۶-۱ الی ۷۴-۳-۱/ک	پیمانه مهارتی: اتصالات دایم شماره شناسایی: ۱۶-۱۴ الی ۷۴-۳-۱/ک	واحد کار: پرچ کاری شماره شناسایی: ۱۶-۱۴ الی ۷۴-۳-۱/ک
---	--	---



- F — قطر سوراخ (برابر با قطر اسمی میخ پرچ)،
D — قطر ساقه کلاهک،
L — طول کلاهک،
E — ضخامت قطعه کار
W — قطر میخ

شکل ۱-۳

۱-۳-۱ روشهای پرچ کاری: متناسب با نوع کار و

میخ پرچ، روشهای مختلفی برای پرچ کاری به کار می رود. برخی از رایجترین میخ پرچها و روشهای پرچ کاری، در این قسمت به طور مختصر توضیح داده می شود.

۱-۳-۱-۱ پرچ کاری با میخ پرچهای آلومینیومی (پرچ پوپ):

میخ پرچ آلومینیومی از دو قسمت شامل کلاهک و میخ بریده شونده تشکیل می شود. میخ، از جنس فولاد با پوشش گالوانیزه و کلاهک از جنس آلیاژ آلومینیم می باشد. از این میخ پرچها برای اتصال ورقهای فلزی به هم (مانند پلاک اتومبیل) یا اتصال چوب یا فایبرگلاس روی فلز و ... زمانی که بخواهند دو قطعه را از یک طرف به هم پرچ کنند و طرف دیگر بسته بوده و امکان پرچ کردن وجود ندارد استفاده می شود.

روش کار

— قطعه کارها را در شرایط موردنظر برای اتصال، قرار

دهید.

— میخ پرچ مناسب را از نظر قطر و طول کلاهک انتخاب کنید. میخ پرچ انتخاب شده باید از نظر قطر و نوع آلیاژ چنان باشد که بتواند اتصال محکمی ایجاد کند. معمولاً سه نوع میخ پرچ از نظر مقاومت ساخته می شود: میخ پرچ با مقاومت کم، متوسط و زیاد. همچنین باید طول کلاهک میخ پرچ متناسب با ضخامت قطعه کارها و بلندتر از آنها انتخاب شود. برای این کار می توانید از جداولی که کارخانه های سازنده میخ پرچ ارائه می کنند، استفاده کنید.

— قطعه کارها را به قطری برابر با قطر اسمی میخ پرچ

سوراخ کنید.

— دسته های پرچکش را از هم باز کنید (شکل ۱-۴).

زنجر نگرندارنده دسته



سری (پستانک)

سه نظام

آچار

شکل ۱-۴- پرچکش

مهارت: فلزکاری عمومی در کشاورزی شماره شناسایی: ۱۶-۱ الی ۱۶-۳۱/۷۴/ک	پیمانه مهارتی: اتصالات دایم شماره شناسایی: ۱۶-۱۴ الی ۱۶-۳۱/۷۴/ک	واحد کار: پرچ کاری شماره شناسایی: ۱۶-۱۴۱ الی ۱۶-۳۱/۷۴/ک
---	--	--

جدول ۱-۱

قطر اسمی میخ پرچ ۴		قطر اسمی میخ پرچ ۵		قطر اسمی میخ پرچ ۶	
طول پرچ (L)	ضخامت قطعه کار (E)	طول پرچ (L)	ضخامت قطعه کار (E)	طول پرچ (L)	ضخامت قطعه کار (E)
۶	۱/۵-۳	—	—	—	—
۸	۳-۵	۸	۳-۴/۵	—	—
۱۰	۵-۶/۵	۱۰	۴/۵-۶	۱۰	۴-۶
۱۲	۶/۵-۸/۵	۱۲	۶-۸	۱۲	۶-۸
۱۵	۸/۵-۱۲/۵	۱۴	۸-۱۰	۱۵	۸-۱۰
۱۸	۱۲/۵-۱۴/۵	۱۶	۱۰-۱۲	۱۸	۱۰-۱۲
۲۱	۱۴/۵-۱۶/۵	۱۸	۱۲-۱۴	۲۱	۱۲-۱۵
۲۵	۱۶/۵-۱۹/۵	۲۴	۱۶-۲۰	—	—
—	—	۲۷	۲۰-۲۳	—	—

— میخ پرچ را از طرف میخ آن در داخل سه نظام پرچکش قرار دهید. قطر سوراخ سری (پستانک) سه نظام باید متناسب با قطر میخ باشد در غیر این صورت قبلاً سری مناسب را با آچار از روی بدنه باز کنید و با سری نصب شده روی سه نظام تعویض کنید.

— میخ پرچ را از طرف کلاهک آن در داخل سوراخ ایجاد شده در قطعه کار قرار دهید.

در صورتی که جنس قطعه کار روی نرم باشد (مانند چوب، فایبرگلاس و...) از واشر تخت هم قطر با میخ پرچ همراه آن و یا از میخ پرچهای سربهن استفاده نمایید.

— پرچکش را به نحوی به میخ پرچ نزدیک کنید که میخ آن

در داخل سه نظام قرار گیرد.

— در حالی که سه نظام پرچکش را در امتداد سوراخ قطعه کارها نگه داشته‌اید دسته پرچکش را فشار دهید (ببندید) تا میخ بریده شود.

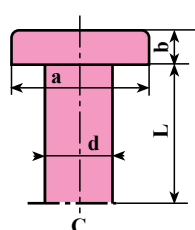
— با باز کردن دسته‌ها از هم، میخ بریده شده از طرف دیگر سه نظام، بر روی زمین می‌افتد.

۲-۳-۱- پرچ کاری با میخ پرچ توپر: این میخ پرچها معمولاً از جنس فولاد، آلومینیم و مس ساخته می‌شوند. میخ پرچ توپر از دو قسمت بدنه و سر تشکیل می‌شود. از نظر شکل سر انواع مختلفی از میخ پرچها وجود دارند. مشخصات این پرچها در جدول ۱-۲ و ۱-۳ ارائه شده است.

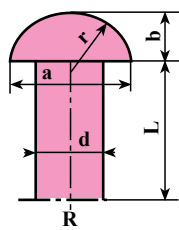
مهارت: فلزکاری عمومی در کشاورزی شماره شناسایی: ۱۶-۱ الی ۷۴-۳-۱/ک	پیمانه مهارتی: اتصالات دایم شماره شناسایی: ۱۶-۱۴ الی ۷۴-۳-۱/ک	واحد کار: پرچ کاری شماره شناسایی: ۱۶-۱۴۱ الی ۷۴-۳-۱/ک
---	--	--

جدول ۱-۲- مشخصات پرچهای فولادی

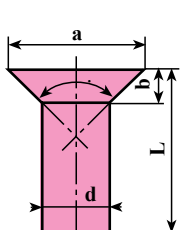
مشخصات میخ پرچ	علامت اختصاری	a	a _۱	b
شکل سر میخ پرچ				
سر تخت C	C	۲d	—	°/۵d
نیم کروی R	R	۱/۷۵d	—	°/۷d
نیم کروی با واشر Rb	Rb	۱/۷۵d	۲d	°/۷d
خزینهای ۹۰° F/۹۰°	F/۹۰°	۲d	—	°/۵d
خزینهای محدب (عدسی) Fb/۶۰°	Fb/۶۰°	—	—	°/۵d
Fb/۶۰° ۶۰°				



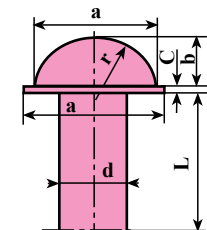
ب- پرچ سر تخت



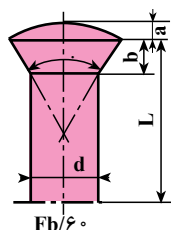
الف- پرچ نیم کروی



د- پرچ خزینهای ۹۰°

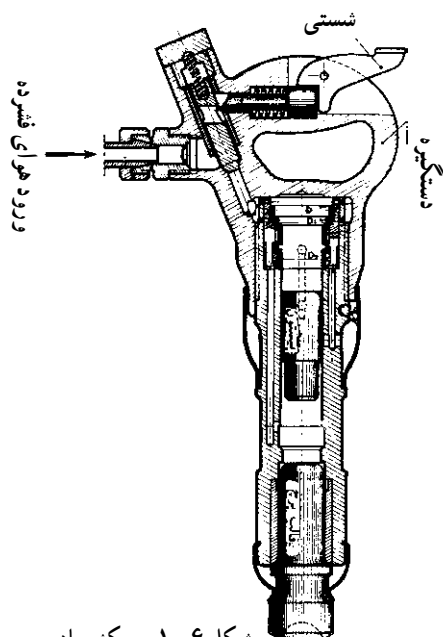


ج- پرچ نیم کروی با واشر



ه- پرچ خزینهای محدب

شکل ۵-۱- برخی از انواع میخ پرچها از نظر شکل سر



شکل ۶-۱- چکش بادی پرچ

میخ پرچها از نظر قطر انواع مختلفی دارند. معمولاً میخ پرچهای با قطر کمتر از ۱۰mm را با چکش معمولی و در حالت سرد و میخ پرچهای با قطر بیش از ۱۰mm را در حالت گرم و با چکش بادی (پنوماتیکی) پرچ می کنند.

<p>مهارت: فلزکاری عمومی در کشاورزی</p> <p>شماره شناسایی: ۱۶-۱ الی ۱۶-۳۰/۷۴-ک</p>	<p>پیمانه مهارتی: اتصالات دایم</p> <p>شماره شناسایی: ۱۶-۱۴ الی ۱۶-۳۰/۷۴-ک</p>	<p>واحد کار: پرچ کاری</p> <p>شماره شناسایی: ۱۶-۱۴ الی ۱۶-۳۰/۷۴-ک</p>
--	---	--

روش کار

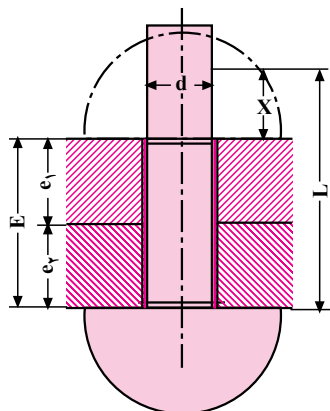
– متناسب با ضخامت قطعه کارها، اندازه مناسب پرچ را انتخاب کنید. قطر میخ پرچ به راحتی از روی فرمول $d = 2 + E$ تعیین می شود که در آن d قطر پرچ و E مجموع ضخامت ورقهایی است که به هم متصل می شوند. $E = e_1 + e_2$

علاوه بر فرمول فوق از جدول ۱-۳ برای تعیین قطر پرچ و قطر سوراخ می توانید استفاده کنید. با توجه به اینکه یک سر میخ پرچ با چکش کاری شکل داده می شود باید طول میخ پرچ (L) از ضخامت قطعه کارها بیشتر باشد.

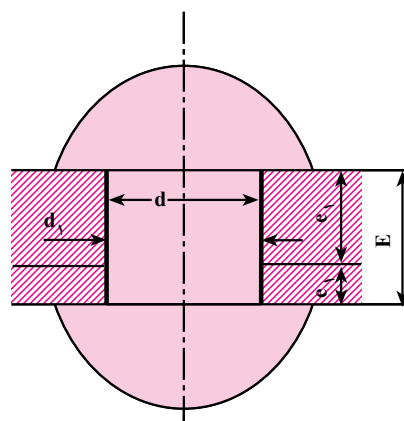
$$L \geq E + X$$

X را برای پرچهای میله ای می توانید $d/5$ و برای

میخ پرچهای سرخزینه ای $d/7$ در نظر بگیرید.



شکل ۱-۸



شکل ۱-۷

E – مجموع ضخامت قطعه ها

d – قطر پرچ

d_1 – قطر سوراخ

جدول ۱-۳ – تعیین قطر مناسب پرچ

ردیف	ضخامت قطعه کار e	قطر پرچ d	قطر سوراخ d_1	ردیف	ضخامت قطعه کار e	قطر پرچ d	قطر سوراخ پرچ d_1
۱	۰/۸	۳	۳/۳	۱۰	۸	۱۶	۱۷
۲	۱	۴	۴/۴	۱۱	۱۰	۱۸	۱۹
۳	۱/۵	۵-۴	۵/۴-۴/۴	۱۲	۱۲	۲۰	۲۱
۴	۲	۶	۶/۶	۱۳	۱۴	۲۲	۲۳
۵	۲/۵	۷	۷/۷	۱۴	۱۶	۲۴	۲۵
۶	۳	۸	۸/۸	۱۵	۱۸	۲۷	۲۸
۷	۴	۱۰	۱۱	۱۶	۲۲	۳۰	۳۱
۸	۵	۱۲	۱۳	۱۷	۲۶	۳۳	۳۴
۹	۶	۱۴	۱۵	۱۸	۳۰	۳۶	۳۷

مهارت: فلزکاری عمومی در کشاورزی شماره شناسایی: ۱۶-۱ الی ۷۴-۳-۱/ک	پیمانه مهارتی: اتصالات دایم شماره شناسایی: ۱۶-۱۴ الی ۷۴-۳-۱/ک	واحد کار: پرچ کاری شماره شناسایی: ۱۶-۱۴ الی ۷۴-۳-۱/ک
---	--	---

با استفاده از جدول ۱-۴ می‌توانید طول میخ پرچ را انتخاب کنید.
 - قطعه کار را سوراخ کنید.
 فاصله دو میخ پرچ متوالی و مجاور باید به نحوی باشد که
 استحکام قطعه کار کم نشود. با استفاده از فرمولهای شکل ۱-۹
 می‌توانید فاصله مناسب دو میخ پرچ متوالی و فاصله میخ پرچ تا
 لبه کار را تعیین کنید.

جدول ۱-۴- تعیین تقریبی مقدار L در پرچ کاریهای مختلف

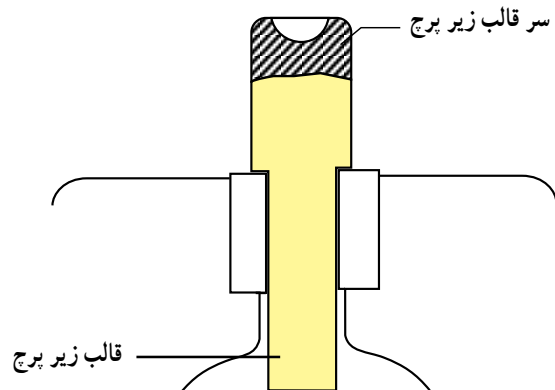
پرچ خزینه‌ای	پرچ نیم کروی	نوع پرچکاری
$L \cdot E + \circ / \vee d$	$L \cdot E + \vee / \Delta d$	پرچ کاری سرد با دست
$L \cdot E + \circ / \wedge d$	$L \cdot E + \vee / \Delta d$	پرچ کاری سرد پرسی
$L \cdot E + \circ / \wedge d$	$L \cdot E + \vee / \vee d$	پرچ کاری سرد با هوا
$L \cdot E + d$	$L \cdot E + \vee / \vee d$	پرچ کاری گرم با روغن
$L \cdot E + d$	$L \cdot E + \vee / \vee d$	پرچ کاری گرم با ماشین

توضیح: در پرچ کاری سرعده‌سی برای محاسبه طول پرچ می‌توان اندازه‌های پرچ نیم کروی را در \circ / \wedge ضرب کرد.

نوع اتصال	شکل	روابط
یک ردیفه		d قطر میخ پرچ $h \geq \Delta d$ $I \geq \Delta d + 8mm$ $S \geq 2h \geq 3d$
دو ردیفه موازی		$h \geq \Delta d$ $I \geq \Delta d + 10mm$ $M \geq \Delta I$ $S \geq 2h + M$
دو ردیفه زیگزاگی		$h \geq \Delta d$ $I \geq \Delta d + 15mm$ $M \geq \Delta I$ $S \geq 2h + M$

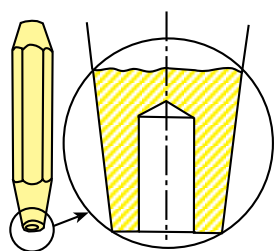
شکل ۱-۹

<p>مهارت: فلزکاری عمومی در کشاورزی</p> <p>شماره شناسایی: ۱۶-۱۰ الی ۷۴-۳-۱/ک</p>	<p>پیمانه مهارتی: اتصالات دایم</p> <p>شماره شناسایی: ۱۶-۱۴ الی ۷۴-۳-۱/ک</p>	<p>واحد کار: پرچ کاری</p> <p>شماره شناسایی: ۱۶-۱۴۱ الی ۷۴-۳-۱/ک</p>
---	---	---



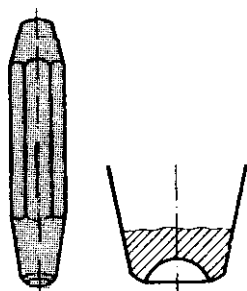
شکل ۱-۱۲

– برای اینکه دو قطعه کار کاملاً به هم نزدیک شوند از جفت کن قطعات (پرچ کش) با قطر مناسب استفاده کنید.



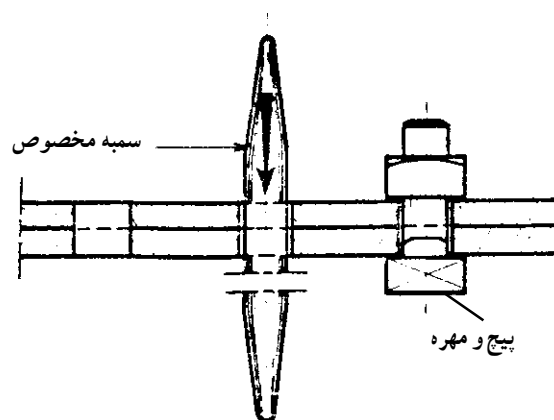
شکل ۱-۱۳ – پرچ کش

– با استفاده از چکش و قالب سر پرچ، شکل مناسب را در سر میخ پرچ ایجاد کنید.
میخ پرچهای فولادی با قطر بیش از ۱۰ میلیمتر را ابتدا تا ۹۰۰ درجه گرم و سپس پرچ کاری می کنند.



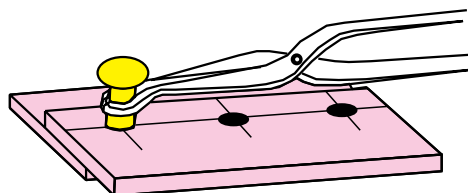
شکل ۱-۱۴

– میخ پرچ را در سوراخ قطعه کارها قرار دهید. قبلاً باید قطعه کارها نسبت به هم در موقعیت موردنظر قرار گرفته باشند. ممکن است برای جلوگیری از سر خوردن قطعات ضخیم از موقعیت موردنظر از سمبه مخصوص یا پیچ و مهره استفاده شود.



شکل ۱-۱۰

در صورتی که میخ پرچ گرم باشد (در پرچ کاری گرم) از انبر مخصوصی برای جابجا کردن میخ پرچ استفاده کنید.



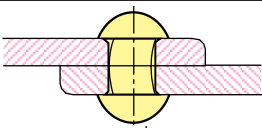
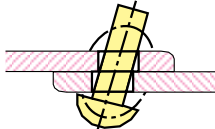
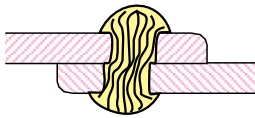
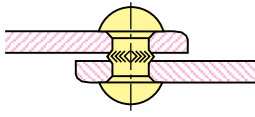
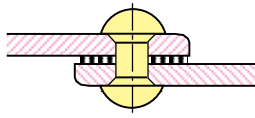
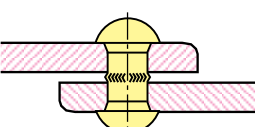
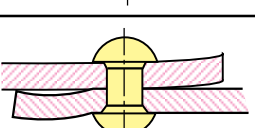
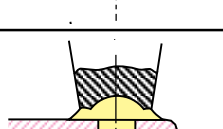
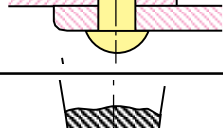
شکل ۱-۱۱

– قالب زیر پرچ را در زیر میخ پرچ قرار دهید. این قالب مانع از تغییر شکل سر میخ پرچ در حین پرچ کاری می شود.
برای پرچ کاری قطعات کوچک از قالبهایی که قابل نصب بر روی گیره هستند استفاده کنید.

مهارت: فلزکاری عمومی در کشاورزی شماره شناسایی: ۱۶-۱۰ الی ۷۴-۳-۱/ک	پیمانه مهارتی: اتصالات دایم شماره شناسایی: ۱۶-۱۴ الی ۷۴-۳-۱/ک	واحد کار: پرچ کاری شماره شناسایی: ۱۶-۱۴ الی ۷۴-۳-۱/ک
--	--	---

در صورتی که پرچ کاری با دقت انجام نشود ممکن است عیوب زیر در پرچ کاری ایجاد شود.

جدول ۵-۱

خطا	شکل	علت
بدنه میخ پرچ کج شده است و سوراخ را پر نمی کند.		سوراخ بزرگتر از اندازه مجاز است.
بدنه و سر قفل کننده میخ پرچ منحرف شده و استحکام محل اتصال کم است.		سوراخها در یک امتداد نیستند.
سر قفل کننده میخ پرچ دارای انحراف است.		امتداد سوراخها نسبت به سطح کار مایل هستند.
بدنه میخ پرچ، بین دو قطعه اتصال جاخورده، مانع از آب بندی است.		قطعات اتصال از هر دو طرف خزینه شده اند.
قطعات اتصال نسبت به هم فاصله دارند و مانع از آب بندی می باشند.		پلیسه و براده بین قطعات اتصال، برطرف نشده است.
بدنه میخ پرچ بین دو قطعه اتصال جاخورده و مانع از آب بندی می باشد.		از پرچ کش استفاده نشده است.
لبه قطعات اتصال برجسته و ناهموار می باشد.		میخ پرچ بیش از حد مجاز کوبیده شده است.
سر قفل کننده بزرگ و دارای پلیسه می باشد.		طول میخ پرچ بزرگتر از اندازه مجاز می باشد.
سر قفل کننده کوچک است و استحکام محل اتصال کم می باشد.		طول میخ پرچ کوچکتر از اندازه مجاز می باشد.

کار عملی ۱: دو قطعه فلزی به ابعاد $3 \times 40 \times 70 \text{ mm}$ را به روش دوردیفه زیگزاگ با میخ پرچ نیم کروی پرچ کاری کنید.
کار عملی ۲: رویه چوبی یک نیمکت را با پرچ مناسب از نوع آلومینیومی (پوپ) به همدیگر متصل کنید.