

واحد کار چهارم

توانایی ترسیم برش‌های مورد نیاز و اندازه‌گذاری آنها

هدف کلی

ترسیم انواع برش‌های ساختمانی

هدف‌های رفتاری: فراگیر پس از گذراندن این واحد کار باید بتواند:

- ۱- برش را تعریف نماید.
- ۲- علائم برش را توضیح دهد.
- ۳- علائم مصالح ساختمانی را ترسیم کند.
- ۴- خط برش را ترسیم نماید.
- ۵- برش ساختمان را ترسیم نماید.
- ۶- برش را اندازه‌گذاری نماید.
- ۷- برش پله را ترسیم کند.

ساعات آموزش

۷

نظری

۱۰

عملی

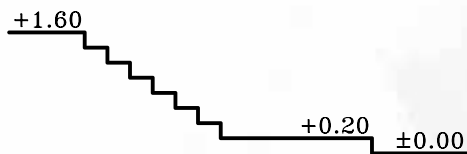




پیش آزمون (۴)

سوالات تشریحی

- ۱- توضیح دهید، چگونه می توان ارتفاع فضاها را در نقشه ترسیم نمود؟
- ۲- چند علامت اختصاری جهت نمایش مصالح ساختمانی ترسیم نمایید.
- ۳- خطوط اندازه گذاری را توضیح دهید؟
- ۴- چگونه می توان ساختمان را برش زد تا بیش ترین اطلاعات را به سازنده ی ساختمان دهد؟
- ۵- اختلاف سطح در ساختمان را تعریف کنید.
- ۶- علامت کد ارتفاعی در پلان را، که نمایشگر اختلاف ارتفاع بین سطوح است، ترسیم کنید.
- ۷- برش فرضی افقی از یک ساختمان را، می نامند.
- ۸- اگر یک ساختمان را به صورت عمودی برش بزنیم چه بخش هایی از ساختمان دیده می شود؟
- ۹- آیا می توانید تفاوت بین برش افقی و برش عمودی یک ساختمان را توضیح دهید؟
- ۱۰- شکل ۴-۱ را با علامت کد ارتفاعی، کدگذاری نمایید.



شکل ۴-۱

پاسخ:





سؤالات چهارگزینه‌ای

- ۱- خطوط برش خورده با چه نوع خطی ترسیم می‌شوند؟
 (الف) خط نازک (ب) خط چین (ج) خط نقطه (د) خط ضخیم
- ۲- مناسب‌ترین مداد برای ترسیم قسمت‌های برش خورده کدام است؟
 (الف) H_p (ب) BH (ج) B (د) F
- ۳- در ترسیم برش، به چه عواملی نیاز داریم؟
 (الف) محل برش (ب) نماها (ج) جهت دید (د) الف و ج
- ۴- در ترسیم برش، نوع خطوطی که خط برش آن‌ها را قطع نکرده، چگونه است؟
 (الف) خط چین (ب) خط ضخیم (ج) خط نقطه (د) خط نازک
- ۵- اصطلاح O.K.B به چه معنا است؟
 (الف) دست‌انداز پنجره (ب) کتیبه‌ی در (ج) آستانه‌ی در (د) پنجره‌ی بدون دست‌انداز
- ۶- تراز کف طبقه‌ی همکف $+40$ و کف زیرزمین -250 می‌باشد. ارتفاع کف تا کف تمام شده چند سانتی‌متر است؟
 (الف) ۲۱۰ سانتی‌متر (ب) ۳۱۰ سانتی‌متر (ج) ۲۵۰ سانتی‌متر (د) ۲۹۰ سانتی‌متر
- ۷- هدف از ترسیم نمایش جزئیات داخلی و خارجی و نشان دادن ارتفاع قسمت‌های مختلف ساختمان می‌باشد.
 (الف) پلان (ب) نما (ج) برش (د) سایت
- ۸- حداقل عرض پله برای ساختمان‌های مسکونی چند متر است؟
 (الف) $1/10$ متر (ب) $1/80$ متر (ج) $2/00$ متر (د) $1/50$ متر
- ۹- پلان به معنی
 (الف) برش فرضی افقی که از 2 ارتفاع ساختمان عبور می‌کند.
 (ب) برش فرضی عمودی که از 3 طول ساختمان عبور می‌کند.
 (ج) برش افقی که از 2 طول ساختمان عبور می‌کند.
 (د) برش عمودی که از $1/3$ حجم ساختمان عبور می‌کند.



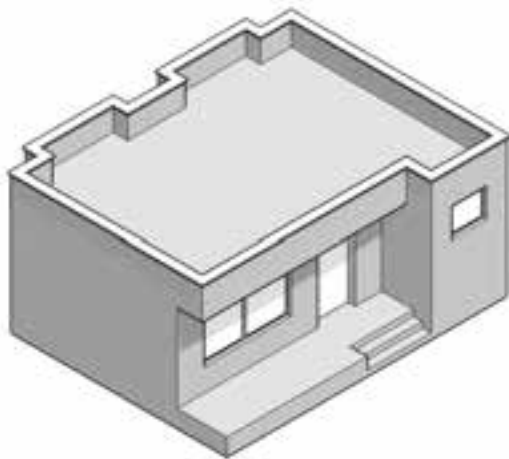
۱-۴- برش یا مقطع

درفرایند تکامل نقشه، طراح برای رسیدن به طرح نهایی، می تواند با استفاده از مقاطع (برش ها)، فضاهای داخلی بنا، مانند سطوح شکسته ی طرح های مختلف را مورد بررسی قرار دهد و آن ها را به معرض دید بگذارد. برش از پلان به منظور بهتر نشان دادن جزئیات اجرایی، بررسی قسمت های تو پُر و تو خالی و اطلاعات بعدی انجام می شود.

هرگاه صفحه ی برش فرضی بخشی از پلان را به صورت عمودی قطع کند و از پایین ترین طبقه (زیرزمین) تا آخرین طبقه از ساختمان را برش دهد، آن را «مقطع یا برش ساختمان» می نامند.

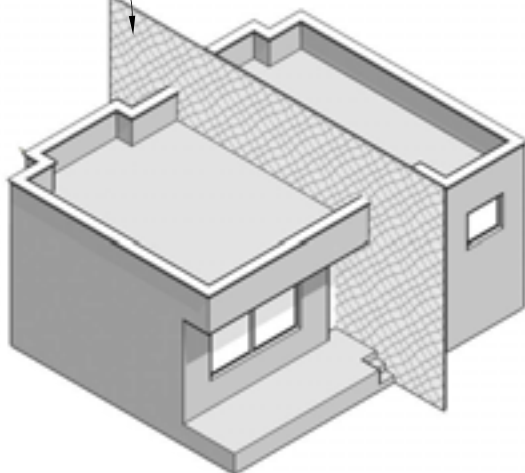
انتخاب محل برش در پلان بسیار اهمیت دارد به طوری که محل برش و عبور این صفحه ی فرضی باید از قسمتی باشد که بیش ترین اطلاعات را از درون ساختمان به طراح بدهد. در مسیر قرارگیری این صفحه (صفحه ی برش) ممکن است درها، پنجره ها، دیوارها، پاسیو و راه پله برش بخورد و رسام با ترسیم نقشه ی مقاطع، نحوه ی بریدگی آن ها را با صفحه ی برش نمایش می دهد.

شکل های ۲-۴ تا ۵-۴ مراحل برش عمودی یک ساختمان را نشان می دهد.

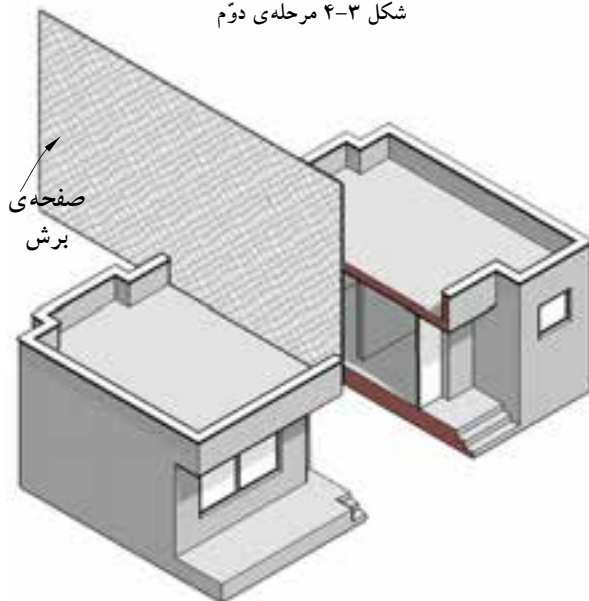


شکل ۲-۴ مرحله ی اول

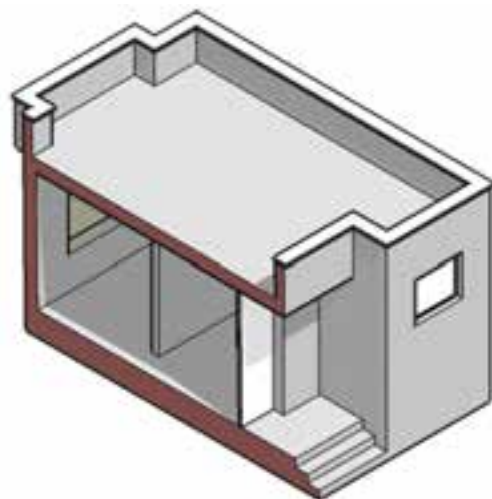
صفحه ی برش



شکل ۳-۴ مرحله ی دوم



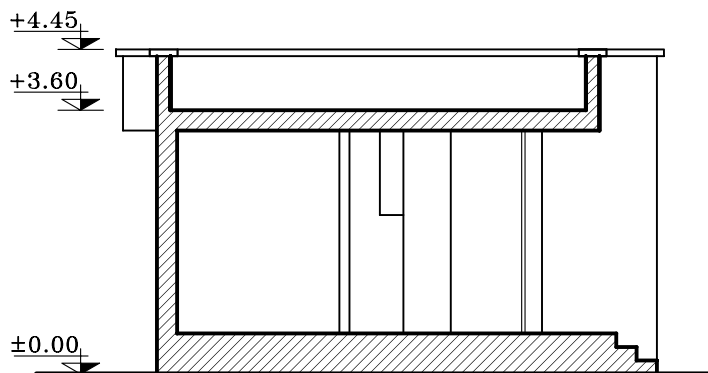
شکل ۴-۴ مرحله ی سوم



شکل ۵-۴ مرحله ی چهارم

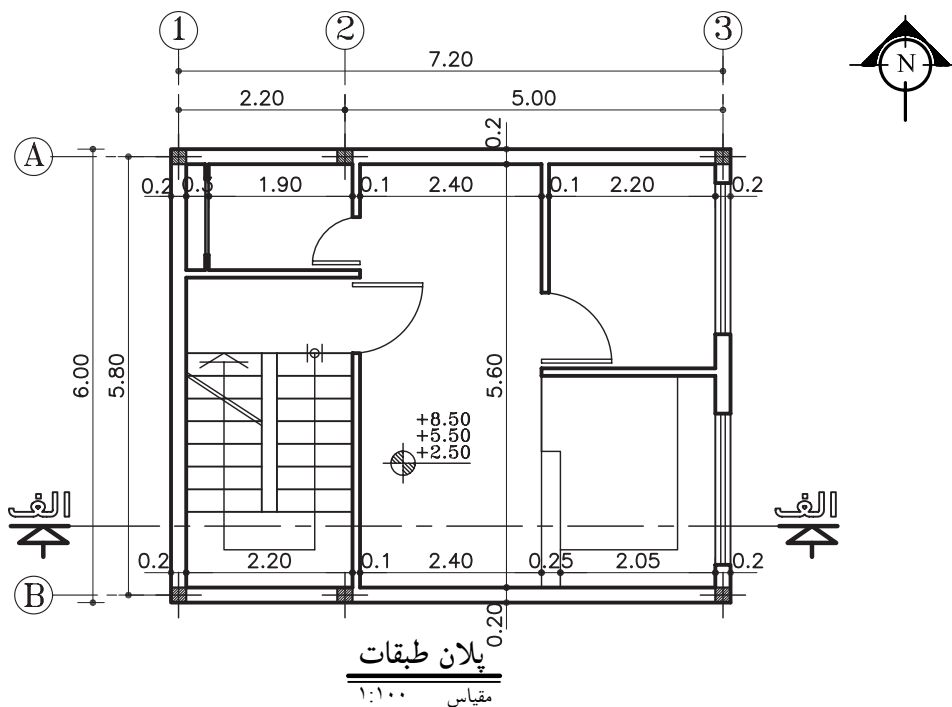


در شکل ۴-۶ برش (مقطع) ترسیم شده از ساختمان
شکل ۴-۲ را مشاهده می کنید.



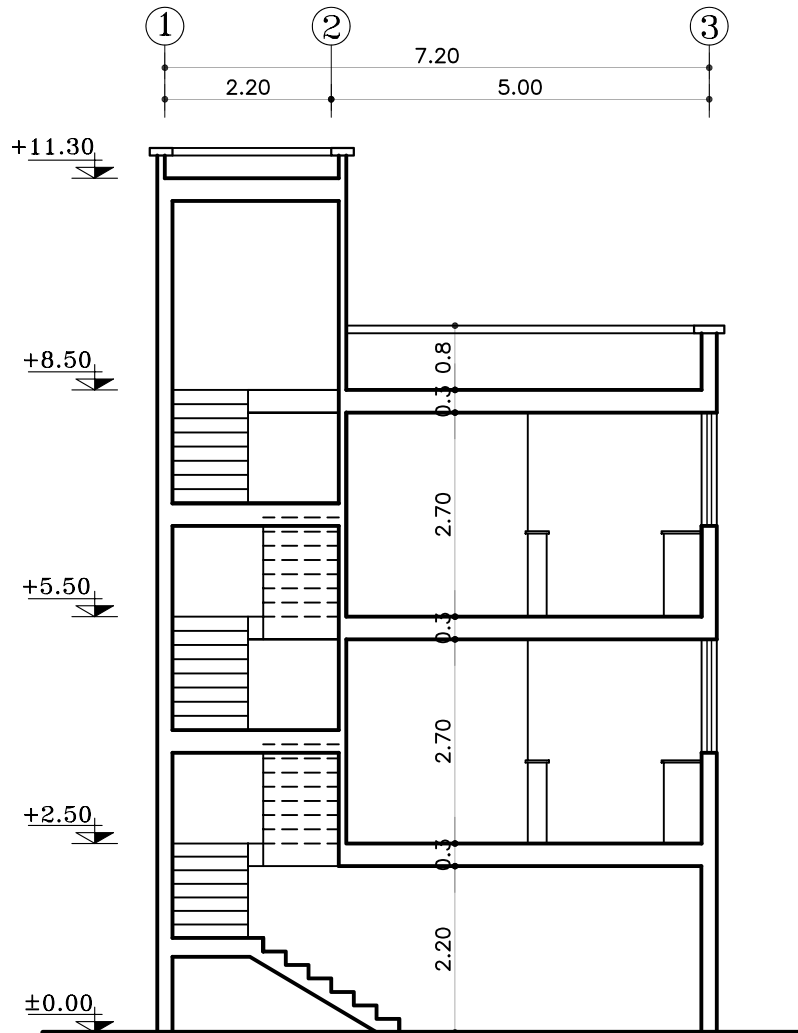
شکل ۴-۶ برش (مقطع) - SECTION

مقاطع از جمله مهم ترین نقشه های ساختمانی هستند که سازندگان بنا به آن ها نیاز دارند. با ترسیم مقاطع، می توان رابطه ی ساختمان با زمین، تعداد طبقات و دیوارهای داخلی را مشخص نمود. معمولاً اندازه ی ساختمان و پیچیدگی قسمت های داخلی آن تعیین کننده ی تعداد مقاطع لازم برای نقشه های ساختمانی است. در شکل ۴-۷ پلانی را نمایش می دهد که در آن محل برش عمودی، مشخص شده است.

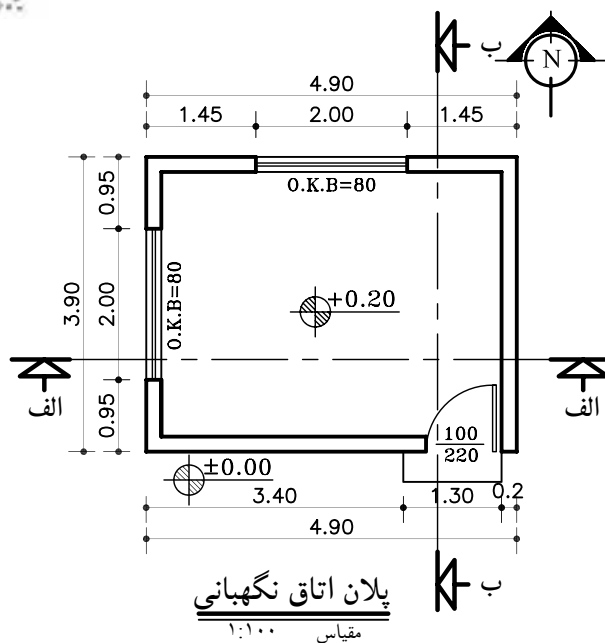


شکل ۴-۷

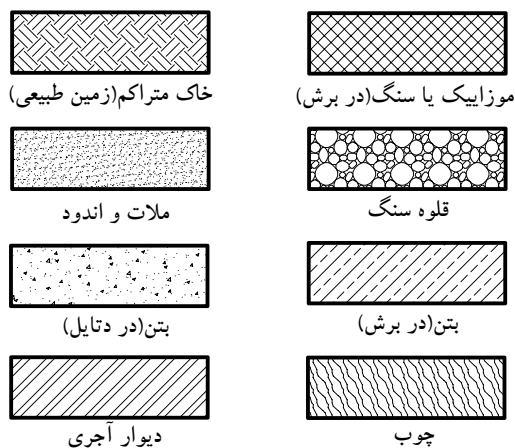
شکل ۸-۴ نمونه‌ی برش (مقطع) الف-الف، از پیلانی



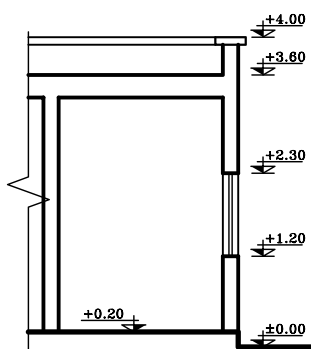
برش الف-الف
مقیاس ۱:۱۰۰



شکل ۴-۹



شکل ۴-۱۰



شکل ۴-۱۱

۴-۱-۱-۱ علائم مورد استفاده در برش ها:

الف) خط برش در پلان: خط برش برای نمایش محل برش عمودی بر روی پلان است. این خط، با نوع «غیر ممتد ضخیم» ترسیم شده و در دوسر آن، جهت دید را با فلش مشخص کنید. سپس روی قسمت فلش نام برش را بنویسید (شکل ۴-۹).

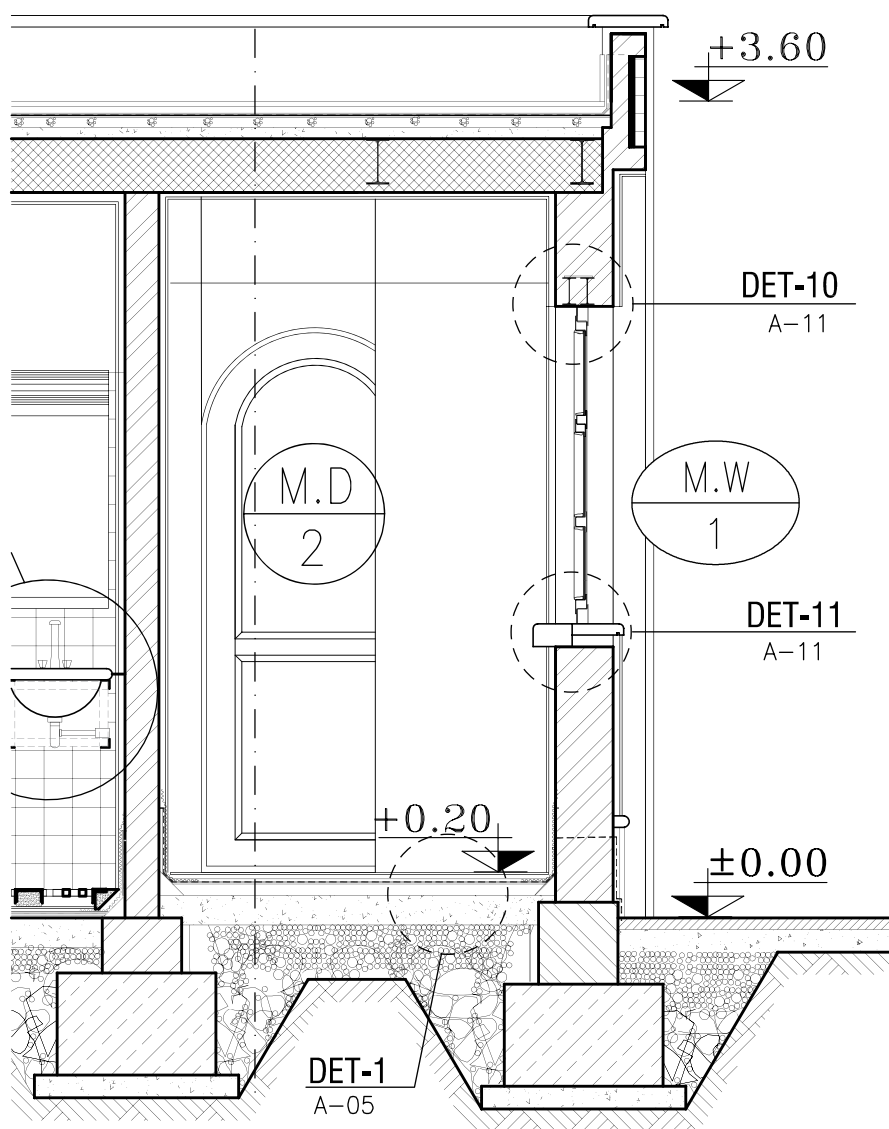
ب) هاشور در برش: برای نمایش جنس مصالح در قسمت های برش خورده از ساختمان از هاشورهای خاصی که هریک معرف یک نوع مصالح است استفاده می شود.

معمولاً زاویه ی ترسیم هاشور «۴۵ درجه» است و برای آن از نوع خط «ممتد نازک» استفاده می شود. ترسیم خطوط ۴۵ درجه هاشورها توسط گونیای ۴۵ درجه صورت می گیرد. در شکل ۴-۱۰ چندین نمونه از هاشورها را که برای نمایش مصالح در برش به کار می رود نشان می دهد.

ج) مقیاس در برش ها: معمولاً برش ها برابر با مقیاس پلان های معماری با مقیاس های $\frac{1}{50}$ ، $\frac{1}{100}$ ، $\frac{1}{200}$ ترسیم می شوند. شکل ۴-۱۱ بخشی از برش یک ساختمان را نشان می دهد که با مقیاس $\frac{1}{200}$ ترسیم شده است. در این برش قسمت هایی از پلان که بریده شده مانند سقف، کف، دیوار و پنجره را به طور کلی نشان می دهد.



اما برحسب نیاز ممکن است برش‌های جزئی، که تحت عنوان «دتایل» نامیده می‌شوند، با مقیاس $\frac{1}{50}$ تا $\frac{1}{20}$ ترسیم شوند. در این برش‌ها جزئیات بیش‌تری از ساختمان مانند جزئیات سقف، پروفیل در و پنجره‌ها، نازک‌کاری و... به نمایش گذاشته می‌شود (شکل ۴-۱۲).
شکل ۴-۱۲ برش جزئی از شکل ۴-۱۲ را نشان داده است. این برش با مقیاس $\frac{1}{50}$ ترسیم شده است.



برش الف-الف

مقیاس ۱:۵۰

شکل ۴-۱۲

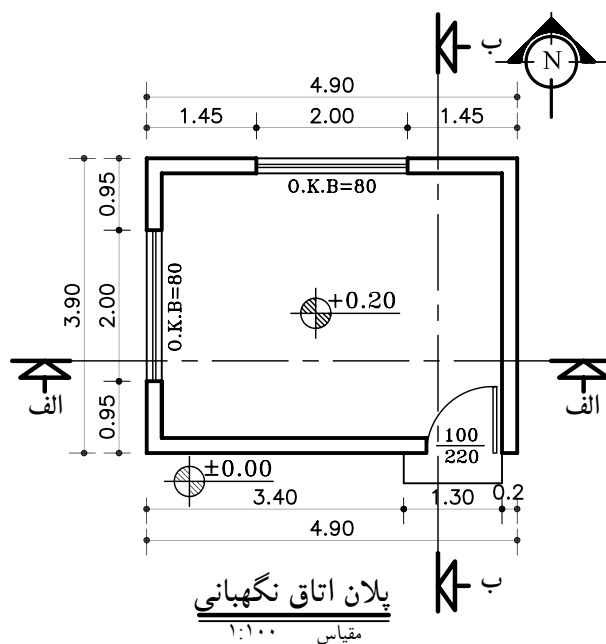


۴-۲- اصول ترسیم برش

۴-۲-۱- دستورالعمل ترسیم برش یک اتاق:

پلان مقابل (شکل ۴-۱۳)، پلان یک اتاق نگهبانی با مشخصات زیر است.

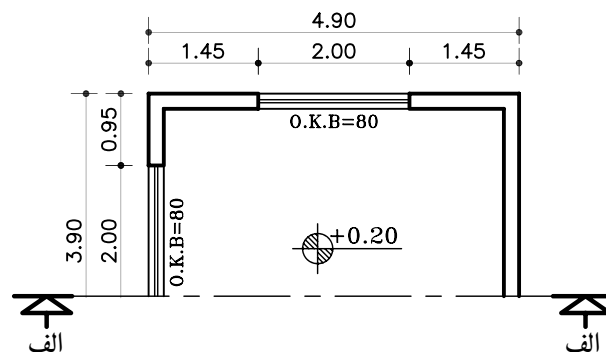
- کُدارتفاعی کف +۲۰ سانتی متر
- ارتفاع کف اتاق تا کف پشت بام ۳۲۰ سانتی متر
- ضخامت سقف ۳۰ سانتی متر
- دست انداز پشت بام ۸۰ سانتی متر
- ضخامت قرنیز ۵ سانتی متر
- دست انداز پنجره (O.K.B) ۸۰ سانتی متر
- ارتفاع پنجره ها ۱۵۰ سانتی متر
- بقیه ی مشخصات بر روی پلان نوشته شده است.



شکل ۴-۱۳

الف) مراحل ترسیم برش الف-الف:

- ۱- ابتدا پلان را در جهت دید خط برش در قسمت بالای محل ترسیم برش بچسبانید (شکل ۴-۱۴).



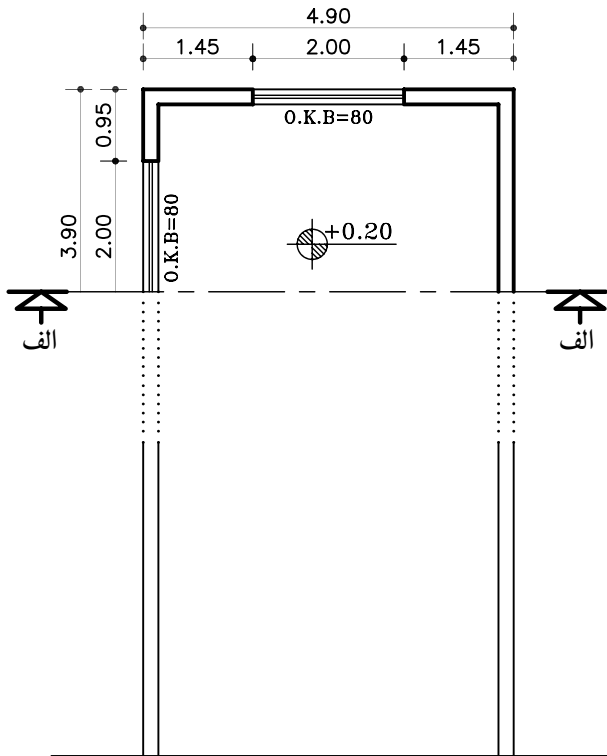
شکل ۴-۱۴ مرحله ی اول

۱- قرنیز عبارت است از پلاک های بتنی یا سیمانی که برای جلوگیری از آب باران و نفوذ رطوبت در دیوارهای ساختمان از آن استفاده می کنند محل مصرف آن در پایین و روی دیوارهای داخلی و بیرونی و هم چنین روی دیوار جان پناه پشت بام است. به قرنیز پشت بام «دربوش» نیز می گویند.

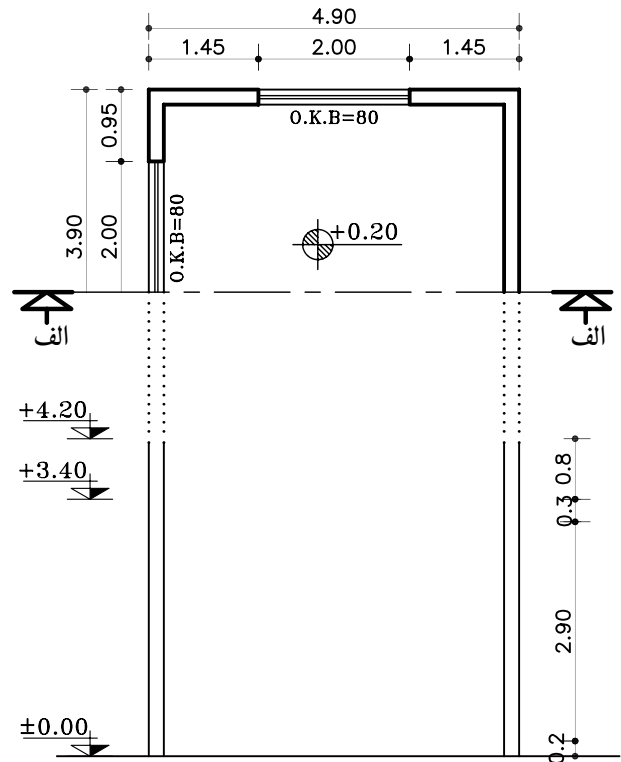


۲- خط زمین را ترسیم کنید و دیوارهای خارجی را روی خط زمین انتقال دهید (شکل ۴-۱۵).

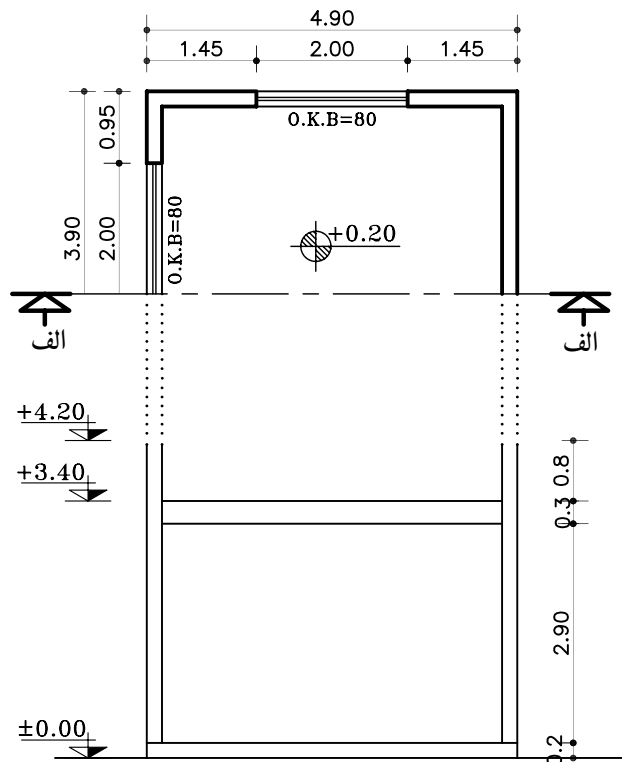
۳- درکنار برش خطی عمودی ترسیم کنید و ارتفاعهای عمودی را با کدهای داده شده روی آن مشخص نمایید (شکل ۴-۱۶).



شکل ۴-۱۵ مرحله ی دوم

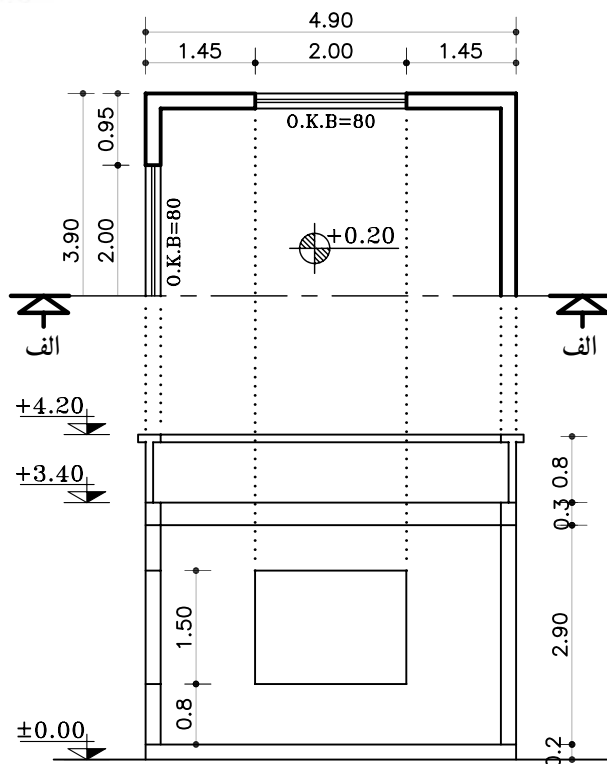


شکل ۴-۱۶ مرحله ی سوم

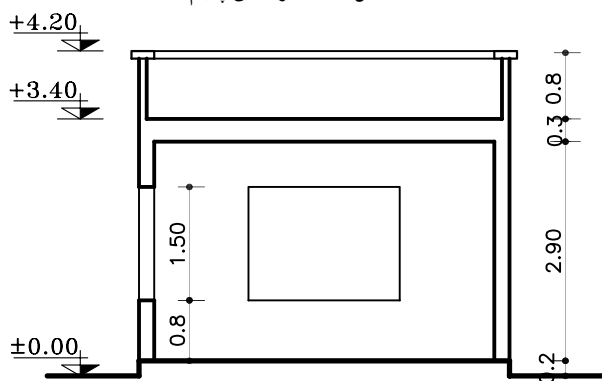


شکل ۴-۱۷ مرحله ی چهارم

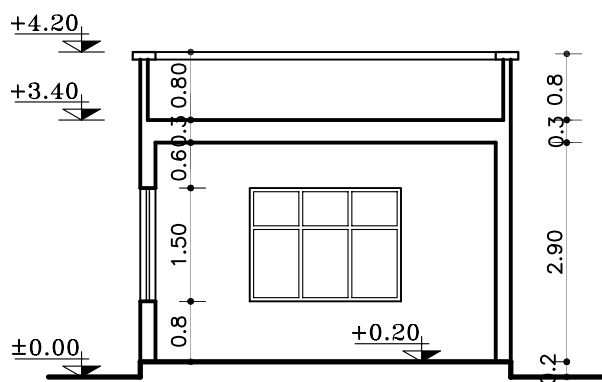
۴- مطابق اندازه های مشخص شده، ضخامت سقف و کف اتاق را ترسیم نمایید (شکل ۴-۱۷).



شکل ۱۸-۴ مرحله ی پنجم



شکل ۱۹-۴ مرحله ی ششم



شکل ۲۰-۴ مرحله ی هفتم

۵- با توجه به اندازه های داده شده در پلان، دست انداز (O.K.B) و ارتفاع پنجره ها، دست انداز پشت بام (ضخامت دیوار دست انداز را ۱۰-۱۵ سانتی متر در نظر بگیرید)، پنجره ی برش خورده ی سمت چپ و دیواره ی نمای مقابل و پنجره ی نمای روبه رو را ترسیم کنید. سپس قرنیز بام را ترسیم کنید (شکل ۱۸-۴).

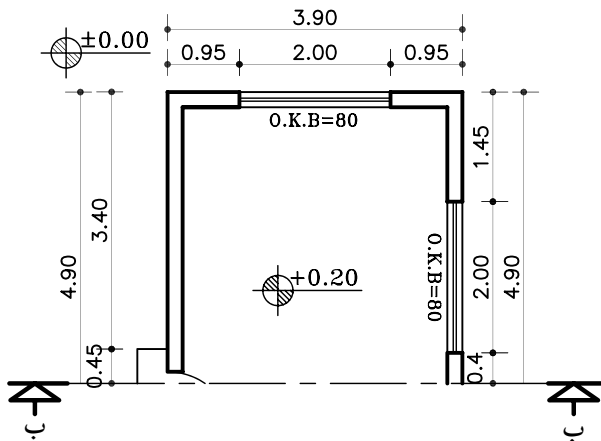
۶- قسمت های برش خورده، مانند دیوار، سقف، کف و دیگر عناصر را با مداد مناسب از گروه (B) پررنگ نمایید (شکل ۱۹-۴).

۷- عناصر موجود در نما و برش، مانند در و پنجره را کامل کنید. سپس برش را اندازه گذاری و کدگذاری نمایید (شکل ۲۰-۴).



ب) مراحل ترسیم برش ب-ب :

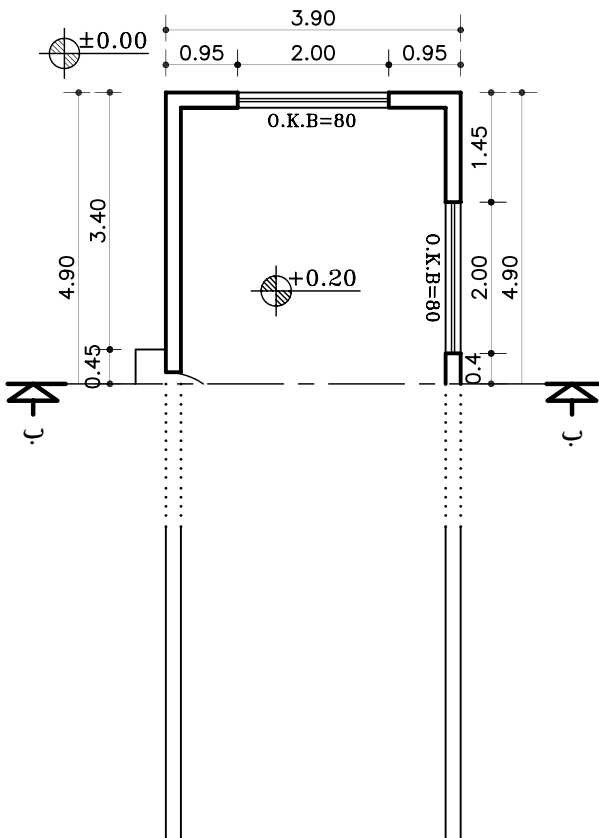
۱- ابتدا پلان را چرخانده و در جهت دید خط برش در قسمت بالای محل ترسیم برش (کاغذ) بچسبانید (شکل ۴-۲۱).



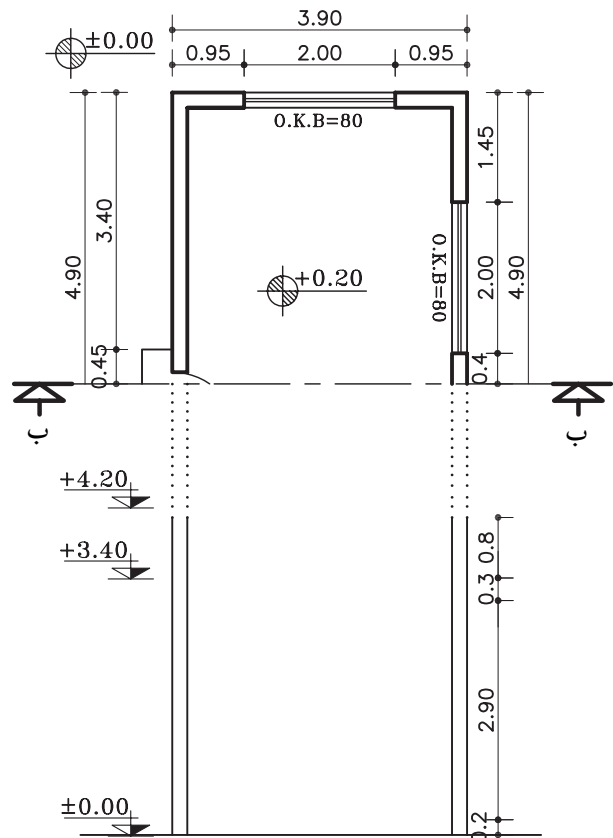
شکل ۴-۲۱ مرحله ی اول

۲- خط زمین را ترسیم کنید و دیوارهای خارجی را روی خط زمین انتقال دهید (شکل ۴-۲۲).

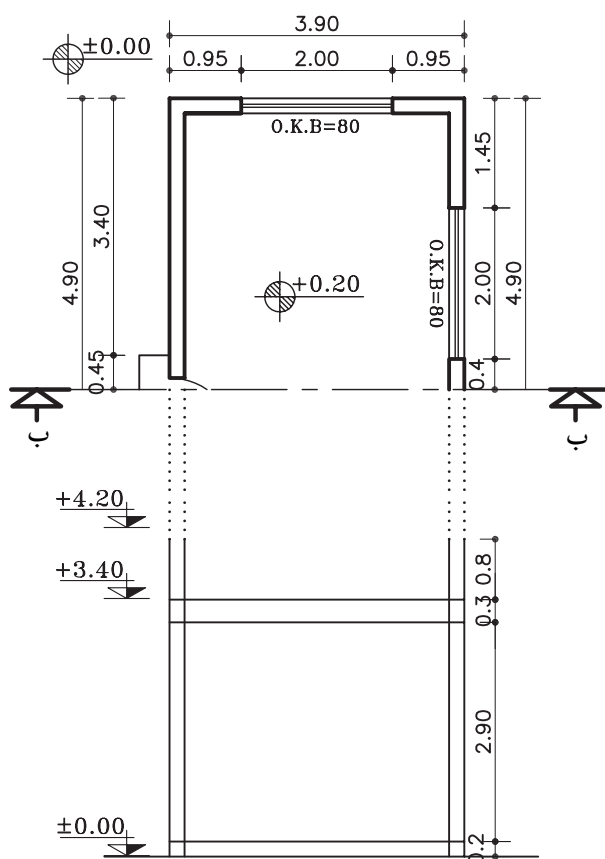
۳- درکنار برش خطی عمودی ترسیم کنید و ارتفاع های عمودی مانند ضخامت سقف و کد کف را با اندازه های داده شده روی آن مشخص نمایید (شکل ۴-۲۳).



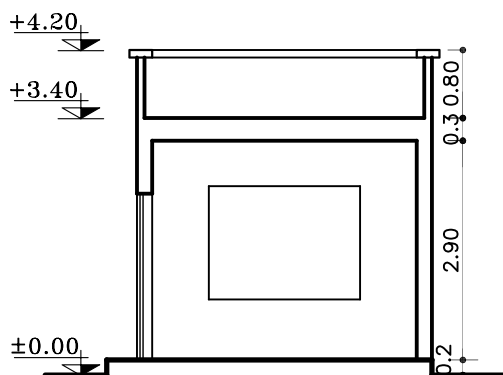
شکل ۴-۲۲ مرحله ی دوم



شکل ۴-۲۳ مرحله ی سوم



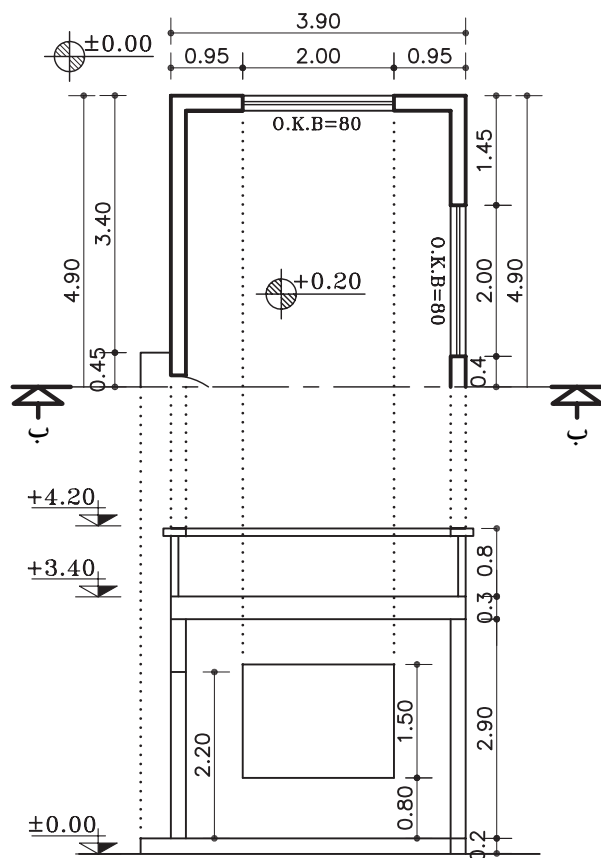
شکل ۴-۲۴ مرحله‌ی چهارم



شکل ۴-۲۶ مرحله‌ی ششم

۴- از روی خط اندازه‌ی عمودی ضخامت سقف و کف اتاق را روی کد ارتفاعی +0.20 ترسیم نمایید (شکل ۴-۲۴).

۵- با توجه به اندازه‌های داده شده در پلان، دست‌انداز (O.K.B) و ارتفاع پنجره‌ها، دست‌انداز پشت بام (ضخامت دیوار دست‌انداز ۱۰-۱۵ سانتی متر در نظر گرفته شود)، پنجره‌ی دیوار برش خورده‌ی سمت چپ، ارتفاع در ورودی حداقل ۲۲۰ سانتی متر و دیواره‌ی نمای مقابل و پنجره‌ی آن را رسم نمایید. سپس قرنیز بام را ترسیم کنید (شکل ۴-۲۵).



شکل ۴-۲۵ مرحله‌ی پنجم

۶- قسمت‌های برش خورده، مانند دیوار، سقف، کف و دیگر عناصر را با مداد مناسب از گروه (B) پررنگ نمایید (شکل ۴-۲۶).

Architectural floor plan of a room. The plan shows a rectangular room with a window on the right wall and a door on the left wall. Dimensions are provided for the room and the window. Elevation markers are shown on the left and right sides.

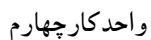
Dimensions:

- Room width: 2.90
- Room depth: 1.50
- Window width: 0.60
- Window height: 0.8
- Door width: 0.8

Elevation markers:

- Left side: +4.20, +3.40, ±0.00
- Right side: +0.20, 0.3, 0.8

شكل ٢٨-٤



طبقه:

-اندازه‌ی کف تا زیر سقف ۲۸۰ سانتی متر

- ضخامت سقف ۳۰ سانتی متر

-دست انداز پشت بام ۸۰ سانتی متر

-ضخامت قرنیز ۵ سانتی متر

-ارتفاع پنجره ها ۱۵۰ سانتی متر

-دست انداز پنجره (O.K.B) ۸۰ سانتی متر

می‌خواهیم برش مشخص شده‌ی AA را ترسیم

نماییم.



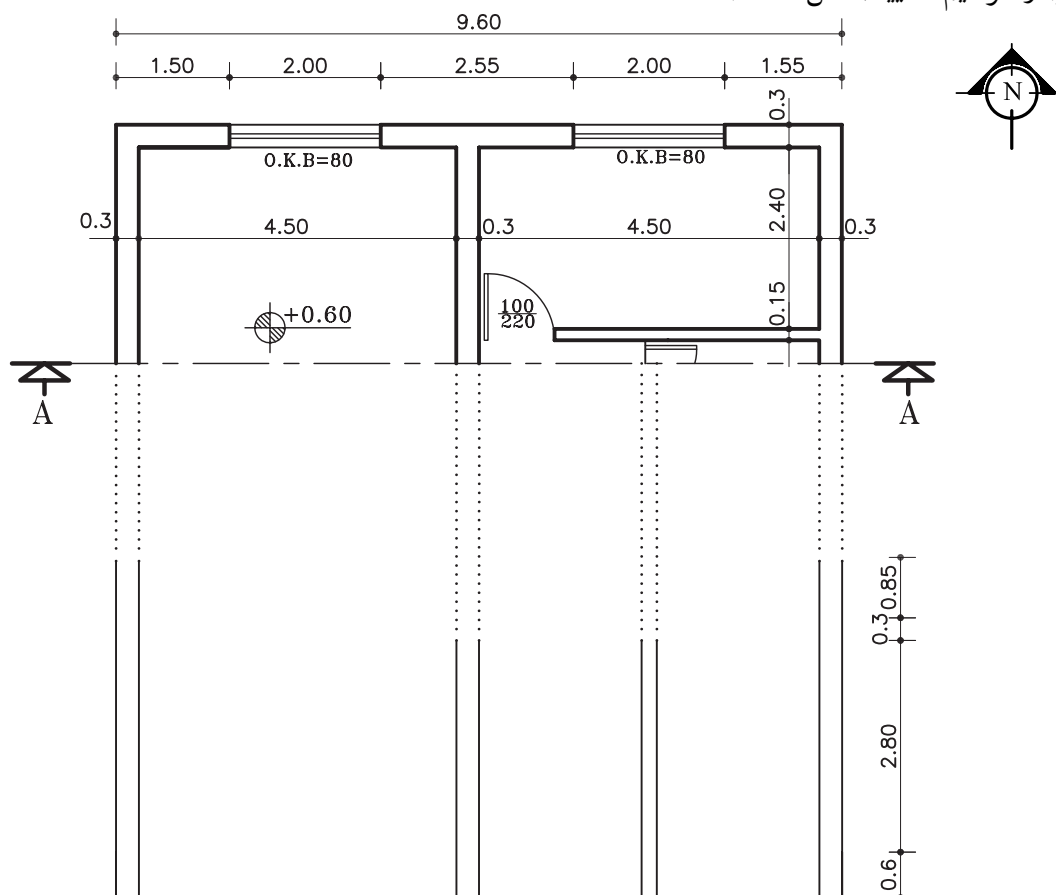
مقیاس ۱:۱۰۰

شکل ۲۹-۴




الف) مراحل ترسیم برش AA :

- ۱- خط زمین را ترسیم کنید و کلیه خطوط برش خورده‌ی داخلی و خارجی را بر روی خط زمین انتقال دهید. سپس خط عمودی کنار برش (جهت مشخص کردن اندازه‌های کف، سقف، ضخامت سقف، ارتفاع جان پناه و ضخامت قرنیز) را ترسیم نمایید (شکل ۳۰-۴).



شکل ۳۰-۴ مرحله ی اول

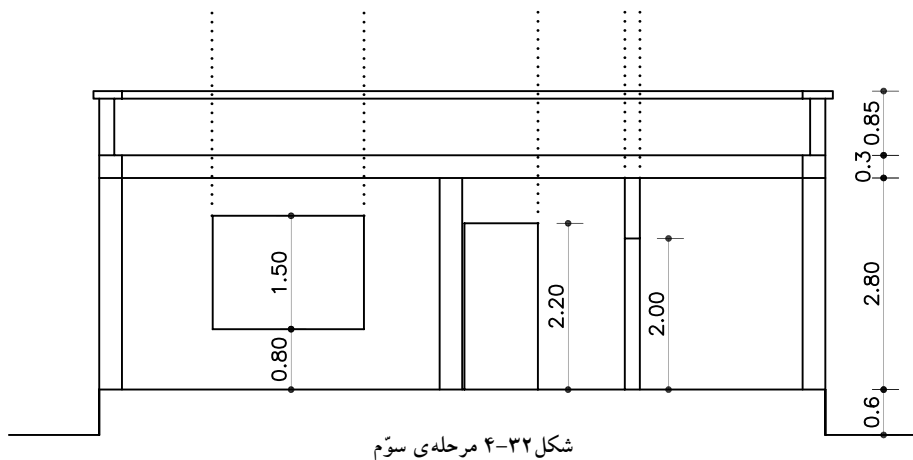
- ۲- ضخامت سقف و دست انداز پشت بام و خط کف را مطابق با اندازه‌های مشخص شده، ترسیم نمایید (شکل ۳۱-۴).



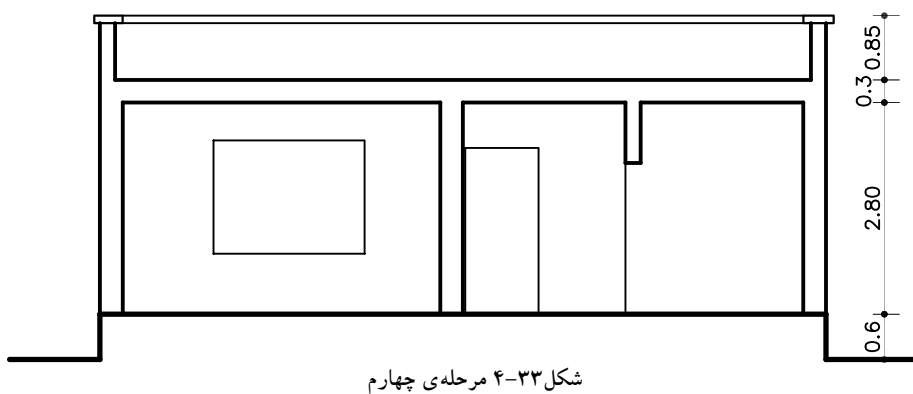
شکل ۳۱-۴ مرحله ی دوم



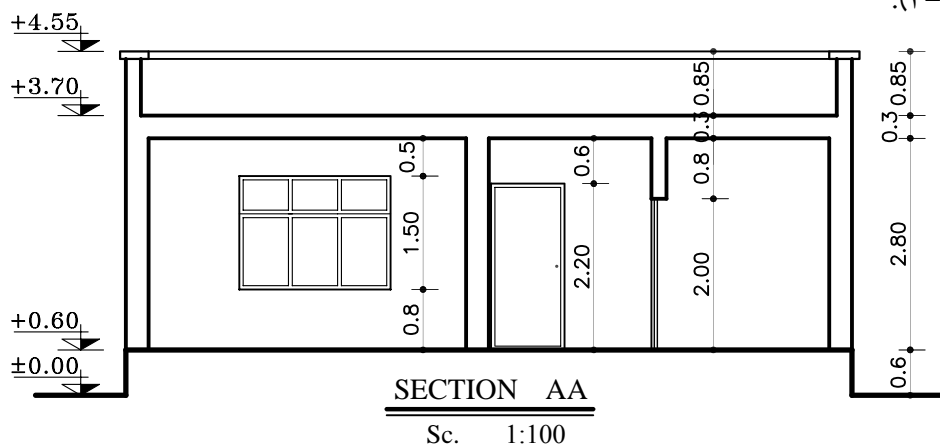
۳- خطوط بیرونی درها و پنجره‌های برش خورده و نما را ترسیم نمایید (شکل ۴-۳۲).



۴- بعد از اطمینان از صحیح بودن ترسیم خطوط، عناصر برش خورده را با مداد B، ضخیم نمایید و محل تلاقی دیوارهای برش خورده و سقف را پاک کنید (شکل ۴-۳۳).

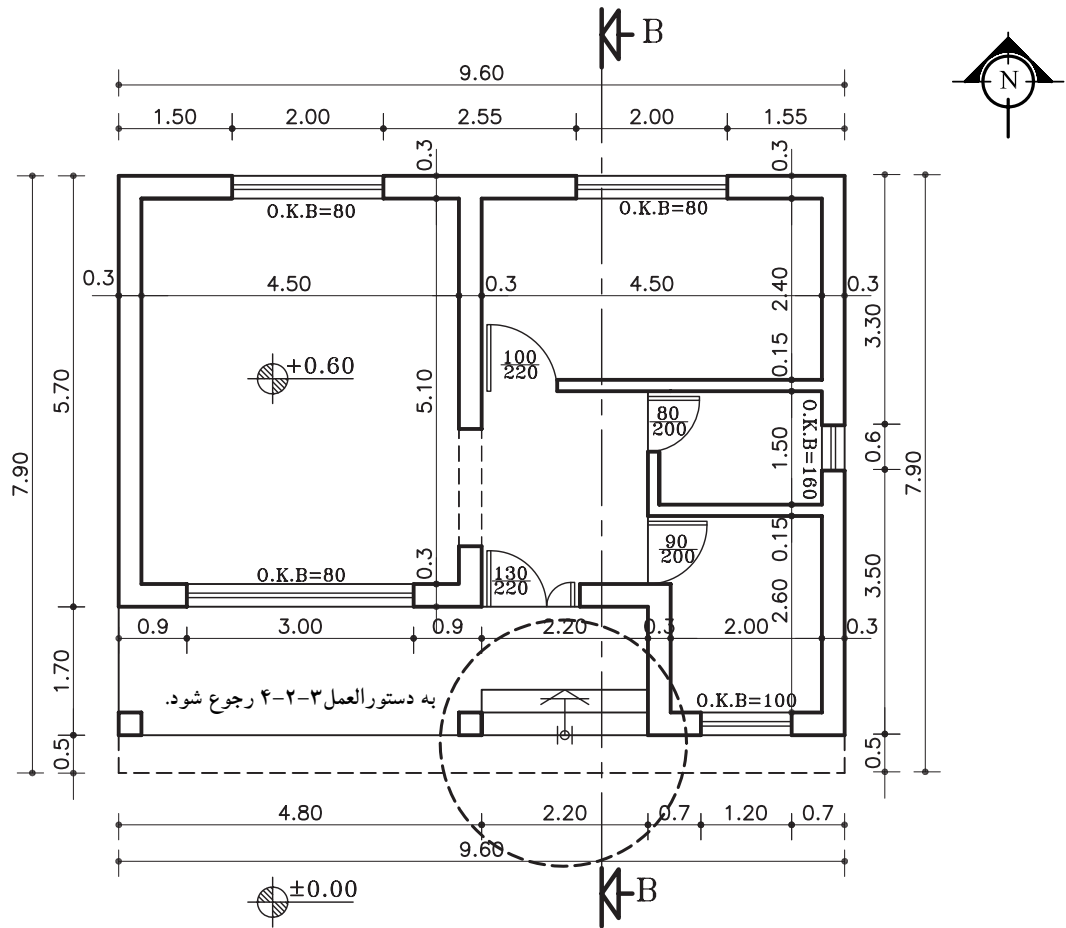


۵- درها و پنجره‌های برش خورده و نما را به صورت کامل ترسیم کرده، سپس کُگذاری و اندازه‌گذاری نمایید (شکل ۴-۳۴).



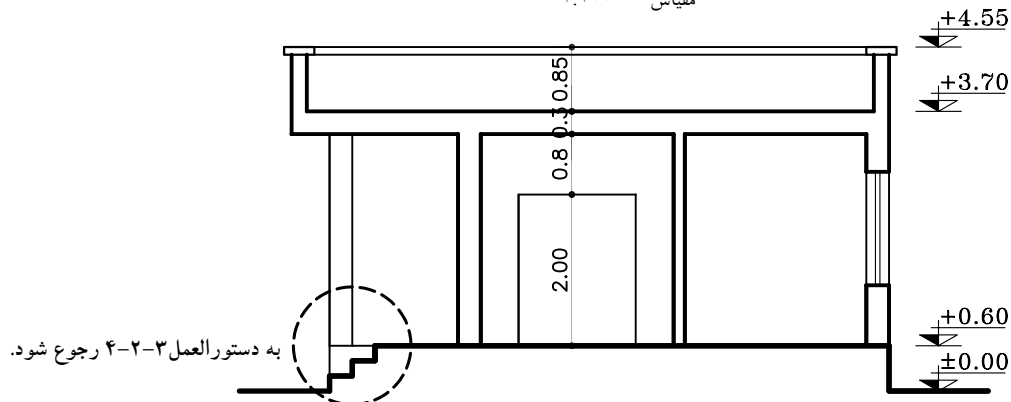


تمرین کارگاهی ۱: بر روی کاغذ A_3 ، پس از رسم جدول و کادر دور کاغذ، برش BB از پلان داده شده در شکل ۳۵-۴ را ترسیم نمایید.



پلان ساختمان سرایداری

مقیاس ۱:۱۰۰



SECTION BB

Sc. 1:100

-اندازه‌ی کف تا زیر سقف ۲۸۰ سانتی متر

-ضخامت سقف ۳۰ سانتی متر

-دست انداز پشت بام با قرنیز ۸۵ سانتی متر

شکل ۳۵-۴



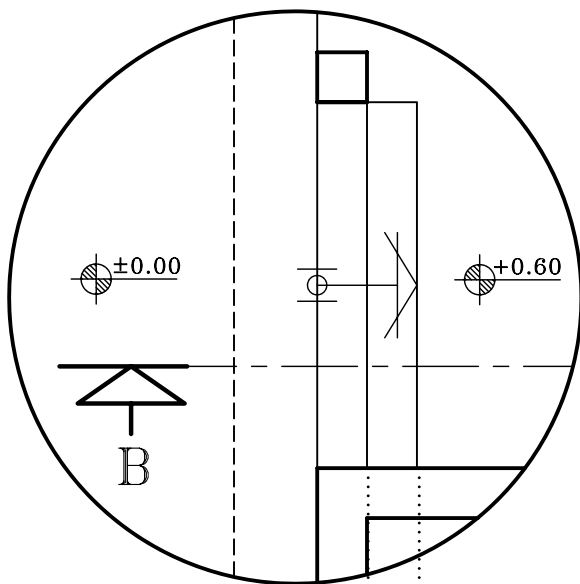
۳-۲-۴- دستورالعمل ترسیم پله دربرش:

می‌خواهیم برش پله‌ی مشخص شده‌ی درپلان شکل ۴-۳۵ را ترسیم نماییم. در شکل ۴-۳۶ برش BB از روی پله عبور کرده است، که باید برای ترسیم برش پله مطابق با مراحل زیر عمل کنید:

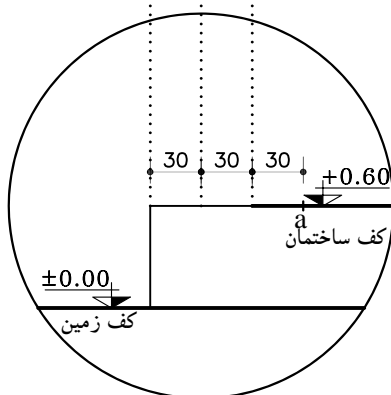
مراحل ترسیم برش پله:

۱- خطوط پله را از روی پلان به خط زمین منتقل کنید و روی خط اتمام پله در کف ساختمان به اندازه‌ی یک کف پله (۳۰ سانتی‌متر) جدا کرده و آن را a بنامید (شکل ۴-۳۷).

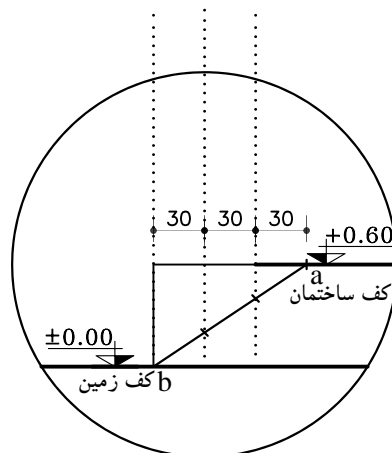
۲- از نقطه‌ی b (شروع اولین کف پله) به نقطه‌ی a (پایان آخرین کف پله) وصل کرده محل برخورد خط فوق را با خطوط عمودی (ارتفاع پله) مشخص نمایید (شکل ۴-۳۸).



شکل ۴-۳۶ پلان پله



شکل ۴-۳۷ مرحله‌ی اول

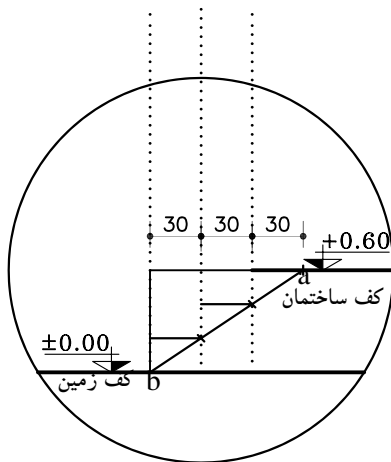


شکل ۴-۳۸ مرحله‌ی دوم

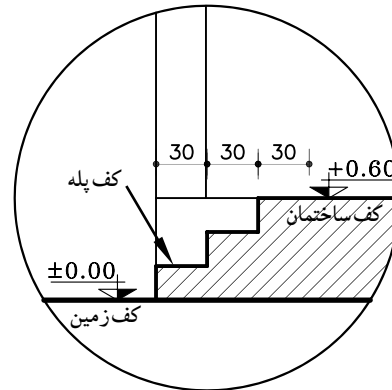


۳- از نقاطی که روی خط مؤرب مشخص نموده‌اید به خطوط پله به صورت افقی رسم نمایید. به این ترتیب کف پله‌ها ترسیم می‌شود (شکل ۳۹-۴).

۴- کف پله‌ها را با خط‌های عمودی (ارتفاع پله) به هم وصل نمایید. سپس خطوط اضافی را پاک کنید. نمای ستون، روی کف تراس را نیز در محل خود ترسیم کنید (شکل ۴۰-۴).



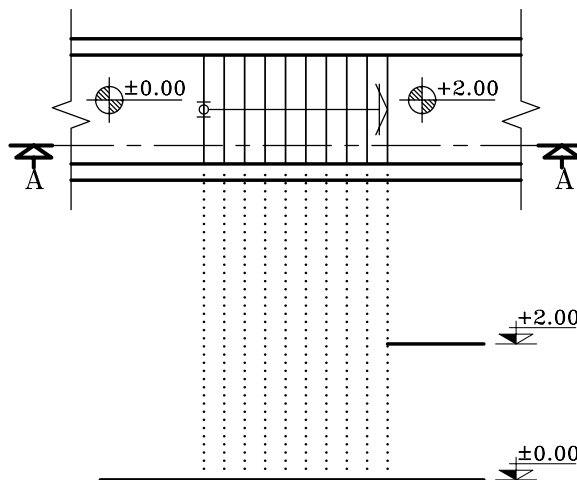
شکل ۳۹-۴ مرحله ی سوم



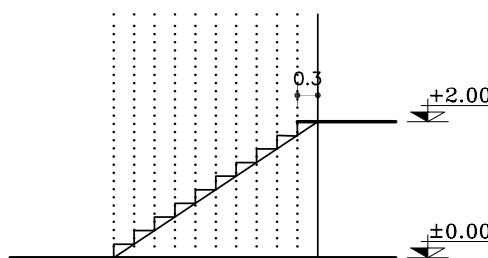
شکل ۴۰-۴ مرحله ی چهارم

۴-۲-۴- دستورالعمل ترسیم برش پله‌ی یک طرفه:

مراحل ترسیم:



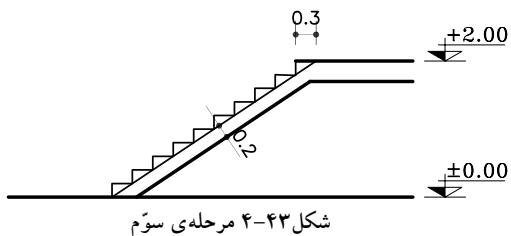
شکل ۴۱-۴ مرحله ی اوّل



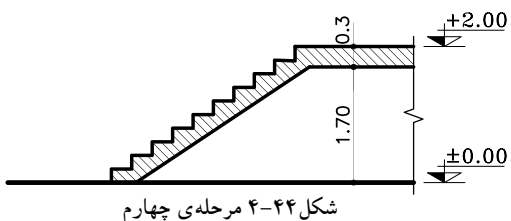
شکل ۴۲-۴ مرحله ی دوّم

۱- خط زمین را ترسیم کنید سپس خطوط کف پله را از روی پلان بر خط زمین منتقل نمایید. با توجه به گذار ارتفاع پاگرد (+2.00)، خط پاگرد را رسم کرده و امتداد دهید تا آخرین خط پله را قطع نماید (شکل ۴۱-۴).

۲- روی خط پاگرد را به اندازه‌ی، یک کف پله (۳۰ سانتی متر) جدا کنید و به شروع اولین پله وصل نمایید. به کمک خط مؤرب ترسیم شده ارتفاع و کف پله‌ها را ترسیم نمایید (شکل ۴۲-۴).

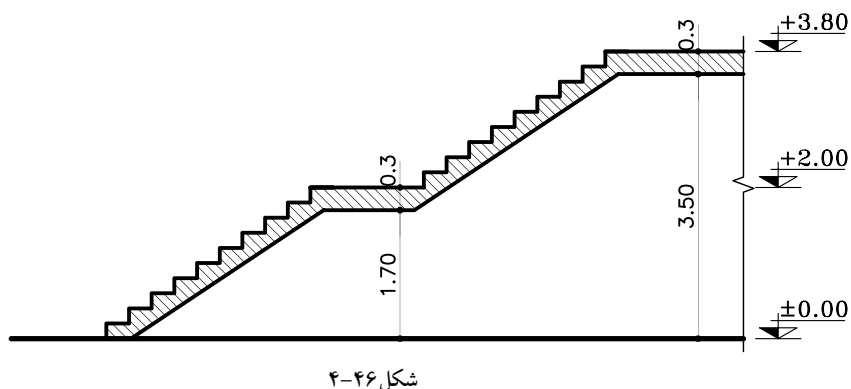
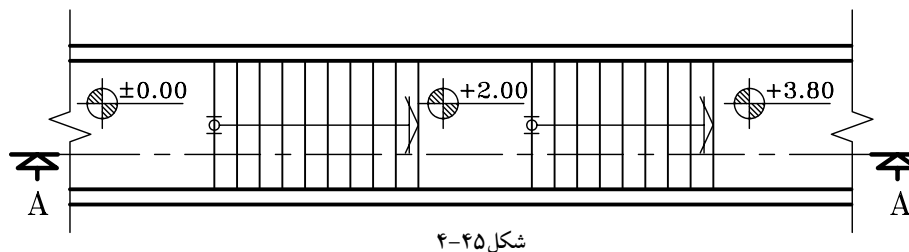


۳- خطی موازی با پاگرد در قسمت زیر پاگرد به فاصله ی ضخامت پاگرد ترسیم نمایید و خط حجم را موازی خط شیب پله با فاصله ۲۰ سانتی متر ترسیم نمایید (شکل ۴-۴۳).



۴- خطوط اضافه را پاک کنید و قسمت های برش خورده ی پله ها را پُررنگ نمایید (شکل ۴-۴۴).

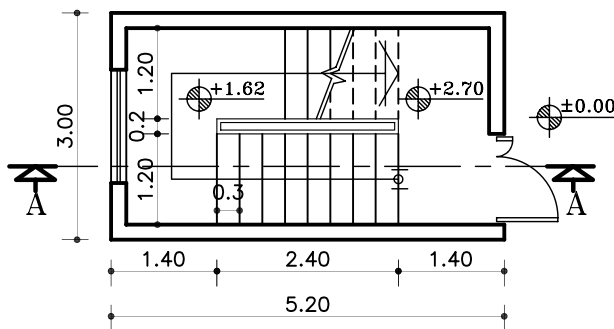
تمرین کارگاهی ۲: بر روی کاغذ A_3 ، پس از رسم جدول و کادردور کاغذ، برش AA از پلان پله ی یک طرفه با پاگرد میانی در شکل ۴-۴۵ را ترسیم نمایید.
در شکل ۴-۴۶ برش AA از پله ی مذکور نمایش داده شده است.



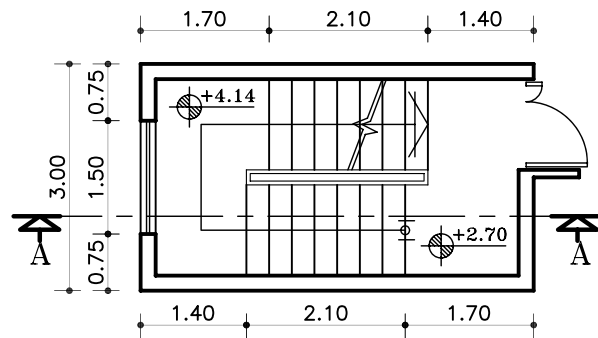


۵-۲-۴- دستورالعمل ترسیم برش پله‌ی دو طرفه:

می‌خواهیم برشی از پله‌ی دو طرفه‌ای ترسیم کنیم، که پلان‌های آن در طبقات اول و طبقات دیگر در شکل ۴۷-۴۶ نشان داده شده است. با توجه به گداهای مشخص شده می‌توان ارتفاع هر پله را محاسبه نمود.

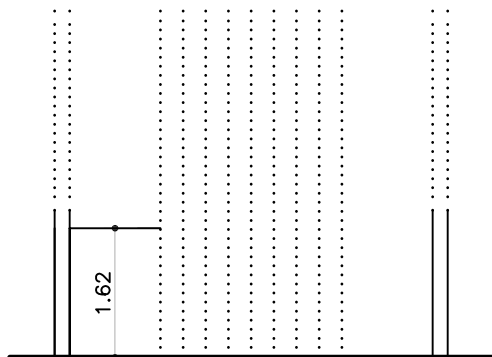


پلان طبقه‌ی اول



پلان طبقات

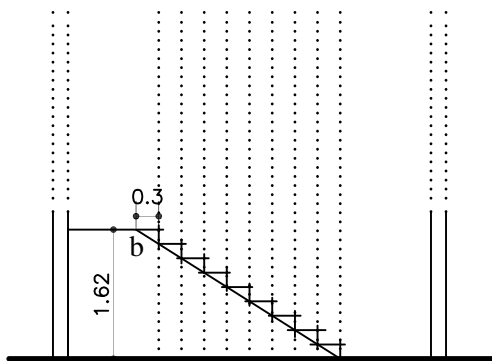
شکل ۴۷-۴۶



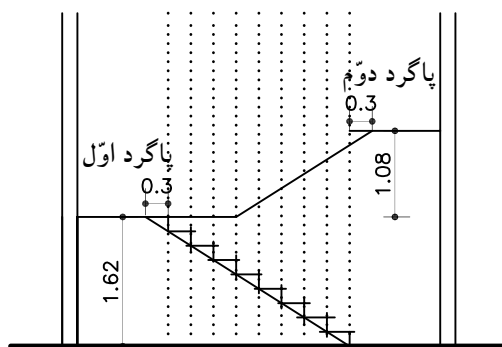
شکل ۴۸-۴۷

۱- ابتدا دیوارها و خطوط پله را روی خط زمین انتقال دهید. با توجه به جهت شروع پله‌ها و ارتفاع پله‌های بازوی اول، موقعیت اولین پاگرد را مشخص نمایید (شکل ۴۸-۴۷).

۲- روی خط پاگرد به اندازه‌ی یک کف پله (۳۰ سانتی‌متر) جلوتر بروید و نقطه‌ی به دست آمده‌ی (b) را به نقطه‌ی شروع پله‌ها (a) وصل کنید. سپس از نقاط برخورد خط مورب با خطوط عمودی، ارتفاع پله‌ها را ترسیم نمایید (شکل ۴۹-۴۷).



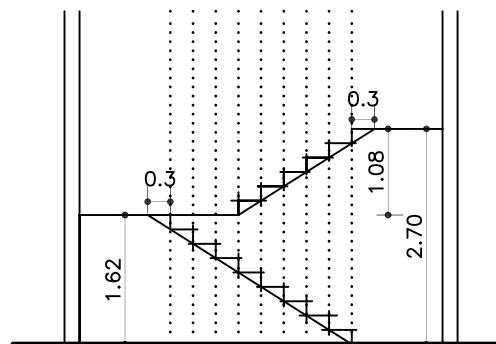
شکل ۴۹-۴۷



شکل ۴-۵۰

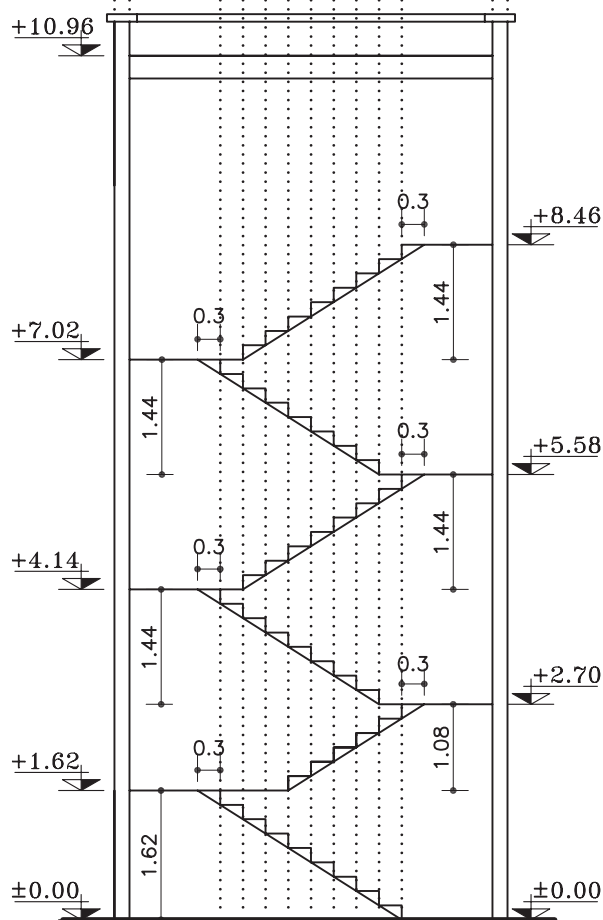
۳- از راستای پاگرد اول به اندازه‌ی ارتفاع پله‌های بازوی دوم بالا بروید و پاگرد دوم را مشخص کنید (شکل ۴-۵۰).

۴- مطابق با مرحله‌ی دوم عمل نموده و پله‌های ردیف دوم را ترسیم نمایید (شکل ۴-۵۱).



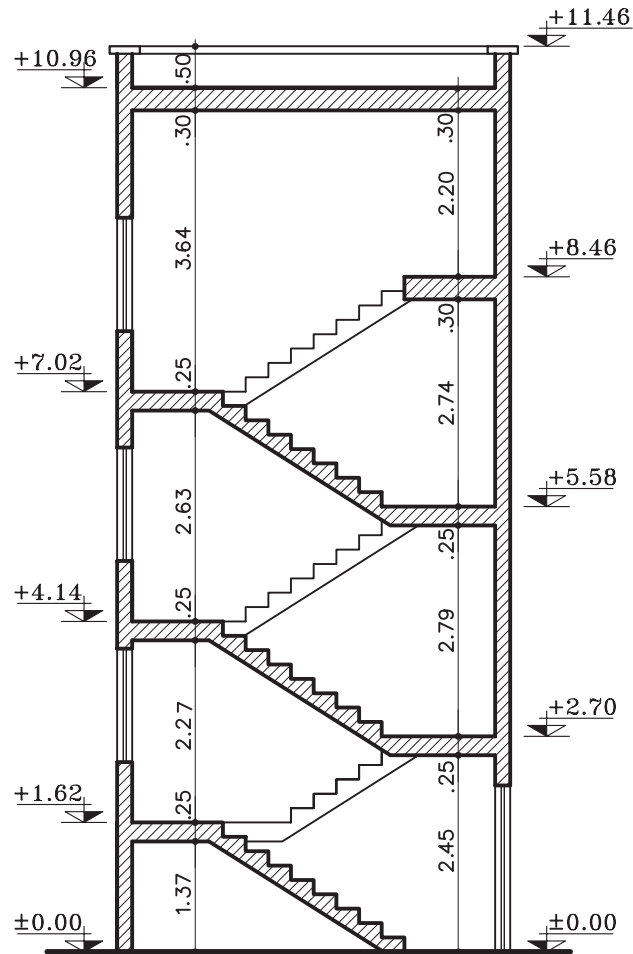
شکل ۴-۵۱

۵- مرحله‌ی یک تا چهار را برای طبقات بعدی هم تکرار کنید (شکل ۴-۵۲).



شکل ۴-۵۲

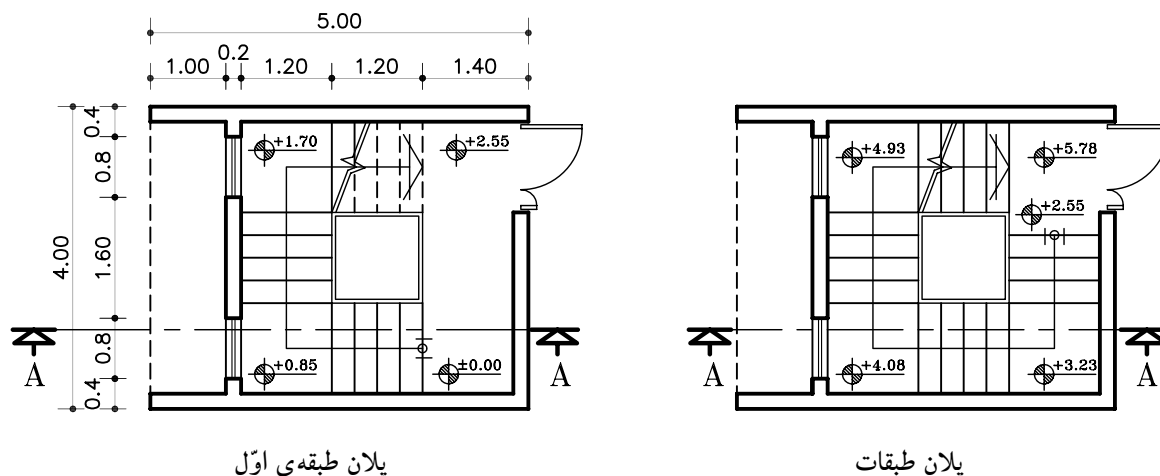
۶- بعد از اطمینان از ترسیم صحیح، ضخامت پاگردها و حجم پله را مشخص کنید. سپس با توجه به خط برش، پله‌های برش خورده را ضخیم نمایید (شکل ۵۳-۴).



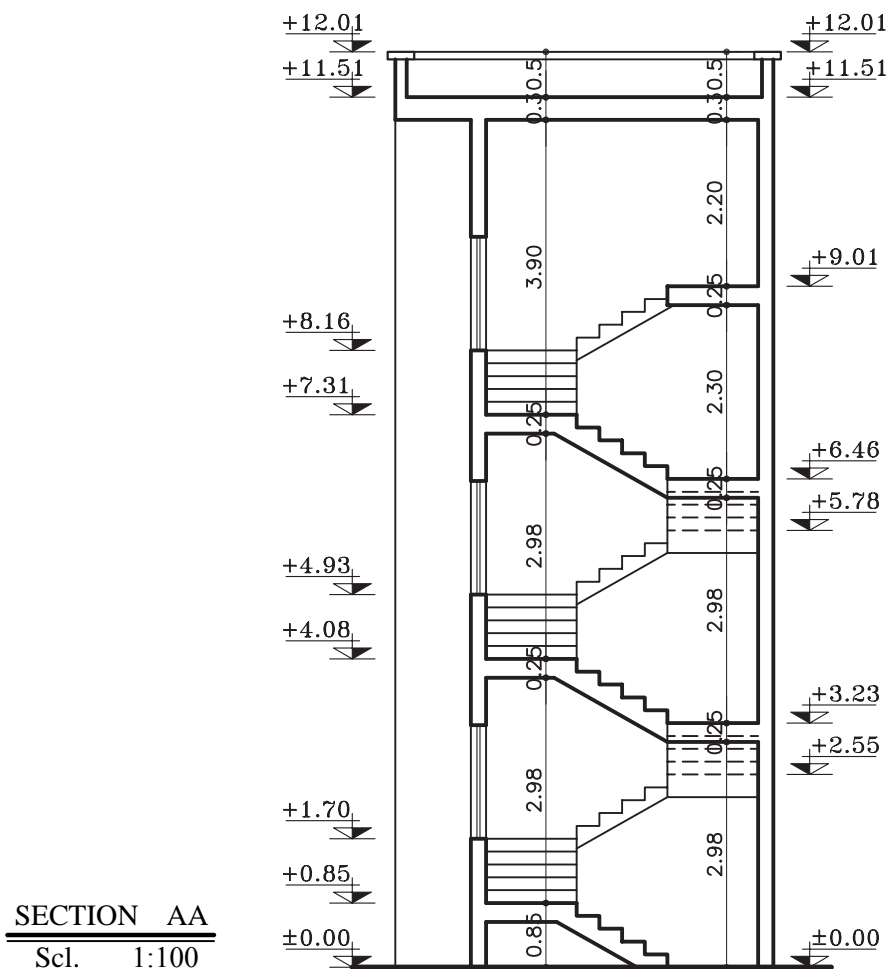
SECTION	AA
Sc.	1:100



تمرین کارگاهی ۳: بر روی کاغذ A_3 ، پس از رسم جدول و کادر دور کاغذ، برش AA از پلان پله‌ی سه طرفه در شکل ۴-۵۴ را ترسیم نمایید.
 شکل ۴-۵۵ برش AA از پله‌ی مذکور نمایش داده شده است.



شکل ۴-۵۴



شکل ۴-۵۵



۴-۲-۶- دستورالعمل اندازه گذاری و کُگذاری

دربرش ها:

اندازه گذاری، آکس بندی و کُگذاری کامل، دقیق و خوانا برای تمام ترسیمات از جمله برش ها نیز ضروری است. در این دستورالعمل با نمایش یک برش از پلان داده شده، مراحل اندازه گذاری کامل بر روی آن توضیح داده می شود.

در شکل ۴-۵۶ برش AA از پلان ۴-۵۷ و ۴-۵۸ ترسیم شده است. پلان ها، متعلق به ساختمانی دوطبقه با زیرزمین می باشد که دارای مشخصات زیر است.

- ارتفاع کف تا کف در طبقه ی زیرزمین ۲۸۵ سانتی متر

- ارتفاع کف تا کف در طبقات ۳۰۴ سانتی متر

- ارتفاع کف تا کف اتاقک خریشته ۲۵۰ سانتی متر

- ضخامت سقف ۳۰ سانتی متر

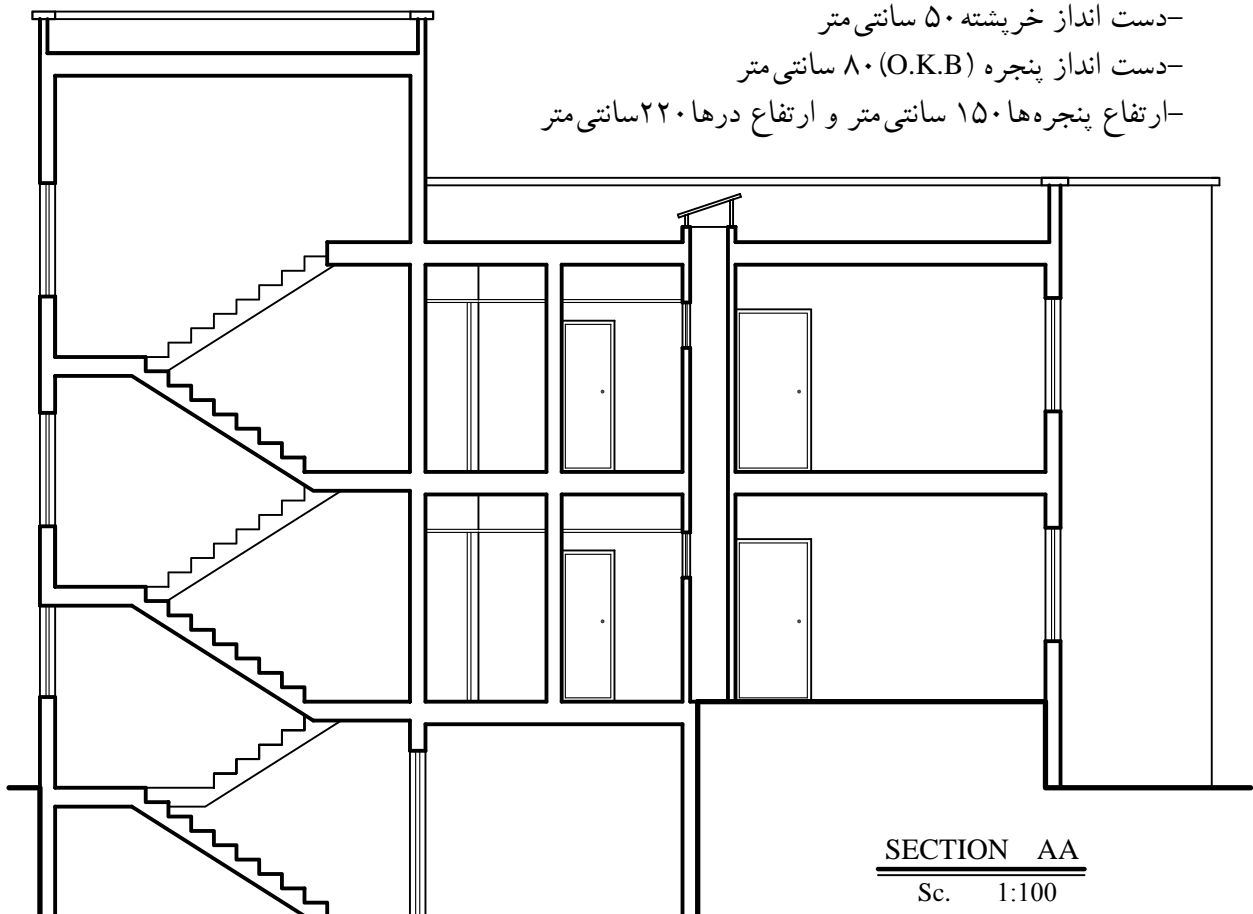
- ضخامت قرنیز ۵ سانتی متر

- دست انداز پشت بام ۸۰ سانتی متر

- دست انداز خریشته ۵۰ سانتی متر

- دست انداز پنجره (O.K.B) ۸۰ سانتی متر

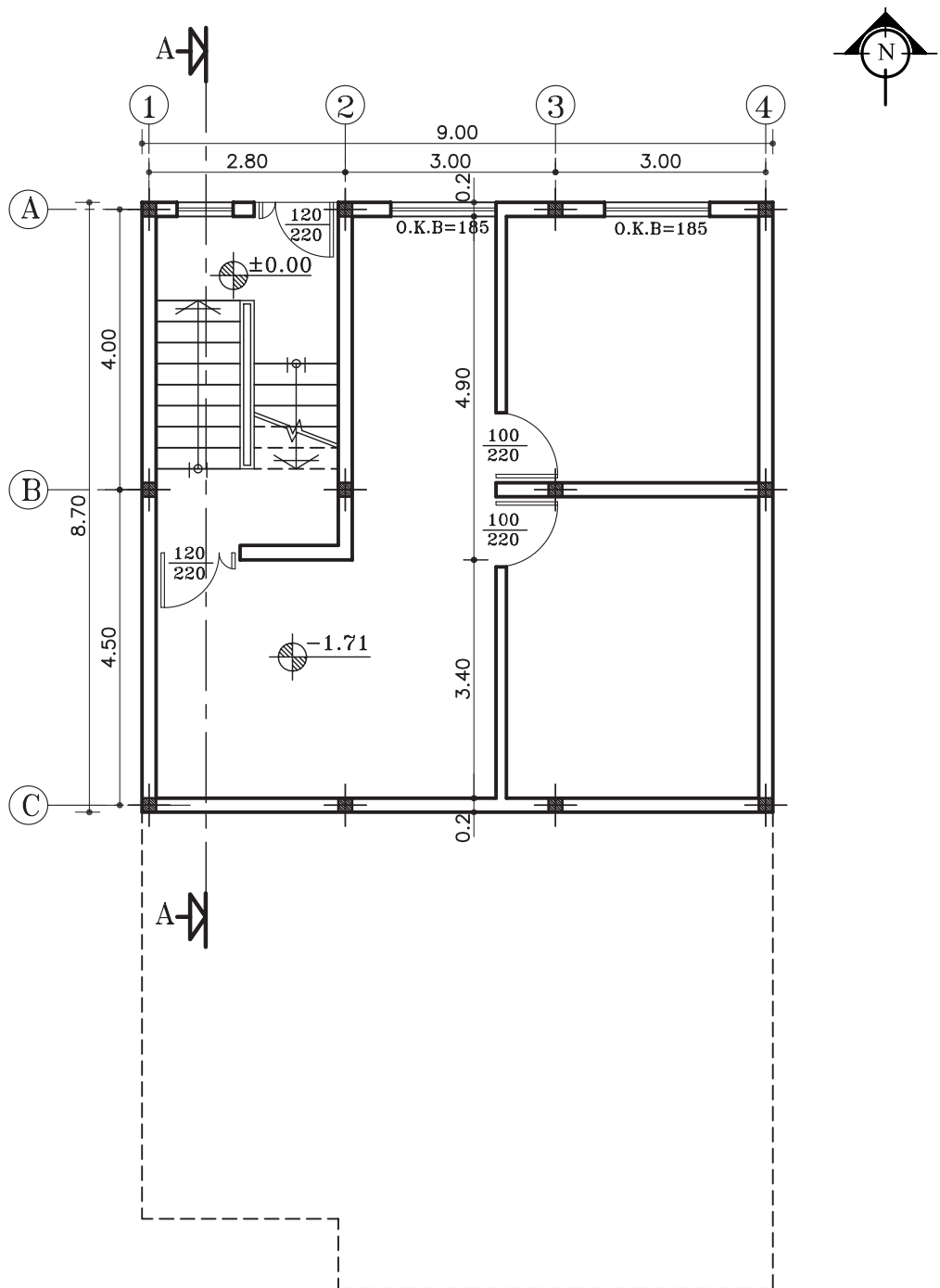
- ارتفاع پنجره ها ۱۵۰ سانتی متر و ارتفاع درها ۲۲۰ سانتی متر



SECTION AA

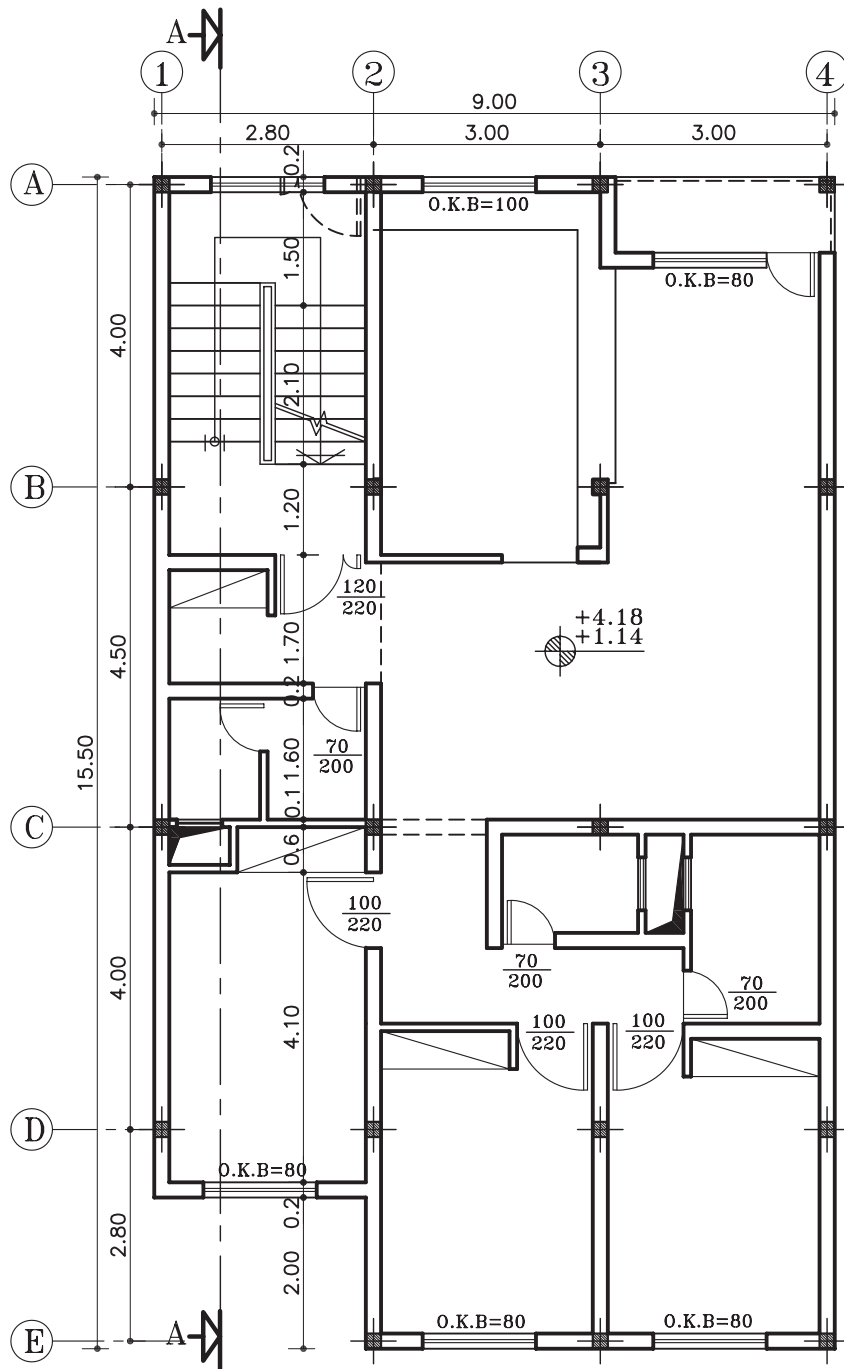
Sc. 1:100

شکل ۴-۵۶



پلان زیرزمین

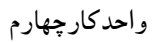
مقیاس ۱:۱۰۰



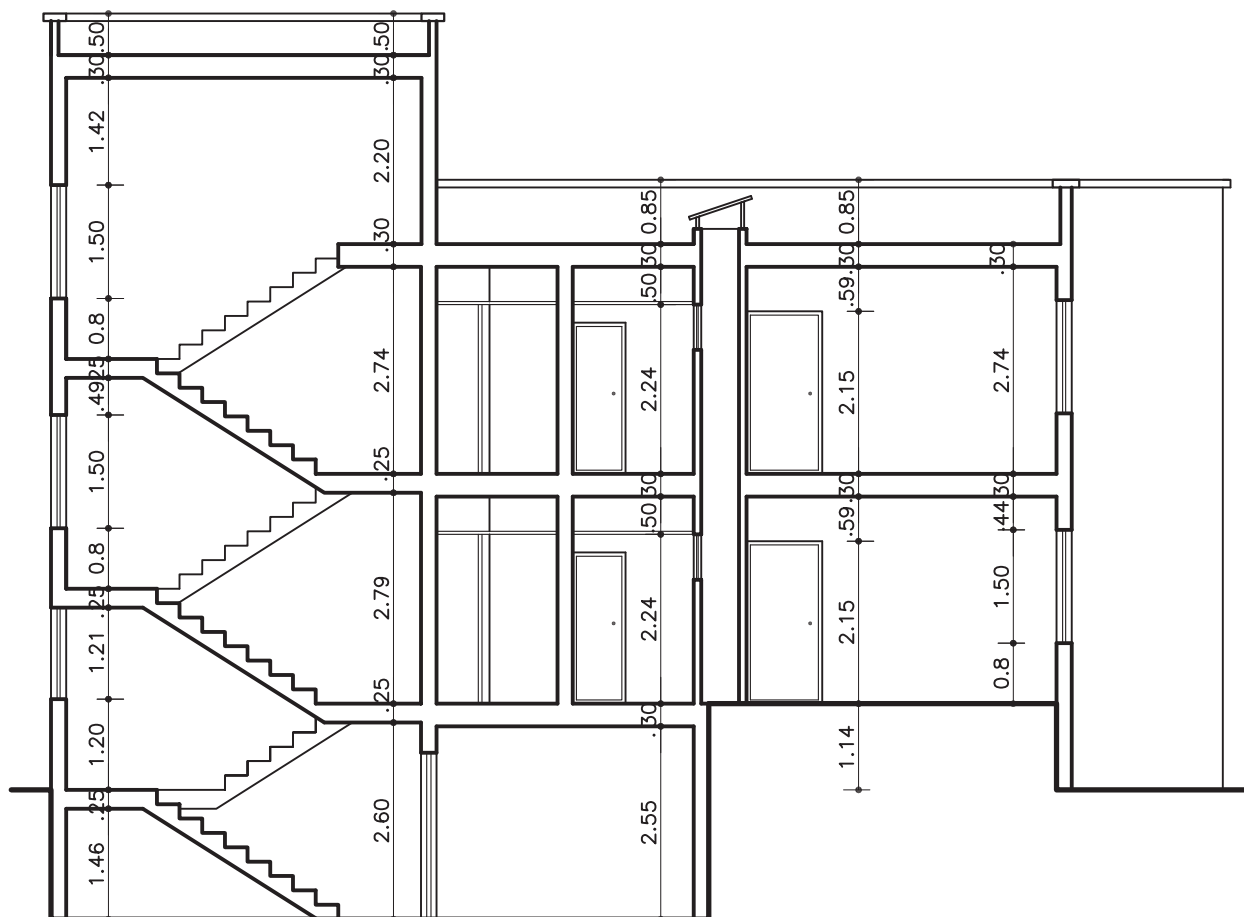
پلان طبقات

مقیاس ۱:۱۰۰

شکل ۵۸-۴



در برش‌ها اندازه‌گذاری به صورت عمودی انجام می‌گیرد. ارتفاع در، ارتفاع پنجره و دیوار دست‌انداز آن، ارتفاع دیوار جان‌پناه، ضخامت سقف و قرنیز در اندازه‌گذاری عمودی ترسیم می‌شود (شکل ۵۹-۴).



SECTION	AA
Sc.	1:100



(ب) کُدگذاری برش:

در برش ها کُدگذاری برای هر کف انجام می گیرد.
کف زیرزمین، کف طبقات، کف پشت بام، لبه ی پشت بام
و کف پاگرد راه پله ها کُدگذاری می شود (شکل ۶۰-۴).

اعداد کُد، نسبت به عدد مبنا یعنی ± 0.00 محاسبه

می شود.

بنابراین در برش شکل ۶۰-۴، ابتدا کُد مبنا ± 0.00
سپس کُد کف طبقه ی اول $+114$ (به دلیل بالا بودن از سطح
مبنا آن را مثبت در نظر می گیرند) و کُد کف زیرزمین -171
(به دلیل پایین بودن از سطح مبنا آن را منفی در نظر
می گیرند) را مشخص کنید. ادامه ی محاسبه کدها را به
ترتیب زیر عمل نمایید.

۱- کُد کف زیرزمین -171 سانتی متر

۲- کُد سطح مبنا ± 0.00

۳- کُد کف طبقه ی اول $+114$ سانتی متر

۴- کُد کف طبقه ی دوم = کُد کف طبقه ی اول + اندازه ی ارتفاع کف تا کف طبقه ی اول

$$30.4 + 114 = 418$$

۵- کُد کف پشت بام = کُد کف طبقه ی دوم + اندازه ی ارتفاع کف تا کف طبقه ی دوم

$$30.4 + 418 = 722$$

۶- کُد لبه ی پشت بام = کُد کف پشت بام + اندازه ی ارتفاع دیوار جان پناه و ضخامت قرنیز

$$5 + 80 + 722 = 807$$

۷- کُد کف پاگرد اول = ارتفاع کل پله های طبقه ی اول + کُد سطح مبنا

$$0 + (14 \times 19) = 266$$

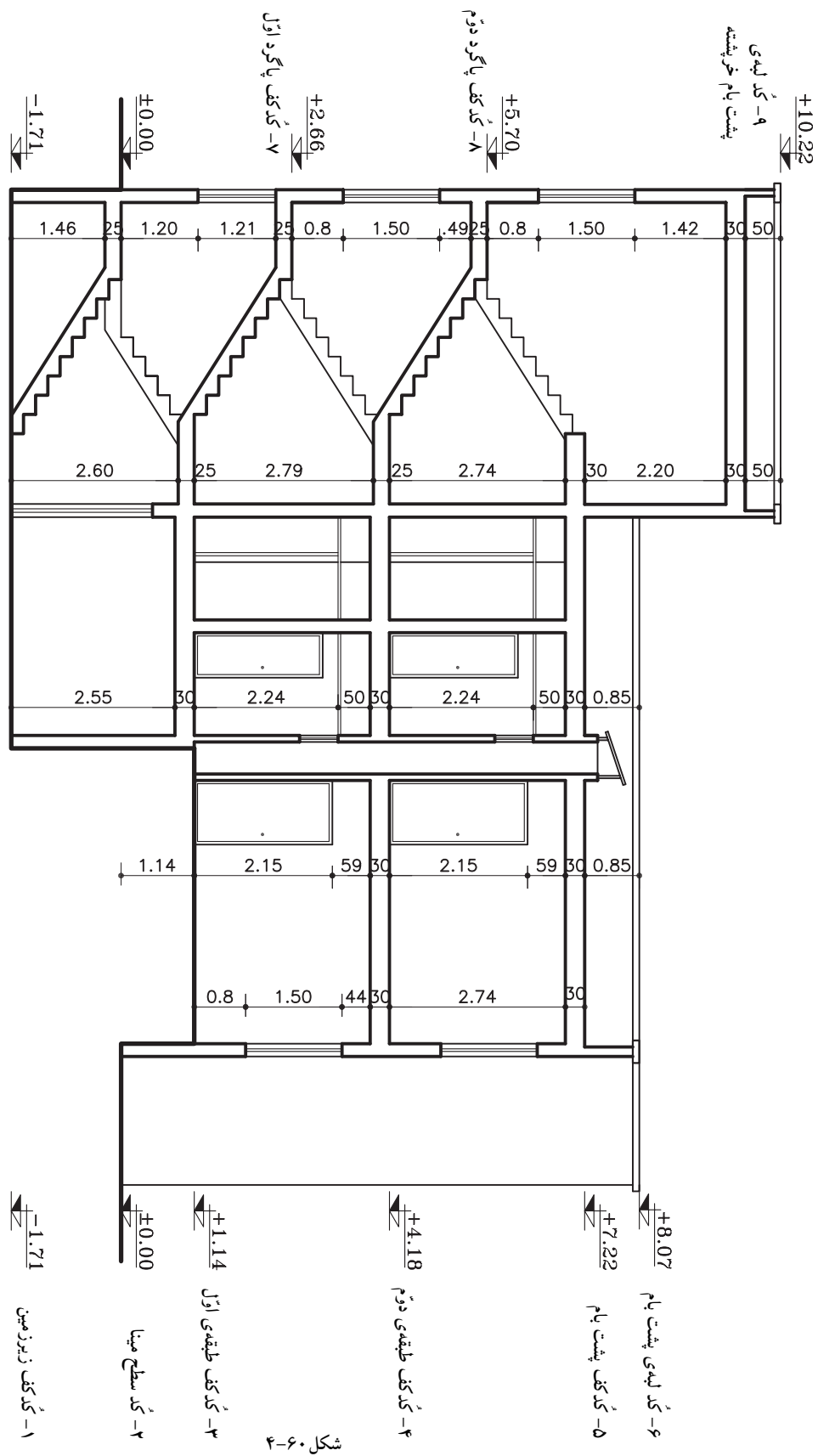
۸- کُد کف پاگرد دوم = ارتفاع کل پله های طبقه ی دوم + کُد کف پاگرد اول

$$266 + (16 \times 19) = 570$$

۹- کُد لبه ی پشت بام خرپشته = کُد کف پشت بام + ارتفاع کف تا کف خرپشته + اندازه ی ارتفاع دیوار

جان پناه و ضخامت قرنیز

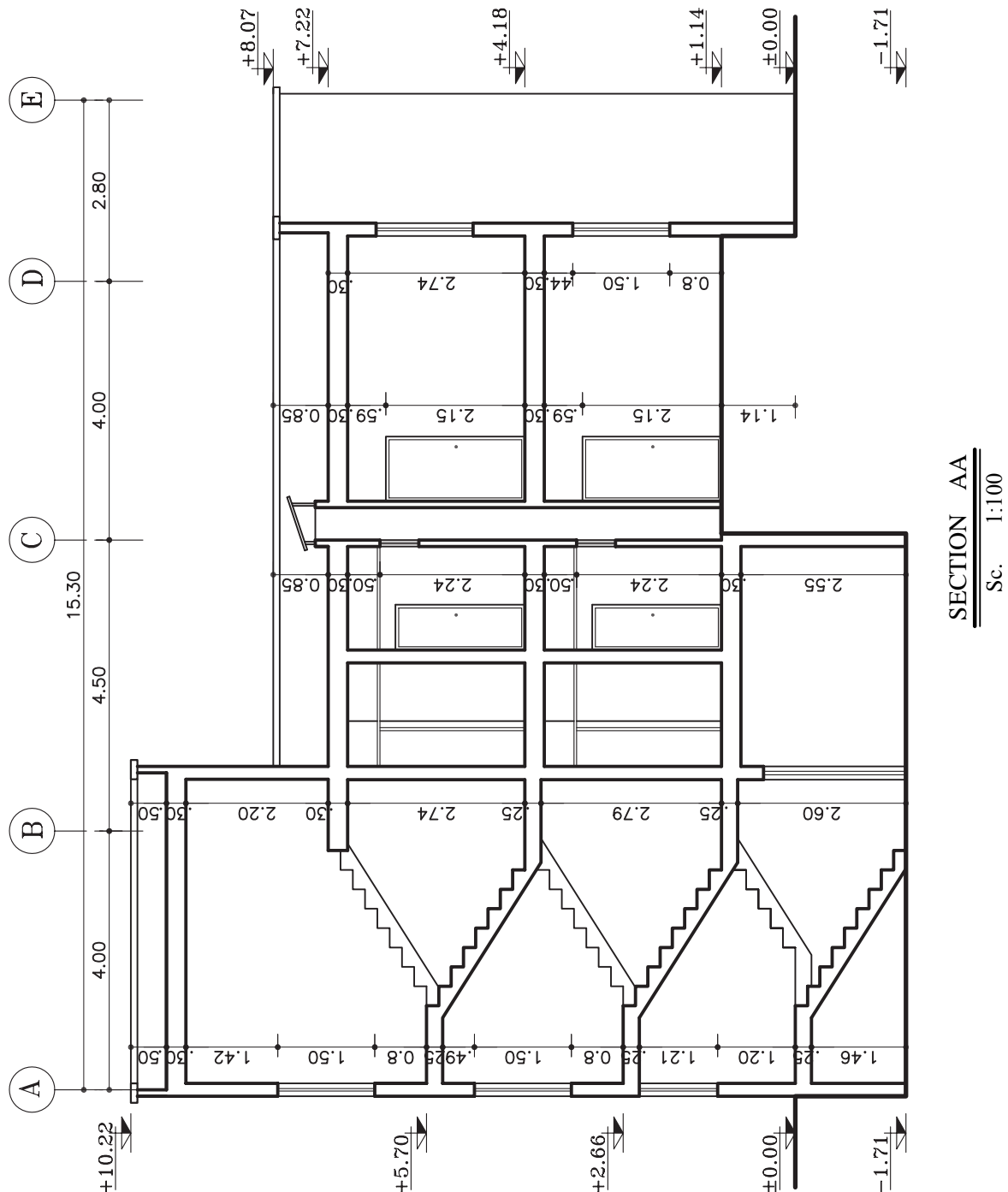
$$50 + 250 + 722 = 1022$$



SECTION AA
Sc. 1:100

دربش‌ها آکس‌بندی نیز مشخص می‌گردد. بدین ترتیب محل ستون‌ها را با محورهای آکس که درهنگام ترسیم برش دیده می‌شوند نمایش می‌دهند (شکل ۶۱-۴).

پس از ترسیم دقیق آکس‌ها، می‌توان فاصله‌ی بین آن‌ها را نیز اندازه‌گذاری نمود. آکس‌بندی و اندازه‌ی مابین باید با آکس‌های داخل پلان هم‌خوانی داشته باشد.



شکل ۴-۶۱

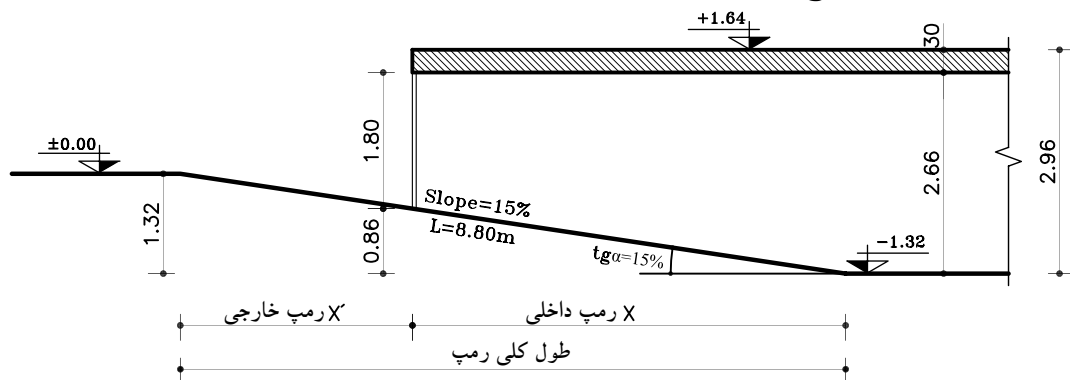


۷-۲-۴- دستورالعمل محاسبه ی طول رمپ و ترسیم

برش آن:

در تمرین کارگاهی ۴ لازم است برشی از رمپ ترسیم گردد، که قبل از آن نیاز به محاسبه ی طول آن می باشد.

محاسبه ی رمپ در ساختمان بستگی به نحوه ی قرارگیری آن در ساختمان دارد. معمولاً رمپ یا در داخل ساختمان قرار می گیرد که به آن «رمپ داخلی» و یا در خارج ساختمان قرار دارد که به آن «رمپ خارجی» گویند و اگر بخشی از رمپ در داخل و بخشی در خارج ساختمان قرار داشته باشد آن رمپ را «داخلی-خارجی» می نامند. در این تمرین رمپ از نوع «داخلی-خارجی» می باشد (شکل ۴-۶۲).



شکل ۴-۶۲

الف) محاسبه ی طول رمپ:

- معلومات
- ارتفاع کف زیرزمین تا زیرسقف = ضخامت سقف - ارتفاع کل کف تا کف
سانتی متر ۲۶۶ = ۳۰ - ۲۹۶
 - اختلاف ارتفاع کف زیرزمین تا زیر در پارکینگ = ارتفاع در پارکینگ - ارتفاع کف زیرزمین تا زیرسقف
سانتی متر ۸۶ = ۱۸۰ - ۲۶۶
 - مراحل محاسبه:
 - ۱۳۲ سانتی متر = ارتفاع عمودی رمپ
 - ۱۵ درصد = شیب کلی رمپ

ارتفاع-متر	طول-متر
۱۵	۱۰۰
۱۳۲	?



$$\frac{100 \times 132}{15} = \text{طول کل رمپ}$$



سانتی متر ۸۸۰ = طول کل رمپ

ارتفاع-متر	طول-متر
۱۵	۱۰۰
۸۶	x



$$\frac{100 \times 86}{15} = x$$



سانتی متر ۵۷۰ = x (رمپ داخلی)

- رمپ بیرونی (x') = طول رمپ داخلی (x) - طول کلی رمپ



سانتی متر ۳۱۰ = ۵۷۰ - ۸۸۰

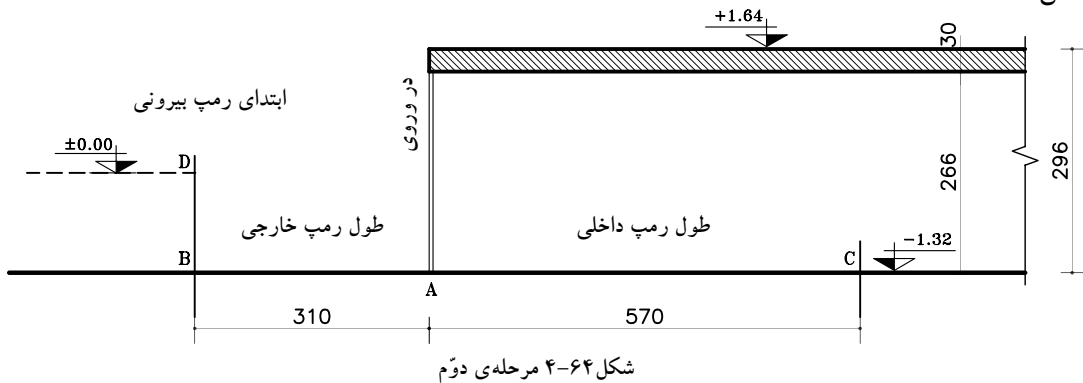


ب) مراحل ترسیم رمپ در برش:

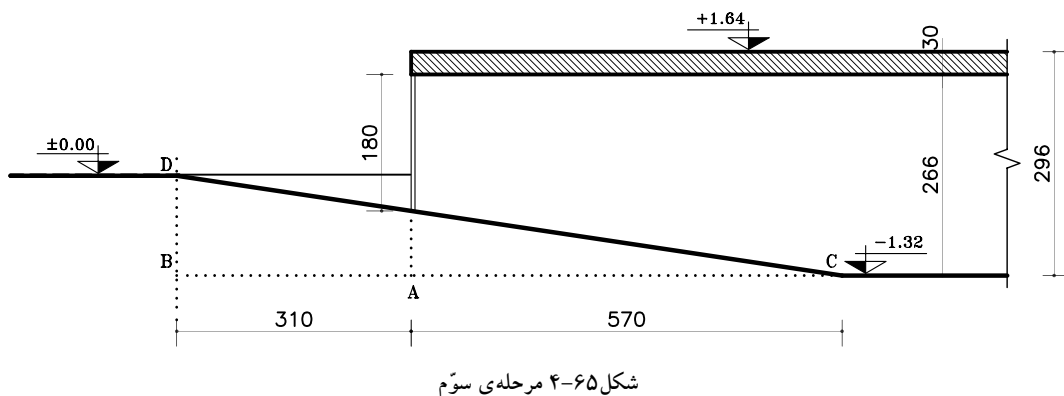
- ۱- از نقطه‌ی A محل اتصال در پارکینگ به کف زیرزمین و بر روی کف زیرزمین، طول رمپ داخلی (سانتی متر ۵۷۰) را مشخص نموده و آن را C بنامید. (X= مجدداً از همان نقطه‌ی A طول رمپ خارجی را نیز (سانتی متر ۳۱۰ = x') مشخص کرده و آن را B بنامید (شکل ۴-۶۳).



- ۲- در راستای نقطه‌ی B ابتدای رمپ خارجی را روی خط زمین، در سطح ± 0.00 مشخص کرده و آن را D بنامید (شکل ۴-۶۴).



- ۳- سپس از نقطه‌ی D ابتدای رمپ خارجی را به نقطه‌ی C انتهای رمپ داخلی وصل نموده و خطوط اصلی شیب رمپ را پُررنگ کنید (شکل ۴-۶۵).





تمرین کارگاهی ۴: شکل ۶۶-۴ و شکل ۶۷-۴ پلان‌های ساختمان تک واحدی در دو طبقه مسکونی و یک طبقه زیرزمین می‌باشد که دارای مشخصات زیر است.

- ارتفاع کف تا کف در طبقه زیرزمین ۲۹۶ سانتی‌متر

- ارتفاع کف تا کف در طبقات ۳۰۶ سانتی‌متر

- ارتفاع کف تا کف اتاقک خریشته ۲۵۰ سانتی‌متر

- ضخامت سقف ۳۰ سانتی‌متر

- ضخامت قرنیز ۵ سانتی‌متر

- دست انداز پشت بام ۸۰ سانتی‌متر

- دست انداز خریشته ۵۰ سانتی‌متر

- دست انداز پنجره (O.K.B) ۸۰ سانتی‌متر

- ارتفاع پنجره‌ها ۱۵۰ سانتی‌متر

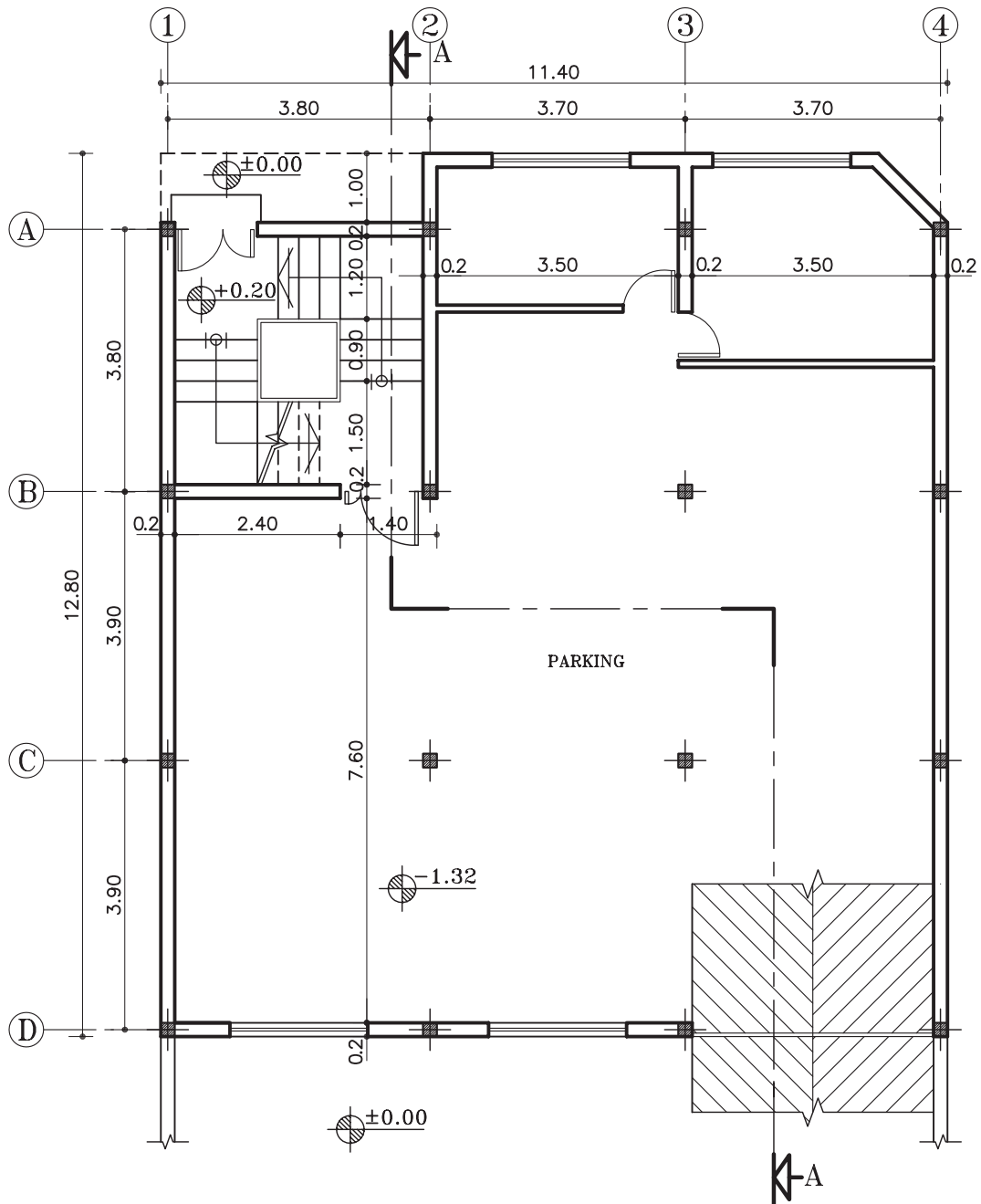
- ارتفاع درها ۲۲۰ سانتی‌متر

- شیب رامپ ۱۵ درصد

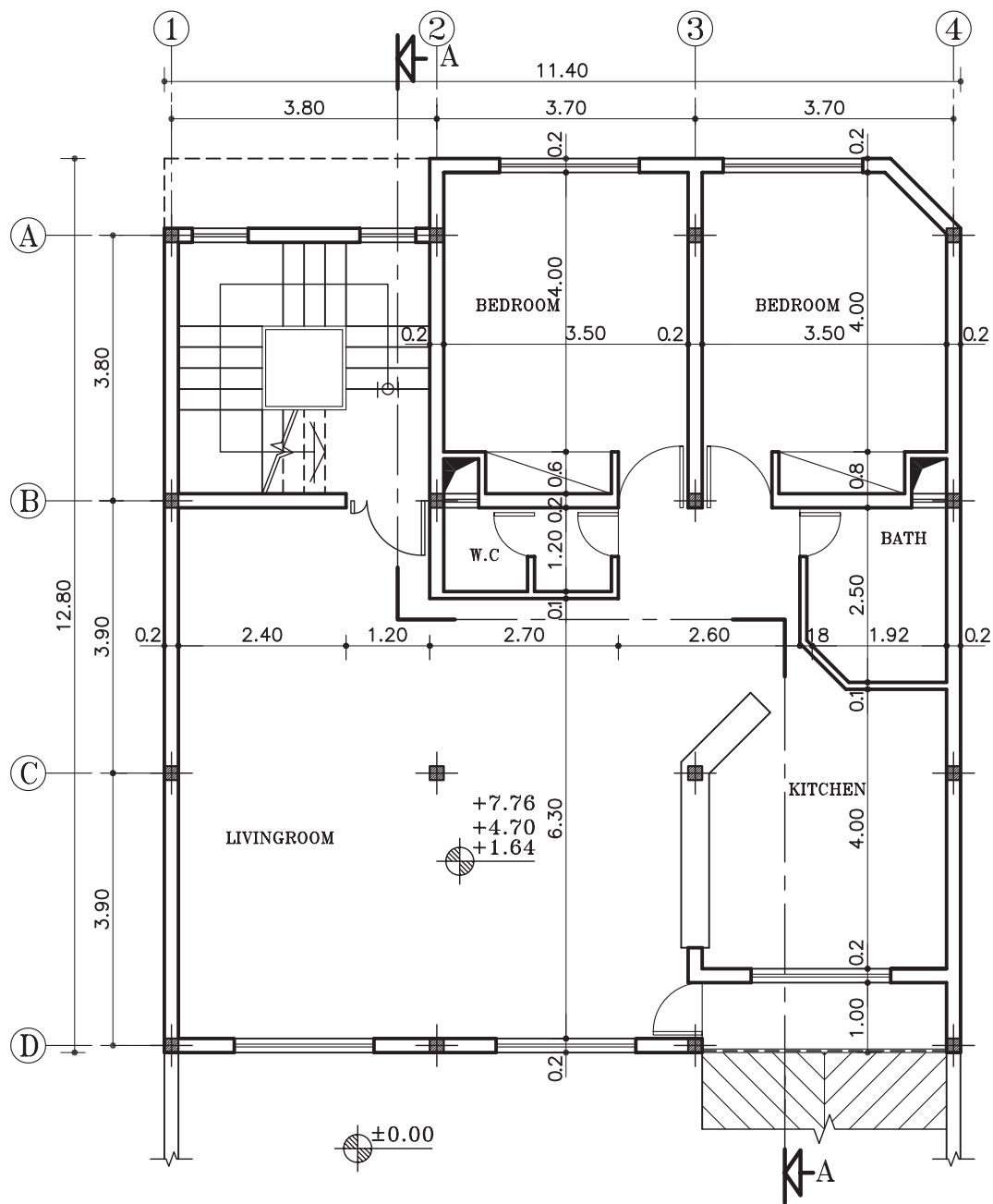
- ارتفاع در پارکینگ ۱۸۰ سانتی‌متر

مطلوب است: ۱- محاسبه‌ی طول رامپ داخلی و خارجی و طول کل.

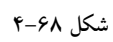
۲- ترسیم برش AA با مقیاس $\frac{1}{100}$



مقیاس ۱:۱۰۰



پلان طبقات
مقیاس ۱:۱۰۰

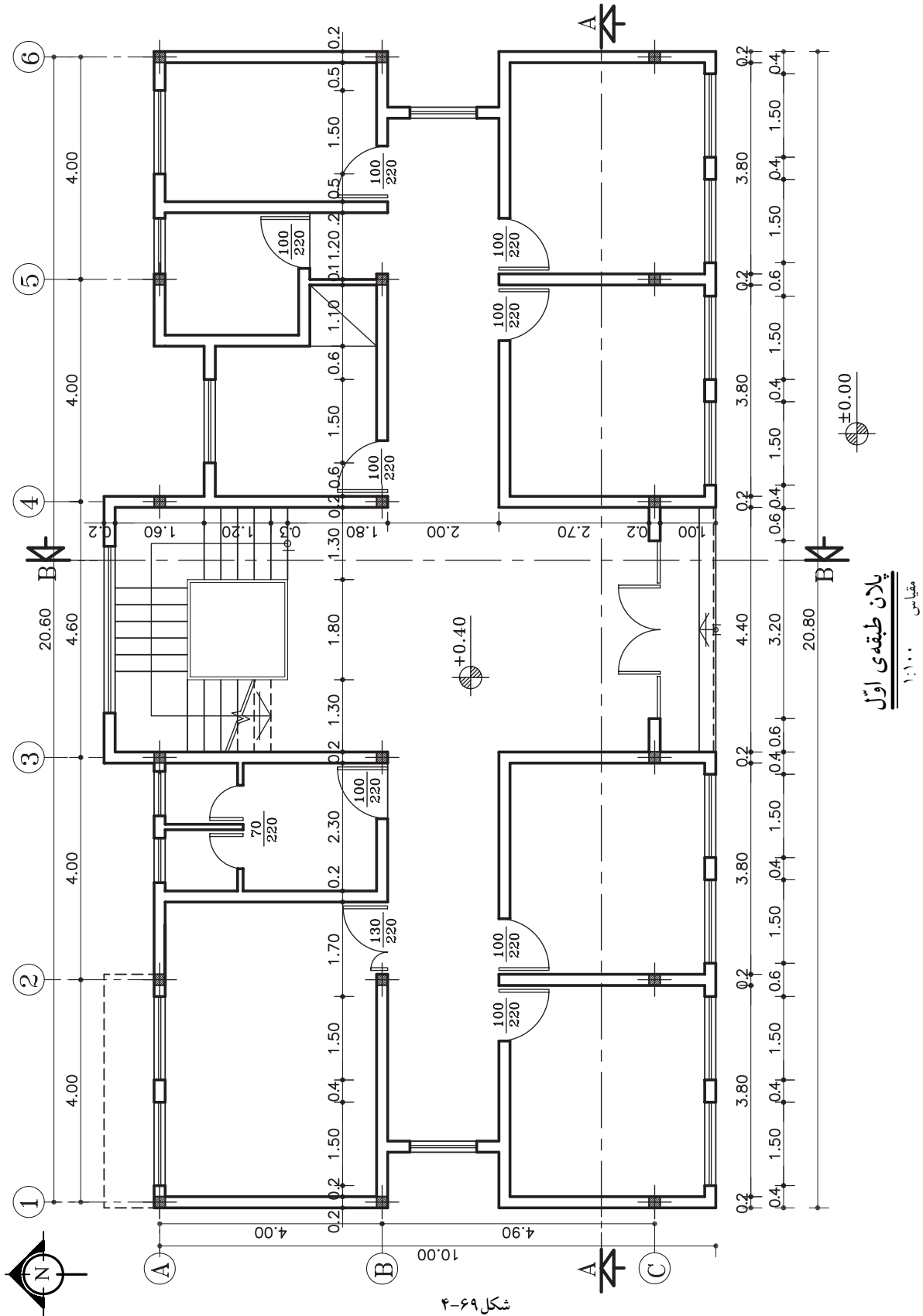


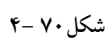
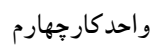


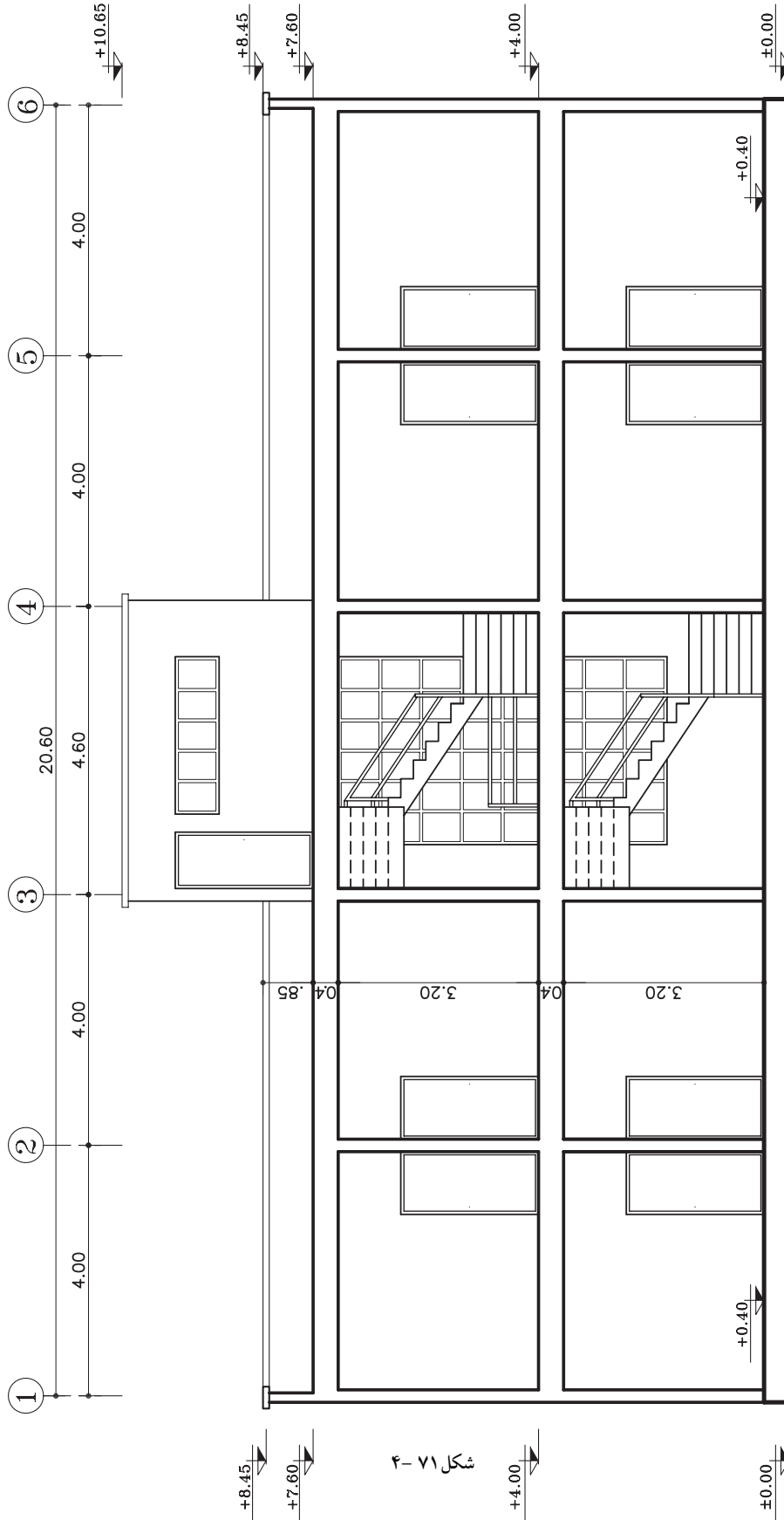
تمرین کارگاهی ۵: شکل ۶۹-۴ و شکل ۷۰-۴ پلان‌های ساختمان اداری در دو طبقه می باشد که دارای مشخصات زیر است.

- ارتفاع کف تا کف در طبقات ۳۶۰ سانتی متر
- ارتفاع کف تا کف اتاقک خریشته ۲۶۰ سانتی متر
- ضخامت سقف ۴۰ سانتی متر
- ضخامت پاگرد ۲۵ سانتی متر
- ضخامت قرنیز ۵ سانتی متر
- دست انداز پشت بام ۸۰ سانتی متر
- دست انداز خریشته ۵۰ سانتی متر
- دست انداز پنجره (O.K.B) ۸۰ سانتی متر
- ارتفاع پنجره ها ۱۵۰ سانتی متر
- ارتفاع درها ۲۲۰ سانتی متر

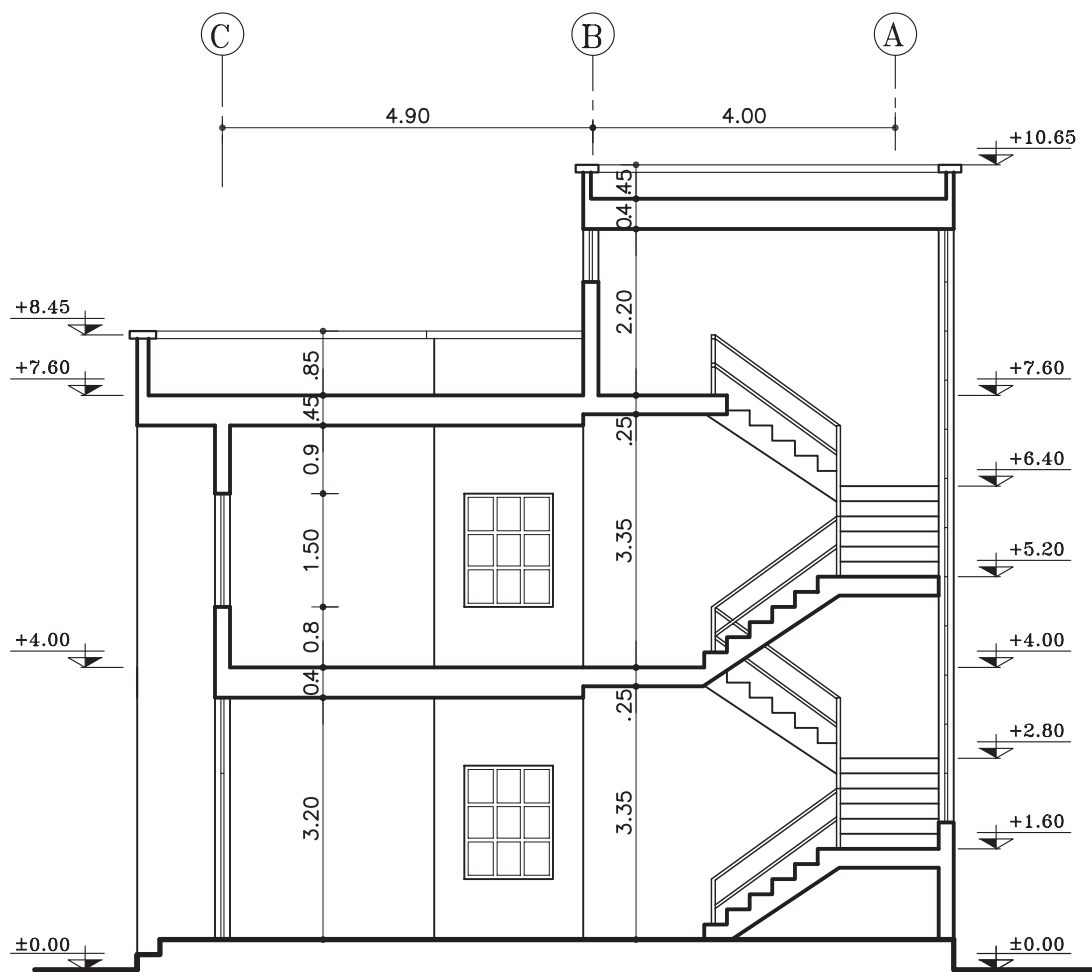
- مطلوب است: ۱- ترسیم برش AA با مقیاس $\frac{1}{100}$
- ۲- ترسیم برش BB با مقیاس $\frac{1}{100}$







شکل ۷۱-۴



SECTION BB

Sc. 1:100

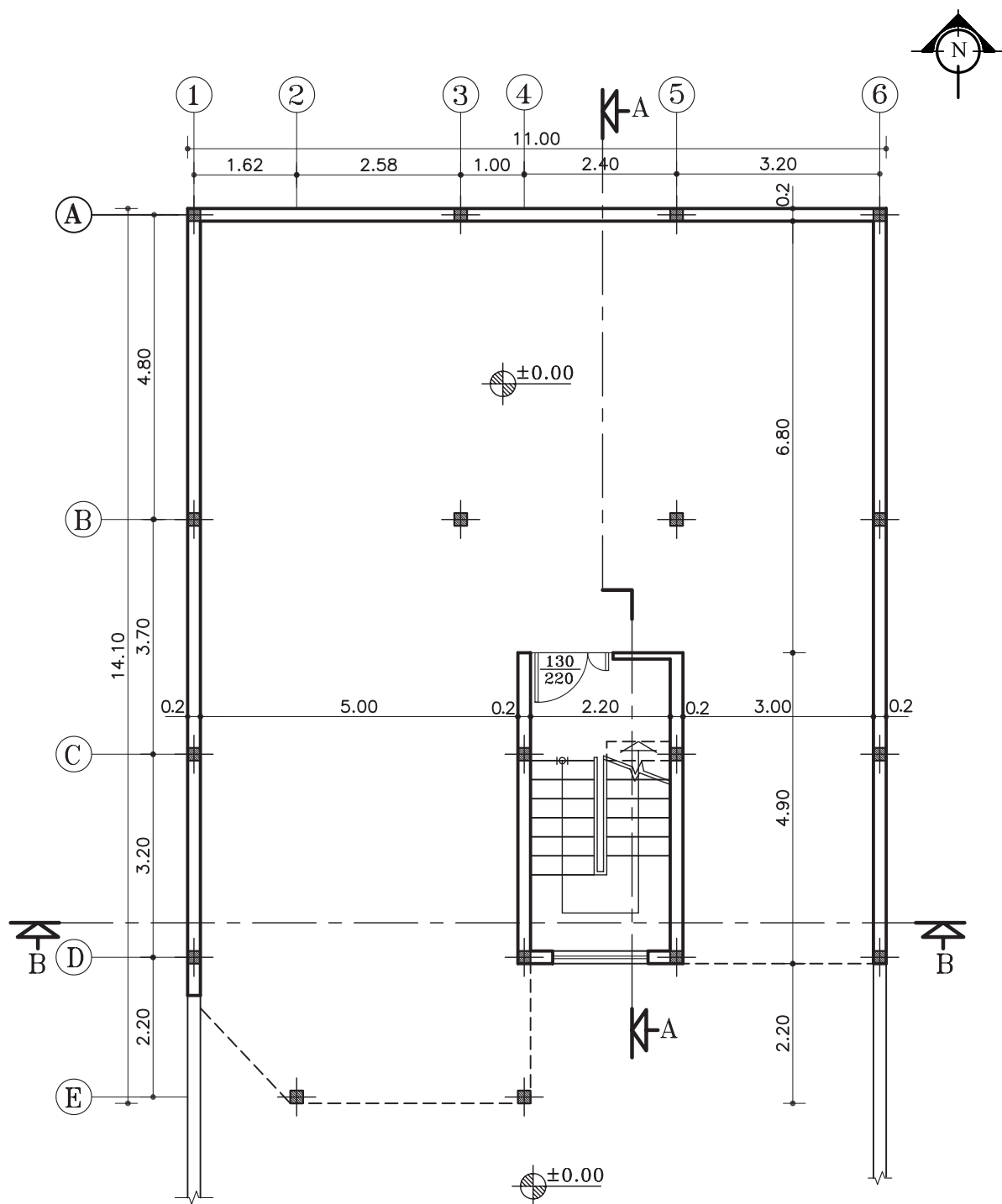


تمرین کارگاهی ۶: شکل ۷۳-۴ و شکل ۷۴-۴ پلان‌های ساختمانی در سه طبقه (پیلوت و دو طبقه مسکونی) می‌باشد که دارای مشخصات زیر است.

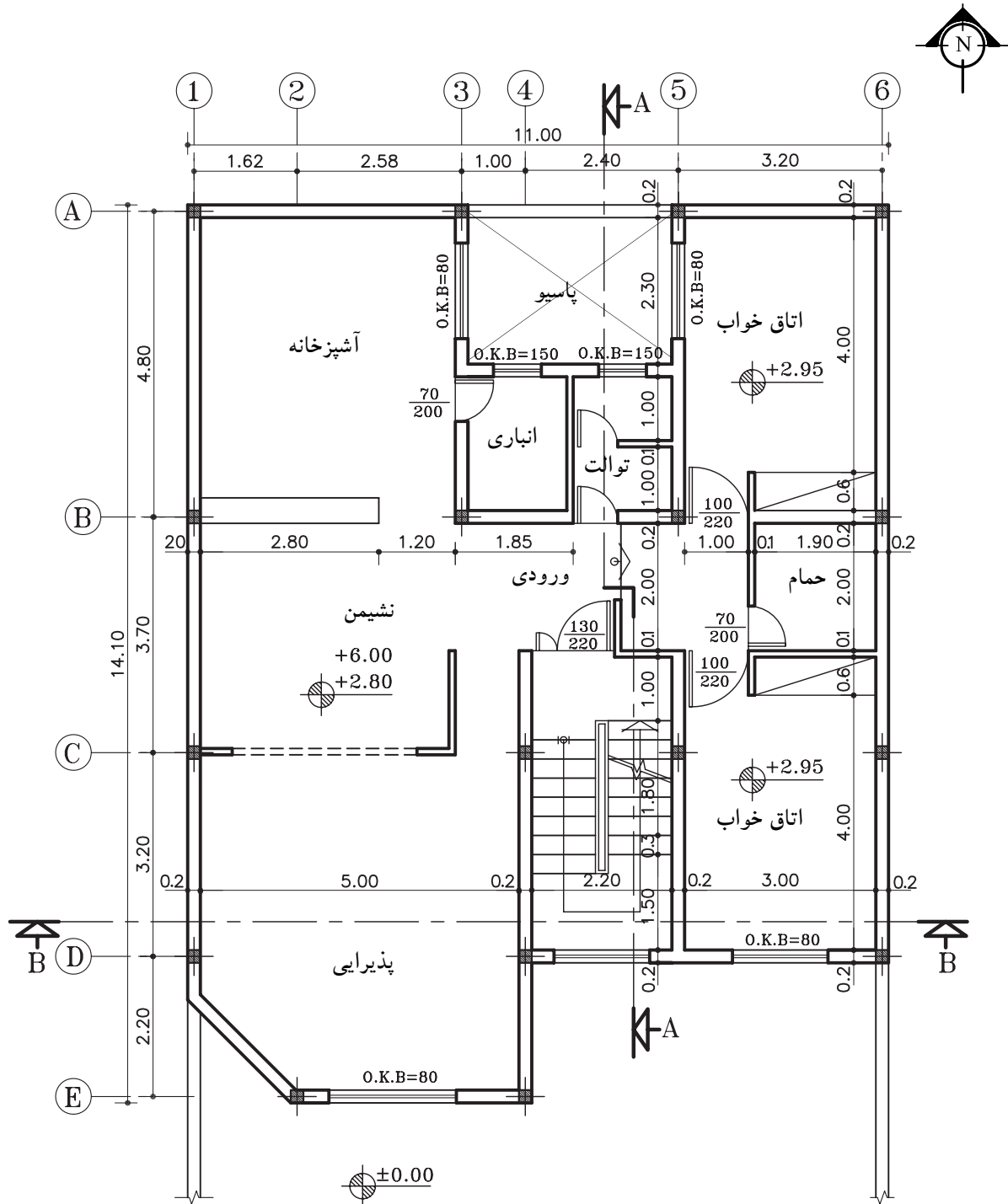
- ارتفاع کف تا کف در پیلوت ۲۸۰ سانتی متر
- ارتفاع کف تا کف در طبقات ۳۲۰ سانتی متر
- ارتفاع کف تا کف اتاقک خریشته ۲۵۰ سانتی متر
- ضخامت سقف ۳۰ سانتی متر
- ضخامت قرنیز ۵ سانتی متر
- دست انداز پشت بام ۸۰ سانتی متر
- دست انداز خریشته ۵۰ سانتی متر
- دست انداز پنجره‌ی اتاق‌ها (O.K.B) ۸۰ سانتی متر
- دست انداز پنجره‌ی سرویس (O.K.B) ۱۸۰ سانتی متر
- ارتفاع پنجره‌ها ۱۵۰ سانتی متر
- ارتفاع پنجره‌های سرویس ۶۰ سانتی متر
- ارتفاع درها ۲۲۰ سانتی متر
- ارتفاع سقف کاذب ۵۰ سانتی متر

مطلوب است: ۱- ترسیم برش AA با مقیاس $\frac{1}{100}$

۲- ترسیم برش BB با مقیاس $\frac{1}{100}$

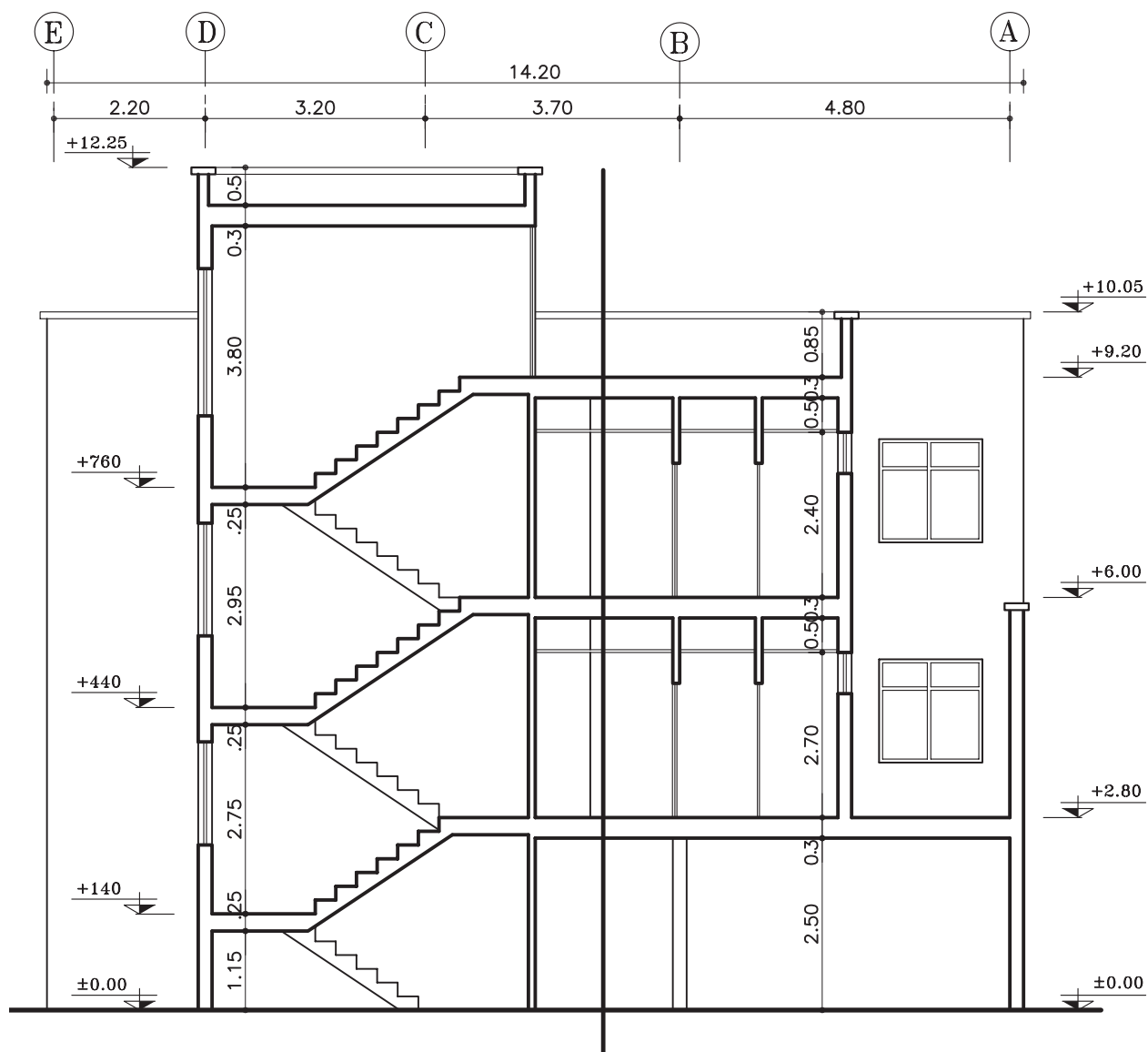


پلان همکف (پیلوت)
مقیاس ۱:۱۰۰



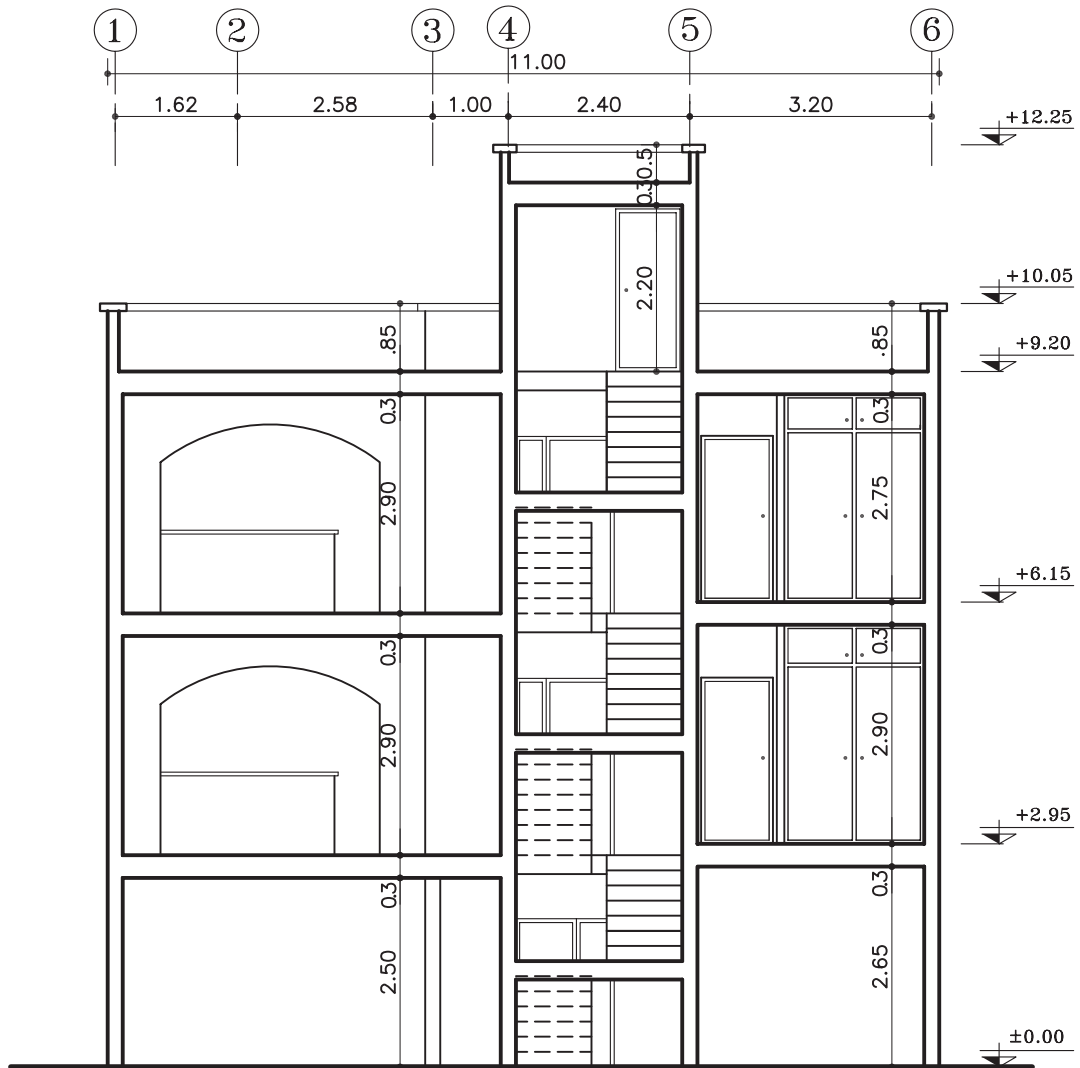
پلان طبقات

مقیاس ۱:۱۰۰



SECTION AA

Sc. 1:100



SECTION BB

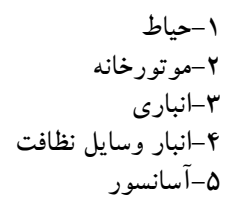
Sc. 1:100

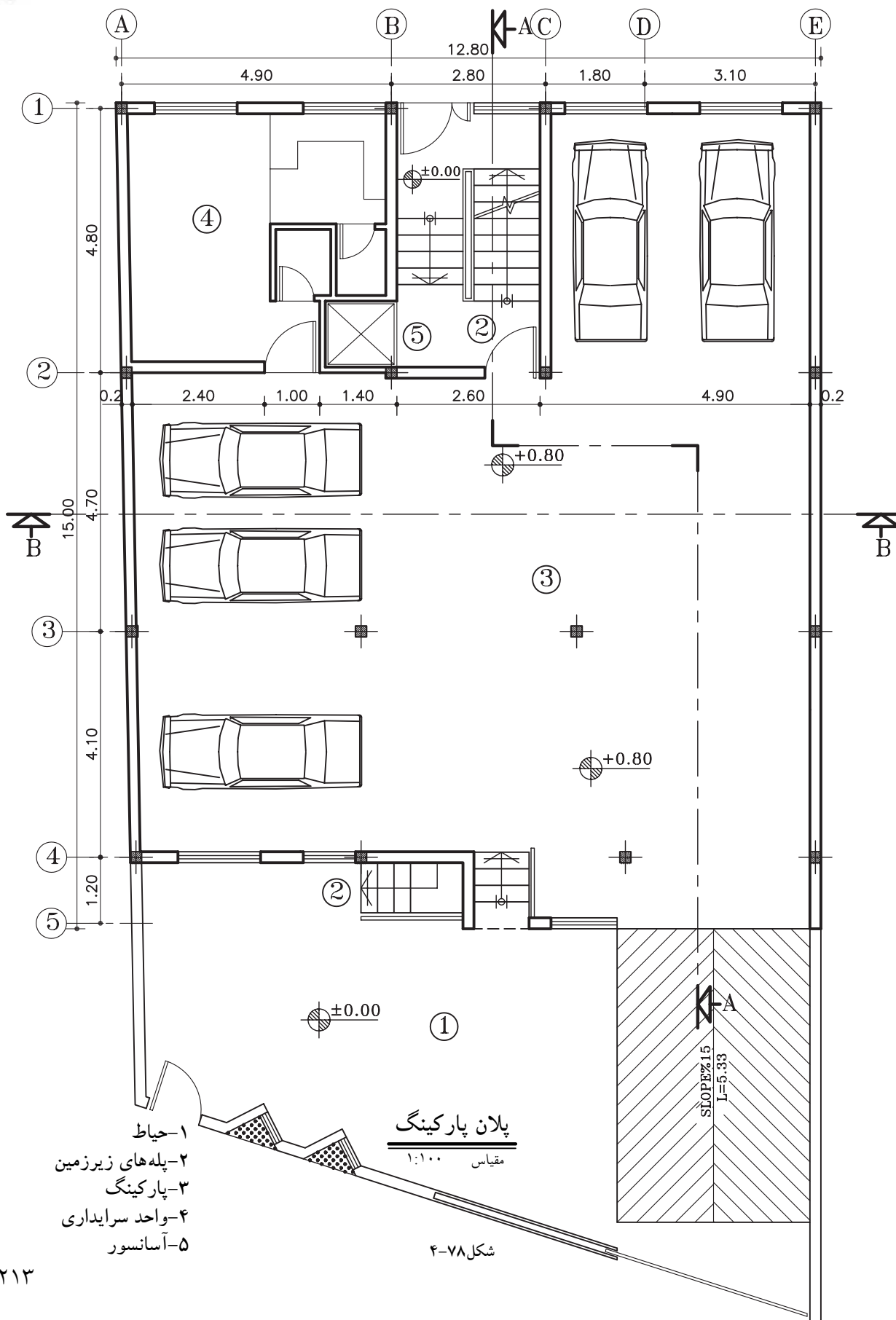


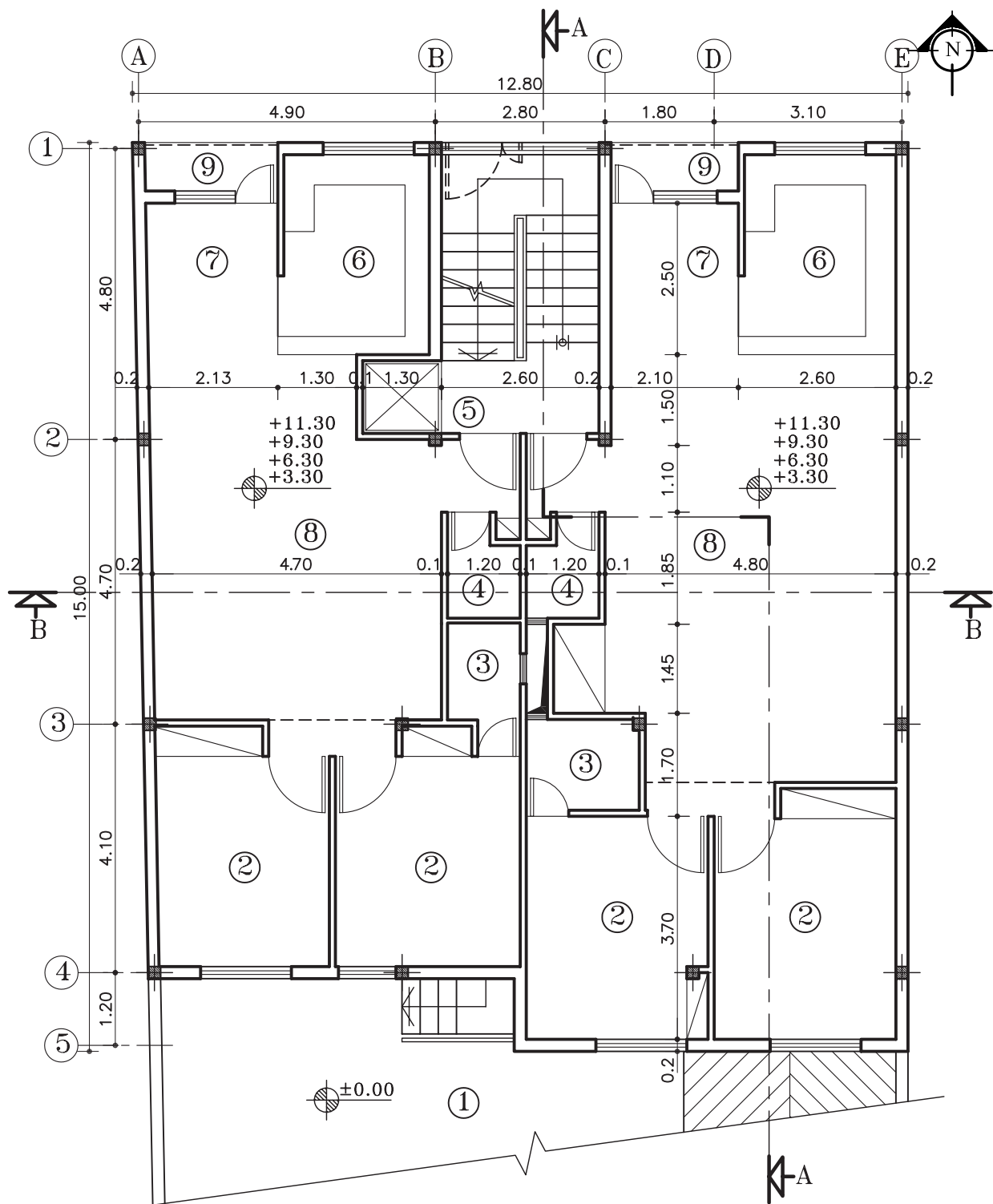
تمرین کارگاهی ۷: شکل های ۴-۷۷ و ۴-۷۸ و ۴-۷۹ پلان های ساختمان مسکونی دو واحدی درشش طبقه شامل: (زیرزمین، پارکینگ و چهار طبقه مسکونی) می باشد که دارای مشخصات زیر است.

- ارتفاع کف تا کف در طبقات ۳۰۰ سانتی متر
- ارتفاع کف تا کف اتاقک خریشته ۲۸۰ سانتی متر
- ضخامت سقف ۳۰ سانتی متر
- ضخامت قرنیز ۵ سانتی متر
- دست انداز پشت بام ۸۰ سانتی متر
- دست انداز خریشته ۵۰ سانتی متر
- دست انداز پنجره ی اتاق ها (O.K.B) ۸۰ سانتی متر
- دست انداز پنجره ی سرویس (O.K.B) ۱۸۰ سانتی متر
- ارتفاع پنجره ها ۱۵۰ سانتی متر
- ارتفاع پنجره های سرویس ۶۰ سانتی متر
- ارتفاع درهای اتاق ها ۲۲۰ سانتی متر و عرض آن ۱۰۰ سانتی متر است.
- ارتفاع درهای سرویس و انباری ها ۲۰۰ سانتی متر و عرض آن ۷۰ سانتی متر است.
- ارتفاع سقف کاذب ۵۰ سانتی متر
- بقیه ی اندازه ها در حد معقول در نظر گرفته شود.

- مطلوب است: ۱- ترسیم برش AA با مقیاس $\frac{1}{100}$
- ۲- ترسیم برش BB با مقیاس $\frac{1}{100}$







پلان طبقات

مقیاس ۱:۱۰۰

شکل ۷۹-۴

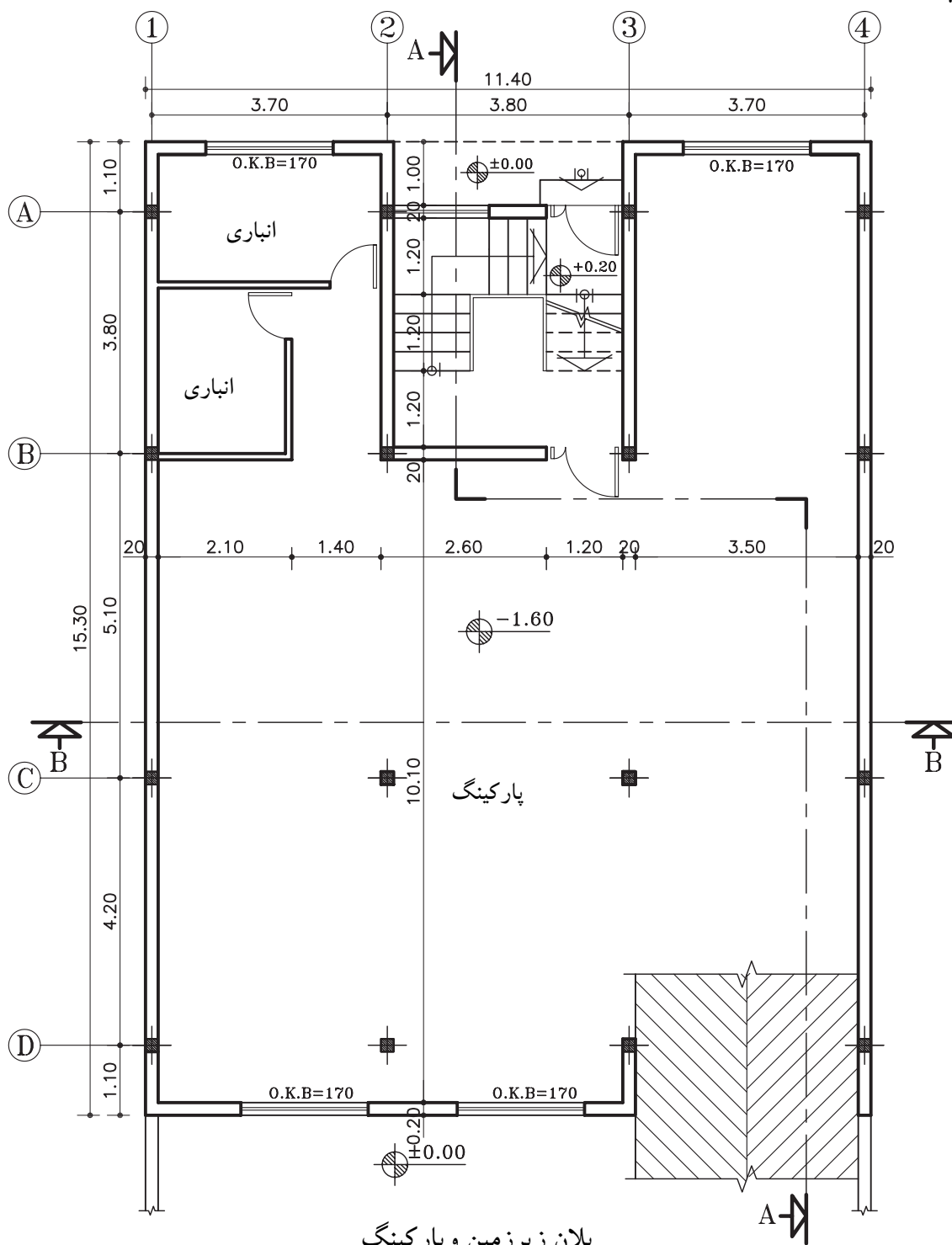
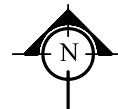
- ۱- حیاط
- ۲- اتاق خواب
- ۳- حمام
- ۴- سرویس بهداشتی
- ۵- آسانسور
- ۶- آشپزخانه
- ۷- غذاخوری
- ۸- پذیرایی
- ۹- تراس



تمرین کارگاهی ۸: شکل های ۴-۸۰ و ۴-۸۱ پلان های ساختمان مسکونی دو طبقه با زیرزمین می باشد که دارای مشخصات زیر است.

- ارتفاع کف تا کف در زیرزمین ۲۷۰ سانتی متر
- ارتفاع کف تا کف در طبقات ۳۰۶ سانتی متر
- ارتفاع کف تا کف اتاقک خریشته ۲۵۰ سانتی متر
- ضخامت سقف ۳۰ سانتی متر
- ضخامت قرنیز ۵ سانتی متر
- دست انداز پشت بام ۸۰ سانتی متر
- دست انداز خریشته ۵۰ سانتی متر
- دست انداز پنجره ی اتاق ها (O.K.B) ۸۰ سانتی متر
- دست انداز پنجره ی سرویس (O.K.B) ۱۸۰ سانتی متر
- ارتفاع پنجره ها ۱۵۰ سانتی متر
- ارتفاع پنجره های سرویس ۶۰ سانتی متر
- ارتفاع درهای اتاق ها ۲۲۰ سانتی متر و عرض آن ۱۰۰ سانتی متر است.
- ارتفاع درهای سرویس و انباری ها ۲۰۰ سانتی متر و عرض آن ۷۰ سانتی متر است.
- ارتفاع سقف کاذب ۵۰ سانتی متر
- ارتفاع درپارکینگ ۱۸۰ سانتی متر
- شیب رمپ ۱۵ درصد

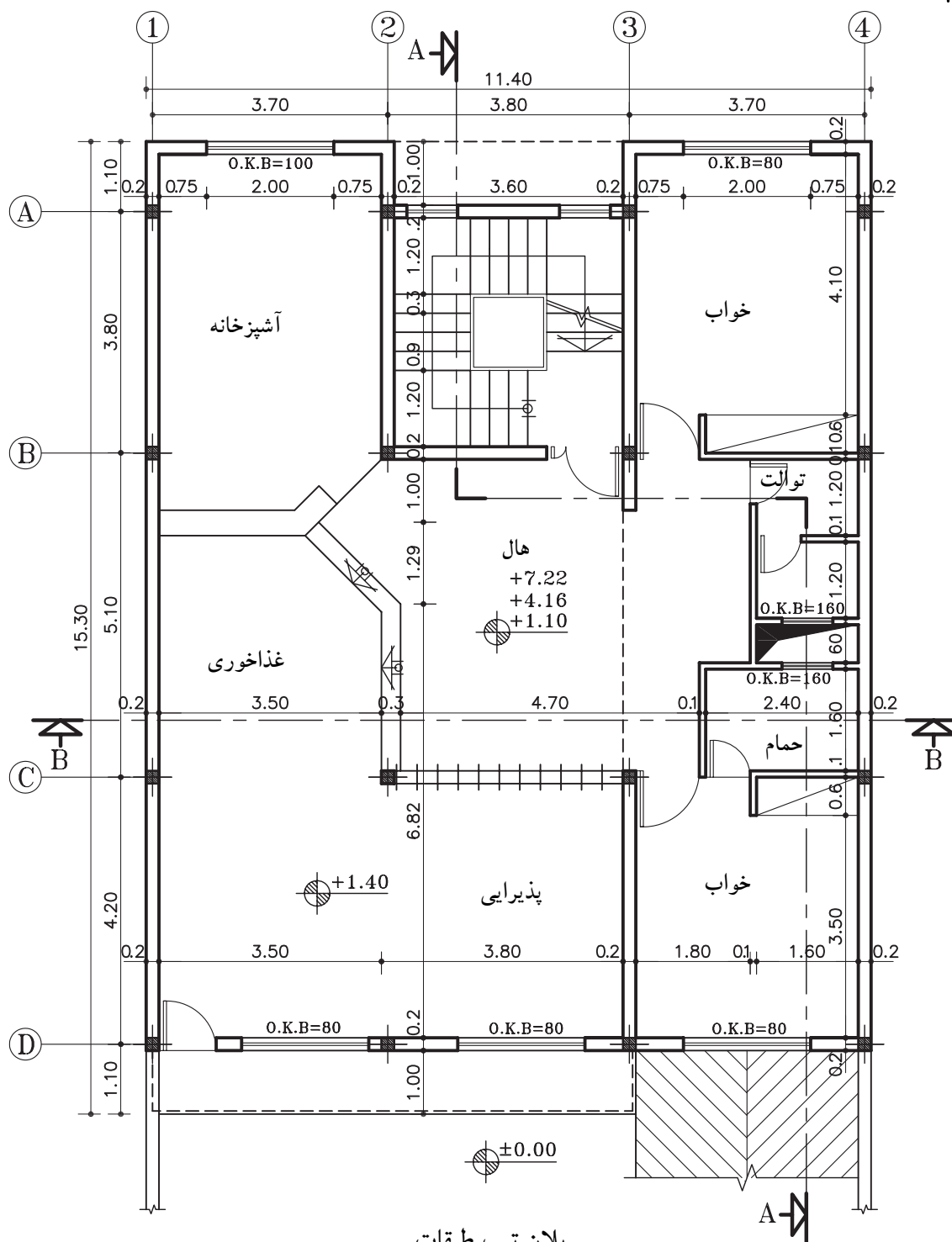
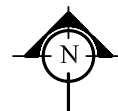
- ۱- مطلوب است: ۱- ترسیم برش AA با مقیاس $\frac{1}{100}$
- ۲- ترسیم برش BB با مقیاس $\frac{1}{100}$
- ۳- محاسبه ی رمپ داخلی و رمپ خارجی



پلان زیرزمین و پارکینگ

مقیاس ۱:۱۰۰

شکل ۸۰-۴



پلان تیپ طبقات

مقیاس ۱:۱۰۰

شکل ۴-۸۱



خلاصه‌ی واحد کار (۴)

۴-۱-۱-۴-برش یا مقطع

هرگاه صفحه‌ی برش فرضی بخشی از پلان را به صورت عمودی قطع کند و از پایین‌ترین طبقه (زیرزمین) تا آخرین طبقه از ساختمان را برش دهد، آن را «مقطع یا برش ساختمان» می‌نامند. مقاطع از جمله مهم‌ترین نقشه‌های ساختمانی هستند که سازندگان بنا به آن‌ها نیاز دارند. با ترسیم مقاطع، می‌توان رابطه‌ی ساختمان با زمین، تعداد طبقات و دیوارهای داخلی را مشخص نمود. معمولاً اندازه‌ی ساختمان و پیچیدگی قسمت‌های داخلی آن تعیین‌کننده‌ی تعداد مقاطع لازم برای نقشه‌های ساختمانی است.

۴-۱-۱-۴-علائم مورد استفاده در برش‌ها:

الف) خط برش در پلان: خط برش برای نمایش محل برش عمودی بر روی پلان است.

این خط، با نوع «غیرممتد ضخیم» ترسیم شده و در دو سر آن، جهت دید را با فلش مشخص کنید.

ب) هاشور در برش: برای نمایش جنس مصالح در قسمت‌های برش خورده از ساختمان از هاشورهای خاصی که هریک معرف یک نوع مصالح است استفاده می‌شود. معمولاً زاویه‌ی ترسیم هاشور «۴۵ درجه» است و برای آن از نوع خط «ممتد نازک» استفاده می‌شود.

ج) مقیاس در برش‌ها: معمولاً برش‌ها برابر با مقیاس پلان‌های معماری با مقیاس‌های $\frac{1}{50}$ ، $\frac{1}{100}$ ، $\frac{1}{200}$ ترسیم می‌شوند.

اما بر حسب نیاز ممکن است برش‌های جزئی، که تحت عنوان «دتایل» نامیده می‌شوند، با مقیاس $\frac{1}{1}$ تا $\frac{1}{2}$ ترسیم

شوند. در این برش‌ها جزئیات بیش‌تری از ساختمان مانند جزئیات سقف، پروفیل در و پنجره‌ها، نازک‌کاری و ... به نمایش گذاشته می‌شود.

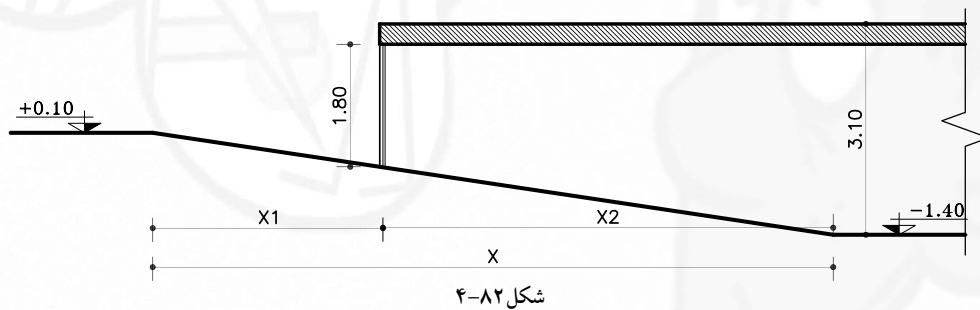




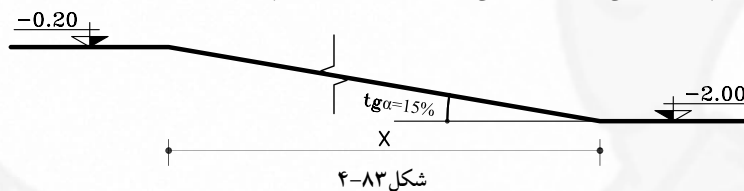
آزمون پایانی (۴)

سؤالات تشریحی

- ۱- مقطع را تعریف کنید.
- ۲- هدف از ترسیم نقشه‌های مقطع را شرح دهید.
- ۳- با توجه به شکل ۴-۸۲ طول داخلی، طول خارجی و طول کل رمپ را محاسبه نمایید.



- ۴- شکل ۴-۸۳ رمپ خارجی را نشان می‌دهد، طول کل رمپ را محاسبه نمایید.



- ۵- درساختمانی ارتفاع کف تا زیرسقف زیرزمین ۲/۶۰ متر، ارتفاع کف زیرزمین تا کف حیاط ۱/۹۰ متر، ضخامت سقف ۳۰ سانتی‌متر، کدکف حیاط ± 0.00 و شیب رمپ ۱۶ درصد است. طول کل رمپ را به متر محاسبه نمایید.

پایخ





سؤالات چهارگزینه‌ای

- ۱- برای ترسیم خط برش در پلان از چه نوع خطی استفاده می‌شود؟
 (الف) خط غیرممتد نازک (ب) خط ممتد نازک (ج) خط ممتد ضخیم (د) خط غیرممتد ضخیم



شکل ۴-۸۴

- ۲- شکل ۴-۸۴ هاشور چه مصالحی را نشان می‌دهد؟
 (الف) چوب (ب) بتن
 (ج) سنگ (د) آجر
- ۳- کدام هاشور زمین طبیعی را نشان می‌دهد؟



(ب)



(الف)



(د)



(ج)

- ۴- مهم‌ترین نقشه‌هایی که مجریان ساختمان به آن نیاز دارند کدام است؟
 (الف) نماها (ب) پلان مبلمان (ج) مقاطع (د) پلان طبقه‌ی اول

(د) $\frac{1}{20}$

(ج) $\frac{1}{50}$

(ب) $\frac{1}{50}$

(الف) $\frac{1}{50}$

- ۵- دتایل‌ها معمولاً با کدام مقیاس ترسیم می‌شوند؟

۶- در ترسیم مقاطع، ترسیم اجزای برش خورده با کدام نوع خط است؟

(الف) خط نازک (ب) خط ضخیم (ج) خط چین (د) خط نقطه

- ۷- مناسب‌ترین شیب برای محاسبه‌ی رمپ درصد است.

(الف) ۱۲ درصد (ب) ۱۵ درصد (ج) ۱۵/۵ درصد (د) ۳۰ درصد

- ۸- حداقل ارتفاع برای در ورودی به پارکینگ چند سانتی‌متر است؟

(الف) ۲۲۰ سانتی‌متر (ب) ۲۰۰ سانتی‌متر (ج) ۱۸۰ سانتی‌متر (د) ۱۹۰ سانتی‌متر

- ۹- اختلاف دو سطح ۷۵ سانتی‌متر است جهت ایجاد رمپ با شیب ۱۵ درصد، چه طولی لازم است.

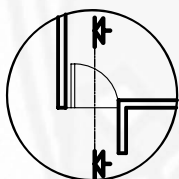
(الف) ۷۵ سانتی‌متر (ب) ۵۰۰ سانتی‌متر (ج) ۱۵ متر (د) ۵/۵ متر

- ۱۰- در اندازه‌گذاری پلان، عدد ۲۰۰ در $(\frac{70}{200})$ ، اندازه‌ی چه قسمتی را نمایش می‌دهد؟

(الف) عرض در اتاق خواب (ب) ارتفاع در ورودی

(ج) ارتفاع در سرویس (د) عرض در آشپزخانه

- ۱۱- کدام گزینه، برش در، از پلان شکل ۴-۸۵ را نشان می‌دهد؟



شکل ۴-۸۵

(د)

(ج)

(ب)

(الف)

