

با آن که ستاره‌ها را هر شب در آسمان مشاهده می‌کنیم، چیزهای زیادی درباره‌ی آن‌ها نمی‌دانیم. در واقع ستاره‌ها چنان از ما دورند که حتی در قوی‌ترین تلسکوپ‌ها هم جز یک نقطه‌ی نورانی، چیزی از آن‌ها پدیدار نیست. اما، آیا همه‌ی ستاره‌ها یک اندازه‌اند؟ آیا روشنایی، رنگ و دمای آن‌ها مساوی است؟ آیا همه به یک فاصله از زمین قرار دارند؟

وقتی می‌گوییم فاصله‌ی ستاره‌ها از ما بسیار زیاد است، چنین به نظر می‌آید که جمع‌آوری اطلاعات درباره‌ی آن‌ها هم غیرممکن باشد. اما دانشمندان با یافتن راه‌های ویژه، توانسته‌اند اطلاعاتی هرچند مختصر، درباره‌ی آن‌ها حاصل آورند، همه‌ی این اطلاعات، قاعدتاً باید از روی نوری باشد که از ستاره‌ها به زمین می‌رسد.

### خورشید، نزدیک‌ترین ستاره

مردم در طول قرن‌ها، نمی‌دانستند خورشید از چه چیزی ساخته شده و این همه نور و گرمای آن از کجا تأمین می‌شود، حدود ۹۰ درصد جرم خورشید از هیدروژن است و هیدروژن و هلیوم در مجموع، ۹۸ درصد ترکیب خورشید را تشکیل می‌دهند.

شما در یک روز تابستانی احساس گرمای زیادی از تابش آفتاب بر بدن خود می‌کنید، اما بد نیست بدانید که زمین فقط یک دو میلیاردیم انرژی خورشید را دریافت می‌کند. می‌توان گفت اگر می‌توانستیم از انرژی خورشید بیش‌تر بهره‌گیری کنیم، مسئله‌ی بحران انرژی امروزی به کلی حل می‌شد. اکنون بینیم منشأ این همه گرما از چیست؟

آیا آن چنان که قدما تصور می‌کردند، چیزی در خورشید می‌سوزد؟ اما، حتی از سوختن هرگرم بنزین که سوخت خوبی است فقط ۳۰۰۰ کالری حاصل می‌شود. عده‌ای هم در قرن گذشته، گرمای خورشید را حاصل تراکم شدن آن می‌شمردند. ولی مطالعات بعدی که توسط ایشیتین صورت گرفت، معما را حل کرد. این دانشمند فرمول معروف خود  $E = MC^2$  را ارائه داد که از آن، تبدیل ماده به انرژی مستفاد می‌شود. در خورشید، هیدروژن به هلیوم مبدل می‌گردد و در حین تبدیل، از وزن

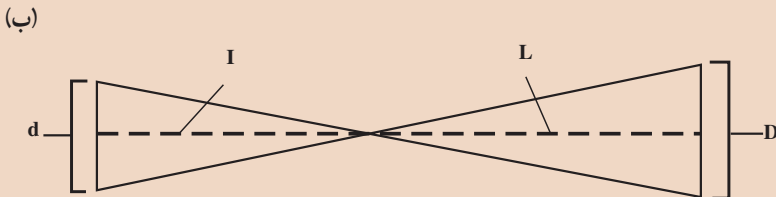
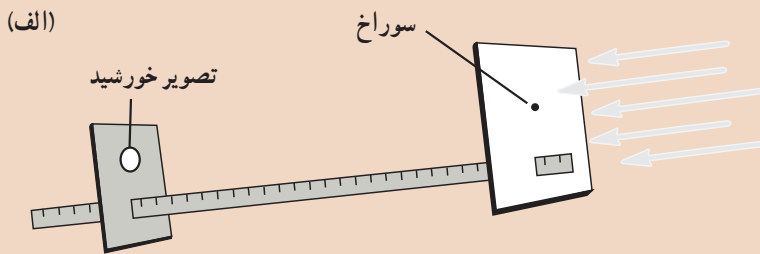
هرگرم هیدروژن معادل  $0.072\%$  گرم کاسته می‌شود.

جرم ۴ هسته‌ی هیدروژن برابر با  $4/30\%$  واحد جرم اتمی است. یک هسته‌ی هلیوم، در حدود  $4/30\%$  واحد وزن دارد. بدین ترتیب، هنگامی که یک هسته‌ی اتم هلیوم از چهار هسته‌ی هیدروژن حاصل شود، تفاوت جرم این دو مبدل به انرژی می‌شود. پس باید گفت که این تولید انرژی سبب می‌شود که جرم خورشید پیوسته در حال کاهش باشد. محاسبات نشان می‌دهد که این کاهش جرم معادل ۴ میلیون تن در ثانیه است! این کار تا چه مدت می‌تواند ادامه یابد؟ جرم کلی خورشید برابر با  $2 \times 10^{33}$  گرم است. با این ترتیب، خورشید می‌تواند میلیاردها سال دیگر هم به همین ترتیب نورافشانی کند.

### اندازه‌گیری کنید

با روش زیر، می‌توانید قطر خورشید را اندازه بگیرید.

سوراخ کوچکی با یک میخ باریک در یک قطعه مقوا ایجاد کنید. در روی یک قطعه مقوای دیگری، یک دایره به قطر  $8/0$  سانتی‌متر بکشید. دو مقوای را روی یک خط‌کش یک‌متری (یا چوبی که آنرا مانند خط‌کش مدرج کرده‌اید)، طوری نصب کنید که ارتفاع سوراخ و دایره از خط‌کش، مساوی باشد.

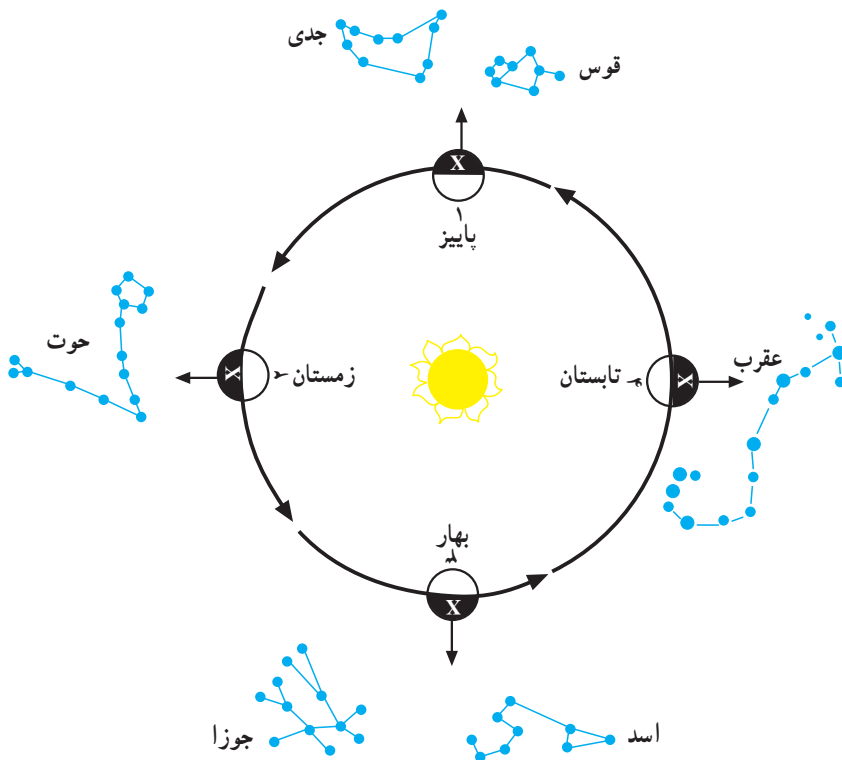


خط‌کش را به‌سوی خورشید نشانه روی کنید تا آفتاب از درون سوراخ، به روی مقوای دوم بیفتد. (هرگز مستقیماً به خورشید نگاه نکنید، زیرا نور آن در اندک مدتی به چشم شما آسیب می‌رساند). مقوای دوم را آن قدر جلو و عقب برید تا تصویر خورشید دقیقاً به اندازه‌ی دایره‌ی

۸/ ساتی متری شود. فاصله‌ی دو مقوا را بر حسب ساتی متر دقیقاً اندازه بگیرید. برای یافتن قطر خورشید، دو مثلث مطابق شکل ب رسم کنید. در این مثلث‌ها قطر خورشید D و قطر تصویر آن d (۸/ ساتی متر) است. فاصله‌ی خورشید از زمین ۱۵۰ میلیون کیلومتر است. اکنون، با استفاده از قانون تشابه مثلث‌ها، قطر خورشید را محاسبه کنید.

## صورت‌های فلکی

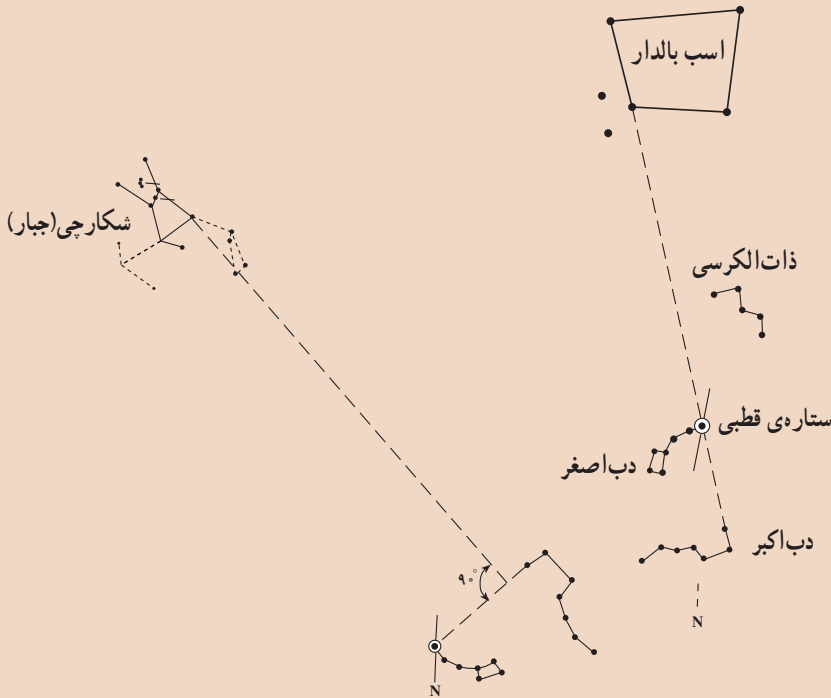
به نظر می‌رسد با وجود این‌همه ستاره در آسمان تعیین محل یکی از آن‌ها کاری غیرممکن است. به همین سبب بوده است که منجمان قدیم به منظور تشخیص و نام‌گذاری بسیاری از ستارگان، الگوهای معینی را برای گروه‌هایی از ستارگان یافته و هر گروه را به جانور یا شیئی آشنا تشبیه کرده‌اند و مجموعه‌ی این گروه‌ها را صورت‌های فلکی نامیده‌اند. در مجموع، حدود ۸۰ صورت فلکی پیشنهاد شده است. در شب‌های مختلف سال، صورت‌های فلکی متفاوتی پدیدار می‌شوند، زیرا زمین در روی مدار خود جابه‌جا می‌شود و هر شب رو به قسمت معینی از آسمان قرار می‌گیرد.



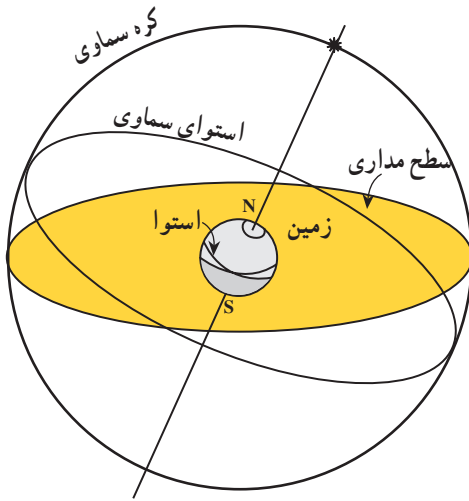
شکل ۱-۱۰ صورت‌های فلکی که در فصل‌های مختلف سال می‌توان دید، متفاوت‌اند. طول زمان مشاهده هر صورت فلکی نیز با بقیه متفاوت است.

## مشاهده کنید

با استفاده از محل ستاره‌ی قطبی، می‌توان بعضی از صورت‌های فلکی مهم را شناسایی کرد. ستاره‌ی قطبی، بسیار نزدیک به امتداد شمال زمین قرار دارد. از این رو برای یافتن آن بهتر است از شکل صورت فلکی دُبّ اکبر استفاده کنید.



کره‌ی سماوی: به منظور توضیح بعضی از مفاهیم اخترشناسی و همچنین امور دریانوردی، اخترشناسان طبق عقیده‌ی بطلمیوس، زمین را در مرکز کره‌ای بسیار بزرگ و فرضی تصور می‌کنند که تمام اجرام سماوی در روی آن واقع شده‌اند و به دور زمین می‌چرخند. طبعاً، همیشه ما نیمی از این کره‌ی فرضی را می‌بینیم، زیرا نیم دیگر آن در زیر سطح افق واقع است. برای این کره‌ی فرضی می‌توان قطبین و منطقه‌ی استوا نیز در نظر گرفت (شکل ۲-۱). در چنین کره‌ای چون زمین به دور خورشید می‌گردد، در هر ماه از سال، زمین را در محل معینی از مدار خود می‌یابیم. در این محل، منظره‌ی آسمان شب نیز چون متوجه راستای معینی است، ستارگان ویژه‌ای را در جلوی چشم ما پدیدار می‌سازد که در ماه قبل یا بعد، آن‌ها را در همان وضعیت نمی‌یابیم. بعد از سپری شدن ۶ ماه، زمین به نقطه‌ی مقابل محل قبلی می‌رسد و طبعاً منظره‌ی آسمان عوض می‌شود (زیرا قسمت مربوط به ۶ ماه پیش در روز قرار می‌گیرد که هوا روشن است). ولی بعد از گذشت یک سال، دوباره همان



شکل ۲-۱۰- کره‌ی سماوی و وضع زمین نسبت به آن

منظره‌ی قبلی را شاهد خواهیم بود. قدما در مجموع، ۱۲ صورت فلکی ویژه (برج) را در نظر می‌گرفتند و محل آن‌ها را در حول منطقه‌ی استوای کره‌ی سماوی می‌دانستند (شکل ۲-۱۰). به همین سبب، به این محل که مانند کمربندی فرضی زمین را احاطه کرده است، منطقه‌ی البروج گفته می‌شود. بدین ترتیب خورشید در هر ماه از مقابل یکی از صورت‌های فلکی دوازده‌گانه طلوع می‌کند. قبل از آن که نام ماه‌های ایرانی، عربی یا غربی مرسوم شود، ماه‌ها را به نام همان برج‌ها می‌خواندند (حمل، ثور، جوزا و ...).

## ویژگی‌های ستارگان

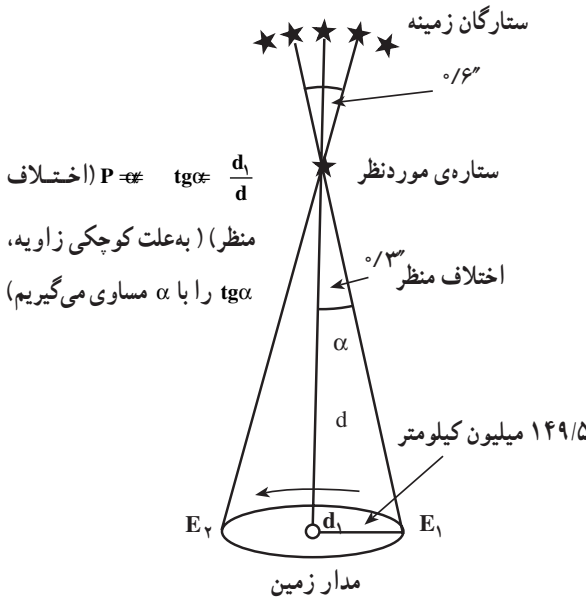
اخترشناسان با به‌کارگیری ابزارهای مناسب برای مشاهده‌ی ستارگان و با اطلاع از قوانین و اصول فیزیک، شیمی و ریاضیات دانش فراوانی درباره‌ی ستارگان به‌دست آورده‌اند. درباره‌ی روش‌های کار آنان در قسمت‌های بعدی توضیحی خواهیم داد، ولی شما می‌توانید خود با مطالعات بیشتر، آگاهی زیادتری از آن‌ها به‌دست آورید.

**فاصله:** اندازه‌ی فاصله‌ی میان زمین و حدود  $60000^\circ$  ستاره‌ای که در نزدیکی زمین واقع‌اند، با استفاده از روشی به‌نام **اختلاف منظر** (Parallax) محاسبه می‌شود. البته باید توجه داشت که حتی برای نزدیک‌ترین ستاره‌ها هم مقدار جابه‌جایی ظاهری در فضا کم است و در مقایسه، از اندازه‌ی قطر یک سکه که از فاصله‌ی یک کیلومتری به آن نگاه شود بیش‌تر نیست. به همین سبب این روش برای تعیین فاصله‌ی ستارگان دور دست عملی نیست.

فاصله‌ی متوسط زمین از خورشید برابر  $150$  میلیون کیلومتر است که برابر با یک واحد ستاره‌شناسی انتخاب می‌شود. فاصله‌ی نزدیک‌ترین ستاره به ما، بعد از خورشید، یعنی قنطورس نزدیک (Proxima centaury) برابر  $270$  هزار واحد ستاره‌شناسی است! از آنجا که فاصله‌ی ستارگان با ما و نیز با ستارگان دیگر فوق‌العاده زیاد است، برای تعیین این فواصل از واحد دیگری به نام سال نوری

۱ ۲ ۳ ۴  
 ★ ★ ★ ★  
 تصویر فروردین

۱ ۲ ۳ ۴  
 ★ ★ ★ ★  
 تصویر مهر

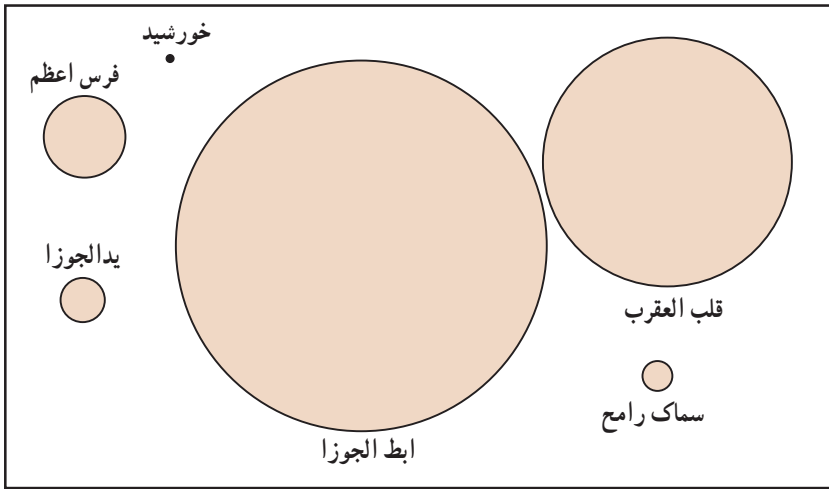


شکل ۱-۳-۱ اخترشناس، شعاع مدار زمین به دور خورشید را به عنوان قاعده‌ی یک مثلث فرضی در نظر می‌گیرد و در فاصله‌ی ۶ ماه، از دو نقطه‌ی مختلف این مدار ستاره‌ی مورد نظرش را رصد می‌کند. بدیهی است که این ستاره، در زمینه‌ای از ستارگان در دست تر، مقداری جابه‌جا می‌شود. با اندازه‌گیری این مقدار جابه‌جایی ستاره و تعیین فاصله‌ی دو نقطه از مدار زمین که محل رصد بوده‌اند، ناظر می‌تواند فاصله‌ی ستاره تا زمین را محاسبه کند.

(فاصله‌ای که نور در طول یک سال طی می‌کند) استفاده می‌شود<sup>۱</sup> و این فاصله نزدیک به  $10^8$  تریلیون کیلومتر است  $(9.1 \times 10^{12} \text{ km})$ . با این واحد، فاصله‌ی خورشید تا زمین حدود ۸ دقیقه نوری است. بزرگی و چگالی: ستارگان از لحاظ بزرگی بسیار مختلف‌اند. کوچک‌ترین آن‌ها کمی از زمین بزرگ‌تر است و بزرگ‌ترین آن‌ها که تاکنون شناخته شده به نام گیرنده‌ی عنان، قطری در حدود  $3/2$  میلیارد کیلومتر دارد، یعنی حدود  $2300$  برابر قطر خورشید. اگر این ستاره در مرکز منظومه‌ی شمسی قرار داشت، تا حدود مدار زحل را دربر می‌گرفت!

اختلاف در چگالی یا تراکم ستارگان، از تفاوت بزرگی آن‌ها زیادتر است. چگالی ستاره‌ای به نام **ابطال‌الجوزا** در حدود یک ده‌میلیونیم تراکم خورشید است، یعنی رقیق‌تر از هر نوع خلأ ممکن که ما می‌توانیم پدید آوریم. از طرف دیگر ستارگانی از قبیل ستاره‌ی همراه شعرای یمانی به نام **کوتوله‌ی سفید** وجود دارند که یک سانتی‌متر مکعب از آن‌ها، اگر در روی زمین باشد، بیش‌تر از یک تن وزن دارد! چگالی بیش‌تر ستارگان در بین این دو حد قرار می‌گیرند.

۱- ستاره‌شناسان واحد دیگری نیز برای اندازه‌گیری مسافت دارند که پارسک (Parsec) نام دارد. نقطه‌ای که اختلاف منظرش یک ثانیه باشد، در فاصله  $3.2 \times 10^{13}$  کیلومتری آن قرار می‌گیرد، این فاصله را معادل یک پارسک در نظر می‌گیرند.





شکل ۴-۱- ستارگان از لحاظ بزرگی، بسیار مختلفند.

نور: اگر شما با یک نورسنج دوربین عکاسی به طرف چراغ خیابان بروید خواهید دید که عقربه‌ی نورسنج درجه‌ی بیش‌تر و بیش‌تری را نشان می‌دهد. حال اگر فاصله‌ی خود را با چراغ به نصف برسانید مشاهده خواهید کرد که نورسنج مقدار نور را چهار برابر (نه دو برابر) مقدار اولیه نشان می‌دهد. علت آن است که شدت نور به نسبت عکس مجذور فاصله تغییر می‌کند (چرا؟). بدین ترتیب با در دست داشتن فاصله می‌توان مقدار نور یک چراغ را محاسبه کرد.

از این جهت وضع ستاره‌ها هم تفاوتی با وضع چراغ‌های خیابان ندارد. مقدار نوری که از ستاره به ما می‌رسد تابع دو چیز است: مقدار واقعی تشعشعاتی که از ستاره خارج می‌شوند (نور واقعی آن) و مقدار فاصله آن از زمین، که با ضرب کردن مجذور فاصله در مقدار نور ظاهری می‌توان مقدار نور واقعی ستاره را محاسبه کرد.

نور واقعی ستارگان از  $10^{-6}$  تا  $10^6$  برابر نور خورشید تغییر می‌کند. نکته جالبی که در این میان وجود دارد این است که بین مقدار نور و جرم ستاره‌های رشته‌ی اصلی رابطه‌ای وجود دارد و می‌توان گفت مقدار نور به نسبت مکعب جرم تغییر می‌کند (یعنی اگر جرم خورشید دو برابر شود، مقدار نورش ۸ برابر می‌شود).

ترکیب شیمیایی: تجزیه‌ی طیفی نور ستاره‌ها نشان می‌دهد که عناصر موجود در ستارگان هم از نوع همان عناصری است که در زمین یافت می‌شوند، اما با نسبت‌های متفاوت. بیش‌تر ستارگان اصولاً از هیدروژن و هلیم تشکیل شده‌اند و مقدار درصد عناصری از قبیل آهن، تیتان، کلسیم، سدیم



شکل ۵-۱- طیف جذبی خورشید. نوارهای تیره، نشان‌دهنده نوع موادی است که خورشید را تشکیل داده‌اند.

و غیره در آن‌ها از یک درصد حجم تجاوز نمی‌کند. خورشید ماهم در حدود ۷۵ درصد هیدروژن و ۲۳ درصد هلیوم دارد و برای بقیه‌ی عناصر، که از روی طیف تعدادشان بیش از ۶۰ نوع تشخیص داده شده است، فقط ۲ درصد حجم باقی می‌ماند.

## کهکشان‌ها و جهان بزرگ

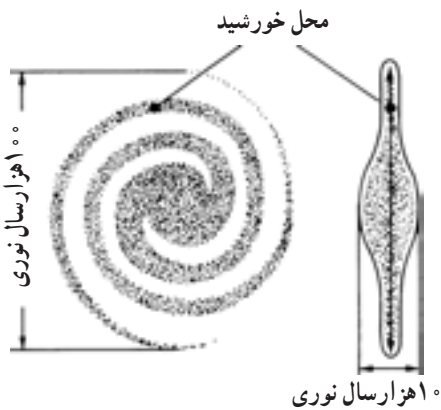
همه‌ی ستاره‌هایی که به هنگام شب در آسمان مشاهده می‌کنیم در مجموعه‌ای گرد آمده‌اند که به کهکشان راه شیری معروف است. منظومه‌ی شمسی خود ما هم بخشی از همین کهکشان است. در این صورت، آیا آنچه در فضا وجود دارد، همین یک مجموعه است! با نگاه کردن به تصویر ۶-۱ می‌توانید حدس بزنید که به جز کهکشان ما، مجموعه‌ی ستارگان یا کهکشان‌های بسیار متعدد دیگری هم در فضا وجود دارد که تعداد ستارگان هر یک، ممکن است به میلیون‌ها عدد برسد. تعداد خود کهکشان‌ها هم خارج از حد شمارش است. در عین حال، بین کهکشان‌ها گاهی هزارها و بلکه میلیون‌ها سال نوری فاصله است. بنابراین، عملاً باید گفت که فضا بی‌انتهاست.





شکل ۶-۱- تعداد کهکشان‌های موجود در فضا، خارج از حد شمارش است.


کهکشان راه شیری، مانند چرخه بزرگ به دور خود می‌چرخد. خورشید و ستارگان نزدیک ما با سرعت  $240$  کیلومتر در ثانیه حول مرکز کهکشان در حرکتند! اما به علت عظمت کهکشان،  $200$  میلیون سال طول می‌کشد تا خورشید یک بار حول مرکز آن بچرخد. البته، کهکشان‌های دیگر، چنان دورند که فقط با تلسکوپ‌های بزرگ، آن‌هم در مدت زمان طولانی می‌توان از آن‌ها عکس گرفت.



شکل ۷-۱- یک کهکشان مارپیچ از نوع کهکشان راه شیری

## رسم نقشه

# ۱۱



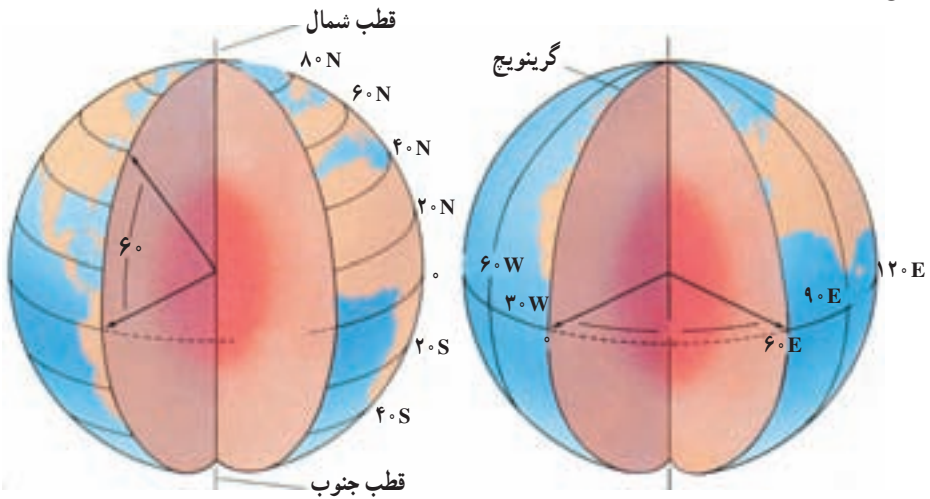
شکل ۱۱-۱- تصویر یک منطقه غیر مسطح

سطح خشکی‌ها، دارای پستی‌ها و بلندی‌های فراوان است. وقتی با هواپیما از سطح زمین عکس برداری شود، پدیده‌هایی در عکس آشکار می‌شوند که از روی زمین نمی‌توان آن‌ها را مشاهده کرد. مثلاً، از بالا بهتر می‌توان مسیر رودخانه‌ها، خطوط ساحلی، شکل کوه‌ها و دره‌ها را دید. با این همه، گاهی زمین‌شناسان به اطلاعاتی نیاز پیدا می‌کنند که حتی در چنین عکس‌هایی هم نمی‌توان آن‌ها را یافت. به‌ویژه که این قبیل عکس‌ها فقط منطقه‌ی محدودی را نشان می‌دهند و اگر هدف مطالعه در مناطق وسیعی باشد، به‌ناچار باید از نقشه استفاده شود که تصویر افقی قسمتی از زمین، با مقیاس معینی است.

### یافتن نقاط در روی زمین

زمین تقریباً یک کره‌ی کامل است. کره، نه بالا و پایین دارد و نه پهلو. پس درحالت معمولی نقطه‌ای را به‌عنوان مبدأ یا مبنای مقایسه نمی‌توان در روی آن یافت. اما از آنجا که کره‌ی زمین می‌چرخد، دو نقطه‌ای را که در بالا و پایین، زمین حول آن می‌چرخد، می‌توان نقاط مبدأ در نظر گرفت. به این دو نقطه، قطب‌های جغرافیایی می‌گویند. در نیم‌راه این دو نقطه هم خطی فرضی به‌نام استوا در نظر گرفته می‌شود که زمین را به دو نیم‌کره‌ی شمالی و جنوبی تقسیم می‌کند. با این ترتیب، دو مبدأ مختصات را در روی زمین تعیین کرده‌اند که به کمک آن‌ها می‌توان موقعیت هر نقطه‌ی دلخواهی را تعیین کرد.

**طول و عرض جغرافیایی:** تعدادی دایره‌ی فرضی به نام مدار به موازات استوا رسم می‌شود که عرض جغرافیایی را نشان می‌دهند. مدارها، از خط استوا فاصله‌ی زاویه‌ای دارند. بدیهی است که مدارها نمی‌توانند بیش‌تر از  $90^\circ$  درجه‌ی شمالی یا جنوبی باشند. البته در عمل، یک درجه عرض جغرافیایی برابر ۱۱۱ کیلومتر یعنی معادل  $\frac{1}{36}$  محیط زمین (حدود  $40^\circ$  هزار کیلومتر) است. برای تعیین موقعیت نقاط، علاوه بر عرض، به طول هم نیاز داریم. طول جغرافیایی را با نصف‌النهارها مشخص می‌کنند. نصف‌النهارها دایره‌ی فرضی هستند که از دو قطب می‌گذرند. یک نصف‌النهار را به‌عنوان مبنا، انتخاب کرده‌اند که طول آن صفر است (گرینویچ). بقیه‌ی نصف‌النهارها از این خط مبنا فاصله‌ی زاویه‌ای دارند و در شرق یا غرب آن قرار می‌گیرند. حداکثر مقدار طول جغرافیایی، معادل نصف محیط زمین، یعنی  $180^\circ$  درجه است. فاصله‌ی نصف‌النهارها از یکدیگر، در استوا حداکثر است و رو به قطب‌ها به تدریج کم می‌شود و در محل قطب‌ها به صفر می‌رسد (شهر تهران در  $51^\circ$  درجه و  $25$  دقیقه طول شرقی و  $35^\circ$  درجه و  $42$  دقیقه عرض شمالی واقع است).



شکل ۲-۱۱- مدارها و نصف‌النهارهای زمین

### فکر کنید

- ۱- طول و عرض جغرافیایی محل زندگی خود را چگونه اندازه‌گیری می‌کنید؟
- ۲- چند راه برای این کار وجود دارد؟

## تحقیق کنید

قاعدتاً دقیق‌ترین نقشه‌ها را باید در روی کره‌ی جغرافیا یافت، اما به‌هرحال لازم است نقشه‌ها بر سطح کاغذ و به‌طور مسطح نیز رسم شوند. در این صورت، اشکال انحناها و به‌هم‌خوردن فواصل واقعی نقاط روی نقشه را چگونه اصلاح می‌کنند؟

## نقشه‌های توپوگرافی

امروزه تقریباً هیچ‌کس بی‌نیاز از نقشه نیست، اما چون نوع نیازها فرق می‌کند، نقشه‌ها نیز با اسامی مختلف و به‌صورت‌های گوناگون رسم می‌شوند تا متناسب با نوع احتیاجات افراد باشند. نقشه‌هایی که در علوم زمین کاربرد فراوان دارند، دونه‌اند: نقشه‌های توپوگرافی و نقشه‌های زمین‌شناسی. اساس نقشه‌های زمین‌شناسی نیز نقشه‌های توپوگرافی است. خصوصیت نقشه‌های توپوگرافی و فرق آن‌ها با نقشه‌های جغرافیایی در این است که روی چنین نقشه‌هایی، پستی‌ها و بلندی‌های روی زمین مشخص شده‌است. البته، عوارض طبیعی چون رودها،



شکل ۳-۱۱- تصویر افقی جزیره در نقشه توپوگرافی

دریاچه‌ها و حتی جاده‌ها و ساختمان‌ها را نیز گاهی متناسب با احتیاج، در روی این نقشه‌ها مشخص می‌کنند.

در تصویر مقابل، شکل پایین، جزیره‌ای را از پهلو نشان می‌دهد. شکل بالا نیز همان جزیره را از بالا نشان می‌دهد. اما در هیچ‌کدام از این دو شکل، اندازه‌ی جزیره و مقدار ارتفاع آن معلوم نیست.

مقیاس - مقیاس هر نقشه

عبارت از نسبت فاصله‌ی دو نقطه در

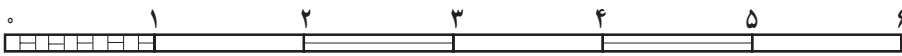
روی نقشه به فاصله‌ی افقی همان دو نقطه در روی زمین است. مقیاس نقشه‌ها را معمولاً به صورت کسری یا ترسیمی نشان می‌دهند. مقیاس کسری به شکل یک کسر ساده با صورت ۱ بیان می‌شود، مثلاً اگر فاصله‌ی دو نقطه در روی نقشه یک سانتی‌متر و فاصله‌ی افقی همان دو نقطه در روی زمین ۵۰ متر باشد، مقیاس آن نقشه به‌روش زیر محاسبه می‌شود:

$$\text{مقیاس} = \frac{\text{یک سانتی‌متر}}{\text{۵۰۰۰ سانتی‌متر}} = \frac{۱}{۵۰۰۰}$$

هرچه مخرج کسر بزرگ تر باشد نقشه کوچک‌مقیاس تر خواهد بود. مثلاً نقشه‌ی یک دوهزارم از نقشه یک‌هزارم کوچک‌مقیاس تر است.

در مقیاس ترسیم‌ی، مقیاس را به شکل نواری که از چپ به راست متناسب با طولهای واقعی تقسیم‌بندی شده‌اند، نشان می‌دهند. مثلاً آن چه در شکل ۴ - ۱۱ نشان داده شده به مفهوم آن است که طولی معادل هر قسمت این مقیاس در روی نقشه، نمایانگر یک کیلومتر در روی زمین است. چون طول هر قسمت در شکل ۴ - ۱۱ برابر ۲ سانتی‌متر است، بنابراین مقیاس آن به صورت کسری برابر

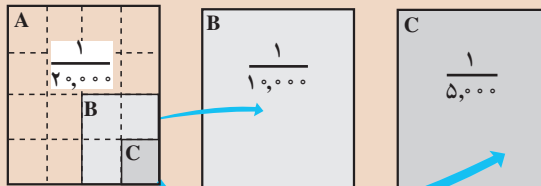
$$\text{است با: } \frac{۲}{۱۰۰۰۰۰} = \frac{۱}{۵۰۰۰۰}$$



شکل ۴-۱۱- مقیاس خطی

### تفسیر کنید

باتوجه به این که دو نقشه‌ی دارای مقیاس‌های متفاوت، با ابعاد مساوی در روی صفحه رسم شده‌اند، رابطه‌ی میان مساحت منطقه‌های مورد نقشه‌برداری چه بوده است؟ از شکل‌های زیر کمک بگیرید.



### علایم قراردادی و رنگ نقشه

در یک نقشه‌ی بزرگ‌مقیاس، می‌توان تمام عوارض زمین از قبیل راه‌ها، رودخانه، جنگل، دریاچه، شهرها، روستاها و حتی ساختمان‌ها را با ابعاد و اشکال حقیقی روی صفحه‌ی کاغذ (نقشه) نشان داد؛ ولی برای نشان دادن قسمت بزرگی از زمین در روی نقشه (مثلاً یک کشور)، اجباراً باید مقیاس نقشه را کوچک انتخاب کرد. در این صورت نمی‌توان تمام عوارض طبیعی و جغرافیایی را با مقیاس نقشه و به ابعاد و اشکال حقیقی روی نقشه برد. مثلاً یک جاده به عرض ده متر در روی نقشه

به مقیاس  $\frac{۱}{۳۰۰۰۰}$  نیم میلی‌متر پهنا خواهد داشت که ترسیم آن آسان است، ولی اگر نقشه به مقیاس  $\frac{۱}{۳۰۰۰۰۰}$  باشد، عرض این جاده در روی نقشه پنج صدم میلی‌متر خواهد بود و رسم آن روی نقشه

رودخانه		ساختمان		بزرگراه	
مرداب		ارتفاع محل	BMΔ۲۹۳	جاده	
جنگل		منحنی میزان		کوره راه	
آب		گودی		پل	
				راه آهن	

شکل ۵-۱۱- معمولاً در نقشه‌های توپوگرافی منحنی‌های تراز را به رنگ قهوه‌ای، راه‌ها و خطوط آهن و شهرها و اسامی و نوشته‌های روی نقشه را با رنگ سیاه، رودخانه‌ها و کانال‌ها و دریاچه‌ها و دریاها را به رنگ آبی و جنگل و مناطق پوشیده از گیاه را به رنگ سبز نشان می‌دهند.

ممکن نیست. در نتیجه، لازم است در چنین مواردی از علائم قراردادی استفاده کنیم. شکل ۵-۱۱ نمونه‌ای از این قبیل علائم را نشان می‌دهد.

### طرز نشان دادن پستی و بلندی زمین در روی نقشه

در تهیه نقشه‌های توپوگرافی پس از انتخاب مقیاس نقشه، دانستن نحوه تعیین موقعیت نقاط (طول و عرض جغرافیایی) و انتخاب سیستم تصویر لازم است که برآمدگی‌ها و فرورفتگی‌های زمین و یا به عبارت دیگر کوه‌ها و دره‌ها را در روی نقشه نشان بدهیم. نشان دادن برجستگی‌ها و فرورفتگی‌ها در روی نقشه که یک صفحه‌ی مسطح است به روش خاصی نیاز دارد. طریقه‌های مختلفی برای این کار متداول است که مهم‌ترین آن‌ها عبارتند از:

**منحنی میزان (Contour):** در روی نقشه علاوه بر مختصات نقاط (طول و عرض جغرافیایی یا  $x$  و  $y$ )، ارتفاع آن‌ها نسبت به سطح دریا قبلاً معلوم می‌شود. از به هم پیوستن نقاطی که دارای «ارتفاع مساوی» هستند منحنی‌هایی به وجود می‌آید که در اصطلاح نقشه برداری آن‌ها را **منحنی میزان** یا **منحنی تراز** می‌نامند (شکل ۶-۱۱).

روی منحنی‌های میزان ارتفاع مربوط به آن‌ها نوشته می‌شود. اگر روی یک منحنی میزان عدد ۱۵۰۰ نوشته شده باشد به این معنی است که تمام نقاط روی این منحنی از سطح دریا ۱۵۰۰ متر ارتفاع دارند. اگر روی یک منحنی بالاتر از منحنی فوق عدد ۱۶۰۰ و روی یک منحنی پایین‌تر، عدد ۱۴۰۰ نوشته شده باشد نشان دهنده‌ی این است که در این نقشه منحنی‌های میزان با اختلاف ارتفاع صدمتری ترسیم شده‌اند. این اختلاف، فاصله‌ی تراز نامیده می‌شود. فاصله‌ی

تراز بسته به مقیاس نقشه و عوارض منطقه از  $10^\circ$  تا  $25^\circ$  متر انتخاب می‌شود و نیز باید دانست که در نقشه‌های خیلی بزرگ مقیاس، یا زمین نسبتاً مسطح، فاصله‌ی تراز یک متر و حتی کم‌تر از آن هم ممکن است انتخاب شود. معمولاً ارتفاع را در روی همه‌ی منحنی‌ها نمی‌نویسند، بلکه از هر ۵ منحنی یکی را پررنگ‌تر می‌کشند و رقم ارتفاع را در کنارش می‌نویسند.

## نقشه خوانی

برای آن که بتوانید از نقشه‌ها استفاده کنید، باید به نکات زیر توجه داشته باشید:

**جهت:** روی هر نقشه، شبکه‌ی مدارات و نصف‌النهارات رسم شده است. اگر خطوط مذکور روی نقشه رسم نشده باشد، معمولاً پیکانی که جهت شمال را نشان می‌دهد در کنار نقشه رسم شده است و این شمال معمولاً شمال مغناطیسی است. پس با داشتن جهت می‌توانیم موقعیت خود را روی نقشه بدانید.

**مسافت:** از روی نقشه می‌توانید مسافت بین دو نقطه یا دو شهر را تعیین کنید. برای تعیین مسافت بین دو نقطه لازم است اول مقیاس نقشه را بدانید، سپس فاصله‌ی دو نقطه را با خط‌کش و بادقت (درحد میلی‌متر) اندازه بگیرید. با استفاده از یک تناسب فاصله‌ی دو نقطه را تعیین کنید. مثلاً اگر فاصله‌ی دو نقطه‌ی A و B در روی نقشه ۲۳ میلی‌متر و مقیاس نقشه  $\frac{1}{20000}$  باشد مطابق نسبت فوق:

میلی‌متر روی زمین      میلی‌متر روی نقشه

$$1 \qquad 20000$$

$$23$$

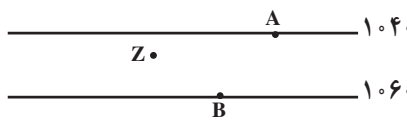
$$x$$

$$x = 23 \times 20000 = 460000 \text{ میلی‌متر}$$

یعنی فاصله‌ی دو نقطه‌ی A و B برابر با ۴۶۰ متر است.

اگر فاصله‌ی دو نقطه C و D در روی نقشه دیگری برابر با ۲۳ میلی‌متر ولی مقیاس نقشه برابر با  $\frac{1}{30000}$  باشد فاصله‌ی D و C چقدر خواهد بود؟

**تعیین ارتفاع:** تعیین ارتفاع نقاط از روی نقشه‌هایی که دارای منحنی میزان هستند به آسانی امکان‌پذیر است. مثلاً در یک نقشه، نقطه‌ی A  $1040$  متر و نقطه‌ی B  $1060$  متر ارتفاع دارند، چون به ترتیب در روی منحنی‌های  $1040$  و  $1060$  واقع شده‌اند. اما ارتفاع نقطه‌ی Z که در بین منحنی  $1040$  و  $1060$  واقع شده و به منحنی میزان  $1040$  نزدیک‌تر است احتیاج به محاسبه دارد. اول فاصله‌ی بین دو منحنی را در نزدیکی Z با خط‌کش میلی‌متری اندازه می‌گیریم، بعد فاصله‌ی نقطه‌ی Z را با منحنی  $1040$  می‌سنجیم، سپس با بستن تناسب ارتفاع نقطه‌ی Z را به دست می‌آوریم. فاصله‌ی دو منحنی  $1060$  میلی‌متر و فاصله‌ی Z تا منحنی  $1040$  برابر با ۳ میلی‌متر و فاصله‌ی تراز  $20$  متر است.

میلی متر	متر		۱۰۴۰
۱۰	۲۰		
۳	$x = \frac{3 \times 20}{10} = 6$ متر		۱۰۶۰

پس ارتفاع نقطه‌ی Z برابر است با:  $۱۰۴۰ + ۶ = ۱۰۴۶$  متر

تعیین مقدار شیب سطح زمین: شیب سطح زمین در بین دو نقطه را می‌توان با استفاده از نقشه‌های توپوگرافی به دست آورد. برای محاسبه شیب بین دو نقطه لازم است که فاصله و اختلاف ارتفاع بین دو نقطه را مطابق آنچه گفته شد به دست آورد. سپس با استفاده از رابطه‌ی زیر مقدار درصد شیب را تعیین کرد:

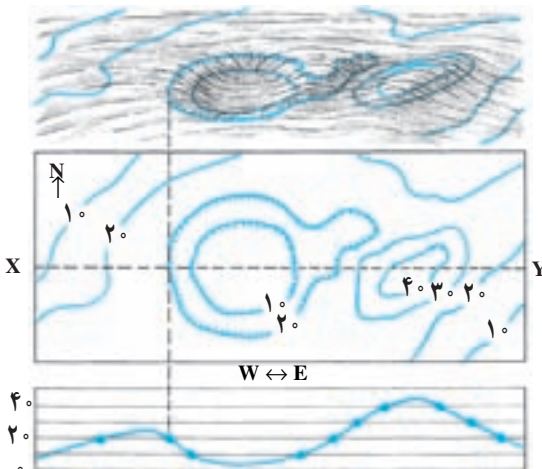
$$\text{شیب متوسط} = \frac{\text{اختلاف ارتفاع دو نقطه (متر)}}{\text{فاصله‌ی دو نقطه (متر)}} \times ۱۰۰$$

مثال: فاصله‌ی دو نقطه‌ی A و B برابر با ۲۰۰۰ متر و اختلاف ارتفاع بین آن‌دو برابر با ۸۰ متر است پس:

$$\text{شیب متوسط} = \frac{۸۰}{۲۰۰۰} = \frac{۴}{۱۰۰}$$

یعنی شیب متوسط بین دو نقطه‌ی A و B چهار درصد است.

رسم نیم‌رخ توپوگرافی: برای آن‌که تصویر بهتری از شکل سطح زمین در یک راستای معین



شکل ۶-۱۱- نحوه تهیه نیم‌رخ توپوگرافی مقیاس قائم و افقی یکسان است.

ارائه دهیم، می‌توانیم نیم‌رخ توپوگرافی زمین را در آن راستا رسم کنیم. به عبارت دیگر نیم‌رخ توپوگرافی، نمایش پستی‌ها و بلندی‌های سطح زمین در یک برش قائم از زمین است. در رسم نیم‌رخ توپوگرافی، گاهی برای بهتر نشان دادن پستی‌ها و بلندی‌ها، مقیاس قائم بزرگ‌تر از مقیاس افقی در نظر گرفته می‌شود. روشن است که در این حالت شیب‌ها واقعی نخواهند بود.

برای تهیه‌ی نیم‌رخ توپوگرافی

طبق مراحل زیر عمل می‌کنیم:



- راستای نیم‌رخ را با رسم یک خط روی نقشه مشخص می‌کنیم (خط XY در شکل ۶-۱۱).
- مقیاس قائم نیم‌رخ را تعیین می‌کنیم (مقیاس افقی را همان مقیاس نقشه در نظر می‌گیریم).
- بر روی یک صفحه کاغذ، تعدادی خطوط افقی رسم می‌کنیم (به جای این کار می‌توانیم از یک صفحه کاغذ میلی‌متری استفاده کنیم). فواصل خطوط افقی براساس مقیاس قائم نیم‌رخ تعیین می‌شود. بنابراین در طرف چپ ارتفاعات را مشخص می‌کنیم.
- لبه‌ی بالایی کاغذ را در راستای مورد نظر (XY) روی نقشه قرار می‌دهیم.
- در هر جا که یک منحنی تراز لبه‌ی کاغذ را قطع کرد، خط قائمی به طرف پایین رسم می‌کنیم تا به خط افقی هم‌ارتفاع خود برسد. این کار را برای بقیه‌ی منحنی‌های تراز نیز انجام می‌دهیم. نقاطی مثل قله‌ی کوه‌ها، قعر دره‌ها، جاده‌ها یا شهرهایی را که در مسیر نیم‌رخ مورد نظر قرار دارند نیز مشخص می‌کنیم.
- با متصل کردن نقاط حاصل، نیم‌رخ مورد نظر را رسم می‌کنیم. برای رسم نیم‌رخ نباید از خط کش استفاده کرد بلکه باید به شکل طبیعی ناهمواری‌های زمین توجه داشت.
- با مشخص کردن جهت نیم‌رخ و درج مقیاس‌های قائم و افقی در روی آن نیم‌رخ را کامل می‌کنیم.

### اندازه‌گیری کرده و سپس تفسیر کنید.

- ۱- موقعیت هر نقطه در کره‌ی زمین را چگونه مشخص می‌کنند؟
- ۲- در نقشه‌ای به مقیاس  $\frac{1}{۳۰۰۰۰}$ ، فاصله‌ی هر سانتی‌متر در روی نقشه، معادل چند متر در روی زمین است؟ در نقشه‌ای با این مقیاس، هر کیلومتر مربع از سطح افقی زمین، در روی نقشه چند سانتی‌متر مربع نشان داده می‌شود؟
- ۳- مقیاس  $\frac{1}{۱۰۰۰۰۰۰}$  را به صورت ترسیمی نشان دهید.
- ۴- با توجه به نقشه‌ی صفحه‌ی بعد:
  - الف - جهت جریان آب رودخانه به کدام سمت است؟
  - ب - شیب دیواره دره در کدام سمت رودخانه بیش‌تر است؟
  - ج - فاصله‌ی افقی AB در سطح زمین چند متر است؟
  - د - مقدار درصد شیب دره را در فاصله AB بیان کنید.
  - ه - کم‌ارتفاع‌ترین نقطه در محدوده‌ی نقشه کجاست؟ مقدار تقریبی آن چگونه برآورد می‌شود؟
  - و - نقطه‌ی D در چه ارتفاعی قرار دارد؟
  - ز - یک نیم‌رخ توپوگرافی در جهت XY نقشه رسم کنید.



## نقشه‌های زمین‌شناسی

مهم‌ترین کاربرد نقشه‌های توپوگرافی در زمین‌شناسی، استفاده از آن‌ها به‌عنوان نقشه‌ی پایه در تهیه نقشه‌های زمین‌شناسی است.

نقشه‌های توپوگرافی شکل سطح زمین را در یک منطقه نشان می‌دهند، ولی نقشه‌های زمین‌شناسی نمایان‌گر وضع زمین‌شناسی هر محل‌اند. در نقشه‌های زمین‌شناسی، پراکندگی سطحی سنگ‌ها یا واحدهای سنگی، روابط سنی آن‌ها، وضعیت ساختمانی و همچنین موقعیت کنسارها به نمایش گذاشته می‌شود (رسوبات سطحی ممکن است به‌نقشه درآید یا آن‌که حذف شود و تنها نقشه‌ی سنگ‌بستر تهیه گردد).

تهیه‌ی نقشه‌ی زمین‌شناسی: اساس کار تهیه‌ی نقشه‌ی زمین‌شناسی تعیین واحدهای سنگی مناسبی است که قابل نقشه‌برداری باشند. این واحدها باید دارای ویژگی‌هایی باشند که آن‌ها را از واحدهای دیگر قابل تشخیص سازد. چنان‌که در فصل ۸ گفتیم «سازند» یا «تشکیلات» واحد سنگی اصلی چینه‌شناسی، در مطالعات زمین‌شناسی و تهیه‌ی نقشه‌های زمین‌شناسی، است. سازند، مجموعه‌ای از چینه‌هاست که ویژگی‌های سنگ‌شناسی آن‌ها طوری است که از واحدهای بالا و پایین خود متمایز

باشند. ضخامت و گسترش سازندها به قدری است که قابل نقشه برداری اند.

تهیه‌ی نقشه زمین‌شناسی مستلزم مطالعه و بررسی مستقیم منطقه‌ی مورد نظر و جمع‌آوری اطلاعات لازم از بیرون زدگی هاست. علاوه بر جنس سنگ‌ها و نوع واحدهای سنگی و سن نسبی آن‌ها، اطلاعات دیگری مثل امتداد و شیب لایه‌ها و گسل‌ها و درزها؛ ضخامت لایه‌ها، نوع ساختمان‌های زمین‌شناسی، موقعیت کانسارها و اطلاعات لازم دیگر گردآوری می‌شود. دقت یک نقشه‌ی زمین‌شناسی، علاوه بر مهارت زمین‌شناس به پیچیدگی وضعیت زمین‌شناسی محل و چگونگی بیرون زدگی سنگ‌ها نیز وابسته است. خاک‌های ضخیم، پوشش‌های گیاهی، دریاچه‌ها و باتلاق‌ها می‌توانند سنگ‌های زیرین را بپوشانند و تهیه‌ی نقشه‌ی زمین‌شناسی را مشکل‌تر کنند. در بعضی بیرون زدگی‌ها ممکن است سنگ‌ها به شدت هوازده باشند و نوع سنگ‌ها و شیب و امتداد لایه‌ها به خوبی قابل تشخیص نباشد، در حالی که در برخی بیرون زدگی‌های دیگر ممکن است بتوان اطلاعات زیادی به دست آورد. در مناطق مرطوب معمولاً سنگ‌بستر پوشیده از گیاهان و قشر ضخیم خاک است و بیرون زدگی‌های کمی وجود دارد. در این گونه مناطق وضعیت زمین‌شناسی را می‌توان در بریدگی جاده‌ها، دره‌ی رودخانه‌ها و نقاطی از این قبیل مطالعه کرد. در مناطق خشک و نیمه‌خشک (مثل بخش‌های وسیعی از کشور ما) سنگ‌ها به طور کامل بیرون زده‌اند و بنابراین تهیه‌ی نقشه‌ی زمین‌شناسی آسان‌تر است.

یکی از ضروریات اولیه در تهیه‌ی نقشه‌ی زمین‌شناسی برای یک محل، در دست داشتن یک نقشه‌ی پایه (ترجیحاً یک نقشه‌ی توپوگرافی که فاصله‌ی منحنی‌های تراز بیش از ۵ متر نباشد) یا داشتن عکس‌های هوایی محل است. اطلاعات گردآوری شده را بر روی نقشه‌های توپوگرافی یا عکس‌های هوایی پیاده می‌کنند و سپس آن‌ها را به نقشه‌ی زمین‌شناسی تبدیل می‌نمایند. برای این کار باید بتوان بین بیرون زدگی‌ها ارتباط یا همبستگی (تطابق) چینه‌شناسی برقرار کرد. نقشه‌های توپوگرافی و عکس‌های هوایی از نظر ارتباط دادن بین بیرون زدگی‌ها بسیار مفیدند. مثلاً ممکن است تمام بیرون زدگی‌هایی که بر روی برآمدگی قرار دارند یک واحد سنگی معین را نشان دهند. آنچه که در نقشه‌های زمین‌شناسی عملاً نشان داده می‌شود مرز بین واحدهای سنگی مختلف است که به آن همبری یا کنتاکت (Contact) بین لایه‌ها می‌گویند. در جایی که همبری واحدهای سنگی واضح است به صورت خط پر و در جایی که چندان روشن نیست به صورت خط چین کشیده می‌شود.

در راهنمای نقشه توصیف مختصری از هر یک از واحدهای آن می‌آید. علاوه بر رنگ، هر یک از واحدها با نماد حرفی معینی نیز مشخص می‌شوند (مثلاً ممکن است سازند شمشک که متعلق به ژوراسیک است با  $J_s$  مشخص شود).

نشانه

توضیح



امتداد و شیب لایه‌ها



امتداد لایه‌های قائم، طرف بالای لایه با زاویه شیب مشخص شده است



لایه‌های افقی، شیب صفر



امتداد و شیب فولیاسیون در سنگ‌های دگرگونی



امتداد فولیاسیون قائم



تاقدیس



ناودیس



تاقدیس با جهت و مقدار زاویه میل ۲۱



ناودیس با جهت و مقدار زاویه میل ۱۵



گسل عادی، هاشورها در روی قطعه پایین افتاده



گسل معکوس، بیکان جهت شیب و هاشورها در روی قطعه پایین افتاده



شیب سطح گسل، D قطعه پایین افتاده، U قطعه بالا رانده

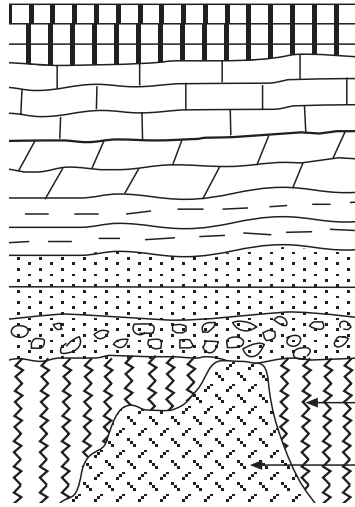


گسل امتداد لغز و جهت حرکت قطعات



گسل رانده، دندان‌ها روی قطعه فوقانی

الف



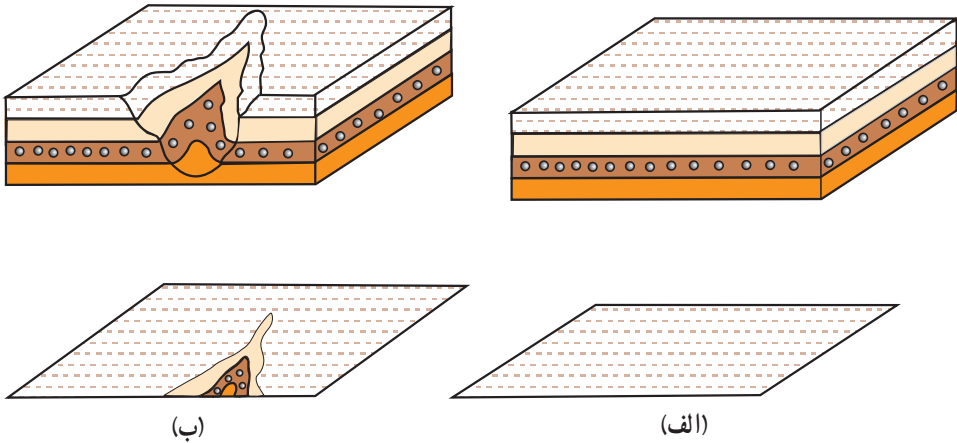
ب

شکل ۷-۱۱- نشانه‌هایی که معمولاً برای نشان دادن ساخت‌های زمین‌شناسی (الف) و برخی انواع سنگ‌ها (ب) در نقشه‌های زمین‌شناسی به کار می‌رود.

تعبیر و تفسیر نقشه‌های زمین‌شناسی: نحوه‌ی بیرون زدگی لایه‌ها و توده‌های سنگی در نقشه‌ها به وضعیت آن‌ها و توپوگرافی زمین بستگی دارد. در این جا برخی حالات ساده را مورد بررسی قرار می‌دهیم:

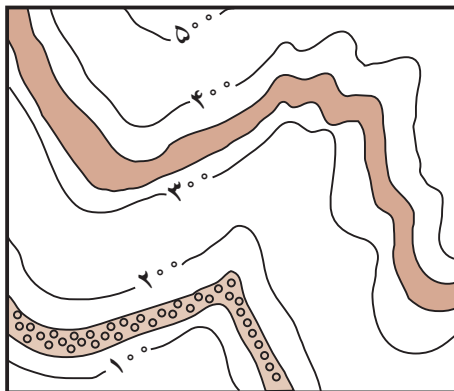
الف- لایه‌های افقی: حالت ساده‌ای را در نظر بگیرید که لایه‌ها افقی و سطح زمین نیز افقی باشد. روشن است که در این حالت تنها بالاترین لایه در سطح زمین قابل مشاهده است و در نتیجه در نقشه‌ی زمین‌شناسی نیز تنها این لایه به نمایش در خواهد آمد، زیرا لایه‌های زیرین در سطح زمین بیرون زدگی ندارند (شکل ۸-۱۱-الف). حال اگر در چنین منطقه‌ای، مثلاً به علت فرسایش رودخانه‌ای،

دره‌ای ایجاد شود، ممکن است لایه‌های زیرین نیز در سطح زمین رخنمون پیدا کنند و در نتیجه در نقشه نشان داده شوند (شکل ۸-۱۱-ب).



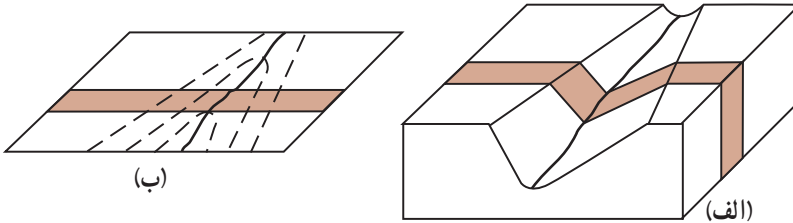
شکل ۸-۱۱- نمودار سه‌بعدی (بالا) و نقشه‌ی زمین‌شناسی (پایین) یک‌سری لایه‌های افقی. الف: وقتی سطح زمین افقی باشد بالاترین لایه به نقشه درمی‌آید. ب: وقتی سطح زمین برجسته و فرورفته باشد، لایه‌های زیرین نیز ممکن است در نقشه نشان داده شوند.

وقتی لایه‌ها افقی باشند، چون سطح جداکننده‌ی هر دو لایه‌ی روی هم افقی است، بنابراین محل برخورد این سطح با سطح زمین در تمام نقاط دارای ارتفاع یکسان است. به این جهت اگر نقشه‌ی زمین‌شناسی همراه منحنی‌های تراز توپوگرافی باشد، خط همبری لایه‌های افقی در همه‌جا موازی منحنی‌های تراز است (شکل ۹-۱۱).

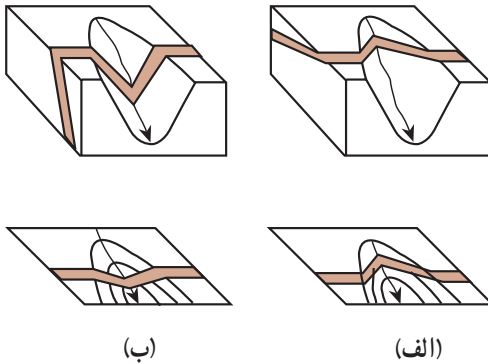


شکل ۹-۱۱- وقتی لایه‌ها افقی باشند، خط همبری لایه‌ها در همه‌جا با منحنی‌های تراز توپوگرافی موازی است.

ب- لایه‌های قائم: طرح همبری لایه‌های قائم در نقشه‌های زمین‌شناسی متأثر از توپوگرافی نیست و به صورت خطوط مستقیم به نمایش درمی‌آید. مثلاً یک دایک قائم با ضخامت ثابت به صورت دو خط مستقیم موازی نشان داده می‌شود (شکل ۱۰-۱۱).




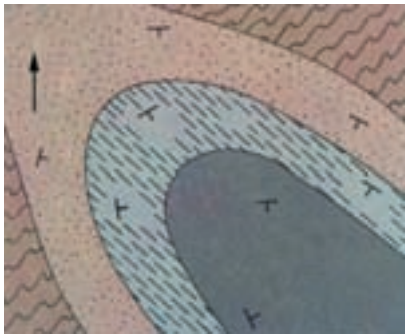
شکل ۱۰-۱۱- نمودار سه‌بعدی (الف) و نقشه‌ی زمین‌شناسی (ب) یک لایه قائم.



شکل ۱۱-۱۱- نمودار سه‌بعدی (بالا) و نقشه‌ی زمین‌شناسی (پایین) لایه‌های مایل.

ج- لایه‌های مایل: الگوی همبری لایه‌های مایل در نقشه‌های زمین‌شناسی به سادگی لایه‌های افقی و قائم نیست و با توجه به توپوگرافی زمین و شیب لایه به شکل‌های مختلف ظاهر می‌شود. به طور مثال بیرون زدگی لایه‌های مایل در دره‌ی رودخانه‌ها معمولاً V شکل است (جز در مواردی که شیب کف دره و لایه در یک جهت و یکسان باشد). نمونه‌ای از بیرون زدگی یک لایه‌ی مایل در دره‌ی رودخانه در شکل ۱۱-۱۱ نشان داده شده است.

د- چین‌ها: شکل چین‌ها در نقشه‌های زمین‌شناسی به نوع چین و توپوگرافی زمین بستگی دارد. اگر سطح زمین افقی باشد، چین افقی (چینی با محور افقی)، به صورت یک رشته خطوط موازی در نقشه‌ی زمین‌شناسی به نمایش درمی‌آید (شکل ۱۲-۱۱). لایه‌ها معمولاً نسبت به اثر محوری چین به طور قرینه تکرار می‌شوند. در چین دارای میل (چینی با محور مایل)، لایه‌ها به صورت V شکل (شکل ۱۳-۱۱) یا زیگزاک مانند رخنمون دارند. نوک V در تاقدیس‌ها جهت زاویه‌ی میل چین را نشان می‌دهد (در ناودیس‌ها به عکس است). اگر چین برگشته نباشد، شیب پهلوهای چین در ناودیس‌ها به طرف هم است و در تاقدیس‌ها از هم دور می‌شود. در چین‌های برگشته شیب لایه‌ها در هر دو پهلو چین به یک سمت است.



- اردو سیسین
- شیل
- کامبرین
- شیل
- ماسه سنگ
- پروتروزویک
- شیست

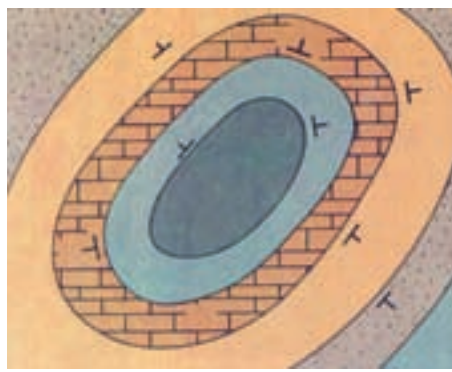
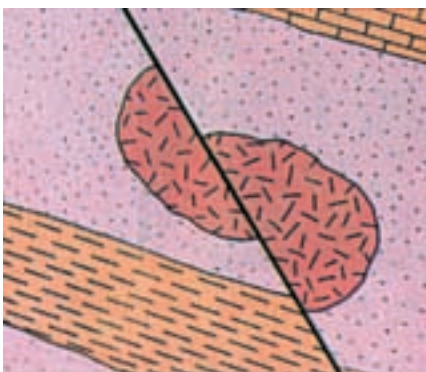
شکل ۱۳-۱۱- نقشه‌ی زمین‌شناسی یک ناودیس مایل. جهت میل ناودیس به طرف جنوب شرقی است.

شکل ۱۲-۱۱- نقشه زمین‌شناسی یک ناودیس با محور افقی

طرح همبری لایه‌ها در گنبد‌های ساختمانی (تاق‌دیس‌های گنبدی شکل) به صورت تقریباً دایره یا بیضی است که شیب لایه‌ها از مرکز دور می‌شود. در چنین ساختمان‌هایی، قدیمی‌ترین سنگ‌ها در مرکز قرار دارند (شکل ۱۴-۱۱). در حوضه‌های ساختمانی (ناودیس‌های کاسه‌مانند) شیب لایه‌ها و توالی آن‌ها به‌عکس گنبد‌های ساختمانی است.

در زمین‌های دارای پستی و بلندی، شکل رخنمون چین‌ها نیز، مانند آن‌چه که در مورد لایه‌ها گفتیم، متأثر از توپوگرافی زمین است.

هـ- گسل‌ها: آنچه که در مورد طرح بیرون‌زدگی سطوح لایه‌بندی گفتیم در مورد گسل‌ها نیز صادق است. مثلاً گسل قائم به صورت خط مستقیم در نقشه به‌نمایش درمی‌آید. گسل‌ها موجب قطع‌شدگی و جابه‌جایی سنگ‌ها می‌شوند، بنابراین در نقشه‌ی زمین‌شناسی ممکن است یک لایه‌ی معین، یک توده‌ی آذرین یا هر ساخت دیگری در طرفین یک گسل جابه‌جایی نشان دهد (شکل ۱۵-۱۱).

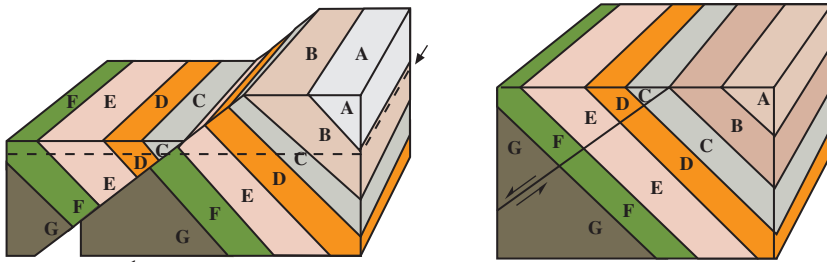


- کربنیفر
- ماسه سنگ
- دونین
- دولومیت
- سیلورین
- سنگ آهک
- شیل
- اردو سیسین
- شیل

جابه‌جایی واحدهای سنگی مشابه نشان‌دهنده وجود یک گسل است.

شکل ۱۴-۱۱- یک گنبد ساختمانی به‌صورتی که در یک نقشه‌ی زمین‌شناسی ظاهر می‌شود.

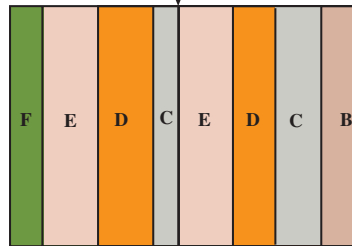
شکل ۱۵-۱۱- نقشه‌ی زمین‌شناسی یک توده‌ی آذرین و لایه‌های اطراف آن که به وسیله‌ی گسل جابه‌جا شده‌اند.



ب - نمودار سه بعدی پس از گسل (خط چین سطح فرسایش جدید را نشان می‌دهد).

الف - نمودار سه بعدی قبل از گسل

گسل



ج - نقشه‌ی سطح فرسایش یافته که تکرار واحدهای D, E و C را نشان می‌دهد.

شکل ۱۶-۱۱ - یک گسل عادی که موجب تکرار لایه‌ها شده است.

گسل‌ها ممکن است موجب تکرار لایه‌ها شوند. در شکل ۱۱-۱۶ گسل موجب تکرار لایه‌ها شده است (توجه کنید برخلاف شکل ۱۱-۱۲ در اینجا جهت شیب و توالی لایه‌ها تغییر نکرده است).  
و - مقطع زمین‌شناسی: تفسیر نقشه‌های زمین‌شناسی مستلزم داشتن دید سه بعدی است. به این منظور معمولاً تهیه کنندگان نقشه‌های زمین‌شناسی، همراه نقشه، یک یا چند مقطع زمین‌شناسی نیز ارائه می‌دهند. با استفاده از مقاطع زمین‌شناسی می‌توان به وضعیت ساختمان‌های زیرزمینی پی برد. مقطع زمین‌شناسی نموداری است که ترتیب قرار گرفتن سنگ‌ها و سازندها را در صفحه‌ی قائم (عمود بر صفحه‌ی نقشه) نشان می‌دهد. در واقع مقطع زمین‌شناسی، آنچه را که در دیواره‌ی قائم یک بریدگی فرضی در راستای مورد نظر (مثلاً بریدگی یک جاده) نمایان می‌شود، به نمایش می‌گذارد.  
برای تهیه‌ی مقطع زمین‌شناسی به ترتیب زیر عمل می‌کنیم:

- راستای مورد نظر خود را با یک خط روی نقشه مشخص می‌کنیم (XY در شکل ۱۷-۱۱). معمولاً این راستا عمود بر امتداد لایه‌هاست.

- نیم‌رخ توپوگرافی را در راستای تعیین شده (طبق آنچه که قبلاً گفتیم) بر روی یک صفحه کاغذ رسم می‌کنیم.

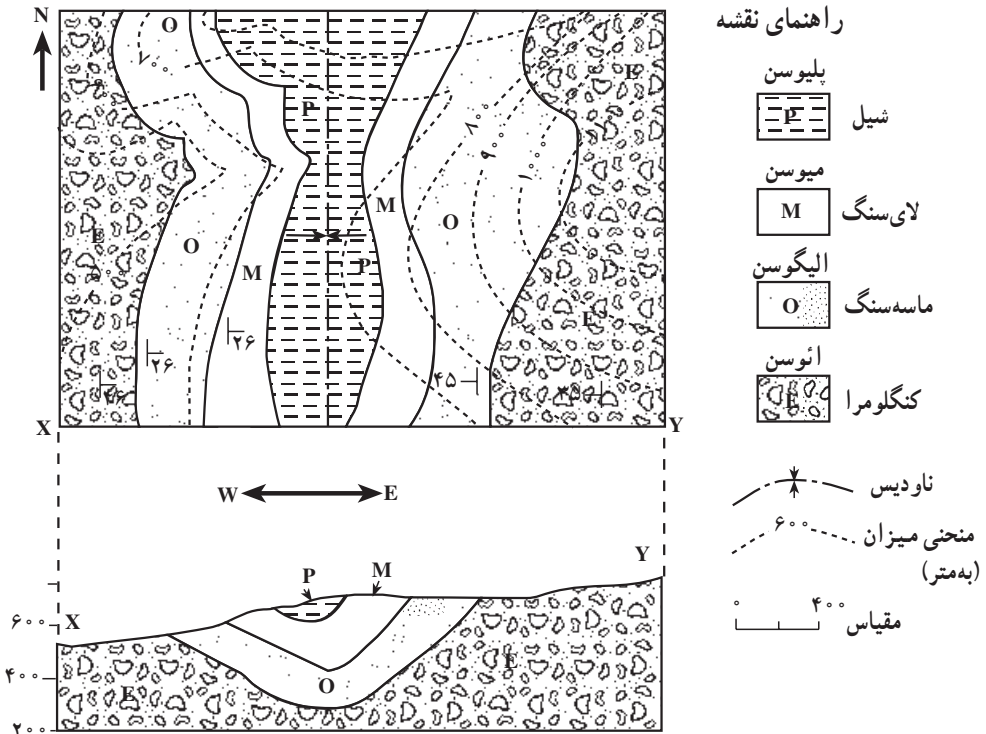


– آن‌گاه دوباره لبه‌ی کاغذ را در راستای موردنظر روی نقشه قرار می‌دهیم و محل برخورد خطوط همبری لایه‌ها، گسل‌ها، دایک‌ها و دیگر بیرون‌زدگی‌ها را با لبه‌ی کاغذ در روی نیم‌رخ توپوگرافی مشخص می‌کنیم.

– براساس تمام اطلاعات موجود، مثل جهت، شیب، ضخامت و توالی لایه‌ها، دایک‌ها، گسل‌ها و غیره، ادامه‌ی آن‌ها را در زیرزمین مشخص می‌کنیم و شکل ساختمان‌های زیرزمینی را تا حد امکان بازسازی می‌نماییم.

– سرانجام با قراردادادن نشانه‌ها و نمادهای لازم، درج مقیاس‌های قائم و افقی و مشخص کردن جهت مقطع، آن را کامل می‌کنیم.

در شکل ۱۷-۱۱ نحوه‌ی ترسیم یک مقطع زمین‌شناسی نشان داده شده است. این مقطع در راستای XY و عمود بر امتداد لایه‌هاست. شیب لایه‌ها در چند نقطه در روی نقشه مشخص شده است.



شکل ۱۷-۱۱- چگونه ترسیم مقطع زمین‌شناسی از روی نقشه

## زمین در خدمت انسان

# ۱۲

موادی که از زمین به دست می‌آید، مبنای تمدن امروزی را تشکیل می‌دهند. مواد معدنی و منابع انرژی‌زایی که از پوسته‌ی زمین حاصل می‌آیند، مواد خامی هستند که صنایع مختلف براساس آن‌ها شکل گرفته‌اند و نیازهای جامعه را فراهم می‌کنند. شما ممکن است متوجه نشوید که زمین تا چه حد در رفع نیازهای مختلف به همه‌ی ما خدمت می‌کند. کافی است نگاهی به اطراف خود بیندازید. مصالح ساختمانی تا وسایل داخل خانه، ماشین‌آلات، ابزارهای مختلف، مواد سوختی، حمل و نقل، برق، بیشتر داروها و رنگ‌ها و بالاخره آب، از زمین تأمین شده‌اند. هر چه جامعه و ملتی صنعتی‌تر باشد، میزان استفاده‌اش از فرآورده‌های زمین هم بیشتر خواهد بود.

در بعضی از کشورها، از جمله در کشور خودمان، منابع معدنی فلزی و غیرفلزی زیادند و در برخی، کمتر یافت می‌شوند. امروزه، اقتصاد بسیاری از کشورها بر پایه‌ی میزان دست‌یابی به این مواد استوار است.



شکل ۱۲-۱ چه انرژی‌هایی در این شهر بزرگ مصرف دائمی دارند؟

## فعالیت

### منابع تجدیدشده و تجدید نشده

به موادی که در طول مدت چند ماه یا چند سال جانشین شوند، منابع تجدیدشده می‌گویند. در عوض، منابع و مواد دیگری وجود دارند که تولید مجدد آن‌ها به گذشت میلیون‌ها سال نیاز دارد. بر این اساس، جدول زیر را کامل کنید.

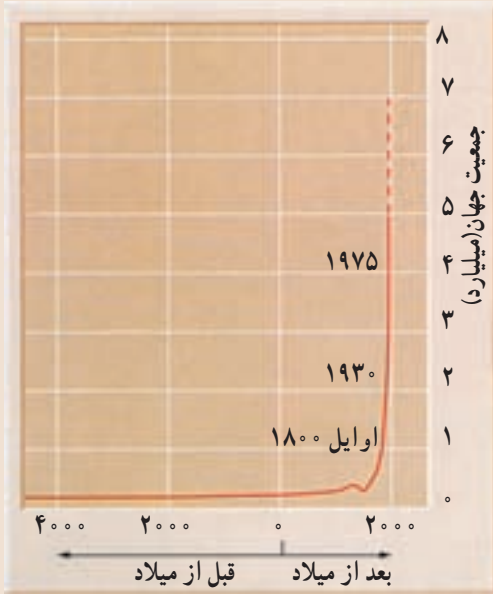
کاربرد	منابع تجدیدشده	منابع تجدید نشده

— به نظر شما آب زیرزمینی منبعی تجدید شده است یا تجدید نشده؟ دلیل بیاورید.  
— در کشور ما، از کدام منابع تجدید نشده باید مراقبت بیشتری شود؟ دلیل بیاورید.



شکل ۲-۱۲- مقدار مصرف سرانه مواد فلزی و غیر فلزی به ازای هر نفر، در یک کشور

## بحث کنید



رشد جمعیت انسان تا سالهای اخیر خارج از کنترل بوده است. احتمال دارد که در سال ۲۰۰۵، جمعیت جهان از مرز ۷ میلیارد نفر هم بگذرد!

با آن که تا اول قرن نوزدهم تعداد افراد آدمی به یک میلیارد نفر نرسیده بود، از آن پس، فقط در مدت ۱۳۰ سال، به دو میلیارد نفر رسید. این رقم در فاصله سال‌های ۱۹۳۰ تا ۱۹۷۵، باز هم دوبرابر شد. منحنی مقابل، سرعت رشد جمعیت انسان را نشان می‌دهد.

۱- پی‌آمدهای این رشد بی‌رویه چیست؟

- ۲- رشد جمعیت، نیاز به کدام منابع زمین را بیشتر کرده است؟
- ۳- برای کدام منابع، جانسین‌سازی صورت گرفته است؟

## منابع انرژی



شکل ۳-۱۲- حجم عظیمی از مواد سوختی را خودروها مصرف می‌کنند.

زغال‌سنگ، نفت و گاز طبیعی، سوخت‌های مهم جوامع امروزی را تشکیل می‌دهند. با آن که در طول چند دهه‌ی آینده کمبودی از این لحاظ مشهود نیست، اما این منابع انرژی به سرعت روبه کاهش اند. حتی بی‌گیری کارهای اکتشافی در اعماق دریا و در میان یخ‌های قطبی هم جلوی بحران آینده را نخواهد گرفت، به‌ویژه این که مصرف نیز روزبه‌روز بالاتر می‌رود. اگر وضع به همین منوال پیش برود، قاعدتاً باید در فکر منابع دیگر انرژی از قبیل ژئوترمال (حرارت داخل زمین)، خورشیدی، باد و هیدروالکتریک (آبی) بود.

## زغال سنگ

زغال سنگ، نوعی سنگ رسوبی است و در بین سایر موادی که از زمین به دست می آید اهمیت ویژه‌ای دارد. در بسیاری از موارد می توان آثار ساقه و ریشه‌ی گیاهان را در داخل لایه‌های زغال سنگ و سنگ‌های اطراف آن مشاهده کرد. این مطلب نشان‌دهنده‌ی منشأ گیاهی آن است (شکل ۶- ۸).

گیاهان قدیمی که زغال سنگ از آنها درست شده است تا حد زیادی شبیه گیاهان امروزی و فوق‌العاده متنوع بوده‌اند به گونه‌ای که فقط در زغال‌های دوره‌ی کربونیفر بیش از ۳۰۰۰ نوع گیاه تشخیص داده‌اند.

نحوه‌ی تجمع مواد اولیه: اگرچه منشأ گیاهی زغال سنگ مورد قبول تمام دانشمندان است اما در مورد چگونگی تجمع مواد گیاهی دو نظریه‌ی مختلف تحت عنوان نظریه‌های درجازا و دگرجازا وجود دارد.

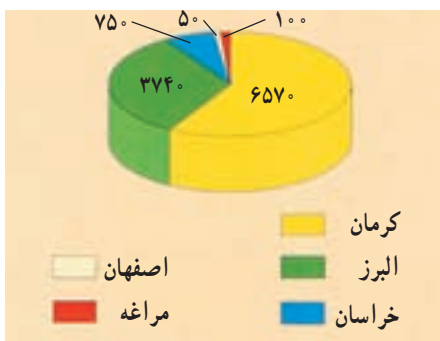
مطابق نظریه‌ی درجازا، زغال سنگ در همان محل رویش گیاهان تشکیل شده است. بر اساس این نظریه، پس از این که شرایط آب و هوایی مناسب سبب شد که جنگل‌های انبوهی به وجود آید، تنه‌ی درختان بر زمین افتاد و توده‌ای از مواد اولیه گیاهی جمع شد. در مرحله‌ی بعد، سیلاب‌هایی که از محل می‌گذشت، گل ولای همراه خود را برجای گذاشت و بدین ترتیب روی مواد گیاهی با پوششی از این مواد پوشیده شد و به تدریجی که بعداً خواهیم دید، این مواد به زغال تبدیل شدند.

مطابق نظریه‌ی دگرجازا، سیلاب‌های موسمی و طغیان رودخانه‌هایی که از نزدیک جنگل‌ها می‌گذشت، سبب شد که درختان زیادی کنده شود و توسط رودخانه به دریا یا باتلاق حمل گردد و در آنجا رسوب کند و سپس به زغال تبدیل شود.

در حوضه‌های زغالی مختلف دلایلی در تأیید هر یک از این دو نظریه وجود دارد و در بعضی از حوضه‌ها هم به نظر می‌رسد که هر دو نظریه صادق باشند. یعنی در عین حال که پیش‌روی دریا در جنگل سبب تشکیل بعضی از لایه‌ها شده است، رودخانه‌ها نیز مقدار زیادی مواد گیاهی با خود حمل کرده و مواد اولیه‌ی سایر لایه‌ها را فراهم نموده‌اند.

**چگونگی تبدیل مواد گیاهی به زغال سنگ:** پس از تجمع مواد گیاهی، این مواد طی مراحلی به زغال تبدیل می‌شوند.

در اولین مرحله در اثر فعالیت باکتری‌های مختلف مواد گیاهی تجزیه می‌شود و بعضی از عناصر تشکیل دهنده‌ی خود مثل اکسیژن و هیدروژن را از دست می‌دهد. بدین ترتیب درصد کربن آن اضافه شده و پس از مدتی به زغال نارس تبدیل می‌گردد. زغال نارس به تدریج با قشری از رسوبات گل ولای پوشیده



شکل ۴-۱۲- ذخایر زغال سنگ ایران (میلیون تن)

شده و فشرده تر می شود. مدتی بعد فعالیت باکتری ها متوقف می شود. به مرور که زغال نارس به اعماق فرومی رود، در اثر افزایش فشار رسوبات، فشار و دمای محیط افزایش می یابد و طی آن زغال نارس ابتدا به زغال قهوه ای و سپس به انواع دیگر زغال تبدیل می شود.


زغال سنگ انواع مختلفی دارد که هر نوع آن کاربرد ویژه ای دارد. بعضی از انواع مرغوب آن در صنایع فولاد مصرف دارد و به نام کک معروف است.

انواع دیگر آن نیز برای ایجاد حرارت به عنوان سوخت به کار می رود و آن ها را زغال های حرارتی می نامند.

اهمیت نفت در زندگی روزمره بر کسی پوشیده نیست. از گرمای اتاقتان گرفته تا غذایی که می پزید، نفت دخالت دارد. برای رفتن به مدرسه و سایر نقاط از وسایل نقلیه استفاده می کنید که برای حرکت به مواد نفتی نیاز دارند. علاوه بر سوخت، نفت در تهیه ی بسیاری از پلاستیک ها به کار می رود. در بسیاری از لباس ها نیز الیافی به کار می رود که از مواد نفتی ساخته شده اند.

## نفت

نفت ماده ی آلی مایع و سیاه رنگی است که بوی مخصوصی دارد. باید توجه داشت که آنچه ما در زندگی روزانه از آن به عنوان نفت، در بخاری و چراغ استفاده می کنیم، در واقع نفت سفید و تنها یکی از محصولات آن است که در اثر پالایش نفت خام به دست می آید.



**چگونگی تشکیل نفت:** مواد اولیه ی نفت، عمدتاً موجودات زنده ریزی بوده اند که امروزه نیز به حالت شناور در آب دریا وجود دارند. این جانداران، دارای بعضی ترکیبات، نظیر اسیدهای چرب هستند که ماده ی اصلی برای تشکیل نفت است. نمونه هایی از این موجودات در شکل ۵-۱۲ دیده می شوند.

شکل ۵-۱۲- نمونه هایی از موجودات شناور نفت ساز

عمر جانوران و گیاهان شناور نفت‌ساز معمولاً کوتاه است و قسمتی از بقایای این موجودات بر کف دریا فرو می‌ریزد. البته باید توجه داشت که تمام بقایای این موجودات به کف حوضه‌ی رسوبی نمی‌رسند و بخش عمده‌ای از آن‌ها قبل از رسوب، اکسید شده و یا توسط جانوران دیگر خورده می‌شوند. به‌رحال بازهم آن‌بخش از بقایا که در کف حوضه رسوب می‌کنند، حجم زیادی دارند و برای تشکیل مقدار قابل توجهی نفت، کافی هستند. این قسمت از بقایا که از نوع مواد آلی است، چون به کف حوضه‌ی رسوبی می‌رسند، به‌نحوی حفظ می‌شوند. عامل این حفظ رسوبات دانه ریزی است که همراه با آن‌ها رسوب می‌کند و باعث محفوظ ماندن این مواد می‌شود. به‌طوری که دیده می‌شود، برای تشکیل نفت شرایط خاصی لازم است زیرا علاوه بر وجود مواد اولیه، محیط رسوبی نیز باید کم‌عمق باشد تا مواد بتوانند در زمان کوتاهی رسوب کنند. از سوی دیگر، مقدار اکسیژن محیط نیز باید صفر یا ناچیز باشد تا مانع از اکسایش مواد شود. اکنون این مسئله روشن می‌شود که چرا باوجودی که موجودات زنده‌ی شناور به میزان زیاد در حوضه‌های رسوبی وجود دارند، در تمام آن‌ها نفت تشکیل نمی‌شود. مواد دانه‌ریزی که همراه با بقایای موجودات رسوب می‌کنند، بعدها به سنگ تبدیل می‌شوند و به نام سنگ‌مادر معروف‌اند.

فرآیند تبدیل مواد آلی به ترکیب‌های مختلف کربن و هیدروژن (هیدروکربن‌ها) که نفت را تشکیل می‌دهند، فرآیند پیچیده‌ای است که در آن باکتری‌های غیرهوازی نقش اصلی را به‌عهده دارند. این باکتری‌ها که در اغلب رسوبات دریایی وجود دارند، به‌مرور سبب تجزیه‌ی مواد آلی و تبدیل آن‌ها به نفت می‌شوند.

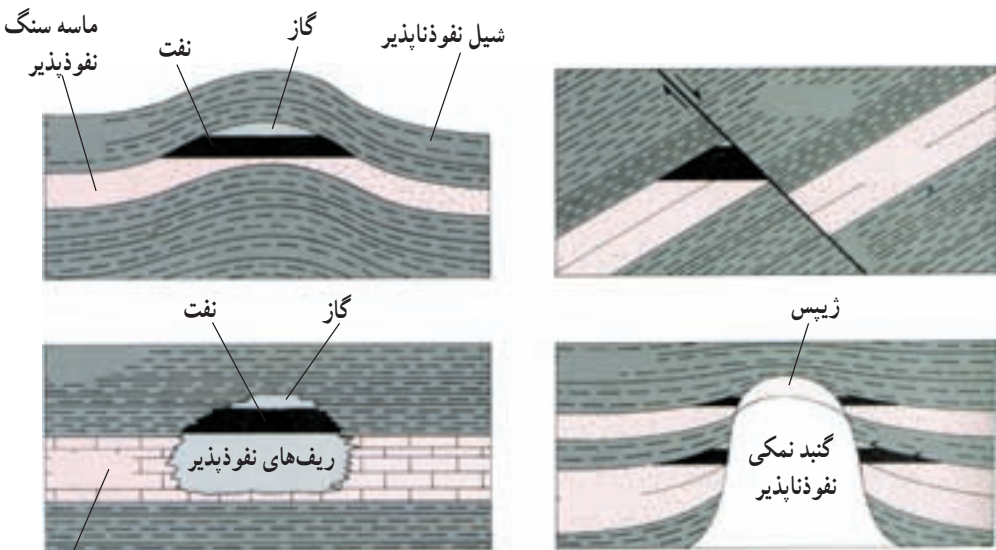
**مهاجرت اولیه‌ی نفت:** رسوبات حاوی مواد نفتی در ابتدا به‌صورت لجنی است که ۷۰ تا ۸۰ درصد آن مایع و بقیه‌ی آن رسوبات مختلف است. بیش از ۹۹ درصد مایع موجود در این لجن را آب‌دریا (آب‌شور) و فقط کم‌تر از یک درصد آن را نفت تشکیل می‌دهد.

با ادامه‌ی رسوب‌گذاری در حوضه‌ی رسوبی، وزن رسوبات و بنابراین فشار مؤثر بر لجن، رسوبات را متراکم‌تر می‌کند. تراکم رسوبات سبب می‌شود که مایعات موجود از آن خارج شوند و بدین ترتیب خروج آب و نفت از خلل و فرج رسوبات که اکنون دیگر سنگ شده و سنگ‌مادر نامیده می‌شود، آغاز می‌شود که آنرا مهاجرت اولیه می‌گویند.

واضح است که در اعماق زمین، فضای خالی به‌صورت غار وجود ندارد و آب و نفت از درون منافذ ریز موجود در سنگ‌ها حرکت می‌کنند. گرچه در ابتدای کار حرکت آب و نفت به سمت بالا است، اما با اضافه شدن تراکم رسوبات، حرکت جانبی نیز انجام می‌گیرد و بدین ترتیب مهاجرت مخلوط

آب و نفت ادامه می‌یابد. مهاجرت اولیه‌ی نفت ممکن است به چندصد کیلومتر برسد. بخش عمده‌ای از نفتی که بدین ترتیب تشکیل شده است، ضمن مهاجرت اولیه هدر می‌رود اما اگر در مسیر حرکت آب و نفت محل مناسبی برای تجمع نفت وجود داشته باشد این مخلوط در آن به دام می‌افتد و انباشته می‌شود. **نفت گیرها:** نفت گیرها مخازن طبیعی مناسبی هستند که نفت در داخل آن‌ها انباشته می‌شود. برای این که نفت انباشته شود، اولاً باید سنگ مخزن مناسبی با تخلخل و قابلیت نفوذ خوب وجود داشته باشد، ثانیاً باید روی آن با سنگ غیر قابل نفوذی که به آن پوش سنگ می‌گویند، پوشیده شود و ثالثاً وضعیت هندسی آن برای انباشته شدن نفت مناسب باشد.

نفت گیرها انواع مختلفی دارند که بعضی از انواع آن را در شکل ۶-۱۲ می‌بینید.



شکل ۶-۱۲- بعضی از انواع نفت گیرها

**مهاجرت ثانویه‌ی نفت:** پس از آن که مخلوط آب و مواد نفتی در داخل نفت گیر به دام افتاد، در اثر اختلاف وزن مخصوص آب، نفت و گاز، این سه بخش به تدریج از یکدیگر جدا می‌شوند و سه لایه‌ی مختلف را در داخل نفت گیر، تشکیل می‌دهند. این مرحله را مهاجرت ثانوی می‌گویند.

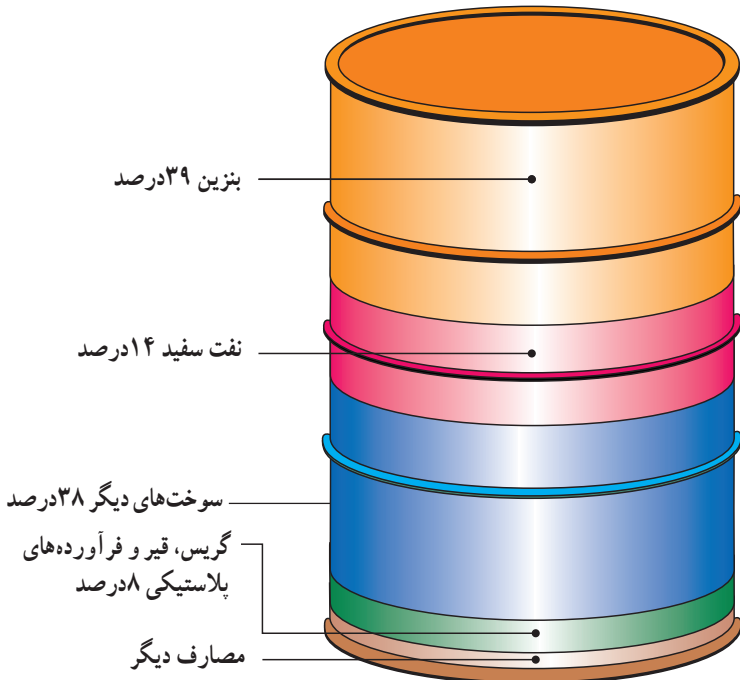
گرچه در حالت کلی معمولاً در نفت گیرها به ترتیب سه لایه‌ی گاز، نفت و آب روی هم قرار دارند ولی این امر همیشه صادق نیست و ممکن است در یک نفت گیر فقط گاز یا آب وجود داشته باشد.



**ترکیب نفت:** به طور کلی می توان نفت را به عنوان ترکیبات مختلف هیدروژن و کربن یا هیدروکربن تعریف کرد. این هیدروکربن ها از نظر مشخصات شیمیایی و فیزیکی باهم متفاوت اند و ممکن است حالت گاز، مایع و یا جامد داشته باشند.

معدودی از نفت ها، بی رنگ و بی بو هستند ولی اغلب آن ها رنگ تیره و بوی مشخصی دارند. اگر مولکول های تشکیل دهنده ترکیبات نفتی بزرگ باشند، نفت را سنگین و در غیر این صورت، آن را سبک می گویند. در مواردی نیز که درصد گوگرد نفت زیاد یا کم باشد به ترتیب آنرا **نفت ترش** یا **نفت شیرین** می نامند.

**استخراج نفت:** استخراج نفت با استخراج سایر مواد متفاوت است. پس از آن که به کمک عملیات اکتشافی، وجود نفت در منطقه ای شناسایی شد، اقدام به حفر چاه های عمیق می کنند. پس از برخورد چاه به نفت گیر، به علت فشار موجود در مخزن، نفت اغلب خود به خود بالا می آید. نفت خامی که بدین ترتیب تولید می شود مستقیماً قابل استفاده نیست بلکه ابتدا آب، گاز و مواد گوگردی آن را جدا می کنند و سپس برای تصفیه به پالایشگاه می فرستند. در پالایشگاه، نفت را تصفیه و انواع فرآورده های نفتی از قبیل نفت سفید، بنزین، بنزین هواپیما، روغن و ... از آن تهیه می کنند. نفت تصفیه شده به وسیله ی لوله به محل مصرف یا بنادر بارگیری حمل می شود.



شکل ۷-۱۲- درصد فرآورده های مختلف حاصل از نفت خام

از مقدار کل تولید نفت خام کشور، سالانه بخش عمده‌ای از آن صرف تولید برق می‌شود. لذا کشور ما با شرایط فعلی نمی‌تواند به منابع فسیلی اتکا کند، زیرا:

۱- منابع فسیلی محدود بوده و متعلق به نسل‌های آینده نیز می‌باشد. لذا استفاده‌ی بی‌رویه از آن مجاز نیست.

۲- استفاده از منابع مذکور در صنایع تبدیلی (نظیر پتروشیمی) ارزش افزوده بیشتری را در پی دارد.

۳- مصرف این منابع در داخل کشور، با روند فعلی، در چند دهه‌ی آینده ایران را به یک کشور واردکننده‌ی نفت خام و فرآورده‌های آن تبدیل خواهد کرد.

۴- مهمتر از همه، مسئله‌ی آلودگی‌های زیست‌محیطی حاصل از مصرف سوخت‌های فسیلی چه به صورت منطقه‌ای و چه در بعد جهانی است که سلامت انسان و طبیعت را در مخاطره قرار می‌دهد.



## اثرات محیطی سوزاندن سوخت‌های فسیلی

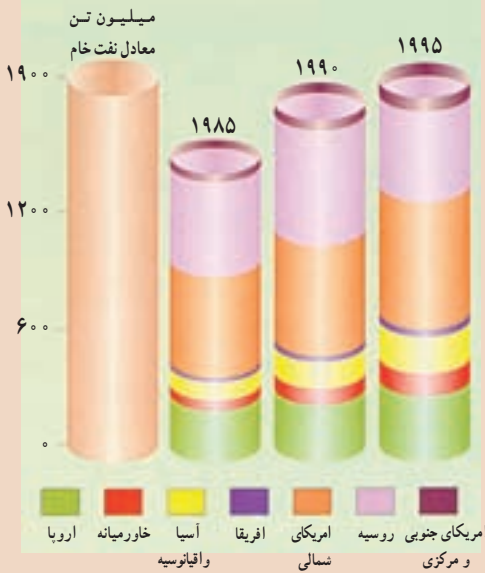
انسان، با وجود موفقیت در پیشرفت‌های علمی، مشکلات متعددی را هم برای خود ایجاد کرده است. یکی از این مشکلات که بسیار جدی نیز هست، آلودگی هوای ناشی از سوزاندن سوخت‌های فسیلی است. آلودگی‌های هوای شهری، باران اسید و گرم شدن عمومی هوای کره‌ی زمین (اثر گلخانه‌ای)، همگی با این نوع منابع انرژی ارتباط دارند.

آلودگی هوا، برای ساکنان شهرهای بزرگ، مسئله‌ای بسیار جدی است، به‌ویژه که آلوده‌شدن هوا تدریجی نیست و بلافاصله بعد از وارد شدن مواد آلوده‌ساز در آن، اثر خود را ظاهر می‌کند. خودروها، بزرگ‌ترین نقش را در این میان دارند، اما البته منابع ثابت دیگری هم در آلوده کردن هوا مؤثرند (شکل ۸ - ۱۲).

شکل ۸ - ۱۲- آلوده‌کننده‌های اصلی، منابع آن‌ها. درصدها بر حسب وزن محاسبه شده‌اند.

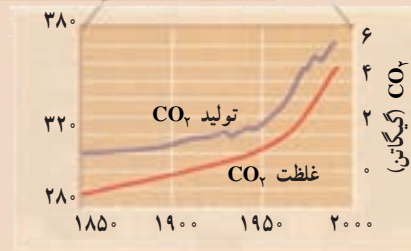
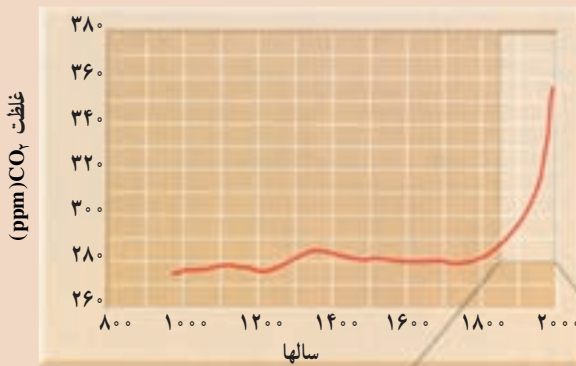
## مقایسه کنید

مصرف گاز طبیعی جهان . در  
فاره‌های مختلف، این اختلاف مصرف  
ناشی از چیست؟



## جمع‌آوری اطلاعات

گفته می‌شود که گاز دی‌اکسید کربن، عامل اصلی گرم‌شدن هوای زمین است. با بررسی  
دقیق نمودارهای زیر، دلایل این کار را بیابید.



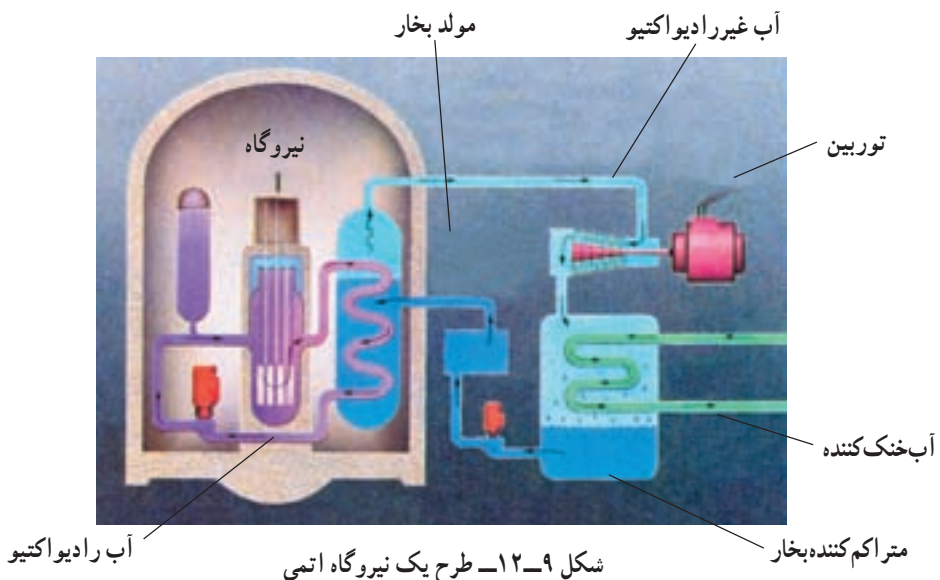
- میزان مصرف سوخت‌های فسیلی و تولید  
 $CO_2$  در طول زمان، در حال فزونی بوده  
است. آیا این آهنگ افزایش در آینده هم  
ادامه خواهد داشت؟

## منابع انرژی جانشین

با بررسی مختصری در میزان استفاده از منابع انرژی، معلوم می‌شود که تقریباً ۹۰ درصد از انرژی مورد نیاز جهان را سوخت‌های فسیلی تأمین می‌کنند که منابعی تجدید ناپذیرند. برآوردهای فعلی نشان می‌دهد که اگر میزان مصرف را ثابت و معادل سال‌های کنونی در نظر بگیریم، تا حدود ۱۷۰ سال دیگر هم منابع سوخت‌های فسیلی دوام خواهند داشت. اما می‌دانیم که با افزایش جمعیت، مقدار مصرف بالا می‌رود و بسیار زودتر از آن زمان، منابع چنین سوخت‌هایی به پایان خواهند رسید. بالا رفتن مصرف هم به معنای افزایش آلودگی محیط است. در این صورت، باید چاره‌ای اندیشیده شود. البته، هنوز در این باره به پاسخ قطعی نرسیده‌ایم، اما منابع تأمین انرژی جانشین شونده‌ای هم پیدا شده‌اند که عبارتند از انرژی هسته‌ای، خورشیدی، بادی، برق آبی و چند منبع کم‌اهمیت دیگر.

**انرژی هسته‌ای:** دانشمندان و مهندسان، به نوعی فن‌آوری دست یافته‌اند که می‌توانند با کمک آن، با استفاده از واکنش‌های هسته‌ای، انرژی قابل استفاده‌ی زیادی را تولید کنند. این فن‌آوری، بر اساس واکنش شکافت هسته‌ای، یعنی شکستن هسته‌ی یک اتم بزرگ و تبدیل آن به دو هسته‌ی کوچک‌تر با پایداری بیشتر است. از این واکنش، مقدار زیادی انرژی گرمایی به دست می‌آید که قابل استفاده برای تولید برق است.

برای انجام این کار از اورانیم ۲۳۵ استفاده می‌شود. اورانیمی که به طور طبیعی در معدن یافت می‌شود مخلوطی از ۹۹/۳ درصد اورانیم ۲۳۸ و ۰/۷ درصد اورانیم ۲۳۵ است. بیشتر نیروگاه‌ها،



باید سوختی را مصرف کنند که بین ۳ تا ۷ درصد اورانیم ۲۳۵ را دارا باشد، به همین منظور، طی فرآیندهای بسیار پیچیده‌ای ابتدا سنگ معدن را تخلیص و سپس نسبت به ایزوتوپ اورانیم ۲۳۵ غنی‌سازی می‌کنند. به چنین مخلوطی اورانیم غنی‌شده می‌گویند. بدین ترتیب میله‌های سوخت نیروگاه‌های هسته‌ای تولید می‌شود.

در نیروگاه برق هسته‌ای، این ماده (میله‌ی سوخت) را توسط نوترون بمباران می‌کنند، که در نتیجه، یک واکنش زنجیره‌ای صورت می‌گیرد. به دنبال این واکنش‌ها، میله‌ی سوخت بسیار داغ می‌شود. برای گرفتن این گرما، آب را با تلمبه در اطراف میله‌ها به جریان درمی‌آورند تا گرمای حاصل را جذب کند. آب در نتیجه‌ی این گرما بخار می‌شود و این بخار می‌تواند مولدهای برق را به کار اندازد. واکنش‌های زنجیره‌ای که در حین شکافت هسته‌ای صورت می‌گیرند، قابل کنترل‌اند و آهنگ واکنش را می‌توان کند، تند یا متوقف کرد.

از نظر اقتصادی تولید برق از طریق انرژی هسته‌ای نسبت به سایر منابع انرژی با صرفه‌تر ولی سرمایه‌گذاری اولیه آن بیشتر است.

استفاده از انرژی هسته‌ای برای تولید برق از حدود ۴۵ سال پیش آغاز شده است. امروزه حدود ۴۴۰ نیروگاه هسته‌ای در ۳۱ کشور جهان در حال فعالیت هستند و قرار است تعداد نیروگاه‌های



شکل ۱۰-۱۲- مصرف انرژی هسته‌ای در جهان

هسته‌ای از ۴۴۰ به ۱۵۰۰ افزایش یابد تا حدود ۲۰ درصد از حجم گازهای گلخانه‌ای کاسته شود.

آشنایی با فناوری هسته‌ای و امکان استفاده از این فناوری، توان و ظرفیت صنعتی کشور را در سایر بخش‌ها مانند کشاورزی، پزشکی، صنعت و... افزایش می‌دهد. توانایی تولید الکتریسیته فراوان و حذف آلاینده‌های زیان‌باری چون  $CO_2$ ،  $SO_2$  و حفظ میلیاردها

تن از ذخایر زغال‌سنگ و نفت و گاز طبیعی از سایر مزایای انرژی هسته‌ای است. یک کیلوگرم سوخت اتمی معادل ۳۰۰۰ تن زغال‌سنگ، انرژی تولید می‌کند.

در این راستا، کشور عزیز ما، جمهوری اسلامی ایران، با توجه به نیاز برنامه‌های توسعه‌ی کشور به انرژی، افزایش جمعیت، کاهش ذخایر فسیلی، ملاحظات زیست محیطی، مزایای فنی و اقتصادی، الزامات ملی و قانونی در جهت سیاست‌های کلی نظام، فعالیت‌های صلح‌آمیز هسته‌ای را مورد توجه جدی قرار داده است. به طوری که غنی‌سازی اورانیوم با کوشش و مجاهدت جوانان ایرانی و با تکیه بر دانش بومی، کشور ما را به عنوان یک رویداد بزرگ تاریخی وارد باشگاه هسته‌ای جهان نموده است. انرژی خورشیدی: مقدار انرژی که در هر ۱۵ دقیقه، زمین از خورشید دریافت می‌کند، معادل مقدار انرژی مصرفی یک سال همه‌ی کشورهای جهان است. اما دانش امروز، برای مهار کردن این همه انرژی کافی نیست.

آسان‌ترین راه برای دریافت انرژی خورشیدی که از قدیم در کشور ما نیز مرسوم بوده، قراردادن پنجره‌های ساختمان روبه سمت جنوب است، که اگر با عایق‌بندی دقیق خانه‌ها توأم باشد، می‌توان مقدار زیادی از انرژی خورشید را مورد مصرف قرارداد. اما راه دیگر، نصب صفحاتی در پشت‌بام خانه است که عبارت از صفحات سیاه وسیع با پوشش شیشه‌ای هستند. گرمایی که توسط این صفحات دریافت می‌شود، می‌تواند برای گرم کردن آبی که در لوله‌های زیر آن‌ها وجود دارد، مصرف شود.



شکل ۱۱-۱۲- استفاده از انرژی خورشیدی برای ایجاد گرما



شکل ۱۲-۱۲- از کار مجموعه‌ی این دستگاهها، برق تولید می‌شود.

نیازهای محلی را برآورده کند. البته، مشکل سروصدای توربین‌ها و اشغال محل‌های وسیعی که باید در کنار شهرها توربین در آن‌ها ساخته شود نیز وجود دارد.

## منابع مواد معدنی

چنان‌که گفته شد، تولید هر نوع فرآورده‌های صنعتی، به تأمین مقداری مواد طبیعی که از زمین گرفته می‌شوند، نیاز دارد. چنین موادی را **مواد معدنی** می‌نامند.

مواد معدنی، اجسامی هستند که به‌طور طبیعی در سطح یا اعماق زمین قرار دارند و ممکن است به‌صورت جامد، مایع یا گاز باشند. بعضی از مواد معدنی جزو کانی‌ها هستند. اما مواد دیگری هم وجود دارند که ممکن است از ترکیب چندین کانی با درصدهای مختلف تشکیل شده باشند. به محلی هم که این نوع مواد قابل استخراج و دارای ارزش اقتصادی در آن‌ها یافت می‌شود، **کانسار** می‌گویند.

۹۸ درصد پوسته‌ی زمین، فقط از ۸ عنصر تشکیل شده است و به‌جز اکسیژن و سیلیسیم، بقیه‌ی عناصر درصد اندکی دارند. با این ترتیب، منابع طبیعی، بسیار کم‌یابند. گذشته از آن، اگر درجایی هزینه‌ی استخراج یک ماده، از درآمد آن بیش‌تر باشد، چنین عملی را مجاز نمی‌دانند. با این ترتیب، لازم است مقدار درصد ماده‌ی موردنظر در زمینه‌ی سنگ (که به آن باطله گفته می‌شود)، از حد معینی بالاتر باشد. مثلاً فلز مس، فقط ۰/۱۳ درصد پوسته زمین را تشکیل می‌دهد. اما اگر قرار باشد درجایی سنگ معدن مس یافت شود و آن را مناسب برای استخراج تشخیص دهند، لازم است درصد مس در سنگ، از ۵۰ برابر آن مقدار بیشتر باشد. در عوض، آلومینیم ۸/۱ درصد پوسته را

تشکیل می‌دهد و غلظت آن در سنگ، تنها باید ۴ برابر آن مقدار باشد. گذشته از آن، وضع بازار و میزان تقاضا برای یک ماده هم در تصمیم‌گیری برای استخراج، اثر می‌گذارد. حتی نوع فن‌آوری و ماشین‌آلات هم می‌تواند در این میان نقش داشته باشد.

**تشکیل منابع معدنی:** زمین‌شناسان در طول سال‌ها، به دنبال پاسخ این سؤال بوده‌اند که مواد معدنی چگونه در یک جا جمع می‌شوند و چرا در همه جا به یک نسبت وجود ندارند. بدون تردید، تشکیل منابع معدنی، با چرخه‌ی سنگ در ارتباط است و مکانیسم‌هایی که سنگ‌های مختلف آذرین، دگرگون‌شده و رسوبی را می‌سازند، در تجمع مواد معدنی هم نقش دارند.

۱- فعالیت‌های آذرین: بعضی از مواد از قبیل طلا، نقره، مس، جیوه، سرب، پلاتین و نیکل، در اثر انجام فعالیت‌های ماگمایی تجمع می‌یابند.

فرآیندهای آذرین که این نوع منابع فلزی را پدید می‌آورند، مشخص‌اند. مثلاً، وقتی حجم عظیمی از ماگما سرد شود، فلزات سنگینی که متبلور می‌شوند، مایلند در قسمت پایین محفظه‌ی ماگما رسوب کنند. این نوع تفریق ماگمایی را به‌ویژه در ماگماهای بازالتی می‌توان ردیابی کرد.

تفریق ماگمایی، در مراحل آخر سرد شدن هم اهمیت دارد. این فرآیند، به‌ویژه در مورد ماگماهای گرانیتهی مصداق دارد، زیرا در آن‌ها، ماده‌ی مذاب باقی‌مانده، ممکن است سرشار از فلزات سنگین و عناصر کمیاب شود. گذشته از آن، چون آب و مواد تبخیرشدنی دیگر، همراه مواد اصلی متبلور نمی‌شوند، درصد بالایی از بخش مذاب مانده‌ی ماگما را در آخر کار تشکیل می‌دهند و در این محیط، که آزادی تحرک برای یون‌ها فراهم است، ممکن است در آخر، بلورهایی بسیار درشت پدید آیند و سنگ‌های پگماتیتی شکل بگیرند. پگماتیت‌ها در اصل، گرانیتهی هستند، اما بلوره‌های درشت کوارتز، فلدسپات و میکا دارند. از فلدسپات، می‌توان در صنایع سرامیک استفاده کرد و میکای سفید، همان طلق‌سوز است و در صنایع الکتریکی کاربرد دارد. گذشته از آن، ممکن است جواهرات قیمتی چون زمرد، یاقوت و تورمالین و همچنین عناصری چون اورانیم و سزیم نیز در این میان به‌وجود آیند. محلول‌های هیدروترمال هم می‌توانند منشأ بعضی از رگه‌های فلزی باشند که در آخر فرآیندهای ماگمایی در لابه‌لای سنگ‌های دیگر تزریق می‌شوند. در طول سرد شدن ماگما، یون‌های فلزی مختلف به‌همراه مایعات در بالای محفظه‌ی ماگما جمع می‌شوند و به‌سبب تحرک، می‌توانند در سنگ‌ها نفوذ کنند و در آنجا منجمد شوند. رگه‌های طلا، نقره و جیوه به این شکل تشکیل می‌شوند.

۲- فعالیت‌های دگرگونی: فرآیندهای دگرگونی، به‌ویژه نوع مجاورتی آن، در ایجاد منابع معدنی تأثیر دارند. سنگ‌های مجاور توده‌ی آذرینی که بالا می‌آید، تبلور مجدد یافته و تحت تأثیر فشار،





شکل ۱۳-۱۲- نهشته‌های گرمایی به صورت رگه در اطراف اتاقک ماگمایی

حرارت، محلول‌های فعال حاصل از ماگما، ترکیب شیمیایی اولیه را از دست می‌دهند. در این مناطق، کانی‌های پرازشی چون گرونا و کوندوم پدید می‌آیند. از انجام واکنش‌های شیمیایی در این محل‌ها، مقدار زیادی گاز دی‌اکسید کربن نیز حاصل می‌آید که مهاجرت رو به خارج

یون‌های فلزی را آسان می‌کند. به همین علت، در کنار اغلب مواد آذرین نفوذی که به میان تشکیلات آهکی راه می‌یابند، منابع فلزی وجود دارد. از جمله کانی‌های فلزی که نتیجه‌ی دگرگونی مجاورتی محسوب می‌شوند، می‌توان به اسفالریت، گالن، کالکوپیریت و مانیتیت اشاره کرد. در محل‌های فرورانش نیز که دگرگونی ناحیه‌ای صورت می‌گیرد و رسوبات به اعماق زمین برده می‌شوند، کانی‌های غیرفلزی مانند تالک و گرافیت تشکیل می‌شوند.

**هوازدگی:** فرآیند هوازدگی می‌تواند کانی‌های پرازشی را در یک‌جا متمرکز کند. اگر هوازدگی شیمیایی (تأثیر  $O_2$  یا  $CO_2$  و ... بر سنگ‌ها) با عمل نفوذ آب‌های زیرزمینی توأم شود، مواد موجود در سنگ، از یکدیگر تفکیک خواهند شد و مواد پرازش، در بالا می‌مانند، یا برعکس، به قسمت‌های پایین خاک برده می‌شوند.

**بوکسیت،** یعنی ترکیب مهم آلومینیم دار، به همین صورت حاصل می‌آید. بوکسیت، در مناطق پرباران و گرم استوایی تشکیل می‌شود، زیرا آلومینیم ماده‌ای بسیار نامحلول است.

● با آن‌که آلومینیم در پوسته‌ی زمین فراوان است، چرا معادن این فلز کمیاب‌اند؟

### بیشتر بدانید

به جز فلزات، مواد غیرفلزی زیادی هم وجود دارند که در صنایع مختلف یا مصارف دیگر، به کار می‌روند. مقدار مصرف سالانه‌ی این مواد هم بسیار زیاد است.

۱- مصالح ساختمانی: ماسه و شن که در ساختمان‌سازی به کار می‌روند، ارزش زیادی

دارند و هرکس که بخواهد ساختمانی بسازد، به آن‌ها نیازمند است. گچ، خاک رس و سیمان هم که از سنگ آهک و شیل تهیه می‌شود، از این جمله‌اند. توجه داشته باشید که برای ساختن یک خانه‌ی دوطبقه‌ی معمولی، حدود یک صدتن مصالح ساختمانی مورد مصرف دارد.

۲- **کانی‌های صنعتی:** گروهی از مواد معدنی هم در ساختن فرآورده‌های مختلفی کاربرد دارند.

**کودهای شیمیایی،** موادی هستند که با افزایش جمعیت و استفاده‌های مکرر از زمین‌های کشاورزی، به‌ناچار باید مورد استفاده قرار گیرند. مسلماً در آینده بازهم موارد مصرف آن‌ها زیادت‌ر خواهد شد. کودهای شیمیایی، شامل ترکیباتی چون نترات، فسفات و ترکیبات پتاسیم‌اند که به خاک اضافه می‌شوند. البته، کودهای نیتراتی را در اصل، از نیتروژن اتمسفری تهیه می‌کنند، اما منابع فسفات و پتاسیم، پوسته‌ی زمین است. کانی آپاتیت، در تهیه‌ی فسفات‌ها کاربرد دارد و منبع اصلی پتاسیم را هم نوعی از سنگ‌های تبخیری به نام سیلویت (KCl) تشکیل می‌دهد. گوگرد که در تهیه‌ی کودها، اسیدسولفوریک و غیره کاربرد دارد، از کانی‌های غیرفلزی است.

**نمک طعام** نیز با کاربردهای فراوان آن، که معادن مهمی نیز در کشور دارد، از جمله‌ی همین نوع کانی‌ها محسوب می‌شود.

## بحث کنید

۱- نیاز انسان به منابع معدنی، نه تنها رو به کاهش نمی‌گذارد، بلکه در حال فزونی است. حال آن‌که معادن این مواد، روزبه‌روز در حال تخلیه شدن‌اند. در این صورت، یا باید، منابع جدیدی را از نقاط دوراز دسترس، مانند بستر دریاها و زیر یخ‌های قطبی یافت، یا آن‌که به مصرف کمتر و مسئله بازیافت متوسل شد. به نظر شما، چه راه‌هایی برای استفاده‌ی عاقلانه‌تر از این مواد وجود دارد؟

۲- در اختیار داشتن منابع ماده و انرژی برای پیشرفت و توسعه کشورها مهم‌تر است یا برخورداری از دانش فنی برای استفاده از آن‌ها؟ ...

