

دینامیک



فصل

دینامیک

نگاهی به فصل: قانون‌های نیوتون از جمله قانون‌های اساسی و بنیادی در دانش فیزیک به‌شمار می‌روند. این قانون‌ها، کاربردهای گسترده‌ای در فناوری و غالب رشته‌های مهندسی دارند. در صنعت، امور ساختمانی، دریانوردی، فضانوردی و... اصول حاکم بر پدیده‌ها از قانون‌های نیوتون پیروی می‌کنند.

شما در فیزیک (۲) و آزمایشگاه، با قانون‌های نیوتون آشنا شدید و دیدید که چگونه می‌توان آنها را برای حل مسئله‌های دینامیک در یک بُعد به کار برد. در این فصل، پس از یادآوری این قانون‌ها، کاربرد آنها را در حل مسئله‌ها، در دینامیک دوبعدی، بررسی می‌کنیم.

۱-۲- قانون‌های نیوتون

قانون اول نیوتون: «هر جسمی، حالت سکون و یا حرکت یکنواخت خود را روی خط راست حفظ می‌کند، مگر آنکه تحت تأثیر نیرو یا نیروهایی، مجبور به تغییر آن حالت شود.»

قانون دوم نیوتون: «نیروی برآیند وارد بر جسم برابر است با حاصل ضرب جرم جسم در شتاب آن» به عبارت دیگر شتاب یک جسم در همان جهت نیروی برآیند وارد بر آن است و با نیروی برآیند تقسیم بر جرم جسم برابر است؛ یعنی:

$$\vec{F} = m \vec{a}$$
$$\vec{a} = \frac{\vec{F}}{m} \quad (1-2)$$

توجه کنید در رابطه بالا \vec{F} برآیند نیروهای وارد بر جسم است.

قانون سوم نیوتون: «هرگاه جسمی به جسم دیگر نیرو وارد کند، جسم دوم هم به جسم اول نیرویی هم‌اندازه، هم راستا و در خلاف سوی آن وارد می‌کند.»

همچنین در فیزیک (۲) و آزمایشگاه دیدیم، نیرویی که جسم اول وارد می‌کند، «کنش» و نیرویی که جسم دوم وارد می‌کند «واکنش» نام دارد. این دو نیرو همواره هم‌اندازه، هم‌راستا و در سوی مخالف یکدیگرند و هر یک بر دیگری وارد می‌شود.

تمرین ۱-۲

با مراجعه به آنچه در فیزیک (۲) و آزمایشگاه خوانده‌اید، جمله‌های زیر را کامل کنید :

- ۱- تغییر بردار سرعت در اثر است.
- ۲- اگر در اثر اعمال نیرو، جسم ساکنی به حرکت درآید، در شروع حرکت بردارهای سرعت و هم‌جهت‌اند.
- ۳- در مسیر خمیده بردارهای سرعت و نیرو.....
- ۴- اگر جسمی بر روی خط راستی در حرکت باشد و بر آن نیرویی هم‌راستا و هم‌سو با سرعت حرکت آن وارد شود، حرکت جسم..... خواهد شد.
- ۵- در صورتی که جسمی بر روی خط راستی در حرکت باشد و بر آن نیرویی در خلاف جهت سرعت اعمال شود حرکت جسم خواهد شد.

تمرین ۲-۲



شکل ۱-۲

توضیح دهید چرا هنگامی که :

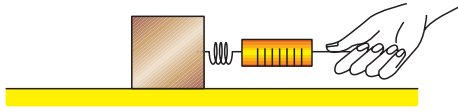
- ۱- با پا به دیواری ضربه می‌زنید پای شما درد می‌گیرد؟
- ۲- قایقران بارو می‌زند، قایق در آب حرکت می‌کند؟
- ۳- چمدان را از زمین بلند می‌کنید، دست شما به طرف پایین کشیده می‌شود؟
- ۴- در شکل ۱-۲ آب از فواره خارج می‌شود، فواره می‌چرخد؟

فعالیت ۱-۲



در شکل ۲-۲ تصویر یک موشک ایرانی را در حال پرتاب، مشاهده می‌کنید. براساس قانون سوم نیوتون چگونگی حرکت آن را شرح دهید.

شکل ۲-۲

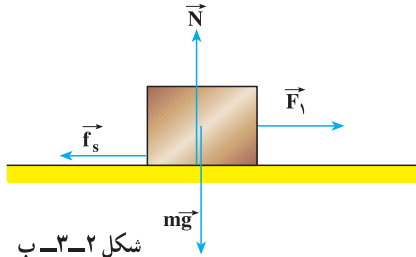


شکل ۲-۳-الف

صندوقی به جرم 10 kg روی یک سطح افقی با ضریب اصطکاک ایستایی 0.4 و ضریب اصطکاک جنبشی 0.2 قرار دارد.

مطابق شکل ۲-۳-الف نیروسنج را به صندوق وصل می‌کنیم و آن را می‌کشیم:
 الف) نخست با نیرویی برابر با 20 N صندوق را می‌کشیم. آیا صندوق شروع به حرکت می‌کند؟ در این حالت نیروی اصطکاک بین صندوق و سطح چه مقدار است؟
 ب) نیروی وارد بر صندوق را به 60 N می‌رسانیم، در این حالت نیروی اصطکاک چه مقدار است؟ شتاب حرکت صندوق را در این حالت حساب کنید.

پاسخ



شکل ۲-۳-ب

الف) در فیزیک (۲) و آزمایشگاه دیدیم، برای آنکه جسمی به حرکت درآید باید نیروی وارد بر آن از نیروی اصطکاک در آستانه حرکت بیشتر باشد. بنابراین ابتدا نیروی اصطکاک در آستانه حرکت (بیشینه نیروی اصطکاک) را محاسبه می‌کنیم:

$$\sum F_y = 0 \Rightarrow N = mg = 10 \times 10 = 100\text{ N}$$

$$f_{s,\max} = \mu_s N \Rightarrow f_{s,\max} = 0.4 \times 100 = 40\text{ N}$$

در این حالت، چون نیروی وارد شده، از نیروی اصطکاک در آستانه حرکت کمتر است، صندوق ساکن می‌ماند و در نتیجه شتاب حرکت آن صفر است. بنابر قانون دوم نیوتون داریم:

$$\sum F_x = ma \Rightarrow F_1 - f_s = ma = 0 \Rightarrow f_s = 20\text{ N}$$

ب) در این حالت، چون نیروی وارد شده، از نیروی اصطکاک در آستانه حرکت بیشتر است، جسم حرکت می‌کند و نیروی اصطکاک، جنبشی است و با استفاده از رابطه $f_k = \mu_k N$ محاسبه می‌شود.

$$f_k = 0.2 \times 100 = 20\text{ N}$$

برای محاسبه شتاب حرکت، قانون دوم نیوتون را می‌نویسیم:

$$F - f_k = ma \Rightarrow 60 - 20 = 10a \Rightarrow a = 4\text{ m/s}^2$$

۲-۲- چگونه استفاده از قانون‌های نیوتون در حرکت یک جسم

در فیزیک (۲) و آزمایشگاه دیدیم که برای حل مسئله‌های دینامیک یک‌بعدی چه نکاتی را باید در نظر بگیریم. اکنون برای حل مسئله‌های دینامیک دوبعدی این نکات را یادآوری و تکمیل می‌کنیم:

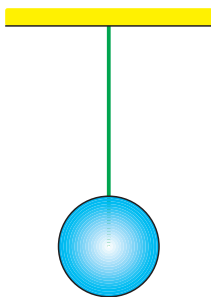
- ۱- شکل ساده‌ای از جسم و تکیه‌گاه آن را رسم می‌کنیم.
- ۲- نیروهایی را که اجسام دیگر بر جسم وارد می‌کنند، روی شکل مشخص می‌کنیم.
- ۳- دستگاه محورهای مختصات مناسب انتخاب می‌کنیم. (ضمن حل مسئله، با نحوه انتخاب دستگاه مختصات مناسب آشنا خواهیم شد.)
- ۴- نیروها را روی محورهای مختصات تجزیه می‌کنیم؛ یعنی، مؤلفه‌های هر نیرو را روی محورها تعیین می‌کنیم.

۵- با نوشتن قانون دوم نیوتون روی هر یک از محورها، شتاب حرکت جسم را روی هر محور محاسبه می‌کنیم. به عبارت دیگر، مؤلفه‌های نیرو را روی هر محور به‌طور جداگانه، به صورت $F_x = ma_x$ و $F_y = ma_y$ می‌نویسیم.

۶- هرگاه چند جسم به هم متصل باشند، در صورتی که بردار شتاب حرکت همگی یکسان باشد، مجموعه را می‌توانیم به‌عنوان یک دستگاه (با جرمی برابر مجموع جرم‌ها) در نظر بگیریم و قانون دوم را برای آن بنویسیم.

نحوه استفاده از قانون‌های نیوتون در مثال‌هایی که در ادامه می‌آید، نشان داده شده است.

مثال ۲-۲

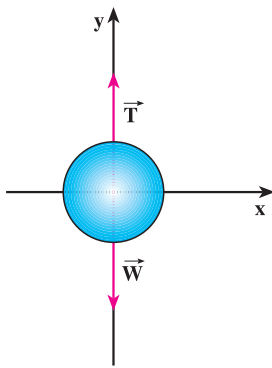


شکل ۲-۴ الف

جسمی به جرم $m = ۱۲ \text{ kg}$ را با طنابی که جرم آن ناچیز است مطابق شکل ۲-۴ الف می‌آویزیم. نیروهای وارد بر جسم را تعیین کنید و مقدار هر یک را به‌دست آورید.

پاسخ

نیروهای وارد بر جسم عبارت‌اند از:
نیروی وزن، که از طرف زمین بر جسم وارد می‌شود و نیرویی که از طرف طناب به جسم وارد می‌شود. چون جسم ساکن است، باید برآیند نیروهای وارد بر آن صفر باشد. در نتیجه باید از طرف طناب،



شکل ۲-۴ ب

نیروی در امتداد قائم و رو به بالا بر جسم اعمال شود. این نیرو را نیروی کشش طناب (نخ) می‌نامند که آن را با \vec{T} نمایش می‌دهیم.

نیروهای وارد بر جسم، در راستای محور y هستند و در شکل ۲-۴ ب نشان داده شده‌اند. بنابر قانون دوم نیوتون داریم:

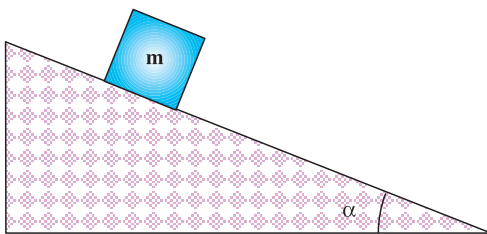
$$T - mg = ma$$

چون $a = 0$ ، داریم:

$$T = mg = 12 \times 10 = 120 \text{ N}$$

در هر نقطه از طناب کشیده شده، نیرویی از طرف یک‌بخش بر بخش دیگر وارد می‌شود. نیروی کشش طناب در هر نقطه برابر نیرویی است که در صورت پاره شدن طناب در آن نقطه، باید وارد کنیم تا وضعیت اولیه آن حفظ شود؛ یعنی، اگر جسم ساکن بوده با جای‌گزینی این نیرو در آن نقطه همچنان ساکن بماند و اگر در حرکت بوده با همان حالت قبل از پاره شدن حرکت کند.

مثال ۳-۲



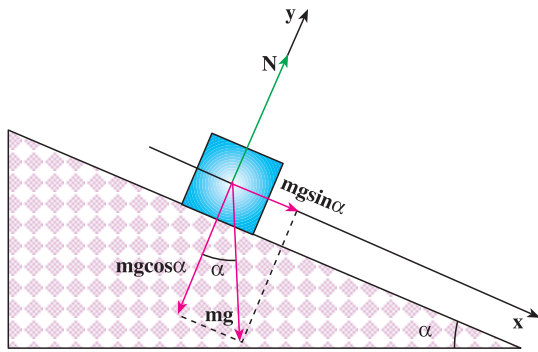
شکل ۲-۵ الف

جسمی به جرم m را روی سطح شیب‌داری که با افق زاویه α می‌سازد قرار می‌دهیم: الف) شتاب حرکت جسم و نیروی عمودی تکیه‌گاه را محاسبه کنید. (در این قسمت اصطکاک را نادیده بگیرید).

ب) اگر در اثر نیروی اصطکاک، جسم روی سطح ساکن بایستد، نیروی اصطکاک را محاسبه کنید.

پاسخ

الف) ابتدا نیروهای وارد بر جسم را رسم می‌کنیم. جسم در امتداد سطح شیب‌دار حرکت می‌کند، محور x را در راستای سطح شیب‌دار و در جهت حرکت و محور y را عمود بر آن سطح، انتخاب می‌کنیم.



شکل ۲-۵ ب

مؤلفه‌های وزن روی محورهای x و y به ترتیب عبارت‌اند از:

$$mgsin\alpha \text{ و } mg\cos\alpha$$

با توجه به قانون دوم نیوتون در راستای محور x داریم:

$$F_x = mgsin\alpha = ma$$

$$a = gsin\alpha$$

چون جسم در راستای محور y حرکت ندارد:

$$F_y = 0$$

$$N - mg\cos\alpha = 0$$

و در نتیجه:

$$N = mg\cos\alpha$$

ب) نمودار نیروهای وارد بر

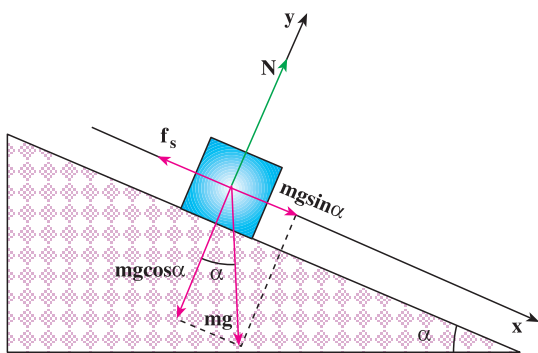
جسم در شکل ۲-۶ نشان داده شده است؛ چون جسم ساکن است، برآیند نیروهای وارد بر آن صفر است:

$$F_x = 0$$

$$mgsin\alpha - f_s = 0$$

و از آنجا داریم:

$$f_s = mgsin\alpha$$



شکل ۲-۶

۲-۳- تکانه (اندازه حرکت)



شکل ۲-۷

در شکل ۲-۷ یک خودروی سواری و یک کامیون مجاور هم با سرعت یکسان در حرکت‌اند. با نزدیک شدن به چراغ قرمز خودرو و کامیون باید پس از طی مسافت 50 m متوقف شوند. به نظر شما نیروی لازم برای

متوقف کردن کدام یک از آنها با شتاب ثابت بیشتر است؟ برای بررسی دقیق‌تر، فرض کنید جرم کامیون 10^4 t و جرم خودروی سواری 1 t باشد و هر کدام با سرعت 20 m/s در حرکت باشند. شتاب حرکت کندشونده برای کامیون و خودروی سواری، در این جا به جایی برابر است با:

$$|a_x| = |a_y| = \left| \frac{v^2 - v_0^2}{2\Delta x} \right| = \frac{400}{2 \times 50} = 4\text{ m/s}^2$$

نیروی لازم برای توقف کامیون برابر است با:

$$F_1 = m_1 a = 10000 \times 4 = 4 \times 10^4\text{ N}$$

و نیروی لازم برای توقف خودروی سواری برابر است با:

$$F_2 = m_2 a = 1000 \times 4 = 4 \times 10^3\text{ N}$$

نتیجه می‌گیریم که نیروی لازم برای متوقف کردن کامیون بیشتر از نیروی لازم برای متوقف کردن خودروی سواری است.

فعالیت ۲-۲

فرض کنید در مثال بالا، جرم خودرو و کامیون یکسان، ولی سرعت یکی 20 m/s و دیگری 15 m/s باشد. نیروی لازم برای متوقف کردن هر کدام از آنها را محاسبه و با هم مقایسه کنید. نتیجه‌های این فعالیت و مثال قبل را در گروه خود، تجزیه و تحلیل و به کلاس گزارش کنید.

در مثال‌های بالا دیدیم که نیروی لازم برای متوقف کردن خودروها به جرم و سرعت آنها بستگی دارد. در فیزیک کمیته به نام تکانه (اندازه حرکت) تعریف می‌شود که به هر دو کمیت جرم و سرعت بستگی دارد. «تکانه یک جسم، حاصل ضرب جرم جسم در سرعت آن است.»

تکانه را با \vec{P} نمایش می‌دهند و یکای آن کیلوگرم متر بر ثانیه (kgm/s) است. بنابراین می‌توان

نوشت:

$$\vec{P} = m \vec{v} \quad (2-2)$$

تکانه، کمیتی برداری است؛ چرا؟

رابطه بین نیرو و تکانه: با به‌کارگیری قانون دوم نیوتون، به سادگی رابطه نیرو و تکانه به‌دست

می‌آید؛ با استفاده از رابطه ۱-۲ داریم:

$$\vec{F} = m \frac{d\vec{v}}{dt}$$

چون جرم جسم، مقداری ثابت است، می‌توان نوشت:

$$m \frac{d\vec{v}}{dt} = d \left(\frac{m\vec{v}}{dt} \right) \Rightarrow \vec{F} = \frac{d}{dt} (m\vec{v})$$

$$\vec{F} = \frac{d\vec{P}}{dt}$$

(۳-۲)

یعنی آهنگ تغییر تکانه یک جسم نسبت به زمان برابر برآیند نیروهای وارد بر جسم

است. به بیان دیگر، برآیند نیروهای وارد بر جسم، مشتق تکانه آن نسبت به زمان است.

اگر در بازه زمانی Δt تغییر تکانه یک جسم $\Delta \vec{P}$ باشد، نیروی متوسط وارد بر آن از رابطه زیر

به‌دست می‌آید:

$$\vec{F} = \frac{\Delta \vec{P}}{\Delta t}$$

(۴-۲)

مثال ۱۴-۲



شکل ۸-۲

چکشی به جرم $1/5 \text{ kg}$ را با سرعت 10 m/s

به سر میخی می‌کوبیم (شکل ۸-۲). اگر زمان برخورد

چکش با سر میخ 0.005 s باشد، بزرگی نیروی متوسطی

که به چکش وارد می‌شود، چه مقدار است؟

پاسخ

$$\vec{F} = \frac{\Delta P}{\Delta t} = m \left(\frac{v - v_0}{\Delta t} \right)$$

$$|\vec{F}| = \left| 1/5 \frac{(0 - 10)}{0.005} \right| = 3000 \text{ N}$$

دو خودروی A و B دارای مشخصات فنی متفاوت اند. جرم خودروی A برابر 1000 kg و جرم خودروی B برابر 800 kg است. سرعت خودروی A حداقل پس از $11/7 \text{ s}$ از صفر به 96 km/h می‌رسد، ولی سرعت خودروی B حداقل پس از $12/1 \text{ s}$ ، همین مقدار افزایش پیدا می‌کند. حداکثر برایندهای وارد بر هر کدام از خودروهای A و B را حساب کنید.

نقش کیسه هوا در تصادف‌های رانندگی

حوادث ناشی از سوانح رانندگی هر روز عده‌ای را به کام مرگ می‌کشاند و یا موجب آسیب‌ها و خسارت‌های فراوان می‌شود. از این رو، شرکت‌های خودروسازی، همواره می‌کوشند خودروهای خود را با امکانات جدیدی، به منظور کاهش ضایعات ناشی از تصادف، مجهز کنند.

جاسازی کیسه هوا در خودروها، یکی از تازه‌ترین روش‌های ایجاد ایمنی است. ساز و کار این وسیله، به این صورت است که هنگام بروز حادثه که به تغییر سرعت ناگهانی خودرو می‌انجامد، در اثر یک واکنش شیمیایی سریع، گازی در یک کیسه پلاستیکی تولید



شکل ۲-۹

می‌شود و کیسه‌ی پر از گاز در مقابل راننده و سرنشین قرار می‌گیرد. برخورد آنها به کیسه‌ی هوا، مدت زمان تغییر سرعت یا زمان توقف آنها را بسیار طولانی‌تر می‌کند؛ در نتیجه بر طبق رابطه $\vec{F} = \frac{\Delta \vec{P}}{\Delta t}$ ، با افزایش Δt نیروی متوسط وارد بر سرنشینان کاهش می‌یابد و بدین ترتیب از وارد آمدن آسیب جدی به آنها جلوگیری می‌شود.

زمان توقف در برخورد با جسم سخت در حدود هزارم ثانیه است، درحالی‌که کیسه‌ی هوا، این زمان را تا چند ثانیه افزایش می‌دهد از این‌رو، نیروی وارد بر سرنشین تا حدود یک هزارم، کاهش می‌یابد.

فعالیت ۲-۳

در یک مسابقه‌ی پرش با نیزه، ورزشکاری از مانع پرش با ارتفاع ۶m بدون خطا عبور می‌کند.

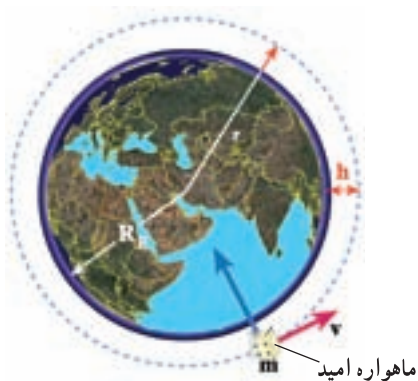
نقش تشک را در جلوگیری از آسیب رسیدن به ورزشکار مورد بحث و بررسی قرار دهید.



شکل ۲-۱۰

۲-۴- حرکت دایره‌ای

حرکت یک جسم در مسیر دایره‌ای، نمونه دیگری از حرکت در صفحه است. مسیر حرکت ماه و ماهواره‌ها به دور زمین و برخی سیاره‌ها به دور خورشید تقریباً دایره‌ای است. در بعضی وسایل خانگی مانند لباس‌شویی، آب‌میوه‌گیری و... اجسام درون آنها در مسیر دایره‌ای حرکت می‌کنند. در تصویرهای زیر نمونه‌هایی از حرکت اجسام بر مسیر دایره‌ای را مشاهده می‌کنید.



شکل ۲-۱۱-ب- طرحی از چرخش ماهواره امید به دور زمین



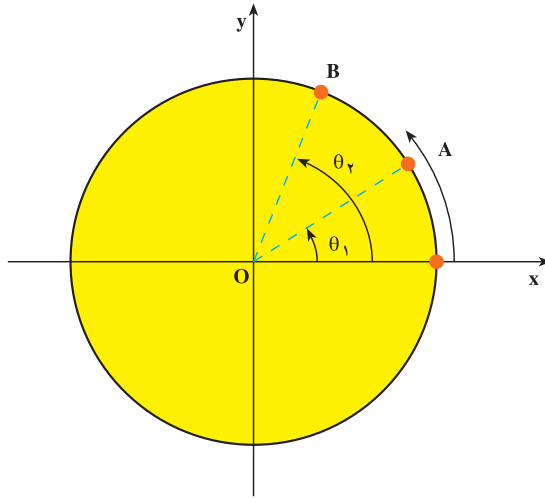
شکل ۲-۱۱-الف- تصویری از یک قطار هوایی در پارک تفریحی



شکل ۲-۱۱-پ- تصویری از حرکت اتومبیل در شیبی عرضی

اکنون به بررسی حرکت دایره‌ای و دینامیک آن می‌پردازیم.

سرعت زاویه‌ای متوسط: ذره‌ای را در نظر بگیرید که روی مسیر دایره‌ای در جهت مخالف عقربه‌های ساعت در حرکت است (شکل ۲-۱۲). در این جا منظور از ذره، جسم کوچکی است که ابعاد آن در برابر شعاع دایره ناچیز باشد. مکان ذره را روی دایره در هر لحظه می‌توان با زاویه θ نسبت



شکل ۲-۱۲

به محور OX نمایش داد. به θ مکان زاویه‌ای می‌گوییم. بنابراین هنگامی که ذره در نقطه A قرار دارد مکان آن را با زاویه θ_1 و هنگامی که در نقطه B قرار دارد، مکان آن را با زاویه θ_2 نشان می‌دهیم. به صورت نسبت جابه‌جایی زاویه‌ای ذره می‌نامیم. سرعت زاویه‌ای متوسط ذره در حرکت دایره‌ای، یعنی:

$$\bar{\omega} = \frac{\Delta\theta}{\Delta t} \quad (5-2)$$

یکای سرعت زاویه‌ای، رادیان بر ثانیه (rad/s) است.

مثال ۲-۵

حرکت زمین به دور خورشید تقریباً دایره‌ای است، سرعت زاویه‌ای متوسط زمین به دور خورشید را محاسبه کنید.

پاسخ

زمین در مدت ۳۶۵ روز، یک بار به دور خورشید می‌چرخد و در این مدت 2π رادیان طی می‌کند؛ بنابراین:

$$\bar{\omega} = \frac{\Delta\theta}{\Delta t} = \frac{2\pi}{365 \times 24 \times 3600} = \frac{2\pi}{31536000} \approx 2 \times 10^{-7} \text{ (rad/s)}$$

سرعت زاویه‌ای لحظه‌ای: سرعت زاویه‌ای لحظه‌ای را، مانند آنچه در مورد تعریف سرعت لحظه‌ای در فصل ۱ دیدیم، چنین تعریف می‌کنیم:

$$\omega = \lim_{\Delta t \rightarrow 0} \frac{\Delta \theta}{\Delta t}$$

و یا

$$\omega = \frac{d\theta}{dt} \quad (2-6)$$

از این به بعد، سرعت زاویه‌ای لحظه‌ای را به اختصار سرعت زاویه‌ای می‌گوییم.

تمرین ۲-۴

مکان زاویه‌ای ذره‌ای که روی مسیر دایره‌ای حرکت می‌کند، با رابطه $\theta = 2t^2 + 6t$ بیان شده است. (t برحسب ثانیه و θ برحسب رادیان)
 الف) سرعت زاویه‌ای متوسط ذره را بین لحظه‌های $t_1 = 1s$ و $t_2 = 2s$ و
 ب) سرعت زاویه‌ای آن را در لحظه $t_3 = 3s$ حساب کنید.

۲-۵- حرکت دایره‌ای یکنواخت

هرگاه اندازه سرعت زاویه‌ای ذره‌ای که بر روی مسیر دایره‌ای در حرکت ثابت بماند، می‌گوییم ذره، حرکت دایره‌ای یکنواخت دارد. در چنین حرکتی، سرعت زاویه‌ای متوسط در هر بازه زمانی با سرعت زاویه‌ای لحظه‌ای ذره برابر است.

$$\bar{\omega} = \omega = \frac{\theta - \theta_0}{t - t_0}$$

و یا

$$\theta = \omega t + \theta_0 \quad (2-7)$$

برای بررسی حرکت دایره‌ای یکنواخت، کمیت‌های زیر را تعریف می‌کنیم:
 دوره: زمانی که طول می‌کشد تا ذره روی مسیر دایره‌ای یک دور کامل طی کند، دوره نامیده می‌شود. دوره را با T نمایش می‌دهند و یکای آن ثانیه است.

بسامد: تعداد دورهای ذره را در یک ثانیه بسامد (فرکانس) می‌گویند. بسامد را با f نمایش می‌دهند. یکای بسامد $\frac{1}{s}$ یا هرتز (Hz) است.

روشن است که :

$$T = \frac{1}{f} \quad (۸-۲)$$

چون ذره در هر دور، 2π رادیان طی می کند، سرعت زاویه ای آن برابر است با :

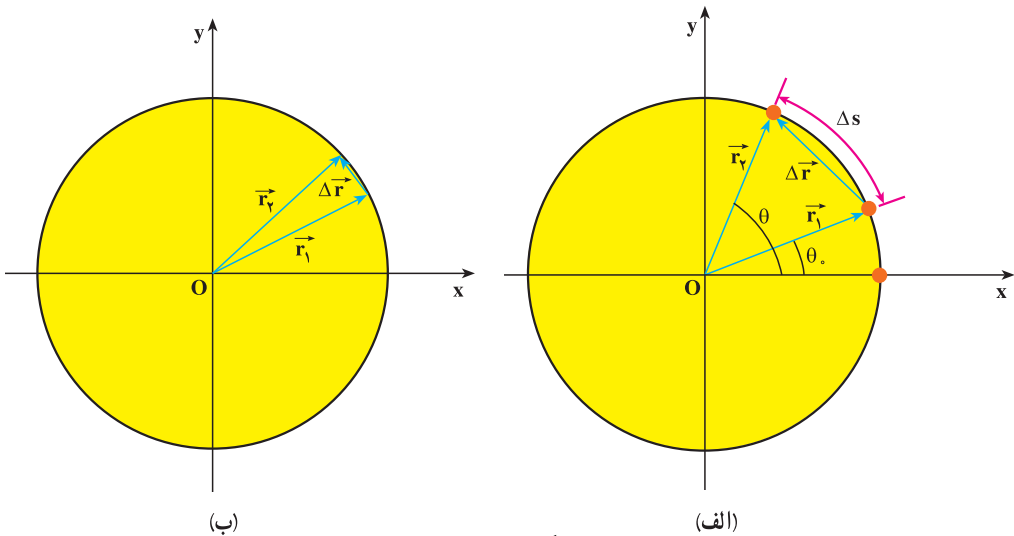
$$\omega = \frac{2\pi}{T} = 2\pi f \quad (۹-۲)$$

تمرین ۲-۵

سرعت زاویه ای گردش ماه به دور زمین را محاسبه کنید (دوره گردش ماه به دور زمین را ۲۹ روز و حرکت آن را دایره ای بکنواخت فرض کنید).

سرعت خطی در حرکت دایره ای : در فصل قبل دیدید که موقعیت ذره را در صفحه می توان

با بردار مکان مشخص کرد (شکل ۲-۱۳). اگر بردار مکان ذره در لحظه t_1 ، \vec{r}_1 و در لحظه t_2 ، \vec{r}_2 باشد، جابه جایی ذره در بازه زمانی $\Delta t = t_2 - t_1$ برابر $\Delta \vec{r} = \vec{r}_2 - \vec{r}_1$ خواهد بود. ذره در این بازه زمانی کمان Δs را می پیماید. اگر بازه زمانی Δt بسیار کوچک باشد، کمان Δs کوچک می شود و می توان طول کمان Δs را تقریباً با طول وتر مقابل آن، یعنی $|\Delta \vec{r}|$ برابر گرفت.



شکل ۲-۱۳

در فصل قبل دیدیم که سرعت متوسط متحرک را می‌توان از رابطه ۱-۲۲ به دست آورد و بزرگی سرعت لحظه‌ای نیز با رابطه زیر تعریف می‌شود:

$$|\vec{v}| = \lim_{\Delta t \rightarrow 0} \frac{|\Delta \vec{r}|}{\Delta t}$$

از آنجایی که در حالت حد، $|\Delta \vec{r}| \approx \Delta s$ داریم:

$$|\vec{v}| = \lim_{\Delta t \rightarrow 0} \frac{\Delta s}{\Delta t} = \frac{ds}{dt} \quad (۱-۲)$$

در درس ریاضی خوانده‌اید که زاویه $\Delta\theta$ بر حسب رادیان برابر است با نسبت طول کمان مقابل به آن زاویه، به شعاع دایره.

$$\Delta\theta = \frac{\Delta s}{r}$$

یعنی:

و یا

$$\Delta s = r\Delta\theta \quad (۱۱-۲)$$

بنابراین رابطه ۱-۲ را می‌توان به صورت زیر نوشت:

$$v = r \frac{d\theta}{dt}$$

و یا

$$v = r\omega \quad (۱۲-۲)$$

در فصل ۱ دیدیم که بردار سرعت جسم، همواره مماس بر مسیر حرکت است. v را سرعت خطی متحرک نیز می‌نامند.

تمرین ۲-۷

طول عقربه‌های ساعت‌شمار، دقیقه‌شمار و ثانیه‌شمار یک ساعت دیواری به ترتیب ۸ cm، ۱۲ cm و ۱۲ cm است. سرعت خطی نوک هر یک از عقربه‌های این ساعت را محاسبه کنید.

مثال ۷-۲



شکل ۱۴-۲

در یک شهر بازی، گردونه‌ای افراد را در یک سطح افقی و در مسیر دایره‌ای می‌گرداند (شکل ۱۴-۲). به طوری که هر فرد حرکت دایره‌ای یکنواختی دارد. اگر گردونه در هر 1° ثانیه یک دور بزند و شعاع چرخش برای هر نفر ۵ متر باشد، سرعت زاویه‌ای و سرعت خطی هر شخص را در این گردونه محاسبه کنید.

پاسخ

دوره چرخش $T = 1\text{ s}$ است.

$$\omega = \frac{2\pi}{T} = \frac{2\pi}{1^\circ} = \frac{\pi}{5} \text{ rad/s}$$

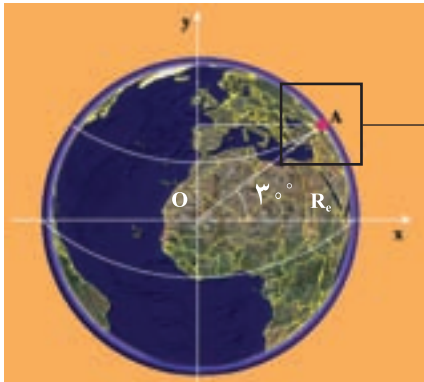
پس سرعت زاویه‌ای برابر است با:

و سرعت خطی آن نیز برابر خواهد بود با:

$$v = r\omega = 5 \times \frac{\pi}{5} = 3.14 \text{ m/s}$$

مثال ۷-۲

شهر آبادان در مدار جغرافیایی 3° شمالی قرار دارد. سرعت زاویه‌ای و سرعت خطی شخصی را که در این شهر زندگی می‌کند حساب کنید. شعاع زمین را $R_e = 6/4 \times 10^6 \text{ m}$ بگیرید.



شکل ۱۵-۲

پاسخ

سرعت زاویه‌ای حرکت وضعی زمین، در تمام نقاط زمین یکسان است (چرا؟). با توجه به این که دوره چرخش زمین به دور خود، ۲۴ ساعت است، می‌توانیم سرعت زاویه‌ای هر نقطه از زمین را محاسبه کنیم.

$$\omega = \frac{2\pi}{T}$$

$$T = 24 \times 60 \times 60 = 86400 \text{ s}$$

$$\omega = \frac{2\pi}{86400} = 7/27 \times 10^{-5} \text{ rad/s}$$

فاصله آبادان از محور چرخش زمین، با توجه به شکل ۱۵-۲ برابر است با:

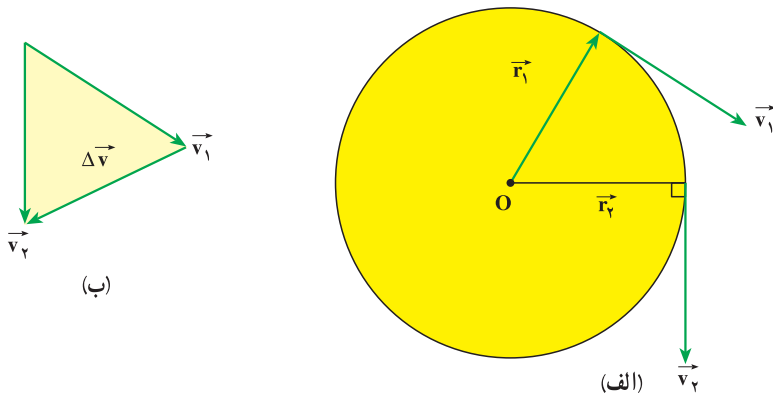
$$r = 6/4 \times 10^6 \times \frac{\sqrt{3}}{2} = 5/54 \times 10^6 \text{ m}$$

و سرعت خطی شخص در آبادان برابر است با:

$$v = r\omega = 5/54 \times 10^6 \times 7/27 \times 10^{-5} = 402/76 \text{ m/s}$$

شتاب در حرکت دایره‌ای یکنواخت: ذره‌ای را در نظر بگیرید که دارای حرکت دایره‌ای

یکنواخت است (شکل ۱۶-۲ الف). در فصل قبل دیدیم که بردار سرعت در هر لحظه مماس بر مسیر است. اگر مکان ذره در لحظه t_1 و t_2 باشد، بردارهای سرعت متحرک در این نقاط به ترتیب بر \vec{r}_1 و \vec{r}_2 عمودند. بردار $\Delta \vec{v} = \vec{v}_2 - \vec{v}_1$ در شکل ۱۶-۲ ب رسم شده است.



شکل ۱۶-۲

ملاحظه می‌شود با این که بزرگی بردار سرعت ثابت است، به علت تغییر راستای بردار سرعت $\Delta \vec{v} \neq 0$ است. اندازه شتاب متوسط حرکت در این حالت را می‌توان با استفاده از رابطه $|\vec{a}| = \frac{|\Delta \vec{v}|}{\Delta t}$ به دست آورد. می‌توان نشان داد، هنگامی که Δt به سمت صفر میل می‌کند، شتاب حرکت از رابطه زیر به دست می‌آید:

$$a = \frac{v^2}{r} \quad (2-13 \text{ الف})$$

و یا

$$a = r\omega^2 \quad (2-13 \text{ ب})$$

راستای این شتاب در راستای شعاع دایره و سوی آن به طرف مرکز است، به این ترتیب، این شتاب را شتاب مرکزگرا گویند.

تمرین ۷-۲

شتاب مرکزگرای ماه به دور زمین را محاسبه کنید.
فاصله ماه از زمین $3/8 \times 10^8 \text{ m}$ و دوره حرکت ماه را ۲۹ روز بگیرید.

مثال ۸-۲

خودرویی در یک جاده به شعاع انحنا 200 m با سرعت ثابت 20 m/s در حرکت است. شتاب مرکزگرای این خودرو را حساب کنید.

پاسخ

$$a = \frac{v^2}{r} = \frac{400}{200} = 2 \text{ m/s}^2$$

۲-۶- دینامیک حرکت دایره‌ای یکنواخت

در بخش ۲-۵ دیدیم که در حرکت دایره‌ای یکنواخت، شتاب جسم در راستای شعاع دایره و جهت آن به طرف مرکز است. بنابر قانون دوم نیوتون نیرو و شتاب هم‌جهت‌اند، در نتیجه در حرکت دایره‌ای

یکنواخت، برآیند نیروهای وارد بر جسم در راستای شعاع و به سوی مرکز است. از این رو برآیند نیروهای وارد بر جسم را که منجر به حرکت دایره‌ای می‌شوند نیروی مرکزگرا می‌نامند. با توجه به رابطه‌های ۱۳-۲ قانون دوم نیوتون در حرکت دایره‌ای یکنواخت به صورت زیر درمی‌آید:

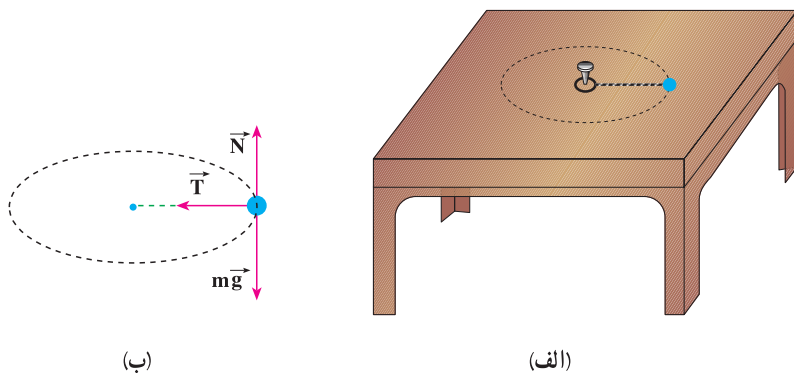
$$F = \frac{mv^2}{r} \quad (الف-۱۴-۲)$$

$$F = mr\omega^2 \quad (ب-۱۴-۲)$$

در این رابطه، F بزرگی برآیند نیروهای وارد بر جسم در راستای شعاع دایره است.

مثال ۹۲

مهره‌ای به جرم $g \cdot ۲$ را به نخ می‌بندیم و به انتهای دیگر نخ، حلقه کوچکی وصل می‌کنیم، سپس حلقه را مطابق شکل ۱۷-۲-الف با میخ کوتاهی در وسط یک میز ثابت می‌کنیم. نیروی اصطکاک مهره با میز ناچیز است.



شکل ۱۷-۲

فاصله مهره از میخ ۲۵cm است، با یک ضربه که به مهره وارد می‌کنیم آن را روی مسیر دایره‌ای به حرکت درمی‌آوریم. نیروهای وارد بر مهره را با رسم شکل مشخص کنید. اگر مهره در هر ثانیه یک دور بزند، بزرگی نیروی کشش نخ را محاسبه کنید.

پاسخ

نیروهای وارد بر مهره در شکل ۲-۱۷ ب نشان داده شده است.
در راستای قائم، نیروی وزن و نیروی عمودی تکیه‌گاه بر جسم اثر می‌کنند. برآیند این دو نیرو صفر است:

$$N - mg = 0$$

$$\Rightarrow N = mg$$

تنها نیروی کشش نخ می‌ماند که در اینجا همان نیروی مرکزگرا، یعنی: $T = m \frac{v^2}{r}$ است. سرعت زاویه‌ای برابر است با:

$$\omega = 2\pi f = 2\pi \text{ rad/s}$$

و سرعت خطی نیز برابر است با:

$$v = r\omega = 0.25 \times 2\pi = \frac{\pi}{2} \approx 1.57 \text{ m/s}$$

و نیروی کشش نخ برابر است با:

$$T = m \frac{v^2}{r} = 20 \times 1.57^2 \times \frac{\pi^2}{4} \times \frac{1}{0.25} \approx 0.2 \text{ N}$$

تمرین ۲-۸

- در هر یک از موارد زیر نیروی مرکزگرا را مشخص کنید.
- ۱- در حرکت لباس‌هایی که در ماشین لباس‌شویی می‌چرخند.
 - ۲- در چرخش الکترون به دور هسته
 - ۳- در گردش سیاره‌ها به دور خورشید



ابوریحان بیرونی

ابوریحان محمد بن احمد بیرونی، دانشمند برجسته ایرانی، در نیمه دوم قرن چهارم و اوایل قرن پنجم می‌زیست. وی در بیرون (حومه) شهر کاث، پایتخت خوارزمشاهیان، به دنیا آمد. او تا سن بیست و پنج سالگی در زادگاه خود مشغول فراگیری علمی چون جغرافیا، ریاضیات، ستاره‌شناسی، پزشکی، فقه، کلام و ... بود. بیرونی اولین فعالیت‌های علمی خود را در حدود سال ۳۸۰ هجری در شهر کاث با رصد آسمان به کمک وسایل نه چندان دقیق آغاز کرد. در سال ۳۸۷ هجری بار دیگر در شهر کاث خسوفی را با هماهنگی انجام شده بین او و ابوالوفاء بوزجانی، از برجسته‌ترین منجمان آن دوره، رصد کرد. در واقع، ابوالوفاء نیز همین خسوف را در بغداد رصد کرده بود. با مقایسه نتایج به دست آمده از این دو رصد، بیرونی اختلاف طول جغرافیایی بغداد و کاث را پیدا کرد.

با توجه به اطلاعات به دست آمده، تعداد آثار ابوریحان بیرونی شامل تألیف‌ها، ترجمه‌ها و آثار نیمه تمام او به ۱۸۰ عنوان می‌رسد که دست کم ۱۱۵ عنوان از آنها به ریاضیات و نجوم اختصاص دارد و از این تعداد تنها ۲۸ عنوان به دست ما رسیده است.

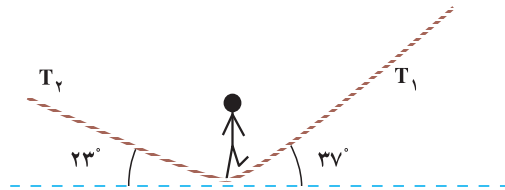
بیرونی در کتاب «افراد المقال فی امر الظلال»، یکی از نظریات مشهور ارسطو را با تکیه بر آزمایش رد می‌کند. نکته مهم و مورد توجه در آزمایش‌های بیرونی، شیوه علمی او در انجام دادن آزمایش‌هاست. وی مانند یک محقق امروزی در آزمایش خود به نکاتی توجه می‌کند؛ از جمله هنگام مقایسه خاصیتی ویژه از دو ماده می‌کوشد تا سایر شرایط برای آنها یکسان باشد و نیز به تکرار در آزمایش تأکید می‌کند تا مطمئن شود که نتایج حاصل از فرایند اتفافی نیست.

دیدگاه بیرونی درباره چستی کهکشان راه شیری که در کتاب التفهیم آمده از اهمیتی بسزا برخوردار است؛ زیرا در میان طبیعی‌دانان مسلمان کمتر کسی به آن پرداخته است و همگی از نظریات ارسطو در این زمینه پیروی می‌کرده‌اند. تنها بیرونی و ابن هیثم نظریاتی نو در این زمینه مطرح کرده‌اند. بیرونی چنین می‌گوید: «مجره را پارسیان راه کاهکشان خوانند و هندوان راه بهشت و آن جمله شدن ستارگان است از جنس ستارگان ابری و ...»

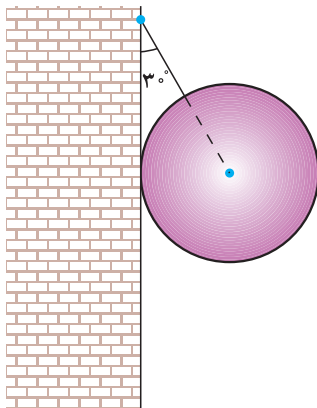
بیرونی در بخشی از کتاب افراد المقال فی امر الظلال سخن احمد بن طیب سرخسی در کتاب «ارکان الفلسفه» درباره سیاهی هوا بر فراز نقاط مرتفع را نشانه مبالغه وی در پیروی از نظریه‌ای که از کتاب «الحس والمحسوس» ارسطو برمی‌آید، می‌داند. ابوریحان بر آن است که در این باره باید فقط با استناد به آزمایش و تجربه سخن گفت و می‌گوید که هیچ‌گاه از تغییر رنگ هوا در سرما یا نبود گرما سخنی نرفته است و قله کوه دماوند با بلندی بسیارش دیده می‌شود و هیچ نشانه‌ای از سیاهی در آن نیست.

تمرین‌های فصل دوم

- ۱- بر اساس قانون سوم نیوتون، به پرسش‌های زیر پاسخ دهید :
- الف) نیروهای وارد بر یک شخص، هنگامی که جسمی را هل می‌دهد و همچنین نیروهای وارد بر جسم چگونه است؟
- ب) نقش نیروهای مختلف در هنگام راه رفتن ما بر روی زمین چگونه است؟
- ۲- به جسمی به جرم 10 kg نیروی ثابت F در راستای قائم به طرف بالا وارد می‌شود. جسم از حال سکون با شتاب 5 m/s^2 به طرف بالا حرکت می‌کند و پس از 2 s نیروی F حذف می‌شود.
- الف) مقدار نیروی F را تعیین کنید.
- ب) ارتفاعی که جسم بالا می‌رود. $g = 10 \text{ m/s}^2$ (از مقاومت هوا چشم‌پوشی کنید).
- ۳- یک بازیگر سیرک به وزن 600 N روی طنابی مطابق شکل ۱۸-۲ در حال تعادل است. نیروهای کشش طناب را محاسبه کنید.



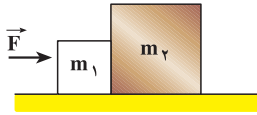
شکل ۱۸-۲



شکل ۱۹-۲

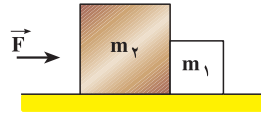
- ۴- کره‌ای به جرم 2 kg را مطابق شکل ۱۹-۲، به وسیله کابلی به دیوار قائم و بدون اصطکاک آویزان می‌کنیم. نیروی کشش کابل و واکنش دیوار را محاسبه کنید.

۵- دو جسم به جرم‌های $m_1 = 1\text{ kg}$ و $m_2 = 2\text{ kg}$ مطابق شکل ۲-۲۰ روی سطح افقی صافی قرار دارند. نیروی افقی \vec{F} باعث می‌شود که دو جسم با شتاب 3 m/s^2 به حرکت درآیند. اندازه نیروی F و نیروی تماسی‌ای که دو جسم بر یکدیگر وارد می‌کنند را در هر یک از دو شکل «الف» و «ب» محاسبه کنید.



(ب)

شکل ۲-۲۰



(الف)



شکل ۲-۲۱

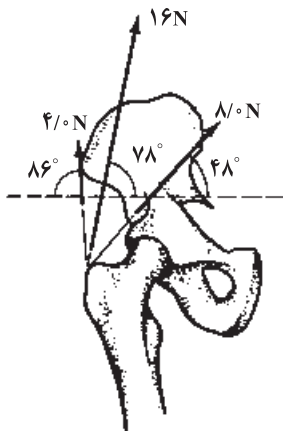
۶- کتابی را مانند شکل ۲-۲۱ به دیوار فشرده و ثابت نگه داشته‌ایم.

الف) آیا نیروی اصطکاک با نیروی وزن برابر است؟

چرا؟

ب) اگر کتاب را بیشتر به دیوار بفشاریم آیا نیروی

اصطکاک تغییر می‌کند؟ با این کار چه نیرویی افزایش می‌یابد؟



شکل ۲-۲۲

۷- سه ماهیچه، استخوان ران را به لگن متصل می‌کنند.

در شکل ۲-۲۲ مقدار و جهت نیروهایی که این ماهیچه‌ها به استخوان ران وارد می‌کنند، نشان داده شده است. برآیند نیروهای وارد بر استخوان ران از طرف این ماهیچه‌ها را به دست آورید.

۸- پره‌های یک بالگرد (هلیکوپتر) در هر دقیقه 90° دور می‌گردد. کمیت‌های زیر را برای پره‌ها محاسبه کنید.

الف) دوره، بسامد و سرعت زاویه‌ای

ب) سرعت خطی و شتاب مرکزگرای نقطه‌ای که فاصله آن از محور دوران 3m است.

۹- ماهواره‌ای روی مدار دایره‌ای به دور زمین می‌گردد. اگر جرم ماهواره $m = 250\text{kg}$ ، جرم زمین $M_e = 5.98 \times 10^{24}\text{kg}$ ، ثابت جهانی گرانش $G = 6.67 \times 10^{-11}\text{N.m}^2/\text{kg}$ ، فاصله ماهواره از سطح زمین 2600km و شعاع زمین 6400km باشد، کمیت‌های زیر را محاسبه کنید:

الف) نیروی گرانش بین ماهواره و زمین

ب) سرعت ماهواره

پ) دوره گردش ماهواره

۱۰- یک ماهواره در چه فاصله‌ای از مرکز زمین باید قرار گیرد، تا همواره در یک نقطه در

بالای خط استوا باشد؟

۱۱- جرم ماهواره امید (شکل ۲-۲۳) تقریباً 27 کیلوگرم و فاصله آن از سطح زمین حدوداً 250 کیلومتر است. با توجه به داده‌های مسئله ۹، دوره، سرعت و نیروی گرانشی بین این ماهواره و زمین را به دست آورید.



شکل ۲-۲۳